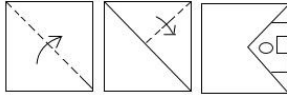


SI in CAPFs, ASI in CISF and SI in Delhi Police Examination-2019 (Paper-I)

Roll Number	WWW.EXAMSCLOUD.IN
Candidate Name	WWW.EXAMSCLOUD.IN
Exam Venue	Shri Aatm Vallabh Jain Girls P.G College
Exam Date	11/12/2019
Exam Time	10:00 AM - 12:00 PM
Subject	SI CPO Examination 2019

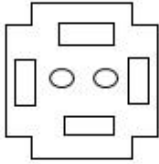
Section : General Intelligence and Reasoning

Q.1 कागज के एक टुकड़े को मोड़ने का क्रम और मुड़े हुए कागज के काटे जाने का तरीका निम्नलिखित आकृतियों में दिखाया गया है। दी गई उत्तर आकृतियों में से इंगित करें कि खोले जाने पर यह कैसा दिखाई देगा।

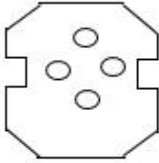


Ans

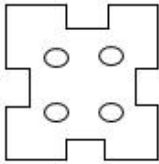
1.



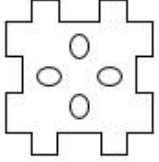
2.



3.



4.



Question ID : 864407767

Status : Answered

Chosen Option : 4

Q.2 'भीगना' 'मूसलाधार बारिश' से उसी तरह संबंधित है, जिस तरह 'चुभना' '_____' से संबंधित है।

Ans

1. खरोच

2. पिन

3. घाव

4. छुरा

Question ID : 864407731

Status : Answered

Chosen Option : 4

Q.3 निम्नलिखित में से कौन सा विकल्प दिए गए शब्दों का तार्किक अनुक्रम होगा?

1. पौधा
2. बीज
3. अंकुर
4. पेड़
5. छोटा पौधा

- Ans
- 1. 2, 1, 4, 5, 3
 - 2. 2, 3, 5, 1, 4
 - 3. 1, 5, 2, 3, 4
 - 4. 2, 3, 5, 4, 1

Question ID : 864407726

Status : Answered

Chosen Option : 2

Q.4 यदि '+' का अर्थ '-', '-' का अर्थ 'x', 'x' का अर्थ '÷' और '÷' का अर्थ '+' है, तो निम्नलिखित व्यंजक का मान क्या होगा?

$$15 - 2 \div 90 \times 9 + 10$$

- Ans
- 1. 40
 - 2. 30
 - 3. 32
 - 4. 50

Question ID : 864407756

Status : Answered

Chosen Option : 2

Q.5 उस विकल्प का चयन करें जिसमें शब्द उसी तरह से संबंधित हैं जो संबंध दिए गए शब्दों के युग्म का है।

सेब : फल

- Ans
- 1. राज्य : असम
 - 2. गुलाब : लाल
 - 3. कप : तश्तरी
 - 4. भिंडी : सब्जी

Question ID : 864407733

Status : Answered

Chosen Option : 4

Q.6 उस अक्षर का चयन करें जो निम्नलिखित श्रृंखला में प्रश्न चिन्ह (?) के स्थान पर आएगा।

E, Y, U, O, K, ?, A

- Ans
- 1. H
 - 2. F
 - 3. G
 - 4. E

Question ID : 864407723

Status : Answered

Chosen Option : 4

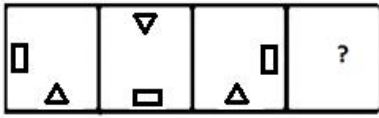
Q.7 उस विकल्प का चयन करें जो पांचवीं संख्या से उसी तरह से संबंधित है जैसे दूसरी संख्या पहली संख्या से संबंधित है और चौथी संख्या तीसरी संख्या से संबंधित है।

121 : 145 :: 49 : 65 :: 169 : ?

- Ans
- 1. 198
 - 2. 196
 - 3. 197
 - 4. 193

Question ID : 864407747
 Status : Answered
 Chosen Option : 3

Q.8 उस आकृति का चयन करें जो आकृति श्रृंखला में अगले स्थान पर आएगी।

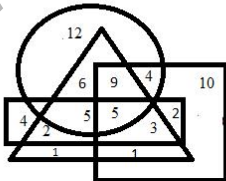


Ans

- 1.
- 2.
- 3.
- 4.

Question ID : 864407758
 Status : Answered
 Chosen Option : 2

Q.9 निम्नलिखित वेन आरेख ABC स्कूल की खेल टीम के बारे में डेटा को दर्शाता है। 'वृत्त' 'जूनियर (14 वर्ष से कम) का प्रतिनिधित्व करता है; 'त्रिभुज' 'तैराकों' का प्रतिनिधित्व करता है, 'आयत' 'साइकिल चालकों' का प्रतिनिधित्व करता है और 'वर्ग' 'एथलीटों' का प्रतिनिधित्व करता है। आरेख में दी गई संख्याएं उस विशेष श्रेणी के व्यक्तियों की संख्या का प्रतिनिधित्व करती हैं। कितने जूनियर छात्र अच्छे एथलीट और तैराक दोनों हैं लेकिन साइकिल चालक नहीं हैं?



- Ans 1. 9

✗ 2. 4

✗ 3. 19

✗ 4. 6

Question ID : 864407772

Status : Answered

Chosen Option : 1

Q.10 चार संख्याएँ दी गयी हैं, जिनमें से तीन किसी तरह से समान हैं, जबकि एक असंगत है। असंगत का चयन करें।

Ans ✗ 1. 91

✗ 2. 196

✓ 3. 169

✗ 4. 126

Question ID : 864407749

Status : Answered

Chosen Option : 1

Q.11 एक कूट भाषा में, HONEY को G4M2X के रूप में लिखा जाता है। उसी भाषा में STATUE को कैसे लिखा जायेगा?

Ans ✓ 1. RS1S52

✗ 2. TS1S5D

✗ 3. RS1S5D

✗ 4. RS1T5D

Question ID : 864407738

Status : Answered

Chosen Option : 3

Q.12 दिए गए पैटर्न का ध्यानपूर्वक अध्ययन करें और उस संख्या का चयन करें, जो इसमें प्रश्न चिह्न (?) के स्थान पर आ सकती है।

12	4	11	33
13	2	6	39
14	7	5	10
18	?	2	9

Ans ✓ 1. 4

✗ 2. 3

✗ 3. 5

✗ 4. 8

Question ID : 864407754

Status : Not Answered

Chosen Option : --

Q.13 उस विकल्प का चयन करें जो तीसरे पद से उसी प्रकार संबंधित है जिस प्रकार दूसरा पद पहले पद से संबंधित है।

INSPIRE : JPVTNXL :: PERSIST : _____

Ans ✗ 1. QGUVMYA

✓ 2. QGUWNYA

✗ 3. QGUWNXZ

✗ 4. QFVWNYA

Question ID : 864407735

Status : Answered

Chosen Option : 2

Q.14 एक निश्चित कोड भाषा में, W को B के रूप में लिखा जाता है, K को H के रूप में लिखा जाता है, L को U के रूप में लिखा जाता है, N को A के रूप में लिखा जाता है, O को M के रूप में लिखा जाता है, E को R के रूप में लिखा जाता है, D को G के रूप में लिखा जाता है, G को E के रूप में लिखा जाता है। उसी कोड भाषा में KNOWLEDGE को कैसे लिखा जाएगा?

Ans ✗ 1. MAHBURGER

✗ 2. HAMBUGREG

✗ 3. MAHBERGUR

✓ 4. HAMBURGER

Question ID : 864407737

Status : Answered

Chosen Option : 4

Q.15 चार संख्याएँ दी गयी हैं, जिनमें से तीन किसी तरह से समान हैं, जबकि एक असंगत है। असंगत का चयन करें।

Ans 1. 109

2. 61

3. 73

4. 91

Question ID : 864407750

Status : Answered

Chosen Option : 2

Q.16

Ans 1.

2.

3.

4.

Question ID : 864407765

Status : Answered

Chosen Option : 4

Q.17

Ans 1.

2.

3.

4.

Question ID : 864407764

Status : Answered

Chosen Option : 1

Q.18

- Ans 1.
2.
3.
4.

Question ID : 864407763
Status : Answered
Chosen Option : 1

Q.19 संख्याओं के चार युग्म दिए गए हैं, जिनमें से तीन किसी तरह से समान हैं, जबकि एक असंगत है। असंगत का चयन करें।

- Ans 1. 14 : 210
2. 7 : 50
3. 25 : 650
4. 21 : 462

Question ID : 864407751
Status : Not Answered
Chosen Option : --

Q.20 संख्याओं के चार युग्म दिए गए हैं, जिनमें से तीन किसी तरह से समान हैं, जबकि एक असंगत है। असंगत का चयन करें।

- Ans 1. 761 : 617 : 176
2. 189 : 198 : 819
3. 236 : 325 : 263
4. 416 : 641 : 461

Question ID : 864407752
Status : Answered
Chosen Option : 2

Q.21 यदि $Y = 50$, $SEA = 50$ है, तो 'YACHT' का मान क्या होगा?

- Ans 1. 100
2. 104
3. 114
4. 102

Question ID : 864407739
Status : Answered
Chosen Option : 3

Q.22

- Ans 1.
2.
3.
4.

Question ID : 864407771
Status : Answered

Q.23 दिए गए विकल्पों में से उस शब्द का चयन करें जो दिए गए शब्दों के समान है और इसलिए उसी समूह से संबंधित है।

किकियाना : क्वैक क्वैक : कुड़कुड़ाना

- Ans 1. बोलना
2. टर्ना
3. ध्वनि
4. आवाज़

Question ID : 864407734

Status : Answered

Chosen Option : 2

Q.24 नीचे तीन कथनों के बाद I, II, III और IV चार निष्कर्ष दिए गए हैं। यह मानते हुए कि कथनों में दी गई जानकारी सत्य है, भले ही यह आम तौर पर स्थापित तथ्यों से भिन्न दिखाई देता है, यह निर्णय करें कि दिए गए निष्कर्षों में से कौन सा/से कथन का तार्किक रूप से अनुसरण करता/ते है/हैं।

कथन:

- I. सभी तोते कौवे हैं।
II. सभी कौवे रॉबिन हैं।
III. सभी रॉबिन हंस हैं।

निष्कर्ष:

- I. सभी तोते हंस हैं।
II. सभी हंस कौवे हैं।
III. सभी रॉबिन तोते हैं।
IV. सभी कौवे हंस हैं।

- Ans 1. केवल निष्कर्ष II और III अनुसरण करते हैं।
2. केवल निष्कर्ष I और IV अनुसरण करते हैं।
3. सभी निष्कर्ष अनुसरण करते हैं।
4. केवल निष्कर्ष I और II अनुसरण करते हैं।

Question ID : 864407742

Status : Answered

Chosen Option : 2

Q.25 निम्नलिखित संख्या श्रेणी में, दो संख्याओं को कोष्ठक के भीतर रखा गया है। श्रेणी में इन संख्याओं के समावेश से संबंधित सबसे उपयुक्त विकल्प का चयन करें।

4, 11, 30, (67), 128, 219, (346), 515

- Ans 1. दोनों कोष्ठक संख्याएँ सही हैं।
2. दोनों कोष्ठक संख्याएँ गलत हैं।
3. पहली कोष्ठक संख्या गलत है और दूसरी कोष्ठक संख्या सही है।
4. पहली कोष्ठक संख्या सही है और दूसरी कोष्ठक संख्या गलत है।

Question ID : 864407743

Status : Not Answered

Chosen Option : --

Q.26 उस विकल्प का चयन करें जो चौथे पद से उसी प्रकार संबंधित है जिस प्रकार पहला पद दूसरे पद से संबंधित है।

NRGLEDGLLQ : MOTIVATION :: ? : DEMEANOURS

- Ans 1. WHMHZQLWIV
2. WHNHZQLXIV

3. WHHNZLQXIV

4. WHNIYOLXIV

Question ID : 864407736
Status : Not Answered
Chosen Option : --

Q.27

- Ans 1.
2.
3.
4.

Question ID : 864407760
Status : Answered
Chosen Option : 3

Q.28 नीचे दो कथनों के बाद I और II दो निष्कर्ष दिए गए हैं। यह मानते हुए कि कथनों में दी गई जानकारी सत्य है, भले ही यह आम तौर पर स्थापित तथ्यों से भिन्न दिखाई देता है, यह निर्णय करें कि दिए गए निष्कर्षों में से कौन सा/से कथन का तार्किक रूप से अनुसरण करता/ते है/हैं।

कथन:

- I. सभी कुर्सियां लकड़ी हैं।
II. कोई लकड़ी फर्नीचर नहीं है।

निष्कर्ष:

- I. सभी कुर्सियां फर्नीचर हैं।
II. कुछ फर्नीचर लकड़ी हैं।

- Ans 1. न तो निष्कर्ष I और न ही II अनुसरण करता है।
2. केवल निष्कर्ष I अनुसरण करता है।
3. दोनों निष्कर्ष I और II अनुसरण करते हैं।
4. केवल निष्कर्ष II अनुसरण करता है।

Question ID : 864407741
Status : Answered
Chosen Option : 1

Q.29 उस विकल्प का चयन करें जिसमें निम्नलिखित संख्याएँ उसी तरह से संबंधित हैं जिस तरह दी गयी संख्याओं के युग्म में है।

72 : 108

- Ans 1. 84 : 126
2. 92 : 153
3. 36 : 57
4. 90 : 136

Question ID : 864407748
Status : Answered
Chosen Option : 4

Q.30 अक्षर-समूह के चार युग्म दिए गए हैं, जिनमें से तीन किसी तरह से समान हैं, जबकि एक असंगत है। असंगत का चयन करें।

- Ans 1. CWX - AVZ
2. NVH - KUK

3. TXB - QWE
4. REA - ODD

Question ID : 864407728
Status : Answered
Chosen Option : 1

Q.31 यदि अंग्रेजी वर्णमाला के प्रत्येक अक्षर को सम संख्यात्मक मान दिया गया है जैसे A = 2, B = 4 इत्यादि, तो EARTH का कोड क्या होगा?

- Ans 1. 102364018
2. 102384218
3. 122384216
4. 102364016

Question ID : 864407740
Status : Answered
Chosen Option : 4

Q.32 उस विकल्प का चयन करें जो रिक्त स्थान को भरकर श्रेणी को पूरा करेगा।

35, 52, 75, 110, 151, ___

- Ans 1. 206
2. 218
3. 204
4. 210

Question ID : 864407745
Status : Answered
Chosen Option : 3

Q.33

- Ans 1.
2.
3.
4.

Question ID : 864407762
Status : Not Answered
Chosen Option : --

Q.34 चार अक्षर-समूह दिए गए हैं, जिनमें से तीन किसी तरह से समान हैं, जबकि एक असंगत है। असंगत का चयन करें।

- Ans 1. TVXZ
2. CEGI
3. IKMO
4. OQRT

Question ID : 864407727
Status : Answered
Chosen Option : 4

Q.35 उस विकल्प का चयन करें जो तीसरे पद से उसी प्रकार संबंधित है जिस प्रकार दूसरा पद पहले पद से संबंधित है।

7/50 : 9/82 :: 13/170 : ?

- Ans 1. 15/224
2. 15/226
3. 15/225
4. 225

Question ID : 864407746
Status : Answered
Chosen Option : 2

Q.36

- Ans 1.
2.
3.
4.

Question ID : 864407770
Status : Answered
Chosen Option : 1

Q.37

- Ans 1.
2.
3.
4.

Question ID : 864407761
Status : Not Answered
Chosen Option : --

Q.38 A, B, C, D, E, F, G और H एक गोलाकार मेज के चारों ओर केंद्र की ओर मुंह करके बैठे हैं। H, A के ठीक बाईं ओर है, लेकिन D या E का पड़ोसी नहीं है। F, B के ठीक दाईं ओर है। C, E और F के बीच में है। G, E का पड़ोसी है। A और B के बीच कौन है?

- Ans 1. H
2. G
3. D
4. F

Question ID : 864407769
Status : Not Answered
Chosen Option : --

Q.39 उस विकल्प का चयन करें जिसमें संख्याएँ उस प्रकार से सम्बंधित नहीं हैं जैसा संबंध दिए गए संख्याओं के युग्म में दिखलाया गया है।

(23, 115, 207)

- Ans 1. (16, 80, 144)
2. (6, 30, 54)
3. (21, 105, 189)
4. (8, 35, 72)

Question ID : 864407753
Status : Not Answered
Chosen Option : --

Q.40 ऋचा अपने घर से चलना शुरू करती है और पश्चिम की ओर 50 m चलती है। फिर वह बाएं मुड़ती है और 90 m चलती है। वह फिर से बाएं मुड़ती है और 30 m चलती है। उसके बाद वह फिर से बाईं ओर मुड़ती है और 120 m चलती है। अंत में वह दाएं मुड़ती है और 20 m चलती है और अपने गंतव्य तक पहुंचती है। वह अपने घर से कितनी दूर है और अपने घर के संदर्भ में किस दिशा में है?

- Ans
1. 30 m, दक्षिण
 2. 40 m, उत्तर पश्चिम
 3. 30 m, उत्तर
 4. 40 m, उत्तर पूर्व

Question ID : 864407768
Status : Answered
Chosen Option : 3

Q.41 उस विकल्प का चयन करें जो तीसरे पद से उसी प्रकार संबंधित है जिस प्रकार दूसरा पद पहले पद से संबंधित है।

ईंटें : घर :: टहनियां : ?

- Ans
1. लकड़ी
 2. आग
 3. घोंसला
 4. पेड़

Question ID : 864407732
Status : Answered
Chosen Option : 4

Q.42 चार शब्द दिए गए हैं, जिनमें से तीन किसी तरह से समान हैं, जबकि एक असंगत है। असंगत का चयन करें।

- Ans
1. लीरा
 2. डॉलर
 3. धन
 4. रियाल

Question ID : 864407729
Status : Answered
Chosen Option : 3

Q.43

- Ans
- 1.
 - 2.
 - 3.
 - 4.

Question ID : 864407766
Status : Answered
Chosen Option : 4

Q.44 उस विकल्प का चयन करें जो रिक्त स्थान को भरकर श्रेणी को पूरा करेगा।

14, 17, 23, 32, 44, _____

- Ans
1. 56

2. 69

3. 54

4. 59

Question ID : 864407744

Status : Answered

Chosen Option : 4

Q.45 '=' चिह्न के दोनों ओर दिए गए दो व्यंजकों का एक ही मान होगा यदि दोनों तरफ या एक तरफ दो संख्या परस्पर बदल दिए जाते हैं। दिए गए विकल्प में से, परस्पर बदले जानेवाले सही संख्याओं का पता लगाएं।

$$4 + 6 \times 2 - 27 \div 3 = 8 \times 2 - 4 + 9 \div 3$$

Ans 1. 2, 8

2. 6, 2

3. 4, 3

4. 6, 8

Question ID : 864407755

Status : Not Answered

Chosen Option : --

Q.46 चार शब्द दिए गए हैं, जिनमें से तीन किसी तरह से समान हैं, जबकि एक असंगत है। असंगत का चयन करें।

Ans 1. चीरा

2. छेनी

3. छूरी

4. चाकू

Question ID : 864407730

Status : Answered

Chosen Option : 1

Q.47 निम्नलिखित समीकरण को सही करने हेतु दो चिन्हों और दो संख्याओं को परस्पर बदलने की आवश्यकता है। दिए गए विकल्पों में से उपयुक्त चिन्हों और संख्याओं का चयन करें।

$$6 \times 8 + 2 = 20$$

Ans 1. + और x, 6 और 8

2. + और x, 2 और 8

3. x और +, 2 और 6

4. x और +, 6 और 2

Question ID : 864407757

Status : Not Answered

Chosen Option : --

Q.48

Ans 1.

2.

3.

4.

Question ID : 864407759

Status : Not Answered

Chosen Option : --

Q.49 निम्नलिखित शब्दों को उस क्रम में व्यवस्थित करें जिस क्रम में वे अंग्रेजी शब्दकोश में आते हैं।

1. General
2. Gender
3. Gasket
4. Genial
5. Gather

- Ans
1. 4, 3, 2, 1, 5
 2. 3, 5, 2, 1, 4
 3. 5, 3, 2, 1, 4
 4. 3, 5, 2, 4, 1

Question ID : 864407725

Status : Not Answered

Chosen Option : --

Q.50 उस विकल्प का चयन करें जो रिक्त स्थान को भरकर दी गयी श्रृंखला को पूरा करेगा।

DXB, GSI, JNP, MIW, _____

- Ans
1. PDD
 2. PDE
 3. ODE
 4. OED

Question ID : 864407724

Status : Not Answered

Chosen Option : --

Section : General Knowledge and General Awareness

Q.1 _____ को ऑस्कर 2020 में 'सर्वश्रेष्ठ अंतरराष्ट्रीय फ़ीचर फिल्म' श्रेणी में भारत की आधिकारिक प्रविष्टि के रूप में चुना गया था?

- Ans
1. गली बॉय
 2. अंधाधुन
 3. बाबा
 4. आनंदी गोपाल

Question ID : 864407812

Status : Answered

Chosen Option : 2

Q.2 भारत के संविधान का भाग IV स्पष्ट रूप से राज्य से निम्नलिखित में से किस के प्रति सुरक्षा देने की आशा नहीं करता है?

- Ans
1. आजीविका के पर्याप्त साधन
 2. धन और उत्पादन के साधनों का कोई संकेंद्रण नहीं
 3. नौकरीपेशा महिलाओं के लिए मातृत्व अवकाश
 4. समान कार्य के लिए समान वेतन

Question ID : 864407813

Status : Answered

Chosen Option : 3

Q.3 निम्नलिखित में से किस पुरातात्विक स्थल पर गर्त-आवासों के प्रमाण हैं?

- Ans
1. पलवोय
 2. राणा घुंडई
 3. मेहरगढ़
 4. बुर्जहोम

Question ID : 864407801
Status : Not Answered
Chosen Option : --

Q.4 'मैसूरु पेटा' एक पारंपरिक पोशाक है जिसे _____ में/पर पहना जाता है।

- Ans
1. कलाई
 2. सिर
 3. कमर
 4. कंधे

Question ID : 864407773
Status : Answered
Chosen Option : 3

Q.5 निम्नलिखित में से कौन सा कथन 'बॉम्बे रक्त समूह' ('बॉम्बे ब्लड ग्रुप') के बारे में सही नहीं है?

- Ans
1. इस रक्त समूह (ब्लड ग्रुप) से संबंधित व्यक्ति केवल O रक्त समूह (ब्लड ग्रुप) से संबंधित व्यक्ति से ही रक्त प्राप्त कर सकता है।
 2. H प्रतिजन (H एंटीजन) के प्रकटन में यह अपूर्ण होता है।
 3. इसे पहली बार 1952 में डॉ. वाई. एम. भेंडे द्वारा खोजा गया था।
 4. इसमें न तो A प्रतिजन (एंटीजन) है और न ही B प्रतिजन (एंटीजन) है।

Question ID : 864407794
Status : Answered
Chosen Option : 4

Q.6 'विश्व ओज़ोन दिवस' प्रति वर्ष _____ सितंबर को मनाया जाता है।

- Ans
1. 16
 2. 12
 3. 6
 4. 8

Question ID : 864407799
Status : Answered
Chosen Option : 2

Q.7 निम्नलिखित में से कौन सा पदार्थ विरंजन (ब्लीचिंग) में क्लोरीन के विकल्प के रूप में प्रयोग किया जाता है?

- Ans
1. हाइड्रोजन परॉक्साइड
 2. इथेनल
 3. टेट्रा क्लोरोइथीन
 4. तरल कार्बन डाइऑक्साइड

Question ID : 864407789
Status : Not Answered
Chosen Option : --

Q.8 7 वॉ CISM सैन्य विश्व खेल, 2019 कहाँ आयोजित किया गया था?

- Ans
1. चीन में
 2. मलेशिया में
 3. अमेरिका में
 4. फ़्रांस में

Question ID : 864407822
Status : Not Answered
Chosen Option : --

Q.9 अक्टूबर 2019 में, RBI ने _____ की सरकार को अपने राज्य सहकारी बैंक के साथ ज़िला सहकारी बैंकों (DCBs) को समामेलित करके एक नया बैंक बनाने के लिए अपनी स्वीकृति प्रदान की।

- Ans
1. गुजरात
 2. महाराष्ट्र
 3. पश्चिम बंगाल
 4. केरल

Question ID : 864407779
Status : Answered
Chosen Option : 4

Q.10 'सरस्वती सम्मान 2018' किस प्रसिद्ध कवि को प्रदान किया गया है?

- Ans
1. तिशानी दोषी
 2. अखिल कात्याल
 3. मीना कंदासामी
 4. के शिवा रेड्डी

Question ID : 864407809
Status : Answered
Chosen Option : 4

Q.11 शाही चोलाओं के अधीन राजस्व प्रशासन के संबंध में 'शालाभोग' शब्द का क्या अर्थ था?

- Ans
1. विद्यालय के रखरखाव के लिए दान की गई भूमि
 2. एक नया बसा हुआ गाँव
 3. किसी योद्धा को दान की गई भूमि
 4. सिंचाई सुविधाओं के रखरखाव के लिए दान की गई भूमि

Question ID : 864407806
Status : Not Answered
Chosen Option : --

Q.12 निम्नलिखित में से क्या भारतीय नागरिकों का मौलिक अधिकार नहीं है?

- Ans
1. संवैधानिक उपचार का अधिकार
 2. संघ बनाने का अधिकार
 3. संपत्ति का अधिकार
 4. आवागमन की स्वतंत्रता

Question ID : 864407816
Status : Answered
Chosen Option : 3

Q.13 निम्नलिखित में से कौन सा ग्रह गैसीय (जोवियन) ग्रह नहीं है?

- Ans
1. मंगल
 2. अरुण (यूरेनस)
 3. शनि
 4. बृहस्पति

Question ID : 864407784
Status : Not Answered
Chosen Option : --

Q.14 सुल्तान ऑफ़ जोहोर कप किस खेल का टूर्नामेंट है?

- Ans
1. क्रिकेट का
 2. फुटबॉल का
 3. हॉकी का
 4. बैडमिंटन का

Question ID : 864407819
Status : Answered
Chosen Option : 2

Q.15 _____ महाकल्प को 'स्तनधारियों का महाकल्प' के भी रूप में जाना जाता है।

- Ans
1. नवजीवी (निओज़ोइक)
 2. नूतनजीवी (सीनोज़ोइक)
 3. पुराजीवी (पैलियोज़ोइक)
 4. मध्यजीवी (मीज़ोज़ोइक)

Question ID : 864407788
Status : Not Answered
Chosen Option : --

Q.16 'माहुरी' एक पारंपरिक संगीत वाद्य-यंत्र है जो _____ राज्य से संबंधित है।

- Ans
1. अरुणाचल प्रदेश
 2. केरल
 3. ओडिशा
 4. हिमाचल प्रदेश

Question ID : 864407776
Status : Answered
Chosen Option : 3

Q.17 निम्नलिखित में से किस यकृत-शोथ विषाणुओं (हेपेटाइटिस वायरसेज़) के लिए कोई टीका नहीं है?

- Ans
1. यकृत-शोथ विषाणु C (हेपेटाइटिस C)
 2. यकृत-शोथ विषाणु D (हेपेटाइटिस D)
 3. यकृत-शोथ विषाणु A (हेपेटाइटिस A)
 4. यकृत-शोथ विषाणु B (हेपेटाइटिस B)

Question ID : 864407792
Status : Answered
Chosen Option : 4

Q.18 भारत के किस राज्य को 'भारत की रोटी की टोकरी' का लोकप्रिय नाम दिया गया है?

- Ans
1. महाराष्ट्र को
 2. उत्तर प्रदेश को
 3. पंजाब को
 4. असम को

Question ID : 864407777
Status : Answered
Chosen Option : 3

Q.19 तमिल साप्ताहिक पत्रिका 'कुडी अरसु' किसने आरंभ की थी?

- Ans
1. चिन्नास्वामी सुब्रमण्य भारती ने
 2. टी.एम. नायर ने
 3. सी. नतेश मुदलियार ने
 4. पेरियार ई.वी. रामासामी ने

Question ID : 864407805
Status : Not Answered
Chosen Option : --

Q.20 निम्नलिखित में से किसने 'गुड इकॉनॉमिक्स फ़ॉर हार्ड टाइम्स: बेटर आंसर्स टू अवर बिगिस्ट प्रॉब्लम्स' नामक पुस्तक का सह-लेखन किया है?

- Ans
1. रघुराम राजन ने
 2. कौशिक बसु ने
 3. अमर्त्य सेन ने
 4. अभिजीत बनर्जी ने

Question ID : 864407807
Status : Not Answered
Chosen Option : --

Q.21 भारत के संविधान (86वें संशोधन) अधिनियम, 2002 के संबंध में निम्नलिखित में से कौन सा कथन सही नहीं है?

- Ans
1. अनुच्छेद 21 A के अंतर्गत राज्य द्वारा निर्धारित ढंग से 6 से 14 वर्ष की आयु के सभी बच्चों के लिए निःशुल्क और अनिवार्य शिक्षा को एक मौलिक अधिकार बनाया गया था।
 2. इसने अनुच्छेद 45 के अंतर्गत छह वर्ष से कम आयु के बच्चों के लिए आरंभिक बाल्यावस्था देखभाल और शिक्षा का प्रावधान बनाया।
 3. अनुच्छेद 51 A के अंतर्गत 6 और 14 वर्ष की आयु के बीच अपने बच्चे या आश्रित (वॉर्ड) को शिक्षा के अवसर प्रदान करना माता-पिता या अभिभावक का मौलिक कर्तव्य बनाया गया।
 4. अनुच्छेद 75 के अंतर्गत इसने इन प्रावधानों के प्रभावी कार्यान्वयन को सुनिश्चित करने के लिए भारत सरकार के लिए एक केंद्रीय (नोडल) मंत्रालय स्थापित करना बाध्यकारी बना दिया।

Question ID : 864407814
Status : Answered
Chosen Option : 2

Q.22 अध:शैल (बैथोलिथ्स) _____ द्वारा निर्मित भू-आकृतियाँ हैं।

- Ans
1. ज्वालामुखीय गतिविधियों
 2. नदीय (फ्लूवियल) क्रिया
 3. भू-जल
 4. हिमनद (ग्लेशियर्स)

Question ID : 864407795
Status : Not Answered
Chosen Option : --

Q.23 निम्नलिखित में से कौन सा कथन अवस्फीति के संबंध में सही है?

- Ans
1. एक विशिष्ट अवधि में मूल्यों में समग्र कमी।
 2. अप्रत्याशित कारणों से मूल्यों में आकस्मिक अत्यधिक कमी।
 3. एक ऐसा परिदृश्य जिसमें मुद्रास्फीति मुख्य रूप से केवल कुछ ही वस्तुओं की मुद्रास्फीति के कारण होती है और सभी वस्तुओं की मुद्रास्फीति के कारण नहीं।
 4. एक विशिष्ट अवधि में मुद्रास्फीति की दर में कमी।

Question ID : 864407782
Status : Answered
Chosen Option : 3

Q.24 तोल्काप्पियर _____ भाषा के एक प्रसिद्ध प्राचीन वैयाकरण हैं।

- Ans
1. तमिल
 2. तेलुगु
 3. कन्नड़
 4. उड़िया

Question ID : 864407774
Status : Not Answered
Chosen Option : --

Q.25 निम्नलिखित में से किस रोग का सार्वभौमिक रूप से निर्मूलन कर दिया गया है?

- Ans
1. प्लेग
 2. गिनिया कृमि रोग (ड्रेककुलियासिस)
 3. छोटी चेचक
 4. चेचक

Question ID : 864407791
Status : Answered
Chosen Option : 2

Q.26 सुरमा नदी, जिसे बराक नदी के भी नाम से जाना जाता है _____ से निकलती है।

- Ans
1. मिज़ो पहाड़ियों
 2. मणिपुर की पहाड़ियों
 3. पटकाई बूम पहाड़ियों
 4. नागा पहाड़ियों

Question ID : 864407800
Status : Not Answered
Chosen Option : --

Q.27 भारत के सर्वोच्च न्यायालय द्वारा की गई व्याख्या के अनुसार, फ्रोन कॉल का दोहन (टैपिंग) संविधान के अनुच्छेद _____ में प्रदान किये गए मौलिक अधिकार का उल्लंघन करता है।

- Ans
1. 24
 2. 22
 3. 25

Question ID : 864407817

Status : Not Answered

Chosen Option : --

Q.28 निम्नलिखित में से कौन सा उद्योग भारत के 'आठ महत्वपूर्ण उद्योग' में सम्मिलित नहीं है?

- Ans
1. उर्वरक
 2. कपास
 3. प्राकृतिक गैस
 4. इस्पात

Question ID : 864407781

Status : Answered

Chosen Option : 3

Q.29 यूरोपा किस का एक प्राकृतिक उपग्रह है?

- Ans
1. मंगल ग्रह का
 2. शनि ग्रह का
 3. अरुण (यूरेनस) ग्रह का
 4. बृहस्पति ग्रह का

Question ID : 864407786

Status : Not Answered

Chosen Option : --

Q.30 निम्नलिखित गवर्नर-जनरलों में से किस ने एक कूट (कोड) प्रस्तुत किया जो न्यायिक प्रशासन से राजस्व प्रशासन को अलग करने के लिए प्रदान किया गया था?

- Ans
1. वारेन हेस्टिंग्स ने
 2. विलियम बेंटिक ने
 3. लॉर्ड कार्नवालिस ने
 4. लॉर्ड वेलेस्ली ने

Question ID : 864407804

Status : Not Answered

Chosen Option : --

Q.31 निम्नलिखित में से कौन सा बंदरगाह गुजरात में स्थित नहीं है?

- Ans
1. दिची बंदरगाह
 2. मुंदड़ा बंदरगाह
 3. सिक्का बंदरगाह
 4. ओखा बंदरगाह

Question ID : 864407796

Status : Not Answered

Chosen Option : --

Q.32 उत्तर प्रदेश से राज्यसभा में कितने सदस्य नियुक्त किए जा सकते हैं?

- Ans
1. 31
 2. 22

3. 39

4. 18

Question ID : 864407818
Status : Answered
Chosen Option : 1

Q.33 कोरंडम किस का अयस्क है?

- Ans
1. तांबे का
 2. चांदी का
 3. लोहे का
 4. एल्युमिनियम का

Question ID : 864407787
Status : Not Answered
Chosen Option : --

Q.34 निम्नलिखित में से कौन सा निकाय मुख्य रूप से अंतरराष्ट्रीय वित्तीय प्रणाली की अखंडता को बनाए रखने से संबंधित है?

- Ans
1. आई.एम.एफ. (IMF)
 2. एफ.ए.टी.एफ. (FATF)
 3. ए.आई.आई.बी. (AIIB)
 4. ए.डी.बी. (ADB)

Question ID : 864407780
Status : Answered
Chosen Option : 1

Q.35 काबिनी नदी किस की एक सहायक नदी है?

- Ans
1. कृष्णा की
 2. कावेरी की
 3. महानदी की
 4. गोदावरी की

Question ID : 864407798
Status : Not Answered
Chosen Option : --

Q.36 निम्नलिखित में से वह कौन सा पहला क्षेत्र था जो स्वतंत्रता के बाद भारत का अंग बना?

- Ans
1. पुडुचेरी
 2. गोवा
 3. दादरा और नगर हवेली
 4. सिक्किम

Question ID : 864407815
Status : Answered
Chosen Option : 2

Q.37 _____ 13 वर्ष की आयु में 65वें भारतीय ग्रैंडमास्टर बन गए हैं।

- Ans
1. रौनक साधवानी
 2. पृथु गुप्ता

3. आर. प्रज्ञानंदा

4. राहुल वैद

Question ID : 864407821
Status : Answered
Chosen Option : 2

Q.38 वृक्कों और इसके कार्यों के संबंध में, निम्नलिखित में से कौन सा कथन सही नहीं है?

- Ans
1. सरीसृपों में पक्षियों की तुलना में अपेक्षाकृत अधिक वृक्काणु (नेफ्रॉन्स) होते हैं।
 2. उनकी मूल कार्यात्मक इकाइयों को वृक्काणु (नेफ्रॉन्स) कहा जाता है।
 3. वे पानी के संतुलन को बनाए रखते हैं और चयापचय अपशिष्ट को निष्कासित करते हैं।
 4. प्रत्येक वृक्काणु के दो भाग होते हैं- केशिका गुच्छ और वृक्क नलिका।

Question ID : 864407793
Status : Answered
Chosen Option : 1

Q.39 भारत में 'बंदरगाह आधारित विकास' को बढ़ावा देने के उद्देश्य से आधारभूत संरचना विकास परियोजना को क्या नाम दिया गया है?

- Ans
1. सागरनमन
 2. सागरमाला
 3. भारतमाला
 4. सागरमाता

Question ID : 864407797
Status : Answered
Chosen Option : 2

Q.40 'किशॉट' (Quichotte) नामक उपन्यास _____ द्वारा लिखित है।

- Ans
1. वी.एस. नायपॉल
 2. सलमान रुश्दी
 3. अमित चौधरी
 4. सुकुमार सेन

Question ID : 864407810
Status : Not Answered
Chosen Option : --

Q.41 अक्टूबर 2019 में, आई.एम.एफ. (IMF) बोर्ड में भारत के लिए कार्यकारी निदेशक के रूप में किसे नियुक्त किया गया था?

- Ans
1. सुबीर गोकर्ण को
 2. अमरजीत सिन्हा को
 3. आशा राम सिहाग को
 4. सुरजीत एस. भल्ला को

Question ID : 864407808
Status : Not Answered
Chosen Option : --

Q.42 पूंजी बाज़ार के संदर्भ में, 'FPO' _____ का संक्षिप्त नाम है।

- Ans
1. फॉलो-ऑन पब्लिक ऑफ़र

2. फ़र्स्ट पोर्टफ़ोलियो ऑपरेशन
3. फ्री पब्लिक ऑफ़र
4. फ़र्स्ट पब्लिक ऑफ़र

Question ID : 864407778
Status : Not Answered
Chosen Option : --

Q.43 तीन विभिन्न कालों, अर्थात् मौर्य काल, गुप्त काल और मुगल काल के शिलालेखों से युक्त एक स्तंभ कहाँ स्थित है?

- Ans
1. टोपरा में
 2. इलाहाबाद (प्रयागराज) में
 3. रुम्मिनदेई में
 4. लौरिया नंदनगढ़ में

Question ID : 864407802
Status : Answered
Chosen Option : 2

Q.44 अंतर-वसा (ट्रांस-वसा) के संदर्भ में, निम्नलिखित में से कौन सा कथन सही नहीं है?

- Ans
1. उनकी निधानी-आयु (शेल्फ-लाइफ़) प्राकृतिक वसा की तुलना में कम होती है।
 2. इनका सेवन एल.डी.एल. कोलेस्टेरॉल बढ़ाता है और एच.डी.एल. कोलेस्टेरॉल घटाता है।
 3. विश्व स्वास्थ्य संगठन (WHO) ने 2023 तक उनके उन्मूलन का आह्वान किया है।
 4. वे हाइड्रोजनीकरण की औद्योगिक प्रक्रिया से उत्पन्न होते हैं।

Question ID : 864407790
Status : Not Answered
Chosen Option : --

Q.45 2019 में आयोजित 20 वें आईफ़ा (IIIFA) अवार्ड्स में किस फ़िल्म ने 'सर्वश्रेष्ठ फ़िल्म' का पुरस्कार जीता?

- Ans
1. पद्मावत ने
 2. संजू ने
 3. धड़क ने
 4. राज़ी ने

Question ID : 864407811
Status : Answered
Chosen Option : 1

Q.46 निम्नलिखित में से कौन सी एक निष्क्रिय (नोबल) गैस नहीं है?

- Ans
1. नियॉन
 2. हाइड्रोजन
 3. आर्गन
 4. हीलियम

Question ID : 864407785
Status : Answered
Chosen Option : 2

Q.47 एक तारे के जीवन चक्र में, नीहारिका चरण निम्नलिखित में से किस को संदर्भित करता है?

- Ans**
1. धूल और हाइड्रोजन का एक बादल
 2. किसी तारे का बाहरी आवरण
 3. वह चरण जिसमें बाहरी परतें विस्तारित होती हैं, ठंडी होती हैं और कम उज्ज्वल हो जाती हैं
 4. इसके जीवन का अंतिम चरण

Question ID : 864407783
Status : Answered
Chosen Option : 3

Q.48 दिल्ली सल्तनत में राज्य और प्रशासन के संदर्भ में, 'मुक्ति' ('मुक्ति') शब्द का क्या अर्थ है?

- Ans**
1. ज़िला स्तर का न्यायिक अधिकारी
 2. ग्राम पंचायत का मुखिया
 3. भूमि अभिहस्तांकन जिसे 'इक़ता' कहा जाता है, का धारक
 4. ग्राम समुदाय का प्रमुख

Question ID : 864407803
Status : Not Answered
Chosen Option : --

Q.49 खिलाड़ी दुर्योधन सिंह नेगी किस खेल के लिए प्रसिद्ध हैं?

- Ans**
1. निशानेबाज़ी (शूटिंग)
 2. मुक्केबाज़ी
 3. तीरंदाज़ी
 4. लॉन टेनिस

Question ID : 864407820
Status : Not Answered
Chosen Option : --

Q.50 निम्नलिखित में से कौन सा पारंपरिक नृत्य एक सामरिक कला (मार्शल आर्ट) स्वरूप नहीं है?

- Ans**
1. भवई
 2. कलारीपयट्टु
 3. छऊ
 4. लेज़िम

Question ID : 864407775
Status : Answered
Chosen Option : 3

Section : Quantitative Aptitude

Q.1

- Ans**
- 1.
 - 2.
 - 3.
 - 4.

Question ID : 864407694
Status : Not Answered
Chosen Option : --

Q.2

- Ans 1.
2.
3.
4.

Question ID : 864407707
Status : Not Answered
Chosen Option : --

Q.3

- Ans 1.
2.
3.
4.

Question ID : 864407721
Status : Not Answered
Chosen Option : --

Q.4

- Ans 1.
2.
3.
4.

Question ID : 864407719
Status : Not Answered
Chosen Option : --

Q.5

- Ans 1.
2.
3.
4.

Question ID : 864407688
Status : Not Answered
Chosen Option : --

Q.6

- Ans 1.
2.
3.
4.

Question ID : 864407693
Status : Not Answered
Chosen Option : --

Q.7

- Ans 1.
2.
3.
4.

Question ID : 864407684
Status : Not Answered
Chosen Option : --

Q.8

- Ans 1.
2.
3.
4.

Question ID : 864407673
Status : Not Answered
Chosen Option : --

Q.9

- Ans 1.
2.
3.
4.

Question ID : 864407695
Status : Not Answered
Chosen Option : --

Q.10

- Ans 1.
2.
3.
4.

Question ID : 864407690
Status : Not Answered
Chosen Option : --

Q.11

- Ans 1.
2.
3.
4.

Question ID : 864407682
Status : Not Answered
Chosen Option : --

Q.12

- Ans 1.
2.
3.
4.

Question ID : 864407697
Status : Not Answered
Chosen Option : --

Q.13

- Ans 1.
2.
3.
4.

Question ID : 864407675
Status : Not Answered
Chosen Option : --

Q.14

- Ans 1.
2.
3.
4.

Question ID : 864407689
Status : Not Answered
Chosen Option : --

Q.15

- Ans 1.
2.
3.
4.

Question ID : 864407717
Status : Not Answered
Chosen Option : --

Q.16

- Ans 1.
2.
3.
4.

Question ID : 864407683
Status : Not Answered
Chosen Option : --

Q.17

- Ans 1.
2.
3.
4.

Question ID : **864407691**
Status : **Not Answered**
Chosen Option : --

Q.18

- Ans 1.
2.
3.
4.

Question ID : **864407716**
Status : **Not Answered**
Chosen Option : --

Q.19

- Ans 1.
2.
3.
4.

Question ID : **864407706**
Status : **Not Answered**
Chosen Option : --

Q.20

- Ans 1.
2.
3.
4.

Question ID : **864407678**
Status : **Not Answered**
Chosen Option : --

Q.21

- Ans 1.
2.
3.
4.

Question ID : **864407718**
Status : **Not Answered**
Chosen Option : --

Q.22

- Ans 1.

- 2.
- 3.
- 4.

Question ID : **864407701**
Status : **Not Answered**
Chosen Option : --

Q.23

- Ans**
 - 1.
 - 2.
 - 3.
 - 4.

Question ID : **864407720**
Status : **Not Answered**
Chosen Option : --

Q.24

- Ans**
 - 1.
 - 2.
 - 3.
 - 4.

Question ID : **864407714**
Status : **Not Answered**
Chosen Option : --

Q.25

- Ans**
 - 1.
 - 2.
 - 3.
 - 4.

Question ID : **864407712**
Status : **Not Answered**
Chosen Option : --

Q.26

- Ans**
 - 1.
 - 2.
 - 3.
 - 4.

Question ID : **864407674**
Status : **Not Answered**
Chosen Option : --

Q.27

- Ans**
 - 1.

- 2.
- 3.
- 4.

Question ID : 864407702
Status : Not Answered
Chosen Option : --

Q.28

- Ans
- 1.
 - 2.
 - 3.
 - 4.

Question ID : 864407703
Status : Not Answered
Chosen Option : --

Q.29

- Ans
- 1.
 - 2.
 - 3.
 - 4.

Question ID : 864407685
Status : Not Answered
Chosen Option : --

Q.30

- Ans
- 1.
 - 2.
 - 3.
 - 4.

Question ID : 864407676
Status : Not Answered
Chosen Option : --

Q.31

- Ans
- 1.
 - 2.
 - 3.
 - 4.

Question ID : 864407722
Status : Not Answered
Chosen Option : --

Q.32

- Ans
- 1.
 - 2.

- 3.
- 4.

Question ID : 864407711
Status : Not Answered
Chosen Option : --

Q.33

- Ans
- 1.
 - 2.
 - 3.
 - 4.

Question ID : 864407696
Status : Not Answered
Chosen Option : --

Q.34

- Ans
- 1.
 - 2.
 - 3.
 - 4.

Question ID : 864407698
Status : Not Answered
Chosen Option : --

Q.35

- Ans
- 1.
 - 2.
 - 3.
 - 4.

Question ID : 864407679
Status : Not Answered
Chosen Option : --

Q.36

- Ans
- 1.
 - 2.
 - 3.
 - 4.

Question ID : 864407700
Status : Not Answered
Chosen Option : --

Q.37

- Ans
- 1.
 - 2.

- 3.
- 4.

Question ID : **864407687**
Status : **Not Answered**
Chosen Option : --

Q.38

- Ans** **1.**
- 2.
 - 3.
 - 4.

Question ID : **864407681**
Status : **Not Answered**
Chosen Option : --

Q.39

- Ans** **1.**
- 2.
 - 3.
 - 4.

Question ID : **864407708**
Status : **Not Answered**
Chosen Option : --

Q.40

- Ans** **1.**
- 2.
 - 3.
 - 4.

Question ID : **864407713**
Status : **Not Answered**
Chosen Option : --

Q.41

- Ans** **1.**
- 2.
 - 3.
 - 4.

Question ID : **864407692**
Status : **Not Answered**
Chosen Option : --

Q.42

- Ans** **1.**
- 2.
 - 3.

4.

Question ID : **864407699**
Status : **Not Answered**
Chosen Option : --

Q.43

Ans 1.
2.
3.
4.

Question ID : **864407709**
Status : **Not Answered**
Chosen Option : --

Q.44

Ans 1.
2.
3.
4.

Question ID : **864407710**
Status : **Not Answered**
Chosen Option : --

Q.45

Ans 1.
2.
3.
4.

Question ID : **864407677**
Status : **Not Answered**
Chosen Option : --

Q.46

Ans 1.
2.
3.
4.

Question ID : **864407704**
Status : **Not Answered**
Chosen Option : --

Q.47

Ans 1.
2.
3.

4.

Question ID : 864407715
Status : Not Answered
Chosen Option : --

Q.48

- Ans 1.
2.
3.
4.

Question ID : 864407680
Status : Not Answered
Chosen Option : --

Q.49

- Ans 1.
2.
3.
4.

Question ID : 864407705
Status : Not Answered
Chosen Option : --

Q.50

- Ans 1.
2.
3.
4.

Question ID : 864407686
Status : Not Answered
Chosen Option : --

Section : English Comprehension

Q.1 In the sentence identify the segment which contains the grammatical error.

Saurav Ganguly have emerged as the new President of the BCCI after a night long discussion.

- Ans 1. Saurav Ganguly have emerged
2. as the new President
3. of the BCCI
4. after a night long discussion

Question ID : 864407826
Status : Answered
Chosen Option : 1

Q.2 Select the INCORRECTLY spelt word.

- Ans 1. economy

- 2. eclipse
- 3. echelon
- 4. ecentricity

Question ID : 864407864
Status : Not Answered
Chosen Option : --

Q.3 Select the most appropriate synonym of the given word.

FATIGUE

- Ans
- 1. liveliness
 - 2. weariness
 - 3. earnestness
 - 4. freshness

Question ID : 864407847
Status : Answered
Chosen Option : 3

Q.4 Select the most appropriate word to fill in the blank.

These apples _____ Rs.100 per kg. Do you think they are expensive?

- Ans
- 1. cost
 - 2. has cost
 - 3. costs
 - 4. is costing

Question ID : 864407834
Status : Answered
Chosen Option : 1

Q.5 Select the most appropriate option to substitute the underlined segment in the given sentence. If there is no need to substitute it, select 'No substitution'.

You have finished your work, have you?

- Ans
- 1. haven't you
 - 2. didn't you
 - 3. No substitution
 - 4. did you

Question ID : 864407831
Status : Answered
Chosen Option : 1

Q.6 Select the most appropriate option to substitute the underlined segment in the given sentence. If there is no need to substitute it, select 'No substitution'.

He waits to you for about two hours.

- Ans
- 1. has waiting for you
 - 2. No substitution
 - 3. has been waiting to you
 - 4. has been waiting for you

Question ID : 864407830

Status : Answered

Chosen Option : 3

Q.7 Identify the segment in the sentence which contains the grammatical error. If there is no error, select 'No error'

The letter was posting yesterday by my brother.

- Ans
1. by my brother
 2. No error
 3. was posting yesterday
 4. The letter

Question ID : 864407823

Status : Answered

Chosen Option : 3

Q.8 Select the most appropriate word to fill in the blank.

Father didn't believe _____ I said.

- Ans
1. that
 2. which
 3. who
 4. what

Question ID : 864407836

Status : Answered

Chosen Option : 2

Q.9 Select the INCORRECTLY spelt word.

- Ans
1. humour
 2. homage
 3. hoarse
 4. hinderence

Question ID : 864407866

Status : Answered

Chosen Option : 3

Q.10 Select the most appropriate ANTONYM of the given word.

TENSE

- Ans
1. stiff
 2. strained
 3. close
 4. relaxed

Question ID : 864407850

Status : Answered

Chosen Option : 3

Q.11 Select the most appropriate synonym of the given word.

COMPLACENT

- Ans
1. discontent
 2. aggressive
 3. amicable
 4. smug

Question ID : 864407848
Status : Not Answered
Chosen Option : --

Q.12 In the sentence identify the segment which contains the grammatical error.

After two months the phone signals were back at the valley.

- Ans
1. were back
 2. After two months
 3. at the valley
 4. the phone signals

Question ID : 864407825
Status : Answered
Chosen Option : 1

Q.13 Select the most appropriate meaning of the given idiom.

Touch and go

- Ans
1. Unimportant
 2. Unchanging
 3. Uncertain
 4. Undoubted

Question ID : 864407857
Status : Answered
Chosen Option : 3

Q.14 Select the INCORRECTLY spelt word.

- Ans
1. audible
 2. audience
 3. austere
 4. authority

Question ID : 864407868
Status : Answered
Chosen Option : 3

Q.15 Select the most appropriate word which means the same as the group of words given.

Not revealing one's thoughts or feelings readily

- Ans
1. forthright
 2. evaluative
 3. reticent
 4. communicative

Question ID : 864407863

Status : Answered

Chosen Option : 3

Q.16 Select the most appropriate option to substitute the underlined segment in the given sentence. If there is no need to substitute it, select 'No substitution'.

When we arrived at Jhansi station, we are keeping our luggages in the cloak room.

- Ans**
1. are keeping our luggage
 2. kept our luggages
 3. kept our luggage
 4. No substitution

Question ID : 864407832

Status : Answered

Chosen Option : 3

Comprehension:

Read the following passage and answer the questions given after it.

Standing in ankle-deep water engulfing his field, Kamal Singh Dhangar takes a wild shot at the likely yield from the soyabean crop that practically lies in ruins behind him.

"One bag, two bags with difficulty," notes the 58-year old with a wry smile, minutes after a fresh spell of rains has lashed Guradiya Sirajuddin village in Ashta tehsil of Madhya Pradesh's (MP) Sehore district. While the same three-acre plot had given nearly 16 quintals of soyabean last year, Dhangar this time isn't sure he can even afford labourers to harvest the negligible produce staring in his face.

He draws solace only from his not being alone. Most farmers in Guradiya Sirajuddin as well as neighbouring villages have reported widespread damage to their already matured standing crop.

Gulab Singh, who owns 10 acres not far from Dhangar's field, is ruing his decision to have taken an additional six acres of land on lease for cultivating soyabean and wheat this year. "I have paid the owner Rs 1.5 lakh. By now, this soyabean crop should have been ready for taking to Ashta mandi (agriculture produce market at the tehsil town, about 10 km away). But my expensive pursuit has proved costly," remarks the 60-year-old, who, too, cannot enter his field without wading through water almost touching the knees.

Seated at the edge of his flooded field a few hundred meters away, Dev Singh, a sprightly octogenarian, cannot remember the year when the monsoon rains caused such late-stage havoc. "I may have been this big," he says, pointing to a man many decades younger to him. Western MP, in which Sehore falls, has received 1,335.4 mm of average rainfall from 1 June 1 to 25 September, 58% more than the region's historical normal of 845.3 mm for this period. However, the real story lies in the month-wise figures. In June, the opening month of the southwest monsoon season, the rains were actually 25.6% below the long-period average. In July, they were 31.2% above average. That surplus rose to 63.6% in August, while a whopping 158% more so far till September, confirming Dev Singh's observation. Worse, there's little respite, with more rains predicted over the next few days.

The monsoon has taken its toll mainly on soyabean. According to the Union agriculture ministry's data, a total area of 113.449 lakh hectares (lh) has been planted under this leguminous oilseed in the current kharif season, with the bulk of it accounted for by MP (55.16 lh), Maharashtra (39.595 lh) and Rajasthan (10.608 lh). Within MP, the main soyabean-growing districts are Ujjain, Dewas, Indore, Dhar, Ratlam, Mandsaur, Rajgarh, Shajapur, Sehore and Vidisha. The crop in low-lying areas is the one that has been worst affected.

"Farmers who had sown early-maturity (80-90 days duration) varieties such as JS 9560 and JS 2034 just after mid-June will take the biggest hit. Their crop would already have matured; the longer it remains in the field, the more the chances of the grain rotting. Also, these farmers will not be able to save this grain for using as seed next year," admits V S Bhatia, director of the Indian Institute of Soyabean Research at Indore.

SubQuestion No : 17

Q.17 Who among the following took on 6 acres of land for soyabean cultivation in addition to his original 10 acres of land?

- Ans**
1. Gulab Singh
 2. Vijay Singh
 3. Kamal Singh
 4. Dev Singh

Comprehension:

Read the following passage and answer the questions given after it.

Standing in ankle-deep water engulfing his field, Kamal Singh Dhangar takes a wild shot at the likely yield from the soyabean crop that practically lies in ruins behind him.

"One bag, two bags with difficulty," notes the 58-year old with a wry smile, minutes after a fresh spell of rains has lashed Guradiya Sirajuddin village in Ashta tehsil of Madhya Pradesh's (MP) Sehore district. While the same three-acre plot had given nearly 16 quintals of soyabean last year, Dhangar this time isn't sure he can even afford labourers to harvest the negligible produce staring in his face.

He draws solace only from his not being alone. Most farmers in Guradiya Sirajuddin as well as neighbouring villages have reported widespread damage to their already matured standing crop.

Gulab Singh, who owns 10 acres not far from Dhangar's field, is rueing his decision to have taken an additional six acres of land on lease for cultivating soyabean and wheat this year. "I have paid the owner Rs 1.5 lakh. By now, this soyabean crop should have been ready for taking to Ashta mandi (agriculture produce market at the tehsil town, about 10 km away). But my expensive pursuit has proved costly," remarks the 60-year-old, who, too, cannot enter his field without wading through water almost touching the knees.

Seated at the edge of his flooded field a few hundred meters away, Dev Singh, a sprightly octogenarian, cannot remember the year when the monsoon rains caused such late-stage havoc. "I may have been this big," he says, pointing to a man many decades younger to him. Western MP, in which Sehore falls, has received 1,335.4 mm of average rainfall from 1 June 1 to 25 September, 58% more than the region's historical normal of 845.3 mm for this period. However, the real story lies in the month-wise figures. In June, the opening month of the southwest monsoon season, the rains were actually 25.6% below the long-period average. In July, they were 31.2% above average. That surplus rose to 63.6% in August, while a whopping 158% more so far till September, confirming Dev Singh's observation. Worse, there's little respite, with more rains predicted over the next few days.

The monsoon has taken its toll mainly on soyabean. According to the Union agriculture ministry's data, a total area of 113.449 lakh hectares (lh) has been planted under this leguminous oilseed in the current kharif season, with the bulk of it accounted for by MP (55.16 lh), Maharashtra (39.595 lh) and Rajasthan (10.608 lh). Within MP, the main soyabean-growing districts are Ujjain, Dewas, Indore, Dhar, Ratlam, Mandsaur, Rajgarh, Shajapur, Sehore and Vidisha. The crop in low-lying areas is the one that has been worst affected.

"Farmers who had sown early-maturity (80-90 days duration) varieties such as JS 9560 and JS 2034 just after mid-June will take the biggest hit. Their crop would already have matured; the longer it remains in the field, the more the chances of the grain rotting. Also, these farmers will not be able to save this grain for using as seed next year," admits V S Bhatia, director of the Indian Institute of Soyabean Research at Indore.

SubQuestion No : 18

Q.18 Match the words with their meaning.

- Words Meanings**
a. havoc 1. undertaking
b. pursuit 2. submerge
c. engulf 3. calamity

- Ans** 1. a-3, b-1, c-2
 2. a-1, b-3, c-2
 3. a-2, b-3, c-1
 4. a-2, b-1, c-3

Comprehension:

Read the following passage and answer the questions given after it.

Standing in ankle-deep water engulfing his field, Kamal Singh Dhangar takes a wild shot at the likely yield from the soyabean crop that practically lies in ruins behind him.

"One bag, two bags with difficulty," notes the 58-year old with a wry smile, minutes after a fresh spell of rains has lashed Guradiya Sirajuddin village in Ashta tehsil of Madhya Pradesh's (MP) Sehore district. While the same three-acre plot had given nearly 16 quintals of soyabean last year, Dhangar this time isn't sure he can even afford labourers to harvest the negligible

produce staring in his face.

He draws solace only from his not being alone. Most farmers in Guradiya Sirajuddin as well as neighbouring villages have reported widespread damage to their already matured standing crop.

Gulab Singh, who owns 10 acres not far from Dhangar's field, is ruing his decision to have taken an additional six acres of land on lease for cultivating soyabean and wheat this year. "I have paid the owner Rs 1.5 lakh. By now, this soyabean crop should have been ready for taking to Ashta mandi (agriculture produce market at the tehsil town, about 10 km away). But my expensive pursuit has proved costly," remarks the 60-year-old, who, too, cannot enter his field without wading through water almost touching the knees.

Seated at the edge of his flooded field a few hundred meters away, Dev Singh, a sprightly octogenarian, cannot remember the year when the monsoon rains caused such late-stage havoc. "I may have been this big," he says, pointing to a man many decades younger to him. Western MP, in which Sehore falls, has received 1,335.4 mm of average rainfall from 1 June 1 to 25 September, 58% more than the region's historical normal of 845.3 mm for this period. However, the real story lies in the month-wise figures. In June, the opening month of the southwest monsoon season, the rains were actually 25.6% below the long-period average. In July, they were 31.2% above average. That surplus rose to 63.6% in August, while a whopping 158% more so far till September, confirming Dev Singh's observation. Worse, there's little respite, with more rains predicted over the next few days.

The monsoon has taken its toll mainly on soyabean. According to the Union agriculture ministry's data, a total area of 113.449 lakh hectares (lh) has been planted under this leguminous oilseed in the current kharif season, with the bulk of it accounted for by MP (55.16 lh), Maharashtra (39.595 lh) and Rajasthan (10.608 lh). Within MP, the main soyabean-growing districts are Ujjain, Dewas, Indore, Dhar, Ratlam, Mandasaur, Rajgarh, Shajapur, Sehore and Vidisha. The crop in low-lying areas is the one that has been worst affected.

"Farmers who had sown early-maturity (80-90 days duration) varieties such as JS 9560 and JS 2034 just after mid-June will take the biggest hit. Their crop would already have matured; the longer it remains in the field, the more the chances of the grain rotting. Also, these farmers will not be able to save this grain for using as seed next year," admits V S Bhatia, director of the Indian Institute of Soyabean Research at Indore.

SubQuestion No : 19

Q.19 What problem are the farmers of Sehore District in MP facing?

- Ans**
1. They cannot make seeds from their crop.
 2. The excessive rain has damaged the soyabean crop.
 3. They cannot take their produce to the market.
 4. The soyabean yield has diminished.

Question ID : 864407870

Status : Not Answered

Chosen Option : --

Comprehension:

Read the following passage and answer the questions given after it.

Standing in ankle-deep water engulfing his field, Kamal Singh Dhangar takes a wild shot at the likely yield from the soyabean crop that practically lies in ruins behind him.

"One bag, two bags with difficulty," notes the 58-year old with a wry smile, minutes after a fresh spell of rains has lashed Guradiya Sirajuddin village in Ashta tehsil of Madhya Pradesh's (MP) Sehore district. While the same three-acre plot had given nearly 16 quintals of soyabean last year, Dhangar this time isn't sure he can even afford labourers to harvest the negligible produce staring in his face.

He draws solace only from his not being alone. Most farmers in Guradiya Sirajuddin as well as neighbouring villages have reported widespread damage to their already matured standing crop.

Gulab Singh, who owns 10 acres not far from Dhangar's field, is ruing his decision to have taken an additional six acres of land on lease for cultivating soyabean and wheat this year. "I have paid the owner Rs 1.5 lakh. By now, this soyabean crop should have been ready for taking to Ashta mandi (agriculture produce market at the tehsil town, about 10 km away). But my expensive pursuit has proved costly," remarks the 60-year-old, who, too, cannot enter his field without wading through water almost touching the knees.

Seated at the edge of his flooded field a few hundred meters away, Dev Singh, a sprightly octogenarian, cannot remember the year when the monsoon rains caused such late-stage havoc. "I may have been this big," he says, pointing to a man many decades younger to him. Western MP, in which Sehore falls, has received 1,335.4 mm of average rainfall from 1 June 1 to 25 September, 58% more than the region's historical normal of 845.3 mm for this period. However, the real story lies in the month-wise figures. In June, the opening month of the southwest monsoon season, the rains were actually 25.6% below the long-period average. In July, they were 31.2% above average. That surplus rose to 63.6% in August, while a whopping 158% more so far till September, confirming Dev Singh's observation. Worse, there's little

respite, with more rains predicted over the next few days.

The monsoon has taken its toll mainly on soyabean. According to the Union agriculture ministry's data, a total area of 113.449 lakh hectares (lh) has been planted under this leguminous oilseed in the current kharif season, with the bulk of it accounted for by MP (55.16 lh), Maharashtra (39.595 lh) and Rajasthan (10.608 lh). Within MP, the main soyabean-growing districts are Ujjain, Dewas, Indore, Dhar, Ratlam, Mandsaur, Rajgarh, Shajapur, Sehore and Vidisha. The crop in low-lying areas is the one that has been worst affected.

"Farmers who had sown early-maturity (80-90 days duration) varieties such as JS 9560 and JS 2034 just after mid-June will take the biggest hit. Their crop would already have matured; the longer it remains in the field, the more the chances of the grain rotting. Also, these farmers will not be able to save this grain for using as seed next year," admits V S Bhatia, director of the Indian Institute of Soyabean Research at Indore.

SubQuestion No : 20

Q.20 In Western MP where Sehore is situated what is the normal average rainfall from June to September?

- Ans**
1. 113.4 mm
 2. 158 mm
 3. 845.3 mm
 4. 1,335.4 mm

Question ID : 864407873

Status : Not Answered

Chosen Option : --

Comprehension:

Read the following passage and answer the questions given after it.

Standing in ankle-deep water engulfing his field, Kamal Singh Dhangar takes a wild shot at the likely yield from the soyabean crop that practically lies in ruins behind him.

"One bag, two bags with difficulty," notes the 58-year old with a wry smile, minutes after a fresh spell of rains has lashed Guradiya Sirajuddin village in Ashta tehsil of Madhya Pradesh's (MP) Sehore district. While the same three-acre plot had given nearly 16 quintals of soyabean last year, Dhangar this time isn't sure he can even afford labourers to harvest the negligible produce staring in his face.

He draws solace only from his not being alone. Most farmers in Guradiya Sirajuddin as well as neighbouring villages have reported widespread damage to their already matured standing crop.

Gulab Singh, who owns 10 acres not far from Dhangar's field, is ruing his decision to have taken an additional six acres of land on lease for cultivating soyabean and wheat this year. "I have paid the owner Rs 1.5 lakh. By now, this soyabean crop should have been ready for taking to Ashta mandi (agriculture produce market at the tehsil town, about 10 km away). But my expensive pursuit has proved costly," remarks the 60-year-old, who, too, cannot enter his field without wading through water almost touching the knees.

Seated at the edge of his flooded field a few hundred meters away, Dev Singh, a sprightly octogenarian, cannot remember the year when the monsoon rains caused such late-stage havoc. "I may have been this big," he says, pointing to a man many decades younger to him. Western MP, in which Sehore falls, has received 1,335.4 mm of average rainfall from 1 June to 25 September, 58% more than the region's historical normal of 845.3 mm for this period. However, the real story lies in the month-wise figures. In June, the opening month of the southwest monsoon season, the rains were actually 25.6% below the long-period average. In July, they were 31.2% above average. That surplus rose to 63.6% in August, while a whopping 158% more so far till September, confirming Dev Singh's observation. Worse, there's little respite, with more rains predicted over the next few days.

The monsoon has taken its toll mainly on soyabean. According to the Union agriculture ministry's data, a total area of 113.449 lakh hectares (lh) has been planted under this leguminous oilseed in the current kharif season, with the bulk of it accounted for by MP (55.16 lh), Maharashtra (39.595 lh) and Rajasthan (10.608 lh). Within MP, the main soyabean-growing districts are Ujjain, Dewas, Indore, Dhar, Ratlam, Mandsaur, Rajgarh, Shajapur, Sehore and Vidisha. The crop in low-lying areas is the one that has been worst affected.

"Farmers who had sown early-maturity (80-90 days duration) varieties such as JS 9560 and JS 2034 just after mid-June will take the biggest hit. Their crop would already have matured; the longer it remains in the field, the more the chances of the grain rotting. Also, these farmers will not be able to save this grain for using as seed next year," admits V S Bhatia, director of the Indian Institute of Soyabean Research at Indore.

SubQuestion No : 21

Q.21 Which of the following statements is NOT true according to the passage?

- Ans**
1. The three-acre plot of Kamal Singh had given nearly 16 quintals of soyabean in the past year.

2. In July-August the actual rainfall was 25.6% below the long-period average.

3. From 1 June to 25 September, 58% more rainfall was recorded than the region's historical normal.

4. By September, the soyabean crop should have been ready for taking to Ashta mandi.

Question ID : 864407874

Status : Not Answered

Chosen Option : --

Q.22 Select the most appropriate ANTONYM of the given word.

FUTILE

Ans 1. hollow

2. worthless

3. barren

4. productive

Question ID : 864407852

Status : Answered

Chosen Option : 2

Q.23 Identify the segment in the sentence which contains the grammatical error. If there is no error, select 'No error'

Anita enjoyed to swim in the sea.

Ans 1. to swim

2. Anita enjoyed

3. in the sea

4. No error

Question ID : 864407824

Status : Answered

Chosen Option : 1

Q.24 In the sentence identify the segment which contains the grammatical error.

With food granaries overflowing, the Government is looking to liquidate his grain stock to prevent damage.

Ans 1. the Government is looking

2. to liquidate his grain stock

3. With food granaries overflowing

4. to prevent damage

Question ID : 864407827

Status : Answered

Chosen Option : 2

Q.25 Select the most appropriate word to fill in the blank.

The boy was leaning against the pillar _____ his hands _____ his pockets.

Ans 1. with; from

2. with; in

3. for; into

4. for; in

Question ID : 864407833
Status : Answered
Chosen Option : 1

Q.26 Select the most appropriate word to fill in the blank.

_____ there were no buses, we had to take a taxi.

- Ans
1. Even if
 2. Hence
 3. Since
 4. Although

Question ID : 864407835
Status : Answered
Chosen Option : 3

Q.27 Select the most appropriate word to fill in the blank.

If you _____ your book, I'd like to borrow it.

- Ans
1. finish
 2. finished
 3. will finish
 4. have finished

Question ID : 864407837
Status : Answered
Chosen Option : 4

Q.28 Select the most appropriate word which means the same as the group of words given.

Two lengths of rope, bamboo or wood with rungs used for climbing up and down walls, sides of ships etc.

- Ans
1. bridge
 2. steps
 3. staircase
 4. ladder

Question ID : 864407862
Status : Not Answered
Chosen Option : --

Q.29 Select the most appropriate word which means the same as the group of words given.

To prepare written material for publication by correcting or modifying it

- Ans
1. summarise
 2. abridge
 3. edit
 4. crop

Question ID : 864407861
Status : Answered
Chosen Option : 2

Q.30 Select the most appropriate synonym of the given word.

REDUNDANT

- Ans
1. uninterested
 2. unsuitable
 3. unnecessary
 4. unparalleled

Question ID : 864407846
Status : Answered
Chosen Option : 3

Q.31 Select the most appropriate meaning of the given idiom.

Till the cows come home

- Ans
1. For a small part
 2. Till the work is finished
 3. For a long, long time
 4. In the evening

Question ID : 864407858
Status : Answered
Chosen Option : 3

Q.32 Select the most appropriate ANTONYM of the given word.

WANE

- Ans
1. dwindle
 2. abate
 3. increase
 4. fall

Question ID : 864407849
Status : Not Answered
Chosen Option : --

Q.33 Select the most appropriate ANTONYM of the given word.

OFFBEAT

- Ans
1. conventional
 2. weird
 3. unique
 4. freaky

Question ID : 864407851
Status : Not Answered
Chosen Option : --

Q.34 Select the most appropriate word which means the same as the group of words given.

A list of the books referred to in a scholarly work

- Ans
1. bibliography
 2. calligraphy
 3. holography

4. bibliophile

Question ID : 864407859
Status : Not Answered
Chosen Option : --

Q.35 Select the most appropriate option to substitute the underlined segment in the given sentence. If there is no need to substitute it, select 'No substitution'.

I know the girl that sells flowers on the pavement.

- Ans
1. No substitution
 2. who
 3. what
 4. which

Question ID : 864407828
Status : Answered
Chosen Option : 2

Q.36 Select the most appropriate meaning of the given idiom.

Bed of roses

- Ans
1. An enjoyable state
 2. A difficult situation
 3. An unforgettable moment
 4. A state of perplexity

Question ID : 864407854
Status : Answered
Chosen Option : 3

Q.37 Select the most appropriate ANTONYM of the given word.

ERUDITE

- Ans
1. scholarly
 2. high-brow
 3. savvy
 4. ignorant

Question ID : 864407853
Status : Answered
Chosen Option : 4

Q.38 Select the most appropriate synonym of the given word.

TRIVIAL

- Ans
1. essential
 2. meaningful
 3. warm
 4. superficial

Question ID : 864407844
Status : Answered
Chosen Option : 1

Q.39 Select the most appropriate synonym of the given word.

SCANTY

- Ans
1. adequate
 2. meager
 3. plentiful
 4. enough

Question ID : 864407845
Status : Not Answered
Chosen Option : --

Q.40 Select the INCORRECTLY spelt word.

- Ans
1. gadget
 2. galaxy
 3. gaiety
 4. gallyary

Question ID : 864407867
Status : Not Answered
Chosen Option : --

Q.41 Select the most appropriate option to substitute the underlined segment in the given sentence. If there is no need to substitute it, select 'No substitution'.

The mother is slept while the child was playing.

- Ans
1. was asleep
 2. No substitution
 3. was slept
 4. is asleep

Question ID : 864407829
Status : Answered
Chosen Option : 3

Q.42 Select the most appropriate word which means the same as the group of words given.

To spend winter in a dormant state

- Ans
1. hoist
 2. hibernate
 3. convalesce
 4. connote

Question ID : 864407860
Status : Answered
Chosen Option : 1

Q.43 Select the most appropriate meaning of the given idiom.

Make a beeline for

- Ans
1. Go for freebies
 2. Go straight to

3. Stand in a queue
4. Make a line for honey

Question ID : 864407855
Status : Not Answered
Chosen Option : --

Q.44 Select the most appropriate meaning of the given idiom.

At the drop of a hat

- Ans** 1. Instantly
2. Usually
 3. Frequently
 4. Normally

Question ID : 864407856
Status : Answered
Chosen Option : 3

Comprehension:

In the following passage some words have been deleted. Fill in the blanks with the help of the alternatives given. Select the most appropriate option for each blank.

Central Park Tower has just become the tallest residential building in the world. The views (1)_____ this building are amazing. The (2)_____ of apartments in this skyscraper are (3)_____ as the sky. The cheapest apartment (4)_____ at \$6.7 million, and the most (5)_____ five-bedroom apartment costs \$63 million.

SubQuestion No : 45

Q.45 Select the most appropriate option to fill in blank No.1.

- Ans** 1. from
2. on
 3. up
 4. above

Question ID : 864407839
Status : Answered
Chosen Option : 1

Comprehension:

In the following passage some words have been deleted. Fill in the blanks with the help of the alternatives given. Select the most appropriate option for each blank.

Central Park Tower has just become the tallest residential building in the world. The views (1)_____ this building are amazing. The (2)_____ of apartments in this skyscraper are (3)_____ as the sky. The cheapest apartment (4)_____ at \$6.7 million, and the most (5)_____ five-bedroom apartment costs \$63 million.

SubQuestion No : 46

Q.46 Select the most appropriate option to fill in blank No.2.

- Ans** 1. bills
2. prices
 3. values
 4. amounts

Question ID : 864407840
Status : Answered
Chosen Option : 2

Comprehension:

In the following passage some words have been deleted. Fill in the blanks with the help of the alternatives given. Select the most appropriate option for each blank.

Central Park Tower has just become the tallest residential building in the world. The views (1)_____ this building are amazing. The (2)_____ of apartments in this skyscraper are (3)_____ as the sky. The cheapest apartment (4)_____ at \$6.7 million, and the most (5)_____ five-bedroom apartment costs \$63 million.

SubQuestion No : 47

Q.47 Select the most appropriate option to fill in blank No.3.

- Ans**
- 1. as high
 - 2. high
 - 3. highest
 - 4. higher

Question ID : 864407841
Status : Answered
Chosen Option : 1

Comprehension:

In the following passage some words have been deleted. Fill in the blanks with the help of the alternatives given. Select the most appropriate option for each blank.

Central Park Tower has just become the tallest residential building in the world. The views (1)_____ this building are amazing. The (2)_____ of apartments in this skyscraper are (3)_____ as the sky. The cheapest apartment (4)_____ at \$6.7 million, and the most (5)_____ five-bedroom apartment costs \$63 million.

SubQuestion No : 48

Q.48 Select the most appropriate option to fill in blank No.4.

- Ans**
- 1. start
 - 2. is starting
 - 3. started
 - 4. starts

Question ID : 864407842
Status : Answered
Chosen Option : 2

Comprehension:

In the following passage some words have been deleted. Fill in the blanks with the help of the alternatives given. Select the most appropriate option for each blank.

Central Park Tower has just become the tallest residential building in the world. The views (1)_____ this building are amazing. The (2)_____ of apartments in this skyscraper are (3)_____ as the sky. The cheapest apartment (4)_____ at \$6.7 million, and the most (5)_____ five-bedroom apartment costs \$63 million.

SubQuestion No : 49

Q.49 Select the most appropriate option to fill in blank No.5.

- Ans**
- 1. economical
 - 2. extreme
 - 3. expensive
 - 4. excessive

Question ID : 864407843
Status : Answered

Chosen Option : 3

Q.50 Select the INCORRECTLY spelt word.

Ans 1. despise

2. describe

3. desire

4. designe

Question ID : 864407865

Status : Answered

Chosen Option : 4

www.examscloud.in