

## SI in CAPFs, ASI in CISF and SI in Delhi Police Examination-2019 (Paper-I)

Roll Number	[REDACTED]
Candidate Name	[REDACTED]
Exam Venue	Modern Institute of Technology and Research Centre
Exam Date	13/12/2019
Exam Time	2:00 PM - 4:00 PM
Subject	SI CPO Examination 2019

### Section : General Intelligence and Reasoning

Q.1 उस विकल्प का चयन करें जिसमें संख्याएं उस तरह से संबंधित नहीं हैं जिस तरह से दिए गए समूह में संख्याएं संबंधित हैं।

(123, 88, 63)

- Ans  1. (100, 65, 25)  
 2. (70, 35, 10)  
 3. (150, 115, 90)  
 4. (135, 100, 75)

Question ID : 685582737  
Status : Answered  
Chosen Option : 2

Q.2 दी गई श्रेणी में एक संख्या गलत है। दिए गए विकल्पों में से गलत संख्या को पहचानें।

3, 5, 7, 6, 10, 14, 12, 24, 28, 24, 40, 56

- Ans  1. 28  
 2. 24  
 3. 10  
 4. 12

Question ID : 685582729  
Status : Answered  
Chosen Option : 2

Q.3 चार संख्याएँ दी गई हैं, जिनमें से तीन किसी तरह से समान हैं, जबकि एक असंगत है। असंगत का चयन करें।

- Ans  1. 160  
 2. 176  
 3. 178  
 4. 240

Question ID : 685582733  
Status : Answered  
Chosen Option : 3

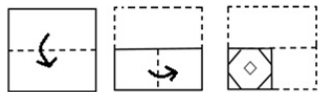
Q.4 उस विकल्प का चयन करें, जिसका तीसरे पद के साथ वही संबंध है, जो दूसरे पद का पहले पद से है।

DEMOGRAPHY : EDMHSPAYH :: BACKGROUND : ?

- Ans
- 1. DNKCSHUOAB
  - 2. ABKCSHUODN
  - 3. DNKCHSUOAB
  - 4. ABKCHSUODN

Question ID : 685582720  
 Status : Answered  
 Chosen Option : 4

Q.5 कागज के एक टुकड़े को मोड़ने का क्रम और मुड़े हुए कागज के काटे जाने का तरीका निम्नलिखित आकृतियों में दिखाया गया है। दी गई उत्तर आकृतियों में से इंगित करें कि खोले जाने पर यह कैसा दिखाई देगा।

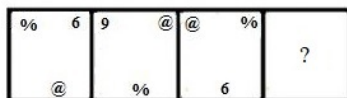


Ans

- 1.
- 2.
- 3.
- 4.

Question ID : 685582751  
 Status : Answered  
 Chosen Option : 3


Q.6 उस आकृति का चयन करें जो निम्नलिखित श्रृंखला में प्रश्नचिन्ह (?) के स्थान पर आएगी।




Ans

- 1.
- 2.

✗ 3.



✓ 4.



Question ID : 685582742  
Status : Answered  
Chosen Option : 4

Q.7 'वैज्ञानिक' 'प्रयोगशाला' से उसी तरह संबंधित है जैसे 'शिक्षक' ' \_\_\_\_\_ ' से संबंधित है।

- Ans ✓ 1. विद्यालय  
✗ 2. नौकरी  
✗ 3. अनुसंधान  
✗ 4. विद्यार्थी

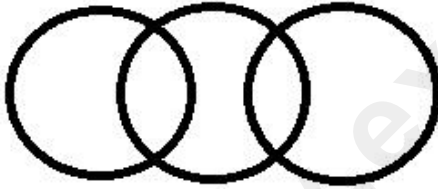
Question ID : 685582715  
Status : Answered  
Chosen Option : 1

Q.8 उस वेन आरेख का चयन करें, जो निम्नलिखित वर्गों के बीच के सही संबंध को निरूपित करता है।

महिला, माँ, बहन

Ans

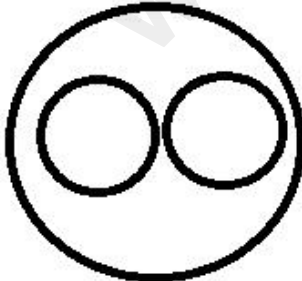
✗ 1.



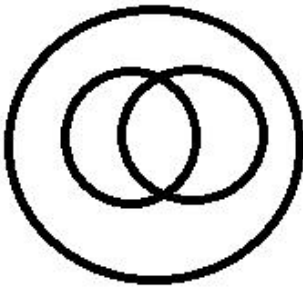
✗ 2.



✗ 3.



✓ 4.



Question ID : 685582755

Status : Answered

Chosen Option : 4

Q.9 उस आकृति का चयन करें जो निम्नलिखित श्रृंखला में प्रश्नचिन्ह (?) के स्थान पर आएगी।



Ans

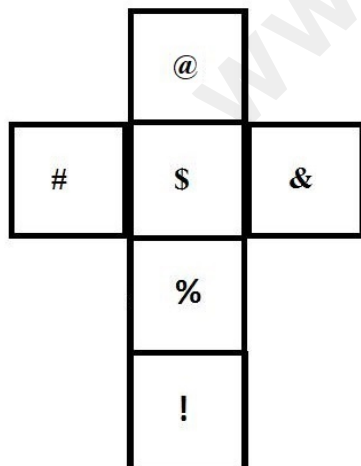


Question ID : 685582743

Status : Answered

Chosen Option : 2

Q.10 यदि दी गई आकृति को घन बनाने के लिए मोड़ा जाता है, तो कौन सा चिह्न '&' के विपरीत आएगा?



Ans ✗ 1. %

✓ 2. #

✗ 3. \$

✗ 4. @

Question ID : 685582746  
Status : Answered  
Chosen Option : 2

Q.11 निम्नलिखित संख्या श्रेणी में, दो संख्याओं को कोष्ठक के भीतर रखा गया है। श्रेणी में इन संख्याओं के समावेश से संबंधित सबसे उपयुक्त विकल्प का चयन करें।

21, 24, 19, (29), 17, 28, (15), 30

- Ans
- ✗ 1. दोनों कोष्ठक संख्याएँ सही हैं।
  - ✗ 2. दोनों कोष्ठक संख्याएँ गलत हैं।
  - ✓ 3. बाईं ओर से पहली कोष्ठक संख्या गलत है और बाईं ओर से दूसरी कोष्ठक संख्या सही है।
  - ✗ 4. बाईं ओर से पहली कोष्ठक संख्या सही है और बाईं ओर से दूसरी कोष्ठक संख्या गलत है।

Question ID : 685582727  
Status : Answered  
Chosen Option : 3

Q.12 उस विकल्प का चयन करें जिसमें शब्दों के बीच वही संबंध है जो दिए गए शब्दों के समूह के बीच है।

बिल्ली : शेर : जैगुआर

- Ans
- ✗ 1. शार्क : डॉल्फिन : चमगादड़
  - ✗ 2. खेल : एथलीट : भाला
  - ✓ 3. बंदर : चिंपांज़ी : गोरिल्ला
  - ✗ 4. सरीसृप : साँप : टोड

Question ID : 685582717  
Status : Answered  
Chosen Option : 3

Q.13 गणितीय चिह्नों '+' और '-' को और संख्याओं '4' और '8' को परस्पर बदलने के बाद सही समीकरण का चयन करें।

- Ans
- ✗ 1.  $2 + 8 - 4 = 9$
  - ✗ 2.  $8 + 4 - 2 = 10$
  - ✓ 3.  $4 - 8 + 11 = 1$
  - ✗ 4.  $4 - 8 + 11 = 8$

Question ID : 685582740  
Status : Answered  
Chosen Option : 3

Q.14 निम्नलिखित शब्दों को उस क्रम में व्यवस्थित करें जिस क्रम में वे एक अंग्रेजी शब्दकोश में आते हैं।

1. Candid
2. Cancel
3. Cachet
4. Cable
5. Canary

- Ans
- ✗ 1. 4, 3, 2, 1, 5
  - ✓ 2. 4, 3, 5, 2, 1
  - ✗ 3. 4, 2, 1, 3, 5

✗ 4. 3, 5, 4, 1, 2

Question ID : 685582709  
Status : Answered  
Chosen Option : 2

Q.15 उस विकल्प का चयन करें जिसमें संख्याओं के बीच वही संबंध है जो दिए गए संख्याओं के युग्म के बीच है।

16 : 35

- Ans
- ✗ 1. 54 : 96
  - ✗ 2. 14 : 35
  - ✗ 3. 19 : 93
  - ✓ 4. 43 : 67

Question ID : 685582732  
Status : Not Attempted and Marked For Review  
Chosen Option : --

Q.16 निम्नलिखित चार शब्दों में से तीन एक निश्चित तरीके से समान हैं और एक असंगत है। असंगत शब्द का चयन करें।

- Ans
- ✓ 1. आनंद
  - ✗ 2. दुःखी
  - ✗ 3. उदास
  - ✗ 4. एकाकी

Question ID : 685582714  
Status : Answered  
Chosen Option : 1

Q.17 निम्नलिखित में से कौन सा विकल्प दिए गए शब्दों का तार्किक अनुक्रम होगा?

1. पंजाब
2. अमृतसर
3. विश्व
4. भारत
5. एशिया
6. स्वर्ण मंदिर

- Ans
- ✗ 1. 2, 1, 4, 5, 3, 6
  - ✓ 2. 6, 2, 1, 4, 5, 3
  - ✗ 3. 3, 1, 5, 2, 4, 6
  - ✗ 4. 6, 2, 1, 5, 3, 4

Question ID : 685582710  
Status : Answered  
Chosen Option : 2

Q.18 दिए गए चार संख्या समूहों में से तीन किसी प्रकार से समान हैं जबकि एक असंगत है। असंगत संख्या समूह का चयन करें।

- Ans
- ✓ 1. 5 - 25 - 225
  - ✗ 2. 3 - 9 - 27
  - ✗ 3. 6 - 36 - 216

Question ID : 685582734  
Status : Answered  
Chosen Option : 1

Q.19 एक निश्चित भाषा में, यदि ABIDE को 14811625 के रूप में लिखा जाता है, तो CAGED को उस भाषा में कैसे लिखा जाएगा?

- Ans
- 1. 61492516
  - 2. 91416514
  - 3. 91492516
  - 4. 81493514

Question ID : 685582724  
Status : Answered  
Chosen Option : 3

Q.20 दिए गए पैटर्न का ध्यानपूर्वक अध्ययन करें और उस संख्या का चयन करें जो प्रश्नचिन्ह (?) के स्थान पर आएगी?

9	28	85
17	52	?
7	22	67

- Ans
- 1. 154
  - 2. 165
  - 3. 157
  - 4. 150

Question ID : 685582738  
Status : Answered  
Chosen Option : 3

Q.21 उस विकल्प का चयन करें जिसमें शब्दों के बीच वही संबंध है जो दिए गए शब्दों के युग्म के बीच है।

बैरोमीटर : दाब

- Ans
- 1. एमीटर : विद्युत धारा
  - 2. थर्मामीटर : आयतन
  - 3. वोल्टमीटर : ताप
  - 4. स्केल : सेकंड्स

Question ID : 685582718  
Status : Answered  
Chosen Option : 1

Q.22 निम्नलिखित चार अक्षर-समूहों में से तीन एक निश्चित तरीके से समान हैं और एक असंगत है। असंगत का चयन करें।

- Ans
- 1. HNU
  - 2. GKR
  - 3. QIZ
  - 4. MKX

Question ID : 685582712

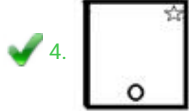
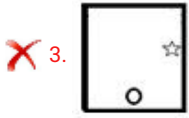
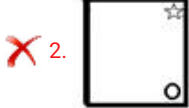
Status : Answered

Chosen Option : 3

Q.23 उस आकृति का चयन करें जो निम्नलिखित श्रृंखला में प्रश्नचिन्ह (?) के स्थान पर आएगी।



Ans



Question ID : 685582744

Status : Answered

Chosen Option : 4

Q.24 यदि अंग्रेजी वर्णमाला के प्रत्येक अक्षर को विषम संख्यात्मक मान दिया गया है, जैसे A =1, B = 3, इत्यादि, तो RADICAL शब्द के सभी अक्षरों का कुल मान क्या होगा?

Ans  1. 90

2. 99

3. 88

4. 89

Question ID : 685582723

Status : Answered

Chosen Option : 3

Q.25 चार संख्या-युग्म दिए गए हैं, जिनमें से तीन किसी तरह से समान हैं, जबकि एक असंगत है। असंगत संख्या-युग्म का चयन करें।

Ans  1. 2 : 51

2. 17 : 6

3. 34 : 3

4. 24 : 4

Question ID : 685582736

Status : Answered

Chosen Option : 1

Q.26 निम्नलिखित चार शब्दों में से तीन एक निश्चित तरीके से समान हैं और एक असंगत है। असंगत शब्द का चयन

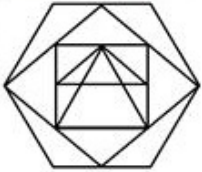


करें।

- Ans  1. हिरण  
 2. मेमना  
 3. बछड़ा  
 4. शावक

Question ID : 685582713  
Status : Answered  
Chosen Option : 4

Q.27 दी गई आकृति में कितने त्रिभुज हैं?



- Ans  1. 20  
 2. 17  
 3. 19  
 4. 23

Question ID : 685582745  
Status : Answered  
Chosen Option : 3

Q.28 निम्नलिखित समीकरण को सही बनाने के लिए किन दो चिह्नों को बदलने की आवश्यकता है?

$$64 - 8 \div 3 + 7 \times 5 = 40$$

- Ans  1.  $\times$  और  $\div$   
 2.  $\times$  और  $+$   
 3.  $\div$  और  $+$   
 4.  $\div$  और  $-$

Question ID : 685582741  
Status : Answered  
Chosen Option : 4

Q.29 चार संख्या-युग्म दिए गए हैं, जिनमें से तीन किसी तरह से समान हैं, जबकि एक असंगत है। असंगत संख्या-युग्म का चयन करें।

- Ans  1. 7 : 37  
 2. 18 : 49  
 3. 13 : 29  
 4. 24 : 51

Question ID : 685582735  
Status : Answered  
Chosen Option : 1

Q.30 A, E, I, O और U उत्तर की ओर मुंह करके एक पंक्ति में बैठे हैं। 'O', 'E' और 'U' के बगल में बैठा है। 'A', 'I' के बगल में बैठा है, जो सबसे बाईं ओर बैठा है। 'U', 'A' के बगल में नहीं बैठा है। बीच में कौन बैठा है?

- Ans
- 1. U
  - 2. O
  - 3. E
  - 4. A

Question ID : 685582753  
Status : Answered  
Chosen Option : 3

Q.31 उस संख्या का चयन करें जो निम्नलिखित श्रेणी में प्रश्न चिन्ह (?) के स्थान पर आएगी।

6, 9, 14, 21, 30, 41, ?

- Ans
- 1. 49
  - 2. 53
  - 3. 57
  - 4. 54

Question ID : 685582728  
Status : Answered  
Chosen Option : 4

Q.32 उस विकल्प का चयन करें, जिसका तीसरी संख्या के साथ वही संबंध है, जो दूसरी संख्या का पहली संख्या से है।

91 : 104 :: 161 : ?

- Ans
- 1. 237
  - 2. 235
  - 3. 184
  - 4. 344

Question ID : 685582730  
Status : Answered  
Chosen Option : 3

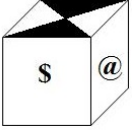
Q.33 चार युग्म दिए गए हैं, जिनमें से तीन किसी तरह से समान हैं, जबकि एक असंगत है। असंगत का चयन करें।

- Ans
- 1. PHK - KSP
  - 2. QJR - JQH
  - 3. AEW - ZVD
  - 4. SUL - HFO

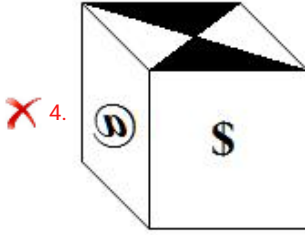
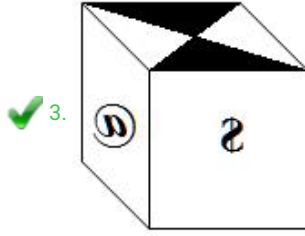
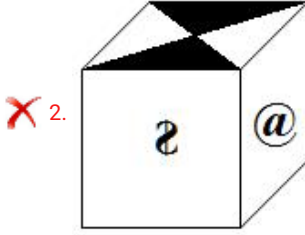
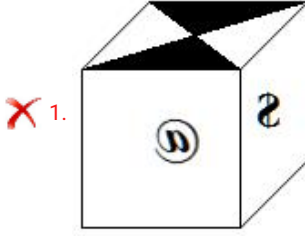
Question ID : 685582711  
Status : Answered  
Chosen Option : 2

Q.34

जब दी गई आकृति के दाईं ओर दर्पण रखा जाता है, तो निम्नलिखित विकल्प आकृतियों में से कौन सी आकृति, दी गई आकृति की सटीक दर्पण छवि है?



Ans



Question ID : 685582750

Status : Answered

Chosen Option : 3

Q.35 दिए गए कथनों और निष्कर्षों को ध्यानपूर्वक पढ़ें। यह मानते हुए कि कथनों में दी गयी जानकारी सत्य है, भले ही यह आम तौर पर स्थापित तथ्यों से भिन्न दिखाई देता है, यह निर्णय करें कि दिए गए निष्कर्षों में से कौन सा/से कथन से तार्किक रूप से अनुसरण करता/ते है/हैं।

कथन:

- I. सभी चित्र रंगीन हैं।
- II. कोई रंगीन काला नहीं है।

निष्कर्ष:

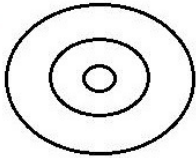
- I. कुछ चित्र काले हैं।
- II. कोई चित्र काला नहीं है।

Ans

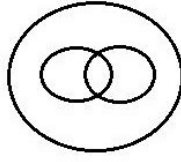
- ✓ 1. केवल निष्कर्ष II अनुसरण करता है।
- ✗ 2. ना निष्कर्ष I ना ही निष्कर्ष II अनुसरण करता है।
- ✗ 3. केवल निष्कर्ष I अनुसरण करता है।
- ✗ 4. दोनों निष्कर्ष I और II अनुसरण करते हैं।

Q.36 उस वेन आरेख का चयन करें, जो निम्नलिखित वर्गों के बीच के सही संबंध को निरूपित करता है।

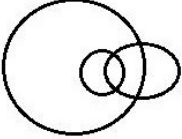
डॉक्टर, सर्जन, कार्डियोलॉजिस्ट



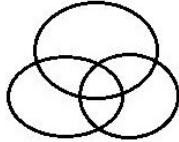
1



2



3



4

- Ans
- 1. 4
  - 2. 2
  - 3. 1
  - 4. 3

Q.37 उस विकल्प का चयन करें जिसमें दी गई आकृति अंतःस्थापित है। (घुमाने की अनुमति नहीं है)

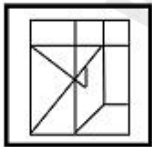


Ans

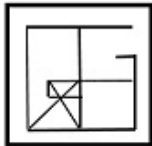
1.



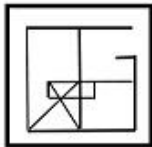
2.



3.



4.



Status : Answered  
Chosen Option : 2

Q.38 उस विकल्प का चयन करें, जिसका तीसरे पद के साथ वही संबंध है, जो दूसरे पद का पहले पद से है।

CANOPY : BCKSKE :: WARDROBE : ?

- Ans
- 1. XCOHMUUM
  - 2. XCOHMUUN
  - 3. VCOHMUUM
  - 4. VCOHMUVN

Question ID : 685582719  
Status : Answered  
Chosen Option : 3

Q.39 एक निश्चित कूट भाषा में, I को P, L को A, A को O, O को N, N को C, C को T, P को L और T को I के रूप में लिखा जाता है। उस कूट में POLITICIAN को कैसे लिखा जाएगा?

- Ans
- 1. LNAPIPTPON
  - 2. TNAPIPLPOC
  - 3. LNAPIPTPOC
  - 4. LNAIPITPOC

Question ID : 685582721  
Status : Answered  
Chosen Option : 3

Q.40 जब दी गई आकृति के दाईं ओर दर्पण रखा जाता है, तो निम्नलिखित विकल्प आकृतियों में से कौन सी आकृति, दी गई आकृति की सटीक दर्पण छवि है?

CHAI253PAANI

- Ans
- 1. CHAI253PAANI
  - 2. CHAI253PAANI
  - 3. CHAI253PAANI
  - 4. CHAI253PAANI

Question ID : 685582749  
Status : Answered  
Chosen Option : 1

Q.41 दिए गए कथनों और निष्कर्षों को ध्यानपूर्वक पढ़ें। यह मानते हुए कि कथनों में दी गयी जानकारी सत्य है, भले ही यह आम तौर पर स्थापित तथ्यों से भिन्न दिखाई देता है, यह निर्णय करें कि दिए गए निष्कर्षों में से कौन सा/से कथन से तार्किक रूप से अनुसरण करता/ते है/हैं।

कथन:

- I. कुछ चिंपांजी बाघ हैं।
- II. सभी बाघ हाथी हैं।

निष्कर्ष:

- I. कुछ हाथी बाघ हैं।
- II. कुछ हाथी चिंपांजी हैं।

- Ans
- 1. केवल निष्कर्ष II अनुसरण करता है।
  - 2. ना निष्कर्ष I ना ही निष्कर्ष II अनुसरण करता है।

✓ 3. दोनों निष्कर्ष I और II अनुसरण करते हैं।

✗ 4. केवल निष्कर्ष I अनुसरण करता है।

Question ID : 685582726

Status : Answered

Chosen Option : 3

Q.42 यदि एक निश्चित कूट में, COATED को X41G2W के रूप में लिखा जाता है, तो उस कूट में ORIENTAL को कैसे लिखा जाएगा?

Ans ✗ 1. I432NGZP

✓ 2. 4I32MG10

✗ 3. I432MGZO

✗ 4. 4I32NGZP

Question ID : 685582722

Status : Answered

Chosen Option : 2

Q.43 उस विकल्प का चयन करें, जिसका तीसरे शब्द के साथ वही संबंध है, जो दूसरे शब्द का पहले शब्द से है।

द्वीप : समुद्र :: मरु उद्यान : ?

Ans ✗ 1. हवा

✗ 2. पर्वत

✓ 3. मरुभूमि

✗ 4. पेड़

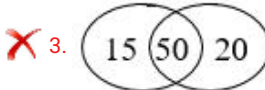
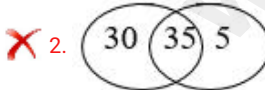
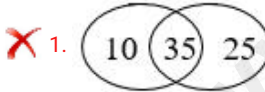
Question ID : 685582716

Status : Answered

Chosen Option : 3

Q.44 एक कक्षा में 70 छात्र हैं। उनमें से, 50 छात्रों को क्रिकेट पसंद है, 35 छात्रों को क्रिकेट और फुटबॉल दोनों पसंद हैं और कुछ को केवल फुटबॉल पसंद है। उस वेन आरेख का चयन करें जो दी गई जानकारी को उपयुक्त ढंग से प्रस्तुत करता है।

Ans



Question ID : 685582756

Status : Answered

Chosen Option : 4

Q.45 रेहाना अपने घर से 6 km पश्चिम में झाड़व करती है और बाएं मुड़ती है और 3 km झाड़व करती है और फिर बाएं मुड़ जाती है और 10 km झाड़व करती है। रेहाना के घर और कार्यालय के बीच सबसे कम दूरी कितनी है?

- Ans  1. 5 km  
 2. 9 km  
 3. 10 km  
 4. 4 km

Question ID : 685582752  
Status : Answered  
Chosen Option : 1

Q.46 \* संकेतों को बदलने और निम्नलिखित समीकरण को संतुलित करने के लिए गणितीय संकेतों के सही संयोजन का चयन करें।

$$86 * (5 * 8 * 4) * 9 * 85$$

- Ans  1. +, ×, ÷, =  
 2. ÷, -, ×, +, =  
 3. -, ×, ÷, +, =  
 4. +, -, ×, ÷, =

Question ID : 685582739  
Status : Not Attempted and Marked For Review  
Chosen Option : --

Q.47 उस अक्षर- समूह का चयन करें जो निम्नलिखित श्रृंखला में प्रश्न चिन्ह (?) के स्थान पर आएगा।

FIY, HLD, JOI, LRN, NUS, ?

- Ans  1. QXY  
 2. QVY  
 3. PXX  
 4. PVX

Question ID : 685582708  
Status : Answered  
Chosen Option : 3

Q.48 उस विकल्प का चयन करें जिसका पांचवीं संख्या के साथ वही संबंध है, जो दूसरी संख्या का पहली संख्या के साथ है और चौथी संख्या का तीसरी संख्या के साथ है।

$$21 : 529 :: 25 : 729 :: 17 : ?$$

- Ans  1. 441  
 2. 324  
 3. 289  
 4. 361

Question ID : 685582731  
Status : Answered  
Chosen Option : 4

Q.49 उस अक्षर का चयन करें जो निम्नलिखित श्रृंखला में प्रश्न चिन्ह (?) के स्थान पर आएगा।

U, P, M, H, ?, Z

- Ans  1. E

2. K

3. H

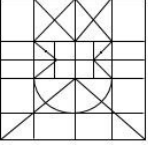
4. J

Question ID : 685582707

Status : Answered


Chosen Option : 1

Q.50 उस विकल्प का चयन करें जो दी गई आकृति में अंतःस्थापित है। (घुमाने (रोटेशन) की अनुमति नहीं है)



Ans

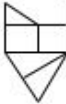
1.



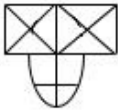
2.



3.



4.



Question ID : 685582747

Status : Answered

Chosen Option : 2

Section : General Knowledge and General Awareness

Q.1 चेराव निम्नलिखित में से किस राज्य का एक प्राचीन पारंपरिक नृत्य है?

Ans

1. मिजोरम का

2. गोवा का

3. छत्तीसगढ़ का

4. हिमाचल प्रदेश का

Question ID : 685582758

Status : Not Answered

Chosen Option : --

Q.2 निम्नलिखित में से किस क्रिकेट खिलाड़ी ने अंतरराष्ट्रीय क्रिकेट में एक कप्तान के रूप में सर्वाधिक 150 से अधिक स्कोर बनाने का रिकॉर्ड बनाकर ऑस्ट्रेलिया के डॉन ब्रैडमैन को पीछे छोड़ दिया?

Ans

1. फ्राफ़ डू प्लेसिस ने

2. जो रूट ने

3. केन विलियमसन ने



✓ 4. विराट कोहली ने

Question ID : 685582806  
Status : Answered  
Chosen Option : 4

Q.3 निम्नलिखित में से कौन सा विकल्प गलत है?

- Ans
- ✗ 1. राज्यपाल अपना त्याग-पत्र राष्ट्रपति को सौंपते हैं।
  - ✗ 2. राज्यपाल की नियुक्ति राष्ट्रपति द्वारा की जाती है।
  - ✗ 3. राष्ट्रपति के प्रसादपर्यन्त राज्यपाल अपने पद पर बने रहते हैं।
  - ✓ 4. 30 वर्ष की आयु का व्यक्ति राज्यपाल बन सकता है।

Question ID : 685582802  
Status : Answered  
Chosen Option : 1

Q.4 निम्नलिखित में से कौन सा विकल्प सुमेलित है?

- Ans
- ✗ 1. अनुच्छेद 19 (g) - शांतिपूर्वक और बिना हथियारों के एकत्र होने का अधिकार
  - ✓ 2. अनुच्छेद 19 (a) - बोलने और अभिव्यक्ति की स्वतंत्रता का अधिकार
  - ✗ 3. अनुच्छेद 19 (e) - संघ बनाने का अधिकार
  - ✗ 4. अनुच्छेद 19 (b) - किसी भी पेशे का अभ्यास करने का अधिकार

Question ID : 685582801  
Status : Answered  
Chosen Option : 2

Q.5 किस के आविष्कार के कारण पोलियो के टीके का विकास हुआ?

- Ans
- ✗ 1. लिनस पॉलिंग
  - ✗ 2. रॉबर्ट वेल्बर्ग
  - ✗ 3. अर्नेस्ट हैकेल
  - ✓ 4. जोनास सॉल्क

Question ID : 685582773  
Status : Answered  
Chosen Option : 4

Q.6 पृथ्वी की महाद्वीपीय भू-सतह (क्रस्ट) में प्रचुरतम मात्रा में पाया जाने वाला खनिज कौन सा है?

- Ans
- ✓ 1. स्फतीय (फ़ेल्स्पार)
  - ✗ 2. अभ्रक (माइकाज़)
  - ✗ 3. पाइरॉक्सीन्स
  - ✗ 4. स्फटिक (क्वार्ट्ज़)

Question ID : 685582776  
Status : Answered  
Chosen Option : 3

Q.7 तीसरी बौद्ध संगीति किस शहर में आयोजित कि गयी थी?

- Ans
- ✗ 1. तक्षशिला में

- 2. रंगून में
- 3. पाटलिपुत्र में
- 4. श्रावस्ती में

Question ID : 685582785  
Status : Answered  
Chosen Option : 3

Q.8 निम्नलिखित में से किस राष्ट्र ने 2019 विश्व रग्बी कप की मेज़बानी की थी?

- Ans
- 1. इंग्लैंड ने
  - 2. जापान ने
  - 3. फ़्रांस ने
  - 4. ऑस्ट्रेलिया ने

Question ID : 685582805  
Status : Answered  
Chosen Option : 2

Q.9 ओडिशा में 'जोगढ़' में कौन सा ऐतिहासिक स्थल स्थित है?

- Ans
- 1. मौर्य साम्राज्य का प्राचीन कलाकृति स्थल
  - 2. गुप्त वंश का शाही अर्द्धवृत्ताकार प्रेक्षागृह
  - 3. बंगाल के नवाबों का महल
  - 4. अशोक का शिला अभिलेख स्थल

Question ID : 685582788  
Status : Not Answered  
Chosen Option : --

Q.10 भारत के संविधान के निम्नलिखित भागों में से कौन सा भाग नागरिकता से संबंधित है?

- Ans
- 1. भाग VI
  - 2. भाग VIII
  - 3. भाग II
  - 4. भाग XII

Question ID : 685582797  
Status : Answered  
Chosen Option : 3

Q.11 निम्नलिखित में से किस को नोबेल शांति पुरस्कार 2019 से सम्मानित किया गया था?

- Ans
- 1. अकीरा योशिनो को
  - 2. ग्रेटा थनबर्ग को
  - 3. अबी अहमद अली को
  - 4. जॉन बी. गुडएनफ़

Question ID : 685582793  
Status : Answered  
Chosen Option : 3

Q.12

ICC एक दिवसीय (ODI) विश्व कप 2019 में निम्नलिखित में से कौन सा राष्ट्र उप-विजेता था?

- Ans
- 1. इंग्लैंड
  - 2. ऑस्ट्रेलिया
  - 3. न्यूजीलैंड
  - 4. भारत

Question ID : 685582803  
Status : Answered  
Chosen Option : 3

Q.13 \_\_\_\_\_ को कोशिका के शक्ति-गृह (पावरहाउस) के रूप में जाना जाता है।

- Ans
- 1. अन्तः प्रद्वयी जालिका (एंडोप्लाज़्मिक रेटिकुलम)
  - 2. नाभिक (न्यूक्लियस)
  - 3. सूत्र कणिका (माइटोकॉन्ड्रिया)
  - 4. कोशिका द्रव्य (साइटोप्लाज़्म)

Question ID : 685582772  
Status : Answered  
Chosen Option : 3

Q.14 2011 की जनगणना के अनुसार भारत में साक्षरता दर क्या है?

- Ans
- 1. 72.04%
  - 2. 76.04%
  - 3. 74.04%
  - 4. 78.04%

Question ID : 685582782  
Status : Answered  
Chosen Option : 3

Q.15 कुछ प्लास्टिक ऐसे होते हैं जिन्हें जब एक बार ढाला जाता है तो उन्हें गर्म करके नरम नहीं किया जा सकता है। इन्हें क्या कहा जाता है?

- Ans
- 1. थर्मोसेटिंग पॉलिमर्स
  - 2. पॉलीविनाइल क्लोराइड
  - 3. थर्मोप्लास्टिक पॉलीयूरिथेस (टी.पी.यू.)
  - 4. उच्च घनत्वयुक्त पॉलीएथीन (एच.डी.पी.ई.)

Question ID : 685582771  
Status : Not Answered  
Chosen Option : --

Q.16 निम्नलिखित में से कौन अल्फ्रेड नोबेल 2019 की स्मृति में आर्थिक विज्ञान में स्वेरिएस रिक्सबैंक पुरस्कार प्राप्तकर्ताओं में से एक नहीं है?

- Ans
- 1. माइकल क्रैमर
  - 2. अभिजीत बनर्जी
  - 3. एम. स्टेनली व्हिटिंगम
  - 4. एस्थेर डफ़्लो

Question ID : 685582791  
Status : Answered  
Chosen Option : 3

Q.17 \_\_\_\_\_ को कोशिका के 'सुसाइड बैग' के रूप में जाना जाता है।

- Ans
- 1. काष्ठ अपद्रव्यता (लिग्निन)
  - 2. जीवद्रव्य (प्रोटोप्लाज़्म)
  - 3. कोशिकारस (सेलुलोज़)
  - 4. लयनकाय (लाइसोसोम)

Question ID : 685582769  
Status : Answered  
Chosen Option : 4

Q.18 नवंबर 2019 तक, तेलंगाना अपनी राजधानी किस के साथ साझा करता है?

- Ans
- 1. आंध्र प्रदेश के साथ
  - 2. ओडिशा के साथ
  - 3. केरल के साथ
  - 4. कर्नाटक के साथ

Question ID : 685582779  
Status : Answered  
Chosen Option : 1

Q.19 1916 के लखनऊ समझौता (पैक्ट) की/का महत्वपूर्ण विशेषता / परिणाम क्या थी/था?

- Ans
- 1. कांग्रेस प्रांतीय परिषद के चुनावों में मुस्लिमों के लिए पृथक निर्वाचन के लिए सहमत नहीं थी।
  - 2. इसने कांग्रेस के उदारवादी और कट्टर पंथियों के पुनर्मिलन को उल्लिखित किया।
  - 3. इसने हिंदुओं और मुस्लिमों के बीच दूरी और अधिक बढ़ा दी थी।
  - 4. इसके कारण बंगाल का विभाजन हुआ।

Question ID : 685582790  
Status : Answered  
Chosen Option : 1

Q.20 निम्नलिखित में से कौन सा भारतीय पत्रकार 2019 रेमन मैग्सेसे पुरस्कार पाने वालों में से एक था?

- Ans
- 1. अर्नब गोस्वामी
  - 2. राजदीप सरदेसाई
  - 3. रवीश कुमार
  - 4. बरखा दत्त

Question ID : 685582794  
Status : Answered  
Chosen Option : 3

Q.21 लावा (मैग्मा) के ठंडा होने से बनने वाली चट्टानों को क्या कहा जाता है?

- Ans
- 1. आग्नेय चट्टानें
  - 2. सेंधा नमक
  - 3. अवसादी चट्टानें

4. रूपांतरित चट्टानें

Question ID : 685582777  
Status : Answered  
Chosen Option : 3

Q.22 \_\_\_\_\_ अत्यंत खड़ी ढलान और सीधे पार्श्व भागों वाली एक गहरी घाटी होती है और इसके शीर्ष और तल की चौड़ाई लगभग एक समान होती है।

- Ans
- 1. संकीर्ण घाटी
  - 2. उभारदार भाग
  - 3. जलडमरूमध्य
  - 4. दर्रा

Question ID : 685582781  
Status : Answered  
Chosen Option : 4

Q.23 कुचिपुड़ी नृत्य की उत्पत्ति भारत के किस राज्य में हुई थी?

- Ans
- 1. महाराष्ट्र में
  - 2. गुजरात में
  - 3. कर्नाटक में
  - 4. आंध्र प्रदेश में

Question ID : 685582757  
Status : Answered  
Chosen Option : 4

Q.24 'द रिलेक्टेंट फेमिली मैन : शिवा इन एवरीडे लाइफ़' पुस्तक के लेखक कौन हैं?

- Ans
- 1. मूल चंद शर्मा
  - 2. नीलिमा चितगोपेकर
  - 3. रीमा हूजा
  - 4. एम.एन. दीपक नाम्बियार

Question ID : 685582796  
Status : Not Answered  
Chosen Option : --

Q.25 केंद्रीय बजट 2019-20 के अनुसार, ₹400 करोड़ तक के वार्षिक कुल बिक्री (टर्नओवर) वाली कंपनियों के लिए कर की दर \_\_\_\_\_ तक कम कर दी गई है।

- Ans
- 1. 21%
  - 2. 11%
  - 3. 25%
  - 4. 19%

Question ID : 685582764  
Status : Not Answered  
Chosen Option : --

Q.26 निम्नलिखित में से किस वैश्विक नेता के साथ, प्रधान मंत्री नरेंद्र मोदी ने अक्टूबर 2019 में तमिलनाडु के मामल्लापुरम में द्वितीय अनौपचारिक शिखर सम्मेलन और प्रतिनिधिमंडल स्तर की वार्ता आयोजित की थी?

- Ans
- 1. शी जिनपिंग
  - 2. व्लादिमिर पुतिन
  - 3. शिन्ज़ो आबे
  - 4. मोहम्मद बिन सलमान अल सऊद

Question ID : 685582792  
Status : Answered  
Chosen Option : 4

Q.27 निम्नलिखित में से क्या पृथ्वी के वातावरण को यथास्थान बनाए रखने में सहायता करता है?

- Ans
- 1. चंद्रमा का गुरुत्वाकर्षण बल
  - 2. पृथ्वी का गुरुत्वाकर्षण बल
  - 3. पृथ्वी का अपने अक्ष पर घूमना
  - 4. सूर्य का गुरुत्वाकर्षण बल

Question ID : 685582778  
Status : Answered  
Chosen Option : 3

Q.28 रॉलेट अधिनियम (एक्ट) (1919) समेकित रूप से क्या था?

- Ans
- 1. यह सभी प्रकार के जन-आन्दोलनों को प्रतिबंधित करने के लिए प्रतिपादित किया गया था।
  - 2. इसने राजनीतिक गतिविधियों को दबा दिया और राजनीतिक क्राइमों को बिना किसी मुकदमे के दो वर्षों तक हिरासत में रखने की अनुमति दी।
  - 3. इसने शांतिपूर्ण जुलूस निकालने की अनुमति दी थी।
  - 4. यह असहयोग-आंदोलन के विरुद्ध था।

Question ID : 685582787  
Status : Answered  
Chosen Option : 2

Q.29 निम्नलिखित में से कौन सी नदी प्रायद्वीपीय भारत की सबसे लंबी नदी है?

- Ans
- 1. नर्मदा
  - 2. गोदावरी
  - 3. कृष्णा
  - 4. लूनी

Question ID : 685582784  
Status : Answered  
Chosen Option : 4

Q.30 भारत के संविधान के अनुच्छेद 24 के अंतर्गत \_\_\_\_\_ वर्ष से कम आयु के बच्चे को किसी भी कारखाने में कार्य करने के लिए नियोजित नहीं किया जा सकता है।

- Ans
- 1. 16
  - 2. 14
  - 3. 15
  - 4. 17

Question ID : 685582798

Status : Answered  
Chosen Option : 2

Q.31 निम्नलिखित में से पानी में घुलनशील विटामिन का चयन करें।

- Ans  1. विटामिन सी  
 2. विटामिन डी  
 3. विटामिन के  
 4. विटामिन ए

Question ID : 685582774  
Status : Answered  
Chosen Option : 1

Q.32 राष्ट्रीय सामान्य गतिशीलता पत्र (NCCM) मानकों के आधार पर, परिवहन के लिए भारत का पहला स्वदेशी रूप से विकसित भुगतान पारिस्थितिकी तंत्र कब आरंभ किया गया था?

- Ans  1. मार्च 2016 में  
 2. मार्च 2017 में  
 3. मार्च 2018 में  
 4. मार्च 2019 में

Question ID : 685582763  
Status : Not Answered  
Chosen Option : --

Q.33 मगध एक शक्तिशाली महाजनपद होते हुए भी वैशाली (बिहार) में अपनी राजधानी वज्जि सहित प्रशासन के एक अन्य स्वरूप के अधीन था जो \_\_\_\_\_ कहलाता था।

- Ans  1. लोकतंत्र  
 2. गण या संघ  
 3. पंचायती  
 4. समाजवाद

Question ID : 685582786  
Status : Answered  
Chosen Option : 2

Q.34 भारतीय रिज़र्व बैंक की स्थापना किस वर्ष की गई थी?

- Ans  1. 1945 में  
 2. 1925 में  
 3. 1939 में  
 4. 1935 में

Question ID : 685582762  
Status : Answered  
Chosen Option : 4

Q.35 दिसंबर 1907 में सूरत में राष्ट्रवादी प्रतिनिधियों के सम्मेलन की अध्यक्षता किसने की थी?

- Ans  1. श्री अरबिंदो ने  
 2. लाला लाजपत राय ने  
 3. फ़िरोज़शाह मेहता ने

✗ 4. दादाभाई नौरोजी ने

Question ID : 685582789  
Status : Answered  
Chosen Option : 2

Q.36 'स्फटिक (क्वार्ट्ज़)' का रासायनिक सूत्र क्या है?

- Ans
- ✗ 1.  $\text{SiO}_5$
  - ✗ 2.  $\text{SiO}_3$
  - ✗ 3.  $\text{SiO}_1$
  - ✓ 4.  $\text{SiO}_2$

Question ID : 685582775  
Status : Not Answered  
Chosen Option : --

Q.37 हाइनरिख रूडॉल्फ़ हर्ट्ज़ ने रेडियो, टेलीफ़ोन और टेलीग्राफ़ के भविष्य के विकास की नींव रखी थी। उनके सम्मान में \_\_\_\_\_ की SI इकाई को 'हर्ट्ज़' नाम दिया गया था।

- Ans
- ✗ 1. ऊष्मा
  - ✗ 2. प्रकाश
  - ✗ 3. ध्वनि
  - ✓ 4. आवृत्ति

Question ID : 685582768  
Status : Answered  
Chosen Option : 4

Q.38 केंद्रीय बजट 2019-20 के अनुमानों के अनुसार, 2018-2030 के दौरान रेलवे की आधारिक संरचना (इंफ़्रास्ट्रक्चर) में कितने निवेश की आवश्यकता है?

- Ans
- ✓ 1. ₹50 लाख करोड़
  - ✗ 2. ₹60 लाख करोड़
  - ✗ 3. ₹40 लाख करोड़
  - ✗ 4. ₹30 लाख करोड़

Question ID : 685582766  
Status : Not Answered  
Chosen Option : --

Q.39 निम्नलिखित में से कौन सा देश एशिया में तीसरा सर्वाधिक जनसंख्या वाला देश है?

- Ans
- ✗ 1. जॉर्डन
  - ✗ 2. बांग्लादेश
  - ✓ 3. इंडोनेशिया
  - ✗ 4. इराक़

Question ID : 685582783  
Status : Answered  
Chosen Option : 2

Q.40 निम्नलिखित में से कौन सा धार्मिक समुदाय व्यावहारिक जीवन में दस सार्वभौमिक गुणों का पालन करके आत्म-



शुद्धि और उत्थान के लिए प्रतिवर्ष 'पर्युषण पर्व' मनाता है?

- Ans
- 1. पारसी समुदाय
  - 2. हिंदू समुदाय
  - 3. सिख समुदाय
  - 4. जैन समुदाय

Question ID : 685582761  
Status : Answered  
Chosen Option : 4

Q.41 भारत के संविधान का निम्नलिखित में से कौन सा अनुच्छेद राष्ट्रपति के चुनाव की प्रणाली से संबंधित है?

- Ans
- 1. अनुच्छेद 55
  - 2. अनुच्छेद 61
  - 3. अनुच्छेद 51
  - 4. अनुच्छेद 65

Question ID : 685582799  
Status : Answered  
Chosen Option : 4

Q.42 रक्त में कुछ निश्चित कोशिकाओं की उपस्थिति के कारण रक्त का थक्का बनता है जो \_\_\_\_\_ कहलाती हैं।

- Ans
- 1. उपास्थ्यणु (कौन्ड्रोसाइट्स)
  - 2. लाल रक्त कोशिकाएँ (एरिथ्रोसाइट्स)
  - 3. लसीका कोशिकाएँ (लिम्फोसाइट्स)
  - 4. बिंबाणु (प्लेटलेट्स)

Question ID : 685582767  
Status : Answered  
Chosen Option : 3

Q.43 सी.वी. रमन के योगदान का स्मरणोत्सव मनाने के लिए राष्ट्रीय विज्ञान दिवस कब मनाया जाता है?

- Ans
- 1. 28 फ़रवरी को
  - 2. 16 नवंबर को
  - 3. 14 जनवरी को
  - 4. 19 दिसंबर को

Question ID : 685582760  
Status : Answered  
Chosen Option : 1

Q.44 केंद्रीय बजट 2019-20 की वर्तमान स्थिति के आधार पर भावी स्थिति के आकलन (प्रोजेक्शन) के अनुसार, भारतीय अर्थव्यवस्था वित्त वर्ष 2019-20 में \_\_\_\_\_ ट्रिलियन डॉलर की अर्थव्यवस्था बनने के लिए तैयार है।

- Ans
- 1. दो
  - 2. चार
  - 3. पाँच
  - 4. तीन

Question ID : 685582765

Status : Answered  
Chosen Option : 4

Q.45 निम्नलिखित में से कौन प्रथम लोकसभा के उपाध्यक्ष थे?

- Ans
- 1. एम.एन. कौल
  - 2. ए.के. गोपालन
  - 3. रबी रे
  - 4. एम. अनंतशयनम अय्यंगर

Question ID : 685582800  
Status : Answered  
Chosen Option : 4

Q.46 जीवित प्राणियों में निषेचन के दौरान, एक कोशिका के निर्माण के लिए नर और मादा युग्मकों का संलयन होता है, जिसे \_\_\_\_ कहा जाता है।

- Ans
- 1. शुक्राणु (sperm)
  - 2. भ्रूण (embryo)
  - 3. युग्मनज (zygote)
  - 4. डिंब (ovum)

Question ID : 685582770  
Status : Answered  
Chosen Option : 3

Q.47 देश के अंदर और बाहर, दोनों स्थानों पर भारतीय कला की समझ को बढ़ावा देने और प्रचारित करने के लिए, भारत सरकार ने नई दिल्ली में ललित कला अकादमी (नेशनल एकेडमी ऑफ़ आर्ट्स) की स्थापना कब की थी?

- Ans
- 1. 1948 में
  - 2. 1960 में
  - 3. 1971 में
  - 4. 1954 में

Question ID : 685582759  
Status : Answered  
Chosen Option : 4

Q.48 भारत में निम्नलिखित में से किस बंदरगाह का नाम परिवर्तित करके दीनदयाल बंदरगाह रखा गया है?

- Ans
- 1. कोचीन
  - 2. मोरमुगाओ
  - 3. कांडला
  - 4. तूतीकोरिन

Question ID : 685582780  
Status : Answered  
Chosen Option : 4

Q.49 निम्नलिखित में से किसे प्रतिष्ठित एम.पी बिड़ला मेमोरियल अवॉर्ड 2019 से सम्मानित किया गया है?

- Ans
- 1. शिराज मिनवाला को
  - 2. थानु पद्मनाभन को
  - 3. आभास मित्रा को

✗ 4. नरसिम्हेंगर मुकुंद को

Question ID : 685582795  
Status : Answered  
Chosen Option : 2

Q.50 2019 में, किस भारतीय फुटबॉल खिलाड़ी को छः बार विजयी होने का कीर्तिमान बनाने पर 'AIFF मेन्स फुटबॉलर ऑफ़ द इयर' से नामित किया गया था?

- Ans
- ✗ 1. उदंता सिंह को
  - ✗ 2. अनिरुद्ध थापा को
  - ✓ 3. सुनील छेत्री को
  - ✗ 4. संदेश झिंगन को

Question ID : 685582804  
Status : Answered  
Chosen Option : 3

Section : Quantitative Aptitude

Q.1 एक व्यक्ति ने स्टेशन A से स्टेशन B तक 40 km/h और B से A तक 30 km/h की चाल से दूरी तय की। पूरी यात्रा में उसे 6.3 घंटे लगे। A और B के बीच की दूरी (km में) कितनी है?

- Ans
- ✓ 1. 108
  - ✗ 2. 99
  - ✗ 3. 117
  - ✗ 4. 91

Question ID : 685582681  
Status : Not Answered  
Chosen Option : --

Q.2  $\frac{4-3+2 \times (4-2)-3+4 \times 3+2+4}{4+3+4 \times (2-4) \times 4+3+4}$  of 3 का मान ज्ञात कीजिए।

- Ans
- ✗ 1.  $\frac{32}{7}$
  - ✓ 2.  $\frac{-32}{7}$
  - ✗ 3. -32
  - ✗ 4. 32

Question ID : 685582661  
Status : Not Answered  
Chosen Option : --

Q.3 एक खंभे के आधार से 75 m और 48 m की दूरी पर स्थित दो बिंदुओं से खंभे के उन्नयन कोण क्रमशः  $\alpha$  और  $\beta$  हैं। यदि  $\alpha$  और  $\beta$  पूरक हैं, तो खंभे की ऊंचाई ज्ञात कीजिए।

- Ans
- ✗ 1. 61.5 m
  - ✗ 2. 50 m
  - ✓ 3. 60 m

✗ 4. 54.5 m

Question ID : 685582697

Status : Answered

Chosen Option : 1

Q.4 यदि  $\frac{\cos \theta}{1-\sin \theta} + \frac{\cos \theta}{1+\sin \theta} = 4$ ,  $0^\circ < \theta < 90^\circ$  है, तो  $(\sec \theta + \operatorname{cosec} \theta + \cot \theta)$  का मान ज्ञात कीजिए।

Ans

✗ 1.  $\frac{2+\sqrt{3}}{3}$

✓ 2.  $2 + \sqrt{3}$

✗ 3.  $1 + 2\sqrt{3}$

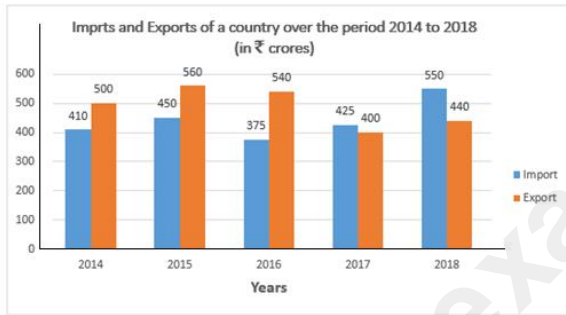
✗ 4.  $\frac{1+2\sqrt{3}}{3}$

Question ID : 685582694

Status : Not Answered

Chosen Option : --

Q.5 Study the graph and answer question.



The ratio of total imports in 2014, 2016 and 2017 of the country to the total exports in 2015 and 2016 is:

Ans

✗ 1. 8 : 11

✗ 2. 10 : 11

✓ 3. 11 : 10

✗ 4. 12 : 11

Question ID : 685582698

Status : Answered

Chosen Option : 3

Q.6 दो बराबर धनराशियों को क्रमशः 10% और 8% वार्षिक साधारण ब्याज दर पर एक ही समय पर उधार दिया जाता है। पहली धनराशि, दूसरी धनराशि से 2 वर्ष पहले ही प्राप्त हो जाती है और प्रत्येक मामले में प्राप्त धनराशि ₹36,900 है। प्रत्येक धनराशि \_\_\_\_\_ थी।

Ans

✓ 1. ₹20,500

✗ 2. ₹21,500

✗ 3. ₹18,100

✗ 4. ₹20,200

Question ID : 685582674  
Status : Not Answered  
Chosen Option : --

Q.7  $\frac{1}{\sqrt{17+12\sqrt{2}}}$  का मान किसके निकटतम है?

- Ans
- 1. 0.14
  - 2. 0.17
  - 3. 1.2
  - 4. 1.4

Question ID : 685582657  
Status : Not Answered  
Chosen Option : --

Q.8  $\triangle ABC$  में,  $AB = AC$  है और D, भुजा AC पर इस तरह से एक बिंदु है कि  $BD = BC$  है। यदि  $AB = 12.5$  cm और  $BC = 5$  cm है, तो DC की माप ज्ञात कीजिए।

- Ans
- 1. 1.8 cm
  - 2. 3 cm
  - 3. 2.5 cm
  - 4. 2 cm

Question ID : 685582693  
Status : Not Answered  
Chosen Option : --

Q.9 पाई-चार्ट का अध्ययन करें और उसके बाद दिए गए प्रश्न का उत्तर दें।

Distribution (degree-wise) of the number of employees of a company working in five departments



Total Number of Employees = 1400

कंपनी के उत्पादन (Production) और आई.टी.(IT) विभाग में काम करने वाले कर्मचारियों की कुल संख्या, विपणन (Marketing) और लेखा (Accounts) विभाग में काम करने वाले कर्मचारियों की कुल संख्या से \_\_\_\_\_ अधिक है।

- Ans
- 1. 164
  - 2. 158
  - 3. 143
  - 4. 154

Question ID : 685582701  
Status : Not Answered  
Chosen Option : --

Q.10 A, B से दोगुना अधिक कार्यकुशल है और C, B से तीन गुना अधिक कार्यकुशल है। वे एक साथ मिलकर काम करते हुए एक काम को 5 दिनों में पूरा कर सकते हैं। A और C दोनों एक साथ मिलकर 5 दिनों तक काम करते हैं। शेष काम को B अकेले कितने दिनों में पूरा कर लेगा?

- Ans
- ✓ 1. 5 दिनों में
  - ✗ 2. 8 दिनों में
  - ✗ 3. 4 दिनों में
  - ✗ 4. 6 दिनों में

Question ID : 685582676

Status : Answered

Chosen Option : 1

Q.11 पाइप A और B एक टैंक को क्रमशः 18 मिनटों में और  $22\frac{1}{2}$  मिनटों में भर सकते हैं, जबकि पाइप C पूरा टैंक 12 मिनटों में खाली कर सकता है। पाइप A और B को 6 मिनटों के लिए एक साथ खोला जाता है और फिर दोनों को बंद कर दिया जाता है। अब पाइप C को खोला जाता है। C अकेला उस टैंक को कितने समय में खाली कर देगा?

- Ans
- ✗ 1. 6 मिनटों में
  - ✗ 2. 5 मिनटों में
  - ✗ 3.  $8\frac{2}{5}$  मिनटों में
  - ✓ 4.  $7\frac{1}{5}$  मिनटों में

Question ID : 685582678

Status : Answered

Chosen Option : 4

Q.12 पाई-चार्ट का अध्ययन करें और उसके बाद दिए गए प्रश्न का उत्तर दें।

Distribution (degree-wise) of the number of employees of a company working in five departments



Total Number of Employees = 1400

कंपनी के विपणन (Marketing) विभाग में काम करने वाले कर्मचारियों की संख्या, आइ.टी.(IT) विभाग में काम करने वाले कर्मचारियों की संख्या से कितने प्रतिशत अधिक है?

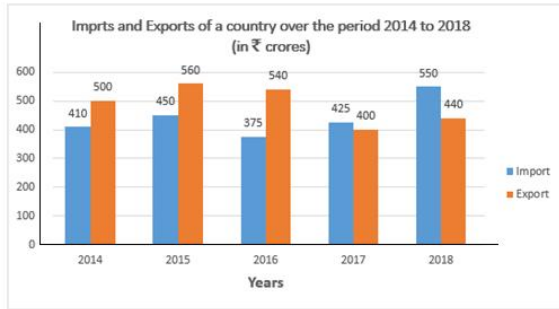
- Ans
- ✗ 1. 18.33
  - ✗ 2. 22
  - ✓ 3. 20
  - ✗ 4. 16.67

Question ID : 685582702

Status : Answered

Chosen Option : 1

Q.13 Study the graph and answer question.



In how many years were the exports of the country more than the average imports during the given years?

- Ans
- 1. 1
  - 2. 4
  - 3. 2
  - 4. 3

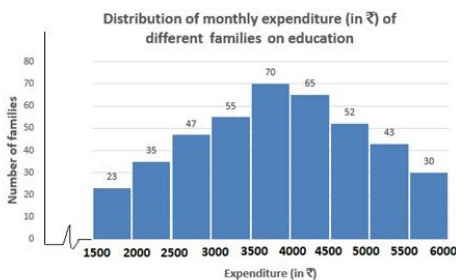
Question ID : 685582699  
 Status : Answered  
 Chosen Option : 4

Q.14 दो लम्बवृत्तीय बेलनों A और B के आयतनों का अनुपात  $\frac{x}{y}$  है और उनकी ऊँचाई का अनुपात a : b है। A और B की विज्याओं का अनुपात ज्ञात कीजिए।

- Ans
- 1.  $\frac{yb}{xa}$
  - 2.  $\sqrt{\frac{xb}{ya}}$
  - 3.  $\sqrt{\frac{xa}{yb}}$
  - 4.  $\frac{xb}{ya}$

Question ID : 685582684  
 Status : Answered  
 Chosen Option : 2

Q.15 ग्राफ का अध्ययन करें और उसके बाद दिए गए प्रश्न का उत्तर दें।



उन परिवारों की संख्या कितनी है जिनका शिक्षा पर किया गया मासिक खर्च ₹2,000 या उससे अधिक है, लेकिन ₹4,000 से कम है?

- Ans
- 1. 230

✗ 2. 197

✓ 3. 207

✗ 4. 237

Question ID : 685582704

Status : Answered

Chosen Option : 1

Q.16 एक व्यक्ति अपनी आय का 25% बचाता है। यदि उसकी आय में 20% की वृद्धि हो जाती है और फिर भी वह पूर्व के बराबर धनराशि बचाता है, तो उसके खर्च में हुई वृद्धि का प्रतिशत कितना है?

Ans ✗ 1. 24

✓ 2.  $26\frac{2}{3}$

✗ 3. 25

✗ 4.  $25\frac{1}{3}$

Question ID : 685582670

Status : Answered

Chosen Option : 2

Q.17 निम्नलिखित को हल करें :

$$(a + b + c)(ab + bc + ca) - abc = ?$$

Ans ✗ 1.  $(a + b)(b - c)(c + a)$

✗ 2.  $(a - b)(b - c)(c - a)$

✗ 3.  $(a + b)(b + c)(c - a)$

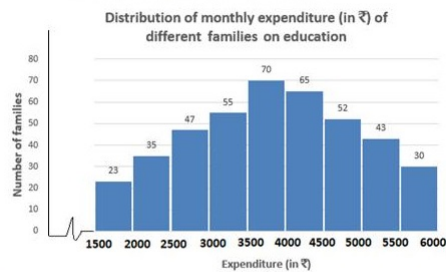
✓ 4.  $(a + b)(b + c)(c + a)$

Question ID : 685582689

Status : Answered

Chosen Option : 4

Q.18 ग्राफ का अध्ययन करें और उसके बाद दिए गए प्रश्न का उत्तर दें।



शिक्षा पर ₹2,500 या अधिक लेकिन ₹4,000 से कम मासिक व्यय करने वाले परिवारों की संख्या, शिक्षा पर ₹4,500 या अधिक लेकिन ₹6,000 से कम मासिक व्यय करने वाले परिवारों की संख्या से कितने प्रतिशत अधिक है?

Ans ✗ 1. 27.3

✗ 2. 29.8



✓ 3. 37.6

✗ 4. 36.4

Question ID : 685582706

Status : Not Answered

Chosen Option : --

Q.19 दो संख्याओं का योगफल 1215 है तथा उनका म.स. (HCF) 81 है। यदि संख्याएं 500 और 700 के बीच में हैं, तो संख्याओं के व्युत्क्रमों का योग \_\_\_\_\_ होगा।

Ans

✓ 1.  $\frac{5}{1512}$

✗ 2.  $\frac{5}{702}$

✗ 3.  $\frac{5}{1188}$

✗ 4.  $\frac{5}{378}$

Question ID : 685582659

Status : Not Answered

Chosen Option : --

Q.20 24 विद्यार्थियों की औसत आयु 15.5 वर्ष है। शिक्षक की आयु, सभी विद्यार्थियों और शिक्षक की औसत आयु से 24 वर्ष अधिक है। शिक्षक की आयु (वर्षों में) कितनी है?

Ans

✗ 1. 40

✗ 2. 42

✓ 3. 40.5

✗ 4. 41.4

Question ID : 685582665

Status : Not Answered

Chosen Option : --

Q.21 एक संख्या के 38% और उसी संख्या के 22% के बीच का अंतर 3200 है। उस संख्या का  $15\frac{1}{2}\%$  कितना होगा?

Ans

✗ 1. 2800

✓ 2. 3100

✗ 3. 3000

✗ 4. 3200

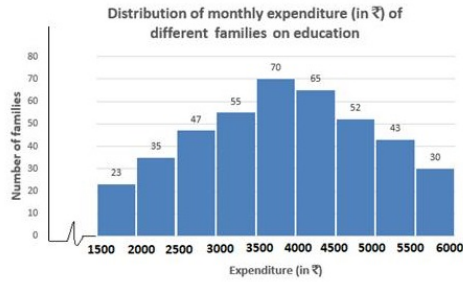
Question ID : 685582668

Status : Answered

Chosen Option : 2

Q.22

ग्राफ का अध्ययन करें और उसके बाद दिए गए प्रश्न का उत्तर दें।



शिक्षा पर ₹3,000 से कम मासिक व्यय करने वाले परिवारों की संख्या का, शिक्षा पर ₹4,000 या अधिक लेकिन ₹5,500 से कम मासिक व्यय करने वाले परिवारों की संख्या से अनुपात क्या है?

- Ans
- ✓ 1. 21 : 32
  - ✗ 2. 16 : 23
  - ✗ 3. 23 : 35
  - ✗ 4. 21 : 31

Question ID : 685582705

Status : Not Answered

Chosen Option : --

Q.23 ABCD एक चक्रीय चतुर्भुज है। वृत्त पर बिंदु A और C से बनी स्पर्श रेखाएँ एक दूसरे को P पर प्रतिच्छेद करती हैं। यदि,  $\angle ABC = 98^\circ$  है, तो  $\angle APC$  का माप क्या होगा?

- Ans
- ✗ 1.  $14^\circ$
  - ✗ 2.  $22^\circ$
  - ✓ 3.  $16^\circ$
  - ✗ 4.  $26^\circ$

Question ID : 685582690

Status : Not Answered

Chosen Option : --

Q.24  $\frac{\left(1\frac{1}{9} \times 1\frac{1}{20} \div \frac{21}{38} - \frac{1}{3}\right) \div \left(2\frac{4}{9} \div 1\frac{7}{15} \text{ of } \frac{3}{5}\right)}{\frac{1}{5} \text{ of } \frac{1}{5} \div \frac{1}{125} - \frac{1}{25} \div \frac{1}{5} \text{ of } \frac{1}{5}}$  का मान किसके बीच में स्थित है?

- Ans
- ✗ 1. 0.1 और 0.15
  - ✗ 2. 0.2 और 0.25
  - ✗ 3. 0.25 और 0.3
  - ✓ 4. 0.15 और 0.2

Question ID : 685582662

Status : Not Answered

Chosen Option : --

Q.25 शहर B की जनसंख्या शहर A की जनसंख्या से 300% अधिक है। अगले दो वर्षों में, A की जनसंख्या में प्रतिवर्ष  $x\%$  की वृद्धि होती है और B की जनसंख्या में प्रतिवर्ष उतने ही प्रतिशत की कमी हो जाती है। 2 वर्षों के बाद, यदि A और B की जनसंख्या बराबर हो जाती है, तो  $x$  का मान \_\_\_\_\_ है।

Ans

- 1. 25
- 2.  $30\frac{2}{3}$
- 3. 40
- 4.  $33\frac{1}{3}$

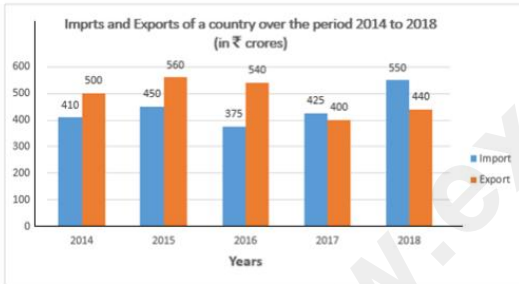
Question ID : 685582669  
 Status : Not Answered  
 Chosen Option : --

Q.26 एक विक्रेता एक वस्तु के अंकित मूल्य पर 25% की छूट देता है और 20% लाभ कमाता है। यदि वस्तु के लागत मूल्य में 20% की वृद्धि हो जाती है, तो उसी अंकित मूल्य पर कितने प्रतिशत की छूट दी जानी चाहिए ताकि लाभ के प्रतिशत में कोई परिवर्तन न हो?

- Ans
- 1. 7.25%
  - 2. 8.5%
  - 3. 10%
  - 4. 12%

Question ID : 685582667  
 Status : Answered  
 Chosen Option : 4

Q.27 ग्राफ का अध्ययन करें और उसके बाद दिए गए प्रश्न का उत्तर दें।



2016 और 2017 में देश के कुल आयात, 2014, 2015 और 2018 में कुल निर्यात से कितने प्रतिशत कम है? (आपका उत्तर दशमलव के एक स्थान तक सही होना चाहिए)

- Ans
- 1. 87.5
  - 2. 84.8
  - 3. 46.7
  - 4. 48.4

Question ID : 685582700  
 Status : Answered  
 Chosen Option : 1

Q.28 मान लीजिए  $x$  वह छोटी से छोटी संख्या है जिसे 8, 9, 12, 14 और 36 से विभाजित करने पर प्रत्येक बार शेष 4 बचता है, लेकिन  $x$ , 11 से विभाज्य है।  $x$  के अंको का योग क्या है?

- Ans
- 1. 9
  - 2. 5
  - 3. 6

✓ 4. 4

Question ID : 685582660  
Status : Not Answered  
Chosen Option : --

Q.29 एक बर्तन में दो तरल पदार्थों A और B का विलयन है जिनका अनुपात 5 : 3 है। यदि बर्तन में से 10 लीटर विलयन निकाला जाता है और उसी मात्रा में B को मिला दिया जाता है, तो बर्तन में A और B का अनुपात 10 : 11 हो जाता है। बर्तन में विलयन की मात्रा (लीटर में) \_\_\_\_\_ थी।

- Ans
- ✓ 1. 42
  - ✗ 2. 52
  - ✗ 3. 44
  - ✗ 4. 48

Question ID : 685582672  
Status : Answered  
Chosen Option : 1

Q.30 एक वस्तु को एक निश्चित मूल्य पर बेचा गया। यदि इसे उस मूल्य के  $\frac{4}{5}$  पर बेचा जाता, तो 10% की हानि होती। प्रारंभ में वस्तु को कितने लाभ प्रतिशत पर बेचा गया था?

- Ans
- ✗ 1. 10
  - ✓ 2. 12.5
  - ✗ 3. 15
  - ✗ 4. 10.5

Question ID : 685582671  
Status : Answered  
Chosen Option : 2

Q.31 A, B और C ने 1 : 4 : 4 के अनुपात में अपनी पूंजी लगाकर एक व्यवसाय शुरू किया। प्रत्येक 3 माह के अंत में, A अपनी पूंजी को दोगुना कर लेता है, B अपनी पूंजी को आधा कर लेता है और C अपनी पूंजी में कोई परिवर्तन नहीं करता है। वर्ष के अंत में, यदि लाभ में B का हिस्सा ₹4,50,000 था, तो कुल लाभ (₹ लाखों में) \_\_\_\_\_ था।

- Ans
- ✗ 1. 32.4
  - ✗ 2. 24.2
  - ✓ 3. 23.1
  - ✗ 4. 34.8

Question ID : 685582673  
Status : Not Answered  
Chosen Option : --

Q.32 जब एक गोले की त्रिज्या में 5 cm की वृद्धि की जाती है, तो इसके पृष्ठीय क्षेत्रफल में  $704 \text{ cm}^2$  की वृद्धि हो जाती है। वास्तविक गोले का व्यास कितना है?  
(मान लीजिए  $\pi = 22/7$ )

- Ans
- ✓ 1. 6.2 cm
  - ✗ 2. 6.8 cm
  - ✗ 3. 5.2 cm

✗ 4. 8.2 cm

Question ID : 685582685

Status : Not Answered

Chosen Option : --

Q.33 यदि  $x^6 - 512y^6 = (x^2 + Ay^2)(x^4 - Bx^2y^2 + Cy^4)$  है, तो  $(A + B - C)$  का मान ज्ञात कीजिए।

- Ans
- ✗ 1. 72
  - ✗ 2. 48
  - ✓ 3. - 80
  - ✗ 4. - 72

Question ID : 685582687

Status : Not Answered

Chosen Option : --

Q.34  $\frac{(0.013)^3 + (0.007)(0.000049)}{(0.007)^2 + 0.013(0.013 - 0.007)}$  का मान ज्ञात कीजिए।

- Ans
- ✗ 1. 0.04
  - ✗ 2. 0.06
  - ✗ 3. 0.07
  - ✓ 4. 0.02

Question ID : 685582663

Status : Answered

Chosen Option : 2

Q.35 एक त्रिभुजाकार पार्क की भुजाओं का अनुपात 12 : 17 : 25 है और इसका परिमाण 1080 m है। पार्क का क्षेत्रफल (हेक्टेयर में) \_\_\_\_\_ है।

- Ans
- ✓ 1. 3.6
  - ✗ 2. 4.8
  - ✗ 3. 4.2
  - ✗ 4. 4.5

Question ID : 685582682

Status : Not Answered

Chosen Option : --

Q.36 ₹x की एक धनराशि 15% वार्षिक ब्याज दर पर 2 वर्षों में ₹12,777.60 हो जाती है, जबकि ब्याज आठ-मासिक आधार पर चक्रवृद्धि किया जाता है। x का मान ज्ञात कीजिए।

- Ans
- ✗ 1. ₹10400
  - ✓ 2. ₹9600
  - ✗ 3. ₹9800
  - ✗ 4. ₹10200

Question ID : 685582675

Status : **Answered**  
Chosen Option : 4

Q.37 केंद्र O वाले एक वृत्त में AB एक जीवा है। AB को C तक इस तरह बढ़ाया जाता है कि BC, वृत्त की बिज्या के बराबर हो जाती है। C को O से मिलाया जाता है और D पर वृत्त से मिलाने के लिए इसे आगे बढ़ाया जाता है। यदि  $\angle ACD = 32^\circ$  है, तो  $\angle AOD$  का माप \_\_\_\_\_ है।

- Ans
- 1.  $80^\circ$
  - 2.  $96^\circ$
  - 3.  $108^\circ$
  - 4.  $48^\circ$

Question ID : **685582691**  
Status : **Not Answered**  
Chosen Option : --

Q.38 यदि  $a + b + c = 19$ ,  $ab + bc + ca = 120$  है, तो  $a^3 + b^3 + c^3 - 3abc$  का मान ज्ञात कीजिए।

- Ans
- 1. 19
  - 2. 23
  - 3. 18
  - 4. 31

Question ID : **685582688**  
Status : **Answered**  
Chosen Option : 1

Q.39 यदि 45 व्यक्ति प्रतिदिन 8 घंटे काम करके एक काम को 18 दिनों में पूरा कर सकते हैं, तो उसी काम के दो-तिहाई भाग को प्रतिदिन 9 घंटे काम करके 20 दिनों में पूरा करने के लिए कितने व्यक्तियों की आवश्यकता होगी?

- Ans
- 1. 40
  - 2. 30
  - 3. 36
  - 4. 24

Question ID : **685582677**  
Status : **Answered**  
Chosen Option : 4

Q.40 घनाभ के आकार वाले स्टोर की लंबाई और चौड़ाई का अनुपात 2 : 1 है और इसकी ऊंचाई 3.5 मीटर है। यदि इसकी चार दीवारों (दरवाजों सहित) का क्षेत्रफल  $210\text{m}^2$  है, तो इसका आयतन \_\_\_\_\_ होगा।

- Ans
- 1.  $679\text{m}^3$
  - 2.  $700\text{m}^3$
  - 3.  $1050\text{m}^3$
  - 4.  $567\text{m}^3$

Question ID : **685582686**  
Status : **Not Answered**  
Chosen Option : --

Q.41

संख्या 1563241234351 \_\_\_\_\_

- Ans
- 1. 11 से विभाज्य है लेकिन 3 से नहीं
  - 2. न तो 3 से विभाज्य है और न ही 11 से
  - 3. 3 और 11 दोनों से विभाज्य है
  - 4. 3 से विभाज्य है लेकिन 11 से नहीं

Question ID : 685582658  
Status : Not Answered  
Chosen Option : --

Q.42 यदि  $\cos^2\theta - \sin^2\theta = \tan^2\theta$  है, तो निम्नलिखित में से कौन सा विकल्प सही है?

- Ans
- 1.  $\cos\theta \cos\theta = 1$
  - 2.  $\cos^2\theta - \sin^2\theta = \tan^2\theta$
  - 3.  $\cos\theta \cos\theta = \sqrt{2}$
  - 4.  $\cos^2\theta - \sin^2\theta = \cot^2\theta$

Question ID : 685582695  
Status : Not Answered  
Chosen Option : --

Q.43 भूमि पर दो बिंदु A और B स्थित हैं, जो एक टॉवर के दोनों ओर एक-दूसरे की विपरीत दिशाओं में हैं। A, B की तुलना में टॉवर के पाद के 42 m अधिक निकट है। यदि A और B से अवलोकित किए गए टॉवर के शीर्ष का उन्नयन कोण क्रमशः  $60^\circ$  और  $45^\circ$  हैं, तो टॉवर की ऊंचाई लगभग कितनी है?

- Ans
- 1. 88.2 m
  - 2. 99.4 m
  - 3. 98.6 m
  - 4. 87.6 m

Question ID : 685582696  
Status : Answered  
Chosen Option : 3

Q.44 d मीटर व्यास वाले एक वृत्ताकार क्षेत्र के चारों ओर x मीटर की एकसमान चौड़ाई के वृत्ताकार रास्ते का क्षेत्रफल ( $m^2$  में) \_\_\_\_\_ है।

- Ans
- 1.  $\pi x(2x + d)$
  - 2.  $\pi x(x + d)$
  - 3.  $\pi x(x + 2d)$
  - 4.  $\pi x\left(x + \frac{d}{2}\right)$

Question ID : 685582683  
Status : Not Answered  
Chosen Option : --

एक वस्तु का अंकित मूल्य ₹250 है। अंकित मूल्य पर 20% और  $x\%$  की दो क्रमागत छूटों के बाद, इसे ₹185.60 में बेचा जाता है।  $x$  का मान ज्ञात कीजिए।

- Ans
- 1. 8.4%
  - 2. 7.6%
  - 3. 6.8%
  - 4. 7.2%

Question ID : 685582666

Status : Answered

Chosen Option : 2

Q.46 यदि अभि निश्चित दूरी 6 km/h की चाल से तय करता है, तो वह अपने गंतव्य पर 12 मिनट पहले पहुँच जाता है, लेकिन यदि वह इसी दूरी को 4 km/h की चाल से तय करता है, तो वह अपने गंतव्य पर 10 मिनट की देरी से पहुँचता है। अपने गंतव्य तक सही समय पर पहुँचने के लिए उसे किस चाल (km/h में) से दूरी तय करनी चाहिए?

- Ans
- 1.  $5\frac{1}{8}$
  - 2.  $4\frac{3}{7}$
  - 3.  $4\frac{5}{7}$
  - 4.  $5\frac{4}{4}$

Question ID : 685582680

Status : Not Answered

Chosen Option : --

Q.47 बारह संख्याओं का औसत 58 है। पहली पांच संख्याओं का औसत 56 और अगली चार संख्याओं का औसत 60 है। 10<sup>वीं</sup> संख्या 11<sup>वीं</sup> संख्या से 4 अधिक है और 11<sup>वीं</sup> संख्या 12<sup>वीं</sup> संख्या से 1 कम है। 10<sup>वीं</sup> और 12<sup>वीं</sup> संख्या का औसत ज्ञात कीजिए।

- Ans
- 1. 58.5
  - 2. 59.5
  - 3. 58
  - 4. 59

Question ID : 685582664

Status : Not Answered

Chosen Option : --

Q.48 पाइप A, 350 लीटर की धारिता वाले एक टैंक को  $3\frac{1}{2}$  मिनटों में भर सकता है। पाइप B, 780 लीटर की धारिता वाले एक टैंक को  $8\frac{2}{3}$  मिनटों में भर सकता है। यदि दोनों पाइपों को एक साथ खोल दिया जाता है, तो 1615 लीटर की धारिता वाले टैंक को भरने में कितना समय (मिनटों में) लगेगा?

- Ans
- 1. 8
  - 2.  $7\frac{1}{2}$
  - 3.  $8\frac{1}{2}$
  - 4. 9

Question ID : 685582679



Status : **Not Answered**  
Chosen Option : --

Q.49 यदि  $\angle A = 46^\circ$  वाले  $\triangle ABC$  में I अन्तःकेन्द्र है, तो  $\angle BIC = ?$

- Ans
- 1.  $134^\circ$
  - 2.  $93^\circ$
  - 3.  $113^\circ$
  - 4.  $124^\circ$

Question ID : 685582692  
Status : **Answered**  
Chosen Option : 3

Q.50 पाई-चार्ट का अध्ययन करें और उसके बाद दिए गए प्रश्न का उत्तर दें।

Distribution (degree-wise) of the number of employees of a company working in five departments



यदि आइ.टी. (IT) विभाग में काम करने वाले कर्मचारियों की संख्या का 80% और मानव संसाधन (HR) व लेखा (Accounts) दोनों विभागों में काम करने वाले कर्मचारियों की संख्या का 40% महिलाएं हैं, तो इन तीनों विभागों में काम करने वाली महिला कर्मचारियों की कुल संख्या \_\_\_\_\_ है।

- Ans
- 1. 332
  - 2. 364
  - 3. 312
  - 4. 344

Question ID : 685582703  
Status : **Not Answered**  
Chosen Option : --

Section : English Comprehension

Q.1 Select the most appropriate ANTONYM of the given word.

CHIVALROUS

- Ans
- 1. annoyed
  - 2. valiant
  - 3. indignant
  - 4. cowardly

Question ID : 685582836  
Status : **Answered**  
Chosen Option : 1

Q.2 Select the INCORRECTLY spelt word.

- Ans
- 1. orientation
  - 2. disappointment
  - 3. corroborate
  - 4. disapproval

Question ID : 685582851  
Status : Answered  
Chosen Option : 4

Q.3 Select the INCORRECTLY spelt word.

- Ans
- 1. equipment
  - 2. paraphernalia
  - 3. apparatus
  - 4. impliments

Question ID : 685582848  
Status : Answered  
Chosen Option : 2

Q.4 Select the word which means the same as the group of words given.

The science or philosophy of law

- Ans
- 1. justice
  - 2. archive
  - 3. infirmary
  - 4. jurisprudence

Question ID : 685582846  
Status : Answered  
Chosen Option : 4

Q.5 Select the most appropriate option that can be used as a one-word substitute for the given group of words.

A person who draws or produces maps

- Ans
- 1. calligrapher
  - 2. curator
  - 3. choreographer
  - 4. cartographer

Question ID : 685582843  
Status : Answered  
Chosen Option : 4

**Comprehension:**

Some words have been deleted in the given passage. Fill in the blanks with the given alternatives. Select the most appropriate option for each blank.

Polar bears roam the Arctic ice sheets and swim in that region's coastal waters. They are (1)\_\_\_\_\_ strong swimmers, and their large front paws, (2)\_\_\_\_\_ they use to paddle, are

(3)\_\_\_\_\_ webbed. Some polar bears have been seen (4)\_\_\_\_\_ hundreds of miles from land, though they probably cover most of that (5)\_\_\_\_\_ by floating on sheets of ice.

**SubQuestion No : 6**

**Q.6 Select the most appropriate option to fill in blank number (1).**

- Ans  1. very  
 2. so  
 3. too  
 4. much

Question ID : 685582823

Status : Answered

Chosen Option : 1

**Comprehension:**

Some words have been deleted in the given passage. Fill in the blanks with the given alternatives. Select the most appropriate option for each blank.

Polar bears roam the Arctic ice sheets and swim in that region's coastal waters. They are (1)\_\_\_\_\_ strong swimmers, and their large front paws, (2)\_\_\_\_\_ they use to paddle, are (3)\_\_\_\_\_ webbed. Some polar bears have been seen (4)\_\_\_\_\_ hundreds of miles from land, though they probably cover most of that (5)\_\_\_\_\_ by floating on sheets of ice.

**SubQuestion No : 7**

**Q.7 Select the most appropriate option to fill in blank number (2).**

- Ans  1. them  
 2. whom  
 3. those  
 4. which

Question ID : 685582824

Status : Answered

Chosen Option : 4

**Comprehension:**

Some words have been deleted in the given passage. Fill in the blanks with the given alternatives. Select the most appropriate option for each blank.

Polar bears roam the Arctic ice sheets and swim in that region's coastal waters. They are (1)\_\_\_\_\_ strong swimmers, and their large front paws, (2)\_\_\_\_\_ they use to paddle, are (3)\_\_\_\_\_ webbed. Some polar bears have been seen (4)\_\_\_\_\_ hundreds of miles from land, though they probably cover most of that (5)\_\_\_\_\_ by floating on sheets of ice.

**SubQuestion No : 8**

**Q.8 Select the most appropriate option to fill in blank number (3).**

- Ans  1. faintly  
 2. slightly  
 3. dimly  
 4. nimbly

Question ID : 685582825

Status : Answered

Chosen Option : 4

**Comprehension:**

Some words have been deleted in the given passage. Fill in the blanks with the given alternatives. Select the most appropriate option for each blank.

Polar bears roam the Arctic ice sheets and swim in that region's coastal waters. They are (1)\_\_\_\_\_ strong swimmers, and their large front paws, (2)\_\_\_\_\_ they use to paddle, are (3)\_\_\_\_\_ webbed. Some polar bears have been seen (4)\_\_\_\_\_ hundreds of miles from land, though they probably cover most of that (5)\_\_\_\_\_ by floating on sheets of ice.

**SubQuestion No : 9**

**Q.9 Select the most appropriate option to fill in blank number (4).**

- Ans  1. swimming  
 2. wandering  
 3. hunting  
 4. running

Question ID : 685582826  
Status : Answered  
Chosen Option : 2

**Comprehension:**

Some words have been deleted in the given passage. Fill in the blanks with the given alternatives. Select the most appropriate option for each blank.

Polar bears roam the Arctic ice sheets and swim in that region's coastal waters. They are (1)\_\_\_\_\_ strong swimmers, and their large front paws, (2)\_\_\_\_\_ they use to paddle, are (3)\_\_\_\_\_ webbed. Some polar bears have been seen (4)\_\_\_\_\_ hundreds of miles from land, though they probably cover most of that (5)\_\_\_\_\_ by floating on sheets of ice.

**SubQuestion No : 10**

**Q.10 Select the most appropriate option to fill in blank number (5).**

- Ans  1. extent  
 2. extant  
 3. distance  
 4. water

Question ID : 685582827  
Status : Answered  
Chosen Option : 3

**Q.11 Select the most appropriate synonym of the given word.**

**FATIGUE**

- Ans  1. energy  
 2. tiredness  
 3. lightness  
 4. warmth

Question ID : 685582829  
Status : Answered  
Chosen Option : 2

**Q.12 Select the word which means the same as the group of words given.**

**The sound of a crow**

- Ans  1. cackle  
 2. creak  
 3. caw

4. cluck

Question ID : 685582844  
Status : Not Answered  
Chosen Option : --

Q.13 Select the word which means the same as the group of words given.

A box or cage for rabbits or small animals

- Ans  1. lair  
 2. hutch  
 3. menagerie  
 4. kennel

Question ID : 685582845  
Status : Answered  
Chosen Option : 4

Q.14 Select the most appropriate meaning of the given idiom.

Be left in the lurch

- Ans  1. be sent to do work which one doesn't enjoy  
 2. keep repeating something till it is accepted  
 3. be tired of doing the same thing over and over again  
 4. be deserted when one is in trouble

Question ID : 685582842  
Status : Answered  
Chosen Option : 4

Q.15 Select the word which means the same as the group of words given.

The therapeutic use of sunlight

- Ans  1. psephology  
 2. heliotherapy  
 3. dactylogy  
 4. genealogy

Question ID : 685582847  
Status : Answered  
Chosen Option : 2

Q.16 In the sentence identify the segment which contains the grammatical error.

Shyam studied in Moscow since ten years when his father was posted there from 1976 to 1985.

- Ans  1. when his father was posted there  
 2. from 1976 to 1985  
 3. Shyam studied in Moscow  
 4. since ten years

Question ID : 685582807

Status : **Answered**  
Chosen Option : 4

Q.17 Select the most appropriate synonym of the given word.

**MALADY**

- Ans  1. mischief  
 2. disturbance  
 3. wickedness  
 4. illness

Question ID : **685582828**  
Status : **Answered**  
Chosen Option : 3

Q.18 In the sentence identify the segment which contains the grammatical error.

Only one copy of the book, running into 1200 pages, on Gandhiji's visit to the State of Andhra Pradesh, remain now.

- Ans  1. running into 1200 pages  
 2. remain now  
 3. Only one copy of the book  
 4. on Gandhiji's visit to the State

Question ID : **685582810**  
Status : **Answered**  
Chosen Option : 4

Q.19 Select the most appropriate option to fill in the blank.

Indian films have \_\_\_\_\_ added nature without its fury into long romantic songs.

- Ans  1. fretfully  
 2. fussily  
 3. frequently  
 4. formerly

Question ID : **685582818**  
Status : **Answered**  
Chosen Option : 3

Q.20 Select the most appropriate option to fill in the blank.

The seaside resort of Mamallapuram was an \_\_\_\_\_ part of China's ancient Silk Route.

- Ans  1. intentional  
 2. intuitive  
 3. intensive  
 4. integral

Question ID : **685582817**  
Status : **Answered**  
Chosen Option : 3

Q.21 Select the INCORRECTLY spelt word.

- Ans
- 1. incremental
  - 2. ferocious
  - 3. alignement
  - 4. amenable

Question ID : 685582852  
Status : Answered  
Chosen Option : 1

Q.22 Select the most appropriate ANTONYM of the given word.

FRAIL

- Ans
- 1. fancy
  - 2. elaborate
  - 3. weak
  - 4. robust

Question ID : 685582834  
Status : Not Answered  
Chosen Option : --

Q.23 In the sentence identify the segment which contains the grammatical error.

If the growth of population had been controlled earlier, mankind wouldn't lived in a polluted world now.

- Ans
- 1. mankind wouldn't lived
  - 2. in a polluted world now
  - 3. If the growth of population
  - 4. had been controlled earlier

Question ID : 685582809  
Status : Answered  
Chosen Option : 1

Q.24 Select the most appropriate option to substitute the underlined segment in the given sentence. If there is no need to substitute it, select No improvement.

Pedestrians is to be careful when crossing busy roads.

- Ans
- 1. need be caring when crossing
  - 2. would care if they are crossing
  - 3. No improvement
  - 4. must be careful when crossing

Question ID : 685582813  
Status : Answered  
Chosen Option : 4

Q.25 Select the most appropriate synonym of the given word.

DISASTROUS

- Ans
- 1. noisy

- 2. wicked
- 3. calamitous
- 4. impressive

Question ID : 685582830  
Status : Answered  
Chosen Option : 3

Q.26 Select the most appropriate option to fill in the blank.

Highways are a catalyst for economic growth but private \_\_\_\_\_ in this sector has been termed 'tardy' as investors do not appear to be interested in putting their money in long-term projects.

- Ans
- 1. operation
  - 2. contract
  - 3. investment
  - 4. transaction

Question ID : 685582821  
Status : Answered  
Chosen Option : 3

Q.27 Select the most appropriate option to substitute the underlined segment in the given sentence. If there is no need to substitute it, select No improvement.

This college is not only equipped with the best laboratories but also has the most competent staff.

- Ans
- 1. No improvement
  - 2. and also had the most
  - 3. but has the very
  - 4. but also have the most

Question ID : 685582816  
Status : Answered  
Chosen Option : 1

Q.28 Select the most appropriate ANTONYM of the given word.

EXULTANT

- Ans
- 1. wounded
  - 2. delighted
  - 3. energetic
  - 4. depressed

Question ID : 685582835  
Status : Answered  
Chosen Option : 2

Q.29 Select the most appropriate synonym of the given word.

REPRIMAND

- Ans
- 1. rebuke
  - 2. complete



3. command

4. repeat

Question ID : 685582831

Status : Answered

Chosen Option : 1

**Q.30** Select the most appropriate option to substitute the underlined segment in the given sentence. If there is no need to substitute it, select No improvement.

Shailaja is prettier than either of her three cousins.

Ans  1. prettier than any of

2. most prettier than all of

3. pretty than either of

4. No improvement

Question ID : 685582815

Status : Answered

Chosen Option : 1

**Q.31** In the sentence identify the segment which contains the grammatical error.

Are you having your own transport to go home from work?

Ans  1. from work

2. your own transport

3. Are you having

4. to go home

Question ID : 685582808

Status : Answered

Chosen Option : 2

**Q.32** Select the most appropriate meaning of the underlined idiom in the sentence.

Ria has tried hard not to steal her brother's thunder but it was inevitable.

Ans  1. get more recognition than her brother for their success

2. get a big reward from her brother for her achievement

3. pick up her brother's lucky charms to win prizes

4. take away her brother's opportunities for jobs

Question ID : 685582840

Status : Answered

Chosen Option : 1

**Q.33** Select the most appropriate ANTONYM of the given word.

**CULPABLE**

Ans  1. offensive

2. innocent

3. reserved

4. disagreeable

Question ID : 685582837  
Status : Answered  
Chosen Option : 2

Q.34 Select the most appropriate option to substitute the underlined segment in the given sentence. If there is no need to substitute it, select No improvement.

In the park I happened to meet two of my father's friend who had known him for several years.

- Ans
- 1. No improvement
  - 2. two of my father's friends
  - 3. two friends of my fathers
  - 4. two of my fathers friend

Question ID : 685582812  
Status : Answered  
Chosen Option : 3

Q.35 Select the INCORRECTLY spelt word.

- Ans
- 1. violence
  - 2. fierce
  - 3. resemblance
  - 4. occassion

Question ID : 685582849  
Status : Answered  
Chosen Option : 1

Q.36 Select the most appropriate synonym of the given word.

**SURREPTITIOUS**

- Ans
- 1. spacious
  - 2. adventurous
  - 3. secretive
  - 4. aggressive

Question ID : 685582832  
Status : Answered  
Chosen Option : 4

Q.37 Select the most appropriate meaning of the underlined idiom in the sentence.

His family has supported him through thick and thin.

- Ans
- 1. on occasions when he had a lot of money
  - 2. even though he has put on weight
  - 3. when there was a lot of work to be done
  - 4. in times of good and bad fortune

Question ID : 685582839  
Status : Answered  
Chosen Option : 4

Q.38 Select the most appropriate option to fill in the blank.

Dozens of dogs in Norway have recently been hit by a mysterious and at times, \_\_\_\_\_ illness, raising concerns among dog owners.

- Ans
- 1. dreary
  - 2. desperate
  - 3. suspicious
  - 4. fatal

Question ID : 685582820

Status : Answered

Chosen Option : 4

**Comprehension:**

Read the passage and answer the questions that follow:

To the great delight of children, schools were being hurriedly closed. Children of all ages and sizes were running helter-skelter, screaming joyously, "No school, no school. Tiger, tiger!" They were shouting and laughing and even enjoyed being scared. They seemed to welcome me. I felt like joining them, and bounded away from the restaurant door and trotted along with them, at which they gleefully cried, "The tiger is coming to eat us; let us get back to the school!"

I followed them through their school gate while they ran up and shut themselves in the school hall securely. I ascended the steps of the school, saw an open door at the far end of a veranda, and walked in. It happened to be the headmaster's room, I believed, as I noticed a very dignified man jumping on his table and heaving himself up into an attic. I walked in and flung myself on the cool floor, having a partiality for cool stone floor, with my head under the large desk — which gave me the feeling of being back in the Mempi cave ... As I drowsed, I was aware of cautious steps and hushed voices all around. I was in no mood to bother about anything. All I wanted was a little moment of sleep; the daylight was dazzling. In half sleep I heard the doors of the room being shut and bolted and locked. I didn't care. I slept. While I slept a great deal of consultation was going on. I learnt about it later through my Master, who was in the crowd - the crowd which had gathered after making sure that I had been properly locked up — and was watching. The headmaster seems to have remarked some days later, "Never dreamt in my wildest mood that I'd have to yield my place to a tiger." A wag had retorted, "Might be one way of maintaining better discipline among the boys."

SubQuestion No : 39

Q.39 What did a mischievous person say about the headmaster?

- Ans
- 1. He should keep the school closed for some time.
  - 2. The school would be better managed by the tiger than by him.
  - 3. He should leave the place and go because of his fear of the tiger.
  - 4. He should allow the tiger to sleep peacefully.

Question ID : 685582858

Status : Answered

Chosen Option : 3

**Comprehension:**

Read the passage and answer the questions that follow:

To the great delight of children, schools were being hurriedly closed. Children of all ages and sizes were running helter-skelter, screaming joyously, "No school, no school. Tiger, tiger!" They were shouting and laughing and even enjoyed being scared. They seemed to welcome me. I felt like joining them, and bounded away from the restaurant door and trotted along with them, at which they gleefully cried, "The tiger is coming to eat us; let us get back to the school!"

I followed them through their school gate while they ran up and shut

themselves in the school hall securely. I ascended the steps of the school, saw an open door at the far end of a veranda, and walked in. It happened to be the headmaster's room, I believed, as I noticed a very dignified man jumping on his table and heaving himself up into an attic. I walked in and flung myself on the cool floor, having a partiality for cool stone floor, with my head under the large desk — which gave me the feeling of being back in the Mempi cave ... As I drowsed, I was aware of cautious steps and hushed voices all around. I was in no mood to bother about anything. All I wanted was a little moment of sleep; the daylight was dazzling. In half sleep I heard the doors of the room being shut and bolted and locked. I didn't care. I slept. While I slept a great deal of consultation was going on. I learnt about it later through my Master, who was in the crowd - the crowd which had gathered after making sure that I had been properly locked up — and was watching. The headmaster seems to have remarked some days later, "Never dreamt in my wildest mood that I'd have to yield my place to a tiger." A wag had retorted, "Might be one way of maintaining better discipline among the boys."

**SubQuestion No : 40**

**Q.40** Where was the tiger just before he ran towards the school?

- Ans
- 1. In a restaurant
  - 2. In a cave
  - 3. In the forest
  - 4. At the zoo

Question ID : 685582854

Status : Answered

Chosen Option : 1

**Comprehension:**

Read the passage and answer the questions that follow:

To the great delight of children, schools were being hurriedly closed. Children of all ages and sizes were running helter-skelter, screaming joyously, "No school, no school. Tiger, tiger!" They were shouting and laughing and even enjoyed being scared. They seemed to welcome me. I felt like joining them, and bounded away from the restaurant door and trotted along with them, at which they gleefully cried, "The tiger is coming to eat us; let us get back to the school!"

I followed them through their school gate while they ran up and shut themselves in the school hall securely. I ascended the steps of the school, saw an open door at the far end of a veranda, and walked in. It happened to be the headmaster's room, I believed, as I noticed a very dignified man jumping on his table and heaving himself up into an attic. I walked in and flung myself on the cool floor, having a partiality for cool stone floor, with my head under the large desk — which gave me the feeling of being back in the Mempi cave ... As I drowsed, I was aware of cautious steps and hushed voices all around. I was in no mood to bother about anything. All I wanted was a little moment of sleep; the daylight was dazzling. In half sleep I heard the doors of the room being shut and bolted and locked. I didn't care. I slept. While I slept a great deal of consultation was going on. I learnt about it later through my Master, who was in the crowd - the crowd which had gathered after making sure that I had been properly locked up — and was watching. The headmaster seems to have remarked some days later, "Never dreamt in my wildest mood that I'd have to yield my place to a tiger." A wag had retorted, "Might be one way of maintaining better discipline among the boys."

**SubQuestion No : 41**

**Q.41** What was the tiger's reaction to the frenzy around him?

- Ans
- 1. He just wanted to sleep.
  - 2. He was afraid of being caught.
  - 3. He looked for someone to attack.
  - 4. He wanted to go back to his cave.

Question ID : 685582857

**Comprehension:**

Read the passage and answer the questions that follow:

To the great delight of children, schools were being hurriedly closed. Children of all ages and sizes were running helter-skelter, screaming joyously, "No school, no school. Tiger, tiger!" They were shouting and laughing and even enjoyed being scared. They seemed to welcome me. I felt like joining them, and bounded away from the restaurant door and trotted along with them, at which they gleefully cried, "The tiger is coming to eat us; let us get back to the school!"

I followed them through their school gate while they ran up and shut themselves in the school hall securely. I ascended the steps of the school, saw an open door at the far end of a veranda, and walked in. It happened to be the headmaster's room, I believed, as I noticed a very dignified man jumping on his table and heaving himself up into an attic. I walked in and flung myself on the cool floor, having a partiality for cool stone floor, with my head under the large desk — which gave me the feeling of being back in the Mempi cave ... As I drowsed, I was aware of cautious steps and hushed voices all around. I was in no mood to bother about anything. All I wanted was a little moment of sleep; the daylight was dazzling. In half sleep I heard the doors of the room being shut and bolted and locked. I didn't care. I slept. While I slept a great deal of consultation was going on. I learnt about it later through my Master, who was in the crowd - the crowd which had gathered after making sure that I had been properly locked up — and was watching. The headmaster seems to have remarked some days later, "Never dreamt in my wildest mood that I'd have to yield my place to a tiger." A wag had retorted, "Might be one way of maintaining better discipline among the boys."

**SubQuestion No : 42**

**Q.42 Which word describes the tone of the narrative when the headmaster's reaction to the tiger's arrival is mentioned?**

- Ans
- 1. Threatening
  - 2. Solemn
  - 3. Intimate
  - 4. Humorous

Question ID : **685582856**  
Status : **Answered**  
Chosen Option : **4**

**Comprehension:**

Read the passage and answer the questions that follow:

To the great delight of children, schools were being hurriedly closed. Children of all ages and sizes were running helter-skelter, screaming joyously, "No school, no school. Tiger, tiger!" They were shouting and laughing and even enjoyed being scared. They seemed to welcome me. I felt like joining them, and bounded away from the restaurant door and trotted along with them, at which they gleefully cried, "The tiger is coming to eat us; let us get back to the school!"

I followed them through their school gate while they ran up and shut themselves in the school hall securely. I ascended the steps of the school, saw an open door at the far end of a veranda, and walked in. It happened to be the headmaster's room, I believed, as I noticed a very dignified man jumping on his table and heaving himself up into an attic. I walked in and flung myself on the cool floor, having a partiality for cool stone floor, with my head under the large desk — which gave me the feeling of being back in the Mempi cave ... As I drowsed, I was aware of cautious steps and hushed voices all around. I was in no mood to bother about anything. All I wanted was a little moment of sleep; the daylight was dazzling. In half sleep I heard the doors of the room being shut and bolted and locked. I didn't care. I slept. While I slept a great deal of consultation was going on. I learnt about it later through my Master, who was in the crowd - the crowd which had gathered after making sure that I had been properly locked up — and was

watching. The headmaster seems to have remarked some days later, "Never dreamt in my wildest mood that I'd have to yield my place to a tiger." A wag had retorted, "Might be one way of maintaining better discipline among the boys."

**SubQuestion No : 43**

**Q.43 What probably caused the greatest excitement among the children?**

- Ans
- 1. Watching the tiger run after them
  - 2. Seeing a tiger getting into the school
  - 3. Learning that the school would be closed
  - 4. Knowing the tiger was coming to eat them

Question ID : 685582855  
Status : Answered  
Chosen Option : 2

**Q.44 Select the most appropriate option to substitute the underlined segment in the given sentence. If there is no need to substitute it, select No improvement.**

The children trying hardly and learnt the poems.

- Ans
- 1. hardly tried
  - 2. hardly trying
  - 3. tried hard
  - 4. No improvement

Question ID : 685582814  
Status : Answered  
Chosen Option : 3

**Q.45 Select the most appropriate ANTONYM of the given word.**

**SOGGY**

- Ans
- 1. gloomy
  - 2. unfit
  - 3. dry
  - 4. broken

Question ID : 685582833  
Status : Not Answered  
Chosen Option : --

**Q.46 Select the INCORRECTLY spelt word.**

- Ans
- 1. ceiling
  - 2. grief
  - 3. yeild
  - 4. niece

Question ID : 685582850  
Status : Answered  
Chosen Option : 1

**Q.47 Select the most appropriate option to fill in the blank.**

"Malaria \_\_\_\_\_ is one of the top priorities of the government," said the Minister.

- Ans
- 1. abolition
  - 2. exclusion
  - 3. eradication
  - 4. dismissal

Question ID : 685582819  
Status : Answered  
Chosen Option : 1

Q.48 In the sentence identify the segment which contains the grammatical error.

No sooner did the dark clouds gather in the sky when the electricity was switched off.

- Ans
- 1. No sooner did
  - 2. the dark clouds gather
  - 3. in the sky
  - 4. when the electricity was switched off

Question ID : 685582811  
Status : Answered  
Chosen Option : 4

Q.49 Select the most appropriate meaning of the underlined idiom in the sentence.

It was the last straw; she decided to quit the job when she was blamed without reason.

- Ans
- 1. last straw available for anyone to pick up
  - 2. only one straw was available for drinking the juice
  - 3. final irritant that made the situation unbearable
  - 4. she picked the last option available for her

Question ID : 685582841  
Status : Answered  
Chosen Option : 3

Q.50 Select the most appropriate meaning of the given idiom.

Go down in flames

- Ans
- 1. crash land an aeroplane
  - 2. fail completely
  - 3. get completely burnt
  - 4. get hit by a burning cracker

Question ID : 685582838  
Status : Not Answered  
Chosen Option : --