

Recruitment of Sub-Inspector in Delhi Police, CAPFs and Assistant Sub-Inspector in CISF Examination, 2018

Roll No. :	WWW.EXAMSCLOUD.IN
Registration No.	WWW.EXAMSCLOUD.IN
Name :	WWW.EXAMSCLOUD.IN
Exam Venue :	Arya College of Engineering and Information Technology
Exam Time :	9:00 AM - 11:00 AM
Exam Date :	16/03/2019

Section : SI CPO

Q.1 निम्नलिखित में से कौन-सा विकल्प नीचे दिए गए शब्दों के तर्कसंगत और अर्थपूर्ण क्रम को दर्शाता है।

1. कक्षाएं
2. प्रवेश परीक्षा
3. परिणाम
4. प्रवेश
5. स्नातक
6. नौकरी

- Ans
1. 2, 3, 4, 1, 6, 5
2. 5, 2, 6, 4, 3, 1
3. 2, 3, 4, 1, 5, 6
4. 6, 2, 5, 4, 3, 1

Question ID : 98958012011

Status : Answered

Chosen Option : 3

Q.2 निम्नलिखित संख्या-युग्म की दोनों संख्या जिस प्रकार एक-दूसरे से सम्बंधित हैं, उसी प्रकार का संबंध रखने वाले संख्या-युग्म का चयन कीजिए।

11 : 242

- Ans
1. 8 : 128
2. 5 : 52
3. 9 : 729
4. 15 : 375

Question ID : 98958012032

Status : Answered

Chosen Option : 2

Q.3 निम्नलिखित में से कौन-सा विकल्प नीचे दिए गए शब्दों के तर्कसंगत और अर्थपूर्ण क्रम को दर्शाता है।

1. घंटा
2. महीना
3. सेकंड
4. दिन
5. मिनट
6. सप्ताह

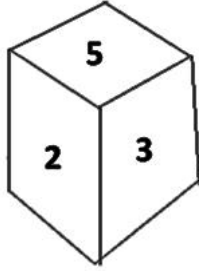
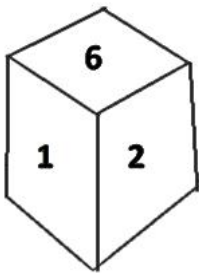
- Ans
- 1. 2, 3, 4, 1, 6, 5
 - 2. 3, 5, 1, 4, 6, 2
 - 3. 2, 3, 4, 1, 5, 6
 - 4. 6, 2, 5, 4, 3, 1

Question ID : 98958012010

Status : Answered

Chosen Option : 2

Q.4 एक ही पासे की दो स्थितियां दर्शायी गई हैं। संख्या '3' के विपरीत कौन-सी संख्या होगी?



- Ans
- 1. 6
 - 2. 2
 - 3. 4
 - 4. 1

Question ID : 98958012049

Status : Answered

Chosen Option : 1

Q.5 निम्नलिखित चार संख्या-युग्मों में से तीन किसी विशिष्ट सन्दर्भ में एक दूसरे के समान हैं और एक असमान है। असमान संख्या-युग्म को ज्ञात कीजिए।

EFRI95uh

- Ans
- 1. u59I RF3
 - 2. 3FRI92uh
 - 3. u59I RF3
 - 4. u59I RF3

Question ID : 98958012053

Status : Answered

Chosen Option : 2

Q.6 दिए गए विकल्पों में से उस संख्या-समूह का चयन कीजिए जो निम्नलिखित संख्या-समूह के समान है।
(25, 144, 47)

- Ans
- 1. (15, 96, 340)
 - 2. (9, 72, 8)

✗ 3. (16, 82, 23)

✓ 4. (19, 78, 20)

Question ID : 98958012039

Status : Answered

Chosen Option : 3

Q.7 जिस प्रकार 'माह' का संबंध 'मार्च' से उसी प्रकार 'ऋतु' का संबंध ' _____ ' से है।

Ans ✗ 1. वर्ष

✓ 2. बसंत

✗ 3. त्यौहार

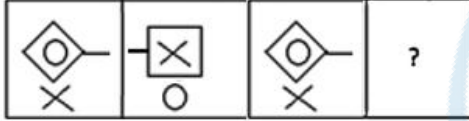
✗ 4. सप्ताह

Question ID : 98958012017

Status : Answered

Chosen Option : 2

Q.8 निम्नलिखित आकृति श्रृंखला में आने वाली अगली आकृति का चयन कीजिए।



Ans

✗ 1.

✗ 2.

✗ 3.

✓ 4.

Question ID : 98958012046

Status : Answered

Chosen Option : 4

Q.9 निम्नलिखित चार शब्दों में से तीन किसी विशिष्ट सन्दर्भ में एक दूसरे के समान हैं और एक असमान है। असमान शब्द का चयन कीजिए।

Ans

✓ 1. आश्रयालय (हैबीटेट)

✗ 2. अस्तबल

✗ 3. बाड़ा (बार्न)

✗ 4. मांद

Question ID : 98958012015

Status : Answered

Chosen Option : 3

Q.1 निम्नलिखित श्रृंखला में प्रश्नवाचक चिह्न (?) के स्थान पर कौन-सा अक्षर-समूह आएगा?
CFZ, EGX, HIU, JLS, MPP, ?


- Ans
- ✓ 1. OUN
 - ✗ 2. NTO
 - ✗ 3. OTN
 - ✗ 4. MSN

Question ID : 98958012009

Status : Answered

Chosen Option : 1

Q.1 उस विकल्प का चयन कीजिए जिसमें नीचे दी गई आकृति छिपी हुई है।



Ans

- ✗ 1.
- ✗ 2.
- ✓ 3.
- ✗ 4.

Question ID : 98958012050

Status : Answered

Chosen Option : 3

- Q.1 कुनाल का घर एक कॉफी शॉप की दक्षिण दिशा में स्थित है। कॉफी शॉप के पूर्व की दिशा में एक पार्क है। स्थानीय
2 बाजार पार्क की उत्तर दिशा में है। यदि पार्क से बाजार की दूरी कुनाल के घर से कॉफी शॉप की दूरी के बराबर है, तब कॉफी शॉप के संबंध में बाजार किस दिशा में है?

- Ans
1. दक्षिण-पश्चिम
2. पश्चिम
3. उत्तर-पूर्व
4. दक्षिण-पूर्व

Question ID : 98958012044

Status : Answered

Chosen Option : 3

- Q.1 यदि '+' का अर्थ 'x' है, 'x' का अर्थ '+' है, '-' का अर्थ '-' है और '-' का अर्थ '+' है, तब निम्नलिखित पद का
3 मान क्या होगा?
 $16 \times 3 + 5 - 2 + 4$

- Ans
1. 10
2. 7
3. 19
4. 9

Question ID : 98958012041

Status : Answered

Chosen Option : 4

- Q.1 दो कथनों के आगे दो निष्कर्ष I और II दिए गये हैं। इन कथनों को सत्य मानते हुए, भले ही वे सामान्य रूप से जात
4 तथ्यों से भिन्न क्यों न प्रतीत हों, यह निर्णय लीजिए कि कौन-से निष्कर्ष दिए गये कथनों से तर्कसंगत रूप से अनुसरण करता है / करते हैं।

कथन:

कुछ चादरें तोलियें हैं।
कुछ तोलियें तकियें हैं।

निष्कर्ष:

- I. कुछ तकियें चादरें हैं।
II. कोई भी तकिया चादर नहीं है।

- Ans
1. न तो निष्कर्ष I और न ही निष्कर्ष II अनुसरण करता है।
2. केवल निष्कर्ष I अनुसरण करता है।
3. या तो निष्कर्ष I या निष्कर्ष II अनुसरण करता है।
4. केवल निष्कर्ष II अनुसरण करता है।

Question ID : 98958012027

Status : Answered

Chosen Option : 3

Q.1
5

एक वर्गाकार कागज के टुकड़े को मोड़ने के क्रम तथा मोड़े गये कागज को काटने का ढंग दर्शाया गया है। जब इस कागज की तह को खोला जाएगालो कागज कैसा दिखाई देगा?



Ans

✗ 1.



✗ 2.



✗ 3.



✓ 4.



Question ID : 98958012054

Status : Answered

Chosen Option : 4

Q.1 निम्नलिखित चार अक्षर-समूहों में से तीन किसी विशिष्ट सन्दर्भ में एक दूसरे के समान हैं और एक असमान है।
6 असमान अक्षर-समूह का चयन कीजिए।

Ans

✗ 1. QSVZ

✗ 2. EGJN

✓ 3. OQSV

✗ 4. KMPT

Question ID : 98958012012

Status : Answered

Chosen Option : 3

Q.1 दो कथनों के आगे दो निष्कर्ष I और II दिए गये हैं। इन कथनों को सत्य मानते हुए, भले ही वे सामान्य रूप से जात
7 तथ्यों से भिन्न क्यों न प्रतीत हों, यह निर्णय लीजिए कि कौन-से निष्कर्ष दिए गये कथनों से तर्कसंगत रूप से
अनुसरण करता है / करते हैं।

कथन:

सभी अधिकारी विनम्र लोग हैं।

सभी विनम्र लोग धनी हैं।

निष्कर्ष:

I. सभी अधिकारी धनी हैं।

II. सभी विनम्र लोग अधिकारी हैं।

Ans

1. केवल निष्कर्ष ॥ अनुसरण करता है।
2. दोनों निष्कर्ष । और ॥ अनुसरण करते हैं।
3. केवल निष्कर्ष । अनुसरण करता है।
4. न तो निष्कर्ष । और न ही निष्कर्ष ॥ अनुसरण करता है।

Question ID : 98958012026
Status : Answered
Chosen Option : 3

Q.1 ऐसे विकल्प का चयन करें जो तीसरी संख्या से उसी प्रकार संबंधित है जिस प्रकार दूसरी संख्या पहली संख्या से संबंधित है।





16 : 68 :: 28 : _____

- Ans 1. 119
2. 77
3. 346
4. 49

Question ID : 98958012031
Status : Answered
Chosen Option : 3

Q.1 उस वेन आरेख का चयन कीजिए जो निम्नलिखित श्रेणियों के बीच सही संबंध दर्शाता है।

बिल्ली, स्तनधारी, तोता

- Ans
1. 
2. 
3. 
4. 

Question ID : 98958012055
Status : Answered
Chosen Option : 3

Q.2 निम्नलिखित चार शब्दों में से तीन शब्द किसी विशिष्ट सन्दर्भ में एक दूसरे के समान हैं और एक असमान है। असमान शब्द का चयन कीजिए।

- Ans 1. कागज

- ✗ 2. रबर
 ✓ 3. लेखन सामग्री
 ✗ 4. कलम

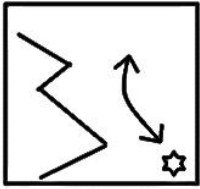
Question ID : 98958012014
 Status : Answered
 Chosen Option : 2

Q.2 निम्नलिखित चार संख्याओं में से तीन संख्याएं किसी विशिष्ट सन्दर्भ में एक दूसरे के समान हैं और एक असमान है।
 1 असमान संख्या जात कीजिए।

- Ans ✗ 1. 396
 ✓ 2. 571
 ✗ 3. 451
 ✗ 4. 792

Question ID : 98958012034
 Status : Answered
 Chosen Option : 4

Q.2 नीचे दी गई आकृति के दायीं ओर दर्पण को रखने पर बनने वाले सही प्रतिबिम्ब का चयन कीजिए।
 2



Ans

- ✓ 1.
 ✗ 2.
 ✗ 3.
 ✗ 4.

Question ID : 98958012052
 Status : Answered
 Chosen Option : 1

Q.2
 3

निम्नलिखित चार संख्याओं में से तीन संख्याएं किसी विशिष्ट सन्दर्भ में एक दूसरे के समान हैं और एक असमान है। असमान संख्या जात कीजिए।

- Ans
- 1. 64
 - 2. 16
 - 3. 8
 - 4. 34

Question ID : 98958012035
Status : Answered
Chosen Option : 4

Q.2
4 निम्नलिखित श्रृंखला में कौन-सी संख्या प्रश्नवाचक चिन्ह (?) को प्रतिस्थापित करेगी?
0.15, 0.20, 0.30, 0.45, 0.65, ?

- Ans
- 1. 0.90
 - 2. 0.85
 - 3. 0.80
 - 4. 0.95

Question ID : 98958012029
Status : Answered
Chosen Option : 1

Q.2
5 निम्नलिखित समीकरणों को सही रूप से हल करने के लिए किन दो चिहनों को आपस में बदलना होगा?
 $\frac{1}{4} \div \frac{1}{64} - 5 + 45 \times 120 = 5$

- Ans
- 1. + और ×
 - 2. × और -
 - 3. + और -
 - 4. - और ÷

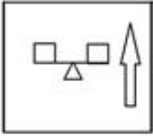
Question ID : 98958012042
Status : Answered
Chosen Option : 2

Q.2
6 निम्नलिखित आकृति श्रृंखला में आने वाली अगली आकृति का चयन कीजिए।

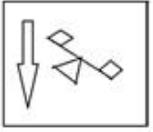


- Ans
- 1.
 - 2.

3.



4.



Question ID : 98958012047

Status : Answered

Chosen Option : 1

Q.2 निम्नलिखित समीकरणों को सही रूप से हल करने के लिए किन दो चिहनों को आपस में बदलना होगा?

7

$$7 \times 2 + 5 - 16 \div 4 = 13$$

Ans 1. \div and $+$ 2. \times and $-$ 3. \times and $+$ 4. \div and \times

Question ID : 98958012040

Status : Answered

Chosen Option : 3

Q.2 जिस प्रकार नीचे दिए गए अक्षरों के समूह में दूसरा अक्षर समूह पहले अक्षर समूह से सम्बंधित है, उसी प्रकार तीसरे

8

अक्षर समूह से सम्बंधित विकल्प का चयन कीजिए।

FLOWER : UOLDVI :: JASMINE : _____

Ans 1. QZGNRMV

2. QAHNRMV

3. QZHMRNV

4. QZHNRMV

Question ID : 98958012020

Status : Answered

Chosen Option : 4

Q.2 जिस प्रकार नीचे दिए गए अक्षरों के समूह में दूसरा अक्षर समूह पहले अक्षर समूह से सम्बंधित है, उसी प्रकार चौथे

9

अक्षर समूह से सम्बंधित विकल्प का चयन कीजिए।

FHK : KMP :: _____ : UWZ

Ans 1. PRV

2. PSU

3. PRU

4. ORU

Question ID : 98958012021

Status : Answered

Chosen Option : 3

Q.3

0 उस विकल्प का चयन कीजिए जिसमें शब्द-युग्म के बीच वही सम्बन्ध है जो निम्नलिखित शब्द-युग्म के दो शब्दों के बीच है।

घोड़ा : सरपट चाल

- Ans
- 1. हाथी : विशालकाय
 - 2. शेर : दहाड़ना
 - 3. पक्षी : उड़ना
 - 4. चूहा : गड़ढा

Question ID : 98958012019

Status : Answered

Chosen Option : 3

Q.3 1 उस विकल्प का चयन कीजिए जिसमें शब्द-युग्म के बीच वही सम्बन्ध है जो निम्नलिखित शब्द-युग्म के दो शब्दों के बीच है।

शल्य चिकित्सक : चिकित्सा छुरी

- Ans
- 1. नौसेना : लेफिटनेट
 - 2. दर्जी : कमीज
 - 3. चिकित्सक : अस्पताल
 - 4. मूर्तिकार : छेनी/चिजल

Question ID : 98958012018

Status : Answered

Chosen Option : 4

Q.3 2 उस वेन आरेख का चयन कीजिए जो निम्नलिखित श्रेणियों के बीच सही संबंध दर्शाता है।

विश्व, एशिया, नेपाल

- Ans
- 1. 
 - 2. 
 - 3. 
 - 4. 

Question ID : 98958012056

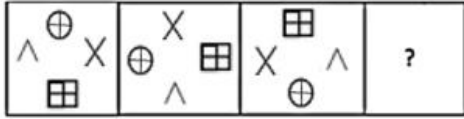
Status : Answered

Chosen Option : 3

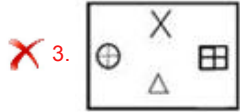
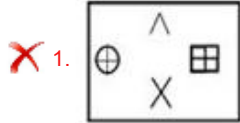
Q.3

3

निम्नलिखित आकृति श्रृंखला में आने वाली अगली आकृति का चयन कीजिए।



Ans



Question ID : 98958012045

Status : Answered

Chosen Option : 4

Q.3 जिस प्रकार 'तापमान' का संबंध 'डिग्री' से है, उसी प्रकार 'समय' का संबंध '_____ ' से है।

Ans

1. मीटर

2. लीटर

3. सेकेंड

4. न्यूटन

Question ID : 98958012016

Status : Answered

Chosen Option : 3

Q.3 निम्नलिखित चार संख्या-युग्मों में से तीन किसी विशिष्ट सन्दर्भ में एक दूसरे के समान हैं और एक असमान है। असमान संख्या-युग्म को जात कीजिए।

Ans

1. 28 : 32

2. 54 : 64

3. 119 : 136

4. 91 : 104

Question ID : 98958012036

Status : Answered

Chosen Option : 2

Q.3 निम्नलिखित चार संख्या-युग्मों में से तीन किसी विशिष्ट सन्दर्भ में एक दूसरे के समान हैं और एक असमान है। असमान संख्या-युग्म को जात कीजिए।

- Ans
- 1. 14 : 3
 - 2. 12 : 4
 - 3. 21 : 2
 - 4. 7 : 6

Question ID : 98958012037
Status : Answered
Chosen Option : 2

Q.3
7 उस संख्या की पहचान कीजिए जो दी गई श्रृंखला से संबंधित नहीं है।
2, 6, 6, 10, 8, 12, 12, 15, 14, 18

- Ans
- 1. 12
 - 2. 8
 - 3. 18
 - 4. 15

Question ID : 98958012028
Status : Answered
Chosen Option : 3

Q.3
8 निम्नलिखित श्रृंखला में कौन-सी संख्या प्रश्नवाचक चिन्ह (?) को प्रतिस्थापित करेगी?
3, ?, 101, 10202

- Ans
- 1. 95
 - 2. 10
 - 3. 99
 - 4. 100

Question ID : 98958012030
Status : Answered
Chosen Option : 3

Q.3
9 निम्नलिखित श्रृंखला में प्रश्नवाचक चिन्ह (?) के स्थान पर कौन-सा अक्षर आएगा?
C, F, K, R, A, ?

- Ans
- 1. M
 - 2. I
 - 3. L
 - 4. J

Question ID : 98958012008
Status : Answered
Chosen Option : 3

Q.4
0 निम्नलिखित संख्या-युग्म की दोनों संख्या जिस प्रकार एक-दूसरे से सम्बंधित हैं, उसी प्रकार का संबंध रखने वाले संख्या-युग्म का चयन कीजिए।
343 : 512

Ans

1. 216 : 729
2. 1009 : 1331
3. 8 : 27
4. 27 : 125

Question ID : 98958012033
Status : Answered
Chosen Option : 3

Q.4
1 दिए गए विकल्पों में से उस संख्या-समूह का चयन कीजिए जो निम्नलिखित संख्या-समूह के समान है।
(4, 24, 214)

- Ans 1. (3, 27, 81)
2. (2, 26, 125)
3. (8, 81, 721)
4. (5, 35, 341)

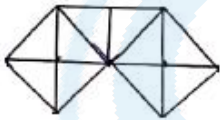
Question ID : 98958012038
Status : Answered
Chosen Option : 4

Q.4
2 यदि A = 2 है और C = 4 है, तो PARTICLE = _____ है।

- Ans 1. 1621820104136
2. 172172094136
3. 1721921104136
4. 172192094126

Question ID : 98958012025
Status : Answered
Chosen Option : 3

Q.4
3 निम्नलिखित चित्र में कितने त्रिकोण हैं?



- Ans 1. 19
2. 24
3. 20
4. 21

Question ID : 98958012048
Status : Not Answered
Chosen Option : --

Q.4
4

निम्नलिखित चार अक्षर-समूहों में से तीन किसी विशिष्ट सन्दर्भ में एक दूसरे के समान हैं और एक असमान है। असमान अक्षर-समूह का चयन कीजिए।

- Ans
- 1. SWYBE
 - 2. HKNQT
 - 3. QTWZC
 - 4. CFILO

Question ID : 98958012013
Status : Answered
Chosen Option : 1

Q.4 किसी कूट भाषा में, CERTAIN को DFSUBJO के रूप में लिखा जाता है तो उसी कूट भाषा में SUMMER को कैसे लिखा जाएगा?

- Ans
- 1. TUNMFS
 - 2. TVNNFS
 - 3. TVNNFT
 - 4. RVNNFS

Question ID : 98958012022
Status : Answered
Chosen Option : 2

Q.4 अर्जुन पूर्व दिशा में चलना शुरू करता है। 50 मीटर चलने के पश्चात वह अपनी बाईं ओर मुड़कर 15 मीटर चलता है। वहाँ से वह अपनी बाईं ओर मुड़कर 30 मीटर चलता है। अंततः, वह अंतिम बार अपनी बाईं ओर मुड़कर 15 मीटर चलता है। वह प्रारंभिक बिंदु से कितनी दूरी पर है?

- Ans
- 1. 10m
 - 2. 40m
 - 3. 20m
 - 4. 30m

Question ID : 98958012043
Status : Answered
Chosen Option : 3

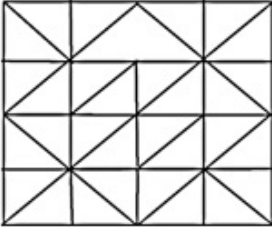
Q.4 यदि कूट भाषा में WATER को XZUDS के रूप में लिखा जाता है, तब किस शब्द का कूट BMHKF होगा?

- Ans
- 1. CLING
 - 2. ALIEN
 - 3. ANGLE
 - 4. EARTH

Question ID : 98958012023
Status : Answered
Chosen Option : 3

Q.4
8

उस विकल्प का चयन कीजिए जो दी गई आकृति में छिपी हुई है।



Ans

✓ 1.



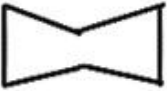
✗ 2.



✗ 3.



✗ 4.



Question ID : 98958012051

Status : Answered

Chosen Option : 1

Q.4 उस वेन आरेख का चयन कीजिए जो निम्नलिखित श्रेणियों के बीच सही संबंध दर्शाता है।
महिलाएं, माताएं, पिता

Ans

✓ 1.



✗ 2.



✗ 3.



✗ 4.



Question ID : 98958012057

Status : Answered

Chosen Option : 1

Q.5 किसी कूट भाषा में, CADET को 31457 के रूप में लिखा जाता है, तो उसी कूट भाषा में DEFER को कैसे लिखा जा सकता है?

- Ans
- 1. 35658
 - 2. 45769
 - 3. 45659
 - 4. 45678

Question ID : 98958012024
Status : Answered
Chosen Option : 3

Q.5 निम्नलिखित शब्द कथन किसका है?

"सभी राष्ट्रों के लिए एक ध्वज आवश्यक है। इसके लिए लाखों लोग मारे गए हैं।"

- Ans
- 1. सरोजिनी नायडू
 - 2. जवाहर लाल नेहरू
 - 3. महात्मा गांधी
 - 4. भीकाजी कामा

Question ID : 98958011889
Status : Not Answered
Chosen Option : --

Q.5 विश्व का सबसे बड़ा क्रिकेट स्टेडियम भारत के किस राज्य में बनाया जा रहा है?

- Ans
- 1. पश्चिम बंगाल
 - 2. गुजरात
 - 3. चंडीगढ़
 - 4. महाराष्ट्र

Question ID : 98958011882
Status : Not Answered
Chosen Option : --

Q.5 किसे 'भारतीय परमाणु कार्यक्रम के जनक' के रूप में जाना जाता है?

- Ans
- 1. सी.वी.रमन
 - 2. ए.पी.जे.अब्दुल कलाम
 - 3. होमी जहांगीर भाभा
 - 4. विक्रम साराभाई

Question ID : 98958011893
Status : Answered
Chosen Option : 3

Q.5
4 केन्या के _____ ने मुंबई मैराथन, 2019 जीती थी।

- Ans
- 1. आईच्यू बैटी
 - 2. बिरके देबले
 - 3. अकलनेव शूमेट
 - 4. काँसमस लगट

Question ID : 98958011904
Status : Not Answered
Chosen Option : --

Q.5
5 भारतीय आर्थिक सुधारों के जनक का नाम बताइए।

- Ans
- 1. पी.वी.नरसिम्हा राव
 - 2. नरेंद्र मोदी
 - 3. मनमोहन सिंह
 - 4. यशवंत सिन्हा

Question ID : 98958011863
Status : Answered
Chosen Option : 3

Q.5
6 शिवाजी के उस पुत्र का नाम _____ था, जिसका जन्म सईबाई से हुआ था।

- Ans
- 1. शाहू
 - 2. बाजीराव
 - 3. संभाजी
 - 4. शाहजी

Question ID : 98958011886
Status : Answered
Chosen Option : 1

Q.5
7 निर्धारण वर्ष 2019-20 से, ₹ 5,00,000 तक की वार्षिक आय वाले 80 वर्ष से अधिक आयु के भारतीय नागरिक द्वारा देय आयकर की दर क्या है?

- Ans
- 1. 20%
 - 2. 5%
 - 3. 0%
 - 4. 30%

Question ID : 98958011865
Status : Answered
Chosen Option : 3

Q.5 सम्पूर्ण हिमालयी क्षेत्र में पाये जाने वाले लम्बे बालों वाले स्तनधारियों का नाम क्या है?

- Ans
- 1. हाइफर
 - 2. बिसन
 - 3. याक
 - 4. बैल

Question ID : 98958011885
Status : Answered
Chosen Option : 3

Q.5 पहले संस्करण के अलावा, नई दिल्ली ने एशियाई खेलों के _____ संस्करण की भी मेजबानी की।

- Ans
- 1. 8वें
 - 2. 11वें
 - 3. 9वें
 - 4. 7वें

Question ID : 98958011907
Status : Not Answered
Chosen Option : --

Q.6 भारत के उपराष्ट्रपति के रूप में नियुक्ति के लिए न्यूनतम आयु कितनी होनी चाहिए?

- Ans
- 1. 30
 - 2. 21
 - 3. 35
 - 4. 25

Question ID : 98958011898
Status : Answered
Chosen Option : 3

Q.6 'Small is beautiful' पुस्तक लिखने वाले अर्थशास्त्री का नाम क्या है?

- Ans
- 1. अमर्त्य सेन
 - 2. कार्ल मार्क्स
 - 3. डेविड रिकार्डो
 - 4. ई एफ शूमाकर

Question ID : 98958011897
Status : Not Answered
Chosen Option : --

Q.6

2 निम्नलिखित में से कौन सा जीव अपने शिकार को पकड़ने के लिए अल्ट्रासोनिक ध्वनि का उपयोग करता है?

- Ans
- 1. चमगादड़
 - 2. बाज
 - 3. कुत्ता
 - 4. बिल्ली

Question ID : 98958011870

Status : Answered

Chosen Option : 1

Q.6 छत्तीसगढ़ में _____ वॉटरफॉल को भारत के नियाग्रा फॉल्स के रूप में भी जानते हैं।

- Ans
- 1. हब्बे
 - 2. मागोद
 - 3. दूधसागर
 - 4. चित्रकूट

Question ID : 98958011883

Status : Answered

Chosen Option : 2

Q.6 _____ जनवरी 1950 से नवंबर 1951 तक भारत के मुख्य न्यायाधीश थे।

- Ans
- 1. बिजन कुमार मुखर्जी
 - 2. भुवनेश्वर प्रसाद सिन्हा
 - 3. मेहर चंद महाजन
 - 4. हरिलाल जेकिंसुनदास कनिया

Question ID : 98958011903

Status : Answered

Chosen Option : 4

Q.6 मुहम्मद गोरी का पहला आक्रमण _____ में हुआ था, जब उसने मुल्तान पर हमला किया था।

- Ans
- 1. 1475 ई
 - 2. 1175 ई
 - 3. 1287 ई
 - 4. 1089 ई

Question ID : 98958011890

Status : Answered

Chosen Option : 3

Q.6 गुरु _____ को चर्मकार संत के रूप में जाना जाता है।

- Ans
- 1. रविदास
 - 2. जीवा गोस्वामी
 - 3. अय्या वैकुंदर
 - 4. नरहरि

Question ID : 98958011861
Status : Not Answered
Chosen Option : --

Q.6 किस क्रिकेट खिलाड़ी ने 16 वर्ष की आयु में कराची में अपने टेस्ट करियर की शुरुआत की थी?

- Ans
- 1. राहुल द्रविड़
 - 2. शान्ताकुमारन श्रीसंत
 - 3. हार्दिक पांड्या
 - 4. सचिन तेंदुलकर

Question ID : 98958011895
Status : Answered
Chosen Option : 4

Q.6 भारत के संविधान के अनुच्छेद _____ के तहत, संसद के सदन की बैठक शुरू करने के लिए गणपूर्ति की संख्या 8 सदन की कुल सदस्य संख्या का दसवां हिस्सा होती है।

- Ans
- 1. 101
 - 2. 100
 - 3. 102
 - 4. 103

Question ID : 98958011900
Status : Answered
Chosen Option : 4

Q.6 नवकलेवर एक परंपरा है जो _____ के मंदिर में होता है।

- Ans
- 1. जगन्नाथ पुरी
 - 2. सबरीमाला
 - 3. तिरुपति
 - 4. शिरडी

Question ID : 98958011860
Status : Not Answered
Chosen Option : --

Q.7
0 भारत के सर्वोच्च न्यायालय का उद्घाटन सत्र _____ को हुआ था।

- Ans
- 1. 29 जनवरी, 1950
 - 2. 28 जनवरी, 1950
 - 3. 31 जनवरी, 1950
 - 4. 26 जनवरी, 1950

Question ID : 98958011902
Status : Answered
Chosen Option : 4

Q.7
1 'The Audacity of Hope' पुस्तक किसने लिखी है?

- Ans
- 1. बिल क्लिंटन
 - 2. जार्ज बुश
 - 3. बराक ओबामा
 - 4. बिल गेट्स

Question ID : 98958011896
Status : Not Answered
Chosen Option : --

Q.7
2 1927 में मंदिर प्रवेश आंदोलन किसने शुरू किया था?

- Ans
- 1. भीमराव अंबेडकर
 - 2. महात्मा गांधी
 - 3. मेधा पाटकर
 - 4. विनोभा भावे

Question ID : 98958011887
Status : Answered
Chosen Option : 1

Q.7
3 नेहरू-लियाकत समझौता पर वर्ष _____ में हस्ताक्षर किए गए थे।

- Ans
- 1. 1948
 - 2. 1950
 - 3. 1949
 - 4. 1947

Question ID : 98958011888
Status : Answered
Chosen Option : 4

Q.7
4 'कैनिस ल्यूपस' को आमतौर पर _____ के रूप में जाना जाता है।

- Ans
- 1. गाय
 - 2. ग्रे वॉल्फ
 - 3. मुर्गी
 - 4. बकरा

Question ID : 98958011875
Status : Not Answered
Chosen Option : --

Q.7
5 'भेगापटेरा नोवाइंगलियाए' को सामान्यता _____ रूप में जाना जाता है।

- Ans
- 1. अफ्रीकी जंगली बिल्ली
 - 2. हंपबैक व्हेल
 - 3. ट्री फ्रॉग
 - 4. भंवरा

Question ID : 98958011869
Status : Not Answered
Chosen Option : --

Q.7
6 भारत की मुद्रा मुद्रण प्रैस _____ में स्थित नहीं है।

- Ans
- 1. कोच्चि
 - 2. मैसूर
 - 3. सालबोनी
 - 4. देवास

Question ID : 98958011867
Status : Answered
Chosen Option : 4

Q.7
7 1994 के बाद, सामान्यता एक वर्ष में राज्यसभा के कितने सत्र आयोजित किए जाते हैं?

- Ans
- 1. छह
 - 2. दो
 - 3. तीन
 - 4. चार

Question ID : 98958011901
Status : Answered
Chosen Option : 3

Q.7

8 _____ को 'भारतीय पक्षीविज्ञान के जनक' के रूप में जाना जाता है।

- Ans
- 1. जॉन जेम्स ऑडबोन
 - 2. एलन ऑक्टेवियन ह्यूम
 - 3. कोनराड लोरेज
 - 4. सलीम अली

Question ID : 98958011868
Status : Answered
Chosen Option : 4

Q.7 नासा ने तमिलनाडु से 18 वर्षीय _____ और उसकी टीम द्वारा आविष्कार किए गए विश्व के सबसे छोटे और हल्के सेटेलाइट 'कलामसेट' को 22 जून 2017 को लॉन्च किया था।

- Ans
- 1. शाहरुक राशिद
 - 2. रिफत शारूक
 - 3. सलमान रशीद
 - 4. खुर्शीद रिफत

Question ID : 98958011877
Status : Not Answered
Chosen Option : --

Q.8 जनवरी 2018 तक गाय के दूध के उत्पादन में भारत का _____ स्थान था।

- Ans
- 1. दूसरा
 - 2. चौथा
 - 3. पहला
 - 4. तीसरा

Question ID : 98958011866
Status : Answered
Chosen Option : 3

Q.8 भारत की सर्वश्रेष्ठ बैडमिंटन खिलाड़ी और रियो ओलंपिक में रजत पदक विजेता _____ को विश्व में सबसे अधिक कमाई करने वाली महिला खिलाड़ियों की फोर्ब्स सूची 2018 में सातवाँ स्थान दिया गया है।

- Ans
- 1. पीवी सिंधु
 - 2. सानिया मिर्जा
 - 3. संतोष यादव
 - 4. साइना नेहवाल

Question ID : 98958011905
Status : Answered
Chosen Option : 1

Q.8 _____ के बीच की वार्षिक आय वाले वयस्क प्रधानमंत्री आवास योजना के अंतर्गत आवास ऋण प्राप्त कर सकते हैं।

2

Ans

- 1. 6 और 15 लाख
- 2. 6 और 21 लाख
- 3. 6 और 25 लाख
- 4. 6 और 18 लाख

Question ID : 98958011864

Status : Answered

Chosen Option : 1

Q.8 नृत्य रूप 'डांडिया' का _____ से संबंध है।

3

Ans

- 1. गणेश चतुर्थी
- 2. नवरात्रि
- 3. ओणम
- 4. बिहु

Question ID : 98958011862

Status : Answered

Chosen Option : 2

Q.8 'कैप्रा एगैग्रस हिरकस' को आमतौर पर _____ के रूप में जाना जाता है।

4

Ans

- 1. कुत्ता
- 2. बकरा
- 3. गाय
- 4. मुर्गी

Question ID : 98958011876

Status : Not Answered

Chosen Option : --

Q.8 स्वतंत्रता दिवस पर लाल किले पर राष्ट्रीय ध्वज कौन फहराता है?

5

Ans

- 1. मुख्य न्यायाधीश
- 2. राज्यपाल
- 3. प्रधानमंत्री
- 4. राष्ट्रपति

Question ID : 98958011899

Status : Answered

Chosen Option : 3

Q.8
6 किस तापमान पर लोहा पिघलता है?

- Ans
- 1. 1638° सेल्सियस
 - 2. 1683° सेल्सियस
 - 3. 1538° सेल्सियस
 - 4. 1583° सेल्सियस

Question ID : 98958011873
Status : Not Answered
Chosen Option : --

Q.8
7 1905 में सर्वेट्स ऑफ़ इंडिया सोसाइटी की स्थापना किसने की थी?

- Ans
- 1. गोपाल कृष्ण गोखले
 - 2. ऐनी बेसेंट
 - 3. राजा राम मोहन राय
 - 4. सैय्यद अहमद खान

Question ID : 98958011891
Status : Answered
Chosen Option : 1

Q.8
8 स्वतंत्रता पूर्व भारत में, वर्ष _____ में ब्रिटिशों ने भारत की राजधानी कलकत्ता को दिल्ली स्थानांतरित कर दिया।

- Ans
- 1. 1913
 - 2. 1911
 - 3. 1924
 - 4. 1921

Question ID : 98958011881
Status : Answered
Chosen Option : 2

Q.8
9 जनवरी 2019 में, नासा के ट्रांसिटिंग एक्सोप्लेनेट सर्वे सैटेलाइट (TESS) ने _____ तारामंडल में HD 21749b नामक अपने तीसरे छोटे एक्सोप्लेनेट की खोज की थी।

- Ans
- 1. अन्टिला
 - 2. लैसेर्टा
 - 3. रेटीक्यूलम
 - 4. ल्यूपस

Question ID : 98958011878
Status : Not Answered
Chosen Option : --

Q.9
0

25 डिग्री सेल्सियस पर शुद्ध पानी (H₂O) का pH _____ है।

- Ans
- 1. 8
 - 2. 7
 - 3. 9
 - 4. 6

Question ID : 98958011879
Status : Answered
Chosen Option : 2

Q.9
1 निम्नलिखित खेलों में से कौनसा खेल देवधर ट्रॉफी से संबंधित है?

- Ans
- 1. गोल्फ
 - 2. हॉकी
 - 3. क्रिकेट
 - 4. फुटबॉल

Question ID : 98958011906
Status : Answered
Chosen Option : 3

Q.9
2 निम्नलिखित में से हिंदुस्तानी शास्त्रीय संगीत का प्रसिद्ध घराना (शैलियाँ) कौन सा विकल्प नहीं है?

- Ans
- 1. पटियाला घराना
 - 2. मेवाती घराना
 - 3. ग्वालियर घराना
 - 4. रजवाड़ी घराना

Question ID : 98958011858
Status : Answered
Chosen Option : 2

Q.9
3 भारतीय मूल की सुप्रसिद्ध अंतरिक्ष यात्री सुनीता विलियम्स ने अंतरिक्ष में रिकार्ड _____ दिन बिताये थे।

- Ans
- 1. 150
 - 2. 175
 - 3. 195
 - 4. 200

Question ID : 98958011892
Status : Answered
Chosen Option : 3

Q.9
4 लोहा लगभग _____ डिग्री सेल्सियस पर उबलता है।

Ans

1. 3182
2. 3861
3. 2861
4. 2181

Question ID : 98958011874
Status : Not Answered
Chosen Option : --

Q.9 एक प्रतिष्ठित विज्ञापन एजेंसी के प्रमुख के रूप में, _____ ने सर्फ डिटर्जेंट, लिरिल बाथ सोप, बजाज स्कूटर और चेरी ब्लॉसम शू पॉलिश के लिए प्रतिष्ठित विज्ञापन बनाए।

- Ans 1. एलिक पदमसी
2. प्रल्हाद कक्कड़
3. गार्सन दा कुन्हा
4. प्रसून जोशी

Question ID : 98958011894
Status : Not Answered
Chosen Option : --

Q.9 वर्ष _____ में कलकत्ता ब्रिटिश भारत की राजधानी बना।

- Ans 1. 1756
2. 1765
3. 1772
4. 1727

Question ID : 98958011880
Status : Answered
Chosen Option : 3

Q.9 ध्वनि _____ से नहीं गुजर सकती है।

- Ans 1. मिट्टी
2. पानी
3. आग
4. खाली स्थान

Question ID : 98958011871
Status : Answered
Chosen Option : 4

Q.9 चिपको आंदोलन निम्नलिखित से संबंधित है:

- Ans 1. सार्वजनिक जीवन में पारदर्शिता

2. संतुलित विकास
3. पेड़ों को कटने से बचाने के लिए
4. वन-रोपण

Question ID : 98958011872
Status : Answered
Chosen Option : 3

Q.9 गिनीज वर्ल्ड रिकॉर्ड्स के अनुसार, 2011 में दुनिया का सबसे अमीर मंदिर निम्नलिखित में से कौन सा था?

- Ans 1. जगन्नाथ मंदिर
2. तिरुमाला तिरुपति वेंकटेश्वर मंदिर
3. सिद्धिविनायक मंदिर
4. श्री पद्मनाभस्वामी मंदिर

Question ID : 98958011859
Status : Answered
Chosen Option : 2

Q.1 भूमि क्षेत्रफल के हिसाब से दुनिया का सातवाँ सबसे बड़ा देश कौनसा है?

- Ans 1. अर्जेंटीना
2. ऑस्ट्रेलिया
3. ब्राज़ील
4. इंडिया

Question ID : 98958011884
Status : Answered
Chosen Option : 4

Q.1 एक ग्राहक को ₹90 की छूट मिलती है, जो कि 12% है। उस वस्तु का विक्रय मूल्य है:

- Ans 1. ₹770
2. ₹540
3. ₹660
4. ₹580

Question ID : 98958012217
Status : Answered
Chosen Option : 3

Q.1 एक लड़का एक खंभे के पास खड़ा है जो 2.7 m ऊंचा है और उन्नयन कोण 30° है। खंभे से लड़के की दूरी है
($\sqrt{3} = 1.73$):

- Ans 1. 4.68 m

2. 4.53 m
 3. 4.63 m
 4. 4.42 m

Question ID : 98958012248
 Status : Answered
 Chosen Option : 1

Q.1 यदि सिलेंडर की सामग्री का वजन 8 gm/cm^3 हो तो 35 cm ऊंचाई और 14 cm त्रिज्या वाले ठोस सिलेंडर का वजन ज्ञात करें।

- Ans 1. 166 kg
 2. 177.44 kg
 3. 160 kg
 4. 172.48 kg

Question ID : 98958012235
 Status : Answered
 Chosen Option : 4

Q.1 पाइप A, 4 घंटे में एक हौज भर सकता है और दूसरा पाइप B लगाया गया है। दोनों पाइप एक साथ $2\frac{1}{2}$ घंटे में हौज को भरते हैं। हौज को भरने के लिए अकेले B को कितना समय लगेगा?

- Ans 1. $6\frac{3}{8}$ घंटे
 2. $6\frac{2}{3}$ घंटे
 3. $5\frac{1}{6}$ घंटे
 4. 5 घंटे

Question ID : 98958012230
 Status : Answered
 Chosen Option : 2

Q.1 ₹124 का कितना प्रतिशत ₹49.60 होता है?

- Ans 1. 16
 2. 40
 3. 123
 4. 250

Question ID : 98958012220
 Status : Answered
 Chosen Option : 2

Q.1 यदि 10% प्रति वर्ष, अर्धवार्षिक-संयोजित, $1\frac{1}{2}$ वर्ष का चक्रवृद्धि ब्याज ₹2,522 है तो मूलधन राशि है:

- Ans 1. ₹20,000

2. ₹18,500

3. ₹16,000

4. ₹15,400

Question ID : 98958012226

Status : Answered

Chosen Option : 3

Q.1
07 8% साधारण ब्याज पर एक राशि कितने समय में दोगुनी होगी?

Ans 1. 12.5 वर्ष

2. 5 वर्ष

3. 6 वर्ष

4. 8 वर्ष

Question ID : 98958012225

Status : Answered

Chosen Option : 1

Q.1
08 3 m भुजा वाले वर्गाकार कार्ड बोर्ड को उसके एक विकर्ण पर मोड़कर त्रिभुज बनाया गया है। त्रिभुज की ऊँचाई है:

Ans 1. $\frac{2}{\sqrt{3}}$ m

2. $\frac{3}{\sqrt{2}}$ m

3. $2\sqrt{3}$ m

4. $3\sqrt{2}$ m

Question ID : 98958012244

Status : Answered

Chosen Option : 2

Q.1
09 $\frac{14-6 \times 2}{15 \div 3 + 3}$ बराबर है:

Ans 1. 2

2. $\frac{4}{5}$

3. $\frac{1}{4}$

4. $6\frac{2}{5}$

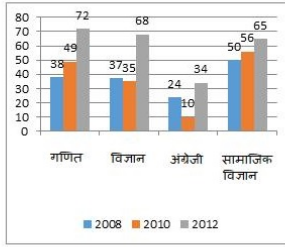
Question ID : 98958012212

Status : Answered

Chosen Option : 3

Q.1
10

दिया गया दंड-चार्ट (bar-chart), तीन वर्षों में एक विद्यार्थी द्वारा प्रत्येक विषय में प्राप्त किए गए अंकों को दर्शाता है:



दिए गए दंड-चार्ट (bar-chart) में, 2008 की तुलना से 2012 में, गणित के अंकों में कितने प्रतिशत वृद्धि हुई? (पूर्णांक में)

- Ans
- 1. 92
 - 2. 95
 - 3. 100
 - 4. 89

Question ID : 98958012250

Status : Answered

Chosen Option : 4

Q.1 एक नल 3 घंटे में एक टैंक भर सकता है और एक रिसाव 5 घंटे में टैंक खाली कर सकता है। यदि नल और रिसाव (जो आधा बंद था) को खुला छोड़ दिया जाता है, तो टैंक को भरने में कितना समय लगेगा?

- Ans
- 1. $4\frac{2}{7}$ घंटे
 - 2. $7\frac{1}{2}$ घंटे
 - 3. $5\frac{1}{3}$ घंटे
 - 4. $6\frac{2}{3}$ घंटे

Question ID : 98958012229

Status : Answered

Chosen Option : 2

Q.1 यदि $5\cos\theta - 12\sin\theta = 0$ है, तो $\frac{2\sin\theta + \cos\theta}{\cos\theta - \sin\theta}$ का मान है:

- Ans
- 1. $1\frac{75}{119}$
 - 2. $2\frac{34}{35}$
 - 3. $3\frac{2}{3}$
 - 4. $3\frac{1}{7}$

Question ID : 98958012245

Status : Answered

Chosen Option : 4

Q.1 केंद्र O वाले एक वृत्त के बाहर किसी बिंदु P से खींची गई दो स्पर्श रेखाएँ PA और PB हैं। A और B वृत्त पर बिंदु हैं। यदि $\angle OAB = 35^\circ$ है, तो $\angle APB$ बराबर है:

- Ans 1. 70°
 2. 25°
 3. 35°
 4. 20°

Question ID : 98958012242

Status : Answered

Chosen Option : 1

Q.1 एक रेलगाड़ी 76 km/h की गति से चलती है। यदि यह 36 सेकंड में एक खंभे को पार करती है, तो रेलगाड़ी की लंबाई है :

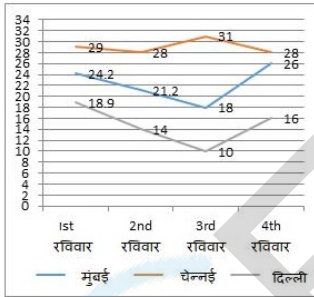
- Ans 1. 720 m
 2. 675 m
 3. 760 m
 4. 630 m

Question ID : 98958012231

Status : Answered

Chosen Option : 3

Q.1 रेखा-चित्र (line graph), तीन शहरों के चार रविवार के तापमान को दर्शाता है।
15



दिए गए रेखा-चित्र (line graph) में, दूसरे रविवार को दिल्ली और मुंबई के बीच तापमान में अंतर क्या था?

- Ans 1. 21
 2. 13
 3. 17.2
 4. 7.2

Question ID : 98958012257

Status : Answered

Chosen Option : 4

Q.1 एक कक्षा के छात्रों ने राहत कोष में ₹3,481 दान दिए। प्रत्येक छात्र ने कक्षा में छात्रों की संख्या के बराबर राशि दान की। कक्षा में छात्रों की संख्या है:
16

- Ans 1. 61
 2. 51
 3. 49
 4. 59

Question ID : 98958012208

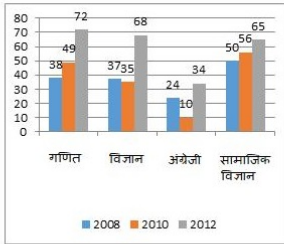
Status : **Answered**
Chosen Option : 4

Q.1 एक मीनार की छाया, सूर्य के उन्नयन कोण 60° होने पर, सूर्य के उन्नयन कोण 45° होने पर प्राप्त होने वाली
17 मीनार की छाया से 15 m छोटी पाई जाती है। मीनार की ऊँचाई है:

- Ans
- 1. 41.5 m
 - 2. 26.5 m
 - 3. 20.5 m
 - 4. 35.5 m

Question ID : **98958012247**
Status : **Answered**
Chosen Option : 3

Q.1 दिया गया दंड-चार्ट (bar-chart), तीन वर्षों में एक विद्यार्थी द्वारा प्रत्येक विषय में प्राप्त किए गए अंकों को दर्शाता है:
18



दिए गए दंड-चार्ट (bar-chart) में, यदि वर्ष 2012 में सामाजिक अध्ययन में अंकों की संख्या विद्यालय की संख्या का 13% है, तो विद्यार्थियों की संख्या है:

- Ans
- 1. 500
 - 2. 580
 - 3. 540
 - 4. 400

Question ID : **98958012251**
Status : **Answered**
Chosen Option : 1

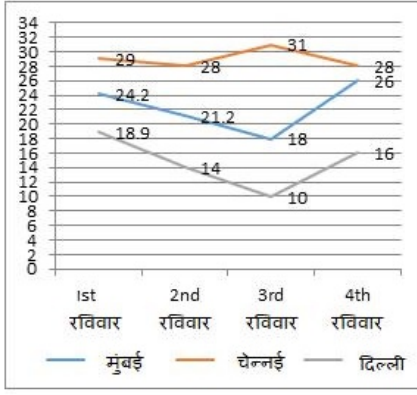
Q.1 तीन साझेदार A, B और C, 3 : 4 : 7 के अनुपात में लाभ और हानि साझा करते हैं। यदि 30% कर लगाने से पहले
19 वर्ष का लाभ ₹1,10,166 है तो कर के बाद B के हिस्से का लाभ क्या है?

- Ans
- 1. ₹24,673.10
 - 2. ₹31,476
 - 3. ₹9,442.80
 - 4. ₹22,033.20

Question ID : **98958012224**
Status : **Answered**
Chosen Option : 4

Q.1
20

रेखा-चित्र (line graph), तीन शहरों के चार रविवार के तापमान को दर्शाता है।



दिए गए रेखा-चित्र (line graph) में, दिल्ली में दर्ज अधिकतम तापमान कब था?

- Ans
- 1. तीसरे रविवार
 - 2. दूसरे रविवार
 - 3. पहले रविवार
 - 4. चौथे रविवार

Question ID : 98958012255
Status : Answered
Chosen Option : 3

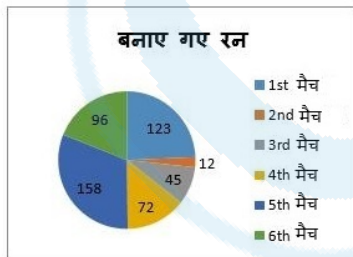
Q.1
21 $(24 \div 6 - 2) + (3 \times 2 + 4)$ बराबर है:

- Ans
- 1. 12
 - 2. 24
 - 3. 16
 - 4. 20

Question ID : 98958012213
Status : Answered
Chosen Option : 1

Q.1 दिया गया वृत्त-चार्ट (pie-chart), A द्वारा 6 मैच में स्कोर किए गए रनों को दर्शाता है।

22



दिए गए वृत्त-चार्ट (pie-chart) में, सभी मैच में बनाए गए रनों का औसत क्या है? (पूर्णांक में)

- Ans
- 1. 85
 - 2. 88

3. 90

4. 84

Question ID : 98958012252
Status : Answered
Chosen Option : 4

Q.1 यदि $(2x-5)^3 + (x+2)^3 + (3x-9)^3 = (2x-5)(3x-9)(3x+6)$ है, तो x का मान क्या होगा?

23

Ans 1. 7

2. 5

3. 2

4. 18

Question ID : 98958012238
Status : Answered
Chosen Option : 3

Q.1 A एक कार्य को 12 दिनों में कर सकता है और B उसी कार्य को 18 दिनों में कर सकता है। 5 दिन तक एक साथ काम करने के बाद, कितना काम बाकी रह जाएगा?

24

Ans 1. $\frac{5}{12}$

2. $\frac{7}{25}$

3. $\frac{5}{13}$

4. $\frac{11}{36}$

Question ID : 98958012227
Status : Answered
Chosen Option : 4

Q.1 21 से 50 के बीच सभी अभाज्य संख्याओं का औसत है (एक दशमलव संख्या में पूर्णांक करें):

25

Ans 1. 34.8

2. 32.9

3. 35.9

4. 33.7

Question ID : 98958012215
Status : Answered
Chosen Option : 3

Q.1 यदि एक हवाई जहाज 35 मिनट में 980 km की दूरी तय करता है, तो वह 1470 km की दूरी तय करने में कितना समय लेगा।

26

Ans 1. $1\frac{1}{8}$ घंटे

2. $\frac{1}{2}$ घंटा

✓ 3. $\frac{7}{8}$ घंटा

✗ 4. $1\frac{1}{6}$ घंटे

Question ID : 98958012232

Status : Answered

Chosen Option : 3

Q.1
27 संख्या 45789, एक अंक की कौन-सी संख्या से विभाज्य है:

Ans ✓ 1. केवल 3 से

✗ 2. केवल 3 और 9 से

✗ 3. केवल 9 से

✗ 4. केवल 3 और 7 से

Question ID : 98958012209

Status : Answered

Chosen Option : 1

Q.1
28 $\sin 18^\circ - \cos 72^\circ$ बराबर है:

Ans ✗ 1. 1

✗ 2. 2

✓ 3. 0

✗ 4. $\frac{1}{2}$

Question ID : 98958012246

Status : Answered

Chosen Option : 3

Q.1
29 प्रतिशत में परिवर्तित $\frac{64}{25}$ है:

Ans ✗ 1. 2.56

✓ 2. 256

✗ 3. 0.256

✗ 4. 25.6

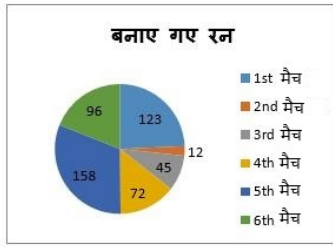
Question ID : 98958012219

Status : Answered

Chosen Option : 2

Q.1
30

दिया गया वृत्त-चार्ट (pie-chart), A द्वारा 6 मैच में स्कोर किए गए रनों को दर्शाता है।



दिए गए वृत्त-चार्ट (pie-chart) में, मैच 2 की तुलना में मैच 4 में स्कोर में कितनी वृद्धि या कमी है?

- Ans
- 1. -60
 - 2. +27
 - 3. -27
 - 4. +60

Question ID : 98958012253

Status : Answered

Chosen Option : 4

Q.1 7 m लंबाई, 5 m चौड़ाई और 3.5 m ऊंचाई वाले आयताकार कमरे की चार दीवारों की भीतरी सतह का क्षेत्रफल
31 ज्ञात करें।

- Ans
- 1. 84 m²
 - 2. 168 m²
 - 3. 42 m²
 - 4. 126 m²

Question ID : 98958012233

Status : Answered

Chosen Option : 1

Q.1 दिन के एक निश्चित समय में 5.4 m ऊंचे एक पेड़ की परछाई 9 m होती है। यदि उसी समय एक खंभे की परछाई
32 13.5 m होती है तो खंभे की ऊंचाई है:

- Ans
- 1. 7.2 m
 - 2. 9.9 m
 - 3. 6.3 m
 - 4. 8.1 m

Question ID : 98958012223

Status : Answered

Chosen Option : 4

Q.1 A, अपनी आय की 12% राशि बचत करती है। यदि वह ₹2,16,128 खर्च करती है, तो उसकी कुल आय है:
33

- Ans
- 1. ₹2,43,560
 - 2. ₹2,42,063
 - 3. ₹2,45,600

✗ 4. ₹2,48,000

Question ID : 98958012221
Status : Answered
Chosen Option : 3

Q.1 11.28 m² के क्षेत्र को रंगने के लिए एक डिब्बे में पर्याप्त रंग है। इस डिब्बे से 30 cm x 25 cm x 12 cm के आयाम वाले कितने बक्खों को रंगा जा सकता है?

- Ans
- ✗ 1. 12
- ✗ 2. 32
- ✓ 3. 40
- ✗ 4. 24

Question ID : 98958012234
Status : Not Answered
Chosen Option : --

Q.1 दिया गया वृत्त-चार्ट (pie-chart), A द्वारा 6 मैच में स्कोर किए गए रनों को दर्शाता है।



दिए गए वृत्त-चार्ट (pie-chart) में, यदि A ने मैच 4 तथा मैच 6 में शतक बनाया होता तो उसके औसत स्कोर कितने होते?

- Ans
- ✗ 1. 91.2
- ✓ 2. 89.7
- ✗ 3. 84.5
- ✗ 4. 93.4

Question ID : 98958012254
Status : Answered
Chosen Option : 4

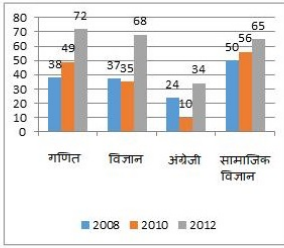
Q.1 ABCD एक चक्रीय चतुर्भुज है जिसमें AB इस पर बने वृत्त का एक व्यास है और कोण ADC = 142° है तो कोण BAC बराबर है:

- Ans
- ✗ 1. 50°
- ✗ 2. 40°
- ✗ 3. 60°
- ✓ 4. 52°

Question ID : 98958012241
Status : Answered
Chosen Option : 4

Q.1
37

दिया गया दंड-चार्ट (bar-chart), तीन वर्षों में एक विद्यार्थी द्वारा प्रत्येक विषय में प्राप्त किए गए अंको को दर्शाता है:



दिए गए दंड-चार्ट (bar-chart) में, वर्ष 2010 में किस विषय में सबसे कम अंक प्राप्त हुए?

- Ans
- 1. सामाजिक विज्ञान
 - 2. अंग्रेजी
 - 3. विज्ञान
 - 4. गणित

Question ID : 98958012249

Status : Answered

Chosen Option : 2

Q.1 A, B और C एक बिंदु से एक साथ चलना शुरू करते हैं। उनके कदम क्रमशः 42 cm, 56 cm और 64 cm हैं।
38 वे न्यूनतम कितनी दूरी तय करे ताकि प्रत्येक के कदमों की संख्या पूर्णांक हो?

- Ans
- 1. 15.60 m
 - 2. 14.06 m
 - 3. 14.58 m
 - 4. 13.44 m

Question ID : 98958012211

Status : Not Answered

Chosen Option : --

Q.1 दो संख्याओं के म. स. (HCF) और ल. स. (LCM) का गुणनफल 3321 है। यदि संख्याओं में से एक 369 है, तो
39 संख्याओं का म. स. (HCF) है:

- Ans
- 1. 27
 - 2. 3
 - 3. 21
 - 4. 9

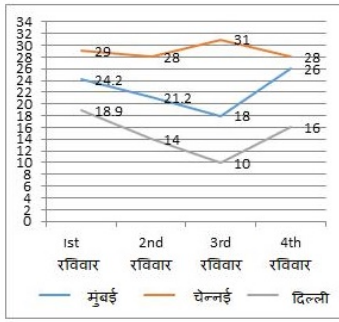
Question ID : 98958012210

Status : Answered

Chosen Option : 4

Q.1
40

रेखा-चित्र (line graph), तीन शहरों के चार रविवार के तापमान को दर्शाता है।



दिए गए रेखा-चित्र (line graph) में, तीसरे रविवार को सभी तीन शहरों में औसत तापमान क्या था?

(प्रथम दशमलव में पूर्णांकित)

- Ans
- 1. 24
 - 2. 25.4
 - 3. 19.7
 - 4. 23

Question ID : 98958012256
Status : Not Answered
Chosen Option : --

Q.1 यदि $a^3 - b^3 = 208$ तथा $a - b = 8$, तो $(a + b)^2 - ab$ बराबर है:

- Ans
- 1. 42
 - 2. 52
 - 3. 26
 - 4. 38

Question ID : 98958012240
Status : Not Answered
Chosen Option : --

Q.1 A और B एक काम को 30 दिनों में पूरा कर सकते हैं। B और C उसी काम को 24 दिनों में पूरा कर सकते हैं और A और C मिलकर उसी काम को 40 दिनों में पूरा कर सकते हैं। यदि तीनों एक साथ काम करते हैं, तो उन्हें काम पूरा करने में कितना समय लगेगा?

- Ans
- 1. 10 दिन
 - 2. 20 दिन
 - 3. 5 दिन
 - 4. 15 दिन

Question ID : 98958012228
Status : Not Answered
Chosen Option : --

Q.1 यदि $x - \frac{1}{x} = 3\sqrt{2}$ है, तो $x^2 + \frac{1}{x^2}$ बराबर है:

Ans

1. 56
 2. 52
 3. 20
 4. 46

Question ID : 98958012239
 Status : Not Answered
 Chosen Option : --

Q.1 A, ने ₹54.50/kg की दर से 38 kg चावल, ₹62/kg की दर से 45 kg चावल और ₹48/kg की दर से 55 kg चावल खरीदे। उसने चावलों के मिश्रण को ₹65/kg की दर से बेच दिया। उसके लाभ अथवा हानि का प्रतिशत है:

- Ans
1. 1.7 हानि
 2. 16.8 लाभ
 3. 1.04 हानि
 4. 19.6 लाभ

Question ID : 98958012222
 Status : Not Answered
 Chosen Option : --

Q.1 एक समानांतर चतुर्भुज का क्षेत्रफल 338 m² है। यदि इसकी ऊंचाई संगत आधार से दुगनी है तो इसका आधार है:

- Ans
1. 14
 2. 28
 3. 13
 4. 26

Question ID : 98958012237
 Status : Not Answered
 Chosen Option : --

Q.1 यदि 4 कुर्सियों का लागत मूल्य 3 कुर्सियों के विक्रय मूल्य के समान है, तो लाभ अथवा हानि % (प्रतिशत) है:

- Ans
1. $16\frac{2}{3}\%$
 2. $33\frac{1}{3}\%$
 3. 20%
 4. 25%

Question ID : 98958012218
 Status : Not Answered
 Chosen Option : --

Q.1 एक घन का सतह क्षेत्रफल 1176 cm² है, तो इसके आयतन का मान है:

- Ans
1. 3486 cm³

2. 3964 cm^3

3. 2744 cm^2

4. 3206 cm^3

Question ID : **98958012236**

Status : **Not Answered**

Chosen Option : --

Q.1 एक समद्विबाहु त्रिभुज का आधार 6 cm है और इसकी परिधि 16 cm है। इसका क्षेत्रफल है:

48

Ans 1. 11 cm^2

2. 10 cm^2

3. 12 cm^2

4. 9 cm^2

Question ID : **98958012243**

Status : **Not Answered**

Chosen Option : --

Q.1 एक कक्षा के 12 छात्रों की औसत ऊँचाई 132.5 cm है। यदि एक और छात्र जुड़ता है, तो औसत ऊँचाई 131.2 cm हो जाती है, नए छात्र की ऊँचाई है:

49

Ans 1. 128.5 cm

2. 112.7 cm

3. 122.3 cm

4. 115.6 cm

Question ID : **98958012216**

Status : **Not Answered**

Chosen Option : --

Q.1 एक संख्या को 38 से विभाजित करने पर भागफल 24 और शेषफल 13 प्राप्त होते हैं, तो संख्या है:

50

Ans 1. 925

2. 956

3. 975

4. 904

Question ID : **98958012214**

Status : **Not Answered**

Chosen Option : --

Q.1 Select the most appropriate word for the given group of words.

51

to send back a criminal or an unwanted person to the country of his/her origin.

Ans 1. exile

2. export

3. excavate 4. extradite

Question ID : 98958011592

Status : Answered

Chosen Option : 3

Q.1
52 Select the antonym of the given word.

THREATEN

Ans 1. coax 2. criticize 3. compete 4. commend

Question ID : 98958011580

Status : Answered

Chosen Option : 4

Q.1
53 Select the synonym of the given word.

ENIGMATIC

Ans 1. resolute 2. purgative 3. mysterious 4. inquisitive

Question ID : 98958011574

Status : Answered

Chosen Option : 3

Q.1
54 Select the antonym of the given word.

RECOVERED

Ans 1. last 2. latest 3. leased 4. lost

Question ID : 98958011578

Status : Answered

Chosen Option : 4

Q.1
55 Select the most appropriate option to substitute the underlined segment in the given sentence. If there is no need to substitute it, select No substitution required.

I sometimes pass a delivery man wheeling a large handcart of Japanese food. The cart bears a striking message:
'Creating a world where everyone believes in their own authenticity.'

Ans

1.

Been created a world where everyone believes in their own authenticity

 2.

Created a world where everyone believes in their own authenticity

 3.

Creating a world whereas everyone believes in their own authenticity

 4. No substitution required

Question ID : 98958011558

Status : Answered

Chosen Option : 4

Q.1
56 Select the synonym of the given word.

EXASPERATING

Ans 1. frustrating 2. exalting 3. saddening 4. exhausting

Question ID : 98958011577

Status : Answered

Chosen Option : 4

Q.1
57 Select the most appropriate meaning of the given idiom.

be the Devil's advocate

Ans 1. to present a counter argument just for the sake of it 2. to present an argument in favor of a well-known evil man 3. to represent the devil as an advocate in witch trials 4. to represent an accused in a murder trial

Question ID : 98958011585

Status : Answered

Chosen Option : 2

Comprehension:

Read the following passage and answer the questions given after it.

Sedentary lifestyles are killing us – we need to build activity into our everyday lives, not just leave it for the gym. Google searches relating to physical fitness peak in January. Many people even trawl the web to find out about “desk exercises” and “workouts on the go” in case they are too busy to use their new gym memberships.

Our relationship with exercise is complicated. Reports from the UK and the US show it is something we persistently struggle with. As the new year rolls around, we anticipate having the drive to behave differently and become regular exercisers, even in the knowledge that we will probably fail to do so. Why do we want to exercise? What do we expect it to do for us? We all know we are supposed to be exercising, but hundreds of millions of us can’t face actually doing it. It is just possible that the problem lies at the heart of the idea of exercise itself.

Exercise is movement of the muscles and limbs for a specific outcome, usually to enhance physical fitness. As such, for most of us, it is an optional addition to the working day – yet another item on a long list of responsibilities alongside the fulfilment of parental duties or earning money to put food on the table. But because the principal beneficiaries of exercises are we ourselves, it is one of the easiest chores to shirk. At the end of the working day, millions of us prefer to indulge in sedentary leisure activities instead of what we all think is good for us: a workout.

Fitness crazes are like diets: if any of them worked, there wouldn’t be so many. *CrossFit*, the intensely physical, communal workout incorporating free weights, squats, pull-ups and so forth, is still less than 20 years old. Spin classes – vigorous group workouts on stationary bikes – have only been around for about 30. Aerobics was a craze about a decade before that, although many of its high-energy routines had already been around for a while. Before that, there was the jogging revolution, which began in the US in the early 1960s. *The Joggers Manual*, published in 1963 by the Oregon Heart Foundation, was a leaflet of about 200 words that sought to address the postwar panic about sedentary lifestyles by encouraging an accessible form of physical activity, explaining that “jogging is a bit more than a walk”. The jogging boom took a few years to get traction, hitting its stride in the mid- to late-80s, but it remains one of the most popular forms of exercise, now also in groups.

The exercise craze that dominated the 1950s was, oddly, not even an exercise. The vibrating exercise belt promised users could achieve effortless weight loss by having their midribs violently jiggled. It didn’t work, but you can still find similar machines available for purchase today.

SubQuestion No : 158

Q.1
58 Why do most people make exercise their last priority?

Ans

- ✓ 1. The main beneficiaries of exercise are people themselves.
- ✗ 2. It is an added responsibility besides looking after the family.
- ✗ 3. They prefer to indulge in sedentary leisure activities.
- ✗ 4. It does not help in earning their livelihood.

Question ID : 98958011599

Status : Answered

Chosen Option : 2

Comprehension:

Read the following passage and answer the questions given after it.

Sedentary lifestyles are killing us – we need to build activity into our everyday lives, not just leave it for the gym. Google searches relating to physical fitness peak in January. Many people even trawl the web to find out about “desk exercises” and “workouts on the go” in case they are too busy to use their new gym memberships.

Our relationship with exercise is complicated. Reports from the UK and the US show it is something we persistently struggle with. As the new year rolls around, we anticipate having the drive to behave differently and become regular exercisers, even in the knowledge that we will probably fail to do so. Why do we want to exercise? What do we expect it to do for us? We all know we are supposed to be exercising, but hundreds of millions of us can’t face actually doing it. It is just possible that the problem lies at the heart of the idea of exercise itself.

Exercise is movement of the muscles and limbs for a specific outcome, usually to enhance physical fitness. As such, for most of us, it is an optional addition to the working day – yet another item on a long list of responsibilities alongside the fulfilment of parental duties or earning money to put food on the table. But because the principal beneficiaries of exercises are we ourselves, it is one of the easiest chores to shirk. At the end of the working day, millions of us prefer to indulge in sedentary leisure activities instead of what we all think is good for us: a workout.

Fitness crazes are like diets: if any of them worked, there wouldn’t be so many. *CrossFit*, the intensely physical, communal workout incorporating free weights, squats, pull-ups and so forth, is still less than 20 years old. Spin classes – vigorous group workouts on stationary bikes – have only been around for about 30. Aerobics was a craze about a decade before that, although many of its high-energy routines had already been around for a while. Before that, there was the jogging revolution, which began in the US in the early 1960s. *The Joggers Manual*, published in 1963 by the Oregon Heart Foundation, was a leaflet of about 200 words that sought to address the postwar panic about sedentary lifestyles by encouraging an accessible form of physical activity, explaining that “jogging is a bit more than a walk”. The jogging boom took a few years to get traction, hitting its stride in the mid- to late-80s, but it remains one of the most popular forms of exercise, now also in groups.

The exercise craze that dominated the 1950s was, oddly, not even an exercise. The vibrating exercise belt promised users could achieve effortless weight loss by having their midribs violently jiggled. It didn’t work, but you can still find similar machines available for purchase today.

SubQuestion No : 159

Q.1
59 Which of the following does not classify as an exercise?

- Ans
1. Workouts on stationary bikes
 2. Using midriff vibrating belt
 3. Squats and pull-ups
 4. High-energy Aerobics routines

Question ID : **98958011600**
Status : **Answered**
Chosen Option : **2**

Comprehension:



Read the following passage and answer the questions given after it.

Sedentary lifestyles are killing us – we need to build activity into our everyday lives, not just leave it for the gym. Google searches relating to physical fitness peak in January. Many people even trawl the web to find out about “desk exercises” and “workouts on the go” in case they are too busy to use their new gym memberships.

Our relationship with exercise is complicated. Reports from the UK and the US show it is something we persistently struggle with. As the new year rolls around, we anticipate having the drive to behave differently and become regular exercisers, even in the knowledge that we will probably fail to do so. Why do we want to exercise? What do we expect it to do for us? We all know we are supposed to be exercising, but hundreds of millions of us can’t face actually doing it. It is just possible that the problem lies at the heart of the idea of exercise itself.

Exercise is movement of the muscles and limbs for a specific outcome, usually to enhance physical fitness. As such, for most of us, it is an optional addition to the working day – yet another item on a long list of responsibilities alongside the fulfilment of parental duties or earning money to put food on the table. But because the principal beneficiaries of exercises are we ourselves, it is one of the easiest chores to shirk. At the end of the working day, millions of us prefer to indulge in sedentary leisure activities instead of what we all think is good for us: a workout.

Fitness crazes are like diets: if any of them worked, there wouldn’t be so many. *CrossFit*, the intensely physical, communal workout incorporating free weights, squats, pull-ups and so forth, is still less than 20 years old. Spin classes – vigorous group workouts on stationary bikes – have only been around for about 30. Aerobics was a craze about a decade before that, although many of its high-energy routines had already been around for a while. Before that, there was the jogging revolution, which began in the US in the early 1960s. *The Joggers Manual*, published in 1963 by the Oregon Heart Foundation, was a leaflet of about 200 words that sought to address the postwar panic about sedentary lifestyles by encouraging an accessible form of physical activity, explaining that “jogging is a bit more than a walk”. The jogging boom took a few years to get traction, hitting its stride in the mid- to late-80s, but it remains one of the most popular forms of exercise, now also in groups.

The exercise craze that dominated the 1950s was, oddly, not even an exercise. The vibrating exercise belt promised users could achieve effortless weight loss by having their midribs violently jiggled. It didn’t work, but you can still find similar machines available for purchase today.

SubQuestion No : 160

Q.1
60 Why do Google searches related to physical fitness peak in January?

Ans

1. It is a common new year resolution.
2. The cold weather encourages people to exercise.
3. It is the time to renew gym membership.
4. In the new year people want to look slim and trim.

Question ID : **98958011601**Status : **Answered**Chosen Option : **3**

Comprehension:



Read the following passage and answer the questions given after it.

Sedentary lifestyles are killing us – we need to build activity into our everyday lives, not just leave it for the gym. Google searches relating to physical fitness peak in January. Many people even trawl the web to find out about “desk exercises” and “workouts on the go” in case they are too busy to use their new gym memberships.

Our relationship with exercise is complicated. Reports from the UK and the US show it is something we persistently struggle with. As the new year rolls around, we anticipate having the drive to behave differently and become regular exercisers, even in the knowledge that we will probably fail to do so. Why do we want to exercise? What do we expect it to do for us? We all know we are supposed to be exercising, but hundreds of millions of us can’t face actually doing it. It is just possible that the problem lies at the heart of the idea of exercise itself.

Exercise is movement of the muscles and limbs for a specific outcome, usually to enhance physical fitness. As such, for most of us, it is an optional addition to the working day – yet another item on a long list of responsibilities alongside the fulfilment of parental duties or earning money to put food on the table. But because the principal beneficiaries of exercises are we ourselves, it is one of the easiest chores to shirk. At the end of the working day, millions of us prefer to indulge in sedentary leisure activities instead of what we all think is good for us: a workout.

Fitness crazes are like diets: if any of them worked, there wouldn’t be so many. *CrossFit*, the intensely physical, communal workout incorporating free weights, squats, pull-ups and so forth, is still less than 20 years old. Spin classes – vigorous group workouts on stationary bikes – have only been around for about 30. Aerobics was a craze about a decade before that, although many of its high-energy routines had already been around for a while. Before that, there was the jogging revolution, which began in the US in the early 1960s. *The Joggers Manual*, published in 1963 by the Oregon Heart Foundation, was a leaflet of about 200 words that sought to address the postwar panic about sedentary lifestyles by encouraging an accessible form of physical activity, explaining that “jogging is a bit more than a walk”. The jogging boom took a few years to get traction, hitting its stride in the mid- to late-80s, but it remains one of the most popular forms of exercise, now also in groups.

The exercise craze that dominated the 1950s was, oddly, not even an exercise. The vibrating exercise belt promised users could achieve effortless weight loss by having their midribs violently jiggled. It didn’t work, but you can still find similar machines available for purchase today.

SubQuestion No : 161

Q.1
61

The sentence – “Exercise is movement of the muscles and limbs for a specific outcome, usually to enhance physical fitness”

- Ans
- 1. devalues exercise
 - 2. defends exercise
 - 3. describes exercise
 - 4. defines exercise

Question ID : 98958011602

Status : Answered

Chosen Option : 4

Comprehension:

Read the following passage and answer the questions given after it.

Sedentary lifestyles are killing us – we need to build activity into our everyday lives, not just leave it for the gym. Google searches relating to physical fitness peak in January. Many people even trawl the web to find out about “desk exercises” and “workouts on the go” in case they are too busy to use their new gym memberships.

Our relationship with exercise is complicated. Reports from the UK and the US show it is something we persistently struggle with. As the new year rolls around, we anticipate having the drive to behave differently and become regular exercisers, even in the knowledge that we will probably fail to do so. Why do we want to exercise? What do we expect it to do for us? We all know we are supposed to be exercising, but hundreds of millions of us can’t face actually doing it. It is just possible that the problem lies at the heart of the idea of exercise itself.

Exercise is movement of the muscles and limbs for a specific outcome, usually to enhance physical fitness. As such, for most of us, it is an optional addition to the working day – yet another item on a long list of responsibilities alongside the fulfilment of parental duties or earning money to put food on the table. But because the principal beneficiaries of exercises are we ourselves, it is one of the easiest chores to shirk. At the end of the working day, millions of us prefer to indulge in sedentary leisure activities instead of what we all think is good for us: a workout.

Fitness crazes are like diets: if any of them worked, there wouldn’t be so many. *CrossFit*, the intensely physical, communal workout incorporating free weights, squats, pull-ups and so forth, is still less than 20 years old. Spin classes – vigorous group workouts on stationary bikes – have only been around for about 30. Aerobics was a craze about a decade before that, although many of its high-energy routines had already been around for a while. Before that, there was the jogging revolution, which began in the US in the early 1960s. *The Joggers Manual*, published in 1963 by the Oregon Heart Foundation, was a leaflet of about 200 words that sought to address the postwar panic about sedentary lifestyles by encouraging an accessible form of physical activity, explaining that “jogging is a bit more than a walk”. The jogging boom took a few years to get traction, hitting its stride in the mid- to late-80s, but it remains one of the most popular forms of exercise, now also in groups.

The exercise craze that dominated the 1950s was, oddly, not even an exercise. The vibrating exercise belt promised users could achieve effortless weight loss by having their midribs violently jiggled. It didn’t work, but you can still find similar machines available for purchase today.

SubQuestion No : 162

Q.1
62

Which expression means the same as 'an intense and widely shared enthusiasm for something, especially one that is short-lived; a craze.'

- Ans
- 1. Fad
 - 2. Phase
 - 3. Obsession
 - 4. Mania

Question ID : 98958011603
Status : Answered
Chosen Option : 4

Q.1 Select the most appropriate option to substitute the underlined segment in the given sentence. If there is no need to substitute it, select No substitution required.

63

A simple life of freedom and happiness is one of the more difficult thing to achieve.

- Ans
- 1. one of the most difficult things to achieve.
 - 2. one of the most difficult thing to achieve.
 - 3. No substitution required
 - 4. one of the more difficult things to achieve.

Question ID : 98958011559
Status : Answered
Chosen Option : 1

Q.1 Select the most appropriate option to substitute the underlined segment in the given sentence. If there is no need to substitute it, select No substitution required.

64

We really need to look at interventions who focus in long-term weight management that can achieve sustained weight loss at the recommended one to two pounds per week.

- Ans
- 1. whom focus on long-term
 - 2. that focus on long-term
 - 3. that focus with long-term
 - 4. No substitution required

Question ID : 98958011561
Status : Answered
Chosen Option : 2

Q.1 Identify the segment in the sentence, which contains the grammatical error.

65

To be interested in the changing seasons is a happy state of mind than to be hopelessly in love with spring.

- Ans
- 1. a happy state of mind
 - 2. hopelessly in love with spring
 - 3. To be interested
 - 4. in the changing seasons

Question ID : 98958011555
Status : Answered

Chosen Option : 4

Q.1 Identify the segment in the sentence, which contains the grammatical error.

66

In 2016, after some unseemly back-and-forth to the Commons and Lords, it was decided that Acts of Parliament should no longer be printed on calfskin.

Ans

- 1. to the Commons and Lords
- 2. should no longer be printed on calfskin
- 3. after some unseemly back-and-forth
- 4. it was decided

Question ID : 98958011552

Status : Answered

Chosen Option : 3

Q.1 Select the wrongly spelt word.

67

Ans

- 1. frenzied
- 2. fractional
- 3. furios
- 4. freeze

Question ID : 98958011596

Status : Answered

Chosen Option : 3

Q.1 Select the most appropriate word for the given group of words.

68

an arrangement of flowers that is usually given as a present

Ans

- 1. bouquet
- 2. bunch
- 3. wreath
- 4. cluster

Question ID : 98958011590

Status : Answered

Chosen Option : 3

Q.1 Select the most appropriate words to fill in the blanks.

69

Even on an overcast winter's day, it is at least 10 times _____ outside than in a standard office. By _____ to work and getting outdoors at lunchtime, we can begin to reconnect with the light.

Ans

- 1. brighter; walking
- 2. brightest; walking
- 3. brighter; walk
- 4. bright; walk

Question ID : 98958011564

Status : Answered

Chosen Option : 1

Q.1
70 Select the wrongly spelt word.

- Ans
- 1. expenditure
 - 2. exscitement
 - 3. eccentricity
 - 4. exclamation

Question ID : 98958011594

Status : Answered

Chosen Option : 2

Q.1
71 Select the most appropriate option to substitute the underlined segment in the given sentence. If there is no need to substitute it, select No substitution required.

Just as technology has changed the way we shop, book a taxi, hold business meetings, and even find a parking spot, so too is it transforming the way we accessed healthcare, wherever we are in the world.

- Ans
- 1. so too was it transforming the way we accessed healthcare
 - 2. so too had it transformed the way we access healthcare
 - 3. so too is it transforming the way we access healthcare
 - 4. No substitution required

Question ID : 98958011560

Status : Answered

Chosen Option : 3

Q.1
72 Select the most appropriate meaning of the given idiom.

put one's cards on the table

- Ans
- 1. to be able to continue
 - 2. to deal a game of cards
 - 3. to be honest
 - 4. to accept defeat

Question ID : 98958011584

Status : Answered

Chosen Option : 4

Q.1
73 Select the most appropriate meaning of the given idiom.

It's Greek to me

- Ans
- 1. incomprehensible
 - 2. intangible
 - 3. inevitable
 - 4. incredible

Question ID : 98958011586

Status : Answered

Chosen Option : 1

Q.1 Select the antonym of the given word.

74

RESTRICTED

- Ans
- 1. unbounded
 - 2. barred
 - 3. unmanned
 - 4. banned

Question ID : 98958011579

Status : Answered

Chosen Option : 1

Q.1 Select the most appropriate words to fill in the blanks.

75

For years Indians looking for meaty _____ have been stuck with the _____ soya nuggets.

- Ans
- 1. Substitutes: regional
 - 2. substitutes; ubiquitous
 - 3. alternates; global
 - 4. alternative; zonal

Question ID : 98958011565

Status : Answered

Chosen Option : 1

Q.1 Select the synonym of the given word.

76

LYRICAL

- Ans
- 1. musical
 - 2. overwhelming
 - 3. brilliant
 - 4. prosaic

Question ID : 98958011573

Status : Answered

Chosen Option : 1

Q.1 Select the synonym of the given word.

77

CONTRAVENE

- Ans
- 1. brake
 - 2. broach
 - 3. breach

4. flaunt

Question ID : 98958011576

Status : Answered

Chosen Option : 2

Q.1 Select the most appropriate option to substitute the underlined segment in the given sentence. If there is no need to substitute it, select No substitution required.

78

It makes no difference to overall health whether you lose weight slow or quick, according to new research by York University.

Ans 1. whether you lose weight slowly or quickly

2. whether you lose weight slowly or quick

3. whether you lose weight slow or quickly

4. No substitution required

Question ID : 98958011557

Status : Answered

Chosen Option : 1

Q.1 Select the most appropriate word for the given group of words.

79

a table or flat surface where offerings are made to a deity

Ans 1. pew

2. sanctorum

3. stone

4. altar

Question ID : 98958011588

Status : Answered

Chosen Option : 4

Q.1 Select the antonym of the given word.

80

COMPROMISE

Ans 1. treaty

2. dissent

3. agreement

4. disturbance

Question ID : 98958011582

Status : Answered

Chosen Option : 2

Q.1 Select the most appropriate meaning of the given idiom.

81

to give someone the cold shoulder

Ans 1. deny someone comforting clothes

- 2. ignore or show indifference
- 3. serve cold meat to someone
- 4. bury someone in freezing cold

Question ID : **98958011587**
 Status : **Answered**
 Chosen Option : 2

Q.1 Select the most appropriate word for the given group of words.

82

a person who has an unnatural anxiety about one's own health typically involving imagined symptoms of illness.

- Ans**
- 1. nymphomaniac
 - 2. psychotic
 - 3. neurotic
 - 4. hypochondriac

Question ID : **98958011591**
 Status : **Answered**
 Chosen Option : 4

Q.1 Select the most appropriate word for the given group of words.

83

a person who advocates complete political or social change

- Ans**
- 1. radical
 - 2. leader
 - 3. fanatic
 - 4. hero

Question ID : **98958011589**
 Status : **Answered**
 Chosen Option : 3

Q.1 Select the most appropriate words to fill in the blanks.

84

People from _____ societies go to bed and wake up several hours earlier than people in _____ countries do and seem to sleep better than the _____.

- Ans**
- 1. traditional; developed; latter
 - 2. traditional; developed; later
 - 3. modern; undeveloped; later
 - 4. modern ; developed; latter

Question ID : **98958011562**
 Status : **Answered**
 Chosen Option : 1

Q.1 Select the most appropriate words to fill in the blanks.

85

At the back of the eye there are light-sensitive _____ which connect to a small patch of brain tissue. They also _____ to areas of the brain that _____ mood and alertness.

- Ans
- 1. cells; link; adjust
 - 2. cells; join; adjust
 - 3. cells; link; regulate
 - 4. muscle; link; regulate

Question ID : 98958011563
Status : Answered
Chosen Option : 3

Q.1 Identify the segment in the sentence, which contains the grammatical error.

86

It seems that authors' creativity is not restrict to their work and happily overflows into their names too.

- Ans
- 1. happily overflows
 - 2. authors' creativity
 - 3. into their names too
 - 4. restrict to their work

Question ID : 98958011554
Status : Answered
Chosen Option : 1

Q.1 Select the wrongly spelt word.

87

- Ans
- 1. ecstatic
 - 2. extensive
 - 3. extortion
 - 4. existensial

Question ID : 98958011597
Status : Answered
Chosen Option : 4

Q.1 Select the wrongly spelt word.

88

- Ans
- 1. admiration
 - 2. adreneline
 - 3. adroit
 - 4. administration

Question ID : 98958011593
Status : Answered
Chosen Option : 2

Q.1 Select the antonym of the given word.

89

PERPETRATE

- Ans
- 1. commit

- 2. perpetuate
- 3. react
- 4. prevent

Question ID : 98958011581
Status : Answered
Chosen Option : 4

Q.1
90 Select the most appropriate meaning of the given idiom.

get a taste of your own medicine

- Ans
- 1. make, taste and take medicines for others
 - 2. be treated by the same doctor
 - 3. be given the medicine meant for others
 - 4. be given the same treatment that you have given to others

Question ID : 98958011583
Status : Answered
Chosen Option : 4

Comprehension:

In the following passage some words have been deleted. Fill in the blanks with the help of the alternatives given. Select the most appropriate option for each number.

A massive fire in Chennai destroyed 184 cars (1) _____ to a private cab aggregator. (2) _____ blaze is suspected to have been triggered (3) _____ tall dried grass caught fire from a discarded (4) _____ cigarette butt, said a rescue services (5) _____.

SubQuestion No : 191

Q.1
91 Select the most appropriate option to fill in blank
No.1.

- Ans
- 1. belonged
 - 2. belonging
 - 3. belongs
 - 4. were belonging

Question ID : 98958011568
Status : Answered
Chosen Option : 2

Comprehension:

In the following passage some words have been deleted. Fill in the blanks with the help of the alternatives given. Select the most appropriate option for each number.

A massive fire in Chennai destroyed 184 cars (1) _____ to a private cab aggregator. (2) _____ blaze is suspected to have been triggered (3) _____ tall dried grass caught fire from a discarded (4) _____ cigarette butt, said a rescue services (5) _____.

SubQuestion No : 192

Q.1
92 Select the most appropriate option to fill in blank
No.2.

- Ans
- 1. Some
 - 2. The
 - 3. A
 - 4. One

Question ID : 98958011569
Status : Answered
Chosen Option : 2

Comprehension:

In the following passage some words have been deleted. Fill in the blanks with the help of the alternatives given. Select the most appropriate option for each number.

A massive fire in Chennai destroyed 184 cars (1) _____ to a private cab aggregator. (2) _____ blaze is suspected to have been triggered (3) _____ tall dried grass caught fire from a discarded (4) _____ cigarette butt, said a rescue services (5) _____.

SubQuestion No : 193

Q.1
93 Select the most appropriate option to fill in blank
No.3.

- Ans
- 1. until
 - 2. of
 - 3. after
 - 4. by

Question ID : 98958011570
Status : Answered
Chosen Option : 4

Comprehension:

In the following passage some words have been deleted. Fill in the blanks with the help of the alternatives given. Select the most appropriate option for each number.

A massive fire in Chennai destroyed 184 cars (1) _____ to a private cab aggregator. (2) _____ blaze is suspected to have been triggered (3) _____ tall dried grass caught fire from a discarded (4) _____ cigarette butt, said a rescue services (5) _____.

SubQuestion No : 194

Q.1
94 Select the most appropriate option to fill in blank
No.4.

- Ans
- 1. lighting
 - 2. smouldering
 - 3. firing
 - 4. smoking

Question ID : 98958011571
Status : Answered
Chosen Option : 1

Comprehension:

In the following passage some words have been deleted. Fill in the blanks with the help of the alternatives given. Select the most appropriate option for each number.

A massive fire in Chennai destroyed 184 cars (1) _____ to a private cab aggregator. (2) _____ blaze is suspected to have been triggered (3) _____ tall dried grass caught fire from a discarded (4) _____ cigarette butt, said a rescue services (5) _____.

SubQuestion No : 195

Q.1
95 Select the most appropriate option to fill in blank
No.5.

- Ans
- 1. culprit
 - 2. victim
 - 3. special
 - 4. official

Question ID : 98958011572
Status : Answered
Chosen Option : 4

Q.1
96 Select the synonym of the given word.

MEMOIR

- Ans
- 1. anecdote
 - 2. story

3. diary
4. episode

Question ID : **98958011575**
 Status : **Answered**
 Chosen Option : **3**

Q.1 Identify the segment in the sentence, which contains the grammatical error.

97

Though paper has been the dominant medium for print, the British parliament had managed valiantly to hold back the paper tide for over half a millennium.

- Ans 1. the dominant medium for print
2. Though paper has been
3. to hold back the paper tide
4. Parliament had managed

Question ID : **98958011553**
 Status : **Answered**
 Chosen Option : **4**

Q.1 Select the most appropriate words to fill in the blanks.

98

Telemedicine is the delivery of clinical services across _____ and IT devices. It's a subset of a wider _____ care originally developed for doctors to be able to _____ patients living in rural and remote areas.

- Ans 1. telephones; actual; discharge
2. telecom; visual; admit
3. telecoms; virtual; treat
4. telephone; virtual; diagnose

Question ID : **98958011566**
 Status : **Answered**
 Chosen Option : **2**

Q.1 Identify the segment in the sentence, which contains the grammatical error.

99

The Natural History of Selborne, records the importance of the earthworm to soil and describe an England unspoiled by the Industrial Revolution.


- Ans 1. describe an England
2. of the earthworm to soil
3. records the importance
4. unspoiled by the Industrial Revolution


Question ID : **98958011556**
 Status : **Not Answered**
 Chosen Option : **--**

Q.2 Select the wrongly spelt word.

00

- Ans 1. indigenous
2. engraving

 3. ingratitude

 4. ingredeints

Question ID : **98958011595**

Status : **Answered**

Chosen Option : **1**

