

Exam Date	26/11/2021
Exam Time :	9:00 AM - 10:30 AM
Subject	Constable GD 2021

Section : Part A General Intelligence and Reasoning

Q.1 Study the given pattern carefully and select the number that can replace the question mark (?) in it.

9 12 13
42 98 ?
39 46 80

- Ans
- 1. 93
 - 2. 99
 - 3. 140
 - 4. 89

Question ID : 65497834961
Status : Answered
Chosen Option : 4

Q.2 Select the number from among the given options that can replace the question mark (?) in the following series.

2, 4, 16, 256, ?

- Ans
- 1. 65336
 - 2. 65536
 - 3. 65000
 - 4. 65500

Question ID : 65497834945
Status : Answered
Chosen Option : 2

Q.3 Read the given statements and conclusions carefully. Assuming that the information given in the statements is true, even if it appears to be at variance with commonly known facts, decide which of the given conclusions logically follow(s) from the statements.

Statements:
Some kites are flights.
All flights are zeppelins.

Conclusions:
1. Some kites are zeppelins.
2. All zeppelins are flights.

- Ans
- 1. Both the conclusions follow
 - 2. None of the conclusions follow
 - 3. Only conclusion 1 follows
 - 4. Only conclusion 2 follows

Question ID : 65497834960
Status : Answered
Chosen Option : 3

Q.4 Select the option that is related to the third word in the same way as the second word is related to the first word.

Leaves : Chlorophyll :: Blood : ?

- Ans
- 1. White blood cells
 - 2. Platelets
 - 3. Plasma
 - 4. Haemoglobin

Question ID : 65497834965

Status : Answered

Chosen Option : 4

Q.5 Six friends, Perna, Priyanka, Rahul, Vishal, Tushar and Shruti, are sitting around a circular table, facing the centre of the table. Priyanka is sitting to the immediate left of Tushar. Vishal is sitting to the immediate left of Rahul. Perna is second to the right of Vishal. Perna is sitting between Rahul and Shruti. Who is sitting between Perna and Vishal?

- Ans
- 1. Priyanka
 - 2. Rahul
 - 3. Shruti
 - 4. Tushar

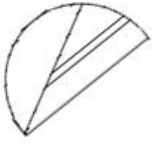
Question ID : 65497834966

Status : Answered

Chosen Option : 2

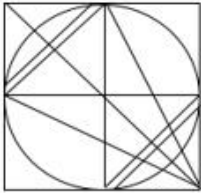
GovtJobsAlert.In

Q.6 Select the option in which the given figure is embedded (rotation is allowed).

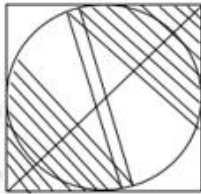


Ans

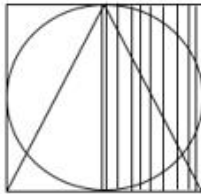
1.



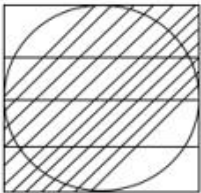
2.



3.



4.

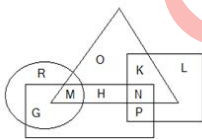


Question ID : 65497834954

Status : Answered

Chosen Option : 3

Q.7 In the following figure, the rectangle represents 'strong', the circle represents 'leather', the triangle represents 'bags', and the square represents 'red'.



Select the letter that represents leather bags which are strong but NOT red coloured.

1. G

2. M

3. K

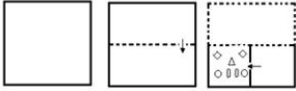
4. N

Question ID : 65497834967

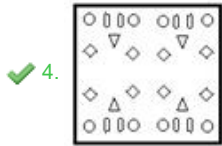
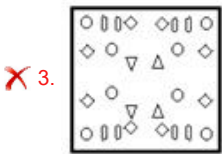
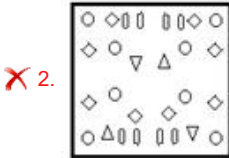
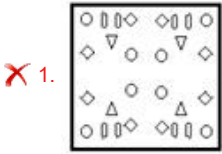
Status : Answered

Chosen Option : 2

Q.8 The sequence of folding a piece of paper and the manner in which the folded paper has been cut is shown in the following figures. How would this paper look when unfolded?



Ans



Question ID : 65497834963

Status : Answered

Chosen Option : 4

Q.9 निमेश, मेघना का एकलौता भाई है। सुरभि, निमेश की बेटी है। मेघना और नेहा बहनें हैं। मणि, करण का बेटा है, जो कि मेघना का पति है। मणि का सुरभि से क्या संबंध है?

Ans

1. पिता
 2. मामा
 3. चाचा
 4. फुफेरा भाई

Question ID : 65497834949

Status : Answered

Chosen Option : 4

Q.10 Select the combination of letters that when sequentially placed in the blanks of the given series will complete the series.

s _ r _ k s _ _ c k _ u r c _ s u _ c _

Ans

1. c, u, c, r, s, k, r, k
 2. u, c, u, r, s, k, r, k
 3. c, u, c, s, r, k, s, k
 4. u, c, u, k, r, s, r, k

Question ID : 65497834956

Status : Answered

Chosen Option : 2

Q.11 A soap costs ₹7 and a pen costs ₹5. Rajesh spent ₹38 and purchased both the things. What was the number of soaps he purchased?

- Ans
- 1. 2
 - 2. 5
 - 3. 4
 - 4. 3

Question ID : 65497834962
Status : Answered
Chosen Option : 3

Q.12 Select the option that is related to the third number in the same way as the second number is related to the first number.

132 : 501 :: 2364 : ?

- Ans
- 1. 5073
 - 2. 4582
 - 3. 9430
 - 4. 3474

Question ID : 65497834951
Status : Answered
Chosen Option : 1

Q.13 Select the letter-cluster from among the given options that can replace the question mark (?) in the following series.

HSI, OLO, VEU, CXA, ?

- Ans
- 1. KPG
 - 2. JPF
 - 3. KQF
 - 4. JQG

Question ID : 65497834964
Status : Answered
Chosen Option : 4

Q.14 In a certain code language, TRICKY is written as CXLFQH. How will PICNIC be written in that language?

- Ans
- 1. YOFOOL
 - 2. YOFQOL
 - 3. YOEOOL
 - 4. YOEQOL

Question ID : 65497834948
Status : Answered
Chosen Option : 2

Q.15 Select the figure from among the given options that can replace the question mark (?) in the following series.

$\Delta X =$	$X = \Delta$	$= \Delta X$?
--------------	--------------	--------------	---

Ans

1. $= X \Delta$

2. $\Delta = X$

3. $\Delta X =$

4. $X \Delta =$

Question ID : 65497834958
Status : Answered
Chosen Option : 3

Q.16 Select the number from among the given options that can replace the question mark (?) in the following series.

2, 3, 4, 5, 6, 7, 8, ?, 10, 13, 12, 17, 14

- Ans
- 1. 9
 - 2. 12
 - 3. 10
 - 4. 11

Question ID : 65497834957
Status : Answered
Chosen Option : 4


Q.17 Select the correct option that indicates the arrangement of the given words in a logical and meaningful order.

- i. Ammonification
- ii. Denitrification
- iii. Nitrogen fixation
- iv. Assimilation
- v. Nitrification


- Ans
- 1. iii, v, iv, i, ii
 - 2. v, iii, i, iv, ii
 - 3. iii, v, i, iv, ii
 - 4. v, iii, iv, i, ii

Question ID : 65497834955
Status : Not Answered
Chosen Option : --

Q.18 A box is made by folding the given sheet. In the box so formed, which face will be opposite to the face having ♥ ?



Ans



Question ID : 65497834953
Status : Answered
Chosen Option : 1

Q.19 Eight persons are sitting in a circle facing the centre. Arush is sitting opposite to Rita. There are two persons sitting between Rakesh and Arush. Ankita is sitting towards the right of Arush and opposite to Urvashi. Anu is sitting between Rita and Urvashi. Ankita is sitting between Rohan and Rakesh. Aman is sitting towards the left of Rohan. Who is sitting between Arush and Urvashi?

Ans



Question ID : 65497834950
Status : Answered
Chosen Option : 3

Q.20 If the signs '+' and '-' are interchanged and the digits '2' and '4' are interchanged, then what will be the value of the following expression?

$$426 \div 648 - 312$$

Ans



Question ID : 65497834952
Status : Answered
Chosen Option : 4

Q.21 Select the correct mirror image of the given combination when the mirror is placed at PQ as shown.

GR8ZEQ |
PQ

- Ans
- 1. G8ZEQR
 - 2. Q8ZEGR
 - 3. Q8ZEGR
 - 4. Q8ZEGR

Question ID : 65497834946
Status : Answered
Chosen Option : 4

Q.22 In a certain code language, TAPE is written as EPAT and LOVE is written as EVOL. How will NITIN be written in the same language?

- Ans
- 1. TINNI
 - 2. ITNNI
 - 3. INNTI
 - 4. NITIN

Question ID : 65497834944
Status : Answered
Chosen Option : 4

Q.23 Select the option that is related to the third letter-cluster in the same way as the second letter-cluster is related to the first letter-cluster.

CGRT : DJWA :: XUKM : ?

- Ans
- 1. YXQT
 - 2. YYPT
 - 3. YXPT
 - 4. YYQT

Question ID : 65497834947
Status : Answered
Chosen Option : 3

Q.24 In a certain code language, 'the light house' is written as 'zu chi pin', 'house is big' is written as 'mo tim zu', and 'the big garden' is written as 'riz tim pin'. How will 'light' be written in that language?

- Ans
- 1. chi
 - 2. mo
 - 3. riz
 - 4. big

Question ID : 65497834959
Status : Answered
Chosen Option : 1

Q.25 Five letters have been given, out of which four are alike in some manner and one is different. Select the letter that is different.

A, D, I, P, R

- Ans
- 1. P
 - 2. D
 - 3. I
 - 4. R

Question ID : 65497834943

Status : Answered

Chosen Option : 4

Section : Part B General Knowledge and General Awareness

Q.1 _____ बैंकिंग संचालन का एक विशेष खंड है जो व्यक्तियों या सगठनों को पूंजी जुटाने और उन्हें वित्तीय परामर्श सेवाएँ प्रदान करने में मदद करता है।

- Ans
- 1. वाणिज्यिक बैंकिंग (Commercial banking)
 - 2. निवेश बैंकिंग (Investment banking)
 - 3. निगमित वित्त (Corporate finance)
 - 4. निजी इक्विटी (Private equity)

Question ID : 65497834974

Status : Answered

Chosen Option : 1

Q.2 भारतीय संविधान में निम्नलिखित में से किस संवैधानिक संशोधन अधिनियम द्वारा राष्ट्रीय राजधानी क्षेत्र दिल्ली और केंद्र शासित प्रदेश पुदुचेरी की विधानसभाओं को राष्ट्रपति चुनाव के लिए निर्वाचक मंडल में जोड़ा गया था?

- Ans
- 1. संविधान (सत्तरवा संशोधन) अधिनियम, 1992
 - 2. संविधान (चौदहवा संशोधन) अधिनियम, 1962
 - 3. संविधान (सत्रहवा संशोधन) अधिनियम, 1964
 - 4. संविधान (छिहत्तरवा संशोधन) अधिनियम, 1994

Question ID : 65497834977

Status : Not Answered

Chosen Option : --

Q.3 Who among the following is the author of the book 'Night of the Restless Spirits: Stories from 1984'?

- Ans
- 1. Khushwant Singh
 - 2. Sarbpreet Singh
 - 3. Vinay Sitapati
 - 4. Chetan Bhagat

Question ID : 65497834972

Status : Answered

Chosen Option : 2

Q.4 Dendron and axon are parts of the:

- Ans 1. excretory system
 2. digestive system
 3. muscular system
 4. nervous system

Question ID : 65497834981
Status : Not Answered
Chosen Option : --

Q.5 In which of the following states is Murlen National Park located?

- Ans 1. Tripura
 2. Nagaland
 3. Mizoram
 4. Assam

Question ID : 65497834969
Status : Answered
Chosen Option : 4

Q.6 In which year was the first cotton mill at Bombay in India set up as a spinning mill?

- Ans 1. 1852
 2. 1853
 3. 1854
 4. 1851

Question ID : 65497834984
Status : Answered
Chosen Option : 2

Q.7 शिषिर कुमार घोष ने भारतीयों में राष्ट्रीयता की भावना जगाने के उद्देश्य से 1875 में _____ की स्थापना की थी।

- Ans 1. इंडियन एसोसिएशन
 2. आर्य समाज
 3. ईस्ट इंडिया एसोसिएशन
 4. इंडिया लीग

Question ID : 65497834975
Status : Answered
Chosen Option : 3

Q.8 निम्नलिखित में से कौन सी एक सघीय सरकार की विशेषता नहीं है?

- Ans 1. सविधान की सर्वोच्चता
 2. लिखित सविधान
 3. एकसदनी विधायिका
 4. दोहरी सरकार

Question ID : 65497834989
Status : Answered
Chosen Option : 4

Q.9 Which state does the India's woman cricketer Smriti Mandhana hail from?

- Ans 1. Maharashtra
 2. Gujarat
 3. Bihar
 4. Goa

Question ID : 65497834968
Status : Answered
Chosen Option : 4

Q.10 Sports Minister Kiren Rijju has launched which edition of the Fit India School Week in January 2021?

- Ans 1. 4th
 2. 2nd
 3. 6th
 4. 1st

Question ID : 65497834973
Status : Not Answered
Chosen Option : --

Q.11 निम्नलिखित में से किस आरंभिक भारतीय लेखक को बेपुर सुल्तान के नाम से जाना जाता है, जिन्होंने मलयालम भाषा में उपन्यास लिखे?

- Ans 1. एस्के पोटैक्कट
 2. पेरुबवदम श्रीधरन
 3. वैकोम मुहम्मद बशीर
 4. एमटी वासुदेवन नायर

Question ID : 65497834987
Status : Not Answered
Chosen Option : --

Q.12 TX2 लक्ष्य, 2022 तक दुनिया में जगली _____ की सख्या को दोगुना करने के लिए एक विश्वव्यापी प्रतिबद्धता है।

- Ans 1. हाथियो
 2. शेरो
 3. तेंदुओ
 4. बाघो

Question ID : 65497834985
Status : Answered
Chosen Option : 2

Q.13 पक्की सड़को के निर्माण के लिए किस पेट्रोलियम उत्पाद का उपयोग किया जाता है?

- Ans 1. अस्फाल्ट
 2. कोल गैस
 3. कोयला
 4. कोक

Question ID : 65497834983
Status : Answered
Chosen Option : 4

Q.14 In economics, what is the full form of GNP?

- Ans
- 1. Gross Natural Produce
 - 2. Gross National Product
 - 3. Great National Produce
 - 4. Gross Natural Product

Question ID : 65497834986
Status : Answered
Chosen Option : 2

Q.15 In which of the following states is Sirohi /Shirui National Park located?

- Ans
- 1. West Bengal
 - 2. Assam
 - 3. Manipur
 - 4. Odisha

Question ID : 65497834971
Status : Answered
Chosen Option : 1

Q.16 Charminar, a popular monument and mosque, is located in:

- Ans
- 1. Delhi
 - 2. Hyderabad
 - 3. Chennai
 - 4. Mumbai

Question ID : 65497834979
Status : Answered
Chosen Option : 2

Q.17 भारत में प्रथम 'गौ कैबिनेट (cow cabinet)' की स्थापना निम्नलिखित में से किस राज्य में की गई है?

- Ans
- 1. राजस्थान
 - 2. उत्तर प्रदेश
 - 3. मध्य प्रदेश
 - 4. बिहार

Question ID : 65497834978
Status : Not Answered
Chosen Option : --

Q.18 In which of the following states is the 'International Cherry Blossom Festival' celebrated annually?

- Ans
- 1. Punjab
 - 2. Himachal Pradesh
 - 3. Meghalaya
 - 4. Uttarakhand

Question ID : 65497834970
Status : Answered
Chosen Option : 3

Q.19 _____ नदी, पीर पजाल पर्वतमाला के समानांतर उत्तर-पश्चिम दिशा में बहती है और किश्तवाड़ के पास की पर्वतमाला को काटती है।

- Ans
- 1. सतलुज
 - 2. चेनाब
 - 3. ब्यास
 - 4. रावी

Question ID : 65497834991
Status : Answered
Chosen Option : 2

Q.20 _____ स्टेडियम की एक दीवार क्रिकेटर राहुल द्रविड़ को समर्पित है।

- Ans
- 1. चिन्नास्वामी
 - 2. अरुण जेटली
 - 3. जवाहर लाल नेहरू
 - 4. वानखेड़े

Question ID : 65497834992
Status : Answered
Chosen Option : 1

Q.21 2020 में 'लोकल फॉर दीवाली' अभियान निम्नलिखित में से किस मंत्रालय द्वारा आरंभ किया गया?

- Ans
- 1. रसायन और उर्वरक मंत्रालय
 - 2. वस्त्र मंत्रालय
 - 3. कोयला मंत्रालय
 - 4. आयुष मंत्रालय

Question ID : 65497834990
Status : Answered
Chosen Option : 2

Q.22 खाज (एग्जिमा) रोग का सबध मानव शरीर के निम्न में से किस भाग से है?

- Ans
- 1. अस्थि
 - 2. आँख
 - 3. त्वचा
 - 4. फेफड़े

Question ID : 65497834980
Status : Answered
Chosen Option : 3

Q.23 भारतीय बैंक आजकल अपनी जमा राशि का _____ प्रतिशत नकदी के रूप में रखते हैं, यह नकदी उन जमाकर्ताओं को भुगतान करने के लिए रखी जाती है जो किसी भी दिन बैंक से पैसे निकालने आ सकते हैं।

- Ans
- 1. 5
 - 2. 15
 - 3. 20
 - 4. 10

Question ID : 65497834988
Status : Answered
Chosen Option : 3

Q.24 Who is the author of the book 'The Rule Breakers'?

- Ans 1. Satyarth Nayak
 2. Preeti Shenoy
 3. Bibek Debroy
 4. Amitav Ghosh

Question ID : 65497834982
Status : Not Answered
Chosen Option : --

Q.25 Which of the following events was led by Sardar Vallabhbhai Patel?

- Ans 1. Dandi March
 2. Bardoli Satyagraha
 3. Chittagong Armoury Raid
 4. Kakori Conspiracy

Question ID : 65497834976
Status : Answered
Chosen Option : 2

Section : Part C Elementary Mathematics

Q.1 A man walks 600 m in 5 minutes. His speed (in km/h) is:

- Ans 1. 5.6 km/h
 2. 7.2 km/h
 3. 3.8 km/h
 4. 4.6 km/h

Question ID : 65497835006
Status : Answered
Chosen Option : 2

Q.2 The radii of the bases of a cylinder and a cone are in the ratio of 4 : 3 and their heights are in the ratio of 1 : 2. Find the ratio of their volumes.

- Ans 1. 3 : 8
 2. 4 : 5
 3. 8 : 3
 4. 5 : 4

Question ID : 65497835011
Status : Answered
Chosen Option : 3

Q.3 In an election between two candidates, 82% of voters cast their votes, out of which 4% were found to be invalid. The winning candidate got 108240 votes which are 55% of the valid votes. What was the total number of voters who cast their votes in this election?

- Ans 1. 250000
 2. 205000
 3. 200500
 4. 200000

Question ID : 65497835008
Status : Answered
Chosen Option : 2

Q.4 If T denotes the sum of money, M denotes the number of years, P denotes the rate of interest (interest is compounded annually), then the compound interest is given by:

- Ans**
- 1. $T(1 + P/100)^M - T$
 - 2. $T(1 + P/100)^M$
 - 3. $M(1 + T/100)^P - T$
 - 4. $M(1 + M/100)^P$

Question ID : **65497835004**
Status : **Answered**
Chosen Option : **2**

Q.5 A car runs 40 minutes at a speed of 45 km/h, next 45 minutes at a speed of 60 km/h and $1\frac{1}{2}$ hours at a speed of 50 km/h. The average speed (in km/h) of the car for the whole journey is closest to:

- Ans**
- 1. 52.8
 - 2. 52.3
 - 3. 51.9
 - 4. 51.4

Question ID : **65497835016**
Status : **Answered**
Chosen Option : **4**

Q.6 The list price of an article is ₹576. It is sold by allowing 20% discount on the list price. If its cost price is ₹480, then what will be the profit/loss percentage?

- Ans**
- 1. Loss, 2%
 - 2. Profit, 4%
 - 3. Profit, 2%
 - 4. Loss, 4%

Question ID : **65497835013**
Status : **Answered**
Chosen Option : **4**

Q.7 The value of $[17 + (8 - 5) \times 5] + (25 - 48 \div 6 + 12 \times 2)$ is:

- Ans**
- 1. 73
 - 2. 37
 - 3. 27
 - 4. 122

Question ID : **65497834998**
Status : **Answered**
Chosen Option : **1**

Q.8 What is the smallest number which when added to 5 is exactly divisible by 15, 20 and 21?

- Ans
- 1. 420
 - 2. 415
 - 3. 425
 - 4. 210

Question ID : 65497835007
Status : Answered
Chosen Option : 2

Q.9 एक ऋण दो समान वार्षिक किश्तों में लौटाया जाना है। यदि ब्याज की दर 10% वार्षिक है, जिसकी गणना वार्षिक चक्रवृद्धि आधार पर की जाती है और प्रत्येक किश्त ₹3,872 की है, तो ऋण की राशि (₹ में) कितनी है?

- Ans
- 1. 7,500
 - 2. 6,500
 - 3. 6,720
 - 4. 7,744

Question ID : 65497834996
Status : Answered
Chosen Option : 3

Q.10 एक वस्तु को 18% की हानि पर बेचा गया। यदि उस वस्तु को ₹2,475 अधिक में बेचा जाता, तो 12% का लाभ प्राप्त होता। वस्तु का विक्रय मूल्य (₹ में) ज्ञात कीजिए।

- Ans
- 1. 6,765
 - 2. 7,275
 - 3. 8,250
 - 4. 8,000

Question ID : 65497834995
Status : Answered
Chosen Option : 1

Q.11 If $2x + 7y : 4x - 3y :: 8 : 3$, then $x : y$ is:

- Ans
- 1. 45 : 38
 - 2. 22 : 37
 - 3. 45 : 26
 - 4. 24 : 43

Question ID : 65497835003
Status : Answered
Chosen Option : 3

Q.12 The radii of two circles are 21 cm and 25 cm, respectively. What is the area (in cm^2) of the circle whose circumference is equal to difference of the circumference of the two given circles? (Use $\pi = \frac{22}{7}$) correct to one decimal place.

- Ans**
- 1. 49.7
 - 2. 48.9
 - 3. 50.3
 - 4. 52.3

Question ID : 65497834994
Status : Answered
Chosen Option : 3

Q.13 The smallest number to which when 18 is added, the number is exactly divisible by 28, 36 and 45, is:

- Ans**
- 1. 1242
 - 2. 280
 - 3. 1000
 - 4. 518

Question ID : 65497835001
Status : Answered
Chosen Option : 1

Q.14 An article is purchased for ₹425 and sold for ₹500. The gain percentage is closest to:

- Ans**
- 1. 18.6%
 - 2. 17.65%
 - 3. 16.56%
 - 4. 18%

Question ID : 65497834999
Status : Answered
Chosen Option : 2

Q.15 The average of 26 numbers is 54.5. The average of the first 15 numbers is 58.6 and that of the last 12 numbers is 52. If the 15th number is excluded, the average of the remaining numbers will be:

- Ans**
- 1. 57.28
 - 2. 49.24
 - 3. 53.24
 - 4. 50.56

Question ID : 65497835012
Status : Answered
Chosen Option : 3

Q.16 Find the compound interest on ₹8,500 in 2 years at 6% per annum, interest being compounded half-yearly.

- Ans**
- 1. ₹1,066.82
 - 2. ₹9,968.72
 - 3. ₹1,050.25
 - 4. ₹1,025.75

Question ID : 65497835010
Status : Answered
Chosen Option : 1

Q.17 A, B and C together can complete a work in 8 days. If A is 50% more efficient than B and B is 50% efficient than C, then B alone will complete the same work in:

- Ans**
- 1. 16 days
 - 2. 24 days
 - 3. 48 days
 - 4. 36 days

Question ID : 65497835015
Status : Answered
Chosen Option : 4

Q.18 A man sold $\frac{5}{6}$ of his articles at a gain of 15% and the remaining at cost price. Find the gain earned by him in the whole transaction.

- Ans**
- 1. $9\frac{3}{5}\%$
 - 2. $12\frac{1}{2}\%$
 - 3. $15\frac{2}{3}\%$
 - 4. 7%

Question ID : 65497835017
Status : Answered
Chosen Option : 2

Q.19 एक दुकानदार ₹1,800 तक की खरीद पर 15% की छूट और ₹1,800 से अधिक की खरीद पर 17.5% छूट की घोषणा करता है। अब्दुल ₹8 प्रति पेन की दर से 225 पेन और ₹30 प्रति दर्जन की दर से 4 दर्जन पेंसिलें खरीदता है। अब्दुल द्वारा भुगतान की गई राशि ज्ञात कीजिए।

- Ans**
- 1. ₹1,580
 - 2. ₹1,684
 - 3. ₹1,540
 - 4. ₹1,584

Question ID : 65497834997
Status : Answered
Chosen Option : 4

Q.20 The ratio of three numbers is 3 : 2 : 5 and the sum of their squares is 8550. Find the sum of the numbers.

- Ans**
- 1. 150
 - 2. 172
 - 3. 225
 - 4. 75

Question ID : 65497835009
Status : Answered
Chosen Option : 1

Q.21 $\left\{\frac{12}{9-6}\right\} + 8 - \left(\frac{16}{4}\right) - (3 - 5 - 4)$ is equal to:

- Ans
- 1. 24
 - 2. 14
 - 3. 42
 - 4. 35

Question ID : 65497835005
Status : Answered
Chosen Option : 2

Q.22 Ram, who is half as efficient as Krish, will take 12 days to complete a task if he works alone. If Ram and Krish work together, how long will they take to complete the task?

- Ans
- 1. 2 days
 - 2. 4 days
 - 3. 6 days
 - 4. 8 days

Question ID : 65497835000
Status : Answered
Chosen Option : 2

Q.23 In a school total student are only boys and girls. The ratio of boys and girls in a school is 5 : 8. Which of the following could be the total number of students in the school?

- Ans
- 1. 2100
 - 2. 1800
 - 3. 2700
 - 4. 1690

Question ID : 65497834993
Status : Answered
Chosen Option : 4

Q.24 The mean of the first 7 odd prime numbers (correct to two decimal places) is:

- Ans
- 1. 7.34
 - 2. 12.35
 - 3. 10.71
 - 4. 12.45

Question ID : 65497835002
Status : Answered
Chosen Option : 3

Q.25 A, B and C are three numbers. A is 40% less than B and B is 15% less than C. If C is 50% more than D, then A will be less than D by:

- Ans** 1. 23.5%
 2. 10.75%
 3. 18.5%
 4. 24.25%

Question ID : 65497835014
Status : Answered
Chosen Option : 1

Section : Part D English

Q.1 Select the most appropriate option to fill in the blank.

He recovered after a _____ illness.

- Ans** 1. prolonged
 2. stretched
 3. surprise
 4. projected

Question ID : 65497835026
Status : Answered
Chosen Option : 1

Q.2 Select the most appropriate option that can substitute the underlined segment in the given sentence. If there is no need to substitute it, select 'No substitution required'.

"The players needing a break and we think it's time for them to rest," the coach told the reporters.

- Ans** 1. need a break
 2. No substitution required
 3. needs a break
 4. are need a break

Question ID : 65497835019
Status : Answered
Chosen Option : 1

Q.3 Select the most appropriate option to fill in the blank.

The book gives a _____ account of the horrors of war.

- Ans** 1. graphic
 2. bu ky
 3. heroic
 4. pleasant

Question ID : 65497835036
Status : Answered
Chosen Option : 1

Q.4 Select the correctly spelt word.

- Ans 1. Restaraunt
 2. Millienum
 3. Maintenance
 4. Refree

Question ID : 65497835030
Status : Answered
Chosen Option : 3

Q.5 The following sentence has been split into four segments. Identify the segment that contains a grammatical error.

Laughing for about ten minutes / continuous each day / is supposed to be / good for your health.

- Ans 1. good for your health
 2. Laughing for about ten minutes
 3. is supposed to be
 4. continuous each day

Question ID : 65497835020
Status : Answered
Chosen Option : 2

Q.6 Select the option that can be used as a one-word substitute for the given group of words.

The art of effective speaking

- Ans 1. Extempore
 2. Allocation
 3. Impromptu
 4. Elocution

Question ID : 65497835029
Status : Answered
Chosen Option : 4

Q.7 Select the most appropriate meaning of the given idiom.

Feel at sea

- Ans 1. To feel lost or confused
 2. To experience sea for the first time
 3. To feel exhausted
 4. To travel always by sea

Question ID : 65497835031
Status : Answered
Chosen Option : 1

Q.8 Select the option that will improve the underlined part of the given sentence. In case no improvement is needed, select 'No improvement required'.

She just completed the work before her friend came.

- Ans
- 1. has just completed the work
 - 2. just has completed the work
 - 3. had just completed the work
 - 4. No improvement required

Question ID : 65497835024
Status : Answered
Chosen Option : 1

Q.9 Select the most appropriate option to fill in the blank.

Edit and proofread your essay _____ times.

- Ans
- 1. less
 - 2. much
 - 3. few
 - 4. several

Question ID : 65497835018
Status : Answered
Chosen Option : 4

Q.10 Select the most appropriate ANTONYM of the given word.

Distinctive

- Ans
- 1. Similarity
 - 2. Common
 - 3. Original
 - 4. Close

Question ID : 65497835035
Status : Answered
Chosen Option : 1

Q.11 Select the correctly spelt word.

- Ans
- 1. Penninsula
 - 2. Pharmacy
 - 3. Domicille
 - 4. Canibal

Question ID : 65497835025
Status : Answered
Chosen Option : 2

Q.12 Select the most appropriate synonym of the given word.

Facility

- Ans
- 1. Happiness
 - 2. Fitting
 - 3. Skill
 - 4. Luck

Question ID : 65497835021
Status : Answered
Chosen Option : 1

Q.13 Select the option that will improve the underlined part of the given sentence. In case no improvement is needed, select 'No improvement required'.

The strong wind almost lifted me off my feet.

- Ans
- 1. above my feet
 - 2. over my feet
 - 3. against my feet
 - 4. No improvement required

Question ID : 65497835037
Status : Answered
Chosen Option : 3

Q.14 Select the option that can be used as a one-word substitute for the given group of words.

Not to pay attention to someone or something

- Ans
- 1. Ignore
 - 2. Attract
 - 3. Rebel
 - 4. Argue

Question ID : 65497835023
Status : Answered
Chosen Option : 1

Q.15 Select the most appropriate ANTONYM of the given word.

Guilty

- Ans
- 1. Sad
 - 2. Ignorant
 - 3. Innocent
 - 4. Clever

Question ID : 65497835028
Status : Answered
Chosen Option : 3

Q.16 Select the most appropriate synonym of the given word.

Kinship

- Ans
- 1. Viewership
 - 2. Partnership
 - 3. Relationship
 - 4. Incompatibility

Question ID : 65497835033
Status : Answered
Chosen Option : 2

Q.17 Select the most appropriate meaning of the given idiom.

In the same boat

- Ans
- 1. Sharing a ride
 - 2. Having fun
 - 3. To be calm
 - 4. In a similar situation

Question ID : 65497835022
Status : Answered
Chosen Option : 4

Q.18 Select the option that can be used as a one-word substitute for the given group of words.

A change which is the result of an act or some cause

- Ans
- 1. Addition
 - 2. Affect
 - 3. Effect
 - 4. Product

Question ID : 65497835034
Status : Answered
Chosen Option : 3

Q.19 The following sentence has been split into four segments. Identify the segment that contains a grammatical error.

The road was blocked / so we had / to turn back and / find another one route.

- Ans
- 1. so we had
 - 2. to turn back and
 - 3. The road was blocked
 - 4. find another one route

Question ID : 65497835032
Status : Answered
Chosen Option : 4

Q.20 The following sentence has been split into four segments. Identify the segment that contains a grammatical error.

Has the situation / been favourable, / I would have / attended the marriage.

- Ans
- 1. been favourable
 - 2. I would have
 - 3. Has the situation
 - 4. attended the marriage

Question ID : 65497835027
Status : Answered
Chosen Option : 2

Comprehension:

In the following passage, some words have been deleted. Read the passage carefully and select the most appropriate option to fill in each blank.

It was a cold, wet January day on (1) _____ Tom went back to school. He carried in his pocket (2) _____ sugar-candies and a doll for little Laura. The (3) _____ was long and boring. Tom wanted to reach as quickly as (4) _____. He couldn't wait to see Laura with the (5) _____ smile on her face.

SubQuestion No : 21

Q.21 Select the most appropriate option to fill in blank number 1.

- Ans
- 1. when
 - 2. that
 - 3. which
 - 4. where

Question ID : 65497835039
Status : Answered
Chosen Option : 3

Comprehension:

In the following passage, some words have been deleted. Read the passage carefully and select the most appropriate option to fill in each blank.

It was a cold, wet January day on (1) _____ Tom went back to school. He carried in his pocket (2) _____ sugar-candies and a doll for little Laura. The (3) _____ was long and boring. Tom wanted to reach as quickly as (4) _____. He couldn't wait to see Laura with the (5) _____ smile on her face.

SubQuestion No : 22

Q.22 Select the most appropriate option to fill in blank number 2.

- Ans
- 1. none
 - 2. some
 - 3. much
 - 4. any

Question ID : 65497835040
Status : Answered
Chosen Option : 2

Comprehension:

In the following passage, some words have been deleted. Read the passage carefully and select the most appropriate option to fill in each blank.

It was a cold, wet January day on (1) _____ Tom went back to school. He carried in his pocket (2) _____ sugar-candies and a doll for little Laura. The (3) _____ was long and boring. Tom wanted to reach as quickly as (4) _____. He couldn't wait to see Laura with the (5) _____ smile on her face.

SubQuestion No : 23

Q.23 Select the most appropriate option to fill in blank number 3.

- Ans 1. adventure
 2. passage
 3. visit
 4. journey

Question ID : 65497835041

Status : Answered

Chosen Option : 2

Comprehension:

In the following passage, some words have been deleted. Read the passage carefully and select the most appropriate option to fill in each blank.

It was a cold, wet January day on (1) _____ Tom went back to school. He carried in his pocket (2) _____ sugar-candies and a doll for little Laura. The (3) _____ was long and boring. Tom wanted to reach as quickly as (4) _____. He couldn't wait to see Laura with the (5) _____ smile on her face.

SubQuestion No : 24

Q.24 Select the most appropriate option to fill in blank number 4.

- Ans 1. practical
 2. portable
 3. possible
 4. probable

Question ID : 65497835042

Status : Answered

Chosen Option : 3

Comprehension:

In the following passage, some words have been deleted. Read the passage carefully and select the most appropriate option to fill in each blank.

It was a cold, wet January day on (1) _____ Tom went back to school. He carried in his pocket (2) _____ sugar-candies and a doll for little Laura. The (3) _____ was long and boring. Tom wanted to reach as quickly as (4) _____. He couldn't wait to see Laura with the (5) _____ smile on her face.

SubQuestion No : 25

Q.25 Select the most appropriate option to fill in blank number 5.

- Ans 1. adorable
 2. reliable
 3. suitable
 4. capable

Question ID : 65497835043

Status : Answered

Chosen Option : 1

Section : Part D Hindi

Q.1 दिए गए वाक्य का वह भाग ज्ञात करें जिसमें कोई त्रुटि है। यदि कोई त्रुटि नहीं है, तो 'कोई त्रुटि नहीं है' चुनें।

इस सम्बन्ध से (1) और अधिक कहने की (2) आवश्यकता नहीं है (3) कोई त्रुटि नहीं है (4)

- Ans
- 1. 4
 - 2. 3
 - 3. 2
 - 4. 1

Question ID : 65497835050
Status : Not Answered
Chosen Option : --

Q.2 दिए गए वाक्य का वह भाग ज्ञात करें जिसमें कोई त्रुटि है। यदि कोई त्रुटि नहीं है, तो 'कोई त्रुटि नहीं है' चुनें।

उसने बोला कि (1) वह खाना (2) नहीं खायेगे (3) कोई त्रुटि नहीं है (4)

- Ans
- 1. 4
 - 2. 1
 - 3. 3
 - 4. 2

Question ID : 65497835045
Status : Not Answered
Chosen Option : --

Q.3 रिक्त स्थान की पूर्ति के लिए सबसे उपयुक्त शब्द का चयन करें।

हमारे शिक्षक प्रश्न _____ हैं।

- Ans
- 1. पुछवाते
 - 2. कहते
 - 3. पूछते
 - 4. पुछते

Question ID : 65497835049
Status : Not Answered
Chosen Option : --

Q.4 दिए गये वाक्यांश के लिए एक शब्द है-

जिसका मूल नहीं है-

- Ans
- 1. जड़मूल
 - 2. अमूल
 - 3. समूल
 - 4. निर्मूल

Question ID : 65497835047
Status : Not Answered
Chosen Option : --

Q.5 दिए गए वाक्य में रेखांकित खंड को प्रतिस्थापित करने के लिए सबसे उपयुक्त विकल्प का चयन करें।
यदि इसे प्रतिस्थापित करने की आवश्यकता नहीं है, तो विकल्प 'किसी बदलाव की आवश्यकता नहीं है'
का चयन करें।

युवती ने घबराकर पूछा।

- Ans
- 1. घबराकर पूछी
 - 2. घबराई हुई पूछी
 - 3. घबराई और पूछने लगी
 - 4. किसी बदलाव की आवश्यकता नहीं है।

Question ID : 65497835044
Status : Not Answered
Chosen Option : --

Q.6 दिए गए शब्द का विलोम चुनें।

क्षर

- Ans
- 1. विक्षर
 - 2. साक्षर
 - 3. निरक्षर
 - 4. अक्षर

Question ID : 65497835051
Status : Not Answered
Chosen Option : --

Q.7 उस विकल्प का चयन करें जो निम्न मुहावरे का सही अर्थ व्यक्त करता है।

सब्ज बाग दिखाना

- Ans
- 1. हरियाली दिखाना
 - 2. अच्छी-अच्छी बातें कहकर बहकाना
 - 3. दशा सुधारना
 - 4. अपन सपने सुनाना

Question ID : 65497835048
Status : Not Answered
Chosen Option : --

Q.8 निम्न में से कौन से युग्म में पर्यायवाची शब्द दिए गए हैं?

- Ans
- 1. जय - पराजय
 - 2. हाथी - गज
 - 3. आश्रय - गगनचुम्बी इमारत
 - 4. कुबेर - गढ़

Question ID : 65497835062
Status : Not Answered
Chosen Option : --

Q.9 'सारे शरीर की हड्डियो का ढाचा' वाक्याश के लिए एक शब्द होगा-

- Ans 1. खोपड़ी
 2. ककाल
 3. जीवाश्म
 4. जजाल

Question ID : 65497835063
Status : Not Answered
Chosen Option : --

Q.10 दिए गए शब्द का विलोम चुनें।

उष्ण

- Ans 1. शीतोष्ण
 2. शीतल
 3. ग्रीष्म
 4. गर्म

Question ID : 65497835055
Status : Not Answered
Chosen Option : --

Q.11 दिये गये वाक्य में रेखांकित अश को प्रतिस्थापित करने के लिए सबसे उपयुक्त विकल्प का चयन करें।

दूध लीटर की नाप से बिकता है।

- Ans 1. जाँच
 2. कीमत
 3. माप
 4. तौल

Question ID : 65497835059
Status : Not Answered
Chosen Option : --

Q.12 उस विकल्प का चयन करें जो निम्न मुहावरे का सही अर्थ व्यक्त करता है।

विष उगलना

- Ans 1. क्रोध करना
 2. हानि पहचानना
 3. द्वेषपूर्ण बात करना
 4. बुराई का प्रचार करना

Question ID : 65497835056
Status : Not Answered
Chosen Option : --

Q.13 दिए गए शब्द का समानार्थी शब्द निम्न में से कौन सा नहीं है-

गरीब

- Ans
- 1. अकिचन
 - 2. दरिद्र
 - 3. भृत्य
 - 4. कगाल

Question ID : 65497835046
Status : Not Answered
Chosen Option : --

Q.14 सही वर्तनी वाले शब्द का चयन करें।

- Ans
- 1. विदुषी
 - 2. विदुषि
 - 3. वीदुषी
 - 4. विदूषी

Question ID : 65497835054
Status : Not Answered
Chosen Option : --

Q.15 अशुद्ध अश को पहचानिए-

हमें / रविवार को / पिताजी के साथ / बाहर जानी है

- Ans
- 1. हमें
 - 2. बाहर जानी है
 - 3. रविवार को
 - 4. पिताजी के साथ

Question ID : 65497835061
Status : Not Answered
Chosen Option : --

Q.16 रिक्त स्थान की पूर्ति के लिए सबसे उपयुक्त शब्द का चयन करें-

जलसे में _____ लोग थे कि कही भी खड़े होने की जगह न थी।

- Ans
- 1. इतने
 - 2. कम
 - 3. कुछ
 - 4. थोड़े

Question ID : 65497835058
Status : Not Answered
Chosen Option : --

Q.17 नीचे दिए वाक्य में रिक्त-स्थान की पूर्ति के लिए सबसे उपयुक्त शब्द का चयन करें।

हवा की _____ में भी सगीत है।

- Ans
- 1. कड़कड़ाहट
 - 2. झनझनाहट
 - 3. घरघराहट
 - 4. सरसराहट

Question ID : 65497835057
Status : Not Answered
Chosen Option : --

Q.18 सही वर्तनी वाले शब्द का चयन करें।

- Ans
- 1. अध्यात्मिक
 - 2. आध्यात्मिक
 - 3. अध्यात्मिक
 - 4. अधिआत्मिक

Question ID : 65497835053
Status : Not Answered
Chosen Option : --

Q.19 दिये गये वाक्यांश के लिए एक शब्द दीजिये।

जो कम खर्च करने वाला हो

- Ans
- 1. अव्ययी
 - 2. अतिव्ययी
 - 3. मितव्ययी
 - 4. अल्पव्ययी

Question ID : 65497835052
Status : Not Answered
Chosen Option : --

Q.20 दुष्काल में भूख से मरने की अवस्था हो जाती है।

शब्द समूह के स्थान पर उचित शब्द लिखिए-

- Ans
- 1. निराशाजनक
 - 2. बहुत खाकर
 - 3. भूखमरी
 - 4. निरोगी

Question ID : 65497835060
Status : Not Answered
Chosen Option : --

Comprehension:

दिए गए गद्यांश में से कुछ शब्द हटा दिए गए हैं। संबंधित प्रश्नों में प्रत्येक सख्या के लिए सबसे उपयुक्त विकल्प का चयन करें।

मोह मन की उस (1) _____ का द्योतक है, जिसमें मनुष्य (2) _____ के कारण सत्य को (3) _____ में (4) _____ हो जाता है। मोह के कारण हमारी चेतना पर ममत्व का (5) _____ चढ़ जाता है।

SubQuestion No : 21

Q.21 गद्यांश के रिक्त स्थान (1) के लिए सर्वाधिक उपयुक्त शब्द होगा-

- Ans**
- 1. दशा
 - 2. कामना
 - 3. परिस्थिति
 - 4. चाहत

Question ID : **65497835065**
Status : **Not Answered**
Chosen Option : --

Comprehension:

दिए गए गद्यांश में से कुछ शब्द हटा दिए गए हैं। संबंधित प्रश्नों में प्रत्येक सख्या के लिए सबसे उपयुक्त विकल्प का चयन करें।

मोह मन की उस (1) _____ का द्योतक है, जिसमें मनुष्य (2) _____ के कारण सत्य को (3) _____ में (4) _____ हो जाता है। मोह के कारण हमारी चेतना पर ममत्व का (5) _____ चढ़ जाता है।

SubQuestion No : 22

Q.22 गद्यांश के रिक्त स्थान (2) के लिए सर्वाधिक उपयुक्त शब्द होगा-

- Ans**
- 1. भ्रम
 - 2. कुठा
 - 3. विवशता
 - 4. शका

Question ID : **65497835066**
Status : **Not Answered**
Chosen Option : --

Comprehension:

दिए गए गद्यांश में से कुछ शब्द हटा दिए गए हैं। संबंधित प्रश्नों में प्रत्येक सख्या के लिए सबसे उपयुक्त विकल्प का चयन करें।

मोह मन की उस (1) _____ का द्योतक है, जिसमें मनुष्य (2) _____ के कारण सत्य को (3) _____ में (4) _____ हो जाता है। मोह के कारण हमारी चेतना पर ममत्व का (5) _____ चढ़ जाता है।

SubQuestion No : 23

Q.23 गद्यांश के रिक्त स्थान (3) के लिए सर्वाधिक उपयुक्त शब्द होगा-

- Ans**
- 1. जानने
 - 2. चुनने
 - 3. पहचानने
 - 4. पकड़ने

Question ID : **65497835067**
Status : **Not Answered**
Chosen Option : --

Comprehension:

दिए गए गद्यांश में से कुछ शब्द हटा दिए गए हैं। सबधित प्रश्नों में प्रत्येक सख्या के लिए सबसे उपयुक्त विकल्प का चयन करें।

मोह मन की उस (1) _____ का द्योतक है, जिसमें मनुष्य (2) _____ के कारण सत्य को (3) _____ में (4) _____ हो जाता है। मोह के कारण हमारी चेतना पर ममत्व का (5) _____ चढ़ जाता है।

SubQuestion No : 24

Q.24 गद्यांश के रिक्त स्थान (4) के लिए सर्वाधिक उपयुक्त शब्द होगा-

- Ans**
- 1. निपुण
 - 2. असमर्थ
 - 3. मोहासक्त
 - 4. विवश

Question ID : **65497835068**
Status : **Not Answered**
Chosen Option : --

Comprehension:

दिए गए गद्यांश में से कुछ शब्द हटा दिए गए हैं। सबधित प्रश्नों में प्रत्येक सख्या के लिए सबसे उपयुक्त विकल्प का चयन करें।

मोह मन की उस (1) _____ का द्योतक है, जिसमें मनुष्य (2) _____ के कारण सत्य को (3) _____ में (4) _____ हो जाता है। मोह के कारण हमारी चेतना पर ममत्व का (5) _____ चढ़ जाता है।

SubQuestion No : 25

Q.25 गद्यांश के रिक्त स्थान (5) के लिए सर्वाधिक उपयुक्त शब्द होगा-

- Ans**
- 1. मुखौटा
 - 2. आवरण
 - 3. चादर
 - 4. रग

Question ID : **65497835069**
Status : **Not Answered**
Chosen Option : --