

Exam Date	01/12/2021
Exam Time :	9:00 AM - 10:30 AM
Subject	Constable GD 2021

Section : **Part A General Intelligence and Reasoning**

Q.1 Read the given statements and conclusions carefully. Assuming that the information given in the statements is true, even if it appears to be at variance with commonly known facts, decide which of the given conclusions logically follow(s) from the statements.

Statements:

- I. Some tablets are smartphones.
- II. All smartphones are mobile phones.

Conclusions:

- I. Some mobile phones are tablets.
- II. Some mobile phones are smartphones.

- Ans**
- 1. Neither conclusion I nor II follows.
 - 2. Only conclusion II follows.
 - 3. Only conclusion I follows.
 - 4. Both conclusions I and II follow.

Question ID : **65497832421**

Status : **Answered**

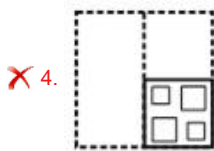
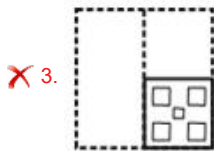
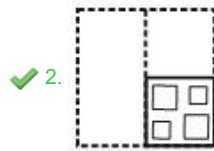
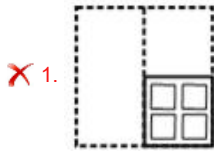
Chosen Option : **4**

Q.2 A paper sheet is folded in a particular manner and several punches are made. When unfolded the paper sheet looks like the question figure. From the given options, select the figure that follows the manner in which the paper is folded and punched.

Question figure



Ans



Question ID : 65497832424
 Status : Answered
 Chosen Option : 2

Q.3 Select the option that is related to the fourth number in the same way as the first number is related to the second number and the fifth number is related to the sixth number.

195 : 15 :: ? : 19 :: 273 : 21

- Ans 1. 280
 2. 247
 3. 311
 4. 252

Question ID : 65497832404
 Status : Answered
 Chosen Option : 2

Q.4 Study the given pattern carefully and select the number that can replace the question mark (?) in it.

5 6 7
 8 7 9
 189 265 ?

- Ans 1. 424
 2. 341
 3. 395
 4. 409

Question ID : 65497832422
 Status : Answered
 Chosen Option : 1

Q.5 Select the number from among the given options that can replace the question mark (?) in the following series.

7, 7, 10.5, 21, 52.5, ?

- Ans 1. 157.5
 2. 105
 3. 163.5
 4. 145

Question ID : 65497832414
Status : Answered
Chosen Option : 1

Q.6 Six poets, A, B, C, D, E and F, are sitting opposite to each other in a circle, facing towards the centre. A is opposite to E. F is adjacent to E. A is adjacent to C. B is sitting immediate right to D. C is opposite to B. Who is 5th to the left of B?

- Ans 1. A
 2. E
 3. D
 4. F

Question ID : 65497832418
Status : Answered
Chosen Option : 2

Q.7 Select the option that is related to the third term in the same way as the second term is related to the first term.

SANITY : OBTZUJ :: FOSTER : ?

- Ans 1. TPGSFU
 2. TPESFV
 3. TQGSGU
 4. TGPHFU

Question ID : 65497832425
Status : Answered
Chosen Option : 1

Q.8 In a certain code language, 'DEACTIVATION' is written as 'CAEDAVITNOIT'. How will 'FACILITATION' be written in that language?

- Ans 1. ICFTAAILNOIT
 2. ICFAATILNOIT
 3. ICFTILAAANOIT
 4. ICAFATILNOIT

Question ID : 65497832420
Status : Answered
Chosen Option : 4

Q.9 Select the letter-cluster from among the given options that can replace the question mark (?) in the following series.

MRV, QVZ, UZD, YDH, ?

- Ans
- 1. CHL
 - 2. CGM
 - 3. DHE
 - 4. CFN

Question ID : 65497832416
 Status : Answered
 Chosen Option : 1

Q.10 Select the figure from among the given options that can replace the question mark (?) in the following series.



Ans

- 1.
- 2.
- 3.
- 4.

Question ID : 65497832411
 Status : Answered
 Chosen Option : 4

Q.11 Select the correct option that indicates the arrangement of the given words in the order in which they appear in an English dictionary.

1. Tamale
2. Tamagotchi
3. Tamarind
4. Tamarack
5. Tamable

- Ans
- 1. 1, 3, 4, 5, 2
 - 2. 2, 1, 3, 4, 5
 - 3. 5, 2, 1, 4, 3
 - 4. 1, 5, 2, 4, 3

Question ID : 65497832408
 Status : Answered
 Chosen Option : 3

Q.12 There are two computer rooms, Lab A and Lab B. If 10 students are sent from Lab A to Lab B, then the number of students in each room will be the same. If 26 students are sent from Lab B to Lab A, then the number of students in Lab A will be triple the number of students in Lab B. The number of students in Lab B is:

- Ans
- 1. 82
 - 2. 78
 - 3. 62
 - 4. 98

Question ID : 65497832423
Status : Answered
Chosen Option : 3

Q.13 Arpita, Chetan, Insiya, Lohita, Manuvi and Yukti are sitting around a circular table facing its centre. Chetan is sitting to the immediate right of Manuvi. Arpita is sitting between Insiya and Yukti. Yukti is sitting second to the right of Manuvi. Who is sitting between Lohita and Arpita?

- Ans
- 1. Manuvi
 - 2. Insiya
 - 3. Chetan
 - 4. Yukti

Question ID : 65497832403
Status : Answered
Chosen Option : 2

Q.14 Four letter-clusters have been given, out of which three are alike in some manner and one is different. Select the letter-cluster that is different.

- Ans
- 1. FLO
 - 2. LRU
 - 3. PVY
 - 4. GMQ

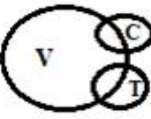
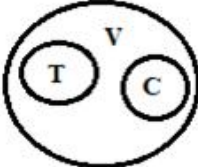
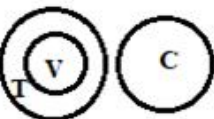
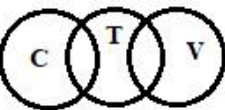
Question ID : 65497832412
Status : Answered
Chosen Option : 4

Q.15 Select the Venn diagram that best represents the relationship between the following classes.

Vehicles, Truck, Car

(V: Vehicles; C: Car; T: Truck)

Ans

1. 
2. 
3. 
4. 

Question ID : 65497832419
Status : Answered
Chosen Option : 2

Q.16 Select the number from among the given options that can replace the question mark (?) in the following series.

3, 15, 60, 180, ?

- Ans 1. 260
2. 360
3. 240
4. 199

Question ID : 65497832410
Status : Answered
Chosen Option : 2

Q.17 'Sweater' is related to 'Wool' in the same way as 'Coin' is related to '_____'.
(Note: A large watermark 'GovtJobsAlert.In' is visible across the page.)

- Ans 1. Metal
2. King
3. Money
4. Currency

Question ID : 65497832417
Status : Answered
Chosen Option : 1

Q.18 What will be the value of the given expression if 'A' means '+', 'B' means '-', 'C' means 'x', and 'D' means '÷'?

$$12 A 9 C (17 B 6) B 24 A (28 D 7) = ?$$

- Ans
- 1. 51
 - 2. 104
 - 3. 91
 - 4. 83

Question ID : 65497832405
Status : Answered
Chosen Option : 3

Q.19 Select the option in which the given figure is embedded (rotation is NOT allowed).



Ans

- 1.
- 2.
- 3.
- 4.

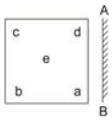
Question ID : 65497832407
Status : Answered
Chosen Option : 1

Q.20 In a certain code language, 'GINGER' is coded as '30-30' and 'RADISH' is coded as '23-36'. How will 'TOMATO' be coded in that language?

- Ans
- 1. 35-45
 - 2. 39-41
 - 3. 49-39
 - 4. 48-36


Question ID : 65497832413
Status : Answered
Chosen Option : 4

Q.21 Select the correct mirror image of the given figure when the mirror is placed at 'AB' as shown.




Ans


1.




2.



3.



4.



Question ID : 65497832415
Status : Answered
Chosen Option : 3

Q.22 Select the combination of letters that when sequentially placed in the blanks of the given series will complete the sequence.

R _ T _ T U _ _ R U _ S _ S T

Ans 1. SSTURR

2. SRTURU

3. STURSR

4. URTSSR

Question ID : 65497832409
Status : Answered
Chosen Option : 1

Q.23 In a certain code language, ZOMBIE is written as BEIMOZ, and FLEX is written as EFLX. How will PRODUCT be written in that language?

Ans 1. CDPORTU

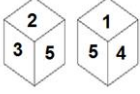
2. CDPORUT

3. CDOPRTU

4. CDORPTU

Question ID : 65497832426
Status : Answered
Chosen Option : 3

Q.24 Two different positions of the same dice are shown, the six faces of which are numbered from 1 to 6. Select the number that will be on the face opposite to the face having '6'.



- Ans
- 1. 3
 - 2. 5
 - 3. 4
 - 4. 2

Question ID : 65497832406
Status : Answered
Chosen Option : 2

Q.25 If 'A + B' means 'A is the father of B', 'A @ B' means 'A is the brother of B', and 'A & B' means 'A is the daughter of B', then how is P related to V in the following expression?

S + P + R @ Q & T & V

- Ans
- 1. Son
 - 2. Father-in-law
 - 3. Son-in-law
 - 4. Daughter-in-law

Question ID : 65497832427
Status : Answered
Chosen Option : 3

Section : Part B General Knowledge and General Awareness

Q.1 एलिफैंटा गुफाओं में _____ संप्रदाय से जुड़े शैल चित्रों (रॉक आर्ट) का संग्रह है।

- Ans
- 1. तीर्थंकर महावीर
 - 2. विष्णु
 - 3. बुद्ध
 - 4. शिव

Question ID : 65497832434
Status : Answered
Chosen Option : 1

Q.2 दिल्ली सल्तनत में सैन्य कमांडरों को सौंपी गई प्रादेशिक इकाइयों को _____ के रूप में जाना जाता था।

- Ans
- 1. इक्ता (Iqta)
 - 2. उशर (Ushr)
 - 3. खराज (Kharaj)
 - 4. हुंडी (Hundi)

Question ID : 65497832449
Status : Answered
Chosen Option : 2

Q.3 शिशुओं में जन्म के समय निम्नलिखित में से कौन सी हड्डी नहीं होती?

- Ans
- 1. श्रोणि (Pelvic)
 - 2. कॉलर (Collar)
 - 3. गाल (Cheek)
 - 4. जानुका (Kneecap)

Question ID : 65497832430
Status : Answered
Chosen Option : 1

Q.4 भारत के संविधान के निम्नलिखित प्रावधानों में से कौन सा प्रावधान संसद के साधारण बहुमत द्वारा संशोधित किया जा सकता है?

- Ans
- 1. सातवीं अनुसूची की कोई भी सूची
 - 2. संसद में गणपूर्ति (कोरम)
 - 3. राष्ट्रपति का निर्वाचन और उसकी प्रक्रिया
 - 4. मौलिक अधिकार

Question ID : 65497832442
Status : Answered
Chosen Option : 2

Q.5 निम्नलिखित में से किस मंत्रालय ने सितंबर 2021 में 'शिक्षक पर्व' का आयोजन किया?

- Ans
- 1. शिक्षा मंत्रालय
 - 2. युवा कार्यक्रम और खेल मंत्रालय
 - 3. संस्कृति मंत्रालय
 - 4. श्रम एवं रोजगार मंत्रालय

Question ID : 65497832452
Status : Answered
Chosen Option : 1

Q.6 Which of the following things found at the site of Harappa, did engineers take away to build the first railway lines in Punjab in present-day Pakistan?

- Ans
- 1. Doors
 - 2. Bricks
 - 3. Iron tracks
 - 4. Bronze beams

Question ID : 65497832447
Status : Answered
Chosen Option : 2

Q.7 लोकप्रिय नृत्य 'लाहो' किस भारतीय राज्य से संबंधित है?

- Ans
- 1. मेघालय
 - 2. बिहार
 - 3. उत्तर प्रदेश
 - 4. हरियाणा

Question ID : 65497832437
Status : Answered
Chosen Option : 1

Q.8 'ऑपरेशन थंडर 2020' निम्न से संबंधित है:

- Ans
- 1. चक्रवाती तूफान से राहत और बचाव अभियान
 - 2. पर्यावरणीय अपराधों के खिलाफ कार्रवाई
 - 3. COVID-19 (कोरोना) के लिए वैक्सीन
 - 4. आतंकवाद के खिलाफ सैन्य कार्रवाई

Question ID : 65497832443

Status : Answered

Chosen Option : 1

Q.9 नेपाल के कवि, भानुभक्त आचार्य, _____ का संस्कृत से नेपाली भाषा में अनुवाद करने के लिए प्रसिद्ध हैं।

- Ans
- 1. रामायण
 - 2. योग सूत्र
 - 3. मनुस्मृति
 - 4. महाभारत

Question ID : 65497832439

Status : Answered

Chosen Option : 1

Q.10 निम्नलिखित में से कौन सा ग्रामीण परिवारों को प्रत्यक्ष ऋण सहायता प्रदान नहीं करता है?

- Ans
- 1. क्षेत्रीय ग्रामीण बैंक
 - 2. कृषि व्यापारी
 - 3. सहकारी ऋण समितियाँ
 - 4. वित्त मंत्रालय

Question ID : 65497832444

Status : Answered

Chosen Option : 4

Q.11 Which of the following is a night blooming flower?

- Ans
- 1. Gazania daisy
 - 2. Angel's trumpet
 - 3. Jamaican feverplant
 - 4. Venice mallow

Question ID : 65497832429

Status : Answered

Chosen Option : 1

Q.12 निम्नलिखित में से कौन सा युग्म गलत है?

- Ans
- 1. शर्की राजवंश - पंजाब
 - 2. अहोम राजवंश - असम
 - 3. गजपति राजवंश - ओडिशा
 - 4. मेवाड़ राजवंश - राजस्थान

Question ID : 65497832450

Status : Answered

Chosen Option : 1

Q.13 जैसा कि केंद्रीय बजट 2020 में घोषित किया गया है, इलेक्ट्रिक वाहनों की खरीद हेतु लिए गए ऋण पर दिए गए ब्याज पर कटौती के रूप में ₹ _____ तक की राशि का दावा किया जा सकता है।

- Ans
- 1. 1.5 लाख
 - 2. 5 लाख
 - 3. 2 लाख
 - 4. 2.5 लाख

Question ID : 65497832445
Status : Answered
Chosen Option : 3

Q.14 निम्नलिखित में से कृष्णा नदी की एक सहायक नदी कौन सी है?

- Ans
- 1. प्रणीता
 - 2. पूर्णा
 - 3. मंजरा
 - 4. घाटप्रभा

Question ID : 65497832446
Status : Answered
Chosen Option : 4

Q.15 According to 'India State of Forest Report 2019', which of the following states of India has the maximum amount of forest covered area?

- Ans
- 1. Andhra Pradesh
 - 2. Nagaland
 - 3. Madhya Pradesh
 - 4. Assam

Question ID : 65497832441
Status : Answered
Chosen Option : 1

Q.16 The prize money for the _____ Award was increased from the previous amount of ₹7.5 lakhs to ₹25 lakhs in 2020.

- Ans
- 1. Rajiv Gandhi Khel Ratna
 - 2. Dronacharya (Lifetime)
 - 3. Dronacharya (Regular)
 - 4. Arjuna

Question ID : 65497832448
Status : Answered
Chosen Option : 1

Q.17 Who among the following won the Linz Open Tennis Singles title for 2020?

- Ans
- 1. Sofia Kenin
 - 2. Serena Williams
 - 3. Aryna Sabalenka
 - 4. Elise Martens

Question ID : 65497832440
Status : Answered
Chosen Option : 3

Q.18 उन जीवों को क्या कहा जाता है जो शिशु संततियों को जन्म देते हैं?

- Ans
- 1. विखण्डनशील (फिसिपरस)
 - 2. जरायुज (विविपरस)
 - 3. अंडज (ओविपरस)
 - 4. अंडजरायुज (ओवोविविपरस)

Question ID : 65497832433
Status : Answered
Chosen Option : 2

Q.19 निम्नलिखित में से कौन 'सेविंग कैपिटलिज्म फ्रॉम द कैपिटलिस्ट' पुस्तक के लेखक हैं?

- Ans
- 1. रघुराम राजन
 - 2. बिमल जालान
 - 3. उर्जित पटेल
 - 4. शक्तिकांत दास

Question ID : 65497832431
Status : Answered
Chosen Option : 1

Q.20 Who is the winner of World Games Athlete of the Year Award 2019?

- Ans
- 1. Savita Poonia
 - 2. Ritu Rani
 - 3. Rani Rampal
 - 4. Jaspreet Kaur

Question ID : 65497832432
Status : Answered
Chosen Option : 3

Q.21 नवंबर 2020 में, भारत _____ ऐसा देश बन गया जिसके पास अपनी स्वतंत्र क्षेत्रीय नौवहन उपग्रह प्रणाली है। इसे अंतरराष्ट्रीय सामुद्रिक संगठन (IMO) द्वारा 'विश्वव्यापी रेडियो नेविगेशन प्रणाली' (WWRNS) के एक भाग के रूप में मान्यता प्राप्त है।

- Ans
- 1. पाँचवाँ
 - 2. तीसरा
 - 3. चौथा
 - 4. छठा

Question ID : 65497832435
Status : Answered
Chosen Option : 3

Q.22 _____ आंशिक परिसीमित तटीय जल निकाय होता है जहाँ नदियों और जलधाराओं के मीठे पानी में महासागरों के खारे पानी का मिश्रण होता है।

- Ans
- 1. मुहाना (एश्रुअरी)
 - 2. डेल्टा
 - 3. मरूद्यान
 - 4. लैगून

Question ID : 65497832438
Status : Answered
Chosen Option : 2

Q.23 निम्नलिखित में से किस भारतीय सितारवादक और प्रमुख संगीतज्ञ ने 20 वीं शताब्दी की शुरुआत में, एक संकेतन प्रणाली विकसित की और भारतीय उपमहाद्वीप की संगीत प्रथाओं को वर्गीकृत किया जो कि पहले मौखिक परंपरा से आगे बढ़ती रही थीं?

- Ans 1. विष्णु नारायण भातखंडे
 2. सिद्धार खान
 3. मानिकचंद दुबे
 4. हाजी विलायत अली खान

Question ID : 65497832428
Status : Answered
Chosen Option : 4

Q.24 In which of the following cities is the head office of SEBI located?

- Ans 1. Gandhinagar
 2. Mumbai
 3. Chandigarh
 4. New Delhi

Question ID : 65497832436
Status : Answered
Chosen Option : 2

Q.25 भारत में अनियमित जमा योजना प्रतिबंध अधिनियम वर्ष _____ में लागू किया गया था।

- Ans 1. 2020
 2. 2019
 3. 2021
 4. 2018

Question ID : 65497832451
Status : Answered
Chosen Option : 2

Section : Part C Elementary Mathematics

Q.1 Hari bought two articles A and B for a total of ₹1,250. He sold A at a loss of 20% and B at a profit of 15%. If the selling price of B was ₹75 less than two times that of A, then the cost price (in ₹) of A was:

- Ans 1. 650
 2. 550
 3. 600
 4. 525

Question ID : 65497832474
Status : Answered
Chosen Option : 2

Q.2 A man borrows ₹13,000 to be paid back with the compound interest at a rate of 8% per annum compounded annually by the end of 2 years in two equal yearly instalments. How much will each instalment be?

- Ans**
- 1. ₹7,500
 - 2. ₹7,725
 - 3. ₹7,290
 - 4. ₹7,250

Question ID : 65497832470
 Status : Answered
 Chosen Option : 3

Q.3 The value of $\frac{4}{5} \div 3\frac{1}{4}$ of $\frac{8}{13} - \frac{\frac{1}{7} - \frac{1}{8}}{\frac{1}{7} + \frac{1}{8}} \times 4\frac{2}{7} + \frac{3}{5}$ is equal to:

- Ans**
- 1. $\frac{5}{7}$
 - 2. $\frac{2}{7}$
 - 3. $\frac{3}{7}$
 - 4. $\frac{6}{7}$

Question ID : 65497832459
 Status : Answered
 Chosen Option : 1

Q.4 Express the given fraction percentage as a ratio in the lowest term.

$$\frac{75}{17}\%$$

- Ans**
- 1. 3 : 67
 - 2. 3 : 68
 - 3. 68 : 3
 - 4. 3 : 57

Question ID : 65497832464
 Status : Answered
 Chosen Option : 2

Q.5 Mrs. Gupta invested a sum of ₹50,000 in fixed deposit for 1 year at the rate of 8% per annum compound interest compounded semi-annually. What amount will she get on maturity of the fixed deposit?

- Ans**
- 1. ₹58,000
 - 2. ₹54,000
 - 3. ₹54,080
 - 4. ₹50,416

Question ID : 65497832456
 Status : Answered
 Chosen Option : 3

Q.6 A train can travel 50% faster than a car. Both start from point A at the same time and reach point B, 81 kms away from A, at the same time. On the way, however, the train lost about 12 minutes while stopping at the stations. The speed of the car is (rounded off to the nearest integer):

- Ans**
- 1. 85 km/h
 - 2. 95 km/h
 - 3. 105 km/h
 - 4. 135 km/h

Question ID : 65497832466
Status : Answered
Chosen Option : 4

Q.7 Find the number of lead balls, each 2 cm in diameter, which can be made from a sphere of 18 cm of diameter.

- Ans**
- 1. 729
 - 2. 827
 - 3. 843
 - 4. 972

Question ID : 65497832471
Status : Answered
Chosen Option : 1

Q.8 A man covered a distance of 245 km in 7 hours on a scooter. How much distance (in km) can be covered on a electric cycle in 4 hours, if he rides the electric cycle at $\frac{3}{7}$ of the speed of the scooter?

- Ans**
- 1. 45
 - 2. 35
 - 3. 50
 - 4. 60

Question ID : 65497832460
Status : Answered
Chosen Option : 4

Q.9 Three numbers are in the ratio 4 : 3 : 7 and their HCF is 6. What is the sum of the three numbers?

- Ans**
- 1. 84
 - 2. 42
 - 3. 98
 - 4. 56

Question ID : 65497832453
Status : Answered
Chosen Option : 1

Q.10 Two pipes A and B can empty a full tank in 10 minutes and 15 minutes, respectively, whereas pipe C alone can fill the same (empty) tank in 12 minutes. When the tank is full, A and B are opened for 4 minutes and then only pipe A is closed, and C is opened instantly (with B). How much time (in minutes) will it take now to fill the tank completely?

- Ans**
- 1. 20
 - 2. 40
 - 3. 25
 - 4. 30

Question ID : 65497832477
 Status : Answered
 Chosen Option : 2

Q.11 Three numbers are such that the first number is 30% more than the third number and the second number is 40% less than the third number. What is the ratio of the first number to the sum of the first number and the second number?

- Ans**
- 1. $\frac{13}{19}$
 - 2. $\frac{9}{13}$
 - 3. $\frac{6}{13}$
 - 4. $\frac{6}{19}$

Question ID : 65497832455
 Status : Answered
 Chosen Option : 1

Q.12 The average marks of 100 students in a class were 80. The average marks of the top 15 students and the bottom 15 students in the merit list were 84 and 74, respectively. Find the average marks of the remaining students (correct to two decimal places).

- Ans**
- 1. 79.43
 - 2. 82.42
 - 3. 70.42
 - 4. 80.43

Question ID : 65497832462
 Status : Answered
 Chosen Option : 4

Q.13 The simple interest on a certain sum of money for three and a half years at 10% per annum is ₹55 less than the simple interest on the same sum for four and a half years at 9% per annum. What is the sum?

- Ans**
- 1. ₹407.40
 - 2. ₹975
 - 3. ₹1,000
 - 4. ₹500

Question ID : 65497832458
 Status : Answered
 Chosen Option : 3

Q.14 There is a discount of 12.5% on 6 shirts marked at ₹8,400. How many shirts can be bought with ₹4,900?

- Ans**
- 1. 6
 - 2. 5
 - 3. 7
 - 4. 4

Question ID : **65497832461**
Status : **Answered**
Chosen Option : **4**

Q.15 The price of a sweater was slashed from ₹1422 to ₹1264 by a shopkeeper in the winter season. Find the rate of discount given by him (correct to two decimal places).

- Ans**
- 1. 11.11%
 - 2. 12.11%
 - 3. 9.11%
 - 4. 10%

Question ID : **65497832463**
Status : **Answered**
Chosen Option : **1**

Q.16 The price of an article increases by 20% every year. If the difference between its price at the end of the third and that of the fourth year is ₹86.40, then its price (in ₹) at the end of the second year is:

- Ans**
- 1. 360
 - 2. 420
 - 3. 350
 - 4. 400

Question ID : **65497832473**
Status : **Answered**
Chosen Option : **1**

Q.17 The average of nine numbers is 20.6. The average of three of them is 26.1, while the average of another three of these numbers is 15.2. What is the average of the remaining three numbers?

- Ans**
- 1. 21.5
 - 2. 20.5
 - 3. 35.75
 - 4. 21

Question ID : **65497832454**
Status : **Answered**
Chosen Option : **2**

Q.18 A shopkeeper bought two pairs of shoes at the same price and sold one pair at a profit of 15% and the other pair at a loss of 5%. If the difference between their selling prices is ₹140, then how much profit did he earn in the whole transaction?

- Ans**
- 1. ₹210
 - 2. ₹35
 - 3. ₹70
 - 4. ₹7

Question ID : **65497832457**
Status : **Answered**
Chosen Option : **3**

Q.19 How much maximum water can be poured into an empty cylindrical tank having the depth of 7 m and radius of 20 m?

(Take $\pi = \frac{22}{7}$)

- Ans**
- 1. 8800 m³
 - 2. 4800 m³
 - 3. 8000 m³
 - 4. 4000 m³

Question ID : 65497832468
Status : Answered
Chosen Option : 1

Q.20 The ratio of X's and Y's incomes in the last year was 4 : 5. The ratio of their own incomes of the last year to those of this year is 3 : 4 and 2 : 3, respectively. If the sum of their present incomes is ₹15,400, what is the present income of X?

- Ans**
- 1. ₹6,400
 - 2. ₹7,900
 - 3. ₹9,000
 - 4. ₹7,500

Question ID : 65497832469
Status : Answered
Chosen Option : 1

Q.21 If the HCF of 273, 312 and 351 is x , then x lies between:

- Ans**
- 1. 35 and 40
 - 2. 25 and 30
 - 3. 30 and 35
 - 4. 40 and 45

Question ID : 65497832472
Status : Answered
Chosen Option : 1

Q.22 By selling an article for ₹210.80, a man loses 15%. To gain 9.5%, he should sell it for:

- Ans**
- 1. ₹280.45
 - 2. ₹265.40
 - 3. ₹291.50
 - 4. ₹271.56

Question ID : 65497832476
Status : Answered
Chosen Option : 4

Q.23 आरंभ में, रेखा इस दर से कार्य करती है, कि वह एक कार्य को 24 h में पूरा कर सकती है, लेकिन वह उस दर से केवल 8 h तक ही कार्य करती है। उसके बाद, वह इस दर से कार्य करती है कि वह शेष कार्य को 9 h में पूरा कर सकती है। यदि रेखा को एक कार्यवधि में ही वह कार्य पूरा करना है, तो उस कार्य को पूरा करने में उसे कुल कितने h का समय लगेगा?

Ans 1. 12

2. 10

3. 14

4. 16

Question ID : 65497832465

Status : Answered

Chosen Option : 3

Q.24 If $0.25 : x :: 5 : 6$, then x is equal to:

Ans 1. 0.9

2. 0.3

3. 1.3

4. 0.6

Question ID : 65497832467

Status : Answered

Chosen Option : 2

Q.25 The value of $60 \div 16 \times 2 - [76 \div 5 \text{ of } 19 - 15 \div 8 \times (21 - 25) - 3] \div 53$ is:

Ans 1. $6\frac{4}{15}$

2. $3\frac{7}{10}$

3. $7\frac{2}{5}$

4. $4\frac{2}{5}$

Question ID : 65497832475

Status : Answered

Chosen Option : 3

Section : Part D English

Q.1 Select the correctly spelt word.

Ans 1. Vigorously

2. Carying

3. Metallic

4. Crystalisation

Question ID : 65497832485

Status : Answered

Chosen Option : 1

Q.2 Select the most appropriate meaning of the given idiom.

Full steam ahead

- Ans
- 1. Move very noisily
 - 2. Make a train journey
 - 3. Miss the train before reaching
 - 4. Move onward with determination

Question ID : 65497832487
Status : Answered
Chosen Option : 4

Q.3 Select the most appropriate ANTONYM of the given word.

Assuage

- Ans
- 1. Decrease
 - 2. Relieve
 - 3. Soothe
 - 4. Provoke

Question ID : 65497832490
Status : Answered
Chosen Option : 4

Q.4 Select the option that is closest in meaning to the underlined idiom/phrase in the given sentence.

Please cut down on your expenses now or you will face difficulties in the future.

- Ans
- 1. recover
 - 2. raise
 - 3. refuse
 - 4. reduce

Question ID : 65497832492
Status : Answered
Chosen Option : 4

Q.5 Select the option that can be used as a one-word substitute for the given group of words.

A place where antiques are kept

- Ans
- 1. Museum
 - 2. Hangar
 - 3. Resort
 - 4. Orphanage

Question ID : 65497832486
Status : Answered
Chosen Option : 1

Q.6 Select the INCORRECTLY spelt word.

- Ans 1. Palace
 2. Paint
 3. Pecket
 4. Peddle

Question ID : 65497832479
Status : Answered
Chosen Option : 3

Q.7 Select the most appropriate option that can substitute the underlined segment in the given sentence. If there is no need to substitute it, select 'No substitution required'.

No sooner he had returned home then he saw the letter lying on the table.

- Ans 1. had he returned home when
 2. No substitution required
 3. he returned home than
 4. had he returned home than

Question ID : 65497832491
Status : Answered
Chosen Option : 4

Q.8 The following sentence has been split into four segments. Identify the segment that contains a grammatical error.

God is great / and we could / be grateful to him for all the gifts / he has bestowed on us.

- Ans 1. he has bestowed on us
 2. God is great
 3. and we could
 4. be grateful to him for all the gifts

Question ID : 65497832482
Status : Answered
Chosen Option : 3

Q.9 Select the most appropriate SYNONYM of the given word.

Wily

- Ans 1. Frank
 2. Crafty
 3. Friendly
 4. Honest

Question ID : 65497832496
Status : Answered
Chosen Option : 2

Q.10 The following sentence has been split into four segments. Identify the segment that contains a grammatical error.

Peter said / then / he was / feeling unwell.

- Ans
- 1. Peter said
 - 2. feeling unwell
 - 3. he was
 - 4. then

Question ID : 65497832495
Status : Answered
Chosen Option : 4

Q.11 Select the option that can be used as a one-word substitute for the given group of words.

Person who is not an expert in a field of art or music

- Ans
- 1. Pariah
 - 2. Amateur
 - 3. Patron
 - 4. Eccentric

Question ID : 65497832484
Status : Answered
Chosen Option : 2

Q.12 Select the most appropriate ANTONYM of the given word.

Certainty

- Ans
- 1. Unreasonable
 - 2. Prolong
 - 3. Doubt
 - 4. Divulge

Question ID : 65497832483
Status : Answered
Chosen Option : 3

Q.13 Select the most appropriate synonym of the given word.

Enormous

- Ans
- 1. Massive
 - 2. Expensive
 - 3. Limited
 - 4. Ordinary

Question ID : 65497832489
Status : Answered
Chosen Option : 1

Q.14 Select the option that will improve the underlined part of the given sentence. In case no improvement is needed, select 'No improvement required'.

Not only did he run away from home, but also stole the money.

- Ans
- 1. He only did not run
 - 2. Only he did not ran
 - 3. Not only did he ran
 - 4. No improvement required

Question ID : 65497832494
Status : Answered
Chosen Option : 4

Q.15 Select the most appropriate option to fill in the blank.

Look at the hippo _____ about happily in the river.

- Ans
- 1. crackling
 - 2. stammering
 - 3. sputtering
 - 4. splashing

Question ID : 65497832480
Status : Answered
Chosen Option : 4

Q.16 Select the most appropriate option that can substitute the underlined segment in the given sentence. If there is no need to substitute it, select 'No substitution required'.

They have decorated their house nicely, didn't they?

- Ans
- 1. No substitution required
 - 2. have they
 - 3. did they
 - 4. haven't they

Question ID : 65497832478
Status : Answered
Chosen Option : 4

Q.17 The following sentence has been divided into parts. One of them contains an error. Select the part that contains the error from the given options.

We forgot / to wish Susan / in her birthday / this year.

- Ans
- 1. to wish Susan
 - 2. We forgot
 - 3. in her birthday
 - 4. this year

Question ID : 65497832488
Status : Answered
Chosen Option : 3

Q.18 Select the most appropriate option to fill in the blank.

In the year 1973, there were only 9 tiger reserves, but _____ the number has risen to fifty.

- Ans
- 1. consequently
 - 2. gradually
 - 3. adamantly
 - 4. technically

Question ID : 65497832481
Status : Answered
Chosen Option : 2

Q.19 Select the option that can be used as a one-word substitute for the given group of words.

Dwarf varieties of trees and shrubs grown in pots

- Ans
- 1. Shrimp
 - 2. Pygmy
 - 3. Bonsai
 - 4. Bonanza

Question ID : 65497832497
Status : Answered
Chosen Option : 2

Q.20 Select the most appropriate option to fill in the blank.

The child _____ that he had broken the vase.

- Ans
- 1. collected
 - 2. demanded
 - 3. admitted
 - 4. requested

Question ID : 65497832493
Status : Answered
Chosen Option : 3

Comprehension:

In the following passage, some words have been deleted. Read the passage carefully and select the most appropriate option to fill in each blank.

Once there were two brothers. One brother was (1) _____ poor farmer. He worked in the fields, and (2) _____ the weather was bad, he (3) _____ no food. But he was kind and worked a (4) _____. The other brother was a rich man (5) _____ worked on a ship. He was not kind and often cheated people.

SubQuestion No : 21

Q.21 Select the most appropriate option to fill in blank no. 1.

- Ans
- 1. a
 - 2. simply
 - 3. the
 - 4. only

Question ID : 65497832499
Status : Answered
Chosen Option : 1

Comprehension:

In the following passage, some words have been deleted. Read the passage carefully and select the most appropriate option to fill in each blank.

Once there were two brothers. One brother was (1) _____ poor farmer. He worked in the fields, and (2) _____ the weather was bad, he (3) _____ no food. But he was kind and worked a (4) _____. The other brother was a rich man (5) _____ worked on a ship. He was not kind and often cheated people.

SubQuestion No : 22

Q.22 Select the most appropriate option to fill in blank no. 2.

Ans 1. when

2. what

3. after

4. while

Question ID : 65497832500

Status : Answered

Chosen Option : 4

Comprehension:

In the following passage, some words have been deleted. Read the passage carefully and select the most appropriate option to fill in each blank.

Once there were two brothers. One brother was (1) _____ poor farmer. He worked in the fields, and (2) _____ the weather was bad, he (3) _____ no food. But he was kind and worked a (4) _____. The other brother was a rich man (5) _____ worked on a ship. He was not kind and often cheated people.

SubQuestion No : 23

Q.23 Select the most appropriate option to fill in blank no. 3.

Ans 1. will have

2. had

3. may have

4. has

Question ID : 65497832501

Status : Answered

Chosen Option : 2

Comprehension:

In the following passage, some words have been deleted. Read the passage carefully and select the most appropriate option to fill in each blank.

Once there were two brothers. One brother was (1) _____ poor farmer. He worked in the fields, and (2) _____ the weather was bad, he (3) _____ no food. But he was kind and worked a (4) _____. The other brother was a rich man (5) _____ worked on a ship. He was not kind and often cheated people.

SubQuestion No : 24

Q.24 Select the most appropriate option to fill in blank no. 4.

Ans 1. lots

2. much

3. hard

4. lot

Question ID : 65497832502

Status : Answered

Chosen Option : 4

Comprehension:

In the following passage, some words have been deleted. Read the passage carefully and select the most appropriate option to fill in each blank.

Once there were two brothers. One brother was (1) _____ poor farmer. He worked in the fields, and (2) _____ the weather was bad, he (3) _____ no food. But he was kind and worked a (4) _____. The other brother was a rich man (5) _____ worked on a ship. He was not kind and often cheated people.

SubQuestion No : 25

Q.25 Select the most appropriate option to fill in blank no. 5.

- Ans 1. that
 2. who
 3. which
 4. whom

Question ID : 65497832503
Status : Answered
Chosen Option : 2

Section : Part D Hindi

Q.1 कौनसा शब्द 'वायस' का समानार्थी शब्द नहीं है?

- Ans 1. काक
 2. हरीत
 3. काग
 4. एकाक्ष

Question ID : 65497832507
Status : Not Answered
Chosen Option : --

Q.2 'सम्मुख' का विलोम शब्द होगा-

- Ans 1. मुख
 2. प्रमुख
 3. विमुख
 4. उन्मुख

Question ID : 65497832522
Status : Not Answered
Chosen Option : --

Q.3 रिक्त स्थान को भरने के लिए सबसे उपयुक्त शब्द का चयन करें।

विषयों में _____ होने से सर्वनाश होता है।

- Ans 1. प्रेम
 2. अनुराग
 3. स्नेह
 4. आसक्ति

Question ID : 65497832518
Status : Not Answered
Chosen Option : --

Q.4 दिए गए वाक्य में रेखांकित खंड को प्रतिस्थापित करने के लिए सबसे उपयुक्त विकल्प का चयन करें। यदि इसे प्रतिस्थापित करने की आवश्यकता नहीं है, तो विकल्प 'किसी बदलाव की आवश्यकता नहीं है' का चयन करें।

प्राचार्य ने हमको समझाया की जो परिश्रम करेगा वह सफल होगा।

- Ans
- 1. प्राचार्य ने हमें समझाया कि
 - 2. प्रचार्य ने हमको समझाया कि
 - 3. प्राचार्य ने हमें समझाया की
 - 4. किसी बदलाव की आवश्यकता नहीं है।

Question ID : 65497832514

Status : Not Answered

Chosen Option : --

Q.5 दिए गए वाक्य का वह भाग ज्ञात करें जिसमें कोई त्रुटि है। यदि कोई त्रुटि नहीं है, तो 'कोई त्रुटि नहीं है' चुनें।

हमें भोगविलास के लिए (1)/ धन नष्ट न (2)/ करना चाहिए। (3)/ कोई त्रुटि नहीं है(4)

- Ans
- 1. 2
 - 2. 4
 - 3. 3
 - 4. 1

Question ID : 65497832506

Status : Not Answered

Chosen Option : --

Q.6 दिए गए शब्द का विलोम चुनिए।

सकाम

- Ans
- 1. विषम
 - 2. कुकाम
 - 3. निष्काम
 - 4. शार्थक

Question ID : 65497832509

Status : Not Answered

Chosen Option : --

Q.7 'गीदड़ भभकी' मुहावरे का अर्थ बताइए।

- Ans
- 1. जान से मारने की धमकी
 - 2. अपशब्द कहना
 - 3. झूठी धमकी
 - 4. धोखा देने का प्रयास

Question ID : 65497832512

Status : Not Answered

Chosen Option : --

Q.8 'ऊपरी दिखावे के रूप में होने वाला' वाक्यांश के लिए एक शब्द होगा-

- Ans 1. औपचारिक
 2. अनौपचारिक
 3. उल्लेखनीय
 4. आधिकारिक

Question ID : 65497832523
Status : Not Answered
Chosen Option : --

Q.9 'जो दिये जाने योग्य न हो' वाक्यांश के लिए एक शब्द होगा-

- Ans 1. देय
 2. अज्ञेय
 3. गेय
 4. अदेय

Question ID : 65497832517
Status : Not Answered
Chosen Option : --

Q.10 सही वर्तनी वाले शब्द का चयन कीजिए।

- Ans 1. प्रस्तुतीकरण
 2. प्रस्तुतिकरण
 3. प्रस्तुतीकरण
 4. प्रस्तुतिकरण

Question ID : 65497832504
Status : Not Answered
Chosen Option : --

Q.11 सही वर्तनी वाले शब्द का चयन कीजिए।

- Ans 1. तत्कालीक
 2. तत्कलीक
 3. तात्कालिक
 4. तत्कालिक

Question ID : 65497832505
Status : Not Answered
Chosen Option : --

Q.12 'सुधा' किसका पर्यायवाची है?

- Ans 1. चंद्रमा
 2. पृथ्वी
 3. स्त्री
 4. अमृत

Question ID : 65497832520
Status : Not Answered
Chosen Option : --

Q.13 दिये गये वाक्य के किस भाग में त्रुटि है?

मुझे पैसे की आवश्यकता नहीं है।

- Ans 1. आवश्यकता
 2. पैसे की
 3. नहीं है।
 4. मुझे

Question ID : 65497832519
Status : Not Answered
Chosen Option : --

Q.14 रिक्त स्थान भरने के लिए सबसे उपयुक्त शब्द का चयन करें।

दुकान से दो किलो मिठाई _____ लो।

- Ans 1. भर
 2. खरीद
 3. माँग
 4. प्राप्त

Question ID : 65497832511
Status : Not Answered
Chosen Option : --

Q.15 नीचे दिए वाक्य में रिक्त-स्थान भरने के लिए सबसे उपयुक्त शब्द का चयन करें।

खिड़की के बाहर बारिश का _____ संगीत बज रहा था।

- Ans 1. झिमझीम
 2. झिमझिम
 3. रीमझीम
 4. रिमझिम

Question ID : 65497832516
Status : Not Answered
Chosen Option : --

Q.16 दिये गये वाक्यांश के लिए एक शब्द दीजिये।

जिसका विवाह न हुआ हो

- Ans 1. अपरिणीत
 2. अविकारी
 3. अनुरक्त
 4. अपरिग्रह

Question ID : 65497832513
Status : Not Answered
Chosen Option : --

Q.17 दिए गए वाक्य में रेखांकित खंड को प्रतिस्थापित करने के लिए सबसे उपयुक्त विकल्प का चयन करें।
यदि इसे प्रतिस्थापित करने की आवश्यकता नहीं है, तो विकल्प 'किसी बदलाव की आवश्यकता नहीं है'
का चयन करें।

उसका भाई सेक्रेटरी लगा हुआ है।

- Ans
- 1. सेक्रेटरी लगता है
 - 2. किसी बदलाव की आवश्यकता नहीं है।
 - 3. सेक्रेटरी लगा है
 - 4. सेक्रेटरी है

Question ID : 65497832515

Status : Not Answered

Chosen Option : --

Q.18 दिए गए वाक्य में रेखांकित खंड को प्रतिस्थापित करने के लिए सबसे उपयुक्त विकल्प का चयन करें।
यदि इसे प्रतिस्थापित करने की आवश्यकता नहीं है, तो विकल्प 'किसी बदलाव की आवश्यकता नहीं है'
का चयन करें।

शाम बेटे को पत्र लिखा।

- Ans
- 1. शाम से
 - 2. शाम को
 - 3. शाम ने
 - 4. किसी बदलाव की आवश्यकता नहीं है

Question ID : 65497832508

Status : Not Answered

Chosen Option : --

Q.19 निम्नलिखित प्रश्न में, दिए गए चार विकल्पों में से उस विकल्प का चयन करें, जो मुहावरे का अर्थ व्यक्त करता है।

उल्टी गंगा बहना

- Ans
- 1. अनुकूल कार्य
 - 2. प्रतिकूल कार्य
 - 3. गंगा उलटा बहती हुई दूसरी नदी से मिल जाना
 - 4. गंगा उलटा बह जाना

Question ID : 65497832510

Status : Not Answered

Chosen Option : --

Q.20 दिये गये वाक्य के किस भाग में त्रुटि है?

प्रायः सभी लोग इस बात को नहीं समझते हैं।

- Ans
- 1. इस बात
 - 2. को नहीं
 - 3. समझते हैं।
 - 4. प्रायः सभी लोग

Question ID : 65497832521

Status : Not Answered

Chosen Option : --

Comprehension:

सांस्कृतिक गुलामी का सबसे भयानक रूप वह होता है, जब कोई जाति अपनी भाषा को छोड़कर दूसरों की (1)_____ को अपना लेती है और उसी में तुतलाने को अपना परम (2)_____ मानने लगती है। यह (3)_____ की पराकाष्ठा है, क्योंकि जो जाति अपनी भाषा में नहीं सोचती, अपनी भाषा में अपना साहित्य नहीं लिखती, अपनी भाषा में अपना दैनिक कार्य (4)_____ नहीं करती, वह अपनी परंपरा से छूट जाती है, अपने (5)_____ को खो बैठती है और उसके स्वाभिमान का प्रचंड विनाश हो जाता है।

निम्न प्रश्नों के उत्तर उपरोक्त गद्यांश के आधार पर दीजिए।

SubQuestion No : 21

Q.21 गद्यांश के रिक्त स्थान (1) के लिए सर्वाधिक उपयुक्त शब्द होगा-

- Ans 1. भाषा
 2. रचना
 3. शैली
 4. कला

Question ID : 65497832525
Status : Not Answered
Chosen Option : --

Comprehension:

सांस्कृतिक गुलामी का सबसे भयानक रूप वह होता है, जब कोई जाति अपनी भाषा को छोड़कर दूसरों की (1)_____ को अपना लेती है और उसी में तुतलाने को अपना परम (2)_____ मानने लगती है। यह (3)_____ की पराकाष्ठा है, क्योंकि जो जाति अपनी भाषा में नहीं सोचती, अपनी भाषा में अपना साहित्य नहीं लिखती, अपनी भाषा में अपना दैनिक कार्य (4)_____ नहीं करती, वह अपनी परंपरा से छूट जाती है, अपने (5)_____ को खो बैठती है और उसके स्वाभिमान का प्रचंड विनाश हो जाता है।

निम्न प्रश्नों के उत्तर उपरोक्त गद्यांश के आधार पर दीजिए।

SubQuestion No : 22

Q.22 गद्यांश के रिक्त स्थान (2) के लिए सर्वाधिक उपयुक्त शब्द होगा-

- Ans 1. स्वार्थ
 2. गौरव
 3. घमंड
 4. अभिमान

Question ID : 65497832526
Status : Not Answered
Chosen Option : --

Comprehension:

सांस्कृतिक गुलामी का सबसे भयानक रूप वह होता है, जब कोई जाति अपनी भाषा को छोड़कर दूसरों की (1)_____ को अपना लेती है और उसी में तुतलाने को अपना परम (2)_____ मानने लगती है। यह (3)_____ की पराकाष्ठा है, क्योंकि जो जाति अपनी भाषा में नहीं सोचती, अपनी भाषा में अपना साहित्य नहीं लिखती, अपनी भाषा में अपना दैनिक कार्य (4)_____ नहीं करती, वह अपनी परंपरा से छूट जाती है, अपने (5)_____ को खो बैठती है और उसके स्वाभिमान का प्रचंड विनाश हो जाता है।

निम्न प्रश्नों के उत्तर उपरोक्त गद्यांश के आधार पर दीजिए।

SubQuestion No : 23

Q.23 गद्यांश के रिक्त स्थान (3) के लिए सर्वाधिक उपयुक्त शब्द होगा-

- Ans 1. गुलामी
 2. प्रगति
 3. आजादी
 4. स्वाधीनता

Question ID : 65497832527
Status : Not Answered
Chosen Option : --

Comprehension:

सांस्कृतिक गुलामी का सबसे भयानक रूप वह होता है, जब कोई जाति अपनी भाषा को छोड़कर दूसरों की (1)_____ को अपना लेती है और उसी में तुतलाने को अपना परम (2)_____ मानने लगती है। यह (3)_____ की पराकाष्ठा है, क्योंकि जो जाति अपनी भाषा में नहीं सोचती, अपनी भाषा में अपना साहित्य नहीं लिखती, अपनी भाषा में अपना दैनिक कार्य (4)_____ नहीं करती, वह अपनी परंपरा से छूट जाती है, अपने (5)_____ को खो बैठती है और उसके स्वाभिमान का प्रचंड विनाश हो जाता है।

निम्न प्रश्नों के उत्तर उपरोक्त गद्यांश के आधार पर दीजिए।

SubQuestion No : 24

Q.24 गद्यांश के रिक्त स्थान (4) के लिए सर्वाधिक उपयुक्त शब्द होगा-

- Ans 1. संपादित
 2. अभिव्यक्त
 3. स्पष्ट
 4. मूर्त

Question ID : 65497832528
Status : Not Answered
Chosen Option : --

Comprehension:

सांस्कृतिक गुलामी का सबसे भयानक रूप वह होता है, जब कोई जाति अपनी भाषा को छोड़कर दूसरों की (1)_____ को अपना लेती है और उसी में तुतलाने को अपना परम (2)_____ मानने लगती है। यह (3)_____ की पराकाष्ठा है, क्योंकि जो जाति अपनी भाषा में नहीं सोचती, अपनी भाषा में अपना साहित्य नहीं लिखती, अपनी भाषा में अपना दैनिक कार्य (4)_____ नहीं करती, वह अपनी परंपरा से छूट जाती है, अपने (5)_____ को खो बैठती है और उसके स्वाभिमान का प्रचंड विनाश हो जाता है।

निम्न प्रश्नों के उत्तर उपरोक्त गद्यांश के आधार पर दीजिए।

SubQuestion No : 25

Q.25 गद्यांश के रिक्त स्थान (5) के लिए सर्वाधिक उपयुक्त शब्द होगा-

- Ans 1. सौन्दर्य
 2. सुख
 3. व्यक्तित्व
 4. विकास

Question ID : 65497832529
Status : Not Answered
Chosen Option : --