

## Constable GD in CAPFs NIA SSF and Rifleman GD in Assam Rifles Examination 2021

Roll Number	<a href="http://www.GovtJobsAlert.In">www.GovtJobsAlert.In</a>
Candidate Name	<a href="http://www.GovtJobsAlert.In">www.GovtJobsAlert.In</a>
Venue Name	iON Digital Zone iDZ Kalyani
Exam Date	03/12/2021
Exam Time :	12:30 PM - 2:00 PM
Subject	Constable GD 2021

### Section : Part A General Intelligence and Reasoning

Q.1 निम्नलिखित विकल्पों में से उस विकल्प का चयन करें, जो दिए गए शब्दों के उस सही क्रम को दर्शाता है, जिस क्रम में ये शब्द अंग्रेजी शब्दकोश में दिखाई देते हैं।

1. Loiter
2. Loiterer
3. Logic
4. Logotype
5. Log

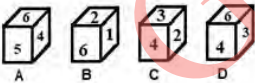
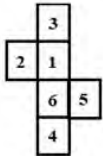
- Ans
- 1. 5, 3, 1, 4, 2
  - 2. 5, 3, 4, 2, 1
  - 3. 5, 4, 3, 1, 2
  - 4. 5, 3, 4, 1, 2

Question ID : 65497832039

Status : Answered

Chosen Option : 4

Q.2 उस/उन पासे/पासों का चयन करें, जिसे दी गई शीट को लाइनों पर मोड़कर बनाया जा सकता है।



- Ans
- 1. A और D, दोनों
  - 2. केवल B
  - 3. केवल A
  - 4. B और C, दोनों

Question ID : 65497832029

Status : Answered

Chosen Option : 4

Q.3 एक विशिष्ट कूट भाषा में, 'FILE' को 'LIEF' और 'YOUR' को 'UORY' लिखा जाता है। इस भाषा में 'MARK' को क्या लिखा जाएगा?

- Ans
- 1. RAMK
  - 2. RAKM
  - 3. ARMK
  - 4. ARKM

Question ID : 65497832037  
Status : Answered  
Chosen Option : 2

Q.4 दिए गए कथनों और निष्कर्षों को ध्यानपूर्वक पढ़ें। कथनों में दी गई जानकारी सही मानते हुए, चाहे वह सामान्य ज्ञात तथ्यों से भिन्न प्रतीत हो, निर्णय करें कि दिए गए निष्कर्षों में से कौन-सा/से कथनों का तार्किक रूप से अनुसरण करता है (करते हैं)।

कथन:  
सभी विद्यार्थी डॉक्टरेट हैं।  
विश्वविद्यालय के सभी शिक्षक डॉक्टरेट हैं।

निष्कर्ष:  
I. कुछ डॉक्टरेट विद्यार्थी हैं।  
II. कुछ डॉक्टरेट विश्वविद्यालय के शिक्षक हैं।

- Ans
- 1. केवल निष्कर्ष II अनुसरण करता है।
  - 2. केवल निष्कर्ष I अनुसरण करता है।
  - 3. दोनों निष्कर्ष अनुसरण करते हैं।
  - 4. या तो निष्कर्ष I या निष्कर्ष II अनुसरण करता है।

Question ID : 65497832032  
Status : Answered  
Chosen Option : 3

Q.5 L की दो संतानें हैं और वह एकमात्र बेटा है, G का, जो T का ससुर है। T का केवल एक बेटा है। T, P की माँ है। Q, G की पोती नहीं है। P और Q सहोदर हैं। T, Q से किस प्रकार संबंधित है?

- Ans
- 1. भाई
  - 2. माँ
  - 3. पिता
  - 4. बहन

Question ID : 65497832038  
Status : Answered  
Chosen Option : 2

Q.6 वह संख्या ज्ञात कीजिए जिसे उसके 15 गुने संख्या में जोड़ने पर 176 प्राप्त होता है।

- Ans
- 1. 13
  - 2. 11
  - 3. 14
  - 4. 16

Question ID : 65497832034  
Status : Answered  
Chosen Option : 2

Q.7 चार अक्षर-समूह दिए गए हैं, जिनमें से तीन किसी तरह से संगत हैं और एक असंगत है। उस अक्षर-समूह का चयन करें, जो अन्य से असंगत है।

- Ans
- 1. DHLP
  - 2. NRVZ
  - 3. TXBF
  - 4. YCGL

Question ID : 65497832043  
Status : Answered  
Chosen Option : 4

Q.8 किसी विशिष्ट कूट भाषा में, 'how are you' को 'so me lo', 'you are intelligent' को 'the lo me' और 'are they lazy' को 'me ca ya' लिखा जाता है। इस भाषा में 'how are they' को क्या लिखा जाएगा?

- Ans
- 1. ya ca me
  - 2. so me ca
  - 3. so lo ca
  - 4. the lo me

Question ID : 65497832031  
Status : Answered  
Chosen Option : 2

Q.9 सात कार्यकर्ता आलोक, भूषण, कोलिन, दिनेश, ईशांत, फातिमा और गौरव एक सीधी रेखा में उत्तर की ओर उन्मुख होकर बैठे हैं। फातिमा, दिनेश और गौरव के बीच बैठी है। भूषण, कोलिन और आलोक के बीच में बैठा है। ईशांत, गौरव के बायें तीसरे स्थान पर है। गौरव एक कोने पर बैठा है। आलोक, कोलिन के दायें दूसरे स्थान पर है। ईशांत और फातिमा के बीच में कौन बैठा है?

- Ans
- 1. दिनेश
  - 2. भूषण
  - 3. आलोक
  - 4. गौरव

Question ID : 65497832026  
Status : Answered  
Chosen Option : 1

Q.10 यदि '+', गुणन को निरूपित करता है, '÷', घटाना निरूपित करता है और '-', विभाजन को निरूपित करता है, तो निम्न व्यंजक का मान ज्ञात करें।

$$25 + 25 \div 50 - 5$$

- Ans
- 1. 135
  - 2. 165
  - 3. 155
  - 4. 615

Question ID : 65497832028  
Status : Answered  
Chosen Option : 4

Q.11 उस विकल्प का चयन करें जो तीसरे अक्षर-समूह से उसी प्रकार संबंधित है, जिस प्रकार दूसरा अक्षर-समूह पहले अक्षर-समूह से संबंधित है।

DEAL : WVZO :: CARD : ?

- Ans  1. XZIW  
 2. ZXWI  
 3. ZXIW  
 4. XZWI

Question ID : 65497832036  
Status : Answered  
Chosen Option : 1

Q.12 उस विकल्प का चयन करें जो तीसरे शब्द से उसी प्रकार संबंधित है जिस प्रकार दूसरा शब्द पहले शब्द से संबंधित है।

छुपाना : प्रकट करना :: विस्तार करना : ?

- Ans  1. संकुचित करना  
 2. चौड़ा करना  
 3. फैलाना  
 4. बड़ा करना

Question ID : 65497832023  
Status : Answered  
Chosen Option : 1

Q.13 उस विकल्प का चयन कीजिए जिसका चौथी संख्या से वही संबंध है, जो पहली संख्या का दूसरी संख्या से है।

7 : 49 :: ? : 81

- Ans  1. 6  
 2. 9  
 3. 7  
 4. 8

Question ID : 65497832027  
Status : Answered  
Chosen Option : 2

Q.14 दिए गए विकल्पों में से उस अक्षर-समूह का चयन करें जो निम्नलिखित श्रृंखला में प्रश्न चिह्न (?) के स्थान पर आ सकता है।

NGP, OIS, PKV, ?

- Ans  1. QMX  
 2. QMY  
 3. RMY  
 4. RNX

Question ID : 65497832022  
Status : Answered  
Chosen Option : 2

Q.15 एक निश्चित कूट भाषा में, HALT को 164 लिखा जाता है और MOP को 132 लिखा जाता है। उसी कूट भाषा में GOBLET को किस प्रकार लिखा जाएगा?

- Ans
- 1. 334
  - 2. 288
  - 3. 366
  - 4. 260

Question ID : 65497832044  
Status : Answered  
Chosen Option : 3

Q.16 दिए गए पैटर्न का ध्यानपूर्वक अध्ययन करें, और उस संख्या का चयन करें जो प्रश्नवाचक चिह्न (?) के स्थान पर आ सकती है।

49 8 73  
11 6 29  
? 12 58

- Ans
- 1. 24
  - 2. 16
  - 3. 6
  - 4. 22

Question ID : 65497832033  
Status : Answered  
Chosen Option : 4

Q.17 सात दोस्त, M, N, O, P, Q, R और S, एक वृत्ताकार मेज़ के परितः मेज़ के केंद्र की ओर मुँह करके बैठे हैं। P और R, N के पड़ोसी हैं। S, N के बाईं ओर दूसरे स्थान पर बैठा है। O, R और Q के बीच बैठा है। O के दाईं ओर दूसरे स्थान पर कौन बैठा है?

- Ans
- 1. M
  - 2. N
  - 3. S
  - 4. Q

Question ID : 65497832024  
Status : Answered  
Chosen Option : 1

Q.18 अक्षरों के उस संयोजन का चयन करें, जिसे जब दी गई श्रृंखला के रिक्त स्थानों में क्रम से रखा जाए, तो श्रृंखला पूर्ण होगी।

P \_ \_ F I \_ \_ R O F \_ \_ P R O \_ \_ T P R \_ \_ I T

- Ans
- 1. ROTPITFIOP
  - 2. RPITOFITOF
  - 3. ROTPIFOFFI
  - 4. ROTIPFTIOF

Question ID : 65497832040  
Status : Answered  
Chosen Option : 1

Q.19 दिए गए विकल्पों में से उस संख्या का चयन कीजिए, जो निम्नलिखित श्रेणी में प्रश्नवाचक चिह्न (?) के स्थान पर आ सकती है।

66, 77, 90, 107, 126, ?, 178

Ans  1. 168

2. 154

3. 136

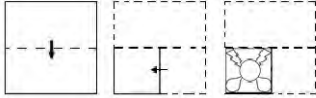
4. 149

Question ID : 65497832045

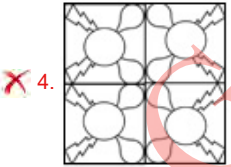
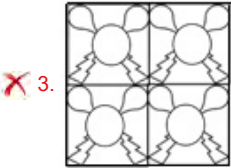
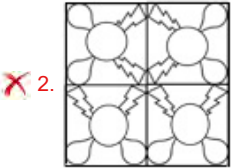
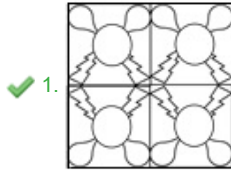
Status : Answered

Chosen Option : 4

Q.20 निम्नांकित चित्रों में एक कागज को मोड़ने का क्रम और मुड़े हुए कागज को काटने का तरीका दर्शाया गया है। मुड़े हुए कागज को खोलने पर यह कैसा दिखाई देगा?



Ans

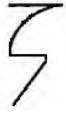


Question ID : 65497832035

Status : Answered

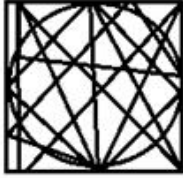
Chosen Option : 1

Q.21 उस विकल्प का चयन करें जिसमें दी गई आकृति सन्नहित है (घुमाने की अनुमति नहीं है)।



Ans

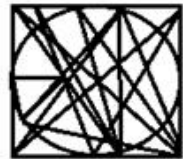
✗ 1.



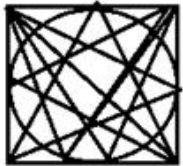
✗ 2.



✓ 3.



✗ 4.



Question ID : 65497832030

Status : Answered

Chosen Option : 3

Q.22 दिए गए संयोजन के सही दर्पण प्रतिबिंब का चयन कीजिए, जबकि दर्पण को इसकी दाईं ओर रखा गया है।

R k m S G 5

Ans

✗ 1.



✗ 2.



✓ 3.



✗ 4.



Question ID : 65497832046

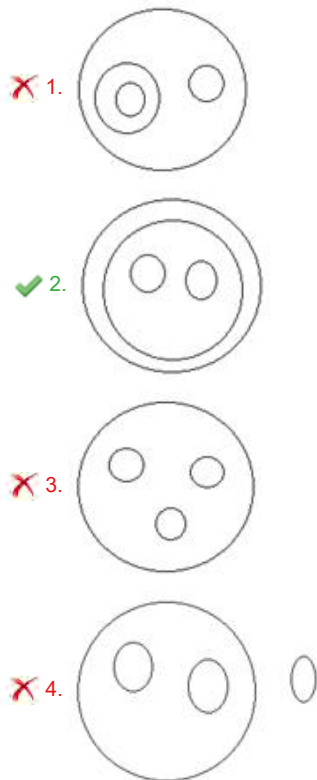
Status : Answered

Chosen Option : 3

**Q.23** Select the Venn diagram that best represents the relationship between the following classes.

Living things, Animals, Birds, Dogs

**Ans**

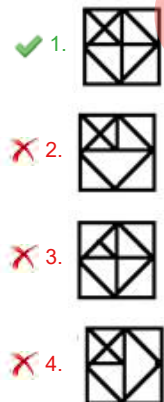


Question ID : 65497832025  
 Status : Answered  
 Chosen Option : 1

**Q.24** दिए गए विकल्पों में से उस आकृति का चयन करें, जो निम्नांकित आकृति में प्रश्नवाचक चिह्न (?) के स्थान पर आ सकती है (घुमाने की अनुमति नहीं है)।



**Ans**



Question ID : 65497832042  
 Status : Answered  
 Chosen Option : 1



Q.25 दिए गए विकल्पों में से उस संख्या का चयन करें, जो निम्नलिखित श्रृंखला में प्रश्नवाचक चिह्न (?) के स्थान पर आ सकती है।

145, 175, 235, 265, 325, ?, 415

Ans  1. 385

2. 375

3. 355

4. 380

Question ID : 65497832041

Status : Answered

Chosen Option : 3

Section : Part B General Knowledge and General Awareness

Q.1 समुद्री निकायों और समुद्र में \_\_\_\_\_ पानी होता है।

Ans  1. खारा

2. कड़वा

3. खट्टा

4. मीठा

Question ID : 65497832058

Status : Answered

Chosen Option : 1

Q.2 निम्नलिखित में से किस अभिनेता ने बिहार के एक यूट्यूबर (YouTuber) को नवंबर 2020 में मानहानि का नोटिस दिया, जिसमें उस पर कथित रूप से झूठे और बेबुनियाद आरोप लगाने के लिए हर्जाने में ₹500 करोड़ की मांग की?

Ans  1. अक्षय कुमार

2. सलमान खान

3. आमिर खान

4. अजय देवगन

Question ID : 65497832066

Status : Answered

Chosen Option : 3

Q.3 सर्वोच्च भारतीय नागरिक पुरस्कार, भारत रत्न, निम्नलिखित में से किस वर्ष में आरंभ किया गया था?

Ans  1. 1956

2. 1952

3. 1954

4. 1963

Question ID : 65497832054

Status : Answered

Chosen Option : 3

Q.4 दिसंबर 2020 में, \_\_\_\_\_, तिरुवनंतपुरम नगर निगम के सबसे कम उम्र के मेयर बने।

- Ans  1. आर्या राजेंद्रन  
 2. शोभा सुरेंद्रन  
 3. आशा प्रकाश  
 4. श्रीकला नाडर

Question ID : 65497832069  
Status : Answered  
Chosen Option : 1

Q.5 ओरल रिहाइड्रेशन सॉल्यूशन (ORS) की अनुशंसा \_\_\_\_\_ से पीड़ित व्यक्ति के लिए की जाती है।

- Ans  1. त्वचा के चकत्ते  
 2. आँख आना (कंजेक्टिवाइटिस)  
 3. दस्त (डायरिया)  
 4. घरघराहट (व्हीज़िंग)

Question ID : 65497832064  
Status : Answered  
Chosen Option : 1

Q.6 1756 में सिराज उद-दौला, \_\_\_\_\_ के बाद बंगाल के नवाब बने।

- Ans  1. मीर जाफ़र  
 2. मीर कासिम  
 3. मुर्शिद कुली खान  
 4. अलीवर्दी खान

Question ID : 65497832060  
Status : Answered  
Chosen Option : 1

Q.7 प्रधानमंत्री रोजगार सृजन कार्यक्रम ('PMEGP') में व्यवसाय/सेवा क्षेत्र के तहत स्वीकार्य परियोजना की अधिकतम लागत कितनी है?

- Ans  1. ₹ 25 लाख  
 2. ₹ 10 लाख  
 3. ₹ 5 लाख  
 4. ₹ 20 लाख

Question ID : 65497832047  
Status : Not Answered  
Chosen Option : --

Q.8 अगस्त 2021 में, निम्न में से किस बैंक ने श्रीनगर की डल झील में एक हाउसबोट पर पहला तैरता हुआ एटीएम (ATM) खोला?

- Ans
- 1. आईडीएफसी (IDFC) बैंक
  - 2. भारतीय स्टेट बैंक
  - 3. बैंक ऑफ बड़ौदा
  - 4. एक्सिस बैंक

Question ID : 65497832071  
Status : Answered  
Chosen Option : 2

Q.9 निम्नलिखित में से किस तिथि को विश्व एड्स दिवस मनाया जाता है?

- Ans
- 1. 12 जुलाई
  - 2. 5 सितंबर
  - 3. 1 दिसंबर
  - 4. 17 मई

Question ID : 65497832053  
Status : Answered  
Chosen Option : 3

Q.10 \_\_\_\_\_, एक खोखली लौकी में बांस के दो छोटे पाइप लगाकर बनाया गया एक सुधिर वाद्य यंत्र है, जिसे ज्यादातर सपेरो द्वारा इस्तेमाल किया जाता है।

- Ans
- 1. बीन
  - 2. डेरु
  - 3. घड़ा
  - 4. खरतल

Question ID : 65497832067  
Status : Answered  
Chosen Option : 1

Q.11 निम्नलिखित में से किस लड़ाई में ईस्ट इंडिया कंपनी ने मैसूर पर कब्जा कर लिया?

- Ans
- 1. बक्सर की लड़ाई
  - 2. श्रीरंगपट्टणम् की घेराबंदी
  - 3. प्लासी की लड़ाई
  - 4. पोलिलूर की लड़ाई

Question ID : 65497832057  
Status : Answered  
Chosen Option : 2

Q.12 भारतीय दंड संहिता की धारा 510 के अनुसार, एक शराबी व्यक्ति द्वारा सार्वजनिक रूप से दुराचार करने की सजा साधारण कारावास के साथ दंडनीय है, जो चौबीस घंटे तक बढ़ाई जा सकती है, या जुर्माना जो ₹ \_\_\_\_\_ तक बढ़ाया जा सकता है, या इन दोनों के साथ दंडित किया जा सकता है।

- Ans
- 1. 100
  - 2. 10
  - 3. 500
  - 4. 1000

Question ID : 65497832062  
Status : Not Answered  
Chosen Option : --

Q.13 देश के भीतर लोगों के एक स्थान से दूसरे स्थान पर जाने अथवा देश से बाहर जाने को \_\_\_\_\_ कहा जाता है।

- Ans
- 1. उत्प्रवास (एमिग्रेशन)
  - 2. प्रवास (माइग्रेशन)
  - 3. आप्रवास (इमिग्रेशन)
  - 4. नानवस्थानान्तर (ट्रांस ह्यूमन)

Question ID : 65497832050  
Status : Answered  
Chosen Option : 1

Q.14 \_\_\_\_\_ और ताप्ती नदियाँ एक दूसरे के लगभग समानांतर बहती हैं, लेकिन विपरीत दिशाओं में खुद को खाली कर लेती हैं।

- Ans
- 1. कृष्णा
  - 2. ब्रह्मपुत्र
  - 3. नर्मदा
  - 4. कावेरी

Question ID : 65497832068  
Status : Answered  
Chosen Option : 3

Q.15 हमारे सौर मंडल के बाहर निम्नलिखित में से ऐसा कौन सा ग्रह है जो आमतौर पर हमारी आकाशगंगा में किसी अन्य तारे की परिक्रमा करता है?

- Ans
- 1. हौमिया (Haumea)
  - 2. एक्सोप्लैनेट (Exoplanet)
  - 3. मीज़ोप्लैनेट (Mesoplanet)
  - 4. सुपर अर्थ (Super Earth)

Question ID : 65497832052  
Status : Not Answered  
Chosen Option : --

Q.16 In which income group does India fall on the basis of Gross National Income classified by the World Bank?

- Ans
- 1. High income group
  - 2. Low-income group
  - 3. Lower-middle income group
  - 4. Upper-middle income group

Question ID : 65497832056  
Status : Not Answered  
Chosen Option : --

Q.17 लॉन टेनिस में निम्नलिखित में से किस शब्द का प्रयोग नहीं किया जाता है?

- Ans
- 1. स्मैश (Smash)
  - 2. ड्यूस (Deuce)
  - 3. स्कूप (Scoop)
  - 4. एस (Ace)

Question ID : 65497832055  
Status : Answered  
Chosen Option : 3

Q.18 भारत ने किल्से, पोलैंड (Kielce, Poland) में आयोजित AIBA युवा पुरुष और महिला विश्व मुक्केबाजी चैंपियनशिप 2021 में कुल \_\_\_\_\_ पदक जीते।

- Ans
- 1. 9
  - 2. 11
  - 3. 10
  - 4. 8

Question ID : 65497832070  
Status : Answered  
Chosen Option : 2

Q.19 भारत के संविधान के किस अनुच्छेद द्वारा, 'अस्पृश्यता' को समाप्त कर दिया गया है, और किसी भी रूप में इस प्रथा का प्रचलन निषिद्ध किया गया है?

- Ans
- 1. 17
  - 2. 19
  - 3. 16
  - 4. 18

Question ID : 65497832048  
Status : Answered  
Chosen Option : 1

Q.20 नवंबर 2020 में प्रधानमंत्री नरेंद्र मोदी द्वारा वीडियो कॉन्फ्रेंसिंग के माध्यम से \_\_\_\_\_ राज्य में 'स्टैच्यू ऑफ पीस' का अनावरण किया गया।

- Ans
- 1. गुजरात
  - 2. राजस्थान
  - 3. बिहार
  - 4. उत्तर प्रदेश

Question ID : 65497832063  
Status : Answered  
Chosen Option : 2

Q.21 नवंबर 2019 में नीति आयोग ने भूमि \_\_\_\_\_ पर एक प्रारूप मॉडल अधिनियम जारी किया है।

- Ans
- 1. अधिग्रहण
  - 2. शीर्षांकन
  - 3. राजस्व
  - 4. उपरिसीमा

Question ID : 65497832049  
Status : Not Answered  
Chosen Option : --

Q.22 Pit-houses dug into the ground, with steps leading into them were found at the \_\_\_\_\_ archaeological site.

- Ans
- 1. Utnur
  - 2. Burzahom
  - 3. Hallur
  - 4. Paiyampalli

Question ID : 65497832061  
Status : Not Answered  
Chosen Option : --

Q.23 आई.पी.एल. (IPL) 2020 में कौन सी चार टीमों ने प्लेऑफ़ खेला?

- Ans
- 1. सनराइजर्स हैदराबाद, राजस्थान रॉयल्स, रॉयल चैलेंजर्स बैंगलोर, मुंबई इंडियंस
  - 2. दिल्ली कैपिटल्स, किंग्स इलेवन पंजाब, मुंबई इंडियंस, कोलकाता नाइट राइडर्स
  - 3. चेन्नई सुपर किंग्स, दिल्ली कैपिटल्स, सनराइजर्स हैदराबाद, रॉयल चैलेंजर्स बैंगलोर
  - 4. मुंबई इंडियंस, सनराइजर्स हैदराबाद, रॉयल चैलेंजर्स बैंगलोर, दिल्ली कैपिटल्स

Question ID : 65497832059  
Status : Answered  
Chosen Option : 4

Q.24 'खुल्लम' लोक नृत्य निम्नलिखित में से किस राज्य से संबंधित है?

- Ans
- 1. हरियाणा
  - 2. छत्तीसगढ़
  - 3. मिज़ोरम
  - 4. झारखंड

Question ID : 65497832051  
Status : Answered  
Chosen Option : 4

Q.25 वेदी, \_\_\_\_\_ शासकों द्वारा जबरन श्रम के रूप में एकत्र किया गया कर था।

- Ans
- 1. नंद
  - 2. पल्लव
  - 3. चालुक्य
  - 4. चोल

Question ID : 65497832065  
Status : Not Answered  
Chosen Option : --

Section : Part C Elementary Mathematics

Q.1 एक घनाभ की लंबाई, चौड़ाई और ऊंचाई का योगफल 18 cm है। यदि इसके विकर्ण की लंबाई 13 cm है, तो घनाभ का कुल पृष्ठीय क्षेत्रफल ज्ञात कीजिए।

- Ans
- 1. 155 cm<sup>2</sup>
  - 2. 154 cm<sup>2</sup>
  - 3. 145 cm<sup>2</sup>
  - 4. 150 cm<sup>2</sup>

Question ID : 65497832078  
Status : Answered  
Chosen Option : 1

Q.2 कक्षा X में 5 वर्ग हैं जिनमें क्रमशः 40, 50, 50, 60 और 60 छात्र हैं। इन वर्गों का उत्तीर्ण प्रतिशत क्रमशः 80%, 76%, 64%, 65% और 70% है। संपूर्ण कक्षा X का उत्तीर्ण प्रतिशत (दशमलव के दो स्थानों तक सही) ज्ञात कीजिए।

- Ans
- 1. 70.38%
  - 2. 71.83%
  - 3. 69.73%
  - 4. 72.81%

Question ID : 65497832074  
Status : Answered  
Chosen Option : 1

**Q.3** यदि पहले वर्ष के लिए ब्याज दर 5% है, दूसरे वर्ष के लिए 6% है और तीसरे वर्ष के लिए 8% है, तो कौन सी राशि 3 वर्षों में चक्रवृद्धि ब्याज के तहत ₹30,051 का मिश्रधन देगी?

- Ans**
- 1. ₹25,000
  - 2. ₹30,000
  - 3. ₹28,000
  - 4. ₹26,000

Question ID : **65497832084**  
Status : **Answered**  
Chosen Option : **1**

**Q.4** राम ने ₹6,800 में एक वस्तु खरीदी और इसकी मरम्मत पर ₹700 खर्च किए। वह अपनी वस्तु पर कुल लागत से 8% अधिक मूल्य अंकित करता है। उसने 10% और  $x$  % की दो क्रमिक छूट देने के बाद वस्तु को ₹6,196.50 में बेची।  $x$  का मान ज्ञात कीजिए।

- Ans**
- 1. 15
  - 2. 10
  - 3. 18
  - 4. 12

Question ID : **65497832073**  
Status : **Answered**  
Chosen Option : **1**

**Q.5** एक परीक्षा में उत्तीर्ण प्रतिशत, कुल अंकों का 35% है। एक छात्र ने 390 अंक प्राप्त किए और उसे 65 अंकों से अनुत्तीर्ण घोषित कर दिया गया। परीक्षा के कुल अंक कितने होने चाहिए?

- Ans**
- 1. 1200
  - 2. 1000
  - 3. 1600
  - 4. 1300

Question ID : **65497832086**  
Status : **Answered**  
Chosen Option : **4**

**Q.6** वार्षिक रूप से संयोजित, 9% की वार्षिक दर पर एक वर्ष और 4 महीनों के लिए ₹20,000 पर अर्जित चक्रवृद्धि ब्याज ज्ञात कीजिए।

- Ans**
- 1. ₹2,540
  - 2. ₹2,654
  - 3. ₹2,454
  - 4. ₹2,450

Question ID : **65497832083**  
Status : **Answered**  
Chosen Option : **3**



**Q.7** जब 38 kg के भार वाले एक व्यक्ति को नए व्यक्ति द्वारा प्रतिस्थापित किया जाता है, तो 5 व्यक्तियों के औसत भार में 2.8 kg की वृद्धि होती है। नए व्यक्ति का भार ज्ञात कीजिए।

- Ans**
- 1. 50 kg
  - 2. 52 kg
  - 3. 44 kg
  - 4. 48 kg

Question ID : 65497832080  
Status : Answered  
Chosen Option : 2

**Q.8** दो वस्तुओं का क्रय मूल्य 4 : 5 के अनुपात में है। पहली वस्तु को 10% लाभ पर और दूसरी वस्तु को 20% लाभ पर बेचने से उनके विक्रय मूल्य के बीच का अंतर ₹480 है। दोनों वस्तुओं के क्रय मूल्य का योगफल क्या है?

- Ans**
- 1. ₹2,800
  - 2. ₹2,500
  - 3. ₹2,700
  - 4. ₹3,200

Question ID : 65497832081  
Status : Answered  
Chosen Option : 3

**Q.9** दो संख्याएँ 2 : 3 के अनुपात में हैं। उनके लघुत्तम समापवर्त्य (LCM) और महत्तम समापवर्तक (HCF) का गुणनफल 7350 है। दोनों संख्याओं के बीच का अंतर ज्ञात करें।

- Ans**
- 1. 45
  - 2. 25
  - 3. 15
  - 4. 35

Question ID : 65497832085  
Status : Answered  
Chosen Option : 4

**Q.10** दो धनात्मक संख्याओं के लघुत्तम समापवर्त्य (LCM) और महत्तम समापवर्तक (HCF) का योग और अंतर क्रमशः 148 और 140 है। यदि एक संख्या 16 है, तो दूसरी संख्या ज्ञात कीजिए।

- Ans**
- 1. 38
  - 2. 46
  - 3. 36
  - 4. 34

Question ID : 65497832079  
Status : Answered  
Chosen Option : 3

**Q.11** एक स्कूल में लड़कों और लड़कियों का अनुपात 7 : 5 है। यदि 60% लड़के और 40% लड़कियों की आयु 14 वर्ष और 14 वर्ष से कम है और 14 वर्ष की आयु से अधिक आयु वाले विद्यार्थियों की संख्या 870 है, तो स्कूल में विद्यार्थियों की कुल संख्या ज्ञात कीजिए।

- Ans**
- 1. 1800
  - 2. 1750
  - 3. 1850
  - 4. 1600

Question ID : **65497832082**  
Status : **Answered**  
Chosen Option : 1

**Q.12** एक ट्रेन को 80 km/h की चाल से एक निश्चित दूरी तय करने में 1 घंटा और 12 मिनट का समय लगता है। यदि ट्रेन की चाल 25% बढ़ जाती है, तो पूर्व दूरी के  $\frac{25}{3}$  भाग को तय करने में कितना समय (घंटों में) लगेगा?

- Ans**
- 1. 4
  - 2. 6
  - 3. 8
  - 4. 10

Question ID : **65497832076**  
Status : **Answered**  
Chosen Option : 3

**Q.13** A ने एक वस्तु B को 24% लाभ पर बेची। B ने इसे C को 30% लाभ पर बेचा। यदि B का लाभ, A की तुलना में ₹72.60 अधिक था, तो B ने इसके लिए (₹ में) कितना भुगतान किया?

- Ans**
- 1. 660
  - 2. 784
  - 3. 682
  - 4. 781

Question ID : **65497832092**  
Status : **Answered**  
Chosen Option : 1

**Q.14** A और B एक कार्य को क्रमशः 12 दिनों और 18 दिनों में पूरा कर सकते हैं। उन्होंने 4 दिनों तक एक साथ मिलकर कार्य किया जिसके बाद B के स्थान पर C को कार्य पर लगा दिया गया तथा शेष कार्य A और C ने अगले 4 दिनों में पूरा कर लिया। C अकेला इस कार्य के एक-तिहाई भाग को कितने दिनों में पूरा करेगा?

- Ans**
- 1. 10 दिन
  - 2. 12 दिन
  - 3. 9 दिन
  - 4. 8 दिन

Question ID : **65497832075**  
Status : **Answered**  
Chosen Option : 2

**Q.15** 3 cm त्रिज्या वाली एक गोलाकार गेंद, 5 cm की त्रिज्या वाले एक ऊर्ध्वाधर बेलन में भरे हुए पानी में डूबी हुई है। यह मानते हुए कि गेंद पूर्णतः पानी में डूबी है, जल स्तर में होने वाली वृद्धि (cm में, दशमलव के दो स्थानों तक) ज्ञात कीजिए।

- Ans**
- 1. 1.44
  - 2. 2.25
  - 3. 3.14
  - 4. 1.75

Question ID : 65497832096  
Status : Answered  
Chosen Option : 1

**Q.16** एक व्यापारी किसी वस्तु को उसके अंकित मूल्य पर 20% की छूट देकर बेचने पर 20% का लाभ अर्जित करता है। यदि वस्तु का क्रय मूल्य ₹448 है, तो उसका अंकित मूल्य (₹ में) क्या होगा?

- Ans**
- 1. 672
  - 2. 600
  - 3. 652
  - 4. 640

Question ID : 65497832093  
Status : Answered  
Chosen Option : 1

**Q.17** सुषमा ने रेशमा की तुलना में 40% अधिक निवेश किया। रेशमा ने दिव्या की तुलना में 30% कम निवेश किया। यदि दिव्या द्वारा निवेशित राशि ₹6,000 है, तो सुषमा द्वारा निवेशित राशि ज्ञात कीजिए।

- Ans**
- 1. ₹4,850
  - 2. ₹4,520
  - 3. ₹5,880
  - 4. ₹5,550

Question ID : 65497832077  
Status : Answered  
Chosen Option : 3

**Q.18** A और B की आय का अनुपात 8 : 11 है, और उनकी बचत का अनुपात 7 : 9 है। यदि A और B के व्यय क्रमशः ₹25,000 और ₹35,000 हैं, तो B की आय (₹ में) ज्ञात कीजिए।

- Ans**
- 1. 42,900
  - 2. 44,000
  - 3. 38,500
  - 4. 39,600

Question ID : 65497832094  
Status : Answered  
Chosen Option : 2

Q.19  $36 \div 18 \text{ of } 3 \times 2 + 8 \div 4 \text{ of } 2 \times 5 - 5 \div 10 \times 2$  का मान ज्ञात करें।

Ans

- ✓ 1.  $5\frac{1}{3}$   
✗ 2.  $9\frac{1}{6}$   
✗ 3.  $1\frac{1}{3}$   
✗ 4.  $6\frac{1}{12}$

Question ID : 65497832087

Status : Answered

Chosen Option : 1

Q.20 एक कंप्यूटर परीक्षा में उन्नीस छात्रों के औसत अंक 74 हैं। बाद में यह पाया गया कि औसत की गणना करते समय एक छात्र द्वारा प्राप्त अंक 56 के स्थान पर गलती से 65 के रूप में दर्ज किए गए थे। सही औसत अंक कितना है (दशमलव के एक स्थान तक सही)?

Ans

- ✗ 1. 73.7  
✓ 2. 73.5  
✗ 3. 74  
✗ 4. 75.9

Question ID : 65497832072

Status : Answered

Chosen Option : 2

Q.21 एक कार की चाल में 25% की वृद्धि होने पर, वह समान दूरी तय करने में 24 मिनट कम समय लेती है। वास्तविक चाल से इस दूरी को तय करने में कितना समय (घंटों में) लगता है?

Ans

- ✓ 1. 2  
✗ 2.  $1\frac{1}{2}$   
✗ 3.  $2\frac{1}{3}$   
✗ 4. 3

Question ID : 65497832091

Status : Answered

Chosen Option : 1

Q.22  $\frac{10}{21} \div 1\frac{1}{14}$  of  $\frac{5}{3} - \frac{5}{3} \times \frac{1}{10} + \frac{9}{28} \div \frac{3}{7}$  of  $\frac{6}{5}$  का मान ज्ञात करें।

Ans

1.  $\frac{11}{15}$
2.  $\frac{1}{10}$
3.  $\frac{29}{40}$
4.  $\frac{4}{15}$

Question ID : 65497832090

Status : Answered

Chosen Option : 3

Q.23 ₹8,400 की एक धनराशि को A और B के बीच इस प्रकार बांटा जाता है कि 15% वार्षिक ब्याज की दर पर, ब्याज की गणना 8-मासिक चक्रवृद्धि आधार पर करने पर, 2 वर्ष के अंत में A को मिलने वाली धनराशि,  $2\frac{2}{3}$  वर्ष के अंत में B को मिलने वाली धनराशि के बराबर है। दी गई धनराशि में A का हिस्सा (₹ में) कितना है?

Ans

1. 4,500
2. 4,450
3. 4,550
4. 4,400

Question ID : 65497832095

Status : Not Answered

Chosen Option : --

Q.24 पाइप A और B एक टंकी को क्रमशः 12 घंटे और 18 घंटे में भर सकते हैं, जबकि पाइप C भरी हुई टंकी को 8 घंटे में खाली कर सकता है। A और B को  $4\frac{1}{2}$  घंटे के लिए खोला जाता है और फिर बंद कर दिया जाता है। C अकेले इस टंकी को कितने घंटे में खाली कर देगा?

Ans

1.  $5\frac{1}{4}$  घंटे
2. 9 घंटे
3. 5 घंटे
4.  $9\frac{1}{2}$  घंटे

Question ID : 65497832089

Status : Answered

Chosen Option : 3

**Q.25** एक वस्तु को ₹91 में बेचने पर मुधा को 30% का लाभ होता है। यदि वह इसे ₹78.75 में बेचती है, तो उसका हानि/लाभ प्रतिशत क्या होगा?

Ans

1. लाभ,  $12\frac{1}{2}\%$   
 2. लाभ,  $11\frac{1}{9}\%$   
 3. हानि,  $12\frac{1}{2}\%$   
 4. हानि,  $11\frac{1}{9}\%$

Question ID : 65497832088  
Status : Answered  
Chosen Option : 1

Section : Part D English

**Q.1** Select the option that can be used as a one-word substitute for the given group of words.

Causing a mood of gloom and depression

Ans

1. Apprehensive  
 2. Devastated  
 3. Dismal  
 4. Desolate

Question ID : 65497832110  
Status : Answered  
Chosen Option : 3

**Q.2** Select the most appropriate meaning of the given idiom.

In a fix

Ans

1. In a difficult situation  
 2. Under repairs  
 3. In a closed space  
 4. Under observation

Question ID : 65497832116  
Status : Answered  
Chosen Option : 1

**Q.3** The following sentence has been split into four segments. Identify the segment that contains a grammatical error.

How many / languages do / most children / in India known?

Ans

1. in India known  
 2. most children  
 3. languages do  
 4. How many

Question ID : 65497832100  
Status : Answered  
Chosen Option : 3

**Q.4** Select the most appropriate ANTONYM of the given word.

**Ally**

- Ans**  1. Friend  
 2. Partner  
 3. Enemy  
 4. Associate

Question ID : **65497832099**  
Status : **Answered**  
Chosen Option : **3**

**Q.5** Select the most appropriate ANTONYM of the given word.

**Overlook**

- Ans**  1. Neglect  
 2. Notice  
 3. Ignore  
 4. Visualize

Question ID : **65497832109**  
Status : **Answered**  
Chosen Option : **3**

**Q.6** Select the most appropriate meaning of the given idiom.

**Open-ended**

- Ans**  1. Ending is twisted  
 2. Ending is happy  
 3. Having no planned ending  
 4. Never ending

Question ID : **65497832105**  
Status : **Answered**  
Chosen Option : **3**

**Q.7** Select the most appropriate synonym of the given word.

**Crust**

- Ans**  1. Root  
 2. Core  
 3. Kernel  
 4. Shell

Question ID : **65497832101**  
Status : **Answered**  
Chosen Option : **4**

**Q.8** Select the most appropriate option to fill in the blank.

Giant pandas are black-and-white Chinese bears that are on the \_\_\_\_\_ of extinction.

- Ans
- 1. line
  - 2. verge
  - 3. margin
  - 4. peak

Question ID : 65497832112  
Status : Answered  
Chosen Option : 2

**Q.9** Select the INCORRECTLY spelt word.

- Ans
- 1. Batch
  - 2. Catch
  - 3. Yatch
  - 4. Snatch

Question ID : 65497832111  
Status : Answered  
Chosen Option : 2

**Q.10** Select the INCORRECTLY spelt word.

- Ans
- 1. Develop
  - 2. Occur
  - 3. Regulate
  - 4. Writting

Question ID : 65497832102  
Status : Answered  
Chosen Option : 4

**Q.11** The following sentence has been split into four segments. Identify the segment that contains a grammatical error.

Raju was / a little boy / who were born / in a poor family.

- Ans
- 1. in a poor family
  - 2. who were born
  - 3. a little boy
  - 4. Raju was

Question ID : 65497832113  
Status : Answered  
Chosen Option : 3



**Q.12** Select the most appropriate option that can substitute the underlined segment in the given sentence. If there is no need to substitute it, select 'No substitution required'.

The three friends spent over an hour discussing the problem with their teacher.

- Ans
- 1. discussing about
  - 2. discussing on
  - 3. having discussion on
  - 4. No substitution required

Question ID : 65497832107  
Status : Answered  
Chosen Option : 1

**Q.13** Select the most appropriate option to fill in the blank.

He was fined for \_\_\_\_\_ traffic rules.

- Ans
- 1. refusing
  - 2. obeying
  - 3. violating
  - 4. omitting

Question ID : 65497832103  
Status : Answered  
Chosen Option : 2

**Q.14** Select the most appropriate option to fill in the blank.

Health cannot be \_\_\_\_\_ at any cost.

- Ans
- 1. rejected
  - 2. neglected
  - 3. despised
  - 4. deserted

Question ID : 65497832104  
Status : Answered  
Chosen Option : 2

**Q.15** Select the option that can be used as a one-word substitute for the given group of words.

Science of heredity

- Ans
- 1. Orthopedics
  - 2. Pathology
  - 3. Genealogy
  - 4. Genetics

Question ID : 65497832097  
Status : Answered  
Chosen Option : 4

**Q.16** Select the option that can be used as a one-word substitute for the given group of words.

A hole or tunnel dug by a small animal to live in

- Ans
- 1. Cave
  - 2. Den
  - 3. Shed
  - 4. Burrow

Question ID : 65497832115  
Status : Answered  
Chosen Option : 4

**Q.17** Select the most appropriate option that can substitute the underlined word in the given sentence.

As we all are aware, silk is dedicated from the cocoons of mulberry silkworms.

- Ans
- 1. derived
  - 2. decorated
  - 3. decimated
  - 4. deflected

Question ID : 65497832098  
Status : Not Answered  
Chosen Option : --

**Q.18** Select the most appropriate synonym of the given word.

Disgust

- Ans
- 1. Dislike
  - 2. Desire
  - 3. Danger
  - 4. Doubt

Question ID : 65497832114  
Status : Answered  
Chosen Option : 1

**Q.19** The following sentence has been split into four segments. Identify the segment that contains a grammatical error.

Why do they / keep talking on / about money / all the time?

- Ans
- 1. keep talking on
  - 2. Why do they
  - 3. all the time
  - 4. about money

Question ID : 65497832108  
Status : Answered  
Chosen Option : 1

**Q.20** Select the most appropriate option that can substitute the underlined segment in the given sentence. If there is no need to substitute it, select 'No substitution required'.

I play football yesterday.

- Ans**
- 1. I been playing
  - 2. I playing
  - 3. No substitution required
  - 4. I played

Question ID : 65497832106  
Status : Answered  
Chosen Option : 4

**Comprehension:**

In the following passage, some words have been deleted. Read the passage carefully and select the most appropriate option to fill in each blank.

Joseph was always prepared. His motto was, 'Never throw anything out, you (1) \_\_\_\_\_ know when it might come in (2) \_\_\_\_\_.' His bedroom was totally (3) \_\_\_\_\_ with flat bicycle tyres, empty boxes, (4) \_\_\_\_\_ basket balls and bent tennis racquets (5) \_\_\_\_\_ leaving any space to get in the door.

**SubQuestion No : 21**

**Q.21** Select the most appropriate option to fill in blank no.1.

- Ans**
- 1. often
  - 2. should
  - 3. would
  - 4. never

Question ID : 65497832118  
Status : Answered  
Chosen Option : 2

**Comprehension:**

In the following passage, some words have been deleted. Read the passage carefully and select the most appropriate option to fill in each blank.

Joseph was always prepared. His motto was, 'Never throw anything out, you (1) \_\_\_\_\_ know when it might come in (2) \_\_\_\_\_.' His bedroom was totally (3) \_\_\_\_\_ with flat bicycle tyres, empty boxes, (4) \_\_\_\_\_ basket balls and bent tennis racquets (5) \_\_\_\_\_ leaving any space to get in the door.

**SubQuestion No : 22**

**Q.22** Select the most appropriate option to fill in blank no.2.

- Ans**
- 1. handy
  - 2. ready
  - 3. close
  - 4. nearby

Question ID : 65497832119  
Status : Answered  
Chosen Option : 4

**Comprehension:**

In the following passage, some words have been deleted. Read the passage carefully and select the most appropriate option to fill in each blank.

Joseph was always prepared. His motto was, 'Never throw anything out, you (1) \_\_\_\_\_ know when it might come in (2) \_\_\_\_\_.' His bedroom was totally (3) \_\_\_\_\_ with flat bicycle tyres, empty boxes, (4) \_\_\_\_\_ basket balls and bent tennis racquets (5) \_\_\_\_\_ leaving any space to get in the door.

**SubQuestion No : 23**

**Q.23 Select the most appropriate option to fill in blank no.3.**

- Ans**  1. cluttered  
 2. dislocated  
 3. confused  
 4. splashed

Question ID : **65497832120**  
Status : **Answered**  
Chosen Option : **4**

**Comprehension:**

In the following passage, some words have been deleted. Read the passage carefully and select the most appropriate option to fill in each blank.

Joseph was always prepared. His motto was, 'Never throw anything out, you (1) \_\_\_\_\_ know when it might come in (2) \_\_\_\_\_.' His bedroom was totally (3) \_\_\_\_\_ with flat bicycle tyres, empty boxes, (4) \_\_\_\_\_ basket balls and bent tennis racquets (5) \_\_\_\_\_ leaving any space to get in the door.

**SubQuestion No : 24**

**Q.24 Select the most appropriate option to fill in blank no.4.**

- Ans**  1. deflated  
 2. wearied  
 3. drained  
 4. reduced

Question ID : **65497832121**  
Status : **Not Answered**  
Chosen Option : --

**Comprehension:**

In the following passage, some words have been deleted. Read the passage carefully and select the most appropriate option to fill in each blank.

Joseph was always prepared. His motto was, 'Never throw anything out, you (1) \_\_\_\_\_ know when it might come in (2) \_\_\_\_\_.' His bedroom was totally (3) \_\_\_\_\_ with flat bicycle tyres, empty boxes, (4) \_\_\_\_\_ basket balls and bent tennis racquets (5) \_\_\_\_\_ leaving any space to get in the door.

**SubQuestion No : 25**

**Q.25 Select the most appropriate option to fill in blank no.5.**

- Ans**  1. merely  
 2. simply  
 3. barely  
 4. slightly

Question ID : **65497832122**  
Status : **Answered**  
Chosen Option : **4**

Section : **Part D Hindi**

Q.1 दिए गए शब्द के समानार्थी शब्द का चयन करें।

पराग

- Ans  1. केशर  
 2. सुगंध  
 3. पवन  
 4. शहद

Question ID : **65497832127**  
Status : **Not Answered**  
Chosen Option : --

Q.2 नीचे दिए वाक्यांश के लिए एक शब्द दिए गए विकल्पों में से चुनिए।

जिसमें कोई विकार न हो

- Ans  1. साकार  
 2. अविकार  
 3. निर्विकार  
 4. आकार

Question ID : **65497832132**  
Status : **Not Answered**  
Chosen Option : --

Q.3 'अमर' का विलोम शब्द होगा-

- Ans  1. मर्त्य  
 2. चिरन्तन  
 3. अजर  
 4. शाश्वत

Question ID : **65497832137**  
Status : **Not Answered**  
Chosen Option : --

Q.4 दिये गये वाक्य के किस भाग में त्रुटि है?

केवल इसीलिए वह तुरंत यहाँ न आ सका।

- Ans  1. आ सका।  
 2. वह तुरंत  
 3. यहाँ न  
 4. केवल इसीलिए

Question ID : **65497832134**  
Status : **Not Answered**  
Chosen Option : --

Q.5 दिए गए वाक्य का वह भाग ज्ञात करें जिसमें कोई त्रुटि है। यदि कोई त्रुटि नहीं है, तो 'कोई त्रुटि नहीं है' चुने।

पक्षिराज गरुण, भगवान् विष्णु के वाहन हैं और लक्ष्मी जी का वाहन उल्लू है।

- Ans
- 1. वाहन उल्लू है।
  - 2. और लक्ष्मी जी का
  - 3. कोई त्रुटि नहीं है।
  - 4. पक्षिराज गरुण, भगवान् विष्णु के वाहन हैं

Question ID : 65497832126  
Status : Not Answered  
Chosen Option : --

Q.6 'मीठी छुरी चलाना' मुहावरे का सही अर्थ है-

- Ans
- 1. आकर्षित करना
  - 2. विश्वासघात करना
  - 3. आतंकित करना
  - 4. लालच देना

Question ID : 65497832141  
Status : Not Answered  
Chosen Option : --

Q.7 'गाल फुलाना' मुहावरे का सही अर्थ है-

- Ans
- 1. रूठना
  - 2. हँसी-मजाक करना
  - 3. शिकायत करना
  - 4. प्रसन्न होना

Question ID : 65497832138  
Status : Not Answered  
Chosen Option : --

Q.8 'जिसके पास कुछ भी न हो' वाक्यांश के लिए एक शब्द होगा-

- Ans
- 1. अनिकेतन
  - 2. अकिंचन
  - 3. अक्षम
  - 4. निर्धन

Question ID : 65497832136  
Status : Not Answered  
Chosen Option : --

Q.9 सही वर्तनी वाले शब्द का चयन करें।

- Ans  1. प्रमुख  
 2. पर्मुख  
 3. प्रमुखिया  
 4. प्रमुख

Question ID : 65497832129  
Status : Not Answered  
Chosen Option : --

Q.10 दिए गए वाक्य में रेखांकित खंड को प्रतिस्थापित करने के लिए सबसे उपयुक्त विकल्प का चयन करें।  
यदि इसे प्रतिस्थापित करने की आवश्यकता नहीं है, तो विकल्प 'किसी बदलाव की आवश्यकता नहीं है'  
का चयन करें।

गरीबी, बेरोज़गारी, निरक्षरता आदि बढ़ती जनसंख्या से उत्पन्न समस्या है।

- Ans  1. किसी बदलाव की आवश्यकता नहीं है।  
 2. बढ़ती जनसंख्या से उत्पन्न समस्या होती है।  
 3. बढ़ती जनसंख्या से उत्पन्न समस्याएँ हैं।  
 4. बढ़ती जनसंख्या से उत्पन्न समस्याएँ हैं।

Question ID : 65497832124  
Status : Not Answered  
Chosen Option : --

Q.11 दिए गए वाक्य में रेखांकित खंड को प्रतिस्थापित करने के लिए सबसे उपयुक्त विकल्प का चयन करें।  
यदि इसे प्रतिस्थापित करने की आवश्यकता नहीं है, तो विकल्प 'किसी बदलाव की आवश्यकता नहीं है'  
का चयन करें।

मैंने दूध पीकर स्कूल गया।

- Ans  1. मैं दूध पीकर  
 2. किसी बदलाव की आवश्यकता नहीं है।  
 3. मैंने दूध पिया और  
 4. मैंने दूध पीने के बाद

Question ID : 65497832130  
Status : Not Answered  
Chosen Option : --

Q.12 हिमालय रेखांकित शब्द का पर्यायवाची नहीं है-

- Ans  1. हिमाद्री  
 2. पर्वतराज  
 3. ऋतुराज  
 4. नगराज

Question ID : 65497832140  
Status : Not Answered  
Chosen Option : --

Q.13 सही वर्तनी वाले शब्द का चयन करें।

- Ans  1. कृशांगी  
 2. क्रिशानी  
 3. किरशांगी  
 4. क्रशांगी

Question ID : 65497832128  
Status : Not Answered  
Chosen Option : --

Q.14 'उदय' का विलोम शब्द होगा-

- Ans  1. अन्त  
 2. सदय  
 3. निर्दय  
 4. अस्त

Question ID : 65497832135  
Status : Not Answered  
Chosen Option : --

Q.15 दिए गए वाक्य में रेखांकित खंड को प्रतिस्थापित करने के लिए सबसे उपयुक्त विकल्प का चयन करें।  
यदि इसे प्रतिस्थापित करने की आवश्यकता नहीं है, तो विकल्प 'किसी बदलाव की आवश्यकता नहीं है'  
का चयन करें।

अगर तुम गुंडागर्दी से बाज़ न आए, मगर चमड़ी उधेड़ कर रख दूंगा।

- Ans  1. इसलिए चमड़ियों को उधेड़ कर रख दूंगा।  
 2. किसी बदलाव की आवश्यकता नहीं है।  
 3. तो शरीर उधेड़ कर रख दूंगा।  
 4. तो चमड़ी उधेड़ कर रख दूंगा।

Question ID : 65497832133  
Status : Not Answered  
Chosen Option : --

Q.16 रिक्त स्थान को भरने के लिए सबसे उपयुक्त विकल्प का चयन करें।

लड़की खिड़की के परदे की आड़ से \_\_\_\_\_ रही थी।

- Ans  1. झाँक  
 2. घूर  
 3. ताक  
 4. देख

Question ID : 65497832142  
Status : Not Answered  
Chosen Option : --



Q.17 दिए गये वाक्यांश के लिए एक शब्द दीजिये।

जिसके पास कुछ भी न हो

- Ans  1. अधिकारहीन  
 2. अकिंचन  
 3. अनाथ  
 4. अक्षम

Question ID : 65497832125  
Status : Not Answered  
Chosen Option : --

Q.18 रिक्त स्थान को भरने के लिए सबसे उपयुक्त शब्द का चयन करें।

हमारे गाँव में एक \_\_\_\_\_ की स्थापना हुई।

- Ans  1. तालाब  
 2. घर  
 3. दुकान  
 4. मंदिर

Question ID : 65497832123  
Status : Not Answered  
Chosen Option : --

Q.19 भारत में अनेको राज्य है। रेखांकित शब्द कौन से कारण से वाक्य अशुद्ध है?

- Ans  1. सर्वनाम के कारण  
 2. क्रिया के कारण  
 3. वचन सम्बन्धी गलती है।  
 4. संज्ञा के कारण

Question ID : 65497832139  
Status : Not Answered  
Chosen Option : --

Q.20 रिक्त स्थान को भरने के लिए सबसे उपयुक्त शब्द का चयन करें।

वकीलों ने कागजात की \_\_\_\_\_ की।

- Ans  1. दर्शन  
 2. सर्वेक्षण  
 3. निरीक्षण  
 4. जांच

Question ID : 65497832131  
Status : Not Answered  
Chosen Option : --

**Comprehension:**

मनुष्य को तो मनुष्य ही सुख दे सकता है। परस्पर की निष्कपट सेवा ही से मनुष्य जाति का (1) \_\_\_\_\_ हो सकता है। धन इकट्ठा करना तो मनुष्य - जाति के आनंद - मंगल का एक (2) \_\_\_\_\_ सा और महा तुच्छ उपाय है। धन की (3) \_\_\_\_\_ करना नास्तिकता है; ईश्वर को भूल जाना है; अपने भाई - बहनों तथा मानसिक सुख और कल्याण के देनेवालों को मारकर अपने सुख के लिए शारीरिक राज्य की इच्छा करना है, जिस डाल पर बैठे हैं उसी डाल को स्वयं ही कुल्हाड़ी से (4) \_\_\_\_\_ है। अपने प्रिय जनों से रहित (5) \_\_\_\_\_ किस काम का?

निम्न प्रश्नों के उत्तर उपरोक्त गद्यांश के आधार पर दीजिए।

**SubQuestion No : 21**

**Q.21** गद्यांश के रिक्त स्थान (1) के लिए सर्वाधिक उपयुक्त शब्द होगा-

- Ans**  1. कल्याण  
 2. विरोध  
 3. सम्मान  
 4. नुकसान

Question ID : 65497832144

Status : Not Answered

Chosen Option : --

**Comprehension:**

मनुष्य को तो मनुष्य ही सुख दे सकता है। परस्पर की निष्कपट सेवा ही से मनुष्य जाति का (1) \_\_\_\_\_ हो सकता है। धन इकट्ठा करना तो मनुष्य - जाति के आनंद - मंगल का एक (2) \_\_\_\_\_ सा और महा तुच्छ उपाय है। धन की (3) \_\_\_\_\_ करना नास्तिकता है; ईश्वर को भूल जाना है; अपने भाई - बहनों तथा मानसिक सुख और कल्याण के देनेवालों को मारकर अपने सुख के लिए शारीरिक राज्य की इच्छा करना है, जिस डाल पर बैठे हैं उसी डाल को स्वयं ही कुल्हाड़ी से (4) \_\_\_\_\_ है। अपने प्रिय जनों से रहित (5) \_\_\_\_\_ किस काम का?

निम्न प्रश्नों के उत्तर उपरोक्त गद्यांश के आधार पर दीजिए।

**SubQuestion No : 22**

**Q.22** गद्यांश के रिक्त स्थान (2) के लिए सर्वाधिक उपयुक्त शब्द होगा-

- Ans**  1. महत्वपूर्ण  
 2. साधारण  
 3. विशेष  
 4. असामान्य

Question ID : 65497832145

Status : Not Answered

Chosen Option : --

**Comprehension:**

मनुष्य को तो मनुष्य ही सुख दे सकता है। परस्पर की निष्कपट सेवा ही से मनुष्य जाति का (1) \_\_\_\_\_ हो सकता है। धन इकट्ठा करना तो मनुष्य - जाति के आनंद - मंगल का एक (2) \_\_\_\_\_ सा और महा तुच्छ उपाय है। धन की (3) \_\_\_\_\_ करना नास्तिकता है; ईश्वर को भूल जाना है; अपने भाई - बहनों तथा मानसिक सुख और कल्याण के देनेवालों को मारकर अपने सुख के लिए शारीरिक राज्य की इच्छा करना है, जिस डाल पर बैठे हैं उसी डाल को स्वयं ही कुल्हाड़ी से (4) \_\_\_\_\_ है। अपने प्रिय जनों से रहित (5) \_\_\_\_\_ किस काम का?

निम्न प्रश्नों के उत्तर उपरोक्त गद्यांश के आधार पर दीजिए।

**SubQuestion No : 23**

**Q.23** गद्यांश के रिक्त स्थान (3) के लिए सर्वाधिक उपयुक्त शब्द होगा-

- Ans** ✓ 1. पूजा  
✗ 2. इज्जत  
✗ 3. सेवा  
✗ 4. चाहत

Question ID : 65497832146

Status : Not Answered

Chosen Option : --

**Comprehension:**

मनुष्य को तो मनुष्य ही सुख दे सकता है। परस्पर की निष्कपट सेवा ही से मनुष्य जाति का (1) \_\_\_\_\_ हो सकता है। धन इकट्ठा करना तो मनुष्य - जाति के आनंद - मंगल का एक (2) \_\_\_\_\_ सा और महा तुच्छ उपाय है। धन की (3) \_\_\_\_\_ करना नास्तिकता है; ईश्वर को भूल जाना है; अपने भाई - बहनों तथा मानसिक सुख और कल्याण के देनेवालों को मारकर अपने सुख के लिए शारीरिक राज्य की इच्छा करना है, जिस डाल पर बैठे हैं उसी डाल को स्वयं ही कुल्हाड़ी से (4) \_\_\_\_\_ है। अपने प्रिय जनों से रहित (5) \_\_\_\_\_ किस काम का?

निम्न प्रश्नों के उत्तर उपरोक्त गद्यांश के आधार पर दीजिए।

**SubQuestion No : 24**

**Q.24** गद्यांश के रिक्त स्थान (4) के लिए सर्वाधिक उपयुक्त शब्द होगा-

- Ans** ✓ 1. काटना  
✗ 2. छीलना  
✗ 3. पीटना  
✗ 4. तोड़ना

Question ID : 65497832147

Status : Not Answered

Chosen Option : --

**Comprehension:**

मनुष्य को तो मनुष्य ही सुख दे सकता है। परस्पर की निष्कपट सेवा ही से मनुष्य जाति का (1) \_\_\_\_\_ हो सकता है। धन इकट्ठा करना तो मनुष्य - जाति के आनंद - मंगल का एक (2) \_\_\_\_\_ सा और महा तुच्छ उपाय है। धन की (3) \_\_\_\_\_ करना नास्तिकता है; ईश्वर को भूल जाना है; अपने भाई - बहनों तथा मानसिक सुख और कल्याण के देनेवालों को मारकर अपने सुख के लिए शारीरिक राज्य की इच्छा करना है, जिस डाल पर बैठे हैं उसी डाल को स्वयं ही कुल्हाड़ी से (4) \_\_\_\_\_ है। अपने प्रिय जनों से रहित (5) \_\_\_\_\_ किस काम का?

निम्न प्रश्नों के उत्तर उपरोक्त गद्यांश के आधार पर दीजिए।

**SubQuestion No : 25**

**Q.25** गद्यांश के रिक्त स्थान (5) के लिए सर्वाधिक उपयुक्त शब्द होगा-

- Ans**
- 1. आकाश
  - 2. धरती
  - 3. सत्ता
  - 4. राज्य

Question ID : **65497832148**

Status : **Not Answered**

Chosen Option : --