

Constable GD in CAPFs NIA SSF and Rifleman GD in Assam Rifles Examination 2021

Roll Number	www.GovtJobsAlert.In
Candidate Name	www.GovtJobsAlert.In
Venue Name	Arya College of Engineering and Information Technology
Exam Date	02/12/2021
Exam Time :	12:30 PM - 2:00 PM
Subject	Constable GD 2021

Section : Part A General Intelligence and Reasoning

Q.1 अकरम, नागेश, गिरीश, विक्रम और सतपाल किसी पंचभुजाकार मेज के पांच कोनों पर बैठे हैं; सभी मेज के केंद्र की ओर अभिमुख होकर बैठे हैं। गिरीश, विक्रम के बाएं तीसरे स्थान पर बैठा है। सतपाल, नागेश के बाईं ओर बगल में बैठा है। अकरम, सतपाल के बाएं दूसरे स्थान पर बैठा है। नागेश के दाएं दूसरे स्थान पर कौन बैठा है?

- Ans 1. अकरम
 2. विक्रम
 3. सतपाल
 4. गिरीश

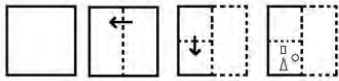
Question ID : 65497836342
Status : Answered
Chosen Option : 1

Q.2 किसी निश्चित कूट भाषा में, SHEER को 21102220 के रूप में कूटबद्ध किया जाता है और NIGHT को 16391022 के रूप में कूटबद्ध किया जाता है। उसी कूट भाषा में RIGHT को किस रूप में कूटबद्ध किया जाएगा?

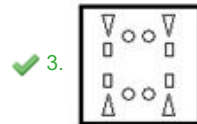
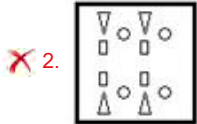
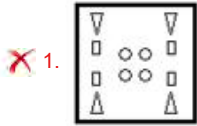
- Ans 1. 191191022
 2. 201191022
 3. 20391022
 4. 19391022

Question ID : 65497836345
Status : Answered
Chosen Option : 3

Q.3 कागज के एक टुकड़े को मोड़ने के क्रम और मुड़े हुए कागज को काटने के तरीके को निम्न आकृतियों में दर्शाया गया है। खोलने पर यह कागज कैसा दिखाई देगा?



Ans



Question ID : 65497836360

Status : Answered

Chosen Option : 1

Q.4 एक निश्चित कूट भाषा में, 'SWEETS' को 'TZKOIN' के रूप में लिखा जाता है। उसी कूट भाषा में 'CHOICE' को किस रूप में लिखा जाएगा?

Ans

✗ 1. DJUSRZ

✓ 2. DKUSRZ

✗ 3. DJURSZ

✗ 4. DKURSZ

Question ID : 65497836354

Status : Answered

Chosen Option : 2

Q.5 C ने B से एक मशीन खरीदी, जिसने इसे A से खरीदा था। C ने मशीन को ₹9,360 में खरीदा। इस बिक्री पर, A और B ने क्रमशः 30% और 20% का लाभ अर्जित किया। A ने मशीन को किस मूल्य पर बेचा?

Ans

✓ 1. ₹7,800

✗ 2. ₹8,600

✗ 3. ₹8,200

✗ 4. ₹6,000

Question ID : 65497836359

Status : Not Answered

Chosen Option : --

Q.6 यदि दर्पण को दाईं ओर रखा गया हो, तो दी गई आकृति के सही दर्पण प्रतिबिंब का चयन करें।



Ans

1.



2.



3.



4.



Question ID : 65497836347

Status : Answered

Chosen Option : 2

Q.7 दिए गए विकल्पों में से वह संख्या चुनें जो निम्नलिखित श्रृंखला में प्रश्नवाचक चिह्न (?) के स्थान पर आ सकती है।

11, 9, 15, 41, ?

Ans 1. 110

2. 159

3. 135

4. 167

Question ID : 65497836346

Status : Answered

Chosen Option : 2

Q.8 दिए गए विकल्पों में से उस अक्षर-समूह का चयन करें जो निम्नलिखित श्रेणी में प्रश्नवाचक चिह्न (?) के स्थान पर आ सकता है।

AZK, EVN, IRQ, OLT, ?

- Ans
- 1. GKS
 - 2. TFQ
 - 3. UFW
 - 4. URD

Question ID : 65497836340
Status : Answered
Chosen Option : 3

Q.9 एक निश्चित कूट भाषा में NEXT को MODFWYSU लिखा जाता है। उसी कूट भाषा में CLOCK को क्या लिखा जाएगा?

- Ans
- 1. BDKPQPBDJL
 - 2. BDKMNPBDLM
 - 3. BDKMNPBDJL
 - 4. BDKMNPBEML

Question ID : 65497836356
Status : Answered
Chosen Option : 1

Q.10 चार अक्षर-समूह दिए गए हैं, जिनमें से तीन एक निश्चित प्रकार से समान हैं, जबकि एक उनसे असंगत है। उस असंगत अक्षर-समूह का चयन कीजिए।

- Ans
- 1. TPWR
 - 2. BXEV
 - 3. HDKF
 - 4. RNUP

Question ID : 65497836344
Status : Answered
Chosen Option : 1

Q.11 दिए गए विकल्पों में से उस संख्या का चयन कीजिए, जो निम्नलिखित श्रेणी में प्रश्नवाचक चिह्न (?) के स्थान पर आ सकती है।

53, 61, 88, 152, 277, ?

- Ans
- 1. 490
 - 2. 493
 - 3. 496
 - 4. 485

Question ID : 65497836363
Status : Answered
Chosen Option : 1

Q.12 अक्षरों के उस संयोजन का चयन कीजिए, जिसे दी गई श्रृंखला के रिक्त स्थानों में क्रमबद्ध रूप से रखने पर श्रृंखला पूर्ण हो जाएगी।

Q _ P _ M _ A _ T _ Q A _ T M

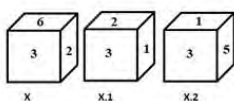
- Ans
- 1. A Q T P M P
 - 2. A T Q P Q P
 - 3. A T Q P M Q
 - 4. A T Q P M P

Question ID : 65497836362

Status : Answered

Chosen Option : 2

Q.13 एक पासे (X) को तीन बार एक ही क्रम में घुमाया जाता है। उसकी दो स्थितियां (X.1 और X.2) दी गई हैं। निम्नलिखित विकल्पों में से अगली संभावित स्थिति का चयन करें।



Ans

- 1.
- 2.
- 3.
- 4.

Question ID : 65497836351

Status : Answered

Chosen Option : 2

Q.14 आठ मित्र 2 पंक्तियों में एक दूसरे की ओर मुंह करके बैठे हुए हैं। A, D के सामने बैठा है और B और E का पड़ोसी है। अपनी-अपनी पंक्तियों में, H और C सबसे दाएं कोनों पर तथा E और F सबसे बाएं कोनों पर बैठे हैं। यदि G, F के बगल में बैठा है, तो B के सामने कौन बैठा है?

- Ans
- 1. C
 - 2. F
 - 3. G
 - 4. H

Question ID : 65497836348

Status : Answered

Chosen Option : 2

Q.15 'यूरोप' का जो संबंध 'स्विटज़रलैंड' से है, वही संबंध 'एशिया' का '____' से है।

- Ans
- 1. जापान
 - 2. फ्रांस
 - 3. महाद्वीप
 - 4. विश्व

Question ID : 65497836341
Status : Answered
Chosen Option : 3

Q.16 उस विकल्प का चयन करें जिसमें दी गई आकृति सन्निहित है
(आकृति को घुमाने की अनुमति नहीं है)।



Ans

- 1.
- 2.
- 3.
- 4.

Question ID : 65497836352
Status : Answered
Chosen Option : 1

Q.17 उस विकल्प का चयन कीजिए, जो नीचे दिए गए शब्दों के उस क्रम को दर्शाता है, जिस क्रम में वे अंग्रेजी शब्दकोश में आते हैं।

1. Rubric
2. Router
3. Ruthless
4. Routine
5. Ruin

Ans ✓ 1. 2, 4, 1, 5, 3

✗ 2. 2, 1, 4, 5, 3

✗ 3. 2, 4, 1, 3, 5

✗ 4. 4, 2, 1, 5, 3

Question ID : 65497836361

Status : Answered

Chosen Option : 3

Q.18 दिए गए कथनों और निष्कर्षों को ध्यानपूर्वक पढ़ें। कथनों में दी गई जानकारी को सत्य मानते हुए विचार करें, भले ही वह सामान्यतः ज्ञात तथ्यों से भिन्न प्रतीत होती हो, और तय करें कि दिए गए निष्कर्षों में से कौन से निष्कर्ष कथनों का तार्किक रूप से अनुसरण करते हैं?

कथन:

कुछ बोल्ट, पेन हैं।

कुछ स्टेसिल, बोल्ट हैं।

सभी स्क्रू, बोल्ट हैं।

निष्कर्ष:

I. कोई स्क्रू, स्टेसिल नहीं है।

II. कुछ पेन, स्टेसिल हैं।

Ans ✗ 1. केवल निष्कर्ष I अनुसरण करता है।

✗ 2. केवल निष्कर्ष II अनुसरण करता है।

✓ 3. न तो निष्कर्ष I और न ही II अनुसरण करता है।

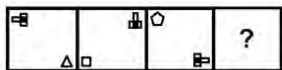
✗ 4. निष्कर्ष I और II दोनों ही अनुसरण करते हैं।

Question ID : 65497836357

Status : Answered

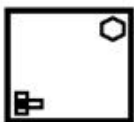
Chosen Option : 3

Q.19 दिए गए विकल्पों में से उस आकृति का चयन कीजिए, जो निम्न आकृति श्रृंखला में प्रश्नवाचक चिन्ह (?) के स्थान पर आ सकती है।

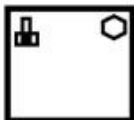


Ans

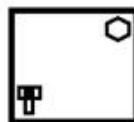
1.



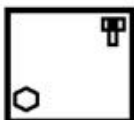
2.



3.



4.



Question ID : 65497836364

Status : Answered

Chosen Option : 3

Q.20 उस विकल्प का चयन करें, जिसमें दी गई संख्याओं के बीच वही संबंध है, जो नीचे दिए गए समुच्चय की संख्याओं के बीच है।

36, 74, 55

Ans 1. 80, 105, 85

2. 40, 52, 46

3. 50, 44, 94

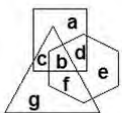
4. 58, 64, 54

Question ID : 65497836358

Status : Answered

Chosen Option : 1

Q.21 निम्न चित्र में, घटभुज, 'लड़कों' को निरूपित करता है, आयत, 'खिलाड़ियों' को निरूपित करता है, और त्रिभुज 'संगीतकारों' को निरूपित करता है। विभिन्न खंडों में दिए गए अक्षर उस श्रेणी से संबंधित व्यक्तियों को निरूपित करते हैं।



'f' अक्षर किस वर्ग को निरूपित करता है?

- Ans
1. संगीतकार जो लड़के और खिलाड़ी दोनों हैं।
 2. लड़के जो खिलाड़ी हैं, लेकिन संगीतकार नहीं हैं।
 3. लड़के जो संगीतकार हैं, लेकिन खिलाड़ी नहीं हैं।
 4. खिलाड़ी जो संगीतकार हैं लेकिन लड़के नहीं हैं।

Question ID : 65497836343

Status : Answered

Chosen Option : 1

Q.22 निम्नलिखित समीकरण को संतुलित बनाने के लिए किन दो गणितीय चिह्नों को परस्पर बदल देना चाहिए?

$$13 + 18 \times 6 - 30 \div 6 = -90$$

- Ans
1. +, ×
 2. +, -
 3. -, +
 4. ×, +

Question ID : 65497836350

Status : Answered

Chosen Option : 4

Q.23 उस विकल्प का चयन करें जो तीसरे अक्षर-समूह से उसी प्रकार संबंधित है जिस प्रकार दूसरा अक्षर-समूह पहले अक्षर-समूह से संबंधित है।

AFHP : BINZ :: BZKS : ?

- Ans
1. CBQC
 2. CCQC
 3. CCRC
 4. CBRC

Question ID : 65497836353

Status : Answered

Chosen Option : 2

Q.24 यदि 'N', 'M' की पत्नी है, 'A', 'R' की बहन है, 'S', 'N' की माँ है, 'K', 'M' का भाई है और 'R', 'N' का बेटा है, तो 'K' का 'A' से क्या संबंध है?

- Ans 1. चाचा
 2. मामा
 3. पिता
 4. भाई

Question ID : 65497836355
Status : Not Answered
Chosen Option : --

Q.25 उस विकल्प का चयन कीजिए जो तीसरी संख्या से उसी प्रकार संबंधित है जिस प्रकार दूसरी संख्या पहली संख्या से और छठी संख्या पांचवीं संख्या से संबंधित है।

13 : 163 :: 11 : ? :: 9 : 75

- Ans 1. 115
 2. 121
 3. 128
 4. 125

Question ID : 65497836349
Status : Not Answered
Chosen Option : --

Section : Part B General Knowledge and General Awareness

Q.1 निम्नलिखित में से किस वास्तुकार को ब्रिटिश काल के दौरान नई दिल्ली के मुख्य भागों में इमारतों की योजना बनाने और उन्हें डिजाइन करने का श्रेय दिया जाता है?

- Ans 1. ले कार्बुजिए
 2. सर क्रिस्टोफर व्रेन
 3. एडविन लुटियंस
 4. फ्रैंक लॉयड राइट

Question ID : 65497836372
Status : Not Answered
Chosen Option : --

Q.2 निम्नलिखित में से कौन सा द्वीप यूनेस्को (UNESCO) विश्व धरोहर स्थल है जिसमें मुख्य रूप से हिंदू भगवान शिव को समर्पित गुफा मंदिरों का संग्रह है?

- Ans 1. क्रॉस द्वीप
 2. एलिफेंटा द्वीप
 3. खंडेरी द्वीप
 4. अंबु द्वीप

Question ID : 65497836382
Status : Not Answered
Chosen Option : --

Q.3 निम्नलिखित में से कौन सा समुद्री बंदरगाह हिंद महासागर में स्थित नहीं है?

- Ans 1. मनीला (फिलीपींस)
 2. जकार्ता (इंडोनेशिया)
 3. मेलबोर्न (ऑस्ट्रेलिया)
 4. चेन्नई (भारत)

Question ID : 65497836376
Status : Answered
Chosen Option : 4

Q.4 इसरो (ISRO) का प्रस्तावित 'शुक्रयान' मिशन कौन-से ग्रह के अध्ययन के लिए है?

- Ans 1. बुध
 2. बृहस्पति
 3. शुक्र
 4. मंगल

Question ID : 65497836367
Status : Answered
Chosen Option : 4

Q.5 ओलंपिक रिंग पहली बार सार्वजनिक रूप से _____ में प्रस्तुत किए गए थे।

- Ans 1. 1933
 2. 1917
 3. 1913
 4. 1937

Question ID : 65497836371
Status : Not Answered
Chosen Option : --

Q.6 स्क्रब टाइफस (scrub typhus) रोग एक प्रकार के _____ के कारण होता है।

- Ans 1. कवक
 2. जीवाणु
 3. शैवाल
 4. विषाणु

Question ID : 65497836387
Status : Not Answered
Chosen Option : --

Q.7 अकबर के दरबार के नव-रत्नों में शामिल महेश दास निम्न में से किस नाम से लोकप्रिय थे?

- Ans 1. बीरबल
 2. राजा टोडरमल
 3. राजा मान सिंह
 4. तानसेन

Question ID : 65497836388
Status : Answered
Chosen Option : 4

Q.8 कुष्ठरोग उन्मूलन के प्रयासों के लिए निम्नलिखित में से किसे 6 फरवरी 2020 को व्यक्तिगत श्रेणी में अंतरराष्ट्रीय गांधी पुरस्कार से सम्मानित किया गया?

- Ans
- 1. डॉ. जीपी तलवार
 - 2. डॉ. एनएस धर्मशक्तु
 - 3. डॉ. रेणुका रामकृष्णन
 - 4. डॉ. प्रियंवदा चुरा

Question ID : 65497836370
Status : Not Answered
Chosen Option : --

Q.9 अल्फ्रेड नोबेल की स्मृति में आर्थिक विज्ञान में 2020 का स्वेरिजेस रिक्सबैंक पुरस्कार संयुक्त रूप से _____ को प्रदान किया गया था।

- Ans
- 1. पॉल आर मिलग्रोम और रॉबर्ट बी विल्सन
 - 2. पॉल एम रोमर और रिचर्ड एच थेलर
 - 3. एंगस डीटन और रॉबर्ट जे शिलर
 - 4. एस्थर डुफ्लो और माइकल क्रेमर

Question ID : 65497836375
Status : Answered
Chosen Option : 1

Q.10 जनवरी 2020 में यूके चिल्ड्रन बुक अवार्ड निम्नलिखित में से किसे प्राप्त हुआ?

- Ans
- 1. अनीता देसाई
 - 2. जसबिंदर बिलन
 - 3. झुंपा लाहिड़ी
 - 4. अरुंधति रॉय

Question ID : 65497836381
Status : Answered
Chosen Option : 2

Q.11 इकोनॉमिक सर्वे ऑफ इंडिया 2019-20 ने _____ के विचार को एक सार्वजनिक हित के रूप में पेश किया, जिसे अधिक उपयोग के साथ बढ़ाया जा सकता है।

- Ans
- 1. विश्वास
 - 2. निष्ठा
 - 3. उदारता
 - 4. स्वतंत्रता

Question ID : 65497836365
Status : Answered
Chosen Option : 4

Q.12 रिसेवेबल्स एक्सचेंज ऑफ इंडिया लिमिटेड (RXIL) को 2016 में भारतीय लघु उद्योग विकास बैंक (SIDBI) और _____ के बीच एक संयुक्त उद्यम के रूप में निगमित किया गया था।

- Ans
- 1. कलकत्ता स्टॉक एक्सचेंज
 - 2. नेशनल स्टॉक एक्सचेंज ऑफ इंडिया लिमिटेड
 - 3. बॉम्बे स्टॉक एक्सचेंज
 - 4. यूनाइटेड स्टॉक एक्सचेंज ऑफ इंडिया

Question ID : 65497836385
Status : Answered
Chosen Option : 3

Q.13 मुगल बादशाह शाह आलम द्वितीय ने किस वर्ष में बंगाल, बिहार और ओडिशा की दीवानी ईस्ट इंडिया कंपनी को अनुदान स्वरूप देने का फ़रमान जारी किया था?

- Ans
- 1. 1740
 - 2. 1765
 - 3. 1732
 - 4. 1756

Question ID : 65497836378
Status : Not Answered
Chosen Option : --

Q.14 निम्नलिखित में से कौन एक पेशेवर बिलियर्ड्स खिलाड़ी है?

- Ans
- 1. भक्ति शर्मा
 - 2. कृष्ण पाठक
 - 3. पंकज आडवाणी
 - 4. दीपक पुनिया

Question ID : 65497836380
Status : Not Answered
Chosen Option : --

Q.15 यदि प्रकाश एक-दूसरे के सामने रखे गए दो दर्पणों से परावर्तित हो, तो कितने प्रतिबिंब बनेंगे?

- Ans
- 1. शून्य
 - 2. अनंत
 - 3. दो
 - 4. एक

Question ID : 65497836374
Status : Answered
Chosen Option : 3

Q.16 मोहनजोदड़ो में मिले 'महास्रानागार' को _____ की परत चढ़ाकर जलरोधी बनाया गया था।

- Ans
- 1. बिटुमेन (bitumen)
 - 2. अस्फाल्ट (asphalt)
 - 3. प्राकृतिक चारकोल (natural tar)
 - 4. मधुमोम (beeswax)

Question ID : 65497836386
Status : Answered
Chosen Option : 1

Q.17 किस भारतीय क्रिकेटर ने दिसंबर 2020 में क्रिकेट के सभी प्रारूपों से अपने संन्यास की घोषणा की?

- Ans
- 1. एमएस धोनी
 - 2. सुरेश रैना
 - 3. पार्थिव पटेल
 - 4. सुदीप त्यागी

Question ID : 65497836383
Status : Answered
Chosen Option : 2

Q.18 भीमा देवी को समर्पित प्राचीन मंदिर कहाँ स्थित है?

- Ans
- 1. धर्मशाला, हिमाचल प्रदेश
 - 2. कौसानी, उत्तराखंड
 - 3. तंजावुर, तमिलनाडु
 - 4. पिंजौर, हरियाणा

Question ID : 65497836368
Status : Not Answered
Chosen Option : --

Q.19 अधिवृक्क ग्रंथियां मानव शरीर के किस अंग में स्थित होती हैं?

- Ans
- 1. हृदय
 - 2. फेफड़े
 - 3. यकृत
 - 4. वृक्क

Question ID : 65497836373
Status : Answered
Chosen Option : 4

Q.20 भारत के किस राज्य में माणिक्य वंश का शासन था?

- Ans
- 1. त्रिपुरा
 - 2. मणिपुर
 - 3. गुजरात
 - 4. राजस्थान

Question ID : 65497836377
Status : Answered
Chosen Option : 2

Q.21 विभिन्न देशों को वर्गीकृत करने में विश्व बैंक द्वारा उपयोग किया जाने वाला मुख्य मापदंड निम्नलिखित में से कौन सा है?

- Ans
- 1. सकल घरेलू उत्पाद
 - 2. प्रति व्यक्ति आय
 - 3. सकल राष्ट्रीय आय
 - 4. सकल राष्ट्रीय उत्पाद

Question ID : 65497836384
Status : Answered
Chosen Option : 3

Q.22 भारतीय संविधान का कौन-सा अनुच्छेद भारतीय संसद में मंत्रिपरिषद की भूमिकाओं और जिम्मेदारियों का वर्णन करता है?

- Ans
- 1. अनुच्छेद 74
 - 2. अनुच्छेद 54
 - 3. अनुच्छेद 62
 - 4. अनुच्छेद 81

Question ID : 65497836379
Status : Answered
Chosen Option : 1

Q.23 राज्यों की परिषद (राज्य सभा) में कामकाज की प्रक्रिया और आचरण के किस नियम के तहत राज्य सभा के सभापति, उप-सभापति के पैनल में छह सदस्यों को नामित करते हैं, जिनमें से एक, सभापति और उप-सभापति, दोनों की अनुपस्थिति में सदन की अध्यक्षता करता है?

- Ans
- 1. नियम 10
 - 2. नियम 8
 - 3. नियम 6
 - 4. नियम 12

Question ID : 65497836366
Status : Answered
Chosen Option : 4

Q.24 सितंबर 2021 में, चंडीगढ़, भारतीय खाद्य सुरक्षा एवं मानक प्राधिकरण (FSSAI) द्वारा 5-स्टार 'ईट राइट स्टेशन' प्रमाणन से सम्मानित किया जाने वाला भारत का _____ रेलवे स्टेशन बन गया।

- Ans
- 1. चौथा
 - 2. पांचवां
 - 3. सातवां
 - 4. दसवां

Question ID : 65497836389
Status : Not Answered
Chosen Option : --

Q.25 कुल भौगोलिक क्षेत्र के प्रतिशत के रूप में वन आच्छादन के संदर्भ में, द्विवार्षिक 'भारत वन स्थिति रिपोर्ट (ISFR) 2019 के अनुसार, निम्नलिखित में से कौन सा राज्य भारत के शीर्ष पाँच राज्यों में से एक नहीं है?

- Ans
- 1. मध्य प्रदेश
 - 2. मिज़ोरम
 - 3. अरुणाचल प्रदेश
 - 4. मेघालय

Question ID : 65497836369
Status : Answered
Chosen Option : 1

Section : Part C Elementary Mathematics

Q.1 यदि किसी लेनदेन में हुई हानि विक्रय मूल्य के $\frac{1}{5}$ के बराबर है, तो हानि प्रतिशत लगभग कितना होगा?

- Ans
- 1. 16.0
 - 2. 16.91
 - 3. 15.67
 - 4. 16.67

Question ID : 65497836404
Status : Answered
Chosen Option : 4

Q.2 40% और 20% की दो क्रमागत छूटें, _____ की एकल छूट के समतुल्य होंगी।

- Ans
- 1. 52%
 - 2. 48%
 - 3. 30%
 - 4. 60%

Question ID : 65497836391
Status : Answered
Chosen Option : 1

Q.3 $[(102 - 16 \div 8) - 2] \div [3 + 6 \times (5 + 4) \div 3 - 7]$ का मान कितना होगा?

- Ans
- 1. 8
 - 2. 7
 - 3. 6
 - 4. 9

Question ID : 65497836402
Status : Answered
Chosen Option : 2

Q.4 रेनू का व्यय, उसकी बचत से 120% अधिक है। यदि उसकी आय और व्यय में क्रमशः 25% और 30% की वृद्धि हो जाए, तो उसकी बचत में कितने प्रतिशत की वृद्धि होगी?

- Ans**
- 1. 15%
 - 2. 16%
 - 3. 14%
 - 4. 12%

Question ID : **65497836411**
Status : **Not Answered**
Chosen Option : --

Q.5 दो संख्याओं के लघुत्तम समापवर्त्य (LCM) और महत्तम समापवर्तक (HCF) क्रमशः 3564 और 81 हैं। यदि वे संख्याएं 324 और x हैं, तो x के अंकों का योग क्या होगा?

- Ans**
- 1. 18
 - 2. 17
 - 3. 19
 - 4. 13

Question ID : **65497836410**
Status : **Answered**
Chosen Option : 1

Q.6 एक व्यक्ति शांत जल में 9 km/h की चाल से नाव चला सकता है। उसे धारा की दिशा में 33 km जाने और धारा की विपरीत दिशा में 21 km जाने में बराबर समय लगता है। धारा की चाल (km/h में) ज्ञात कीजिए।

- Ans**
- 1. 1.6
 - 2. 2.2
 - 3. 2.5
 - 4. 2

Question ID : **65497836414**
Status : **Answered**
Chosen Option : 4

Q.7 आठ क्रमिक सम संख्याओं का औसत 65 है। यदि अगली चार क्रमिक सम संख्याएं शामिल की जाएं, तो सभी संख्याओं का औसत कितना होगा?

- Ans**
- 1. 67
 - 2. 70
 - 3. 69
 - 4. 68

Question ID : **65497836397**
Status : **Answered**
Chosen Option : 3

Q.8 एक व्यापारी के पास 80 kg चावल हैं, जिसकी कुछ मात्रा वह 15% के लाभ पर तथा शेष 5% की हानि पर बेचता है। पूरे लेनदेन में उसे 12% का लाभ प्राप्त होता है। उसने चावल की कितनी मात्रा (kg में) 15% लाभ पर बेची?

- Ans**
- 1. 40
 - 2. 68
 - 3. 48
 - 4. 56

Question ID : **65497836413**
Status : **Answered**
Chosen Option : **4**

Q.9 एक शंकु के वक्र पृष्ठ का क्षेत्रफल $25\sqrt{2}\pi cm^2$ है। यदि शंकु की ऊंचाई, इसके आधार की त्रिज्या के बराबर है, तो शंकु का आयतन (cm^3 में, दशमलव के दो स्थानों तक सही) कितना होगा? ($\pi = \frac{22}{7}$ मानें)

- Ans**
- 1. 130.95
 - 2. 140
 - 3. 124.85
 - 4. 132.75

Question ID : **65497836401**
Status : **Not Answered**
Chosen Option : --

Q.10 रमेश ने सुरेश की तुलना में 30% अधिक निवेश किया। सुरेश ने अरुण की तुलना में 40% कम निवेश किया, जिसने ₹8,000 का निवेश किया था। रमेश और सुरेश द्वारा निवेशित राशियों के बीच अंतर (₹ में) ज्ञात कीजिए।

- Ans**
- 1. 1,200
 - 2. 1,760
 - 3. 3,200
 - 4. 1,440

Question ID : **65497836400**
Status : **Answered**
Chosen Option : **4**

Q.11 एक स्पोर्ट स्टोर अपनी वस्तुओं पर 19% की छूट देता है और ऑनलाइन वॉलेट से भुगतान करने वाले ग्राहकों को घटे हुए मूल्य पर 2% की अतिरिक्त छूट देता है। यदि कोई ग्राहक ₹18000 मूल्य का खेल का सामान खरीदता है और ऑनलाइन वॉलेट के जरिए भुगतान करता है, तो उस ग्राहक को कितनी धनराशि (₹ में) का भुगतान करना होगा?

- Ans**
- 1. 15000
 - 2. 16738.95
 - 3. 14288.40
 - 4. 12897.60

Question ID : **65497836395**
Status : **Not Answered**
Chosen Option : --

Q.12 चार पक्षी A, B, C, D एक जंगल के चारों ओर उड़ते हैं। वे क्रमशः 27 मिनट, 30 मिनट, 45 मिनट और 60 मिनट में जंगल का एक चक्कर पूरा करते हैं। यदि वे एक साथ उड़ना शुरू करते हैं, तो कितने घंटे बाद वे आरंभिक बिंदु पर पुनः मिलेंगे?

- Ans**
- 1. 12
 - 2. 10
 - 3. 8
 - 4. 9

Question ID : **65497836396**
Status : **Answered**
Chosen Option : **4**

Q.13 12 व्यक्ति 20 m लंबा गड़ढा 8 दिनों में खोद सकते हैं। उसी चौड़ाई और गहराई वाला 30 m का गड़ढा 6 दिनों में खोदने के लिए आवश्यक व्यक्तियों की संख्या ज्ञात करें।

- Ans**
- 1. 24
 - 2. 16
 - 3. 18
 - 4. 20

Question ID : **65497836407**
Status : **Answered**
Chosen Option : **1**

Q.14 एक वस्तु ₹350 में खरीदी गई और ₹500 में बेची गई। प्रतिशत लाभ ज्ञात कीजिए। (दशमलव के दो स्थानों तक सही)

- Ans**
- 1. 43.86
 - 2. 46.56
 - 3. 42.86
 - 4. 42.67

Question ID : **65497836403**
Status : **Answered**
Chosen Option : **3**

Q.15 कीर्ति की तुलना में राधा की कार्य कुशलता आधी है। राधा एक काम को अकेले पूरा करने में 30 दिन का समय लेती है। यदि राधा और कीर्ति दोनों एक साथ मिलकर काम करती हैं, तो उन्हें काम को पूरा करने में कितने दिन का समय लगेगा?

- Ans**
- 1. 20 दिन
 - 2. 10 दिन
 - 3. 15 दिन
 - 4. 12 दिन

Question ID : **65497836406**
Status : **Answered**
Chosen Option : **2**

Q.16 एक परीक्षा में, विद्यार्थियों को उत्तीर्ण होने के लिए 35% अंक लाने अनिवार्य हैं। यदि सुनीता को 145 अंक मिले और वह 23 अंकों से अनुत्तीर्ण रही, तो परीक्षा का पूर्णांक कितना था?

- Ans**
- 1. 168
 - 2. 520
 - 3. 480
 - 4. 500

Question ID : 65497836392
Status : Answered
Chosen Option : 3

Q.17 एक व्यक्ति ने ₹50,000 की धनराशि 4% की वार्षिक साधारण ब्याज दर पर 3 वर्षों के लिए उधार ली। उसने तुरंत यह राशि एक अन्य व्यक्ति को 6 $\frac{1}{4}$ % की वार्षिक साधारण ब्याज दर पर 3 वर्षों के लिए उधार दे दी। इस लेनदेन में उसे प्रति वर्ष होने वाला लाभ ज्ञात कीजिए।

- Ans**
- 1. ₹1,025
 - 2. ₹1,125
 - 3. ₹1,135
 - 4. ₹1,122

Question ID : 65497836405
Status : Answered
Chosen Option : 2

Q.18 एक निश्चित धनराशि पर साधारण ब्याज की समान वार्षिक ब्याज दर से 3 वर्ष बाद प्राप्त मिश्रधन ₹7485 और 8 वर्ष बाद प्राप्त मिश्रधन ₹9960 है। यदि ब्याज की दर पहले से दुगुनी हो जाए, तो साधारण ब्याज की दर से उतनी ही राशि पर 7 वर्ष के बाद प्राप्त मिश्रधन (₹ में) कितना होगा?

- Ans**
- 1. 9465
 - 2. 11145
 - 3. 14735
 - 4. 12930

Question ID : 65497836399
Status : Answered
Chosen Option : 4

Q.19 एक व्यक्ति ने एक निश्चित धनराशि को साधारण ब्याज (SI) की 5% वार्षिक दर पर 2 वर्षों के लिए निवेश किया, जबकि एक अन्य व्यक्ति ने उतनी ही धनराशि को उसी अवधि के लिए 4% वार्षिक चक्रवृद्धि ब्याज दर पर निवेश किया। साधारण ब्याज दर पर प्राप्त ब्याज, चक्रवृद्धि ब्याज दर पर प्राप्त ब्याज से ₹184.00 अधिक है। निवेश की गई राशि ज्ञात करें।

- Ans**
- 1. ₹8,500
 - 2. ₹8,000
 - 3. ₹10,000
 - 4. ₹7,500

Question ID : **65497836408**
Status : **Answered**
Chosen Option : **3**

Q.20 10 महिलाएं किसी काम को 15 दिनों में पूरा कर सकती हैं। उसी काम को 15 पुरुष 5 दिनों में पूरा कर सकते हैं। 10 महिलाओं ने काम करना शुरू किया, और 3 दिन बाद 5 महिलाओं के स्थान पर 5 पुरुषों को काम पर लगा दिया गया। काम कितने दिनों में पूरा हो जाएगा?

- Ans**
- 1. 10
 - 2. 11
 - 3. 8
 - 4. 12

Question ID : **65497836393**
Status : **Answered**
Chosen Option : **1**

Q.21 ₹159250 की धनराशि A, B, C और D में इस प्रकार बांटी जाती है कि A और B का हिस्सा 1 : 3, B और C का हिस्सा 2 : 5 तथा C और D का हिस्सा 2 : 3 के अनुपात में होता है। A का हिस्सा (₹ में) कितना है?

- Ans**
- 1. 7000
 - 2. 8750
 - 3. 10500
 - 4. 21000

Question ID : **65497836398**
Status : **Answered**
Chosen Option : **2**

Q.22 निम्नलिखित व्यंजक को सरल कीजिए:

$$\frac{21 + (-18) \times 2 - [-4 + 15\{5 \div (4 - 7)\} \div 4(-5)]}{(-14) \times (2) + 7}$$

- Ans
- 1. $\frac{7}{20}$
 - 2. $\frac{7}{12}$
 - 3. $3\frac{8}{21}$
 - 4. $-\frac{5}{12}$

Question ID : 65497836412
 Status : Not Answered
 Chosen Option : --

Q.23 एक कैंप में भाग ले रहे लड़कों की औसत आयु 16 वर्ष और लड़कियों की औसत आयु 13 वर्ष है। यदि कैंप में भाग ले रहे लड़कों और लड़कियों की औसत आयु का अनुपात 2 : 3 है, तो सभी प्रतिभागियों की औसत आयु (वर्ष में) कितनी है?

- Ans
- 1. 15.1
 - 2. 14.0
 - 3. 14.5
 - 4. 14.2

Question ID : 65497836390
 Status : Not Answered
 Chosen Option : --

Q.24 एक वृत्त में उत्कीर्ण किए गए उस वर्ग का क्षेत्रफल कितना होगा जिसके विकर्ण की लंबाई 16 cm है।

- Ans
- 1. $64 \times \sqrt{2} \text{ cm}^2$
 - 2. 64 cm^2
 - 3. 256 cm^2
 - 4. 128 cm^2

Question ID : 65497836409
 Status : Answered
 Chosen Option : 3

Q.25 एक नाव धारा की दिशा में 12 km की दूरी तय करने में 30 मिनट का समय लेती है और धारा की विपरीत दिशा में उसी चाल से चलते हुए समान दूरी तय करने में 36 मिनट का समय लेती है। शांत जल में नाव की चाल (km/h में) कितनी होगी?

- Ans**
- 1. 23
 - 2. 20
 - 3. 22
 - 4. 24

Question ID : **65497836394**
Status : **Answered**
Chosen Option : **3**

Section : **Part D English**

Q.1 Select the most appropriate meaning of the given idiom.

A can of worms

- Ans**
- 1. A difficult person to deal with
 - 2. A complicated situation or problem
 - 3. A good source of money
 - 4. A plan kept back to be used later

Question ID : **65497836419**
Status : **Not Answered**
Chosen Option : **--**

Q.2 Select the most appropriate option to fill in the blank.

Words such as articles and pronouns can be _____ unless they are necessary.

- Ans**
- 1. dropped
 - 2. disbarred
 - 3. dispelled
 - 4. disrupted

Question ID : **65497836421**
Status : **Not Answered**
Chosen Option : **--**

Q.3 The following sentence has been split into four segments. Identify the segment that contains a grammatical error.

You will not / be able to / reach on time / while you hurry.

- Ans**
- 1. reach on time
 - 2. while you hurry
 - 3. You will not
 - 4. be able to

Question ID : **65497836430**
Status : **Not Answered**
Chosen Option : **--**

Q.4 Select the most appropriate option that can substitute the underlined segment in the given sentence. If there is no need to substitute it, select 'No substitution required'.

Yesterday, it was raining heavy when I met him at the station.

- Ans
- 1. No substitution required
 - 2. heavy rain
 - 3. raining heavily
 - 4. rained heavily

Question ID : 65497836424
Status : Not Answered
Chosen Option : --

Q.5 The following sentence has been split into four segments. Identify the segment that contains a grammatical error.

The prisoners are kept inside / most of the time / but they are let them out / for an hour every day.

- Ans
- 1. most of the time
 - 2. for an hour every day
 - 3. but they are let them out
 - 4. The prisoners are kept inside

Question ID : 65497836426
Status : Not Answered
Chosen Option : --

Q.6 Select the most appropriate meaning of the given idiom.

Over and over again

- Ans
- 1. Start something new
 - 2. Do something repeatedly
 - 3. End of something important
 - 4. Work very hard

Question ID : 65497836429
Status : Not Answered
Chosen Option : --

Q.7 Select the most appropriate option that can substitute the underlined segment in the given sentence. If there is no need to substitute it, select 'No substitution required'.

If he likes this house, he will buy it.

- Ans
- 1. If he like
 - 2. If he had liked
 - 3. No substitution required
 - 4. If he is liking

Question ID : 65497836417
Status : Not Answered
Chosen Option : --

Q.8 Select the most appropriate **ANTONYM** of the given word.

Bleak

- Ans** 1. Dark
 2. Grim
 3. Cold
 4. Bright

Question ID : **65497836416**
Status : **Not Answered**
Chosen Option : --

Q.9 Select the most appropriate option that can substitute the underlined segment in the given sentence. If there is no need to substitute it, select 'No substitution required'.

Unless you study hard, you will pass the examination.

- Ans** 1. you not pass
 2. No substitution required
 3. you pass
 4. you will not pass

Question ID : **65497836425**
Status : **Not Answered**
Chosen Option : --

Q.10 Select the **INCORRECTLY** spelt word.

- Ans** 1. Disaster
 2. Calamity
 3. Affliction
 4. Casulty

Question ID : **65497836433**
Status : **Not Answered**
Chosen Option : --

Q.11 Select the option that can be used as a one-word substitute for the given group of words.

Impossible to believe

- Ans** 1. Implausible
 2. Fictitious
 3. Incredible
 4. Magic

Question ID : **65497836428**
Status : **Not Answered**
Chosen Option : --

Q.12 Select the option that can be used as a one-word substitute for the given group of words.

An event causing great and sudden damage or suffering

- Ans 1. Termination
 2. Adventure
 3. Catastrophe
 4. Emergency

Question ID : 65497836432
Status : Not Answered
Chosen Option : --

Q.13 Select the most appropriate option to fill in the blank.

My brother _____ bought a new car.

- Ans 1. exactly
 2. freshly
 3. shortly
 4. recently

Question ID : 65497836434
Status : Not Answered
Chosen Option : --

Q.14 Select the most appropriate option to fill in the blank.

He was _____ to get a good job as soon as he was out of college.

- Ans 1. wise
 2. intelligent
 3. fortunate
 4. favoured

Question ID : 65497836418
Status : Not Answered
Chosen Option : --

Q.15 Select the option that can be used as a one-word substitute for the given group of words.

The sound made by a snake

- Ans 1. Coo
 2. Hiss
 3. Buzz
 4. Moo

Question ID : 65497836415
Status : Not Answered
Chosen Option : --

Q.16 Select the most appropriate synonym of the given word.

Eliminate

- Ans 1. Lighten
 2. Include
 3. Darken
 4. Exclude

Question ID : 65497836423
Status : Not Answered
Chosen Option : --

Q.17 The following sentence has been split into four segments. Identify the segment that contains a grammatical error.

The pilot / follow another airplane / as he had lost / his way in the storm.

- Ans 1. as he had lost
 2. his way in the storm
 3. follow another airplane
 4. The pilot

Question ID : 65497836422
Status : Not Answered
Chosen Option : --

Q.18 Select the most appropriate synonym of the given word.

Execute

- Ans 1. Employ
 2. Implement
 3. Destroy
 4. Organise

Question ID : 65497836427
Status : Not Answered
Chosen Option : --

Q.19 Select the most appropriate ANTONYM of the given word.

Malice

- Ans 1. Hatred
 2. Bitterness
 3. Kindness
 4. Grudge

Question ID : 65497836431
Status : Not Answered
Chosen Option : --

Q.20 Select the **INCORRECTLY** spelt word.

- Ans 1. Experimental
 2. Equipment
 3. Electrolite
 4. Environmental

Question ID : **65497836420**
Status : **Not Answered**
Chosen Option : --

Comprehension:

In the following passage, some words have been deleted. Read the passage carefully and select the most appropriate option to fill in each blank.

Acupuncture, a system of treatment of diseases, has been practiced (1)_____ China for nearly five thousand years. It consists of rapid (2)_____ of fine steel needles, about 6 cm long, in particular (3)_____ on the body of the patient. After this, the doctor twirls the needle (4)_____ his thumb and forefinger. When a puncture is made on a spot on the body, energy (5)_____ from there along lines known as "meridians" to the diseased organs.

SubQuestion No : 21

Q.21 Select the most appropriate option to fill in blank no. 1.

- Ans 1. on
 2. about
 3. in
 4. for

Question ID : **65497836436**
Status : **Not Answered**
Chosen Option : --

Comprehension:

In the following passage, some words have been deleted. Read the passage carefully and select the most appropriate option to fill in each blank.

Acupuncture, a system of treatment of diseases, has been practiced (1)_____ China for nearly five thousand years. It consists of rapid (2)_____ of fine steel needles, about 6 cm long, in particular (3)_____ on the body of the patient. After this, the doctor twirls the needle (4)_____ his thumb and forefinger. When a puncture is made on a spot on the body, energy (5)_____ from there along lines known as "meridians" to the diseased organs.

SubQuestion No : 22

Q.22 Select the most appropriate option to fill in blank no. 2.

- Ans 1. position
 2. manipulation
 3. perfection
 4. insertion

Question ID : **65497836437**
Status : **Not Answered**
Chosen Option : --

Comprehension:

In the following passage, some words have been deleted. Read the passage carefully and select the most appropriate option to fill in each blank.

Acupuncture, a system of treatment of diseases, has been practiced (1)_____ China for nearly five thousand years. It consists of rapid (2)_____ of fine steel needles, about 6 cm long, in particular (3)_____ on the body of the patient. After this, the doctor twirls the needle (4)_____ his thumb and forefinger. When a puncture is made on a spot on the body, energy (5)_____ from there along lines known as "meridians" to the diseased organs.

SubQuestion No : 23

Q.23 Select the most appropriate option to fill in blank no. 3.

- Ans 1. fields
 2. design
 3. spots
 4. regions

Question ID : **65497836438**
Status : **Not Answered**
Chosen Option : --

Comprehension:

In the following passage, some words have been deleted. Read the passage carefully and select the most appropriate option to fill in each blank.

Acupuncture, a system of treatment of diseases, has been practiced (1)_____ China for nearly five thousand years. It consists of rapid (2)_____ of fine steel needles, about 6 cm long, in particular (3)_____ on the body of the patient. After this, the doctor twirls the needle (4)_____ his thumb and forefinger. When a puncture is made on a spot on the body, energy (5)_____ from there along lines known as "meridians" to the diseased organs.

SubQuestion No : 24

Q.24 Select the most appropriate option to fill in blank no. 4.

- Ans 1. among
 2. between
 3. through
 4. across

Question ID : **65497836439**
Status : **Not Answered**
Chosen Option : --

Comprehension:

In the following passage, some words have been deleted. Read the passage carefully and select the most appropriate option to fill in each blank.

Acupuncture, a system of treatment of diseases, has been practiced (1)_____ China for nearly five thousand years. It consists of rapid (2)_____ of fine steel needles, about 6 cm long, in particular (3)_____ on the body of the patient. After this, the doctor twirls the needle (4)_____ his thumb and forefinger. When a puncture is made on a spot on the body, energy (5)_____ from there along lines known as "meridians" to the diseased organs.

SubQuestion No : 25

Q.25 Select the most appropriate option to fill in blank no. 5.

- Ans**
- 1. results
 - 2. blushes
 - 3. substitutes
 - 4. flows

Question ID : **65497836440**
Status : **Not Answered**
Chosen Option : --

Section : Part D Hindi

Q.1 सही वर्तनी वाले शब्द का चयन करें।

- Ans**
- 1. आराधना
 - 2. जबाब
 - 3. कार्यकर्म
 - 4. दसहरा

Question ID : **65497836446**
Status : **Answered**
Chosen Option : 1

Q.2 दिये गये वाक्य के किस भाग में त्रुटि है?

बौद्ध बिहार में कई भिक्षु रहते थे।

- Ans**
- 1. रहते थे।
 - 2. बौद्ध बिहार
 - 3. भिक्षु
 - 4. में कई

Question ID : **65497836457**
Status : **Answered**
Chosen Option : 4

Q.3 दिए गए वाक्य में रेखांकित खंड को प्रतिस्थापित करने के लिए सबसे उपयुक्त विकल्प का चयन करें।
यदि इसे प्रतिस्थापित करने की आवश्यकता नहीं है, तो विकल्प 'किसी बदलाव की आवश्यकता नहीं है'
का चयन करें।

हवा जोरों से बह रही है।

- Ans
- 1. किसी बदलाव की आवश्यकता नहीं है।
 - 2. जबरदस्त
 - 3. जोर से
 - 4. भयानक

Question ID : 65497836455
Status : Answered
Chosen Option : 3

Q.4 दिये गये वाक्यांश के लिए एक शब्द दीजिये।

कठिनाई से होने वाला कार्य

- Ans
- 1. असाध्य
 - 2. श्रमसाध्य
 - 3. आसान
 - 4. कष्टसाध्य

Question ID : 65497836447
Status : Answered
Chosen Option : 4

Q.5 दिए गए वाक्य में रेखांकित खंड को प्रतिस्थापित करने के लिए सबसे उपयुक्त विकल्प का चयन करें।
यदि इसे प्रतिस्थापित करने की आवश्यकता नहीं है, तो विकल्प 'किसी बदलाव की आवश्यकता नहीं है'
का चयन करें।

वह एक सप्ताह में वापस लौट आया।

- Ans
- 1. वे वापस लौट आए।
 - 2. वे वापस लौट आएँगे।
 - 3. किसी बदलाव की आवश्यकता नहीं है।
 - 4. वह वापस आया।

Question ID : 65497836443
Status : Answered
Chosen Option : 3

Q.6 दिए गए शब्द का विलोम चुनें।

वृद्ध

- Ans
- 1. युवक
 - 2. किशोर
 - 3. बालक
 - 4. शिशु

Question ID : 65497836451
Status : Answered
Chosen Option : 1

Q.7 रिक्त स्थान की पूर्ति के लिए सबसे उपयुक्त शब्द का चयन करें।

पशुओं का झुंड चारों ओर पानी की _____ में घूम रहा था।

- Ans
- 1. पकड़
 - 2. तलाश
 - 3. अनुसंधान
 - 4. चाह

Question ID : 65497836454
Status : Answered
Chosen Option : 2

Q.8 दिये गये वाक्यांश के लिए एक शब्द दीजिये।

जिसका जन्म शरीर से हुआ हो

- Ans
- 1. अण्डज
 - 2. शरीरज
 - 3. पिण्डज
 - 4. पार्थिव

Question ID : 65497836452
Status : Answered
Chosen Option : 2

Q.9 'विद्वान' का पर्यायवाची है-

- Ans
- 1. ऋषि
 - 2. तपस्वी
 - 3. मनीषी
 - 4. मुनि

Question ID : 65497836458
Status : Answered
Chosen Option : 2

Q.10 रिक्त स्थान की पूर्ति के लिए सबसे उपयुक्त विकल्प का चयन करें।

देश में उद्योग-धंधों की _____ हुई है।

- Ans
- 1. प्रोन्नति
 - 2. गति
 - 3. प्रगति
 - 4. उन्नति

Question ID : 65497836456
Status : Answered
Chosen Option : 4

Q.11 दिए गए शब्द के समानार्थी शब्द का चयन करें।

किरण

- Ans 1. अक्षि
 2. अभ्र
 3. रश्मि
 4. शक्र

Question ID : 65497836450
Status : Answered
Chosen Option : 3

Q.12 'माथा ठनकना' मुहावरे का सही अर्थ क्या है?

- Ans 1. चोट लगना
 2. गुस्सा होना
 3. संशय होना
 4. चिंता करना

Question ID : 65497836460
Status : Answered
Chosen Option : 4

Q.13 रिक्त स्थान की पूर्ति के लिए सबसे उपयुक्त शब्द का चयन कीजिए।

चिड़िया _____ है।

- Ans 1. मिमियाती
 2. चहचहाती
 3. दहाड़ती
 4. भौंकती

Question ID : 65497836441
Status : Answered
Chosen Option : 2

Q.14 उस विकल्प का चयन करें जो मुहावरे का सही अर्थ व्यक्त करता है।

गर्दन पर सवार होना

- Ans 1. बुरी हालत करना
 2. पीछा न छोड़ना
 3. गले पड़ना
 4. जान से मार देना

Question ID : 65497836444
Status : Answered
Chosen Option : 1

Q.15 दिए गए वाक्य में रेखांकित खंड को प्रतिस्थापित करने के लिए सबसे उपयुक्त विकल्प का चयन करें।
यदि इसे प्रतिस्थापित करने की आवश्यकता नहीं है, तो विकल्प 'किसी बदलाव की आवश्यकता नहीं है'
का चयन करें।

उसे तत्कालिक सहायता चाहिए।

- Ans
- 1. तत्कालिक सहायता
 - 2. किसी बदलाव की आवश्यकता नहीं है।
 - 3. तात्कालिक सहायता
 - 4. तात्कालिक सहायता

Question ID : 65497836442
Status : Answered
Chosen Option : 4

Q.16 दिए गए वाक्य का वह भाग ज्ञात करें जिसमें कोई त्रुटि है। यदि कोई त्रुटि नहीं है, तो 'कोई त्रुटि नहीं है'
चुनें।

निन्दा की उद्गम ही (1)/ हीनता और (2)/ कमजोरी से होता है (3)/ कोई त्रुटि नहीं है (4)

- Ans
- 1. 4
 - 2. 3
 - 3. 2
 - 4. 1

Question ID : 65497836448
Status : Answered
Chosen Option : 4

Q.17 'विवाद' का विलोम शब्द होगा-

- Ans
- 1. प्रवाद
 - 2. प्रतिवाद
 - 3. निर्विवाद
 - 4. वाद

Question ID : 65497836459
Status : Answered
Chosen Option : 3

Q.18 दिये गये वाक्यांश के लिए एक शब्द दीजिये।

तारों भरी रात

- Ans
- 1. प्रदोष
 - 2. पूर्वाह्न
 - 3. निशीथ
 - 4. विभावरी

Question ID : 65497836453
Status : Answered
Chosen Option : 3

Q.19 दिए गए वाक्य का वह भाग ज्ञात करें जिसमें कोई त्रुटि है। यदि कोई त्रुटि नहीं है, तो 'कोई त्रुटि नहीं है' चुनें।

बसंत के आगमन (1)/ से ही शीत की कोप (2)/ अदृश्य हो गया (3)/ कोई त्रुटि नहीं है (4)

- Ans 1. 1
 2. 4
 3. 2
 4. 3

Question ID : 65497836449
Status : Answered
Chosen Option : 3

Q.20 सही वर्तनी वाले शब्द का चयन करें।

- Ans 1. उज्जल
 2. उज्ज्वल
 3. उजल
 4. उज्वल

Question ID : 65497836445
Status : Answered
Chosen Option : 2

Comprehension:

दिए गए गद्यांश में से कुछ शब्द हटा दिए गए हैं। संबंधित प्रश्नों में प्रत्येक संख्या के लिए सबसे उपयुक्त विकल्प का चयन करें।

भाषा के (1) _____ मानव अपने विचारों, (2) _____ और अनुभूतियों को दो प्रकार से (3) _____-पद्य में या गद्य में। उसकी अभिव्यक्ति के इन दो रूपों के सृजन के (4) _____ तत्त्व हैं- भावना-प्रवण (5) _____ और विचारकेन्द्र मस्तिष्क।

SubQuestion No : 21

Q.21 गद्यांश के रिक्त स्थान (1) के लिए सर्वाधिक उपयुक्त शब्द होगा-

- Ans 1. मदद से
 2. सहयोग से
 3. सहायता से
 4. माध्यम से

Question ID : 65497836462
Status : Answered
Chosen Option : 4

Comprehension:

दिए गए गद्यांश में से कुछ शब्द हटा दिए गए हैं। संबंधित प्रश्नों में प्रत्येक संख्या के लिए सबसे उपयुक्त विकल्प का चयन करें।

भाषा के (1) _____ मानव अपने विचारों, (2) _____ और अनुभूतियों को दो प्रकार से (3) _____-पद्य में या गद्य में। उसकी अभिव्यक्ति के इन दो रूपों के सृजन के (4) _____ तत्त्व हैं- भावना-प्रवण (5) _____ और विचारकेन्द्र मस्तिष्क।

SubQuestion No : 22

Q.22 गद्यांश के रिक्त स्थान (2) के लिए सर्वाधिक उपयुक्त शब्द होगा-

- Ans** 1. आचारों
 2. भावों
 3. सोचों
 4. सपनों

Question ID : **65497836463**
Status : **Answered**
Chosen Option : **2**

Comprehension:

दिए गए गद्यांश में से कुछ शब्द हटा दिए गए हैं। संबंधित प्रश्नों में प्रत्येक संख्या के लिए सबसे उपयुक्त विकल्प का चयन करें।

भाषा के (1) _____ मानव अपने विचारों, (2) _____ और अनुभूतियों को दो प्रकार से (3) _____-पद्य में या गद्य में। उसकी अभिव्यक्ति के इन दो रूपों के सृजन के (4) _____ तत्त्व हैं- भावना-प्रवण (5) _____ और विचारकेन्द्र मस्तिष्क।

SubQuestion No : 23

Q.23 गद्यांश के रिक्त स्थान (3) के लिए सर्वाधिक उपयुक्त शब्द होगा-

- Ans** 1. प्रकट करता है
 2. बताता है
 3. व्यक्त करता है
 4. प्रकाशित करता है

Question ID : **65497836464**
Status : **Answered**
Chosen Option : **3**

Comprehension:

दिए गए गद्यांश में से कुछ शब्द हटा दिए गए हैं। संबंधित प्रश्नों में प्रत्येक संख्या के लिए सबसे उपयुक्त विकल्प का चयन करें।

भाषा के (1) _____ मानव अपने विचारों, (2) _____ और अनुभूतियों को दो प्रकार से (3) _____-पद्य में या गद्य में। उसकी अभिव्यक्ति के इन दो रूपों के सृजन के (4) _____ तत्त्व हैं- भावना-प्रवण (5) _____ और विचारकेन्द्र मस्तिष्क।

SubQuestion No : 24

Q.24 गद्यांश के रिक्त स्थान (4) के लिए सर्वाधिक उपयुक्त शब्द होगा-

- Ans** 1. मुल
 2. विषय
 3. प्रमुख
 4. कारक

Question ID : **65497836465**
Status : **Answered**
Chosen Option : **3**

Comprehension:

दिए गए गद्यांश में से कुछ शब्द हटा दिए गए हैं। संबंधित प्रश्नों में प्रत्येक संख्या के लिए सबसे उपयुक्त विकल्प का चयन करें।

भाषा के (1) _____ मानव अपने विचारों, (2) _____ और अनुभूतियों को दो प्रकार से (3) _____-पद्य में या गद्य में। उसकी अभिव्यक्ति के इन दो रूपों के सृजन के (4) _____ तत्त्व हैं- भावना-प्रवण (5) _____ और विचारकेन्द्र मस्तिष्क।

SubQuestion No : 25

Q.25 गद्यांश के रिक्त स्थान (5) के लिए सर्वाधिक उपयुक्त शब्द होगा-

- Ans** 1. हृदय
 2. मन
 3. दिल
 4. चेतक

Question ID : **65497836466**

Status : **Answered**

Chosen Option : **2**

GovtJobsAlert.In