

## Constable GD in CAPFs NIA SSF and Rifleman GD in Assam Rifles Examination 2021

Roll Number	<a href="http://www.GovtJobsAlert.In">www.GovtJobsAlert.In</a>
Candidate Name	<a href="http://www.GovtJobsAlert.In">www.GovtJobsAlert.In</a>
Venue Name	iON Digital Zone iDZ 1 Sector 62
Exam Date	15/12/2021
Exam Time :	9:00 AM - 10:30 AM
Subject	Constable GD 2021

### Section : Part A General Intelligence and Reasoning

Q.1 जिस प्रकार 'मोनाच', 'तितली' से संबंधित है, उसी प्रकार 'मांवा', ' \_\_\_\_\_ ' से संबंधित है।

- Ans
- 1. शाही
  - 2. सांप
  - 3. रानी
  - 4. विष

Question ID : 65497830765  
Status : Answered  
Chosen Option : 2

Q.2 A, B, C, D, E, F, G और H, आठ मित्र इसी क्रम में एक-दूसरे से समान दूरी पर एक गोल मेज के परितः इसके केंद्र की ओर मुंह करके दक्षिणावर्त बैठे हुए हैं। C का मुंह उत्तर दिशा की ओर है। अब यदि D अपना स्थान छोड़ देता है और D के स्थान पर नया मित्र Y आकर बैठता है, तो निम्नलिखित दो व्यक्तियों में से कौन से एक दूसरे के सम्मुख बैठे हैं?

- Ans
- 1. B और F
  - 2. Y और B
  - 3. F और A
  - 4. C और H

Question ID : 65497830752  
Status : Answered  
Chosen Option : 1

Q.3 किरण की ओर इशारा करते हुए रोहन कहता है कि, "वह मेरे दादा के इकलौते पुत्र की पुत्री है।" किरण का रोहन से क्या संबंध है?

- Ans
- 1. बहन
  - 2. माँ
  - 3. पुत्र-वधू
  - 4. पत्नी

Question ID : 65497830759  
Status : Answered  
Chosen Option : 1

Q.4 पाँच व्यक्ति एक पंक्ति में बैठे हैं। दो व्यक्ति D और H अंतिम छोरों पर बैठे हैं। L, P के दाएँ है। T, H के बाएँ है। बाएँ से L की स्थिति क्या है?

- Ans  1. तीसरी  
 2. चौथी  
 3. पहली  
 4. दूसरी

Question ID : 65497830766  
Status : Answered  
Chosen Option : 1

Q.5 दिए गए विकल्पों में से उस संख्या का चयन करें, जो निम्नलिखित श्रृंखला में प्रश्नवाचक चिह्न (?) के स्थान पर आ सकती है।

6, 5, 7, 7, 10, 11, 15, 17, ?

- Ans  1. 24  
 2. 22  
 3. 23  
 4. 25

Question ID : 65497830762  
Status : Answered  
Chosen Option : 2

Q.6 दिए गए पैटर्न का ध्यानपूर्वक अध्ययन करें, और उस संख्या का चयन करें जो इसमें प्रश्नवाचक चिह्न (?) के स्थान पर आ सकती है।

14 12 15  
11 17 16  
180 234 ?

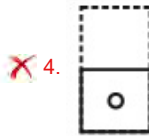
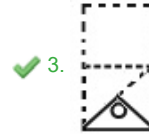
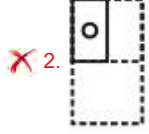
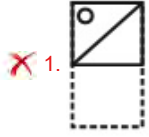
- Ans  1. 298  
 2. 369  
 3. 425  
 4. 272

Question ID : 65497830770  
Status : Answered  
Chosen Option : 4

**Q.7** किसी कागज की शीट को विशेष तरीके से मोड़ा जाता है और उसमें कई छिद्र किए जाते हैं। जब कागज की शीट को खोला जाता है, तो उसमें प्रश्न आकृति जैसी आकृति दिखती है। दिए गए विकल्पों में से, वह आकृति चुनें जो कागज को मोड़े जाने और छिद्र किए जाने के तरीके का अनुसरण करती है।

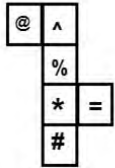


Ans



Question ID : 65497830772  
Status : Answered  
Chosen Option : 3

**Q.8** दो गई शीट को मोड़कर एक घन बनाया जाता है। इस प्रकार बनाए गए घन में, चिहनों का कौन सा युग्म इसके विपरीत पृष्ठों पर होगा?



Ans

✓ 1. @ और =

✗ 2. % और \*

✗ 3. # और =

✗ 4. @ और %

Question ID : 65497830755  
Status : Not Answered  
Chosen Option : --

Q.9 दिए गए विकल्पों में से उस अक्षर-समूह का चयन करें, जो निम्नलिखित श्रृंखला में प्रश्नवाचक चिह्न (?) के स्थान पर आ सकता है।

GLQ, VAF, KPU, ZEJ, ?

- Ans
- 1. OUZ
  - 2. PTY
  - 3. PUY
  - 4. OTY

Question ID : 65497830764  
Status : Answered  
Chosen Option : 4

Q.10 निम्नलिखित चार अक्षर-समूहों में से तीन किसी न किसी प्रकार समान हैं और एक भिन्न है। भिन्न अक्षर-समूह का चयन करें।

- Ans
- 1. TPLI
  - 2. MIEA
  - 3. XTPL
  - 4. RNJF

Question ID : 65497830760  
Status : Answered  
Chosen Option : 1

Q.11 वर्गों के उस समूह का चयन करें जिनके बीच के संबंध को निम्नांकित वेन आरेख द्वारा सबसे अधिक उचित तरीके से दर्शाया गया है।



- Ans
- 1. नागरिक, अशिक्षित, अधिवक्ता
  - 2. शार्क, व्हेल, टोड
  - 3. सोफा, फर्नीचर, पुस्तक
  - 4. भाई, क्रिकेटर, पुरुष

Question ID : 65497830767  
Status : Answered  
Chosen Option : 1

Q.12 दिए गए विकल्पों में से उस संख्या का चयन कीजिए जो निम्न श्रेणी में प्रश्नवाचक चिह्न (?) के स्थान पर आएगी।

14, 14, 15, 23, 87, 212, ?

- Ans
- 1. 482
  - 2. 248
  - 3. 284
  - 4. 428

Question ID : 65497830775  
Status : Answered  
Chosen Option : 4

Q.13 उस विकल्प का चयन कीजिए जिसमें निम्नलिखित शब्दों का वह क्रम दिया गया है जिस क्रम में वे अंग्रेजी शब्दकोश में आते हैं।

1. Congrats
2. Confusion
3. Confound
4. Congregate
5. Confucian

- Ans
- 1. 3, 4, 1, 5, 2
  - 2. 3, 1, 4, 5, 2
  - 3. 3, 5, 2, 1, 4
  - 4. 3, 2, 5, 1, 4

Question ID : 65497830773  
Status : Answered  
Chosen Option : 3

Q.14 उस विकल्प का चयन करें जो तीसरे अक्षर-समूह से ठीक उसी प्रकार से संबंधित है जैसे दूसरा अक्षर-समूह पहले अक्षर-समूह से संबंधित है।

PVSD : TYUE :: DPKR : ?

- Ans
- 1. HSMS
  - 2. HTMS
  - 3. GTNS
  - 4. ISNS

Question ID : 65497830757  
Status : Answered  
Chosen Option : 1

Q.15 एक विशिष्ट कूट भाषा में, MORALE को 1315181125 के रूप में लिखा जाता है। इस कूट भाषा में VALUES को किस रूप में लिखा जाएगा?

- Ans
- 1. 2211221519
  - 2. 1125185131
  - 3. 2121212519
  - 4. 1951221122

Question ID : 65497830761  
Status : Answered  
Chosen Option : 1

Q.16 दिए गए कथनों और निष्कर्षों को ध्यानपूर्वक पढ़ें। कथनों में दी गई जानकारी को सही मानते हुए, भले ही वह सामान्य रूप से ज्ञात तथ्यों से भिन्न प्रतीत होती हो, निर्णय करें कि दिए गए निष्कर्षों में से कौन से निष्कर्ष कथनों का तार्किक रूप से अनुसरण करते हैं।

कथन:

- I. सभी ग्रिल, ओवन हैं।
- II. कुछ तंदूर, ग्रिल हैं।

निष्कर्ष:

- I. कुछ तंदूर, ओवन हैं।
- II. सभी ओवन, तंदूर हैं।

Ans  1. न तो निष्कर्ष I, और न ही निष्कर्ष II अनुसरण करता है।

2. केवल निष्कर्ष I अनुसरण करता है।

3. केवल निष्कर्ष II अनुसरण करता है।

4. निष्कर्ष I और II, दोनों अनुसरण करते हैं।

Question ID : 65497830769

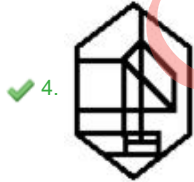
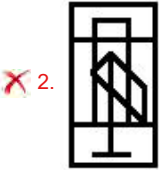
Status : Answered

Chosen Option : 2

Q.17 उस विकल्प का चयन कीजिए जिसमें नीचे दी गई आकृति सन्निकित है (आकृति को घुमाने की अनुमति नहीं है)।



Ans



Question ID : 65497830756

Status : Answered

Chosen Option : 4

Q.18 किसी निश्चित कूट भाषा में, शब्द 'DISK' को 'LTJE' लिखा जाता है। 'SFWP' को उसी कूट भाषा में कैसे लिखा जाएगा?

- Ans
- 1. REVO
  - 2. QXGT
  - 3. TGXQ
  - 4. OVER

Question ID : 65497830768  
Status : Answered  
Chosen Option : 2

Q.19 उस विकल्प का चयन कीजिए जो चौथी संख्या से उसी तरह से संबंधित है जैसे पहली संख्या दूसरी संख्या से संबंधित है और पाँचवीं संख्या छठी संख्या से संबंधित है।

4523 : 22 :: ? : 14 :: 9178 : 13

- Ans
- 1. 9152
  - 2. 5440
  - 3. 8228
  - 4. 7448

Question ID : 65497830753  
Status : Not Answered  
Chosen Option : --

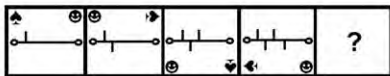
Q.20 दिए गए समीकरण को संतुलित करने के लिए किन दो चिह्नों के स्थानों को आपस में बदलना चाहिए?

$15 \times 6 + 132 - 11 \div 44 = 58$

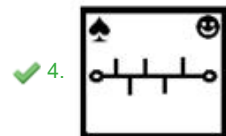
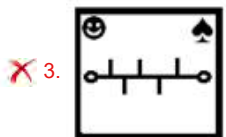
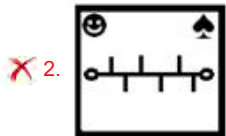
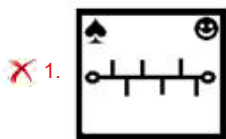
- Ans
- 1. ÷ और –
  - 2. + और +
  - 3. + और ×
  - 4. × और +

Question ID : 65497830754  
Status : Answered  
Chosen Option : 1

Q.21 दिए गए विकल्पों में से उस आकृति का चयन कीजिए जो निम्नांकित आकृति श्रेणी में प्रश्नवाचक चिह्न (?) के स्थान पर आ सकती है।



Ans



Question ID : 65497830776  
Status : Answered  
Chosen Option : 3

Q.22 दी गई आकृति के उस सही दर्पण प्रतिबिंब का चयन करें, जो दर्पण को 'XY' पर रखने पर बनेगा।



Ans



Question ID : 65497830763  
Status : Answered  
Chosen Option : 2



Q.23 श्रेणी 53, 57, 61, 65... से कितने पद लिए जाएं ताकि उनका योग 1106 प्राप्त हो?

- Ans
- 1. 20
  - 2. 15
  - 3. 21
  - 4. 14

Question ID : 65497830771  
Status : Answered  
Chosen Option : 3

Q.24 अक्षरों के उस संयोजन का चयन करें जिसे दी गई श्रेणी में रिक्त स्थानों पर क्रमिक रूप से रखने पर श्रेणी पूर्ण हो जाएगी।

KP\_LMK\_TL\_KPT\_M\_PT\_M

- Ans
- 1. P, K, L, T, M, L
  - 2. T, P, M, L, K, L
  - 3. T, P, L, M, L, K
  - 4. P, T, L, K, M, L

Question ID : 65497830774  
Status : Answered  
Chosen Option : 2

Q.25 किसी विशिष्ट कूट भाषा में, 'HEROIC' को 'KBULLZ' के रूप में लिखा जाता है। उसी कूट भाषा में 'VALIANT' को किस रूप में लिखा जाएगा?

- Ans
- 1. YXOEDLW
  - 2. YXOFDKW
  - 3. YXOLXQQ
  - 4. TCJLYPS

Question ID : 65497830758  
Status : Answered  
Chosen Option : 2

Section : Part B General Knowledge and General Awareness

Q.1 1977 में, बंगाल सरकार ने कोलकाता मैदान में एक महिला स्वतंत्रता सेनानी को समर्पित इस पार्क की पहली प्रतिमा स्थापित की। उस महिला का नाम क्या था?

- Ans
- 1. मातंगिनी हाजरा
  - 2. कनकलता बरुआ
  - 3. भीकाजी कामा
  - 4. अरुणा आसफ अली

Question ID : 65497830784  
Status : Answered  
Chosen Option : 3

Q.2 सलाल हाइड्रोइलेक्ट्रिक पाँवर स्टेशन निम्नलिखित में से किस नदी पर बनाया गया है?

- Ans  1. चेनाब  
 2. भागीरथी  
 3. कोसी  
 4. झेलम

Question ID : 65497830800  
Status : Answered  
Chosen Option : 1

Q.3 अक्टूबर 2020 में, निवेश संवर्धन और सरलीकरण एजेंसी गाइडेंस ने \_\_\_\_\_ राज्य में भारत का पहला उन्नत विनिर्माण केंद्र (AMHUB) स्थापित करने के लिए विश्व आर्थिक मंच (World Economic Forum (WEF)) के साथ भागीदारी की।

- Ans  1. आंध्र प्रदेश  
 2. तमिलनाडु  
 3. केरल  
 4. कर्नाटक

Question ID : 65497830799  
Status : Answered  
Chosen Option : 1

Q.4 SLR उस धन-राशि का निर्धारण करती है, जिसकी आवश्यकता किसी बैंक को कुछ विशिष्ट प्रतिभूतियों में निवेश करने की होती है, जो मुख्य रूप से केंद्र और राज्य सरकारों द्वारा जारी प्रतिभूतियाँ होती हैं। SLR का पूर्ण रूप क्या है?

- Ans  1. Statutory Liquidity Reserve (स्टेटरी लिक्विडिटी रिजर्व)  
 2. Statement Liquidity Ratio (स्टेटमेंट लिक्विडिटी रेशियो)  
 3. Statutory Liquidity Rate (स्टेटरी लिक्विडिटी रेट)  
 4. Statutory Liquidity Ratio (स्टेटरी लिक्विडिटी रेशियो)

Question ID : 65497830781  
Status : Answered  
Chosen Option : 1

Q.5 ऑस्ट्रेलियाई ओपन 2020 टेनिस टूर्नामेंट में पुरुष एकल का खिताब किसने जीता था?

- Ans  1. अलेक्ज़ेंडर ज़्वेरेव (Alexander Zverev)  
 2. डोमिनिक थिएम (Dominic Thiem)  
 3. नोवाक जोकोविच (Novak Djokovic)  
 4. राफेल नडाल (Rafael Nadal)

Question ID : 65497830783  
Status : Answered  
Chosen Option : 3

Q.6 आर्थिक सर्वेक्षण 2019-20 के अनुसार इमर्जिंग ग्रीन बॉन्ड मार्केट में भारत की रैंक क्या थी?

- Ans  1. दूसरी  
 2. तीसरी  
 3. चौथी  
 4. प्रथम

Question ID : 65497830796  
Status : Answered  
Chosen Option : 2

Q.7 वर्ष \_\_\_\_\_ में अपनाए गए भारतीय राष्ट्रीय कांग्रेस के तिरंगे झंडे के केंद्र में एक 'चरखा' रखा गया था।

- Ans  1. 1926  
 2. 1938  
 3. 1931  
 4. 1929

Question ID : 65497830795  
Status : Answered  
Chosen Option : 1

Q.8 निम्नलिखित में से किस कीट में 'लूसिफेरिन' नामक वर्णक होता है?

- Ans  1. तितली  
 2. रेड फ्लाय  
 3. जुगनू  
 4. नाइट फ्लाय

Question ID : 65497830779  
Status : Answered  
Chosen Option : 1

Q.9 'पट्टचित्र' चित्रकला शैली, किस राज्य का लोकप्रिय कला रूप है?

- Ans  1. उत्तर प्रदेश  
 2. बिहार  
 3. ओडिशा  
 4. राजस्थान

Question ID : 65497830777  
Status : Answered  
Chosen Option : 3

Q.10 किस वर्ष भारत ने खोजपूर्ण खनन के लिए अंतर्राष्ट्रीय समुद्री प्राधिकरण के साथ एक समझौते पर हस्ताक्षर किए?

- Ans  1. 2003  
 2. 2002  
 3. 2001  
 4. 2000

Question ID : 65497830789  
Status : Not Answered  
Chosen Option : --

Q.11 अगस्त 2020 में, प्रतिष्ठित राजीव गांधी खेल रत्न पुरस्कार निम्नलिखित खिलाड़ियों में से किसने प्राप्त किया?

- Ans  1. मरियप्पन टी.  
 2. रोमेश पठानिया  
 3. नरेश कुमार  
 4. अतनु दास

Question ID : 65497830801  
Status : Answered  
Chosen Option : 1

Q.12 किस भारतीय खिलाड़ी ने बीबीसी इंडियन स्पोर्ट्सवुमेन ऑफ द ईयर 2019 पुरस्कार जीता?

- Ans  1. मानसी जोशी  
 2. पीवी सिंधु  
 3. मैरी कॉम  
 4. विनेश फोगाट

Question ID : 65497830791  
Status : Answered  
Chosen Option : 2

Q.13 आर्थिक मामलों की मंत्रिमंडलीय समिति (CCEA) ने रबी विपणन सीजन 2020-21 में \_\_\_\_\_ के लिए न्यूनतम समर्थन मूल्य (MSP) में उच्चतम वृद्धि की घोषणा की।

- Ans  1. मसूर की दाल  
 2. सरसों  
 3. जौ  
 4. गेहूं

Question ID : 65497830794  
Status : Answered  
Chosen Option : 4

Q.14 मानव शरीर की त्वचा की बाह्य परत के लिए निम्नलिखित में से किस शब्द का उपयोग किया जाता है?

- Ans  1. लैरिक्स (Larynx)  
 2. क्वाड्रिसेप्स (Quadriceps)  
 3. एपिडर्मिस (Epidermis)  
 4. किरेटिन (Keratin)

Question ID : 65497830778  
Status : Answered  
Chosen Option : 4

Q.15 निम्नलिखित में से कौन सा हवाई अड्डा, अंतर्राष्ट्रीय उड़ानों पर यात्रियों के लिए ई-बोर्डिंग सुविधा शुरू करने वाला पहला भारतीय हवाई अड्डा बना?

- Ans
- 1. दाबोलीम हवाई अड्डा, गोवा
  - 2. इंदिरा गांधी अंतर्राष्ट्रीय हवाई अड्डा, दिल्ली
  - 3. जी.एम.आर. (GMR) हैदराबाद अंतर्राष्ट्रीय हवाई अड्डा
  - 4. सरदार वल्लभभाई पटेल अंतर्राष्ट्रीय हवाई अड्डा, गुजरात

Question ID : 65497830793  
Status : Answered  
Chosen Option : 2

Q.16 साहित्य अकादमी पुरस्कार किस वर्ष में शुरू किया गया था?

- Ans
- 1. 1955
  - 2. 1953
  - 3. 1956
  - 4. 1954

Question ID : 65497830790  
Status : Answered  
Chosen Option : 3

Q.17 निम्नलिखित में से कौन भारत का सर्वोच्च (सबसे ऊंचा) बांध है?

- Ans
- 1. भाखड़ा नांगल बांध, हिमाचल प्रदेश
  - 2. हीराकुड बांध, ओडिशा
  - 3. टिहरी बांध, उत्तराखंड
  - 4. सरदार सरोवर बांध, गुजरात

Question ID : 65497830782  
Status : Answered  
Chosen Option : 1

Q.18 निम्नलिखित में से कौन सा प्राचीन भारत में इलंगो द्वारा रचित एक प्रसिद्ध तमिल महाकाव्य है?

- Ans
- 1. शिलप्पादिकारम
  - 2. शिशुपाल वध
  - 3. रामचरितम
  - 4. ऐतरेय ब्राह्मण

Question ID : 65497830798  
Status : Answered  
Chosen Option : 1

Q.19 उच्च शिक्षा के लिए अंग्रेजी को शिक्षा का माध्यम बनाने और प्राच्य संस्थानों के प्रचार को रोकने के लिए अंग्रेजी शिक्षा अधिनियम किस वर्ष पारित किया गया?

- Ans  1. 1835  
 2. 1854  
 3. 1830  
 4. 1833

Question ID : 65497830785  
Status : Answered  
Chosen Option : 4

Q.20 दशैं एक प्रसिद्ध त्योहार है, जिसकी शुरुआत \_\_\_\_\_ से हुई है।

- Ans  1. म्यांमार  
 2. नेपाल  
 3. भूटान  
 4. भारत

Question ID : 65497830788  
Status : Answered  
Chosen Option : 2

Q.21 2020 में, भारतीय राष्ट्रीय महासागर सूचना सेवा केंद्र के निदेशक के रूप में किसे नियुक्त किया गया था?

- Ans  1. बीवी सत्यनारायण  
 2. श्रीनिवास कुमार तुममाला  
 3. विनय मोहन कात्रा  
 4. एस नागेश्वर राव

Question ID : 65497830787  
Status : Answered  
Chosen Option : 2

Q.22 भारतीय संविधान में कितने मूल अधिकार और मौलिक कर्तव्य निर्धारित किये गए हैं?

- Ans  1. क्रमशः छः और ग्यारह  
 2. क्रमशः सात और दस  
 3. क्रमशः सात और ग्यारह  
 4. क्रमशः आठ और दस

Question ID : 65497830786  
Status : Answered  
Chosen Option : 1

Q.23 निम्न में से कौन सी एक जल जनित बीमारी है?

- Ans
- 1. न्यूमोनिया
  - 2. सामान्य जुकाम
  - 3. हैज़ा
  - 4. कण्ठमाला (मम्पस)

Question ID : 65497830797  
Status : Answered  
Chosen Option : 2

Q.24 भारतीय संविधान के अनुसार, निम्नलिखित में से कौन सा कथन सही है?

- Ans
- 1. विधानमंडल, लोगों का एक छोटा समूह है।
  - 2. कार्यकारी, हमारे चुने हुए प्रतिनिधियों को संदर्भित करता है।
  - 3. विधानमंडल, कार्यपालिका और न्यायपालिका द्वारा समान शक्तियों का उपयोग किया जाना चाहिए।
  - 4. न्यायपालिका, देश में अदालतों की प्रणाली को संदर्भित करती है।

Question ID : 65497830792  
Status : Answered  
Chosen Option : 4

Q.25 नोबेल शांति पुरस्कार 2020 से किसे सम्मानित किया गया?

- Ans
- 1. विश्व खाद्य कार्यक्रम
  - 2. अंतर्राष्ट्रीय मुद्रा कोष
  - 3. विश्व स्वास्थ्य संगठन
  - 4. एमनेस्टी इंटरनेशनल

Question ID : 65497830780  
Status : Answered  
Chosen Option : 1

Section : Part C Elementary Mathematics

Q.1 एक दुकानदार अपने माल पर क्रय मूल्य से 20% अधिक मूल्य अंकित करता है तथा 5% और 10% की दो क्रमिक छूट देता है। उसका लाभ प्रतिशत ज्ञात करें।

- Ans
- 1. 3%
  - 2. 2.6%
  - 3. 1.8%
  - 4. 2.3%

Question ID : 65497830813  
Status : Answered  
Chosen Option : 2

**Q.2** A, B और C का मासिक वेतन 7 : 8 : 11 के अनुपात में है। यदि B का मासिक वेतन, C के मासिक वेतन से ₹3,600 कम है, तो A का वार्षिक वेतन (₹ में) कितना है?

- Ans**
- 1. 8,40,000
  - 2. 3,15,000
  - 3. 1,00,800
  - 4. 6,30,000

Question ID : **65497830804**  
Status : **Answered**  
Chosen Option : **1**

**Q.3** एक व्यापारी अपने सामान पर क्रय मूल्य से 20% अधिक मूल्य अंकित करता है और अपने ग्राहकों को बिल में 10% की छूट देता है। वह कितने प्रतिशत लाभ अर्जित करता है?

- Ans**
- 1. 9%
  - 2. 8%
  - 3. 7%
  - 4. 5%

Question ID : **65497830808**  
Status : **Answered**  
Chosen Option : **2**

**Q.4** ₹16,000 धनराशि को 2 वर्ष के लिए 20% वार्षिक चक्रवृद्धि ब्याज दर पर उधार दिया जाता है। ब्याज यदि वार्षिक रूप में चक्रवृद्धि होने के बजाये अर्धवार्षिक रूप से चक्रवृद्धि होता, तो ब्याज के रूप में ₹x अधिक प्राप्त होते। x का मान कितना है?

- Ans**
- 1. ₹372.80
  - 2. ₹385.60
  - 3. ₹378.20
  - 4. ₹365.40

Question ID : **65497830822**  
Status : **Not Answered**  
Chosen Option : **--**

**Q.5** 9 संख्याओं का औसत 51 है। उनमें से तीन संख्याओं का औसत 49 है और शेष संख्याओं में से चार संख्याओं का औसत 46 है। शेष संख्याओं का औसत क्या है?

- Ans**
- 1. 63
  - 2. 62.5
  - 3. 54
  - 4. 64

Question ID : **65497830803**  
Status : **Answered**  
Chosen Option : **4**



**Q.6** एक लंबवृत्तीय शंकु के आधार का व्यास 60 cm और इसकी ऊंचाई 16 cm है। शंकु का वक्र पृष्ठीय क्षेत्रफल ( $\text{cm}^2$  में) कितना होगा?

- Ans**
- 1.  $1054\pi$
  - 2.  $1088\pi$
  - 3.  $1020\pi$
  - 4.  $960\pi$

Question ID : **65497830823**  
Status : **Answered**  
Chosen Option : **2**

**Q.7** केल्विन और किम मिलकर किसी कार्य को 25 दिन में समाप्त कर सकते हैं। दोनों ने 15 दिन तक साथ कार्य किया और फिर किम ने कार्य छोड़ दिया। उसके बाद, केल्विन ने शेष कार्य को 12 दिन में समाप्त कर दिया। केल्विन अकेले उस कार्य को कितने दिनों में समाप्त कर सकता है?

- Ans**
- 1. 36
  - 2. 39
  - 3. 34
  - 4. 30

Question ID : **65497830817**  
Status : **Answered**  
Chosen Option : **4**

**Q.8** एक आयताकार उद्यान का क्षेत्रफल  $432 \text{ m}^2$  है। यदि इस आयताकार उद्यान की लंबाई, इसकी चौड़ाई से 6 m अधिक है, तो इसका परिमाप (m में) कितना होगा?

- Ans**
- 1. 42
  - 2. 96
  - 3. 84
  - 4. 108

Question ID : **65497830807**  
Status : **Not Answered**  
Chosen Option : --

**Q.9** 552, 759 और 828 का महत्तम समापवर्तक (HCF),  $x$  है।  $x$  का मान निम्नलिखित में से किसके मध्य होगा?

- Ans**
- 1. 65 और 70
  - 2. 70 और 75
  - 3. 60 और 65
  - 4. 55 और 60

Question ID : **65497830819**  
Status : **Answered**  
Chosen Option : **1**

Q.10  $3 + \left\{ 1 + \frac{1}{3} - (3 - 4 \div 3) + \frac{1}{4} + \frac{2}{3} \right\}$  का मान ज्ञात कीजिए।

- Ans
- 1.  $\frac{7}{3}$
  - 2.  $\frac{4}{3}$
  - 3.  $\frac{11}{12}$
  - 4.  $\frac{43}{12}$

Question ID : 65497830824  
Status : Answered  
Chosen Option : 4

Q.11  $3 \times 6 + 8 - 6 \div 3 + 9$  का मान ज्ञात करें।

- Ans
- 1. 45
  - 2. 33
  - 3. 12
  - 4. 21

Question ID : 65497830810  
Status : Answered  
Chosen Option : 2

Q.12 यदि A ने एक वस्तु ₹384 में खरीदी और ₹527 में बेच दी, और B ने एक अन्य वस्तु ₹1,264 में खरीदी और ₹1,724 में बेच दी, तो किसका लाभ प्रतिशत अधिक है और लगभग कितना अधिक है?

- Ans
- 1. B का 1.54%
  - 2. A का 1.63%
  - 3. B का 0.65%
  - 4. A का 0.84%

Question ID : 65497830811  
Status : Answered  
Chosen Option : 2

**Q.13** अनिल ने Y शहर से X शहर के लिए 4.20 a.m. बजे प्रस्थान किया। उसने पहले 1 h 30 min तक 70 km/h की गति से यात्रा की। उसके बाद, गति को घटाकर 50 km/h कर दिया। यदि दोनों शहरों के बीच की दूरी 240 km थी, तो अनिल कितने बजे X शहर पहुंचा?

- Ans**
- 1. 10.24 a.m.
  - 2. 9.45 a.m.
  - 3. 7.25 a.m.
  - 4. 8.32 a.m.

Question ID : 65497830818  
Status : Answered  
Chosen Option : 1

**Q.14** किसी धनराशि पर 12% वार्षिक ब्याज की दर पर 2 वर्ष में प्राप्त होने वाला साधारण ब्याज, उसी धनराशि पर 10% वार्षिक ब्याज की दर से 3 वर्ष में प्राप्त होने वाले साधारण ब्याज से ₹60 कम है। वह धनराशि कितनी (₹ में) है?

- Ans**
- 1. ₹1,000
  - 2. ₹1,400
  - 3. ₹900
  - 4. ₹1,200

Question ID : 65497830809  
Status : Answered  
Chosen Option : 1

**Q.15** A और B की वर्तमान आयु का अनुपात 8 : 15 है। अब से चार वर्ष पश्चात, उनकी आयु का अनुपात 9 : 16 होगा। अब से 8 वर्ष पश्चात, उनकी आयु का योग (वर्षों में) कितना होगा?

- Ans**
- 1. 116
  - 2. 100
  - 3. 98
  - 4. 108

Question ID : 65497830821  
Status : Answered  
Chosen Option : 2

**Q.16** शीता के पास 4 पौधे हैं, जिन पर ताजे फूल क्रमशः दूसरे, तीसरे, चौथे और छठे दिन आते हैं। यदि मंगलवार को, सभी चार पौधों पर ताजे फूल आए हैं, तो सभी चार पौधों पर अगली बार जल्द से जल्द ताजे फूल किस दिन आएंगे?

- Ans**
- 1. मंगलवार
  - 2. सोमवार
  - 3. रविवार
  - 4. गुरुवार

Question ID : 65497830802  
Status : Answered  
Chosen Option : 2

**Q.17** एक व्यक्ति A से B तक, 20 km/h की चाल से जाता है और वापसी के समय अपनी चाल में 50% की वृद्धि कर देता है। दोनों यात्राओं के लिए उसकी औसत चाल कितनी है?

- Ans**
- 1. 40 km/h
  - 2. 24 km/h
  - 3. 36 km/h
  - 4. 48 km/h

Question ID : 65497830825  
Status : Answered  
Chosen Option : 2

**Q.18** ₹7,560 की राशि को A, B और C के बीच इस प्रकार विभाजित किया जाता है, कि उनके हिस्सों में से क्रमशः ₹400, ₹300 और ₹260 कम करने पर उनके हिस्सों का अनुपात 4 : 2 : 5 हो जाता है। C का मूल हिस्सा कितना है? (₹ में)

- Ans**
- 1. 3,260
  - 2. 2,800
  - 3. 6,600
  - 4. 1,500

Question ID : 65497830806  
Status : Answered  
Chosen Option : 3

**Q.19** A किसी कार्य को 15 दिनों में कर सकता है और B इसी कार्य को 20 दिनों में कर सकता है। वे दोनों एक साथ मिलकर एक दिन में इस कार्य का कितना भाग कर सकेंगे?

- Ans**
- 1.  $\frac{9}{65}$
  - 2.  $\frac{7}{60}$
  - 3.  $\frac{8}{15}$
  - 4.  $\frac{7}{15}$

Question ID : 65497830812  
Status : Answered  
Chosen Option : 2

**Q.20** एक विक्रेता ने ₹3,750 में 25 दर्जन फल खरीदे। इनमें से 50 फल सड़े हुए थे, इसलिए फेंक दिए गए। पूरे लेन-देन में 20% का लाभ प्राप्त करने के लिए उसे शेष फलों को प्रति दर्जन किस दर (₹ में) पर बेचना चाहिए?

- Ans**
- 1. 180
  - 2. 216
  - 3. 192
  - 4. 204

Question ID : 65497830826  
Status : Not Answered  
Chosen Option : --

**Q.21** एक वस्तु का मूल्य प्रति वर्ष 10% बढ़ जाता है। यदि प्रथम वर्ष और तीसरे वर्ष के अंत में इसके मूल्यों के बीच अंतर ₹69.30 हो, तो चौथे वर्ष के अंत में इसका मूल्य (₹ में) कितना होगा?

- Ans**
- 1. 439.23
  - 2. 363.00
  - 3. 399.30
  - 4. 441.93

Question ID : 65497830820  
Status : Answered  
Chosen Option : 2

**Q.22** किसी बिस्तर की चादर का अंकित मूल्य ₹750 था। एक व्यक्ति ने दो क्रमिक छूट मिलने के बाद बिस्तर की चादर ₹560 में खरीदी, जिसमें से पहली छूट 16% थी। दूसरी छूट कितनी थी?

- Ans**
- 1.  $11\frac{4}{3}\%$
  - 2.  $11\frac{1}{9}\%$
  - 3.  $11\frac{1}{4}\%$
  - 4.  $11\frac{1}{2}\%$

Question ID : 65497830815  
Status : Answered  
Chosen Option : 4

**Q.23** 4 वर्ष पहले, 4 सदस्यों वाले परिवार की औसत आयु 19 वर्ष थी। उस परिवार में एक शिशु के शामिल हो जाने पर परिवार की औसत आयु पूर्ववत् ही रहती है। शिशु की वर्तमान आयु ज्ञात कीजिए।

- Ans**
- 1. 3 वर्ष
  - 2. 2 वर्ष
  - 3. 1 वर्ष
  - 4. 4 वर्ष

Question ID : 65497830814  
Status : Answered  
Chosen Option : 2

**Q.24** यदि किसी निश्चित धनराशि पर वार्षिक रूप से चक्रवृद्धि होने वाली 10% वार्षिक ब्याज दर से प्राप्त होने वाला चक्रवृद्धि ब्याज ₹3,360 है, तो वह धनराशि कितनी है?

- Ans
- 1. ₹15,500
  - 2. ₹16,500
  - 3. ₹15,000
  - 4. ₹16,000

Question ID : 65497830805  
Status : Answered  
Chosen Option : 2

**Q.25** पिछले वर्ष की तुलना में, 2012 में एक क्रिकेट स्टेडियम में औसत उपस्थिति 15% बढ़ गई। अगर 2012 में 2,160 अधिक लोग मैच देखने आए, तो 2011 में कितने लोग आए थे?

- Ans
- 1. 14,400
  - 2. 15,000
  - 3. 24,000
  - 4. 32,400

Question ID : 65497830816  
Status : Answered  
Chosen Option : 3

Section : Part D English

**Q.1** Select the most appropriate option that can substitute the underlined segment in the given sentence. If there is no need to substitute it, select 'No substitution required'.

The farmer walked beside his bulls, isn't it?

- Ans
- 1. did he
  - 2. No substitution required
  - 3. didn't they
  - 4. didn't he

Question ID : 65497830827  
Status : Not Answered  
Chosen Option : --

**Q.2** The following sentence has been split into four segments. Identify the segment that contains a grammatical error.

The children were / bubbling with excitement / at the thought of / seeing sea.

- Ans
- 1. bubbling with excitement
  - 2. seeing sea
  - 3. The children were
  - 4. at the thought of

Question ID : 65497830837  
Status : Not Answered  
Chosen Option : --

**Q.3** Select the most appropriate meaning of the given idiom.

**Maiden speech**

- Ans**  1. Unprepared speech  
 2. Last speech  
 3. First speech  
 4. Madam's speech

Question ID : **65497830835**  
Status : **Not Answered**  
Chosen Option : --

**Q.4** Select the most appropriate ANTONYM of the given word.

**Dispute**

- Ans**  1. Trouble  
 2. Doubt  
 3. Agreement  
 4. Confusion

Question ID : **65497830836**  
Status : **Not Answered**  
Chosen Option : --

**Q.5** Select the most appropriate option that can substitute the underlined segment in the given sentence. If there is no need to substitute it, select 'No substitution required'.

If we are not clear about the exact meaning of a word, we should look into a dictionary.

- Ans**  1. look of  
 2. look to  
 3. look up  
 4. look on

Question ID : **65497830834**  
Status : **Not Answered**  
Chosen Option : --

**Q.6** Select the most appropriate ANTONYM of the given word.

**INVERT**

- Ans**  1. Lean  
 2. Straighten  
 3. Upset  
 4. Reverse

Question ID : **65497830842**  
Status : **Not Answered**  
Chosen Option : --

**Q.7** Select the most appropriate meaning of the given idiom.

**A dime a dozen**

- Ans**
- 1. Something which is not expensive
  - 2. Something which costs a dime
  - 3. Something which can be bought only in dozens
  - 4. Something very common or of little value

Question ID : **65497830839**  
Status : **Not Answered**  
Chosen Option : --

**Q.8** Select the most appropriate option to fill in the blank.

**Mother's back was too \_\_\_\_\_ to work any longer, so she lay down to rest.**

- Ans**
- 1. sore
  - 2. sick
  - 3. sour
  - 4. soft

Question ID : **65497830846**  
Status : **Not Answered**  
Chosen Option : --

**Q.9** Select the option that can be used as a one-word substitute for the given group of words.

**A means of altering one's appearance to conceal one's identity**

- Ans**
- 1. Dress
  - 2. Drape
  - 3. Distort
  - 4. Disguise

Question ID : **65497830840**  
Status : **Not Answered**  
Chosen Option : --

**Q.10** Select the **INCORRECTLY** spelt word.

- Ans**
- 1. Fright
  - 2. Freind
  - 3. Freeze
  - 4. Frigid

Question ID : **65497830828**  
Status : **Not Answered**  
Chosen Option : --



Q.11 Select the most appropriate synonym of the given word.

Recover

- Ans  1. Remain  
 2. Retain  
 3. Refrain  
 4. Regain

Question ID : 65497830833  
Status : Not Answered  
Chosen Option : --

Q.12 Select the option that can be used as a one-word substitute for the given group of words.

To reduce to a shorter form intended to stand for the whole

- Ans  1. Abbreviate  
 2. Shrink  
 3. Protract  
 4. Extend

Question ID : 65497830843  
Status : Not Answered  
Chosen Option : --

Q.13 Select the INCORRECTLY spelt word.

- Ans  1. Curious  
 2. Assistance  
 3. Participant  
 4. Exchanged

Question ID : 65497830844  
Status : Not Answered  
Chosen Option : --

Q.14 Select the most appropriate synonym of the given word.

Remedial

- Ans  1. Harmful  
 2. Medicinal  
 3. Corrective  
 4. Superficial

Question ID : 65497830838  
Status : Not Answered  
Chosen Option : --

**Q.15** The following sentence has been divided into parts. One of them may contain an error. Select the part that contains the error from the given options. If you don't find any error, mark 'No error' as your answer.

By this time tomorrow / we will have / reached to Delhi.

- Ans**
- 1. By this time tomorrow
  - 2. No error
  - 3. we will have
  - 4. reached to Delhi

Question ID : **65497830841**  
Status : **Not Answered**  
Chosen Option : --

**Q.16** Select the most appropriate option to fill in the blank.

War and Peace is a \_\_\_\_\_ written by Leo Tolstoy.

- Ans**
- 1. notable
  - 2. distinguished
  - 3. celebrated
  - 4. masterpiece

Question ID : **65497830830**  
Status : **Not Answered**  
Chosen Option : --

**Q.17** Select the option that can be used as a one-word substitute for the given group of words.

An area where fruit trees are grown

- Ans**
- 1. Farm
  - 2. Orchard
  - 3. Field
  - 4. Garden

Question ID : **65497830831**  
Status : **Not Answered**  
Chosen Option : --

**Q.18** Select the most appropriate option that can substitute the underlined segment in the given sentence. If there is no need to substitute it, select 'No substitution required'.

Please don't confuse me by giving so many different directions.

- Ans**
- 1. with giving so many
  - 2. No substitution required
  - 3. by give so many
  - 4. by giving so much

Question ID : **65497830845**  
Status : **Not Answered**  
Chosen Option : --

**Q.19** Select the most appropriate option to fill in the blank.

The situation became \_\_\_\_\_ after the scuffle between the farmers and the police.

- Ans  1. smooth  
 2. serious  
 3. sad  
 4. funny

Question ID : **65497830829**  
Status : **Not Answered**  
Chosen Option : --

**Q.20** The following sentence has been split into four segments. Identify the segment that contains a grammatical error.

The penalty for / not wear masks / in public places / should be increased.

- Ans  1. The penalty for  
 2. should be increased  
 3. not wear masks  
 4. in public places

Question ID : **65497830832**  
Status : **Not Answered**  
Chosen Option : --

**Comprehension:**

In the following passage, some words have been deleted. Read the passage carefully and select the most appropriate option to fill in each blank.

Technology has made our lives simple and fast. The biggest (1)\_\_\_\_\_ has been the development of the internet. The internet is a (2)\_\_\_\_\_ of technology. It has brought us closer and people sitting at (3)\_\_\_\_\_ corners of the world can easily communicate. It facilitates shopping, money (4)\_\_\_\_\_, online learning etc. Cybercrimes are a result of the misuse of the internet. Children's (5)\_\_\_\_\_ to online games is another major problem faced by parents today.

**SubQuestion No : 21**

**Q.21** Select the most appropriate option to fill in blank no. 1.

- Ans  1. contribution  
 2. value  
 3. hindrance  
 4. supply

Question ID : **65497830848**  
Status : **Not Answered**  
Chosen Option : --

**Comprehension:**

In the following passage, some words have been deleted. Read the passage carefully and select the most appropriate option to fill in each blank.

Technology has made our lives simple and fast. The biggest (1)\_\_\_\_\_ has been the development of the internet. The internet is a (2)\_\_\_\_\_ of technology. It has brought us closer and people sitting at (3)\_\_\_\_\_ corners of the world can easily communicate. It facilitates shopping, money (4)\_\_\_\_\_, online learning etc. Cybercrimes are a result of the misuse of the internet. Children's (5)\_\_\_\_\_ to online games is another major problem faced by parents today.

**SubQuestion No : 22**

**Q.22** Select the most appropriate option to fill in blank no. 2.

- Ans**
- 1. asset
  - 2. favour
  - 3. burden
  - 4. boon

Question ID : **65497830849**  
Status : **Not Answered**  
Chosen Option : --

**Comprehension:**

In the following passage, some words have been deleted. Read the passage carefully and select the most appropriate option to fill in each blank.

Technology has made our lives simple and fast. The biggest (1)\_\_\_\_\_ has been the development of the internet. The internet is a (2)\_\_\_\_\_ of technology. It has brought us closer and people sitting at (3)\_\_\_\_\_ corners of the world can easily communicate. It facilitates shopping, money (4)\_\_\_\_\_, online learning etc. Cybercrimes are a result of the misuse of the internet. Children's (5)\_\_\_\_\_ to online games is another major problem faced by parents today.

**SubQuestion No : 23**

**Q.23** Select the most appropriate option to fill in blank no. 3.

- Ans**
- 1. near
  - 2. distant
  - 3. farther
  - 4. further

Question ID : **65497830850**  
Status : **Not Answered**  
Chosen Option : --

**Comprehension:**

In the following passage, some words have been deleted. Read the passage carefully and select the most appropriate option to fill in each blank.

Technology has made our lives simple and fast. The biggest (1)\_\_\_\_\_ has been the development of the internet. The internet is a (2)\_\_\_\_\_ of technology. It has brought us closer and people sitting at (3)\_\_\_\_\_ corners of the world can easily communicate. It facilitates shopping, money (4)\_\_\_\_\_, online learning etc. Cybercrimes are a result of the misuse of the internet. Children's (5)\_\_\_\_\_ to online games is another major problem faced by parents today.

**SubQuestion No : 24**

**Q.24** Select the most appropriate option to fill in blank no. 4.

- Ans**
- 1. contracts
  - 2. transactions
  - 3. sites
  - 4. business

Question ID : **65497830851**  
Status : **Not Answered**  
Chosen Option : --

**Comprehension:**

In the following passage, some words have been deleted. Read the passage carefully and select the most appropriate option to fill in each blank.

Technology has made our lives simple and fast. The biggest (1)\_\_\_\_\_ has been the development of the internet. The internet is a (2)\_\_\_\_\_ of technology. It has brought us closer and people sitting at (3)\_\_\_\_\_ corners of the world can easily communicate. It facilitates shopping, money (4)\_\_\_\_\_, online learning etc. Cybercrimes are a result of the misuse of the internet. Children's (5)\_\_\_\_\_ to online games is another major problem faced by parents today.

**SubQuestion No : 25**

**Q.25** Select the most appropriate option to fill in blank no. 5.

- Ans**
- 1. addiction
  - 2. indifference
  - 3. desire
  - 4. interest

Question ID : **65497830852**  
Status : **Not Answered**  
Chosen Option : --

**Section : Part D Hindi**

**Q.1** 'परिचारक' का पर्यायवाची है-

- Ans**
- 1. सेवक
  - 2. चालक
  - 3. वाहक
  - 4. धावक

Question ID : **65497830872**  
Status : **Answered**  
Chosen Option : 1

Q.2 दिये गये वाक्यांश के लिए एक शब्द दीजिये।

किए हुए को मानने वाला

- Ans
- 1. अकृतज्ञ
  - 2. कृतज्ञ
  - 3. कृतकार्य
  - 4. कृतज्ञ

Question ID : 65497830862  
Status : Answered  
Chosen Option : 4

Q.3 दिए गए वाक्य में रेखांकित खंड को प्रतिस्थापित करने के लिए सबसे उपयुक्त विकल्प का चयन करें।  
यदि इसे प्रतिस्थापित करने की आवश्यकता नहीं है, तो विकल्प 'किसी बदलाव की आवश्यकता नहीं है' का चयन करें।

भारत में मासिनराम में सर्वाधिक वर्षा होता है।

- Ans
- 1. सर्वाधिक वर्षा होती है।
  - 2. किसी बदलाव की आवश्यकता नहीं है।
  - 3. सर्वाधिक वर्षा हुए है।
  - 4. सर्वाधिक वर्षा हुई है।

Question ID : 65497830855  
Status : Answered  
Chosen Option : 1

Q.4 निम्न मुहावरे का अर्थ व्यक्त करने वाले विकल्प का चयन कीजिए।

होश उड़ना

- Ans
- 1. अयोग्य होना
  - 2. सफल होना
  - 3. सपने देखना
  - 4. डर जाना

Question ID : 65497830864  
Status : Answered  
Chosen Option : 4

Q.5 दिए गए शब्द के समानार्थी शब्द का चयन करें।

उजास

- Ans
- 1. उन्नति
  - 2. प्रयास
  - 3. चमक
  - 4. उत्तमता

Question ID : 65497830859  
Status : Answered  
Chosen Option : 2

Q.6 रिक्त स्थान की पूर्ति के लिए सबसे उपयुक्त विकल्प का चयन करें।

इस मशीन में कुछ \_\_\_\_\_ है।

- Ans
- 1. झकझक
  - 2. खटपट
  - 3. गड़बड़
  - 4. बड़बड़

Question ID : 65497830867  
Status : Answered  
Chosen Option : 3

Q.7 'जो पढ़ने में रोचक लगे' वाक्यांश के लिए एक शब्द होगा-

- Ans
- 1. पद्य
  - 2. गद्य
  - 3. दर्शनीय
  - 4. पठनीय

Question ID : 65497830870  
Status : Answered  
Chosen Option : 4

Q.8 दिए गए वाक्य का वह भाग ज्ञात करें जिसमें कोई त्रुटि है। यदि कोई त्रुटि नहीं है, तो 'कोई त्रुटि नहीं है' चुनें।

कामायनी पढ़कर (1)/ आनन्द का (2)/ अनुभव होता है (3)/ कोई त्रुटि नहीं है (4)

- Ans
- 1. 1
  - 2. 4
  - 3. 2
  - 4. 3

Question ID : 65497830860  
Status : Answered  
Chosen Option : 2

Q.9 मुहावरे और उसके अर्थ युक्त सही युग्म की पहचान कीजिए-

- Ans
- 1. अम्बर के तारे गिनना - अच्छी नींद आना
  - 2. अंगूठा दिखाना - मुसीबत मोल लेना
  - 3. अंगारे सिर पर धरना - शांति से रहना
  - 4. आँखों में धूल झोंकना - धोखा देना

Question ID : 65497830869  
Status : Answered  
Chosen Option : 4

Q.10 दिए गए शब्द का विलोम चुनें।

आग्रह

- Ans  1. उपग्रह  
 2. दुराग्रह  
 3. विग्रह  
 4. अनुग्रह

Question ID : 65497830861  
Status : Answered  
Chosen Option : 3

Q.11 सही वर्तनी वाले शब्द का चयन कीजिए।

- Ans  1. प्रतीनीधी  
 2. प्रतिनीधि  
 3. प्रतिनिधि  
 4. प्रतीनिधी

Question ID : 65497830854  
Status : Answered  
Chosen Option : 3

Q.12 रिक्त स्थान के लिए सबसे उपयुक्त शब्द का चयन करें।

भरत को कैकेयी की करनी पर \_\_\_\_\_ हुआ।

- Ans  1. क्षोभ  
 2. भय  
 3. पश्चाताप  
 4. क्रोध

Question ID : 65497830866  
Status : Answered  
Chosen Option : 4

Q.13 रिक्त स्थान की पूर्ति के लिए सबसे उपयुक्त शब्द का चयन करें।

बच्चा, माँ-बाप की आँखों का \_\_\_\_\_ होता है।

- Ans  1. सूरज  
 2. सितारा  
 3. तारा  
 4. चाँद

Question ID : 65497830856  
Status : Answered  
Chosen Option : 3



Q.14 अमावस्या को अंधेरा छा जाता है।

रेखांकित शब्द का विलोम बताइए-

- Ans
- 1. अमास
  - 2. अंधेरा
  - 3. अंधकार
  - 4. पूर्णिमा

Question ID : 65497830868  
Status : Answered  
Chosen Option : 4

Q.15 दिये गये वाक्य के किस भाग में त्रुटि है?

उनके शासनकाल में दंगे हुए।

- Ans
- 1. शासनकाल
  - 2. में दंगे
  - 3. हुए।
  - 4. उनके

Question ID : 65497830871  
Status : Answered  
Chosen Option : 4

Q.16 दिये गये वाक्यांश के लिए एक शब्द दीजिये।

जिसे बुलाया गया हो

- Ans
- 1. अनिमेष
  - 2. अनाहूत
  - 3. आहूत
  - 4. अनेर

Question ID : 65497830857  
Status : Answered  
Chosen Option : 3

Q.17 दिए गए वाक्य का वह भाग ज्ञात करें जिसमें कोई त्रुटि है। यदि कोई त्रुटि नहीं है, तो 'कोई त्रुटि नहीं है' चुनें-

वृक्षों पर कोयल कूक रही है।

- Ans
- 1. वृक्षों पर
  - 2. रही है।
  - 3. कोयल कूक
  - 4. कोई त्रुटि नहीं है।

Question ID : 65497830858  
Status : Answered  
Chosen Option : 4

Q.18 दिये गये वाक्य में रेखांकित अंश को प्रतिस्थापित करने के लिए सबसे उपयुक्त विकल्प का चयन करें।

तुम मुझे अपना छोटा सा भाई समझो।

- Ans  1. छोटा भाई  
 2. छोटा-मोटा भाई  
 3. छोटे भाई  
 4. छोटे सा भाई

Question ID : 65497830865  
Status : Answered  
Chosen Option : 1

Q.19 सही वर्तनी वाले शब्द का चयन कीजिए।

- Ans  1. पारलौकिक  
 2. परलौकीक  
 3. परलौकिक  
 4. पारलौकीक

Question ID : 65497830853  
Status : Answered  
Chosen Option : 1

Q.20 दिए गए वाक्य में रेखांकित खंड को प्रतिस्थापित करने के लिए सबसे उपयुक्त विकल्प का चयन करें।  
यदि इसे प्रतिस्थापित करने की आवश्यकता नहीं है, तो विकल्प 'किसी बदलाव की आवश्यकता नहीं है'  
का चयन करें।

मुझसे अब चल नहीं सकता।

- Ans  1. चल नहीं पाता  
 2. किसी बदलाव की आवश्यकता नहीं है।  
 3. चला नहीं जाता  
 4. चल नहीं गया

Question ID : 65497830863  
Status : Answered  
Chosen Option : 3

**Comprehension:**

दिए गए गद्यांश में से कुछ शब्द हटा दिए गए हैं। संबंधित प्रश्नों में प्रत्येक संख्या के लिए सबसे उपयुक्त विकल्प का चयन कीजिए।

आचार्य महावीरप्रसाद द्विवेदी ने हिन्दी निबन्ध के स्वरूप और (1) \_\_\_\_\_ का (2) \_\_\_\_\_ किया। भाषा की (3) \_\_\_\_\_ पर बल देने के कारण इस (4) \_\_\_\_\_ के निबन्ध प्रौढ़, व्यवस्थित और गम्भीर हैं। इनमें विषयों की विविधता और विचारों की (5) \_\_\_\_\_ मिलती है।

**SubQuestion No : 21**

**Q.21** गद्यांश के रिक्त स्थान (1) के लिए सर्वाधिक उपयुक्त शब्द होगा-

- Ans**
- 1. रूप
  - 2. स्वर
  - 3. दशा
  - 4. दिशा

Question ID : **65497830874**  
Status : **Answered**  
Chosen Option : **3**

**Comprehension:**

दिए गए गद्यांश में से कुछ शब्द हटा दिए गए हैं। संबंधित प्रश्नों में प्रत्येक संख्या के लिए सबसे उपयुक्त विकल्प का चयन कीजिए।

आचार्य महावीरप्रसाद द्विवेदी ने हिन्दी निबन्ध के स्वरूप और (1) \_\_\_\_\_ का (2) \_\_\_\_\_ किया। भाषा की (3) \_\_\_\_\_ पर बल देने के कारण इस (4) \_\_\_\_\_ के निबन्ध प्रौढ़, व्यवस्थित और गम्भीर हैं। इनमें विषयों की विविधता और विचारों की (5) \_\_\_\_\_ मिलती है।

**SubQuestion No : 22**

**Q.22** गद्यांश के रिक्त स्थान (2) के लिए सर्वाधिक उपयुक्त शब्द होगा-

- Ans**
- 1. संयोजन
  - 2. संस्थापन
  - 3. निर्धारण
  - 4. निश्चितिकरण

Question ID : **65497830875**  
Status : **Answered**  
Chosen Option : **1**

**Comprehension:**

दिए गए गद्यांश में से कुछ शब्द हटा दिए गए हैं। संबंधित प्रश्नों में प्रत्येक संख्या के लिए सबसे उपयुक्त विकल्प का चयन कीजिए।

आचार्य महावीरप्रसाद द्विवेदी ने हिन्दी निबन्ध के स्वरूप और (1) \_\_\_\_\_ का (2) \_\_\_\_\_ किया। भाषा की (3) \_\_\_\_\_ पर बल देने के कारण इस (4) \_\_\_\_\_ के निबन्ध प्रौढ़, व्यवस्थित और गम्भीर हैं। इनमें विषयों की विविधता और विचारों की (5) \_\_\_\_\_ मिलती है।

**SubQuestion No : 23**

**Q.23** गद्यांश के रिक्त स्थान (3) के लिए सर्वाधिक उपयुक्त शब्द होगा-

- Ans**
- 1. कोमलता
  - 2. सुकुमारता
  - 3. शुद्धता
  - 4. प्रौढ़ता

Question ID : **65497830876**  
Status : **Answered**  
Chosen Option : **3**

**Comprehension:**

दिए गए गद्यांश में से कुछ शब्द हटा दिए गए हैं। संबंधित प्रश्नों में प्रत्येक संख्या के लिए सबसे उपयुक्त विकल्प का चयन कीजिए।

आचार्य महावीरप्रसाद द्विवेदी ने हिन्दी निबन्ध के स्वरूप और (1) \_\_\_\_\_ का (2) \_\_\_\_\_ किया। भाषा की (3) \_\_\_\_\_ पर बल देने के कारण इस (4) \_\_\_\_\_ के निबन्ध प्रौढ़, व्यवस्थित और गम्भीर हैं। इनमें विषयों की विविधता और विचारों की (5) \_\_\_\_\_ मिलती है।

**SubQuestion No : 24**

**Q.24** गद्यांश के रिक्त स्थान (4) के लिए सर्वाधिक उपयुक्त शब्द होगा-

- Ans**
- 1. पल
  - 2. साल
  - 3. समय
  - 4. युग

Question ID : **65497830877**  
Status : **Answered**  
Chosen Option : **4**

**Comprehension:**

दिए गए गद्यांश में से कुछ शब्द हटा दिए गए हैं। संबंधित प्रश्नों में प्रत्येक संख्या के लिए सबसे उपयुक्त विकल्प का चयन कीजिए।

आचार्य महावीरप्रसाद द्विवेदी ने हिन्दी निबन्ध के स्वरूप और (1) \_\_\_\_\_ का (2) \_\_\_\_\_ किया। भाषा की (3) \_\_\_\_\_ पर बल देने के कारण इस (4) \_\_\_\_\_ के निबन्ध प्रौढ़, व्यवस्थित और गम्भीर हैं। इनमें विषयों की विविधता और विचारों की (5) \_\_\_\_\_ मिलती है।

**SubQuestion No : 25**

**Q.25** गद्यांश के रिक्त स्थान (5) के लिए सर्वाधिक उपयुक्त शब्द होगा-

- Ans**
- 1. भिन्नता
  - 2. गहराई
  - 3. महानता
  - 4. गहनता

Question ID : **65497830878**  
Status : **Answered**  
Chosen Option : **1**