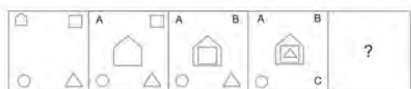


Constable GD in CAPFs NIA SSF and Rifleman GD in Assam Rifles Examination 2021

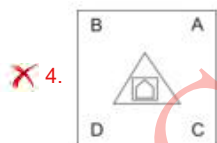
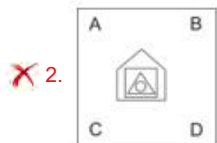
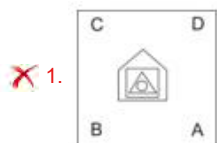
Roll Number	www.GovtJobsAlert.In
Candidate Name	www.GovtJobsAlert.In
Venue Name	ION DIGITAL ZONE IDZ TUPUDANA
Exam Date	07/12/2021
Exam Time :	4:00 PM - 5:30 PM
Subject	Constable GD 2021

Section : **Part A General Intelligence and Reasoning**

Q.1 दिए गए विकल्पों में से उस आकृति का चयन कीजिए जो दी गई श्रृंखला में प्रश्न चिह्न (?) के स्थान पर आ सकती है।



Ans



Question ID : **65497830510**

Status : **Answered**

Chosen Option : **3**

Q.2 उस सही विकल्प का चयन करें जो नीचे दिए गए शब्दों का वह व्यवस्थित क्रम दर्शाता है जिस क्रम में वे एक अंग्रेजी शब्दकोश में मौजूद होते हैं।

1. Commander
2. Command
3. Commandment
4. Commemorate
5. Commandant

- Ans 1. 2, 5, 3, 4, 1
 2. 2, 5, 1, 3, 4
 3. 3, 5, 1, 4, 2
 4. 2, 5, 1, 4, 3

Question ID : 65497830507
Status : Answered
Chosen Option : 2

Q.3 पाँच व्यक्ति, A, B, C, D और E एक पंक्ति में पश्चिम की ओर मुँह करके बैठे हैं। A और B एक साथ बैठे हैं। C दक्षिणी सिरे पर बैठा है और D उत्तरी सिरे पर बैठा है। E, B और C के बीच में बैठा है। दक्षिण से तीसरे स्थान पर कौन बैठा है?

- Ans 1. E
 2. B
 3. A
 4. C

Question ID : 65497830518
Status : Answered
Chosen Option : 2

Q.4 'K % L' का अर्थ है कि 'K, L का भाई है', 'K \$ L' का अर्थ है कि 'K, L का पति है', 'K @ L' का अर्थ है कि 'K, B की बहन है', 'K # L' का अर्थ है कि 'K, L की माँ है'।

व्यंजक 'X @ P % T # M \$ Y # J @ H' में H, M से किस प्रकार संबंधित है?

- Ans 1. भाई या बहन
 2. पिता
 3. चाचा
 4. बेटा या बेटी

Question ID : 65497830517
Status : Answered
Chosen Option : 4

Q.5 यदि '+' का अर्थ '÷', '-' का अर्थ '+', '×' का अर्थ '-', और '÷' का अर्थ '×' है, तो दिए गए व्यंजक का मान कितना होगा?

$$85 - 55 \div 75 + 25 \times 50$$

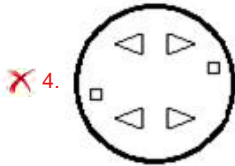
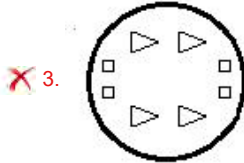
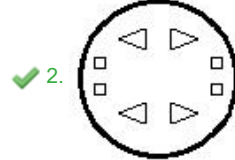
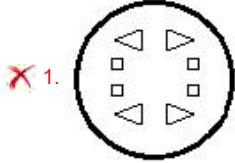
- Ans 1. 200
 2. 300
 3. 250
 4. 150

Question ID : 65497830520
Status : Answered
Chosen Option : 1

Q.6 निम्नांकित चित्रों में एक कागज को मोड़ने के क्रम और मुड़े हुए कागज को काटने का तरीका दर्शाया गया है। मुड़े हुए कागज को खोलने पर यह कैसा दिखाई देगा?



Ans



Question ID : **65497830502**
 Status : **Answered**
 Chosen Option : **2**

Q.7 दिए गए विकल्पों में से वह संख्या चुनें जो निम्नलिखित श्रृंखला में प्रश्नवाचक चिह्न (?) के स्थान पर आ सकती है।

6, 11, 20, 37, 70, ?

- Ans 1. 145
 2. 130
 3. 140
 4. 135

Question ID : **65497830505**
 Status : **Answered**
 Chosen Option : **4**

Q.8 तीन संख्याओं A, B और C का योगफल 187 है। B, A की 1.5 गुनी है। C, B की दोगुनी है। तो C का मान कितना है?

- Ans
- 1. 85
 - 2. 100
 - 3. 99
 - 4. 102

Question ID : 65497830501
Status : Answered
Chosen Option : 4

Q.9 यदि 'पूर्व' को 'पश्चिम', 'पश्चिम' को 'उत्तर', 'उत्तर' को 'दक्षिण' और 'दक्षिण' को 'उत्तर' माना जाता है, तो भारत में सूर्योदय किस दिशा में होता है?

- Ans
- 1. उत्तर
 - 2. पूर्व
 - 3. पश्चिम
 - 4. दक्षिण

Question ID : 65497830516
Status : Answered
Chosen Option : 3

Q.10 दिए गए कथनों और निष्कर्षों को ध्यानपूर्वक पढ़ें। कथनों में दी गई जानकारी को सत्य मानते हुए, भले ही वो सामान्य रूप से ज्ञात तथ्यों से भिन्न प्रतीत होती हो, बताइए कि निम्न में से कौन से निष्कर्ष कथनों का तार्किक रूप से अनुसरण करते हैं।

कथन :

1. सभी धागे, पिन हैं।
2. कुछ पिन, कुशन हैं।

निष्कर्ष:

- I. कुछ कुशन, पिन हैं।
- II. कुछ पिन, धागे हैं।

- Ans
- 1. केवल निष्कर्ष II अनुसरण करता है।
 - 2. या तो निष्कर्ष I या निष्कर्ष II अनुसरण करता है।
 - 3. केवल निष्कर्ष I अनुसरण करता है।
 - 4. निष्कर्ष I और II दोनों अनुसरण करते हैं।

Question ID : 65497830499
Status : Answered
Chosen Option : 4

Q.11 एक विशिष्ट कूट भाषा में, 'FIRST' को 'TSRIF' लिखा जाता है। उसी कूट भाषा में 'NOSTALGIC' को क्या लिखा जाएगा?

- Ans
- 1. CIGLATSON
 - 2. ONTSLACIG
 - 3. CGILTASON
 - 4. TSONLACIG

Question ID : 65497830498
Status : Answered
Chosen Option : 1

Q.12 उस विकल्प का चयन करें जो तीसरी संख्या से उसी प्रकार संबंधित है जिस प्रकार दूसरी संख्या पहली संख्या से संबंधित है।

12 : 144 :: 15 : ?

- Ans
- 1. 200
 - 2. 250
 - 3. 225
 - 4. 125

Question ID : 65497830519
Status : Answered
Chosen Option : 3

Q.13 छः दोस्त एक गोल घेरे में इसके केंद्र की ओर मुंह करके एक दूसरे से समान दूरी पर बैठे हुए हैं। दिराज, प्रमोद और पार्थिव के बीच में बैठा है। प्रियांशु, मुकुंद और लाया के बीच में बैठा है। प्रमोद और मुकुंद एक-दूसरे के सामने बैठे हुए हैं। लाया, प्रमोद के बाईं ओर बगल में है। पार्थिव के बाईं ओर बगल में कौन बैठा है?

- Ans
- 1. दिराज
 - 2. मुकुंद
 - 3. प्रमोद
 - 4. प्रियांशु

Question ID : 65497830513
Status : Answered
Chosen Option : 1

Q.14 उस अक्षर संयोजन का चयन करें जिसे दी गई श्रृंखला के रिक्त स्थानों में क्रमिक रूप से रखे जाने पर श्रृंखला पूर्ण हो जाएगी।

a _ b _ _ c _ _ bbac _ _ b _ acaab

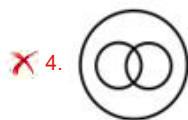
- Ans
- 1. abaabbab
 - 2. acbbabca
 - 3. bcaabbcc
 - 4. abaaaaab

Question ID : 65497830508
Status : Answered
Chosen Option : 1

Q.15 उस वेन आरेख का चयन कीजिए जो निम्न वर्गों के मध्य के संबंध का सर्वश्रेष्ठ निरूपण करता है।

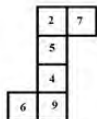
बेल्ट, टोपी, दस्ताना

Ans



Question ID : 65497830514
Status : Answered
Chosen Option : 2

Q.16 दी गई शीट को मोड़कर एक घन बनाया गया है। इस प्रकार बने घन में, उस संख्या का चयन करें, जो संख्या '5' दर्शाने वाले फलक के विपरीत फलक पर होगी।



Ans

1. 9

2. 4

3. 7

4. 6

Question ID : 65497830521
Status : Answered
Chosen Option : 1

Q.17 यदि दर्पण को दाईं ओर रखा गया हो, तो दी गई आकृति के सही दर्पण प्रतिबिंब का चयन करें।



Ans



Question ID : 65497830506

Status : Answered

Chosen Option : 3

Q.18 उस विकल्प का चयन करें जो तीसरे अक्षर-समूह से उसी प्रकार संबंधित है, जिस प्रकार दूसरा अक्षर-समूह पहले अक्षर-समूह से संबंधित है।

CHER : EJGT :: DREN : ?

Ans 1. FTGO

2. ESGP

3. FTGP

4. FSGP

Question ID : 65497830515

Status : Answered

Chosen Option : 3

Q.19 'ऑप्टेलमोलॉजिस्ट' का जो संबंध 'ऑख' से है, 'ओकोलॉजिस्ट' का वही संबंध ' _____ ' से है।

- Ans 1. कैसर
 2. अस्थियों
 3. त्वचा
 4. पैर

Question ID : 65497830512
Status : Answered
Chosen Option : 1

Q.20 किसी निश्चित कूट भाषा में, 'FEAST' को '9842223' के रूप में कूटबद्ध किया जाता है। उसी कूट भाषा में 'CLOSE' को किस रूप में कूटबद्ध किया जाएगा?

- Ans 1. 71618208
 2. 61518228
 3. 71618228
 4. 61518208

Question ID : 65497830504
Status : Answered
Chosen Option : 2

Q.21 विकल्पों में से उस संख्या का चयन कीजिए जो दी गई श्रृंखला में प्रश्न चिह्न (?) के स्थान पर आ सकती है।

23, 36, 51, 68, ?

- Ans 1. 87
 2. 92
 3. 73
 4. 78

Question ID : 65497830509
Status : Answered
Chosen Option : 1

Q.22 उस अक्षर-समूह का चयन कीजिए जो निम्नांकित श्रेणी में प्रश्नवाचक चिह्न (?) के स्थान पर आ सकता है।

DMGU, AJDO, XGAI, ?, RAUA

- Ans 1. VDYE
 2. VEYE
 3. UDXE
 4. UEXE

Question ID : 65497830511
Status : Answered
Chosen Option : 4

Q.23 उस विकल्प का चयन करें, जिसकी संख्याएँ आपस में उसी प्रकार संबंधित हैं, जिस प्रकार दिए गए समुच्चय की संख्याएँ आपस में संबंधित हैं।

(7, 18, 75)

- Ans 1. (24, 15, 90)
 2. (3, 16, 61)
 3. (5, 13, 67)
 4. (11, 17, 84)

Question ID : 65497830500

Status : Not Answered

Chosen Option : --

Q.24 चार अक्षर-समूह दिए गए हैं, जिनमें से तीन किसी तरह से एक समान हैं और एक भिन्न है। उस अक्षर-समूह का चयन करें जो भिन्न है।

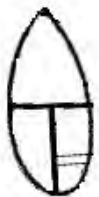
- Ans 1. GPL
 2. OXS
 3. LUP
 4. IRM

Question ID : 65497830503

Status : Answered

Chosen Option : 1

Q.25 उस विकल्प का चयन करें जिसमें दी गई आकृति अंतर्निहित है।



Ans

✓ 1.



✗ 2.



✗ 3.



✗ 4.



Question ID : 65497830522
Status : Answered
Chosen Option : 1

Section : Part B General Knowledge and General Awareness

Q.1 'माय कंट्री माय लाइफ (My Country My Life)' पुस्तक के लेखक निम्नलिखित में से कौन हैं?

Ans

✗ 1. अन्ना हजारे

✓ 2. एलके आडवाणी

✗ 3. प्रणब मुखर्जी

✗ 4. सोमनाथ चटर्जी

Question ID : 65497830529
Status : Answered
Chosen Option : 3

Q.2 निम्नलिखित में से कौन सी जनजाति 'केल पोलुद (Kail Polud)' त्योहार मनाती है?

- Ans 1. कोडव
 2. नागा
 3. मीणा
 4. भील

Question ID : 65497830542
Status : Answered
Chosen Option : 4

Q.3 चोल शिलालेखों में विद्यापीठों के लिए उपहार में दी गई भूमि का उल्लेख किस नाम से किया गया है?

- Ans 1. तिरुनमट्टकनी
 2. वेल्हनवगाई
 3. पल्लीछंदम
 4. शालभोग

Question ID : 65497830538
Status : Not Answered
Chosen Option : --

Q.4 तिराप और नोआ नदियां किस भारतीय राज्य में बहती हैं?

- Ans 1. अरुणाचल प्रदेश
 2. सिक्किम
 3. गोवा
 4. हिमाचल प्रदेश

Question ID : 65497830524
Status : Not Answered
Chosen Option : --

Q.5 निम्नलिखित में से कौन सा कथन सत्य है?

- Ans 1. भारत का संविधान अंग्रेजी और हिंदी में हाथों से लिखा गया था।
 2. 11 दिसंबर 1946 को संविधान सभा ने डॉ. बी.आर. अंबेडकर को अपना स्थायी अध्यक्ष चुना।
 3. हंटर कमीशन के तहत गठित एक संविधान सभा द्वारा भारत का संविधान बनाया गया था।
 4. 26 अगस्त को भारत के 'संविधान दिवस' के रूप में मनाया जाता है।

Question ID : 65497830540
Status : Answered
Chosen Option : 2

Q.6 द्विवार्षिक 'भारत वन स्थिति रिपोर्ट (ISFR)' 2019 के अनुसार, क्षेत्र-वार _____ में देश का सबसे बड़ा वन आच्छादन है।

- Ans 1. कर्नाटक
 2. तमिलनाडु
 3. उत्तर प्रदेश
 4. मध्य प्रदेश

Question ID : 65497830528
Status : Answered
Chosen Option : 4

Q.7 नवंबर 2020 तक की स्थिति के अनुसार, अंतरराष्ट्रीय ओलंपिक समिति के अध्यक्ष निम्नलिखित में से कौन थे?

- Ans
- 1. जैक्स रोग
 - 2. थामस बाक
 - 3. लॉर्ड किलानिन
 - 4. जुआन एंटोनियो समरंच

Question ID : 65497830530
Status : Answered
Chosen Option : 4

Q.8 निम्नलिखित में से कौन सा हिल स्टेशन (पर्वतीय पर्यटन स्थल) मध्य हिमालय में स्थित है?

- Ans
- 1. कोडाइकनाल
 - 2. दार्जिलिंग
 - 3. मन्नार
 - 4. केम्नगुंडी

Question ID : 65497830546
Status : Answered
Chosen Option : 3

Q.9 1951 में, निम्नलिखित में से किस राष्ट्र ने पहले एशियाई खेलों की मेजबानी की थी?

- Ans
- 1. इंडोनेशिया
 - 2. फिलीपींस
 - 3. भारत
 - 4. जापान

Question ID : 65497830526
Status : Answered
Chosen Option : 4

Q.10 'ओबामा: द कॉल ऑफ़ हिस्ट्री (Obama: The Call of History)' नामक पुस्तक के लेखक कौन हैं?

- Ans
- 1. पीटर बेकर
 - 2. मागरिट एटवुड
 - 3. मनमोहन सिंह
 - 4. हार्वर ली

Question ID : 65497830545
Status : Answered
Chosen Option : 1

Q.11 9 सितंबर, 2020 को आयोजित हुई प्रथम इंडो-पैसिफिक त्रिपक्षीय वार्ता भारत, फ्रांस और _____ के बीच हुई थी।

- Ans 1. संयुक्त राज्य अमेरिका
 2. ऑस्ट्रेलिया
 3. जर्मनी
 4. यूनाइटेड किंगडम

Question ID : 65497830537
Status : Not Answered
Chosen Option : --

Q.12 कल्हण एक लेखक थे जिन्होंने _____ के राजाओं के बारे में एक संस्कृत कविता लिखी थी।

- Ans 1. मेवाड़
 2. कश्मीर
 3. दिल्ली
 4. विजयनगर

Question ID : 65497830539
Status : Answered
Chosen Option : 4

Q.13 नवंबर 2020 में वर्चुअल रूप से आयोजित हुए 15वें जी-20 शिखर सम्मेलन की मेजबानी _____ ने की थी।

- Ans 1. सउदी अरब
 2. ब्राज़ील
 3. भारत
 4. फ्रांस

Question ID : 65497830541
Status : Answered
Chosen Option : 2

Q.14 निम्नलिखित में से क्या, किसी बीज का बीजावरण (सीड कोट) बनाता है?

- Ans 1. युग्मनज (Zygote)
 2. नाभिका (Hilum)
 3. अध्यावरण (Integument)
 4. भ्रूण (Embryo)

Question ID : 65497830544
Status : Not Answered
Chosen Option : --

Q.15 भूकंपों को पहचानने और उन्हें रिकॉर्ड करने के लिए निम्नलिखित में से किस उपकरण का उपयोग किया जाता है?

- Ans
- 1. क्रोनोमीटर
 - 2. सीस्मोग्राफ़
 - 3. बैरोग्राफ़
 - 4. ऐमीटर

Question ID : 65497830531
Status : Answered
Chosen Option : 2

Q.16 डिएगो माराडोना (Diego Maradona) का संबंध निम्नलिखित में से किस खेल से था?

- Ans
- 1. टेनिस
 - 2. क्रिकेट
 - 3. हॉकी
 - 4. फुटबॉल

Question ID : 65497830547
Status : Answered
Chosen Option : 1

Q.17 किसी व्यक्ति का वजन जमीन पर वजन 60 kg है। एकसमान त्वरण के साथ लंबवत ऊपर की ओर गतिमान एक लिफ्ट में जब उसका वजन मापा जाता है, तो उस व्यक्ति के वजन पर क्या प्रभाव पड़ेगा?

- Ans
- 1. नहीं बदलेगा
 - 2. शून्य हो जाएगा
 - 3. 60 kg से कम मापा जाएगा
 - 4. 60 kg से ज्यादा मापा जाएगा

Question ID : 65497830543
Status : Answered
Chosen Option : 3

Q.18 निम्नलिखित में से कौन सा उपवेद ऋग्वेद से संबंधित है?

- Ans
- 1. शिल्पवेद
 - 2. गंधर्ववेद
 - 3. आयुर्वेद
 - 4. धनुर्वेद

Question ID : 65497830532
Status : Answered
Chosen Option : 3

Q.19 दो या इससे अधिक समाजों की तुलना के लिए निम्नलिखित में से आय के किस मानक का उपयोग नहीं हो सकता है?

- Ans
- 1. आय का समान वितरण
 - 2. रोजगार
 - 3. क्रय शक्ति समता
 - 4. प्रति व्यक्ति आय

Question ID : 65497830535
Status : Answered
Chosen Option : 4

Q.20 मार्को पोलो, 1292-1294 के मध्य, _____ से भारत आया था।

- Ans
- 1. ब्रिस्टल
 - 2. लिस्बन
 - 3. पेरिस
 - 4. वेनिस

Question ID : 65497830525
Status : Not Answered
Chosen Option : --

Q.21 शहरी क्षेत्रों के लिए स्थानीय सरकारी निकायों को किस नाम से जाना जाता है?

- Ans
- 1. नगर पालिका
 - 2. राज्य परिषद
 - 3. जिला परिषद
 - 4. पंचायत समितियां

Question ID : 65497830536
Status : Answered
Chosen Option : 1

Q.22 2020 में, विजय नगर निम्नलिखित में से किस राज्य का 31वाँ ज़िला बना?

- Ans
- 1. आंध्र प्रदेश
 - 2. कर्नाटक
 - 3. केरल
 - 4. तेलंगाना

Question ID : 65497830533
Status : Answered
Chosen Option : 2

Q.23 भारत के आर्थिक सर्वेक्षण को भारत में पहली बार केंद्रीय बजट के एक भाग के रूप में किस वर्ष में पेश किया गया था?

- Ans
- 1. 1947-48
 - 2. 1949-50
 - 3. 1950-51
 - 4. 1952-53

Question ID : 65497830523
Status : Answered
Chosen Option : 3

Q.24 कश्मीर के पुरुषों और महिलाओं द्वारा पहनी जाने वाली पारंपरिक पोशाक निम्नलिखित में से कौन सी है?

- Ans
- 1. रिकुटु गमचा
 - 2. फानेक
 - 3. फेरन
 - 4. मेखला चादर

Question ID : 65497830527
Status : Answered
Chosen Option : 4

Q.25 नॉर्थ ईस्ट स्मॉल फाइनेंस बैंक का कॉर्पोरेट कार्यालय निम्नलिखित में से किस शहर में स्थित है?

- Ans
- 1. शिलांग
 - 2. अगरतला
 - 3. इंपाल
 - 4. गुवाहाटी

Question ID : 65497830534
Status : Not Answered
Chosen Option : --

Section : Part C Elementary Mathematics

Q.1 एक कक्षा में छात्रों की औसत आयु 16.8 वर्ष है। कक्षा में लड़कों की औसत आयु 18.4 वर्ष और लड़कियों की 16.4 वर्ष है। कक्षा में लड़कों की संख्या का लड़कियों की संख्या से अनुपात ज्ञात करें।

- Ans
- 1. 4 : 1
 - 2. 1 : 4
 - 3. 2 : 3
 - 4. 3 : 2

Question ID : 65497830561
Status : Answered
Chosen Option : 2

Q.2 एक संख्या और इसके एक-तिहाई का अंतर 520 है। इस संख्या का 20% कितना होगा?

- Ans
- 1. 280
 - 2. 172
 - 3. 156
 - 4. 165

Question ID : 65497830563
Status : Answered
Chosen Option : 3

Q.3 ₹ x धनराशि को A, B और C के बीच इस प्रकार बांटा गया कि A और B के भागों का अनुपात 3 : 4 और A और C के भागों का अनुपात 5 : 8 है। यदि B और C के भागों के बीच अंतर ₹312 है, तो x का मान कितना होगा?

- Ans
- 1. ₹4,524
 - 2. ₹4,446
 - 3. ₹4,680
 - 4. ₹4,602

Question ID : 65497830571
Status : Answered
Chosen Option : 4

Q.4 दो संख्याओं के लघुतम समापवर्त्य (LCM) और महत्तम समापवर्तक (HCF) क्रमशः 210 और 5 है। यदि दोनों संख्याओं में से एक संख्या 30 है, तो दूसरी संख्या कौन सी है?

- Ans
- 1. 42
 - 2. 30
 - 3. 35
 - 4. 190

Question ID : 65497830548
Status : Answered
Chosen Option : 3

Q.5 एक समूह में 35 छात्रों की औसत ऊंचाई 156 cm है। यदि 154.5 cm औसत ऊंचाई वाले 8 छात्र समूह से निकल जाते हैं और 158 cm औसत ऊंचाई वाले 13 छात्र समूह में शामिल हो जाते हैं, तो अब समूह में सभी छात्रों की औसत ऊंचाई (cm में) कितनी होगी?

- Ans
- 1. 155.62
 - 2. 156.95
 - 3. 156.75
 - 4. 155.85

Question ID : 65497830570
Status : Answered
Chosen Option : 2

Q.6 दो वस्तुओं A और B का क्रय मूल्य 5 : 4 के अनुपात में है। इन वस्तुओं को बेचते समय दुकानदार को वस्तु A पर 10% का लाभ होता है और वस्तु B पर 20% का लाभ होता है और उनके विक्रय मूल्य में अंतर ₹560 का है। वस्तु A और B के क्रय मूल्यों का योग (₹ में) कितना है?

- Ans**
- 1. 6300
 - 2. 7200
 - 3. 8100
 - 4. 5400

Question ID : **65497830550**
Status : **Answered**
Chosen Option : **2**

Q.7 एक निश्चित धनराशि, वार्षिक 7.5% की साधारण ब्याज दर से 3 वर्ष 4 महीने में ₹4,900 हो जाती है। उसी धनराशि पर वार्षिक 8% की साधारण ब्याज दर से $3\frac{3}{4}$ वर्ष में कितना मिश्रधन (₹ में) होगा?

- Ans**
- 1. 4,956
 - 2. 5,147
 - 3. 5,096
 - 4. 5,048

Question ID : **65497830572**
Status : **Not Answered**
Chosen Option : --

Q.8 पाइप A और B एक टंकी को क्रमशः 15 घंटे और 18 घंटे में खाली कर सकते हैं। पाइप C अकेले इस टंकी को 6 घंटे में भर सकता है। यदि सभी तीनों पाइप एक साथ खोल दी जाएं तो, टंकी का दो-तिहाई भाग कितने समय में भर जाएगा?

- Ans**
- 1. 18 घंटे
 - 2. 12 घंटे
 - 3. $22\frac{1}{2}$ घंटे
 - 4. 15 घंटे

Question ID : **65497830568**
Status : **Answered**
Chosen Option : **4**

Q.9 जब ₹176 को 1 : 4 : 6 के अनुपात में विभाजित किया जाता है, तो सबसे बड़े हिस्से और सबसे छोटे हिस्से (₹ में) में कितना अंतर होता है?

- Ans**
- 1. 64
 - 2. 80
 - 3. 16
 - 4. 96

Question ID : **65497830558**
Status : **Answered**
Chosen Option : **2**

Q.10 हनी और जुनू मिलकर एक निश्चित कार्य को 20 दिन में पूरा कर सकते हैं। हनी, ने 12 दिन काम किया, जुनू ने शेष कार्य को अकेले 36 दिन में पूरा किया। जुनू पूरे कार्य को अकेले कितने दिन में पूरा कर सकता है?

- Ans**
- 1. 60
 - 2. 62
 - 3. 54
 - 4. 45

Question ID : 65497830564
Status : Answered
Chosen Option : 1

Q.11 एक ट्रेन 108 km/h की चाल से और दूसरी ट्रेन 25 m/sec की चाल से चलती है। पहली ट्रेन की चाल का, दूसरी ट्रेन की चाल से अनुपात क्या है?

- Ans**
- 1. 5 : 4
 - 2. 7 : 5
 - 3. 6 : 5
 - 4. 7 : 6

Question ID : 65497830554
Status : Answered
Chosen Option : 3

Q.12 एक मेज पर निर्माता 12% का लाभ कमाता है, थोक विक्रेता 15% का लाभ कमाता है, और खुदरा विक्रेता 20% का लाभ कमाता है। यदि उस मेज का खुदरा मूल्य ₹1,245 है, तो उसकी उत्पादन लागत (दशमलव के एक स्थान तक सही) ज्ञात करें।

- Ans**
- 1. ₹805.5
 - 2. ₹1,004.6
 - 3. ₹735.6
 - 4. ₹800

Question ID : 65497830557
Status : Not Answered
Chosen Option : --

Q.13 एक दुकानदार ₹320 प्रति kg और ₹240 प्रति kg की कीमत वाली, चाय की दो किस्मों को 9 : 11 के अनुपात में मिलाता है। यदि वह इस मिश्रण को ₹325.68 प्रति kg की दर से बेचता है, तो उसका प्रतिशत लाभ ज्ञात करें।

- Ans**
- 1. 15.3%
 - 2. 20%
 - 3. 16.8%
 - 4. 18%

Question ID : 65497830567
Status : Answered
Chosen Option : 3

Q.14 विपरीत दिशा में समानांतर पटरियों पर 48 km/h और 52 km/h की चाल से चल रही दो रेलगाड़ियां, 27 सेकेंड में एक-दूसरे को पार करती हैं। यदि एक रेलगाड़ी की लंबाई 350 m हो, तो दूसरी रेलगाड़ी की लंबाई (m में) ज्ञात करें?

- Ans
- 1. 390
 - 2. 375
 - 3. 400
 - 4. 425

Question ID : **65497830565**
Status : **Not Answered**
Chosen Option : --

Q.15 चार घनों जिनमें से प्रत्येक की भुजा की माप 8 cm है, को एक के बाद एक करके एक पंक्ति में व्यवस्थित किया गया है। इस प्रकार निर्मित ठोस का कुल पृष्ठीय क्षेत्रफल (cm^2 में) ज्ञात कीजिए।

- Ans
- 1. 1536
 - 2. 1728
 - 3. 1152
 - 4. 512

Question ID : **65497830560**
Status : **Answered**
Chosen Option : 1

Q.16 एक वस्तु का अंकित मूल्य ₹760 है। ऑफ सीज़न में इसे ₹722 में बेचा गया है। वस्तु पर छूट का प्रतिशत ज्ञात करें।

- Ans
- 1. 4%
 - 2. 6%
 - 3. 5%
 - 4. 8%

Question ID : **65497830562**
Status : **Answered**
Chosen Option : 3

Q.17 एक निश्चित धनराशि 10% वार्षिक ब्याज दर पर 3 वर्ष में ₹6655 हो जाती है। यही धनराशि पिछली ब्याज दर से 1.5 गुना की चक्रवृद्धि ब्याज दर पर 2 वर्ष में ₹ x हो जाएगी। यदि दोनों मामलों में ब्याज को वार्षिक आधार पर चक्रवृद्धि किया जाए, तो x का मान कितना होगा?

- Ans
- 1. 1725.75
 - 2. 1516.25
 - 3. 1612.50
 - 4. 1000

Question ID : **65497830551**
Status : **Not Answered**
Chosen Option : --

Q.18 माना कि x छह अंकों वाली वह सबसे बड़ी संख्या है जिसे 5, 6, 7, 8 और 9 से विभाजित करने पर क्रमशः 4, 5, 6, 7 और 8 शेषफल बचता है। x के अंकों का योग कितना होगा?

- Ans**
- 1. 43
 - 2. 41
 - 3. 47
 - 4. 44

Question ID : 65497830569
Status : Not Answered
Chosen Option : --

Q.19 $5 \div 8 \text{ of } 2 - 10 \div 5 \text{ of } 8 + 6 \div 15 \times (7 - 4) \text{ of } 2 - 2$ का मान ज्ञात करें।

- Ans**
- 1. $\frac{197}{80}$
 - 2. $\frac{1}{16}$
 - 3. $\frac{43}{20}$
 - 4. $\frac{37}{80}$

Question ID : 65497830566
Status : Answered
Chosen Option : 4

Q.20 सरिता को 720 अंक अर्जित करने की उम्मीद थी लेकिन उसे 675 अंक ही मिले। उसने जो उम्मीद की थी, उसे उससे 5% कम अंक मिले। 90% अंक प्राप्त करने के लिए उसे कितने अंक अर्जित करने चाहिए थे?

- Ans**
- 1. 900
 - 2. 990
 - 3. 810
 - 4. 1100

Question ID : 65497830549
Status : Answered
Chosen Option : 3

Q.21 एक लंबवृत्तीय शंकु के आधार का क्षेत्रफल $81\pi \text{ cm}^2$ है और इसकी ऊंचाई 18 cm है। इसकी तिर्यक ऊंचाई ज्ञात कीजिए।

- Ans**
- 1. $15\sqrt{5} \text{ cm}$
 - 2. 21 cm
 - 3. 24 cm
 - 4. $9\sqrt{5} \text{ cm}$

Question ID : 65497830556
Status : Answered
Chosen Option : 4

Q.22 $7\frac{7}{15} \div \frac{4}{9}$ of $(4\frac{7}{10} + 5\frac{1}{5}) + (\frac{2}{3} - \frac{4}{11})$ का मान क्या होगा?

- Ans**
- 1. 10
 - 2. 2
 - 3. 5
 - 4. 1

Question ID : 65497830553
Status : Answered
Chosen Option : 2

Q.23 एक दुकानदार ने एक वस्तु को उसके अंकित मूल्य पर 12% छूट देकर ₹1716 में बेचा। यदि वह कोई छूट न देता तो उसे 25% का लाभ हुआ होता। वस्तु का क्रय मूल्य (₹ में) कितना है?

- Ans**
- 1. 1650
 - 2. 1560
 - 3. 1270
 - 4. 1720

Question ID : 65497830552
Status : Answered
Chosen Option : 2

Q.24 A और B की वर्तमान आयु के बीच का अनुपात 4 : 5 है। 10 वर्षों के बाद, उनकी आयु के बीच का अनुपात 5 : 6 होगा। उनकी वर्तमान आयु के बीच का अंतर ज्ञात कीजिए।

- Ans**
- 1. 7 वर्ष
 - 2. 10 वर्ष
 - 3. 8 वर्ष
 - 4. 5 वर्ष

Question ID : 65497830555
Status : Answered
Chosen Option : 2

Q.25 एक व्यक्ति ने सावधि जमा में डेढ़ वर्ष के लिए ₹8,000 जमा किए, जिसपर ब्याज 10% की वार्षिक दर से अर्ध-वार्षिक रूप में संयोजित होता है। चक्रवृद्धि ब्याज जात करें।

- Ans**
- 1. ₹1,261.00
 - 2. ₹1,250.00
 - 3. ₹1,040.00
 - 4. ₹1,020.00

Question ID : **65497830559**
Status : **Answered**
Chosen Option : **1**

Section : **Part D English**

Q.1 Select the option that can be used as a one-word substitute for the given group of words.

The practice of persuading someone to do something by using force or threats

- Ans**
- 1. Cruelty
 - 2. Roughness
 - 3. Compulsion
 - 4. Coercion

Question ID : **65497830580**
Status : **Not Answered**
Chosen Option : --

Q.2 Select the most appropriate synonym of the given word.

Venture

- Ans**
- 1. Protect
 - 2. Neglect
 - 3. Attempt
 - 4. Guard

Question ID : **65497830574**
Status : **Not Answered**
Chosen Option : --

Q.3 Select the most appropriate option that can substitute the underlined segment in the given sentence. If there is no need to substitute it, select 'No substitution required'.

This exercise are quite easier to do.

- Ans**
- 1. is quite easy
 - 2. No substitution required
 - 3. be quite easy
 - 4. have been quite easy

Question ID : **65497830589**
Status : **Not Answered**
Chosen Option : --

Q.4 Select the most appropriate **ANTONYM** of the given word.

Bold

- Ans** 1. Timid
 2. Tired
 3. Soft
 4. Harsh

Question ID : **65497830579**
Status : **Not Answered**
Chosen Option : --

Q.5 Select the option that can be used as a one-word substitute for the given group of words.

Something that is quickly and easily set on fire and burned

- Ans** 1. Scorched
 2. Charred
 3. Blackened
 4. Inflammable

Question ID : **65497830582**
Status : **Not Answered**
Chosen Option : --

Q.6 Select the most appropriate **ANTONYM** of the given word.

Hindrance

- Ans** 1. Advantage
 2. Deterrent
 3. Barrier
 4. Handicap

Question ID : **65497830585**
Status : **Not Answered**
Chosen Option : --

Q.7 Select the most appropriate meaning of the given idiom.

A fine state of affairs

- Ans** 1. A punishable case
 2. A pleasant situation
 3. An uncanny situation
 4. An unpleasant situation

Question ID : **65497830577**
Status : **Not Answered**
Chosen Option : --

Q.8 Select the most appropriate option that can substitute the underlined segment in the given sentence. If there is no need to substitute it, select 'No substitution required'.

Some people can only cope with problems by shutting them out of the minds.

- Ans**
- 1. out of the mind
 - 2. out of his mind
 - 3. out of their minds
 - 4. No substitution required

Question ID : **65497830586**
Status : **Not Answered**
Chosen Option : --

Q.9 Select the option that will improve the underlined part of the sentence. In case no improvement is needed, select 'No improvement required'.

The river overflowed its banks and flooded the village.

- Ans**
- 1. overflowed its banks
 - 2. No improvement required
 - 3. overflowing its banks
 - 4. overflow it's banks

Question ID : **65497830583**
Status : **Not Answered**
Chosen Option : --

Q.10 Select the INCORRECTLY spelt word.

- Ans**
- 1. Frawdster
 - 2. Gangster
 - 3. Prankster
 - 4. Trickster

Question ID : **65497830587**
Status : **Not Answered**
Chosen Option : --

Q.11 Select the most appropriate SYNONYM of the given word.

Opinion

- Ans**
- 1. Fact
 - 2. Truth
 - 3. Idea
 - 4. Proof

Question ID : **65497830591**
Status : **Not Answered**
Chosen Option : --

Q.12 Select the most appropriate option to fill in the blank.

A fossil normally _____ only portion of the deceased organism.

- Ans 1. maintains
 2. controls
 3. retains
 4. includes

Question ID : 65497830588
Status : Not Answered
Chosen Option : --

Q.13 Select the most appropriate meaning of the given idiom.

For good

- Ans 1. For someone's well-being
 2. Just in time
 3. Forever
 4. For a short time

Question ID : 65497830575
Status : Not Answered
Chosen Option : --

Q.14 The following sentence has been divided into parts. One of them may contain an error. Select the part that contains the error from the given options. If you don't find any error, select 'No error' as your answer.

She is one of / the tallest girl / in the school.

- Ans 1. the tallest girl
 2. in the school
 3. She is one of
 4. No error

Question ID : 65497830573
Status : Not Answered
Chosen Option : --

Q.15 Select the INCORRECTLY spelt word.

- Ans 1. Refusal
 2. Equipement
 3. Starvation
 4. Baggage

Question ID : 65497830581
Status : Not Answered
Chosen Option : --

Q.16 Select the most appropriate option to fill in the blank.

Students will be _____ for an interview on the basis of their score card.

- Ans
- 1. called
 - 2. asked
 - 3. appointed
 - 4. fetched

Question ID : 65497830584
Status : Not Answered
Chosen Option : --

Q.17 The following sentence has been split into four segments. Identify the segment that contains a grammatical error.

The road was / wide and shading / by rows of / tall trees.

- Ans
- 1. tall trees
 - 2. The road was
 - 3. wide and shading
 - 4. by rows of

Question ID : 65497830590
Status : Not Answered
Chosen Option : --

Q.18 The following sentence has been split into four segments. Identify the segment that contains a grammatical error.

Of the two politicians, Trump and Obama, /the later / is more impressive / as an orator.

- Ans
- 1. Of the two politicians, Trump and Obama
 - 2. the later
 - 3. as an orator
 - 4. is more impressive

Question ID : 65497830578
Status : Not Answered
Chosen Option : --

Q.19 Select the option that can be used as a one-word substitute for the given group of words.

A geometrical figure with six sides

- Ans
- 1. Hexagon
 - 2. Heptagon
 - 3. Pentagon
 - 4. Octagon

Question ID : 65497830592
Status : Not Answered
Chosen Option : --

Q.20 Select the most appropriate option to fill in the blank.

It is the teacher's _____ to decide who will participate in the competition.

- Ans
- 1. kindness
 - 2. thought
 - 3. right
 - 4. virtue

Question ID : **65497830576**
Status : **Not Answered**
Chosen Option : --

Comprehension:

In the following passage, some words have been deleted. Read the passage carefully and select the most appropriate option to fill in each blank.

The elephant is Earth's largest (1)_____ animal, although the Asian elephant is slightly smaller than its African cousin. Elephants are (2)_____ of water and enjoy showering by sucking water into their trunks and (3)_____ it all over themselves. An elephant's trunk is actually a long nose with many functions. It is used for smelling, breathing, drinking and also for (4)_____ things— especially a potential meal. The trunk alone contains about 1,00,000 different (5)_____.

SubQuestion No : 21

Q.21 Select the most appropriate option to fill in blank no. 1.

- Ans
- 1. aquatic
 - 2. arboreal
 - 3. land
 - 4. aerial

Question ID : **65497830594**
Status : **Not Answered**
Chosen Option : --

Comprehension:

In the following passage, some words have been deleted. Read the passage carefully and select the most appropriate option to fill in each blank.

The elephant is Earth's largest (1)_____ animal, although the Asian elephant is slightly smaller than its African cousin. Elephants are (2)_____ of water and enjoy showering by sucking water into their trunks and (3)_____ it all over themselves. An elephant's trunk is actually a long nose with many functions. It is used for smelling, breathing, drinking and also for (4)_____ things— especially a potential meal. The trunk alone contains about 1,00,000 different (5)_____.

SubQuestion No : 22

Q.22 Select the most appropriate option to fill in blank no. 2.

- Ans
- 1. surprised
 - 2. afraid
 - 3. proud
 - 4. fond

Question ID : **65497830595**
Status : **Not Answered**
Chosen Option : --

Comprehension:

In the following passage, some words have been deleted. Read the passage carefully and select the most appropriate option to fill in each blank.

The elephant is Earth's largest (1)_____ animal, although the Asian elephant is slightly smaller than its African cousin. Elephants are (2)_____ of water and enjoy showering by sucking water into their trunks and (3)_____ it all over themselves. An elephant's trunk is actually a long nose with many functions. It is used for smelling, breathing, drinking and also for (4)_____ things— especially a potential meal. The trunk alone contains about 1,00,000 different (5)_____.

SubQuestion No : 23

Q.23 Select the most appropriate option to fill in blank no. 3.

- Ans**
- 1. adjusting
 - 2. smearing
 - 3. spraying
 - 4. arranging

Question ID : **65497830596**
Status : **Not Answered**
Chosen Option : --

Comprehension:

In the following passage, some words have been deleted. Read the passage carefully and select the most appropriate option to fill in each blank.

The elephant is Earth's largest (1)_____ animal, although the Asian elephant is slightly smaller than its African cousin. Elephants are (2)_____ of water and ~~enjoy~~ showering by sucking water into their trunks and (3)_____ it all over themselves. An elephant's trunk is actually a long nose with many functions. It is used for smelling, breathing, drinking and also for (4)_____ things— especially a potential meal. The trunk alone contains about 1,00,000 different (5)_____.

SubQuestion No : 24

Q.24 Select the most appropriate option to fill in blank no. 4.

- Ans**
- 1. organizing
 - 2. grabbing
 - 3. trumpeting
 - 4. destroying

Question ID : **65497830597**
Status : **Not Answered**
Chosen Option : --

Comprehension:

In the following passage, some words have been deleted. Read the passage carefully and select the most appropriate option to fill in each blank.

The elephant is Earth's largest (1)_____ animal, although the Asian elephant is slightly smaller than its African cousin. Elephants are (2)_____ of water and enjoy showering by sucking water into their trunks and (3)_____ it all over themselves. An elephant's trunk is actually a long nose with many functions. It is used for smelling, breathing, drinking and also for (4)_____ things— especially a potential meal. The trunk alone contains about 1,00,000 different (5)_____.

SubQuestion No : 25

Q.25 Select the most appropriate option to fill in blank no. 5.

Ans 1. intestines

2. muscles

3. regions

4. tusks

Question ID : **65497830598**

Status : **Not Answered**

Chosen Option : --

Section : **Part D Hindi**

Q.1 अशुद्ध वर्तनी वाला शब्द निम्न में से कौन सा है?

Ans 1. पुरस्कार

2. आशिवाद

3. मयंक

4. प्रामाणिक

Question ID : **65497830616**

Status : **Answered**

Chosen Option : 2

Q.2 निम्न में से किस वाक्यांश के लिए 'कालातीत' शब्द का उपयोग किया जाता है?

Ans 1. जिसका समय आएगा।

2. जिसका समय आनेवाला है।

3. जिसका समय बीत गया हो।

4. जिसका समय चल रहा है।

Question ID : **65497830617**

Status : **Answered**

Chosen Option : 3

Q.3 दिए गए वाक्य में रेखांकित खंड को प्रतिस्थापित करने के लिए सबसे उपयुक्त विकल्प का चयन करें।
यदि इसे प्रतिस्थापित करने की आवश्यकता नहीं है, तो विकल्प 'किसी बदलाव की आवश्यकता नहीं है'
का चयन करें।

कवियों को काव्य के करते समय आनंद मिलता है।

- Ans
- 1. काव्य बनाते
 - 2. किसी बदलाव की आवश्यकता नहीं है।
 - 3. कविता करते
 - 4. काव्य करते

Question ID : 65497830611
Status : Answered
Chosen Option : 4

Q.4 दिये गये वाक्य में रेखांकित अंश को प्रतिस्थापित करने के लिए सबसे उपयुक्त विकल्प का चयन करें।

महेश चित्रकला का व्यायाम कर रहा है।

- Ans
- 1. चिंतन
 - 2. लेखन
 - 3. अभ्यास
 - 4. प्रयास

Question ID : 65497830618
Status : Answered
Chosen Option : 3

Q.5 दिये गये वाक्य के किस भाग में त्रुटि है?

वहाँ घमासान का युद्ध हो रहा था।

- Ans
- 1. वहाँ
 - 2. रहा था।
 - 3. युद्ध हो
 - 4. घमासान का

Question ID : 65497830612
Status : Answered
Chosen Option : 4

Q.6 दिए गए शब्द के समानार्थी शब्द का चयन करें।

पक्षी

- Ans
- 1. केकी
 - 2. पन्नग
 - 3. खग
 - 4. अलि

Question ID : 65497830609
Status : Answered
Chosen Option : 3

Q.7 दिए गए वाक्य का वह भाग ज्ञात करें जिसमें कोई त्रुटि है। यदि कोई त्रुटि नहीं है, तो 'कोई त्रुटि नहीं है' चुनें।

तितली के पास (1)/ पंख सुन्दर (2)/ होते हैं (3)/ कोई त्रुटि नहीं है (4)

- Ans
- 1. 2
 - 2. 4
 - 3. 3
 - 4. 1

Question ID : 65497830608
Status : Answered
Chosen Option : 1

Q.8 दिए गए वाक्य में रेखांकित खंड को प्रतिस्थापित करने के लिए सबसे उपयुक्त विकल्प का चयन करें। यदि इसे प्रतिस्थापित करने की आवश्यकता नहीं है, तो विकल्प 'किसी बदलाव की आवश्यकता नहीं है' का चयन करें।

हमारे धर्मशास्त्रों में बहुत कुछ पड़ा है।

- Ans
- 1. में बहुत कुछ संकलित है।
 - 2. किसी बदलाव की आवश्यकता नहीं है।
 - 3. के अंदर बहुत पड़ा है।
 - 4. के अंदर बहुत कुछ है।

Question ID : 65497830601
Status : Answered
Chosen Option : 4

Q.9 बिना विचारे किया गया विश्वास - वाक्यांश के लिए एक शब्द दीजिये -

- Ans
- 1. गोपनीय
 - 2. विश्वासू
 - 3. अन्धविश्वास
 - 4. विश्वास

Question ID : 65497830599
Status : Answered
Chosen Option : 3

Q.10 दिए गए शब्द के विलोम शब्द का चयन करें-

न्यून

- Ans
- 1. थोड़ा
 - 2. अल्प
 - 3. नूतन
 - 4. अधिक

Question ID : 65497830605
Status : Answered
Chosen Option : 4

Q.11 रिक्त स्थान की पूर्ति के लिए सबसे उपयुक्त शब्द का चयन कीजिए।

_____ की भीड़ बढ़ गई।

- Ans 1. दर्शक
 2. दर्शकों
 3. पाठक
 4. श्रोता

Question ID : 65497830600
Status : Answered
Chosen Option : 1

Q.12 रिक्त स्थान की पूर्ति के लिए सबसे उपयुक्त शब्द का चयन करें।

हरे-भरे खेत _____ हुए अत्यंत सुन्दर दिखाई देते हैं।

- Ans 1. लहराते
 2. लहलहाते
 3. फहराते
 4. चमचमाते

Question ID : 65497830607
Status : Answered
Chosen Option : 2

Q.13 रिक्त स्थान की पूर्ति के लिए सबसे उपयुक्त शब्द का चयन करें।

मैंने एक वर्ष तक उनकी प्रतीक्षा _____।

- Ans 1. की
 2. करी
 3. निहारी
 4. देखी

Question ID : 65497830610
Status : Answered
Chosen Option : 1

Q.14 दिए गए वाक्य का वह भाग ज्ञात करें जिसमें कोई त्रुटि है। यदि कोई त्रुटि नहीं है, तो 'कोई त्रुटि नहीं है' विकल्प को चुनिए।

(1) मेरे पिता ने (2) प्रधानाचार्य को (3) पत्र लिखें (4) कोई त्रुटि नहीं है।

- Ans 1. कोई त्रुटि नहीं है।
 2. पत्र लिखें
 3. मेरे पिता ने
 4. प्रधानाचार्य को

Question ID : 65497830602
Status : Answered
Chosen Option : 3

Q.15 निम्न मुहावरे के सही अर्थ को व्यक्त करने वाले विकल्प का चयन करें।

नाक- भौं सिकोड़ना

- Ans
- 1. इज्जत बचाना
 - 2. घमंड करना
 - 3. घृणा करना
 - 4. इशारा करना

Question ID : 65497830604
Status : Answered
Chosen Option : 3

Q.16 वर्तनी की दृष्टि से कौन-सा शब्द शुद्ध है?

- Ans
- 1. आतिसबाजी
 - 2. ऐतिहासिक
 - 3. अत्याक्षरी
 - 4. उत्तरदाई

Question ID : 65497830615
Status : Answered
Chosen Option : 2

Q.17 दिए गए शब्द का विलोम चुनें।

आरोह

- Ans
- 1. विरह
 - 2. अवरोह
 - 3. समारोह
 - 4. निरीह

Question ID : 65497830603
Status : Answered
Chosen Option : 2

Q.18 निम्न मुहावरे के सही अर्थ को व्यक्त करने वाले विकल्प का चयन करें।

हाथ पैर मारना

- Ans
- 1. छीना झपटी करना
 - 2. तैराकी करना
 - 3. लड़ाई करना
 - 4. प्रयत्न करना

Question ID : 65497830606
Status : Answered
Chosen Option : 4

Q.19 'कटु' का विलोम शब्द होगा-

- Ans 1. करुण
 2. पटु
 3. मधु
 4. क्रूर

Question ID : 65497830613
Status : Answered
Chosen Option : 3

Q.20 'जिसकी गहराई का पता न लग सके' वाक्यांश के लिए एक शब्द होगा-

- Ans 1. अगाध
 2. गह्वर
 3. असाध
 4. अबाध

Question ID : 65497830614
Status : Answered
Chosen Option : 1

Comprehension:

श्रद्धा एक (1) _____ भाव है, इससे अपनी श्रद्धा के बदले में हम श्रद्धेय से अपने लिए कोई बात नहीं चाहते। श्रद्धा धारण करते हुए हम अपने को उस (2) _____ में समझते हैं जिस किसी अंश पर - चाहे हम व्यक्ति रूप में उसके अंतर्गत न भी हों - जान-बूझकर उसने कोई शुभ प्रभाव डाला। श्रद्धा स्वयं ऐसे कामों के प्रति होती है जिनका (3) _____ प्रभाव अकेले हम पर नहीं बल्कि सारे (4) _____ समाज पर पड़ सकता है। श्रद्धा एक ऐसी आनंदपूर्ण (5) _____ है जिसे हम केवल समाज के प्रतिनिधिरूप में प्रकट करते हैं।

निम्न प्रश्नों के उत्तर उपरोक्त गद्यांश के आधार पर दीजिए।

SubQuestion No : 21

Q.21 गद्यांश के रिक्त स्थान (1) के लिए सर्वाधिक उपयुक्त शब्द होगा-

- Ans 1. राजनीतिक
 2. भौगोलिक
 3. आर्थिक
 4. सामाजिक

Question ID : 65497830620
Status : Answered
Chosen Option : 4

Comprehension:

श्रद्धा एक (1) _____ भाव है, इससे अपनी श्रद्धा के बदले में हम श्रद्धेय से अपने लिए कोई बात नहीं चाहते। श्रद्धा धारण करते हुए हम अपने को उस (2) _____ में समझते हैं जिस किसी अंश पर - चाहे हम व्यक्ति रूप में उसके अंतर्गत न भी हों - जान-बूझकर उसने कोई शुभ प्रभाव डाला। श्रद्धा स्वयं ऐसे कामों के प्रति होती है जिनका (3) _____ प्रभाव अकेले हम पर नहीं बल्कि सारे (4) _____ समाज पर पड़ सकता है। श्रद्धा एक ऐसी आनंदपूर्ण (5) _____ है जिसे हम केवल समाज के प्रतिनिधिरूप में प्रकट करते हैं।

निम्न प्रश्नों के उत्तर उपरोक्त गद्यांश के आधार पर दीजिए।

SubQuestion No : 22

Q.22 गद्यांश के रिक्त स्थान (2) के लिए सर्वाधिक उपयुक्त शब्द होगा-

- Ans** 1. समाज
 2. नियम
 3. स्वर्ग
 4. अधिकार

Question ID : 65497830621
Status : Answered
Chosen Option : 1

Comprehension:

श्रद्धा एक (1) _____ भाव है, इससे अपनी श्रद्धा के बदले में हम श्रद्धेय से अपने लिए कोई बात नहीं चाहते। श्रद्धा धारण करते हुए हम अपने को उस (2) _____ में समझते हैं जिस किसी अंश पर - चाहे हम व्यक्ति रूप में उसके अंतर्गत न भी हों - जान-बूझकर उसने कोई शुभ प्रभाव डाला। श्रद्धा स्वयं ऐसे कामों के प्रति होती है जिनका (3) _____ प्रभाव अकेले हम पर नहीं बल्कि सारे (4) _____ समाज पर पड़ सकता है। श्रद्धा एक ऐसी आनंदपूर्ण (5) _____ है जिसे हम केवल समाज के प्रतिनिधिरूप में प्रकट करते हैं।

निम्न प्रश्नों के उत्तर उपरोक्त गद्यांश के आधार पर दीजिए।

SubQuestion No : 23

Q.23 गद्यांश के रिक्त स्थान (3) के लिए सर्वाधिक उपयुक्त शब्द होगा-

- Ans** 1. विचित्र
 2. शुभ
 3. नकारात्मक
 4. अशुभ

Question ID : 65497830622
Status : Answered
Chosen Option : 2

Comprehension:

श्रद्धा एक (1) _____ भाव है, इससे अपनी श्रद्धा के बदले में हम श्रद्धेय से अपने लिए कोई बात नहीं चाहते। श्रद्धा धारण करते हुए हम अपने को उस (2) _____ में समझते हैं जिस किसी अंश पर - चाहे हम व्यक्ति रूप में उसके अंतर्गत न भी हों - जान-बूझकर उसने कोई शुभ प्रभाव डाला। श्रद्धा स्वयं ऐसे कामों के प्रति होती है जिनका (3) _____ प्रभाव अकेले हम पर नहीं बल्कि सारे (4) _____ समाज पर पड़ सकता है। श्रद्धा एक ऐसी आनंदपूर्ण (5) _____ है जिसे हम केवल समाज के प्रतिनिधिरूप में प्रकट करते हैं।

निम्न प्रश्नों के उत्तर उपरोक्त गद्यांश के आधार पर दीजिए।

SubQuestion No : 24

Q.24 गद्यांश के रिक्त स्थान (4) के लिए सर्वाधिक उपयुक्त शब्द होगा-

- Ans 1. असुर
 2. देव
 3. मनुष्य
 4. जानवर

Question ID : 65497830623
Status : Answered
Chosen Option : 3

Comprehension:

श्रद्धा एक (1) _____ भाव है, इससे अपनी श्रद्धा के बदले में हम श्रद्धेय से अपने लिए कोई बात नहीं चाहते। श्रद्धा धारण करते हुए हम अपने को उस (2) _____ में समझते हैं जिस किसी अंश पर - चाहे हम व्यक्ति रूप में उसके अंतर्गत न भी हों - जान-बूझकर उसने कोई शुभ प्रभाव डाला। श्रद्धा स्वयं ऐसे कामों के प्रति होती है जिनका (3) _____ प्रभाव अकेले हम पर नहीं बल्कि सारे (4) _____ समाज पर पड़ सकता है। श्रद्धा एक ऐसी आनंदपूर्ण (5) _____ है जिसे हम केवल समाज के प्रतिनिधिरूप में प्रकट करते हैं।

निम्न प्रश्नों के उत्तर उपरोक्त गद्यांश के आधार पर दीजिए।

SubQuestion No : 25

Q.25 गद्यांश के रिक्त स्थान (5) के लिए सर्वाधिक उपयुक्त शब्द होगा-

- Ans 1. मूर्खता
 2. कृतज्ञता
 3. चतुराई
 4. धृष्टता

Question ID : 65497830624
Status : Answered
Chosen Option : 2