

Constable GD in CAPFs NIA SSF and Rifleman GD in Assam Rifles Examination 2021

Roll Number	www.GovtJobsAlert.In
Candidate Name	www.GovtJobsAlert.In
Venue Name	iON Digital Zone iDZ Laxman Nagar
Exam Date	17/11/2021
Exam Time :	9:00 AM - 10:30 AM
Subject	Constable GD 2021

Section : Part A General Intelligence and Reasoning

Q.1 आठ मित्र, P, Q, R, S, T, U, V और W, एक गोल मेज़ के परितः इसके केंद्र की ओर अभिमुख होकर बैठे हैं। P, R और S के बीच में है। T, W के बाईं ओर तीसरे स्थान पर है। Q, S के एकदम बाएं बगल में है। T, S के दाईं ओर तीसरे स्थान पर है। V, U और W के बीच में है। S और W के बीच में कौन बैठा है?

- Ans
- 1. T
 - 2. R
 - 3. P
 - 4. Q

Question ID : 65497831137
Status : Answered
Chosen Option : 3

Q.2 दिए गए पैटर्न का ध्यानपूर्वक अध्ययन करें और उस संख्या का चयन करें जो इसमें प्रश्न चिह्न (?) के स्थान पर आ सकती है।

57 28 29
68 ? 33
72 37 35

- Ans
- 1. 34
 - 2. 35
 - 3. 33
 - 4. 29

Question ID : 65497831151
Status : Answered
Chosen Option : 1

Q.3 दिए गए विकल्पों में से उस आकृति का चयन करें जो नीचे दी गई श्रृंखला में प्रश्न चिह्न (?) के स्थान पर आ सकती है।

S	T	I	S	T	1	U	
					2		?
V	U	V	U	V	S		

Ans

1.

T	3	S
		2
V	1	U

2.

S	2	T
3		1
U		V

3.

T	1	V
		2
S	3	U

4.

T	1	U
		2
S	3	V

Question ID : 65497831148

Status : Answered

Chosen Option : 2

Q.4 उस वेन आरेख का चयन कीजिए, जो निम्नलिखित वर्गों के बीच के संबंध को सही ढंग से निरूपित करता है।

माता, पिता, पुरुष

Ans


1.



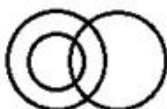
2.



3.



4.



Question ID : 65497831157

Status : Answered

Chosen Option : 1

Q.5 दिए गए विकल्पों में से वह संख्या चुनें जो निम्नलिखित श्रेणी में प्रश्नवाचक चिह्न (?) के स्थान पर आ सकती है।

16, 9, 27, 19, 76, 67, 335, ?

Ans 1. 650

2. 90

3. 325

4. 415

Question ID : 65497831135

Status : Answered

Chosen Option : 2

Q.6 अक्षरों के उस संयोजन का चयन करें जो दी गई श्रृंखला के रिक्त स्थान में क्रमिक रूप से रखे जाने पर श्रृंखला को पूर्ण करेगा।

P_RQPS__P__Q_SR_P_RQ

Ans 1. QRQSRPQS

2. SRQSRPQS

3. SQQSRPQS

4. SRSQRPQS

Question ID : 65497831146

Status : Answered

Chosen Option : 4

Q.7 दिए गए कथनों और निष्कर्षों को ध्यानपूर्वक पढ़ें। यह मानते हुए कि कथनों में दी गई जानकारी सही है, भले ही वह सामान्य रूप से ज्ञात तथ्यों से भिन्न प्रतीत होती हो, यह निर्धारित करें कि दिए गए निष्कर्षों में से कौन-से निष्कर्ष कथनों का तार्किक रूप से अनुसरण करते हैं।

कथन:

कुछ तारे, ग्रह हैं।

कुछ ग्रह, धूमकेतु हैं।

निष्कर्ष:

I. कुछ धूमकेतु, ग्रह हैं।

II. सभी तारे, धूमकेतु हैं।

Ans 1. न तो निष्कर्ष I और न ही निष्कर्ष II अनुसरण करता है।

2. निष्कर्ष I और II दोनों अनुसरण करते हैं।

3. केवल निष्कर्ष I अनुसरण करता है।

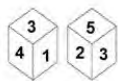
4. केवल निष्कर्ष II अनुसरण करता है।

Question ID : 65497831150

Status : Answered

Chosen Option : 4

Q.8 एक ही पासे के दो अलग-अलग स्थितियाँ दर्शाई गई हैं, जिनके फलकों पर 1 से 6 तक संख्याएं संख्या लिखी हुई हैं। उस संख्या का चयन कीजिए जो संख्या '6' वाले फलक के विपरीत फलक पर होगी।



- Ans**
- 1. 3
 - 2. 4
 - 3. 1
 - 4. 2

Question ID : 65497831140
 Status : Answered
 Chosen Option : 4

Q.9 उस विकल्प का चयन कीजिए जिसमें नीचे दी गई आकृति सन्नहित है (आकृति को घुमाने की अनुमति नहीं है)।



Ans

- 1.
- 2.
- 3.
- 4.

Question ID : 65497831141
 Status : Answered
 Chosen Option : 1

Q.10 दो वर्ष पूर्व, T की आयु, P की आयु की दोगुनी थी। वर्तमान में P की आयु, R की आयु की तीन गुनी है। पांच साल में, P की आयु 29 वर्ष हो जाएगी। T की वर्तमान आयु कितनी है?

- Ans 1. 48
 2. 46
 3. 44
 4. 42

Question ID : 65497831152
Status : Answered
Chosen Option : 3

Q.11 किसी निश्चित कूट भाषा में, 'NOTION' को '13127181213' के रूप में कूटबद्ध किया जाता है। उसी भाषा में 'BEAUTIFY' को किस रूप में कूटबद्ध किया जाएगा?

- Ans 1. 2522266718212
 2. 2505016718212
 3. 2022266818222
 4. 2522268719215

Question ID : 65497831134
Status : Answered
Chosen Option : 3

Q.12 छः मित्र A, B, C, D, E और F एक सीधी क्षैतिज पंक्ति में उत्तर की ओर मुंह करके बैठे हुए हैं। B, F और C के बीच में बैठा है। E, C के दाईं ओर तीसरे स्थान पर बैठा है। D, E के बाईं ओर ठीक बगल में बैठा है। B के दाईं ओर दूसरे स्थान पर कौन बैठा है?

- Ans 1. E
 2. A
 3. F
 4. D

Question ID : 65497831156
Status : Answered
Chosen Option : 4

Q.13 'जटिल' का 'सरल' से वही संबंध है, जो 'संकुचन' का '_____' से है।

- Ans 1. संकीर्ण
 2. प्रसार
 3. निष्पादन
 4. छोटा

Question ID : 65497831155
Status : Answered
Chosen Option : 3

Q.14 एक निश्चित कूट भाषा में, KILOGRAM को LZQFNKHJ के रूप में लिखा जाता है। उसी कूट भाषा में AIRCRAFT को किस रूप में लिखा जाएगा?

- Ans
- 1. SEZQHZBQ
 - 2. BSHZQEZB
 - 3. ZHSBQZQH
 - 4. SEZQBQHZ

Question ID : 65497831143
Status : Answered
Chosen Option : 4

Q.15 यदि दर्पण को दाईं ओर रखा गया हो, तो दिए गए संयोजन के सही दर्पण प्रतिबिंब का चयन करें।

s x g 5 A Y

- Ans
- 1. Y A 2 p x s
 - 2. Y A 2 p x s
 - 3. Y A 2 6 x s
 - 4. Y A 5 p x s

Question ID : 65497831136
Status : Answered
Chosen Option : 4

Q.16 उस विकल्प का चयन कीजिए जिसमें निम्न शब्दों का वह क्रम दिया गया है, जिस क्रम में वे अंग्रेजी शब्दकोश में मौजूद होते हैं।

1. Creditor
2. Creature
3. Credible
4. Creditable
5. Credentials

- Ans
- 1. 3, 5, 1, 4, 2
 - 2. 2, 5, 3, 4, 1
 - 3. 2, 5, 1, 3, 4
 - 4. 2, 5, 4, 3, 1

Question ID : 65497831145
Status : Answered
Chosen Option : 2

Q.17 चार अक्षर-समूह दिए गए हैं, जिनमें से तीन किसी तरह से एक समान हैं और एक असंगत है। उस अक्षर-समूह का चयन करें जो असंगत है।

- Ans 1. CXGV
 2. LOPK
 3. EVIR
 4. HSLO

Question ID : 65497831133
Status : Answered
Chosen Option : 4

Q.18 उस विकल्प का चयन कीजिए जो तीसरी संख्या से उसी तरह से संबंधित है जैसे दूसरी संख्या पहली संख्या से संबंधित है और छठी संख्या पाँचवीं संख्या से संबंधित है।

16 : 256 :: 21 : ? :: 19 : 361

- Ans 1. 484
 2. 441
 3. 422
 4. 324

Question ID : 65497831138
Status : Answered
Chosen Option : 2

Q.19 किसी विशिष्ट कूट भाषा में, 'ABSTRACT' को 'IIYYVDEU' के रूप में लिखा जाता है। उसी कूट भाषा में 'INSTINCT' को किस रूप में लिखा जाएगा?

- Ans 1. OUYYNQEU
 2. QUYYNPEU
 3. OUYYMQEU
 4. QUYYPMEU

Question ID : 65497831149
Status : Answered
Chosen Option : 3

Q.20 दिए गए विकल्पों में से उस संख्या का चयन करें जो निम्नलिखित श्रृंखला में प्रश्न चिह्न (?) के स्थान पर आ सकती है।

240, 258, 278, 300, ?

- Ans 1. 324
 2. 355
 3. 400
 4. 312

Question ID : 65497831147
Status : Answered
Chosen Option : 1

Q.21 यदि 'A' का अर्थ '+' है, 'B' का अर्थ '-' है, 'C' का अर्थ 'x' है, और 'D' का अर्थ '÷' है, तो दिए गए समीकरणों में से कौन सा समीकरण संतुलित है?

- Ans 1. $45 D 5 C 7 A 14 = 77$
 2. $66 B 2 D 54 C 18 = 135$
 3. $45 A 5 C 7 D 14 = 77$
 4. $66 C 2 B 54 D 18 = 135$

Question ID : 65497831139
Status : Answered
Chosen Option : 2

Q.22 उस विकल्प का चयन कीजिए जो तीसरे पद से उसी प्रकार संबंधित है जिस प्रकार दूसरा पद पहले पद से संबंधित है।

METHOD : OIZPYP :: NORMAL : ?

- Ans 1. PSXUKX
 2. QRYVLY
 3. PXSUXK
 4. PSXVLX

Question ID : 65497831142
Status : Answered
Chosen Option : 2

Q.23 राधा और ज्ञानेश की तीन बेटियाँ हैं - मनुजा, तारिणी और सुषमा। तारिणी की शादी जय से हुई है और सुषमा की शादी अभय से हुई है। ज्ञानेश का तीसरा दामाद अखिल है। अखिल के दो बच्चे पीयूष और रानी हैं। जय की दो बेटियाँ ऋचा और नेहा हैं। मृदुल, अभय का इकलौता बेटा है। राधा का रानी से क्या संबंध है?

- Ans 1. नानी
 2. मौसेरी बहन
 3. माँ
 4. सास

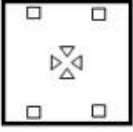
Question ID : 65497831144
Status : Answered
Chosen Option : 1

Q.24 नीचे दी गई आकृतियों में कागज के एक टुकड़े को मोड़ने का क्रम और उस मुड़े हुए कागज को काटने का तरीका दर्शाया गया है। इस कागज को खोलने पर यह कैसा दिखेगा?

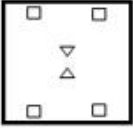


Ans

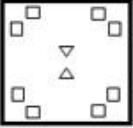
1.



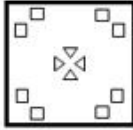
2.



3.



4.



Question ID : 65497831153
Status : Answered
Chosen Option : 1

Q.25 दिए गए विकल्पों में से उस अक्षर-समूह का चयन करें, जो निम्नलिखित श्रृंखला में प्रश्नवाचक चिन्ह (?) के स्थान पर आ सकता है।

UC, AE, GG, MI, SK, ?

Ans 1. YO

2. WN

3. YM

4. LM

Question ID : 65497831154
Status : Answered
Chosen Option : 4

Section : Part B General Knowledge and General Awareness

Q.1 निम्नलिखित में से किसने अवध को अशांत क्षेत्र घोषित करने में महत्वपूर्ण भूमिका निभाई, जिससे इसे ब्रिटिश नियंत्रण में लाना आवश्यक हो गया था?

Ans 1. लॉर्ड रिपन

2. लॉर्ड कैनिंग

3. लॉर्ड डलहौजी

4. लॉर्ड वेलेजली

Question ID : 65497831173
Status : Answered
Chosen Option : 4

Q.2 लोक सभा के उपाध्यक्ष को निम्नलिखित में से किसके द्वारा पदच्युत किया जा सकता है?

- Ans
- 1. महान्यायवादी के आदेश से
 - 2. लोकसभा के तत्कालीन सदस्यों के बहुमत द्वारा लोकसभा में एक प्रस्ताव पारित करके
 - 3. भारत के नियंत्रक एवं महालेखापरीक्षक के आदेश से
 - 4. भारत के उपराष्ट्रपति के आदेश से

Question ID : 65497831169
Status : Answered
Chosen Option : 4

Q.3 सूमो कुश्ती (SUMO Wrestling) प्रतिस्पर्धा की उत्पत्ति किस देश से हुई?

- Ans
- 1. इंडोनेशिया
 - 2. जापान
 - 3. दक्षिण कोरिया
 - 4. वियतनाम

Question ID : 65497831161
Status : Answered
Chosen Option : 4

Q.4 अगस्त 2021 में, प्रधानमंत्री नरेंद्र मोदी ने घोषणा की कि राजीव गांधी खेल रत्न पुरस्कार का नाम बदलकर _____ कर दिया जाएगा।

- Ans
- 1. द्रोणाचार्य खेल रत्न पुरस्कार
 - 2. विजय हजारे खेल रत्न पुरस्कार
 - 3. एकलव्य खेल रत्न पुरस्कार
 - 4. मेजर ध्यानचंद खेल रत्न पुरस्कार

Question ID : 65497831182
Status : Answered
Chosen Option : 4

Q.5 निम्नलिखित में से किस राज्य में युमथांग घाटी (Yumthang Valley) स्थित है?

- Ans
- 1. नागालैंड
 - 2. उत्तराखंड
 - 3. सिक्किम
 - 4. हिमाचल प्रदेश

Question ID : 65497831172
Status : Answered
Chosen Option : 3

Q.6 6 सितंबर 2021 को इसरो (ISRO) के अध्यक्ष द्वारा की गई घोषणा के अनुसार, चंद्रयान -2 ने चंद्रमा की बार परिक्रमा पूरी कर ली थी।

- Ans 1. 15000
 2. 9000
 3. 11000
 4. 12000

Question ID : 65497831180
Status : Answered
Chosen Option : 3

Q.7 मानव दृश्य प्रणाली द्वारा अनुभव किए जाने वाले प्रकाश को मापने के विज्ञान, प्रकाशमिति (फोटोमेट्री) का मूल SI मात्रक क्या है?

- Ans 1. मोल (mol)
 2. ऐम्पियर (A)
 3. केल्विन (K)
 4. कैडेला (cd)

Question ID : 65497831165
Status : Answered
Chosen Option : 2

Q.8 'टू लाइव्स' पुस्तक के लेखक कौन हैं?

- Ans 1. वी.एस. नायपॉल
 2. अरविंद अडिगा
 3. सलमान रुश्दी
 4. विक्रम सेठ

Question ID : 65497831160
Status : Answered
Chosen Option : 2

Q.9 निम्नलिखित में से कौन सी मेसोपोटामियन भाषा नहीं थी?

- Ans 1. एमोराइट
 2. एलामाइट
 3. सुमेरियन
 4. अकाडियन

Question ID : 65497831177
Status : Answered
Chosen Option : 4

Q.10 नवंबर 2020 में, व्हाट्सएप ने अपनी भुगतान सेवाओं को संसाधित करने के लिए पाँच भारतीय बैंकों के साथ भागीदारी की। निम्नलिखित में से कौन सा बैंक उस सूची के पाँच बैंकों में से एक नहीं है?

- Ans
- 1. जिओ पेमेंट्स बैंक
 - 2. एचडीएफसी
 - 3. बैंक ऑफ इंडिया
 - 4. एक्सिस

Question ID : 65497831175
Status : Answered
Chosen Option : 4

Q.11 जनता द्वारा मुद्रा के रूप में अपने पास रखे गए धन और उसके द्वारा बैंक जमा धन के अनुपात को क्या कहते हैं?

- Ans
- 1. मुद्रा जमा अनुपात
 - 2. आरक्षित जमा अनुपात
 - 3. वैधानिक तरलता अनुपात
 - 4. नकद आरक्षित अनुपात

Question ID : 65497831176
Status : Answered
Chosen Option : 4

Q.12 अंतर्राष्ट्रीय क्रिकेट परिषद (ICC) बोर्ड ने नवंबर, 2020 में अंतर्राष्ट्रीय क्रिकेट के लिए न्यूनतम आयु नीति की घोषणा की। इस नीति के अनुसार, विश्व स्तर पर क्रिकेट खेलने के लिए खिलाड़ी की आयु कम से कम कितनी होनी चाहिए?

- Ans
- 1. 14 साल
 - 2. 16 साल
 - 3. 15 साल
 - 4. 13 साल

Question ID : 65497831162
Status : Answered
Chosen Option : 2

Q.13 जब इल्ली (कैटरपिलर) _____ नामक अपने जीवन चक्र के अगले चरण में प्रवेश करने के लिए तैयार होता है, तो यह खुद को संभालने के लिए पहले एक जाल बुनता है।

- Ans
- 1. डिम्ब
 - 2. आरंभिक कोकून
 - 3. प्यूपा
 - 4. विलंबित कोकून

Question ID : 65497831164
Status : Answered
Chosen Option : 3

Q.14 अक्टूबर-नवंबर, 2020 के दौरान हुए बिहार विधानसभा चुनाव में भारतीय राष्ट्रीय कांग्रेस ने कितनी सीटें जीतीं?

- Ans
- 1. 15
 - 2. 19
 - 3. 10
 - 4. 22

Question ID : 65497831174
Status : Answered
Chosen Option : 2

Q.15 भारत के किस शहर में 'सप्तक संगीत समारोह' मनाया जाता है?

- Ans
- 1. भोपाल
 - 2. लखनऊ
 - 3. अहमदाबाद
 - 4. अमृतसर

Question ID : 65497831158
Status : Answered
Chosen Option : 2

Q.16 निम्न में से किसे 'व्यष्टि अर्थशास्त्र (Microeconomics) के जनक' के रूप में जाना जाता है?

- Ans
- 1. जेम्स जे. हेकमैन
 - 2. मिल्टन फ्रीडमैन
 - 3. अल्फ्रेड मार्शल
 - 4. पॉल क्रुगमैन

Question ID : 65497831178
Status : Answered
Chosen Option : 1

Q.17 7 दिसंबर 2020 को प्रकाशित 'क्लाइमेट चेंज परफार्मेंस इंडेक्स (CCPI) 2021' में भारत _____ स्थान पर है।

- Ans
- 1. 11वें
 - 2. 20वें
 - 3. 10वें
 - 4. 15वें

Question ID : 65497831170
Status : Answered
Chosen Option : 1

Q.18 27 जनवरी 2020 को निम्नलिखित में से किसे पर्यावरणीय उपलब्धि के लिए वर्ष 2020 के टायलर पुरस्कार से सम्मानित किया गया था?

- Ans 1. पवन सुखदेव
 2. माधव गाडगिल
 3. पार्थ एस. दासगुप्ता
 4. ज्योति पारिख

Question ID : 65497831166
Status : Answered
Chosen Option : 3

Q.19 CNG का पूर्ण रूप निम्नलिखित में से क्या है?

- Ans 1. कोल एंड नेचुरल गैस (Coal and natural gases)
 2. कार्डियक नर्व ग्रिड (Cardiac nerve grid)
 3. केमिकली न्यूट्रल जीन (Chemically neutral gene)
 4. कम्प्रेस्ड नेचुरल गैस (Compressed natural gas)

Question ID : 65497831171
Status : Answered
Chosen Option : 1

Q.20 कृषि और प्रसंस्कृत खाद्य उत्पाद निर्यात विकास प्राधिकरण (APEDA) की रिपोर्ट 2020 के अनुसार, भारत के किस राज्य में व्यावसायिक रूप से होने वाली पुष्पकृषि का प्रतिशत सबसे अधिक है?

- Ans 1. तमिलनाडु
 2. कर्नाटक
 3. मध्य प्रदेश
 4. महाराष्ट्र

Question ID : 65497831159
Status : Answered
Chosen Option : 2

Q.21 'भरतनाट्यम' नृत्य के पुनरुद्धार का श्रेय निम्नलिखित में से किस नृत्यांगना को दिया जाता है?

- Ans 1. यामिनी कृष्णमूर्ति
 2. रुक्मिणी देवी अरुडेल
 3. मल्लिका साराभाई
 4. अलारमेल वल्ली

Question ID : 65497831163
Status : Answered
Chosen Option : 2

Q.22 निम्नलिखित में से किस नगर में, स्वतंत्रता सेनानी चंद्रशेखर आज़ाद ने अंग्रेजों द्वारा पकड़े जाने के बजाय स्वयं को गोली मार ली थी?

- Ans
- 1. कानपुर
 - 2. इलाहाबाद
 - 3. जबलपुर
 - 4. भोपाल

Question ID : 65497831167
Status : Answered
Chosen Option : 2

Q.23 कदम बांध, कदम नदी और _____ नदी के संगम पर स्थित है।

- Ans
- 1. शारवती
 - 2. गोदावरी
 - 3. काबिनी
 - 4. कावेरी

Question ID : 65497831181
Status : Answered
Chosen Option : 3

Q.24 बांग्लादेश किस वर्ष तक पाकिस्तान का हिस्सा रहा था?

- Ans
- 1. 1962
 - 2. 1956
 - 3. 1974
 - 4. 1971

Question ID : 65497831179
Status : Answered
Chosen Option : 1

Q.25 भारतीय स्वतंत्रता आंदोलन के संदर्भ में, 1932 में ग्रेट ब्रिटेन के निम्नलिखित में से किस प्रधानमंत्री ने सांप्रदायिक निर्णय/कम्युनल अवार्ड की घोषणा की थी?

- Ans
- 1. नेविले चैम्बरलिन (Neville Chamberlain)
 - 2. स्टेनली बाल्डविन (Stanley Baldwin)
 - 3. सर विंस्टन चर्चिल (Sir Winston Churchill)
 - 4. जेम्स रैम्जे मैकडोनाल्ड (James Ramsay MacDonald)

Question ID : 65497831168
Status : Answered
Chosen Option : 4

Section : Part C Elementary Mathematics

Q.1 राधा को 26 km/h की चाल से चलने पर 1950 m की दूरी तय करने में कितने मिनट लगेंगे?

Ans

- ✓ 1. $4\frac{1}{2}$ मिनट
 ✗ 2. $7\frac{1}{2}$ मिनट
 ✗ 3. $5\frac{1}{2}$ मिनट
 ✗ 4. $3\frac{1}{2}$ मिनट

Question ID : 65497831196

Status : Answered

Chosen Option : 2

Q.2 $\frac{33}{40} + \frac{1}{5} \left[\frac{4}{5} - \frac{1}{5} \times \left(\frac{7}{8} - \frac{5}{4} \right) \right] - \frac{4}{5}$ का मान ज्ञात कीजिए।

Ans

- ✗ 1. $\frac{1}{3}$
 ✗ 2. $\frac{1}{7}$
 ✓ 3. $\frac{1}{5}$
 ✗ 4. $\frac{1}{4}$

Question ID : 65497831195

Status : Answered

Chosen Option : 2

Q.3 A, एक निश्चित कार्य को 15 दिनों में पूरा कर सकता है। B, A से 10% कम कार्यकुशल है और C, A से 20% अधिक कार्यकुशल है। तीनों ने 3 दिनों तक एक साथ मिलकर कार्य किया। शेष कार्य को D द्वारा अकेले $9\frac{1}{2}$ दिनों में पूरा किया गया। मूल कार्य को D अकेले कितने दिनों में पूरा कर सकता है?

Ans

- ✗ 1. 20 दिन
 ✓ 2. 25 दिन
 ✗ 3. 18 दिन
 ✗ 4. 15 दिन

Question ID : 65497831206

Status : Answered

Chosen Option : 3

Q.4 यदि x का 25%, $(x + 60)$ के 30% से 40 कम है, तो $(x - 40)$ का 35%, 120 से कितने प्रतिशत अधिक होगा?

- Ans**
- 1. 20%
 - 2. $12\frac{1}{2}\%$
 - 3. $16\frac{2}{3}\%$
 - 4. 25%

Question ID : 65497831205
Status : Answered
Chosen Option : 1

Q.5 दो व्यक्तियों P और Q की आयु का अनुपात 5 : 7 है। आठ वर्ष पहले, P और Q की आयु का अनुपात 7 : 13 था। P और Q की वर्तमान आयु क्रमशः _____ है।

- Ans**
- 1. 21 और 15 वर्ष
 - 2. 15 और 21 वर्ष
 - 3. 12 और 13 वर्ष
 - 4. 20 और 28 वर्ष

Question ID : 65497831199
Status : Answered
Chosen Option : 2

Q.6 संख्या 2483 में किस छोटी से छोटी संख्या को जोड़ने पर यह 3, 4, 5 और 6 से पूर्णतः विभाज्य हो जाएगी?

- Ans**
- 1. 30
 - 2. 37
 - 3. 22
 - 4. 23

Question ID : 65497831197
Status : Answered
Chosen Option : 4

Q.7 एक ठोस बेलन की ऊँचाई और त्रिज्या के बीच का अंतर 23 cm है। बेलन का संपूर्ण पृष्ठीय क्षेत्रफल 1628 cm^2 है। बेलन की क्रमशः ऊँचाई और त्रिज्या ज्ञात करें। ($\pi = \frac{22}{7}$ लें)

- Ans**
- 1. 30 cm, 7 cm
 - 2. 32 cm, 09 cm
 - 3. 33 cm, 10 cm
 - 4. 28 cm, 5 cm

Question ID : 65497831201
Status : Answered
Chosen Option : 2

Q.8 एक दुकानदार ने ₹2,600 अंकित मूल्य वाले एक टेबल फैन को 18% की छूट पर खरीदा। उसने इसका अंकित मूल्य ₹2,800 रखा और इस पर 15% की छूट दी। इससे उसे कितना लाभ होगा?

- Ans**
- 1. ₹200
 - 2. ₹420
 - 3. ₹220
 - 4. ₹248

Question ID : **65497831183**
Status : **Answered**
Chosen Option : **2**

Q.9 ₹1800 में एक वस्तु को बेचकर मिला लाभ, उस लाभ की तुलना में तिगुना है जो इसे ₹1350 में बेचकर प्राप्त होता। वस्तु का क्रय मूल्य (₹ में) ज्ञात करें।

- Ans**
- 1. 1250
 - 2. 1175
 - 3. 1200
 - 4. 1125

Question ID : **65497831193**
Status : **Answered**
Chosen Option : **2**

Q.10 दो संख्याएँ 9 : 11 के अनुपात में हैं। यदि उनका महत्तम समापवर्तक (HCF) 23 है, तो दोनों संख्याओं में कितना अंतर है?

- Ans**
- 1. 146
 - 2. 46
 - 3. 253
 - 4. 56

Question ID : **65497831188**
Status : **Answered**
Chosen Option : **3**

Q.11 ₹73,500 की एक धनराशि को A, B, C और D में 3 : 7 : 9 : 11 के अनुपात में विभाजित किया जाता है। A और D के हिस्सों का योग कितना होगा?

- Ans**
- 1. ₹39,200
 - 2. ₹29,400
 - 3. ₹24,500
 - 4. ₹34,300

Question ID : **65497831184**
Status : **Answered**
Chosen Option : **1**

Q.12 एक निश्चित राशि 6 वर्षों में स्वयं की दोगुनी हो जाती है। वही राशि उसी ब्याज दर पर कितने समय (वर्षों में) में स्वयं की पाँच गुनी हो जाएगी?

- Ans**
- 1. 24
 - 2. 35
 - 3. 30
 - 4. 28

Question ID : **65497831191**
Status : **Answered**
Chosen Option : **2**

Q.13 पांच वर्ष पूर्व A, B और C की औसत आयु 20 वर्ष थी। छः वर्ष पूर्व, B और C की औसत आयु 9 वर्ष थी। अब से तीन वर्ष बाद A की आयु (वर्ष में) कितनी होगी?

- Ans**
- 1. 45
 - 2. 48
 - 3. 47
 - 4. 41

Question ID : **65497831203**
Status : **Answered**
Chosen Option : **3**

Q.14 $\frac{(251)^2 + (249)^2}{25.1 \times 25.1 - 624.99 + 24.9 \times 24.9}$ का मान 5×10^k है, जहाँ k का मान _____ है।

- Ans**
- 1. 4
 - 2. 5
 - 3. 3
 - 4. 6

Question ID : **65497831192**
Status : **Answered**
Chosen Option : **2**

Q.15 एक कारखाने को 144 दिनों में, एक निर्धारित संख्या में वस्तुओं के निर्माण के लिए 56 मशीनों की आवश्यकता है। उसी संख्या में वस्तुएं 96 दिनों में बनाने के लिए कितनी मशीनों की आवश्यकता होगी?

- Ans**
- 1. 84
 - 2. 77
 - 3. 63
 - 4. 81

Question ID : **65497831190**
Status : **Answered**
Chosen Option : **3**

Q.16 यदि ब्याज को अर्धवार्षिक आधार पर चक्रवृद्धि किया जाता है, तो 16% वार्षिक ब्याज दर पर ₹5,000 की धनराशि को ₹5,832 बनाने में लगने वाले वर्षों की संख्या ज्ञात करें।

- Ans**
- 1. 1.5 वर्ष
 - 2. 1 वर्ष
 - 3. $\frac{1}{2}$ वर्ष
 - 4. 2 वर्ष

Question ID : 65497831200
Status : Answered
Chosen Option : 1

Q.17 रघु ने ₹100 में 12 की दर से कुछ पेन खरीदे और ₹135 में 15 की दर से समान संख्या में पेन खरीदे। ₹260 में कितने पेन बेचने पर उसे 20% का लाभ होगा?

- Ans**
- 1. 20
 - 2. 24
 - 3. 25
 - 4. 30

Question ID : 65497831202
Status : Answered
Chosen Option : 2

Q.18 कक्षा 8 के 20 छात्रों की औसत ऊँचाई 152 cm और कक्षा 9 के 15 छात्रों की औसत ऊँचाई 168 cm है। दोनों कक्षाओं के छात्रों की औसत ऊँचाई (निकटतम cm में) कितनी है?

- Ans**
- 1. 158
 - 2. 159
 - 3. 157
 - 4. 160

Question ID : 65497831189
Status : Answered
Chosen Option : 3

Q.19 यदि X का मान Y की तुलना में 12.25% अधिक है, तो Y का मान X की तुलना में लगभग कितने प्रतिशत कम है?

- Ans**
- 1. 10.9%
 - 2. 3%
 - 3. 15.6%
 - 4. 12%

Question ID : 65497831198
Status : Answered
Chosen Option : 3

Q.20 एक व्यक्ति ने ₹50,000 में दो मोबाइल फोन खरीदे। उसने उनमें से एक को 15% लाभ पर और दूसरे को 20% हानि पर बेच दिया। यदि दोनों मोबाइलों का विक्रय मूल्य बराबर है, तो हानि पर बेचे गए मोबाइल का क्रय मूल्य लगभग (निकटतम रूप में) कितना है?

- Ans**
- ✓ 1. 29,487
 - ✗ 2. 20,513
 - ✗ 3. 25,465
 - ✗ 4. 27,368

Question ID : **65497831186**
Status : **Answered**
Chosen Option : **1**

Q.21 एक व्यक्ति ने ₹14,000 की धनराशि 5% और ₹19,000 की धनराशि 6% वार्षिक साधारण ब्याज पर उधार दिया। उसे 3 वर्षों के बाद ब्याज के रूप में कितनी धनराशि प्राप्त होगी?

- Ans**
- ✗ 1. 3,420
 - ✓ 2. 5,520
 - ✗ 3. 5,445
 - ✗ 4. 2,100

Question ID : **65497831187**
Status : **Answered**
Chosen Option : **3**

Q.22 एक वस्तु का अंकित मूल्य ₹550 है। इसके अंकित मूल्य पर 15%, x % और 20% की तीन क्रमिक छूट देने के बाद इसे ₹317.90 में बेचा जाता है। यदि इसे $2x$ % की एकल छूट पर बेचा जाता है, तो इसका विक्रय मूल्य (₹ में) कितना होगा?

- Ans**
- ✗ 1. 484
 - ✓ 2. 385
 - ✗ 3. 495
 - ✗ 4. 440

Question ID : **65497831204**
Status : **Answered**
Chosen Option : **4**

Q.23 एक रेलगाड़ी, 600 m लंबी एक सुरंग को 54 सेकंड में पार कर सकती है और 350 m लंबे पुल को 36 सेकंड में पार कर सकती है। इस स्थिति में निम्न में से कौन से कथन सही होंगे?

- (i) रेलगाड़ी की चाल 60 km/h है।
(ii) रेलगाड़ी की लंबाई 150 m है।

Ans

1. न तो कथन (i) और न ही (ii) सही है
 2. केवल कथन (ii) सही है
 3. केवल कथन (i) सही है
 4. कथन (i) और (ii) दोनों सही हैं

Question ID : 65497831207
Status : Answered
Chosen Option : 3

Q.24 पाइप A और B भरी हुई टंकी को क्रमशः 15 मिनट और 20 मिनट में खाली कर सकते हैं, जबकि अकेले पाइप C खाली टंकी को 8 मिनट में भर सकता है। यदि पाइप A, B और C को एक साथ खोला जाता है, तो टंकी कितने घंटों में भर जाएगी?

Ans

1. 2.5
 2. 2
 3. 1.5
 4. 3

Question ID : 65497831194
Status : Answered
Chosen Option : 1

Q.25 एक व्यक्ति ने एक ऐसा आयताकार भूखंड खरीदा, जिसकी लंबाई और चौड़ाई का अनुपात 7 : 5 है। यदि भूखंड पर तार की बाड़ लगाने की लागत ₹15/m की दर से ₹2,880 है, तो भूखंड की लंबाई ज्ञात करें।

Ans

1. 60 m
 2. 40 m
 3. 56 m
 4. 84 m

Question ID : 65497831185
Status : Answered
Chosen Option : 3

Section : Part D English

Q.1 Select the most appropriate **ANTONYM** of the given word.

Deny

Ans ✓ 1. Accept

✗ 2. Check

✗ 3. Prevent

✗ 4. Block

Question ID : **65497831217**

Status : **Not Answered**

Chosen Option : --

Q.2 Select the option that can be used as a one-word substitute for the given group of words.

Delay an event to a later date or time

Ans ✓ 1. Postpone

✗ 2. Preserve

✗ 3. Prepone

✗ 4. Persevere

Question ID : **65497831220**

Status : **Not Answered**

Chosen Option : --

Q.3 Select the option that will improve the underlined part of the given sentence. In case no improvement is needed, select 'No improvement required'.

I have never see anything like this before.

Ans ✗ 1. never saw something

✗ 2. never saw anything

✗ 3. No improvement required

✓ 4. never seen anything

Question ID : **65497831227**

Status : **Not Answered**

Chosen Option : --

Q.4 Select the option that can be used as a one-word substitute for the given group of words.

An outgoing, socially confident person

Ans ✗ 1. Introvert

✗ 2. Brooder

✗ 3. Solitary

✓ 4. Extrovert

Question ID : **65497831224**

Status : **Not Answered**

Chosen Option : --

Q.5 The following sentence has been split into four segments. Identify the segment that contains a grammatical error.

The report said that / people who are eat meat / are at a higher risk / of fractures.

- Ans**
- 1. The report said that
 - 2. people who are eat meat
 - 3. of fractures
 - 4. are at a higher risk

Question ID : 65497831214
Status : Not Answered
Chosen Option : --

Q.6 Select the most appropriate meaning of the given idiom.

To get out of hand

- Ans**
- 1. To act irresponsibly
 - 2. To lose courage
 - 3. To be indecisive
 - 4. To become uncontrollable

Question ID : 65497831210
Status : Not Answered
Chosen Option : --

Q.7 Select the most appropriate ANTONYM of the given word.

Enthusiasm

- Ans**
- 1. Excitement
 - 2. Lethargy
 - 3. Devotion
 - 4. Passion

Question ID : 65497831226
Status : Not Answered
Chosen Option : --

Q.8 Select the most appropriate option that can substitute the underlined word in the given sentence.

He became the first Indian to be invited to perform at the advantageous Maple Theatre in Canada.

- Ans**
- 1. multifarious
 - 2. inauspicious
 - 3. prestigious
 - 4. heterogeneous

Question ID : 65497831213
Status : Not Answered
Chosen Option : --

Q.9 Parts of the given sentence have been given as options. One of them contains a grammatical error. Select the option that has the error.

I am sure that Vasu is not going to returned the money that he owes you.

- Ans**
- 1. I am sure
 - 2. not going to
 - 3. he owes you
 - 4. returned

Question ID : 65497831222
Status : Not Answered
Chosen Option : --

Q.10 The following sentence has been split into four segments. Identify the segment that contains a grammatical error.

Angad says that / he follows / his exercise regimen strictly / and that helping to him stay fit.

- Ans**
- 1. he follows
 - 2. his exercise regimen strictly
 - 3. Angad says that
 - 4. and that helping to him stay fit

Question ID : 65497831215
Status : Not Answered
Chosen Option : --

Q.11 Select the most appropriate option to fill in the blank.

Besides having a good academic record, it is important that you learn how to face an interview with _____ and self-confidence.

- Ans**
- 1. ease
 - 2. counsel
 - 3. adaptation
 - 4. experience

Question ID : 65497831212
Status : Not Answered
Chosen Option : --

Q.12 Select the most appropriate synonym of the given word.

Monotonous

- Ans**
- 1. Boring
 - 2. Fluctuated
 - 3. Modified
 - 4. Varied

Question ID : 65497831216
Status : Not Answered
Chosen Option : --

Q.13 Select the most appropriate option to fill in the blank.

From these findings, we can _____ that the rate of crime is increasing in the city.

- Ans
- 1. presume
 - 2. infer
 - 3. summarise
 - 4. presuppose

Question ID : 65497831225
Status : Not Answered
Chosen Option : --

Q.14 Select the correctly spelt word.

- Ans
- 1. Contenuously
 - 2. Continuously
 - 3. Continuoslly
 - 4. Contenewosly

Question ID : 65497831211
Status : Not Answered
Chosen Option : --

Q.15 Select the most appropriate meaning of the given idiom.

Down in the dumps

- Ans
- 1. In a very happy mood
 - 2. In a high spirit
 - 3. In a state of fury
 - 4. In a depressed state of mind

Question ID : 65497831221
Status : Not Answered
Chosen Option : --

Q.16 Select the most appropriate option to fill in the blank.

The shops at the Indian airports have to _____ prices in Indian rupees.

- Ans
- 1. tag
 - 2. display
 - 3. trace
 - 4. convert

Question ID : 65497831208
Status : Not Answered
Chosen Option : --

Q.17 Select the most appropriate synonym of the given word.

Imperial

- Ans 1. Ancestral
 2. Sovereign
 3. Paternal
 4. God-fearing

Question ID : 65497831223
Status : Not Answered
Chosen Option : --

Q.18 Select the most appropriate option that can substitute the underlined segment in the given sentence. If there is no need to substitute it, select 'No substitution required'.

If she likes the scenery, she will paint it.

- Ans 1. If she had liked
 2. If she is liking
 3. If she like
 4. No substitution required

Question ID : 65497831209
Status : Not Answered
Chosen Option : --

Q.19 Select the option that can be used as a one-word substitute for the given group of words.

A study of the human body

- Ans 1. Philology
 2. Physiology
 3. Philanthropy
 4. Pathology

Question ID : 65497831218
Status : Not Answered
Chosen Option : --

Q.20 Select the INCORRECTLY spelt word.

- Ans 1. Sensible
 2. Feasible
 3. Campatable
 4. Accessible

Question ID : 65497831219
Status : Not Answered
Chosen Option : --

Comprehension:

In the following passage, some words have been deleted. Read the passage carefully and select the most appropriate option to fill in each blank.

Few people lived near the North Pole. A small Inuit community had settled the closest, (1) _____ for the most part the region remained isolated (2) _____ the rest of the world for centuries. A few (3) _____ explorers like Henry Hudson and James Cook (4) _____ to navigate the region in search of a sea (5) _____ to connect the Atlantic and Pacific Oceans in the waters above North America.

SubQuestion No : 21

Q.21 Select the most appropriate option to fill in blank no. 1.

- Ans** 1. because
 2. so
 3. but
 4. or

Question ID : **65497831229**
Status : **Not Answered**
Chosen Option : --

Comprehension:

In the following passage, some words have been deleted. Read the passage carefully and select the most appropriate option to fill in each blank.

Few people lived near the North Pole. A small Inuit community had settled the closest, (1) _____ for the most part the region remained isolated (2) _____ the rest of the world for centuries. A few (3) _____ explorers like Henry Hudson and James Cook (4) _____ to navigate the region in search of a sea (5) _____ to connect the Atlantic and Pacific Oceans in the waters above North America.

SubQuestion No : 22

Q.22 Select the most appropriate option to fill in blank no. 2.

- Ans** 1. by
 2. of
 3. from
 4. with

Question ID : **65497831230**
Status : **Not Answered**
Chosen Option : --

Comprehension:

In the following passage, some words have been deleted. Read the passage carefully and select the most appropriate option to fill in each blank.

Few people lived near the North Pole. A small Inuit community had settled the closest, (1) _____ for the most part the region remained isolated (2) _____ the rest of the world for centuries. A few (3) _____ explorers like Henry Hudson and James Cook (4) _____ to navigate the region in search of a sea (5) _____ to connect the Atlantic and Pacific Oceans in the waters above North America.

SubQuestion No : 23

Q.23 Select the most appropriate option to fill in blank no. 3.

- Ans**
- 1. powerful
 - 2. thoughtful
 - 3. daring
 - 4. strong

Question ID : **65497831231**
Status : **Not Answered**
Chosen Option : --

Comprehension:

In the following passage, some words have been deleted. Read the passage carefully and select the most appropriate option to fill in each blank.

Few people lived near the North Pole. A small Inuit community had settled the closest, (1) _____ for the most part the region remained isolated (2) _____ the rest of the world for centuries. A few (3) _____ explorers like Henry Hudson and James Cook (4) _____ to navigate the region in search of a sea (5) _____ to connect the Atlantic and Pacific Oceans in the waters above North America.

SubQuestion No : 24

Q.24 Select the most appropriate option to fill in blank no. 4.

- Ans**
- 1. tried
 - 2. trying
 - 3. try
 - 4. had tried

Question ID : **65497831232**
Status : **Not Answered**
Chosen Option : --

Comprehension:

In the following passage, some words have been deleted. Read the passage carefully and select the most appropriate option to fill in each blank.

Few people lived near the North Pole. A small Inuit community had settled the closest, (1) _____ for the most part the region remained isolated (2) _____ the rest of the world for centuries. A few (3) _____ explorers like Henry Hudson and James Cook (4) _____ to navigate the region in search of a sea (5) _____ to connect the Atlantic and Pacific Oceans in the waters above North America.

SubQuestion No : 25

Q.25 Select the most appropriate option to fill in blank no. 5.

- Ans** 1. track
 2. route
 3. road
 4. path

Question ID : 65497831233
Status : Not Answered
Chosen Option : --

Section : Part D Hindi

Q.1 जिसके दस आनन है - वाक्यांश के लिए एक शब्द लिखिए।

- Ans** 1. कवि दिनकर
 2. राम
 3. दशानन
 4. कबीर

Question ID : 65497831242
Status : Answered
Chosen Option : 4

Q.2 रिक्त स्थान की पूर्ति के लिए सबसे उपयुक्त शब्द का चयन करें।

इस _____ घर-घर में यही दशा है।

- Ans** 1. गांव में
 2. गांव के
 3. गांव तक
 4. गांव की

Question ID : 65497831246
Status : Answered
Chosen Option : 1

Q.3 रिक्त स्थान की पूर्ति के लिए सबसे उपयुक्त शब्द का चयन करें।

बारिश की बूंदें _____ रही हैं।

- Ans
- 1. बरस
 - 2. टपक
 - 3. गीर
 - 4. रिस

Question ID : 65497831248
Status : Answered
Chosen Option : 2

Q.4 दिए गए वाक्य का वह भाग ज्ञात करें जिसमें कोई त्रुटि है। यदि कोई त्रुटि नहीं है, तो 'कोई त्रुटि नहीं है' विकल्प को चुनें।

शिक्षक ने उन छात्रों को पूछा।

- Ans
- 1. उन छात्रों को
 - 2. पूछा
 - 3. शिक्षक ने
 - 4. कोई त्रुटि नहीं है

Question ID : 65497831240
Status : Answered
Chosen Option : 3

Q.5 दिये गये वाक्य में रेखांकित अंश को प्रतिस्थापित करने के लिए सबसे उपयुक्त विकल्प का चयन करें।

कर्मचारी अपना वेतन नहीं पा पाया।

- Ans
- 1. दे पाया।
 - 2. ले पाया।
 - 3. कर पाया।
 - 4. भर पाया।

Question ID : 65497831252
Status : Answered
Chosen Option : 2

Q.6 दिये गये वाक्य के किस भाग में त्रुटि है?

पिताजी मेरे परीक्षाफल से संतुष्ट नहीं हुए।

- Ans
- 1. संतुष्ट
 - 2. पिताजी मेरे
 - 3. परीक्षाफल से
 - 4. नहीं हुए।

Question ID : 65497831250
Status : Answered
Chosen Option : 2

Q.7 उस विकल्प का चयन कीजिए जो नीचे दिए गये मुहावरे का अर्थ व्यक्त करता है-

आपे में आना

- Ans 1. होश में आना
 2. काबू में न रहना
 3. बेहोश हो जाना
 4. बहुत गुस्से में आना

Question ID : 65497831244
Status : Answered
Chosen Option : 1

Q.8 दिए गए शब्द के विलोम शब्द का चयन करें।

आसक्त

- Ans 1. विरक्त
 2. विस्तृत
 3. अनासक्त
 4. सक्त

Question ID : 65497831241
Status : Answered
Chosen Option : 3

Q.9 दिए गए वाक्य में रेखांकित खंड को प्रतिस्थापित करने के लिए सबसे उपयुक्त विकल्प का चयन करें।
यदि इसे प्रतिस्थापित करने की आवश्यकता नहीं है, तो विकल्प 'किसी बदलाव की आवश्यकता नहीं है'
का चयन करें।

जनता के अंदर असंतोष फैल गया।

- Ans 1. के पास
 2. के भीतर
 3. जनता में
 4. किसी बदलाव की आवश्यकता नहीं है।

Question ID : 65497831234
Status : Answered
Chosen Option : 3

Q.10 दिए गए शब्द के समानार्थी का चयन करें।

कोयल

- Ans 1. मुरारी
 2. अनंग
 3. वसंतदूत
 4. श्वान

Question ID : 65497831237
Status : Answered
Chosen Option : 3

Q.11 दिए गए शब्द के विलोम शब्द का चयन करें-

स्वल्पायु

- Ans 1. अवस्था
 2. चिरायु
 3. दीर्घ
 4. अल्पायु

Question ID : 65497831243
Status : Answered
Chosen Option : 4

Q.12 निम्नलिखित में से अशुद्ध वर्तनी वाले शब्द को पहचानिए-

- Ans 1. ज्योतिषी
 2. डारधिची
 3. ताज्जुब
 4. दशहरा

Question ID : 65497831238
Status : Answered
Chosen Option : 3

Q.13 दिए गए वाक्य का वह भाग ज्ञात करें जिसमें कोई त्रुटि है। यदि कोई त्रुटि नहीं है, तो 'कोई त्रुटि नहीं है' विकल्प को चुनें।

रमादेवी एक विद्वान महिला थीं।

- Ans 1. एक विद्वान
 2. कोई त्रुटि नहीं है
 3. महिला थीं
 4. रमादेवी

Question ID : 65497831236
Status : Answered
Chosen Option : 2

Q.14 निम्नलिखित में से शुद्ध वर्तनी वाले शब्द को पहचानिए-

- Ans 1. कारीगर
 2. बिकारी
 3. ओषधी
 4. सच्च

Question ID : 65497831239
Status : Answered
Chosen Option : 2

Q.15 'ठीक परिणाम देने वाला' वाक्यांश के लिए उपयुक्त शब्द होगा-

- Ans
- 1. सुखांत
 - 2. सुखदायी
 - 3. फलदायी
 - 4. फलक

Question ID : 65497831253
Status : Answered
Chosen Option : 3

Q.16 रिक्त स्थान की पूर्ति के लिए सबसे उपयुक्त शब्द का चयन करें।

आज इस साल का पहला तूफान_____।

- Ans
- 1. आया
 - 2. चला
 - 3. नाचा
 - 4. उठा

Question ID : 65497831247
Status : Answered
Chosen Option : 1

Q.17 दिए गये वाक्यांश के लिए एक शब्द दीजिये-

बिना वेतन के काम करने वाला

- Ans
- 1. वैतनिक
 - 2. अवैतनिक
 - 3. अपेय
 - 4. भुगतानविहीन

Question ID : 65497831245
Status : Answered
Chosen Option : 2

Q.18 'नलिन' किसका पर्यायवाची है?

- Ans
- 1. कपड़ा
 - 2. जल
 - 3. कमल
 - 4. स्वर्ग

Question ID : 65497831251
Status : Answered
Chosen Option : 2

Q.19 'काँटों पर लोटना' इस मुहावरे का उचित अर्थ किस विकल्प में है?

- Ans
- 1. संकट में डालना
 - 2. बाधा दूर होना
 - 3. बेचैन होना
 - 4. अडचनें पैदा करना

Question ID : 65497831235

Status : Answered

Chosen Option : 1

Q.20 दिए गए वाक्य में रेखांकित खंड को प्रतिस्थापित करने के लिए सबसे उपयुक्त विकल्प का चयन करें।
यदि इसे प्रतिस्थापित करने की आवश्यकता नहीं है, तो विकल्प 'किसी बदलाव की आवश्यकता नहीं है'
का चयन करें।

मैं गाने का कसरत कर रहा हूँ।

- Ans
- 1. अभ्यास कर रहा हूँ
 - 2. किसी बदलाव की आवश्यकता नहीं है।
 - 3. समर्पण कर रहा हूँ
 - 4. व्यायाम कर रहा हूँ

Question ID : 65497831249

Status : Answered

Chosen Option : 1

Comprehension:

नीचे दिए गए गद्यांश में से कुछ शब्द हटा दिए गए हैं। संबंधित प्रश्नों में प्रत्येक संख्या के लिए सबसे उपयुक्त विकल्प का चयन करें।

(1) _____ को सबल बनाने के लिए हमें नियमित (2) _____ करना चाहिए। सुंदर (3) _____ के लिए हमें खेलना, दौड़ना, चलना, कूदना और (4) _____ चाहिए। अतएव हम सभी को विद्यालयों में होनेवाले (5) _____ में भाग लेना चाहिए।

SubQuestion No : 21

Q.21 गद्यांश के रिक्त स्थान (1) के लिए सर्वाधिक उपयुक्त शब्द होगा-

- Ans
- 1. हृदय
 - 2. शरीर
 - 3. परिवार
 - 4. काम

Question ID : 65497831255

Status : Answered

Chosen Option : 2

Comprehension:

नीचे दिए गए गद्यांश में से कुछ शब्द हटा दिए गए हैं। संबंधित प्रश्नों में प्रत्येक संख्या के लिए सबसे उपयुक्त विकल्प का चयन करें।

(1) _____ को सबल बनाने के लिए हमें नियमित (2) _____ करना चाहिए। सुंदर (3) _____ के लिए हमें खेलना, दौड़ना, चलना, कूदना और (4) _____ चाहिए। अतएव हम सभी को विद्यालयों में होनेवाले (5) _____ में भाग लेना चाहिए।

SubQuestion No : 22

Q.22 गद्यांश के रिक्त स्थान (2) के लिए सर्वाधिक उपयुक्त शब्द होगा-

- Ans** 1. व्यायाम
 2. भाषण करना
 3. खाना
 4. शोना

Question ID : 65497831256
Status : Answered
Chosen Option : 1

Comprehension:

नीचे दिए गए गद्यांश में से कुछ शब्द हटा दिए गए हैं। संबंधित प्रश्नों में प्रत्येक संख्या के लिए सबसे उपयुक्त विकल्प का चयन करें।

(1) _____ को सबल बनाने के लिए हमें नियमित (2) _____ करना चाहिए। सुंदर (3) _____ के लिए हमें खेलना, दौड़ना, चलना, कूदना और (4) _____ चाहिए। अतएव हम सभी को विद्यालयों में होनेवाले (5) _____ में भाग लेना चाहिए।

SubQuestion No : 23

Q.23 गद्यांश के रिक्त स्थान (3) के लिए सर्वाधिक उपयुक्त शब्द होगा-

- Ans** 1. वेश-भूषा
 2. कार्य
 3. व्यवहार
 4. स्वास्थ्य

Question ID : 65497831257
Status : Answered
Chosen Option : 4

Comprehension:

नीचे दिए गए गद्यांश में से कुछ शब्द हटा दिए गए हैं। संबंधित प्रश्नों में प्रत्येक संख्या के लिए सबसे उपयुक्त विकल्प का चयन करें।

(1) _____ को सबल बनाने के लिए हमें नियमित (2) _____ करना चाहिए। सुंदर (3) _____ के लिए हमें खेलना, दौड़ना, चलना, कूदना और (4) _____ चाहिए। अतएव हम सभी को विद्यालयों में होनेवाले (5) _____ में भाग लेना चाहिए।

SubQuestion No : 24

Q.24 गद्यांश के रिक्त स्थान (4) के लिए सर्वाधिक उपयुक्त शब्द होगा-

- Ans** 1. टहलना
 2. पढ़ना
 3. गीत गाना
 4. रोना

Question ID : 65497831258
Status : Answered
Chosen Option : 2

Comprehension:

नीचे दिए गए गद्यांश में से कुछ शब्द हटा दिए गए हैं। संबंधित प्रश्नों में प्रत्येक संख्या के लिए सबसे उपयुक्त विकल्प का चयन करें।

(1) _____ को सबल बनाने के लिए हमें नियमित (2) _____ करना चाहिए। सुंदर (3) _____ के लिए हमें खेलना, दौड़ना, चलना, कूदना और (4) _____ चाहिए। अतएव हम सभी को विद्यालयों में होनेवाले (5) _____ में भाग लेना चाहिए।

SubQuestion No : 25

Q.25 गद्यांश के रिक्त स्थान (5) के लिए सर्वाधिक उपयुक्त शब्द होगा-

- Ans**
- 1. खेलों
 - 2. मजाक
 - 3. कसरत
 - 4. बातचीत में

Question ID : **65497831259**

Status : **Answered**

Chosen Option : **1**

GovtJobsAlert.In