

## Constable GD in CAPFs NIA SSF and Rifleman GD in Assam Rifles Examination 2021

Roll Number	<a href="http://www.GovtJobsAlert.In">www.GovtJobsAlert.In</a>
Candidate Name	<a href="http://www.GovtJobsAlert.In">www.GovtJobsAlert.In</a>
Venue Name	ANAND INTERNATIONAL COLLEGE OF ENGINEERING JAIPUR
Exam Date	25/11/2021
Exam Time :	12:30 PM - 2:00 PM
Subject	Constable GD 2021

Section : **Part A General Intelligence and Reasoning**

Q.1 एक विशिष्ट कूट भाषा में, CHEAP को QBFID लिखा जाता है। उसी कूट भाषा में QUOTE को किस प्रकार लिखा जाएगा?

- Ans  1. FUPVR  
 2. ETOUQ  
 3. RVNUF  
 4. UOQET

Question ID : 65497828231  
Status : Not Answered  
Chosen Option : --

Q.2 उस संख्या-त्रिक का चयन करें, जिसकी तीन संख्याओं के बीच वह संबंध नहीं है, जो शेष तीन संख्या-त्रिकों की संख्याओं के बीच है।

- Ans  1. (23, 69, 105)  
 2. (17, 51, 85)  
 3. (19, 57, 95)  
 4. (13, 39, 65)

Question ID : 65497828218  
Status : Answered  
Chosen Option : 1

Q.3 उस विकल्प का चयन करें, जिसका तीसरे पद से वही संबंध है, जो दूसरे पद का पहले पद से है।

LARGE : MASHE :: WATER : \_\_\_\_\_

- Ans  1. VBSFQ  
 2. VAUES  
 3. XBUFS  
 4. XAUES

Question ID : 65497828230  
Status : Not Answered  
Chosen Option : --

Q.4 आठ मित्र, अरविंद, प्रिया, कुणाल, काजल, आशीष, महक, शुभम और रिद्धि, एक अष्टभुजाकार मेज़ के चारों ओर मेज़ के केंद्र की ओर मुह करके बैठे हैं। कुणाल, महक और आशीष के बीच में है। काजल, प्रिया और अरविंद के बीच में है। शुभम, रिद्धि के बाईं ओर ठीक बगल में है। अरविंद, आशीष के दाईं ओर तीसरे स्थान पर है। रिद्धि और प्रिया के बीच में कौन बैठा/बैठी है?

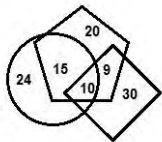
- Ans
- 1. अरविंद
  - 2. आशीष
  - 3. काजल
  - 4. शुभम

Question ID : 65497828225

Status : Answered

Chosen Option : 1

Q.5 निम्नलिखित आरेख में, 'समचतुर्भुज', 'शिक्षकों' को निरूपित करता है, 'वृत्त', 'समाज-सेवकों' को निरूपित करता है, और 'पंचभुज', 'महिलाओं' को निरूपित करता है। विभिन्न खंडों में दी गई संख्याएं, उस श्रेणी से संबंधित व्यक्तियों की संख्या को दर्शाती हैं।



कितनी महिला शिक्षक, समाज सेवक भी हैं?

- Ans
- 1. 10
  - 2. 24
  - 3. 9
  - 4. 15

Question ID : 65497828236

Status : Answered

Chosen Option : 1

Q.6 'सुवा' का 'फ़िजी' से वही संबंध है, जो 'हेल्सिंकी' का '\_\_\_\_\_' से है।

- Ans
- 1. फ़्रांस
  - 2. ग्रीस
  - 3. हंगरी
  - 4. फ़िनलैंड

Question ID : 65497828234

Status : Answered

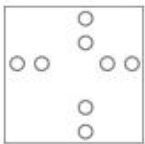
Chosen Option : 2

Q.7 निम्नांकित आकृतियों में एक कागज के टुकड़े को मोड़ने का क्रम और मुड़े हुए कागज को काटने की विधि दर्शाई गई है। यह कागज खोलने पर कैसा दिखेगा?

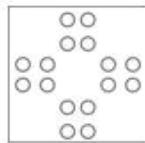


Ans


✗ 1.



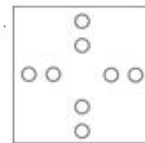
✓ 2.



✗ 3.



✗ 4.



Question ID : 65497828220

Status : Answered

Chosen Option : 2

Q.8 निम्नलिखित चार अक्षर-समूहों में से तीन किसी न किसी प्रकार संगत हैं और एक असंगत है। उस अक्षर-समूह का चयन करें, जो असंगत है।

Ans

✗ 1. PUZEJ

✗ 2. YDINS

✓ 3. TXBFK

✗ 4. BGLQV

Question ID : 65497828212

Status : Not Answered

Chosen Option : --

Q.9 यदि '+' का अर्थ '-', '-' का अर्थ 'x', 'x' का अर्थ '+', और '+' का अर्थ '+' है, तो निम्नलिखित व्यंजक का मान कितना होगा?

$$9 - 9 \div 72 \times 4 + 6$$

Ans

✗ 1. 98

✗ 2. 29

✗ 3. 27

✓ 4. 93

Question ID : 65497828227

Status : Answered

Chosen Option : 4

Q.10 दिए गए विकल्पों में से उस अक्षर-समूह का चयन करें, जो निम्नलिखित श्रृंखला में प्रश्नवाचक चिन्ह (?) के स्थान पर आ सकता है।

GQT, ETP, CWL, AZH, ?

- Ans
- 1. YBD
  - 2. YCE
  - 3. YCD
  - 4. ZCD

Question ID : 65497828233  
Status : Answered  
Chosen Option : 3

Q.11 N के दो बच्चे - S और P हैं। N की पत्नी J, M की मां की इकलौती बहन है। R, M के नाना हैं। R का N से क्या संबंध है?

- Ans
- 1. पिता
  - 2. दामाद
  - 3. ससुर
  - 4. चाचा/ताऊ/फूफा/मामा/मौसा

Question ID : 65497828232  
Status : Not Answered  
Chosen Option : --

Q.12 उस सही विकल्प का चयन करें, जो दिए गए शब्दों के तार्किक और सार्थक क्रम को दर्शाता है।

- i. फूल
- ii. अंकुर
- iii. फल
- iv. पौधा
- v. बीज

- Ans
- 1. v, iv, i, iii, ii
  - 2. v, ii, iv, i, iii
  - 3. ii, i, iii, iv, v
  - 4. ii, v, iv, i, iii

Question ID : 65497828221  
Status : Answered  
Chosen Option : 2

Q.13 दिए गए कथनों और निष्कर्षों को ध्यानपूर्वक पढ़ें। कथनों में दी गई जानकारी को सत्य मानते हुए विचार करें, भले ही वह सामान्य रूप से ज्ञात तथ्यों से भिन्न प्रतीत होती हो, और बताएं कि दिए गए निष्कर्षों में से कौन से, तार्किक रूप से कथनों का पालन करते हैं?

कथन:

सभी नेता, पुरुष हैं।  
कुछ विद्यार्थी, नेता हैं।

निष्कर्ष:

I. कुछ विद्यार्थी, पुरुष हैं।  
II. सभी नेता, विद्यार्थी हैं।

- Ans
- 1. निष्कर्ष I और II दोनों पालन करते हैं।
  - 2. केवल निष्कर्ष I पालन करता है।
  - 3. केवल निष्कर्ष II पालन करता है।
  - 4. या तो निष्कर्ष I या II पालन करता है।

Question ID : 65497828217

Status : Not Answered

Chosen Option : --

Q.14 दिए गए विकल्पों में से उस संख्या का चयन करें, जो निम्नलिखित श्रेणी में प्रश्नवाचक चिह्न (?) के स्थान पर आ सकती है।

34, 37, 42, 49, 60, 73, 90, ?

- Ans
- 1. 117
  - 2. 109
  - 3. 119
  - 4. 99

Question ID : 65497828214

Status : Answered

Chosen Option : 2

Q.15 उस अक्षर संयोजन का चयन करें, जिसे दी गई श्रृंखला के रिक्त स्थानों में क्रमिक रूप से रखे जाने पर श्रृंखला को पूर्ण करेगा।

r \_ x | \_ q \_ \_ x \_ p q \_ e \_ l p \_

- Ans
- 1. e, x, q, r, p, l, x, p
  - 2. p, e, q, l, x, p, r, q
  - 3. p, e, r, p, l, r, x, q
  - 4. e, p, r, e, l, r, x, q

Question ID : 65497828222

Status : Not Answered

Chosen Option : --

Q.16 छह मित्र A, B, C, D, E और F एक सीधी क्षैतिज पंक्ति में उत्तर की ओर मुख करके बैठे हैं। E और C के बीच चार व्यक्ति बैठे हैं। D, A और F के बीच में बैठा है। A, E के दाईं ओर ठीक बगल में बैठा है। F के दाईं ओर ठीक बगल में कौन बैठा है?

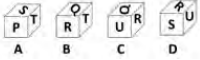
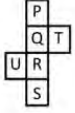
- Ans
- 1. A
  - 2. C
  - 3. B
  - 4. D

Question ID : 65497828235

Status : Not Answered

Chosen Option : --

Q.17 उन पासों का चयन करें जिन्हें दिए गए पत्रक (sheet) को रेखाओं के अनुसार मोड़ कर बनाया जा सकता है।



- Ans
- 1. केवल A, B और C
  - 2. केवल A और B
  - 3. A, B, C और D
  - 4. केवल B और D

Question ID : 65497828228

Status : Not Answered

Chosen Option : --

Q.18 उस विकल्प का चयन करें जो दी गई आकृति में अंतर्निहित है, (घुमाने की अनुमति नहीं है)।



Ans

- 1.
- 2.
- 3.
- 4.

Question ID : 65497828229

Status : Answered

Chosen Option : 1

Q.19 एक विशिष्ट कूट भाषा में, 'FRY' को '147' और 'CROP' को '208' लिखा जाता है। उसी कूट भाषा में 'MUSIC' को किस प्रकार लिखा जाएगा?

Ans

- 1. 385
- 2. 325
- 3. 295
- 4. 199

Question ID : 65497828213

Status : Answered

Chosen Option : 2

Q.20 एक पिता और उसके पुत्र की वर्तमान आयु का योग 58 वर्ष है। चार वर्ष पूर्व, उनकी आयु का अनुपात 4 : 1 था। पिता की वर्तमान आयु कितनी है?

Ans

- 1. 38 वर्ष
- 2. 40 वर्ष
- 3. 35 वर्ष
- 4. 44 वर्ष

Question ID : 65497828219

Status : Answered

Chosen Option : 2

Q.21 दिए गए विकल्पों में से उस संख्या का चयन करें, जो निम्नलिखित श्रेणी में प्रश्नवाचक चिह्न (?) के स्थान पर आ सकती है।

14, 29, 57, 115, 229, ?

Ans  1. 457

2. 459

3. 463

4. 461

Question ID : 65497828223

Status : Answered

Chosen Option : 2

Q.22 उस विकल्प का चयन करें, जिसका तीसरी संख्या से वही संबंध है, जो दूसरी संख्या का पहली संख्या से है।

7 : 342 :: 9 : ?

Ans  1. 327

2. 728

3. 729

4. 329

Question ID : 65497828226

Status : Answered

Chosen Option : 2

Q.23 दिए गए विकल्पों में से उस आकृति का चयन करें जो नीचे दी गई श्रृंखला में प्रश्न चिह्न (?) के स्थान पर आ सकती है।

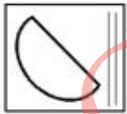


Ans

1.



2.



3.



4.



Question ID : 65497828224

Status : Answered

Chosen Option : 4



Q.24 जब दर्पण को संयोजन के दिए गए चित्र के दाईं ओर रखा जाता है तो दिए गए संयोजन के सही दर्पण प्रतिबिंब का चयन करें।

B Y u m g d

Ans

1. P p m u Y B
2. b p m u Y B
3. q p m u Y B
4. b p m u Y B

Question ID : 65497828215

Status : Answered

Chosen Option : 1

Q.25 एक निश्चित कूट भाषा में, 'SHIMLA' को 'TJLQQG' और 'RANCHI' को 'SCQGMQ' लिखा जाता है। उसी कूटभाषा में 'MUMBAI' को किस प्रकार लिखा जाएगा?

Ans

1. NWPFFO
2. NXQEFP
3. MXPEFP
4. OWQEPP

Question ID : 65497828216

Status : Answered

Chosen Option : 1

Section : Part B General Knowledge and General Awareness

Q.1 विश्व दर्शन दिवस, प्रति वर्ष नवंबर के तीसरे \_\_\_\_\_ को मनाया जाता है।

Ans

1. सोमवार
2. शनिवार
3. गुरुवार
4. शुक्रवार

Question ID : 65497828248

Status : Not Answered

Chosen Option : --

Q.2 किस मंत्रालय / संस्थान ने वित्तीय वर्ष 2019-20 के लिए, स्थिर मूल्यों (2011-12) और वर्तमान मूल्यों, दोनों पर, राष्ट्रीय आय के अनंतिम अनुमान जारी किए हैं?

Ans

1. गृह मंत्रालय
2. राष्ट्रीय सांख्यिकी कार्यालय
3. वित्त आयोग
4. नीति (NITI) आयोग

Question ID : 65497828245

Status : Not Answered

Chosen Option : --

Q.3 जड़त्व को इसके \_\_\_\_\_ द्वारा मापा जा सकता है।

- Ans  1. द्रव्यमान  
 2. बल  
 3. गति की अवस्था  
 4. त्वरण

Question ID : 65497828252  
Status : Answered  
Chosen Option : 2

Q.4 जुलाई 2021 में, \_\_\_\_\_ को 2019 के लिए इंडियन स्पोर्ट्स ऑनर में डिफरेंटली एबल्ल्ड स्पोर्ट्समैन ऑफ द इयर (Differently Abled Sportsman of the Year) के रूप में नामित किया गया था।

- Ans  1. विवेक चिकारा  
 2. धर्मबीर नैन  
 3. अमित कुमार सरोहा  
 4. प्रमोद भगत

Question ID : 65497828261  
Status : Not Answered  
Chosen Option : --

Q.5 भारतीय रिजर्व बैंक अधिनियम, 1934 की धारा \_\_\_\_\_ के अनुसार, बैंक को सभी मूल्यवर्गों के बैंक नोट जारी करने का पूर्ण अधिकार प्राप्त है।

- Ans  1. 20  
 2. 32  
 3. 25  
 4. 22

Question ID : 65497828242  
Status : Not Answered  
Chosen Option : --

Q.6 निम्नलिखित में से कौन 2020-21 हीरो इंडियन सुपर लीग का प्रतिभागी नहीं है?

- Ans  1. ओडिशा एफ़.सी. (FC)  
 2. बेंगलुरु एफ़.सी. (FC)  
 3. जमशेदपुर एफ़.सी. (FC)  
 4. कोच्ची एफ़.सी. (FC)

Question ID : 65497828244  
Status : Not Answered  
Chosen Option : --

Q.7 पौधों और पशुओं में जैविक घटनाओं, जैसे - फूल आना, पत्तियां निकलना, सुषुप्तावस्था, प्रजनन और प्रवासन आदि के समय का अध्ययन क्या कहलाता है?

- Ans
- 1. लाइकेनोलॉजी (lichenology)
  - 2. फीनोलॉजी (phenology)
  - 3. सिनेन्थेरोलॉजी (synantherology)
  - 4. पोमोलॉजी (pomology)

Question ID : 65497828246  
Status : Not Answered  
Chosen Option : --

Q.8 भारतीय दंड संहिता की धारा 354 \_\_\_\_\_ से संबंधित है।

- Ans
- 1. किसी स्त्री की लज्जा भंग करने के उद्देश्य से उस महिला पर हमला करने या उस पर आपराधिक बल का प्रयोग करने
  - 2. अपहरण करने के लिए दंड
  - 3. स्वेच्छा से गंभीर चोट पहुंचाने के लिए दंड
  - 4. किसी व्यक्ति को गंभीर आघात या मृत्यु का भय दिखाकर रंगदारी वसूलने

Question ID : 65497828258  
Status : Not Answered  
Chosen Option : --

Q.9 भारत के कितने राज्यों में द्विसदनीय विधानमंडल है?

- Ans
- 1. सात
  - 2. चार
  - 3. छह
  - 4. दो

Question ID : 65497828256  
Status : Not Answered  
Chosen Option : --

Q.10 स्वामी दयानंद सरस्वती द्वारा आर्य समाज की स्थापना किए जाने के समय भारत का वायसराय कौन था?

- Ans
- 1. लॉर्ड लैंसडाउन
  - 2. लॉर्ड कर्ज़न
  - 3. लॉर्ड नॉर्थब्रुक
  - 4. लॉर्ड डलहौज़ी

Question ID : 65497828247  
Status : Answered  
Chosen Option : 2

Q.11 निम्नलिखित में से कौन सा भारत का पहला स्वदेश- विकसित टीका है, जिसे सीरम इंस्टिट्यूट ऑफ इंडिया ने बिल एंड मेलिडा गेट्स फाउंडेशन और पाथ (PATH) के सहयोग से विकसित किया है?

- Ans  1. निमोसिल (Pneumosil)  
 2. हैज़ा  
 3. छोटी चेचक (Varicella)  
 4. एंथ्रेक्स

Question ID : 65497828251  
Status : Not Answered  
Chosen Option : --

Q.12 फिक्शन (Fiction) श्रेणी में, 'द हिंदू प्राइज 2019' का विजेता कौन था?

- Ans  1. नीलम सरन गौर  
 2. मिर्जा वहीद  
 3. अनुराधा रॉय  
 4. अमिताभ बागची

Question ID : 65497828253  
Status : Not Answered  
Chosen Option : --

Q.13 निम्न में से कौन सा बांध सुवर्णरेखा नदी पर बनाया गया है?

- Ans  1. बरही  
 2. चांडिल  
 3. मलय  
 4. भैरव

Question ID : 65497828260  
Status : Not Answered  
Chosen Option : --

Q.14 19वीं शताब्दी के एक महान समाज सुधारक, नारायण गुरु का जन्म \_\_\_\_\_ राज्य में हुआ था।

- Ans  1. पश्चिम बंगाल  
 2. केरल  
 3. कर्नाटक  
 4. असम

Question ID : 65497828243  
Status : Not Answered  
Chosen Option : --

Q.15 भारत सरकार ने सितंबर 2021 में राष्ट्रीय आवश्यक औषधि सूची (NLEM) को संशोधित करते हुए \_\_\_\_\_ दवाओं को इसमें शामिल किया और कुछ को इसमें से हटा दिया।

- Ans
- 1. 16
  - 2. 42
  - 3. 39
  - 4. 27

Question ID : 65497828259  
Status : Not Answered  
Chosen Option : --

Q.16 ओडिशा राज्य का 'धेनका (Dhenka)' एक लोकप्रिय \_\_\_\_\_ वाद्ययंत्र है।

- Ans
- 1. एरोफोन (aerophone)
  - 2. मेम्ब्रेनोफोन (membranophone)
  - 3. इडियोफोन (idiophone)
  - 4. कोर्डोफोन (chordophone)

Question ID : 65497828237  
Status : Not Answered  
Chosen Option : --

Q.17 'मौन मुस्कान की मार' नामक पुस्तक के लेखक कौन हैं?

- Ans
- 1. रोहित रॉय
  - 2. जुगल हंसराज
  - 3. उदय चोपड़ा
  - 4. आशुतोष राणा

Question ID : 65497828239  
Status : Not Answered  
Chosen Option : --

Q.18 निम्नलिखित में से कौन भारत का एक गोला-फेंक (shot put) खिलाड़ी है?

- Ans
- 1. तेजिंदरपाल सिंह तूर
  - 2. जेरेमी लालीनुंगा
  - 3. दीपक लाठर
  - 4. विकास ठाकुर

Question ID : 65497828240  
Status : Not Answered  
Chosen Option : --

Q.19 मार्च 2021 तक प्राप्त जानकारी के अनुसार, भारत के किस राज्य में जूट का सर्वाधिक उत्पादन होता है?

- Ans
- 1. त्रिपुरा
  - 2. पश्चिम बंगाल
  - 3. झारखंड
  - 4. असम

Question ID : 65497828241  
Status : Answered  
Chosen Option : 2

Q.20 ब्रेन फिगरप्रिंटिंग के बारे में इनमें से कौन सा कथन सही नहीं है?

- Ans
- 1. यह जांच मानव मस्तिष्क के विद्युतीय व्यवहार का अध्ययन करने हेतु, विद्युतमस्तिष्कलेखन (इलेक्ट्रोएन्सेफेलोग्राम) द्वारा की जाती है।
  - 2. ब्रेन फिगरप्रिंटिंग को ब्रेन इलेक्ट्रिकल ऑसिलेशन सिग्नचर प्रोफाइलिंग (BEOSP) भी कहा जाता है।
  - 3. जांच में अभियुक्त के साथ प्रश्नोत्तर सत्र शामिल होता है।
  - 4. जांच के दौरान पाई गई जानकारी या सामग्री को साक्ष्य का हिस्सा बनाया जा सकता है।

Question ID : 65497828257

Status : Not Answered

Chosen Option : --

Q.21 निम्नलिखित में से कौन सी भारतीय मलिन बस्ती विश्व की सबसे बड़ी मलिन बस्तियों (झोपड़पट्टियों) में से एक है?

- Ans
- 1. बसंती
  - 2. भलस्वा
  - 3. नोचिकुप्पम
  - 4. धारावी

Question ID : 65497828255

Status : Not Answered

Chosen Option : --

Q.22 कृषि की उस शाखा को क्या कहा जाता है, जो बागानी फसलों (garden crops) – सामान्यतः फल, सब्जियों और सजावटी पौधों से संबंधित है?

- Ans
- 1. पर्माकल्चर (Permaculture)
  - 2. बागबानी (Horticulture)
  - 3. पुष्पकृषि (Floriculture)
  - 4. रेशम कीट-पालन (Sericulture)

Question ID : 65497828238

Status : Not Answered

Chosen Option : --

Q.23 बेगम नूर जहाँ का विवाह-पूर्व नाम क्या था?

- Ans
- 1. पद्मावती
  - 2. मेहर-उन-निसा
  - 3. हरखा बाई
  - 4. इंदिरा कंवर

Question ID : 65497828254

Status : Answered

Chosen Option : 2

Q.24 \_\_\_\_\_, आर्थिक स्थितियों को प्रभावित करने के लिए सरकारी व्यय और कर नीतियों का उपयोग है।

- Ans
- 1. मौद्रिक नीति
  - 2. राजकोषीय नीति
  - 3. विस्तारकारी नीति
  - 4. संविदात्मक मौद्रिक नीति

Question ID : 65497828249  
Status : Not Answered  
Chosen Option : --

Q.25 निम्न में से कौन-सी कला शैली पुरुषों द्वारा प्रदर्शित की जाती है, जिसमें उनका शरीर 'रामरस' से सना रहता है और वे साधारणतया पीले रंग के परिधान पहनकर गाते हुए 'करताल' के साथ नृत्य करते हैं?

- Ans
- 1. चैती (Chaiti)
  - 2. झूला (Jhoola)
  - 3. खेलिड़ा (Kheliran)
  - 4. झूमर (Jhumar)

Question ID : 65497828250  
Status : Not Answered  
Chosen Option : --

Section : Part C Elementary Mathematics

Q.1 एक निश्चित कार्य को करने के लिए, A, B और C की क्षमताओं का अनुपात 2 : 3 : 5 है। एक साथ कार्य करते हुए, वे उस कार्य को 15 दिनों में पूरा कर सकते हैं। B और C इसी कार्य के 80% हिस्से को कितने दिनों में पूरा करेंगे?

- Ans
- 1. 12 दिन
  - 2. 15 दिन
  - 3. 20 दिन
  - 4. 18 दिन

Question ID : 65497828285  
Status : Not Answered  
Chosen Option : --

Q.2 एक दुकानदार ने कुछ वस्तुएं ₹800 में खरीदीं, जिसमें से 40% को 10% की हानि पर बेच दिया। 12% का लाभ प्राप्त करने के लिए, शेष वस्तुओं पर प्रतिशत लाभ कितना होना चाहिए?

- Ans
- 1.  $26\frac{2}{3}\%$
  - 2.  $26\frac{3}{5}\%$
  - 3.  $26\frac{1}{3}\%$
  - 4. 12%

Question ID : 65497828279  
Status : Not Answered  
Chosen Option : --

Q.3  $\frac{3}{7}$  और  $\frac{18}{5}$  का लघुत्तम समापवर्त्य (LCM) कितना होगा?

- Ans
- 1. 6
  - 2. 7
  - 3. 18
  - 4. 10

Question ID : 65497828274  
Status : Answered  
Chosen Option : 3

Q.4 व्यंजक  $\frac{0.2 + \frac{1}{2} \text{ of } \frac{2}{3} - 1 \times 2 \div 2}{0.2 \times 2 + \frac{1}{2} \text{ of } \frac{2}{3} - 2 \text{ of } \frac{1}{2} \div \frac{1}{4}}$  को सरल करने पर \_\_\_\_\_ परिणाम प्राप्त होगा।

- Ans
- 1.  $\frac{1}{7}$
  - 2.  $-\frac{2}{19}$
  - 3. 1.3
  - 4. -1.3

Question ID : 65497828278  
Status : Not Answered  
Chosen Option : --

Q.5 कोई दुकानदार ₹912 में एक पंखा बेचकर 14% का लाभ प्राप्त करता है और ₹1,012 में एक अन्य पंखा बेचने पर उसे 8% की हानि होती है। उसका समग्र लाभ या हानि प्रतिशत कितना है?

- Ans
- 1.  $1\frac{5}{19}\%$  लाभ
  - 2.  $1\frac{4}{9}\%$  हानि
  - 3.  $1\frac{3}{11}\%$  लाभ
  - 4.  $1\frac{2}{5}\%$  हानि

Question ID : 65497828281  
Status : Not Answered  
Chosen Option : --



**Q.6** एक ठोस बेलन के आधार की त्रिज्या और ऊँचाई का योग 17 cm है। यदि ठोस बेलन का संपूर्ण पृष्ठीय क्षेत्रफल 748 cm<sup>2</sup> है, तो बेलन की ऊँचाई ज्ञात करें।

- Ans**
- 1. 10 cm
  - 2. 15 cm
  - 3. 12 cm
  - 4. 14 cm

Question ID : 65497828268  
Status : Not Answered  
Chosen Option : --

**Q.7** A का मासिक वेतन, B के मासिक वेतन से 20% अधिक है। C का मासिक वेतन, B के मासिक वेतन से ₹25,000 अधिक है। उन सबका कुल मासिक वेतन ₹2,65,000 है। C का वेतन, A के वेतन से कितना प्रतिशत अधिक है?

- Ans**
- 1.  $5\frac{1}{5}\%$
  - 2.  $13\frac{1}{9}\%$
  - 3.  $11\frac{1}{9}\%$
  - 4.  $19\frac{1}{5}\%$

Question ID : 65497828264  
Status : Not Answered  
Chosen Option : --

**Q.8** 50 km/h की चाल से चल रही 345 m लंबी एक रेलगाड़ी X, इसकी विपरीत दिशा में 76 km/h की चाल से चल रही रेलगाड़ी Y को 22 सेकंड में पार करती है। रेलगाड़ी Y, 905 m लंबे पुल को कितने समय में पार कर लेगी?

- Ans**
- 1. 52 सेकंड
  - 2. 54 सेकंड
  - 3. 63 सेकंड
  - 4. 56 सेकंड

Question ID : 65497828286  
Status : Not Answered  
Chosen Option : --

**Q.9**  $6 \times (4 \times 5^2) \div 3 + 7 - 8$  का मान बताइए।

- Ans**
- 1. 200
  - 2. 199
  - 3. 299
  - 4. 189

Question ID : 65497828269  
Status : Not Answered  
Chosen Option : --

**Q.10** 20%, 30% और 5% की तीन क्रमिक छूट देकर किसी वस्तु को ₹452.20 में बेचा जाता है। यदि वस्तु के अंकित मूल्य पर 55% की एकल छूट दी जाती है, तो वस्तु का विक्रय मूल्य (₹ में) ज्ञात कीजिए।

- Ans**
- 1. 382.50
  - 2. 467.50
  - 3. 384.75
  - 4. 425.25

Question ID : **65497828283**  
Status : **Not Answered**  
Chosen Option : --

**Q.11** एक समूह में कुछ व्यक्तियों का औसत वजन 70 kg है। जब 60 kg औसत वजन वाले 15 व्यक्ति इस समूह को छोड़कर चले जाते हैं या 87.5 kg औसत वजन वाले 15 व्यक्ति इस समूह में शामिल होते हैं, तो दोनों ही स्थितियों में समूह में व्यक्तियों का औसत वजन बराबर रहता है। आरंभ में इस समूह में कितने सदस्य थे?

- Ans**
- 1. 65
  - 2. 45
  - 3. 35
  - 4. 55

Question ID : **65497828282**  
Status : **Not Answered**  
Chosen Option : --

**Q.12** विवाह के समय, एक पति और उसकी पत्नी की औसत आयु 25 वर्ष थी। 7 वर्ष बाद, उनका 2 वर्ष का एक बच्चा है। वर्तमान समय में, परिवार की औसत आयु कितनी है?

- Ans**
- 1. 22 वर्ष
  - 2. 29 वर्ष
  - 3. 25 वर्ष
  - 4. 21 वर्ष

Question ID : **65497828275**  
Status : **Answered**  
Chosen Option : 2

**Q.13** गोविंद, रहीम और सुधीर नामक तीन व्यक्ति एक कार्य को क्रमशः 8, 12 और 15 दिनों में पूरा कर सकते हैं। यदि वे एक साथ मिलकर कार्य करते हैं तो कार्य को पूरा करने में लगने वाला समय ज्ञात करें।

- Ans**
- 1. 53/11 दिन
  - 2. 40/11 दिन
  - 3. 4 दिन
  - 4. 6 दिन

Question ID : **65497828280**  
Status : **Answered**  
Chosen Option : 2

Q.14  $(263)^{149} + (263)^{150} + (263)^{151}$  में इकाई का अंक ज्ञात करें।

- Ans
- 1. 3
  - 2. 9
  - 3. 7
  - 4. 1

Question ID : 65497828263  
Status : Answered  
Chosen Option : 2

Q.15 A की आय, B की आय से 80% अधिक है, और C की आय, A और B की कुल आय के 20% से 25% अधिक है। C की आय, A की आय से कितने प्रतिशत कम है? (एक दशमलव स्थान तक पूर्णांकित)

- Ans
- 1. 62.6%
  - 2. 61.1%
  - 3. 82.8%
  - 4. 157.1%

Question ID : 65497828284  
Status : Not Answered  
Chosen Option : --

Q.16 किस राशि के लिए  $x\%$  वार्षिक ब्याज दर पर  $x$  वर्षों का साधारण ब्याज ₹  $x$  होगा?

- Ans
- 1. ₹  $100/x$
  - 2. ₹  $x/100$
  - 3. ₹  $x$
  - 4. ₹  $100x$

Question ID : 65497828277  
Status : Answered  
Chosen Option : 1

Q.17 कोई राशि साधारण ब्याज की  $12\%$  वार्षिक ब्याज दर पर कितने समय में दोगुनी हो जाएगी?

- Ans
- 1. 6 वर्ष 4 महीने
  - 2. 6 वर्ष 2 महीने
  - 3. 8 वर्ष 4 महीने
  - 4. 8 वर्ष 1 महीने

Question ID : 65497828272  
Status : Answered  
Chosen Option : 3

Q.18 यदि 782 को  $\frac{1}{2} : \frac{2}{3} : \frac{3}{4}$  के अनुपात में विभाजित किया जाता है, तो पहला भाग कितना होगा?

- Ans
- 1. 156
  - 2. 204
  - 3. 324
  - 4. 144

Question ID : 65497828276  
Status : Not Answered  
Chosen Option : --

Q.19 2310 लोगों को तीन पार्टियों में इस प्रकार विभाजित करें, कि पहली पार्टी के  $\frac{1}{2}$ , दूसरी पार्टी के  $\frac{1}{3}$ , और तीसरी पार्टी के  $\frac{1}{6}$  भाग में लोगों की संख्या बराबर हो।

- Ans
- 1. 420, 620, 1270
  - 2. 420, 630, 1260
  - 3. 420, 600, 1290
  - 4. 420, 650, 1240

Question ID : 65497828271  
Status : Not Answered  
Chosen Option : --

Q.20 एक वस्तु को ₹5,800 में बेचने पर होने वाला लाभ, उसकी वस्तु को ₹2,200 में बेचने पर होने वाली हानि के बराबर है। लाभ (₹ में) ज्ञात कीजिए।

- Ans
- 1. 2,100
  - 2. 1,800
  - 3. 1,200
  - 4. 1,500

Question ID : 65497828265  
Status : Not Answered  
Chosen Option : --

Q.21 दो धनात्मक संख्याएँ A और B (जहाँ  $A > B$  है), 11 : 8 के अनुपात में हैं। यदि A के 7 गुने और B के 4 गुने का अंतर 225 है, तो  $2A + 3B$  का मान कितना होगा?

- Ans
- 1. 320
  - 2. 330
  - 3. 220
  - 4. 230

Question ID : 65497828267  
Status : Not Answered  
Chosen Option : --

**Q.22** एक त्रिभुजाकार मैदान के तीनों कोनों पर तीन छोड़े बाँधे गए हैं, प्रत्येक को बांधने के लिए 7 m लंबी रस्सी का उपयोग किया गया है, छोड़ों द्वारा चरे गए कुल स्थान का क्षेत्रफल ज्ञात कीजिए।

- Ans**
- 1. 46 m<sup>2</sup>
  - 2. 58 m<sup>2</sup>
  - 3. 70 m<sup>2</sup>
  - 4. 77 m<sup>2</sup>

Question ID : 65497828273  
Status : Not Answered  
Chosen Option : --

**Q.23** 60 km/h की चाल से यात्रा करने पर एक कार को एक निश्चित दूरी तय करने में 4 घंटे लगते हैं। उसी दूरी को 1.5 घंटे में तय करने के लिए इस कार की चाल (km/h में) कितनी होनी चाहिए?

- Ans**
- 1. 180
  - 2. 160
  - 3. 165
  - 4. 150

Question ID : 65497828270  
Status : Not Answered  
Chosen Option : --

**Q.24** 16% की छूट देने के बाद 16% का लाभ अर्जित करने के लिए एक दुकानदार को ₹210 क्रय मूल्य की वस्तु का अंकित मूल्य कितना रखना चाहिए?

- Ans**
- 1. ₹290
  - 2. ₹270
  - 3. ₹210
  - 4. ₹250

Question ID : 65497828262  
Status : Not Answered  
Chosen Option : --

**Q.25** एक निश्चित वार्षिक चक्रवृद्धि ब्याज की दर पर उधार दी गई एक धनराशि पर 3 वर्ष में प्राप्त मिश्रधन, उस राशि से 72.8% अधिक होता है, जबकि ब्याज की गणना वार्षिक चक्रवृद्धि आधार पर की जाती है। ₹18000 की धनराशि पर उसी ब्याज दर पर 1½ वर्ष में प्राप्त चक्रवृद्धि ब्याज (₹ में) ज्ञात कीजिए, जबकि ब्याज की गणना अर्ध-वार्षिक चक्रवृद्धि आधार पर की जाती है।

- Ans**
- 1. 7,654
  - 2. 5,598
  - 3. 5,958
  - 4. 6,897

Question ID : 65497828266  
Status : Not Answered  
Chosen Option : --

Section : **Part D English**

**Q.1** Select the most appropriate meaning of the given idiom.

**To take pains**

- Ans**  1. To wait anxiously  
 2. To be involved in  
 3. To get injured  
 4. To make efforts

Question ID : **65497828288**  
Status : **Not Answered**  
Chosen Option : --

**Q.2** The following sentence has been split into four segments. Identify the segment that contains a grammatical error.

**They would have / won the race / if they would have / run faster.**

- Ans**  1. They would have  
 2. won the race  
 3. run faster  
 4. if they would have

Question ID : **65497828294**  
Status : **Not Answered**  
Chosen Option : --

**Q.3** Select the most appropriate option to fill in the blank.

**After a hectic day, all he wanted was to rest in \_\_\_\_\_.**

- Ans**  1. calm  
 2. turmoil  
 3. quiet  
 4. silence

Question ID : **65497828287**  
Status : **Not Answered**  
Chosen Option : --

**Q.4** Select the most appropriate option to fill in the blank.

**People of the same \_\_\_\_\_ are not allowed to get married in her country.**

- Ans**  1. clum  
 2. clot  
 3. clam  
 4. clan

Question ID : **65497828301**  
Status : **Not Answered**  
Chosen Option : --

**Q.5** Select the most appropriate meaning of the given idiom.

**Child's play**

- Ans**  1. Fair behaviour  
 2. Something that is very easy  
 3. Mischievous behaviour  
 4. Playful attitude

Question ID : **65497828291**  
Status : **Not Answered**  
Chosen Option : --

**Q.6** Select the option that can be used as a one-word substitute for the given group of words.

**A person who helps willingly without being paid for it**

- Ans**  1. Leader  
 2. Volunteer  
 3. Beggar  
 4. Worker

Question ID : **65497828296**  
Status : **Not Answered**  
Chosen Option : --

**Q.7** Select the most appropriate synonym of the given word.

**Estimate**

- Ans**  1. Assess  
 2. Discover  
 3. Solve  
 4. Believe

Question ID : **65497828290**  
Status : **Not Answered**  
Chosen Option : --

**Q.8** Select the most appropriate option that can substitute the underlined segment in the given sentence. If there is no need to substitute it, select 'No substitution required'.

**Neither the chairman nor the directors has present.**

- Ans**  1. No substitution required  
 2. had present  
 3. is present  
 4. are present

Question ID : **65497828300**  
Status : **Not Answered**  
Chosen Option : --

**Q.9** Select the most appropriate option that can substitute the underlined segment in the given sentence. If there is no need to substitute it, select 'No substitution required'.

Srinu had to take a break from his training for the marathon during the lockdown so he decided to go to his hometown.

**Ans**  1. No substitution required

2. took a break in

3. take break for

4. take a break on

Question ID : **65497828292**  
Status : **Not Answered**  
Chosen Option : --

**Q.10** Select the option that can be used as a one-word substitute for the given group of words.

Go back over the same route that one has just taken

**Ans**  1. Reroute

2. Return

3. Detour

4. Retrace

Question ID : **65497828304**  
Status : **Not Answered**  
Chosen Option : --

**Q.11** Select the **INCORRECTLY** spelt word.

**Ans**  1. Boutique

2. Honorarium

3. Aqurarium

4. Bungalow

Question ID : **65497828298**  
Status : **Not Answered**  
Chosen Option : --

**Q.12** Select the **INCORRECTLY** spelt word.

**Ans**  1. Negotiate

2. Reffere

3. Miraculous

4. Satellite

Question ID : **65497828297**  
Status : **Not Answered**  
Chosen Option : --



Q.13 Select the most appropriate synonym of the given word.

Perceive

- Ans  1. Discuss  
 2. Recognise  
 3. Present  
 4. Declare

Question ID : 65497828303  
Status : Not Answered  
Chosen Option : --

Q.14 The following sentence has been divided into parts. One of them may contain an error. Select the part that contains the error from the given options. If you don't find any error, select 'No error' as your answer.

The book must be / old for its cover / is torn bad.

- Ans  1. old for its cover  
 2. is torn bad  
 3. No error  
 4. The book must be

Question ID : 65497828289  
Status : Not Answered  
Chosen Option : --

Q.15 Select the option that will improve the underlined part of the given sentence. In case no improvement is needed, select 'No improvement required'.

The joint family system have undergone drastic changes.

- Ans  1. are undergoing  
 2. No improvement required  
 3. has undergone  
 4. have underwent

Question ID : 65497828306  
Status : Not Answered  
Chosen Option : --

Q.16 Select the most appropriate option to fill in the blank.

He is greatly loved by all for his \_\_\_\_\_ nature.

- Ans  1. confused  
 2. bewildered  
 3. compassionate  
 4. decorative

Question ID : 65497828299  
Status : Not Answered  
Chosen Option : --

Q.17 Select the most appropriate ANTONYM of the given word.

Deceive

- Ans  1. Support  
 2. Betray  
 3. Delude  
 4. Pretend

Question ID : 65497828305  
Status : Not Answered  
Chosen Option : --

Q.18 The following sentence has been split into four segments. Identify the segment that contains a grammatical error.

Each of the students were / present for / the valedictory session / that night.

- Ans  1. Each of the students were  
 2. present for  
 3. the valedictory session  
 4. that night

Question ID : 65497828302  
Status : Not Answered  
Chosen Option : --

Q.19 Select the option that can be used as a one-word substitute for the given group of words.

A short interesting or amusing story

- Ans  1. Anecdote  
 2. Myth  
 3. Epic  
 4. Legend

Question ID : 65497828293  
Status : Not Answered  
Chosen Option : --

Q.20 Select the most appropriate ANTONYM of the given word.

Opaque

- Ans  1. Dense  
 2. Hazy  
 3. Misty  
 4. Clear

Question ID : 65497828295  
Status : Not Answered  
Chosen Option : --

**Comprehension:**

In the following passage, some words have been deleted. Read the passage carefully and select the most appropriate option to fill in each blank.

Dr. Jill Biden is an English professor in a college and she has four degrees, (1) \_\_\_\_\_ a doctorate. She is the wife of (2) \_\_\_\_\_ newly elected U.S. President, Joe Biden. As (3) \_\_\_\_\_ next first lady, the 69-year-old Jill Biden (4) \_\_\_\_\_ to keep her job and continue teaching (5) \_\_\_\_\_ is something that she did as the second lady when her husband was the Vice President.

**SubQuestion No : 21**

**Q.21** Select the most appropriate option to fill in blank no. 1.

- Ans**
- 1. includes
  - 2. including
  - 3. include
  - 4. included

Question ID : **65497828308**  
Status : **Not Answered**  
Chosen Option : --

**Comprehension:**

In the following passage, some words have been deleted. Read the passage carefully and select the most appropriate option to fill in each blank.

Dr. Jill Biden is an English professor in a college and she has four degrees, (1) \_\_\_\_\_ a doctorate. She is the wife of (2) \_\_\_\_\_ newly elected U.S. President, Joe Biden. As (3) \_\_\_\_\_ next first lady, the 69-year-old Jill Biden (4) \_\_\_\_\_ to keep her job and continue teaching (5) \_\_\_\_\_ is something that she did as the second lady when her husband was the Vice President.

**SubQuestion No : 22**

**Q.22** Select the most appropriate option to fill in blank no. 2.

- Ans**
- 1. a
  - 2. an
  - 3. the
  - 4. one

Question ID : **65497828309**  
Status : **Not Answered**  
Chosen Option : --

**Comprehension:**

In the following passage, some words have been deleted. Read the passage carefully and select the most appropriate option to fill in each blank.

Dr. Jill Biden is an English professor in a college and she has four degrees, (1) \_\_\_\_\_ a doctorate. She is the wife of (2) \_\_\_\_\_ newly elected U.S. President, Joe Biden. As (3) \_\_\_\_\_ next first lady, the 69-year-old Jill Biden (4) \_\_\_\_\_ to keep her job and continue teaching (5) \_\_\_\_\_ is something that she did as the second lady when her husband was the Vice President.

**SubQuestion No : 23**

**Q.23** Select the most appropriate option to fill in blank no. 3.

- Ans**  1. America's  
 2. Americas'  
 3. Americas's  
 4. Americas

Question ID : **65497828310**  
Status : **Not Answered**  
Chosen Option : --

**Comprehension:**

In the following passage, some words have been deleted. Read the passage carefully and select the most appropriate option to fill in each blank.

Dr. Jill Biden is an English professor in a college and she has four degrees, (1) \_\_\_\_\_ a doctorate. She is the wife of (2) \_\_\_\_\_ newly elected U.S. President, Joe Biden. As (3) \_\_\_\_\_ next first lady, the 69-year-old Jill Biden (4) \_\_\_\_\_ to keep her job and continue teaching (5) \_\_\_\_\_ is something that she did as the second lady when her husband was the Vice President.

**SubQuestion No : 24**

**Q.24** Select the most appropriate option to fill in blank no. 4.

- Ans**  1. thinks  
 2. aims  
 3. plots  
 4. plans

Question ID : **65497828311**  
Status : **Not Answered**  
Chosen Option : --

**Comprehension:**

In the following passage, some words have been deleted. Read the passage carefully and select the most appropriate option to fill in each blank.

Dr. Jill Biden is an English professor in a college and she has four degrees, (1) \_\_\_\_\_ a doctorate. She is the wife of (2) \_\_\_\_\_ newly elected U.S. President, Joe Biden. As (3) \_\_\_\_\_ next first lady, the 69-year-old Jill Biden (4) \_\_\_\_\_ to keep her job and continue teaching (5) \_\_\_\_\_ is something that she did as the second lady when her husband was the Vice President.

**SubQuestion No : 25**

**Q.25** Select the most appropriate option to fill in blank no. 5.

Ans  1. whom

2. which

3. what

4. who

Question ID : 65497828312  
Status : Not Answered  
Chosen Option : --

Section : **Part D Hindi**

**Q.1** रिक्त स्थान भरने के लिए सबसे उपयुक्त शब्द का चयन करें।

बहुत से देशों ने एशियाई खेल \_\_\_\_\_ में भाग लिया।

Ans  1. निरीक्षण

2. प्रतियोगिता

3. परीक्षण

4. परीक्षा

Question ID : 65497828316  
Status : Answered  
Chosen Option : 2

**Q.2** रिक्त स्थान को भरने के लिए सबसे उपयुक्त शब्द का चयन करें।

\_\_\_\_\_ लोगों की यही धारणा है।

Ans  1. कम

2. अधिकतर

3. अधिक

4. ज्यादा

Question ID : 65497828322  
Status : Answered  
Chosen Option : 2

Q.3 सही वर्तनी वाले शब्द का चयन करें।

- Ans  1. ऐश्वर्यशालि  
 2. ऐश्वर्यशाली  
 3. एश्वर्यशाली  
 4. ऐशवर्यशाली

Question ID : 65497828323  
Status : Not Answered  
Chosen Option : --

Q.4 निम्नलिखित प्रश्न में दिए गए चार विकल्पों में से, उस विकल्प का चयन करें, जो दिए गए मुहावरे के अर्थ को व्यक्त करता है।

खोदा पहाड़ निकली चुहिया

- Ans  1. अटपटा काम करना  
 2. अधिक परिश्रम के बाद साधारण लाभ  
 3. बिना बल कोई काम करना  
 4. दिखावा ही दिखावा करना

Question ID : 65497828321  
Status : Answered  
Chosen Option : 2

Q.5 सही वर्तनी वाले शब्द का चयन करें।

- Ans  1. अनूकरणीय  
 2. अनुकरणीय  
 3. अनुकरणिय  
 4. अनूकरणिय

Question ID : 65497828324  
Status : Answered  
Chosen Option : 1

Q.6 दिये गये वाक्य में रेखांकित अंश को प्रतिस्थापित करने के लिए सबसे उपयुक्त विकल्प का चयन करें।

प्रतीक को हर तीसरे दिन दौरा आता है।

- Ans  1. पड़ता है।  
 2. गिरता है।  
 3. चलता है।  
 4. होता है।

Question ID : 65497828331  
Status : Answered  
Chosen Option : 1

Q.7 दिये गये वाक्य में रेखांकित अंश को प्रतिस्थापित करने के लिए सबसे उपयुक्त विकल्प का चयन करें।

इस घटना की परीक्षा थानेदार कर रहा है।

- Ans
- 1. जाँच
  - 2. निगरानी
  - 3. निरीक्षण
  - 4. देखरेख

Question ID : 65497828330  
Status : Answered  
Chosen Option : 1

Q.8 दिए गए वाक्य में रेखांकित खंड को प्रतिस्थापित करने के लिए सबसे उपयुक्त विकल्प का चयन करें।  
यदि इसे प्रतिस्थापित करने की आवश्यकता नहीं है, तो विकल्प 'किसी बदलाव की आवश्यकता नहीं है'  
का चयन करें।

सचिव ने अध्यक्ष के गले में एक गुलाब के फूलों की माला पहनाई।

- Ans
- 1. किसी बदलाव की आवश्यकता नहीं है।
  - 2. गुलाब के फूलों की एक माला पहनाई।
  - 3. एक गुलाबों के फूलों की माला पहनाई।
  - 4. गुलाब के फूल की माला पहनाई।

Question ID : 65497828313  
Status : Answered  
Chosen Option : 2

Q.9 दिए गए वाक्यांश के लिए एक सार्थक शब्द दीजिए।

जो जानने की इच्छा रखता हो

- Ans
- 1. जिगीषु
  - 2. जिज्ञासा
  - 3. जिगीषा
  - 4. जिज्ञासु

Question ID : 65497828315  
Status : Answered  
Chosen Option : 4

Q.10 'लंगोटी में फाग खेलना' इस मुहावरे का क्या अर्थ है?

- Ans
- 1. पुराने रीति-रिवाजों का अनुसरण करना
  - 2. धनी का निर्धन हो जाना
  - 3. भ्रम से बंदा होना
  - 4. दरिद्रता में आनंद लूटना

Question ID : 65497828314  
Status : Answered  
Chosen Option : 1

Q.11 दिए गए वाक्य का वो भाग ज्ञात करें जिसमें कोई त्रुटि है। यदि कोई त्रुटि नहीं है, तो 'कोई त्रुटि नहीं है' चुनें।

अपने गुणों के कारण (1)\ उसका सब जगह (2)\ आदर-सत्कार होता था (3)\ कोई त्रुटि नहीं है (4)

Ans  1. 2

2. 4

3. 1

4. 3

Question ID : 65497828317

Status : Answered

Chosen Option : 3

Q.12 दिए गए वाक्य का वह भाग ज्ञात करें जिसमें कोई त्रुटि है। यदि कोई त्रुटि नहीं है, तो 'कोई त्रुटि नहीं है' चुनें।

कश्मीर में (1)\ अनेक दर्शनीय स्थल (2)\ देखने योग्य हैं। (3)\ कोई त्रुटि नहीं है (4)

Ans  1. 2

2. 1

3. 3

4. 4

Question ID : 65497828325

Status : Not Answered

Chosen Option : --

Q.13 रिक्त स्थान को भरने के लिए सबसे उपयुक्त शब्द का चयन करें।

तुम्हारे मित्रों को मैं \_\_\_\_\_ जानता हूँ।

Ans  1. अच्छे तरह से

2. अच्छी तरह से

3. अच्छी तरह में

4. खूब

Question ID : 65497828319

Status : Answered

Chosen Option : 2

Q.14 दिये गये वाक्यांश के लिए एक शब्द दीजिये।

जो उपकारों को नहीं मानता है

Ans  1. कृतज्ञ

2. विरोधी

3. प्रतिपक्षी

4. कृतम्र

Question ID : 65497828327

Status : Answered

Chosen Option : 2



Q.15 दिए गए शब्द के समानार्थी शब्द का चयन करें।

ज्ञानी

- Ans
- 1. मनोज्ञ
  - 2. विप्र
  - 3. मर्कट
  - 4. मनीषी

Question ID : 65497828318  
Status : Answered  
Chosen Option : 1

Q.16 दिए गए वाक्य का वह भाग ज्ञात करें जिसमें कोई त्रुटि है। यदि कोई त्रुटि नहीं है, तो 'कोई त्रुटि नहीं है' चुनें।

पुस्तकें ये (1)/ किसकी/(2) हैं? (3)/ कोई त्रुटि नहीं (4)

- Ans
- 1. 1
  - 2. 3
  - 3. 4
  - 4. 2

Question ID : 65497828328  
Status : Not Answered  
Chosen Option : --

Q.17 'मिट्टी का बना हुआ' वाक्यांश के लिए एक शब्द होगा-

- Ans
- 1. प्रस्तर
  - 2. पार्थिव
  - 3. निर्जीव
  - 4. खिलौना

Question ID : 65497828332  
Status : Answered  
Chosen Option : 2

Q.18 दिए गए शब्द के समानार्थी शब्द का चयन करें।

चन्द्र

- Ans
- 1. तोय
  - 2. राकेश
  - 3. निशा
  - 4. वरी

Question ID : 65497828329  
Status : Not Answered  
Chosen Option : --

Q.19 दिए गए शब्द का विलोम चुनें।

लिप्त

- Ans  1. अलिप्त  
 2. विलिप्त  
 3. निर्लिप्त  
 4. विलुप्त

Question ID : 65497828326  
Status : Answered  
Chosen Option : 2

Q.20 दिए गए शब्द का विलोम शब्द चुनें।

कीर्ति

- Ans  1. अपकीर्ति  
 2. कुकीर्ति  
 3. सुकीर्ति  
 4. अकीर्ति

Question ID : 65497828320  
Status : Answered  
Chosen Option : 3

**Comprehension:**

दिए गए अनुच्छेद में कुछ शब्द हटा दिए गए हैं। दिए गए विकल्पों की सहायता से रिक्त स्थान भरें। प्रत्येक संख्या के लिए सबसे उपयुक्त विकल्प का चयन करें।

हम यह कह सकते हैं कि हमारे चारों ओर (1) \_\_\_\_\_, वही (2) \_\_\_\_\_ है। प्रकृति ने हमारे लिए एक (3) \_\_\_\_\_ एवं सुखद आवरण का निर्माण किया था, परन्तु मनुष्य ने (4) \_\_\_\_\_ सुखों के कारण – उसे (5) \_\_\_\_\_ कर दिया।

**SubQuestion No : 21**

Q.21 गद्यांश के रिक्त स्थान (1) के लिए सर्वाधिक उपयुक्त शब्द होगा-

- Ans  1. विद्यमान  
 2. ओझल  
 3. प्रतिदान  
 4. अप्राप्य

Question ID : 65497828334  
Status : Answered  
Chosen Option : 1

**Comprehension:**

दिए गए अनुच्छेद में कुछ शब्द हटा दिए गए हैं। दिए गए विकल्पों की सहायता से रिक्त स्थान भरें। प्रत्येक संख्या के लिए सबसे उपयुक्त विकल्प का चयन करें।

हम यह कह सकते हैं कि हमारे चारों ओर (1)\_\_\_\_, वही (2)\_\_\_\_ है। प्रकृति ने हमारे लिए एक (3)\_\_\_\_ एवं सुखद आवरण का निर्माण किया था, परन्तु मनुष्य ने (4)\_\_\_\_ सुखों के कारण – उसे (5)\_\_\_\_ कर दिया।

**SubQuestion No : 22**

**Q.22** गद्यांश के रिक्त स्थान (2) के लिए सर्वाधिक उपयुक्त शब्द होगा-

- Ans**
- 1. समाज
  - 2. व्यक्ति
  - 3. समिति
  - 4. पर्यावरण

Question ID : **65497828335**  
Status : **Answered**  
Chosen Option : **4**

**Comprehension:**

दिए गए अनुच्छेद में कुछ शब्द हटा दिए गए हैं। दिए गए विकल्पों की सहायता से रिक्त स्थान भरें। प्रत्येक संख्या के लिए सबसे उपयुक्त विकल्प का चयन करें।

हम यह कह सकते हैं कि हमारे चारों ओर (1)\_\_\_\_, वही (2)\_\_\_\_ है। प्रकृति ने हमारे लिए एक (3)\_\_\_\_ एवं सुखद आवरण का निर्माण किया था, परन्तु मनुष्य ने (4)\_\_\_\_ सुखों के कारण – उसे (5)\_\_\_\_ कर दिया।

**SubQuestion No : 23**

**Q.23** गद्यांश के रिक्त स्थान (3) के लिए सर्वाधिक उपयुक्त शब्द होगा-

- Ans**
- 1. निकृष्ट
  - 2. अपरम्पार
  - 3. आश्चर्यजनक
  - 4. स्वस्थ

Question ID : **65497828336**  
Status : **Answered**  
Chosen Option : **4**

**Comprehension:**

दिए गए अनुच्छेद में कुछ शब्द हटा दिए गए हैं। दिए गए विकल्पों की सहायता से रिक्त स्थान भरें। प्रत्येक संख्या के लिए सबसे उपयुक्त विकल्प का चयन करें।

हम यह कह सकते हैं कि हमारे चारों ओर (1)\_\_\_\_, वही (2)\_\_\_\_ है। प्रकृति ने हमारे लिए एक (3)\_\_\_\_ एवं सुखद आवरण का निर्माण किया था, परन्तु मनुष्य ने (4)\_\_\_\_ सुखों के कारण – उसे (5)\_\_\_\_ कर दिया।

**SubQuestion No : 24**

**Q.24** गद्यांश के रिक्त स्थान (4) के लिए सर्वाधिक उपयुक्त शब्द होगा-

- Ans**
- 1. भौतिक
  - 2. आध्यात्मिक
  - 3. राजनीतिक
  - 4. सांस्कृतिक

Question ID : **65497828337**  
Status : **Answered**  
Chosen Option : **4**

**Comprehension:**

दिए गए अनुच्छेद में कुछ शब्द हटा दिए गए हैं। दिए गए विकल्पों की सहायता से रिक्त स्थान भरें। प्रत्येक संख्या के लिए सबसे उपयुक्त विकल्प का चयन करें।

हम यह कह सकते हैं कि हमारे चारों ओर (1)\_\_\_\_\_, वही (2)\_\_\_\_\_ है। प्रकृति ने हमारे लिए एक (3)\_\_\_\_\_ एवं सुखद आवरण का निर्माण किया था, परन्तु मनुष्य ने (4)\_\_\_\_\_ सुखों के कारण – उसे (5)\_\_\_\_\_ कर दिया।

**SubQuestion No : 25**

**Q.25** गद्यांश के रिक्त स्थान (5) के लिए सर्वाधिक उपयुक्त शब्द होगा-

- Ans**  1. अद्भुत  
 2. दूषित  
 3. आकस्मिक  
 4. उज्वल

Question ID : **65497828338**

Status : **Answered**

Chosen Option : **2**

GovtJobsAlert.In