

Constable GD in CAPFs NIA SSF and Rifleman GD in Assam Rifles Examination 2021

Roll Number	www.GovtJobsAlert.In
Candidate Name	www.GovtJobsAlert.In
Venue Name	Jaipur Engineering College
Exam Date	02/12/2021
Exam Time :	4:00 PM - 5:30 PM
Subject	Constable GD 2021

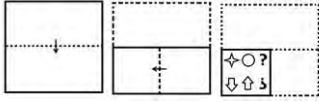
Section : **Part A General Intelligence and Reasoning**

Q.1 चार अक्षर-समूह दिए गए हैं, जिनमें से तीन एक निश्चित प्रकार से समान हैं, जबकि एक उनसे असंगत है। उस असंगत अक्षर-समूह का चयन कीजिए।


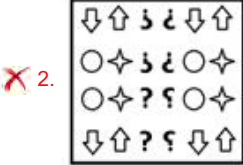

- Ans
- 1. FCHF
 - 2. HEJH
 - 3. PMRN
 - 4. XUZX

Question ID : **65497833313**
Status : **Answered**
Chosen Option : **3**

Q.2 निम्नांकित चित्रों में एक कागज को मोड़ने का क्रम और मुड़े हुए कागज को काटने का तरीका दर्शाया गया है। मुड़े हुए कागज को खोलने पर यह कैसा दिखाई देगा?



Ans



Question ID : 65497833309

Status : Answered

Chosen Option : 1

Q.3 दिए गए विकल्पों में से उस संख्या का चयन करें जो निम्नलिखित श्रृंखला में प्रश्न चिह्न (?) के स्थान पर आ सकती है।

13, 17, 26, 51, ?, 221

Ans

✗ 1. 98

✓ 2. 100

✗ 3. 95

✗ 4. 87

Question ID : 65497833315

Status : Answered

Chosen Option : 4

Q.4 W, X, Y और Z ताश खेल रहे हैं। Y, X के दाईं ओर बैठा है, जो W के दाईं ओर बैठा है। Y के दाईं ओर कौन बैठा है?

- Ans 1. Z
 2. W
 3. Y
 4. X

Question ID : 65497833294
Status : Answered
Chosen Option : 1

Q.5 दिए गए विकल्पों में से उस संख्या का चयन कीजिए जो निम्न श्रृंखला में प्रश्न चिह्न (?) के स्थान पर आ सकती है।

89, 178, 356, 712, ?

- Ans 1. 1068
 2. 1424
 3. 1086
 4. 1429

Question ID : 65497833296
Status : Answered
Chosen Option : 2

Q.6 दिए गए विकल्पों में से उस अक्षर-समूह का चयन कीजिए जो निम्न श्रृंखला में प्रश्नवाचक चिह्न (?) के स्थान पर आ सकता है।

AHO, ELS, IPW, ?

- Ans 1. TMX
 2. MTA
 3. MXT
 4. MTY

Question ID : 65497833301
Status : Answered
Chosen Option : 2

Q.7 यदि दर्पण को निम्नांकित चित्र के अनुसार PQ पर रखा जाए, तो दिए गए संयोजन का दर्पण में निम्नित सही प्रतिबिंब चयनित कीजिए।

CONSUMER
P
Q

- Ans 1. REMU2NOC
 2. CON2NMEK
 3. COM2NNEK
 4. RENU2MOC

Question ID : 65497833316
Status : Answered
Chosen Option : 1

Q.8 दिए गए कथनों और निष्कर्षों को ध्यानपूर्वक पढ़ें। कथनों में दी गई जानकारी सही मानते हुए, भले वह सामान्य ज्ञात तथ्यों से भिन्न प्रतीत होती हो, निर्णय करें कि दिए गए निष्कर्षों में से कौन से निष्कर्ष कथनों का तार्किक रूप से अनुसरण करते हैं।

कथन :

कुछ विद्यार्थी, खिलाड़ी हैं।
सभी खिलाड़ी, पुरुष हैं।

निष्कर्ष :

I. सभी पुरुष, खिलाड़ी हैं।
II. कुछ पुरुष, विद्यार्थी हैं।

- Ans
- 1. केवल निष्कर्ष I अनुसरण करता है।
 - 2. केवल निष्कर्ष II अनुसरण करता है।
 - 3. कोई भी निष्कर्ष अनुसरण नहीं करता है।
 - 4. दोनों निष्कर्ष अनुसरण करते हैं।

Question ID : 65497833306

Status : Answered

Chosen Option : 2

Q.9 एक विशिष्ट कूट भाषा में, 'I am fine' को 'le su kim' के रूप में, 'you are fine' को 'se kim de' के रूप में और 'all are fine' को 'kim ru se' के रूप में लिखा जाता है। इसी कूट भाषा में 'all' को किस रूप में लिखा जाएगा?

- Ans
- 1. de
 - 2. ru
 - 3. su
 - 4. se

Question ID : 65497833305

Status : Answered

Chosen Option : 2

Q.10 पांच दोस्त S, R, K, G और M लकड़ी की एक गोल मेज के परितः, मेज के केंद्र की ओर अभिमुख होकर बैठे हैं। S, R के दाईं ओर बैठा है। G, K के बाईं ओर बैठा है। R, K और S के बीच में बैठा है। M, G के बाईं ओर बैठा है। M और R के बीच में कौन बैठा है?

- Ans
- 1. G
 - 2. R
 - 3. S
 - 4. K

Question ID : 65497833303

Status : Answered

Chosen Option : 3

Q.11 यदि 'M', '+' को निरूपित करता है, 'A', '-' को निरूपित करता है, 'B', '÷' को निरूपित करता है और 'C', '×' को निरूपित करता है, तो निम्न व्यंजक का मान ज्ञात करें।

25B5C5M5A6

Ans ✓ 1. 24

✗ 2. 32

✗ 3. 22

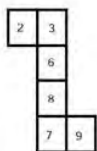
✗ 4. 34

Question ID : 65497833297

Status : Answered

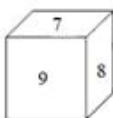
Chosen Option : 1

Q.12 कागज़ की दी गई शीट को मोड़कर निम्न में से कौन सा बॉक्स नहीं बनाया जा सकता है?

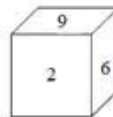


Ans

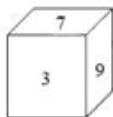
✗ 1.



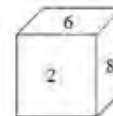
✓ 2.



✗ 3.



✗ 4.

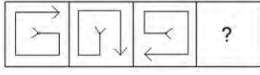


Question ID : 65497833299

Status : Answered

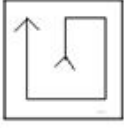
Chosen Option : 2

Q.13 दिए गए विकल्पों में से उस आकृति का चयन करें जो नीचे दी गई श्रृंखला में प्रश्न चिह्न (?) के स्थान पर आ सकती है।

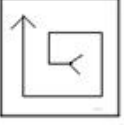


Ans

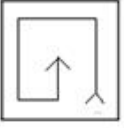
✓ 1.



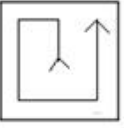
✗ 2.



✗ 3.



✗ 4.



Question ID : 65497833298
Status : Answered
Chosen Option : 1

Q.14 एक व्यक्ति ने एक महिला का परिचय अपने पिता की बहन की बेटी के रूप में दिया। महिला उस व्यक्ति से किस प्रकार संबंधित है?

Ans

✗ 1. बेटी

✓ 2. फुफेरी बहन

✗ 3. भांजी

✗ 4. पोती

Question ID : 65497833312
Status : Answered
Chosen Option : 2

Q.15 तीन व्यक्तियों A, B और C के पास क्रमशः ₹2, ₹5 और ₹10 के सिक्के हैं। प्रत्येक व्यक्ति के पास समान संख्या में सिक्के हैं। उनके पास कुल ₹510 हैं। प्रत्येक व्यक्ति के पास कितने सिक्के हैं?

Ans

✗ 1. 35

✗ 2. 25

✗ 3. 41

✓ 4. 30

Question ID : 65497833308
Status : Answered
Chosen Option : 4

Q.16 दिए गए पैटर्न का ध्यानपूर्वक अध्ययन करें, और उस संख्या का चयन करें जो इसमें प्रश्नवाचक चिह्न (?) के स्थान पर आ सकती है।

9 12 3
12 14 17
? 50 26

Ans 1. 39

2. 48

3. 33

4. 17

Question ID : 65497833307
Status : Answered
Chosen Option : 1

Q.17 उस विकल्प का चयन करें जिसमें दिए गए शब्दों को उस क्रम में व्यवस्थित किया गया है जिस क्रम में वे अंग्रेजी शब्दकोश में आते हैं।

1. Elegy
2. Elegant
3. Eleven
4. Elite

Ans 1. 1, 2, 3, 4

2. 2, 3, 4, 1

3. 2, 1, 3, 4

4. 3, 2, 4, 1

Question ID : 65497833292
Status : Answered
Chosen Option : 3

Q.18 'जूतों' का जो संबंध 'चमड़े' से है, 'शर्ट' का वही संबंध '_____ ' से है।

Ans 1. आदमी

2. कपड़े

3. दर्जी

4. आकार

Question ID : 65497833302
Status : Answered
Chosen Option : 2

Q.19 एक विशिष्ट कूट भाषा में, 'NIHAR' को 'ZUTMD' और 'VIRUS' को 'HUDGE' लिखा जाता है। इस कूट भाषा में 'GERMS' को क्या लिखा जाएगा?

Ans 1. SODWE

2. SPDZE

3. TQDXE

4. SQDYE

Question ID : 65497833311
Status : Not Attempted and
Marked For Review
Chosen Option : --

Q.20 एक निश्चित कूट भाषा में, 'REJECT' को '57' के रूप में कूटबद्ध किया जाता है। उसी कूट भाषा में, 'POISON' को किस रूप में कूटबद्ध किया जाएगा?

- Ans
- 1. 75
 - 2. 58
 - 3. 93
 - 4. 85

Question ID : 65497833314
Status : Answered
Chosen Option : 4

Q.21 उस विकल्प का चयन करें जो तीसरे अक्षर-समूह से उसी प्रकार संबंधित है, जिस प्रकार दूसरा अक्षर-समूह पहले अक्षर-समूह से संबंधित है।

EZU : GCY :: NHB : ?

- Ans
- 1. WQL
 - 2. PKF
 - 3. ROL
 - 4. QMJ

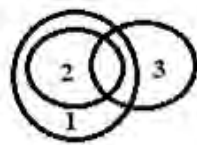


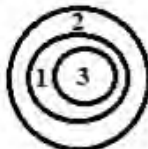
Question ID : 65497833310
Status : Answered
Chosen Option : 2

Q.22 उस वेन आरेख का चयन कीजिए जो निम्न वर्गों के मध्य के संबंध का सर्वश्रेष्ठ निरूपण करता है।

डॉक्टर, प्रोफेसर, कार्डियोलॉजिस्ट

1 = डॉक्टर, 2 = कार्डियोलॉजिस्ट, 3 = प्रोफेसर

Ans

- 1. 
- 2. 
- 3. 
- 4. 

Question ID : 65497833304
Status : Answered
Chosen Option : 2

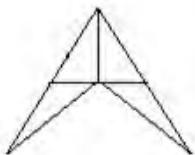
Q.23 दिए गए विकल्पों में से उस संख्या का चयन कीजिए जो निम्न श्रृंखला में प्रश्न चिह्न (?) के स्थान पर आ सकती है।

67, 70, 76, 85, ?

- Ans
- 1. 96
 - 2. 89
 - 3. 97
 - 4. 98

Question ID : 65497833295
Status : Answered
Chosen Option : 3

Q.24 उस विकल्प का चयन करें जिसमें दी गई आकृति अंतर्निहित है।
(चित्र को घुमाने की अनुमति है)



Ans

- 1.
- 2.
- 3.
- 4.

Question ID : 65497833300
Status : Answered
Chosen Option : 2

Q.25 उस अक्षर संयोजन का चयन करें जिसे दी गई श्रृंखला के रिक्त स्थानों में क्रमिक रूप से रखे जाने पर श्रृंखला पूर्ण हो जाएगी।

H_S__PS__P_C

- Ans 1. PCHCHS
 2. PCHHCS
 3. PHCCHS
 4. SCHCHS

Question ID : 65497833293
Status : Answered
Chosen Option : 1

Section : Part B General Knowledge and General Awareness

Q.1 निम्नलिखित में से कौन सी खरीफ की फसल है?

- Ans 1. मटर
 2. कद्दू
 3. मूँगफली
 4. गेहूँ

Question ID : 65497833319
Status : Answered
Chosen Option : 3

Q.2 वायुमंडलीय दाब को मापने के लिए निम्नलिखित में से किस वैज्ञानिक उपकरण का उपयोग किया जाता है?

- Ans 1. ऐमीटर
 2. बैरोमीटर
 3. फोटोमीटर
 4. बोलोमीटर

Question ID : 65497833321
Status : Answered
Chosen Option : 2

Q.3 1932 में महात्मा गांधी और _____ के बीच पूना पैक्ट पर हस्ताक्षर किए गए थे।

- Ans 1. मुहम्मद अली जिन्ना
 2. जवाहर लाल नेहरू
 3. मोतीलाल नेहरू
 4. बी.आर. अम्बेडकर

Question ID : 65497833324
Status : Answered
Chosen Option : 4

Q.4 अपस्मार (मिर्गी) से शरीर का कौन सा अंग प्रभावित होता है?

- Ans 1. मस्तिष्क
 2. यकृत
 3. वृक्क
 4. हृदय

Question ID : 65497833323
Status : Not Answered
Chosen Option : --

Q.5 नर्मदा नदी मध्य प्रदेश में _____ से निकलती है।

- Ans 1. मांडू की पहाड़ियों
 2. अमरकंटक की पहाड़ियों
 3. ओंकारेश्वर की पहाड़ियों
 4. पचमढी की पहाड़ियों

Question ID : 65497833338
Status : Answered
Chosen Option : 2

Q.6 भारतीय रिजर्व बैंक ने रुपए के प्रतीक को निम्नलिखित में से किस वर्ष अपनाया?

- Ans 1. 2008
 2. 2012
 3. 2011
 4. 2010

Question ID : 65497833318
Status : Not Answered
Chosen Option : --

Q.7 हिल पैलेस संग्रहालय _____ में स्थित है।

- Ans 1. कर्नाटक
 2. केरल
 3. जम्मू और कश्मीर
 4. हिमाचल प्रदेश

Question ID : 65497833337
Status : Answered
Chosen Option : 3

Q.8 विश्व शौचालय दिवस 2020 की थीम 'स्थायी स्वच्छता और जलवायु परिवर्तन' थी। यह दिवस किस तारीख को मनाया गया?

- Ans
- 1. 22 नवंबर
 - 2. 14 नवंबर
 - 3. 16 नवंबर
 - 4. 19 नवंबर

Question ID : 65497833328

Status : Not Attempted and Marked For Review

Chosen Option : --

Q.9 विश्व बैंक के वर्गीकरण के अनुसार, जुलाई 2019 तक उच्च-मध्यम आय वाले देशों में प्रति व्यक्ति सकल राष्ट्रीय आय अमेरिकी डॉलर में _____ के बीच है।

- Ans
- 1. \$3,996 - \$12,375
 - 2. \$1,026 - \$3,995
 - 3. \$1,025 - \$3,224
 - 4. \$12,376 - \$15,275

Question ID : 65497833329

Status : Not Answered

Chosen Option : --

Q.10 भारत में पीर बुधान का मेला प्रति वर्ष कहाँ लगता है?

- Ans
- 1. मध्य प्रदेश
 - 2. हरियाणा
 - 3. उत्तर प्रदेश
 - 4. उत्तराखंड

Question ID : 65497833320

Status : Not Answered

Chosen Option : --

Q.11 अगस्त 2020 में निम्नलिखित में से किसने मध्य प्रदेश सरकार द्वारा खेलों में उत्कृष्टता के लिए दिया जाने वाला विक्रम पुरस्कार प्राप्त किया?

- Ans
- 1. शर्मिला देवी
 - 2. वंदना कटारिया
 - 3. निकी प्रधान
 - 4. करिश्मा यादव

Question ID : 65497833340

Status : Answered

Chosen Option : 2

Q.12 भारतीय संविधान के अनुच्छेद 123 के तहत अध्यादेशों की घोषणा करने की शक्ति निम्नलिखित में से किसके पास होती है?

- Ans
- 1. लोक सभा अध्यक्ष
 - 2. भारत के राष्ट्रपति
 - 3. राज्य सभा के सभापति
 - 4. भारत के महान्यायवादी

Question ID : 65497833327
Status : Answered
Chosen Option : 2

Q.13 निम्नलिखित में से कौन सा सबसे पुराना ग्रैंड स्लैम टेनिस टूर्नामेंट है?

- Ans
- 1. ऑस्ट्रेलियन ओपन
 - 2. विंबलडन
 - 3. फ्रेंच ओपन
 - 4. यू.एस. (US) ओपन

Question ID : 65497833335
Status : Answered
Chosen Option : 2

Q.14 निम्नलिखित विकल्पों में से कौन सी सबसे भारी गैस है?

- Ans
- 1. हीलियम
 - 2. ऑक्सीजन
 - 3. नाइट्रोजन
 - 4. रेडॉन

Question ID : 65497833322
Status : Answered
Chosen Option : 3

Q.15 महान बल्लेबाज और कमेंटेटर डीन जोन्स, जिनका निधन 24 सितंबर 2020 को हृदय गति रुक जाने (कार्डियक अरेस्ट) के कारण हुआ था, अपने खेल के दिनों में _____ का प्रतिनिधित्व करते थे।

- Ans
- 1. दक्षिण अफ्रीका
 - 2. ऑस्ट्रेलिया
 - 3. इंग्लैंड
 - 4. न्यूजीलैंड

Question ID : 65497833317
Status : Not Answered
Chosen Option : --

Q.16 नवंबर 2020 में, गूगल द्वारा पोषित शिक्षा शुल्क वित्तीयन कंपनी, फाइनेंसपीयर का ब्रांड एंबेसडर नियुक्त किया गया?

- Ans
- 1. अक्षय कुमार
 - 2. रोहित शर्मा
 - 3. सोनू सूद
 - 4. विराट कोहली

Question ID : 65497833325
Status : Not Answered
Chosen Option : --

Q.17 राज्याधिकार के लिए मुगलों ने किस विरासत का अनुसरण किया?

- Ans
- 1. स्व-अर्जित निर्वसीयत
 - 2. सहदायिक विरासत
 - 3. पैतृक संपत्ति
 - 4. ज्येष्ठाधिकार नियम

Question ID : 65497833330
Status : Not Answered
Chosen Option : --

Q.18 वित्त (संख्या 2) अधिनियम, 2019 के अनुसार, आयकर अधिनियम की धारा _____ के तहत इलेक्ट्रिक वाहनों की खरीद हेतु लिए गए ऋण पर भुगतान किए गए ब्याज के लिए ₹1,50,000 तक की राशि की कटौती का दावा किया जा सकता है।

- Ans
- 1. 80GG
 - 2. 80DD
 - 3. 80DDB
 - 4. 80EEB

Question ID : 65497833341
Status : Not Answered
Chosen Option : --

Q.19 नगर निगम की बैठकों की अध्यक्षता कौन करता है?

- Ans
- 1. अध्यक्ष
 - 2. महापौर
 - 3. निदेशक
 - 4. राज्यपाल

Question ID : 65497833334
Status : Answered
Chosen Option : 2

Q.20 नवंबर 2020 में, निम्नलिखित में से कौन बिहार के मुख्यमंत्री बने।

- Ans
- 1. तेजस्वी यादव
 - 2. चिराग पासवान
 - 3. विजय सिन्हा
 - 4. नीतीश कुमार

Question ID : 65497833326
Status : Answered
Chosen Option : 4

Q.21 निम्नलिखित में से कौन सा 'मृदा निर्माण' का कारक नहीं है?

- Ans
- 1. कार्बनिक सामग्री की भूमिका
 - 2. जलवायु कारक
 - 3. अकार्बनिक सामग्री की भूमिका
 - 4. जनक शैल की प्रकृति

Question ID : 65497833331
Status : Not Answered
Chosen Option : --

Q.22 अलाउद्दीन खिलजी ने अपने सैनिकों के लिए एक नए सैनिक-नगर का निर्माण कराया, जिसका नाम था।

- Ans
- 1. बंगाल
 - 2. सिंध
 - 3. मैसूर
 - 4. सीरी

Question ID : 65497833332
Status : Not Answered
Chosen Option : --

Q.23 'द गोल्डन बोट' नामक पुस्तक किसने लिखी है?

- Ans
- 1. सत्यजित रे
 - 2. मुंशी प्रेमचंद
 - 3. रबिन्द्रनाथ टैगोर
 - 4. आरके नारायण

Question ID : 65497833339
Status : Not Answered
Chosen Option : --

Q.24 सूफ़ी उस्ताद अपनी सभाओं को अपनी खानकाहों में आयोजित करते थे, जिन्हें _____ कहा जाता था।

- Ans
- 1. स्तूप
 - 2. धर्मशालाएं
 - 3. दरगाह
 - 4. धर्मस्थल

Question ID : 65497833333
Status : Answered
Chosen Option : 3

Q.25 अक्टूबर 2020 में, किस देश की डाक सेवा के साथ भारत के डाक विभाग ने सीमा शुल्क डेटा के इलेक्ट्रॉनिक विनिमय के लिए एक समझौता किया है?

- Ans
- 1. यूके
 - 2. ऑस्ट्रेलिया
 - 3. यूएस
 - 4. ब्राजील

Question ID : 65497833336
Status : Not Answered
Chosen Option : --

Section : Part C Elementary Mathematics

Q.1 सीमा इस दर से कार्य करती है कि वह किसी कार्य को 28 h में समाप्त कर सकती है, लेकिन वह इस दर से केवल 7 h तक ही कार्य करती है। इसके बाद, वह इस दर से कार्य करती है कि वह शेष कार्य 16 h में कर सकती है। इस पूरे कार्य को करने में सीमा को कुल कितने घंटे का समय लगा?

- Ans
- 1. 14
 - 2. 21
 - 3. 18
 - 4. 19

Question ID : 65497833355
Status : Not Attempted and Marked For Review
Chosen Option : --

Q.2 स्टॉपेज को छोड़कर, एक बस की चाल 60 km/h है और स्टॉपेज सहित उस बस की चाल 48 km/h है। यह बस प्रत्येक घंटे में कितने मिनट के लिए रुकती है?

- Ans
- 1. 8
 - 2. 10
 - 3. 12
 - 4. 14

Question ID : 65497833356
Status : Answered
Chosen Option : 2

Q.3 X एक कार्य का $\frac{1}{4}$ भाग 3 दिनों में पूरा कर सकता है और Y उसी कार्य का $\frac{1}{6}$ भाग 4 दिनों में पूरा कर सकता है। X और Y मिलकर 6 दिनों तक कार्य करते हैं और Z अकेला शेष कार्य 8 दिनों में पूरा करता है। यदि Y और Z एक साथ कार्य करते हैं, तो वे उसी कार्य को पूरा करने में कितना समय लेंगे?

Ans

1. $9\frac{1}{7}$ दिन

2. 12 दिन

3. $13\frac{5}{7}$ दिन

4. 10 दिन

Question ID : 65497833361

Status : Answered

Chosen Option : 3

Q.4 एक दुकानदार ने ₹6,000 का माल खरीदा। उसने 40% माल को 8% लाभ पर बेचा। पूरे लेनदेन में 25% का लाभ प्राप्त करने के लिए उसे शेष माल को कितने प्रतिशत लाभ पर (एक दशमलव स्थान तक सही) बेचना चाहिए?

Ans

1. 26.7%

2. 32.6%

3. 28.4%

4. 36.3%

Question ID : 65497833362

Status : Answered

Chosen Option : 4

Q.5 एक धावक 14 m त्रिज्या वाले एक वृत्ताकार मैदान के 8 चक्कर लगाने में 2 मिनट 56 सेकंड का समय लेता है। उसकी चाल क्या है?

Ans

1. 6 m/sec

2. 3 m/sec

3. 5 m/sec

4. 4 m/sec

Question ID : 65497833349

Status : Answered

Chosen Option : 4

Q.6 $5 + 5 \text{ of } 5 \div 5 - 13 \div 5 - 2 \text{ of } 3 \div 3$ का मान ज्ञात कीजिए।

- Ans
- 1. $\frac{73}{5}$
 - 2. $\frac{53}{5}$
 - 3. $\frac{27}{5}$
 - 4. $\frac{29}{5}$

Question ID : 65497833359
Status : Answered
Chosen Option : 3

Q.7 ₹ x पर 8.5% वार्षिक दर पर 12 वर्षों में प्राप्त साधारण ब्याज, समान राशि पर समान ब्याज दर से $4\frac{4}{5}$ वर्षों में प्राप्त मिश्रधन से ₹3,298 कम है। x का मान क्या होगा?

- Ans
- 1. 8,500
 - 2. 7,800
 - 3. 8,400
 - 4. 8,000

Question ID : 65497833365
Status : Not Attempted and Marked For Review
Chosen Option : --

Q.8 एक चुनाव में, दो उम्मीदवार चुनाव लड़ रहे हैं। विजेता को 48% वैध वोट मिले। उसके प्रतिद्वंद्वी को 34% वैध वोट मिले और वह 21000 वोटों से चुनाव हार गया। बाकी वोट अवैध थे। वैध वोटों की कुल संख्या ज्ञात करें।

- Ans
- 1. 135000
 - 2. 145000
 - 3. 150000
 - 4. 148000

Question ID : 65497833358
Status : Answered
Chosen Option : 3

Q.9 एक वस्तु को ₹630 में बेचे जाने पर 12.5% की हानि होती है। यदि वस्तु को ₹840 में बेचा जाए तो लाभ या हानि प्रतिशत कितना होगा?

Ans

1. $21\frac{1}{3}\%$ का लाभ
 2. $11\frac{2}{3}\%$ की हानि
 3. $16\frac{2}{3}\%$ का लाभ
 4. $6\frac{1}{3}\%$ की हानि

Question ID : 65497833342
Status : Answered
Chosen Option : 3

Q.10 4 संख्याओं का औसत 60 है और पहली संख्या, शेष तीनों संख्याओं के योगफल की $\frac{1}{3}$ है। पहली संख्या ज्ञात कीजिए।

Ans

1. 60
 2. 40
 3. 30
 4. 120

Question ID : 65497833352
Status : Answered
Chosen Option : 1

Q.11 एक पर्स ₹99 में 10% के लाभ पर बेचा गया। यदि इसे ₹72 में बेचा गया होता, तो लाभ या हानि का प्रतिशत ज्ञात करें।

Ans

1. 20% लाभ
 2. 25% लाभ
 3. 40% हानि
 4. 45% हानि

Question ID : 65497833360
Status : Not Attempted and Marked For Review
Chosen Option : --

Q.12 दो अभाज्य संख्याओं x और y (जहाँ $x > y$ है) का लघुत्तम समापवर्त्य (LCM) 253 है। संख्याओं x और y का अंतर क्या है?

Ans

1. 11
 2. 14
 3. 12
 4. 16

Question ID : 65497833344
Status : Answered
Chosen Option : 3

Q.13 एक निश्चित धनराशि पर साधारण ब्याज की समान वार्षिक दर से 3 वर्ष बाद प्राप्त मिश्रधन ₹9036 है और 7 वर्ष बाद प्राप्त मिश्रधन ₹11484 है। यदि ब्याज की दर दोगुनी हो जाए और ब्याज को वार्षिक आधार पर चक्रवृद्धि किया जाए तो उसी धनराशि पर 2 वर्ष का चक्रवृद्धि ब्याज (₹ में, निकटतम ₹ तक) कितना होगा?

- Ans**
- 1. 2255
 - 2. 2656
 - 3. 2764
 - 4. 3123

Question ID : **65497833343**
Status : **Answered**
Chosen Option : **3**

Q.14 एक विक्रेता अपने ग्राहकों को 15% की छूट देता है और फिर भी 10% लाभ प्राप्त करता है। यदि किसी वस्तु का क्रय मूल्य ₹850 है, तो उसका अंकित मूल्य (₹ में) कितना है?

- Ans**
- 1. 1,200
 - 2. 1,150
 - 3. 1,100
 - 4. 1,250

Question ID : **65497833363**
Status : **Answered**
Chosen Option : **3**

Q.15 यदि 758P09Q5 एक ऐसी संख्या है जो 3 से विभाज्य है, तो P + Q का न्यूनतम मान ज्ञात करें।

- Ans**
- 1. 4
 - 2. 2
 - 3. 5
 - 4. 3

Question ID : **65497833357**
Status : **Answered**
Chosen Option : **2**

Q.16 हेडफोन के एक जोड़े का अंकित मूल्य ₹1,600 है जिसे ₹1,450 में बेचा जाता है। छूट प्रतिशत (दशमलव के दो स्थानों तक सही) ज्ञात कीजिए।

- Ans**
- 1. 7.3%
 - 2. 9.38%
 - 3. 8.38%
 - 4. 9%

Question ID : **65497833353**
Status : **Answered**
Chosen Option : **2**

Q.17 220 m, 231 m और 319 m भुजाओं वाले एक त्रिभुजाकार मैदान का क्षेत्रफल, एक वृत्ताकार मैदान के क्षेत्रफल के 15 गुने के बराबर है। वृत्ताकार मैदान का व्यास (m में) कितना होगा?

- Ans
- 1. $14\sqrt{11}$
 - 2. $7\sqrt{7}$
 - 3. $7\sqrt{11}$
 - 4. $14\sqrt{7}$

Question ID : 65497833366
Status : Answered
Chosen Option : 1

Q.18 ₹14,175 की राशि को A, B और C के बीच $\frac{2}{3} : \frac{2}{5} : \frac{5}{6}$ के अनुपात में बांटा जाता है। A और C के हिस्सों का अंतर (₹ में) ज्ञात कीजिए।

- Ans
- 1. 950
 - 2. 1125
 - 3. 1050
 - 4. 900

Question ID : 65497833364
Status : Answered
Chosen Option : 2

Q.19 विनीता ₹12,000 की धनराशि 9% के साधारण वार्षिक ब्याज की दर से एक निश्चित अवधि के लिए निवेशित करती है जिसपर उसे ₹18,480 का मिश्रधन प्राप्त होता है। उपरोक्त राशि कितने वर्षों के लिए निवेश की गई थी?

- Ans
- 1. 7 वर्ष
 - 2. 6 वर्ष
 - 3. 8 वर्ष
 - 4. 5 वर्ष

Question ID : 65497833348
Status : Answered
Chosen Option : 2

Q.20 दो संख्याओं में से, पहली संख्या दूसरी संख्या की तीन-चौथाई है। यदि दोनों संख्याओं के व्युत्क्रमों का औसत $\frac{7}{48}$ है, तो पहली संख्या क्या है?

- Ans
- 1. 6
 - 2. 8
 - 3. 4
 - 4. 10

Question ID : 65497833346
Status : Answered
Chosen Option : 1

Q.21 एक कॉलेज में ECE, मैकेनिकल और सिविल इंजीनियरिंग के लिए आवंटित सीटों की संख्या 3 : 4 : 5 के अनुपात में हैं। सीटों में क्रमशः 20%, 35% और 44% की वृद्धि प्रस्तावित है। बढ़ी हुई सीटों का अनुपात क्या होगा?

- Ans**
- 1. 4 : 5 : 6
 - 2. 2 : 3 : 4
 - 3. 3 : 5 : 6
 - 4. 2 : 3 : 5

Question ID : **65497833350**
Status : **Answered**
Chosen Option : **2**

Q.22 किसी संख्या को निम्न में से किस संख्या से गुणा करने पर उस संख्या में 75% की वृद्धि हो जाएगी?

- Ans**
- 1. $\frac{3}{4}$
 - 2. $\frac{7}{4}$
 - 3. $\frac{4}{7}$
 - 4. $\frac{4}{3}$

Question ID : **65497833354**
Status : **Answered**
Chosen Option : **2**

Q.23 यदि $(a + b) : (b + c) : (c + a) = 8 : 7 : 5$ और $a + b + c = 60$ है, तो $a : b : c$ क्या होगा?

- Ans**
- 1. 5 : 7 : 8
 - 2. 3 : 5 : 2
 - 3. 5 : 6 : 7
 - 4. 4 : 5 : 6

Question ID : **65497833347**
Status : **Answered**
Chosen Option : **2**

Q.24 एक गोले की त्रिज्या 6 cm है। गोले को पिघला कर 0.4 cm त्रिज्या का एक तार बनाया गया। तार की लंबाई क्या होगी?

- Ans**
- 1. 18 m
 - 2. 15 m
 - 3. 14 m
 - 4. 16 m

Question ID : **65497833351**
Status : **Answered**
Chosen Option : **1**

Q.25 $2\frac{1}{9} \div \left[3\frac{5}{6} - \frac{2}{3} \times \left(6\frac{1}{2} - 2\frac{1}{3} \right) \right]$ का मान क्या होगा?

- Ans
- 1. 9
 - 2. 5
 - 3. 1
 - 4. 2

Question ID : 65497833345
Status : Answered
Chosen Option : 4

Section : Part D English

Q.1 Select the option that can be used as a one-word substitute for the given group of words.

Group of people moving together in a company for security, especially for crossing deserts

- Ans
- 1. Choir
 - 2. Caravan
 - 3. Cabal
 - 4. Cortege

Question ID : 65497833368
Status : Not Answered
Chosen Option : --

Q.2 Select the most appropriate ANTONYM of the given word.

Arouse

- Ans
- 1. Alert
 - 2. Thrill
 - 3. Provoke
 - 4. Cease

Question ID : 65497833377
Status : Not Answered
Chosen Option : --

Q.3 Select the most appropriate option that can substitute the underlined word in the given sentence.

The collection and affection of rainwater is of vital importance.

- Ans
- 1. resolution
 - 2. construction
 - 3. caution
 - 4. utilisation

Question ID : 65497833367
Status : Not Answered
Chosen Option : --

Q.4 The following sentence has been split into four segments. Identify the segment that contains a grammatical error.

Burning of / fossil fuels is / causing pollution / in recent time.

- Ans 1. Burning of
 2. causing pollution
 3. in recent time
 4. fossil fuels is

Question ID : 65497833369
Status : Not Answered
Chosen Option : --

Q.5 Select the most appropriate option to fill in the blank.

Sita was _____ to find out what had happened at the neighbour's place that morning.

- Ans 1. odd
 2. curious
 3. eccentric
 4. peculiar

Question ID : 65497833376
Status : Not Answered
Chosen Option : --

Q.6 The following sentence has been divided into parts. One of them may contain an error. Select the part that contains the error from the given options. If you don't find any error, mark 'No error' as your answer.

Have you saw / my iPad / anywhere?

- Ans 1. my iPad
 2. anywhere
 3. No error
 4. Have you saw

Question ID : 65497833384
Status : Not Answered
Chosen Option : --

Q.7 Select the most appropriate option that can substitute the underlined segment in the given sentence. If there is no need to substitute it, select 'No substitution required'.

Let's go out for dinner tonight, shall we?

- Ans 1. should we
 2. won't we
 3. No substitution required
 4. shan't we

Question ID : 65497833380
Status : Not Answered
Chosen Option : --

Q.8 Select the INCORRECTLY spelt word.

- Ans**
- 1. Specialist
 - 2. Increment
 - 3. Explorashun
 - 4. Ridiculous

Question ID : **65497833374**
Status : **Not Answered**
Chosen Option : --

Q.9 Select the most appropriate meaning of the given idiom.

Worked like a dream

- Ans**
- 1. Worked without a plan
 - 2. A plan succeeded perfectly
 - 3. A plan failed miserably
 - 4. Worked in a lazy mood

Question ID : **65497833379**
Status : **Not Answered**
Chosen Option : --

Q.10 Select the most appropriate meaning of the given idiom.

Mark up

- Ans**
- 1. Put a clear label
 - 2. Accidentally stain
 - 3. Deliberately smear
 - 4. Increase the price

Question ID : **65497833383**
Status : **Not Answered**
Chosen Option : --

Q.11 Select the most appropriate synonym of the given word.

Scour

- Ans**
- 1. Mark
 - 2. Scrub
 - 3. Dirty
 - 4. Spot

Question ID : **65497833370**
Status : **Not Answered**
Chosen Option : --

Q.12 The following sentence has been split into four segments. Identify the segment that contains a grammatical error.

Sidharth made earnest attempts / to change / for better, / but nothing happened.

- Ans** 1. for better
 2. to change
 3. but nothing happened
 4. Sidharth made earnest attempts

Question ID : 65497833371
Status : Not Answered
Chosen Option : --

Q.13 Select the INCORRECTLY spelt word.

- Ans** 1. Incidentally
 2. Commercially
 3. Purify
 4. Possibility

Question ID : 65497833375
Status : Not Answered
Chosen Option : --

Q.14 Select the most appropriate synonym of the given word.

DENSE

- Ans** 1. Thick
 2. Soft
 3. Fast
 4. Low

Question ID : 65497833385
Status : Not Answered
Chosen Option : --

Q.15 Select the option that can be used as a one-word substitute for the given group of words.

A kind of decision on which one cannot go back

- Ans** 1. Alterable
 2. Absolute
 3. Irrevocable
 4. Flexible

Question ID : 65497833373
Status : Not Answered
Chosen Option : --

Q.16 Select the most appropriate option to fill in the blank.

The children requested that they might be _____ to stay up late.

- Ans
- 1. sentenced
 - 2. approved
 - 3. admitted
 - 4. permitted

Question ID : 65497833378
Status : Not Answered
Chosen Option : --

Q.17 Select the most appropriate option to fill in the blank.

Although the population of villages in England was rising at a _____ pace, that of the cities was increasing by leaps.

- Ans
- 1. slow
 - 2. equal
 - 3. fast
 - 4. uniform

Question ID : 65497833382
Status : Not Answered
Chosen Option : --

Q.18 Select the most appropriate ANTONYM of the given word.

Clumsy

- Ans
- 1. Graceful
 - 2. Wilful
 - 3. Stubborn
 - 4. Awkward

Question ID : 65497833372
Status : Not Answered
Chosen Option : --

Q.19 Select the most appropriate option that can substitute the underlined segment in the given sentence. If there is no need to substitute it, select 'No substitution required'.

As the boys missed the bus, they couldn't able to reach the school on time.

- Ans
- 1. was not able to
 - 2. can't able to
 - 3. couldn't
 - 4. No substitution required

Question ID : 65497833381
Status : Not Answered
Chosen Option : --

Q.20 Select the option that can be used as a one-word substitute for the given group of words.

Strong deep dislike

- Ans** 1. Empathy
 2. Telepathy
 3. Sympathy
 4. Antipathy

Question ID : **65497833386**
Status : **Not Answered**
Chosen Option : --

Comprehension:

In the following passage, some words have been deleted. Read the passage carefully and select the most appropriate option to fill in each blank.

One summer, a well in the garden dried up and there was no water for the plants. The rose slowly (1) _____ to wilt. The rose saw a sparrow (2) _____ its beak into the cactus for some water. The rose then felt (3) _____ of itself for having made fun of the cactus all this time. But, (4) _____ it was in need (5) _____ water, it went to ask the cactus if it could have some water. The kind cactus agreed, and they both got through summer as friends.

SubQuestion No : 21

Q.21 Select the most appropriate option to fill in blank number 1.

- Ans** 1. begun
 2. beginning
 3. began
 4. begin

Question ID : **65497833388**
Status : **Not Answered**
Chosen Option : --

Comprehension:

In the following passage, some words have been deleted. Read the passage carefully and select the most appropriate option to fill in each blank.

One summer, a well in the garden dried up and there was no water for the plants. The rose slowly (1) _____ to wilt. The rose saw a sparrow (2) _____ its beak into the cactus for some water. The rose then felt (3) _____ of itself for having made fun of the cactus all this time. But, (4) _____ it was in need (5) _____ water, it went to ask the cactus if it could have some water. The kind cactus agreed, and they both got through summer as friends.

SubQuestion No : 22

Q.22 Select the most appropriate option to fill in blank number 2.

- Ans** 1. dim
 2. dip
 3. din
 4. dish

Question ID : **65497833389**
Status : **Not Answered**
Chosen Option : --

Comprehension:

In the following passage, some words have been deleted. Read the passage carefully and select the most appropriate option to fill in each blank.

One summer, a well in the garden dried up and there was no water for the plants. The rose slowly (1) _____ to wilt. The rose saw a sparrow (2) _____ its beak into the cactus for some water. The rose then felt (3) _____ of itself for having made fun of the cactus all this time. But, (4) _____ it was in need (5) _____ water, it went to ask the cactus if it could have some water. The kind cactus agreed, and they both got through summer as friends.

SubQuestion No : 23

Q.23 Select the most appropriate option to fill in blank number 3.

- Ans 1. embarrass
 2. ashamed
 3. disgraced
 4. humiliate

Question ID : **65497833390**
Status : **Not Answered**
Chosen Option : --

Comprehension:

In the following passage, some words have been deleted. Read the passage carefully and select the most appropriate option to fill in each blank.

One summer, a well in the garden dried up and there was no water for the plants. The rose slowly (1) _____ to wilt. The rose saw a sparrow (2) _____ its beak into the cactus for some water. The rose then felt (3) _____ of itself for having made fun of the cactus all this time. But, (4) _____ it was in need (5) _____ water, it went to ask the cactus if it could have some water. The kind cactus agreed, and they both got through summer as friends.

SubQuestion No : 24

Q.24 Select the most appropriate option to fill in blank number 4.

- Ans 1. although
 2. why
 3. if
 4. because

Question ID : **65497833391**
Status : **Not Answered**
Chosen Option : --

Comprehension:

In the following passage, some words have been deleted. Read the passage carefully and select the most appropriate option to fill in each blank.

One summer, a well in the garden dried up and there was no water for the plants. The rose slowly (1) _____ to wilt. The rose saw a sparrow (2) _____ its beak into the cactus for some water. The rose then felt (3) _____ of itself for having made fun of the cactus all this time. But, (4) _____ it was in need (5) _____ water, it went to ask the cactus if it could have some water. The kind cactus agreed, and they both got through summer as friends.

SubQuestion No : 25

Q.25 Select the most appropriate option to fill in blank number 5.

Ans 1. off

2. of

3. for

4. from

Question ID : 65497833392

Status : Not Answered

Chosen Option : --

Section : **Part D Hindi**

Q.1 दिए गए शब्द का विलोम चुने –

उत्तीर्ण

Ans 1. अनुत्तीर्ण

2. वित्तीर्ण

3. अवत्तीर्ण

4. अनत्तीर्ण

Question ID : 65497833406

Status : Answered

Chosen Option : 1

Q.2 रिक्त स्थान की पूर्ति के लिए सबसे उपयुक्त विकल्प का चयन करें।

रोहन को _____ है कि मोहन इतना काम कर सकेगा।

Ans 1. डर

2. शंका

3. आशंका

4. भय

Question ID : 65497833412

Status : Answered

Chosen Option : 2

Q.3 दिए गए शब्द का विलोम चुनें।

आविर्भाव

- Ans 1. आनिर्भाव
 2. तिरोभाव
 3. प्रादुर्भाव
 4. निर्भाव

Question ID : 65497833397
Status : Answered
Chosen Option : 4

Q.4 दिए गए वाक्य में रेखांकित खंड को प्रतिस्थापित करने के लिए सबसे उपयुक्त विकल्प का चयन करें।
यदि इसे प्रतिस्थापित करने की आवश्यकता नहीं है, तो विकल्प 'किसी बदलाव की आवश्यकता नहीं है'
का चयन करें।

इटली की राजधानी रोम की तरह दिल्ली भी कई बार उजाड़ा और बसाया गया।

- Ans 1. कई बार उजाड़ा और बसायी गयी।
 2. किसी बदलाव की आवश्यकता नहीं है।
 3. कितनी बार उजाड़ा और बसाया गया।
 4. कई बार उजाड़ी और बसायी गयी।

Question ID : 65497833401
Status : Answered
Chosen Option : 4

Q.5 दिए गए वाक्यांश के लिए एक शब्द चुनिए।

जिसे कभी बुढ़ापा न आए

- Ans 1. अमर
 2. अजर
 3. ऊसर
 4. कुलीन

Question ID : 65497833407
Status : Answered
Chosen Option : 2

Q.6 उस विकल्प का चयन कीजिए जिसमें निम्न मुहावरे का सही अर्थ दिया गया है।

चुल्लुओं लह पीना

- Ans 1. जड़ से खत्म करना
 2. दीया बुझाना
 3. बहुत कष्ट देना
 4. मौत की तैयारी करना

Question ID : 65497833398
Status : Answered
Chosen Option : 3

Q.7 उसको प्राण निकल गये - अशुद्ध अंश को स्पष्ट कीजिए-

- Ans 1. उसको
 2. निकल
 3. गये
 4. प्राण

Question ID : 65497833409
Status : Answered
Chosen Option : 1

Q.8 दिए गए वाक्य में रेखांकित खंड को प्रतिस्थापित करने के लिए सबसे उपयुक्त विकल्प का चयन करें।
यदि इसे प्रतिस्थापित करने की आवश्यकता नहीं है, तो विकल्प 'किसी बदलाव की आवश्यकता नहीं है'
का चयन करें।

मित्रता एक ऐसा रिश्ता है जिसकी स्पर्धा किसी अन्य रिश्तेदार से नहीं की जा सकती।

- Ans 1. स्पर्धा किसी अन्य रिश्ते से
 2. किसी बदलाव की आवश्यकता नहीं है।
 3. तुलना किसी अन्य रिश्ते से
 4. तुलना किसी अन्य रिश्तेदार से

Question ID : 65497833402
Status : Answered
Chosen Option : 3

Q.9 दिए गए वाक्य में रेखांकित खंड को प्रतिस्थापित करने के लिए सबसे उपयुक्त विकल्प का चयन करें।
यदि इसे प्रतिस्थापित करने की आवश्यकता नहीं है, तो विकल्प 'किसी बदलाव की आवश्यकता नहीं है'
का चयन करें।

मुझे प्रथम पुरस्कार प्राप्त हुआ।

- Ans 1. पुरुष्कार
 2. पुरुस्कार
 3. पुरस्कार
 4. किसी बदलाव की आवश्यकता नहीं है।

Question ID : 65497833404
Status : Answered
Chosen Option : 2

Q.10 दिए गए वाक्यांश के लिए एक शब्द चुनिए।

जिस पर विश्वास किया जा सके-

- Ans 1. विश्वस्त
 2. विश्वासी
 3. विश्व
 4. विश्वासपात्र

Question ID : 65497833408
Status : Answered
Chosen Option : 4

Q.11 सही वर्तनी वाले शब्द का चयन करें।

- Ans 1. कालिदास
 2. कालीदास
 3. कलिदास
 4. कलीदास

Question ID : 65497833399
Status : Answered
Chosen Option : 3

Q.12 दिए गए शब्द के समानार्थी शब्द का चयन कीजिए।

राजा

- Ans 1. रत्नाकर
 2. मयंक
 3. मुकुंद
 4. महीप

Question ID : 65497833394
Status : Answered
Chosen Option : 2

Q.13 ठंडी हवा अच्छी लगती है? - रेखांकित शब्द का पर्यायवाची लिखिए-

- Ans 1. मातंग
 2. आवास
 3. अनल
 4. अनिल

Question ID : 65497833410
Status : Not Attempted and
Marked For Review
Chosen Option : --

Q.14 रिक्त स्थान की पूर्ति के लिए सबसे उपयुक्त शब्द का चयन करें।

15 अगस्त को एक _____ पर्व के रूप में मनाया जाता है।

- Ans 1. सांस्कृतिक
 2. राष्ट्रीय
 3. राजनीतिक
 4. सामाजिक

Question ID : 65497833403
Status : Answered
Chosen Option : 2

Q.15 दिए गए वाक्य का वह भाग ज्ञात करें जिसमें कोई त्रुटि है। यदि कोई त्रुटि नहीं है, तो 'कोई त्रुटि नहीं' विकल्प को चुनें।

मेला में बहुत सी चीजें बिकती है।

- Ans
- 1. बिकती है।
 - 2. बहुत सी चीजें
 - 3. कोई त्रुटि नहीं
 - 4. मेला में

Question ID : 65497833393
Status : Answered
Chosen Option : 4

Q.16 दिए गये वाक्यांश के लिए एक शब्द है-

वह पुरुष जिसकी पत्नी मर गयी हो -

- Ans
- 1. विदुषक
 - 2. वियोगी
 - 3. विधुर
 - 4. विपत्नीक

Question ID : 65497833396
Status : Answered
Chosen Option : 3

Q.17 दिए गए वाक्य का वह भाग ज्ञात करें जिसमें कोई त्रुटि है। यदि कोई त्रुटि नहीं है, तो 'कोई त्रुटि नहीं है' चुनें।

लाल बहादुर शास्त्री जी के मृत्यु की खबर सुनकर हमें बहुत दुख हुआ।

- Ans
- 1. बहुत दुख हुआ।
 - 2. लाल बहादुर शास्त्री जी के
 - 3. कोई त्रुटि नहीं है
 - 4. मृत्यु की खबर सुनकर हमें

Question ID : 65497833405
Status : Answered
Chosen Option : 2

Q.18 'क्रोध से लाल होने वाला' - अर्थ निम्न में से किस मुहावरे पर लागू होता है?

- Ans
- 1. अंगूठा दिखाना
 - 2. कंचन बरसना
 - 3. आंख खुलना
 - 4. आग बबूला होना

Question ID : 65497833411
Status : Answered
Chosen Option : 4

Q.19 रिक्त स्थान की पूर्ति के लिए सबसे उपयुक्त शब्द का चयन करें।

विद्यार्थियों को _____ का महत्त्व समझना चाहिए।

- Ans 1. शांती
 2. शांति
 3. दुःख
 4. सुख

Question ID : 65497833395
Status : Answered
Chosen Option : 2

Q.20 सही वर्तनी वाले शब्द का चयन करें।

- Ans 1. चतुष्कोन
 2. चतुश्कोण
 3. चतुस्कोण
 4. चतुष्कोण

Question ID : 65497833400
Status : Answered
Chosen Option : 4

Comprehension:

दिए गए गद्यांश में से कुछ शब्द हटा दिए गए हैं। संबंधित प्रश्नों में प्रत्येक संख्या के लिए सबसे उपयुक्त विकल्प का चयन करें-

आत्मविश्वास का अर्थ होता है - (1) _____ पर विश्वास। आत्मविश्वास की उत्पत्ति (2) _____ संकल्प से होती है। हमें (3) _____ पर यकीन रखना चाहिए। सफलता आत्मविश्वासी व्यक्ति के ही (4) _____ चूमती है। आत्मविश्वास ही वह (5) _____ है जो असंभव को संभव कर दिखाती है।

SubQuestion No : 21

Q.21 गद्यांश के रिक्त स्थान (1) के लिए सर्वाधिक उपयुक्त शब्द होगा-

- Ans 1. अपनों
 2. स्वयं
 3. सभी
 4. दूसरों

Question ID : 65497833414
Status : Answered
Chosen Option : 2

Comprehension:

दिए गए गद्यांश में से कुछ शब्द हटा दिए गए हैं। संबंधित प्रश्नों में प्रत्येक संख्या के लिए सबसे उपयुक्त विकल्प का चयन करें-

आत्मविश्वास का अर्थ होता है - (1) _____ पर विश्वास। आत्मविश्वास की उत्पत्ति (2) _____ संकल्प से होती है। हमें (3) _____ पर यकीन रखना चाहिए। सफलता आत्मविश्वासी व्यक्ति के ही (4) _____ चूमती है। आत्मविश्वास ही वह (5) _____ है जो असंभव को संभव कर दिखाती है।

SubQuestion No : 22

Q.22 गद्यांश के रिक्त स्थान (2) के लिए सर्वाधिक उपयुक्त शब्द होगा-

- Ans** 1. लचिले
 2. दृढ़
 3. बड़े
 4. विनम्र

Question ID : **65497833415**
Status : **Answered**
Chosen Option : **2**

Comprehension:

दिए गए गद्यांश में से कुछ शब्द हटा दिए गए हैं। संबंधित प्रश्नों में प्रत्येक संख्या के लिए सबसे उपयुक्त विकल्प का चयन करें-

आत्मविश्वास का अर्थ होता है - (1) _____ पर विश्वास। आत्मविश्वास की उत्पत्ति (2) _____ संकल्प से होती है। हमें (3) _____ पर यकीन रखना चाहिए। सफलता आत्मविश्वासी व्यक्ति के ही (4) _____ चूमती है। आत्मविश्वास ही वह (5) _____ है जो असंभव को संभव कर दिखाती है।

SubQuestion No : 23

Q.23 गद्यांश के रिक्त स्थान (3) के लिए सर्वाधिक उपयुक्त शब्द होगा-

- Ans** 1. खुद
 2. सभी
 3. रिश्तेदारों
 4. सहयोगियों

Question ID : **65497833416**
Status : **Answered**
Chosen Option : **1**

Comprehension:

दिए गए गद्यांश में से कुछ शब्द हटा दिए गए हैं। संबंधित प्रश्नों में प्रत्येक संख्या के लिए सबसे उपयुक्त विकल्प का चयन करें-

आत्मविश्वास का अर्थ होता है - (1) _____ पर विश्वास। आत्मविश्वास की उत्पत्ति (2) _____ संकल्प से होती है। हमें (3) _____ पर यकीन रखना चाहिए। सफलता आत्मविश्वासी व्यक्ति के ही (4) _____ चूमती है। आत्मविश्वास ही वह (5) _____ है जो असंभव को संभव कर दिखाती है।

SubQuestion No : 24

Q.24 गद्यांश के रिक्त स्थान (4) के लिए सर्वाधिक उपयुक्त शब्द होगा-

- Ans** 1. कदम
 2. घुटने
 3. सिर
 4. हाथ

Question ID : **65497833417**
Status : **Answered**
Chosen Option : **1**

Comprehension:

दिए गए गद्यांश में से कुछ शब्द हटा दिए गए हैं। संबंधित प्रश्नों में प्रत्येक संख्या के लिए सबसे उपयुक्त विकल्प का चयन करें-

आत्मविश्वास का अर्थ होता है - (1) _____ पर विश्वास। आत्मविश्वास की उत्पत्ति (2) _____ संकल्प से होती है। हमें (3) _____ पर यकीन रखना चाहिए। सफलता आत्मविश्वासी व्यक्ति के ही (4) _____ चूमती है। आत्मविश्वास ही वह (5) _____ है जो असंभव को संभव कर दिखाती है।

SubQuestion No : 25

Q.25 गद्यांश के रिक्त स्थान (5) के लिए सर्वाधिक उपयुक्त शब्द होगा-

- Ans**
- 1. कर्म
 - 2. पुस्तक
 - 3. शक्ति
 - 4. धर्म

Question ID : **65497833418**

Status : **Answered**

Chosen Option : **3**

GovtJobsAlert.In