

Constable GD in CAPFs NIA SSF and Rifleman GD in Assam Rifles Examination 2021

Roll Number	www.GovtJobsAlert.In
Candidate Name	www.GovtJobsAlert.In
Venue Name	City Craze
Exam Date	01/12/2021
Exam Time :	12:30 PM - 2:00 PM
Subject	Constable GD 2021

Section : Part A General Intelligence and Reasoning

Q.1 उस विकल्प का चयन करें जिसमें संख्याएँ उसी प्रकार संबंधित हैं जिस प्रकार संख्याएँ दिए गए समुच्चय में संबंधित हैं।

(11, 13, 17)



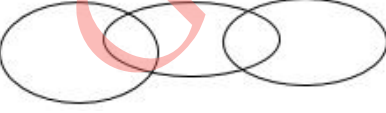
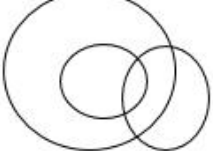
- Ans
- 1. (9, 25, 17)
 - 2. (29, 31, 33)
 - 3. (41, 43, 53)
 - 4. (61, 63, 65)

Question ID : 65497834448
Status : Answered
Chosen Option : 3

Q.2 उस वेन आरेख का चयन करें जो निम्नलिखित वर्गों के मध्य संबंधों का सबसे उचित निरूपण करता है।

शिक्षिका, माता, स्त्री

Ans

1. 
2. 
3. 
4. 

Question ID : 65497834442
Status : Answered
Chosen Option : 4

Q.3 यदि 'P' का अर्थ '+', 'Q' का अर्थ '-', 'R' का अर्थ 'x' और 'S' का अर्थ '÷' है, तो निम्नलिखित व्यंजक का मान कितना होगा?

(14 R 9) S 6 P 40 Q 11

- Ans 1. 48
 2. 50
 3. 60
 4. 55

Question ID : 65497834449
Status : Answered
Chosen Option : 2

Q.4 दिए गए पैटर्न का ध्यानपूर्वक अध्ययन करें और उस अक्षर का चयन करें जो इसमें प्रश्न चिह्न (?) के स्थान पर आ सकता है।

C F I
R O ?
U X A

- Ans 1. L
 2. R
 3. M
 4. U

Question ID : 65497834444
Status : Answered
Chosen Option : 1

Q.5 सात व्यक्ति, गौरव, मनीष, राहुल, अनीश, मीता, प्रिया और प्रीति एक वृत्त में बैठे हैं। गौरव, मनीष और राहुल का पड़ोसी है। अनीश, मीता और राहुल का पड़ोसी नहीं है। प्रीति, मीता और प्रिया की पड़ोसी है और अनीश के बाईं ओर दूसरे स्थान पर बैठी है। राहुल की स्थिति क्या है?

- Ans 1. प्रीति के बाईं ओर बिल्कुल बगल में
 2. मनीष और गौरव के बीच में
 3. प्रिया के दाईं ओर चौथे स्थान पर
 4. अनीश के दाईं ओर दूसरे स्थान पर

Question ID : 65497834447
Status : Answered
Chosen Option : 3

Q.6 दिए गए पैटर्न का ध्यानपूर्वक अध्ययन करें, और उस संख्या का चयन करें जो प्रश्नवाचक चिह्न (?) के स्थान पर आ सकती है।

11 9 7
8 12 14
440 540 ?

- Ans 1. 710
 2. 640
 3. 560
 4. 490

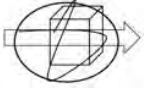
Question ID : 65497834457
Status : Answered
Chosen Option : 4

Q.7 T के N और L नामक दो बेटे हैं। S अपने पिता का इकलौता बेटा है। R और S, T के पौत्र हैं। P, L की पत्नी है। M, S की माँ है। N, R से किस प्रकार संबंधित है?

- Ans
- 1. भतीजा
 - 2. चाचा
 - 3. पिता
 - 4. बेटा

Question ID : 65497834454
Status : Answered
Chosen Option : 2

Q.8 उस विकल्प का चयन करें जो दी गई आकृति में अंतर्निहित है, (घुमाने की अनुमति नहीं है)।



- Ans
- 1.
 - 2.
 - 3.
 - 4.

Question ID : 65497834451
Status : Answered
Chosen Option : 1

Q.9 एक विशिष्ट कूट भाषा में, 'SUPERWASH' को 'UWRGTYCUJ' लिखा जाता है। इस भाषा में 'ANTISEPTIC' को क्या लिखा जाएगा?

- Ans
- 1. CPVKUGRVKE
 - 2. CPVKUGRRVE
 - 3. CPKVUGRVKE
 - 4. CPUKVGRVKE

Question ID : 65497834455
Status : Answered
Chosen Option : 1

Q.10 दिए गए विकल्पों में से उस संख्या का चयन करें जो निम्नलिखित श्रृंखला में प्रश्न चिह्न (?) के स्थान पर आ सकती है।

11, 14, 26, 53, 101, ?

Ans 1. 162

2. 176

3. 168

4. 154

Question ID : 65497834445

Status : Answered

Chosen Option : 2

Q.11 दिए गए कथनों और निष्कर्षों को ध्यानपूर्वक पढ़ें। आपको कथनों में दी गई जानकारी को सही मान कर चलना है, भले ही वो सामान्य ज्ञात तथ्यों से भिन्न प्रतीत होती हो, और फिर निर्णय कीजिए कि दिए गए निष्कर्षों में से कौन सा/से निष्कर्ष कथनों का तार्किक रूप से अनुसरण करता है (करते हैं)।

कथन :

I) सभी कंप्यूटर डेस्कटॉप हैं।

II) कुछ कंप्यूटर लैपटॉप हैं।

निष्कर्ष

: I) कुछ लैपटॉप डेस्कटॉप हैं।

II) सभी डेस्कटॉप लैपटॉप हैं।

Ans 1. न तो निष्कर्ष I और न ही निष्कर्ष II अनुसरण करता है।

2. निष्कर्ष I और II दोनों अनुसरण करते हैं।

3. केवल निष्कर्ष I अनुसरण करता है।

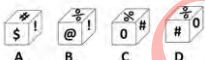
4. केवल निष्कर्ष II अनुसरण करता है।

Question ID : 65497834456

Status : Answered

Chosen Option : 3

Q.12 उस/उन पासे/पासों का चयन करें जिसे/जिन्हें दिए गए पत्रक (sheet) को उस पर बनी रेखाओं पर मोड़ कर बनाया जा सकता है।



Ans 1. A, B, C और D

2. केवल D

3. केवल A और B

4. केवल C और D

Question ID : 65497834450

Status : Answered

Chosen Option : 3

Q.13 छह मित्र एक पंक्ति में बैठे हैं और उत्तर की ओर उन्मुख हैं। H, D और G के बीच बैठा है जबकि B, L और A के बीच बैठा है। A और D अंतिम छोर पर बैठे हैं। G और B के मध्य कौन बैठा है?

- Ans
- 1. A
 - 2. L
 - 3. H
 - 4. D

Question ID : 65497834441
Status : Answered
Chosen Option : 1

Q.14 दिए गए विकल्पों में से उस संख्या का चयन कीजिए जो निम्नलिखित श्रृंखला में प्रश्न चिह्न (?) को प्रतिस्थापित कर सकती है।

20, 22, 27, ?, 55, 78, 109

- Ans
- 1. 38
 - 2. 32
 - 3. 30
 - 4. 49

Question ID : 65497834437
Status : Answered
Chosen Option : 1

Q.15 एक कागज को विशेष तरीके से मोड़ा जाता है और उसमें कई सारे छेद बनाए जाते हैं। जब कागज को खोला जाता है, तो वह प्रश्न आकृति की तरह दिखता है। दिए गए विकल्पों में से, उस विकल्प का चयन करें जो यह दर्शाता है कि कागज को किस तरह मोड़ा गया और उसमें छेद बनाए गए।

प्रश्न आकृति



Ans

- 1.
- 2.
- 3.
- 4.

Question ID : 65497834459
Status : Answered
Chosen Option : 3

Q.16 दिए गए विकल्पों में से उस अक्षर-समूह का चयन कीजिए जो दी गई श्रृंखला में प्रश्न चिह्न (?) के स्थान पर प्रतिस्थापित हो सकता है।

ADF, BEG, CFH, ?

- Ans
- 1. FDI
 - 2. DIF
 - 3. DFT
 - 4. DGI

Question ID : 65497834439
Status : Answered
Chosen Option : 4

Q.17 उस विकल्प का चयन करें जो तीसरे पद से उसी प्रकार संबंधित है, जिस प्रकार दूसरा पद पहले पद से संबंधित है।

GARDEN : EBPECO :: FLOWER : ?

- Ans
- 1. EMPVDS
 - 2. DMMXCS
 - 3. CJQYGT
 - 4. SFXPKE

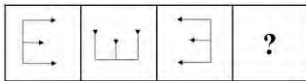
Question ID : 65497834452
Status : Answered
Chosen Option : 2

Q.18 'ऊपर' ठीक उसी तरह 'नीचे' से संबंधित है जिस तरह 'ठंडा', '_____' से संबंधित है।

- Ans
- 1. कॉफ़ी
 - 2. सर्दी
 - 3. गर्म
 - 4. शीत

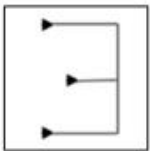
Question ID : 65497834440
Status : Answered
Chosen Option : 3

Q.19 दिए गए विकल्पों में से उस आकृति का चयन करें जो नीचे दी गई श्रृंखला में प्रश्न चिह्न (?) के स्थान पर आ सकती है।

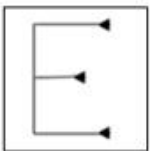


Ans

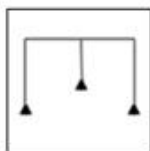
1.



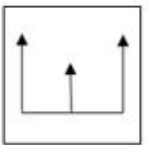
2.



3.



4.



Question ID : 65497834446

Status : Answered

Chosen Option : 3

Q.20 एक निश्चित कूट भाषा में, 'FRUSTRATION' को '11' और 'TOPICAL' को '7' के रूप में कूटबद्ध किया गया है। उसी भाषा में 'RESURGENCE' को किस रूप में कूटबद्ध किया जाएगा?

Ans 1. 12

2. 9

3. 11

4. 10

Question ID : 65497834436

Status : Answered

Chosen Option : 4

Q.21 एक विशिष्ट कूट भाषा में, 'MASTER' को 'NBTUFS' लिखा जाता है। इस भाषा में 'ENOUGH' को क्या लिखा जाएगा?

Ans 1. FOPVHI

2. OPHIFV

3. VHIPOF

4. VOHPFI

Question ID : 65497834453

Status : Answered

Chosen Option : 1

Q.22 एक कक्षा में, यदि 3 विद्यार्थी अनुपस्थित हों तो शेष विद्यार्थियों को समान रूप से 7 समूहों में विभाजित किया जा सकता है, और यदि 7 विद्यार्थी अनुपस्थित हों तो शेष विद्यार्थियों को समान रूप से 9 समूहों में विभाजित किया जा सकता है। कक्षा में कुल कितने विद्यार्थी हैं?

Ans 1. 115

2. 87

3. 140

4. 101

Question ID : 65497834458

Status : Answered

Chosen Option : 1

Q.23 चार अक्षर समूह दिए गए हैं, जिनमें से तीन किसी तरह से समान हैं और एक असंगत है। उस असंगत अक्षर समूह का चयन कीजिए।

Ans 1. AEIMQ

2. KOSWA

3. EIMQU

4. NRUZE

Question ID : 65497834435

Status : Answered

Chosen Option : 4

Q.24 यदि दर्पण को दी गई आकृति के दाईं ओर रखा जाए, तो आकृति का दर्पण में निर्मित सही प्रतिबिंब चयन करें।



Ans

1.



2.



3.



4.



Question ID : 65497834438

Status : Answered

Chosen Option : 4

Q.25 वह सही विकल्प चुनें, जो दिए गए शब्दों के उस सही क्रम को दर्शाता है, जिस क्रम में ये शब्द अंग्रेजी शब्दकोश में दिखाई देते हैं।

- i. Facet
- ii. Facility
- iii. Facile
- iv. Fact
- v. Faculty

- Ans
- 1. i, iii, ii, iv, v
 - 2. iii, ii, v, i, iv
 - 3. v, iv, iii, ii, i
 - 4. i, ii, iii, iv, v

Question ID : 65497834443
Status : Answered
Chosen Option : 1

Section : Part B General Knowledge and General Awareness

Q.1 उत्तराखंड का स्थापना दिवस कब मनाया जाता है?

- Ans
- 1. 30 सितंबर
 - 2. 20 अक्टूबर
 - 3. 9 नवंबर
 - 4. 15 अगस्त

Question ID : 65497834471
Status : Answered
Chosen Option : 3

Q.2 निम्नलिखित में से किस यौगिक को 'नॉर्वेजियन सॉल्टपीटर' भी कहा जाता है?

- Ans
- 1. पोटैशियम नाइट्रेट
 - 2. नाइट्रस ऑक्साइड
 - 3. कैल्शियम नाइट्रेट
 - 4. सोडियम नाइट्रेट

Question ID : 65497834469
Status : Answered
Chosen Option : 4

Q.3 निम्न में से कौन-सी हिमाचल प्रदेश की एक मार्शल नृत्य शैली है, जो तलवारों के साथ की जाती है?

- Ans
- 1. छनक छम
 - 2. पारस
 - 3. नामगेन
 - 4. खरैती

Question ID : 65497834472
Status : Not Answered
Chosen Option : --

Q.4 2018 पुरुष हॉकी विश्व कप की मेजबानी _____ ने की थी।

- Ans
- 1. मलेशिया
 - 2. ऑस्ट्रेलिया
 - 3. भारत
 - 4. स्पेन

Question ID : 65497834465
Status : Answered
Chosen Option : 3

Q.5 सामान्यतः, गर्म महासागरीय धाराएं, _____ के निकट उत्पन्न होती हैं और ध्रुवों की ओर गतिमान होती हैं।

- Ans
- 1. कर्क रेखा
 - 2. अंटार्कटिक वृत्त
 - 3. भूमध्य रेखा
 - 4. आर्कटिक वृत्त

Question ID : 65497834481
Status : Answered
Chosen Option : 3

Q.6 भारत के कितने राज्यों की सीमा, सिक्किम से जुड़ी हुई है?

- Ans
- 1. एक
 - 2. दो
 - 3. चार
 - 4. तीन

Question ID : 65497834461
Status : Answered
Chosen Option : 4

Q.7 धारा 19 के तहत गारंटीकृत सभी मौलिक अधिकार भारत के संविधान के किस अनुच्छेद के तहत स्वचालित रूप से निलंबित हो जाते हैं?

- Ans
- 1. अनुच्छेद 354
 - 2. अनुच्छेद 351
 - 3. अनुच्छेद 352
 - 4. अनुच्छेद 353

Question ID : 65497834479
Status : Answered
Chosen Option : 3

Q.8 'इंडिया एम्पायर एंड फर्स्ट वर्ल्ड वॉर कल्चर: राइटिंग, इमेजिस एंड सोन्स' के लिए किसे 'नॉन फिक्शन श्रेणी' में 'हिंदू पुरस्कार 2019' दिया गया?

- Ans
- 1. मीना कंदासामी
 - 2. दीपक उन्नीकृष्णन
 - 3. मनोरंजन ब्यापारी
 - 4. शांतनु दास

Question ID : 65497834475
Status : Not Answered
Chosen Option : --

Q.9 अमूल _____ से, दूध और दूध के उत्पादों में सहकारी समितियों की सफलता की कहानी है, जो देश में श्वेत क्रांति लाया।

- Ans
- 1. गुजरात
 - 2. कर्नाटक
 - 3. दिल्ली
 - 4. उत्तर प्रदेश

Question ID : 65497834483
Status : Answered
Chosen Option : 1

Q.10 ध्वनि, जोकि एक यांत्रिक तरंग है, निम्नलिखित में से किस माध्यम में यात्रा नहीं कर सकती है?

- Ans
- 1. इस्पात
 - 2. हवा
 - 3. जल
 - 4. निर्वात

Question ID : 65497834473
Status : Answered
Chosen Option : 4

Q.11 छत्तीसगढ़ का स्थापना दिवस कब मनाया जाता है?

- Ans
- 1. 15 जून
 - 2. 23 अक्टूबर
 - 3. 1 नवंबर
 - 4. 30 मई

Question ID : 65497834467
Status : Answered
Chosen Option : 4

Q.12 2018 में गोल्ड कोस्ट में आयोजित किए गए आखिरी राष्ट्रमंडल खेलों के लिए आधिकारिक शुभंकर (मेस्कॉट) निम्न था:

- Ans 1. बोरोबी, एक नीला सर्पिंग कोआला
 2. गोल्डी, एक कीवी पक्षी
 3. क्लाइड, एक थिसल
 4. करक, एक लाल पूछ वाला काला कॉकटू

Question ID : 65497834482
Status : Not Answered
Chosen Option : --

Q.13 व्यापार सुगमता सूचकांक (Ease of Doing Business Index) 2020 में भारत का कौन-सा स्थान था?

- Ans 1. 67
 2. 63
 3. 71
 4. 54

Question ID : 65497834464
Status : Answered
Chosen Option : 2

Q.14 नवंबर 2020 तक की स्थिति के अनुसार, भारतीय खेल प्राधिकरण (SAI) के महानिदेशक निम्नलिखित में से कौन थे?

- Ans 1. संदीप प्रधान
 2. रोहित भारद्वाज
 3. मातादीन अस्मिवाल
 4. अंजन कुमार मिश्रा

Question ID : 65497834463
Status : Answered
Chosen Option : 1

Q.15 निम्नलिखित में से कौन सी श्रीलंका की पहली आधिकारिक भाषा है?

- Ans 1. सिंहली
 2. अंग्रेज़ी
 3. तमिल
 4. मलयालम

Question ID : 65497834477
Status : Answered
Chosen Option : 1

Q.16 नवंबर 2020 में, निम्नलिखित में से किसने वीडियो कॉन्फ्रेंस के माध्यम से विश्व स्वास्थ्य संगठन (WHO) कार्यकारी बोर्ड के 147वें सत्र की अध्यक्षता की थी?

- Ans 1. डॉ. हर्षवर्धन
 2. नरेंद्र मोदी
 3. अजय कुमार
 4. अमित शाह

Question ID : 65497834468
Status : Answered
Chosen Option : 1

Q.17 लैक्टोमीटर, हाइड्रोमीटर, जहाजों और पनडुब्बियों को _____ के आधार पर डिजाइन किया गया है।

- Ans 1. आर्किमिडीज के सिद्धांत
 2. गुरुत्वाकर्षण के सिद्धांत
 3. उत्प्लावन के सिद्धांत
 4. सापेक्षिक घनत्व के सिद्धांत

Question ID : 65497834474
Status : Answered
Chosen Option : 1

Q.18 निम्नलिखित में से किसे प्रकृति संरक्षण के लिए अंतर्राष्ट्रीय संघ (IUCN) द्वारा तेज़ी से लुप्तप्राय प्रजातियों में से एक घोषित किया गया है?

- Ans 1. जायंट अफ्रीकन स्नेल
 2. चैनल एप्पल स्नेल
 3. चाइनीज़ मिस्ट्री स्नेल
 4. गार्डन स्नेल

Question ID : 65497834480
Status : Not Answered
Chosen Option : --

Q.19 दारा शिकोह अंततः उत्तराधिकार के युद्ध, सामूगढ़ की लड़ाई में _____ से हार गया।

- Ans 1. औरंगज़ेब
 2. मुहम्मद आज़म
 3. शेर शाह
 4. बैरम खाँ

Question ID : 65497834470
Status : Answered
Chosen Option : 1

Q.20 लाला लाजपत राय _____ के एक सक्रिय सदस्य थे।

- Ans
- 1. जैन धर्म
 - 2. बुद्ध धर्म
 - 3. आर्य समाज
 - 4. वैष्णव धर्म

Question ID : 65497834484
Status : Answered
Chosen Option : 3

Q.21 2019 में भारत में शिशु मृत्यु दर कितनी थी?

- Ans
- 1. 33.1
 - 2. 28.3
 - 3. 32.0
 - 4. 29.7

Question ID : 65497834476
Status : Not Answered
Chosen Option : --

Q.22 प्लासी नाम का एक छोटा सा गाँव जिसे 'प्लासी के युद्ध' के लिए जाना जाता है, जो ईस्ट इंडिया कंपनी और नवाब सिराज-उद-दौला के बीच लड़ा गया था, किस नदी के किनारे स्थित है?

- Ans
- 1. पद्मा
 - 2. हुगली
 - 3. भागीरथी
 - 4. बराकर

Question ID : 65497834478
Status : Answered
Chosen Option : 3

Q.23 हरियाणा में हर वर्ष 'सूरजकुंड शिल्प मेला' किस महीने में आयोजित किया जाता है?

- Ans
- 1. अप्रैल
 - 2. फरवरी
 - 3. अगस्त
 - 4. मार्च

Question ID : 65497834460
Status : Not Answered
Chosen Option : --

Q.24 निम्नलिखित में से किसने 1 सितंबर, 2020 को भारत के एक चुनाव आयुक्त के रूप में पदभार ग्रहण किया?

- Ans
- 1. आई.वी. सुब्बा राव
 - 2. सामंत गोयल
 - 3. राजीव कुमार
 - 4. के.एन. व्यास

Question ID : 65497834462
Status : Answered
Chosen Option : 3

Q.25 मधु के लिए मधु-मक्खियों और छत्तों का पालन और रखरखाव _____ कहलाता है।

- Ans
- 1. फ्लोरीकल्चर (floriculture)
 - 2. एपीकल्चर (apiculture)
 - 3. सेरीकल्चर (sericulture)
 - 4. पिस्सीकल्चर (pisciculture)

Question ID : 65497834466
Status : Answered
Chosen Option : 4

Section : Part C Elementary Mathematics

Q.1 एक वस्तु का अंकित मूल्य ₹850 है। यदि एक दुकानदार ने वस्तु पर 30% की छूट देने के बाद इसे 15% की हानि पर बेचा, तो वस्तु का क्रय मूल्य ज्ञात कीजिए।

- Ans
- 1. ₹700
 - 2. ₹650
 - 3. ₹680
 - 4. ₹600

Question ID : 65497834491
Status : Answered
Chosen Option : 1

Q.2 किसी वस्तु को एक तय मूल्य पर बेचा गया। इसे उस मूल्य के चार-पांचवें हिस्से पर बेचने पर 16% की हानि होती है। मूल (आरंभिक) मूल्य पर अर्जित प्रतिशत लाभ ज्ञात कीजिए।

- Ans
- 1. 7%
 - 2. 4%
 - 3. 8%
 - 4. 5%

Question ID : 65497834509
Status : Answered
Chosen Option : 1

Q.3 A, B और C अकेले-अकेले एक कार्य को क्रमशः 12, 10 और 15 दिनों में पूरा कर सकते हैं। तीनों एक साथ मिलकर काम शुरू करते हैं और 3 दिनों के बाद B और C काम छोड़ देते हैं। शेष कार्य अकेले A द्वारा कितने दिनों में पूरा किया जाएगा?

- Ans**
- 1. 5 दिन
 - 2. 3 दिन
 - 3. 4 दिन
 - 4. 6 दिन

Question ID : 65497834505
Status : Answered
Chosen Option : 2

Q.4 एक सत्र की शुरुआत में, किसी स्कूल में कक्षा 6, 7 और 8 के छात्रों की संख्या क्रमशः 120, 150 और 130 थी। बाद में 10 छात्रों को कक्षा 6 और 7 में प्रवेश दिया गया और 10 छात्रों को कक्षा 8 से स्थानांतरित कर दिया गया। यह मानते हुए कि उसके बाद कक्षा में कोई प्रवेश या निष्कासन/स्थानांतरण नहीं हुआ, सत्र की शुरुआत में और अंत में छात्रों की संख्या का अनुपात ज्ञात करें।

- Ans**
- 1. 13 : 42
 - 2. 20 : 21
 - 3. 40 : 41
 - 4. 3 : 5

Question ID : 65497834499
Status : Answered
Chosen Option : 3

Q.5 एक मशीन का प्रति वर्ष 10% मूल्यहास होता है। मशीन की वर्तमान कीमत ₹2,50,000 है। 2 वर्ष बाद मशीन का मूल्य कितना होगा?

- Ans**
- 1. ₹2,02,500
 - 2. ₹2,05,000
 - 3. ₹1,98,000
 - 4. ₹2,10,000

Question ID : 65497834500
Status : Answered
Chosen Option : 1

Q.6 एक आयताकार खेत की लंबाई और चौड़ाई का अनुपात 4 : 3 है। यदि ₹2 प्रति m^2 पर खेत की जुताई की लागत ₹600 है, तो खेत की लंबाई ज्ञात करें।

- Ans**
- 1. 20 m
 - 2. 18 m
 - 3. 15 m
 - 4. 14 m

Question ID : 65497834489
Status : Answered
Chosen Option : 1

Q.7 एक दुकानदार ने ₹24 में 10 पेंसिल के मूल्य पर 100 पेंसिलें बेचीं। 20% का लाभ अर्जित करने के लिए, एक पेंसिल का क्रय मूल्य ज्ञात करें।

- Ans**
- 1. ₹1.80
 - 2. ₹2.20
 - 3. ₹2.00
 - 4. ₹2.10

Question ID : **65497834502**
Status : **Answered**
Chosen Option : **3**

Q.8 एक दुकान (स्टोर) 30% और 25% की दो क्रमिक छूट की घोषणा करता है। ₹1,200 क्रय मूल्य वाली शर्ट का अंतिम विक्रय मूल्य (₹ में) कितना है?

- Ans**
- 1. 780
 - 2. 600
 - 3. 630
 - 4. 720

Question ID : **65497834485**
Status : **Answered**
Chosen Option : **3**

Q.9 एक निश्चित धनराशि चक्रवृद्धि ब्याज की एक निश्चित वार्षिक दर पर 2 वर्षों में दोगुनी हो जाती है। उसी चक्रवृद्धि ब्याज दर पर यह कितने वर्षों में 4 गुनी हो जाएगी?

- Ans**
- 1. 6
 - 2. 5
 - 3. 4
 - 4. 3

Question ID : **65497834504**
Status : **Answered**
Chosen Option : **3**

Q.10 छः धनात्मक संख्याओं का औसत 12.5 है। यदि पहली संख्या, अंतिम पांच संख्याओं के योगफल का दो-तिहाई है, तो अंतिम पांच संख्याओं का औसत ज्ञात कीजिए।

- Ans**
- 1. 15
 - 2. 12
 - 3. 9
 - 4. 8

Question ID : **65497834490**
Status : **Answered**
Chosen Option : **3**

Q.11 5 पुरुष 3 महिलाएं 4 दिन में ₹8,400 कमा सकते हैं। 9 पुरुष और 7 महिलाएं 7 दिन में ₹28,700 कमा सकते हैं। 8 पुरुष और 5 महिलाएं ₹30,600 कितने दिन में कमाएंगे?

- Ans**
- 1. 8 दिन
 - 2. 12 दिन
 - 3. 13 दिन
 - 4. 9 दिन

Question ID : **65497834493**
Status : **Answered**
Chosen Option : **4**

Q.12 एक निश्चित धनराशि 8.5% की वार्षिक साधारण ब्याज दर पर $4\frac{1}{2}$ वर्षों में ₹8,571.50 हो जाती है। उसी धनराशि का $10\frac{1}{2}$ % के वार्षिक ब्याज दर पर $6\frac{2}{3}$ वर्षों में साधारण ब्याज ₹x होगा। x का मान कितना है?

- Ans**
- 1. 4,340
 - 2. 3,980
 - 3. 4,130
 - 4. 4,520

Question ID : **65497834487**
Status : **Answered**
Chosen Option : **3**

Q.13 दो संख्याओं का अनुपात 3 : 5 है और उनका महत्तम समापवर्तक (HCF) 6 है। उनका लघुत्तम समापवर्तक (LCM) ज्ञात कीजिए।

- Ans**
- 1. 80
 - 2. 60
 - 3. 30
 - 4. 90

Question ID : **65497834507**
Status : **Answered**
Chosen Option : **4**

Q.14 $[12 \div (2 \times 3)] \div [24 \div (8 - 5)]$ का मान कितना है?

Ans

✓ 1. $\frac{1}{4}$

✗ 2. $\frac{7}{8}$

✗ 3. $\frac{3}{6}$

✗ 4. $\frac{2}{3}$

Question ID : 65497834495

Status : Answered

Chosen Option : 1

Q.15 सेल्वारज ने एक फ्लैट खरीदने के लिए ₹38,00,000 की बन-टाइम पेमेंट की। फ्लैट की चाबी मिलने से पहले, उसे पूर्ण भुगतान करने के लिए 5% भुगतान करना था। भुगतान की जाने वाली अतिरिक्त राशि क्या थी?

Ans

✗ 1. ₹2,50,000

✗ 2. ₹3,00,000

✓ 3. ₹2,00,000

✗ 4. ₹2,40,000

Question ID : 65497834492

Status : Not Answered

Chosen Option : --

Q.16 एक व्यक्ति 12 h में एक यात्रा पूरी करता है। वह इस यात्रा का पहला आधा भाग 21 km/h की चाल से तय करता है और दूसरा आधा भाग 24 km/h की चाल से तय करता है। यात्रा की कुल दूरी (km में) ज्ञात कीजिए।

Ans

✗ 1. 264

✗ 2. 168.8

✗ 3. 260

✓ 4. 268.8

Question ID : 65497834496

Status : Answered

Chosen Option : 2

Q.17 यदि Y का X% 100 है और Z का Y% 400 है, तो X और Z के बीच का अनुपात ज्ञात कीजिए।

- Ans
- 1. 2 : 3
 - 2. 1 : 3
 - 3. 4 : 1
 - 4. 1 : 4

Question ID : 65497834508
Status : Answered
Chosen Option : 4

Q.18 एक निर्माता एक थोक व्यापारी को एक वस्तु बेचता है और 10% का लाभ कमाता है। थोक व्यापारी उसी वस्तु को खुदरा विक्रेता को 12% के लाभ पर बेचता है। खुदरा विक्रेता वह वस्तु, ग्राहक को 15% के लाभ पर बेचता है। यदि ग्राहक ने वस्तु के लिए ₹21,252 का भुगतान किया है, तो निर्माता के लिए वस्तु का क्रय मूल्य (₹ में) क्या था?

- Ans
- 1. 15,000
 - 2. 18,000
 - 3. 17,500
 - 4. 12,500

Question ID : 65497834486
Status : Answered
Chosen Option : 3

Q.19 दो धनात्मक संख्याओं का अनुपात 5 : 8 है। यदि उनके वर्गों का योग 356 है, तो इन दो संख्याओं का योग कितना होगा?

- Ans
- 1. 32
 - 2. 26
 - 3. 25
 - 4. 36

Question ID : 65497834488
Status : Answered
Chosen Option : 2

Q.20 24 km की दूरी तय करते समय, एक आदमी ने देखा कि 1 h 20 min चलने के बाद, उसके द्वारा तय की गई दूरी, शेष दूरी की $\frac{7}{11}$ थी। उसकी चाल क्या थी?

- Ans
- 1. 9 km/h
 - 2. 7 km/h
 - 3. 8 km/h
 - 4. 6 km/h

Question ID : 65497834494
Status : Answered
Chosen Option : 4

Q.21 व्यंजक $0.2 \times 2 + \frac{1}{2} \div 2 \times \frac{5}{2}$ of $2 - 1.5 + 3 \times \frac{1}{3} \div \frac{2}{3} - \frac{2}{5}$ को सरल करने पर _____ परिणाम प्राप्त होगा।

Ans

1. $\frac{1}{8}$

2. $\frac{1}{3}$

3. $\frac{2}{5}$

4. $\frac{1}{4}$

Question ID : 65497834501

Status : Not Answered

Chosen Option : --

Q.22 5 सदस्यों वाली कंपनी A की औसत आयु 44.8 वर्ष है और 4 सदस्यों वाली एक अन्य कंपनी B की औसत आयु 48 वर्ष है। कंपनी B की कुल आयु, कंपनी A की कुल आयु से कितने प्रतिशत कम है?

Ans

1. $\frac{25}{2}$ %

2. $\frac{31}{3}$ %

3. $\frac{100}{7}$ %

4. $\frac{25}{3}$ %

Question ID : 65497834498

Status : Answered

Chosen Option : 3

Q.23 एक स्कूल में, कुल विद्यार्थी (केवल लड़के और लड़कियाँ) 720 हैं। लड़के और लड़कियाँ 7 : 5 के अनुपात में हैं। एक अन्य स्कूल में, 560 विद्यार्थी (केवल लड़के और लड़कियाँ) हैं तथा लड़कों और लड़कियों का अनुपात 3 : 5 है। दोनों स्कूलों के विद्यार्थियों की कुल संख्या में लड़कों और लड़कियों का अनुपात ज्ञात करें।

Ans

1. 65 : 63

2. 60 : 63

3. 63 : 65

4. 65 : 60

Question ID : 65497834503

Status : Answered

Chosen Option : 3

Q.24 दो संख्याओं का गुणनफल 19440 है और उनका महत्तम समापवर्तक (HCF) 18 है। ऐसे संख्या युग्मों की संभावित संख्या जात करें।

- Ans**
- 1. 2
 - 2. 4
 - 3. 3
 - 4. 1

Question ID : **65497834497**
Status : **Answered**
Chosen Option : **2**

Q.25 1 cm मोटाई, 9 cm चौड़ाई और 81 cm लंबाई वाली धातु की एक घनाभाकार प्लेट को पिघलाकर एक घन बनाया जाता है। घन का संपूर्ण पृष्ठीय क्षेत्रफल जात करें।

- Ans**
- 1. 729 cm²
 - 2. 300 cm²
 - 3. 486 cm²
 - 4. 286 cm²

Question ID : **65497834506**
Status : **Answered**
Chosen Option : **3**

Section : **Part D English**

Q.1 Select the most appropriate option to fill in the blank.

The heavy rain affected _____ so much that we could not proceed further.

- Ans**
- 1. distance
 - 2. visibility
 - 3. scene
 - 4. outlook

Question ID : **65497834529**
Status : **Not Answered**
Chosen Option : --

Q.2 The following sentence has been divided into parts. One of them contains an error. Select the part that contains the error from the given options.

He had / prepare well / before the examination / so he did well.

- Ans**
- 1. before the examination
 - 2. so he did well
 - 3. prepare well
 - 4. He had

Question ID : **65497834514**
Status : **Not Answered**
Chosen Option : --

Q.3 Select the most appropriate synonym of the given word.

Weary

- Ans** 1. Upset
 2. Tired
 3. Happy
 4. Fresh

Question ID : **65497834515**
Status : **Not Answered**
Chosen Option : --

Q.4 Select the option that can be used as a one-word substitute for the given group of words.

Move faster

- Ans** 1. Exhilarate
 2. Accelerate
 3. Abdicate
 4. Abnegate

Question ID : **65497834519**
Status : **Not Answered**
Chosen Option : --

Q.5 Select the most appropriate meaning of the given idiom.

Flea market

- Ans** 1. A place where antiques and second-hand goods are sold
 2. A place where vegetables and fruits are sold
 3. A place where stolen goods are sold
 4. A place where fish and marine animals are sold

Question ID : **65497834511**
Status : **Not Answered**
Chosen Option : --

Q.6 Select the INCORRECTLY spelt word.

- Ans** 1. Observatry
 2. Adolescence
 3. Metallurgy
 4. Prologue

Question ID : **65497834521**
Status : **Not Answered**
Chosen Option : --

Q.7 Select the most appropriate option to fill in the blank.

Customers _____ money for the damaged products.

- Ans
- 1. ask
 - 2. grant
 - 3. allow
 - 4. claim

Question ID : 65497834522
Status : Not Answered
Chosen Option : --

Q.8 Select the most appropriate option that can substitute the underlined segment in the given sentence. If there is no need to substitute it, select 'No substitution required'.

She told him don't touch her bag.

- Ans
- 1. don't be touching
 - 2. not to touch
 - 3. to not touched
 - 4. No substitution required

Question ID : 65497834523
Status : Not Answered
Chosen Option : --

Q.9 Select the option that can be used as a one-word substitute for the given group of words.

A partner in crime

- Ans
- 1. Accomplice
 - 2. Follower
 - 3. Opponent
 - 4. Companion

Question ID : 65497834528
Status : Not Answered
Chosen Option : --

Q.10 Select the most appropriate ANTONYM of the given word.

Stable

- Ans
- 1. Fixed
 - 2. Steady
 - 3. Shaky
 - 4. Secure

Question ID : 65497834518
Status : Not Answered
Chosen Option : --

Q.11 Select the INCORRECTLY spelt word.

- Ans 1. Orchard
 2. Archary
 3. Monarch
 4. Anarchy

Question ID : 65497834520
Status : Not Answered
Chosen Option : --

Q.12 Select the most appropriate option that can substitute the underlined segment in the given sentence. If there is no need to substitute it, select 'No substitution required'.

I must replying this letter immediately.

- Ans 1. reply for this letter
 2. reply this letter
 3. reply to this letter
 4. No substitution required

Question ID : 65497834524
Status : Not Answered
Chosen Option : --

Q.13 Select the most appropriate option to fill in the blank.

She is so _____ of plants that she can spend her entire day in a garden.

- Ans 1. loving
 2. fond
 3. attached
 4. interested

Question ID : 65497834510
Status : Not Answered
Chosen Option : --

Q.14 Select the most appropriate option that can substitute the underlined segment in the given sentence. If there is no need to substitute it, select 'No substitution required'.

There have been heavy rains in the city even then hurricane made landfall.

- Ans 1. from the hurricane making landfall
 2. since the hurricane made landfall
 3. then the hurricane is made landfall
 4. No substitution required

Question ID : 65497834513
Status : Not Answered
Chosen Option : --

Q.15 Select the option that can be used as a one-word substitute for the given group of words.

Fluid secreted by flowers which is collected by bees for making honey

- Ans 1. Ambrosia
 2. Euphoria
 3. Juice
 4. Nectar

Question ID : 65497834512
Status : Not Answered
Chosen Option : --

Q.16 Select the option that is closest in meaning to the underlined idiom/phrase in the given sentence.

I will always be grateful to my friend because she has been with me through thick and thin.

- Ans 1. in your own place and other places
 2. in both, good times and bad times
 3. over a long period of time
 4. during different stages of life

Question ID : 65497834525
Status : Not Answered
Chosen Option : --

Q.17 Select the most appropriate synonym of the given word.

Rambling

- Ans 1. Long-Winded
 2. Elaborate
 3. Boring
 4. Articulate

Question ID : 65497834527
Status : Not Answered
Chosen Option : --

Q.18 Select the most appropriate ANTONYM of the given word.

Appoint

- Ans 1. Select
 2. Choose
 3. Assign
 4. Dismiss

Question ID : 65497834516
Status : Not Answered
Chosen Option : --

Q.19 The following sentence has been split into four segments. Identify the segment that contains a grammatical error.

John wanted to know / if will John / come to the college / in the evening.

- Ans**
- 1. come to the college
 - 2. in the evening
 - 3. John wanted to know
 - 4. if will John

Question ID : 65497834526
Status : Not Answered
Chosen Option : --

Q.20 The following sentence has been split into four segments. Identify the segment that contains a grammatical error.

Owing for / his illness, / he couldn't achieve / his goals.

- Ans**
- 1. he couldn't achieve
 - 2. his illness
 - 3. Owing for
 - 4. his goals

Question ID : 65497834517
Status : Not Answered
Chosen Option : --

Comprehension:

In the following passage, some words have been deleted. Read the passage carefully and select the most appropriate option to fill in each blank.

A job or academic interview is a (1)_____ meeting at which people are asked questions by one or a (2)_____ of interviewers to find out if they are suitable for a job. Sometimes, interviews for jobs are walk-in, which means that the candidate, (3)_____ instructions in an (4)_____, goes directly with all related (5)_____ such as CV, certificates and testimonials to a place where an interview is conducted.

SubQuestion No : 21

Q.21 Select the most appropriate option to fill in blank no. 1.

- Ans**
- 1. lethal
 - 2. decided
 - 3. formal
 - 4. public

Question ID : 65497834531
Status : Not Answered
Chosen Option : --

Comprehension:

In the following passage, some words have been deleted. Read the passage carefully and select the most appropriate option to fill in each blank.

A job or academic interview is a (1)_____ meeting at which people are asked questions by one or a (2)_____ of interviewers to find out if they are suitable for a job. Sometimes, interviews for jobs are walk-in, which means that the candidate, (3)_____ instructions in an (4)_____, goes directly with all related (5)_____ such as CV, certificates and testimonials to a place where an interview is conducted.

SubQuestion No : 22

Q.22 Select the most appropriate option to fill in blank no. 2.

- Ans** 1. company
 2. panel
 3. bunch
 4. band

Question ID : **65497834532**
Status : **Not Answered**
Chosen Option : --

Comprehension:

In the following passage, some words have been deleted. Read the passage carefully and select the most appropriate option to fill in each blank.

A job or academic interview is a (1)_____ meeting at which people are asked questions by one or a (2)_____ of interviewers to find out if they are suitable for a job. Sometimes, interviews for jobs are walk-in, which means that the candidate, (3)_____ instructions in an (4)_____, goes directly with all related (5)_____ such as CV, certificates and testimonials to a place where an interview is conducted.

SubQuestion No : 23

Q.23 Select the most appropriate option to fill in blank no. 3.

- Ans** 1. devoting
 2. preparing
 3. following
 4. enacting

Question ID : **65497834533**
Status : **Not Answered**
Chosen Option : --

Comprehension:

In the following passage, some words have been deleted. Read the passage carefully and select the most appropriate option to fill in each blank.

A job or academic interview is a (1)_____ meeting at which people are asked questions by one or a (2)_____ of interviewers to find out if they are suitable for a job. Sometimes, interviews for jobs are walk-in, which means that the candidate, (3)_____ instructions in an (4)_____, goes directly with all related (5)_____ such as CV, certificates and testimonials to a place where an interview is conducted.

SubQuestion No : 24

Q.24 Select the most appropriate option to fill in blank no. 4.

- Ans 1. instance
 2. advertisement
 3. observation
 4. establishment

Question ID : 65497834534
Status : Not Answered
Chosen Option : --

Comprehension:

In the following passage, some words have been deleted. Read the passage carefully and select the most appropriate option to fill in each blank.

A job or academic interview is a (1)_____ meeting at which people are asked questions by one or a (2)_____ of interviewers to find out if they are suitable for a job. Sometimes, interviews for jobs are walk-in, which means that the candidate, (3)_____ instructions in an (4)_____, goes directly with all related (5)_____ such as CV, certificates and testimonials to a place where an interview is conducted.

SubQuestion No : 25

Q.25 Select the most appropriate option to fill in blank no. 5.

- Ans 1. stuff
 2. material
 3. documents
 4. personnel

Question ID : 65497834535
Status : Not Answered
Chosen Option : --

Section : **Part D Hindi**

Q.1 दिए गए शब्द के समानार्थी शब्द का चयन करें।

द्वार

- Ans 1. कर्मठ
 2. कपाट
 3. कपट
 4. सपाट

Question ID : 65497834540
Status : Answered
Chosen Option : 2

Q.2 सही वर्तनी वाले शब्द का चयन करें।

- Ans 1. सांसरिक
 2. संसारिक
 3. संसारक
 4. सांसारिक

Question ID : 65497834545
Status : Answered
Chosen Option : 4

Q.3 दिए गए वाक्य का वह भाग ज्ञात करें जिसमें कोई त्रुटि है। यदि कोई त्रुटि नहीं है, तो 'कोई त्रुटि नहीं है' चुनें।

अध्यापक (1)/ हमसे एक लेख (2)/ लिखवाया। (3)/ कोई त्रुटि नहीं है (4)

- Ans 1. 1
 2. 4
 3. 3
 4. 2

Question ID : 65497834547
Status : Answered
Chosen Option : 3

Q.4 दिए गए वाक्यांश के लिए एक शब्द चुनिए।

जो किसी का पक्ष न ले

- Ans 1. निपक्ष
 2. तटीय
 3. विपक्ष
 4. तटस्थ

Question ID : 65497834551
Status : Answered
Chosen Option : 1

Q.5 दिए गए वाक्य का वो भाग ज्ञात करें जिसमें कोई त्रुटि है। यदि कोई त्रुटि नहीं है, तो 'कोई त्रुटि नहीं है' चुनें।

प्रतिभा की माँ (1)\ इस समय छोटे बच्चा को (2)\ कहानी सुना रही है (3)\ कोई त्रुटि नहीं है (4)

- Ans 1. 4
 2. 1
 3. 2
 4. 3

Question ID : 65497834539
Status : Answered
Chosen Option : 3

Q.6 दिये गये वाक्य के किस भाग में त्रुटि है?

उनकी आपस में घनिष्ठ मैत्रता थी।

- Ans
- 1. घनिष्ठ
 - 2. आपस में
 - 3. मैत्रता थी।
 - 4. उनकी

Question ID : 65497834554
Status : Answered
Chosen Option : 3

Q.7 दिए गए शब्द का विलोम चुनें।

आदर

- Ans
- 1. निरादर
 - 2. अपमान
 - 3. अनादर
 - 4. सादर

Question ID : 65497834543
Status : Answered
Chosen Option : 3

Q.8 निम्नलिखित प्रश्न में, दिए गए चार विकल्पों में से उस विकल्प का चयन करें, जो मुहावरे का अर्थ व्यक्त करता है।

तीन-तेरह करना

- Ans
- 1. मृत्यु को प्राप्त होना
 - 2. चुपचाप भाग जाना
 - 3. खुशामद करना
 - 4. इधर-उधर करना

Question ID : 65497834537
Status : Answered
Chosen Option : 4

Q.9 दिए गए शब्द का विलोम चुनें।

आचार

- Ans
- 1. अनाचार
 - 2. व्यवहार
 - 3. प्रचार
 - 4. विचार

Question ID : 65497834548
Status : Answered
Chosen Option : 4

Q.10 रिक्त स्थान को भरने के लिए सबसे उपयुक्त शब्द का चयन करें।

इस लड़की को वाद्य संगीत से _____ है।

- Ans
- 1. स्नेह
 - 2. आकर्षण
 - 3. अनुराग
 - 4. आसक्ति

Question ID : 65497834552
Status : Answered
Chosen Option : 1

Q.11 दिये गये वाक्यांश के लिए एक शब्द दीजिये।

जो कलहप्रिय हो

- Ans
- 1. कलेसी
 - 2. झगड़ाळू
 - 3. क्लेश
 - 4. झगड़ोल

Question ID : 65497834541
Status : Answered
Chosen Option : 3

Q.12 दिए गए वाक्य में रेखांकित खंड को प्रतिस्थापित करने के लिए सबसे उपयुक्त विकल्प का चयन करें।
यदि इसे प्रतिस्थापित करने की आवश्यकता नहीं है, तो विकल्प 'किसी बदलाव की आवश्यकता नहीं है'
का चयन करें।

किसी भी देश की सम्पत्ति, ऐसे देश में आदर्श विद्यार्थी ही होते हैं।

- Ans
- 1. उस देश के आदर्श विद्यार्थी
 - 2. ऐसे देश के आदर्श विद्यार्थी
 - 3. किसी बदलाव की आवश्यकता नहीं है।
 - 4. उस देश में आदर्श विद्यार्थी

Question ID : 65497834542
Status : Answered
Chosen Option : 1

Q.13 निम्नलिखित प्रश्न में, दिए गए चार विकल्पों में से, उस विकल्प का चयन करें जो मुहावरे का अर्थ व्यक्त करता है।

ईद का चांद होना

- Ans
- 1. बहुत सुंदर होना
 - 2. बहुत समय बाद दिखायी देना
 - 3. आकर्षक होना
 - 4. दुर्लभ होना

Question ID : 65497834544
Status : Answered
Chosen Option : 2

Q.14 सही वर्तनी वाले शब्द का चयन करें।

- Ans 1. परिस्थित
 2. प्रस्थिति
 3. परिस्थिति
 4. पारिस्थिति

Question ID : 65497834546
Status : Answered
Chosen Option : 3

Q.15 दिए गए वाक्य में रेखांकित खंड को प्रतिस्थापित करने के लिए सबसे उपयुक्त विकल्प का चयन करें।
यदि इसे प्रतिस्थापित करने की आवश्यकता नहीं है, तो विकल्प 'किसी बदलाव की आवश्यकता नहीं है'
का चयन करें।

जंगल में मोर अथवा मोरनी दिखाई पड़ेगा।

- Ans 1. मोर अथवा मोरनी दिखाई पड़ेगी।
 2. मोर अथवा मोरनी दिखाई गए।
 3. किसी बदलाव की आवश्यकता नहीं है।
 4. मोर अथवा मोरनी दिखाई देगा।

Question ID : 65497834536
Status : Answered
Chosen Option : 4

Q.16 निम्नलिखित प्रश्न में, दिए गए चार विकल्पों में से उस विकल्प का चयन करें, जो मुहावरे का अर्थ व्यक्त करता है।

नाकों चने चबवाना-

- Ans 1. बदनाम करना
 2. दंग रह जाना
 3. तंग करना
 4. गुस्सा हो जाना

Question ID : 65497834549
Status : Answered
Chosen Option : 3

Q.17 रिक्त स्थान भरने के लिए सबसे उपयुक्त शब्द का चयन करें।

मक्खियाँ _____ हैं।

- Ans 1. भिनभिनाती
 2. खनखनाती
 3. सनसनाती
 4. चटचटाती

Question ID : 65497834538
Status : Answered
Chosen Option : 1

Q.18 रिक्त स्थान को भरने के लिए सबसे उपयुक्त शब्द का चयन करें।

साहित्य और जीवन का _____ संबंध है।

- Ans 1. अभिन्न
 2. घोर
 3. पृथक
 4. घनघोर

Question ID : 65497834550
Status : Answered
Chosen Option : 2

Q.19 दिये गये वाक्य में रेखांकित अंश को प्रतिस्थापित करने के लिए सबसे उपयुक्त विकल्प का चयन करें।

हमारे गले में पराधीनता की बेड़ियाँ पड़ी थीं।

- Ans 1. सीने में
 2. मस्तक में
 3. पैरों में
 4. भुजाओं में

Question ID : 65497834553
Status : Answered
Chosen Option : 3

Q.20 दिए गए शब्द के समानार्थी शब्द का चयन करें।

चंद्र

- Ans 1. सुधाकर
 2. पयोधर
 3. किंकर
 4. दिवाकर

Question ID : 65497834555
Status : Answered
Chosen Option : 1

Comprehension:

दिए गए अनुच्छेद में कुछ शब्द हटा दिए गए हैं। दिए गए विकल्पों की सहायता से रिक्त स्थान भरें। प्रत्येक संख्या के लिए सबसे उपयुक्त विकल्प का चयन करें।

किसी भी देश की (1) _____ चेतना बोली जाने वाली भाषा के (2) _____ में (3) _____ होती है।
(4) _____ और साहित्य एक-दूसरे से (5) _____ हैं।

SubQuestion No : 21

Q.21 गद्यांश के रिक्त स्थान (1) के लिए सर्वाधिक उपयुक्त शब्द होगा-

- Ans 1. राजनीतिक
 2. सांस्कृतिक
 3. भावी
 4. सामाजिक

Question ID : 65497834557
Status : Answered
Chosen Option : 1

Comprehension:

दिए गए अनुच्छेद में कुछ शब्द हटा दिए गए हैं। दिए गए विकल्पों की सहायता से रिक्त स्थान भरें। प्रत्येक संख्या के लिए सबसे उपयुक्त विकल्प का चयन करें।

किसी भी देश की (1)_____ चेतना बोली जाने वाली भाषा के (2)_____ में (3)_____ होती है।
(4)_____ और साहित्य एक-दूसरे से (5)_____ हैं।

SubQuestion No : 22

Q.22 गद्यांश के रिक्त स्थान (2) के लिए सर्वाधिक उपयुक्त शब्द होगा-

- Ans** 1. साहित्य
 2. पराक्रम
 3. पीछे
 4. आगे

Question ID : **65497834558**
Status : **Answered**
Chosen Option : **4**

Comprehension:

दिए गए अनुच्छेद में कुछ शब्द हटा दिए गए हैं। दिए गए विकल्पों की सहायता से रिक्त स्थान भरें। प्रत्येक संख्या के लिए सबसे उपयुक्त विकल्प का चयन करें।

किसी भी देश की (1)_____ चेतना बोली जाने वाली भाषा के (2)_____ में (3)_____ होती है।
(4)_____ और साहित्य एक-दूसरे से (5)_____ हैं।

SubQuestion No : 23

Q.23 गद्यांश के रिक्त स्थान (3) के लिए सर्वाधिक उपयुक्त शब्द होगा-

- Ans** 1. ओझल
 2. परिलक्षित
 3. दृष्टिहीन
 4. विध्वंसक

Question ID : **65497834559**
Status : **Answered**
Chosen Option : **4**

Comprehension:

दिए गए अनुच्छेद में कुछ शब्द हटा दिए गए हैं। दिए गए विकल्पों की सहायता से रिक्त स्थान भरें। प्रत्येक संख्या के लिए सबसे उपयुक्त विकल्प का चयन करें।

किसी भी देश की (1)_____ चेतना बोली जाने वाली भाषा के (2)_____ में (3)_____ होती है।
(4)_____ और साहित्य एक-दूसरे से (5)_____ हैं।

SubQuestion No : 24

Q.24 गद्यांश के रिक्त स्थान (4) के लिए सर्वाधिक उपयुक्त शब्द होगा-

- Ans** 1. परिवार
 2. संस्था
 3. समुदाय
 4. समाज

Question ID : **65497834560**
Status : **Answered**
Chosen Option : **4**

Comprehension:

दिए गए अनुच्छेद में कुछ शब्द हटा दिए गए हैं। दिए गए विकल्पों की सहायता से रिक्त स्थान भरें। प्रत्येक संख्या के लिए सबसे उपयुक्त विकल्प का चयन करें।

किसी भी देश की (1)_____ चेतना बोली जाने वाली भाषा के (2)_____ में (3)_____ होती है।
(4)_____ और साहित्य एक-दूसरे से (5)_____ हैं।

SubQuestion No : 25

Q.25 गद्यांश के रिक्त स्थान (5) के लिए सर्वाधिक उपयुक्त शब्द होगा-

- Ans**
- 1. भिन्न
 - 2. पृथक
 - 3. अलग
 - 4. अभिन्न

Question ID : **65497834561**

Status : **Answered**

Chosen Option : **2**

GovtJobsAlert.In