

## Constable GD in CAPFs NIA SSF and Rifleman GD in Assam Rifles Examination 2021

Roll Number	<a href="http://www.GovtJobsAlert.In">www.GovtJobsAlert.In</a>
Candidate Name	<a href="http://www.GovtJobsAlert.In">www.GovtJobsAlert.In</a>
Venue Name	Aurobindo International School Jaipur
Exam Date	06/12/2021
Exam Time :	4:00 PM - 5:30 PM
Subject	Constable GD 2021

### Section : Part A General Intelligence and Reasoning

Q.1 अक्षरों के उस संयोजन का चयन कीजिए, जिसे दी गई अक्षर श्रृंखला के रिक्त स्थानों में क्रमिक रूप से रखने पर श्रृंखला पूर्ण हो जाएगी।

H \_ M T \_ H O \_ T C H O M \_ C \_ O \_ T C

- Ans
- 1. M C M T H C
  - 2. H C M T O M
  - 3. O C T M C M
  - 4. O C M T H M

Question ID : 65497835833  
Status : Answered  
Chosen Option : 4

Q.2 एक निश्चित कूट भाषा में, 'MAYANK IS GREAT' को 're ge ne' लिखा जाता है, 'HE IS AN INDIAN' को 'te re pe me', लिखा जाता है, 'GREAT INDIAN CULTURE' को 'pe ge se' लिखा जाता है। उसी कूट भाषा में 'MAYANK' को किस प्रकार लिखा जाएगा?

- Ans
- 1. ge
  - 2. pe
  - 3. re
  - 4. ne

Question ID : 65497835837  
Status : Answered  
Chosen Option : 4

Q.3 उस विकल्प का चयन करें, जिसका तीसरे अक्षर-समूह से वही संबंध है, जो दूसरे अक्षर-समूह का पहले अक्षर-समूह से है।

QGNB : ZPWK :: HLMO : ?

- Ans
- 1. RVWY
  - 2. PUVX
  - 3. RVWZ
  - 4. QUVX

Question ID : 65497835836  
Status : Answered  
Chosen Option : 4

Q.4 'त्रिभुज' का 'पिरामिड' से वही संबंध है, जो 'आयत' का '\_\_\_\_\_' से है।

- Ans  1. चतुर्भुज  
 2. घनाभ  
 3. शंकु  
 4. घन

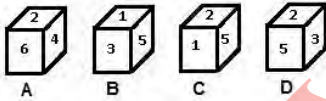
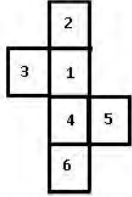
Question ID : 65497835849  
 Status : Answered  
 Chosen Option : 1

Q.5 किसी कूट भाषा में, 24391 को #∞x©\* और 15678 को \*β€μ£ लिखा जाता है। उसी कूट भाषा में 65432 को किस प्रकार लिखा जाएगा?

- Ans  1. β€≠∞x  
 2. ≠∞x β€  
 3. €β∞x≠  
 4. x≠€β∞

Question ID : 65497835841  
 Status : Answered  
 Chosen Option : 3

Q.6 उस पासे का चयन कीजिए, जिसे दी गई शीट को रेखाओं पर मोड़कर बनाया जा सकता है।



- Ans  1. केवल D और A  
 2. केवल C  
 3. केवल D  
 4. केवल B और C

Question ID : 65497835842  
 Status : Answered  
 Chosen Option : 2

Q.7 दिए गए विकल्पों में से वह सही विकल्प चुनिए, जो दिए गए शब्दों के उस क्रम को दर्शाता है, जिसमें वे अंग्रेजी शब्दकोश में मौजूद होते हैं।

1. Parade
2. Parallel
3. Pearl
4. Peanut
5. Peach

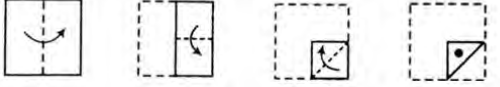
- Ans
- 1. 1, 2, 5, 3, 4
  - 2. 5, 2, 1, 4, 3
  - 3. 2, 1, 4, 5, 3
  - 4. 1, 2, 5, 4, 3

Question ID : 65497835832

Status : Answered

Chosen Option : 4

Q.8 नीचे दी गई आकृतियों में कागज के एक टुकड़े को मोड़ने का क्रम और उस मुड़े हुए कागज को काटने का तरीका दर्शाया गया है। इस कागज को खोलने पर यह कैसा दिखेगा?



Ans

- 1.
- 2.
- 3.
- 4.

Question ID : 65497835856

Status : Answered

Chosen Option : 4

Q.9 एक संयुक्त परिवार में 9 सदस्य C, D, E, F, G, H, I, J और K हैं। परिवार में तीन विवाहित जोड़े हैं। D शिक्षक है तथा E और F का भाई है। G, I की मां है। J, C की पत्नी है, और C, I के दादा हैं। E, C की इकलौती पुत्री है। K, F और H की पुत्री है। शिक्षक की पत्नी कौन है?

- Ans
- 1. E
  - 2. J
  - 3. G
  - 4. H

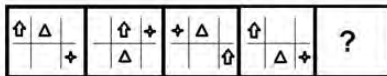
Question ID : 65497835838  
Status : Answered  
Chosen Option : 3

Q.10 सरयू ने अलग-अलग मूल्यों पर दो रेफ्रिजरेटर खरीदे, जिनके लिए उसने कुल ₹80,000 का भुगतान किया। इनमें से एक को उसके क्रय मूल्य के 3/4 पर और दूसरे को इसके क्रय मूल्य के 4/3 पर बेचने पर, उसे इस पूरे संव्यवहार में ₹8,000 का लाभ होता है। उस रेफ्रिजरेटर का क्रय मूल्य ज्ञात कीजिए, जिसे अधिक मूल्य पर खरीदा गया था।

- Ans
- 1. ₹50,000
  - 2. ₹40,000
  - 3. ₹48,000
  - 4. ₹45,000

Question ID : 65497835855  
Status : Answered  
Chosen Option : 1

Q.11 उस आकृति का चयन कीजिए जो निम्न आकृति श्रृंखला में प्रश्नवाचक चिह्न (?) के स्थान पर आएगी।



Ans

- 1. 

↑	Δ
Δ	+
- 2. 

Δ	↑
+	↑
- 3. 

+	Δ
↑	Δ
- 4. 

Δ	+
↑	+

Question ID : 65497835835  
Status : Answered  
Chosen Option : 2

Q.12 एक विशिष्ट कूट भाषा में, BULK को 4212411 लिखा जाता है। उसी कूट भाषा में INCH को किस प्रकार लिखा जाएगा?

- Ans
- 1. 914128
  - 2. 914188
  - 3. 181468
  - 4. 181614

Question ID : 65497835845  
Status : Answered  
Chosen Option : 3

Q.13 दिए गए कथनों और निष्कर्षों को ध्यानपूर्वक पढ़ें। कथनों में दी गई जानकारी को सत्य मानते हुए विचार करें, भले ही वह सामान्यतः ज्ञात तथ्यों से भिन्न प्रतीत होती हो, और बताएं कि दिए गए निष्कर्षों में से कौन से तार्किक रूप से कथनों का पालन करते हैं?

कथन:  
कुछ लॉकर, चाबियां हैं।  
कुछ चाबियां, दरवाजे हैं।

निष्कर्ष:  
I. कुछ लॉकर, दरवाजे हैं।  
II. सभी चाबियां, दरवाजे हैं।

- Ans
- 1. केवल निष्कर्ष I पालन करता है।
  - 2. निष्कर्ष I और II दोनों ही पालन करते हैं।
  - 3. केवल निष्कर्ष II पालन करता है।
  - 4. न तो निष्कर्ष I और न ही निष्कर्ष II पालन करता है।

Question ID : 65497835853  
Status : Answered  
Chosen Option : 4

Q.14 निम्नलिखित चार अक्षर-समूहों में से तीन किसी तरह से संगत हैं और एक असंगत है। असंगत अक्षर-समूह का चयन करें।

- Ans
- 1. UYW
  - 2. LPN
  - 3. DHF
  - 4. OQP

Question ID : 65497835844  
Status : Answered  
Chosen Option : 4

Q.15 उस वेन आरेख का चयन करें, जो निम्नलिखित वर्गों के बीच के संबंध को सबसे अच्छे तरीके से दर्शाता है।

कबूतर, भालू, पक्षी

Ans

- 1.
- 2.
- 3.
- 4.

Question ID : 65497835851  
Status : Answered  
Chosen Option : 4

Q.16 दिए गए संयोजन के उस सही दर्पण प्रतिबिंब का चयन करें जो दर्पण को PQ पर रखने पर बनेगा।

CQ6RUL |  
PQ

Ans

- 1.
- 2.
- 3.
- 4.

Question ID : 65497835847  
Status : Answered  
Chosen Option : 4

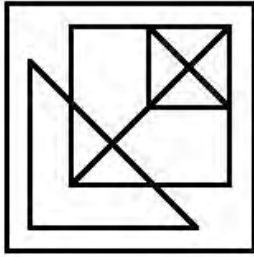
Q.17 सात सहेलियां - प्रणवी, विनीता, रूपा, सौम्या, भावना, उर्मिला और आरोही, वृत्ताकार स्थिति में केंद्र की ओर मुख करके बैठी हैं। आरोही, सौम्या के बाईं ओर दूसरे स्थान पर है तथा भावना और उर्मिला की पड़ोसी है। सौम्या, रूपा या भावना की पड़ोसी नहीं है। प्रणवी, विनीता और रूपा की पड़ोसी है। दी गई जानकारी के आधार पर, निम्न में से कौन सा कथन सही है?

Ans

1. आरोही, रूपा और प्रणवी के बीच में बैठी है।
2. सौम्या, उर्मिला और आरोही के बीच में बैठी है।
3. रूपा, भावना और प्रणवी के बीच में बैठी है।
4. विनीता, भावना और प्रणवी के बीच में बैठी है।

Question ID : 65497835839  
Status : Answered  
Chosen Option : 3

Q.18 दी गई आकृति में अंतर्निहित त्रिभुजों की कुल संख्या ज्ञात कीजिए।



- Ans
- 1. 9
  - 2. 14
  - 3. 12
  - 4. 10

Question ID : 65497835843  
Status : Answered  
Chosen Option : 2

Q.19 दिए गए विकल्पों में से उस अक्षर-समूह का चयन करें, जो निम्नलिखित श्रृंखला में प्रश्नवाचक चिह्न (?) के स्थान पर आ सकता है।

XGC, UHE, RIH, ?

- Ans
- 1. OJL
  - 2. OKL
  - 3. PJL
  - 4. OJK

Question ID : 65497835848  
Status : Answered  
Chosen Option : 1

Q.20 दिए गए पैटर्न का ध्यानपूर्वक अध्ययन करें और उस संख्या का चयन करें, जो इसमें प्रश्न चिह्न (?) के स्थान पर आ सकती है।

3 13 4  
4 27 11  
6 ? 31

- Ans
- 1. 76
  - 2. 67
  - 3. 56
  - 4. 65

Question ID : 65497835854  
Status : Answered  
Chosen Option : 2

Q.21 दिए गए विकल्पों में से उस संख्या का चयन कीजिए, जो निम्नलिखित श्रेणी में प्रश्न चिह्न (?) के स्थान पर आ सकती है।

13, 27, 56, 115, 234, ?

Ans  1. 702

2. 455

3. 468

4. 473

Question ID : 65497835834

Status : Answered

Chosen Option : 4

Q.22 उस विकल्प का चयन कीजिए, जिसका चौथी संख्या से वही संबंध है, जो पहली संख्या का दूसरी संख्या से है।

36 : 9 :: ? : 16

Ans  1. 65

2. 80

3. 64

4. 61

Question ID : 65497835840

Status : Answered

Chosen Option : 3

Q.23 किसी कूट भाषा में, 'TABLET' को 'WYFJJR' लिखा जाता है। उसी कूट भाषा में, 'INSERT' को किस प्रकार लिखा जाएगा?

Ans  1. LLWCWR

2. LWLWCR

3. LLCWWR

4. LLWWCR

Question ID : 65497835852

Status : Answered

Chosen Option : 1

Q.24 दिए गए विकल्पों में से उस संख्या का चयन करें, जो निम्नलिखित श्रेणी में प्रश्न चिह्न (?) के स्थान पर आ सकती है।

23, 28, 38, 55, 81, ?

Ans  1. 118

2. 104

3. 136

4. 99

Question ID : 65497835846

Status : Answered

Chosen Option : 1



Q.25 J, H, Q, S, X, L और। एक सीधी पंक्ति में दक्षिण दिशा की ओर मुख करके बैठे हैं, किंतु उनका उपरोक्त क्रम में होना अनिवार्य नहीं है। J और Q के बीच में दो व्यक्ति बैठे हैं। X, J और S के बीच में बैठा है और H के दाईं ओर दूसरे स्थान पर बैठा है। L, Q के बाईं ओर दूसरे स्थान पर बैठा है और। के बाईं ओर ठीक बगल में बैठा है। Q और H, सीधी पंक्ति के सिरों पर बैठे हैं। निम्नलिखित में से कौन J के बाईं ओर तीसरे स्थान पर बैठा है?

Ans  1. S

2. H

3. Q

4. L

Question ID : 65497835850

Status : Answered

Chosen Option : 2

Section : Part B General Knowledge and General Awareness

Q.1 बंगाल किसके नेतृत्व में धीरे-धीरे मुगल नियंत्रण से अलग हो गया?

Ans  1. मुकर्रम खान

2. अली कादिर

3. मुर्शिद कुली खान

4. अलीवर्दी खान

Question ID : 65497835879

Status : Answered

Chosen Option : 3

Q.2 HIV (एच.आई.वी.) एक विषाणु है, जो शरीर की प्रतिरक्षा प्रणाली पर हमला करता है। HIV (एच.आई.वी.) का पूर्ण रूप क्या है?

Ans  1. Human infectious virus (ह्यूमन इंफेक्शियस वायरस)

2. Human immunodeficiency virus (ह्यूमन इम्यूनोडेफिशिएंसी वायरस)

3. Herpes immunodeficiency virus (हर्पीज इम्यूनोडेफिशिएंसी वायरस)

4. Human immunity deficiency virus (ह्यूमन इम्युनिटी डेफिशिएंसी वायरस)

Question ID : 65497835867

Status : Answered

Chosen Option : 2

Q.3 निम्नलिखित में से किसे ओलंपिक खेलों में पदक प्राप्त करने वाले पहले भारतीय मुक्केबाज होने का गौरव प्राप्त है?

Ans  1. मैरी कॉम

2. अखिल कुमार

3. विजेन्द्र सिंह

4. लैशराम सरिता देवी

Question ID : 65497835857

Status : Answered

Chosen Option : 1

Q.4 निम्नलिखित में से किसका उपयोग सर्च लाइटों में परावर्तक के रूप में किया जाता है?

- Ans
- 1. समतल दर्पण
  - 2. उत्तल दर्पण
  - 3. अवतल दर्पण
  - 4. अवतल लेंस

Question ID : 65497835858  
Status : Answered  
Chosen Option : 4

Q.5 आंध्र राज्य अधिनियम (1953) द्वारा भारत के \_\_\_\_\_ भाषाई राज्य का गठन किया गया।

- Ans
- 1. तृतीय
  - 2. चतुर्थ
  - 3. प्रथम
  - 4. द्वितीय

Question ID : 65497835863  
Status : Answered  
Chosen Option : 3

Q.6 मोटर वाहन (संशोधन) अधिनियम 2019 के अनुसार, शराब के नशे में वाहन चलाना अपराध है और यह दूसरी बार में \_\_\_\_\_ की अवधि तक के कारावास और/या ₹15,000 के जुर्माने से दंडनीय है।

- Ans
- 1. 1 वर्ष
  - 2. 3 माह
  - 3. 2 वर्ष
  - 4. 6 माह

Question ID : 65497835875  
Status : Answered  
Chosen Option : 1

Q.7 निम्नलिखित में से कौन सी नदी जास्कर (जंस्कार) और लद्दाख पर्वतमालाओं के बीच बहती है?

- Ans
- 1. गंगा
  - 2. ब्रह्मपुत्र
  - 3. यमुना
  - 4. सिंधु

Question ID : 65497835880  
Status : Answered  
Chosen Option : 4

Q.8 अशोक के कंधार अभिलेखों की खोज किस वर्ष में की गई थी?

- Ans
- 1. 1956
  - 2. 1960
  - 3. 1958
  - 4. 1954

Question ID : 65497835871  
Status : Not Answered  
Chosen Option : --

Q.9 2020 में रूस द्वारा आयोजित 12वें ब्रिक्स (BRICS) शिखर सम्मेलन की विषय-वस्तु क्या थी?

- Ans
- 1. एक उज्ज्वल भविष्य के लिए मजबूत साझेदारी (stronger partnership for a brighter future)
  - 2. समावेशी और सामूहिक समाधान विकसित करना (building up inclusive and collective solutions)
  - 3. वैश्विक स्थिरता, साझा सुरक्षा और अभिनव प्रगति (global stability, shared security and innovative growth)
  - 4. समावेशी विकास, स्थायी समाधान (inclusive growth, sustainable solutions)

Question ID : 65497835876  
Status : Not Answered  
Chosen Option : --

Q.10 निम्नलिखित में से किसने कोलकाता के खुदीराम अनुशीलन केंद्र में वरिष्ठ महिला राष्ट्रीय भारोत्तोलन चैंपियनशिप के 35वें संस्करण की 64 kg श्रेणी में स्वर्ण पदक जीता?

- Ans
- 1. के. रोशिलता देवी
  - 2. वीरजीत कौर
  - 3. राखी हलदर
  - 4. हरजिंदर कौर

Question ID : 65497835874  
Status : Not Answered  
Chosen Option : --

Q.11 मीराबाई चानू और \_\_\_\_\_ ने 2021 में टोक्यो में आयोजित ओलंपिक गेम्स (2020) में रजत पदक जीते।

- Ans
- 1. लवलीना बोरगोहेन
  - 2. बजरंग पुनिया
  - 3. नीरज चोपड़ा
  - 4. रवि कुमार दहिया

Question ID : 65497835881  
Status : Answered  
Chosen Option : 2

Q.12 हिमालय पर्वत की सुदूर उत्तरी पर्वतमाला को किस नाम से जाना जाता है?

- Ans
- 1. वाह्य हिमालय
  - 2. निम्न हिमालय
  - 3. महा-हिमालय
  - 4. महाभारत पर्वतमाला

Question ID : 65497835870  
Status : Answered  
Chosen Option : 3

Q.13 निम्नलिखित में से किसने हैदराबाद की चारमीनार का निर्माण करवाया था?

- Ans
- 1. हुमायूं
  - 2. मुहम्मद आदिल शाह
  - 3. अकबर
  - 4. मोहम्मद कुली कुतुब शाह

Question ID : 65497835865  
Status : Answered  
Chosen Option : 2

Q.14 1965 में ज्ञानपीठ पुरस्कार पाने वाले प्रथम व्यक्ति कौन थे?

- Ans
- 1. डॉ. ओ.एन.वी. कुरुप
  - 2. अक्किताम अच्युतन नंबूदरी
  - 3. जी. शंकर कुरुप
  - 4. डॉ. एम.टी. वासुदेवन नैय्यर

Question ID : 65497835873  
Status : Not Answered  
Chosen Option : --

Q.15 निम्नलिखित में से कौन-सा खनिज, अधात्विक खनिजों की श्रेणी में नहीं आता है?

- Ans
- 1. अम्रक
  - 2. लाइमस्टोन
  - 3. बॉक्साइट
  - 4. जिप्सम

Question ID : 65497835872  
Status : Not Answered  
Chosen Option : --

Q.16 इंडियास स्मॉल फ़ाइनेंस बैंक का मुख्यालय निम्नलिखित में से किस शहर में स्थित है?

- Ans
- 1. मुंबई
  - 2. गुरुग्राम
  - 3. चेन्नई
  - 4. बेंगलुरु

Question ID : 65497835869  
Status : Answered  
Chosen Option : 1

Q.17 27 अक्टूबर 2020 को आयोजित विश्व \_\_\_\_\_ विरासत दिवस की विषय-वस्तु 'Your Window to the World (योर विंडो टू द वर्ल्ड)' थी।

- Ans
- 1. भाषाई
  - 2. सांस्कृतिक
  - 3. दृश्य-श्रव्य
  - 4. आध्यात्मिक

Question ID : 65497835864  
Status : Not Answered  
Chosen Option : --

Q.18 निम्नलिखित में से किसने मांडू को अपनी राजधानी बनाया?

- Ans
- 1. होशंग शाह
  - 2. दिलावर खान
  - 3. बहमन शाह
  - 4. मीर जाफ़र

Question ID : 65497835862  
Status : Not Answered  
Chosen Option : --

Q.19 बजट 2020-2021 के अनुसार, सरफेसी अधिनियम 2002 के तहत, गैर-बैंकिंग वित्त कंपनियों (एनबीएफसी) की, भुगतान में चूक करने वाले कर्जदारों से ऋण की वसूली हेतु अर्हता को घटाकर ₹ \_\_\_\_\_ की संपत्ति तक कर दिया गया है।

- Ans
- 1. ₹250 करोड़
  - 2. ₹75 करोड़
  - 3. ₹100 करोड़
  - 4. ₹50 करोड़

Question ID : 65497835878  
Status : Not Answered  
Chosen Option : --

Q.20 जेम्स मिल ने अपनी पुस्तक 'द हिस्ट्री ऑफ ब्रिटिश इंडिया' में भारतीय इतिहास को तीन कालखंडों में विभाजित किया था, निम्नलिखित में से कौन सा उनमें शामिल नहीं है?

- Ans
- 1. ब्रिटिश
  - 2. हिंदू
  - 3. मुस्लिम
  - 4. ईसाई

Question ID : 65497835861  
Status : Answered  
Chosen Option : 4

Q.21 महात्मा गांधी ने 12 मार्च, 1930 को नमक आंदोलन (Salt March) की शुरुआत कहां से की थी?

- Ans
- 1. साबरमती
  - 2. चंपारण
  - 3. सेवाग्राम
  - 4. शांति निकेतन

Question ID : 65497835859  
Status : Answered  
Chosen Option : 1

Q.22 पानी में बने अम्लीय और क्षारीय विलयन विद्युत का चालन करते हैं, क्योंकि वे क्रमशः \_\_\_\_\_ और हाइड्रॉक्साइड आयन उत्पन्न करते हैं।

- Ans
- 1. कैल्शियम
  - 2. क्लोरीन
  - 3. हाइड्रोजन
  - 4. सल्फर

Question ID : 65497835866  
Status : Answered  
Chosen Option : 3

Q.23 निम्नलिखित में से किन देशों ने दक्षिणी चीन और इंडो पैसिफिक क्षेत्र में चीन के बढ़ते प्रभाव का मुकाबला करने के एक प्रयास के रूप में 17 नवंबर, 2020 को ऐतिहासिक 'रेसिप्रोकल एक्सेस एग्रीमेंट' ('RAA') पर हस्ताक्षर किए?

- Ans
- 1. ऑस्ट्रेलिया और जापान
  - 2. ऑस्ट्रेलिया और संयुक्त राज्य अमेरिका
  - 3. भारत और जापान
  - 4. भारत और संयुक्त राज्य अमेरिका

Question ID : 65497835860  
Status : Answered  
Chosen Option : 3

Q.24 भारतीय आर्थिक सर्वेक्षण 2019-20 के अनुसार, भारत के कुल प्रत्यक्ष विदेशी निवेश (FDI) अंतर्वाह में सेवा क्षेत्र का योगदान लगभग कितना है?

- Ans
- 1. दो-तिहाई
  - 2. दसवां भाग
  - 3. एक-चौथाई
  - 4. आधा

Question ID : 65497835877  
Status : Answered  
Chosen Option : 1

Q.25 निम्नलिखित में से किसे सितंबर 2020 में संयुक्त राष्ट्र पर्यावरण कार्यक्रम द्वारा भारत के लिए क्षेत्रीय राजदूत के रूप में नियुक्त किया गया है?

- Ans
- 1. स्मृति मंधाना
  - 2. खुशी चिंदालिया
  - 3. दीया मिर्जा
  - 4. नेत्रा कुमानन

Question ID : 65497835868  
Status : Answered  
Chosen Option : 2

Section : Part C Elementary Mathematics

**Q.1** दो धनात्मक संख्याओं का लघुत्तम समापवर्त्य (LCM), उनके महत्तम समापवर्तक (HCF) के 28 गुने के बराबर है। यदि उनका महत्तम समापवर्तक (HCF) 5 है और संख्याओं का अंतर 15 है, तो दोनों संख्याओं का योगफल ज्ञात कीजिए।

- Ans**
- 1. 55
  - 2. 65
  - 3. 45
  - 4. 50

Question ID : **65497835891**  
Status : **Answered**  
Chosen Option : **1**

**Q.2** 564 को इस प्रकार दो भागों में विभाजित किया गया है कि पहले भाग के आठवां हिस्से और दूसरे भाग के पांचवें हिस्से का अनुपात 5 : 4 है। दोनों भाग, क्रमशः क्या होंगे?

- Ans**
- 1. 188 और 376
  - 2. 140 और 424
  - 3. 376 और 188
  - 4. 424 और 140

Question ID : **65497835886**  
Status : **Answered**  
Chosen Option : **3**

**Q.3** तीन संख्याओं में से, पहली संख्या, दूसरी संख्या की तीन गुनी है और तीसरी संख्या की दो गुनी है। यदि इन तीनों संख्याओं का औसत 110 है, तो सबसे छोटी संख्या ज्ञात कीजिए।

- Ans**
- 1. 60
  - 2. 45
  - 3. 30
  - 4. 40

Question ID : **65497835892**  
Status : **Answered**  
Chosen Option : **1**

Q.4 निम्नलिखित व्यंजक का मान ज्ञात करें।

$$\frac{6\frac{1}{2} + 2\frac{5}{7} \times \frac{14}{19} - \frac{1}{2} \div 2 \text{ of } \frac{1}{4}}{11 \times 12 \div 12 + 12}$$

Ans

✗ 1.  $\frac{110}{437}$

✓ 2.  $\frac{15}{46}$

✗ 3.  $\frac{15}{143}$

✗ 4.  $\frac{19}{46}$

Question ID : 65497835884

Status : Answered

Chosen Option : 2

Q.5 एक पंखे को 20% के लाभ पर बेचा जाता है। यदि पंखे के क्रय मूल्य और विक्रय मूल्य दोनों में से ₹150 कम कर दिया जाता है, तो लाभ 5% अधिक होगा। पंखे का वास्तविक क्रय मूल्य (₹ में) ज्ञात कीजिए।

Ans

✗ 1. 600

✓ 2. 750

✗ 3. 800

✗ 4. 450

Question ID : 65497835889

Status : Answered

Chosen Option : 2

Q.6 एक लंब वृत्तीय शंकु का वक्र पृष्ठीय क्षेत्रफल  $3185\pi \text{ cm}^2$  है। यदि इसके आधार की त्रिज्या 35 cm है, तो इसकी ऊंचाई (cm में) कितनी होगी?

Ans

✗ 1. 42

✗ 2. 49

✓ 3. 84

✗ 4. 98

Question ID : 65497835903

Status : Answered

Chosen Option : 3



**Q.7** एक दुकानदार 15% की छूट देता है और फिर भी 5% लाभ प्राप्त करता है। यदि क्रय मूल्य ₹340.00 है, तो अंकित मूल्य (Marked Price) ज्ञात करें।

- Ans**
- 1. ₹450.00
  - 2. ₹380.00
  - 3. ₹420.00
  - 4. ₹400.00

Question ID : **65497835895**  
Status : **Answered**  
Chosen Option : **3**

**Q.8** कविता ने ₹2,500 में एक घड़ी खरीदी और इसे 12% की हानि पर बेच दिया। इन रूपयों से उसने एक पंखा खरीदा और उसे 15% के लाभ पर बेचा। इस पूरे लेनदेन में उसे होने वाले कुल लाभ/हानि का प्रतिशत ज्ञात कीजिए।

- Ans**
- 1. 1.5% हानि
  - 2. 3% लाभ
  - 3. 0.3% हानि
  - 4. 1.2% लाभ

Question ID : **65497835906**  
Status : **Answered**  
Chosen Option : **4**

**Q.9** यदि कोई धनराशि चक्रवृद्धि ब्याज की एक निश्चित दर पर 4 वर्ष में स्वयं की  $1\frac{1}{2}$  गुनी हो जाती है। वही धनराशि, समान ब्याज दर पर कितने वर्ष में स्वयं की  $2\frac{1}{4}$  गुनी हो जाएगी?

- Ans**
- 1. 8
  - 2. 7
  - 3. 9
  - 4. 6

Question ID : **65497835894**  
Status : **Answered**  
Chosen Option : **1**

**Q.10** एक दुकानदार ₹1,500 में 35 दर्जन पेंसिल खरीदता है। उसे 40% का लाभ प्राप्त करने के लिए, ₹125 में कितनी पेंसिलें बेचनी चाहिए?

- Ans**
- 1. 28
  - 2. 24
  - 3. 25
  - 4. 20

Question ID : **65497835882**  
Status : **Answered**  
Chosen Option : **3**

**Q.11** A और B एकसाथ चलना शुरू करते हैं और क्रमशः X और Y स्थानों से एक दूसरे की ओर बढ़ते हैं। मार्ग में एक निश्चित बिंदु पर एक दूसरे से मिलने के बाद, A और B को क्रमशः Y और X तक पहुँचने में 3.2 घंटे और 1.8 घंटे लगते हैं। यदि B की चाल 12 km/h थी, तो A की चाल (km/h में) ज्ञात करें।

- Ans**
- 1. 16
  - 2. 12
  - 3. 9
  - 4. 8

Question ID : **65497835900**  
Status : **Answered**  
Chosen Option : **3**

**Q.12** 14 व्यक्तियों का औसत वजन 76.5 kg है। यदि 82 kg, 75 kg और x kg वजन वाले तीन अन्य व्यक्तियों को उनके साथ शामिल किया जाता है, तो सभी का औसत वजन 0.5 kg बढ़ जाता है। x का मान ज्ञात कीजिए।

- Ans**
- 1. 79.5
  - 2. 80.5
  - 3. 81
  - 4. 85

Question ID : **65497835896**  
Status : **Answered**  
Chosen Option : **3**

**Q.13** यदि A का 15%, B के 45% के बराबर है, तो A-B का कितना प्रतिशत, A के बराबर है?

- Ans**
- 1. 60%
  - 2. 150%
  - 3. 75%
  - 4. 90%

Question ID : **65497835905**  
Status : **Answered**  
Chosen Option : **2**

Q.14  $\left(\frac{7}{5} \div \frac{7}{10} \text{ of } \frac{3}{4}\right) \div \frac{4}{9} + \left(\frac{7}{16} \div 10\frac{1}{2} \times 7\frac{1}{5}\right) \times \frac{5}{12}$  का मान ज्ञात कीजिए।

- Ans
- 1.  $\frac{47}{8}$
  - 2.  $\frac{39}{4}$
  - 3.  $\frac{41}{4}$
  - 4.  $\frac{49}{8}$

Question ID : 65497835888  
Status : Answered  
Chosen Option : 4

Q.15 एक निश्चित कार्य को पूरा करने में A, B की तुलना में 50% कम कुशल है और B, C की तुलना में 50% अधिक कुशल है। A, B और C एक साथ मिलकर इस कार्य को 48 दिनों में पूरा कर सकते हैं। A अकेले इसी कार्य को कितने समय में पूरा कर सकता है?

- Ans
- 1. 52 दिन
  - 2. 104 दिन
  - 3. 156 दिन
  - 4. 208 दिन

Question ID : 65497835899  
Status : Answered  
Chosen Option : 4

Q.16 एक वस्तु का अंकित मूल्य ₹250 है, इसे अंकित मूल्य पर 20%, 10% और  $x\%$  की तीन क्रमिक छूट देने के बाद ₹164.70 में बेचा गया।  $x$  का मान ज्ञात करें।

- Ans
- 1. 8
  - 2. 8.5
  - 3. 9
  - 4. 9.5

Question ID : 65497835897  
Status : Answered  
Chosen Option : 2

**Q.17** एक तैराक स्थिर जल में 12 km/h की चाल से तैर सकता है। यदि एक नदी 2 km/h की चाल से बह रही है, तो तैराक को धारा की विपरीत दिशा में 6 km तैरने में कितना समय लगेगा?

- Ans**
- 1. 40 min
  - 2. 28 min
  - 3. 36 min
  - 4. 30 min

Question ID : 65497835885  
Status : Answered  
Chosen Option : 3

**Q.18** पाइप A और B एक टैंक को क्रमशः 10 घंटे और  $13\frac{1}{3}$  घंटे में भर सकते हैं। पाइप C एक निकासी पाइप है। जब तीनों पाइप एक साथ खोले जाते हैं, तो टैंक 8 घंटे में भर जाता है। पाइप C अकेले टैंक के 25% भाग को कितने घंटे में खाली करेगा?

- Ans**
- 1. 6 घंटे
  - 2. 5 घंटे
  - 3. 4 घंटे
  - 4. 3 घंटे

Question ID : 65497835890  
Status : Answered  
Chosen Option : 2

**Q.19** ₹9,600 धनराशि के एक भाग को वार्षिक 8% की दर से और शेष को वार्षिक 10% की दर से साधारण ब्याज पर निवेशित किया गया है। दोनों निवेशों से 4 वर्ष पश्चात, कुल ₹3,500 ब्याज प्राप्त हुआ। वार्षिक 10% की दर से निवेशित धनराशि (₹ में) कितनी थी?

- Ans**
- 1. 4,400
  - 2. 4,250
  - 3. 5,350
  - 4. 5,200

Question ID : 65497835902  
Status : Answered  
Chosen Option : 3

**Q.20**  $x$  को प्रत्येक 11, 18, 27, 42 संख्या में जोड़ने पर प्राप्त संख्याएं समानुपाती हैं।  $(11x+3)$  और  $(9x-2)$  के बीच मध्यानुपात कितना होगा?

- Ans**
- 1. 25
  - 2. 24
  - 3. 30
  - 4. 28

Question ID : 65497835901  
Status : Answered  
Chosen Option : 3

**Q.21** ₹5800 की एक धनराशि को इस प्रकार तीन भागों में विभाजित किया जाता है कि पहले भाग का आधा, दूसरे भाग का  $\frac{1}{5}$  और तीसरे भाग का  $\frac{3}{8}$  बराबर हैं। तीसरे भाग का मान ज्ञात कीजिए।

- Ans**
- 1. ₹1,200
  - 2. ₹1,400
  - 3. ₹1,600
  - 4. ₹1,500

Question ID : **65497835893**  
Status : **Answered**  
Chosen Option : **3**

**Q.22** A, B और C तीन संख्याएँ हैं। A का मान, B के मान से 20% अधिक है। C का मान, A और B के मानों के योग से 20% कम है। B और C के मानों का अंतर, A के मान से कितने प्रतिशत कम है (एक दशमलव स्थान तक पूर्णांकित)?

- Ans**
- 1. 52.4%
  - 2. 40.8%
  - 3. 36.7%
  - 4. 57.9%

Question ID : **65497835898**  
Status : **Answered**  
Chosen Option : **3**

**Q.23** वह बड़ी से बड़ी संख्या ज्ञात कीजिए, जो 2880, 6525 और 8307 को पूर्णतया विभाजित करती है।

- Ans**
- 1. 3
  - 2. 7
  - 3. 9
  - 4. 11

Question ID : **65497835904**  
Status : **Answered**  
Chosen Option : **3**

**Q.24** सुमित को ₹29700 की धनराशि पर एक निश्चित ब्याज दर पर 3 वर्ष के साधारण ब्याज के रूप में ₹10692 प्राप्त हुए। उसके मित्र अनिल ने ₹12500 की राशि, समान दर पर, किंतु चक्रवृद्धि ब्याज पर, 2 वर्ष के लिए निवेशित की, जहाँ ब्याज की गणना वार्षिक चक्रवृद्धि आधार पर की जाती है। अनिल को ब्याज के रूप में कितनी धनराशि प्राप्त हुई?

- Ans**
- 1. ₹3,180
  - 2. ₹3,200
  - 3. ₹3,000
  - 4. ₹3,150

Question ID : **65497835883**  
Status : **Answered**  
Chosen Option : **1**

**Q.25** एक ठोस घन का संपूर्ण पृष्ठीय क्षेत्रफल  $294 \text{ cm}^2$  है। इसे पिघलाकर 7 cm त्रिज्या वाला लंबवृत्तीय बेलन बनाया जाता है। बेलन की ऊंचाई (cm में, दशमलव के एक स्थान तक सही) कितनी होगी? ( $\pi = \frac{22}{7}$  लें।)

- Ans**
- 1. 2.2
  - 2. 4.5
  - 3. 1.8
  - 4. 3.1

Question ID : **65497835887**  
Status : **Answered**  
Chosen Option : 1

Section : **Part D English**

**Q.1** Select the most appropriate option that can substitute the underlined word in the given sentence.

At the time I was driving near Delhi, I perfectly felt the need to stretch my legs.

- Ans**
- 1. effortlessly
  - 2. suddenly
  - 3. normally
  - 4. partially

Question ID : **65497835911**  
Status : **Answered**  
Chosen Option : 2

**Q.2** Select the INCORRECTLY spelt word.

- Ans**
- 1. Delicacious
  - 2. Progress
  - 3. Present
  - 4. Approve

Question ID : **65497835914**  
Status : **Answered**  
Chosen Option : 1

**Q.3** Select the most appropriate ANTONYM of the given word.

**Humble**

- Ans**
- 1. Modest
  - 2. Boring
  - 3. Fair
  - 4. Arrogant

Question ID : **65497835923**  
Status : **Answered**  
Chosen Option : 4

**Q.4** The following sentence has been divided into parts. One of them may contain an error. Select the part that contains the error from the given options. If you don't find any error, select 'No error' as your answer.

This newspaper has / a bigger circulation / from any other newspaper.

- Ans**
- 1. a bigger circulation
  - 2. from any other newspaper
  - 3. This newspaper has
  - 4. No error

Question ID : **65497835907**  
Status : **Answered**  
Chosen Option : **2**

**Q.5** Select the option that will improve the underlined part of the given sentence. In case no improvement is needed, select 'No improvement required'.

The farmer was deprived from his land by the money lender.

- Ans**
- 1. depriving in
  - 2. No improvement required
  - 3. deprived of
  - 4. deprived on

Question ID : **65497835925**  
Status : **Answered**  
Chosen Option : **3**

**Q.6** Select the option that can be used as a one-word substitute for the given group of words.

One who disbelieves the existence of God

- Ans**
- 1. Polytheist
  - 2. Atheist
  - 3. Monotheist
  - 4. Theologist

Question ID : **65497835922**  
Status : **Answered**  
Chosen Option : **2**

**Q.7** Select the most appropriate option that can substitute the underlined segment in the given sentence. If there is no need to substitute it, select 'No substitution required'.

The first meeting of the Standing Committee were on growth financing because investment is crucial for us in revival after the pandemic.

- Ans**
- 1. No substitution required
  - 2. was on growth financing
  - 3. are on growth financing
  - 4. have been in growth financing

Question ID : **65497835912**  
Status : **Answered**  
Chosen Option : **2**

**Q.8** Select the most appropriate **ANTONYM** of the given word.

**Oppose**

- Ans**  1. Assist  
 2. Quarrel  
 3. Favour  
 4. Control

Question ID : **65497835908**  
Status : **Answered**  
Chosen Option : **3**

**Q.9** Select the most appropriate synonym of the given word.

**Irregular**

- Ans**  1. Smooth  
 2. Common  
 3. Uneven  
 4. Usual

Question ID : **65497835918**  
Status : **Answered**  
Chosen Option : **3**

**Q.10** Select the most appropriate option to fill in the blank.

The huge vase looks out of \_\_\_\_\_ with the surroundings.

- Ans**  1. size  
 2. shape  
 3. design  
 4. place

Question ID : **65497835926**  
Status : **Answered**  
Chosen Option : **1**

**Q.11** Select the most appropriate option to fill in the blank.

The old man has earned the \_\_\_\_\_ of settling disputes peacefully.

- Ans**  1. renown  
 2. reputation  
 3. resistance  
 4. restoration

Question ID : **65497835915**  
Status : **Answered**  
Chosen Option : **3**



**Q.12** Select the most appropriate meaning of the given idiom.

**Storm in a teacup**

- Ans**
- 1. Making a habit of breaking teacups
  - 2. Thunder and storm during meal time
  - 3. Too little tea poured in a cup
  - 4. Anger or fuss about something trivial

Question ID : **65497835919**  
Status : **Answered**  
Chosen Option : **4**

**Q.13** Parts of the given sentence have been given as options. One of them contains a grammatical error. Select the option that has the error.

The news reporter highlighting the mysterious death of the film actor repeatedly.

- Ans**
- 1. highlighting
  - 2. repeatedly
  - 3. the mysterious death
  - 4. of the film actor

Question ID : **65497835920**  
Status : **Answered**  
Chosen Option : **1**

**Q.14** Select the option that can be used as a one-word substitute for the given group of words.

One who supervises in an examination hall

- Ans**
- 1. Examinee
  - 2. Teacher
  - 3. Invigilator
  - 4. Inspector

Question ID : **65497835916**  
Status : **Answered**  
Chosen Option : **3**

**Q.15** Select the **INCORRECTLY** spelt word.

- Ans**
- 1. Private
  - 2. Priviledge
  - 3. Prevalent
  - 4. Previous

Question ID : **65497835910**  
Status : **Answered**  
Chosen Option : **2**

**Q.16** Select the option that can be used as a one-word substitute for the given group of words.

Pictures given in a book for the purpose of explaining things

- Ans  1. Illustration  
 2. Demonstration  
 3. Decoration  
 4. Ornamentation

Question ID : 65497835909  
Status : Answered  
Chosen Option : 1

**Q.17** Select the most appropriate meaning of the given idiom.

To let someone off

- Ans  1. To punish someone lightly  
 2. To thank someone  
 3. To allow someone  
 4. To scold someone severely

Question ID : 65497835924  
Status : Answered  
Chosen Option : 4

**Q.18** The following sentence has been split into four segments. Identify the segment that contains a grammatical error.

It is not simple / to finding / a way out / of problems.

- Ans  1. to finding  
 2. a way out  
 3. of problems  
 4. It is not simple

Question ID : 65497835917  
Status : Answered  
Chosen Option : 1

**Q.19** Select the most appropriate option to fill in the blank.

Several companies have come up with technology at \_\_\_\_\_ prices to suit consumers of all segments.

- Ans  1. acceptable  
 2. agreeable  
 3. amenable  
 4. affordable

Question ID : 65497835913  
Status : Answered  
Chosen Option : 1

**Q.20** Select the most appropriate synonym of the given word.

**Promotion**

- Ans**  1. Demotion  
 2. Endearment  
 3. Elevation  
 4. Domination

Question ID : **65497835921**  
Status : **Answered**  
Chosen Option : **3**

**Comprehension:**

In the following passage, some words have been deleted. Read the passage carefully and select the most appropriate option to fill in each blank.

A biosketch is (1)\_\_\_\_\_ brief summary of a person's professional (2)\_\_\_\_\_ and recognition. It is meant (3)\_\_\_\_\_ highlight the important (4)\_\_\_\_\_ of one's training, experience and (5)\_\_\_\_\_ of interest.

**SubQuestion No : 21**

**Q.21** Select the most appropriate option to fill in blank number 1.

- Ans**  1. No article required  
 2. an  
 3. one  
 4. a

Question ID : **65497835928**  
Status : **Answered**  
Chosen Option : **4**

**Comprehension:**

In the following passage, some words have been deleted. Read the passage carefully and select the most appropriate option to fill in each blank.

A biosketch is (1)\_\_\_\_\_ brief summary of a person's professional (2)\_\_\_\_\_ and recognition. It is meant (3)\_\_\_\_\_ highlight the important (4)\_\_\_\_\_ of one's training, experience and (5)\_\_\_\_\_ of interest.

**SubQuestion No : 22**

**Q.22** Select the most appropriate option to fill in blank number 2.

- Ans**  1. annoyance  
 2. establishments  
 3. accomplishments  
 4. adventures

Question ID : **65497835929**  
Status : **Answered**  
Chosen Option : **3**

**Comprehension:**

In the following passage, some words have been deleted. Read the passage carefully and select the most appropriate option to fill in each blank.

A biosketch is (1)\_\_\_\_\_ brief summary of a person's professional (2)\_\_\_\_\_ and recognition. It is meant (3)\_\_\_\_\_ highlight the important (4)\_\_\_\_\_ of one's training, experience and (5)\_\_\_\_\_ of interest.

**SubQuestion No : 23**

**Q.23** Select the most appropriate option to fill in blank number 3.

- Ans  1. of  
 2. from  
 3. to  
 4. about

Question ID : **65497835930**  
Status : **Answered**  
Chosen Option : **3**

**Comprehension:**

In the following passage, some words have been deleted. Read the passage carefully and select the most appropriate option to fill in each blank.

A biosketch is (1)\_\_\_\_\_ brief summary of a person's professional (2)\_\_\_\_\_ and recognition. It is meant (3)\_\_\_\_\_ highlight the important (4)\_\_\_\_\_ of one's training, experience and (5)\_\_\_\_\_ of interest.

**SubQuestion No : 24**

**Q.24** Select the most appropriate option to fill in blank number 4.

- Ans  1. aspects  
 2. availability  
 3. austerity  
 4. assignments

Question ID : **65497835931**  
Status : **Answered**  
Chosen Option : **1**

**Comprehension:**

In the following passage, some words have been deleted. Read the passage carefully and select the most appropriate option to fill in each blank.

A biosketch is (1)\_\_\_\_\_ brief summary of a person's professional (2)\_\_\_\_\_ and recognition. It is meant (3)\_\_\_\_\_ highlight the important (4)\_\_\_\_\_ of one's training, experience and (5)\_\_\_\_\_ of interest.

**SubQuestion No : 25**

**Q.25** Select the most appropriate option to fill in blank number 5.

- Ans  1. areas  
 2. section  
 3. space  
 4. surface

Question ID : **65497835932**  
Status : **Answered**  
Chosen Option : **2**

Q.1 किस विकल्प में मुहावरा और उसका अर्थ सुमेलित नहीं है?

- Ans
- 1. कलम न रुकना – लिखते ही रहना
  - 2. कलम कसाई – कलम को तोड़ने वाला
  - 3. कलम दान देना – लिखने की नौकरी देना
  - 4. कलम न उठ सकना – लिख न सकना

Question ID : 65497835936  
Status : Not Answered  
Chosen Option : --

Q.2 निम्नलिखित प्रश्न में दिए गए चार विकल्पों में से उस विकल्प का चयन करें, जो मुहावरे के सही अर्थ को व्यक्त करता है।

नमक हलाल

- Ans
- 1. धोखेबाज़
  - 2. भोजनभट्ट
  - 3. कृतज्ञ
  - 4. दुश्मन

Question ID : 65497835945  
Status : Not Answered  
Chosen Option : --

Q.3 दिए गए वाक्यांश के लिए एक शब्द दीजिए:

जो बहुत जानता हो

- Ans
- 1. अज्ञ
  - 2. सर्वज्ञ
  - 3. विज्ञ
  - 4. बहुज्ञ

Question ID : 65497835939  
Status : Not Answered  
Chosen Option : --

Q.4 'कमल' का समानार्थी शब्द कौन सा है?

- Ans
- 1. पयोधर
  - 2. पयोधि
  - 3. पयोद
  - 4. पयोज

Question ID : 65497835934  
Status : Not Answered  
Chosen Option : --

Q.5 सही वर्तनी वाले शब्द का चयन करें।

- Ans
- 1. दिक्षा
  - 2. दीवक्षा
  - 3. दीच्छा
  - 4. दीक्षा

Question ID : 65497835941  
Status : Not Answered  
Chosen Option : --

Q.6 दिए गए शब्द के विलोम शब्द का चयन करें-

इहलोक

- Ans
- 1. परलोक
  - 2. सांसारिक
  - 3. भौतिक
  - 4. लौकिक

Question ID : 65497835938  
Status : Not Answered  
Chosen Option : --

Q.7 दिए गए वाक्य में रेखांकित अंश को प्रतिस्थापित करने के लिए सर्वाधिक उपयुक्त विकल्प का चयन करें।  
यदि इसे प्रतिस्थापित करने की आवश्यकता नहीं है, तो विकल्प 'किसी बदलाव की आवश्यकता नहीं है'  
का चयन करें।

महादेवी जी हिंदी का सुविख्यात कवयित्री थीं।

- Ans
- 1. हिंदी का सुविख्यात कवयित्री था।
  - 2. हिंदी की सुविख्यात कवयित्री थीं।
  - 3. हिंदी का सुविख्यात कवि थीं।
  - 4. किसी बदलाव की आवश्यकता नहीं है।

Question ID : 65497835940  
Status : Not Answered  
Chosen Option : --

Q.8 सही वर्तनी वाले शब्द का चयन करें।

- Ans
- 1. लक्ष्मण
  - 2. लच्छमन
  - 3. लछमन
  - 4. लक्षमण

Question ID : 65497835942  
Status : Not Answered  
Chosen Option : --

Q.9 दिए गए वाक्यांश के लिए एक शब्द दीजिए:

केवल फलों पर जीवन निर्वाह करने वाला

- Ans
- 1. अन्नाहारी
  - 2. शाकाहारी
  - 3. अल्पाहारी
  - 4. फलाहारी

Question ID : 65497835944  
Status : Not Answered  
Chosen Option : --

Q.10 दिए गए वाक्य के किस भाग में त्रुटि है?

वह सीड़ियों से ऊपर चढ़ गया।

- Ans
- 1. चढ़ गया।
  - 2. वह
  - 3. ऊपर
  - 4. सीड़ियों से

Question ID : 65497835951  
Status : Not Answered  
Chosen Option : --

Q.11 रिक्त स्थान की पूर्ति करने के लिए सर्वाधिक उपयुक्त विकल्प का चयन करें।

मन में \_\_\_\_\_ उत्पन्न होने से मैं कोई निर्णय न कर सका।

- Ans
- 1. टकराहट
  - 2. द्वंद्व
  - 3. संघर्ष
  - 4. युद्ध

Question ID : 65497835949  
Status : Not Answered  
Chosen Option : --

Q.12 कौन सा विलोम-युग्म सुमेलित नहीं है?

- Ans
- 1. योगिक-अयोगिक
  - 2. लचकीला-कड़ा
  - 3. यौवन-वार्धक्य
  - 4. योगी-वियोगी

Question ID : 65497835935  
Status : Not Answered  
Chosen Option : --

Q.13 अनाथाश्रम में \_\_\_\_\_ रहते हैं।

रिक्त स्थान की पूर्ति कीजिए।

- Ans
- 1. मध्यम वर्ग के बच्चे
  - 2. श्रीमंत बच्चे
  - 3. अनाथ बच्चे
  - 4. झोपडपट्टी के बच्चे

Question ID : 65497835948  
Status : Not Answered  
Chosen Option : --

Q.14 दिए गए वाक्य में रेखांकित अंश को प्रतिस्थापित करने के लिए सर्वाधिक उपयुक्त विकल्प का चयन करें।  
यदि इसे प्रतिस्थापित करने की आवश्यकता नहीं है, तो विकल्प 'किसी बदलाव की आवश्यकता नहीं है'  
का चयन करें।

भारतीय किसान को खूब मेहनत करने पर भी उसकी पूरी लाभ नहीं मिलता है।

- Ans
- 1. किसी बदलाव की आवश्यकता नहीं है।
  - 2. उसका पूरी लाभ नहीं मिलती है।
  - 3. उसके पूरे लाभ नहीं मिलता है।
  - 4. उसका पूरा लाभ नहीं मिलता है।

Question ID : 65497835946  
Status : Not Answered  
Chosen Option : --

Q.15 'विभूति' का पर्यायवाची क्या है?

- Ans
- 1. शक्ति
  - 2. संपदा
  - 3. सौंदर्य
  - 4. विरासत

Question ID : 65497835952  
Status : Not Answered  
Chosen Option : --

Q.16 'आकाश को चूमने वाला' वाक्यांश के लिए एक शब्द क्या होगा?

- Ans
- 1. गगनधर्मा
  - 2. आकाशीय
  - 3. गगनचुंबी
  - 4. आकाशवाणी

Question ID : 65497835950  
Status : Not Answered  
Chosen Option : --



Q.17 दिए गए वाक्य का वह भाग ज्ञात करें, जिसमें कोई त्रुटि है। यदि कोई त्रुटि नहीं है, तो 'कोई त्रुटि नहीं है' चुनें।

उसे परिश्रम करनी चाहिए (1)\ और इस तरह अपनी कमी (2)\ पूरी करनी चाहिए (3)\ कोई त्रुटि नहीं है (4)

Ans  1. 3

2. 4

3. 2

4. 1

Question ID : 65497835937

Status : Not Answered

Chosen Option : --

Q.18 रिक्त स्थान की पूर्ति करने के लिए सर्वाधिक उपयुक्त शब्द का चयन करें।

विपत्ति में कभी अपना \_\_\_\_\_ नहीं खोना चाहिए।

Ans  1. क्रोध

2. धैर्य

3. शांति

4. धन

Question ID : 65497835943

Status : Not Answered

Chosen Option : --

Q.19 दिए गए वाक्य का वह भाग ज्ञात करें, जिसमें कोई त्रुटि है। यदि कोई त्रुटि नहीं है, तो 'कोई त्रुटि नहीं है' चुनें।

अनेकों बार (1)\ देख (2)\ चुका हूं। (3)\ कोई त्रुटि नहीं है (4)

Ans  1. 4

2. 1

3. 3

4. 2

Question ID : 65497835933

Status : Not Answered

Chosen Option : --

Q.20 दिए गए वाक्य में रेखांकित अंश को प्रतिस्थापित करने के लिए सर्वाधिक उपयुक्त विकल्प का चयन करें।

सूर्य प्रतिदिन पूर्व में उग रहा है।

Ans  1. उगलता है।

2. जगता है।

3. उगता है।

4. ढलता है।

Question ID : 65497835947

Status : Not Answered

Chosen Option : --

**Comprehension:**

दिए गए गद्यांश में कुछ शब्द हटा दिए गए हैं। दिए गए विकल्पों की सहायता से रिक्त स्थानों की पूर्ति करें।  
प्रत्येक संख्या के लिए सर्वाधिक उपयुक्त विकल्प का चयन करें।

शिक्षक को राष्ट्र-निर्माता कहा जाता है। वह देश के बच्चों का (1) \_\_\_\_\_ संवारता है। उसका काम है—आज तक के नए ज्ञान को नई पीढ़ी के मन-मस्तिष्क में भरना। उससे भी अधिक आवश्यक है- अच्छे मनुष्य बनाना। (2) \_\_\_\_\_ शिक्षक वही है जो नए ज्ञान को पाने का इच्छुक रहता है। वह केवल किताबों तक ही सीमित नहीं रहता। वह अपने शिष्यों के जीवन में (3) \_\_\_\_\_ भरता है। वह उनमें अच्छी आदतों का विकास करता है। इसके लिए वह स्वयं अपना काम समय से और (4) \_\_\_\_\_ से करता है। बच्चे ऐसे शिक्षक से प्रभावित होते हैं। अच्छा शिक्षक (5) \_\_\_\_\_ होता है। वह डांट-डपट, क्रोध और व्यंग्य की बजाय अच्छे मित्र की तरह व्यवहार करता है।  
गद्यांश के आधार पर प्रश्नों के उत्तर दीजिए।

**SubQuestion No : 21**

**Q.21** गद्यांश के रिक्त स्थान (1) के लिए सर्वाधिक उपयुक्त शब्द होगा-

- Ans
- 1. परलोक
  - 2. संसार
  - 3. भूत
  - 4. भविष्य

Question ID : 65497835954

Status : Not Answered

Chosen Option : --

**Comprehension:**

दिए गए गद्यांश में कुछ शब्द हटा दिए गए हैं। दिए गए विकल्पों की सहायता से रिक्त स्थानों की पूर्ति करें।  
प्रत्येक संख्या के लिए सर्वाधिक उपयुक्त विकल्प का चयन करें।

शिक्षक को राष्ट्र-निर्माता कहा जाता है। वह देश के बच्चों का (1) \_\_\_\_\_ संवारता है। उसका काम है—आज तक के नए ज्ञान को नई पीढ़ी के मन-मस्तिष्क में भरना। उससे भी अधिक आवश्यक है- अच्छे मनुष्य बनाना। (2) \_\_\_\_\_ शिक्षक वही है जो नए ज्ञान को पाने का इच्छुक रहता है। वह केवल किताबों तक ही सीमित नहीं रहता। वह अपने शिष्यों के जीवन में (3) \_\_\_\_\_ भरता है। वह उनमें अच्छी आदतों का विकास करता है। इसके लिए वह स्वयं अपना काम समय से और (4) \_\_\_\_\_ से करता है। बच्चे ऐसे शिक्षक से प्रभावित होते हैं। अच्छा शिक्षक (5) \_\_\_\_\_ होता है। वह डांट-डपट, क्रोध और व्यंग्य की बजाय अच्छे मित्र की तरह व्यवहार करता है।  
गद्यांश के आधार पर प्रश्नों के उत्तर दीजिए।

**SubQuestion No : 22**

**Q.22** गद्यांश के रिक्त स्थान (2) के लिए सर्वाधिक उपयुक्त शब्द होगा-

- Ans
- 1. पतित
  - 2. आदर्श
  - 3. जीवत
  - 4. साहस

Question ID : 65497835955

Status : Not Answered

Chosen Option : --

**Comprehension:**

दिए गए गद्यांश में कुछ शब्द हटा दिए गए हैं। दिए गए विकल्पों की सहायता से रिक्त स्थानों की पूर्ति करें।  
प्रत्येक संख्या के लिए सर्वाधिक उपयुक्त विकल्प का चयन करें।

शिक्षक को राष्ट्र-निर्माता कहा जाता है। वह देश के बच्चों का (1) \_\_\_\_\_ संवारता है। उसका काम है—आज तक के नए ज्ञान को नई पीढ़ी के मन-मस्तिष्क में भरना। उससे भी अधिक आवश्यक है- अच्छे मनुष्य बनाना। (2) \_\_\_\_\_ शिक्षक वही है जो नए ज्ञान को पाने का इच्छुक रहता है। वह केवल किताबों तक ही सीमित नहीं रहता। वह अपने शिष्यों के जीवन में (3) \_\_\_\_\_ भरता है। वह उनमें अच्छी आदतों का विकास करता है। इसके लिए वह स्वयं अपना काम समय से और (4) \_\_\_\_\_ से करता है। बच्चे ऐसे शिक्षक से प्रभावित होते हैं। अच्छा शिक्षक (5) \_\_\_\_\_ होता है। वह डांट-डपट, क्रोध और व्यंग्य की बजाय अच्छे मित्र की तरह व्यवहार करता है।  
गद्यांश के आधार पर प्रश्नों के उत्तर दीजिए।

**SubQuestion No : 23**

**Q.23** गद्यांश के रिक्त स्थान (3) के लिए सर्वाधिक उपयुक्त शब्द होगा-

- Ans**
- 1. स्वामिभक्ति
  - 2. संस्कार
  - 3. आचार
  - 4. व्याभिचार

Question ID : **65497835956**  
Status : **Not Answered**  
Chosen Option : --

**Comprehension:**

दिए गए गद्यांश में कुछ शब्द हटा दिए गए हैं। दिए गए विकल्पों की सहायता से रिक्त स्थानों की पूर्ति करें।  
प्रत्येक संख्या के लिए सर्वाधिक उपयुक्त विकल्प का चयन करें।

शिक्षक को राष्ट्र-निर्माता कहा जाता है। वह देश के बच्चों का (1) \_\_\_\_\_ संवारता है। उसका काम है—आज तक के नए ज्ञान को नई पीढ़ी के मन-मस्तिष्क में भरना। उससे भी अधिक आवश्यक है- अच्छे मनुष्य बनाना। (2) \_\_\_\_\_ शिक्षक वही है जो नए ज्ञान को पाने का इच्छुक रहता है। वह केवल किताबों तक ही सीमित नहीं रहता। वह अपने शिष्यों के जीवन में (3) \_\_\_\_\_ भरता है। वह उनमें अच्छी आदतों का विकास करता है। इसके लिए वह स्वयं अपना काम समय से और (4) \_\_\_\_\_ से करता है। बच्चे ऐसे शिक्षक से प्रभावित होते हैं। अच्छा शिक्षक (5) \_\_\_\_\_ होता है। वह डांट-डपट, क्रोध और व्यंग्य की बजाय अच्छे मित्र की तरह व्यवहार करता है।  
गद्यांश के आधार पर प्रश्नों के उत्तर दीजिए।

**SubQuestion No : 24**

**Q.24** गद्यांश के रिक्त स्थान (4) के लिए सर्वाधिक उपयुक्त शब्द होगा-

- Ans**
- 1. बेमानी
  - 2. ईमानदारी
  - 3. सदाचार
  - 4. आलस्य

Question ID : **65497835957**  
Status : **Not Answered**  
Chosen Option : --

**Comprehension:**

दिए गए गद्यांश में कुछ शब्द हटा दिए गए हैं। दिए गए विकल्पों की सहायता से रिक्त स्थानों की पूर्ति करें।  
प्रत्येक संख्या के लिए सर्वाधिक उपयुक्त विकल्प का चयन करें।

शिक्षक को राष्ट्र-निर्माता कहा जाता है। वह देश के बच्चों का (1) \_\_\_\_\_ संवारता है। उसका काम है—आज तक के नए ज्ञान को नई पीढ़ी के मन-मस्तिष्क में भरना। उससे भी अधिक आवश्यक है- अच्छे मनुष्य बनाना। (2) \_\_\_\_\_ शिक्षक वही है जो नए ज्ञान को पाने का इच्छुक रहता है। वह केवल किताबों तक ही सीमित नहीं रहता। वह अपने शिष्यों के जीवन में (3) \_\_\_\_\_ भरता है। वह उनमें अच्छी आदतों का विकास करता है। इसके लिए वह स्वयं अपना काम समय से और (4) \_\_\_\_\_ से करता है। बच्चे ऐसे शिक्षक से प्रभावित होते हैं। अच्छा शिक्षक (5) \_\_\_\_\_ होता है। वह डांट-डपट, क्रोध और व्यंग्य की बजाय अच्छे मित्र की तरह व्यवहार करता है।  
गद्यांश के आधार पर प्रश्नों के उत्तर दीजिए।

**SubQuestion No : 25**

**Q.25** गद्यांश के रिक्त स्थान (5) के लिए सर्वाधिक उपयुक्त शब्द होगा-

- Ans**
- 1. निडर
  - 2. गुस्सैल
  - 3. दबंग
  - 4. स्नेहपूर्ण

Question ID : **65497835958**

Status : **Not Answered**

Chosen Option : --