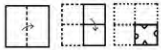


## Constable GD in CAPFs NIA SSF and Rifleman GD in Assam Rifles Examination 2021

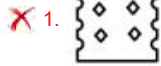
|                |  |
|----------------|--|
| Roll Number    | <a href="http://www.GovtJobsAlert.In">www.GovtJobsAlert.In</a> |
| Candidate Name | <a href="http://www.GovtJobsAlert.In">www.GovtJobsAlert.In</a> |
| Venue Name     | Yagyavalkya Institute of Technology                            |
| Exam Date      | 29/11/2021   |
| Exam Time :    | 4:00 PM - 5:30 PM  |
| Subject        | Constable GD 2021  |

### Section : Part A General Intelligence and Reasoning

Q.1 नीचे दी गई आकृतियों में काराज के एक टुकड़े को मोड़ने और मोड़े गए काराज को काटने के तरीके का क्रम दर्शाया गया है। काराज को खोले जाने पर वह कैसा दिखाई देगा?



Ans



Question ID : 65497829620

Status : Answered

Chosen Option : 4

Q.2 एक निश्चित कूट भाषा में, 'CONVERT' को '34142221820' लिखा जाता है और 'FORTUNE' को '6418205142' लिखा जाता है। उसी कूट भाषा में, 'ACQUIRE' को किस प्रकार लिखा जाएगा?

Ans  1. 131753182

2. 131759185

3. 1317219185

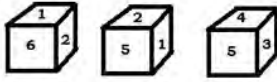
4. 131753185

Question ID : 65497829631

Status : Answered

Chosen Option : 1

Q.3 नीचे एक ही पासे की तीन भिन्न स्थितियाँ दर्शाई गई हैं। उस संख्या का चयन करें जो संख्या '1' वाले फलक के विपरीत फलक पर है।



- Ans
- 1. 4
  - 2. 3
  - 3. 6
  - 4. 5

Question ID : 65497829628  
Status : Answered  
Chosen Option : 2

Q.4 एक निश्चित कूट भाषा में, 'ANGUISH' को 'BOIWLVL' लिखा जाता है। उसी भाषा में 'DICTATOR' को किस प्रकार लिखा जाएगा?

- Ans
- 1. EJFUDWSV
  - 2. EJEVDWSV
  - 3. EJEVDWSW
  - 4. EJFVDVSV

Question ID : 65497829616  
Status : Answered  
Chosen Option : 2

Q.5 चार अक्षर-समूह दिए गए हैं, जिनमें से तीन किसी तरह से संगत हैं, और एक असंगत है। असंगत अक्षर-समूह का चयन कीजिए।

- Ans
- 1. QORM
  - 2. FDGB
  - 3. TRUP
  - 4. XVYS

Question ID : 65497829630  
Status : Answered  
Chosen Option : 4

Q.6 दर्पण को दिए गए चित्र के अनुसार PQ पर रखे जाने पर दिए गए संयोजन के सही दर्पण प्रतिबिंब का चयन कीजिए।

HEADLINES

- Ans
- 1. HEVDIHEH
  - 2. SEIILINES
  - 3. HVEDIHAH
  - 4. HEADLINES

Question ID : 65497829633  
Status : Answered  
Chosen Option : 4

Q.7 दिए गए कथनों और निष्कर्षों को ध्यान से पढ़ें। कथनों में दी गई जानकारी को सत्य मानते हुए विचार करें, भले ही यह सामान्यतः ज्ञात तथ्यों से भिन्न प्रतीत होती हो, और बताएं कि दिए गए निष्कर्षों में से कौन से तार्किक रूप से कथनों का पालन करते हैं?

कथन:

सभी लकड़ियां बोटलें हैं।  
सभी बोटलें पर्दे हैं।

निष्कर्ष:

I. सभी पर्दे बोटलें हैं।  
II. कुछ बोटलें लकड़ियां हैं।

- Ans  1. या तो निष्कर्ष I या तो II पालन करता है।  
 2. केवल निष्कर्ष II पालन करता है।  
 3. निष्कर्ष I और II दोनों पालन करते हैं।  
 4. केवल निष्कर्ष I पालन करता है।

Question ID : 65497829617  
Status : Answered  
Chosen Option : 2

Q.8 दिए गए विकल्पों में से उस संख्या का चयन कीजिए, जो निम्नलिखित श्रेणी में प्रश्नवाचक चिह्न (?) के स्थान पर आ सकती है।

4, 22, 47, 83, 132, 198, 283, ?

- Ans  1. 419  
 2. 391  
 3. 319  
 4. 491

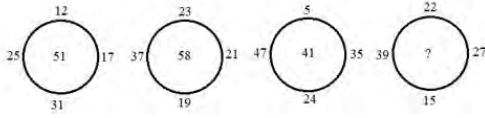
Question ID : 65497829632  
Status : Answered  
Chosen Option : 2

Q.9 एक फिल्म निर्माण टीम के पांच सदस्य निर्देशक, निर्माता, स्क्रिप्ट लेखक, कोरियोग्राफर और सेट डिज़ाइनर एक पंक्ति में उत्तर दिशा की ओर मुंह करके बैठे हैं। निर्देशक, निर्माता के बगल में बैठा है। स्क्रिप्ट लेखक, कोरियोग्राफर के बगल में बैठा है। कोरियोग्राफर, सेट डिज़ाइनर के साथ नहीं बैठा है, जो कि पंक्ति के बाएं सिरे पर है। स्क्रिप्ट लेखक, दाईं ओर दूसरे स्थान पर है। निर्देशक, निर्माता और सेट डिज़ाइनर के दाईं ओर है। निर्देशक और स्क्रिप्ट लेखक एक साथ बैठे हैं। निर्देशक, इनमें से किस स्थान पर बैठा है?

- Ans  1. सेट डिज़ाइनर और कोरियोग्राफर के बीच में  
 2. निर्माता और स्क्रिप्ट लेखक के बीच में  
 3. स्क्रिप्ट लेखक और सेट डिज़ाइनर के बीच में  
 4. निर्माता और कोरियोग्राफर के बीच में

Question ID : 65497829623  
Status : Not Answered  
Chosen Option : --

Q.10 दिए गए पैटर्न का ध्यानपूर्वक अध्ययन करें और उस संख्या का चयन करें जो इसमें प्रश्न चिह्न (?) के स्थान पर आ सकती है।



- Ans
- 1. 51
  - 2. 53
  - 3. 49
  - 4. 45

Question ID : 65497829619  
Status : Answered  
Chosen Option : 3

Q.11 उस विकल्प का चयन करें, जिसका तीसरे अक्षर-समूह से वही संबंध है, जो दूसरे अक्षर-समूह का पहले अक्षर-समूह से है।

FGYJK : KJYGF :: LMQBG : ?

- Ans
- 1. GCPNM
  - 2. GBQML
  - 3. HCRNM
  - 4. HBQNL

Question ID : 65497829613  
Status : Answered  
Chosen Option : 2

Q.12 'बेल्जियम' का 'यूरो' से वही संबंध है, जो 'स्लोवाकिया' का '\_\_\_\_\_' से है।

- Ans
- 1. रूबल
  - 2. डॉलर
  - 3. यूरो
  - 4. रियाल

Question ID : 65497829622  
Status : Not Answered  
Chosen Option : --

Q.13 उस विकल्प का चयन करें, जिसका तीसरी संख्या से वही संबंध है, जो दूसरी संख्या का पहली संख्या से है।

8 : 73 :: 9 : ?

- Ans
- 1. 8
  - 2. 98
  - 3. 100
  - 4. 91

Question ID : 65497829626  
Status : Answered  
Chosen Option : 4

Q.14 दिए गए विकल्पों में से उस अक्षर-समूह का चयन कीजिए, जो निम्नलिखित श्रृंखला में प्रश्नवाचक चिह्न (?) के स्थान पर आ सकता है।

SLOW, UNMU, WPKS, YRIQ, ?

- Ans
- 1. APKO
  - 2. WUKO
  - 3. WTGS
  - 4. ATGO

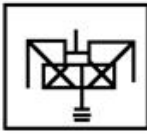
Question ID : 65497829621  
Status : Answered  
Chosen Option : 4

Q.15 उस विकल्प का चयन करें जिसमें दी गई आकृति अंतर्निहित है (घुमाने की अनुमति नहीं है)।

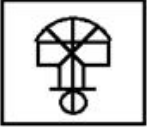


Ans

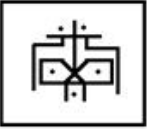
1.



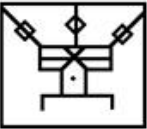
2.



3.



4.



Question ID : 65497829629  
Status : Answered  
Chosen Option : 1

Q.16 अक्षरों के उस संयोजन का चयन कीजिए, जिसे दी गई अक्षर श्रृंखला के रिक्त स्थानों में क्रमिक रूप से रखने पर श्रृंखला पूर्ण हो जाएगी।

\_ P \_ L I P \_ L \_ \_ N L

- Ans
- 1. PNLLI
  - 2. IPPIP
  - 3. INNIP
  - 4. INLII

Question ID : 65497829610  
Status : Answered  
Chosen Option : 3

Q.17 एक फेस्टिवल सेल में, अलग-अलग कंपनियों की सात कारें - A, B, C, D, E, F और G, पश्चिम दिशा की ओर मुंह करके खड़ी हैं। A, B के बाईं ओर दूसरे स्थान पर है। B, C के बाईं ओर तीसरे स्थान पर है। D, F और B के बीच में है। C, G के दाईं ओर चौथे स्थान पर है, और एक सिरे पर है। निम्नलिखित विकल्पों में से कौन सी E की सही स्थिति है?

- Ans
- 1. B के बाईं ओर तीसरे स्थान पर
  - 2. G के दाईं ओर पांचवें स्थान पर
  - 3. C के दाईं ओर दूसरे स्थान पर
  - 4. A के बाईं ओर चौथे स्थान पर

Question ID : 65497829625  
Status : Answered  
Chosen Option : 1

Q.18 एक निश्चित कूट भाषा में, 'WORD' को 'DLIW' लिखा जाता है और 'NOUN' को 'MLFM' लिखा जाता है। उसी कूट भाषा में 'VERB' को किस प्रकार लिखा जाएगा?

- Ans
- 1. FUJY
  - 2. GVIX
  - 3. EWIX
  - 4. EVIY

Question ID : 65497829614  
Status : Answered  
Chosen Option : 4

Q.19 उस आकृति का चयन कीजिए जो निम्न आकृति श्रृंखला में प्रश्नचिह्न (?) के स्थान पर आएगी।



Ans

- 1.
- 2.
- 3.
- 4.

Question ID : 65497829612  
Status : Answered  
Chosen Option : 4

Q.20 उस सही विकल्प का चयन कीजिए, जो निम्न शब्दों के उस क्रम को दर्शाता है, जिस क्रम में वे अंग्रेजी शब्दकोश में मौजूद होते हैं।

1. Thought
2. Throating
3. Throttlehold
4. Thorough
5. Thrombocyte

- Ans
- 1. 1, 4, 2, 3, 5
  - 2. 1, 4, 2, 5, 3
  - 3. 4, 1, 2, 3, 5
  - 4. 4, 1, 2, 5, 3

Question ID : 65497829609  
Status : Answered  
Chosen Option : 4

Q.21 दिए गए विकल्पों में से उस संख्या का चयन कीजिए, जो निम्नलिखित श्रेणी में प्रश्नवाचक चिह्न (?) के स्थान पर आ सकती है।

12, 3, 24, 6, 36, 9, ?

- Ans
- 1. 48
  - 2. 60
  - 3. 54
  - 4. 12

Question ID : 65497829611  
Status : Answered  
Chosen Option : 1

Q.22 दिए गए पैटर्न का ध्यानपूर्वक अध्ययन करें, और उस संख्या का चयन करें, जो इसमें प्रश्नवाचक चिह्न (?) के स्थान पर आ सकती है।

23 63 34  
31 ? 28  
27 63 18

- Ans
- 1. 67
  - 2. 63
  - 3. 76
  - 4. 71

Question ID : 65497829618  
Status : Not Attempted and Marked For Review  
Chosen Option : --

Q.23 एक छायाचित्र की ओर इंगित करते हुए एक महिला ने एक व्यक्ति से कहा, "वह तुम्हारे भाई के दादा के इकलौते पुत्र की पत्नी है।" छायाचित्र में प्रदर्शित महिला का व्यक्ति से क्या संबंध है?


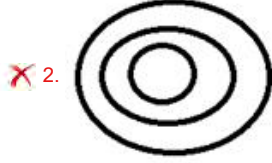
- Ans
- 1. चाची/ताई/बुआ/मौसी/मामी
  - 2. बहन
  - 3. दादी
  - 4. माँ

Question ID : 65497829615  
Status : Answered  
Chosen Option : 4

Q.24 उस वेन आरेख का चयन करें जो निम्नलिखित वर्गों के मध्य संबंधों को सर्वोत्तम तरीके से निरूपित करता है।

पुरुष, उद्यमी, परोपकारी

Ans



Question ID : 65497829624

Status : Answered

Chosen Option : 4

Q.25 यदि '+' का अर्थ 'घटाना', '-' का अर्थ 'योग', '<' का अर्थ 'गुणा' और '>' का अर्थ 'भाग' है, तो ' $79 \div 11 < 18 > (6 > 3) + 9$ ' का मान ज्ञात कीजिए।

Ans

1. 169

2. 81

3. 121

4. 109

Question ID : 65497829627

Status : Answered

Chosen Option : 1

Section : Part B General Knowledge and General Awareness

Q.1 केंद्रीय बजट 2020-21 में, कर अभियोजन (tax litigation) को कम करने के लिए निम्नलिखित में से किस योजना का शुभारंभ किया गया था?

Ans

1. विवाद से वरदान

2. विवाद से विश्वास

3. विवाद पे विश्वास

4. विश्वास पे विश्वास

Question ID : 65497829644

Status : Not Answered

Chosen Option : --



Q.2 2020 में, नैनो विज्ञान एवं प्रौद्योगिकी संस्थान (INST) के वैज्ञानिकों ने दवा एस्पिरिन का उपयोग करके \_\_\_\_\_ का एक सरल एवं किफायती उपचार विकसित किया।

- Ans
- 1. पोलियो
  - 2. मोतियाबिंद
  - 3. दमा (अस्थमा)
  - 4. मधुमेह

Question ID : 65497829650  
Status : Not Answered  
Chosen Option : --

Q.3 निम्नलिखित में से किस दिन को भारत के संविधान दिवस के रूप में मनाया जाता है?

- Ans
- 1. 27 नवंबर
  - 2. 28 नवंबर
  - 3. 29 नवंबर
  - 4. 26 नवंबर

Question ID : 65497829641  
Status : Answered  
Chosen Option : 4

Q.4 गुजरात में स्थित सरदार पटेल प्राणी उद्यान का उद्घाटन 30 अक्टूबर 2020 को \_\_\_\_\_ द्वारा किया गया था।

- Ans
- 1. नरेंद्र मोदी
  - 2. स्मृति ईरानी
  - 3. अमित शाह
  - 4. जे.पी. नड्डा

Question ID : 65497829642  
Status : Answered  
Chosen Option : 1

Q.5 एक परिपक्व उष्णकटिबंधीय चक्रवात में केंद्र के आसपास प्रबल कुंडलित हवा घूमती है, जो \_\_\_\_\_ कहलाती है।

- Ans
- 1. सिर
  - 2. नाक
  - 3. आंख
  - 4. हृदय

Question ID : 65497829638  
Status : Not Answered  
Chosen Option : --

Q.6 भारतीय संविधान ऐसे नियम निर्दिष्ट करता है, जो हमारे राजनीतिक नेताओं द्वारा सत्ता का दुरुपयोग किए जाने की रोकथाम करते हैं। इनमें से कई कानून \_\_\_\_\_ से संबंधित धारा में निहित हैं।

- Ans
- 1. संघ और राज्यों के बीच संबंध
  - 2. निदेशक तत्व
  - 3. मौलिक कर्तव्य
  - 4. मौलिक अधिकार

Question ID : 65497829646  
Status : Answered  
Chosen Option : 4

Q.7 ए फाइन बैलेंस (A Fine Balance)' नामक पुस्तक के लेखक कौन हैं?

- Ans
- 1. अरुंधति रॉय
  - 2. झुम्पा लाहिड़ी
  - 3. शशि थरूर
  - 4. रोहिंटन मिस्त्री

Question ID : 65497829651  
Status : Not Answered  
Chosen Option : --

Q.8 जब कोई संगठन अपने वित्तीय दायित्वों को पूरा करने या अपने लेनदारों को भुगतान करने में असमर्थ होता है, तो वह न्यायालय में \_\_\_\_\_ के लिए आवेदन दाखिल करता है।

- Ans
- 1. दिवालियापन (bankruptcy)
  - 2. लेखा देय (account payable)
  - 3. लेखा प्राप्य (account receivable)
  - 4. ऋण वित्तपोषण (debt financing)

Question ID : 65497829643  
Status : Answered  
Chosen Option : 1

Q.9 19 जुलाई 2021 को लोकसभा में वित्त राज्य मंत्री, श्री पंकज चौधरी द्वारा दिए गए बयान के अनुसार, भारत दुनिया में विदेशी मुद्रा भंडार का \_\_\_\_\_ सबसे बड़ा धारक है।

- Ans
- 1. नौवां
  - 2. पांचवां
  - 3. चौथा
  - 4. सातवां

Question ID : 65497829658  
Status : Answered  
Chosen Option : 3

Q.10 'इंडिया : एन इंट्रोडक्शन (India: An Introduction)' नामक पुस्तक किसने लिखी है?

- Ans
- 1. खुशवंत सिंह
  - 2. ए.पी.जे. अब्दुल कलाम
  - 3. जयराम रमेश
  - 4. लालकृष्ण आडवाणी

Question ID : 65497829656  
Status : Not Answered  
Chosen Option : --

Q.11 नाट्य शास्त्र ने तंतु वाद्यों को ' \_\_\_\_\_ वाद्य' के रूप में वर्णित किया है।

- Ans
- 1. घन
  - 2. सुषिर
  - 3. अवनद्ध
  - 4. तत

Question ID : 65497829648  
Status : Answered  
Chosen Option : 2

Q.12 निम्नलिखित में से किसे नवंबर, 2020 में अंतर्राष्ट्रीय क्रिकेट परिषद (ICC) का नया स्वतंत्र अध्यक्ष (independent Chairman) नियुक्त किया गया?

- Ans
- 1. इमरान ख्वाजा
  - 2. एन. श्रीनिवासन
  - 3. शशांक मनोहर
  - 4. ग्रेग बार्कले

Question ID : 65497829634  
Status : Answered  
Chosen Option : 4

Q.13 \_\_\_\_\_, मृदा संरक्षण की एक विधि है।

- Ans
- 1. हाइड्रोपोनिक खेती (hydroponic farming)
  - 2. टेरेस फार्मिंग (Terrace farming)
  - 3. शेल्टर फार्मिंग (Shelter farming)
  - 4. घुमंतू खेती (Nomadic farming)

Question ID : 65497829652  
Status : Answered  
Chosen Option : 2

Q.14 बोध गया, एक महत्वपूर्ण बौद्ध तीर्थस्थल क्यों है?

- Ans
- 1. यहां गौतम बुद्ध का जन्म हुआ था
  - 2. यहां गौतम बुद्ध को ज्ञान प्राप्त हुआ था
  - 3. गौतम बुद्ध ने ज्ञान प्राप्त करने के बाद यहां अपना प्रथम उपदेश दिया था
  - 4. यहां गौतम बुद्ध को परिनिर्वाण प्राप्त हुआ था

Question ID : 65497829636  
Status : Answered  
Chosen Option : 3

Q.15 सितंबर 2020 में, ऑस्ट्रेलिया की सरकार ने भारत के साथ व्यापार संबंधों को आगे बढ़ाने के लिए पूर्व क्रिकेटर मैथ्यू हेडन और भारतीय मूल के राजनीतिज्ञ \_\_\_\_\_ को व्यापारिक दूत (envoy) नियुक्त किया है।

- Ans
- 1. लीसा सिंह (Lisa Singh)
  - 2. कौशल्या वाघेला
  - 3. दीपक राज गुप्ता
  - 4. देव शर्मा (Dave Sharma)

Question ID : 65497829647  
Status : Not Answered  
Chosen Option : --

Q.16 गोरीचेन \_\_\_\_\_ में स्थित सबसे ऊंची पर्वत-चोटी है।

- Ans
- 1. असम
  - 2. मणिपुर
  - 3. सिक्किम
  - 4. अरुणाचल प्रदेश

Question ID : 65497829655  
Status : Not Answered  
Chosen Option : --

Q.17 डोमिनिक थिएम \_\_\_\_\_ के एक पेशेवर टेनिस खिलाड़ी है।

- Ans
- 1. जर्मनी
  - 2. स्पेन
  - 3. ऑस्ट्रिया
  - 4. रूस

Question ID : 65497829657  
Status : Not Answered  
Chosen Option : --

Q.18 छोटा नागपुर के आदिवासियों द्वारा \_\_\_\_\_ को 'दिकू (Dikus)' कहा जाता था।

- Ans
- 1. गुलामों
  - 2. योद्धाओं
  - 3. शिकारियों
  - 4. बाहरी व्यक्तियों

Question ID : 65497829639  
Status : Answered  
Chosen Option : 2

Q.19 निम्न कथनों में से कौन सा कथन गलत है?

- Ans
- 1. सोडियम को यदि खुले में छोड़ दिया जाए तो यह आग पकड़ सकता है।
  - 2. लीथियम का घनत्व उच्च होता है।
  - 3. कार्बन एक अधातु है।
  - 4. आयोडीन एक चमकदार अधातु है।

Question ID : 65497829649  
Status : Answered  
Chosen Option : 2

Q.20 मनुष्यों में हर्पीज़ (Herpes), एक \_\_\_\_\_ है।

- Ans
- 1. विषाणुजनित रोग
  - 2. फफूंदजनित रोग
  - 3. परजीवी जनित रोग
  - 4. जीवाणुजनित रोग

Question ID : 65497829635  
Status : Answered  
Chosen Option : 1

Q.21 प्रसिद्ध हस्ती 'लालन फ़कीर' संगीत की किस विधा से संबंधित हैं?

- Ans
- 1. कव्वाली
  - 2. सूफी
  - 3. ठुमरी
  - 4. बाउल

Question ID : 65497829654  
Status : Not Answered  
Chosen Option : --

Q.22 नरसंहार अपराध पीड़ितों की स्मृति एवं गरिमा, तथा इस अपराध की रोकथाम हेतु अंतर्राष्ट्रीय दिवस (The International Day of Commemoration and Dignity of the Victims of the Crime of Genocide and of the Prevention of this crime) प्रतिवर्ष किस दिन मनाया जाता है?

- Ans
- 1. 9 सितंबर
  - 2. 9 अक्टूबर
  - 3. 9 दिसंबर
  - 4. 9 नवंबर

Question ID : 65497829637  
Status : Not Answered  
Chosen Option : --

Q.23 निम्नलिखित विदेशी यात्रियों में से कौन एक इतालवी सौदागर था, जिसने विजयनगर साम्राज्य का भ्रमण किया था?

- Ans
- 1. दुआर्ते बार्बोसा (Duarte Barbosa)
  - 2. फर्नाओ न्यूनीज़ (Fernaon Nuniz)
  - 3. मार्को रिक्की (Marco Ricci)
  - 4. निकोला दे कोन्ती (Niccola de Conti)

Question ID : 65497829645  
Status : Not Answered  
Chosen Option : --

Q.24 सूती वस्त्र 'कैलिको (Calico)' की उत्पत्ति वर्तमान \_\_\_\_\_ राज्य से हुई है।

- Ans
- 1. तमिलनाडु
  - 2. कर्नाटक
  - 3. केरल
  - 4. गोवा

Question ID : 65497829640  
Status : Not Answered  
Chosen Option : --

Q.25 हॉकी के खेल में इनमें से किसे एक प्रकार का फ़ाउल (foul) नहीं माना जाता है?

- Ans
- 1. उस खिलाड़ी के खिलाफ, जो प्रतिद्वंद्वी को गेंद तक पहुंचने से रोकने के लिए हॉकी स्टिक या अपने शरीर का उपयोग करता है
  - 2. उस खिलाड़ी के खिलाफ जो दूसरे खिलाड़ी के निकट खतरनाक तरीके से स्टिक को ऊपर उठाता है
  - 3. उस खिलाड़ी के खिलाफ, जो प्रतिद्वंद्वी की स्टिक को मारने के लिए अपनी स्टिक का उपयोग करता है
  - 4. उस खिलाड़ी के खिलाफ, जो स्टिक के सपाट हिस्से का उपयोग करके गेंद को मारता है

Question ID : 65497829653  
Status : Not Answered  
Chosen Option : --

Section : Part C Elementary Mathematics

Q.1 एक दुकानदार एक वस्तु का अंकित मूल्य ₹4,000 रखता है। वह दुकानदार उस वस्तु के अंकित मूल्य पर 10% की छूट देने के बाद 20% का लाभ कमाता है। यदि वह इसे अंकित मूल्य से ₹100 कम में बेचता, तो उसका लाभ प्रतिशत कितना होता?

- Ans
- 1. 28
  - 2. 25
  - 3. 20
  - 4. 30

Question ID : 65497829659  
Status : Answered  
Chosen Option : 2

Q.2 एक कार एक समान चाल से 150 km की दूरी तय करती है। यात्रा में लगे समय का आंकिक मान, km/h में कार की चाल के आंकिक मान के दो-तिहाई के बराबर है। 150 km की दूरी तय करने में लगने वाला समय ज्ञात कीजिए।

- Ans
- 1. 10
  - 2. 15
  - 3. 12
  - 4. 9

Question ID : 65497829664  
Status : Not Answered  
Chosen Option : --

Q.3 एक निश्चित धनराशि पर 6% वार्षिक साधारण ब्याज की दर से 3 वर्ष में प्राप्त मिश्रधन ₹14,160 है। समान धनराशि पर समान ब्याज दर पर  $4\frac{2}{3}$  वर्षों में प्राप्त साधारण ब्याज ज्ञात कीजिए।

- Ans
- 1. ₹2,800
  - 2. ₹3,920
  - 3. ₹3,120
  - 4. ₹3,360

Question ID : 65497829678  
Status : Answered  
Chosen Option : 4

Q.4 A और B की आय का अनुपात  $x : y$  है। यदि A की आय में 20% की वृद्धि हुई और B की आय में 25% की कमी हुई, तो अनुपात 64 : 45 हो जाएगा।  $x : y$  का मान ज्ञात करें।

- Ans
- 1. 8 : 15
  - 2. 8 : 9
  - 3. 4 : 5
  - 4. 4 : 9

Question ID : 65497829677  
Status : Answered  
Chosen Option : 2

Q.5  $\frac{2\frac{3}{4}}{1\frac{1}{8}} \div \frac{7}{8} \times \left(\frac{1}{3} + \frac{1}{4}\right) + \frac{5}{7} \div \frac{3}{4} \text{ of } \frac{3}{7} - \frac{5}{4} \text{ of } \frac{3}{5}$  का मान ज्ञात करें।

Ans

1.  $5\frac{1}{36}$   
 2.  $4\frac{11}{36}$   
 3.  $3\frac{5}{36}$   
 4.  $2\frac{17}{36}$

Question ID : 65497829663  
Status : Answered  
Chosen Option : 4

Q.6 यदि 4 पुरुष और 5 महिलाएं एक कार्य को 30 दिन में और 6 पुरुष और 7 महिलाएं उसी कार्य को 24 दिन में पूरा कर सकती हैं, तो एक महिला को अकेले उसी कार्य के दो तिहाई भाग को पूरा करने में कितने दिन लगेंगे?

Ans

1. 72  
 2. 40  
 3. 70  
 4. 60

Question ID : 65497829673  
Status : Not Attempted and Marked For Review  
Chosen Option : --

Q.7 A ने B को ₹10000 की राशि 10% वार्षिक चक्रवृद्धि ब्याज की दर पर 3 वर्ष के लिए उधार दी, जबकि ब्याज की गणना वार्षिक चक्रवृद्धि आधार पर की जाती है। C ने उतनी ही राशि 11% वार्षिक साधारण ब्याज की दर पर समान अवधि के लिए D को उधार दी। 3 वर्ष की समाप्ति पर इनमें से किसे और कितना अधिक लाभ प्राप्त होगा?

Ans

1. A को ₹10 अधिक मिलेंगे  
 2. C को ₹300 अधिक मिलेंगे  
 3. A को ₹376 अधिक मिलेंगे  
 4. C को ₹10 अधिक मिलेंगे

Question ID : 65497829660  
Status : Not Answered  
Chosen Option : --

Q.8 एक रेलगाड़ी की चाल में 10 घंटों तक, प्रत्येक घंटे के बाद 3 km/h की दर से वृद्धि होती है और उसके बाद 5 km/h की दर से वृद्धि होती है। यदि पहले एक घंटे में तय की गई दूरी 40 km थी, तो रेलगाड़ी द्वारा 20 घंटे में तय की गई कुल दूरी ज्ञात कीजिए।

- Ans
- 1. 535 km
  - 2. 1,480 km
  - 3. 895 km
  - 4. 800 km

Question ID : 65497829674  
Status : Answered  
Chosen Option : 2

Q.9 A और B क्रमशः एक कार्य को क्रमशः 12 दिनों और 20 दिनों में पूरा कर सकते हैं। वे 6 दिनों तक एक साथ मिलकर कार्य करते हैं। शेष कार्य C द्वारा 12 दिनों में पूरा किया जाता है। B और C एक साथ मिलकर उसी कार्य के  $\frac{2}{3}$  भाग को कितने दिनों में पूरा करेंगे?

- Ans
- 1. 10 दिन
  - 2. 8 दिन
  - 3. 15 दिन
  - 4. 12 दिन

Question ID : 65497829667  
Status : Answered  
Chosen Option : 1

Q.10 एक कॉलेज में 80% छात्रों की आयु 20 वर्ष से कम है। 20 वर्ष से अधिक आयु वाले छात्रों की संख्या, 20 वर्ष की आयु वाले छात्रों की संख्या, जो कि 48 है, के  $\frac{2}{3}$  के बराबर है। कॉलेज में छात्रों की कुल संख्या ज्ञात कीजिए।

- Ans
- 1. 450
  - 2. 300
  - 3. 400
  - 4. 200

Question ID : 65497829669  
Status : Not Answered  
Chosen Option : --

Q.11 एक व्यक्ति आरंभ में अपनी घड़ी अपनी बहन को 10% छूट पर बेचना चाहता था जो उस घड़ी को खरीदना चाहती है। बाद में, वह व्यक्ति इसे 12% छूट पर बेच देता है, जिससे उसके लाभ में ₹80 की कमी होती है। घड़ी का अंकित मूल्य ज्ञात कीजिए।

- Ans
- 1. ₹3,750
  - 2. ₹3,500
  - 3. ₹4,000
  - 4. ₹4,200

Question ID : 65497829680  
Status : Not Answered  
Chosen Option : --



**Q.12** ₹18,000 की राशि को  $13\frac{1}{3}\%$  वार्षिक दर पर  $2\frac{1}{4}$  वर्ष के लिए निवेश करने प्राप्त मिश्रधन (₹ में) कितना होगा, यदि ब्याज की गणना 9-मासिक चक्रवृद्धि आधार पर की जाती है?

- Ans**
- 1. 23,958
  - 2. 23,895
  - 3. 23,859
  - 4. 23,598

Question ID : 65497829682  
Status : Not Answered  
Chosen Option : --

**Q.13**  $3 \times 2 \div 3 \text{ of } 2 \times 3 \div (5 + 5 \times 5 \div 5 \text{ of } 5 - 5 \div 10 \text{ of } \frac{1}{5}) + 2 \div 7 \text{ of } 2$  का मान ज्ञात कीजिए।

- Ans**
- 1. 2
  - 2. -1
  - 3. 0
  - 4. 1

Question ID : 65497829665  
Status : Answered  
Chosen Option : 4

**Q.14** एक निश्चित धनराशि को तीन भागों में 11 : 8 : 5 के अनुपात में विभाजित किया जाता है, यदि तीसरा भाग ₹530 है, तो अन्य दो भागों का योग (₹ में) कितना है?

- Ans**
- 1. 1,378
  - 2. 1,696
  - 3. 2,014
  - 4. 2,544

Question ID : 65497829661  
Status : Answered  
Chosen Option : 3

**Q.15** यदि एक संख्या का 15%, उसी संख्या के 9% से 33 अधिक है, तो वह संख्या कौन सी है?

- Ans**
- 1. 590
  - 2. 500
  - 3. 570
  - 4. 550

Question ID : 65497829672  
Status : Answered  
Chosen Option : 4

**Q.16** प्रत्येक 2.5 cm त्रिज्या वाले 9 धातु के ठोस गोलों को पिघलाकर 7.5 cm ऊंचाई वाले एक ठोस बेलन के रूप में ढाला जाता है। बेलन के वक्र पृष्ठ का क्षेत्रफल ( $\text{cm}^2$  में) कितना होगा?

- Ans**
- 1.  $125\pi$
  - 2.  $75\pi$
  - 3.  $120\pi$
  - 4.  $150\pi$

Question ID : 65497829683  
Status : Not Answered  
Chosen Option : --

**Q.17** गीता ने ₹9.50 प्रत्येक की दर से 80 संतरे खरीदे। उसने इनमें से 25% को ₹12 प्रत्येक की दर से और शेष संतरों के एक-तिहाई संतरों को ₹10 प्रत्येक की दर से बेचा। 25% का कुल लाभ प्राप्त करने के लिए, उसे शेष संतरों में प्रत्येक को किस मूल्य पर बेचना चाहिए?

- Ans**
- 1. ₹13
  - 2. ₹12.75
  - 3. ₹12
  - 4. ₹11.50

Question ID : 65497829679  
Status : Answered  
Chosen Option : 2

**Q.18** 30 m लंबाई और 25 m चौड़ाई वाले एक आयताकार मैदान के बाहर चारों ओर 5 m की एकसमान चौड़ाई वाला एक रास्ता बनाया गया है। रास्ते का क्षेत्रफल ( $\text{m}^2$ ) में ज्ञात कीजिए।

- Ans**
- 1. 650
  - 2. 1400
  - 3. 750
  - 4. 450

Question ID : 65497829662  
Status : Not Attempted and Marked For Review  
Chosen Option : --

**Q.19** ₹1,680 में चार वस्तुएँ बेचने पर, एक व्यक्ति को चार वस्तुओं के क्रय मूल्य के बराबर लाभ प्राप्त होता है। लाभ प्रतिशत ज्ञात कीजिए।

- Ans**
- 1. 75%
  - 2. 90%
  - 3. 100%
  - 4. 120%

Question ID : 65497829666  
Status : Answered  
Chosen Option : 3

**Q.20** चार संख्याओं का औसत 10 है। यदि पहली संख्या, दूसरी संख्या की दो-तिहाई है, दूसरी संख्या, तीसरी संख्या की तीन-चौथाई है, और तीसरी संख्या, चौथी संख्या की चार गुनी है, तो तीसरी संख्या कौन सी है?

- Ans**
- 1. 8
  - 2. 4
  - 3. 12
  - 4. 16

Question ID : 65497829670  
Status : Answered  
Chosen Option : 3

**Q.21** 5 अंकों की छोटी से छोटी संख्या  $k$  है, जिसे 18, 24, 30, 40 और 42 से विभाजित करने पर प्रत्येक स्थिति में 7 शेष बचता है।  $k$  के अंकों का योग ज्ञात करें।

- Ans**
- 1. 11
  - 2. 7
  - 3. 9
  - 4. 16

Question ID : 65497829675  
Status : Not Answered  
Chosen Option : --

**Q.22** आरोही क्रम में ली गई छह क्रमागत सम संख्याओं का औसत 107 है। अंतिम तीन संख्याओं का औसत ज्ञात करें।

- Ans**
- 1. 108
  - 2. 110
  - 3. 116
  - 4. 112

Question ID : 65497829676  
Status : Answered  
Chosen Option : 2

**Q.23** एक वस्तु के लिए 40% और 30% के दो क्रमिक छूटों के समतुल्य एक छूट कितनी होगी?

- Ans**
- 1. 58%
  - 2. 35%
  - 3. 38%
  - 4. 42%

Question ID : 65497829671  
Status : Answered  
Chosen Option : 1

Q.24 A, B और C की आयु का योग 66 वर्ष है। A की आयु तथा B और C की संयुक्त आयु का अनुपात 5 : 6 है। B की आयु तथा A और C की संयुक्त आयु का अनुपात 4 : 7 है। C की आयु (वर्षों में) क्या होगी?

- Ans
- 1. 18
  - 2. 12
  - 3. 15
  - 4. 24

Question ID : 65497829681  
Status : Answered  
Chosen Option : 2

Q.25 वह बड़ी से बड़ी संख्या ज्ञात करें जो 228, 282 और 288 को पूर्णतः विभाजित कर सकती है।

- Ans
- 1. 6
  - 2. 8
  - 3. 3
  - 4. 4

Question ID : 65497829668  
Status : Answered  
Chosen Option : 1

Section : Part D English

Q.1 Select the most appropriate synonym of the given word.

Rapid

- Ans
- 1. Straight
  - 2. Successive
  - 3. Lumbering
  - 4. Quick

Question ID : 65497829689  
Status : Not Answered  
Chosen Option : --

Q.2 Select the most appropriate ANTONYM of the given word.

Contextual

- Ans
- 1. Unrelated
  - 2. Circumstantial
  - 3. Provisional
  - 4. Dependent

Question ID : 65497829698  
Status : Not Answered  
Chosen Option : --

**Q.3** Select the most appropriate option to fill in the blank.

Customs and traditions play a \_\_\_\_\_ role in all the societies.

- Ans  1. sufficient  
 2. significant  
 3. inspiring  
 4. refreshing

Question ID : 65497829693  
Status : Not Answered  
Chosen Option : --

**Q.4** Select the option that can be used as a one-word substitute for the given group of words.

Land beside a sea

- Ans  1. Peninsula  
 2. Coast  
 3. Island  
 4. Archipelago

Question ID : 65497829686  
Status : Not Answered  
Chosen Option : --

**Q.5** Select the most appropriate meaning of the given idiom.

To lag behind

- Ans  1. To imitate someone closely  
 2. To follow someone as a spy  
 3. To fail to maintain the pace or progress  
 4. To chase someone for long

Question ID : 65497829694  
Status : Not Answered  
Chosen Option : --

**Q.6** Select the most appropriate meaning of the given idiom.

Lap up

- Ans  1. Accept eagerly  
 2. Move up very fast  
 3. Eat something slowly  
 4. Go around a circle

Question ID : 65497829703  
Status : Not Answered  
Chosen Option : --

**Q.7** The following sentence has been split into four segments. Identify the segment that contains a grammatical error.

Jack asked his / friends to send the parcel / on his / new address.

- Ans**
- 1. Jack asked his
  - 2. friends to send the parcel
  - 3. on his
  - 4. new address

Question ID : 65497829688  
Status : Not Answered  
Chosen Option : --

**Q.8** Parts of the given sentence have been given as options. One of them contains a grammatical error. Select the option that has the error.

The Hindi question paper was extremely tougher for 7th grade students.

- Ans**
- 1. tougher
  - 2. was extremely
  - 3. for 7th grade students
  - 4. The Hindi question paper

Question ID : 65497829695  
Status : Not Answered  
Chosen Option : --

**Q.9** Select the option that can be used as a one-word substitute for the given group of words.

Well-known for bad qualities or deeds

- Ans**
- 1. Notorious
  - 2. Burglar
  - 3. Thief
  - 4. Idiot

Question ID : 65497829697  
Status : Not Answered  
Chosen Option : --

**Q.10** Select the most appropriate option that can substitute the underlined segment in the given sentence. If there is no need to substitute it, select 'No substitution required'.

We will be in touch with them when the time is arrived.

- Ans**
- 1. was arrived
  - 2. Arrives
  - 3. Arrived
  - 4. No substitution required

Question ID : 65497829702  
Status : Not Answered  
Chosen Option : --

Q.11 Select the INCORRECTLY spelt word.

- Ans  1. Excretory  
 2. Aluminim  
 3. Manufacturing  
 4. Resistivity

Question ID : 65497829687  
Status : Not Answered  
Chosen Option : --

Q.12 Select the most appropriate option to fill in the blank.

The paintings on the church altar seem to be in need of \_\_\_\_\_.

- Ans  1. redecoration  
 2. renovation  
 3. reconstruction  
 4. restoration

Question ID : 65497829701  
Status : Not Answered  
Chosen Option : --

Q.13 Select the most appropriate option that can substitute the underlined segment in the given sentence. If there is no need to substitute it, select 'No substitution required'.

Your decision to stay home this weekend is more better than mine to go out for dinner.

- Ans  1. much better than my  
 2. most better than mine  
 3. much better than mine  
 4. No substitution required

Question ID : 65497829690  
Status : Not Answered  
Chosen Option : --

Q.14 Select the most appropriate synonym of the given word.

Fare

- Ans  1. Bright  
 2. Beautiful  
 3. Progress  
 4. Fresh

Question ID : 65497829696  
Status : Not Answered  
Chosen Option : --

**Q.15** Select the option that can be used as a one-word substitute for the given group of words.

Things which are of the same kind and of the same dimensions

- Ans**
- 1. Pleasant
  - 2. Balanced
  - 3. Homogeneous
  - 4. Harmonious

Question ID : 65497829691  
Status : Not Answered  
Chosen Option : --

**Q.16** Select the option that will improve the underlined part of the sentence. In case no improvement is needed, select 'No improvement required'.

You may either wait at the reception or come back later.

- Ans**
- 1. even wait
  - 2. neither wait
  - 3. either waiting
  - 4. No improvement required

Question ID : 65497829692  
Status : Not Answered  
Chosen Option : --

**Q.17** The following sentence has been split into four segments. Identify the segment that contains a grammatical error.

Mother beat Jenny / by a stick / for going out / without permission.

- Ans**
- 1. Mother beat Jenny
  - 2. by a stick
  - 3. without permission
  - 4. for going out

Question ID : 65497829684  
Status : Not Answered  
Chosen Option : --

**Q.18** Select the most appropriate option to fill in the blank.

My brother wants to \_\_\_\_\_ a career in medicine.

- Ans**
- 1. chase
  - 2. aim
  - 3. aspire
  - 4. pursue

Question ID : 65497829700  
Status : Not Answered  
Chosen Option : --



**Q.19** Select the most appropriate **ANTONYM** of the given word.

**Rash**

- Ans**  1. Careful  
 2. Unruly  
 3. Wayward  
 4. Defiant

Question ID : 65497829685  
Status : **Not Answered**  
Chosen Option : --

**Q.20** Select the **INCORRECTLY** spelt word.

- Ans**  1. Successfull  
 2. Strategy  
 3. Definition  
 4. Continuously

Question ID : 65497829699  
Status : **Not Answered**  
Chosen Option : --

**Comprehension:**

In the following passage, some words have been deleted. Read the passage carefully and select the most appropriate option to fill in each blank.

There was a time when storybooks were the only (1) \_\_\_\_\_ of entertainment for children. A decade or two ago, kids (2) \_\_\_\_\_ their time reading stories and role playing (3) \_\_\_\_\_ favourite characters from the stories. (4) \_\_\_\_\_, times have changed now – in the age of the internet, kids spend (5) \_\_\_\_\_ of their time playing games on smartphones or watching cartoons or videos on YouTube.

**SubQuestion No : 21**

**Q.21** Select the most appropriate option to fill in blank number 1.

- Ans**  1. means  
 2. mean  
 3. meant  
 4. meaning

Question ID : 65497829705  
Status : **Not Answered**  
Chosen Option : --

**Comprehension:**

In the following passage, some words have been deleted. Read the passage carefully and select the most appropriate option to fill in each blank.

There was a time when storybooks were the only (1) \_\_\_\_\_ of entertainment for children. A decade or two ago, kids (2) \_\_\_\_\_ their time reading stories and role playing (3) \_\_\_\_\_ favourite characters from the stories. (4) \_\_\_\_\_, times have changed now – in the age of the internet, kids spend (5) \_\_\_\_\_ of their time playing games on smartphones or watching cartoons or videos on YouTube.

**SubQuestion No : 22**

**Q.22 Select the most appropriate option to fill in blank number 2.**

- Ans  1. spend  
 2. spent  
 3. have spent  
 4. are spending

Question ID : 65497829706  
Status : Not Answered  
Chosen Option : --

**Comprehension:**

In the following passage, some words have been deleted. Read the passage carefully and select the most appropriate option to fill in each blank.

There was a time when storybooks were the only (1) \_\_\_\_\_ of entertainment for children. A decade or two ago, kids (2) \_\_\_\_\_ their time reading stories and role playing (3) \_\_\_\_\_ favourite characters from the stories. (4) \_\_\_\_\_, times have changed now – in the age of the internet, kids spend (5) \_\_\_\_\_ of their time playing games on smartphones or watching cartoons or videos on YouTube.

**SubQuestion No : 23**

**Q.23 Select the most appropriate option to fill in blank number 3.**

- Ans  1. his  
 2. its  
 3. her  
 4. their

Question ID : 65497829707  
Status : Not Answered  
Chosen Option : --

**Comprehension:**

In the following passage, some words have been deleted. Read the passage carefully and select the most appropriate option to fill in each blank.

There was a time when storybooks were the only (1) \_\_\_\_\_ of entertainment for children. A decade or two ago, kids (2) \_\_\_\_\_ their time reading stories and role playing (3) \_\_\_\_\_ favourite characters from the stories. (4) \_\_\_\_\_, times have changed now – in the age of the internet, kids spend (5) \_\_\_\_\_ of their time playing games on smartphones or watching cartoons or videos on YouTube.

**SubQuestion No : 24**

**Q.24 Select the most appropriate option to fill in blank number 4.**

- Ans  1. Though  
 2. In spite  
 3. However  
 4. While

Question ID : 65497829708  
Status : Not Answered  
Chosen Option : --

**Comprehension:**

In the following passage, some words have been deleted. Read the passage carefully and select the most appropriate option to fill in each blank.

There was a time when storybooks were the only (1) \_\_\_\_\_ of entertainment for children. A decade or two ago, kids (2) \_\_\_\_\_ their time reading stories and role playing (3) \_\_\_\_\_ favourite characters from the stories. (4) \_\_\_\_\_, times have changed now – in the age of the internet, kids spend (5) \_\_\_\_\_ of their time playing games on smartphones or watching cartoons or videos on YouTube.

**SubQuestion No : 25**

**Q.25 Select the most appropriate option to fill in blank number 5.**

- Ans  1. many  
 2. maximum  
 3. most  
 4. masses

Question ID : 65497829709  
Status : Not Answered  
Chosen Option : --

Section : Part D Hindi

**Q.1** दिए गए वाक्य का वो भाग ज्ञात करें जिसमें कोई त्रुटि है। यदि कोई त्रुटि नहीं है, तो 'कोई त्रुटि नहीं है' चुनें।

मैंने और उसने (1)\ घूमने (2)\ जाना है(3)\ कोई त्रुटि नहीं है (4)

- Ans  1. 4  
 2. 2  
 3. 1  
 4. 3

Question ID : 65497829715  
Status : Answered  
Chosen Option : 3

**Q.2** रिक्त स्थान की पूर्ति करने के लिए सर्वाधिक उपयुक्त विकल्प का चयन करें।

कक्षा में छात्रों की \_\_\_\_\_ दर्ज की गई।

- Ans  1. विद्यमानता  
 2. अवस्थिति  
 3. अस्मिता  
 4. उपस्थिति

Question ID : 65497829729  
Status : Answered  
Chosen Option : 4

**Q.3** दिए गए वाक्य के किस भाग में त्रुटि है?

हरिश्चंद्र के सदृश्य कोई सत्यवादी नहीं हुआ।

- Ans  1. हरिश्चंद्र के  
 2. नहीं हुआ।  
 3. सत्यवादी  
 4. सदृश्य कोई

Question ID : 65497829724  
Status : Answered  
Chosen Option : 4

Q.4 दिए गए शब्द के विलोम का चयन करें।

छली

- Ans
- 1. चंचल
  - 2. निश्चल
  - 3. निष्फल
  - 4. अचल

Question ID : 65497829712  
Status : Answered  
Chosen Option : 2

Q.5 रिक्त स्थान की पूर्ति करने के लिए सर्वाधिक उपयुक्त शब्द का चयन करें।

कोयल की आवाज़ अत्यधिक \_\_\_\_\_ होती है।

- Ans
- 1. कोमल
  - 2. लचीली
  - 3. कर्णप्रिय
  - 4. कर्कश

Question ID : 65497829718  
Status : Answered  
Chosen Option : 3

Q.6 दिए गए वाक्य में रेखांकित खंड को प्रतिस्थापित करने के लिए सर्वाधिक उपयुक्त विकल्प का चयन करें।  
यदि इसे प्रतिस्थापित करने की आवश्यकता नहीं है, तो विकल्प 'किसी बदलाव की आवश्यकता नहीं है'  
का चयन करें।

स्वतंत्रता संग्राम में हजारों देशवासियों ने अपना प्राण त्याग कर दिया।

- Ans
- 1. अपने प्राण न्योछावर कर दिए।
  - 2. अपने प्राण त्याग दिया।
  - 3. किसी बदलाव की आवश्यकता नहीं है।
  - 4. अपना प्राण त्याग दिया।

Question ID : 65497829719  
Status : Answered  
Chosen Option : 1

Q.7 दिए गए वाक्य में रेखांकित अंश को प्रतिस्थापित करने के लिए सर्वाधिक उपयुक्त विकल्प का चयन करें।

लोग बड़ी मात्रा में जमा हो गए।

- Ans
- 1. भीड़
  - 2. अंक
  - 3. संख्या
  - 4. गणना

Question ID : 65497829728  
Status : Answered  
Chosen Option : 1

Q.8 'जिसे जानना आवश्यक हो' वाक्यांश के लिए एक शब्द होगा-

- Ans
- 1. अज्ञेय
  - 2. अगेय
  - 3. गेय
  - 4. ज्ञेय

Question ID : 65497829726  
Status : Answered  
Chosen Option : 4

Q.9 दिए गये वाक्यांश के लिए एक शब्द दीजिये-

जो अपनी हत्या कर लेता है।

- Ans
- 1. हत्यारा
  - 2. आत्मघाती
  - 3. दुर्बल
  - 4. प्रतिघाती

Question ID : 65497829717  
Status : Answered  
Chosen Option : 2

Q.10 दिए गए वाक्य में रेखांकित खंड को प्रतिस्थापित करने के लिए सर्वाधिक उपयुक्त विकल्प का चयन करें। यदि इसे प्रतिस्थापित करने की आवश्यकता नहीं है, तो विकल्प 'किसी बदलाव की आवश्यकता नहीं है' का चयन करें।

इस पुस्तक का छपित मूल्य कितना है?

- Ans
- 1. मुद्रित
  - 2. प्रकाशित
  - 3. छपित
  - 4. किसी बदलाव की आवश्यकता नहीं है।

Question ID : 65497829721  
Status : Answered  
Chosen Option : 1

Q.11 निम्नलिखित में से शुद्ध वर्तनी वाला शब्द कौन सा है?

- Ans
- 1. निर्दर्यी
  - 2. निर्दय
  - 3. नीर्दय
  - 4. निरदय

Question ID : 65497829722  
Status : Answered  
Chosen Option : 2

Q.12 रिक्त स्थान की पूर्ति करने के लिए सर्वाधिक उपयुक्त शब्द का चयन करें।

\_\_\_\_\_ क्या चाहिए?

- Ans
- 1. तुम्हारे को
  - 2. तुम्हें
  - 3. तेरे को
  - 4. तुमको

Question ID : 65497829720  
Status : Answered  
Chosen Option : 2

Q.13 निम्नलिखित प्रश्न में, दिए गए चार विकल्पों में से उस विकल्प का चयन करें, जो मुहावरे के अर्थ को दर्शाता है।

उल्टे पांव लौटना

- Ans  1. असंभव कार्य करना  
 2. निराश लौटना  
 3. दोषी ठहरना  
 4. विपरीत दिशा में लौटना

Question ID : 65497829713  
Status : Answered  
Chosen Option : 2

Q.14 दिए गए शब्द के विलोम शब्द का चयन करें-

संयमी

- Ans  1. भ्रष्टाचारी  
 2. विकृत  
 3. दुश्चरित्र  
 4. व्यभिचारी

Question ID : 65497829716  
Status : Answered  
Chosen Option : 4

Q.15 दिए गए वाक्य का वह भाग ज्ञात करें जिसमें कोई त्रुटि है। यदि कोई त्रुटि नहीं है, तो 'कोई त्रुटि नहीं है' चुनें।

अगली गोष्ठी (1)/ मेरे निवास-स्थान में (2)/ होगी। (3)/ कोई त्रुटि नहीं है (4)

- Ans  1. 2  
 2. 3  
 3. 4  
 4. 1

Question ID : 65497829710  
Status : Answered  
Chosen Option : 1

Q.16 'नाक कटना' मुहावरे का सही अर्थ है-

- Ans  1. चोट लगना  
 2. हतोत्साहित होना  
 3. बदनामी होना  
 4. परेशान होना

Question ID : 65497829727  
Status : Answered  
Chosen Option : 3

Q.17 दिए गये वाक्यांश के लिए एक शब्द दीजिये।

जिसकी कोई उपमा न हो

- Ans  1. अनुपम  
 2. अनूठा  
 3. कल्पनातीत  
 4. अद्वितीय

Question ID : 65497829714  
Status : Answered  
Chosen Option : 1

Q.18 'गेह' किसका पर्यायवाची है?

- Ans  1. पर्वत  
 2. बादल  
 3. घर  
 4. आकाश

Question ID : 65497829725  
Status : Not Answered  
Chosen Option : --

Q.19 निम्नलिखित में से शुद्ध वर्तनी वाला शब्द कौन सा है?

- Ans  1. अक्षोहणी  
 2. अक्षोहिणी  
 3. अक्षौहिणी  
 4. अक्षौहणी

Question ID : 65497829723  
Status : Answered  
Chosen Option : 2

Q.20 कौनसा शब्द 'बादल' का समानार्थी शब्द है?

- Ans  1. अंबु  
 2. अंबुद  
 3. अंबुनिधि  
 4. अंबुज

Question ID : 65497829711  
Status : Not Answered  
Chosen Option : --

**Comprehension:**

दिए गए गद्यांश में से कुछ शब्द हटा दिए गए हैं। दिए गए विकल्पों की सहायता से रिक्त स्थान भरें। प्रत्येक संख्या के लिए सर्वाधिक उपयुक्त विकल्प का चयन करें।

शिशु को यदि हम राष्ट्र की अमूल्य (1) \_\_\_\_\_ के रूप में देखना चाहते हैं, तो उसे एक ऐसा (2) \_\_\_\_\_ वातावरण प्रदान करना पड़ेगा, जिसमें निर्बाध गति से उसका (3) \_\_\_\_\_ विकास हो सके। स्वच्छ, शांत, भयमुक्त और (4) \_\_\_\_\_ वातावरण में ही शिशु की कोमल (5) \_\_\_\_\_ सुरक्षित रह सकती हैं। शिशु की सुकोमल भावनाओं को आघात पहुंचाना सामाजिक अपराध है।  
गद्यांश के आधार पर उत्तर दीजिए -

**SubQuestion No : 21**

**Q.21** गद्यांश के रिक्त स्थान (1) के लिए सर्वाधिक उपयुक्त शब्द होगा-

- Ans**  1. निधि  
 2. व्यक्ति  
 3. वस्तु  
 4. धरोहर

Question ID : 65497829731  
Status : Not Answered  
Chosen Option : --

**Comprehension:**

दिए गए गद्यांश में से कुछ शब्द हटा दिए गए हैं। दिए गए विकल्पों की सहायता से रिक्त स्थान भरें। प्रत्येक संख्या के लिए सर्वाधिक उपयुक्त विकल्प का चयन करें।

शिशु को यदि हम राष्ट्र की अमूल्य (1) \_\_\_\_\_ के रूप में देखना चाहते हैं, तो उसे एक ऐसा (2) \_\_\_\_\_ वातावरण प्रदान करना पड़ेगा, जिसमें निर्बाध गति से उसका (3) \_\_\_\_\_ विकास हो सके। स्वच्छ, शांत, भयमुक्त और (4) \_\_\_\_\_ वातावरण में ही शिशु की कोमल (5) \_\_\_\_\_ सुरक्षित रह सकती हैं। शिशु की सुकोमल भावनाओं को आघात पहुंचाना सामाजिक अपराध है।  
गद्यांश के आधार पर उत्तर दीजिए -

**SubQuestion No : 22**

**Q.22** गद्यांश के रिक्त स्थान (2) के लिए सर्वाधिक उपयुक्त शब्द होगा-

- Ans**  1. निकृष्ट  
 2. पतित  
 3. सुंदर  
 4. आदर्श

Question ID : 65497829732  
Status : Answered  
Chosen Option : 4

**Comprehension:**

दिए गए गद्यांश में से कुछ शब्द हटा दिए गए हैं। दिए गए विकल्पों की सहायता से रिक्त स्थान भरें। प्रत्येक संख्या के लिए सर्वाधिक उपयुक्त विकल्प का चयन करें।

शिशु को यदि हम राष्ट्र की अमूल्य (1) \_\_\_\_\_ के रूप में देखना चाहते हैं, तो उसे एक ऐसा (2) \_\_\_\_\_ वातावरण प्रदान करना पड़ेगा, जिसमें निर्बाध गति से उसका (3) \_\_\_\_\_ विकास हो सके। स्वच्छ, शांत, भयमुक्त और (4) \_\_\_\_\_ वातावरण में ही शिशु की कोमल (5) \_\_\_\_\_ सुरक्षित रह सकती हैं। शिशु की सुकोमल भावनाओं को आघात पहुंचाना सामाजिक अपराध है।  
गद्यांश के आधार पर उत्तर दीजिए -

**SubQuestion No : 23**

**Q.23** गद्यांश के रिक्त स्थान (3) के लिए सर्वाधिक उपयुक्त शब्द होगा-

- Ans**  1. चहुँमुखी  
 2. उच्च  
 3. विशेष  
 4. चहुँओर

Question ID : 65497829733  
Status : Answered  
Chosen Option : 1



**Comprehension:**

दिए गए गद्यांश में से कुछ शब्द हटा दिए गए हैं। दिए गए विकल्पों की सहायता से रिक्त स्थान भरें। प्रत्येक संख्या के लिए सर्वाधिक उपयुक्त विकल्प का चयन करें।

शिशु को यदि हम राष्ट्र की अमूल्य (1) \_\_\_\_\_ के रूप में देखना चाहते हैं, तो उसे एक ऐसा (2) \_\_\_\_\_ वातावरण प्रदान करना पड़ेगा, जिसमें निर्बाध गति से उसका (3) \_\_\_\_\_ विकास हो सके। स्वच्छ, शांत, भयमुक्त और (4) \_\_\_\_\_ वातावरण में ही शिशु की कोमल (5) \_\_\_\_\_ सुरक्षित रह सकती हैं। शिशु की सुकोमल भावनाओं को आघात पहुंचाना सामाजिक अपराध है। गद्यांश के आधार पर उत्तर दीजिए -

**SubQuestion No : 24**

**Q.24** गद्यांश के रिक्त स्थान (4) के लिए सर्वाधिक उपयुक्त शब्द होगा-

- Ans**
- 1. अस्वास्थ्यप्रद
  - 2. असुरक्षित
  - 3. दमघोटू
  - 4. स्वास्थ्यप्रद

Question ID : 65497829734  
Status : Answered  
Chosen Option : 4

**Comprehension:**

दिए गए गद्यांश में से कुछ शब्द हटा दिए गए हैं। दिए गए विकल्पों की सहायता से रिक्त स्थान भरें। प्रत्येक संख्या के लिए सर्वाधिक उपयुक्त विकल्प का चयन करें।

शिशु को यदि हम राष्ट्र की अमूल्य (1) \_\_\_\_\_ के रूप में देखना चाहते हैं, तो उसे एक ऐसा (2) \_\_\_\_\_ वातावरण प्रदान करना पड़ेगा, जिसमें निर्बाध गति से उसका (3) \_\_\_\_\_ विकास हो सके। स्वच्छ, शांत, भयमुक्त और (4) \_\_\_\_\_ वातावरण में ही शिशु की कोमल (5) \_\_\_\_\_ सुरक्षित रह सकती हैं। शिशु की सुकोमल भावनाओं को आघात पहुंचाना सामाजिक अपराध है। गद्यांश के आधार पर उत्तर दीजिए -

**SubQuestion No : 25**

**Q.25** गद्यांश के रिक्त स्थान (5) के लिए सर्वाधिक उपयुक्त शब्द होगा-

- Ans**
- 1. भावनाएँ
  - 2. सपने
  - 3. विचार
  - 4. व्यक्तित्व

Question ID : 65497829735  
Status : Answered  
Chosen Option : 1