

## Constable GD in CAPFs NIA SSF and Rifleman GD in Assam Rifles Examination 2021



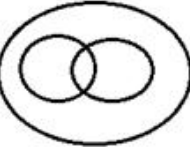
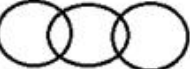
Roll Number	<a href="http://www.GovtJobsAlert.In">www.GovtJobsAlert.In</a>
Candidate Name	<a href="http://www.GovtJobsAlert.In">www.GovtJobsAlert.In</a>
Venue Name	Shubham Foundation
Exam Date	09/12/2021
Exam Time :	12:30 PM - 2:00 PM
Subject	Constable GD 2021

### Section : Part A General Intelligence and Reasoning

Q.1 उस वेन आरेख का चयन करें जो निम्नलिखित वर्गों के मध्य संबंधों को सर्वोत्तम तरीके से निरूपित करता है।

यमुना, नदी, नर्मदा

Ans

- ✗ 1. 
- ✓ 2. 
- ✗ 3. 
- ✗ 4. 

Question ID : 65497831026

Status : Answered

Chosen Option : 2

Q.2 दिए गए विकल्पों में से वह संख्या चुनें जो निम्नलिखित श्रेणी में प्रश्नवाचक चिह्न (?) के स्थान पर आ सकती है।

46, 54, 70, 102, 166, ?

Ans

- ✗ 1. 290
- ✗ 2. 305
- ✓ 3. 294
- ✗ 4. 314

Question ID : 65497831008

Status : Answered

Chosen Option : 3

Q.3 उस विकल्प का चयन करें जो तीसरी संख्या से उसी प्रकार संबंधित है जिस प्रकार दूसरी संख्या पहली संख्या से संबंधित है।

9766 : 6433 :: 6875 : ?

- Ans
- 1. 4258
  - 2. 3542
  - 3. 3658
  - 4. 2789

Question ID : 65497831016  
Status : Answered  
Chosen Option : 2

Q.4 एक निश्चित कूट भाषा में, 'RHINO' को 'POJIS' के रूप में लिखा जाता है और 'TIGER' को 'SFHJU' के रूप में लिखा जाता है। उसी भाषा में 'HORSE' को किस रूप में लिखा जाएगा?

- Ans
- 1. ETRPJ
  - 2. ETSPI
  - 3. FTSPI
  - 4. FRSQJ

Question ID : 65497831010  
Status : Answered  
Chosen Option : 3

Q.5 चार अक्षर-समूह दिए गए हैं, जिनमें से तीन किसी तरह से संगत हैं और एक असंगत है। उस अक्षर-समूह का चयन करें, जो अन्य से असंगत है।

- Ans
- 1. ZDHLP
  - 2. LPTXB
  - 3. QUYBG
  - 4. BFJNR

Question ID : 65497831027  
Status : Answered  
Chosen Option : 3

Q.6 दिए गए संयोजन के सही दर्पण प्रतिबिंब का चयन कीजिए, जबकि दर्पण को इसकी दाईं ओर रखा गया है।

D 7 9 3 s q g

- Ans
- 1. p p e e 6 7 D
  - 2. 6 b e e e 7 D
  - 3. p p e e e 7 D
  - 4. p p s e e 7 D

Question ID : 65497831030  
Status : Answered  
Chosen Option : 3

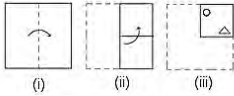
Q.7 दिए गए विकल्पों में से उस अक्षर-समूह का चयन कीजिए जो दी गई श्रृंखला में प्रश्न चिह्न (?) के स्थान पर प्रतिस्थापित हो सकता है।

REST, UCXR, XACP, AYHN, ?

- Ans
- 1. XAML
  - 2. DWML
  - 3. DAMP
  - 4. XWNL

Question ID : 65497831023  
Status : Answered  
Chosen Option : 2

Q.8 नीचे दी गई आकृतियों में कागज़ के एक टुकड़े को मोड़ने और मोड़े गए कागज़ को काटने के तरीके का क्रम दर्शाया गया है। कागज़ को खोले जाने पर वह कैसा दिखाई देगा?



- Ans
- 1.
  - 2.
  - 3.
  - 4.

Question ID : 65497831014  
Status : Answered  
Chosen Option : 2

Q.9 एक निश्चित कूट भाषा में, PACKING को 7149113116 लिखा जाता है। उसी कूट भाषा में FRUITS को किस प्रकार लिखा जाएगा?

- Ans
- 1. 1820921187
  - 2. 19219201863
  - 3. 1920921186
  - 4. 6201821186

Question ID : 65497831028  
Status : Answered  
Chosen Option : 3

Q.10 दिए गए कथनों और निष्कर्षों को ध्यान से पढ़ें। यह मानते हुए कि कथनों में दी गई जानकारी सत्य है, भले ही यह सामान्य रूप से ज्ञात तथ्यों से भिन्न प्रतीत होती हो, यह निर्णय लें कि दिए गए निष्कर्षों में से कौन सा / कौन से निष्कर्ष कथनों का तार्किक रूप से अनुसरण करता है / करते हैं।

कथन:

सभी अंगूर फल हैं।  
कुछ सब्जियाँ अंगूर हैं।

निष्कर्ष:

I. कुछ सब्जियाँ फल हैं।  
II. सभी अंगूर सब्जियाँ हैं।

- Ans
- 1. निष्कर्ष I और II दोनों ही अनुसरण करते हैं।
  - 2. न तो निष्कर्ष I और न ही II अनुसरण करता है।
  - 3. केवल निष्कर्ष II अनुसरण करता है।
  - 4. केवल निष्कर्ष I अनुसरण करता है।

Question ID : 65497831011  
Status : Answered  
Chosen Option : 4

Q.11 एक विशिष्ट कूट भाषा में, 'BEHIND' को 'BLGJGD' लिखा जाता है। इस भाषा में 'ORANGE' को क्या लिखा जाएगा?

- Ans
- 1. PLCECTQ
  - 2. CELCTQ
  - 3. CLECCQT
  - 4. NQCLTF

Question ID : 65497831021  
Status : Answered  
Chosen Option : 2

Q.12 A, B का भाई है। C, B का पति है। C, E का बेटा है। S, E की पत्नी है। S, B से किस प्रकार संबंधित है?

- Ans
- 1. सास
  - 2. मामी
  - 3. बहू
  - 4. भतीजी

Question ID : 65497831022  
Status : Answered  
Chosen Option : 1

Q.13 उस सही विकल्प का चयन करें, जो दिए गए शब्दों को उस क्रम में दर्शाता है जिस क्रम में वे अंग्रेजी शब्दकोश में दिखाई पड़ते हैं।

1. Tackle
2. Topper
3. Topic
4. Terminal
5. Termite

- Ans
- 1. 4, 1, 5, 3, 2
  - 2. 1, 5, 4, 3, 2
  - 3. 1, 4, 5, 3, 2
  - 4. 1, 4, 5, 2, 3

Question ID : 65497831006  
Status : Answered  
Chosen Option : 3

Q.14 ब्रॉकाइटिस का जो संबंध 'फेफड़ों' से है, वही संबंध 'ग्लूकोमा' का ' \_\_\_\_\_ ' से है।

- Ans
- 1. त्वचा
  - 2. आँखों
  - 3. जिक्का
  - 4. अग्राशय

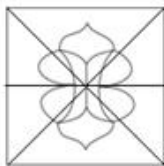
Question ID : 65497831024  
Status : Answered  
Chosen Option : 1

Q.15 उस विकल्प का चयन करें जिसमें दी गई आकृति अंतर्निहित है (घुमाने की अनुमति नहीं है)।

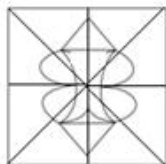


Ans

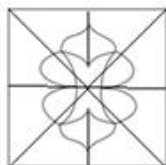
✓ 1.



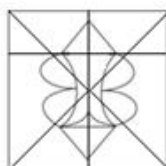
✗ 2.



✗ 3.



✗ 4.



Question ID : 65497831019

Status : Answered

Chosen Option : 1

Q.16 उस विकल्प का चयन करें जो तीसरे पद से उसी प्रकार संबंधित है, जिस प्रकार दूसरा पद पहले पद से संबंधित है।

ROCK : OGSV :: LAST : ?

Ans ✓ 1. XWEP

✗ 2. PETV

✗ 3. XVID

✗ 4. ODVX

Question ID : 65497831020

Status : Answered

Chosen Option : 1

Q.17 चार संख्या-त्रय (नंबर-ट्रायड) दिए गए हैं, जिनमें से तीन किसी तरह से एक समान हैं और एक भिन्न है। उस संख्या-त्रय (नंबर-ट्रायड) का चयन करें जो भिन्न है।

- Ans  1. (42, 79, 126)  
 2. (27, 64, 101)  
 3. (35, 72, 109)  
 4. (54, 91, 128)

Question ID : 65497831012  
Status : Answered  
Chosen Option : 1

Q.18 दिए गए विकल्पों में से उस संख्या का चयन कीजिए, जो निम्नलिखित श्रेणी में प्रश्नवाचक चिह्न (?) के स्थान पर आ सकती है।

29, 38, 63, 112, 193, ?

- Ans  1. 327  
 2. 385  
 3. 303  
 4. 314

Question ID : 65497831029  
Status : Answered  
Chosen Option : 4

Q.19 सात व्यक्ति, A, B, C, D, E, F और G, सात तलों वाले एक भवन में विभिन्न तलों पर रह रहे हैं। B और D के तलों के बीच चार तल हैं, और B, D से ऊपर वाले तल पर रहता है। E और A के तलों के बीच दो तल हैं, और A, E से नीचे वाले तल पर रहता है। C भू-तल पर रहता है। G और F पड़ोसी तल पर रहते हैं। C और F के तलों के बीच दो तल हैं, और F, C से ऊपर वाले तल पर रहता है।

सबसे ऊपर वाले तल पर कौन रह रहा है?

- Ans  1. G  
 2. D  
 3. A  
 4. B

Question ID : 65497831015  
Status : Answered  
Chosen Option : 4

Q.20 निम्नलिखित समीकरण को सही करने के लिए किन दो गणितीय चिह्नों को आपस में बदलने की आवश्यकता है?

$$106 \div 3 \times 2 + 70 - 7 = 110$$

- Ans  1. - और ÷  
 2. + और -  
 3. × और -  
 4. × और +

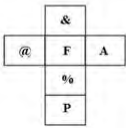
Question ID : 65497831017  
Status : Answered  
Chosen Option : 1

Q.21 A, B, C, D, E और F, छह सेवानिवृत्त अंतरराष्ट्रीय क्रिकेट खिलाड़ी हैं जो एक टीवी शो में, एक पंक्ति में एक के बाद दूसरे के आधार पर बैठे हैं। E और F पंक्ति में छोर पर हैं। C, E के बाएं दूसरे स्थान पर है। B, F के दाएं दूसरे स्थान पर है। A, B के बाएं पड़ोस में बैठा है। C के दाईं ओर पड़ोस में D है। बाएं से चौथे स्थान पर कौन है?

- Ans  1. C  
 2. A  
 3. B  
 4. D

Question ID : 65497831025  
 Status : Answered  
 Chosen Option : 1

Q.22 दिए गए पत्रक (शीट) को मोड़कर एक घन बनाया गया है। इस प्रकार बने घन में, & प्रतीक दर्शाने वाले फलक के विपरीत फलक पर कौन सा अक्षर/प्रतीक होगा?



- Ans  1. @  
 2. A  
 3. %  
 4. P

Question ID : 65497831018  
 Status : Answered  
 Chosen Option : 3

Q.23 निम्नलिखित भिन्नो में सबसे बड़े और सबसे छोटे भिन्न के बीच क्या अंतर है?

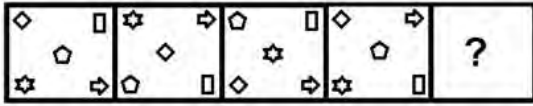
$$\frac{4}{5}, \frac{5}{6}, \frac{3}{8}, \frac{5}{7}, \frac{6}{7}$$

- Ans  1.  $\frac{15}{28}$   
 2.  $\frac{13}{49}$   
 3.  $\frac{27}{56}$   
 4.  $\frac{15}{42}$

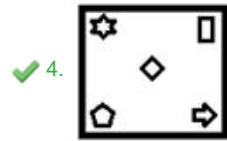
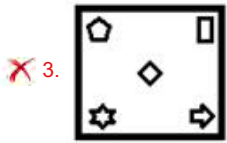
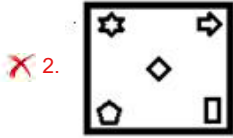
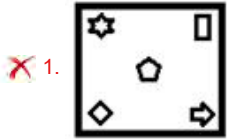
Question ID : 65497831013  
 Status : Answered  
 Chosen Option : 3



Q.24 उस आकृति का चयन करें जो निम्नलिखित आकृति श्रेणी में अगले स्थान पर आएगी।



Ans



Question ID : 65497831009

Status : Not Answered

Chosen Option : --

Q.25 अक्षरों के उस संयोजन का चयन करें जिसे दी गई श्रेणी में रिक्त स्थानों पर क्रमिक रूप से रखने पर श्रेणी पूर्ण हो जाएगी।

A Y \_ Q A \_ M Q \_ Y M \_ A \_ M Q \_ Y \_ Q

Ans ✗ 1. MYAAAYAY

✓ 2. MYAQYAM

✗ 3. MAYYQMA

✗ 4. YMAQYAM

Question ID : 65497831007

Status : Answered

Chosen Option : 2

Section : Part B General Knowledge and General Awareness

Q.1 निम्नलिखित में से कौन मुगल सम्राट अकबर के शासनकाल के दौरान भारत में रहता था?

- Ans
- 1. जियाउद्दीन बरनी
  - 2. गयासुद्दीन बलबन
  - 3. अमीर खुसरो
  - 4. अब्दुल रहीम खान-ए-खाना

Question ID : 65497831037  
Status : Answered  
Chosen Option : 3

Q.2 लेलाह फर्नांडीज \_\_\_\_\_ की एक पेशेवर टेनिस खिलाड़ी हैं।

- Ans
- 1. जर्मनी
  - 2. कनाडा
  - 3. जापान
  - 4. यूएसए

Question ID : 65497831050  
Status : Answered  
Chosen Option : 3

Q.3 प्रसिद्ध तवांग मठ निम्नलिखित में से किस राज्य में स्थित है?

- Ans
- 1. असम
  - 2. सिक्किम
  - 3. आंध्र प्रदेश
  - 4. अरुणाचल प्रदेश

Question ID : 65497831038  
Status : Answered  
Chosen Option : 2

Q.4 साइबर बाल अपराध को रोकने की दिशा में किए गए अपने काम के लिए निम्नलिखित में से किसे अंतरराष्ट्रीय शांति पुरस्कार 2020 से सम्मानित किया गया है?

- Ans
- 1. सादात रहमान
  - 2. स्टेसी अब्राम्स
  - 3. एलेक्सी नवलनी
  - 4. ग्रेटा थनबर्ग

Question ID : 65497831041  
Status : Answered  
Chosen Option : 1

Q.5 उमानंद, असम में स्थित एक \_\_\_\_\_ है।

- Ans
- 1. द्वीप
  - 2. घाटी
  - 3. झील
  - 4. नदी

Question ID : 65497831049  
Status : Answered  
Chosen Option : 2

Q.6 वित्त मंत्री निर्मला सीतारमण ने 2021 में अपना \_\_\_\_\_ बजट पेश किया।

- Ans  1. तीसरा  
 2. चौथा  
 3. दूसरा  
 4. पांचवां

Question ID : 65497831055  
Status : Answered  
Chosen Option : 3

Q.7 विकासवाद का सिद्धांत (Theory of Evolution) निम्नलिखित में से किसने दिया था?

- Ans  1. ग्रेगर जॉन मेंडल  
 2. चार्ल्स रॉबर्ट डार्विन  
 3. अल्बर्ट आइंस्टीन  
 4. मैरी क्यूरी

Question ID : 65497831040  
Status : Answered  
Chosen Option : 2

Q.8 टाटा आयरन एंड स्टील कंपनी (TISCO) की स्थापना किस वर्ष हुई थी?

- Ans  1. 1907  
 2. 1913  
 3. 1932  
 4. 1927

Question ID : 65497831036  
Status : Answered  
Chosen Option : 1

Q.9 निम्नलिखित में से किसने इंडक्शन मोटर का आविष्कार किया था?

- Ans  1. थॉमस सेवरी  
 2. फ्रैंक शुमन  
 3. जॉन एल. बेयर्ड  
 4. निकोला टेस्ला

Question ID : 65497831032  
Status : Answered  
Chosen Option : 3

Q.10 केंद्रीय बजट 2020 में, भारत के निर्यात ऋण को बढ़ाने के उद्देश्य से किस योजना को आरंभ करने के विषय में कहा गया था?

- Ans  1. निर्विक (NIRVIK)  
 2. निर्माण (NIRMAN)  
 3. साथी (SATHI)  
 4. सहज (SAHAJ)

Question ID : 65497831042  
Status : Answered  
Chosen Option : 1

Q.11 21 अक्टूबर, 2020 को अपने क्षेत्र के भीतर सी.बी.आई. (CBI) के संचालन के लिए सामान्य सहमति वापस लेने वाला भारत का पांचवा राज्य कौन-सा है?

- Ans
- 1. ओडिशा
  - 2. हरियाणा
  - 3. पंजाब
  - 4. महाराष्ट्र

Question ID : 65497831046  
Status : Not Answered  
Chosen Option : --

Q.12 संविधान सभा के लगभग 300 सदस्यों ने भारत के संविधान को लिखने के लिए \_\_\_\_\_ तक समय-समय पर बैठक की।

- Ans
- 1. 3 वर्ष
  - 2. 4 वर्ष
  - 3. 5 वर्ष
  - 4. 2 वर्ष

Question ID : 65497831047  
Status : Not Answered  
Chosen Option : --

Q.13 राजस्थान के देशनोक में स्थित करणी माता मंदिर इसमें रहने वाले \_\_\_\_\_ के लिए प्रसिद्ध है, जिन्हें पूजनीय माना जाता है।

- Ans
- 1. बंदरों
  - 2. गायों
  - 3. चूहों
  - 4. सांपों

Question ID : 65497831051  
Status : Answered  
Chosen Option : 1

Q.14 'द फेमस फाइव (The Famous Five)' साहित्यिक उपन्यासों की एक शृंखला है। इसके लेखक/लेखिका का नाम क्या है?

- Ans
- 1. एनिड ब्लौटन (Enid Blyton)
  - 2. रूडयार्ड किपलिंग (Rudyard Kipling)
  - 3. हैन्स क्रिश्चियन एंडरसन (Hans Christian Andersen)
  - 4. लुईस कैरोल (Lewis Carroll)

Question ID : 65497831053  
Status : Answered  
Chosen Option : 1

Q.15 नोवाक जोकोविच एक पेशेवर टेनिस खिलाड़ी हैं। उनका संबंध किस देश से है?

- Ans
- 1. स्पेन
  - 2. सर्बिया
  - 3. स्लोवाकिया
  - 4. स्वीडन

Question ID : 65497831054  
Status : Answered  
Chosen Option : 2

Q.16 विश्व शौचालय दिवस 2020 का विषय (थीम) क्या था?

- Ans
- 1. स्वच्छता
  - 2. किसी को पीछे नहीं छोड़ना (लीविंग नो वन बिहाइंड)
  - 3. सतत स्वच्छता और जलवायु परिवर्तन (ससटेनेबल सैनिटेशन एंड क्लाइमेट चेंज)
  - 4. सभी के लिए शौचालय (टॉयलेट्स फॉर ऑल)

Question ID : 65497831039  
Status : Answered  
Chosen Option : 4

Q.17 कर्नाटक में बासवन्ना और उसके साथी, जैसे कि अल्लामा प्रभु और अक्ममहादेवी ने सभी मनुष्यों की समानता के लिए बारहवीं शताब्दी के मध्य में किस आंदोलन की शुरुआत की थी?

- Ans
- 1. भक्ति
  - 2. विश्वासी
  - 3. निपाख
  - 4. वीरशैव

Question ID : 65497831044  
Status : Not Answered  
Chosen Option : --

Q.18 भारतीय दंड संहिता की किस धारा के तहत ताक-झांक एक अपराध है?

- Ans
- 1. धारा 354 C
  - 2. धारा 354 B
  - 3. धारा 354 A
  - 4. धारा 354 D

Question ID : 65497831045  
Status : Not Answered  
Chosen Option : --

Q.19 सितंबर 2020 में, \_\_\_\_\_ को राज्यसभा के उपाध्यक्ष के रूप में पुनर्निर्वाचित किया गया था।

- Ans
- 1. प्रतिभा पाटिल
  - 2. पी.जे. कुरियन
  - 3. हरिवंश नारायण सिंह
  - 4. नजमा हेपतुल्ला

Question ID : 65497831048  
Status : Answered  
Chosen Option : 3

Q.20 निम्न में से किस वर्ष के विश्व जनसंख्या दिवस की विषयवस्तु 'अब महिलाओं और लड़कियों के स्वास्थ्य और अधिकारों की सुरक्षा कैसे करें' थी?

- Ans
- 1. 2021
  - 2. 2020
  - 3. 2017
  - 4. 2018

Question ID : 65497831052  
Status : Answered  
Chosen Option : 2

Q.21 सितंबर 2020 में, मेरकॉम कैपिटल यूएसए द्वारा वैश्विक सौर ऊर्जा कंपनियों की नवीनतम रैंकिंग के अनुसार, परिचालन और ऑफ-टेकर अनुबंध वाली सौर ऊर्जा परियोजनाओं के संदर्भ में किस भारतीय कंपनी को नंबर 1 वैश्विक सौर ऊर्जा उत्पादन परिसंपत्ति की मालिक के रूप में चुना गया था?

- Ans
- 1. ग्रीनको
  - 2. अडानी ग्रीन एनर्जी
  - 3. एज़्योर पावर
  - 4. ACME सोलर

Question ID : 65497831034  
Status : Not Answered  
Chosen Option : --

Q.22 थोसेघर जलप्रपात किस राज्य में स्थित है?

- Ans
- 1. मध्य प्रदेश
  - 2. कर्नाटक
  - 3. महाराष्ट्र
  - 4. ओडिशा

Question ID : 65497831035  
Status : Answered  
Chosen Option : 2

Q.23 1591 में, अकबर के प्रसिद्ध सेनाध्यक्ष, राजा मान सिंह ने निम्नलिखित में से किस जनजाति को हराया था?

- Ans
- 1. लोहरा
  - 2. मुंडी
  - 3. चैरो
  - 4. संताल

Question ID : 65497831043  
Status : Answered  
Chosen Option : 3

Q.24 वेद ऋषि कपिल का संबंध भारतीय दर्शन के \_\_\_\_\_ संप्रदाय से था।

- Ans
- 1. न्याय
  - 2. वैशेषिक
  - 3. सांख्य
  - 4. मीमांसा

Question ID : 65497831033  
Status : Answered  
Chosen Option : 3

Q.25 किस भारतीय राज्य ने खेलो इंडिया यूथ गेम्स 2020 में सबसे अधिक पदक जीते?

- Ans
- 1. राजस्थान
  - 2. महाराष्ट्र
  - 3. मणिपुर
  - 4. हरियाणा

Question ID : 65497831031  
Status : Answered  
Chosen Option : 2

Section : Part C Elementary Mathematics

Q.1 एक व्यापारी एक वस्तु को उसके अंकित मूल्य पर 17% की छूट देते हुए ₹498 में बेचता है। यदि उसने कोई छूट नहीं दी होती, तो उसे 25% का लाभ होता। वस्तु का क्रय मूल्य (₹ में) ज्ञात कीजिए।

- Ans
- 1. 480
  - 2. 420
  - 3. 400
  - 4. 450

Question ID : 65497831077  
Status : Answered  
Chosen Option : 4

Q.2 यदि 24 cm ऊँचे एक लंब वृत्तीय शंकु का आयतन  $\frac{17600}{7}$  cm<sup>3</sup> है, तो इसकी त्रिज्या क्या होगी?

- Ans
- 1. 14 cm
  - 2. 12 cm
  - 3. 10 cm
  - 4. 7 cm

Question ID : 65497831067  
Status : Answered  
Chosen Option : 3

**Q.3** एक वस्तु को ₹5,600 में बेचने पर एक व्यक्ति को कुछ हानि होती है। उसी वस्तु को ₹6,160 में बेचने पर उसे जो लाभ प्राप्त होता है, वह हानि का 2/5 होता है। वस्तु का लागत मूल्य कितना है?

- Ans**
- 1. ₹5,880
  - 2. ₹6,067
  - 3. ₹6,000
  - 4. ₹5,600

Question ID : **65497831056**  
Status : **Not Answered**  
Chosen Option : --

**Q.4** एक कंपनी की आय प्रति वर्ष 30% बढ़ जाती है। यदि वर्ष 2018 में इसकी आय ₹70,98,000 थी, तो 2016 में आय कितनी थी?

- Ans**
- 1. ₹40,00,000
  - 2. ₹48,00,000
  - 3. ₹45,00,000
  - 4. ₹42,00,000

Question ID : **65497831061**  
Status : **Answered**  
Chosen Option : 4

**Q.5** 30% अम्ल वाले विलयन के 15 लीटर में कितने लीटर शुद्ध अम्ल है?

- Ans**
- 1. 4.8 लीटर
  - 2. 3.2 लीटर
  - 3. 4.5 लीटर
  - 4. 5.3 लीटर

Question ID : **65497831074**  
Status : **Answered**  
Chosen Option : 3

**Q.6** एक इत्र का क्रय मूल्य ₹720 है। यदि इस पर एक दुकानदार द्वारा दी जाने वाली छूट 15% है, तो इत्र का विक्रय मूल्य कितना है?

- Ans**
- 1. ₹612
  - 2. ₹595
  - 3. ₹646
  - 4. ₹550

Question ID : **65497831073**  
Status : **Answered**  
Chosen Option : 1



**Q.7** 35 km/h की चाल से चल रहा एक ट्रक 140 km की दूरी तय करता है। यदि अगले 20 km की दूरी 30 मिनट में और अंतिम 30 km की दूरी 60 km/h की चाल से तय करता है, तो ट्रक की औसत चाल (km/h में) कितनी है?

- Ans**
- 1. 40
  - 2. 42
  - 3. 48.5
  - 4. 38

Question ID : **65497831059**  
Status : **Not Answered**  
Chosen Option : --

**Q.8** जॉन एक वृत्ताकार मैदान के चारों ओर एक चक्कर प्रति घंटे की दर से पैदल चलता है जबकि सोनू दौड़ते हुए प्रति घंटे इस मैदान का सात चक्कर लगता है। वे सुबह 9.35 बजे एक ही बिंदु से एक ही दिशा में चलना / दौड़ना शुरू करते हैं। वे सबसे पहले कितने बजे एक दूसरे को पार करेंगे?

- Ans**
- 1. सुबह 9.55 बजे
  - 2. सुबह 9.45 बजे
  - 3. सुबह 9.40 बजे
  - 4. सुबह 9.50 बजे

Question ID : **65497831076**  
Status : **Not Answered**  
Chosen Option : --

**Q.9** निम्नलिखित व्यंजक का मान ज्ञात करें।

$$\frac{(5+9)-2+24 \text{ of } 6 \div 4 \times 12}{-24 \div (-8) \times (-2) + 3}$$

- Ans**
- 1. -5
  - 2.  $49\frac{1}{3}$
  - 3. -148
  - 4.  $151\frac{1}{3}$

Question ID : **65497831058**  
Status : **Answered**  
Chosen Option : **3**

**Q.10** तीन बक्सों A, B और C में 5 : 7 : 11 के अनुपात में गेंदें रखी हुई हैं, और तीनों बक्सों में गेंदों की कुल संख्या 92 है। यदि 4 गेंदों को बॉक्स B से बॉक्स A में और 8 गेंदों को बॉक्स C से बॉक्स A में डाल दिया जाए, तो इन तीन बक्सों A, B और C में गेंदों का नया अनुपात क्या होगा?

- Ans**
- 1. 8 : 7 : 9
  - 2. 8 : 6 : 9
  - 3. 7 : 6 : 10
  - 4. 7 : 9 : 11

Question ID : 65497831064  
Status : Answered  
Chosen Option : 2

**Q.11** यदि लागत मूल्य का विक्रय मूल्य से अनुपात 5 : 7 है, तो लाभ प्रतिशत कितना होगा?

- Ans**
- 1. 40%
  - 2. 25%
  - 3. 35%
  - 4. 30%

Question ID : 65497831069  
Status : Answered  
Chosen Option : 1

**Q.12** तीन वर्ष पहले, राम और श्याम की औसत उम्र 20 वर्ष थी। जब सैयद उनके साथ आ गया, तो औसत उम्र 25 वर्ष हो गई। सैयद की वर्तमान उम्र कितनी है?

- Ans**
- 1. 26 वर्ष
  - 2. 21 वर्ष
  - 3. 23 वर्ष
  - 4. 29 वर्ष

Question ID : 65497831072  
Status : Not Answered  
Chosen Option : --

**Q.13** चार अंकों की वह सबसे बड़ी संख्या कौन सी है, जिसे 18, 36 और 48 से विभाजित करने पर प्रत्येक बार समान शेषफल 8 प्राप्त होता है?

- Ans**
- 1. 9944
  - 2. 9946
  - 3. 9964
  - 4. 9984

Question ID : 65497831062  
Status : Answered  
Chosen Option : 1

**Q.14** कंक्रीट में बजरी के 9 भाग, रेत के 2 भाग और चूने के 6 भाग सम्मिलित हैं। 136 kg कंक्रीट में रेत और बजरी की मात्रा में कितना अंतर (kg में) होगा?

- Ans**
- 1. 32
  - 2. 24
  - 3. 56
  - 4. 65

Question ID : 65497831078  
Status : Answered  
Chosen Option : 3

**Q.15** A किसी काम को 16 दिनों में पूरा कर सकता है, और B उसी काम को 15 दिनों में पूरा कर सकता है। A द्वारा 4 दिन काम करने के बाद, बाकी काम पूरा करने के लिए B भी A के साथ शामिल हो जाता है। बाकी काम कितने दिनों में पूरा होगा?

- Ans**
- 1.  $7\frac{25}{31}$
  - 2.  $6\frac{25}{31}$
  - 3.  $8\frac{25}{31}$
  - 4.  $5\frac{25}{31}$

Question ID : 65497831070  
Status : Answered  
Chosen Option : 4

**Q.16** ₹8,000 की धनराशि के लिए, अर्धवार्षिक रूप से चक्रवृद्धि होने वाली 10% वार्षिक ब्याज दर पर  $1\frac{1}{2}$  वर्ष का चक्रवृद्धि ब्याज कितना होगा?

- Ans**
- 1. ₹1,261
  - 2. ₹1,461
  - 3. ₹1,260
  - 4. ₹1,360

Question ID : 65497831065  
Status : Answered  
Chosen Option : 1

**Q.17** एक ठोस बेलनाकार छड़ का आयतन  $2750 \text{ cm}^3$  है। यदि छड़ की लंबाई  $35 \text{ cm}$  है, तो बेलनाकार छड़ के आधार की त्रिज्या (cm में) ज्ञात कीजिए। ( $\pi = \frac{22}{7}$  लें)

- Ans**
- 1. 5
  - 2. 4
  - 3. 5.5
  - 4. 5.4

Question ID : **65497831080**  
Status : **Answered**  
Chosen Option : **1**

**Q.18** ₹1,25,000 की राशि का अर्द्धवार्षिक रूप से चक्रवृद्धि होने वाली निश्चित ब्याज दर पर डेढ़ वर्ष का चक्रवृद्धि ब्याज ₹15,608 होता है। उसी राशि का उसी ब्याज दर पर 3 वर्ष का साधारण ब्याज कितना होगा?

- Ans**
- 1. ₹31,216
  - 2. ₹31,000
  - 3. ₹15,000
  - 4. ₹30,000

Question ID : **65497831057**  
Status : **Answered**  
Chosen Option : **3**

**Q.19**  $104 \div 39 \text{ of } \frac{2}{3} + 1\frac{2}{5} \times 12\frac{1}{7} - \frac{3}{4}$  का मान ज्ञात करें।

- Ans**
- 1.  $10\frac{1}{4}$
  - 2.  $25\frac{1}{4}$
  - 3.  $20\frac{1}{4}$
  - 4.  $30\frac{1}{4}$

Question ID : **65497831068**  
Status : **Answered**  
Chosen Option : **3**

**Q.20** किसी आदमी ने ₹50 प्रति लीटर के मूल्य पर 30 लीटर दूध खरीदा। दूध मथने के लिए ₹15 खर्च करने के बाद, उसे 4 kg क्रीम और 30 लीटर टॉड दूध मिला। यदि उसने ₹300 प्रति किग्रा के मूल्य से क्रीम और ₹40 प्रति लीटर के मूल्य पर टॉड दूध बेचा, तो उसका लाभ प्रतिशत कितना है?

- Ans**
- 1. 53.4457%
  - 2. 58.4158%
  - 3. 55.3456%
  - 4. 58.24565%

Question ID : 65497831071  
Status : Not Answered  
Chosen Option : --

**Q.21** सुशांत और निशांत की वर्तमान आयु का अनुपात 9 : 13 है। 8 वर्ष पश्चात, यह अनुपात 11 : 15 हो जाएगा। निशांत की वर्तमान आयु क्या है?

- Ans**
- 1. 52 वर्ष
  - 2. 48 वर्ष
  - 3. 50 वर्ष
  - 4. 54 वर्ष

Question ID : 65497831066  
Status : Answered  
Chosen Option : 1

**Q.22** एक निश्चित धनराशि पर 10% वार्षिक ब्याज की दर से 3 वर्षों में प्राप्त चक्रवृद्धि ब्याज ₹1,324 है। समान धनराशि पर, समान दर से समान समय में प्राप्त साधारण ब्याज (₹ में) ज्ञात कीजिए।

- Ans**
- 1. 1,200
  - 2. 1,380
  - 3. 1,080
  - 4. 1,150

Question ID : 65497831079  
Status : Answered  
Chosen Option : 1

**Q.23** छह पुरुष किसी कार्य को 14 दिन में पूरा कर सकते हैं। उन्होंने काम शुरू किया और 5 दिनों के बाद, तीन पुरुष कार्य छोड़कर चले गए। शेष पुरुष कितने दिनों में कार्य पूरा करेंगे?

- Ans**
- 1. 18 दिन
  - 2. 15 दिन
  - 3. 12 दिन
  - 4. 20 दिन

Question ID : 65497831075  
Status : Not Answered  
Chosen Option : --

**Q.24** दो संख्याएँ 7 : 11 के अनुपात में हैं। उनका लघुत्तम समापवर्त्य (LCM) 385 है। उनमें से छोटी वाली संख्या क्या है?

- Ans**
- 1. 35
  - 2. 28
  - 3. 42
  - 4. 21

Question ID : 65497831060  
Status : Answered  
Chosen Option : 1

**Q.25** तीन संख्याओं a, b और c का औसत 63 है। यदि पहली संख्या 'a', संख्याओं b और c के योग की तीन-चौथाई है, तो पहली संख्या 'a' का मान कितना होगा?

- Ans**
- 1. 71
  - 2. 18
  - 3. 81
  - 4. 63

Question ID : 65497831063  
Status : Answered  
Chosen Option : 3

Section : Part D English

**Q.1** Select the most appropriate meaning of the given idiom.

Drag one's feet

- Ans**
- 1. Do something deliberately at a slow pace
  - 2. Have a disability in the feet
  - 3. Be hurt badly on the foot
  - 4. Find it difficult to walk fast

Question ID : 65497831088  
Status : Not Answered  
Chosen Option : --

**Q.2** Select the most appropriate option to fill in the blank.

Candidates who successfully complete the entrance test will be \_\_\_\_\_ for an interview next week.

- Ans**
- 1. encouraged
  - 2. asked
  - 3. invited
  - 4. required

Question ID : 65497831090  
Status : Not Answered  
Chosen Option : --

**Q.3** Select the most appropriate option to fill in the blank.

The thief was taken to the police station but the \_\_\_\_\_ revealed nothing.

- Ans  1. provocation  
 2. interrogation  
 3. objection  
 4. discussion

Question ID : **65497831092**  
Status : **Not Answered**  
Chosen Option : --

**Q.4** Select the option that can be used as a one-word substitute for the given group of words.

One who has fixed opinions and beliefs

- Ans  1. Broad-minded  
 2. Flexible  
 3. Rigid  
 4. Amiable

Question ID : **65497831083**  
Status : **Not Answered**  
Chosen Option : --

**Q.5** Select the most appropriate option that can substitute the underlined word in the given sentence.

'Angulimala' lived by training travellers and feared no one.

- Ans  1. disillusioning  
 2. distilling  
 3. plundering  
 4. mischallenging

Question ID : **65497831086**  
Status : **Not Answered**  
Chosen Option : --

**Q.6** Select the option that can be used as a one-word substitute for the given group of words.

A person who physically attacks another

- Ans  1. Convict  
 2. Culprit  
 3. Scoundrel  
 4. Assailant

Question ID : **65497831097**  
Status : **Not Answered**  
Chosen Option : --

**Q.7** Select the **INCORRECTLY** spelt word.

- Ans**  1. Thretened  
 2. Thermometer  
 3. Thanksgiving  
 4. Throughout

Question ID : **65497831089**  
Status : **Not Answered**  
Chosen Option : --

**Q.8** Select the most appropriate synonym of the given word.

**Achieve**

- Ans**  1. Accuse  
 2. Adjoin  
 3. Abduct  
 4. Accomplish

Question ID : **65497831087**  
Status : **Not Answered**  
Chosen Option : --

**Q.9** The following sentence has been split into four segments. Identify the segment that contains a grammatical error.

Millions of people / have been protected / from polio by a fluid / called as a vaccine.

- Ans**  1. have been protected  
 2. called as a vaccine  
 3. from polio by a fluid  
 4. Millions of people

Question ID : **65497831095**  
Status : **Not Answered**  
Chosen Option : --

**Q.10** Select the most appropriate synonym of the given word.

**Retrieve**

- Ans**  1. Remove  
 2. Retain  
 3. Rescue  
 4. Recover

Question ID : **65497831096**  
Status : **Not Answered**  
Chosen Option : --



**Q.11** Select the option that can be used as a one-word substitute for the given group of words.

Life history of a person written by someone else

- Ans  1. Autobiography  
 2. Biography  
 3. Biodata  
 4. Resume

Question ID : 65497831091  
Status : Not Answered  
Chosen Option : --

**Q.12** Select the most appropriate option that can substitute the underlined segment in the given sentence. If there is no need to substitute it, select 'No substitution required'.

The actor along with his new wife is expected shortly.

- Ans  1. No substitution required  
 2. are being  
 3. are expected  
 4. has expected

Question ID : 65497831093  
Status : Not Answered  
Chosen Option : --

**Q.13** Select the most appropriate ANTONYM of the given word.

Retreat

- Ans  1. Advance  
 2. Push  
 3. Promote  
 4. Strengthen

Question ID : 65497831098  
Status : Not Answered  
Chosen Option : --

**Q.14** The following sentence has been divided into parts. One of them may contain an error. Select the part that contains the error from the given options. If you don't find any error, mark 'No error' as your answer.

Do you mind / whether I use / your telephone?

- Ans  1. Do you mind  
 2. your telephone  
 3. No error  
 4. whether I use

Question ID : 65497831081  
Status : Not Answered  
Chosen Option : --

Q.15 Select the INCORRECTLY spelt word.

- Ans  1. Buying  
 2. Bouncing  
 3. Boxing  
 4. Begining

Question ID : 65497831084  
Status : Not Answered  
Chosen Option : --

Q.16 Select the most appropriate option to fill in the blank.

You should pay a little more attention to your \_\_\_\_\_.

- Ans  1. apportion  
 2. apparition  
 3. appearance  
 4. apprehension

Question ID : 65497831094  
Status : Not Answered  
Chosen Option : --

Q.17 Select the most appropriate ANTONYM of the given word.

Never

- Ans  1. Always  
 2. Rarely  
 3. Sometimes  
 4. Seldom

Question ID : 65497831082  
Status : Not Answered  
Chosen Option : --

Q.18 Select the option that will improve the underlined part of the given sentence. In case no improvement is needed, select 'No improvement required'.

Reading not only helps to pass the leisure hours as well as keeps you well informed.

- Ans  1. No improvement required  
 2. along with  
 3. but also  
 4. and even

Question ID : 65497831099  
Status : Not Answered  
Chosen Option : --

**Q.19** Select the most appropriate meaning of the given idiom.

**Game is up**

- Ans**
- 1. New scheme has been launched
  - 2. Game is over and winner declared
  - 3. Deception is at an end
  - 4. Plan has been executed

Question ID : **65497831100**  
Status : **Not Answered**  
Chosen Option : --

**Q.20** The following sentence has been split into four segments. Identify the segment that contains a grammatical error.

**The cat / drank the milk / before we / return home.**

- Ans**
- 1. drank the milk
  - 2. return home
  - 3. The cat
  - 4. before we

Question ID : **65497831085**  
Status : **Not Answered**  
Chosen Option : --

**Comprehension:**

In the following passage, some words have been deleted. Read the passage carefully and select the most appropriate option to fill in each blank.

Life is not about making lists and trying to be one step (1) \_\_\_\_\_ of others. Stop being a workaholic. Take a (2) \_\_\_\_\_. Do whatever makes you feel happy and (3) \_\_\_\_\_. Most of all, spend time in the (4) \_\_\_\_\_ of nature to pick up some (5) \_\_\_\_\_ lessons.

**SubQuestion No : 21**

**Q.21** Select the most appropriate option to fill in blank no.1.

- Ans**
- 1. forward
  - 2. away
  - 3. ahead
  - 4. front

Question ID : **65497831102**  
Status : **Not Answered**  
Chosen Option : --

**Comprehension:**

In the following passage, some words have been deleted. Read the passage carefully and select the most appropriate option to fill in each blank.

Life is not about making lists and trying to be one step (1) \_\_\_\_\_ of others. Stop being a workaholic. Take a (2) \_\_\_\_\_. Do whatever makes you feel happy and (3) \_\_\_\_\_. Most of all, spend time in the (4) \_\_\_\_\_ of nature to pick up some (5) \_\_\_\_\_ lessons.

**SubQuestion No : 22**

**Q.22** Select the most appropriate option to fill in blank no.2.

- Ans  1. recess  
 2. blow  
 3. break  
 4. gap

Question ID : 65497831103  
Status : Not Answered  
Chosen Option : --

**Comprehension:**

In the following passage, some words have been deleted. Read the passage carefully and select the most appropriate option to fill in each blank.

Life is not about making lists and trying to be one step (1) \_\_\_\_\_ of others. Stop being a workaholic. Take a (2) \_\_\_\_\_. Do whatever makes you feel happy and (3) \_\_\_\_\_. Most of all, spend time in the (4) \_\_\_\_\_ of nature to pick up some (5) \_\_\_\_\_ lessons.

**SubQuestion No : 23**

**Q.23** Select the most appropriate option to fill in blank no.3.

- Ans  1. lenient  
 2. patient  
 3. casual  
 4. relaxed

Question ID : 65497831104  
Status : Not Answered  
Chosen Option : --

**Comprehension:**

In the following passage, some words have been deleted. Read the passage carefully and select the most appropriate option to fill in each blank.

Life is not about making lists and trying to be one step (1) \_\_\_\_\_ of others. Stop being a workaholic. Take a (2) \_\_\_\_\_. Do whatever makes you feel happy and (3) \_\_\_\_\_. Most of all, spend time in the (4) \_\_\_\_\_ of nature to pick up some (5) \_\_\_\_\_ lessons.

**SubQuestion No : 24**

**Q.24** Select the most appropriate option to fill in blank no.4.

- Ans  1. group  
 2. crowd  
 3. company  
 4. gathering

Question ID : 65497831105  
Status : Not Answered  
Chosen Option : --

**Comprehension:**

In the following passage, some words have been deleted. Read the passage carefully and select the most appropriate option to fill in each blank.

Life is not about making lists and trying to be one step (1) \_\_\_\_\_ of others. Stop being a workaholic. Take a (2) \_\_\_\_\_. Do whatever makes you feel happy and (3) \_\_\_\_\_. Most of all, spend time in the (4) \_\_\_\_\_ of nature to pick up some (5) \_\_\_\_\_ lessons.

**SubQuestion No : 25**

**Q.25** Select the most appropriate option to fill in blank no.5.

- Ans  1. innumerable  
 2. invaluable  
 3. inevitable  
 4. invisible

Question ID : **65497831106**  
Status : **Not Answered**  
Chosen Option : --

Section : **Part D Hindi**

**Q.1** रिक्त स्थान को भरने के लिए सबसे उपयुक्त शब्द का चयन करें।

परीक्षा के दिन तक उसने एक \_\_\_\_\_ नहीं पढ़ा था।

- Ans  1. कहानी  
 2. पुस्तक  
 3. हिन्दी  
 4. अक्षर

Question ID : **65497831115**  
Status : **Answered**  
Chosen Option : 4

**Q.2** दिए गए वाक्य का वह भाग ज्ञात करें जिसमें कोई त्रुटि है। यदि कोई त्रुटि नहीं है, तो 'कोई त्रुटि नहीं है' चुनें।

वहाँ (1)/ भारी-भरकम (2)/ भीड़ लगी थी। (3)/ कोई त्रुटि नहीं है। (4)

- Ans  1. 3  
 2. 2  
 3. 4  
 4. 1

Question ID : **65497831120**  
Status : **Answered**  
Chosen Option : 2

Q.3 दिए गए शब्द का विलोम चुनें।

आदान

- Ans  1. प्रदान  
 2. निदान  
 3. स्वादन  
 4. श्रमदान

Question ID : 65497831118  
Status : Answered  
Chosen Option : 1

Q.4 सही वर्तनी वाले शब्द का चयन करें।

- Ans  1. आधुनीकीकरण  
 2. आधुनिकीकर्ण  
 3. आधूनीकीकरण  
 4. आधुनिकीकरण

Question ID : 65497831113  
Status : Answered  
Chosen Option : 4

Q.5 कौनसा शब्द 'मुर्गा' का समानार्थी शब्द नहीं है?

- Ans  1. ताम्रचूड़  
 2. शिखी  
 3. अरुणशिखा  
 4. कुक्कट

Question ID : 65497831108  
Status : Answered  
Chosen Option : 3

Q.6 दिए गए वाक्य में रेखांकित खंड को प्रतिस्थापित करने के लिए सबसे उपयुक्त विकल्प का चयन करें।  
यदि इसे प्रतिस्थापित करने की आवश्यकता नहीं है, तो विकल्प 'किसी बदलाव की आवश्यकता नहीं है'  
का चयन करें।

घर में चोरी हो जाने से वह कंकाल हो गया।

- Ans  1. ककाल  
 2. कंकाली  
 3. किसी बदलाव की आवश्यकता नहीं है।  
 4. कंगाल

Question ID : 65497831122  
Status : Answered  
Chosen Option : 4

Q.7 दिये गये वाक्यांश के लिए एक शब्द दीजिये।

सर से पैर तक

- Ans  1. सर्वांग  
 2. आपादमस्तक  
 3. संपूर्ण शरीर  
 4. नख शिख

Question ID : 65497831119  
Status : Answered  
Chosen Option : 3

Q.8 दिए गए वाक्य का वह भाग ज्ञात करें जिसमें कोई त्रुटि है। यदि कोई त्रुटि नहीं है, तो 'कोई त्रुटि नहीं है' चुनें।

आपने मुझे (1)/ नौकरी दी (2)/ मैं आजीवन कृतज्ञ रहूँगा।(3)/ कोई त्रुटि नहीं है (4)

- Ans  1. 3  
 2. 1  
 3. 2  
 4. 4

Question ID : 65497831107  
Status : Answered  
Chosen Option : 1

Q.9 दिए गए वाक्य का वह भाग ज्ञात करें जिसमें कोई त्रुटि है। यदि कोई त्रुटि नहीं है, तो 'कोई त्रुटि नहीं है' चुनें।

सारा राज्य (1) /उसके लिए (2)/ एक थाती थी। (3)/ कोई त्रुटि नहीं (4)

- Ans  1. 1  
 2. 4  
 3. 2  
 4. 3

Question ID : 65497831117  
Status : Answered  
Chosen Option : 4

Q.10 रिक्त स्थान भरने के लिए सबसे उपयुक्त शब्द का चयन करें।

अपने धन पर इतना \_\_\_\_\_ ठीक नहीं।

- Ans  1. अभिमान  
 2. अनुमान  
 3. अवमानना  
 4. अपमान

Question ID : 65497831112  
Status : Answered  
Chosen Option : 1

Q.11 कौनसा विलोम युग्म सुमेलित नहीं है?

- Ans  1. गरल-विरल  
 2. कृपण-दाता  
 3. कोप-कृपा  
 4. गंभीर-अगंभीर

Question ID : 65497831109  
Status : Answered  
Chosen Option : 4

Q.12 'गंगा से उत्पन्न' वाक्यांश के लिए एक शब्द होगा-

- Ans  1. गंगोत्री  
 2. गंगाधर  
 3. गांगेय  
 4. गंगाजल

Question ID : 65497831124  
Status : Answered  
Chosen Option : 2

Q.13 दिये गये वाक्य में रेखांकित अंश को प्रतिस्थापित करने के लिए सबसे उपयुक्त विकल्प का चयन करें।

दोनों में एक होड़ सा लगा है।

- Ans  1. होड़ सा लगी है।  
 2. होड़ लगा है।  
 3. होड़ सी लगी है।  
 4. होड़ सी लगा है।

Question ID : 65497831123  
Status : Answered  
Chosen Option : 3

Q.14 रिक्त स्थान को भरने के लिए सबसे उपयुक्त विकल्प का चयन करें।

रोग ज्ञात होने पर उसका \_\_\_\_\_ किया जाता है।

- Ans  1. उपाय  
 2. उपचार  
 3. अंत  
 4. समाधान

Question ID : 65497831126  
Status : Answered  
Chosen Option : 2



Q.15 दिए गए शब्द का समानार्थी शब्द चुनें।

अनिश्चित

- Ans
- 1. अहितकर
  - 2. अनिष्ट
  - 3. संदिग्ध
  - 4. अवज्ञा

Question ID : 65497831121  
Status : Answered  
Chosen Option : 3

Q.16 'मुँह पकड़ना' मुहावरे का सही अर्थ है-

- Ans
- 1. लज्जित होना
  - 2. अपहरण करना
  - 3. बोलने न देना
  - 4. प्यार जताना

Question ID : 65497831125  
Status : Answered  
Chosen Option : 3

Q.17 दिए गए वाक्य में रेखांकित खंड को प्रतिस्थापित करने के लिए सबसे उपयुक्त विकल्प का चयन करें।  
यदि इसे प्रतिस्थापित करने की आवश्यकता नहीं है, तो विकल्प किसी बदलाव की आवश्यकता नहीं है' का चयन करें।

अभी सात बजने को पांच मिनट बाकी है।

- Ans
- 1. किसी बदलाव की आवश्यकता नहीं है।
  - 2. सात बजने तक
  - 3. सात बजने में
  - 4. सात बजने पर

Question ID : 65497831116  
Status : Answered  
Chosen Option : 3

Q.18 कौनसे विकल्प में मुहावरा और उसका अर्थ सुमेलित नहीं है?

- Ans
- 1. तीन-तेरह होना – तय करना
  - 2. पौ बारह होना – अत्यधिक लाभ होना
  - 3. नानी मरना – होश न रहना
  - 4. तीन-पांच करना – हुज्जत करना

Question ID : 65497831110  
Status : Answered  
Chosen Option : 1

Q.19 सही वर्तनी वाले शब्द का चयन करें।

- Ans  1. अनिर्वचनीय  
 2. अर्निर्वचनीय  
 3. अनिरव्वनीय  
 4. अनीर्वचनीय

Question ID : 65497831114  
Status : Answered  
Chosen Option : 1

Q.20 दिए गए वाक्यांश के लिए एक शब्द दीजिए।

व्याकरण जानने वाला

- Ans  1. चक्रपाणी  
 2. वैयाकरण  
 3. वीणापाणी  
 4. पंडित

Question ID : 65497831111  
Status : Answered  
Chosen Option : 2

**Comprehension:**

दिए गए अनुच्छेद में कुछ शब्द हटा दिए गए हैं। दिए गए विकल्पों की सहायता से रिक्त स्थान भरें। प्रत्येक संख्या के लिए सबसे उपयुक्त विकल्प का चयन करें।

आज संसार के सामने, अनेक छोटी बड़ी (1) \_\_\_\_\_ हैं। प्रत्येक देश उनके (2) \_\_\_\_\_ के लिए प्रयास कर रहा है इनमें बढती हुई (3) \_\_\_\_\_ काफी गंभीर है इसके कारण (4) \_\_\_\_\_ की योजनायें (5) \_\_\_\_\_ होती जा रही हैं।

SubQuestion No : 21

Q.21 गद्यांश के रिक्त स्थान (1) के लिए सर्वाधिक उपयुक्त शब्द होगा-

- Ans  1. विविधताएं  
 2. समस्याएं  
 3. रचनायें  
 4. विशेषताएं

Question ID : 65497831128  
Status : Answered  
Chosen Option : 2

**Comprehension:**

दिए गए अनुच्छेद में कुछ शब्द हटा दिए गए हैं। दिए गए विकल्पों की सहायता से रिक्त स्थान भरें। प्रत्येक संख्या के लिए सबसे उपयुक्त विकल्प का चयन करें।

आज संसार के सामने, अनेक छोटी बड़ी (1) \_\_\_\_\_ हैं। प्रत्येक देश उनके (2) \_\_\_\_\_ के लिए प्रयास कर रहा है इनमें बढ़ती हुई (3) \_\_\_\_\_ काफी गंभीर है इसके कारण (4) \_\_\_\_\_ की योजनायें (5) \_\_\_\_\_ होती जा रही हैं।

**SubQuestion No : 22**

**Q.22** गद्यांश के रिक्त स्थान (2) के लिए सर्वाधिक उपयुक्त शब्द होगा-

- Ans**  1. समाधान  
 2. प्रसार  
 3. व्यवधान  
 4. नादान

Question ID : 65497831129  
Status : Answered  
Chosen Option : 1

**Comprehension:**

दिए गए अनुच्छेद में कुछ शब्द हटा दिए गए हैं। दिए गए विकल्पों की सहायता से रिक्त स्थान भरें। प्रत्येक संख्या के लिए सबसे उपयुक्त विकल्प का चयन करें।

आज संसार के सामने, अनेक छोटी बड़ी (1) \_\_\_\_\_ हैं। प्रत्येक देश उनके (2) \_\_\_\_\_ के लिए प्रयास कर रहा है इनमें बढ़ती हुई (3) \_\_\_\_\_ काफी गंभीर है इसके कारण (4) \_\_\_\_\_ की योजनायें (5) \_\_\_\_\_ होती जा रही हैं।

**SubQuestion No : 23**

**Q.23** गद्यांश के रिक्त स्थान (3) के लिए सर्वाधिक उपयुक्त शब्द होगा-

- Ans**  1. विविधता  
 2. जनसंख्या  
 3. संस्कृति  
 4. समानता

Question ID : 65497831130  
Status : Answered  
Chosen Option : 2

**Comprehension:**

दिए गए अनुच्छेद में कुछ शब्द हटा दिए गए हैं। दिए गए विकल्पों की सहायता से रिक्त स्थान भरें। प्रत्येक संख्या के लिए सबसे उपयुक्त विकल्प का चयन करें।

आज संसार के सामने, अनेक छोटी बड़ी (1) \_\_\_\_\_ हैं। प्रत्येक देश उनके (2) \_\_\_\_\_ के लिए प्रयास कर रहा है इनमें बढ़ती हुई (3) \_\_\_\_\_ काफी गंभीर है इसके कारण (4) \_\_\_\_\_ की योजनायें (5) \_\_\_\_\_ होती जा रही हैं।

**SubQuestion No : 24**

**Q.24** गद्यांश के रिक्त स्थान (4) के लिए सर्वाधिक उपयुक्त शब्द होगा-

- Ans**  1. प्रकाश  
 2. विकास  
 3. सायास  
 4. उल्लास

Question ID : 65497831131  
Status : Answered  
Chosen Option : 2

**Comprehension:**

दिए गए अनुच्छेद में कुछ शब्द हटा दिए गए हैं। दिए गए विकल्पों की सहायता से रिक्त स्थान भरें। प्रत्येक संख्या के लिए सबसे उपयुक्त विकल्प का चयन करें।

आज संसार के सामने, अनेक छोटी बड़ी (1) \_\_\_\_\_ हैं। प्रत्येक देश उनके (2) \_\_\_\_\_ के लिए प्रयास कर रहा है इनमें बढ़ती हुई (3) \_\_\_\_\_ काफी गंभीर है इसके कारण (4) \_\_\_\_\_ की योजनायें (5) \_\_\_\_\_ होती जा रही हैं।

**SubQuestion No : 25**

**Q.25** गद्यांश के रिक्त स्थान (5) के लिए सर्वाधिक उपयुक्त शब्द होगा-

- Ans**
- 1. पुरानी
  - 2. सफल
  - 3. विफल
  - 4. नयी

Question ID : **65497831132**

Status : **Answered**

Chosen Option : **3**

GovtJobsAlert.In