

Constable GD in CAPFs NIA SSF and Rifleman GD in Assam Rifles Examination 2021

Roll Number	www.GovtJobsAlert.In
Candidate Name	www.GovtJobsAlert.In
Venue Name	iON Digital Zone iDZ Kanti
Exam Date	17/11/2021
Exam Time :	12:30 PM - 2:00 PM
Subject	Constable GD 2021

Section : **Part A General Intelligence and Reasoning**

Q.1 निम्नलिखित समीकरण को सही बनाने के लिए, किन दो गणितीय चिह्नों को एक दूसरे से बदलने की आवश्यकता है?

$$16 \div 32 \times 128 + 9 - 17 = -4$$

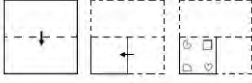
- Ans
- 1. + और +
 - 2. \times और -
 - 3. \times और +
 - 4. + और -

Question ID : **65497830258**

Status : **Answered**


Chosen Option : **3**

Q.2 निम्नांकित चित्रों में एक कागज को मोड़ने का क्रम और मुड़े हुए कागज को काटने का तरीका दर्शाया गया है। मुड़े हुए कागज को खोलने पर यह कैसा दिखाई देगा?

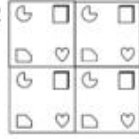


Ans

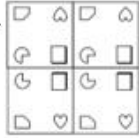
✓ 1.




✗ 2.



✗ 3.



✗ 4.



Question ID : 65497830255

Status : Answered

Chosen Option : 1

Q.3 अक्षरों के उस संयोजन का चयन करें जो नीचे दी गई श्रृंखला के रिक्त स्थान में क्रमिक रूप से रखे जाने पर श्रृंखला को पूर्ण करेगा।

G _ _ P K _ D F _ K G D _ _ K

Ans

✗ 1. DPDFKF

✗ 2. DFGDFP

✓ 3. DFGPFP

✗ 4. DFGDFK

Question ID : 65497830245

Status : Answered

Chosen Option : 3

Q.4 दिए गए विकल्पों में से उस संख्या का चयन करें जो निम्नलिखित श्रृंखला में प्रश्न चिह्न (?) के स्थान पर आ सकती है।

15, 45, 75, 105, ?

Ans

✓ 1. 135

✗ 2. 130

✗ 3. 120

✗ 4. 125

Question ID : 65497830246

Status : Answered

Chosen Option : 1

Q.5 दिए गए कथनों और निष्कर्षों को ध्यानपूर्वक पढ़ें। कथनों में दी गई जानकारी सही मानते हुए, चाहे वह सामान्य ज्ञात तथ्यों से भिन्न प्रतीत होती हो, निर्णय करें कि दिए गए निष्कर्षों में से कौन सा/से, कथनों का तार्किक रूप से अनुसरण करता/करते हैं।

कथन :

सभी एम. टेक छात्र इंजीनियर हैं।
सभी एल.एल.एम. छात्र वकील हैं।

निष्कर्ष :

I. सभी वकील एल.एल.एम. छात्र हैं।
II. सभी इंजीनियर एम.टेक छात्र हैं।

Ans 1. न तो निष्कर्ष I और न ही निष्कर्ष II अनुसरण करता है।

2. केवल निष्कर्ष I अनुसरण करता है।

3. केवल निष्कर्ष II अनुसरण करता है।

4. निष्कर्ष I और II दोनों अनुसरण करते हैं।

Question ID : 65497830252

Status : Answered

Chosen Option : 1

Q.6 चार अक्षर-समूह दिए गए हैं, जिनमें से तीन किसी तरह से संगत हैं और एक असंगत है। उस अक्षर-समूह का चयन करें, जो अन्य से असंगत है।

Ans 1. PSVYB

2. NQTWA

3. DGJMP

4. TWZCF

Question ID : 65497830265

Status : Answered

Chosen Option : 2

Q.7 दिए गए पैटर्न का ध्यानपूर्वक अध्ययन करें, और उस संख्या का चयन करें जो इसमें प्रश्नवाचक चिह्न (?) के स्थान पर आ सकती है।

81 33 56

3 6 4

54 11 ?

Ans 1. 27

2. 28

3. 9

4. 14

Question ID : 65497830253

Status : Answered

Chosen Option : 2

Q.8 एक निश्चित कूट भाषा में, COACH को 90 लिखा जाता है और POST को 210 लिखा जाता है। उसी कूट भाषा में NOISE को किस प्रकार लिखा जाएगा?

- Ans 1. 186
 2. 158
 3. 168
 4. 124

Question ID : 65497830266
Status : Answered
Chosen Option : 1

Q.9 एक विशिष्ट कूट भाषा में, 'DESK' का कोड '@#+%'' और 'RAIN' का कोड '\$-x*' है। इस कूट भाषा में 'RISK' का कोड क्या होगा?

- Ans 1. #+%@
 2. S#%×
 3. \$x+%
 4. +-%

Question ID : 65497830251
Status : Answered
Chosen Option : 3

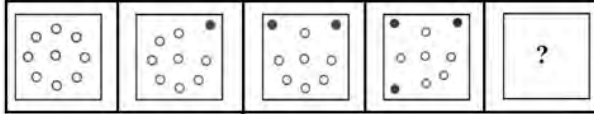
Q.10 दिए गए विकल्पों में से उस अक्षर-समूह का चयन करें, जो निम्नलिखित श्रृंखला में प्रश्नवाचक चिह्न (?) के स्थान पर आ सकता है।

BKR, DNV, FQZ, ?, JWH

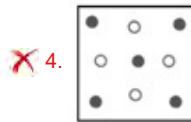
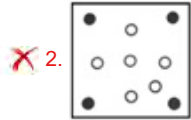
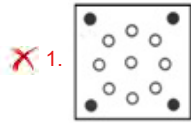
- Ans 1. THE
 2. HUD
 3. HTD
 4. HSC

Question ID : 65497830261
Status : Answered
Chosen Option : 3

Q.11 निम्न आकृति-श्रृंखला में प्रश्नवाचक चिह्न (?) के स्थान पर कौन-सी आकृति आएगी?



Ans



Question ID : 65497830247

Status : Answered

Chosen Option : 3

Q.12 बारह दोस्त दो समांतर रेखाओं में बैठे हुए हैं। हर पंक्ति में 6-6 लोग बैठे हुए हैं और उनका चेहरा दूसरी पंक्ति में बैठे लोगों की तरफ है। पंक्ति 1 में, A, B, C, D, E और F बैठे हुए हैं और उन सभी का चेहरा उत्तर दिशा की ओर है। पंक्ति 2 में, O, P, Q, R, S और T बैठे हुए हैं और उन सभी का चेहरा दक्षिण दिशा की ओर है, लेकिन यह आवश्यक नहीं है कि वे इसी क्रम में हों। C, B के दाईं ओर से तीसरे स्थान पर है। C, E या A के बगल में नहीं है। P, S के दाईं ओर तीसरे स्थान पर है। किसी भी पंक्ति के बिल्कुल अंत में न तो P और न ही S बैठा है। F का चेहरा O की ओर है जो T के दाईं ओर दूसरे स्थान पर है और T, S के बगल में नहीं है। Q और T के बीच में केवल दो लोग बैठे हुए हैं। A का चेहरा R की ओर नहीं है। निम्नलिखित में से कौन-सा युग्म पंक्तियों के छोरों पर बैठा हुआ है?

Ans 1. SB, PC

2. RB, TC

3. RE, TC

4. SA, PD

Question ID : 65497830256

Status : Answered

Chosen Option : 2

Q.13 नीता, विनीता, सत्या, कामिनी, दिव्या और अल्पा एक वृत्ताकार मेज के चारों ओर मेज के केंद्र की ओर मुख करके बैठी हैं। अल्पा, विनीता के दाईं ओर ठीक बगल में बैठी है। कामिनी, नीता और सत्या के बीच में बैठी है। दिव्या, नीता और विनीता के बीच में बैठी है। सत्या के बाईं ओर तीसरे स्थान पर कौन बैठी है?

- Ans
- 1. विनीता
 - 2. अल्पा
 - 3. दिव्या
 - 4. नीता

Question ID : 65497830263
Status : Answered
Chosen Option : 3

Q.14 दिए गए विकल्पों में से उस संख्या का चयन कीजिए, जो निम्नलिखित श्रेणी में प्रश्नवाचक चिन्ह (?) के स्थान पर आ सकती है।

14, 33, 71, 147, 299, ?

- Ans
- 1. 603
 - 2. 612
 - 3. 493
 - 4. 593

Question ID : 65497830267
Status : Answered
Chosen Option : 1

Q.15 उस विकल्प का चयन करें जो तीसरे अक्षर-समूह से उसी प्रकार संबंधित है जिस प्रकार दूसरा अक्षर-समूह पहले अक्षर-समूह से संबंधित है।

RKM : VFS :: PSQ : ?

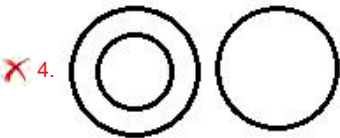
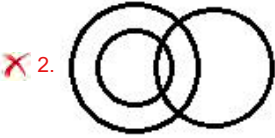
- Ans
- 1. TMW
 - 2. SNW
 - 3. SNX
 - 4. TNW

Question ID : 65497830248
Status : Answered
Chosen Option : 4

Q.16 उस वेन आरेख का चयन कीजिए, जो निम्नलिखित वर्गों के बीच के संबंध को सर्वोत्तम ढंग से निरूपित करता है।

स्तनधारी, ज़ेबरा, पशु

Ans



Question ID : 65497830264

Status : Answered

Chosen Option : 2

Q.17 उस विकल्प को चुनें जिसमें दी गई आकृति अंतःस्थापित है (घुमाने की अनुमति नहीं है)।



Ans

1.



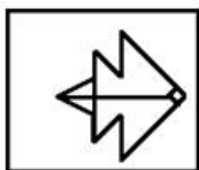
2.



3.



4.

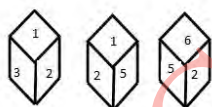


Question ID : 65497830260

Status : Answered

Chosen Option : 2

Q.18 एक ही पासे की तीन अलग-अलग स्थितियां दिखाई गई हैं। वह संख्या चुनें जो संख्या '4' वाले पृष्ठ के विपरीत पृष्ठ पर होगी।



Ans 1. 6

2. 2

3. 3

4. 1

Question ID : 65497830259

Status : Answered

Chosen Option : 2

Q.19 दिए गए संयोजन के सही दर्पण प्रतिबिंब का चयन कीजिए, जबकि दर्पण को इसकी दाईं ओर रखा गया है।

F R 4 P W 5

Ans

- 1.
- 2.
- 3.
- 4.

Question ID : 65497830268

Status : Answered

Chosen Option : 4

Q.20 एक निश्चित कूट भाषा में, 'SINGER' को 'TKROUX' के रूप में लिखा जाता है। उसी कूट भाषा में 'ROOKIE' को किस रूप में लिखा जाएगा?

Ans

1. SQRSYK
2. SQSSYK
3. SQSRYK
4. SQRRYK

Question ID : 65497830249

Status : Answered

Chosen Option : 2

Q.21 एक संख्या को उसके 4 गुने से घटाया जाता है, और फिर प्राप्त संख्या को उसकी (परिणामी संख्या की) अगली संख्या में जोड़ा जाता है। यदि इसका उत्तर 91 प्राप्त होता है, तो आरंभिक संख्या कितनी थी?

Ans

1. 13
2. 17
3. 14
4. 15

Question ID : 65497830254

Status : Answered

Chosen Option : 4

Q.22 C, B का भाई है और D, E के दादा/नाना हैं। B, D की बहू है और A, E के पिता हैं। C का E से क्या संबंध है?

Ans

1. चाचा
2. चाची
3. मामी
4. मामा

Question ID : 65497830250

Status : Answered

Chosen Option : 4

Q.23 वह विकल्प चुनें, जिसका तीसरी संख्या से ठीक वैसा ही संबंध है, जैसा कि दूसरी संख्या का संबंध पहली संख्या से है।

77 : 11 :: 259 : ?

Ans 1. 29

2. 37

3. 43

4. 31

Question ID : 65497830257

Status : Answered

Chosen Option : 2

Q.24 'नेफ्रोलॉजिस्ट' का 'गुर्दे' से वही संबंध है, जो 'कार्डियोलॉजिस्ट' का '_____' से है।

Ans 1. हृदय

2. फेफड़े

3. पित्ताशय

4. अग्न्याशय

Question ID : 65497830262

Status : Answered

Chosen Option : 1

Q.25 उस विकल्प का चयन कीजिए जिसमें निम्नलिखित शब्दों का वह क्रम दिया गया है जिस क्रम में वे अंग्रेज़ी शब्दकोश में आते हैं।

1. Uneventful
2. Uneconomical
3. Unexplained
4. Unexpected
5. Unemployment

Ans 1. 3, 5, 1, 4, 2

2. 2, 5, 3, 4, 1

3. 2, 5, 1, 4, 3

4. 2, 5, 1, 3, 4

Question ID : 65497830244

Status : Answered

Chosen Option : 3

Section : Part B General Knowledge and General Awareness

Q.1 राजनीतिज्ञ-लेखक एम वीरप्पा मोइली को उनकी _____ काव्य रचना 'श्री बाहुबली अहिंसादिग्विजयम' के लिए साहित्य अकादमी पुरस्कार 2020 से सम्मानित किया गया।

Ans 1. तेलुगू

2. तमिल

3. मलयालम

4. कन्नड़

Question ID : 65497830289

Status : Answered

Chosen Option : 1

Q.2 विक्रमशिला गंगा डॉल्फिन वन्यजीव अभयारण्य निम्नलिखित में से किस राज्य में स्थित है?

- Ans 1. उत्तर प्रदेश
 2. बिहार
 3. गोवा
 4. छत्तीसगढ़

Question ID : 65497830271
Status : Answered
Chosen Option : 1

Q.3 भारत में हिंदू उत्तराधिकार अधिनियम ने, ज्येष्ठाधिकार के नियम को कब समाप्त कर दिया था?

- Ans 1. 1956
 2. 1946
 3. 1960
 4. 1950

Question ID : 65497830280
Status : Answered
Chosen Option : 4

Q.4 भारतीय व्यापारियों और उद्योगपतियों द्वारा अपने व्यापारिक हितों को एक साझा मंच पर लाने के लिए भारतीय औद्योगिक और वाणिज्यिक कांग्रेस का गठन किस वर्ष किया गया था?

- Ans 1. 1934
 2. 1920
 3. 1909
 4. 1945

Question ID : 65497830272
Status : Answered
Chosen Option : 4

Q.5 सुतीर्थ मुखर्जी एक भारतीय _____ हैं।

- Ans 1. गोल्फर
 2. बैडमिंटन खिलाड़ी
 3. तैराक
 4. टेबल टेनिस खिलाड़ी

Question ID : 65497830290
Status : Answered
Chosen Option : 4

Q.6 थार के रेगिस्तान की सबसे लम्बी नदी निम्न में से कौन-सी है?

- Ans 1. लूनी
 2. चंबल
 3. झेलम
 4. सोन

Question ID : 65497830288
Status : Answered
Chosen Option : 2

Q.7 दिसंबर 2020 में विराट कोहली ने निम्न में से कौन सा पुरस्कार जीता?

- Ans 1. ICC मेन्स ODI क्रिकेटर ऑफ़ द डिकेड
 2. ICC मेन्स टेस्ट क्रिकेटर ऑफ़ द डिकेड
 3. ICC स्पिरिट ऑफ़ क्रिकेट अवार्ड ऑफ़ द डिकेड
 4. ICC मेन्स T20 क्रिकेटर ऑफ़ द डिकेड

Question ID : 65497830292
Status : Answered
Chosen Option : 1

Q.8 निम्नलिखित में से कौन सा मंगलुरु स्थित मंदिर भगवान शिव के एक अवतार को समर्पित है?

- Ans 1. अनंत वासुदेव मंदिर
 2. गुडिचा मंदिर
 3. मुक्तेश्वर मंदिर
 4. कादरी मंजुनाथ मंदिर

Question ID : 65497830287
Status : Answered
Chosen Option : 4

Q.9 यस बैंक के संस्थापक कौन है?

- Ans 1. राहुल कुमार
 2. राजेश कपूर
 3. राणा कपूर
 4. प्रशांत कुमार

Question ID : 65497830274
Status : Answered
Chosen Option : 4

Q.10 निम्नलिखित में से कौन सा कथन गलत है?

- Ans 1. अमाशय से भोजन छोटी आंत में प्रवेश करता है।
 2. लार में सलाइवरी लाइपेज नामक एक एंजाइम होता है जो स्टार्च को सरल शर्करा में विघटित करता है।
 3. भोजन ग्रासनली (इसोफेगस) के माध्यम से अमाशय में प्रवेश करता है।
 4. कार्बोहाइड्रेट, प्रोटीन और वसा का पूर्ण पाचन छोटी आंत में ही होता है।

Question ID : 65497830282
Status : Answered
Chosen Option : 2

Q.11 निम्नलिखित में से किसने स्वतंत्र अवध वंश की नींव रखी?

- Ans 1. सआदत खाँ
 2. मार्तंड वर्मा
 3. चिक्रिलिच खाँ
 4. हैदर अली

Question ID : 65497830276
Status : Answered
Chosen Option : 1

Q.12 नवंबर 2020 में निम्नलिखित में से किसे बिहार विधानसभा का अध्यक्ष चुना गया?

- Ans
- 1. जीतन राम मांझी
 - 2. अवध बिहारी चौधरी
 - 3. विजय कुमार सिन्हा
 - 4. प्रेम कुमार

Question ID : 65497830273
Status : Answered
Chosen Option : 3

Q.13 संविधान की प्रस्तावना में इनमें से कौन सा शब्द, भारत को पूर्ण राजनीतिक स्वतंत्रता और सर्वोच्च शक्ति वाले देश के रूप में वर्णित करता है?

- Ans
- 1. लोकतांत्रिक
 - 2. धर्मनिरपेक्ष
 - 3. संप्रभु
 - 4. समाजवादी

Question ID : 65497830285
Status : Answered
Chosen Option : 3

Q.14 कुतुबमीनार के पांचवें तल का निर्माण निम्न में से किसके शासनकाल के दौरान किया गया था?

- Ans
- 1. इल्तुतमिश
 - 2. रज़िया सुल्तान
 - 3. फ़िरोज़ शाह तुग़लक़
 - 4. मोहम्मद-बिन-तुग़लक़

Question ID : 65497830275
Status : Answered
Chosen Option : 3

Q.15 'वन नेशन, वन टैक्स, वन मार्केट' के लक्ष्य को प्राप्त करने के लिए भारत में इनमें से कौन सा कर पेश किया गया था?

- Ans
- 1. प्रतिभूति लेनदेन कर
 - 2. केंद्रीय उत्पाद शुल्क
 - 3. वस्तु एवं सेवा कर
 - 4. सीमा शुल्क

Question ID : 65497830293
Status : Answered
Chosen Option : 3

Q.16 'द कॉमनवेल्थ ऑफ क्रिकेट: ए लाइफलाँग लव अफेयर विथ मोस्ट सटल एंड सॉफिस्टिकेटेड गेम नोन टू ह्यूमनकाईड' _____ द्वारा लिखित एक पुस्तक है।

- Ans
- 1. डायना एडलजी
 - 2. रामचंद्र गुहा
 - 3. विनोद राय
 - 4. विक्रम लिमये

Question ID : 65497830284
Status : Answered
Chosen Option : 2

Q.17 नवंबर 2020 में सब्जियों और फूलों के लिए इंडो-डच सेंटर ऑफ़ एक्सीलेंस (CoE) किस राज्य में खोला गया था?

- Ans
- 1. गुजरात
 - 2. तेलंगाना
 - 3. पंजाब
 - 4. केरल

Question ID : 65497830278
Status : Answered
Chosen Option : 3

Q.18 हीमोग्लोबिन की कमी के कारण निम्न में से कौन सा रोग होता है?

- Ans
- 1. एनीमिया
 - 2. मलेरिया
 - 3. हैजा
 - 4. रेबीज

Question ID : 65497830270
Status : Answered
Chosen Option : 1

Q.19 स्वाद संबंधी अभिग्राहक मानव शरीर के किस अंग में होते हैं?

- Ans
- 1. आंखें
 - 2. नाक
 - 3. त्वचा
 - 4. जीभ

Question ID : 65497830283
Status : Answered
Chosen Option : 4

Q.20 भारत के कुछ हिस्सों में किसान अपने _____ की पूजा करके पोला त्योहार मनाते हैं।

- Ans 1. बैल
 2. खेत
 3. खेती के औजार
 4. पूर्वजों

Question ID : 65497830281
Status : Answered
Chosen Option : 1

Q.21 निम्नलिखित में से कौन 31 अगस्त 2021 को भारत के उच्चतम न्यायालय के न्यायाधीशों के रूप में शपथ लेने वाली महिला न्यायाधीशों में शामिल नहीं थी?

- Ans 1. जस्टिस इंदिरा बनर्जी
 2. जस्टिस बेला एम त्रिवेदी
 3. जस्टिस बीवी नागरन्न
 4. जस्टिस हिमा कोहली

Question ID : 65497830286
Status : Answered
Chosen Option : 4

Q.22 '_____'; बांस उत्पादों को प्रदर्शित करने के लिए राष्ट्रीय बांस मिशन और गवर्नमेंट ई-मार्केटप्लेस (GeM) की एक पहल है।

- Ans 1. इंडियन गोल्ड कलेक्शन
 2. ग्रीन वुड कलेक्शन
 3. ग्रीन गोल्ड कलेक्शन
 4. इंडियन बम्बू कलेक्शन

Question ID : 65497830291
Status : Answered
Chosen Option : 4

Q.23 प्रथम ओलंपिक कांग्रेस का आयोजन वर्ष 1894 में _____ में किया गया था।

- Ans 1. ओस्लो
 2. लंदन
 3. पेरिस
 4. स्टॉकहोम

Question ID : 65497830269
Status : Answered
Chosen Option : 1

Q.24 भारत के संविधान का अनुच्छेद 76 किससे संबंधित है?

- Ans 1. भारत के महान्यायवादी
 2. प्रशासनिक अधिकरण
 3. सर्वोच्च न्यायालय
 4. चुनाव आयोग

Question ID : 65497830277
Status : Answered
Chosen Option : 1

Q.25 _____ एक जोखिम प्रबंधन रणनीति है जो संबंधित परिसंपत्ति में विपरीत स्थिति लेकर निवेश में नुकसान की भरपाई करने के लिए नियोजित है।

- Ans 1. बचाव-व्यवस्था
 2. संपार्श्विक
 3. मापनीयता
 4. ऋण-परिशोधन

Question ID : 65497830279
Status : Answered
Chosen Option : 4

Section : Part C Elementary Mathematics

Q.1 एक निश्चित धन-राशि पर 5% वार्षिक ब्याज दर पर 2 वर्षों के चक्रवृद्धि ब्याज और साधारण ब्याज के बीच अंतर ₹152 है। वह धन-राशि कितनी (₹ में) है?

- Ans 1. 60,800
 2. 10,500
 3. 50,500
 4. 60,000

Question ID : 65497830317
Status : Answered
Chosen Option : 1

Q.2 A एक निश्चित कार्य को 20 दिनों में कर सकता है। B, A से 25% अधिक कार्यकुशल है, और C, B से 20% अधिक कार्यकुशल है। A और C, एक साथ 5 दिनों तक कार्य करते हैं। B अकेले शेष कार्य को कितने दिनों में पूरा करेगा?

- Ans 1. 5 दिन
 2. 6 दिन
 3. 9 दिन
 4. 8 दिन

Question ID : 65497830313
Status : Answered
Chosen Option : 2

Q.3 रघु और रमन एक निश्चित बराबर दूरी को तय करने के लिए क्रमशः 10 km/h और 8 km/h की चाल से एक साथ चलना शुरू करते हैं। रघु, रमन से 30 मिनट पहले पहुँच जाता है। आरंभिक बिंदु और अंतिम बिंदु के बीच की दूरी ज्ञात करें।

- Ans**
- 1. 24 km
 - 2. 20 km
 - 3. 25 km
 - 4. 28 km

Question ID : 65497830299
Status : Answered
Chosen Option : 2

Q.4 एक वस्तु का अंकित मूल्य ₹450 है। इसे 10%, $x\%$, और 20% की तीन क्रमिक छूटों के बाद ₹267.30 में बेचा जाता है। x का मान ज्ञात कीजिए।

- Ans**
- 1. 16.5
 - 2. 17.5
 - 3. 19
 - 4. 18

Question ID : 65497830311
Status : Answered
Chosen Option : 2

Q.5 शांत जल में एक नाव की चाल 10 km/h है। नाव द्वारा धारा की दिशा में 35 km जाने में लगा समय, धारा की विपरीत दिशा में 14 km जाने में लगने वाले समय का 1.25 गुना है। धारा की दिशा में 60 km जाने में कितना समय (घंटे में) लगेगा?

- Ans**
- 1. 3
 - 2. 4
 - 3. 4.5
 - 4. 3.5

Question ID : 65497830314
Status : Answered
Chosen Option : 3

Q.6 $75 \div 30 - \frac{3}{4} \text{ of } \left(\frac{5}{7} \div \frac{9}{14} \right) - \left(3\frac{1}{3} - 1\frac{2}{3} \right)$ का मान कितना होगा?

- Ans**
- 1. 1
 - 2. 0
 - 3. 10
 - 4. 5

Question ID : 65497830298
Status : Answered
Chosen Option : 2

Q.7 एक समूह में 24 व्यक्तियों का औसत भार 72 kg है। यदि 78 kg औसत भार वाले 3 व्यक्ति समूह से निकल जाते हैं और 75 kg औसत भार वाले 4 व्यक्ति समूह में शामिल हो जाते हैं, तो अब समूह में व्यक्तियों का औसत भार (kg में) कितना होगा?

- Ans**
- 1. 71.76
 - 2. 67.8
 - 3. 67.74
 - 4. 66.5

Question ID : 65497830306
Status : Answered
Chosen Option : 1

Q.8 10 cm त्रिज्या वाले 12 गोलाकार गेंदों को ऊपर तक पानी से भरी हुई बाल्टी में डुबोया जाता है। बाहर निकले हुए पानी को 20 cm त्रिज्या वाले एक बेलनाकार जार में एकत्र किया जाता है। जार में पानी की ऊंचाई (cm में) कितनी है? ($\pi = \frac{22}{7}$ लें)

- Ans**
- 1. 32
 - 2. 40
 - 3. 18
 - 4. 45

Question ID : 65497830297
Status : Answered
Chosen Option : 2

Q.9 एक वस्तु के अंकित मूल्य पर 10% और 5% की क्रमिक छूट देने के बाद, वह ₹3,420 में बिकी। वस्तु का अंकित मूल्य ज्ञात कीजिए।

- Ans**
- 1. ₹6,000
 - 2. ₹4,400
 - 3. ₹4,000
 - 4. ₹5,000

Question ID : 65497830301
Status : Answered
Chosen Option : 3

Q.10 क्रमशः 6 cm, 8 cm और 10 cm भुजाओं वाले तीन ठोस धात्विक घनों को पिघलाकर एक नया ठोस घन बनाया गया। नये ठोस घन की भुजा का माप (cm में) ज्ञात कीजिए।

- Ans**
- 1. 9
 - 2. 12.5
 - 3. 12
 - 4. 8

Question ID : 65497830318
Status : Answered
Chosen Option : 3

Q.11 एक वस्तु को ₹170 में बेचने पर एक व्यक्ति को 15% की हानि होती है। यदि वह इसे ₹206.40 में बेचे तो उसे कितने प्रतिशत लाभ या हानि होगी?

- Ans**
- 1. हानि, 3.2%
 - 2. हानि, 1.6%
 - 3. लाभ, 1.6%
 - 4. लाभ, 3.2%

Question ID : 65497830309
Status : Answered
Chosen Option : 4

Q.12 किसी निश्चित राशि पर 8% की वार्षिक ब्याज दर से 2 वर्षों में प्राप्त होने वाले चक्रवृद्धि ब्याज और साधारण ब्याज के बीच का अंतर ₹144 है। वह राशि (₹ में) कितनी है?

- Ans**
- 1. 24,500
 - 2. 40,000
 - 3. 20,500
 - 4. 22,500

Question ID : 65497830295
Status : Answered
Chosen Option : 4

Q.13 एक निश्चित धनराशि, साधारण ब्याज पर 2 वर्ष में ₹8,640 और 3 वर्ष में ₹9,720 हो जाती है। धनराशि (₹ में) और वार्षिक ब्याज दर क्रमशः कितनी हैं?

- Ans**
- 1. ₹6,480 और 15%
 - 2. ₹6,450 और $16\frac{2}{3}\%$
 - 3. ₹6,450 और 15%
 - 4. ₹6,480 और $16\frac{2}{3}\%$

Question ID : 65497830308
Status : Answered
Chosen Option : 4

Q.14 किसी वस्तु के अंकित मूल्य पर 12.5% की छूट देते हुए कोई दुकानदार इसे ₹805 में बेचता है। यदि उसने यह छूट ना दी होती तो उसे इस पर 15% का लाभ प्राप्त होता। वस्तु का क्रय मूल्य (₹ में) कितना है?

- Ans**
- 1. 780
 - 2. 750
 - 3. 800
 - 4. 700

Question ID : 65497830315
Status : Answered
Chosen Option : 3

Q.15 A और B की आय का अनुपात 4 : 5 और उनके व्ययों का अनुपात 2 : 3 है। यदि A और B क्रमशः ₹7,200 और ₹6,000 की बचत करते हैं, तो A की आय (₹ में) कितनी है?

- Ans**
- 1. 24,000
 - 2. 18,000
 - 3. 19,200
 - 4. 20,000

Question ID : **65497830307**
Status : **Answered**
Chosen Option : **3**

Q.16 सीमा आयु में, सीमा से 8 वर्ष छोटी है। यदि 4 वर्ष पहले, उनकी आयु का अनुपात 1 : 2 था, तो अब से 6 वर्ष बाद, सीमा की आयु (वर्षों में) कितनी होगी?

- Ans**
- 1. 24
 - 2. 18
 - 3. 20
 - 4. 12

Question ID : **65497830296**
Status : **Answered**
Chosen Option : **2**

Q.17 दो संख्याओं m और n का योग 84 ($m > n$) है और उनका अंतर 6 है। इन दोनों संख्याओं का अनुपात ज्ञात कीजिए।

- Ans**
- 1. 15 : 13
 - 2. 4 : 3
 - 3. 17 : 15
 - 4. 9 : 8

Question ID : **65497830316**
Status : **Answered**
Chosen Option : **1**

Q.18 एक ट्रेन की चाल 110 km/h है। यह 20% बढ़ जाती है और फिर ट्रेन एकसमान चाल से चलती है। ट्रेन चालक 'गति कम करो' का संकेत देखता है, इसलिए वह उस समय की ट्रेन की चाल को 40% कम कर देता है। ट्रेन की अंतिम चाल (km/h में, दशमलव के एक स्थान तक सही) कितनी है?

- Ans**
- 1. 79.2
 - 2. 69.2
 - 3. 66.5
 - 4. 75.5

Question ID : **65497830312**
Status : **Answered**
Chosen Option : **1**

Q.19 $[6 + 3 \text{ of } 7 - 5] \div 2 \text{ of } 11$ का मान कितना है?

- Ans
- 1. 22
 - 2. 1
 - 3. 11
 - 4. 121

Question ID : 65497830300
Status : Answered
Chosen Option : 2

Q.20 एक समूह में 56 छात्रों का औसत वजन 55 kg है। यदि 60 kg औसत वजन वाले 12 छात्र इस समूह से निकल जाते हैं और 52.5 kg औसत वजन वाले 6 छात्र इस समूह में शामिल हो जाते हैं, तो समूह में शेष बचे छात्रों के औसत वजन में हुई कमी ज्ञात कीजिए।

- Ans
- 1. 2.5 kg
 - 2. 1.5 kg
 - 3. 1.8 kg
 - 4. 2 kg

Question ID : 65497830310
Status : Answered
Chosen Option : 2

Q.21 एक संख्या में 25% की कमी की जाती है और फिर 25% की वृद्धि की जाती है। उसमें हुई शुद्ध प्रतिशत वृद्धि या प्रतिशत कमी ज्ञात करें।

- Ans
- 1. 2.5% कमी
 - 2. 4% कमी
 - 3. $3\frac{2}{3}$ % वृद्धि
 - 4. $6\frac{1}{4}$ % कमी

Question ID : 65497830304
Status : Answered
Chosen Option : 4

Q.22 P ने Q को एक लैम्प 20% के लाभ पर बेचा। बाद में, Q ने उसी लैम्प को 30% के लाभ पर P को बेच दिया, जिससे उसे ₹108 का लाभ मिला। P ने मूल रूप से लैम्प के लिए कितना भुगतान (₹ में) किया था?

- Ans
- 1. 300
 - 2. 280
 - 3. 330
 - 4. 320

Question ID : 65497830294
Status : Answered
Chosen Option : 1

Q.23 सोनी और गीता एक साथ मिलकर किसी कार्य को 8 h में पूरा कर सकती हैं और आरती अकेले उस कार्य को 12 h में पूरा कर सकती हैं। गीता अकेले उस कार्य को कितने घंटे (h) में पूरा कर सकती है?

- Ans**
- 1. 48
 - 2. 12
 - 3. 14
 - 4. 24

Question ID : **65497830302**
Status : **Answered**
Chosen Option : **4**

Q.24 x , 1420 और 1780 के बीच आने वाली वह संख्या है जिसे 10, 15, 24 और 32 से विभाजित करने पर प्रत्येक स्थिति में शेषफल 7 प्राप्त होता है। x के अंकों का योग कितना होगा?

- Ans**
- 1. 22
 - 2. 16
 - 3. 13
 - 4. 19

Question ID : **65497830305**
Status : **Answered**
Chosen Option : **2**

Q.25 15 मीटर और 12 मीटर भुजाओं वाले कमरे के फर्श को पक्का करने के लिए आवश्यक वर्गाकार टाइलों की न्यूनतम संख्या ज्ञात करें।

- Ans**
- 1. 16
 - 2. 15
 - 3. 20
 - 4. 60

Question ID : **65497830303**
Status : **Answered**
Chosen Option : **4**

Section : **Part D English**

Q.1 Select the most appropriate **ANTONYM** of the given word.

Vulnerable

- Ans**
- 1. Sensitive
 - 2. Tender
 - 3. Breakable
 - 4. Secure

Question ID : **65497830336**
Status : **Not Answered**
Chosen Option : **--**

Q.2 The following sentence has been split into four segments. Identify the segment that contains a grammatical error.

The lady was furious / to see that no one / were wearing masks / on the road near the shop.

- Ans**
- 1. The lady was furious
 - 2. were wearing masks
 - 3. on the road near the shop
 - 4. to see that no one

Question ID : **65497830320**
Status : **Not Answered**
Chosen Option : --

Q.3 Select the most appropriate meaning of the given idiom.

Drop names

- Ans**
- 1. Delete someone's name from a list
 - 2. Name famous people to impress others
 - 3. Show disrespect to someone's name
 - 4. Assume a false name

Question ID : **65497830337**
Status : **Not Answered**
Chosen Option : --

Q.4 Select the most appropriate synonym of the given word.

Stun

- Ans**
- 1. Trick
 - 2. Jest
 - 3. Joke
 - 4. Shock

Question ID : **65497830321**
Status : **Not Answered**
Chosen Option : --

Q.5 Select the option that will improve the underlined part of the given sentence. In case no improvement is needed, select 'No improvement required'.

The movie theatre is a excited place where people can relax and enjoy the experience.

- Ans**
- 1. No improvement required
 - 2. exciting
 - 3. an exciting
 - 4. the excited

Question ID : **65497830338**
Status : **Not Answered**
Chosen Option : --

Q.6 Select the most appropriate option to fill in the blank.

Teams from all over India _____ in the talent show.

- Ans 1. provided
 2. participated
 3. produced
 4. prohibited

Question ID : **65497830328**
Status : **Not Answered**
Chosen Option : --

Q.7 The following sentence has been split into four segments. Identify the segment that contains a grammatical error.

The education of girls / is a primary concern for the country, / so it should be started early, / isn't it?

- Ans 1. The education of girls
 2. isn't it
 3. so it should be started early
 4. is a primary concern for the country

Question ID : **65497830319**
Status : **Not Answered**
Chosen Option : --

Q.8 Select the **INCORRECTLY** spelt word.

- Ans 1. Collection
 2. Consolidation
 3. Coressponding
 4. Complaint

Question ID : **65497830324**
Status : **Not Answered**
Chosen Option : --

Q.9 The following sentence has been split into four segments. Identify the segment that contains a grammatical error.

The president forced / to leave the country / when the people rose up against / the government.

- Ans 1. to leave the country
 2. the government
 3. The president forced
 4. when the people rose up against

Question ID : **65497830330**
Status : **Not Answered**
Chosen Option : --

Q.10 Select the most appropriate option to fill in the blank.

For a member to borrow money from the association, three _____ need to be met.

- Ans 1. accounts
 2. conditions
 3. points
 4. restrictions

Question ID : 65497830334
Status : Not Answered
Chosen Option : --

Q.11 Select the most appropriate synonym of the given word.

Defy

- Ans 1. Destroy
 2. Abide
 3. React
 4. Disobey

Question ID : 65497830331
Status : Not Answered
Chosen Option : --

Q.12 Select the option that can be used as a one-word substitute for the given group of words.

Release someone from a duty or obligation

- Ans 1. Banish
 2. Exonerate
 3. Dismiss
 4. Expel

Question ID : 65497830323
Status : Not Answered
Chosen Option : --

Q.13 Select the option that will improve the underlined part of the given sentence. In case no improvement is needed, select 'No improvement required'.

Unless we sat in an incorrect posture, we may strain our back.

- Ans 1. Although we are sitting
 2. Until we sit
 3. No improvement required
 4. If we sit

Question ID : 65497830327
Status : Not Answered
Chosen Option : --

Q.14 Select the option that can be used as a one-word substitute for the given group of words.

An object through which we cannot see at all

- Ans** 1. Opaque
 2. Transparent
 3. Translucent
 4. Crystal

Question ID : 65497830326
Status : Not Answered
Chosen Option : --

Q.15 Select the INCORRECTLY spelt word.

- Ans** 1. Recession
 2. Remission
 3. Precission
 4. Omission

Question ID : 65497830333
Status : Not Answered
Chosen Option : --

Q.16 Select the most appropriate ANTONYM of the given word.

Alert

- Ans** 1. Ready
 2. Careless
 3. Active
 4. Aware

Question ID : 65497830322
Status : Not Answered
Chosen Option : --

Q.17 Select the option that will improve the underlined part of the sentence. In case no improvement is needed, select 'No improvement required'.

The decision to become a doctor is completely hers.

- Ans** 1. No improvement required
 2. is completely her
 3. is complete her's
 4. are completely her

Question ID : 65497830325
Status : Not Answered
Chosen Option : --

Q.18 Select the most appropriate meaning of the given idiom.

To beat around the bush

- Ans**
- 1. To discuss the main topic
 - 2. To avoid the main issue
 - 3. To avoid noticing someone
 - 4. To explain something in detail

Question ID : **65497830329**
Status : **Not Answered**
Chosen Option : --

Q.19 Select the option that can be used as a one-word substitute for the given group of words.

Imitate someone's action or words in order to entertain or ridicule

- Ans**
- 1. Repeat
 - 2. Duplicate
 - 3. Copy
 - 4. Mimic

Question ID : **65497830332**
Status : **Not Answered**
Chosen Option : --

Q.20 Select the most appropriate option to fill in the blank.

The socio-economic policy has been the _____ of much debate.

- Ans**
- 1. subject
 - 2. talk
 - 3. object
 - 4. concept

Question ID : **65497830335**
Status : **Not Answered**
Chosen Option : --

Comprehension:

In the following passage, some words have been deleted. Read the passage carefully and select the most appropriate option to fill in each blank.

You should elect me as Class President as I think that everyone's (1)_____ matters. I am a confident speaker and have won prizes (2)_____ public speaking. I will make sure that the school council (3)_____ to us. When people come to me with problems, I (4) _____ listen carefully. I never judge people who come to me for (5)_____. You can count on me for help.

SubQuestion No : 21

Q.21 Select the most appropriate option to fill in blank no.1.

- Ans 1. estimate
 2. opinion
 3. theorem
 4. reaction

Question ID : **65497830340**
Status : **Not Answered**
Chosen Option : --

Comprehension:

In the following passage, some words have been deleted. Read the passage carefully and select the most appropriate option to fill in each blank.

You should elect me as Class President as I think that everyone's (1)_____ matters. I am a confident speaker and have won prizes (2)_____ public speaking. I will make sure that the school council (3)_____ to us. When people come to me with problems, I (4) _____ listen carefully. I never judge people who come to me for (5)_____. You can count on me for help.

SubQuestion No : 22

Q.22 Select the most appropriate option to fill in blank no.2.

- Ans 1. on
 2. by
 3. of
 4. for

Question ID : **65497830341**
Status : **Not Answered**
Chosen Option : --

Comprehension:

In the following passage, some words have been deleted. Read the passage carefully and select the most appropriate option to fill in each blank.

You should elect me as Class President as I think that everyone's (1)_____ matters. I am a confident speaker and have won prizes (2)_____ public speaking. I will make sure that the school council (3)_____ to us. When people come to me with problems, I (4) _____ listen carefully. I never judge people who come to me for (5)_____. You can count on me for help.

SubQuestion No : 23

Q.23 Select the most appropriate option to fill in blank no.3.

- Ans 1. believes
 2. hears
 3. listens
 4. accepts

Question ID : **65497830342**
Status : **Not Answered**
Chosen Option : --

Comprehension:

In the following passage, some words have been deleted. Read the passage carefully and select the most appropriate option to fill in each blank.

You should elect me as Class President as I think that everyone's (1)_____ matters. I am a confident speaker and have won prizes (2)_____ public speaking. I will make sure that the school council (3)_____ to us. When people come to me with problems, I (4) _____listen carefully. I never judge people who come to me for (5)_____. You can count on me for help.

SubQuestion No : 24

Q.24 Select the most appropriate option to fill in blank no.4.

- Ans** 1. always
 2. barely
 3. seldom
 4. never

Question ID : **65497830343**
Status : **Not Answered**
Chosen Option : --

Comprehension:

In the following passage, some words have been deleted. Read the passage carefully and select the most appropriate option to fill in each blank.

You should elect me as Class President as I think that everyone's (1)_____ matters. I am a confident speaker and have won prizes (2)_____ public speaking. I will make sure that the school council (3)_____ to us. When people come to me with problems, I (4) _____listen carefully. I never judge people who come to me for (5)_____. You can count on me for help.

SubQuestion No : 25

Q.25 Select the most appropriate option to fill in blank no.5.

- Ans** 1. advice
 2. news
 3. caution
 4. lesson

Question ID : **65497830344**
Status : **Not Answered**
Chosen Option : --

Section : **Part D Hindi**

Q.1 दिए गए शब्द के विलोम शब्द का चयन करें-

सहित

- Ans** 1. असीम
 2. विहीन
 3. विमुख
 4. असहित

Question ID : **65497830347**
Status : **Answered**
Chosen Option : **2**

Q.2 'पाँव उखड़ना' मुहावरे का सही अर्थ है-

- Ans 1. हारकर भाग जाना
 2. आत्मसमर्पण करना
 3. घायल होना
 4. गिर पड़ना

Question ID : 65497830362
Status : Answered
Chosen Option : 3

Q.3 दिए गए वाक्य का वह भाग ज्ञात करें जिसमें कोई त्रुटि है। यदि कोई त्रुटि नहीं है, तो 'कोई त्रुटि नहीं है' चुनें।

नदियों के (1)/ बाढ़ ने (2)/ तबाही मचा दी है (3)/ कोई त्रुटि नहीं है (4)

- Ans 1. 3
 2. 2
 3. 1
 4. 4

Question ID : 65497830351
Status : Answered
Chosen Option : 2

Q.4 निम्न चार विकल्पों में से, उस विकल्प का चयन करें जो दिए गये मुहावरे का अर्थ व्यक्त करता है-

चटनी हो जाना

- Ans 1. बहुत जल्द खर्च हो जाना
 2. बर्बाद हो जाना
 3. कुचल जाना
 4. पिस जाना

Question ID : 65497830348
Status : Answered
Chosen Option : 4

Q.5 दिये गये वाक्य के किस भाग में त्रुटि है?

इस ग्रंथ की इतिहासिकता अत्यंत संदिग्ध है।

- Ans 1. अत्यंत
 2. इस ग्रंथ
 3. की इतिहासिकता
 4. संदिग्ध है।

Question ID : 65497830358
Status : Answered
Chosen Option : 3

Q.6 दिए गये वाक्यांश के लिए एक शब्द दीजिये-

किसी के पीछे-पीछे चलने वाला

- Ans
- 1. अनुकरणीय
 - 2. सहचर
 - 3. अनुज
 - 4. अनुगामी

Question ID : 65497830349
Status : Answered
Chosen Option : 4

Q.7 निम्नलिखित में से शुद्ध वर्तनी वाला शब्द कौन सा है?

- Ans
- 1. तिरश्कार
 - 2. तीरस्कार
 - 3. तिरस्कार
 - 4. तिरष्कार

Question ID : 65497830356
Status : Answered
Chosen Option : 3

Q.8 'गिरि' का पर्यायवाची है-

- Ans
- 1. आकाश
 - 2. धरती
 - 3. पर्वत
 - 4. बादल

Question ID : 65497830359
Status : Answered
Chosen Option : 3

Q.9 दिए गए वाक्य का वह भाग ज्ञात करें जिसमें कोई त्रुटि है। यदि कोई त्रुटि नहीं है, तो 'कोई त्रुटि नहीं है' विकल्प को चुनें।

मालिन ने माला गूँथ लिया।

- Ans
- 1. कोई त्रुटि नहीं
 - 2. माला
 - 3. मालिन ने
 - 4. गूँथ लिया

Question ID : 65497830345
Status : Answered
Chosen Option : 4

Q.10 'जिसे त्याग देना उचित हो' वाक्यांश के लिए एक शब्द होगा-

- Ans 1. त्याज्य
 2. वांछनीय
 3. त्यागी
 4. त्यागपत्र

Question ID : 65497830363
Status : Answered
Chosen Option : 1

Q.11 दिए गए शब्द के समानार्थी शब्द का चयन करें।

घृणा

- Ans 1. नफ़रत
 2. करी
 3. रिपु
 4. चाय

Question ID : 65497830346
Status : Answered
Chosen Option : 1

Q.12 दिये गये वाक्य में रेखांकित अंश को प्रतिस्थापित करने के लिए सबसे उपयुक्त विकल्प का चयन करें।

सैनिकों ने देश को भारी संकट से रोक दिया।

- Ans 1. बचा लिया।
 2. भगा दिया
 3. रोक लिया।
 4. हटा दिया।

Question ID : 65497830361
Status : Answered
Chosen Option : 1

Q.13 रिक्त स्थान की पूर्ति के लिए सबसे उपयुक्त विकल्प का चयन करें।

धमकी देते हुए बदमाश लोगों को _____ रहा था।

- Ans 1. ताक
 2. देख
 3. घूर
 4. झाँक

Question ID : 65497830364
Status : Answered
Chosen Option : 3

Q.14 दिए गए शब्द का विलोम चुनें।

मधुर

- Ans
- 1. अम्ल
 - 2. कटु
 - 3. लवण
 - 4. तिक्त

Question ID : 65497830353
Status : Answered
Chosen Option : 2

Q.15 दिये गये वाक्य में रेखांकित अंश को प्रतिस्थापित करने के लिए सबसे उपयुक्त विकल्प का चयन करें।

भारत एक ताकतवर देश है।

- Ans
- 1. दुर्बल
 - 2. शक्तिशाली
 - 3. अविकसित
 - 4. प्रभावशाली

Question ID : 65497830360
Status : Answered
Chosen Option : 2

Q.16 रिक्त स्थान की पूर्ति के लिए सबसे उपयुक्त शब्द का चयन करें।

आजकल वहाँ काफी सरगर्मी _____ है।

- Ans
- 1. दृष्टिकोण
 - 2. वायवीय
 - 3. दिखती
 - 4. संभावित

Question ID : 65497830355
Status : Answered
Chosen Option : 3

Q.17 दिये गये वाक्यांश के लिए एक शब्द दीजिये।

मध्य रात्रि का समय

- Ans
- 1. उषाकाल
 - 2. विभावरी
 - 3. निशीथ
 - 4. प्रदोष

Question ID : 65497830354
Status : Answered
Chosen Option : 3

Q.18 निम्नलिखित में से शुद्ध वर्तनी वाला शब्द कौन सा है?

- Ans 1. उज्ज्वल
 2. उज्जवल
 3. उज्वल
 4. उजवल

Question ID : 65497830357
Status : Answered
Chosen Option : 1

Q.19 दिए गए वाक्य में रेखांकित खंड को प्रतिस्थापित करने के लिए सबसे उपयुक्त विकल्प का चयन करें।
यदि इसे प्रतिस्थापित करने की आवश्यकता नहीं है, तो विकल्प 'किसी बदलाव की आवश्यकता नहीं है'
का चयन करें।

इसका उत्तरदायित्व मेरे ऊपर है।

- Ans 1. मुझ ऊपर
 2. मुझ पर
 3. मेरे पर
 4. किसी बदलाव की आवश्यकता नहीं है।

Question ID : 65497830352
Status : Answered
Chosen Option : 2

Q.20 रिक्त स्थान की पूर्ति के लिए सबसे उपयुक्त शब्द का चयन करें।

कमल का पुष्प _____ होता है।

- Ans 1. सुकोमल
 2. कोमल
 3. निर्मल
 4. विमल

Question ID : 65497830350
Status : Answered
Chosen Option : 2

Comprehension:

दिए गए गद्यांश में से कुछ शब्द हटा दिए गए हैं। विकल्पों की सहायता से प्रत्येक संख्या के लिए सबसे उपयुक्त विकल्प का चयन करें।

संगीत का मानव- (1) _____ में विशेष स्थान है। प्रकृति का कण-कण संगीत से (2) _____ है। बाल-वृद्ध, नर-नारी सभी अनादि काल से उससे (3) _____ होते आये हैं और सदैव होते रहेंगे। शिशु की (4) _____ में, सरिता के (5) _____ निनाद में संगीत ही तो है।

SubQuestion No : 21

Q.21 गद्यांश के रिक्त स्थान (1) के लिए सर्वाधिक उपयुक्त शब्द होगा-

- Ans**
- 1. हृदय
 - 2. संसार
 - 3. जीवन
 - 4. मस्तिष्क

Question ID : **65497830366**
Status : **Answered**
Chosen Option : **3**

Comprehension:

दिए गए गद्यांश में से कुछ शब्द हटा दिए गए हैं। विकल्पों की सहायता से प्रत्येक संख्या के लिए सबसे उपयुक्त विकल्प का चयन करें।

संगीत का मानव- (1) _____ में विशेष स्थान है। प्रकृति का कण-कण संगीत से (2) _____ है। बाल-वृद्ध, नर-नारी सभी अनादि काल से उससे (3) _____ होते आये हैं और सदैव होते रहेंगे। शिशु की (4) _____ में, सरिता के (5) _____ निनाद में संगीत ही तो है।

SubQuestion No : 22

Q.22 गद्यांश के रिक्त स्थान (2) के लिए सर्वाधिक उपयुक्त शब्द होगा-

- Ans**
- 1. ओत-प्रोत
 - 2. डूबा
 - 3. सराबोर
 - 4. भीगा

Question ID : **65497830367**
Status : **Answered**
Chosen Option : **3**

Comprehension:

दिए गए गद्यांश में से कुछ शब्द हटा दिए गए हैं। विकल्पों की सहायता से प्रत्येक संख्या के लिए सबसे उपयुक्त विकल्प का चयन करें।

संगीत का मानव- (1) _____ में विशेष स्थान है। प्रकृति का कण-कण संगीत से (2) _____ है। बाल-वृद्ध, नर-नारी सभी अनादि काल से उससे (3) _____ होते आये हैं और सदैव होते रहेंगे। शिशु की (4) _____ में, सरिता के (5) _____ निनाद में संगीत ही तो है।

SubQuestion No : 23

Q.23 गद्यांश के रिक्त स्थान (3) के लिए सर्वाधिक उपयुक्त शब्द होगा-

- Ans**
- 1. तृप्त
 - 2. संचालित
 - 3. प्रभावित
 - 4. गतिशील

Question ID : **65497830368**
Status : **Answered**
Chosen Option : **3**

Comprehension:

दिए गए गद्यांश में से कुछ शब्द हटा दिए गए हैं। विकल्पों की सहायता से प्रत्येक संख्या के लिए सबसे उपयुक्त विकल्प का चयन करें।

संगीत का मानव- (1) _____ में विशेष स्थान है। प्रकृति का कण-कण संगीत से (2) _____ है। बाल-वृद्ध, नर-नारी सभी अनादि काल से उससे (3) _____ होते आये हैं और सदैव होते रहेंगे। शिशु की (4) _____ में, सरिता के (5) _____ निनाद में संगीत ही तो है।

SubQuestion No : 24

Q.24 गद्यांश के रिक्त स्थान (4) के लिए सर्वाधिक उपयुक्त शब्द होगा-

- Ans** 1. मुस्कान
 2. कलरव
 3. हलचल
 4. नटखटपन

Question ID : **65497830369**
Status : **Answered**
Chosen Option : **1**

Comprehension:

दिए गए गद्यांश में से कुछ शब्द हटा दिए गए हैं। विकल्पों की सहायता से प्रत्येक संख्या के लिए सबसे उपयुक्त विकल्प का चयन करें।

संगीत का मानव- (1) _____ में विशेष स्थान है। प्रकृति का कण-कण संगीत से (2) _____ है। बाल-वृद्ध, नर-नारी सभी अनादि काल से उससे (3) _____ होते आये हैं और सदैव होते रहेंगे। शिशु की (4) _____ में, सरिता के (5) _____ निनाद में संगीत ही तो है।

SubQuestion No : 25

Q.25 गद्यांश के रिक्त स्थान (5) के लिए सर्वाधिक उपयुक्त शब्द होगा-

- Ans** 1. छुल-छुल
 2. झर-झर
 3. कल-कल
 4. छल-छल

Question ID : **65497830370**
Status : **Answered**
Chosen Option : **4**