

Constable GD in CAPFs NIA SSF and Rifleman GD in Assam Rifles Examination 2021

Roll Number	www.GovtJobsAlert.In
Candidate Name	www.GovtJobsAlert.In
Venue Name	ANAND INTERNATIONAL COLLEGE OF ENGINEERING JAIPUR
Exam Date	29/11/2021
Exam Time :	12:30 PM - 2:00 PM
Subject	Constable GD 2021

Section : Part A General Intelligence and Reasoning

Q.1 एक कक्षा में कुल 60 छात्र हैं। छात्र 'B' का रैंक, योग्यता क्रम में नीचे की ओर से 41वां है। ऊपर की ओर से छात्र 'B' का रैंक क्या है?

- Ans 1. 20वां
 2. 21वां
 3. 22वां
 4. 23वां

Question ID : 65497832915
Status : Answered
Chosen Option : 1

Q.2 दिए गए संयोजन के सही दर्पण प्रतिबिंब का चयन करें, जब दर्पण को दिखाए गए अनुसार PQ पर रखा गया है।

BD9SKC |

- Ans 1. B D 9 S K C
 2. B D 9 S K C
 3. B D 9 S K C
 4. B D 9 S K C

Question ID : 65497832931
Status : Answered
Chosen Option : 2

Q.3 अक्षरों के उस संयोजन का चयन करें जिसे दी गई श्रेणी में रिक्त स्थानों पर क्रमिक रूप से रखने पर श्रेणी पूर्ण हो जाएगी।

K_T_STKM_RST_MTRS_KM_RST

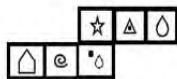
- Ans
- 1. K, T, R, M, T, R
 - 2. M, R, T, K, T, T
 - 3. M, T, R, K, T, R
 - 4. K, M, R, T, T, T

Question ID : 65497832933

Status : Answered

Chosen Option : 2

Q.4 उस बक्से का चयन करें जिसे दिए गए पत्रक (sheet) को उसकी रेखाओं पर मोड़कर बनाया जा सकता है।



Ans

- 1.
- 2.
- 3.
- 4.

Question ID : 65497832921

Status : Answered

Chosen Option : 4

Q.5 एक निश्चित कूट भाषा में, 'FAMILY' को 'QXBJSD' के रूप में लिखा जाता है। उसी भाषा में 'FILMY' को किस रूप में लिखा जाएगा?

- Ans
- 1. QBJSD
 - 2. QXBSD
 - 3. QDSBX
 - 4. QJSBD

Question ID : 65497832923

Status : Answered

Chosen Option : 4

Q.6 दिए गए विकल्पों में से उस अक्षर-समूह का चयन कीजिए जो दी गई श्रृंखला में प्रश्न चिह्न (?) के स्थान पर प्रतिस्थापित हो सकता है।

AU, BO, CI, DE, ?

Ans 1. GE

2. EA

3. FI

4. HU

Question ID : 65497832911

Status : Answered

Chosen Option : 2

Q.7 एक पंक्ति में, मानसी बाई ओर से 29वें और दाई ओर से 33वें स्थान पर है। पंक्ति में कितने विद्यार्थी हैं?

Ans 1. 61

2. 55

3. 60

4. 65

Question ID : 65497832918

Status : Answered

Chosen Option : 1

Q.8 किसी कूट भाषा में, ROM को $\alpha \times @$ और HEIGHT को $\epsilon \div \beta \odot \infty^*$ के रूप में लिखा जाता है। उसी भाषा में TIGER को किस प्रकार से लिखा जाएगा?

Ans 1. $\beta \odot + @$

2. $x + \beta \odot^*$

3. $*\beta \odot + \alpha$

4. $\odot + @^* \beta$

Question ID : 65497832914

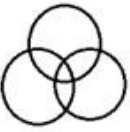
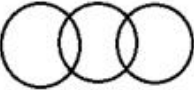

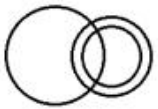
Status : Answered

Chosen Option : 3

Q.9 उस वेन आरेख का चयन करें, जो निम्नलिखित वर्गों के बीच के संबंध को सबसे अच्छे तरीके से दर्शाता है।

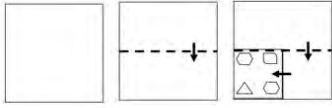
विद्यार्थी, खिलाड़ी, क्रिकेट खिलाड़ी

Ans

1. 
2. 
3. 
4. 

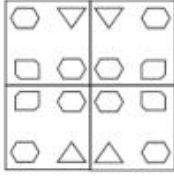
Question ID : 65497832917
Status : Answered
Chosen Option : 1

Q.10 नीचे दी गई आकृतियों में कागज़ के एक टुकड़े को मोड़ने और मोड़े गए कागज़ को काटने के तरीके का क्रम दर्शाया गया है। कागज़ को खोले जाने पर वह कैसा दिखाई देगा?




Ans


1.



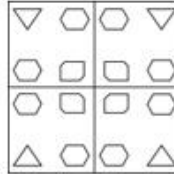
2.



3.



4.



Question ID : 65497832927

Status : Answered

Chosen Option : 4

Q.11 दिए गए कथनों और निष्कर्षों को ध्यान से पढ़ें। यह मानते हुए कि कथनों में दी गई जानकारी सत्य है, भले ही यह सामान्य रूप से ज्ञात तथ्यों से भिन्न प्रतीत होती हो, और यह निर्णय लें कि दिए गए निष्कर्षों में से कौन-सा/से निष्कर्ष कथनों का तार्किक रूप से अनुसरण करता है/करते हैं।

कथन:

सभी लड़के स्नातक हैं।
सभी स्नातक विवाहित हैं।

निष्कर्ष:

I. सभी लड़के विवाहित हैं।
II. सभी स्नातक विवाहित हैं।

Ans

1. निष्कर्ष I और II दोनों अनुसरण करते हैं।

2. केवल निष्कर्ष I अनुसरण करता है।

3. या तो निष्कर्ष I या तो II अनुसरण करता है।

4. केवल निष्कर्ष II अनुसरण करता है।

Question ID : 65497832924

Status : Answered

Chosen Option : 1

Q.12 गणितीय चिह्नों के उस सही संयोजन का चयन करें जो '@' संकेतों के स्थान पर क्रमिक रूप से आ सकता है और दिए गए समीकरण को संतुलित कर सकता है।

13 @ 4 @ 5 @ 57

- Ans
- 1. +, ×, =
 - 2. ÷, -, =
 - 3. ×, +, =
 - 4. ×, -, =

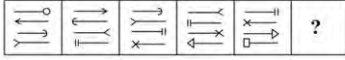
Question ID : 65497832920
Status : Answered
Chosen Option : 3

Q.13 72 विद्यार्थियों की एक कक्षा में लड़कों की संख्या लड़कियों की संख्या की दोगुनी है। लड़कों की संख्या ज्ञात करें।

- Ans
- 1. 24
 - 2. 48
 - 3. 36
 - 4. 18

Question ID : 65497832926
Status : Answered
Chosen Option : 2

Q.14 दिए गए विकल्पों में से उस आकृति का चयन कीजिए जो निम्नांकित श्रेणी में प्रश्नवाचक चिह्न (?) के स्थान पर आ सकती है।



Ans

- 1.
- 2.
- 3.
- 4.

Question ID : 65497832935
Status : Answered
Chosen Option : 2

Q.15 दिए गए विकल्पों में से उस संख्या का चयन कीजिए जो निम्न श्रेणी में प्रश्नवाचक चिह्न (?) के स्थान पर आएगी।

21, 22, 18, 27, 11, 36, ?

Ans 1. 72

2. 0

3. 27

4. 2

Question ID : 65497832934

Status : Answered

Chosen Option : 2

Q.16 उस विकल्प का चयन करें जो तीसरी संख्या से उसी प्रकार संबंधित है जिस प्रकार दूसरी संख्या पहली संख्या से संबंधित है।

234 : 171 :: 2535 : ?

Ans 1. 6414

2. 4838

3. 2393

4. 3787

Question ID : 65497832919

Status : Answered

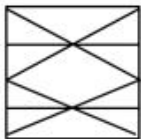
Chosen Option : 1

Q.17 उस विकल्प का चयन करें जिसमें दी गई आकृति अंतर्निहित है।



Ans

1.



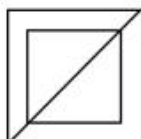
2.



3.



4.



Question ID : 65497832922

Status : Answered

Chosen Option : 2

Q.18 एक खास कूट भाषा में, 'KNOW' को '1614154' के रूप में कूटबद्ध किया जाता है। इस भाषा में 'HIRE' कैसे कूटबद्ध किया जाएगा?

Ans

1. 18191822

2. 199922

3. 1991822

4. 89185

Question ID : 65497832929

Status : Answered

Chosen Option : 3

Q.19 दिए गए विकल्पों में से उस संख्या का चयन करें, जो निम्नलिखित श्रृंखला में प्रश्नवाचक चिह्न (?) के स्थान पर आ सकती है।

9, 28, 65, 126, ?, 344

Ans 1. 225

2. 218

3. 191

4. 217

Question ID : 65497832930

Status : Not Attempted and
Marked For Review

Chosen Option : --

Q.20 धीरज ने संदीप से कहा, "मेरी माँ तुम्हारी माँ की इकलौती पुत्री है।" धीरज की माँ संदीप से कैसे संबंधित है?

Ans 1. माँ

2. चाची

3. बहन

4. दादी

Question ID : 65497832916

Status : Answered

Chosen Option : 3

Q.21 चार अक्षर-समूह दिए गए हैं जिनमें से तीन किसी तरीके से समान हैं और एक भिन्न है। भिन्न अक्षर-समूह को चुनिए।

Ans 1. ZOV

2. VAQ

3. XED

4. WRU

Question ID : 65497832928

Status : Not Attempted and
Marked For Review

Chosen Option : --

Q.22 'मनोभ्रंश' का संबंध 'स्मृति' से ठीक उसी तरह है, जैसे 'अनिद्रा' का संबंध '_____ ' से है।

Ans 1. चलने

2. नींद

3. दौड़ने

4. भूलने

Question ID : 65497832912

Status : Answered

Chosen Option : 2

Q.23 उस सही विकल्प का चयन कीजिए जो दिए गए शब्दों के उस क्रम को दर्शाता है जिस क्रम में वे अंग्रेजी शब्दकोश में आते हैं।

1. Poverty
2. Pretension
3. Perturb
4. Pendant
5. Pollution

Ans 1. 4, 5, 3, 1, 2

2. 4, 3, 5, 1, 2

3. 3, 5, 2, 1, 4

4. 3, 4, 2, 1, 5

Question ID : 65497832932

Status : Answered

Chosen Option : 2

Q.24 दिए गए पैटर्न का ध्यानपूर्वक अध्ययन करें और उस संख्या का चयन करें जो इसमें प्रश्न चिह्न (?) के स्थान पर आ सकती है।

26 18 13
50 21 46
626 ? 123

Ans 1. 303

2. 313

3. 246

4. 324

Question ID : 65497832925

Status : Not Attempted and
Marked For Review

Chosen Option : --

Q.25 उस विकल्प का चयन करें जो तीसरे पद से ठीक उसी प्रकार से संबंधित है जैसे दूसरा पद पहले पद से संबंधित है।

DRON : BPML :: HOST : ?

Ans 1. FMQR

2. MRQF

3. FMRQ

4. MFRQ

Question ID : 65497832913

Status : Answered

Chosen Option : 1

Section : Part B General Knowledge and General Awareness

Q.1 मार्च 2021 तक की स्थिति के अनुसार, 'प्रधानमंत्री फसल बीमा योजना' के तहत खरीफ फसलों की बीमित राशि पर प्रीमियम की दर कितनी है?

- Ans
- 1. 2.50%
 - 2. 1.00%
 - 3. 1.50%
 - 4. 2.00%

Question ID : 65497832936
Status : Answered
Chosen Option : 3

Q.2 निम्नलिखित में से महाराजाधिराज की उपाधि धारण करने वाले प्रथम गुप्त सम्राट कौन थे?

- Ans
- 1. चंद्रगुप्त प्रथम
 - 2. चंद्रगुप्त द्वितीय
 - 3. समुद्रगुप्त
 - 4. रामगुप्त

Question ID : 65497832938
Status : Answered
Chosen Option : 1

Q.3 संयुक्त राज्य अमेरिका में गदर पार्टी का गठन किस वर्ष किया गया था?

- Ans
- 1. 1919
 - 2. 1913
 - 3. 1924
 - 4. 1915

Question ID : 65497832939
Status : Not Answered
Chosen Option : --

Q.4 गुप्त राजवंश का वह पहला शासक निम्नलिखित में से कौन था जिसने महाराज-अधिराज की पदवी धारण की थी?

- Ans
- 1. चंद्रगुप्त
 - 2. रामगुप्त
 - 3. कुमारगुप्त
 - 4. स्कन्दगुप्त

Question ID : 65497832959
Status : Answered
Chosen Option : 1

Q.5 निम्नलिखित में से कौन सा पदार्थ एक मिश्रधातु है?

- Ans
- 1. प्लैटिनम
 - 2. टंगस्टन
 - 3. ज़र्कोनियम
 - 4. काँसा

Question ID : 65497832958
Status : Answered
Chosen Option : 4

Q.6 निम्नलिखित में से कौन भारत के पहले गृह मंत्री थे?

- Ans
- 1. गुलजारीलाल नंदा
 - 2. सरदार वल्लभभाई पटेल
 - 3. गोविंद बल्लभ पंत
 - 4. लाल बहादुर शास्त्री

Question ID : 65497832953
Status : Answered
Chosen Option : 2

Q.7 नवंबर 2020 में, निम्नलिखित में से किसने पंचकुला में GST (जी.एस.टी.) भवन का उद्घाटन किया?

- Ans
- 1. राजीव कुमार
 - 2. अमित शाह
 - 3. अजित कुमार
 - 4. नरेंद्र मोदी

Question ID : 65497832942
Status : Answered
Chosen Option : 4

Q.8 उस सीमा क्षेत्र को क्या कहते हैं जहां से महासागर के तापमान में तेजी से गिरावट आती है?

- Ans
- 1. महाद्वीपीय सीमांत
 - 2. द्रवतल
 - 3. ताप प्रवणता (थर्मोक्लाइन)
 - 4. महासागरीय कटक

Question ID : 65497832952
Status : Not Attempted and
Marked For Review
Chosen Option : --

Q.9 क्लेमाइडोमोनस निम्न का एक उदाहरण है:

- Ans 1. शैवाल (algae)
 2. विषाणु (viruses)
 3. जीवाणु (bacteria)
 4. कवक (fungi)

Question ID : 65497832947

Status : Not Attempted and
Marked For Review

Chosen Option : --

Q.10 निम्नलिखित में से कौन सा एक सरकारी घाटे का मापन नहीं है?

- Ans 1. राजस्व व्यय
 2. राजकोषीय घाटा
 3. राजस्व घाटा
 4. प्राथमिक घाटा

Question ID : 65497832949

Status : Answered

Chosen Option : 4

Q.11 निम्नलिखित में से कौन से शब्द का उपयोग क्रिकेट में नहीं किया जाता?

- Ans 1. स्कायर लेग
 2. फाइन लेग
 3. गली
 4. मिड लेग

Question ID : 65497832956

Status : Answered

Chosen Option : 4

Q.12 रज़िया, पहली महिला मुस्लिम शासक, भारत के किस तुर्की शासक की बेटी थी?

- Ans 1. शमसुद्दीन इल्तुतमिश
 2. कुतुबुद्दीन ऐबक
 3. मुइजुद्दीन बहराम
 4. गयासुद्दीन बलबन

Question ID : 65497832950

Status : Answered

Chosen Option : 1

Q.13 इंडियन प्रीमियर लीग 2020 का खिताब निम्नलिखित में से किस टीम ने जीता है?

- Ans 1. सनराइजर्स हैदराबाद
 2. रॉयल चैलेंजर्स बैंगलोर
 3. मुंबई इंडियंस
 4. दिल्ली कैपिटल्स

Question ID : 65497832944

Status : Answered

Chosen Option : 3

Q.14 'कथक' (कथक नामक एक नृत्य रूप), मूल रूप से उत्तर भारत के मंदिरों में _____ की एक जाति होती थी।

- Ans
- 1. भजन गायकों
 - 2. कथा वाचकों
 - 3. मंचीय कवियों
 - 4. पटकथा लेखकों

Question ID : 65497832951
Status : Answered
Chosen Option : 3

Q.15 किसी पिंड के संवेग को उसके निम्न के गुणनफल के रूप में परिभाषित किया जाता है:

- Ans
- 1. भार और वेग
 - 2. द्रव्यमान और लंबाई
 - 3. भार और चाल
 - 4. द्रव्यमान और वेग

Question ID : 65497832946
Status : Answered
Chosen Option : 4

Q.16 वास्तविक जी.डी.पी. (GDP), किसी देश के कुल _____ का माप है।

- Ans
- 1. बैंक लेन-देन
 - 2. किसानों की आय
 - 3. आर्थिक उत्पादन
 - 4. उद्योगपतियों की संपत्ति

Question ID : 65497832957
Status : Answered
Chosen Option : 3

Q.17 नागझीरा टाइगर रिज़र्व _____ में स्थित है।

- Ans
- 1. सिक्किम
 - 2. राजस्थान
 - 3. महाराष्ट्र
 - 4. गोवा

Question ID : 65497832937
Status : Answered
Chosen Option : 3

Q.18 'जनमसाखी', जिसका शाब्दिक अर्थ जन्म कथाएँ है, ऐसी रचनाएँ हैं जिनमें निम्न की जीवनियाँ प्रकाशित की गई हैं:

- Ans
- 1. कबीर दास
 - 2. गुरु नानक
 - 3. नरसिंह मेहता
 - 4. गुरु अर्जुन देव

Question ID : 65497832945
Status : Answered
Chosen Option : 2

Q.19 हाल ही में (दिसंबर 2020 में) निम्नलिखित में से किस खेल को 2024 पेरिस खेलों में पदार्पण करने के लिए आधिकारिक ओलंपिक खेल के रूप में पंजीकृत किया गया है?

- Ans
- 1. कराटे
 - 2. बॉलिंग
 - 3. स्काश
 - 4. ब्रेक डांस

Question ID : 65497832954
Status : Answered
Chosen Option : 1

Q.20 नागरिकता अधिनियम, _____ संविधान के लागू होने के बाद से भारतीय नागरिकता के अधिग्रहण, निर्धारण और समाप्ति से संबंधित मामलों से जुड़ा हुआ है।

- Ans
- 1. 1955
 - 2. 1957
 - 3. 1951
 - 4. 1961

Question ID : 65497832941
Status : Not Attempted and Marked For Review
Chosen Option : --

Q.21 _____ में अंतरराष्ट्रीय ओलंपिक समिति के नए मुख्यालय को यूरोपीय 2020 यू.एस. (US) ग्रीन बिल्डिंग काउंसिल (USGBC) लीडरशिप अवॉर्ड से सम्मानित किया गया।

- Ans
- 1. बासेल (basel)
 - 2. न्यूयॉर्क (New York)
 - 3. पेरिस (Paris)
 - 4. लोज़ान (Lausanne)

Question ID : 65497832948
Status : Answered
Chosen Option : 2

Q.22 स्वतंत्र भारत का पहला आम चुनाव _____ में हुआ था।

- Ans
- 1. 1961-62
 - 2. 1957-58
 - 3. 1951-52
 - 4. 1967-68

Question ID : 65497832940
Status : Answered
Chosen Option : 3

Q.23 नवंबर 2020 में, भारत जलवायु परिवर्तन ज्ञान पोर्टल (इंडिया क्लाइमेट चेंज नॉलेज पोर्टल) का शुभारंभ निम्नलिखित में से किसने किया?

- Ans
- 1. जगन मोहन रेड्डी
 - 2. प्रकाश जावड़ेकर
 - 3. नीतीश कुमार
 - 4. एस. जयशंकर

Question ID : 65497832943
Status : Not Attempted and Marked For Review
Chosen Option : --

Q.24 निम्नलिखित में से कौन सी, 'महासागरीय धाराओं' की विशेषता नहीं है?

- Ans
- 1. वे एक निश्चित दिशा में बहती हैं।
 - 2. उनकी कोई निश्चित दिशा नहीं होती।
 - 3. वे जल की धाराएँ हैं।
 - 4. वे लगातार समुद्र की सतह पर बहती हैं।

Question ID : 65497832955
Status : Answered
Chosen Option : 1

Q.25 2020-21 के लिए अपने बजट में निम्नलिखित में से किस राज्य सरकार ने 'ओरुनोदोई योजना' की घोषणा की?

- Ans
- 1. असम
 - 2. मिज़ोरम
 - 3. नागालैंड
 - 4. मणिपुर

Question ID : 65497832960
Status : Not Answered
Chosen Option : --

Section : Part C Elementary Mathematics

Q.1 16 cm × 12 cm × 10 cm के विमाओं वाले संदुक में लगाई जा सकने वाली सबसे लंबी छड़ की लंबाई (cm में) कितनी है?

- Ans**
- 1. $12\sqrt{5}$
 - 2. $10\sqrt{5}$
 - 3. $10\sqrt{3}$
 - 4. 20

Question ID : **65497832983**
Status : **Not Answered**
Chosen Option : --

Q.2 8 सदस्यों की एक टीम ने एक निशानेबाज़ी की प्रतियोगिता में भागीदारी की। सबसे ज्यादा स्कोर प्राप्त करने वाले व्यक्ति को 82 अंक मिले। यदि उसे 90 अंक मिले होते तो पूरी टीम के स्कोर का औसत 84 हो जाता। पूरी टीम को कुल मिलाकर कितना स्कोर प्राप्त हुआ?

- Ans**
- 1. 646
 - 2. 546
 - 3. 564
 - 4. 664

Question ID : **65497832974**
Status : **Answered**
Chosen Option : 4

Q.3 कोई दुकानदार किसी वस्तु पर उसकी लागत से 23% अधिक मूल्य अंकित करता है। उसने दो-तिहाई वस्तु को अंकित मूल्य पर बेचा और शेष को अंकित मूल्य पर 25% की छूट देकर बेचा। उसका कुल लाभ प्रतिशत कितना है?

- Ans**
- 1. 12.15%
 - 2. 12.75%
 - 3. 12.25%
 - 4. 12.50%

Question ID : **65497832979**
Status : **Answered**
Chosen Option : 3

Q.4 स्थान B पर जाने के लिए विष्णु स्थान A से सुबह 10 बजे चलता है और स्थान A पर जाने के लिए सुदीप स्थान B से दोपहर 2 बजे चलता है। दोनों स्थानों के बीच की दूरी 556 km है। यदि विष्णु की चाल 42 km/h और सुदीप की चाल 55 km/h है, तो वे एक-दूसरे से किस समय मिलेंगे?

- Ans**
- 1. शाम 5 बजे
 - 2. शाम 6 बजे
 - 3. शाम 7 बजे
 - 4. रात 8 बजे

Question ID : **65497832970**
Status : **Answered**
Chosen Option : 2

Q.5 6 फलैटों में से प्रत्येक का मूल्य ₹60 लाख था। एक बिल्डर ने $\frac{1}{3}$ फलैटों को 15% के लाभ और $\frac{1}{6}$ फलैटों को 6% की हानि पर बेच दिया। यदि उसे शेष फलैटों को बेचने के बाद 10% की शुद्ध हानि हुई, तो शेष फलैटों में उसकी हानि का प्रतिशत कितना था?

- Ans**
- 1. 18%
 - 2. 28%
 - 3. 38%
 - 4. 30%

Question ID : 65497832971
Status : Answered
Chosen Option : 4

Q.6 एक आयताकार आँगन 1017 फीट लंबा और 1002 फीट चौड़ा है, इसमें समान आकार की वर्गाकार टाइल्स बिछाई जानी हैं। इस उद्देश्य के लिए उपयोग की जाने वाली सबसे बड़ी टाइल की कोर (साइड) की लंबाई ज्ञात कीजिए।

- Ans**
- 1. 10 फीट
 - 2. 3 फीट
 - 3. 16 फीट
 - 4. 5 फीट

Question ID : 65497832973
Status : Answered
Chosen Option : 2

Q.7 108 और 198 का महत्तम समापवर्तक (HCF) कितना होगा?

- Ans**
- 1. 12
 - 2. 18
 - 3. 34
 - 4. 98

Question ID : 65497832977
Status : Answered
Chosen Option : 1

Q.8 ₹7,000 की धनराशि के लिए अर्धवार्षिक आधार पर चक्रवृद्धि होने वाली 20% वार्षिक ब्याज दर पर 1.5 वर्ष का चक्रवृद्धि ब्याज ज्ञात करें।

- Ans**
- 1. ₹2,017
 - 2. ₹3,337
 - 3. ₹2,317
 - 4. ₹2,137

Question ID : 65497832972
Status : Answered
Chosen Option : 3

Q.9 जब 6, 12, 18 और 28 में से प्रत्येक में x जोड़ा जाता है, तो इस तरह प्राप्त संख्याएं एक अनुपात में होती हैं।
($5x + 6$) : ($x - 1$) का मान इनमें से किसके बराबर है?

- Ans**
- 1. 6 : 1
 - 2. 1 : 6
 - 3. 2 : 7
 - 4. 7 : 2

Question ID : 65497832961
Status : Answered
Chosen Option : 4

Q.10 एक ट्रेन $3\frac{1}{2}$ h तक 40 km/h की औसत चाल से चलती है और फिर $2\frac{1}{2}$ h तक 60 km/h की चाल से चलती है।
ट्रेन पूरे 6 h में कितनी दूरी तय करती है?

- Ans**
- 1. 290 km
 - 2. 270 km
 - 3. 215 km
 - 4. 245 km

Question ID : 65497832985
Status : Answered
Chosen Option : 1

Q.11 किसी वस्तु को ₹1,850 में बेचने पर प्राप्त लाभ, उस वस्तु को ₹1,600 में बेचने पर मिले लाभ का दो गुना है। वस्तु का लागत मूल्य क्या है?

- Ans**
- 1. ₹1,250
 - 2. ₹1,350
 - 3. ₹1,200
 - 4. ₹1,300

Question ID : 65497832967
Status : Answered
Chosen Option : 4

Q.12 दो क्रमागत प्राकृतिक सम संख्याओं के वर्गों का औसत 170 है। दोनों संख्याओं का औसत क्या होगा?

- Ans**
- 1. 15
 - 2. 11
 - 3. 17
 - 4. 13

Question ID : 65497832964
Status : Answered
Chosen Option : 4

Q.13 A और B साथ मिलकर कार्य का $\frac{1}{5}$ भाग $4\frac{4}{5}$ दिनों में पूरा कर सकते हैं। अकेले A इस कार्य के $\frac{3}{4}$ भाग को 30 दिनों में पूरा कर सकता है। समूचे कार्य को अकेले पूरा करने में B को कितना समय लगेगा?

- Ans
- 1. 50 दिन
 - 2. 40 दिन
 - 3. 60 दिन
 - 4. 48 दिन

Question ID : 65497832969
Status : Answered
Chosen Option : 3

Q.14 रवि और सुमित के वेतनों का अनुपात 2 : 3 है। यदि प्रत्येक के वेतन में ₹5,000 की वृद्धि कर दी जाती है तो अनुपात 5 : 7 हो जाता है। वृद्धि के बाद सुमित का वेतन कितना होगा?

- Ans
- 1. ₹35,000
 - 2. ₹25,000
 - 3. ₹40,000
 - 4. ₹30,000

Question ID : 65497832975
Status : Answered
Chosen Option : 1

Q.15 एक संवृत बेलन के वक्र पृष्ठ के क्षेत्रफल और आयतन का अनुपात 4 : 5 है। यदि इसका संपूर्ण पृष्ठीय क्षेत्रफल 187 cm^2 है, तो इसकी ऊंचाई (cm में) कितनी होगी? (मान लीजिए $\pi = \frac{22}{7}$)

- Ans
- 1. 12.5
 - 2. 10.7
 - 3. 11.9
 - 4. 9.4

Question ID : 65497832962
Status : Not Attempted and Marked For Review
Chosen Option : --

Q.16 $18 \div \left[92 \div 2 \text{ of } 8 + 3\frac{1}{4} \right]$ का मान क्या होगा?

- Ans
- 1. 2
 - 2. 4
 - 3. 1
 - 4. 9

Question ID : 65497832963
Status : Answered
Chosen Option : 2

Q.17 A, B का 15% है, जबकि B, C का 12% है। यदि C = 1200 है, तो A + B का मान कितना होगा?

- Ans
- 1. 128.6
 - 2. 174.8
 - 3. 216.8
 - 4. 165.6

Question ID : 65497832978
Status : Answered
Chosen Option : 4

Q.18 एक दुकानदार के पास कुछ सेब हैं, जिनमें से 15% खराब हो चुके हैं। शेष बढ़िया सेबों में से 90% को बेचने के बाद उसके पास 34 बढ़िया सेब बचते हैं। उसके पास आरंभ में कितने सेब थे?

- Ans
- 1. 450
 - 2. 400
 - 3. 300
 - 4. 420

Question ID : 65497832966
Status : Not Attempted and Marked For Review
Chosen Option : --

Q.19 ₹4,500 की धनराशि कितनी साधारण ब्याज दर पर तीन वर्ष के बाद ₹5,310 हो जाएगी?

- Ans
- 1. 6.5%
 - 2. 8%
 - 3. 7%
 - 4. 6%

Question ID : 65497832976
Status : Answered
Chosen Option : 4

Q.20 मनीष किसी वस्तु को उसके लागत मूल्य से 44% अधिक के अंकित मूल्य पर बेचता है। यदि वह 27.5% की छूट देता है, तो उसके लाभ या हानि प्रतिशत की गणना करें।

- Ans
- 1. 4.4% हानि
 - 2. 4.4% लाभ
 - 3. 8% लाभ
 - 4. 8% हानि

Question ID : 65497832965
Status : Answered
Chosen Option : 2

Q.21 ₹8,100 की धनराशि पर 6 महीने के लिए वार्षिक 20% की ब्याज दर से त्रैमासिक रूप से चक्रवृद्धि होनेवाला चक्रवृद्धि ब्याज ज्ञात कीजिए।

- Ans**
- 1. ₹780.60
 - 2. ₹950.50
 - 3. ₹830.25
 - 4. ₹800.75

Question ID : 65497832982
Status : Answered
Chosen Option : 3

Q.22 मधु ने एक घड़ी को 12% लाभ पर बेचा। यदि उसने इसे ₹28.80 अधिक में बेचा होता तो उसे 18.4% लाभ प्राप्त होता। घड़ी का क्रय मूल्य (₹ में) कितना था?

- Ans**
- 1. 450
 - 2. 540
 - 3. 500
 - 4. 480

Question ID : 65497832980
Status : Answered
Chosen Option : 1

Q.23 यदि $3p = 4q$ और $3q = 5r$ है, तो $p : r$ अनुपात ज्ञात कीजिए।

- Ans**
- 1. 15 : 9
 - 2. 20 : 15
 - 3. 5 : 9
 - 4. 20 : 9

Question ID : 65497832981
Status : Answered
Chosen Option : 4

Q.24 9 of $\{(4 \div 2) \times [2 - (4 \text{ of } 6 \div 2)] + (6 \times 1 \div 3)\} - 5$ का मान ज्ञात कीजिए।

- Ans**
- 1. -167
 - 2. -150
 - 3. -99
 - 4. -157

Question ID : 65497832984
Status : Answered
Chosen Option : 4

Q.25 22 पुरुष किसी कार्य को $7\frac{1}{2}$ दिनों में पूरा कर सकते हैं। इसी कार्य को $5\frac{1}{2}$ दिनों में पूरा करने के लिए कितने पुरुषों की आवश्यकता होगी?

- Ans
- 1. 28
 - 2. 32
 - 3. 25
 - 4. 30

Question ID : 65497832968
Status : Answered
Chosen Option : 4

Section : Part D English

Q.1 Select the option that can be used as a one-word substitute for the given group of words.

A person who loves his/her country and, if necessary, will fight for it

- Ans
- 1. Patriot
 - 2. Patriarch
 - 3. Patron
 - 4. Expatriate

Question ID : 65497833000
Status : Not Answered
Chosen Option : --

Q.2 Select the most appropriate ANTONYM of the given word.

AMPLE

- Ans
- 1. Enough
 - 2. Liberal
 - 3. Meagre
 - 4. Sufficient

Question ID : 65497833003
Status : Not Answered
Chosen Option : --

Q.3 Select the most appropriate option that can substitute the underlined segment in the given sentence. If there is no need to substitute it, select 'No substitution required'.

Wash and dry the raw mangoes, and use a fork to prick it all over.

- Ans
- 1. for prick it all over
 - 2. to prick them all over
 - 3. No substitution required
 - 4. for all over pricking them

Question ID : 65497832987
Status : Not Answered
Chosen Option : --

Q.4 The following sentence has been split into four segments. Identify the segment that contains a grammatical error.

Our team leader / told us to be at the work / by 9 a.m. / the next morning.

- Ans**
- 1. by 9 a.m.
 - 2. the next morning
 - 3. Our team leader
 - 4. told us to be at the work

Question ID : **65497832988**
Status : **Not Answered**
Chosen Option : --

Q.5 Select the most appropriate option to fill in the blank.

He will _____ if they look after him carefully.

- Ans**
- 1. pull off
 - 2. pull through
 - 3. pull out
 - 4. pull up

Question ID : **65497832994**
Status : **Not Answered**
Chosen Option : --

Q.6 Select the option that can be used as a one-word substitute for the given group of words.

Become less intense or widespread

- Ans**
- 1. Ablaze
 - 2. Abate
 - 3. Abide
 - 4. Abode

Question ID : **65497833004**
Status : **Not Answered**
Chosen Option : --

Q.7 Select the **INCORRECTLY** spelt word.

- Ans**
- 1. Accommodate
 - 2. Intregue
 - 3. Unique
 - 4. Quarantine

Question ID : **65497833005**
Status : **Not Answered**
Chosen Option : --

Q.8 Select the most appropriate option to fill in the blank.

No changes can be made to the bond without the _____ of the partners.

- Ans 1. sympathy
 2. harmony
 3. consent
 4. confession

Question ID : **65497833001**
Status : **Not Answered**
Chosen Option : --

Q.9 The following sentence has been split into four segments. Identify the segment that contains a grammatical error.

Do you play / any other sports / beside of / cricket and football?

- Ans 1. any other sports
 2. cricket and football
 3. Do you play
 4. beside of

Question ID : **65497832997**
Status : **Not Answered**
Chosen Option : --

Q.10 Select the option that can be used as a one-word substitute for the given group of words.

Person who portrays bad character roles in cinema

- Ans 1. Villain
 2. Altruist
 3. Sadist
 4. Warrior

Question ID : **65497832986**
Status : **Not Answered**
Chosen Option : --

Q.11 Select the correctly spelt word.

- Ans 1. Absolutly
 2. Adaptation
 3. Abandan
 4. Acurate

Question ID : **65497832993**
Status : **Not Answered**
Chosen Option : --

Q.12 Select the most appropriate meaning of the given idiom.

Down in the mouth

- Ans 1. To be angry
 2. To be depressed
 3. To feel hungry
 4. To be happy

Question ID : 65497832996
Status : Not Answered
Chosen Option : --

Q.13 Select the most appropriate option that can substitute the underlined segment in the given sentence. If there is no need to substitute it, select 'No substitution required'.

My father said to me, "Where you have kept your books?"

- Ans 1. No substitution required
 2. did you kept
 3. have you kept
 4. you are keeping

Question ID : 65497832998
Status : Not Answered
Chosen Option : --

Q.14 Select the most appropriate option that can substitute the underlined segment in the given sentence. If there is no need to substitute it, select 'No substitution required'.

Naveena won a scholarship to further studies in medicine and decided to go abroad.

- Ans 1. for further study on medicine
 2. in furthering studies with medicine
 3. for further studies in medicine
 4. No substitution required

Question ID : 65497832991
Status : Not Answered
Chosen Option : --

Q.15 Select the most appropriate meaning of the given idiom.

To take the bull by the horns

- Ans 1. To be stubborn in every matter
 2. To take revenge on enemies
 3. To try to accomplish things
 4. To deal with difficult situations courageously

Question ID : 65497832995
Status : Not Answered
Chosen Option : --

Q.16 Select the most appropriate option to fill in the blank.

The word 'ecology' refers to the pattern and _____ of relationships among plants, animals and people and their environment.

- Ans 1. balance
 2. policy
 3. plan
 4. outline

Question ID : 65497832990
Status : Not Answered
Chosen Option : --

Q.17 Select the most appropriate synonym of the given word.

Accurate

- Ans 1. General
 2. False
 3. Exact
 4. Active

Question ID : 65497832999
Status : Not Answered
Chosen Option : --

Q.18 Select the most appropriate ANTONYM of the given word.

Reticent

- Ans 1. Talkative
 2. Hostile
 3. Aggressive
 4. Controversial

Question ID : 65497832992
Status : Not Answered
Chosen Option : --

Q.19 The following sentence has been divided into parts. One of them may contain an error. Select the part that contains the error from the given options. If you don't find any error, mark 'No error' as your answer.

The App has been so well-developed / that it anticipate / all the customers' needs.

- Ans 1. that it anticipate
 2. No error
 3. The App has been so well-developed
 4. all the customers' needs

Question ID : 65497833002
Status : Not Answered
Chosen Option : --

Q.20 Select the most appropriate synonym of the given word.

Refuge

- Ans** 1. Entrance
 2. Shelter
 3. Admit
 4. Arrival

Question ID : **65497832989**
Status : **Not Answered**
Chosen Option : --

Comprehension:

In the following passage, some words have been deleted. Read the passage carefully and select the most appropriate option to fill in each blank.

(1)_____ my thirteenth birthday, my mother made chicken pizza at home. That was the (2)_____ pizza I have ever eaten. She had made (3)_____ quantity for all my friends and everyone had a plateful. After the party got over, she (4)_____ me by gifting a beautiful pullover. The (5)_____ visit of my grandmother made my day.

SubQuestion No : 21

Q.21 Select the most appropriate option to fill in blank number 1.

- Ans** 1. On
 2. In
 3. From
 4. At

Question ID : **65497833007**
Status : **Not Answered**
Chosen Option : --

Comprehension:

In the following passage, some words have been deleted. Read the passage carefully and select the most appropriate option to fill in each blank.

(1)_____ my thirteenth birthday, my mother made chicken pizza at home. That was the (2)_____ pizza I have ever eaten. She had made (3)_____ quantity for all my friends and everyone had a plateful. After the party got over, she (4)_____ me by gifting a beautiful pullover. The (5)_____ visit of my grandmother made my day.

SubQuestion No : 22

Q.22 Select the most appropriate option to fill in blank number 2.

- Ans** 1. best
 2. better
 3. good
 4. very better

Question ID : **65497833008**
Status : **Not Answered**
Chosen Option : --

Comprehension:

In the following passage, some words have been deleted. Read the passage carefully and select the most appropriate option to fill in each blank.

(1) _____ my thirteenth birthday, my mother made chicken pizza at home. That was the (2) _____ pizza I have ever eaten. She had made (3) _____ quantity for all my friends and everyone had a plateful. After the party got over, she (4) _____ me by gifting a beautiful pullover. The (5) _____ visit of my grandmother made my day.

SubQuestion No : 23

Q.23 Select the most appropriate option to fill in blank number 3.

- Ans** 1. sufficient
 2. insufficient
 3. little
 4. inadequate

Question ID : **65497833009**
Status : **Not Answered**
Chosen Option : --

Comprehension:

In the following passage, some words have been deleted. Read the passage carefully and select the most appropriate option to fill in each blank.

(1) _____ my thirteenth birthday, my mother made chicken pizza at home. That was the (2) _____ pizza I have ever eaten. She had made (3) _____ quantity for all my friends and everyone had a plateful. After the party got over, she (4) _____ me by gifting a beautiful pullover. The (5) _____ visit of my grandmother made my day.

SubQuestion No : 24

Q.24 Select the most appropriate option to fill in blank number 4.

- Ans** 1. tormented
 2. blasted
 3. surprised
 4. drove

Question ID : **65497833010**
Status : **Not Answered**
Chosen Option : --

Comprehension:

In the following passage, some words have been deleted. Read the passage carefully and select the most appropriate option to fill in each blank.

(1) _____ my thirteenth birthday, my mother made chicken pizza at home. That was the (2) _____ pizza I have ever eaten. She had made (3) _____ quantity for all my friends and everyone had a plateful. After the party got over, she (4) _____ me by gifting a beautiful pullover. The (5) _____ visit of my grandmother made my day.

SubQuestion No : 25

Q.25 Select the most appropriate option to fill in blank number 5.

- Ans** 1. undesirable
 2. uneventful
 3. unexpected
 4. untoward

Question ID : **65497833011**
Status : **Not Answered**
Chosen Option : --

Section : Part D Hindi

Q.1 दिए गए वाक्य में रेखांकित खंड को प्रतिस्थापित करने के लिए सबसे उपयुक्त विकल्प का चयन करें।
यदि इसे प्रतिस्थापित करने की आवश्यकता नहीं है, तो विकल्प 'किसी बदलाव की आवश्यकता नहीं है'
का चयन करें।

वह मिलनसार था, इसलिए उन्होंने कई मित्र बना लिए।

- Ans
- 1. इसलिए उससे कई मित्र बना लिए।
 - 2. किसी बदलाव की आवश्यकता नहीं है।
 - 3. इसलिए उनके कई मित्र बना लिए।
 - 4. इसलिए उसने कई मित्र बना लिए।

Question ID : 65497833014
Status : Answered
Chosen Option : 4

Q.2 'भार्या' का पर्यायवाची है-

- Ans
- 1. पत्नी
 - 2. दुहिता
 - 3. बहन
 - 4. पुत्री

Question ID : 65497833028
Status : Answered
Chosen Option : 3

Q.3 रिक्त स्थान भरने के लिए सबसे उपयुक्त शब्द का चयन करें।

सभा _____ हो गई।

- Ans
- 1. शुरुआती
 - 2. विसर्जित
 - 3. विसर्जन
 - 4. समाप्ति

Question ID : 65497833012
Status : Answered
Chosen Option : 4

Q.4 सही वर्तनी वाले शब्द का चयन करें।

- Ans
- 1. राजनैतिक
 - 2. राजनीतिक
 - 3. राजनैतिक
 - 4. राजनितीक

Question ID : 65497833021
Status : Answered
Chosen Option : 3

Q.5 दिए गए वाक्य में रेखांकित खंड को प्रतिस्थापित करने के लिए सबसे उपयुक्त विकल्प का चयन करें।
यदि इसे प्रतिस्थापित करने की आवश्यकता नहीं है, तो विकल्प 'किसी बदलाव की आवश्यकता नहीं है'
का चयन करें।

उस समय यमुना में जल तो अधिक न थी और मगरमच्छ भी बहुत थे।

- Ans
- 1. पानी तो अधिक न थी
 - 2. जल भी अधिक न थे
 - 3. किसी बदलाव की आवश्यकता नहीं है।
 - 4. जल भी अधिक न था

Question ID : 65497833016
Status : Answered
Chosen Option : 4

Q.6 'परुष' का विलोम शब्द होगा-

- Ans
- 1. आकर्षक
 - 2. कठोर
 - 3. कोमल
 - 4. कर्कश

Question ID : 65497833030
Status : Answered
Chosen Option : 4

Q.7 दिए गए चार विकल्पों में से, उस विकल्प का चयन करें जो नीचे दिए मुहावरे का अर्थ व्यक्त करता है।

भाड़ झोंकना

- Ans
- 1. सहायता करना
 - 2. व्यर्थ समय खोना
 - 3. आग जलाना
 - 4. काम करना

Question ID : 65497833024
Status : Answered
Chosen Option : 3

Q.8 रिक्त स्थान को भरने के लिए सबसे उपयुक्त विकल्प का चयन करें।

लता मंगेशकर ने सैकड़ों _____ गाए हैं।

- Ans
- 1. संगीत
 - 2. नृत्य
 - 3. गीत
 - 4. कविता

Question ID : 65497833029
Status : Answered
Chosen Option : 1

Q.9 रिक्त स्थान को भरने के लिए सबसे उपयुक्त शब्द का चयन करें।

आज _____ बाजार जाना है।

- Ans
- 1. मैंने
 - 2. मेरे को
 - 3. मुझको
 - 4. मुझे

Question ID : 65497833023
Status : Answered
Chosen Option : 4

Q.10 'पत्थर की लकीर होना' मुहावरे का सही अर्थ है-

- Ans
- 1. मूर्ख होना
 - 2. नकल करना
 - 3. कठोर होना
 - 4. बात पक्की होना

Question ID : 65497833031
Status : Answered
Chosen Option : 4

Q.11 दिये गये वाक्य में रेखांकित अंश को प्रतिस्थापित करने के लिए सबसे उपयुक्त विकल्प का चयन करें।

व्यायाम से शारीरिक प्रगति होती है।

- Ans
- 1. उन्नति
 - 2. विकास
 - 3. अवनति
 - 4. सुंदरता

Question ID : 65497833026
Status : Answered
Chosen Option : 4

Q.12 दिये गये वाक्य के किस भाग में त्रुटि है?

मैं उसकी चातुर्यता से दंग रह गया।

- Ans
- 1. मैं उसकी
 - 2. रह गया।
 - 3. चातुर्यता
 - 4. से दंग

Question ID : 65497833027
Status : Answered
Chosen Option : 3

Q.13 दिए गए वाक्यांश के लिए एक शब्द चुनिए।

जो पहले हो चुका हो

- Ans
- 1. अपूर्व
 - 2. पूर्वी
 - 3. भूतपूर्व
 - 4. पूर्वकल्पित

Question ID : 65497833025
Status : Answered
Chosen Option : 3

Q.14 दिये गये वाक्यांश के लिए एक शब्द दीजिये।

जिसके समान कोई दूसरा न हो

- Ans
- 1. अद्वितीय
 - 2. अनंत
 - 3. अग्रगण्य
 - 4. अनादि

Question ID : 65497833018
Status : Answered
Chosen Option : 1

Q.15 सही वर्तनी वाले शब्द का चयन करें।

- Ans
- 1. सनयासी
 - 2. सन्यासी
 - 3. संन्यासी
 - 4. सन्यासी

Question ID : 65497833022
Status : Answered
Chosen Option : 4

Q.16 दिए गए शब्द का विलोम चुनें।

लघु

- Ans
- 1. महान
 - 2. सौम्य
 - 3. दाता
 - 4. गुरु

Question ID : 65497833017
Status : Answered
Chosen Option : 4

Q.17 दिए गए वाक्य का वह भाग ज्ञात करें जिसमें कोई त्रुटि है। यदि कोई त्रुटि नहीं है, तो 'कोई त्रुटि नहीं है' चुनें।

पाँच नगरों का नाम बताइये, जहाँ जनसंख्या घनत्व अधिक है।

- Ans 1. पाँच नगरों का नाम बताइये
 2. जहाँ जनसंख्या घनत्व
 3. कोई त्रुटि नहीं है।
 4. अधिक है।

Question ID : 65497833015
Status : Answered
Chosen Option : 3

Q.18 दिए गए वाक्य का वह भाग ज्ञात करें जिसमें कोई त्रुटि है। यदि कोई त्रुटि नहीं है, तो 'कोई त्रुटि नहीं है' चुनें।

इस परिसर में (1)/ अनाधिकार प्रवेश (2)/ वर्जित है। (3)/ कोई त्रुटि नहीं है (4)

- Ans 1. 2
 2. 3
 3. 4
 4. 1

Question ID : 65497833019
Status : Answered
Chosen Option : 3

Q.19 दिए गए शब्द के समानार्थी शब्द का चयन करें।

लहर

- Ans 1. उर्मिल
 2. धारा
 3. बहाव
 4. ऊर्मि

Question ID : 65497833020
Status : Answered
Chosen Option : 2

Q.20 दिए गये वाक्यांश के लिए एक शब्द दीजिये।

जिसे कभी बुढ़ापा न आए

- Ans 1. अजेय
 2. अमृत्य
 3. अमर
 4. अजर

Question ID : 65497833013
Status : Answered
Chosen Option : 4

Comprehension:

दिए गए अनुच्छेद में कुछ शब्द हटा दिए गए हैं। दिए गए विकल्पों की सहायता से रिक्त स्थान भरें। प्रत्येक संख्या के लिए सबसे उपयुक्त विकल्प का चयन करें।

उन दिनों हम रेलवे क्राटरों में रहते थे। मैं अपने (1) _____ केशव के साथ घर की ओर चला जा रहा था। एकाएक तेज (2) _____ चलने लगी। अचानक (3) _____ करता हुआ एक बहुत (4) _____ शीशम वृक्ष गिर पड़ा। केशव (5) _____ बचा।

SubQuestion No : 21

Q.21 गद्यांश के रिक्त स्थान (1) के लिए सर्वाधिक उपयुक्त शब्द होगा-

- Ans** 1. मित्र
 2. व्यक्ति
 3. आदमी
 4. दुश्मन

Question ID : 65497833033
Status : Answered
Chosen Option : 1

Comprehension:

दिए गए अनुच्छेद में कुछ शब्द हटा दिए गए हैं। दिए गए विकल्पों की सहायता से रिक्त स्थान भरें। प्रत्येक संख्या के लिए सबसे उपयुक्त विकल्प का चयन करें।

उन दिनों हम रेलवे क्राटरों में रहते थे। मैं अपने (1) _____ केशव के साथ घर की ओर चला जा रहा था। एकाएक तेज (2) _____ चलने लगी। अचानक (3) _____ करता हुआ एक बहुत (4) _____ शीशम वृक्ष गिर पड़ा। केशव (5) _____ बचा।

SubQuestion No : 22

Q.22 गद्यांश के रिक्त स्थान (2) के लिए सर्वाधिक उपयुक्त शब्द होगा-

- Ans** 1. लूफान
 2. अंधड़
 3. हवा
 4. बवंडर

Question ID : 65497833034
Status : Answered
Chosen Option : 3

Comprehension:

दिए गए अनुच्छेद में कुछ शब्द हटा दिए गए हैं। दिए गए विकल्पों की सहायता से रिक्त स्थान भरें। प्रत्येक संख्या के लिए सबसे उपयुक्त विकल्प का चयन करें।

उन दिनों हम रेलवे क्राटरों में रहते थे। मैं अपने (1) _____ केशव के साथ घर की ओर चला जा रहा था। एकाएक तेज (2) _____ चलने लगी। अचानक (3) _____ करता हुआ एक बहुत (4) _____ शीशम वृक्ष गिर पड़ा। केशव (5) _____ बचा।

SubQuestion No : 23

Q.23 गद्यांश के रिक्त स्थान (3) के लिए सर्वाधिक उपयुक्त शब्द होगा-

- Ans** 1. फटफट- ताड़
 2. सनसन-फट
 3. कड़कड़-धड़ाम
 4. छनछन- खटखट

Question ID : 65497833035
Status : Answered
Chosen Option : 1

Comprehension:

दिए गए अनुच्छेद में कुछ शब्द हटा दिए गए हैं। दिए गए विकल्पों की सहायता से रिक्त स्थान भरें। प्रत्येक संख्या के लिए सबसे उपयुक्त विकल्प का चयन करें।

उन दिनों हम रेलवे क्वाटरों में रहते थे। मैं अपने (1) _____ केशव के साथ घर की ओर चला जा रहा था। एकाएक तेज (2) _____ चलने लगी। अचानक (3) _____ करता हुआ एक बहुत (4) _____ शीशम वृक्ष गिर पड़ा। केशव (5) _____ बचा।

SubQuestion No : 24

Q.24 गद्यांश के रिक्त स्थान (4) के लिए सर्वाधिक उपयुक्त शब्द होगा-

- Ans**
- 1. पतला
 - 2. नन्हा
 - 3. गीला
 - 4. विशाल

Question ID : **65497833036**
Status : **Answered**
Chosen Option : **4**

Comprehension:

दिए गए अनुच्छेद में कुछ शब्द हटा दिए गए हैं। दिए गए विकल्पों की सहायता से रिक्त स्थान भरें। प्रत्येक संख्या के लिए सबसे उपयुक्त विकल्प का चयन करें।

उन दिनों हम रेलवे क्वाटरों में रहते थे। मैं अपने (1) _____ केशव के साथ घर की ओर चला जा रहा था। एकाएक तेज (2) _____ चलने लगी। अचानक (3) _____ करता हुआ एक बहुत (4) _____ शीशम वृक्ष गिर पड़ा। केशव (5) _____ बचा।

SubQuestion No : 25

Q.25 गद्यांश के रिक्त स्थान (5) के लिए सर्वाधिक उपयुक्त शब्द होगा-

- Ans**
- 1. हाथ-हाथ
 - 2. बाल-बाल
 - 3. थोड़ा-थोड़ा
 - 4. बूँद भर

Question ID : **65497833037**
Status : **Answered**
Chosen Option : **2**