

Constable GD in CAPFs NIA SSF and Rifleman GD in Assam Rifles Examination 2021

Roll Number	www.GovtJobsAlert.In
Candidate Name	www.GovtJobsAlert.In
Venue Name	ION Digital Zone iDZ 1 Hathipur
Exam Date	10/12/2021
Exam Time :	9:00 AM - 10:30 AM
Subject	Constable GD 2021

Section : Part A General Intelligence and Reasoning

Q.1 किसी निश्चित कूट भाषा में, MIND को NJOE के रूप में लिखा जाता है। उसी कूट भाषा में NEFT को किस रूप में लिखा जाएगा?

- Ans 1. OFGU
 2. GUOF
 3. GUFO
 4. OFUG

Question ID : 65497829239
Status : Answered
Chosen Option : 1

Q.2 उस विकल्प का चयन कीजिए, जिसका चौथी संख्या से वही संबंध है, जो पहली संख्या का दूसरी संख्या से है और पांचवीं संख्या का छठी संख्या से है।

17 : 119 :: ? : 182 :: 23 : 161

- Ans 1. 22
 2. 20
 3. 26
 4. 24

Question ID : 65497829249
Status : Answered
Chosen Option : 3

Q.3 दिए गए विकल्पों में से उस अक्षर-समूह का चयन करें, जो निम्नलिखित श्रृंखला में प्रश्नवाचक चिह्न (?) के स्थान पर आ सकता है।

RAS, UFR, XKQ, APP, DUO, GZN, ?

- Ans 1. OPS
 2. JEM
 3. KYM
 4. KFN

Question ID : 65497829232
Status : Answered
Chosen Option : 2

Q.4 अक्षरों के उस संयोजन का चयन कीजिए, जिसे निम्न श्रृंखला के रिक्त स्थानों में क्रमिक रूप से रखने पर यह श्रृंखला पूर्ण हो जाएगी।

C _ P _ _ M _ K C M P _ C M _ K

- Ans 1. MKCMKC
 2. PKC PKP
 3. MKMPKP
 4. MKC PKP

Question ID : 65497829229
Status : Answered
Chosen Option : 4

Q.5 एक लड़के की तस्वीर की ओर इशारा करते हुए, माधवी ने कहा, "उसके पिता मेरी बहन के पति की बेटी के नाना/दादा के बेटे हैं"। उस लड़के का माधवी के पिता से क्या संबंध है?

- Ans 1. भाई
 2. बेटा
 3. पोता
 4. नाती

Question ID : 65497829238
Status : Answered
Chosen Option : 1

Q.6 दिए गए पैटर्न का ध्यानपूर्वक अध्ययन करें और उस संख्या का चयन करें जो इसमें प्रश्न चिह्न (?) के स्थान पर आ सकती है।

10 5 20
20 10 40
40 20 ?

- Ans 1. 60
 2. 80
 3. 70
 4. 90

Question ID : 65497829241
Status : Answered
Chosen Option : 2

Q.7 दिए गए कथनों और निष्कर्षों को ध्यानपूर्वक पढ़ें। यह मानते हुए कि कथनों में दी गई सूचना सही है, भले ही वह सामान्य रूप से ज्ञात तथ्यों से भिन्न प्रतीत होती हो, यह निर्धारित करें कि दिए गए निष्कर्षों में से कौन-से निष्कर्ष कथनों का तार्किक रूप से अनुसरण करते हैं।

कथन:

सभी नर्तक खिलाड़ी हैं।
सभी खिलाड़ी पुरुष हैं।

निष्कर्ष:

I. सभी नर्तक पुरुष हैं।
II. कुछ खिलाड़ी नर्तक हैं।

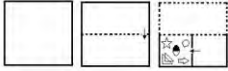
- Ans
- 1. केवल निष्कर्ष I अनुसरण करता है।
 - 2. दोनों निष्कर्ष अनुसरण करते हैं।
 - 3. केवल निष्कर्ष II अनुसरण करता है।
 - 4. या तो निष्कर्ष I या निष्कर्ष II अनुसरण करता है।

Question ID : 65497829240

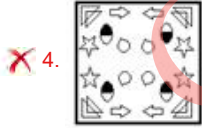
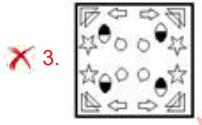
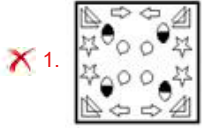
Status : Answered

Chosen Option : 2

Q.8 निम्नांकित चित्रों में एक कागज को मोड़ने का क्रम और मुड़े हुए कागज को काटने का तरीका दर्शाया गया है। मुड़े हुए कागज को खोलने पर यह कैसा दिखाई देगा?



Ans



Question ID : 65497829243

Status : Answered

Chosen Option : 2

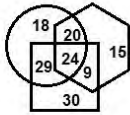
Q.9 उस विकल्प का चयन कीजिए, जिसमें निम्नलिखित शब्दों का वह क्रम दिया गया है जिस क्रम में वे अंग्रेजी शब्दकोश में आते हैं।

1. Real
2. Rim
3. Rise
4. Rare
5. Rose

Ans 1. 4, 1, 2, 5, 3
 2. 1, 4, 2, 3, 5
 3. 4, 1, 3, 2, 5
 4. 4, 1, 2, 3, 5

Question ID : 65497829228
Status : Answered
Chosen Option : 4

Q.10 दिए गए आरेख में, षटभुज 'पुस्तकालय कर्मियों' को निरूपित करता है, वर्ग 'कर-दाताओं' को निरूपित करता है और वृत्त 'चित्रकारों' को निरूपित करता है। भिन्न-भिन्न खंडों में दी गई संख्याएँ, उस संवर्ग के व्यक्तियों की संख्या को दर्शाती हैं।



कितने पुस्तकालय कर्मी न तो करदाता हैं, और न ही चित्रकार हैं?

Ans 1. 15
 2. 20
 3. 18
 4. 9

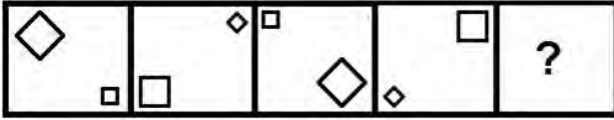
Question ID : 65497829235
Status : Answered
Chosen Option : 1

Q.11 दो क्रमागत संख्याओं और उनमें से बड़ी संख्या के तीन गुने का योग 64 है। सबसे छोटी संख्या ज्ञात कीजिए।

Ans 1. 11
 2. 10
 3. 13
 4. 12


Question ID : 65497829242
Status : Answered
Chosen Option : 4

Q.12 निम्नांकित आकृति शृंखला में प्रश्नचिन्ह के स्थान पर आने वाली आकृति का चयन कीजिए।

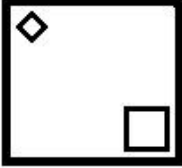


Ans

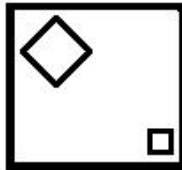
1.




2.



3.



4.



Question ID : 65497829231
Status : Answered
Chosen Option : 3

Q.13 एक निश्चित कूट भाषा में 'BROKEN' को 'EUSOJS' और 'RASHES' को 'UDWLJX' के रूप में लिखा जाता है। उसी कूट भाषा में 'CONFER' किस रूप में लिखा जाएगा?

1. FSRKJW

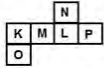
2. FRSJJV

3. FQRIJX

4. FRRJJW

Question ID : 65497829237
Status : Answered
Chosen Option : 4

Q.14 जब दी गई शीट को मोड़कर एक घन बनाया जाता है, तो अक्षरों का कौन-सा युग्म विपरीत फलकों पर नहीं होगा?



- Ans
- 1. M और P
 - 2. L और O
 - 3. N और O
 - 4. K और L

Question ID : 65497829251
Status : Answered
Chosen Option : 2

Q.15 दिए गए समीकरण को सही करने के लिए किन दो चिह्नों को आपस में बदला जाना चाहिए?

$$15 - 14 \div 21 \times 27 + 9 = 64$$

- Ans
- 1. \times और $+$
 - 2. $+$ और $+$
 - 3. $+$ और $-$
 - 4. $+$ और \times

Question ID : 65497829250
Status : Answered
Chosen Option : 2

Q.16 चार अक्षर-समूह दिए गए हैं, जिनमें से तीन किसी तरह से संगत हैं और एक असंगत है। उस अक्षर-समूह का चयन करें, जो अन्य से असंगत है।

- Ans
- 1. DBZX
 - 2. TRPN
 - 3. NLJH
 - 4. CAYV

Question ID : 65497829244
Status : Answered
Chosen Option : 4

Q.17 A, B, C, D, E और F छः मित्र, तीन तीन करके दो पंक्तियों में बैठे हुए हैं। दोनों पंक्तियों में बैठे हुए मित्रों के मुंह आमने-सामने हैं। C के सामने F है। F ठीक B और E के बीच में है। A के सामने B है। सभी मित्रों में से कौन चारों छोरों में किसी भी छोर पर नहीं बैठा है?

- Ans
- 1. A
 - 2. B
 - 3. D
 - 4. C

Question ID : 65497829234
Status : Answered
Chosen Option : 4

Q.18 दिए गए विकल्पों में से उस संख्या का चयन करें, जो निम्नलिखित श्रृंखला में प्रश्नवाचक चिह्न (?) के स्थान पर आ सकती है।

86, 90, 106, 170, ?

- Ans
- 1. 522
 - 2. 345
 - 3. 426
 - 4. 380

Question ID : 65497829230
Status : Answered
Chosen Option : 3

Q.19 एक निश्चित कूट भाषा में, TABLET को 20-1-2-12-5-40 लिखा जाता है। उसी कूट भाषा में RHESUS को किस प्रकार लिखा जाएगा?

- Ans
- 1. 19-8-5-19-21-38
 - 2. 18-8-5-19-21-38
 - 3. 18-8-5-19-20-19
 - 4. 18-9-5-18-21-36

Question ID : 65497829245
Status : Answered
Chosen Option : 2

Q.20 दिए गए संयोजन के सही दर्पण प्रतिबिंब का चयन कीजिए, जबकि दर्पण को इसकी दाईं ओर रखा गया है।

4 8 7 3 2 1

- Ans
- 1.
 - 2.
 - 3.
 - 4.

Question ID : 65497829247
Status : Answered
Chosen Option : 2

Q.21 आठ मित्र A, B, C, D, E, F, G और H, एक वृत्ताकार मेज के चारों ओर एक दूसरे से समान दूरी पर इसी क्रम में वामावर्त बैठे हुए हैं। सभी के मुंह मेज के केंद्र की ओर हैं। G पूर्व दिशा में बैठा है। C और E आपस में अपना स्थान बदल लेते हैं। इनमें से कौन दक्षिण-पूर्व दिशा में बैठा है?

- Ans
- 1. E
 - 2. H
 - 3. F
 - 4. D

Question ID : 65497829248
Status : Answered
Chosen Option : 2

Q.22 जिस प्रकार 'डेनमार्क', 'कोपेनहेगन' से संबंधित है, उसी प्रकार 'मिस्र', '_____ ' से संबंधित है।

- Ans
- 1. पेसो
 - 2. अप्रीका
 - 3. जकार्ता
 - 4. काहिरा

Question ID : 65497829233
Status : Answered
Chosen Option : 4

Q.23 दिए गए विकल्पों में से उस संख्या का चयन कीजिए, जो निम्नलिखित श्रेणी में प्रश्नवाचक चिन्ह (?) के स्थान पर आ सकती है।

24, 25, 33, 60, ?, 249

- Ans
- 1. 124
 - 2. 156
 - 3. 148
 - 4. 90

Question ID : 65497829246
Status : Answered
Chosen Option : 1

Q.24 उस विकल्प का चयन करें, जिसमें दी गई आकृति अंतर्निहित है (आकृति को घुमाने की अनुमति नहीं है)।



Ans

- 1.
- 2.
- 3.
- 4.

Question ID : 65497829252
Status : Answered
Chosen Option : 3

Q.25 उस विकल्प का चयन कीजिए जो तृतीय पद से उसी तरह से संबंधित है जैसे द्वितीय पद प्रथम पद से संबंधित है।

AHEAD : ZFBWY :: VALOR : ?

- Ans 1. UYIKM
 2. UZJLO
 3. WCORV
 4. VYJIM

Question ID : 65497829236
Status : Answered
Chosen Option : 1

Section : Part B General Knowledge and General Awareness

Q.1 निम्नलिखित में से कौन सा एक केंद्रीय स्तर का कर है, जिसे वस्तु एवं सेवा कर (GST) में शामिल कर दिया गया?

- Ans 1. उत्पाद शुल्क
 2. मनोरंजन कर
 3. चुंगी
 4. क्रय कर

Question ID : 65497829273
Status : Answered
Chosen Option : 1

Q.2 मूसा पाराडिसिअका (Musa paradisiaca) का सामान्य प्रचलित नाम क्या है?

- Ans 1. तरबूज
 2. सेब
 3. केला
 4. अमरूद

Question ID : 65497829276
Status : Answered
Chosen Option : 1

Q.3 निम्नलिखित में से कौन सा विटामिन मानव शरीर में कोशिकाओं को एक साथ रखने में मदद करता है?

- Ans 1. विटामिन C
 2. विटामिन K
 3. विटामिन A
 4. विटामिन E

Question ID : 65497829275
Status : Answered
Chosen Option : 2

Q.4 बारालाचा दर्रे के दोनों किनारों पर से निकलने वाली दो जल धाराएं, चंद्र और भागा निम्न में से कौन सी नदी बनाती हैं?

- Ans
- 1. रावी
 - 2. चेनाब
 - 3. सिंधु
 - 4. झेलम

Question ID : 65497829264
Status : Not Answered
Chosen Option : --

Q.5 नवंबर 2020 में, निम्नलिखित में से किसे यूनेस्को बायोस्फीयर रिजर्व (UNESCO Biosphere Reserve) घोषित किया गया था?

- Ans
- 1. पन्ना बायोस्फीयर रिजर्व
 - 2. मन्नार की खाड़ी
 - 3. नंदा देवी बायोस्फीयर रिजर्व
 - 4. नीलगिरि बायोस्फीयर रिजर्व

Question ID : 65497829259
Status : Answered
Chosen Option : 1

Q.6 भारतीय संविधान के किस संशोधन अधिनियम में, राज्य के नीति निर्देशक तत्व के रूप में राज्य से आय, स्थिति, सुविधाओं और अवसरों में असमानता को कम करने की अपेक्षा की गई है?

- Ans
- 1. 44वें
 - 2. 42वें
 - 3. 47वें
 - 4. 52वें

Question ID : 65497829258
Status : Not Answered
Chosen Option : --

Q.7 एशिया में सौर-ऊर्जा द्वारा संचालित पहला कपड़ा मिल जल्द ही कहां चालू होगा?

- Ans
- 1. केरल
 - 2. राजस्थान
 - 3. महाराष्ट्र
 - 4. गुजरात

Question ID : 65497829263
Status : Answered
Chosen Option : 4

Q.8 निम्नलिखित में से कौन सा संग्रहालय कटक में स्थित है?

- Ans
- 1. भारतीय संग्रहालय
 - 2. राष्ट्रीय संग्रहालय
 - 3. नेताजी जन्म स्थान संग्रहालय
 - 4. सालार जंग संग्रहालय

Question ID : 65497829269
Status : Answered
Chosen Option : 3

Q.9 राष्ट्रीय जूट नीति _____ में तैयार की गई थी, जिसका उद्देश्य उत्पादकता में वृद्धि, गुणवत्ता में सुधार, किसानों के लिए जूट की अच्छी कीमत सुनिश्चित करना और प्रति हेक्टेयर उपज में वृद्धि करना था।

- Ans
- 1. 2005
 - 2. 2003
 - 3. 2009
 - 4. 2007

Question ID : 65497829270
Status : Not Answered
Chosen Option : --

Q.10 शिरोमणि गुरुद्वारा प्रबंधक समिति (SGPC) को मुख्य निकाय के रूप में नियंत्रण प्रदान करने के लिए _____ में सिख गुरुद्वारा अधिनियम पारित किया गया था।

- Ans
- 1. 1905
 - 2. 1919
 - 3. 1941
 - 4. 1925

Question ID : 65497829266
Status : Not Answered
Chosen Option : --

Q.11 1919 में जलियाँवाला बाग हत्याकांड कहाँ हुआ था?

- Ans
- 1. लाहौर
 - 2. पठानकोट
 - 3. अमृतसर
 - 4. अंबाला

Question ID : 65497829261
Status : Answered
Chosen Option : 3

Q.12 पंडित सारंगदेव कृत 'संगीत रत्नाकार' ग्रंथ में _____ अध्याय है।

- Ans 1. 5
 2. 7
 3. 9
 4. 11

Question ID : 65497829274
Status : Not Answered
Chosen Option : --

Q.13 नवंबर 2020 में, Mercedes-Benz (मर्सिडीज-बेंज) ने संभावित H.N.I. (उच्च-निवल मूल्य वाले) ग्राहकों को वित्तीय लाभ प्रदान करने के लिए _____ के साथ कोलैबोरेशन किया।

- Ans 1. आई.सी.आई.सी.आई. (ICICI)
 2. एस.बी.आई. (SBI)
 3. इंडसइंड
 4. एच.डी.एफ.सी. (HDFC)

Question ID : 65497829265
Status : Not Answered
Chosen Option : --

Q.14 वित्तीय वर्ष 2019-2020 के लिए बजट घाटे के रूप में भारत की जीडीपी (GDP) का प्रतिशत कितना दर्ज किया गया था?

- Ans 1. 3.56%
 2. 5.23%
 3. 6.42%
 4. 4.59%

Question ID : 65497829253
Status : Not Answered
Chosen Option : --

Q.15 'अल्बार्ट्रोस (Albatross)' शब्द का प्रयोग निम्न में से किस खेल में किया जाता है?

- Ans 1. गोल्फ (Golf)
 2. रग्बी (Rugby)
 3. तलवारबाजी (Fencing)
 4. पोलो (Polo)

Question ID : 65497829268
Status : Not Answered
Chosen Option : --

Q.16 हड़प्पाकालीन स्थल रंगपुर भारत के किस वर्तमान राज्य में स्थित है?

- Ans
- 1. राजस्थान
 - 2. गुजरात
 - 3. हिमाचल प्रदेश
 - 4. हरियाणा

Question ID : 65497829260
Status : Answered
Chosen Option : 1

Q.17 निम्नलिखित में से किसने 2021 में टोक्यो में आयोजित पैरालंपिक्स में रजत पदक जीता?

- Ans
- 1. योगेश कथुनिया
 - 2. मनीष नरवाल
 - 3. अरवि लेखरा
 - 4. सुमित अंतिल

Question ID : 65497829272
Status : Answered
Chosen Option : 1

Q.18 चौथी से नवीं शताब्दी के बीच, कांचीपुरम किस साम्राज्य की राजधानी थी?

- Ans
- 1. पांड्य
 - 2. पल्लव
 - 3. चोल
 - 4. चेर

Question ID : 65497829255
Status : Answered
Chosen Option : 2

Q.19 अक्टूबर 2020 में भारत के किस राज्य में पहली जलविमान (सीप्लेन) सेवा शुरू हुई?

- Ans
- 1. महाराष्ट्र
 - 2. गोवा
 - 3. गुजरात
 - 4. केरल

Question ID : 65497829257
Status : Answered
Chosen Option : 2

Q.20 निम्नलिखित में से कौन-सा कथन सही है?

- Ans
- 1. सर्वोच्च न्यायालय का न्यायाधीश, उप-राष्ट्रपति को अपना त्यागपत्र सौंपता है।
 - 2. सर्वोच्च न्यायालय का न्यायाधीश, प्रधानमंत्री को अपना त्यागपत्र सौंपता है।
 - 3. सर्वोच्च न्यायालय का न्यायाधीश, राष्ट्रपति को अपना त्यागपत्र सौंपता है।
 - 4. सर्वोच्च न्यायालय का न्यायाधीश, महान्यायवादी (अटॉर्नी जनरल) को अपना त्यागपत्र सौंपता है।

Question ID : 65497829262
Status : Answered
Chosen Option : 3

Q.21 निम्नलिखित में से कौन सी पुस्तक सुधा मूर्ति द्वारा लिखित है?

- Ans
- 1. द नेमसेक (The Namesake)
 - 2. इंटरप्रेटर ऑफ़ मेलोडीज़ (Interpreter of Maladies)
 - 3. अनएकस्टमड अर्थ (Unaccustomed Earth)
 - 4. महाश्वेता (Mahashweta)

Question ID : 65497829277
Status : Answered
Chosen Option : 1

Q.22 निम्नलिखित में से कौन 2014 में, पहला भारतीय मूल का एनबीए (NBA) खिलाड़ी बना था?

- Ans
- 1. अकिलन परी
 - 2. विशेष भृगुवंशी
 - 3. गुरसिमरन भुल्लर
 - 4. सत्यप्रकाश यादव

Question ID : 65497829256
Status : Answered
Chosen Option : 3

Q.23 FM रेडियो को पेटेंट कराने का श्रेय निम्नलिखित में से किसे दिया जाता है?

- Ans
- 1. जॉन बेयर्ड
 - 2. एडविन एच आर्मस्ट्रॉंग
 - 3. कार्ल बेन्ज़
 - 4. निकोला टेस्ला

Question ID : 65497829254
Status : Not Answered
Chosen Option : --

Q.24 शून्य बजट प्राकृतिक खेती में कौन सा राज्य अग्रणी है?

- Ans
- 1. बिहार
 - 2. आंध्र प्रदेश
 - 3. कर्नाटक
 - 4. सिक्किम

Question ID : 65497829267
Status : Answered
Chosen Option : 4

Q.25 निम्नलिखित में से कौन सी पुस्तक आर के नारायण द्वारा लिखित है?

- Ans
- 1. एंग्री रीवर (Angry River)
 - 2. स्वामी एंड फ्रेंड्स (Swami and Friends)
 - 3. द ब्लू अम्ब्रेला (The Blue Umbrella)
 - 4. रोड्स टू मसूरी (Roads to Mussoorie)

Question ID : 65497829271
Status : Not Answered
Chosen Option : --

Section : Part C Elementary Mathematics

Q.1 यदि 22, 15, 28, p और q का औसत 16 है, तो p और q का औसत ज्ञात कीजिए।

- Ans
- 1. 12
 - 2. 7.5
 - 3. 6
 - 4. 15

Question ID : 65497829300
Status : Answered
Chosen Option : 2

Q.2 एक त्रिभुज की भुजाओं का अनुपात 4 : 7 : 9 है। यदि सबसे छोटी भुजा और सबसे बड़ी भुजा का योग 65 cm है, तो तीसरी भुजा की लंबाई ज्ञात करें। (cm में)

- Ans
- 1. 55 cm
 - 2. 30 cm
 - 3. 35 cm
 - 4. 33.5 cm

Question ID : 65497829287
Status : Answered
Chosen Option : 3

Q.3 निम्नलिखित समीकरण का मान ज्ञात कीजिए।

$$1800 \div 10 \times [45 \div (17 - 2)] \text{ of } 2 + [-2(1 + 2)]$$

- Ans
- 1. $33\frac{1}{3}$
 - 2. 1074
 - 3. -2160
 - 4. 0

Question ID : 65497829278
Status : Answered
Chosen Option : 2

Q.4 किसी व्यक्ति और एक 230 m लंबी ट्रेन के बीच की दूरी 115 m है। यदि वह व्यक्ति 9 km/h की चाल से ट्रेन की ओर आ रहा है तो 60 km/h की चाल से चल रही ट्रेन उस व्यक्ति को कितने समय (sec में) में पार कर लेगी?

- Ans
- 1. 20
 - 2. 12
 - 3. 18
 - 4. 24

Question ID : 65497829286
Status : Not Answered
Chosen Option : --

Q.5 एक वृत्ताकार मैदान को ₹5 प्रति m^2 की दर से समतल कराने की लागत ₹19,250 है। ₹24 प्रति m की दर से इसके चारों ओर बाड़ लगवाने की लागत (₹ में) क्या होगी? ($\pi = \frac{22}{7}$ लीजिए)

- Ans**
- 1. 4,752
 - 2. 5,500
 - 3. 5,280
 - 4. 4,224

Question ID : 65497829298
Status : Answered
Chosen Option : 3

Q.6 यदि 240 m लंबी ट्रेन 28 सेकंड में 250 m लंबा प्लेटफार्म पार करती है, तो ट्रेन की चाल (km/h में) कितनी है?

- Ans**
- 1. 60
 - 2. 63
 - 3. 60.5
 - 4. 63.6

Question ID : 65497829281
Status : Answered
Chosen Option : 2

Q.7 A अकेले किसी कार्य को 18 दिनों में पूरा कर सकता है और B अकेले उसी कार्य को 24 दिनों में पूरा कर सकता है। A और B ने उस कार्य को ₹22,500 में करना तय किया। उन्होंने C की मदद ली और 8 दिनों में कार्य पूरा कर दिया। A को कितनी धनराशि मिलेगी?

- Ans**
- 1. ₹7,500
 - 2. ₹10,000
 - 3. ₹9,000
 - 4. ₹5,192

Question ID : 65497829285
Status : Not Answered
Chosen Option : --

Q.8 निम्नलिखित व्यंजक का मान ज्ञात करें।

$$9 - 2 \times 2 \div 6 \text{ of } 3 + 3$$

- Ans
- 1. 1
 - 2. 10
 - 3. $\frac{7}{18}$
 - 4. $11\frac{7}{9}$

Question ID : 65497829289
Status : Answered
Chosen Option : 4

Q.9 यदि x का 16% = y का 24% है, तो x का 24% कितना है?

- Ans
- 1. y का 150%
 - 2. y का 40%
 - 3. y का 48%
 - 4. y का 36%

Question ID : 65497829284
Status : Answered
Chosen Option : 4

Q.10 ₹2,50,000 की धनराशि 12% वार्षिक चक्रवृद्धि ब्याज दर पर डेढ़ वर्ष के लिए निवेश की जाती है। अर्ध-वार्षिक रूप से चक्रवृद्धि होने और वार्षिक रूप से चक्रवृद्धि होने पर प्राप्त होने वाले मिश्रधनों में कितना अंतर होगा?

- Ans
- 1. ₹954
 - 2. ₹950
 - 3. ₹900
 - 4. ₹970

Question ID : 65497829280
Status : Not Answered
Chosen Option : --

Q.11 वह छोटी से छोटी संख्या जात करें, जिसे 8 और 14 से विभाजित करने पर शेषफल क्रमशः 5 और 11 प्राप्त होते हैं।

- Ans
- 1. 45
 - 2. 53
 - 3. 77
 - 4. 47

Question ID : 65497829292
Status : Answered
Chosen Option : 2

Q.12 यदि 25 पुरुष एक कार्य को 36 घंटे में पूरा कर सकते हैं, तो 12 पुरुष उसी कार्य को कितने घंटे में पूरा करेंगे?

- Ans
- 1. 65
 - 2. 50
 - 3. 49
 - 4. 75

Question ID : 65497829291
Status : Answered
Chosen Option : 4

Q.13 ₹18,400 की राशि को 6 पुरुषों, 13 महिलाओं और 6 लड़कों में इस प्रकार विभाजित कीजिए, कि एक पुरुष, एक महिला और एक लड़के के हिस्सों का अनुपात 5 : 4 : 3 हो। प्रत्येक लड़के को कितने रुपए मिलेंगे?

- Ans
- 1. ₹525
 - 2. ₹1,150
 - 3. ₹750
 - 4. ₹552

Question ID : 65497829301
Status : Answered
Chosen Option : 4

Q.14 किसी वस्तु को ₹68 में बेचने पर एक दुकानदार को 15% की हानि होती है। 20% का लाभ प्राप्त करने के लिए उसे वह वस्तु किस मूल्य पर बेचनी चाहिए?

- Ans
- 1. ₹90
 - 2. ₹95
 - 3. ₹92
 - 4. ₹96

Question ID : 65497829290
Status : Answered
Chosen Option : 4

Q.15 5 अंकों की वह बड़ी से बड़ी संख्या कौन सी है, जिसे 3, 5, 6 और 9 से विभाजित करने पर शेषफल क्रमशः 1, 3, 4 और 7 प्राप्त होता है?

- Ans
- 1. 99992
 - 2. 99990
 - 3. 99988
 - 4. 99999

Question ID : 65497829299
Status : Answered
Chosen Option : 3

Q.16 किसी परीक्षा में छात्रों के एक समूह के औसत प्राप्तांक 58 हैं। सबसे मेधावी 15% छात्रों के औसत प्राप्तांक 85 हैं और सबसे कमजोर 20% छात्रों के औसत प्राप्तांक 28 हैं। शेष छात्रों के औसत प्राप्तांक ज्ञात कीजिए।

- Ans
- 1. 35
 - 2. 43
 - 3. 61
 - 4. 72

Question ID : 65497829282
Status : Answered
Chosen Option : 3

Q.17 ₹3,596 की एक राशि को A, B और C के बीच $\frac{1}{6} : \frac{1}{8} : \frac{1}{9}$ के अनुपात में बाँटा जाता है। A और C के हिस्सों में कितना अंतर (₹ में) है?

- Ans
- 1. 620
 - 2. 434
 - 3. 496
 - 4. 372

Question ID : 65497829296
Status : Answered
Chosen Option : 3

Q.18 किसी वस्तु को ₹2,320 में बेचकर एक व्यक्ति 16% का लाभ प्राप्त करता है। यदि उसने इसे ₹2,100 में बेचा होता, तो उसको होने वाला लाभ या हानि प्रतिशत ज्ञात कीजिए।

- Ans
- 1. लाभ, 6%
 - 2. लाभ, 5%
 - 3. हानि, 5%
 - 4. हानि, 6%

Question ID : 65497829279
Status : Answered
Chosen Option : 2

Q.19 एक निश्चित धनराशि, समान वार्षिक साधारण ब्याज की दर पर, 4 वर्षों में ₹10,164 और $7\frac{1}{2}$ वर्षों में ₹12,320 हो जाती है। मूल धनराशि और ब्याज की दर क्रमशः कितनी हैं?

- Ans**
- 1. ₹7,800 और 8.5%
 - 2. ₹7,500 और 9%
 - 3. ₹8,000 और 7%
 - 4. ₹7,700 और 8%

Question ID : 65497829297
Status : Answered
Chosen Option : 4

Q.20 कोई दुकानदार प्रत्येक वस्तु पर 20% और 10% की क्रमिक छूट देता है। ₹500 के अंकित मूल्य वाली कोई वस्तु ग्राहकों के लिए कितने मूल्य पर उपलब्ध होगी?

- Ans**
- 1. ₹470
 - 2. ₹320
 - 3. ₹360
 - 4. ₹350

Question ID : 65497829283
Status : Answered
Chosen Option : 3

Q.21 उस समलंब चतुर्भुज की ऊँचाई कितनी होगी, जिसकी समांतर भुजाओं की लंबाइयों का योग 9.5 cm और क्षेत्रफल 57 cm² है?

- Ans**
- 1. 6 cm
 - 2. 5.8 cm
 - 3. 7.5 cm
 - 4. 12 cm

Question ID : 65497829288
Status : Answered
Chosen Option : 4

Q.22 एक सेल्समैन ने एक घड़ी को 15% हानि पर बेचा। यदि विक्रय मूल्य ₹150 अधिक होता, तो उसे 5% का लाभ होता। घड़ी का क्रय मूल्य कितना था?

- Ans**
- 1. ₹915
 - 2. ₹830
 - 3. ₹625
 - 4. ₹750

Question ID : 65497829294
Status : Answered
Chosen Option : 4

Q.23 एक दुकानदार एक वस्तु पर इतना मूल्य अंकित करता है कि अंकित मूल्य पर 15% की छूट देने के बाद भी उसे 19% का लाभ प्राप्त हो। हालांकि एक ग्राहक को उस वस्तु पर 15% के बजाय 18% की छूट दी गई, इस स्थिति में दुकानदार द्वारा अर्जित प्रतिशत लाभ कितना होगा?

- Ans
- 1. 14.5%
 - 2. 13.8%
 - 3. 14.8%
 - 4. 12.5%

Question ID : **65497829295**
Status : **Not Answered**
Chosen Option : --

Q.24 एक परीक्षा में उपस्थित होने वाले कुल छात्रों में 45% लड़कियां थीं। इस परीक्षा में 75% लड़के और 80% लड़कियां उत्तीर्ण हुईं और 144 लड़कियां अनुत्तीर्ण रहीं। अनुत्तीर्ण होने वाले लड़कों की संख्या कितनी थी?

- Ans
- 1. 180
 - 2. 210
 - 3. 240
 - 4. 220

Question ID : **65497829293**
Status : **Answered**
Chosen Option : 4

Q.25 यदि एक निश्चित धनराशि साधारण ब्याज की एक निश्चित दर पर 2 वर्षों और 3 वर्षों में क्रमशः ₹1,980 और ₹2,070 हो जाती है, तो वह धनराशि (₹ में) ज्ञात कीजिए।

- Ans
- 1. 1,840
 - 2. 1,850
 - 3. 1,750
 - 4. 1,800

Question ID : **65497829302**
Status : **Not Answered**
Chosen Option : --

Section : **Part D English**

Q.1 Select the most appropriate option to fill in the blank.

The car stopped _____ when the brakes were applied.

- Ans
- 1. boldly
 - 2. immediately
 - 3. faithfully
 - 4. obediently

Question ID : **65497829313**
Status : **Not Answered**
Chosen Option : --

Q.2 Select the most appropriate meaning of the given idiom.

Think on your feet

- Ans**
- 1. Be interested in trekking and running a race
 - 2. Stand up to be able to solve a problem
 - 3. Be ready to take up all the challenges that you face
 - 4. Adjust quickly to changes and make fast decisions

Question ID : **65497829312**
Status : **Not Answered**
Chosen Option : --

Q.3 Select the most appropriate synonym of the given word.

Adversary

- Ans**
- 1. Prudent
 - 2. Opponent
 - 3. Uniform
 - 4. Companion

Question ID : **65497829311**
Status : **Not Answered**
Chosen Option : --

Q.4 Select the **INCORRECTLY** spelt word.

- Ans**
- 1. People
 - 2. Render
 - 3. Togather
 - 4. Gnaw

Question ID : **65497829321**
Status : **Not Answered**
Chosen Option : --

Q.5 Select the most appropriate synonym of the given word.

Baffle

- Ans**
- 1. Simplify
 - 2. Clarify
 - 3. Confuse
 - 4. Distinguish

Question ID : **65497829317**
Status : **Not Answered**
Chosen Option : --

Q.6 The following sentence has been split into four segments. Identify the segment that contains a grammatical error.

I decided to / sang a song / in the interschool / song competition.

- Ans**
- 1. in the interschool
 - 2. song competition
 - 3. sang a song
 - 4. I decided to

Question ID : 65497829316
Status : Not Answered
Chosen Option : --

Q.7 Select the most appropriate option to fill in the blank.

But for his _____ they would have attacked each other.

- Ans**
- 1. oscillation
 - 2. intervention
 - 3. intermission
 - 4. exaggeration

Question ID : 65497829322
Status : Not Answered
Chosen Option : --

Q.8 Select the most appropriate option that can substitute the underlined word in the given sentence. If there is no need to substitute it, select 'No substitution required'.

They have been living here during ten years.

- Ans**
- 1. No substitution required
 - 2. by
 - 3. since
 - 4. for

Question ID : 65497829314
Status : Not Answered
Chosen Option : --

Q.9 Select the most appropriate ANTONYM of the given word.

Innocent

- Ans**
- 1. Cunning
 - 2. Harmless
 - 3. Honest
 - 4. Simple

Question ID : 65497829304
Status : Not Answered
Chosen Option : --

Q.10 Select the most appropriate option to fill in the blank.

We can _____ ourselves from the rain by wearing a raincoat.

- Ans
- 1. neglect
 - 2. care
 - 3. protect
 - 4. defend

Question ID : **65497829319**
Status : **Not Answered**
Chosen Option : --

Q.11 Select the most appropriate meaning of the given idiom.

Go through the roof

- Ans
- 1. Find a secret route
 - 2. Rise very high
 - 3. Be very happy
 - 4. Fall down flat

Question ID : **65497829320**
Status : **Not Answered**
Chosen Option : --

Q.12 Select the option that can be used as a one-word substitute for the given group of words.

A small ornament which hangs down especially from a necklace

- Ans
- 1. Pendant
 - 2. Ring
 - 3. Diamond
 - 4. Earring

Question ID : **65497829306**
Status : **Not Answered**
Chosen Option : --

Q.13 Select the option that can be used as a one-word substitute for the given group of words.

A list of books available in a library

- Ans
- 1. Catalogue
 - 2. Document
 - 3. Bibliography
 - 4. Register

Question ID : **65497829318**
Status : **Not Answered**
Chosen Option : --

Q.14 Select the **INCORRECTLY** spelt word.

- Ans 1. zealous
 2. joyous
 3. nervous
 4. furious

Question ID : **65497829307**
Status : **Not Answered**
Chosen Option : --

Q.15 Select the option that can be used as a one-word substitute for the given group of words.

Run after in order to catch or catch up with

- Ans 1. Race
 2. Sprint
 3. Rush
 4. Chase

Question ID : **65497829305**
Status : **Not Answered**
Chosen Option : --

Q.16 The following sentence has been divided into parts. One of them may contain an error. Select the part that contains the error from the given options. If you don't find any error, select 'No error' as your answer.

He walked so fastly / that I could not / keep pace with him.

- Ans 1. He walked so fastly
 2. keep pace with him
 3. No error
 4. that I could not

Question ID : **65497829303**
Status : **Not Answered**
Chosen Option : --

Q.17 Select the most appropriate **ANTONYM** of the given word.

Cautious

- Ans 1. Alert
 2. Vigilant
 3. Watchful
 4. Reckless

Question ID : **65497829308**
Status : **Not Answered**
Chosen Option : --

Q.18 Select the most appropriate option that can substitute the underlined word in the given sentence. If there is no need to substitute it, select 'No substitution required'.

Everybody were going to see the circus.

- Ans
- 1. are
 - 2. No substitution required
 - 3. has
 - 4. was

Question ID : 65497829315
Status : Not Answered
Chosen Option : --

Q.19 The following sentence has been split into four segments. Identify the segment that contains a grammatical error.

Had you not / been playing / with a ball / for morning?

- Ans
- 1. for morning
 - 2. with a ball
 - 3. been playing
 - 4. Had you not

Question ID : 65497829310
Status : Not Answered
Chosen Option : --

Q.20 Select the most appropriate option that can substitute the underlined segment in the given sentence. If there is no need to substitute it, select 'No substitution required'.

An educated lady makes a better mother than an uneducated lady, isn't it?

- Ans
- 1. does she
 - 2. No substitution required
 - 3. hasn't she
 - 4. doesn't she

Question ID : 65497829309
Status : Not Answered
Chosen Option : --

Comprehension:

In the following passage, some words have been deleted. Read the passage carefully and select the most appropriate option to fill in each blank.

King Priam of Troy was old and weak, but his son Hector was a (1) _____ and noble young man. Hector had sensed (2) _____ when his brother had brought Helen to Troy. He (3) _____ that he must fight for his family but (4) _____ the circumstances that had set hero against hero. The (5) _____ warriors on the Trojan side were Achilles, Aeneas and Agamemnon.

SubQuestion No : 21

Q.21 Select the most appropriate option to fill in blank no.1.

- Ans 1. feeble
 2. valiant
 3. meek
 4. timid

Question ID : **65497829324**
Status : **Not Answered**
Chosen Option : --

Comprehension:

In the following passage, some words have been deleted. Read the passage carefully and select the most appropriate option to fill in each blank.

King Priam of Troy was old and weak, but his son Hector was a (1) _____ and noble young man. Hector had sensed (2) _____ when his brother had brought Helen to Troy. He (3) _____ that he must fight for his family but (4) _____ the circumstances that had set hero against hero. The (5) _____ warriors on the Trojan side were Achilles, Aeneas and Agamemnon.

SubQuestion No : 22

Q.22 Select the most appropriate option to fill in blank no.2.

- Ans 1. limit
 2. danger
 3. warning
 4. climax

Question ID : **65497829325**
Status : **Not Answered**
Chosen Option : --

Comprehension:

In the following passage, some words have been deleted. Read the passage carefully and select the most appropriate option to fill in each blank.

King Priam of Troy was old and weak, but his son Hector was a (1) _____ and noble young man. Hector had sensed (2) _____ when his brother had brought Helen to Troy. He (3) _____ that he must fight for his family but (4) _____ the circumstances that had set hero against hero. The (5) _____ warriors on the Trojan side were Achilles, Aeneas and Agamemnon.

SubQuestion No : 23

Q.23 Select the most appropriate option to fill in blank no.3.

- Ans 1. was knowing
 2. knew
 3. knows
 4. know

Question ID : **65497829326**
Status : **Not Answered**
Chosen Option : --

Comprehension:

In the following passage, some words have been deleted. Read the passage carefully and select the most appropriate option to fill in each blank.

King Priam of Troy was old and weak, but his son Hector was a (1) _____ and noble young man. Hector had sensed (2) _____ when his brother had brought Helen to Troy. He (3) _____ that he must fight for his family but (4) _____ the circumstances that had set hero against hero. The (5) _____ warriors on the Trojan side were Achilles, Aeneas and Agamemnon.

SubQuestion No : 24

Q.24 Select the most appropriate option to fill in blank no.4.

- Ans 1. cried
 2. wept
 3. pined
 4. rued

Question ID : **65497829327**
Status : **Not Answered**
Chosen Option : --

Comprehension:

In the following passage, some words have been deleted. Read the passage carefully and select the most appropriate option to fill in each blank.

King Priam of Troy was old and weak, but his son Hector was a (1) _____ and noble young man. Hector had sensed (2) _____ when his brother had brought Helen to Troy. He (3) _____ that he must fight for his family but (4) _____ the circumstances that had set hero against hero. The (5) _____ warriors on the Trojan side were Achilles, Aeneas and Agamemnon.

SubQuestion No : 25

Q.25 Select the most appropriate option to fill in blank no.5.

- Ans 1. highest
 2. absolute
 3. principal
 4. maximum

Question ID : 65497829328
Status : Not Answered
Chosen Option : --

Section : Part D Hindi

Q.1 दिए गए वाक्य का वह भाग ज्ञात करें जिसमें कोई त्रुटि है। यदि कोई त्रुटि नहीं है, तो 'कोई त्रुटि नहीं है' चुनें।

इस विषय की (1)/ एक भी (2)/ पुस्तकें नहीं हैं। (3)/ कोई त्रुटि नहीं है (4)

- Ans 1. 1
 2. 4
 3. 2
 4. 3

Question ID : 65497829329
Status : Answered
Chosen Option : 4

Q.2 रिक्त स्थान की पूर्ति के लिए सबसे उपयुक्त शब्द का चयन कीजिए।

बुद्धिजीवी वर्ग को वनों और जानवरों के _____ पर ध्यान देना चाहिए।

- Ans 1. पर्यावरण
 2. व्यवस्थापन
 3. संरक्षण
 4. निरीक्षण

Question ID : 65497829339
Status : Answered
Chosen Option : 3

Q.3 'जिसके हाथ में वीणा है' - वाक्यांश के लिए एक शब्द का चयन कीजिए।

- Ans
- 1. ब्रजपाणि
 - 2. चक्रपाणि
 - 3. वैष्णवी
 - 4. सरस्वती

Question ID : 65497829338
Status : Answered
Chosen Option : 4

Q.4 'अतीत' का समानार्थी शब्द कौनसा है?

- Ans
- 1. अधिक
 - 2. अतिरेक
 - 3. विगत
 - 4. आगत

Question ID : 65497829330
Status : Answered
Chosen Option : 3

Q.5 दिये गये वाक्य में रेखांकित अंश को प्रतिस्थापित करने के लिए सबसे उपयुक्त विकल्प का चयन करें।

आयोग की रिपोर्ट सरकार के समक्ष समर्पित की गई।

- Ans
- 1. अर्पित
 - 2. जारी
 - 3. प्रस्तुत
 - 4. लोकार्पित

Question ID : 65497829346
Status : Answered
Chosen Option : 3

Q.6 निम्न में से कौनसा विलोम-युग्म सही नहीं है?

- Ans
- 1. क्रय-विक्रय
 - 2. एकत्र-विकीर्ण
 - 3. जेय-अजेय
 - 4. आहार-विहार

Question ID : 65497829331
Status : Answered
Chosen Option : 3

Q.7 दिए गए वाक्य में रेखांकित खंड को प्रतिस्थापित करने के लिए सबसे उपयुक्त विकल्प का चयन करें। यदि इसे प्रतिस्थापित करने की आवश्यकता नहीं है, तो विकल्प 'किसी बदलाव की आवश्यकता नहीं है' का चयन करें।

तुम्हारा पालन पोषण कौन किया?

- Ans
- 1. किसने किया?
 - 2. किसने की?
 - 3. कौन की?
 - 4. किसी बदलाव की आवश्यकता नहीं है

Question ID : 65497829334
Status : Answered
Chosen Option : 1

Q.8 दिए गए वाक्य का वह भाग ज्ञात करें जिसमें कोई त्रुटि है। यदि कोई त्रुटि नहीं है, तो 'कोई त्रुटि नहीं है' चुनें।

स्वार्थी लोग बहती गंगा में हाथ डालने की इच्छा रखते हैं।

- Ans
- 1. हाथ डालने की
 - 2. स्वार्थी लोग बहती गंगा में
 - 3. इच्छा रखते हैं।
 - 4. कोई त्रुटि नहीं है।

Question ID : 65497829342
Status : Answered
Chosen Option : 1

Q.9 दिए गए वाक्य का वह भाग ज्ञात करें जिसमें कोई त्रुटि है। यदि कोई त्रुटि नहीं है, तो 'कोई त्रुटि नहीं है' चुनें।

मनुष्य इसलिए (1)/ परिश्रम करता है ताकि उसे (2)/ अपना पेट पालना है। (3)/ कोई त्रुटि नहीं है (4)

- Ans
- 1. 1
 - 2. 2
 - 3. 3
 - 4. 4

Question ID : 65497829335
Status : Not Attempted and Marked For Review
Chosen Option : --

Q.10 निम्नलिखित में से शुद्ध वर्तनी वाला शब्द कौन सा है?

- Ans
- 1. लालायित
 - 2. ललायित
 - 3. लालायीत
 - 4. ललायीत

Question ID : 65497829347
Status : Answered
Chosen Option : 1

Q.11 'सुमति' शब्द का विलोम शब्द कौनसा है?

- Ans 1. कुमति
 2. अमति
 3. विमति
 4. निर्मिति

Question ID : 65497829336
Status : Answered
Chosen Option : 1

Q.12 निम्नलिखित में से शुद्ध वर्तनी वाला शब्द कौन सा है?

- Ans 1. निमीलित
 2. नीमीलित
 3. निमीलीत
 4. निमिलित

Question ID : 65497829348
Status : Answered
Chosen Option : 3

Q.13 दिये गये वाक्यांश के लिए एक शब्द दीजिये।

पहाड़ का निचला भाग

- Ans 1. अधित्यका
 2. औरस
 3. पहाड़ी
 4. उपत्यका

Question ID : 65497829341
Status : Answered
Chosen Option : 4

Q.14 'पानी का बुलबुला होना' मुहावरे का सही अर्थ है-

- Ans 1. भयभीत होना
 2. क्षणभंगुर होना
 3. हर्षित होना
 4. दुखी होना

Question ID : 65497829344
Status : Answered
Chosen Option : 2

Q.15 दिये गये वाक्यांश के लिए एक सार्थक शब्द का चयन कीजिए।

जिसे सारी बातों का ज्ञान हो

- Ans
- 1. बहुज्ञ
 - 2. मर्मज्ञ
 - 3. सर्वज्ञ
 - 4. विशेषज्ञ

Question ID : 65497829337
Status : Answered
Chosen Option : 3

Q.16 'काले तिल चबाना' मुहावरे का अर्थ है-

- Ans
- 1. पराधीन होना
 - 2. जलावतन करना
 - 3. गुस्सा होना
 - 4. दीर्घायु होना

Question ID : 65497829332
Status : Answered
Chosen Option : 3

Q.17 रिक्त स्थान की पूर्ति के लिए सबसे उपयुक्त शब्द का चयन कीजिए।

सौ _____ के टिकट चोरी हुए।

- Ans
- 1. रूपयों
 - 2. रूपयों
 - 3. रुपये
 - 4. रूपये

Question ID : 65497829333
Status : Answered
Chosen Option : 3

Q.18 दिए गए शब्द के सर्वाधिक उपयुक्त समानार्थी शब्द का चयन करें -

अंबर

- Ans
- 1. पीतांबर
 - 2. व्योम
 - 3. नीलांबर
 - 4. सोम

Question ID : 65497829343
Status : Answered
Chosen Option : 2

Q.19 रिक्त स्थान की पूर्ति के लिए सबसे उपयुक्त विकल्प का चयन करें।

रवि के जन्म दिन पर दोस्तों ने उसे एक एल्बम _____ में दिया।

- Ans
- 1. अनुदान
 - 2. दान
 - 3. भेंट
 - 4. उपहार

Question ID : 65497829345
Status : Answered
Chosen Option : 4

Q.20 दिए गए वाक्य में रेखांकित खंड को प्रतिस्थापित करने के लिए सबसे उपयुक्त विकल्प का चयन करें।
यदि इसे प्रतिस्थापित करने की आवश्यकता नहीं है, तो विकल्प 'किसी बदलाव की आवश्यकता नहीं है'
का चयन करें।

मकान मालिक ने किरायेदारों को अपने घर से हटाया।

- Ans
- 1. अपने घर से निकाला
 - 2. अपने घर से दौड़ाया
 - 3. अपने घर से भगाया
 - 4. किसी बदलाव की आवश्यकता नहीं है।

Question ID : 65497829340
Status : Answered
Chosen Option : 1

Comprehension:

दिए गए गद्यांश में से कुछ शब्द हटा दिए गए हैं। दिए गए विकल्पों की सहायता से प्रत्येक संख्या के लिए सबसे उपयुक्त विकल्प का चयन कीजिए।

(1) _____ को लोगों ने धोखे की दुकान बना रखा है, वे उसकी आड़ में स्वार्थ सिद्धि करते हैं। बात यह है कि लोग धर्म को छोड़कर (2) _____ के जाल में फंस जाते हैं। सम्प्रदाय की आड़ में बाह्य कृत्यों पर जोर देते हैं। वे (3) _____ को अपनाकर धर्म के (4) _____ को मसल देते हैं। धर्म मनुष्य को (5) _____ बनता है, उसके हृदय के बंद द्वार को खोलता है।

SubQuestion No : 21

Q.21 गद्यांश के रिक्त स्थान (1) के लिए सर्वाधिक उपयुक्त शब्द होगा-

- Ans
- 1. खेल
 - 2. शिक्षा
 - 3. धर्म
 - 4. राजनीति

Question ID : 65497829350
Status : Answered
Chosen Option : 3

Comprehension:

दिए गए गद्यांश में से कुछ शब्द हटा दिए गए हैं। दिए गए विकल्पों की सहायता से प्रत्येक संख्या के लिए सबसे उपयुक्त विकल्प का चयन कीजिए।

(1) _____ को लोगों ने धोखे की दुकान बना रखा है, वे उसकी आड़ में स्वार्थ सिद्धि करते हैं। बात यह है कि लोग धर्म को छोड़कर (2) _____ के जाल में फंस जाते हैं। सम्प्रदाय की आड़ में बाह्य कृत्यों पर जोर देते हैं। वे (3) _____ को अपनाकर धर्म के (4) _____ को मसल देते हैं। धर्म मनुष्य को (5) _____ बनता है, उसके हृदय के बंद द्वार को खोलता है।

SubQuestion No : 22

Q.22 गद्यांश के रिक्त स्थान (2) के लिए सर्वाधिक उपयुक्त शब्द होगा-

- Ans**
- 1. समाजसेवा
 - 2. दुर्बोध
 - 3. सम्प्रदाय
 - 4. पंचतंत्र

Question ID : 65497829351
Status : Answered
Chosen Option : 3

Comprehension:

दिए गए गद्यांश में से कुछ शब्द हटा दिए गए हैं। दिए गए विकल्पों की सहायता से प्रत्येक संख्या के लिए सबसे उपयुक्त विकल्प का चयन कीजिए।

(1) _____ को लोगों ने धोखे की दुकान बना रखा है, वे उसकी आड़ में स्वार्थ सिद्धि करते हैं। बात यह है कि लोग धर्म को छोड़कर (2) _____ के जाल में फंस जाते हैं। सम्प्रदाय की आड़ में बाह्य कृत्यों पर जोर देते हैं। वे (3) _____ को अपनाकर धर्म के (4) _____ को मसल देते हैं। धर्म मनुष्य को (5) _____ बनता है, उसके हृदय के बंद द्वार को खोलता है।

SubQuestion No : 23

Q.23 गद्यांश के रिक्त स्थान (3) के लिए सर्वाधिक उपयुक्त शब्द होगा-

- Ans**
- 1. उपदेश
 - 2. चिह्न
 - 3. संदेश
 - 4. धर्म

Question ID : 65497829352
Status : Answered
Chosen Option : 3

Comprehension:

दिए गए गद्यांश में से कुछ शब्द हटा दिए गए हैं। दिए गए विकल्पों की सहायता से प्रत्येक संख्या के लिए सबसे उपयुक्त विकल्प का चयन कीजिए।

(1) _____ को लोगों ने धोखे की दुकान बना रखा है, वे उसकी आड़ में स्वार्थ सिद्धि करते हैं। बात यह है कि लोग धर्म को छोड़कर (2) _____ के जाल में फंस जाते हैं। सम्प्रदाय की आड़ में बाह्य कृत्यों पर जोर देते हैं। वे (3) _____ को अपनाकर धर्म के (4) _____ को मसल देते हैं। धर्म मनुष्य को (5) _____ बनता है, उसके हृदय के बंद द्वार को खोलता है।

SubQuestion No : 24

Q.24 गद्यांश के रिक्त स्थान (4) के लिए सर्वाधिक उपयुक्त शब्द होगा-

- Ans**
- 1. सूचना
 - 2. आदेश
 - 3. प्रतीक
 - 4. सार तत्व

Question ID : 65497829353

Status : Answered

Chosen Option : 4

Comprehension:

दिए गए गद्यांश में से कुछ शब्द हटा दिए गए हैं। दिए गए विकल्पों की सहायता से प्रत्येक संख्या के लिए सबसे उपयुक्त विकल्प का चयन कीजिए।

(1) _____ को लोगों ने धोखे की दुकान बना रखा है, वे उसकी आड़ में स्वार्थ सिद्धि करते हैं। बात यह है कि लोग धर्म को छोड़कर (2) _____ के जाल में फंस जाते हैं। सम्प्रदाय की आड़ में बाह्य कृत्यों पर जोर देते हैं। वे (3) _____ को अपनाकर धर्म के (4) _____ को मसल देते हैं। धर्म मनुष्य को (5) _____ बनता है, उसके हृदय के बंद द्वार को खोलता है।

SubQuestion No : 25

Q.25 गद्यांश के रिक्त स्थान (5) के लिए सर्वाधिक उपयुक्त शब्द होगा-

- Ans**
- 1. बहिर्मुखी
 - 2. अन्तर्मुखी
 - 3. लोकप्रिय
 - 4. चिंतक

Question ID : 65497829354

Status : Answered

Chosen Option : 4