

Constable GD in CAPFs NIA SSF and Rifleman GD in Assam Rifles Examination 2021

Roll Number	www.GovtJobsAlert.In
Candidate Name	www.GovtJobsAlert.In
Venue Name	CLM Resources and Management
Exam Date	16/11/2021
Exam Time :	4:00 PM - 5:30 PM
Subject	Constable GD 2021

Section : Part A General Intelligence and Reasoning

Q.1 दिए गए संयोजन के सही दर्पण प्रतिबिंब का चयन कीजिए, जबकि दर्पण को इसकी दाईं ओर रखा गया है।

4 2 5 3 e f

Ans

- ✓ 1. 4 2 5 3 e f
- ✗ 2. 4 2 5 3 e f
- ✗ 3. 4 2 5 3 e f
- ✗ 4. 4 2 5 3 e f

Question ID : 65497828871
Status : Answered
Chosen Option : 2

Q.2 'क्रिकेट' का 'LBW' से वही संबंध है, जो 'शतरंज' का '_____' से है।

Ans

- ✓ 1. चेकमेट
- ✗ 2. बैकस्ट्रोक
- ✗ 3. ऊस
- ✗ 4. हिट विकेट

Question ID : 65497828860
Status : Answered
Chosen Option : 3

Q.3 दिए गए विकल्पों में से उस संख्या का चयन कीजिए, जो निम्नलिखित श्रेणी में प्रश्नवाचक चिह्न (?) के स्थान पर आ सकती है।

14, 15, 24, 49, 98, 179, ?

Ans

- ✗ 1. 312
- ✓ 2. 300
- ✗ 3. 340
- ✗ 4. 290

Question ID : 65497828870
Status : Answered
Chosen Option : 4

Q.4 दिए गए कथनों और निष्कर्षों को ध्यानपूर्वक पढ़ें। कथनों में दी गई जानकारी को सत्य मानते हुए विचार करें, भले ही वह सामान्यतः ज्ञात तथ्यों से भिन्न प्रतीत होती हो, और तय करें कि दिए गए निष्कर्षों में से कौन से कथनों का तार्किक रूप से पालन करते हैं?

कथन:

कोई लड़का इंजीनियर नहीं है।
कोई इंजीनियर डाइवर नहीं है।
सभी लड़कियां लड़के हैं।

निष्कर्ष:

I. सभी लड़के डाइवर हैं।
II. कोई लड़की इंजीनियर नहीं है।

- Ans 1. निष्कर्ष I और II दोनों ही पालन करते हैं।
 2. केवल निष्कर्ष II पालन करता है।
 3. या तो निष्कर्ष I या II पालन करता है।
 4. केवल निष्कर्ष I पालन करता है।

Question ID : 65497828863
Status : Answered
Chosen Option : 2

Q.5 एक निश्चित कूट भाषा में, ALARMING को 150 लिखा जाता है। उसी कूट भाषा में FLOATER को किस प्रकार लिखा जाएगा?

- Ans 1. 156
 2. 141
 3. 154
 4. 124

Question ID : 65497828869
Status : Answered
Chosen Option : 2

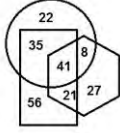
Q.6 उस विकल्प का चयन करें, जिसमें दी गई संख्याओं के बीच वही संबंध है, जो दिए गए समूह की संख्याओं के बीच है।

11, 4, 137

- Ans 1. 9, 8, 145
 2. 12, 7, 190
 3. 10, 5, 148
 4. 15, 14, 205

Question ID : 65497828864
Status : Answered
Chosen Option : 1

Q.7 निम्नलिखित आरेख में, 'षट्भुज', 'इंजीनियरों' को निरूपित करता है, 'वृत्त', 'संगीत-प्रेमियों' को निरूपित करता है, और 'आयत', 'मॉनिंग-वाँकरों' को निरूपित करता है। विभिन्न खंडों में दी गई संख्याएँ, उस श्रेणी से संबंधित व्यक्तियों की संख्या को दर्शाती हैं।



कितने मॉनिंग-वाँकर, संगीत प्रेमी हैं, लेकिन इंजीनियर नहीं हैं?

- Ans
- 1. 35
 - 2. 8
 - 3. 41
 - 4. 21

Question ID : 65497828867
Status : Answered
Chosen Option : 1

Q.8 एक निश्चित कूट भाषा में MORSEL को LESROM लिखा जाता है। उसी कूट भाषा में GATEWAY को किस प्रकार लिखा जाएगा?

- Ans
- 1. YAWATEG
 - 2. YAWTEAG
 - 3. AWYETAG
 - 4. YAWETAG

Question ID : 65497828861
Status : Answered
Chosen Option : 4

Q.9 यदि 21 मार्च 2007 को बुधवार है, तो 25 मई 2015 को सप्ताह का कौन सा दिन होगा?

- Ans
- 1. बुधवार
 - 2. मंगलवार
 - 3. रविवार
 - 4. सोमवार

Question ID : 65497828865
Status : Answered
Chosen Option : 1

Q.10 एक ही पासे की तीन अलग-अलग स्थितियां दिखाई गई हैं। प्रतीक '&' वाले फलक के विपरीत वाले फलक पर कौन-सी संख्या होगी / कौन-सा प्रतीक होगा?



- Ans**
- 1. \$
 - 2. 9
 - 3. %
 - 4. #

Question ID : 65497828853
Status : Answered
Chosen Option : 1

Q.11 (i) अनुपमा, भाव्या, चहल, दिलीप, सौरभ, वरुण और गोविंद, एक वृत्ताकार व्यवस्था में केंद्र की ओर मुख करके बैठे हैं और ताश खेल रहे हैं।
(ii) सौरभ अनुपमा और दिलीप के बगल में बैठा है।
(iii) गोविंद, वरुण और चहल के बीच में नहीं बैठा है।
(iv) वरुण, अनुपमा के दाईं ओर ठीक बगल में बैठा है।
व्यक्तियों का इनमें से कौन सा युग्म एक दूसरे के बगल में नहीं बैठा है?

- Ans**
- 1. दिलीप, सौरभ
 - 2. भाव्या, अनुपमा
 - 3. चहल, भाव्या
 - 4. गोविंद, दिलीप

Question ID : 65497828850
Status : Answered
Chosen Option : 1

Q.12 दिए गए विकल्पों में से उस आकृति का चयन करें, जो निम्नांकित आकृति में प्रश्नवाचक चिह्न (?) के स्थान पर आ सकती है, और पैटर्न को पूरा कर सकती है (घुमाने की अनुमति नहीं है)।



- Ans**
- 1.
 - 2.
 - 3.
 - 4.

Question ID : 65497828858
Status : Answered
Chosen Option : 2

Q.13 उस विकल्प का चयन करें, जो दिए गए शब्दों के उस क्रम को दर्शाता है, जिस क्रम में ये शब्द अंग्रेजी शब्दकोश में मौजूद होते हैं।

1. Pitted
2. Pivot
3. Pixie
4. Pivotal
5. Pity

- Ans
- 1. 1, 2, 3, 4, 5
 - 2. 2, 1, 4, 5, 3
 - 3. 1, 5, 4, 2, 3
 - 4. 1, 5, 2, 4, 3

Question ID : 65497828855
Status : Answered
Chosen Option : 1

Q.14 सीमा ने एक फोटो की ओर इशारा करते हुए मुझसे कहा, "वह तुम्हारे पिता का पुत्र है।" फोटो में मौजूद व्यक्ति का मेरे साथ क्या संबंध है?

- Ans
- 1. पिताजी
 - 2. भाई
 - 3. चाचा/ताऊ/फूफा/मामा/मौसा
 - 4. दादा/नाना

Question ID : 65497828849
Status : Answered
Chosen Option : 2

Q.15 अक्षरों के उस संयोजन का चयन करें, जिसे दी गई श्रृंखला के रिक्त स्थानों में क्रमवार रखे जाने पर श्रृंखला पूर्ण हो जाएगी।

D _ _ S H T _ _ R I S H _ _ D R I _ _ T I D R I S _ _ I

- Ans
- 1. RIIDTISHHT
 - 2. RITIDTSHHT
 - 3. RDIITISHHT
 - 4. RDIISHTIHT

Question ID : 65497828856
Status : Answered
Chosen Option : 3

Q.16 यदि 'A' का अर्थ 'जोड़ना' है, 'B' का अर्थ 'गुणा' है, 'C' का अर्थ 'घटाना' है, और 'D' का अर्थ 'भाग' है, तो निम्नलिखित व्यंजक का मान क्या होगा?

60 D 2 A 3 B 6 C 5 C (4 B 3)

- Ans
- 1. 41
 - 2. 35
 - 3. 45
 - 4. 31

Question ID : 65497828852
Status : Answered
Chosen Option : 4

Q.17 दिए गए विकल्पों में से उस संख्या का चयन करें, जो निम्नलिखित श्रेणी में प्रश्नवाचक चिह्न (?) के स्थान पर आ सकती है।

209, 205, 196, 180, ?, 119

Ans 1. 165

2. 155

3. 149

4. 160

Question ID : 65497828857

Status : Answered

Chosen Option : 4

Q.18 किसी कूट भाषा में, APRIL को $\alpha\beta\gamma\delta$ और MARCH को $\epsilon\zeta\eta\theta$ लिखा जाता है। उसी कूट भाषा में PARAM को किस प्रकार लिखा जाएगा?

Ans 1. $\beta\gamma\delta\epsilon$

2. $\alpha\beta\gamma\delta$

3. $\delta\gamma\beta\alpha$

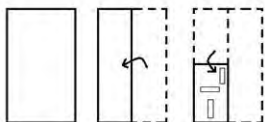
4. $\alpha\beta\gamma\delta$

Question ID : 65497828848

Status : Answered

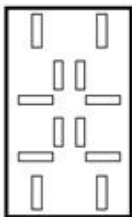
Chosen Option : 2

Q.19 कागज के एक टुकड़े को मोड़ने के क्रम और मुड़े हुए कागज को काटने के तरीके को निम्नलिखित आकृतियों में दर्शाया गया है। खोलने पर, यह कागज कैसा दिखाई देगा?

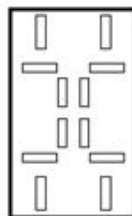


Ans

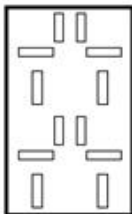
1.



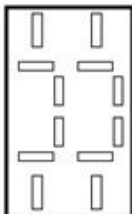
2.



3.



4.



Question ID : 65497828866

Status : Answered

Chosen Option : 1

Q.20 उस विकल्प का चयन करें, जिसका तीसरे अक्षर-समूह से वही संबंध है, जो दूसरे अक्षर-समूह का पहले अक्षर-समूह से है।

HOST : FMQR :: DRON : ?

Ans

1. BMPL

2. BPML

3. BLMP

4. BPLM

Question ID : 65497828847

Status : Answered

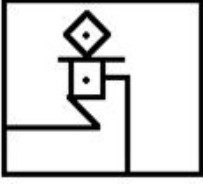
Chosen Option : 2

Q.21 उस विकल्प का चयन करें जिसमें दी गई आकृति सन्निहित है (आकृति को घुमाने की अनुमति नहीं है)।

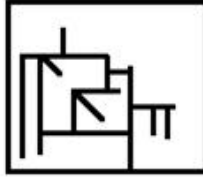


Ans

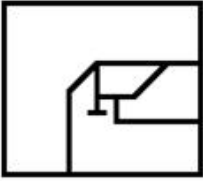
✗ 1.



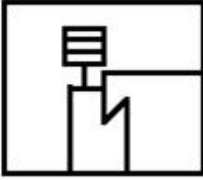
✓ 2.



✗ 3.



✗ 4.



Question ID : 65497828854

Status : Answered

Chosen Option : 1

Q.22 दिए गए विकल्पों में से उस अक्षर-समूह का चयन करें, जो निम्नलिखित श्रृंखला में प्रश्नवाचक चिह्न (?) के स्थान पर आ सकता है।

DOK, ENL, FMM, GLN, ?

Ans

✓ 1. HKO

✗ 2. GHP

✗ 3. GLO

✗ 4. HLP

Question ID : 65497828859

Status : Answered

Chosen Option : 1

Q.23 चार अक्षर-समूह दिए गए हैं, जिनमें से तीन किसी तरह से संगत हैं और एक असंगत है। उस अक्षर-समूह का चयन करें, जो अन्य से असंगत है।

- Ans 1. AEU
 2. IOU
 3. ZDK
 4. AEI

Question ID : 65497828868
Status : Answered
Chosen Option : 4

Q.24 उस विकल्प का चयन कीजिए, जिसका तीसरी संख्या से वही संबंध है, जो दूसरी संख्या का पहली संख्या से है; और छठी संख्या का पांचवीं संख्या से है।

16 : 120 :: 18 : ? :: 22 : 231

- Ans 1. 513
 2. 531
 3. 153
 4. 134

Question ID : 65497828851
Status : Answered
Chosen Option : 3

Q.25 छह लड़कियां A, B, C, D, E और F दो ऊर्ध्वाधर पंक्तियों में खड़ी हैं; सभी लड़कियों का मुख उत्तर दिशा की ओर है। प्रत्येक पंक्ति में तीन लड़कियां हैं। E, D के ठीक पीछे है। F, A के बाईं ओर है। C, B के ठीक आगे है। A, D के ठीक आगे है। कौन सी दो लड़कियां पंक्तियों के अंतिम स्थानों पर खड़ी हैं?

- Ans 1. A, B
 2. A, F
 3. C, E
 4. B, E

Question ID : 65497828862
Status : Answered
Chosen Option : 2

Section : Part B General Knowledge and General Awareness

Q.1 बॉम्बे में पहली सूती कपड़ा मिल की स्थापना किस वर्ष की गई थी?

- Ans 1. 1876
 2. 1867
 3. 1854
 4. 1845

Question ID : 65497828873
Status : Answered
Chosen Option : 4

Q.2 निम्नलिखित में से किस राज्य में अबोर पहाड़ियाँ स्थित हैं?

- Ans
- 1. पश्चिम बंगाल
 - 2. असम
 - 3. सिक्किम
 - 4. अरुणाचल प्रदेश

Question ID : 65497828878
Status : Answered
Chosen Option : 2

Q.3 गणेश चतुर्थी का धार्मिक त्योहार विशेष रूप से निम्नलिखित में से किस राज्य से संबंधित है?

- Ans
- 1. उत्तर प्रदेश
 - 2. पंजाब
 - 3. हरियाणा
 - 4. महाराष्ट्र

Question ID : 65497828879
Status : Answered
Chosen Option : 1

Q.4 भारत की 2011 की जनगणना के अनुसार, देश में _____ सांविधिक कस्बे हैं।

- Ans
- 1. 10,756
 - 2. 7,935
 - 3. 1,362
 - 4. 4,041

Question ID : 65497828891
Status : Answered
Chosen Option : 1

Q.5 तलाजा गुफाएं (Talaja Caves) _____ राज्य में स्थित हैं।

- Ans
- 1. महाराष्ट्र
 - 2. मध्य प्रदेश
 - 3. आंध्र प्रदेश
 - 4. गुजरात

Question ID : 65497828890
Status : Answered
Chosen Option : 1

Q.6 11 जुलाई को प्रत्येक वर्ष _____ के रूप में मनाया जाता है।

- Ans
- 1. विश्व जनसंख्या दिवस
 - 2. विश्व पर्यावरण दिवस
 - 3. विश्व स्वास्थ्य दिवस
 - 4. विश्व जल दिवस

Question ID : 65497828894
Status : Answered
Chosen Option : 1

Q.7 प्रधान मंत्री नरेंद्र मोदी ने तीन घटनाओं के स्मरणोत्सव के सिलसिले में मार्च 2021 में बांग्लादेश का दौरा किया। निम्नलिखित में से कौन सी उनमें से एक नहीं है?

- Ans
- 1. भारत और बांग्लादेश के बीच राजनयिक संबंधों की स्थापना के 50 वर्ष
 - 2. शेख मुजीबुर्रहमान की जन्म शतवार्षिकी
 - 3. भारत-बांग्लादेश भूमि सीमा समझौते (LBA) पर हस्ताक्षर के 10 वर्ष
 - 4. बांग्लादेश के स्वतंत्रता संग्राम के 50 वर्ष

Question ID : 65497828889

Status : Answered

Chosen Option : 3

Q.8 संविधान (52वां संशोधन) अधिनियम, 1985 द्वारा जोड़ी गई भारतीय संविधान की _____ अनुसूची, दल-बदल के आधार पर, किसी व्यक्ति की संसद के किसी भी सदन या राज्य की विधान सभा या विधान परिषद के सदस्य होने से अयोग्यता से संबंधित है।

- Ans
- 1. तीसरी
 - 2. दसवीं
 - 3. छठी
 - 4. पाँचवीं

Question ID : 65497828874

Status : Answered

Chosen Option : 4

Q.9 निम्नलिखित में से कौन सा वनों की कटाई का परिणाम नहीं है?

- Ans
- 1. प्रकृति के समग्र संतुलन में गड़बड़ी
 - 2. पृथ्वी पर प्रदूषण के स्तर में वृद्धि
 - 3. वायुमंडल में ऑक्सीजन के स्तर में वृद्धि
 - 4. भूजल के स्तर में कमी

Question ID : 65497828881

Status : Answered

Chosen Option : 2

Q.10 महान फुटबॉल खिलाड़ी डिएगो माराडोना का नवंबर 2020 में निधन हो गया। उन्होंने निम्नलिखित में से किस देश का प्रतिनिधित्व किया था?

- Ans
- 1. फ्रांस
 - 2. स्पेन
 - 3. अर्जेंटीना
 - 4. ब्राज़ील

Question ID : 65497828876

Status : Answered

Chosen Option : 3

Q.11 निम्नलिखित में से कौन एक भारतीय बैडमिंटन खिलाड़ी है?

- Ans
- 1. आशीष कुमार
 - 2. सतीश कुमार
 - 3. विकास कृष्ण
 - 4. B साई प्रणीत

Question ID : 65497828893
Status : Answered
Chosen Option : 3

Q.12 शरीयतुल्ला खान अंग्रेजों के खिलाफ _____ का हिस्सा थे।

- Ans
- 1. फराजी आंदोलन
 - 2. सन्यासी विद्रोह
 - 3. वहाबी आंदोलन
 - 4. फ़क़ीर विद्रोह

Question ID : 65497828887
Status : Answered
Chosen Option : 3

Q.13 अक्टूबर 2020 में, विश्व बैंक ने वित्त वर्ष 2020-21 में भारत के सकल घरेलू उत्पाद (GDP) में कितने प्रतिशत के संकुचन की उम्मीद की है?

- Ans
- 1. 9
 - 2. 9.8
 - 3. 9.5
 - 4. 9.6

Question ID : 65497828877
Status : Answered
Chosen Option : 2

Q.14 सितंबर 2021 तक प्राप्त जानकारी के अनुसार, भारत ने 1960 में पैरालंपिक खेलों की शुरुआत के बाद से अब तक इसमें _____ पदक जीते हैं।

- Ans
- 1. 9 स्वर्ण, 12 रजत और 10 कांस्य
 - 2. 7 स्वर्ण, 9 रजत और 11 कांस्य
 - 3. 9 स्वर्ण, 10 रजत और 12 कांस्य
 - 4. 7 स्वर्ण, 11 रजत और 9 कांस्य

Question ID : 65497828895
Status : Answered
Chosen Option : 3

Q.15 निम्नलिखित में से कौन इब्राहिम लोदी को पराजित करने के बाद पहला मुगल सम्राट बना?

- Ans
- 1. नादिर शाह
 - 2. शाहजहां
 - 3. औरंगज़ेब
 - 4. बाबर

Question ID : 65497828872
Status : Answered
Chosen Option : 4

Q.16 नवंबर 2020 में, ट्विटर ने विश्वस्तर पर ' _____ ' नामक ऐसे ट्वीट्स की शुरुआत की ,जो 24 घंटे में गायब हो जाते हैं।

- Ans
- 1. ग्रीट्स
 - 2. फ्लीट्स
 - 3. ब्लीट्स
 - 4. मीट्स

Question ID : 65497828885
Status : Answered
Chosen Option : 1

Q.17 पीने के लिए शुद्ध और उपयुक्त जल को _____ के रूप में जाना जाता है।

- Ans
- 1. तनुकृत जल
 - 2. सुवाह्य जल
 - 3. पेय जल
 - 4. नदी जल

Question ID : 65497828880
Status : Answered
Chosen Option : 3

Q.18 अभिनेत्री कंगना रनौत ने _____ नामक फिल्मों के लिए 67वें राष्ट्रीय फिल्म पुरस्कार, 2019 में 'सर्वश्रेष्ठ अभिनेत्री' का पुरस्कार जीता।

- Ans
- 1. 'पंगा' और 'जजमेंटल है क्या'
 - 2. 'जजमेंटल है क्या' औ 'मणिकर्णिका: द क्वीन ऑफ झांसी'
 - 3. 'मणिकर्णिका: द क्वीन ऑफ झांसी' और 'पंगा'
 - 4. 'जजमेंटल है क्या' और 'सिमरन'

Question ID : 65497828892
Status : Answered
Chosen Option : 2

Q.19 इंपीरियल बैंक ऑफ इंडिया की स्थापना कब हुई थी?

- Ans
- 1. 1948
 - 2. 1919
 - 3. 1947
 - 4. 1921

Question ID : 65497828886
Status : Answered
Chosen Option : 2

Q.20 निम्न में से कौन सा बैंक फॉर्च्यून ग्लोबल 500 सूची 2021 में शामिल है?

- Ans
- 1. भारतीय स्टेट बैंक
 - 2. आईसीआईसीआई (ICICI) बैंक
 - 3. बैंक ऑफ बड़ौदा
 - 4. एचडीएफसी (HDFC) बैंक

Question ID : 65497828896
Status : Answered
Chosen Option : 3

Q.21 मीर जाफ़र को वर्ष _____ में पुनः बंगाल के नवाब के रूप में प्रतिष्ठित किया गया था।

- Ans
- 1. 1746
 - 2. 1674
 - 3. 1647
 - 4. 1764

Question ID : 65497828884
Status : Answered
Chosen Option : 1

Q.22 मेगा फूड पार्क योजना का लक्ष्य, संग्रह केंद्रों और प्राथमिक प्रसंस्करण केंद्रों के नेटवर्क के माध्यम से खेत से प्रसंस्करण और फिर उपभोक्ता बाजारों तक सीधे जुड़ाव वाली एक प्रणाली प्रदान करना है। नवंबर 2020 में, नरेंद्र सिंह तोमर ने इनमें से किस राज्य में मेगा फूड पार्क का आभासी (वर्चुअल) उद्घाटन किया?

- Ans
- 1. राजस्थान
 - 2. पंजाब
 - 3. गुजरात
 - 4. ओडिशा

Question ID : 65497828875
Status : Answered
Chosen Option : 4

Q.23 सोमालिया के नवनिर्वाचित प्रधान मंत्री, _____, ने सितंबर, 2020 में पदभार संभाला।

- Ans
- 1. हसन अली खैरे
 - 2. मोहम्मद हुसैन रोबल
 - 3. उमर शमारिके
 - 4. आब्दी फराह शिरडन

Question ID : 65497828882
Status : Answered
Chosen Option : 1

Q.24 निम्नलिखित में से कौन सा कथन सत्य है?

- Ans
- 1. अम्ल, लाल लिटमस के रंग को बदलकर नीला कर देते हैं।
 - 2. क्षार, नीले लिटमस के रंग को बदलकर लाल कर देते हैं।
 - 3. क्षार, स्वाद में कड़वे होते हैं।
 - 4. अम्ल, स्वाद में नमकीन होते हैं।

Question ID : 65497828883
Status : Answered
Chosen Option : 3

Q.25 केंद्रीय प्रदूषण नियंत्रण बोर्ड (CPCB) का गठन _____ के तहत किया गया था।

- Ans
- 1. जल (प्रदूषण निवारण एवं नियंत्रण) अधिनियम 1974
 - 2. राष्ट्रीय पर्यावरण न्यायाधिकरण अधिनियम, 1995
 - 3. वायु (प्रदूषण निवारण एवं नियंत्रण) अधिनियम, 1981
 - 4. राष्ट्रीय पर्यावरण अपीलीय प्राधिकरण अधिनियम, 1997

Question ID : 65497828888
Status : Answered
Chosen Option : 1

Section : Part C Elementary Mathematics

Q.1 जब किसी वस्तु के विक्रय मूल्य में ₹164 की वृद्धि की जाती है तो 12% की हानि 8.5% के लाभ में बदल जाती है। वस्तु का क्रय मूल्य ज्ञात कीजिए।

- Ans
- 1. ₹760
 - 2. ₹840
 - 3. ₹850
 - 4. ₹800

Question ID : 65497828902
Status : Answered
Chosen Option : 1

Q.2 18 संतरों को ₹151.20 में बेचने पर, एक व्यक्ति को 20% की हानि होती है। 30% का लाभ अर्जित करने के लिए, उसे ₹819 में कितने संतरे बेचने होंगे?

- Ans**
- 1. 65
 - 2. 45
 - 3. 60
 - 4. 50

Question ID : 65497828918
Status : Answered
Chosen Option : 2

Q.3 एक नाव 52 मिनट के कुल समय में धारा की विपरीत दिशा में 10 km और धारा की दिशा में 11 km की दूरी तय कर सकती है। यदि धारा की चाल 5 km/h है, तो धारा की दिशा में नाव की चाल (km/h में) ज्ञात कीजिए।

- Ans**
- 1. 25
 - 2. 35
 - 3. 30
 - 4. 20

Question ID : 65497828916
Status : Answered
Chosen Option : 1

Q.4 एक व्यापारी ने एक वस्तु का मूल्य इस प्रकार अंकित किया कि उसे उस वस्तु के क्रय मूल्य पर 28% का लाभ अर्जित हो। उसने इसे अंकित मूल्य पर 15% की छूट देकर बेच दिया। उसका वास्तविक लाभ प्रतिशत कितना था?

- Ans**
- 1. 9%
 - 2. 13%
 - 3. 12.5%
 - 4. 8.8%

Question ID : 65497828912
Status : Answered
Chosen Option : 3

Q.5 एक दुकानदार ने ₹1200 में 150 पेन के भाव पर पेन खरीदे, और ₹1620 में 180 पेन के भाव पर बेच दिए। उसका प्रतिशत लाभ या हानि ज्ञात कीजिए।

- Ans**
- 1. 12% लाभ
 - 2. 12% हानि
 - 3. 14% लाभ
 - 4. 12.5% लाभ

Question ID : 65497828900
Status : Answered
Chosen Option : 1

Q.6 एक समकोण त्रिभुज की भुजाओं की लंबाइयों का अनुपात 5 : 12 : 13 है और इसका परिमाण 90 cm है। त्रिभुज का क्षेत्रफल (cm² में) ज्ञात कीजिए।

- Ans**
- 1. 702
 - 2. 270
 - 3. 780
 - 4. 540

Question ID : 65497828921
Status : Answered
Chosen Option : 2

Q.7 A की आय, B की आय से 70% अधिक है; और C की आय A और B की संयुक्त आय के 80% के बराबर है। A की आय, C की आय से कितने प्रतिशत कम है? (एक दशमलव स्थान तक पूर्णांकित करें)

- Ans**
- 1. 27.1%
 - 2. 19.8%
 - 3. 21.3%
 - 4. 20.4%

Question ID : 65497828913
Status : Answered
Chosen Option : 4

Q.8 एक कार अपनी यात्रा के पहले 41 km की दूरी 45 मिनट में तय करती है और शेष 23 km की दूरी 35 मिनट में तय करती है। कार की औसत चाल (m/sec में) ज्ञात करें।

- Ans**
- 1. $16\frac{2}{3}$
 - 2. 16
 - 3. 15
 - 4. $13\frac{1}{3}$

Question ID : 65497828909
Status : Answered
Chosen Option : 2

Q.9 एक दुकानदार एक वस्तु को उसके सूची मूल्य पर 16% की छूट देकर ₹1,638 में बेचता है। यदि उसने कोई छूट नहीं दी होती, तो उसे 30% का लाभ होता। वस्तु का क्रय मूल्य (₹ में) ज्ञात कीजिए।

- Ans**
- 1. 1,400
 - 2. 1,450
 - 3. 1,425
 - 4. 1,500

Question ID : 65497828917
Status : Answered
Chosen Option : 1

Q.10 पांच संख्याएं हैं। पहली चार संख्याओं का औसत पांचवीं संख्या के $\frac{5}{6}$ के बराबर है। यदि सभी पांच संख्याओं का औसत 26 है, तो पांचवीं संख्या ज्ञात कीजिए।

- Ans**
- 1. 28
 - 2. 32
 - 3. 30
 - 4. 29

Question ID : 65497828911
Status : Answered
Chosen Option : 1

Q.11 जब एक तार को मोड़कर वृत्त बनाया जाता है तो यह 18634 cm^2 का क्षेत्रफल घेरता है। इसी तार को एक आयत बनाने के लिए मोड़ा जाता है जिसकी भुजाएं 5 : 6 के अनुपात में हैं। आयत की छोटी भुजा की लंबाई (cm में) ज्ञात कीजिए। (मान लीजिए $\pi = \frac{22}{7}$)

- Ans**
- 1. 132
 - 2. 100
 - 3. 110
 - 4. 154

Question ID : 65497828898
Status : Answered
Chosen Option : 3

Q.12 सोमू ने ₹10,000 की धनराशि एक साहूकार से 7% प्रति 6 महीने की दर से साधारण ब्याज पर उधार ली। 3 वर्ष बाद उसे साहूकार को कितनी धनराशि का भुगतान करना होगा?

- Ans**
- 1. ₹13,000
 - 2. ₹12,500
 - 3. ₹14,200
 - 4. ₹12,100

Question ID : 65497828907
Status : Answered
Chosen Option : 2

Q.13 $\left(\frac{7}{16} \div 10\frac{1}{2} \text{ of } 7\frac{1}{5}\right) \times 3\frac{3}{5} - 1\frac{1}{3} \times 1\frac{1}{8} \div \frac{1}{2} + \frac{3}{4}$ का मान ज्ञात करें।

- Ans
- 1. $\frac{-179}{48}$
 - 2. $\frac{61}{8}$
 - 3. $\frac{181}{24}$
 - 4. $\frac{-107}{48}$

Question ID : 65497828908
Status : Answered
Chosen Option : 3

Q.14 दो ऊनी जैकेटों A और B के मूल्य 7 : 9 के अनुपात में हैं। यदि जैकेट A का मूल्य, जैकेट B के मूल्य से ₹380 कम है, तो जैकेट B का मूल्य (₹ में) ज्ञात कीजिए।

- Ans
- 1. 1,710
 - 2. 1,680
 - 3. 1,330
 - 4. 1,650

Question ID : 65497828919
Status : Answered
Chosen Option : 4

Q.15 यदि ₹6225 की धनराशि को तीन हिस्सों में इस प्रकार बांटा जाए कि पहले हिस्से का 4 गुना, दूसरे हिस्से के 5 गुने के तथा तीसरे हिस्से के 7 गुने के बराबर है। पहले और दूसरे हिस्से के बीच (₹ में) अंतर कितना है?

- Ans
- 1. 525
 - 2. 450
 - 3. 300
 - 4. 600

Question ID : 65497828897
Status : Answered
Chosen Option : 1

Q.16 यदि निम्न छह प्रेक्षणाः $x + 2, x + 5, x + 8, x + 11, x + 14$ और $x + 17$ का औसत 12.5 है, तो प्रथम तीन प्रेक्षणां का औसत कितना है?

- Ans
- 1. 3
 - 2. 9
 - 3. 8
 - 4. 6

Question ID : 65497828905
Status : Answered
Chosen Option : 2

Q.17 $8 - [88 \div 2 \text{ of } 11 - (22 - 72 \div 4)]$ का मान क्या होगा?

- Ans
- 1. 4
 - 2. 8
 - 3. 6
 - 4. 0

Question ID : 65497828899
Status : Answered
Chosen Option : 1

Q.18 A किसी कार्य के $\frac{2}{3}$ भाग को पूरा करने में 15 दिन का समय लेता है। B की मदद से, उन्होंने समूचे कार्य को 12 दिनों में पूरा कर लिया। अकेले B को इस कार्य को पूरा करने में कितने दिनों का समय लगता?

- Ans
- 1. 18 दिन
 - 2. 20 दिन
 - 3. 28 दिन
 - 4. 25 दिन

Question ID : 65497828901
Status : Answered
Chosen Option : 1

Q.19 75 लीटर के एक मिश्रण में दूध और पानी का अनुपात 3 : 2 है। यदि यह अनुपात 1 : 2 करना हो, तो कितना पानी मिलाना होगा?

- Ans
- 1. 90 लीटर
 - 2. 60 लीटर
 - 3. 65 लीटर
 - 4. 50 लीटर

Question ID : 65497828906
Status : Answered
Chosen Option : 2

Q.20 2021 में, एक क्रिकेट टीम 225 मैचों में से 80% मैच जीतना चाहती है। पहले से खेले जा चुके 120 मैचों में, सफलता दर 70% है। लक्ष्य तक पहुंचने के लिए शेष मैचों में सफलता दर कितनी होनी चाहिए?

Ans

1. $89\frac{5}{7}\%$
 2. 90%
 3. $91\frac{3}{7}\%$
 4. 86%

Question ID : 65497828914

Status : Answered

Chosen Option : 4

Q.21 यदि तीन संख्याएं 3 : 5 : 7 के अनुपात में हैं, और उनका लघुत्तम समापवर्त्य (LCM) 2415 है, तो दूसरी संख्या और पहली संख्या का अंतर कितना होगा?

Ans

1. 69
 2. 46
 3. 92
 4. 23

Question ID : 65497828904

Status : Answered

Chosen Option : 2

Q.22 A, B और C साथ मिलकर किसी निश्चित कार्य को 10 दिन में कर सकते हैं। A, B से 20% अधिक कार्य-कुशल है, और C, B से 50% कम कार्य-कुशल है। B अकेले इसी कार्य को _____ में पूरा कर सकता है।

Ans

1. $22\frac{1}{2}$ दिन
 2. 27 दिन
 3. 30 दिन
 4. 25 दिन

Question ID : 65497828915

Status : Answered

Chosen Option : 4

Q.23 एक निश्चित राशि पर 4% वार्षिक ब्याज की दर पर 2 वर्षों में प्राप्त चक्रवृद्धि ब्याज ₹1,530 है। समान राशि पर समान दर पर समान अवधि में प्राप्त साधारण ब्याज कितना (₹ में) होगा?

Ans

1. 1,400
 2. 1,500
 3. 1,510
 4. 1,350

Question ID : 65497828920

Status : Answered

Chosen Option : 2

Q.24 2091, 3485 और 4879 का महत्तम समापवर्तक (HCF) x है। x के अंकों का योगफल ज्ञात कीजिए।

- Ans
- 1. 19
 - 2. 22
 - 3. 23
 - 4. 20

Question ID : 65497828910
Status : Answered
Chosen Option : 4

Q.25 एक निश्चित वार्षिक साधारण ब्याज की दर पर कोई धनराशि, 7 वर्ष में स्वयं से 70% अधिक हो जाती है।
₹8000 की धनराशि पर समान ब्याज दर पर 3 वर्ष में प्राप्त चक्रवृद्धि ब्याज ज्ञात कीजिए।

- Ans
- 1. ₹2,548
 - 2. ₹2,654
 - 3. ₹2,648
 - 4. ₹2,640

Question ID : 65497828903
Status : Answered
Chosen Option : 3

Section : Part D English

Q.1 Select the option that will improve the underlined part of the given sentence. In case no improvement is needed, select 'No improvement required'.

My teacher said me that I would be famous one day.

- Ans
- 1. asked me
 - 2. say to me
 - 3. told me
 - 4. No improvement required

Question ID : 65497828940
Status : Answered
Chosen Option : 4

Q.2 Select the option that can be used as a one-word substitute for the given group of words.

A piece of land where fruit trees are grown

- Ans
- 1. Pasture
 - 2. Barnyard
 - 3. Meadow
 - 4. Orchard

Question ID : 65497828935
Status : Answered
Chosen Option : 3

Q.3 Select the **INCORRECTLY** spelt word.

- Ans 1. Erode
 2. Eraser
 3. Erosion
 4. Eratic

Question ID : 65497828928
Status : Answered
Chosen Option : 3

Q.4 Select the option that can be used as a one-word substitute for the given group of words.

That which is lawful

- Ans 1. Valid
 2. Illegal
 3. Proper
 4. Legal

Question ID : 65497828926
Status : Answered
Chosen Option : 4

Q.5 Select the most appropriate option to fill in the blank.

She is on six months' _____ leave.

- Ans 1. paternal
 2. maternity
 3. paternity
 4. material

Question ID : 65497828929
Status : Answered
Chosen Option : 1

Q.6 Select the **INCORRECTLY** spelt word.

- Ans 1. Commitment
 2. Bouquet
 3. Proceedure
 4. Quarantine

Question ID : 65497828936
Status : Answered
Chosen Option : 3

Q.7 Parts of the given sentence have been given as options. One of them contains a grammatical error. Select the option that has the error.

Pray to the Almighty God with utmost devotion and help the needy and poored people.

- Ans
- 1. with utmost devotion
 - 2. help the needy
 - 3. poored people
 - 4. to the Almighty God

Question ID : 65497828930
Status : Answered
Chosen Option : 1

Q.8 Select the most appropriate option to fill in the blank.

The Egyptians developed ways to prevent the dead body from _____.

- Ans
- 1. destroying
 - 2. drooping
 - 3. dying
 - 4. decaying

Question ID : 65497828927
Status : Answered
Chosen Option : 2

Q.9 The following sentence has been split into four segments. Identify the segment that contains a grammatical error.

The man turned to him with a look of disapprove.

- Ans
- 1. with a look
 - 2. turned to him
 - 3. The man
 - 4. of disapprove

Question ID : 65497828924
Status : Answered
Chosen Option : 2

Q.10 Select the most appropriate meaning of the given idiom.

Cool as a cucumber

- Ans
- 1. Wise
 - 2. Scared
 - 3. Calm
 - 4. Lazy

Question ID : 65497828938
Status : Answered
Chosen Option : 4

Q.11 Select the most appropriate option that can substitute the underlined segment in the given sentence. If there is no need to substitute it, select 'No substitution required'.

Using a word processor for writing have a number of advantages.

- Ans**
- 1. to write have a number
 - 2. for writing has a number
 - 3. for writing having number
 - 4. No substitution required

Question ID : 65497828923
Status : Answered
Chosen Option : 1

Q.12 Select the option that can be used as a one-word substitute for the given group of words.

A volume containing several books previously published separately

- Ans**
- 1. Thesaurus
 - 2. Novel
 - 3. Omnibus
 - 4. Dictionary

Question ID : 65497828932
Status : Answered
Chosen Option : 3

Q.13 Select the most appropriate meaning of the given idiom.

Come to blows

- Ans**
- 1. Insult someone
 - 2. Return a favour
 - 3. Agree on a plan
 - 4. Get into a fight physically

Question ID : 65497828939
Status : Answered
Chosen Option : 3

Q.14 Select the most appropriate synonym of the given word.

Recommend

- Ans**
- 1. Adhere
 - 2. Oppose
 - 3. Approve
 - 4. Reward

Question ID : 65497828925
Status : Answered
Chosen Option : 4

Q.15 The following sentence has been split into four segments. Identify the segment that contains a grammatical error.

I saw some / children playing happily / below the shade / of a tree.

- Ans
- 1. children playing happily
 - 2. of a tree
 - 3. I saw some
 - 4. below the shade

Question ID : 65497828933
Status : Answered
Chosen Option : 1

Q.16 Select the most appropriate synonym of the given word.

Substitution

- Ans
- 1. Logical
 - 2. Hold
 - 3. Exchange
 - 4. Give

Question ID : 65497828931
Status : Answered
Chosen Option : 2

Q.17 Select the most appropriate ANTONYM of the given word.

Prudent

- Ans
- 1. Wasteful
 - 2. Cautious
 - 3. Clever
 - 4. Shrewd

Question ID : 65497828937
Status : Answered
Chosen Option : 2

Q.18 Select the most appropriate option that can substitute the underlined segment in the given sentence. If there is no need to substitute it, select 'No substitution required'.

Wool and silk are materials those are the easiest to dye.

- Ans
- 1. that are the easiest
 - 2. that is easy
 - 3. that are the easier
 - 4. No substitution required

Question ID : 65497828922
Status : Answered
Chosen Option : 4

Q.19 Select the most appropriate **ANTONYM** of the given word.

Criticise

- Ans**
- 1. Analyse
 - 2. Oppose
 - 3. Clarify
 - 4. Approve

Question ID : **65497828934**
Status : **Answered**
Chosen Option : **2**

Q.20 Select the most appropriate option to fill in the blank.

The man felt exhausted after climbing a _____ of stairs.

- Ans**
- 1. flight
 - 2. heap
 - 3. pack
 - 4. fleet

Question ID : **65497828941**
Status : **Answered**
Chosen Option : **4**

Comprehension:

In the following passage, some words have been deleted. Read the passage carefully and select the most appropriate option to fill in each blank.

A giant plane carrying 43 passengers was (1) _____ to crash-land when its landing gear got (2) _____. Only the skill of the pilot was able to (3) _____ a major tragedy. Expert mechanics laboured (4) _____ hours before they could find the (5) _____ of the mechanical failure.

SubQuestion No : 21

Q.21 Select the most appropriate option to fill in blank no.1.

- Ans**
- 1. poked
 - 2. pushed
 - 3. forced
 - 4. bumped

Question ID : **65497828943**
Status : **Answered**
Chosen Option : **3**

Comprehension:

In the following passage, some words have been deleted. Read the passage carefully and select the most appropriate option to fill in each blank.

A giant plane carrying 43 passengers was (1) _____ to crash-land when its landing gear got (2) _____. Only the skill of the pilot was able to (3) _____ a major tragedy. Expert mechanics laboured (4) _____ hours before they could find the (5) _____ of the mechanical failure.

SubQuestion No : 22

Q.22 Select the most appropriate option to fill in blank no.2.

- Ans 1. glued
 2. fixed
 3. caught
 4. stuck

Question ID : 65497828944
Status : Answered
Chosen Option : 3

Comprehension:

In the following passage, some words have been deleted. Read the passage carefully and select the most appropriate option to fill in each blank.

A giant plane carrying 43 passengers was (1) _____ to crash-land when its landing gear got (2) _____. Only the skill of the pilot was able to (3) _____ a major tragedy. Expert mechanics laboured (4) _____ hours before they could find the (5) _____ of the mechanical failure.

SubQuestion No : 23

Q.23 Select the most appropriate option to fill in blank no.3.

- Ans 1. limit
 2. restrict
 3. forbid
 4. prevent

Question ID : 65497828945
Status : Answered
Chosen Option : 1

Comprehension:

In the following passage, some words have been deleted. Read the passage carefully and select the most appropriate option to fill in each blank.

A giant plane carrying 43 passengers was (1) _____ to crash-land when its landing gear got (2) _____. Only the skill of the pilot was able to (3) _____ a major tragedy. Expert mechanics laboured (4) _____ hours before they could find the (5) _____ of the mechanical failure.

SubQuestion No : 24

Q.24 Select the most appropriate option to fill in blank no.4.

- Ans 1. from
 2. over
 3. at
 4. for

Question ID : 65497828946
Status : Answered
Chosen Option : 3

Comprehension:

In the following passage, some words have been deleted. Read the passage carefully and select the most appropriate option to fill in each blank.

A giant plane carrying 43 passengers was (1) _____ to crash-land when its landing gear got (2) _____. Only the skill of the pilot was able to (3) _____ a major tragedy. Expert mechanics laboured (4) _____ hours before they could find the (5) _____ of the mechanical failure.

SubQuestion No : 25

Q.25 Select the most appropriate option to fill in blank no.5.

- Ans**
- 1. motive
 - 2. plan
 - 3. agency
 - 4. cause

Question ID : **65497828947**
Status : **Answered**
Chosen Option : **3**

Section : **Part D Hindi**

Q.1 रिक्त स्थान को भरने के लिए सबसे उपयुक्त विकल्प का चयन करें।

शिक्षक दिवस पर छात्रों ने शिक्षक को पुस्तक _____ की।

- Ans**
- 1. हस्तगत
 - 2. प्रदान
 - 3. भेंट
 - 4. दान

Question ID : **65497828967**
Status : **Not Answered**
Chosen Option : --

Q.2 'कृपण' का विलोम शब्द होगा-

- Ans**
- 1. कर्मठ
 - 2. कठोर
 - 3. सरल
 - 4. दाता

Question ID : **65497828958**
Status : **Not Answered**
Chosen Option : --

Q.3 दिए गए शब्द के समानार्थी शब्द का चयन करें।

बाण

- Ans 1. नाराज
 2. तनय
 3. दहन
 4. अगम

Question ID : 65497828952
Status : Not Answered
Chosen Option : --

Q.4 'पंकज' किसका पर्यायवाची है?

- Ans 1. वस्त्र
 2. किरण
 3. कमल
 4. आँख

Question ID : 65497828965
Status : Not Answered
Chosen Option : --

Q.5 सही वर्तनी वाले शब्द का चयन करें।

- Ans 1. इस्थायित्व
 2. स्थाईत्व
 3. स्थायीत्व
 4. स्थायित्व

Question ID : 65497828956
Status : Not Answered
Chosen Option : --

Q.6 'खून का घूँट पीना' मुहावरे का सही अर्थ है-

- Ans 1. अत्यंत क्रोधित होना
 2. भयभीत होना
 3. घृणा करना
 4. गुस्सा पचा जाना

Question ID : 65497828959
Status : Not Answered
Chosen Option : --

Q.7 दिये गये वाक्य में रेखांकित अंश को प्रतिस्थापित करने के लिए सबसे उपयुक्त विकल्प का चयन करें।

मोहन के गए पर वह उठ बैठा।

- Ans
- 1. दौड़ने पर
 - 2. मरने पर
 - 3. जाने पर
 - 4. उठने पर

Question ID : 65497828961
Status : Not Answered
Chosen Option : --

Q.8 रिक्त स्थान को भरने के लिए सबसे उपयुक्त विकल्प का चयन करें।

शिशु _____ और अबोध होता है।

- Ans
- 1. अल्पज्ञ
 - 2. बहुज्ञ
 - 3. अज्ञ
 - 4. भिज्ञ

Question ID : 65497828962
Status : Not Answered
Chosen Option : --

Q.9 दिये गये वाक्यांश के लिए एक शब्द दीजिये।

अपने पास रखी हुई, दूसरे की वस्तु

- Ans
- 1. धरनी
 - 2. धरोहर
 - 3. धनज्ञ
 - 4. धराऊ

Question ID : 65497828953
Status : Not Answered
Chosen Option : --

Q.10 दिए गए शब्द का विलोम चुनें।

जातीय

- Ans
- 1. सजातीय
 - 2. अजातीय
 - 3. विजातीय
 - 4. प्रजातीय

Question ID : 65497828949
Status : Not Answered
Chosen Option : --

Q.11 दिये गये वाक्य में रेखांकित अंश को प्रतिस्थापित करने के लिए सबसे उपयुक्त विकल्प का चयन करें।

पृथ्वी का रूप गोल है।

- Ans
- 1. प्रारूप
 - 2. स्वरूप
 - 3. प्रकार
 - 4. आकार

Question ID : 65497828960
Status : Not Answered
Chosen Option : --

Q.12 'धन से संबंध रखने वाला' वाक्यांश के लिए एक शब्द होगा-

- Ans
- 1. संपत्तिशास्त्र
 - 2. भौतिक
 - 3. आर्थिक
 - 4. अर्थशास्त्र

Question ID : 65497828966
Status : Not Answered
Chosen Option : --

Q.13 दिये गये वाक्य के किस भाग में त्रुटि है?

उसने अवाज देकर पूछा।

- Ans
- 1. अवाज
 - 2. उसने
 - 3. पूछा।
 - 4. देकर

Question ID : 65497828964
Status : Not Answered
Chosen Option : --

Q.14 दिये गये वाक्यांश के लिए एक शब्द दीजिये।

खेतों में, मेंड़ों से बनाए गए छोटे-छोटे, वर्गाकार या आयताकार भाग

- Ans
- 1. क्यारी
 - 2. नहर
 - 3. परनाला
 - 4. नाली

Question ID : 65497828950
Status : Not Answered
Chosen Option : --

Q.15 सही वर्तनी वाले शब्द का चयन करें।

- Ans 1. शूर्पणखा
 2. सूर्पनखा
 3. शुपर्णखा
 4. सुपनखा

Question ID : 65497828957
Status : Not Answered
Chosen Option : --

Q.16 दिए गए वाक्य का वह भाग ज्ञात करें जिसमें कोई त्रुटि है। यदि कोई त्रुटि नहीं है, तो 'कोई त्रुटि नहीं है' चुनें।

कभी-कभी, आकाश में दिखाई देने वाला उल्कापतन एक विलक्षण घटना है।

- Ans 1. दिखाई देने वाला
 2. कभी-कभी, आकाश में
 3. कोई त्रुटि नहीं है।
 4. उल्कापतन एक विलक्षण घटना है।

Question ID : 65497828948
Status : Not Answered
Chosen Option : --

Q.17 दिए गए वाक्य में रेखांकित खंड को प्रतिस्थापित करने के लिए सबसे उपयुक्त विकल्प का चयन करें। यदि इसे प्रतिस्थापित करने की आवश्यकता नहीं है, तो विकल्प 'किसी बदलाव की आवश्यकता नहीं है' का चयन करें।

इस कार्य के विघ्न बन कर तुम आए हो।

- Ans 1. इस कार्य में
 2. इस कार्य की
 3. इस कार्य का
 4. किसी बदलाव की आवश्यकता नहीं है।

Question ID : 65497828955
Status : Not Answered
Chosen Option : --

Q.18 रिक्त स्थान को भरने के लिए सबसे उपयुक्त शब्द का चयन करें।

सफलता पाने के लिए कठोर _____ करना पड़ता है।

- Ans 1. श्रम
 2. आवागमन
 3. अनुशासन
 4. अध्ययन

Question ID : 65497828954
Status : Not Answered
Chosen Option : --

Q.19 दिए गए वाक्य का वह भाग ज्ञात करें जिसमें कोई त्रुटि है। यदि कोई त्रुटि नहीं है, तो 'कोई त्रुटि नहीं है' चुनें।

महेश जी बता रहे थे कि उनका भतीजा अपने लक्ष्य पर नजर रखते हैं।

- Ans
- 1. कि उनका भतीजा
 - 2. महेश जी बता रहे थे
 - 3. अपने लक्ष्य पर नजर रखते हैं।
 - 4. कोई त्रुटि नहीं है।

Question ID : 65497828951
Status : Not Answered
Chosen Option : --

Q.20 'पसीना पसीना होना' मुहावरे का सही अर्थ है-

- Ans
- 1. भयभीत होना
 - 2. प्यासा होना
 - 3. शर्मिंदा होना
 - 4. क्रोधित होना

Question ID : 65497828963
Status : Not Answered
Chosen Option : --

Comprehension:

दिए गए अनुच्छेद में कुछ शब्द हटा दिए गए हैं। दिए गए विकल्पों की सहायता से रिक्त स्थान भरें। प्रत्येक संख्या के लिए सबसे उपयुक्त विकल्प का चयन करें-

भारत के गाँव (1) _____ के मनोरम स्थल हैं। वहाँ का निवासी प्रकृति की (2) _____ में ही पल रहा है परन्तु (3) _____ दृष्टि से पिछड़े हुए गाँवों की स्थिति अत्यन्त ही (4) _____ है क्योंकि वहाँ के लोग (5) _____ पर ही निर्भर रहते हैं।

SubQuestion No : 21

Q.21 गद्यांश के रिक्त स्थान (1) के लिए सर्वाधिक उपयुक्त शब्द होगा-

- Ans
- 1. शहरों
 - 2. प्रकृति
 - 3. राज्य
 - 4. त्रिलोक

Question ID : 65497828969
Status : Not Answered
Chosen Option : --

Comprehension:

दिए गए अनुच्छेद में कुछ शब्द हटा दिए गए हैं। दिए गए विकल्पों की सहायता से रिक्त स्थान भरें। प्रत्येक संख्या के लिए सबसे उपयुक्त विकल्प का चयन करें-

भारत के गाँव (1) _____ के मनोरम स्थल हैं। वहाँ का निवासी प्रकृति की (2) _____ में ही पल रहा है परन्तु (3) _____ दृष्टि से पिछड़े हुए गाँवों की स्थिति अत्यन्त ही (4) _____ है क्योंकि वहाँ के लोग (5) _____ पर ही निर्भर रहते हैं।

SubQuestion No : 22

Q.22 गद्यांश के रिक्त स्थान (2) के लिए सर्वाधिक उपयुक्त शब्द होगा-

- Ans** 1. गोद
 2. साथ
 3. छाँव
 4. हाथ

Question ID : **65497828970**
Status : **Not Answered**
Chosen Option : --

Comprehension:

दिए गए अनुच्छेद में कुछ शब्द हटा दिए गए हैं। दिए गए विकल्पों की सहायता से रिक्त स्थान भरें। प्रत्येक संख्या के लिए सबसे उपयुक्त विकल्प का चयन करें-

भारत के गाँव (1) _____ के मनोरम स्थल हैं। वहाँ का निवासी प्रकृति की (2) _____ में ही पल रहा है परन्तु (3) _____ दृष्टि से पिछड़े हुए गाँवों की स्थिति अत्यन्त ही (4) _____ है क्योंकि वहाँ के लोग (5) _____ पर ही निर्भर रहते हैं।

SubQuestion No : 23

Q.23 गद्यांश के रिक्त स्थान (3) के लिए सर्वाधिक उपयुक्त शब्द होगा-

- Ans** 1. शारीरिक
 2. आर्थिक
 3. मानसिक
 4. राजनीतिक

Question ID : **65497828971**
Status : **Not Answered**
Chosen Option : --

Comprehension:

दिए गए अनुच्छेद में कुछ शब्द हटा दिए गए हैं। दिए गए विकल्पों की सहायता से रिक्त स्थान भरें। प्रत्येक संख्या के लिए सबसे उपयुक्त विकल्प का चयन करें-

भारत के गाँव (1) _____ के मनोरम स्थल हैं। वहाँ का निवासी प्रकृति की (2) _____ में ही पल रहा है परन्तु (3) _____ दृष्टि से पिछड़े हुए गाँवों की स्थिति अत्यन्त ही (4) _____ है क्योंकि वहाँ के लोग (5) _____ पर ही निर्भर रहते हैं।

SubQuestion No : 24

Q.24 गद्यांश के रिक्त स्थान (4) के लिए सर्वाधिक उपयुक्त शब्द होगा-

- Ans** 1. स्तरीय
 2. सम्पन्न
 3. कठिन
 4. दयनीय

Question ID : **65497828972**
Status : **Not Answered**
Chosen Option : --

Comprehension:

दिए गए अनुच्छेद में कुछ शब्द हटा दिए गए हैं। दिए गए विकल्पों की सहायता से रिक्त स्थान भरें। प्रत्येक संख्या के लिए सबसे उपयुक्त विकल्प का चयन करें-

भारत के गाँव (1) _____ के मनोरम स्थल हैं। वहाँ का निवासी प्रकृति की (2) _____ में ही पल रहा है परन्तु (3) _____ दृष्टि से पिछड़े हुए गाँवों की स्थिति अत्यन्त ही (4) _____ है क्योंकि वहाँ के लोग (5) _____ पर ही निर्भर रहते हैं।

SubQuestion No : 25

Q.25 गद्यांश के रिक्त स्थान (5) के लिए सर्वाधिक उपयुक्त शब्द होगा-

- Ans**
- 1. पंचायत
 - 2. प्रकृति
 - 3. कृषि
 - 4. सरकार

Question ID : **65497828973**

Status : **Not Answered**

Chosen Option : --

GovtJobsAlert.In