

## Constable GD in CAPFs NIA SSF and Rifleman GD in Assam Rifles Examination 2021

Roll Number	<a href="http://www.GovtJobsAlert.In">www.GovtJobsAlert.In</a>
Candidate Name	<a href="http://www.GovtJobsAlert.In">www.GovtJobsAlert.In</a>
Venue Name	Soni Computer Center
Exam Date	22/11/2021
Exam Time :	12:30 PM - 2:00 PM
Subject	Constable GD 2021

### Section : Part A General Intelligence and Reasoning

Q.1 उस विकल्प का चयन करें जो तीसरे पद से ठीक उसी प्रकार से संबंधित है जैसे दूसरा पद पहले पद से संबंधित है।

DEATH : IZZPL :: LITRE : ?

- Ans
- 1. GNGNI
  - 2. QDXVA
  - 3. QDGNI
  - 4. GNGVA

Question ID : 65497836104

Status : Answered

Chosen Option : 3

Q.2 दर्पण को दी गई आकृति के दाईं ओर रखे जाने पर, आकृति का दर्पण में निमित्त सही प्रतिबिंब चयनित करें।

9	2
3	5
2	6

Ans

1.

9	2
3	5
2	6

2.

2	9
5	3
6	2

3.

9	2
3	5
2	6

4.

2	9
5	3
6	2

Question ID : 65497836099

Status : Answered

Chosen Option : 2

Q.3 उस विकल्प का चयन करें जो तीसरी संख्या से उसी तरह से संबंधित है जैसे दूसरी संख्या पहली संख्या से संबंधित है।

7 : 36 :: 5 : ?

- Ans
- 1. 30
  - 2. 27
  - 3. 35
  - 4. 24

Question ID : 65497836087  
Status : Answered  
Chosen Option : 4

Q.4 किसी कूट भाषा में, 'VOLUME' को 'AUQARI' के रूप में लिखा जाता है। उसी भाषा में, 'DESIGN' को किस रूप में लिखा जाएगा?

- Ans
- 1. ZIXPLR
  - 2. IJYLOS
  - 3. ZXILPR
  - 4. IIXOLS

Question ID : 65497836105  
Status : Answered  
Chosen Option : 1

Q.5 उस विकल्प का चयन कीजिए जिसका तीसरे पद से वही संबंध है जो दूसरे पद का पहले पद से है।

BARK: FXWI :: STOP : ?

- Ans
- 1. WTQN
  - 2. WTWR
  - 3. WWTR
  - 4. WQTN

Question ID : 65497836107  
Status : Answered  
Chosen Option : 4

Q.6 निम्नलिखित समीकरण को संतुलित बनाने के लिए किन दो गणितीय चिह्नों को परस्पर बदल देना चाहिए?

$$56 - 39 \times 4 \div 12 + 33 = 36$$

- Ans
- 1.  $\times, +$
  - 2.  $+, \times$
  - 3.  $+, -$
  - 4.  $-, +$

Question ID : 65497836088  
Status : Answered  
Chosen Option : 2

Q.7 चार अक्षर-समूह दिए गए हैं, जिनमें से तीन किसी प्रकार से समान हैं और एक उनसे असंगत है। उस असंगत अक्षर-समूह का चयन करें।

- Ans
- 1. EFHK
  - 2. QRTW
  - 3. MNPS
  - 4. ABCG

Question ID : 65497836096  
Status : Answered  
Chosen Option : 4

Q.8 दिए गए कथनों और निष्कर्षों को ध्यानपूर्वक पढ़ें। यह मानते हुए कि कथनों में दी गई सूचना सत्य है, भले ही वह सामान्य रूप से ज्ञात तथ्यों से भिन्न प्रतीत होती हो, बताइए कि दिए गए निष्कर्षों में से कौन सा / कौन से निष्कर्ष कथनों का तार्किक रूप से अनुसरण करता है / करते हैं।

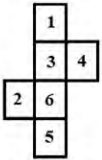
कथन:  
कुछ खिलाड़ी फुटबॉल खेलते हैं।  
सभी खिलाड़ी, लोग हैं।

निष्कर्ष:  
1. कोई भी लोग, फुटबॉल नहीं खेलते हैं।  
2. कुछ लोग, फुटबॉल खेलते हैं।  
3. सभी लोग, फुटबॉल खेलते हैं।

- Ans
- 1. केवल निष्कर्ष 3 अनुसरण करता है।
  - 2. केवल निष्कर्ष 1 अनुसरण करता है।
  - 3. निष्कर्ष 1 और 3 दोनों अनुसरण करते हैं।
  - 4. केवल निष्कर्ष 2 अनुसरण करता है।

Question ID : 65497836092  
Status : Answered  
Chosen Option : 4

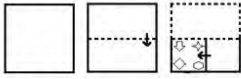
Q.9 निम्नलिखित एक गैर-मानक खुला पासा है। पासे के किन दो पृष्ठों को एक मानक पासा बनाने के लिए परस्पर बदलने की आवश्यकता है?



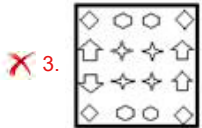
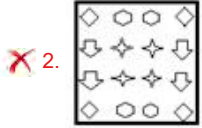
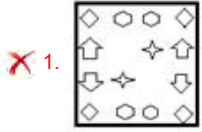
- Ans
- 1. 4, 3
  - 2. 5, 6
  - 3. 2, 3
  - 4. 1, 5

Question ID : 65497836089  
Status : Answered  
Chosen Option : 3

**Q.10** निम्नांकित आकृतियों में एक कागज के टुकड़े को मोड़ने का क्रम और मुड़े हुए कागज को काटने की विधि दर्शाई गई है। यह कागज खोलने पर कैसा दिखेगा?



**Ans**



Question ID : 65497836095

Status : Answered

Chosen Option : 4

**Q.11** A, B, C और D नाम के चार पुरुष और M, N, O और P नाम की चार महिलाएं एक गोल मेज के परितः एक महिला के बाद एक पुरुष के वैकल्पिक क्रम में बैठे हैं। P, B और A के बीच बैठी है। A, N के ठीक बगल में और D के सामने बैठा है। M, P के सामने बैठी है। B और D के बीच कौन बैठी है?

**Ans**  1. O

2. M

3. N

4. P

Question ID : 65497836086

Status : Answered

Chosen Option : 1

Q.12 निम्नलिखित विकल्पों में से उस विकल्प का चयन करें, जो दिए गए शब्दों के उस सही क्रम को दर्शाता है, जिस क्रम में ये शब्द अंग्रेजी शब्दकोश में दिखाई देते हैं।

1. Marmatites
2. Martinec
3. Marijuana
4. Marehan
5. Marienbad

Ans ✓ 1. 4, 5, 3, 1, 2

✗ 2. 4, 5, 2, 1, 3

✗ 3. 4, 5, 3, 2, 1

✗ 4. 4, 5, 1, 3, 2

Question ID : 65497836100

Status : Answered

Chosen Option : 1

Q.13 उस विकल्प का चयन करें जिसमें दी गई आकृति सन्नहित है (घुमाने की अनुमति नहीं है)।



Ans

✗ 1.



✓ 2.



✗ 3.



✗ 4.



Question ID : 65497836090

Status : Answered

Chosen Option : 2

Q.14 अक्षरों के उस संयोजन का चयन करें, जिसे जब दी गई श्रृंखला के रिक्त स्थानों में क्रम से रखा जाए, तो श्रृंखला पूर्ण होगी।

\_ N M N \_ M \_ \_ N \_ M N \_ N N

Ans ✓ 1. MNNMNM

✗ 2. NNMNMM

✗ 3. NNMMNM

✗ 4. MMNNNM

Question ID : 65497836101

Status : Answered

Chosen Option : 1

Q.15 दिए गए विकल्पों में से उस संख्या का चयन कीजिए जो दी गई श्रृंखला में प्रश्न चिह्न (?) के स्थान पर आ सकती है।

15, 16, 20, 47, 303, ?

- Ans
- 1. 3473
  - 2. 3428
  - 3. 1909
  - 4. 1936

Question ID : 65497836098

Status : Answered

Chosen Option : 2

Q.16 पांच व्यक्ति उत्तर दिशा की ओर अभिमुख होकर एक पंक्ति में बैठे हैं। पंक्ति में दोनों छोरों पर ड्राइवर और इलेक्ट्रीशियन बैठे हैं। प्लंबर ठीक बढ़ई के दाईं ओर पड़ोस में बैठा है। मकैनिक ठीक इलेक्ट्रीशियन के बाईं ओर पड़ोस में बैठा है। बढ़ई ठीक ड्राइवर और प्लंबर के बीच में बैठा है। निम्न में से कौन सा व्यक्ति पंक्ति के मध्य में बैठा है?

- Ans
- 1. प्लंबर
  - 2. इलेक्ट्रीशियन
  - 3. बढ़ई
  - 4. मकैनिक

Question ID : 65497836109

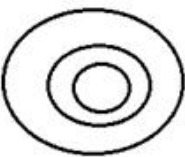

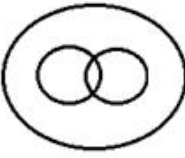
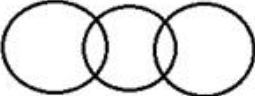
Status : Answered

Chosen Option : 1

Q.17 उस वेन आरेख का चयन कीजिए जो निम्न वर्गों के मध्य के संबंध का सर्वश्रेष्ठ निरूपण करता है।

इलाइची, मसाले, धनिया के बीज

Ans

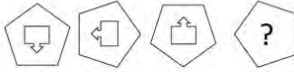
- 1. 
- 2. 
- 3. 
- 4. 

Question ID : 65497836110

Status : Answered

Chosen Option : 2

Q.18 दिए गए विकल्पों में से उस आकृति का चयन करें, जो निम्नलिखित श्रृंखला में प्रश्नवाचक चिह्न (?) के स्थान पर आ सकती है।



Ans



Question ID : 65497836103  
Status : Answered  
Chosen Option : 4

Q.19 दिए गए पैटर्न का ध्यानपूर्वक अध्ययन कीजिए और उस संख्या का चयन कीजिए जो इसमें प्रश्नवाचक चिह्न (?) के स्थान पर आ सकती है।

16 295 19  
9 144 17  
26 ? 16

Ans ✗ 1. 395

✗ 2. 406

✗ 3. 398

✓ 4. 407

Question ID : 65497836093  
Status : Answered  
Chosen Option : 4

Q.20 किसी कूट भाषा में, WHALE को 25103147 के रूप में कूटबद्ध किया जाता है। उसी भाषा में SHARK को किस प्रकार से कूटबद्ध किया जाएगा?

Ans ✗ 1. 211031037

✓ 2. 211032013

✗ 3. 19812811

✗ 4. 19811811

Question ID : 65497836097  
Status : Answered  
Chosen Option : 2

Q.21 'हिरनी' का जो संबंध 'मृगशावक' से है, 'मुर्गी' का वही संबंध ' \_\_\_\_\_ ' से है।

- Ans
- 1. सिप्रेट
  - 2. चूजे
  - 3. सिंहशावक
  - 4. मेमना

Question ID : 65497836108  
Status : Answered  
Chosen Option : 2

Q.22 अमित ने कहा कि वह अपने पिता के इकलौते भाई के पुत्र की माँ की सास से मिला था। अमित की मुलाकात किससे हुई थी?

- Ans
- 1. चचेरी बहन
  - 2. दादी
  - 3. चाची
  - 4. बहन

Question ID : 65497836106  
Status : Answered  
Chosen Option : 2

Q.23 दिए गए विकल्पों में से उस संख्या का चयन करें, जो निम्नलिखित श्रृंखला में प्रश्नवाचक चिह्न (?) के स्थान पर आ सकती है।

3, 6, 18, 90, 630, ?

- Ans
- 1. 6930
  - 2. 5670
  - 3. 6300
  - 4. 5040

Question ID : 65497836102  
Status : Answered  
Chosen Option : 1

Q.24 जब 17 के वर्ग से एक संख्या घटाई जाती है, तो परिणामी संख्या सबसे छोटी पूर्ण संख्या की 3 गुना प्राप्त होती है। घटाई जाने वाली संख्या ज्ञात कीजिए।

- Ans
- 1. 287
  - 2. 276
  - 3. 268
  - 4. 289

Question ID : 65497836094  
Status : Answered  
Chosen Option : 4



Q.25 एक निश्चित कूट भाषा में, 'he came back' को 'ni ji pa' लिखा जाता है, 'go back now' को 'pa ja ka' लिखा जाता है और 'stop it now' को 'ka my uk' लिखा जाता है। उसी कूट भाषा में 'go' को क्या लिखा जाएगा?

- Ans
- 1. pa
  - 2. ka
  - 3. ni
  - 4. ja

Question ID : 65497836091  
Status : Answered  
Chosen Option : 4

Section : Part B General Knowledge and General Awareness

Q.1 निम्नलिखित में से कौन सा बंदरगाह या टर्मिनल प्रशांत महासागर में स्थित नहीं है?

- Ans
- 1. योकोहामा (जापान)
  - 2. रियो डि जेनेरो (ब्राज़ील)
  - 3. शंघाई (चीन)
  - 4. सिडनी (ऑस्ट्रेलिया)

Question ID : 65497836121  
Status : Answered  
Chosen Option : 2

Q.2 मिड एयर रीफ्यूलिंग (हवा में ईंधन भराई) के बिना एक बार में ब्रह्मोस से लेस सुखोई-30 की रेंज कितने किलोमीटर है?

- Ans
- 1. 1500 km
  - 2. 3000 km
  - 3. 2000 km
  - 4. 1000 km

Question ID : 65497836126  
Status : Answered  
Chosen Option : 3

Q.3 'रानी-की-वाव' या 'क्वीन'स स्टेपवेल (Queen's Stepwell)', \_\_\_\_\_ नदी के तट पर स्थित एक यूनेस्को (UNESCO) विश्व धरोहर स्थल है।

- Ans
- 1. सरस्वती
  - 2. कावेरी
  - 3. झेलम
  - 4. महानदी

Question ID : 65497836134  
Status : Answered  
Chosen Option : 2

Q.4 चंदेला राजवंश के किस राजा ने कंदरिया महादेव मंदिर का निर्माण करवाया था?

- Ans
- 1. यशोवर्मन
  - 2. विजयपाल
  - 3. विद्याधर
  - 4. धंगदेव

Question ID : 65497836125  
Status : Answered  
Chosen Option : 1

Q.5 आपतित किरण, आपतन बिंदु पर लंब किरण और परावर्तित किरण सभी \_\_\_\_\_ अवस्थित होती हैं।

- Ans
- 1. विकर्णतः विपरीत समतलों पर
  - 2. समान समतल में
  - 3. ऊर्ध्वाधर रूप से विपरीत समतलों पर
  - 4. भिन्न समतलों पर

Question ID : 65497836113  
Status : Answered  
Chosen Option : 1

Q.6 दिल्ली सल्तनत के दौरान निम्नलिखित में से किस प्रकार का कर एकत्र किया जाता था?

- Ans
- 1. खराज कर
  - 2. रैयतवाड़ी कर
  - 3. महालवाड़ी कर
  - 4. आयकर

Question ID : 65497836128  
Status : Answered  
Chosen Option : 3

Q.7 भारत में संविधान सभा के चुनाव \_\_\_\_\_ में हुए थे।

- Ans
- 1. जनवरी 1945
  - 2. अगस्त 1945
  - 3. नवंबर 1946
  - 4. जुलाई 1946

Question ID : 65497836132  
Status : Answered  
Chosen Option : 3

Q.8 दि ग्रेट बैरियर रीफ, जो कि यूनेस्को (UNESCO) का विश्व धरोहर स्थल भी है, \_\_\_\_\_ से संबंधित है।

- Ans
- 1. भारत
  - 2. ब्राज़ील
  - 3. सोमालिया
  - 4. ऑस्ट्रेलिया

Question ID : 65497836115  
Status : Answered  
Chosen Option : 4

Q.9 भारत के संविधान के तहत, अनुच्छेद \_\_\_\_\_ कहता है कि राष्ट्रपति के पास किसी दोषी व्यक्ति की सजा को कम करने या उसे माफी देने की शक्ति होगी।

- Ans
- 1. 73
  - 2. 71
  - 3. 72
  - 4. 74

Question ID : 65497836130  
Status : Answered  
Chosen Option : 3

Q.10 सर्प नौका दौड़ (स्लेक बोट रेस) निम्नलिखित में से किस त्यौहार की एक अनूठी विशेषता है?

- Ans
- 1. ओणम
  - 2. भोगली बिहू
  - 3. दशहरा
  - 4. कलिंग महोत्सव

Question ID : 65497836111  
Status : Answered  
Chosen Option : 1

Q.11 निम्नलिखित में से कौन सा रसायन भारत में पहली बार स्थानीय रूप से निर्मित किया गया था और अक्टूबर 2020 में गुजरात स्टेट फ़र्टिलाइज़र्स एंड केमिकल्स इंडिया लिमिटेड द्वारा लॉन्च किया गया था?

- Ans
- 1. बोरोनेटेड कैल्शियम नाइट्रेट
  - 2. कैल्शियम अमोनियम नाइट्रेट
  - 3. ट्रिपल सुपरफॉस्फेट
  - 4. अमोनियम सल्फेट

Question ID : 65497836133  
Status : Answered  
Chosen Option : 3

Q.12 नवंबर 2020 में, भारत और \_\_\_\_\_ ने संयुक्त रूप से रूपे (Rupay) कार्ड के चरण 2 का शुभारंभ किया।

- Ans
- 1. म्यांमार
  - 2. भूटान
  - 3. नेपाल
  - 4. बांग्लादेश

Question ID : 65497836127  
Status : Answered  
Chosen Option : 3

Q.13 विद्युत सेल के प्रतीक में, मोटी, छोटी रेखा \_\_\_\_\_ निरूपित करती है।

- Ans
- 1. धनात्मक टर्मिनल
  - 2. ऋणात्मक टर्मिनल
  - 3. उदासीन टर्मिनल
  - 4. वलय (रिंग) टर्मिनल

Question ID : 65497836112  
Status : Answered  
Chosen Option : 2

Q.14 नवंबर 2020 में, बार्कलेज ने अनुमान लगाया था कि वित्तीय वर्ष 2020-21 में भारत का सकल घरेलू उत्पाद (GDP) \_\_\_\_\_ का संकुचन दर्ज करेगा।

- Ans
- 1. -6%
  - 2. -5%
  - 3. -6.4%
  - 4. -5.4%

Question ID : 65497836119  
Status : Answered  
Chosen Option : 3

Q.15 इरंड कप फुटबॉल टूर्नामेंट का 2021 संस्करण \_\_\_\_\_ में आयोजित किया गया था।

- Ans
- 1. गोवा
  - 2. बेंगलुरु
  - 3. कोलकाता
  - 4. नई दिल्ली

Question ID : 65497836135  
Status : Answered  
Chosen Option : 2

Q.16 What is the frequency of ultrasonic waves?

- Ans
- 1. More than 5 kHz
  - 2. More than 15 kHz
  - 3. More than 10 kHz
  - 4. More than 20 kHz

Question ID : 65497836124  
Status : Answered  
Chosen Option : 4

Q.17 2020 में भारतीय क्रिकेट कंट्रोल बोर्ड (BCCI) द्वारा निम्नलिखित में से किस कंपनी को टीम इंडिया का आधिकारिक किट प्रायोजक घोषित किया गया था?

- Ans
- 1. BalleBaazi (बल्लेबाजी)
  - 2. Mobile Premier League (मोबाइल प्रीमियर लीग, MPL)
  - 3. 11 Wickets (11 विकेट्स)
  - 4. Dream 11 (ड्रीम इलेवन)

Question ID : 65497836116  
Status : Answered  
Chosen Option : 4

Q.18 किसकी अध्यक्षता वाले राष्ट्रीय किसान आयोग ने यह सुझाव दिया था कि कृषि फसलों के लिए न्यूनतम समर्थन मूल्य (MSP), उत्पादन की भारित औसत लागत से कम से कम 50% अधिक होना चाहिए?

- Ans
- 1. एम.एस. स्वामीनाथन
  - 2. जी.वी. रामकृष्ण
  - 3. आर.वी. गुप्ता
  - 4. ए.एम. खुसरो

Question ID : 65497836117  
Status : Answered  
Chosen Option : 1

Q.19 जनवरी 2020 में बी.सी.सी.आई. (B.C.C.I.) के पॉली ऊमरीगर पुरस्कार द्वारा किसे सम्मानित किया गया था?

- Ans
- 1. विराट कोहली
  - 2. जसप्रीत बुमराह
  - 3. रोहित शर्मा
  - 4. शिखर धवन

Question ID : 65497836122  
Status : Answered  
Chosen Option : 2

Q.20 सुदीरमन कप निम्नलिखित में से किस खेल (games/sports) से संबंधित है?

- Ans
- 1. बेसबॉल
  - 2. बैडमिंटन
  - 3. बास्केटबॉल
  - 4. वॉलीबॉल

Question ID : 65497836123  
Status : Answered  
Chosen Option : 2

Q.21 इसाई समुदाय द्वारा जीसस क्राइस्ट के जन्म के उत्सव के रूप में मनाया जाने वाला वार्षिक त्योहार क्रिसमस, निम्न में से किस तारीख को मनाया जाता है?

- Ans
- 1. 29 दिसंबर
  - 2. 25 दिसंबर
  - 3. 15 दिसंबर
  - 4. 21 दिसंबर

Question ID : 65497836120  
Status : Answered  
Chosen Option : 2

Q.22 भारतीय विद्रोह की शुरुआत 10 मई, 1857 को मेरठ से हुई, और यह कब खत्म हुआ?

- Ans
- 1. 18 सितंबर, 1859 को दिल्ली में
  - 2. 15 अगस्त, 1860 को झांसी में
  - 3. 13 मई, 1858 को कलकत्ता में
  - 4. 20 जून, 1858 को ग्वालियर में

Question ID : 65497836118  
Status : Answered  
Chosen Option : 4

Q.23 वायसराय लॉर्ड कर्जन ने \_\_\_\_\_ में बंगाल का विभाजन किया था।

- Ans
- 1. 1903
  - 2. 1905
  - 3. 1902
  - 4. 1904

Question ID : 65497836129  
Status : Answered  
Chosen Option : 2

Q.24 निम्नलिखित में से कौन 'एवरी वोट काउंट्स - द स्टोरी ऑफ इंडियाज़ इलेक्शन' पुस्तक के लेखक हैं?

- Ans
- 1. एन. गोपालस्वामी
  - 2. एस.वाई. कुरैशी
  - 3. हरिशंकर ब्रह्मा
  - 4. नवीन चावला

Question ID : 65497836114  
Status : Answered  
Chosen Option : 4

Q.25 25 सितंबर 2020 को, \_\_\_\_\_ ने घोषणा की, कि वे 'सेफ पे' नामक फोन के माध्यम से एक संपर्क रहित डेबिट कार्ड आधारित भुगतान सुविधा शुरू करेंगे, जिससे प्रति दिन ₹20,000 तक के लेन-देन की अनुमति होगी।

- Ans
- 1. आई.सी.आई.सी.आई. (ICICI) बैंक
  - 2. विजया बैंक
  - 3. एच.डी.एफ.सी. (HDFC) बैंक
  - 4. आई.डी.एफ.सी. (IDFC) फर्स्ट बैंक

Question ID : 65497836131  
Status : Answered  
Chosen Option : 1

Section : Part C Elementary Mathematics

Q.1 30 m चौड़े और 90 m लंबे किसी आयताकार तालाब के चारों ओर समान चौड़ाई वाला पैदल मार्ग बना है। यदि पैदल मार्ग का कुल क्षेत्रफल  $2800 \text{ m}^2$  है, तो पैदल मार्ग की चौड़ाई (m में) कितनी होगी?

- Ans
- 1. 5
  - 2. 20
  - 3. 10
  - 4. 15

Question ID : 65497836145  
Status : Answered  
Chosen Option : 3

Q.2 21 m और 42 m की लंबाई वाली दो रस्मियों को समान लंबाई वाले टुकड़ों में काटा जाना है। प्रत्येक टुकड़े की अधिकतम संभव लंबाई कितनी होगी?

- Ans
- 1. 42 m
  - 2. 7 m
  - 3. 1 m
  - 4. 21 m

Question ID : 65497836142  
Status : Answered  
Chosen Option : 4

Q.3 एक छात्र 5 km/h की चाल से चलता है। जब वह अपनी चाल को बढ़ाकर 6 km/h कर देता है, तो वह स्कूल में 20 मिनट पहले पहुंच जाता है। छात्र द्वारा तय की गई दूरी ज्ञात करें।

- Ans
- 1. 12 km
  - 2. 15 km
  - 3. 8 km
  - 4. 10 km

Question ID : 65497836148  
Status : Answered  
Chosen Option : 4

Q.4 यदि किसी संख्या का 30% उस संख्या के 60% से 15 कम है, तो वह संख्या ज्ञात कीजिए।

- Ans
- 1. 40
  - 2. 50
  - 3. 65
  - 4. 72

Question ID : 65497836158  
Status : Answered  
Chosen Option : 2

Q.5 मूलधन ₹12,500 पर  $2\frac{3}{4}$  वर्ष के लिए वार्षिक 12% चक्रवृद्धि ब्याज दर पर, ब्याज ज्ञात करें, यदि ब्याज वार्षिक रूप से चक्रवृद्धि होता है। (निकटतम ₹ में)

- Ans
- 1. ₹5,062
  - 2. ₹5,026
  - 3. ₹4,591
  - 4. ₹4,951

Question ID : 65497836151  
Status : Answered  
Chosen Option : 3

Q.6 राम किसी कार्य को 60 दिन में पूरा कर सकता है। वह 10 दिन कार्य करता है और फिर, राज अकेले शेष कार्य को 35 दिन में पूरा करता है। यदि राम और राज एक साथ कार्य करें तो कितने समय में कार्य समाप्त करेंगे?

- Ans
- 1.  $24\frac{12}{17}$  दिन
  - 2.  $21\frac{1}{2}$  दिन
  - 3.  $25\frac{2}{5}$  दिन
  - 4.  $20\frac{3}{17}$  दिन

Question ID : 65497836155  
Status : Answered  
Chosen Option : 1

Q.7 ₹5,000 की धनराशि साधारण ब्याज पर 6 वर्षों में ₹7,550 हो जाती है। यदि ब्याज दर में 3.5% की वृद्धि हो जाती है, तो धनराशि कितनी हो जाएगी?

- Ans
- 1. ₹8,200
  - 2. ₹8,600
  - 3. ₹8,000
  - 4. ₹8,500

Question ID : 65497836141  
Status : Answered  
Chosen Option : 2



**Q.8** एक व्यक्ति ने ₹2,400 में एक मेज और एक कुर्सी खरीदी। उसने मेज को 12% के लाभ पर और कुर्सी को 10% की हानि पर बेचा, जिससे कुल मिलाकर 4% का लाभ हुआ। मेज का क्रय मूल्य ज्ञात कीजिए। (निकटतम पूर्णांक तक सही करें)

- Ans**
- ✓ 1. ₹1,527
  - ✗ 2. ₹1,375
  - ✗ 3. ₹1,150
  - ✗ 4. ₹1,225

Question ID : 65497836149  
Status : Answered  
Chosen Option : 1

**Q.9** एक लंब वृत्तीय बेलन का आयतन  $6930 \text{ cm}^3$  और उसकी ऊँचाई 20 cm है। इसका वक्र पृष्ठीय क्षेत्रफल ( $\text{cm}^2$  में) ज्ञात करें। ( $\pi = \frac{22}{7}$  मानें)

- Ans**
- ✗ 1. 660
  - ✗ 2. 880
  - ✓ 3. 1320
  - ✗ 4. 1760

Question ID : 65497836152  
Status : Answered  
Chosen Option : 3

**Q.10** एक निश्चित धनराशि (₹ में) A, B और C के मध्य इस प्रकार विभाजित की जाती है कि A और B के हिस्सों का अनुपात 3 : 5 है तथा B और C के हिस्सों का अनुपात 2 : 7 है। यदि A का हिस्सा ₹3600 है तो कुल धनराशि (₹ में) कितनी थी?

- Ans**
- ✓ 1. 30600
  - ✗ 2. 36600
  - ✗ 3. 25200
  - ✗ 4. 21000

Question ID : 65497836138  
Status : Answered  
Chosen Option : 1

**Q.11** एक समूह में 45 व्यक्ति (केवल पुरुष और महिलाएं) हैं। पुरुष और महिलाओं की संख्या का अनुपात 5 : 4 है। यदि पुरुषों का औसत वजन 79.4 kg है और महिलाओं का औसत वजन 64.5 kg है, तो समूह में सभी व्यक्तियों का औसत वजन (kg में) कितना होगा (दशमलव के एक स्थान तक सही)?

- Ans**
- ✗ 1. 69.5
  - ✗ 2. 73.5
  - ✗ 3. 77.4
  - ✓ 4. 72.8

Question ID : 65497836137  
Status : Answered  
Chosen Option : 1

**Q.12** एक दुकानदार ₹2,000 अंकित मूल्य वाली एक वस्तु पर 20% और 15% की क्रमिक छूट देता है। वह वस्तु को किस मूल्य पर बेचता है?

- Ans**
- 1. ₹1,360
  - 2. ₹1,600
  - 3. ₹1,436
  - 4. ₹1,400

Question ID : 65497836146  
Status : Answered  
Chosen Option : 1

**Q.13** सोनू किसी कार्य को उतने ही समय में पूरा कर सकता है, जितने समय में मनु और राज मिलकर उस कार्य को पूरा कर सकते हैं। यदि राज अकेले इस कार्य को 30 दिन में पूरा कर सकता है और सोनू और मनु मिलकर इस कार्य को 15 दिन में पूरा कर सकते हैं, तो मनु अकेले इस कार्य को कितने दिन में पूरा कर सकता है?

- Ans**
- 1. 42 दिन
  - 2. 60 दिन
  - 3. 58 दिन
  - 4. 45 दिन

Question ID : 65497836159  
Status : Answered  
Chosen Option : 2

**Q.14** व्यंजक  $7 - 1\frac{2}{7}$  of  $2\frac{1}{3} \div \frac{3}{7}$  of  $\frac{7}{9} + 3\left(2 - \frac{2}{7} \div \frac{3}{7}$  of  $\frac{1}{3}\right)$  को सरल करने पर \_\_\_\_\_ परिणाम प्राप्त होगा।

- Ans**
- 1.  $\frac{48}{7}$
  - 2. -2
  - 3. 0
  - 4.  $\frac{37}{7}$

Question ID : 65497836147  
Status : Answered  
Chosen Option : 2

**Q.15** एक छात्रावास में 40 छात्र हैं। यदि 5 नए छात्र रहने के लिए आ जाते हैं, तो मेस का व्यय प्रति दिन ₹48 बढ़ जाएगा जबकि प्रति छात्र औसत व्यय ₹2 कम हो जाएगा। मेस का मूल (आरंभिक) व्यय कितना था?

- Ans**
- 1. ₹1,076
  - 2. ₹1,020
  - 3. ₹1,104
  - 4. ₹1,100

Question ID : **65497836156**  
Status : **Answered**  
Chosen Option : **3**

**Q.16** 15 cm लंबी भुजा वाले वर्ग के विकर्ण का उसकी भुजा से अनुपात ज्ञात करें।

- Ans**
- 1. 2 : 3
  - 2.  $\sqrt{2} : 3$
  - 3. 1 :  $\sqrt{2}$
  - 4.  $\sqrt{2} : 1$

Question ID : **65497836144**  
Status : **Answered**  
Chosen Option : **4**

**Q.17** 56 गेंदों को ₹3,570 में बेचने पर, 14 गेंदों की लागत के बराबर हानि होती है। एक गेंद का लागत मूल्य कितना है?

- Ans**
- 1. ₹80
  - 2. ₹75
  - 3. ₹85
  - 4. ₹65

Question ID : **65497836140**  
Status : **Answered**  
Chosen Option : **3**

**Q.18** एक विक्रेता ने ₹50 में 10 की दर से संतरे खरीदे और उन्हें ₹24 में 6 की दर से बेच दिया। उसके लाभ या हानि का प्रतिशत कितना है?

- Ans**
- 1. 25% हानि
  - 2. 15% लाभ
  - 3. 10% लाभ
  - 4. 20% हानि

Question ID : **65497836154**  
Status : **Answered**  
Chosen Option : **4**

**Q.19** A किसी कार्य के  $\frac{3}{5}$  भाग को 12 दिन में पूरा कर सकता है। B उसी कार्य के  $\frac{2}{3}$  भाग को 8 दिन में पूरा कर सकता है। A और B एक साथ इस कार्य को कितने दिन में पूरा करेंगे?

**Ans**

1.  $6\frac{1}{2}$  दिन

2.  $7\frac{1}{2}$  दिन

3. 6 दिन

4. 7 दिन

Question ID : 65497836160

Status : Answered

Chosen Option : 2

**Q.20**  $6 \div [4 \times 3 \{5 \times 4 \div (5 \text{ of } 4 + 4 \div 2 \times 4)\}]$  का मान ज्ञात कीजिए।

**Ans**

1.  $\frac{-7}{10}$

2.  $\frac{7}{10}$

3.  $\frac{3}{10}$

4.  $\frac{17}{10}$

Question ID : 65497836153

Status : Answered

Chosen Option : 2

**Q.21** किसी दुकान में एक बैग का अंकित मूल्य ₹350 है। दुकानदार द्वारा दी जाने वाली छूट 10% है। बैग के विक्रय मूल्य की गणना कीजिए।

**Ans**

1. ₹325

2. ₹324

3. ₹315

4. ₹308

Question ID : 65497836157

Status : Answered

Chosen Option : 3

**Q.22** छह घंटियां क्रमशः 12 मिनट, 9 मिनट, 8 मिनट, 6 मिनट, 3 मिनट और 10 मिनट के अंतराल में स्वतः बजती हैं। शुरु होने के क्षण से 12 घंटे में वे एक-साथ कितनी बार बजेंगी?

- Ans**
- 1. 4
  - 2. 6
  - 3. 5
  - 4. 2

Question ID : **65497836136**  
Status : **Answered**  
Chosen Option : **4**

**Q.23** ₹9,480 की धनराशि को X, Y और Z के बीच इस प्रकार विभाजित किया गया है कि X और Y के भाग का अनुपात 5 : 6, X और Z के भाग का अनुपात 4 : 7 है। Y और Z के भाग के बीच अंतर ज्ञात करें।

- Ans**
- 1. ₹1,440
  - 2. ₹1,200
  - 3. ₹1,320
  - 4. ₹1,800

Question ID : **65497836150**  
Status : **Answered**  
Chosen Option : **3**

**Q.24** एक लेखाकार ने एक संख्या को  $\frac{9}{2}$  के बजाय  $\frac{2}{9}$  से गुणा कर दिया। उसकी गणना में लगभग कितनी प्रतिशत त्रुटि हुई?

- Ans**
- 1. 95%
  - 2. 9.5%
  - 3. 0.95%
  - 4. 0.095%

Question ID : **65497836143**  
Status : **Answered**  
Chosen Option : **1**

**Q.25** एक धनराशि पर ब्याज की दर पहले 3 वर्षों के लिए 8% वार्षिक है, अगले 4 वर्षों के लिए 10% वार्षिक है और 7 वर्ष के बाद की अवधि के लिए 12% वार्षिक है। यदि किसी व्यक्ति को 12 वर्ष के बाद साधारण ब्याज के रूप में ₹13795 मिलते हैं तो उसने कितनी धनराशि (₹ में) का निवेश किया था?

- Ans**
- 1. 12275
  - 2. 10000
  - 3. 11125
  - 4. 12000

Question ID : **65497836139**  
Status : **Answered**  
Chosen Option : **3**

**Q.1** Select the most appropriate option that can substitute the underlined segment in the given sentence. If there is no need to substitute it, select 'No substitution required'.

The environment is on threat hedgerows and woodlands are vanishing.

- Ans**
- 1. into threat
  - 2. under threat
  - 3. No substitution required
  - 4. in threat

Question ID : 65497836175  
Status : Not Answered  
Chosen Option : --

**Q.2** Select the INCORRECTLY spelt word.

- Ans**
- 1. Sumpteus
  - 2. Summary
  - 3. Suffering
  - 4. Sundry

Question ID : 65497836173  
Status : Not Answered  
Chosen Option : --

**Q.3** Select the most appropriate ANTONYM of the given word.

**Maintain**

- Ans**
- 1. Preserve
  - 2. Abandon
  - 3. Protect
  - 4. Sustain

Question ID : 65497836171  
Status : Not Answered  
Chosen Option : --

**Q.4** The following sentence has been split into four segments. Identify the segment that contains a grammatical error.

He moved on the undergrowth / quickly and silently, / hiding himself / from the enemy.

- Ans**
- 1. quickly and silently
  - 2. hiding himself
  - 3. He moved on the undergrowth
  - 4. from the enemy

Question ID : 65497836164  
Status : Not Answered  
Chosen Option : --

**Q.5** Select the option that can be used as a one-word substitute for the given group of words.

That through which light cannot pass

- Ans**  1. Opaque  
 2. Cloudy  
 3. Lucid  
 4. Gloomy

Question ID : 65497836179  
Status : Not Answered  
Chosen Option : --

**Q.6** Select the most appropriate meaning of the given idiom.

Chicken hearted

- Ans**  1. Visibly pleased  
 2. Slightly risky  
 3. Readily available  
 4. Easily scared

Question ID : 65497836167  
Status : Not Answered  
Chosen Option : --

**Q.7** Select the most appropriate option to fill in the blank.

Many students are \_\_\_\_\_ by the life of great leaders.

- Ans**  1. interested  
 2. involved  
 3. inspired  
 4. infected

Question ID : 65497836174  
Status : Not Answered  
Chosen Option : --

**Q.8** The following sentence has been split into four segments. Identify the segment that contains a grammatical error.

I entered my room / and switch on the lights / but it was / still dark.

- Ans**  1. and switch on the lights  
 2. I entered my room  
 3. but it was  
 4. still dark

Question ID : 65497836177  
Status : Not Answered  
Chosen Option : --

Q.9 Select the most appropriate ANTONYM of the given word.

**REMEMBER**

- Ans  1. Learn  
 2. Forget  
 3. Memorise  
 4. Retain

Question ID : 65497836176  
Status : Not Answered  
Chosen Option : --

Q.10 Select the most appropriate meaning of the given idiom.

**Wee hours of the day**

- Ans  1. Dusk  
 2. Midnight  
 3. Dawn  
 4. Noon

Question ID : 65497836169  
Status : Not Answered  
Chosen Option : --

Q.11 Select the most appropriate option that can substitute the underlined segment in the given sentence. If there is no need to substitute it, select 'No substitution required'.

I recently visited the school when I studied in Class 10.

- Ans  1. wherever  
 2. where  
 3. No substitution required  
 4. whenever

Question ID : 65497836161  
Status : Not Answered  
Chosen Option : --

Q.12 Select the most appropriate synonym of the given word.

**Destroy**

- Ans  1. Demolish  
 2. Construct  
 3. Rehabilitate  
 4. Detach

Question ID : 65497836165  
Status : Not Answered  
Chosen Option : --



**Q.13** Select the most appropriate option to fill in the blank.

Hitopadesha tales are written in a reader-friendly style, which perhaps \_\_\_\_\_ to their success.

- Ans  1. supplied  
 2. provided  
 3. contributed  
 4. arranged

Question ID : **65497836166**  
Status : **Not Answered**  
Chosen Option : --

**Q.14** Select the correctly spelt word.

- Ans  1. Spacifying  
 2. Specifing  
 3. Specifying  
 4. Specefying

Question ID : **65497836162**  
Status : **Not Answered**  
Chosen Option : --

**Q.15** Select the option that can be used as a one-word substitute for the given group of words.

One who has unlimited power

- Ans  1. Omnipresent  
 2. Omnipotent  
 3. Omnivore  
 4. Omniscient

Question ID : **65497836172**  
Status : **Not Answered**  
Chosen Option : --

**Q.16** Select the option that can be used as a one-word substitute for the given group of words.

Belonging to the middle ages

- Ans  1. Ancient  
 2. Primitive  
 3. Medieval  
 4. Modern

Question ID : **65497836168**  
Status : **Not Answered**  
Chosen Option : --

Q.17 Select the most appropriate SYNONYM of the given word.

Appeal

- Ans  1. Growth  
 2. Charm  
 3. Challenge  
 4. Bloom

Question ID : 65497836178  
Status : Not Answered  
Chosen Option : --

Q.18 The following sentence has been split into four segments. Identify the segment that contains a grammatical error.

Please ensure / that you covering your face / with a mask / when you go out.

- Ans  1. that you covering your face  
 2. with a mask  
 3. Please ensure  
 4. when you go out

Question ID : 65497836170  
Status : Not Answered  
Chosen Option : --

Q.19 Select the option that will improve the underlined part of the given sentence. In case no improvement is needed, select 'No improvement required'.

One day as mine little sister said she wanted to become an actress, we were shocked.

- Ans  1. that my  
 2. when my  
 3. since mine  
 4. No improvement required

Question ID : 65497836180  
Status : Not Answered  
Chosen Option : --

Q.20 Select the most appropriate option to fill in the blank.

A soft breeze blows as the sun \_\_\_\_\_ in the distant waters.

- Ans  1. basks  
 2. glazes  
 3. shimmers  
 4. ramifies

Question ID : 65497836163  
Status : Not Answered  
Chosen Option : --

**Comprehension:**

In the following passage, some words have been deleted. Read the passage carefully and select the most appropriate option to fill in each blank.

On International Women's Day, a large number of 'women of substance' spread (1)\_\_\_\_\_ of their equal status. Women celebrate their achievements and (2)\_\_\_\_\_ their potential. They have made themselves powerful and (3)\_\_\_\_\_ their skills. Today, in every field, women have proved (4)\_\_\_\_\_ by scaling great heights and turning the tide of (5)\_\_\_\_\_ in their favour.

**SubQuestion No : 21**

**Q.21** Select the most appropriate option to fill in blank no. 1.

- Ans**
- 1. arrogance
  - 2. negligence
  - 3. awareness
  - 4. ignorance

Question ID : **65497836182**  
Status : **Not Answered**  
Chosen Option : --

**Comprehension:**

In the following passage, some words have been deleted. Read the passage carefully and select the most appropriate option to fill in each blank.

On International Women's Day, a large number of 'women of substance' spread (1)\_\_\_\_\_ of their equal status. Women celebrate their achievements and (2)\_\_\_\_\_ their potential. They have made themselves powerful and (3)\_\_\_\_\_ their skills. Today, in every field, women have proved (4)\_\_\_\_\_ by scaling great heights and turning the tide of (5)\_\_\_\_\_ in their favour.

**SubQuestion No : 22**

**Q.22** Select the most appropriate option to fill in blank no. 2.

- Ans**
- 1. recognise
  - 2. deny
  - 3. tolerate
  - 4. depreciate

Question ID : **65497836183**  
Status : **Not Answered**  
Chosen Option : --

**Comprehension:**

In the following passage, some words have been deleted. Read the passage carefully and select the most appropriate option to fill in each blank.

On International Women's Day, a large number of 'women of substance' spread (1)\_\_\_\_\_ of their equal status. Women celebrate their achievements and (2)\_\_\_\_\_ their potential. They have made themselves powerful and (3)\_\_\_\_\_ their skills. Today, in every field, women have proved (4)\_\_\_\_\_ by scaling great heights and turning the tide of (5)\_\_\_\_\_ in their favour.

**SubQuestion No : 23**

**Q.23** Select the most appropriate option to fill in blank no. 3.

- Ans**
- 1. motivated
  - 2. downgraded
  - 3. upgraded
  - 4. demoted

Question ID : **65497836184**  
Status : **Not Answered**  
Chosen Option : --

**Comprehension:**

In the following passage, some words have been deleted. Read the passage carefully and select the most appropriate option to fill in each blank.

On International Women's Day, a large number of 'women of substance' spread (1)\_\_\_\_\_ of their equal status. Women celebrate their achievements and (2)\_\_\_\_\_ their potential. They have made themselves powerful and (3)\_\_\_\_\_ their skills. Today, in every field, women have proved (4)\_\_\_\_\_ by scaling great heights and turning the tide of (5)\_\_\_\_\_ in their favour.

**SubQuestion No : 24**

**Q.24** Select the most appropriate option to fill in blank no. 4.

- Ans**  1. herself  
 2. her  
 3. themselves  
 4. them

Question ID : **65497836185**  
Status : **Not Answered**  
Chosen Option : --

**Comprehension:**

In the following passage, some words have been deleted. Read the passage carefully and select the most appropriate option to fill in each blank.

On International Women's Day, a large number of 'women of substance' spread (1)\_\_\_\_\_ of their equal status. Women celebrate their achievements and (2)\_\_\_\_\_ their potential. They have made themselves powerful and (3)\_\_\_\_\_ their skills. Today, in every field, women have proved (4)\_\_\_\_\_ by scaling great heights and turning the tide of (5)\_\_\_\_\_ in their favour.

**SubQuestion No : 25**

**Q.25** Select the most appropriate option to fill in blank no. 5.

- Ans**  1. hardship  
 2. wealth  
 3. fortune  
 4. treasure

Question ID : **65497836186**  
Status : **Not Answered**  
Chosen Option : --

Section : **Part D Hindi**

**Q.1** दिए गए वाक्यांश के लिए एक शब्द दीजिए।

जीतने की इच्छा

- Ans**  1. जुगुप्सा  
 2. जिगीषा  
 3. अभिप्सा  
 4. जीगिविषा

Question ID : **65497836189**  
Status : **Answered**  
Chosen Option : **4**

Q.2 निम्नलिखित में से कौन सा समानार्थी शब्दों का युग्म सही नहीं है?

- Ans  1. राकेश - चांद  
 2. निशापति - दिवाकर  
 3. चंद्र - सुधाकर  
 4. शशि - रजनीश

Question ID : 65497836200  
Status : Answered  
Chosen Option : 2

Q.3 दिए गए वाक्य का वह भाग ज्ञात करें जिसमें कोई त्रुटि है। यदि कोई त्रुटि नहीं है, तो 'कोई त्रुटि नहीं है' चुनें।

कानपुर में रहने वाले उसके चाचा को लड़की हुई है।

- Ans  1. उसके चाचा को  
 2. लड़की हुई है।  
 3. कानपुर में रहने वाले  
 4. कोई त्रुटि नहीं है

Question ID : 65497836199  
Status : Answered  
Chosen Option : 4

Q.4 दिए गए वाक्य में रेखांकित खंड को प्रतिस्थापित करने के लिए सबसे उपयुक्त विकल्प का चयन करें। यदि इसे प्रतिस्थापित करने की आवश्यकता नहीं है, तो विकल्प 'किसी बदलाव की आवश्यकता नहीं है' का चयन करें।

हिंदी को भारत की राजभाषा स्वीकृत किये गये है।

- Ans  1. राजभाषा स्वीकृत किया गये है।  
 2. किसी बदलाव की आवश्यकता नहीं है।  
 3. राजभाषा स्वीकृत की गयी है।  
 4. राजभाषा स्वीकृत किया गया है।

Question ID : 65497836190  
Status : Answered  
Chosen Option : 4

Q.5 'संक्षिप्त' का विलोम शब्द होगा-

- Ans  1. लिखित  
 2. विस्तृत  
 3. संकुचित  
 4. समेकित

Question ID : 65497836203  
Status : Answered  
Chosen Option : 2

Q.6 दिए गए वाक्य में रेखांकित खंड को प्रतिस्थापित करने के लिए सबसे उपयुक्त विकल्प का चयन करें। यदि इसे प्रतिस्थापित करने की आवश्यकता नहीं है, तो विकल्प 'किसी बदलाव की आवश्यकता नहीं है' का चयन करें।

आपका पत्र सधन्यवाद मिला।

- Ans
- 1. किसी बदलाव की आवश्यकता नहीं है।
  - 2. आपका सधन्यवाद पत्र मिला।
  - 3. आपका पत्र मिला। धन्यवाद।
  - 4. धन्यवाद के प्रति आपका पत्र मिला।

Question ID : 65497836196  
Status : Answered  
Chosen Option : 3

Q.7 निम्नलिखित प्रश्न में, दिए गए चार विकल्पों में से, उस विकल्प का चयन करें जो मुहावरे का अर्थ व्यक्त करता है।

हथियार डालना

- Ans
- 1. विजयी होना
  - 2. लड़ाई करना
  - 3. पराजय स्वीकार करना
  - 4. शत्रु को मारना

Question ID : 65497836198  
Status : Answered  
Chosen Option : 3

Q.8 जीवनभर मैं सत्य का पालन करूँगा।

रेखांकित शब्द के स्थान उचित शब्द लिखिए।

- Ans
- 1. कभी कभी
  - 2. एक साल तक
  - 3. कभी भी
  - 4. आजीवन

Question ID : 65497836205  
Status : Answered  
Chosen Option : 4

Q.9 दिए गए वाक्य का वो भाग ज्ञात करें जिसमें कोई त्रुटि है। यदि कोई त्रुटि नहीं है, तो 'कोई त्रुटि नहीं है' चुनें।

आज मुझे (1) बाज़ार से चादर (2) खरीदने है। (3) कोई त्रुटि नहीं है (4)

- Ans
- 1. 3
  - 2. 4
  - 3. 2
  - 4. 1

Question ID : 65497836191  
Status : Answered  
Chosen Option : 1

Q.10 सही वर्तनी वाले शब्द का चयन करें।

- Ans  1. संगृहित  
 2. संग्रहीत  
 3. संगृहीत  
 4. संग्रहित

Question ID : 65497836188  
Status : Answered  
Chosen Option : 2

Q.11 रिक्त स्थान को भरने के लिए सबसे उपयुक्त विकल्प का चयन करें।

मुझे इस कंपनी में काम करने का पाँच वर्ष का \_\_\_\_\_ है।

- Ans  1. समय  
 2. अनुभव  
 3. प्रयास  
 4. अभ्यास

Question ID : 65497836201  
Status : Answered  
Chosen Option : 2

Q.12 रिक्त स्थान को भरने के लिए सबसे उपयुक्त शब्द का चयन करें।

बैंक का कर्ज चुकाकर वह \_\_\_\_\_ हो गया।

- Ans  1. दयनीय  
 2. उऋण  
 3. खाली  
 4. संतुष्ट

Question ID : 65497836194  
Status : Answered  
Chosen Option : 2

Q.13 निम्नलिखित प्रश्न में, दिए गए चार विकल्पों में से, उस विकल्प का चयन करें जो मुहावरे का अर्थ व्यक्त करता है।

आंख दिखाना

- Ans  1. विमुख होना  
 2. होश आना  
 3. गुस्सा प्रकट करना  
 4. निगरानी करना

Question ID : 65497836195  
Status : Answered  
Chosen Option : 3

Q.14 दिए गए शब्द का विलोम चुनें।

अपमान

- Ans  1. स्वाभिमान  
 2. सम्मान  
 3. सत्कार  
 4. अभिमान

Question ID : 65497836197  
Status : Answered  
Chosen Option : 2

Q.15 दिए गए शब्द का समानार्थी शब्द बताइए।

यमुना

- Ans  1. अलकनंदा  
 2. देवनदी  
 3. कृष्णा  
 4. भागीरथी

Question ID : 65497836192  
Status : Answered  
Chosen Option : 2

Q.16 'दूसरों के लिए अपने सुखों का त्याग' वाक्यांश के लिए एक शब्द होगा-

- Ans  1. आत्मसमर्पण  
 2. आत्मोत्सर्ग  
 3. आदर्शवाद  
 4. आत्मघाती

Question ID : 65497836206  
Status : Answered  
Chosen Option : 2

Q.17 दिये गये वाक्य के किस भाग में त्रुटि है?

यह दवा रोग को समूल से नष्ट कर देगी।

- Ans  1. समूल से  
 2. रोग को  
 3. नष्ट कर देगी।  
 4. यह दवा

Question ID : 65497836202  
Status : Answered  
Chosen Option : 1



Q.18 रिक्त स्थान को भरने के लिए सबसे उपयुक्त शब्द का चयन करें।

तलवार का \_\_\_\_\_ भर जाता है पर बात का नहीं।

- Ans
- 1. नाम
  - 2. पीड़ा
  - 3. घाव
  - 4. गड्ढा

Question ID : 65497836193  
Status : Answered  
Chosen Option : 3

Q.19 'किसी पर विजय पाने की इच्छा रखने वाला' वाक्यांश के लिए एक शब्द होगा-

- Ans
- 1. जिगीषु
  - 2. शत्रु
  - 3. जिजीविषु
  - 4. योद्धा

Question ID : 65497836204  
Status : Answered  
Chosen Option : 1

Q.20 सही वर्तनी वाले शब्द का चयन करें।

- Ans
- 1. उज्जल
  - 2. उज्ज्वल
  - 3. वृष्टीपात
  - 4. अतीवृष्टि

Question ID : 65497836187  
Status : Answered  
Chosen Option : 2

**Comprehension:**

ईर्ष्या (1) \_\_\_\_\_ लज्जावती वृत्ति है। वह अपने धारणकर्ता अर्थात् स्वामी के सामने भी (2) \_\_\_\_\_ खोलकर नहीं आती। उसके रूप आदि का पूरा (3) \_\_\_\_\_ न पाकर भी धारणकर्ता उसकी हरम की बेगमों से अधिक परदा करता है। यह कभी (4) \_\_\_\_\_ रूप से समाज के सामने नहीं आती। उसका कोई बाहरी (5) \_\_\_\_\_ धारणकर्ता पर नहीं दिखाई देता।

निम्न प्रश्नों के उत्तर उपरोक्त गद्यांश के आधार पर दीजिए।

**SubQuestion No : 21**

Q.21 गद्यांश के रिक्त स्थान (1) के लिए सर्वाधिक उपयुक्त शब्द होगा-

- Ans
- 1. अत्यंत
  - 2. प्रेरक
  - 3. न्यून
  - 4. अनुकरणीय

Question ID : 65497836208  
Status : Answered  
Chosen Option : 1

**Comprehension:**

ईर्ष्या (1) \_\_\_\_\_ लज्जावती वृत्ति है। वह अपने धारणकर्ता अर्थात स्वामी के सामने भी (2) \_\_\_\_\_ खोलकर नहीं आती। उसके रूप आदि का पूरा (3) \_\_\_\_\_ न पाकर भी धारणकर्ता उसकी हरम की बेगमों से अधिक परदा करता है। यह कभी (4) \_\_\_\_\_ रूप से समाज के सामने नहीं आती। उसका कोई बाहरी (5) \_\_\_\_\_ धारणकर्ता पर नहीं दिखाई देता।

निम्न प्रश्नों के उत्तर उपरोक्त गद्यांश के आधार पर दीजिए।

**SubQuestion No : 22**

**Q.22** गद्यांश के रिक्त स्थान (2) के लिए सर्वाधिक उपयुक्त शब्द होगा-

- Ans**  1. हाथ  
 2. मुँह  
 3. पैर  
 4. गर्दन

Question ID : **65497836209**  
Status : **Answered**  
Chosen Option : **2**

**Comprehension:**

ईर्ष्या (1) \_\_\_\_\_ लज्जावती वृत्ति है। वह अपने धारणकर्ता अर्थात स्वामी के सामने भी (2) \_\_\_\_\_ खोलकर नहीं आती। उसके रूप आदि का पूरा (3) \_\_\_\_\_ न पाकर भी धारणकर्ता उसकी हरम की बेगमों से अधिक परदा करता है। यह कभी (4) \_\_\_\_\_ रूप से समाज के सामने नहीं आती। उसका कोई बाहरी (5) \_\_\_\_\_ धारणकर्ता पर नहीं दिखाई देता।

निम्न प्रश्नों के उत्तर उपरोक्त गद्यांश के आधार पर दीजिए।

**SubQuestion No : 23**

**Q.23** गद्यांश के रिक्त स्थान (3) के लिए सर्वाधिक उपयुक्त शब्द होगा-

- Ans**  1. सौन्दर्य  
 2. परिचय  
 3. मूल्य  
 4. आकर्षण

Question ID : **65497836210**  
Status : **Answered**  
Chosen Option : **1**

**Comprehension:**

ईर्ष्या (1) \_\_\_\_\_ लज्जावती वृत्ति है। वह अपने धारणकर्ता अर्थात स्वामी के सामने भी (2) \_\_\_\_\_ खोलकर नहीं आती। उसके रूप आदि का पूरा (3) \_\_\_\_\_ न पाकर भी धारणकर्ता उसकी हरम की बेगमों से अधिक परदा करता है। यह कभी (4) \_\_\_\_\_ रूप से समाज के सामने नहीं आती। उसका कोई बाहरी (5) \_\_\_\_\_ धारणकर्ता पर नहीं दिखाई देता।

निम्न प्रश्नों के उत्तर उपरोक्त गद्यांश के आधार पर दीजिए।

**SubQuestion No : 24**

**Q.24** गद्यांश के रिक्त स्थान (4) के लिए सर्वाधिक उपयुक्त शब्द होगा-

- Ans**  1. परोक्ष  
 2. रहस्य  
 3. प्रत्यक्ष  
 4. अलौकिक

Question ID : **65497836211**  
Status : **Answered**  
Chosen Option : **3**

**Comprehension:**

ईर्ष्या (1) \_\_\_\_\_ लज्जावती वृत्ति है। वह अपने धारणकर्ता अर्थात् स्वामी के सामने भी (2) \_\_\_\_\_ खोलकर नहीं आती। उसके रूप आदि का पूरा (3) \_\_\_\_\_ न पाकर भी धारणकर्ता उसकी हरम की बेगमों से अधिक परदा करता है। यह कभी (4) \_\_\_\_\_ रूप से समाज के सामने नहीं आती। उसका कोई बाहरी (5) \_\_\_\_\_ धारणकर्ता पर नहीं दिखाई देता।

निम्न प्रश्नों के उत्तर उपरोक्त गद्यांश के आधार पर दीजिए।

**SubQuestion No : 25**

**Q.25** गद्यांश के रिक्त स्थान (5) के लिए सर्वाधिक उपयुक्त शब्द होगा-

- Ans**
- 1. उदाहरण
  - 2. अंग
  - 3. साधन
  - 4. लक्षण

Question ID : **65497836212**

Status : **Answered**

Chosen Option : **2**

GovtJobsAlert.In