

Constable GD in CAPFs NIA SSF and Rifleman GD in Assam Rifles Examination 2021

Roll Number	www.GovtJobsAlert.In
Candidate Name	www.GovtJobsAlert.In
Venue Name	ION Digital Zone iDZ 2 Mathura Road
Exam Date	09/12/2021
Exam Time :	9:00 AM - 10:30 AM
Subject	Constable GD 2021

Section : Part A General Intelligence and Reasoning

Q.1 दिए गए विकल्पों में से उस अक्षर-समूह का चयन करें जो निम्नलिखित श्रृंखला में प्रश्न चिह्न (?) के स्थान पर आ सकता है।

DMI, GNL, JOO, ?

- Ans
- 1. LPQ
 - 2. MPR
 - 3. NTS
 - 4. OQR

Question ID : 65497828470
Status : Answered
Chosen Option : 2

Q.2 उस विकल्प का चयन करें जो तीसरे अक्षर-समूह से ठीक उसी प्रकार से संबंधित है जैसे दूसरा अक्षर-समूह पहले अक्षर-समूह से संबंधित है।

SBQN : UEVU :: LRFH : ?

- Ans
- 1. NVLO
 - 2. NUKO
 - 3. OULO
 - 4. MVKO

Question ID : 65497828479
Status : Answered
Chosen Option : 2

Q.3 अक्षरों के उस संयोजन का चयन कीजिए, नीचे जिसे दी गई अक्षर श्रृंखला के रिक्त स्थानों में क्रमिक रूप से रखने पर श्रृंखला पूर्ण हो जाएगी।

D _ CT _ O _ TDOC _ DO _ T

- Ans
- 1. ODCTC
 - 2. ODCTD
 - 3. OD TTC
 - 4. TDCTC

Question ID : 65497828467
Status : Answered
Chosen Option : 1

Q.4 उस विकल्प का चयन करें जिसमें दी गई आकृति अंतर्निहित है (घुमाने की अनुमति नहीं है)।

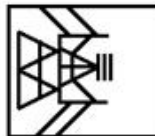
E

Ans

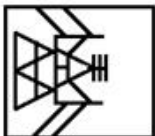
1.



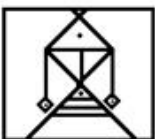
2.



3.



4.



Question ID : 65497828486

Status : Answered

Chosen Option : 2

Q.5 किसी निश्चित कूट भाषा में, TURTLE को RWPVJG के रूप में लिखा जाता है। उसी भाषा में OCTOPUS को किस रूप में लिखा जाएगा?

Ans

1. MEVMRSU

2. QARQNWQ

3. MERQMSU

4. MERQNWQ

Question ID : 65497828480

Status : Answered

Chosen Option : 4

Q.6 दिए गए विकल्पों में से उस संख्या का चयन कीजिए जो निम्न श्रृंखला में प्रश्न चिह्न (?) के स्थान पर आ सकती है।

25, 150, 145, 580, 577, ?

Ans

1. 1020

2. 980

3. 1731

4. 1154

Question ID : 65497828468

Status : Answered


Chosen Option : 3

Q.7 एक निश्चित कूट भाषा में, PLACARD को 29-3-23 लिखा जाता है, और DORMATS को 37-13-40 लिखा जाता है। उसी कूट भाषा में CONFUSE को किस प्रकार लिखा जाएगा?

- Ans
- 1. 30-6-44
 - 2. 35-6-42
 - 3. 32-7-40
 - 4. 32-6-45

Question ID : 65497828488
Status : Answered
Chosen Option : 4

Q.8 उस आकृति का चयन कीजिए जो निम्न आकृति श्रृंखला में प्रश्नवाचक चिह्न (?) के स्थान पर आएगी।




Ans

- 1.
- 2.
- 3.
- 4.

Question ID : 65497828469
Status : Answered
Chosen Option : 4

Q.9 नीचे एक ही पासे की तीन भिन्न स्थितियाँ दी गई हैं। उस अक्षर का चयन करें जो 'Z' अक्षर वाले पृष्ठ के विपरीत पृष्ठ पर है।



Ans

- 1. J
- 2. V
- 3. U
- 4. P

Question ID : 65497828485
Status : Answered
Chosen Option : 4

Q.10 रंजन, रितेश के पिता हैं, जो सनी के नाना हैं। दक्षिता, रीमा की पुत्री है। शिखा, रीमा की सास है। रितेश, शिखा का इकलौता पुत्र है। पल्लवी, सनी की बहन है। दक्षिता का सनी से क्या संबंध है?

- Ans
- 1. चाची
 - 2. माँ
 - 3. बहन
 - 4. पुत्र

Question ID : 65497828481

Status : Answered

Chosen Option : 3

Q.11 निम्नांकित आकृतियों में एक कागज के टुकड़े को मोड़ने का क्रम और मुड़े हुए कागज को काटने की विधि दर्शाई गई है। यह कागज खोलने पर कैसा दिखेगा?



Ans

- 1.
- 2.
- 3.
- 4.

Question ID : 65497828478

Status : Answered

Chosen Option : 2

Q.12 उस विकल्प का चयन करें जो तीसरी संख्या से उसी प्रकार संबंधित है, जिस प्रकार दूसरी संख्या पहली संख्या से संबंधित है।

85 : 6 :: 97 : ?

- Ans
- 1. 7
 - 2. 4
 - 3. 12
 - 4. 10

Question ID : 65497828483

Status : Answered

Chosen Option : 1

Q.13 दिए गए आरेख का ध्यानपूर्वक अध्ययन करें और नीचे दिए गए प्रश्न का उत्तर दें।



उन नियोजित (कार्यरत) युवकों की संख्या कितनी है जो स्नातक नहीं हैं?

- Ans
- 1. 15
 - 2. 19
 - 3. 18
 - 4. 10

Question ID : 65497828473
Status : Answered
Chosen Option : 3

Q.14 F, G, H, I और J एक पंक्ति में दक्षिण की ओर मुँह करके बैठे हैं, तथा R, S, T, U और V एक दूसरी पंक्ति में उत्तर की ओर मुँह करके बैठे हैं, जो पहली पंक्ति के समानांतर है। I, F के दाएँ दूसरा है, F, S के सामने है। H और S विकर्णतः एक-दूसरे के सामने हैं और अंतिम छोरों पर हैं। G, V के सामने हैं जो S के ठीक बाएँ है। T, जो V के बाएँ दूसरा है, J के सामने है। R पंक्ति के एक छोर पर है। निम्नलिखित में से कौन से युग्म एक-दूसरे के सामने हैं?

- Ans
- 1. HU, IV
 - 2. GS, FR
 - 3. JR, IT
 - 4. HR, IU

Question ID : 65497828482
Status : Not Answered
Chosen Option : --

Q.15 यदि '+' का अर्थ 'x', '-' का अर्थ '+', 'x' का अर्थ '-' और '-' का अर्थ '-' है, तो निम्नलिखित व्यंजक का मान क्या होगा?

$$47 + 12 \div 288 \times 18$$

- Ans
- 1. 470
 - 2. 454
 - 3. 548
 - 4. 47.75

Question ID : 65497828484
Status : Answered
Chosen Option : 3

Q.16 दिए गए पैटर्न का ध्यानपूर्वक अध्ययन करें और उस संख्या का चयन करें जो इसमें प्रश्न चिह्न (?) के स्थान पर आ सकती है।

125 5 3
128 ? 7
121 11 2

- Ans 1. 8
 2. 2
 3. 4
 4. 6

Question ID : 65497828476
Status : Answered
Chosen Option : 2

Q.17 एक निश्चित कूट भाषा में, KINGDOM को LKPHFQN के रूप में लिखा जाता है। उसी भाषा में TRIVIAL को किस रूप में लिखा जाएगा?

- Ans 1. UTLWKCM
 2. UTKWKCM
 3. UTLWKBM
 4. UTLWLBM

Question ID : 65497828474
Status : Answered
Chosen Option : 2

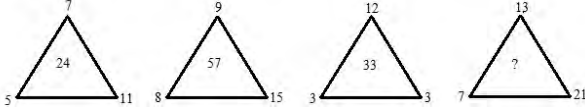
Q.18 दिए गए विकल्पों में से उस विकल्प का चयन कीजिए जो निम्न शब्दों के सही क्रम को अंग्रेजी शब्दकोश के अनुसार को व्यक्त करता है।

1. Target
2. Tarnish
3. Tarot
4. Tamarind
5. Tenacity

- Ans 1. 4, 1, 2, 3, 5
 2. 4, 1, 2, 5, 3
 3. 2, 1, 4, 3, 5
 4. 1, 4, 2, 3, 5

Question ID : 65497828466
Status : Answered
Chosen Option : 1

Q.19 दिए गए पैटर्न का ध्यानपूर्वक अध्ययन करें और उस संख्या का चयन करें जो इसमें प्रश्न चिह्न (?) के स्थान पर आ सकती है।



- Ans**
- 1. 58
 - 2. 70
 - 3. 62
 - 4. 68

Question ID : 65497828477
Status : Answered
Chosen Option : 4

Q.20 यदि दर्पण को संयोजन के दाईं ओर रखा गया हो, तो दिए गए संयोजन के सही दर्पण प्रतिबिंब का चयन करें।

5 4 R Q X Z

- Ans**
- 1. 2 4 R Q X Z
 - 2. 2 4 R Q X Z
 - 3. Z X Q R 4 2
 - 4. 5 4 R Q X Z

Question ID : 65497828490
Status : Answered
Chosen Option : 2

Q.21 उस विकल्प का चयन करें जो तीसरे शब्द से उसी प्रकार संबंधित है जिस प्रकार दूसरा शब्द पहले शब्द से संबंधित है।

बहादुर : साहसी :: बेवकूफ : ?

- Ans**
- 1. बुद्धिमान
 - 2. समझदार
 - 3. डरपोक
 - 4. उन्मादी

Question ID : 65497828471
Status : Answered
Chosen Option : 4

Q.22 छः दोस्त, प्रिया, अरुण, वंश, रजत, भावना और मंजू एक वृत्ताकार मेज़ के चारों ओर मेज़ के केंद्र की विपरीत दिशा में मुंह करके बैठे हैं। वंश, रजत के दाईं ओर दूसरे स्थान पर बैठा है। अरुण और प्रिया रजत के पड़ोसी नहीं हैं। मंजू, रजत और अरुण के बीच बैठी है। वंश और रजत के बीच कौन बैठा/बैठी है?

- Ans
- 1. मंजू
 - 2. भावना
 - 3. अरुण
 - 4. प्रिया

Question ID : 65497828472
Status : Answered
Chosen Option : 2

Q.23 दिए गए कथनों और निष्कर्षों को ध्यानपूर्वक पढ़ें। यह मानते हुए कि कथनों में दी गई सूचना सत्य है, भले ही वह सामान्य रूप से ज्ञात तथ्यों से भिन्न प्रतीत होती हो, बताइए कि दिए गए निष्कर्षों में से कौन सा / कौन से निष्कर्ष कथनों का तार्किक रूप से अनुसरण करता है / करते हैं।

कथन:
सभी कपड़े, फूल हैं।
कुछ फूल, सब्जियाँ हैं।

निष्कर्ष:
कुछ फूल, कपड़े हैं।
कुछ सब्जियाँ, फूल हैं।

- Ans
- 1. निष्कर्ष I और II दोनों अनुसरण करते हैं।
 - 2. केवल निष्कर्ष I अनुसरण करता है।
 - 3. दोनों में से कोई भी निष्कर्ष अनुसरण करता है।
 - 4. केवल निष्कर्ष II अनुसरण करता है।

Question ID : 65497828475
Status : Answered
Chosen Option : 1

Q.24 दिए गए विकल्पों में से उस संख्या का चयन कीजिए, जो निम्नलिखित श्रेणी में प्रश्नवाचक चिन्ह (?) के स्थान पर आ सकती है।

23, 23, 46, 138, 552, ?

- Ans
- 1. 2760
 - 2. 2850
 - 3. 2650
 - 4. 2520

Question ID : 65497828489
Status : Not Answered
Chosen Option : --

Q.25 चार अक्षर-समूह दिए गए हैं, जिनमें से तीन किसी तरह से संगत हैं और एक असंगत है। उस अक्षर-समूह का चयन करें, जो अन्य से असंगत है।

- Ans 1. GAH
 2. MTA
 3. VCJ
 4. DKR

Question ID : 65497828487
Status : Answered
Chosen Option : 1

Section : Part B General Knowledge and General Awareness

Q.1 लोहा और इस्पात उद्योगों के संदर्भ में, शहरों और राज्यों का निम्नलिखित में से कौन सा युग्म सही है?

- Ans 1. दुर्गापुर - असम
 2. बोकारो - बिहार
 3. भिलाई - छत्तीसगढ़
 4. राउरकेला - कर्नाटक

Question ID : 65497828496
Status : Marked For Review
Chosen Option : 3

Q.2 Which of the following metals is susceptible to fire if kept in the open?

- Ans 1. Potassium
 2. Lithium
 3. Mercury
 4. Lead

Question ID : 65497828508
Status : Not Answered
Chosen Option : --

Q.3 भारतीय संविधान का चौहत्तरवां संशोधन अधिनियम, 1992 निम्न में से किससे संबंधित है?

- Ans 1. नगर पालिकाओं
 2. आपातकालीन प्रावधान
 3. नागरिकता
 4. मौलिक कर्तव्य

Question ID : 65497828503
Status : Answered
Chosen Option : 1

Q.4 महाजन कमीशन रिपोर्ट 2020 का संबंध निम्न में से किन राज्यों के सीमा विवाद से है?

- Ans
- 1. कर्नाटक, केरल और महाराष्ट्र
 - 2. ओडिशा, तेलंगाना और आंध्र प्रदेश
 - 3. असम, नागालैंड और मिज़ोरम
 - 4. केरल, तमिलनाडु और कर्नाटक

Question ID : 65497828504
Status : Not Answered
Chosen Option : --

Q.5 गुजरात के अलावा, विवाहित महिलाओं द्वारा की जाने वाली जिविती (जिव्जी/जीवति) पूजा, मुख्य रूप से _____ राज्य/केंद्र शासित प्रदेश में की जाती है।

- Ans
- 1. जम्मू और कश्मीर
 - 2. नागालैंड
 - 3. महाराष्ट्र
 - 4. बिहार

Question ID : 65497828507
Status : Not Attempted and Marked For Review
Chosen Option : --

Q.6 निम्नलिखित में से किस शासक ने 'दीन-ए-इलाही' नाम से एक नई जीवन शैली/धर्म की शुरुआत की?

- Ans
- 1. बहादुर शाह द्वितीय
 - 2. जहांगीर
 - 3. अकबर
 - 4. शाहजहाँ

Question ID : 65497828493
Status : Answered
Chosen Option : 3

Q.7 हृदय के एक चक्र (एक कार्डियक सायकल) में मछली के हृदय से रक्त कितनी बार गुजरता है?

- Ans
- 1. एक बार
 - 2. चार बार
 - 3. तीन बार
 - 4. दो बार

Question ID : 65497828509
Status : Marked For Review
Chosen Option : 2

Q.8 निम्न में से किसका संबंध तीसरे आंग्ल मैसूर युद्ध और भारत में लोक सेवाओं की शुरूआत से है?

- Ans
- 1. लॉर्ड विलियम बेन
 - 2. लॉर्ड वैलेज़ली
 - 3. लॉर्ड कार्नवालिस
 - 4. लॉर्ड हेस्टिंग्स

Question ID : 65497828500
Status : Answered
Chosen Option : 3

Q.9 मौर्य वंश ने निम्न में से किस राजवंश के बाद मगध पर शासन किया था?

- Ans
- 1. नंद राजवंश
 - 2. शुंग राजवंश
 - 3. गुप्त राजवंश
 - 4. कुषाण राजवंश

Question ID : 65497828502
Status : Not Attempted and Marked For Review
Chosen Option : --

Q.10 अगस्त 2021 में भारतीय रिज़र्व बैंक द्वारा जारी एक परिपत्र के अनुसार, 1 अक्टूबर 2021 के बाद से, एक महीने में कुल _____ घंटे की अवधि तक एटीएम (ATM) में नकदी नहीं होने की स्थिति में बैंकों पर ₹10,000 प्रति एटीएम (ATM) का जुर्माना लगाया जाएगा।

- Ans
- 1. 24
 - 2. 10
 - 3. 18
 - 4. 12

Question ID : 65497828515
Status : Not Answered
Chosen Option : --

Q.11 2020 के पुर्तगाली ग्रैंड प्रिक्स में, निम्नलिखित में से किसने अपनी 92वीं जीत के साथ, फॉर्मूला वन का रिकॉर्ड बनाकर माइकल शूमाकर को पछाड़ा और सूची में शीर्ष स्थान प्राप्त किया?

- Ans
- 1. चार्ल्स लेक्लर्क
 - 2. लुईस हैमिल्टन
 - 3. सेबस्टियन वेट्टेल
 - 4. मैक्स वेरस्टैपेन

Question ID : 65497828506
Status : Answered
Chosen Option : 2

Q.12 _____ गोवा की पहली महिला राज्यपाल थीं।

- Ans
- 1. पद्मजा नायडू
 - 2. मृदुला सिन्हा
 - 3. कुमुदबेन जोशी
 - 4. सरला प्रेवाल

Question ID : 65497828510

Status : Not Attempted and Marked For Review

Chosen Option : --

Q.13 Amoeba pushes out one or more finger-like projections called _____ or false feet for movement and capture of food.

- Ans
- 1. contractile vacuoles
 - 2. food vacuoles
 - 3. endoplasm
 - 4. pseudopodia

Question ID : 65497828492

Status : Not Answered

Chosen Option : --

Q.14 वीडियो सहायक रेफरी (VAR) प्रणाली का उपयोग _____ के खेल में किया जाता है।

- Ans
- 1. बास्केटबॉल
 - 2. क्रिकेट
 - 3. हॉकी
 - 4. फुटबॉल

Question ID : 65497828491

Status : Answered

Chosen Option : 2

Q.15 'शांताराम (Shantaram)' निम्न में से किस लेखक द्वारा रचित उपन्यास है?

- Ans
- 1. ग्रेगरी डेविड रॉबर्ट्स
 - 2. अमिताव घोष
 - 3. चेतन भगत
 - 4. सलमान रुश्दी

Question ID : 65497828513

Status : Not Answered

Chosen Option : --

Q.16 भारत के प्रथम और एकमात्र निजी जेट टर्मिनल का उद्घाटन 17 सितंबर, 2020 को कहां किया गया?

- Ans 1. दिल्ली
 2. चेन्नई
 3. गोवा
 4. मुंबई

Question ID : 65497828494
Status : Not Answered
Chosen Option : --

Q.17 'महामघम (Mahamagham)' उत्सव प्रत्येक 12 वर्ष में एक बार _____ में मनाया जाता है।

- Ans 1. नागालैंड
 2. बिहार
 3. गोवा
 4. तमिलनाडु

Question ID : 65497828511
Status : Not Answered
Chosen Option : --

Q.18 1991-92 में पहला _____ विश्वनाथन आनंद को प्रदान किया गया था।

- Ans 1. एकलव्य पुरस्कार
 2. द्रोणाचार्य पुरस्कार
 3. अर्जुन पुरस्कार
 4. राजीव गांधी खेल रत्न पुरस्कार

Question ID : 65497828514
Status : Answered
Chosen Option : 4

Q.19 निम्न में से किसे 'तरल आस्तियों' तथा 'मांग एवं आवधिक देयताओं' के अनुपात के रूप में परिभाषित किया जाता है?

- Ans 1. सांविधिक चलनिधि अनुपात
 2. नकदी कर्ज अनुपात
 3. आरक्षित नकदी निधि अनुपात
 4. आस्ति देयता अनुपात

Question ID : 65497828495
Status : Not Answered
Chosen Option : --

Q.20 नवंबर 2020 में, मूडीज इन्वेस्टर्स सर्विस द्वारा जारी आकलन के अनुसार वित्तीय वर्ष 2021 में भारत की जी.डी.पी. (GDP) कितनी रहने का अनुमान है?

- Ans
- 1. -9.6%
 - 2. -11.6%
 - 3. -8.6%
 - 4. -10.6%

Question ID : 65497828499

Status : Marked For Review

Chosen Option : 1

Q.21 दिसंबर 2020 में, आईआईटी (IIT) _____ के शोधकर्ताओं ने सिद्ध किया है कि कैसे इकाई जालक में एक सूक्ष्म-संरचित रेत की घड़ी (hour-glass) की आकृति वाले मेटास्ट्रक्चर (metastructure) के उपयोग के साथ, फैलाव और रुकाव बन्ध की व्यापक विविधता प्राप्त की जा सकती है?

- Ans
- 1. दिल्ली
 - 2. खड़गपुर
 - 3. रोपड़
 - 4. कानपुर

Question ID : 65497828498

Status : Not Attempted and Marked For Review

Chosen Option : --

Q.22 संयुक्त राष्ट्र के खाद्य और कृषि संगठन (FAO) ने वर्ष _____ में कोरापुट पारंपरिक कृषि को 'वैश्विक रूप से महत्वपूर्ण कृषि विरासत प्रणाली' (GIAHS) के रूप में घोषित किया।

- Ans
- 1. 2014
 - 2. 2012
 - 3. 2011
 - 4. 2013

Question ID : 65497828512

Status : Not Answered

Chosen Option : --

Q.23 1992 के 73 वें संशोधन अधिनियम ने संविधान में एक नया खंड _____ जोड़कर पंचायतों को संवैधानिक मान्यता प्रदान की।

- Ans
- 1. IX
 - 2. X
 - 3. XI
 - 4. XII

Question ID : 65497828497

Status : Answered

Chosen Option : 3

Q.24 लॉर्ड रिपन द्वारा हंटर कमीशन की नियुक्ति किस वर्ष में की गई थी?

- Ans
- 1. 1883
 - 2. 1881
 - 3. 1880
 - 4. 1882

Question ID : 65497828501
Status : Answered
Chosen Option : 4

Q.25 Which of the following statements is NOT a feature of 'soil'?

- Ans
- 1. It is made up of inorganic matter.
 - 2. It is made up of minerals.
 - 3. It covers the surface of the earth.
 - 4. It is a thin layer of grainy substance.

Question ID : 65497828505
Status : Not Answered
Chosen Option : --

Section : Part C Elementary Mathematics

Q.1 यदि एक आयत, जिसका क्षेत्रफल 154 cm^2 है, की भुजाओं में 3 cm का अंतर है, तो लंबी भुजा की लंबाई (cm में) ज्ञात कीजिए।

- Ans
- 1. 14
 - 2. 15
 - 3. 12.5
 - 4. 14.5

Question ID : 65497828540
Status : Not Answered
Chosen Option : --

Q.2 दो शहरों के बीच की दूरी 55 km/h की चाल से 8 h में तय की जाती है। यदि चाल को 25 km/h बढ़ा दें, तो कितने समय (घंटे और मिनट में) की बचत होगी?

- Ans
- 1. 2 h 30 min
 - 2. 3 h 30 min
 - 3. 3 h 50 min
 - 4. 2 h 50 min

Question ID : 65497828519
Status : Answered
Chosen Option : 2

Q.3 बट्टी को अपना स्कूटर ₹17,000 में बेचने पर 15% की हानि होती है। 18% लाभ अर्जित करने के लिए उसे यह स्कूटर किस मूल्य पर (₹में) बेचना चाहिए?

- Ans**
- 1. 23,900
 - 2. 23,600
 - 3. 24,200
 - 4. 22,400

Question ID : 65497828532
Status : Answered
Chosen Option : 2

Q.4 ₹15,500 की राशि पर साधारण ब्याज की एक निश्चित वार्षिक प्रतिशत दर से $3\frac{1}{2}$ वर्षों में प्राप्त मिश्रधन ₹19,189 है। उसी राशि पर $6\frac{2}{3}$ वर्षों में समान दर से प्राप्त साधारण ब्याज (निकटतम ₹में) कितना होगा?

- Ans**
- 1. ₹7,027
 - 2. ₹7,012
 - 3. ₹8,057
 - 4. ₹8,060

Question ID : 65497828536
Status : Not Answered
Chosen Option : --

Q.5 एक वस्तु पर निर्माता 12% का लाभ कमाता है, थोक विक्रेता 10% का लाभ कमाता है, और खुदरा विक्रेता 15% का लाभ कमाता है। यदि वस्तु का खुदरा विक्रय मूल्य ₹56,672 है, तो निर्माता के लिए उस वस्तु का लागत मूल्य ज्ञात करें।

- Ans**
- 1. ₹40,000
 - 2. ₹32,000
 - 3. ₹35,000
 - 4. ₹28,000

Question ID : 65497828530
Status : Not Attempted and Marked For Review
Chosen Option : --

Q.6 तीन अंकों की बड़ी से बड़ी संख्या को 3, 4, 6, 15 और 20 से विभाजित करने पर प्रत्येक स्थिति में शेषफल 1 प्राप्त होता है। उस संख्या के अंकों का योग क्या होगा?

- Ans**
- 1. 10
 - 2. 15
 - 3. 16
 - 4. 13

Question ID : 65497828533
Status : Answered
Chosen Option : 3

Q.7 एक वस्तु का क्रय मूल्य ₹1,545 है, जो अंकित मूल्य से 25% कम है। यदि वस्तु को 18% की छूट पर बेचा जाता है, तो इस लेनदेन में लाभ प्रतिशत कितना होगा?

- Ans
- 1. 9.67
 - 2. 13.33
 - 3. 9.33
 - 4. 13.67

Question ID : 65497828537
Status : Answered
Chosen Option : 3

Q.8 सात विषम क्रमिक (आरोही क्रम) संख्याओं का औसत 79 है। इनमें से पहली पांच संख्याओं का औसत क्या होगा?

- Ans
- 1. 77
 - 2. 75
 - 3. 78
 - 4. 76

Question ID : 65497828534
Status : Not Answered
Chosen Option : --

Q.9 2, 4, 6 के चतुर्थांशपाती (fourth proportional) और 4, 8 के तृतीयानुपाती (third proportional) का अनुपात ज्ञात कीजिए।

- Ans
- 1. 3 : 4
 - 2. 5 : 9
 - 3. 6 : 11
 - 4. 4 : 3

Question ID : 65497828538
Status : Not Answered
Chosen Option : --

Q.10 एक बैग में केवल ₹1, ₹2 और ₹5 के मूल्यवर्गों के सिक्के 12 : 5 : 3 के अनुपात में हैं। यदि बैग में कुल राशि ₹3,626 है, तो बैग में ₹5 के सिक्कों की संख्या कितनी है?

- Ans
- 1. 294
 - 2. 291
 - 3. 285
 - 4. 297

Question ID : 65497828535
Status : Not Answered
Chosen Option : --

Q.11 64 cm × 36 cm × 44 cm की भुजाओं वाले एक ठोस धात्विक घनाभ को पिघलाया जाता है और इस पदार्थ से, 12 cm की त्रिज्या वाली ठोस गेंदे बनाई जाती हैं। गेंदों की संख्या कितनी होगी? ($\pi = \frac{22}{7}$ लें)

- Ans**
- 1. 14
 - 2. 15
 - 3. 10
 - 4. 12

Question ID : 65497828521
Status : Not Answered
Chosen Option : --

Q.12 A और B मिलकर एक काम को 6 दिनों में पूरा कर सकते हैं। B और C मिलकर उसी काम को 10 दिनों में पूरा कर सकते हैं। A, B और C एक साथ मिलकर उसी काम को 5 दिनों में पूरा कर सकते हैं। A और C एक साथ मिलकर उसी काम को कितने दिनों में पूरा कर सकते हैं?

- Ans**
- 1. 8 दिन
 - 2. $8\frac{1}{2}$ दिन
 - 3. $7\frac{1}{2}$ दिन
 - 4. 7 दिन

Question ID : 65497828525
Status : Answered
Chosen Option : 3

Q.13 सचिन को 35 km चलने में प्रेम से 50 min अधिक समय लगता है। लेकिन यदि सचिन अपनी चाल दोगुनी कर देता है, तो वह प्रेम से $1\frac{1}{2}$ घंटा आगे हो जाता है। सचिन की चाल कितनी है?

- Ans**
- 1. $7\frac{1}{2}$ km/h
 - 2. 7 km/h
 - 3. 8 km/h
 - 4. $8\frac{1}{2}$ km/h

Question ID : 65497828526
Status : Not Answered
Chosen Option : --

Q.14 छह अंकों की वह सबसे बड़ी संख्या कौन सी है जो 42, 44, 26, 39 और 40 से विभाज्य है?

- Ans 1. 960960
 2. 960945
 3. 960958
 4. 960954

Question ID : 65497828527
Status : Not Answered
Chosen Option : --

Q.15 दो पार्टियों ने चुनाव में हिस्सा लिया। पार्टी D ने पार्टी R द्वारा प्राप्त कुल मतों से 12% अधिक मत प्राप्त किए। यदि पार्टी R को 176000 वोट मिले, तो वह कितने मत से चुनाव में पराजित हुई?

- Ans 1. 62000
 2. 24000
 3. 48000
 4. 40000

Question ID : 65497828528
Status : Answered
Chosen Option : 2

Q.16 यदि राहुल के वेतन में से 60% कर की कटौती की जाती है, तो उसे कर के रूप में ₹12,800 का भुगतान करना होता है। राहुल द्वारा भुगतान किया जाने वाला कुल कर कितना है?

- Ans 1. ₹32,000
 2. ₹30,000
 3. ₹35,000
 4. ₹28,000

Question ID : 65497828524
Status : Not Answered
Chosen Option : --

Q.17 नौ छात्रे ₹800 में खरीदे गए और 7 छात्रों को ₹800 में बेच दिया गया। लाभ प्रतिशत (दशमलव के दो अंकों तक सही) क्या है?

- Ans 1. 20
 2. 28
 3. 26.5
 4. 28.57

Question ID : 65497828516
Status : Not Answered
Chosen Option : --

Q.18 गेहूं और चावल के बाजार मूल्य का अनुपात 3 : 8 है और एक परिवार में गेहूं और चावल की खपत की गई मात्रा का अनुपात 4 : 9 है। गेहूं और चावल पर खर्च का अनुपात क्या है?

- Ans**
- 1. 6 : 1
 - 2. 2 : 3
 - 3. 3 : 2
 - 4. 1 : 6

Question ID : **65497828520**
Status : **Answered**
Chosen Option : **3**

Q.19 किसी विशिष्ट शहर की आबादी 5,00,000 है। यदि वार्षिक जन्म दर 5% और वार्षिक मृत्यु दर 1% है, तो 3 वर्ष बाद शहर की आबादी कितनी होगी?

- Ans**
- 1. 5,95,502
 - 2. 5,62,432
 - 3. 4,44,498
 - 4. 4,42,368

Question ID : **65497828517**
Status : **Not Answered**
Chosen Option : --

Q.20 मधु और शाइनी एक कार्य को 20 दिनों में पूरा कर सकती हैं, शाइनी और रोजी उसी कार्य को 12 दिनों में पूरा कर सकती हैं, तथा रोजी और मधु इसी कार्य को 15 दिनों में पूरा कर सकती हैं। वे सब एक साथ मिलकर इस कार्य को कितने दिनों में पूरा करेंगी?

- Ans**
- 1. 12 दिन
 - 2. 4 दिन
 - 3. 10 दिन
 - 4. 8 दिन

Question ID : **65497828531**
Status : **Answered**
Chosen Option : **3**

Q.21 एक कुर्सी का क्रय मूल्य ₹450 है। रवि ₹3,825 में 10 कुर्सियाँ खरीदता है। 10 कुर्सियाँ खरीदने पर उसे मिलने वाला छूट प्रतिशत कितना है?

- Ans**
- 1. 15%
 - 2. 8%
 - 3. 10%
 - 4. 12%

Question ID : **65497828523**
Status : **Answered**
Chosen Option : **1**

Q.22 यदि A, B का एक-तिहाई है, B, C का दोगुना है, D, A का दो-तिहाई है और A, B, C और D का औसत 74 है, तो A और C के बीच कितना अंतर है?

- Ans
- 1. 28
 - 2. 26
 - 3. 24
 - 4. 32

Question ID : 65497828522
Status : Not Answered
Chosen Option : --

Q.23 $25 - [20 - \{10 - (7 - 2)\}]$ का मान ज्ञात करें।

- Ans
- 1. 7
 - 2. 12
 - 3. 10
 - 4. 8

Question ID : 65497828529
Status : Answered
Chosen Option : 3

Q.24 ₹1,40,000 की धनराशि पर अर्जित 8% ब्याज का उपयोग स्कूल में प्रतिवर्ष समान धनराशि वाली 20 छात्रवृत्तियाँ प्रदान करने के लिए किया जाता है। प्रत्येक छात्रवृत्ति की धनराशि (₹ में) कितनी है?

- Ans
- 1. 660
 - 2. 560
 - 3. 700
 - 4. 600

Question ID : 65497828539
Status : Not Answered
Chosen Option : --

Q.25 निम्नलिखित का मान कितना है?

$$\frac{18 \times 4 \div 2 \text{ of } 3 - 4}{2 \times (9 - 7) + 1 - 2 \times 3 \div 4 \text{ of } \frac{1}{2}}$$

- Ans
- 1. $\frac{1}{6}$
 - 2. $\frac{1}{2}$
 - 3. 4
 - 4. 6

Question ID : 65497828518
Status : Not Answered
Chosen Option : --

Section : Part D English

Q.1 Select the option that can be used as a one-word substitute for the given group of words.

Relating to a festival

- Ans
- 1. Frenzy
 - 2. Festoon
 - 3. Festal
 - 4. Fulvous

Question ID : 65497828543
Status : Not Answered
Chosen Option : --

Q.2 Select the most appropriate synonym of the given word.

Choosy

- Ans
- 1. Precious
 - 2. Picky
 - 3. Critical
 - 4. Boring

Question ID : 65497828558
Status : Not Answered
Chosen Option : --

Q.3 Select the option that will improve the underlined part of the given sentence. In case no improvement is needed, select 'No improvement required'.

Which planet is most closer to the sun?

- Ans 1. the closest
 2. most close
 3. No improvement required
 4. more close

Question ID : 65497828549
Status : Not Answered
Chosen Option : --

Q.4 Select the most appropriate ANTONYM of the given word.

Allure

- Ans 1. Charm
 2. Repulsion
 3. Appeal
 4. Magic

Question ID : 65497828548
Status : Not Answered
Chosen Option : --

Q.5 Select the option that can be used as a one-word substitute for the given group of words.

One who treats female ailments

- Ans 1. Chiropodist
 2. Psychiatrist
 3. Gynaecologist
 4. Neurologist

Question ID : 65497828545
Status : Not Answered
Chosen Option : --

Q.6 Select the most appropriate meaning of the given idiom.

Dig up dirt on someone

- Ans 1. Bury the dead in the ground
 2. Discover damaging information about someone
 3. Take revenge on somebody
 4. Protest against someone

Question ID : 65497828560
Status : Not Answered
Chosen Option : --

Q.7 Select the most appropriate option that can substitute the underlined segment in the given sentence. If there is no need to substitute it, select 'No substitution required'.

Kolkata is a capital of the Indian state of West Bengal.

- Ans**
- 1. was a capital of the
 - 2. is the capital of the
 - 3. No substitution required
 - 4. is a capital of a

Question ID : **65497828553**
Status : **Not Answered**
Chosen Option : --

Q.8 The following sentence has been split into four segments. Identify the segment that contains a grammatical error.

Here into / the main campus of the hospital / comes the trained doctors / led by the Principal.

- Ans**
- 1. the main campus of the hospital
 - 2. comes the trained doctors
 - 3. Here into
 - 4. led by the Principal

Question ID : **65497828541**
Status : **Not Answered**
Chosen Option : --

Q.9 Select the correctly spelt word.

- Ans**
- 1. Confeguration
 - 2. Confeguration
 - 3. Configuration
 - 4. Configuretiun

Question ID : **65497828544**
Status : **Not Answered**
Chosen Option : --

Q.10 Select the option that can be used as a one-word substitute for the given group of words.

Belonging to very distant past and no longer in existence

- Ans**
- 1. Aged
 - 2. Old-fashioned
 - 3. Ancient
 - 4. Historic

Question ID : **65497828559**
Status : **Not Answered**
Chosen Option : --

Q.11 Select the **INCORRECTLY** spelt word.

- Ans 1. Capillary
 2. Auxillary
 3. Corollary
 4. Ancillary

Question ID : 65497828555
Status : Not Answered
Chosen Option : --

Q.12 Select the most appropriate option that can substitute the underlined segment in the given sentence. If there is no need to substitute it, select 'No substitution required'.

Work hard lest you should not fail.

- Ans 1. lest you shall fail
 2. lest you will fail
 3. No substitution required
 4. lest you should fail

Question ID : 65497828552
Status : Not Answered
Chosen Option : --

Q.13 The following sentence has been split into four segments. Identify the segment that contains a grammatical error.

One or the other / of those men have / stolen my / grandfather's umbrella.

- Ans 1. One or the other
 2. of those men have
 3. grandfather's umbrella
 4. stolen my

Question ID : 65497828546
Status : Not Answered
Chosen Option : --

Q.14 Select the most appropriate option to fill in the blank.

She _____ her breath, surprised by the suddenness of the question.

- Ans 1. gasped
 2. caught
 3. shook
 4. clicked

Question ID : 65497828556
Status : Not Answered
Chosen Option : --

Q.15 The following sentence has been split into four segments. Identify the segment that contains a grammatical error.

The music / blared out / and was impossible / to have a conversation.

- Ans** 1. and was impossible
 2. The music
 3. to have a conversation
 4. blared out

Question ID : 65497828557
Status : Not Answered
Chosen Option : --

Q.16 Select the most appropriate option to fill in the blank.

Last week, I saw a TV programme about the _____ of global warming on agriculture.

- Ans** 1. impact
 2. relief
 3. import
 4. shock

Question ID : 65497828554
Status : Not Answered
Chosen Option : --

Q.17 Select the most appropriate synonym of the given word.

Treacherous

- Ans** 1. Retarded
 2. Sluggish
 3. Unfaithful
 4. Steadfast

Question ID : 65497828547
Status : Not Answered
Chosen Option : --

Q.18 Select the most appropriate ANTONYM of the given word.

Obedient

- Ans** 1. Voluntary
 2. Willing
 3. Disobedient
 4. Flexible

Question ID : 65497828542
Status : Not Answered
Chosen Option : --

Q.19 Select the most appropriate option to fill in the blank.

A doctor's first concern is the _____ of his patients.

- Ans 1. profit
 2. well-being
 3. advantage
 4. benefit

Question ID : **65497828551**
Status : **Not Answered**
Chosen Option : --

Q.20 Select the most appropriate meaning of the given idiom.

To land a job

- Ans 1. To plough the land
 2. To be dismissed
 3. To do farming
 4. To be hired

Question ID : **65497828550**
Status : **Not Answered**
Chosen Option : --

Comprehension:

In the following passage, some words have been deleted. Read the passage carefully and select the most appropriate option to fill in each blank.

Tourists to Jammu and Kashmir have another (1) _____ – a floating post office on the Dal Lake (2) _____ on a carved maroon houseboat. It is fastened (3) _____ the western edge of the Dal Lake. It (4) _____ all regular postal services while being (5) _____ on the lake.

SubQuestion No : 21

Q.21 Select the most appropriate option to fill in blank no.1.

- Ans 1. attraction
 2. invitation
 3. attention
 4. addiction

Question ID : **65497828562**
Status : **Not Answered**
Chosen Option : --

Comprehension:

In the following passage, some words have been deleted. Read the passage carefully and select the most appropriate option to fill in each blank.

Tourists to Jammu and Kashmir have another (1) _____ – a floating post office on the Dal Lake (2) _____ on a carved maroon houseboat. It is fastened (3) _____ the western edge of the Dal Lake. It (4) _____ all regular postal services while being (5) _____ on the lake.

SubQuestion No : 22

Q.22 Select the most appropriate option to fill in blank no.2.

- Ans 1. completed
 2. assembled
 3. built
 4. produced

Question ID : **65497828563**
Status : **Not Answered**
Chosen Option : --

Comprehension:

In the following passage, some words have been deleted. Read the passage carefully and select the most appropriate option to fill in each blank.

Tourists to Jammu and Kashmir have another (1) _____ – a floating post office on the Dal Lake (2) _____ on a carved maroon houseboat. It is fastened (3) _____ the western edge of the Dal Lake. It (4) _____ all regular postal services while being (5) _____ on the lake.

SubQuestion No : 23

Q.23 Select the most appropriate option to fill in blank no.3.

- Ans 1. in
 2. of
 3. by
 4. to

Question ID : **65497828564**
Status : **Not Answered**
Chosen Option : --

Comprehension:

In the following passage, some words have been deleted. Read the passage carefully and select the most appropriate option to fill in each blank.

Tourists to Jammu and Kashmir have another (1) _____ – a floating post office on the Dal Lake (2) _____ on a carved maroon houseboat. It is fastened (3) _____ the western edge of the Dal Lake. It (4) _____ all regular postal services while being (5) _____ on the lake.

SubQuestion No : 24

Q.24 Select the most appropriate option to fill in blank no.4.

- Ans 1. offer
 2. offers
 3. has offered
 4. offered

Question ID : **65497828565**
Status : **Not Answered**
Chosen Option : --

Comprehension:

In the following passage, some words have been deleted. Read the passage carefully and select the most appropriate option to fill in each blank.

Tourists to Jammu and Kashmir have another (1) _____ – a floating post office on the Dal Lake (2) _____ on a carved maroon houseboat. It is fastened (3) _____ the western edge of the Dal Lake. It (4) _____ all regular postal services while being (5) _____ on the lake.

SubQuestion No : 25

Q.25 Select the most appropriate option to fill in blank no.5.

- Ans 1. boating
 2. ashore
 3. afloat
 4. floating

Question ID : **65497828566**
Status : **Not Answered**
Chosen Option : --

Section : **Part D Hindi**

Q.1 दिए गए शब्द का विलोम चुनें।

आहार

- Ans 1. निराहार
 2. विहार
 3. उपहार
 4. निरहार

Question ID : **65497828577**
Status : **Answered**
Chosen Option : 1

Q.2 दिये गये वाक्यांश के लिए एक शब्द दीजिये।

जो प्राप्त न हो सके

- Ans 1. प्राप्त
 2. अप्राप्य
 3. अप्राप्त
 4. प्राप्य

Question ID : **65497828578**
Status : **Answered**
Chosen Option : 3

Q.3 नीचे दिए वाक्यांश के लिए एक शब्द दिए गए विकल्पों में से चुनिए-

जो कुछ न जानता हो

- Ans
- 1. सर्वज्ञ
 - 2. भिन्न
 - 3. अज्ञ
 - 4. ज्ञानी

Question ID : 65497828579
Status : Answered
Chosen Option : 3

Q.4 रिक्त स्थान भरने के लिए सबसे उपयुक्त शब्द का चयन करें।

हमने कभी ऐसी _____ नहीं देखी थी।

- Ans
- 1. युद्ध
 - 2. संग्राम
 - 3. रक्तपात
 - 4. लड़ाई

Question ID : 65497828571
Status : Answered
Chosen Option : 4

Q.5 दिए गये वाक्यांश के लिए एक शब्द दीजिये।

जिसका ज्ञान कम हो

- Ans
- 1. अनजान
 - 2. अज्ञानी
 - 3. अल्पज्ञ
 - 4. अनपढ़

Question ID : 65497828572
Status : Answered
Chosen Option : 3

Q.6 दिये गये वाक्य के किस भाग में त्रुटि है?

उसने अपना पौरुषत्व प्रमाणित कर दिया।

- Ans
- 1. प्रमाणित
 - 2. कर दिया।
 - 3. पौरुषत्व
 - 4. उसने अपना

Question ID : 65497828580
Status : Answered
Chosen Option : 3

Q.7 दिए गए वाक्य का वह भाग ज्ञात करें जिसमें कोई त्रुटि है। यदि कोई त्रुटि नहीं है, तो 'कोई त्रुटि नहीं है' चुनें।

आपसे इसका (1)/ स्पष्टीकरण करने (2)/ के लिए कहा था (3)/ कोई त्रुटि नहीं है (4)

Ans 1. 2

2. 4

3. 3

4. 1

Question ID : 65497828576

Status : Answered

Chosen Option : 3

Q.8 निम्नलिखित प्रश्न में, दिए गए चार विकल्पों में से उस विकल्प का चयन करें, जो मुहावरे का अर्थ व्यक्त करता है।

चिराग तले अंधेरा

Ans 1. बेतुकी बातें करना

2. बुरी राय देना

3. पंडित के घर में मूर्खता का आचरण

4. घबराना

Question ID : 65497828570

Status : Answered

Chosen Option : 1

Q.9 दिए गए वाक्य में रेखांकित खंड को प्रतिस्थापित करने के लिए सबसे उपयुक्त विकल्प का चयन करें। यदि इसे प्रतिस्थापित करने की आवश्यकता नहीं है, तो विकल्प 'किसी बदलाव की आवश्यकता नहीं है' का चयन करें।

इस कक्ष का निर्माण रोटरी क्लब की सौजन्यता से हुआ है।

Ans 1. रोटरी क्लब का सौजन्य से हुआ है।

2. रोटरी क्लब के सौजन्यता से हुआ है।

3. रोटरी क्लब के सौजन्य से हुआ है।

4. किसी बदलाव की आवश्यकता नहीं है।

Question ID : 65497828573

Status : Answered

Chosen Option : 3

Q.10 दिए गए वाक्य में रेखांकित खंड को प्रतिस्थापित करने के लिए सबसे उपयुक्त विकल्प का चयन करें। यदि इसे प्रतिस्थापित करने की आवश्यकता नहीं है, तो विकल्प किसी बदलाव की आवश्यकता नहीं है' का चयन करें।

आजकल औरतें हर काम में मर्दों का हाथ बँटाते हैं।

Ans 1. मर्दों की हाथ बँटाती हैं।

2. किसी बदलाव की आवश्यकता नहीं है।

3. मर्दों का हाथ बँटाती है।

4. मर्दों का हाथ बँटाती हैं।

Question ID : 65497828575

Status : Answered

Chosen Option : 4

Q.11 निम्नलिखित में से शुद्ध वर्तनी वाला शब्द कौन सा है?

- Ans 1. विषाद
 2. विसाद
 3. विशाद
 4. वीषाद

Question ID : 65497828582
Status : Answered
Chosen Option : 1

Q.12 दिए गए शब्द का विलोम चुनें।

मूक

- Ans 1. गूंगा
 2. विमुख
 3. वाचाल
 4. खगोल

Question ID : 65497828569
Status : Answered
Chosen Option : 3

Q.13 कौनसा शब्द 'परिणय' का समानार्थी शब्द नहीं है?

- Ans 1. शादी
 2. विवाह
 3. पाणिग्रहीता
 4. पाणिग्रहण

Question ID : 65497828568
Status : Answered
Chosen Option : 3

Q.14 दिये गये वाक्य में रेखांकित अंश को प्रतिस्थापित करने के लिए सबसे उपयुक्त विकल्प का चयन करें।

इस पुस्तक का छपित मूल्य कितना है?

- Ans 1. मौखिक
 2. प्रकाशित
 3. मुद्रित
 4. लिखित

Question ID : 65497828584
Status : Answered
Chosen Option : 2

Q.15 'फट पड़ना' मुहावरे का सही अर्थ है-

- Ans 1. एकदम गुस्से में हो जाना
 2. बिखर जाना
 3. आश्चर्यचकित हो जाना
 4. पिघल जाना

Question ID : 65497828585
Status : Answered
Chosen Option : 2

Q.16 'खग' का पर्यायवाची है-

- Ans 1. परिन्दा
 2. तनय
 3. विटप
 4. विशिख

Question ID : 65497828581
Status : Answered
Chosen Option : 1

Q.17 रिक्त स्थान को भरने के लिए सबसे उपयुक्त विकल्प का चयन करें।

मनीष के मुख पर _____ झलकता है।

- Ans 1. ओज
 2. साहस
 3. पौरुष
 4. दंभ

Question ID : 65497828586
Status : Answered
Chosen Option : 1

Q.18 रिक्त स्थान को भरने के लिए सबसे उपयुक्त शब्द का चयन करें।

तुम्हें स्मरण _____ चाहिए।

- Ans 1. कराना
 2. दिलाना
 3. आना
 4. लेना

Question ID : 65497828574
Status : Answered
Chosen Option : 3

Q.19 निम्नलिखित में से शुद्ध वर्तनी वाला शब्द कौन सा है?

- Ans 1. हस्तक्षेप
 2. हस्तछेप
 3. हस्ताक्षेप
 4. हस्तच्छेप

Question ID : 65497828583
Status : Answered
Chosen Option : 1

Q.20 दिए गए वाक्य का वह भाग ज्ञात करें जिसमें कोई त्रुटि है। यदि कोई त्रुटि नहीं है, तो 'कोई त्रुटि नहीं है' विकल्प को चुनें।

तुलसी के वास्ते राम अवतार लिया।

- Ans 1. कोई त्रुटि नहीं
 2. तुलसी के वास्ते
 3. राम
 4. अवतार लिया

Question ID : 65497828567
Status : Answered
Chosen Option : 3

Comprehension:

दिए गए अनुच्छेद में कुछ शब्द हटा दिए गए हैं। दिए गए विकल्पों की सहायता से रिक्त स्थान भरें। प्रत्येक संख्या के लिए सबसे उपयुक्त विकल्प का चयन करें।

पर्वतीय दृश्य मनोहर तथा (1) _____ होते हैं। इससे प्रकृति के प्रति (2) _____ की प्रेम भावना (3) _____ होती है। पर्वतीय दृश्य का (4) _____ मात्र कुछ क्षण के लिए चिन्ता तथा व्याकुलता से (5) _____ प्रदान करता है।

SubQuestion No : 21

Q.21 गद्यांश के रिक्त स्थान (1) के लिए सर्वाधिक उपयुक्त शब्द होगा-

- Ans 1. मनोरम
 2. दिव्य
 3. विशाल
 4. आकर्षक

Question ID : 65497828588
Status : Answered
Chosen Option : 4

Comprehension:

दिए गए अनुच्छेद में कुछ शब्द हटा दिए गए हैं। दिए गए विकल्पों की सहायता से रिक्त स्थान भरें। प्रत्येक संख्या के लिए सबसे उपयुक्त विकल्प का चयन करें।

पर्वतीय दृश्य मनोहर तथा (1) _____ होते हैं। इससे प्रकृति के प्रति (2) _____ की प्रेम भावना (3) _____ होती है। पर्वतीय दृश्य का (4) _____ मात्र कुछ क्षण के लिए चिन्ता तथा व्याकुलता से (5) _____ प्रदान करता है।

SubQuestion No : 22

Q.22 गद्यांश के रिक्त स्थान (2) के लिए सर्वाधिक उपयुक्त शब्द होगा-

- Ans** 1. मानव
 2. प्राणियों
 3. पशुओं
 4. निसर्ग

Question ID : **65497828589**
Status : **Answered**
Chosen Option : **1**

Comprehension:

दिए गए अनुच्छेद में कुछ शब्द हटा दिए गए हैं। दिए गए विकल्पों की सहायता से रिक्त स्थान भरें। प्रत्येक संख्या के लिए सबसे उपयुक्त विकल्प का चयन करें।

पर्वतीय दृश्य मनोहर तथा (1) _____ होते हैं। इससे प्रकृति के प्रति (2) _____ की प्रेम भावना (3) _____ होती है। पर्वतीय दृश्य का (4) _____ मात्र कुछ क्षण के लिए चिन्ता तथा व्याकुलता से (5) _____ प्रदान करता है।

SubQuestion No : 23

Q.23 गद्यांश के रिक्त स्थान (3) के लिए सर्वाधिक उपयुक्त शब्द होगा-

- Ans** 1. व्याप्त
 2. जागृत
 3. सुप्त
 4. संयुक्त

Question ID : **65497828590**
Status : **Answered**
Chosen Option : **2**

Comprehension:

दिए गए अनुच्छेद में कुछ शब्द हटा दिए गए हैं। दिए गए विकल्पों की सहायता से रिक्त स्थान भरें। प्रत्येक संख्या के लिए सबसे उपयुक्त विकल्प का चयन करें।

पर्वतीय दृश्य मनोहर तथा (1) _____ होते हैं। इससे प्रकृति के प्रति (2) _____ की प्रेम भावना (3) _____ होती है। पर्वतीय दृश्य का (4) _____ मात्र कुछ क्षण के लिए चिन्ता तथा व्याकुलता से (5) _____ प्रदान करता है।

SubQuestion No : 24

Q.24 गद्यांश के रिक्त स्थान (4) के लिए सर्वाधिक उपयुक्त शब्द होगा-

- Ans** 1. अनुसंधान
 2. स्मरण
 3. मनन
 4. अनुकरण

Question ID : **65497828591**
Status : **Answered**
Chosen Option : **2**

Comprehension:

दिए गए अनुच्छेद में कुछ शब्द हटा दिए गए हैं। दिए गए विकल्पों की सहायता से रिक्त स्थान भरें। प्रत्येक संख्या के लिए सबसे उपयुक्त विकल्प का चयन करें।

पर्वतीय दृश्य मनोहर तथा (1) _____ होते हैं। इससे प्रकृति के प्रति (2) _____ की प्रेम भावना (3) _____ होती है। पर्वतीय दृश्य का (4) _____ मात्र कुछ क्षण के लिए चिन्ता तथा व्याकुलता से (5) _____ प्रदान करता है।

SubQuestion No : 25

Q.25 गद्यांश के रिक्त स्थान (5) के लिए सर्वाधिक उपयुक्त शब्द होगा-

- Ans** 1. मुक्ति
 2. रिक्ति
 3. संपृक्ति
 4. समाप्ति

Question ID : **65497828592**

Status : **Answered**

Chosen Option : **1**

GovtJobsAlert.In