

Constable GD in CAPFs NIA SSF and Rifleman GD in Assam Rifles Examination 2021

Roll Number	www.GovtJobsAlert.In
Candidate Name	www.GovtJobsAlert.In
Venue Name	Gyansthal Mahavidyalaya
Exam Date	01/12/2021
Exam Time :	9:00 AM - 10:30 AM
Subject	Constable GD 2021

Section : Part A General Intelligence and Reasoning

Q.1 लैब A और लैब B, दो कंप्यूटर कक्ष हैं। यदि लैब A से 10 विद्यार्थी लैब B में भेजे जाते हैं, तो दोनों कक्षों में विद्यार्थियों की संख्या समान हो जाती है। यदि लैब B से 26 विद्यार्थी लैब A में भेजे जाते हैं, तो लैब A में विद्यार्थियों की संख्या, लैब B में विद्यार्थियों की संख्या की तीन गुनी हो जाती है। लैब B में विद्यार्थियों की संख्या क्या है?

Ans 1. 62

2. 82

3. 98

4. 78

Question ID : 65497832423

Status : Not Answered

Chosen Option : --

Q.2 दिए गए पैटर्न का ध्यानपूर्वक अध्ययन करें, और उस संख्या का चयन करें जो प्रश्नवाचक चिह्न (?) के स्थान पर आ सकती है।

5 6 7

8 7 9

189 265 ?

Ans 1. 395

2. 409

3. 341

4. 424

Question ID : 65497832422

Status : Not Answered

Chosen Option : --

Q.3 उस विकल्प का चयन करें जिसमें दी गई आकृति सन्नहित है (आकृति को घुमाने की अनुमति नहीं है)।



Ans

✗ 1.



✗ 2.



✓ 3.



✗ 4.



Question ID : 65497832407
Status : Answered
Chosen Option : 3

Q.4 यदि दर्पण को निम्न आकृति के अनुसार 'AB' पर रखा जाता है, तो दी गई आकृति का दर्पण में निर्मित सही प्रतिबिंब चयन करें।




Ans


✓ 1.




✗ 2.



✗ 3.



✗ 4.



Question ID : 65497832415
Status : Answered
Chosen Option : 1

Q.5 यदि 'A + B' का अर्थ है - 'A, B का पिता है', 'A @ B' का अर्थ है - 'A, B का भाई है', और 'A & B' का अर्थ है - 'A, B की पुत्री है', तो निम्नलिखित व्यंजक के अनुसार P का V से क्या संबंध है?

S + P + R @ Q & T & V

- Ans 1. पुत्रवधू
 2. पुत्र
 3. ससुर
 4. दामाद

Question ID : 65497832427
Status : Not Answered
Chosen Option : --

Q.6 उस विकल्प का चयन करें जो चौथी संख्या से उसी तरह से संबंधित है जैसे पहली संख्या दूसरी संख्या से संबंधित है और पांचवीं संख्या छठी संख्या से संबंधित है।

195 : 15 :: ? : 19 :: 273 : 21

- Ans 1. 247
 2. 252
 3. 280
 4. 311

Question ID : 65497832404
Status : Answered
Chosen Option : 1

Q.7 'स्वेटर' का जो संबंध 'ऊन' से है, 'सिक्के' का वही संबंध '_____' से है।

- Ans 1. धन
 2. राजा
 3. मुद्रा
 4. धातु

Question ID : 65497832417
Status : Answered
Chosen Option : 4

Q.8 एक कागज को विशेष तरीके से मोड़ा जाता है और उसमें कई सारे छेद बनाए जाते हैं। जब कागज को खोला जाता है तो वह प्रश्न आकृति की तरह दिखता है। दिए गए विकल्पों में से, उस आकृति का चयन करें जो यह दर्शाती है कि कागज को किस तरह मोड़ा गया और उसमें छेद बनाए गए।

प्रश्न आकृति



Ans

- 1.
- 2.
- 3.
- 4.

Question ID : 65497832424
Status : Answered
Chosen Option : 4

Q.9 अक्षरों के उस संयोजन का चयन करें जिसे दी गई श्रृंखला में रिक्त स्थानों पर क्रमिक रूप से रखने पर श्रृंखला पूरी हो जाएगी।

R _ T _ T U _ _ R U _ S _ S T

- Ans
1. ~~URTSSR~~
2. SSTURR
3. ~~SRTURU~~
4. ~~STURSR~~

Question ID : 65497832409
Status : Not Answered
Chosen Option : --

Q.10 एक विशिष्ट कूट भाषा में, 'DEACTIVATION' को 'CAEDAVITNOIT' लिखा जाता है। इस भाषा में 'FACILITATION' को क्या लिखा जाएगा?

- Ans
1. ~~ICFAATILNOIT~~
2. ~~ICFTILAAOIT~~
3. ~~ICFTAAILNOIT~~
4. ICAFATILNOIT

Question ID : 65497832420
Status : Answered
Chosen Option : 4

Q.11 उस सही विकल्प चयन करें, जो दिए गए शब्दों को उस क्रम में दर्शाता है जिस क्रम में वे अंग्रेजी शब्दकोश में दिखाई पड़ते हैं।

1. Tamale
2. Tamagotchi
3. Tamarind
4. Tamarack
5. Tamable

Ans 1. 1, 5, 2, 4, 3
 2. 2, 1, 3, 4, 5
 3. 1, 3, 4, 5, 2
 4. 5, 2, 1, 4, 3

Question ID : 65497832408
Status : Answered
Chosen Option : 4

Q.12 दिए गए विकल्पों में से उस संख्या का चयन कीजिए जो दी गई श्रृंखला में प्रश्न चिह्न (?) के स्थान पर प्रतिस्थापित हो सकती है।

7, 7, 10.5, 21, 52.5, ?

Ans 1. 163.5
 2. 145
 3. 157.5
 4. 105

Question ID : 65497832414
Status : Answered
Chosen Option : 4

Q.13 दिए गए विकल्पों में से वह संख्या चुनें जो निम्नलिखित श्रृंखला में प्रश्नवाचक चिह्न (?) के स्थान पर आ सकती है।

3, 15, 60, 180, ?

Ans 1. 260
 2. 199
 3. 360
 4. 240

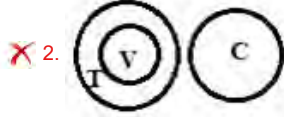
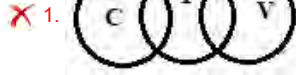
Question ID : 65497832410
Status : Answered
Chosen Option : 3

Q.14 उस वेन आरेख का चयन कीजिए जो निम्न वर्गों के मध्य के संबंध का सर्वश्रेष्ठ निरूपण करता है।

वाहन, ट्रक, कार

(V: वाहन; C: कार; T: ट्रक)

Ans



Question ID : 65497832419
Status : Answered
Chosen Option : 4

Q.15 उस विकल्प का चयन कीजिए, जिसका तीसरे पद से वही संबंध है, जो दूसरे पद का पहले पद से है।

SANITY : OBTZUJ :: FOSTER : ?

- Ans
- ✗ 1. TGPHFU
 - ✓ 2. TPGSFU
 - ✗ 3. TPESFV
 - ✗ 4. TQGSU

Question ID : 65497832425
Status : Answered
Chosen Option : 2

Q.16 चार अक्षर-समूह दिए गए हैं, जिनमें से तीन किसी प्रकार से समान हैं और एक उनसे भिन्न है। उस भिन्न अक्षर-समूह का चयन करें।

- Ans
- ✗ 1. PVY
 - ✗ 2. FLO
 - ✓ 3. GMQ
 - ✗ 4. LRU

Question ID : 65497832412
Status : Answered
Chosen Option : 3

Q.17 दिए गए कथनों और निष्कर्षों को ध्यानपूर्वक पढ़ें। आपको कथनों में दी गई जानकारी को सही मान कर चलना है, भले ही वो सामान्य ज्ञात तथ्यों से भिन्न प्रतीत होती हो, और फिर निर्णय कीजिए कि दिए गए निष्कर्षों में से कौन सा/से निष्कर्ष कथनों का तार्किक रूप से अनुसरण करता है (करते हैं)।

कथन :

- I. कुछ टैबलेट स्मार्टफोन हैं।
- II. सभी स्मार्टफोन मोबाइल फोन हैं।

निष्कर्ष :

- I. कुछ मोबाइल फोन टैबलेट हैं।
- II. कुछ मोबाइल फोन स्मार्टफोन हैं।

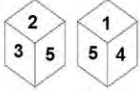
- Ans 1. न तो निष्कर्ष I और न ही निष्कर्ष II अनुसरण करता है।
2. निष्कर्ष I और II दोनों अनुसरण करते हैं।
3. केवल निष्कर्ष II अनुसरण करता है।
4. केवल निष्कर्ष I अनुसरण करता है।

Question ID : 65497832421

Status : Answered

Chosen Option : 2

Q.18 एक ही पासे की दो अलग-अलग स्थितियां दर्शाई गई हैं, जिनके छह पृष्ठों पर 1 से लेकर 6 तक की संख्या अंकित की गई हैं। उस संख्या का चयन करें जो '6' वाले पृष्ठ के विपरीत पृष्ठ पर होगी।



- Ans 1. 3
2. 4
3. 2
4. 5

Question ID : 65497832406

Status : Answered

Chosen Option : 4

Q.19 छः कवि A, B, C, D, E और F एक घरे में एक-दूसरे के सामने, केंद्र की ओर मुँह करके बैठे हैं। A, E के सामने बैठा है। F, E के पास में बैठा है। A, C के पास में बैठा है। B, D के ठीक दायें बैठा है। C, B के सामने बैठा है। B के बाएं पांचवे स्थान पर कौन बैठा है?

- Ans 1. F
2. A
3. D
4. E

Question ID : 65497832418

Status : Answered

Chosen Option : 4

Q.20 अर्पिता, चेतन, इन्सिया, लोहिता, मानुवी और युक्ति किसी गोल मेज के परितः इसके केंद्र की ओर अभिमुख होकर बैठे हैं। चेतन ठीक मानुवी के दाएं पड़ोस में बैठा है। अर्पिता ठीक इन्सिया और युक्ति के बीच में बैठी है। युक्ति ठीक मानुवी के दाएं दूसरे स्थान पर बैठी है। लोहिता और अर्पिता के बीच में कौन बैठा/बैठी है?

- Ans
- 1. मानुवी
 - 2. इन्सिया
 - 3. चेतन
 - 4. युक्ति

Question ID : 65497832403
Status : Answered
Chosen Option : 2

Q.21 दिए गए विकल्पों में से उस आकृति का चयन करें जो निम्नलिखित आकृति श्रृंखला में प्रश्नवाचक चिह्न (?) के स्थान पर आ सकती है।



Ans

- 1.
- 2.
- 3.
- 4.

Question ID : 65497832411
Status : Answered
Chosen Option : 3

Q.22 किसी कूट भाषा में, 'GINGER' को '30-30' और 'RADISH' को '23-36' के रूप में लिखा जाता है। उसी भाषा में 'TOMATO' को किस प्रकार से लिखा जाएगा?

- Ans
- 1. 49-39
 - 2. 39-41
 - 3. 35-45
 - 4. 48-36

Question ID : 65497832413
Status : Answered
Chosen Option : 4

Q.23 यदि 'A' का अर्थ '+' है, 'B' का अर्थ '-' है, 'C' का अर्थ 'x' है और 'D' का अर्थ '÷' है तो दिए गए व्यंजक का मान क्या होगा?

$$12 A 9 C (17 B 6) B 24 A (28 D 7) = ?$$

- Ans 1. 91
 2. 83
 3. 104
 4. 51

Question ID : 65497832405
Status : Answered
Chosen Option : 2

Q.24 एक निश्चित कूट भाषा में ZOMBIE को BEIMOZ लिखा जाता है, और FLEX को EFLX लिखा जाता है। उसी कूट भाषा में PRODUCT को किस प्रकार लिखा जाएगा?

- Ans 1. CDOPRTU
 2. CDPORTU
 3. CDORPTU
 4. CDPORUT

Question ID : 65497832426
Status : Answered
Chosen Option : 2

Q.25 दिए गए विकल्पों में से उस अक्षर-समूह का चयन कीजिए जो निम्न श्रृंखला में प्रश्नवाचक चिह्न (?) के स्थान पर आ सकता है।

MRV, QVZ, UZD, YDH, ?

- Ans 1. DHE
 2. CHL
 3. CFN
 4. CGM

Question ID : 65497832416
Status : Answered
Chosen Option : 2

Section : Part B General Knowledge and General Awareness

Q.1 भारत में अनियमित जमा योजना प्रतिबंध अधिनियम वर्ष _____ में लागू किया गया था।

- Ans 1. 2018
 2. 2020
 3. 2019
 4. 2021

Question ID : 65497832451
Status : Answered
Chosen Option : 2

Q.2 निम्नलिखित में से किस मंत्रालय ने सितंबर 2021 में 'शिक्षक पर्व' का आयोजन किया?

- Ans 1. शिक्षा मंत्रालय
 2. युवा कार्यक्रम और खेल मंत्रालय
 3. संस्कृति मंत्रालय
 4. श्रम एवं रोजगार मंत्रालय

Question ID : 65497832452
Status : Answered
Chosen Option : 3

Q.3 दिल्ली सल्तनत में सैन्य कमांडरों को सौंपी गई प्रादेशिक इकाइयों को _____ के रूप में जाना जाता था।

- Ans 1. इक्ता (Iqta)
 2. उशर (Ushr)
 3. खराज (Kharaj)
 4. हुंडी (Hundi)

Question ID : 65497832449
Status : Answered
Chosen Option : 1

Q.4 2020 में निम्नलिखित में से किसने 'लिज़ ओपन टेनिस' का एकल खिताब जीता?

- Ans 1. आर्यना सबालेनका
 2. सोफिया केनिन
 3. एलीस मार्टेस
 4. सेरेना विलियम्स

Question ID : 65497832440
Status : Not Answered
Chosen Option : --

Q.5 निम्नलिखित में से कृष्णा नदी की एक सहायक नदी कौन सी है?

- Ans 1. प्रणीता
 2. घाटप्रभा
 3. पूर्णा
 4. मंजरा

Question ID : 65497832446
Status : Not Answered
Chosen Option : --

Q.6 2020 में _____ पुरस्कार के लिए पुरस्कार राशि ₹7.5 लाख की राशि से बढ़ाकर ₹25 लाख कर दी गई।

- Ans 1. द्रोणाचार्य (लाइफटाइम)
 2. द्रोणाचार्य (नियमित)
 3. राजीव गांधी खेल रत्न
 4. अर्जुन

Question ID : 65497832448
Status : Not Answered
Chosen Option : --

Q.7 सेबी (SEBI) का मुख्यालय निम्नलिखित में से किस शहर में स्थित है?

- Ans 1. नई दिल्ली
 2. मुंबई
 3. चंडीगढ़
 4. गांधीनगर

Question ID : 65497832436
Status : Answered
Chosen Option : 2

Q.8 निम्नलिखित में से कौन सा युग्म गलत है?

- Ans 1. अहोम राजवंश - असम
 2. गजपति राजवंश - ओडिशा
 3. शर्की राजवंश - पंजाब
 4. मेवाड़ राजवंश - राजस्थान

Question ID : 65497832450
Status : Answered
Chosen Option : 3

Q.9 शिशुओं में जन्म के समय निम्नलिखित में से कौन सी हड्डी नहीं होती?

- Ans 1. जानुका (Kneecap)
 2. गाल (Cheek)
 3. श्रोणि (Pelvic)
 4. कॉलर (Collar)

Question ID : 65497832430
Status : Answered
Chosen Option : 3

Q.10 नेपाल के कवि, भानुभक्त आचार्य, _____ का संस्कृत से नेपाली भाषा में अनुवाद करने के लिए प्रसिद्ध हैं।

- Ans 1. योग सूत्र
 2. महाभारत
 3. मनुस्मृति
 4. रामायण

Question ID : 65497832439
Status : Answered
Chosen Option : 4

Q.11 'इंडिया स्टेट ऑफ़ फ़ॉरेस्ट रिपोर्ट 2019' के अनुसार, भारत के निम्नलिखित में से किस राज्य में सर्वाधिक वन आच्छादित क्षेत्र है?

- Ans 1. नागालैंड
 2. आंध्र प्रदेश
 3. असम
 4. मध्य प्रदेश

Question ID : 65497832441
Status : Answered
Chosen Option : 4

Q.12 निम्नलिखित में से कौन-सा फूल, रात में खिलता है?

- Ans 1. एंजेल्स ट्रम्पेट
 2. गज़ानिया डेज़ी
 3. वेनिस मैलो
 4. जमैकन फीवरप्लान्ट

Question ID : 65497832429
Status : Not Answered
Chosen Option : --

Q.13 निम्नलिखित में से कौन 'सेविंग कैपिटलिज्म फ्रॉम द कैपिटलिस्ट' पुस्तक के लेखक हैं?

- Ans 1. रघुराम राजन
 2. शक्तिकांत दास
 3. बिमल जालान
 4. उर्जित पटेल

Question ID : 65497832431
Status : Not Answered
Chosen Option : --

Q.14 नवंबर 2020 में, भारत _____ ऐसा देश बन गया जिसके पास अपनी स्वतंत्र क्षेत्रीय नौवहन उपग्रह प्रणाली है। इसे अंतरराष्ट्रीय सामुद्रिक संगठन (IMO) द्वारा 'विश्वव्यापी रेडियो नेविगेशन प्रणाली' (WWRNS) के एक भाग के रूप में मान्यता प्राप्त है।

- Ans 1. चौथा
 2. छठा
 3. तीसरा
 4. पाँचवाँ

Question ID : 65497832435
Status : Answered
Chosen Option : 1

Q.15 हड़प्पा स्थलों पर निम्नलिखित में से मिली वस्तुओं में से कौन सी वस्तुओं को, इंजीनियर आज के पाकिस्तान के पंजाब में पहली रेलवे लाइनों का निर्माण करने के लिए ले गए थे?

- Ans 1. ईंटें
 2. दरवाज़े
 3. कांसे के धरण
 4. लोहे की पटरियाँ

Question ID : 65497832447
Status : Answered
Chosen Option : 4

Q.16 एलिफेंटा गुफाओं में _____ संप्रदाय से जुड़े शैल चित्रों (रॉक आर्ट) का संग्रह है।

- Ans 1. विष्णु
 2. बुद्ध
 3. शिव
 4. तीर्थंकर महावीर

Question ID : 65497832434
Status : Answered
Chosen Option : 2

Q.17 लोकप्रिय नृत्य 'लाहो' किस भारतीय राज्य से संबंधित है?

- Ans
- 1. बिहार
 - 2. हरियाणा
 - 3. मेघालय
 - 4. उत्तर प्रदेश

Question ID : 65497832437
Status : Not Answered
Chosen Option : --

Q.18 'ऑपरेशन थंडर 2020' निम्न से संबंधित है:

- Ans
- 1. COVID-19 (कोरोना) के लिए वैक्सीन
 - 2. आतंकवाद के खिलाफ सैन्य कार्रवाई
 - 3. चक्रवाती तूफान से राहत और बचाव अभियान
 - 4. पर्यावरणीय अपराधों के खिलाफ कार्रवाई

Question ID : 65497832443
Status : Answered
Chosen Option : 3

Q.19 उन जीवों को क्या कहा जाता है जो शिशु संततियों को जन्म देते हैं?

- Ans
- 1. जरायुज (विविपरस)
 - 2. विखण्डनशील (फिसिपरस)
 - 3. अंडज (ओविपरस)
 - 4. अंडजरायुज (ओवोविविपरस)

Question ID : 65497832433
Status : Not Answered
Chosen Option : --

Q.20 वर्ल्ड गोल्ड एथलीट ऑफ द ईयर अवार्ड 2019 का/की विजेता कौन है?

- Ans
- 1. जसप्रीत कौर
 - 2. सविता पूनिया
 - 3. रानी रामपाल
 - 4. रितु रानी

Question ID : 65497832432
Status : Not Answered
Chosen Option : --

Q.21 निम्नलिखित में से कौन सा ग्रामीण परिवारों को प्रत्यक्ष ऋण सहायता प्रदान नहीं करता है?

- Ans
- 1. वित्त मंत्रालय
 - 2. क्षेत्रीय ग्रामीण बैंक
 - 3. सहकारी ऋण समितियाँ
 - 4. कृषि व्यापारी

Question ID : 65497832444
Status : Answered
Chosen Option : 1

Q.22 _____ आंशिक परिसीमित तटीय जल निकाय होता है जहाँ नदियों और जलधाराओं के मीठे पानी में महासागरों के खारे पानी का मिश्रण होता है।

- Ans
- 1. लैगून
 - 2. डेल्टा
 - 3. मरूद्यान
 - 4. मुहाना (एशुअरी)

Question ID : 65497832438
Status : Answered
Chosen Option : 2

Q.23 निम्नलिखित में से किस भारतीय सितारवादक और प्रमुख संगीतज्ञ ने 20 वीं शताब्दी की शुरुआत में, एक संकेतन प्रणाली विकसित की और भारतीय उपमहाद्वीप की संगीत प्रथाओं को वर्गीकृत किया जो कि पहले मौखिक परंपरा से आगे बढ़ती रही थीं?

- Ans
- 1. विष्णु नारायण भातखंडे
 - 2. मानिकचंद दुबे
 - 3. सिद्धार खान
 - 4. हाजी विलायत अली खान

Question ID : 65497832428
Status : Not Answered
Chosen Option : --

Q.24 जैसा कि केंद्रीय बजट 2020 में घोषित किया गया है, इलेक्ट्रिक वाहनों की खरीद हेतु लिए गए ऋण पर दिए गए ब्याज पर कटौती के रूप में ₹ _____ तक की राशि का दावा किया जा सकता है।

- Ans
- 1. 2 लाख
 - 2. 2.5 लाख
 - 3. 5 लाख
 - 4. 1.5 लाख

Question ID : 65497832445
Status : Not Answered
Chosen Option : --

Q.25 भारत के संविधान के निम्नलिखित प्रावधानों में से कौन सा प्रावधान संसद के साधारण बहुमत द्वारा संशोधित किया जा सकता है?

- Ans
- 1. संसद में गणपूर्ति (कोरम)
 - 2. मौलिक अधिकार
 - 3. राष्ट्रपति का निर्वाचन और उसकी प्रक्रिया
 - 4. सातवीं अनुसूची की कोई भी सूची

Question ID : 65497832442
Status : Answered
Chosen Option : 1

Section : Part C Elementary Mathematics

Q.1 आरंभ में, रेखा इस दर से कार्य करती है, कि वह एक कार्य को 24 h में पूरा कर सकती है, लेकिन वह उस दर से केवल 8 h तक ही कार्य करती है। उसके बाद, वह इस दर से कार्य करती है कि वह शेष कार्य को 9 h में पूरा कर सकती है। यदि रेखा को एक कार्यवधि में ही वह कार्य पूरा करना है, तो उस कार्य को पूरा करने में उसे कुल कितने h का समय लगेगा?

- Ans**
- 1. 14
 - 2. 10
 - 3. 12
 - 4. 16

Question ID : 65497832465
Status : Not Answered
Chosen Option : --

Q.2 एक वस्तु को ₹210.80 में बेचने पर एक व्यक्ति को 15% की हानि होती है। 9.5% का लाभ प्राप्त करने के लिए, उसे इस वस्तु को किस मूल्य पर बेचना चाहिए?

- Ans**
- 1. ₹291.50
 - 2. ₹271.56
 - 3. ₹280.45
 - 4. ₹265.40

Question ID : 65497832476
Status : Answered
Chosen Option : 1

Q.3 एक व्यक्ति ने स्कूटर से 245 km की दूरी 7 घंटे में तय की। यदि वह इलेक्ट्रिक साइकिल को स्कूटर की चाल की $\frac{3}{7}$ चाल से चलाए, तो 4 घंटे में कितनी दूरी (km में) तय करेगा?

- Ans**
- 1. 45
 - 2. 35
 - 3. 60
 - 4. 50

Question ID : 65497832460
Status : Answered
Chosen Option : 3

Q.4 कोई ट्रेन किसी कार की तुलना में 50% तेज चल सकती है। दोनों एक ही समय पर स्थान A से रवाना होती हैं और 81 kms दूर स्थान B तक एक ही समय पर पहुंच जाती हैं। हालांकि, ट्रेन के स्टेशनों पर ठहरने का समय लगभग 12 मिनट रहा। कार की चाल (निकटतम पूर्णांक में) कितनी है?

- Ans**
- 1. 85 km/h
 - 2. 95 km/h
 - 3. 135 km/h
 - 4. 105 km/h

Question ID : 65497832466
Status : Not Answered
Chosen Option : --

Q.5 पिछले वर्ष X और Y की आय का अनुपात 4 : 5 था। पिछले वर्ष से इस वर्ष उनकी अपनी आय के अनुपात क्रमशः 3 : 4 और 2 : 3 थे। यदि उनकी वर्तमान आय का योग ₹15,400 है, तो X की वर्तमान आय कितनी है?

- Ans**
- 1. ₹9,000
 - 2. ₹7,900
 - 3. ₹7,500
 - 4. ₹6,400

Question ID : 65497832469
Status : Not Answered
Chosen Option : --

Q.6 हरि ने दो वस्तुएं A और B कुल मिलाकर ₹1,250 में खरीदी। उसने A को 20% की हानि पर और B को 15% के लाभ पर बेचा। यदि B का विक्रय मूल्य, A के विक्रय मूल्य के दोगुने से ₹75 कम था, तो A का क्रय मूल्य (₹ में) कितना था?

- Ans**
- 1. 550
 - 2. 600
 - 3. 650
 - 4. 525

Question ID : 65497832474
Status : Not Answered
Chosen Option : --

Q.7 दो पाइप A और B एक भरे हुए टैंक को क्रमशः 10 मिनट और 15 मिनट में खाली कर सकते हैं, जबकि पाइप C अकेले उसी (खाली) टैंक को 12 मिनट में भर सकता है। जब टैंक पूरा भरा होता है, तो A और B को 4 मिनट के लिए खोला जाता है और फिर उसके बाद केवल पाइप A को बंद कर दिया जाता है और C को तुरंत (B के साथ) खोल दिया जाता है। अब टैंक को पूरी तरह भरने में कितना समय (मिनट में) लगेगा?

- Ans**
- 1. 20
 - 2. 30
 - 3. 25
 - 4. 40

Question ID : 65497832477
Status : Not Answered
Chosen Option : --

Q.8 7 m गहराई और 20 m त्रिज्या वाले खाली बेलनाकार टैंक में अधिकतम कितना पानी भरा जा सकता है?
($\pi = \frac{22}{7}$ लीजिए)

- Ans**
- 1. 8800 m³
 - 2. 4000 m³
 - 3. 8000 m³
 - 4. 4800 m³

Question ID : 65497832468
Status : Answered
Chosen Option : 1

Q.9 10% वार्षिक ब्याज दर पर 3.5 वर्षों के लिए निवेशित किसी धनराशि का साधारण ब्याज, 9% वार्षिक ब्याज दर पर 4.5 वर्षों के लिए निवेशित उतनी ही धनराशि के साधारण ब्याज से ₹55 कम होता है। धनराशि की गणना करें।

- Ans**
- 1. ₹407.40
 - 2. ₹975
 - 3. ₹1,000
 - 4. ₹500

Question ID : 65497832458
Status : Answered
Chosen Option : 3

Q.10 $\frac{4}{5} \div 3\frac{1}{4}$ of $\frac{8}{13} - \frac{\frac{1}{7} - \frac{1}{8}}{\frac{1}{7} + \frac{1}{8}} \times 4\frac{2}{7} + \frac{3}{5}$ का मान इनमें से किसके बराबर है?

- Ans**
- 1. $\frac{5}{7}$
 - 2. $\frac{2}{7}$
 - 3. $\frac{3}{7}$
 - 4. $\frac{6}{7}$

Question ID : 65497832459
Status : Not Answered
Chosen Option : --

Q.11 नौ संख्याओं का औसत 20.6 है। उनमें से तीन संख्याओं का औसत 26.1 है, जबकि अन्य तीन संख्याओं का औसत 15.2 है। शेष तीन संख्याओं का औसत कितना होगा?

- Ans**
- 1. 21
 - 2. 21.5
 - 3. 20.5
 - 4. 35.75

Question ID : 65497832454
Status : Answered
Chosen Option : 3

Q.12 273, 312 और 351 का महत्तम समापवर्तक (HCF) x है, तो x का मान _____ के बीच होगा।

- Ans**
- 1. 25 और 30
 - 2. 35 और 40
 - 3. 40 और 45
 - 4. 30 और 35

Question ID : 65497832472
Status : Answered
Chosen Option : 2

Q.13 दिए गए भिन्न प्रतिशत को निम्नतम पद के अनुपात के रूप में व्यक्त करें।

$$\frac{75}{17} \%$$

- Ans
- 1. 3 : 57
 - 2. 68 : 3
 - 3. 3 : 68
 - 4. 3 : 67

Question ID : 65497832464
Status : Answered
Chosen Option : 3

Q.14 सर्दियों के मौसम में एक दुकानदार ने स्वेटर का मूल्य ₹1422 से घटाकर ₹1264 कर दिया। उसके द्वारा दी गई छूट का प्रतिशत (दशमलव के दो स्थान तक सही) ज्ञात करें।

- Ans
- 1. 10%
 - 2. 12.11%
 - 3. 11.11%
 - 4. 9.11%

Question ID : 65497832463
Status : Answered
Chosen Option : 3

Q.15 $60 \div 16 \times 2 - [76 \div 5 \text{ of } 19 - 15 \div 8 \times (21 - 25) - 3] \div 53$ का मान ज्ञात कीजिए।

- Ans
- 1. $4\frac{2}{5}$
 - 2. $3\frac{7}{10}$
 - 3. $7\frac{2}{5}$
 - 4. $6\frac{4}{15}$

Question ID : 65497832475
Status : Not Answered
Chosen Option : --

Q.16 प्रत्येक 2 cm व्यास वाली सीसे की गेंदों की संख्या ज्ञात करें, जिन्हें 18 cm व्यास वाले एक गोले से बनाया जा सकता है।

- Ans
- 1. 729
 - 2. 827
 - 3. 843
 - 4. 972

Question ID : 65497832471
Status : Not Answered
Chosen Option : --

Q.17 किसी कक्षा में 100 छात्रों के औसत अंक 80 थे। वरीयता सूची में शीर्ष 15 छात्रों और नीचे के 15 छात्रों के औसत अंक क्रमशः 84 और 74 थे। शेष छात्रों के औसत अंक (दशमलव के दो स्थानों तक सही) जात करें।

- Ans**
- 1. 70.42
 - 2. 80.43
 - 3. 82.42
 - 4. 79.43

Question ID : 65497832462
Status : Answered
Chosen Option : 2

Q.18 तीन संख्याएँ इस प्रकार हैं कि पहली संख्या तीसरी संख्या से 30% अधिक है, और दूसरी संख्या तीसरी संख्या से 40% कम है। पहली संख्या का पहली और दूसरी संख्या के योग से अनुपात क्या है?

- Ans**
- 1. $\frac{13}{19}$
 - 2. $\frac{9}{13}$
 - 3. $\frac{6}{13}$
 - 4. $\frac{6}{19}$

Question ID : 65497832455
Status : Answered
Chosen Option : 4

Q.19 एक वस्तु की कीमत में प्रति वर्ष 20% की वृद्धि होती है। यदि तीसरे और चौथे वर्ष के अंत में इसकी कीमतों का अंतर ₹86.40 है, तो दूसरे वर्ष के अंत में इसकी कीमत (₹ में) जात करें।

- Ans**
- 1. 350
 - 2. 420
 - 3. 400
 - 4. 360

Question ID : 65497832473
Status : Answered
Chosen Option : 4

Q.20 एक व्यक्ति ने 8% वार्षिक चक्रवृद्धि ब्याज दर, जो कि वार्षिक रूप से चक्रवृद्धि है, पर ₹13,000 उधार लिए, जो 2 वर्ष में, दो समान वार्षिक किश्तों में वापस करने हैं। प्रत्येक किश्त की धनराशि कितनी होगी?

- Ans**
- 1. ₹7,290
 - 2. ₹7,500
 - 3. ₹7,250
 - 4. ₹7,725

Question ID : 65497832470
Status : Not Answered
Chosen Option : --

Q.21 एक दुकानदार दो जोड़ी जूते समान मूल्य पर खरीदता है और उनमें से एक जोड़ी को 15% लाभ पर और दूसरे को 5% हानि पर बेचता है। यदि उनके विक्रय मूल्यों में ₹140 का अंतर है, तो इस पूरे सौदे में उसे कितना लाभ हुआ?

- Ans
- 1. ₹210
 - 2. ₹35
 - 3. ₹7
 - 4. ₹70

Question ID : 65497832457
Status : Answered
Chosen Option : 4

Q.22 6 कमीजों के अंकित मूल्य ₹8,400 पर 12.5% की छूट है। ₹4,900 में कितनी कमीज खरीदी जा सकती हैं?

- Ans
- 1. 7
 - 2. 6
 - 3. 5
 - 4. 4

Question ID : 65497832461
Status : Answered
Chosen Option : 4

Q.23 यदि $0.25 : x :: 5 : 6$, तो x का मान इनमें से कितने के बराबर है?

- Ans
- 1. 0.9
 - 2. 0.6
 - 3. 1.3
 - 4. 0.3

Question ID : 65497832467
Status : Not Answered
Chosen Option : --

Q.24 तीन संख्याएँ 4 : 3 : 7 के अनुपात में हैं और इनका महत्तम समापवर्तक (HCF) 6 है। इन तीन संख्याओं का योग कितना होगा?

- Ans
- 1. 98
 - 2. 84
 - 3. 42
 - 4. 56

Question ID : 65497832453
Status : Answered
Chosen Option : 2

Q.25 श्रीमती गुप्ता ने अर्धवार्षिक रूप से चक्रवृद्धि होने वाली 8% वार्षिक चक्रवृद्धि व्याज की दर पर ₹50,000 का निवेश 1 वर्ष के लिए सावधि जमा (फिक्स डिपॉजिट) में किया। सावधि जमा की अवधि पूरी होने पर उन्हें कितनी राशि मिलेगी?

- Ans**
- 1. ₹54,000
 - 2. ₹54,080
 - 3. ₹50,416
 - 4. ₹58,000

Question ID : 65497832456
Status : Answered
Chosen Option : 2

Section : Part D English

Q.1 The following sentence has been split into four segments. Identify the segment that contains a grammatical error.

God is great / and we could / be grateful to him for all the gifts / he has bestowed on us.

- Ans**
- 1. God is great
 - 2. and we could
 - 3. he has bestowed on us
 - 4. be grateful to him for all the gifts

Question ID : 65497832482
Status : Not Answered
Chosen Option : --

Q.2 Select the most appropriate meaning of the given idiom.

Full steam ahead

- Ans**
- 1. Miss the train before reaching
 - 2. Make a train journey
 - 3. Move onward with determination
 - 4. Move very noisily

Question ID : 65497832487
Status : Not Answered
Chosen Option : --

Q.3 Select the most appropriate SYNONYM of the given word.

Wily

- Ans**
- 1. Frank
 - 2. Friendly
 - 3. Crafty
 - 4. Honest

Question ID : 65497832496
Status : Not Answered
Chosen Option : --

Q.4 Select the most appropriate option to fill in the blank.

Look at the hippo _____ about happily in the river.

- Ans** 1. stammering
 2. splashing
 3. crackling
 4. sputtering

Question ID : 65497832480
Status : Not Answered
Chosen Option : --

Q.5 Select the INCORRECTLY spelt word.

- Ans** 1. Palace
 2. Peddle
 3. Pecket
 4. Paint

Question ID : 65497832479
Status : Not Answered
Chosen Option : --

Q.6 Select the most appropriate option to fill in the blank.

In the year 1973, there were only 9 tiger reserves, but _____ the number has risen to fifty.

- Ans** 1. gradually
 2. technically
 3. adamantly
 4. consequently

Question ID : 65497832481
Status : Not Answered
Chosen Option : --

Q.7 Select the option that can be used as a one-word substitute for the given group of words.

A place where antiques are kept

- Ans** 1. Resort
 2. Orphanage
 3. Museum
 4. Hangar

Question ID : 65497832486
Status : Not Answered
Chosen Option : --

Q.8 Select the option that can be used as a one-word substitute for the given group of words.

Person who is not an expert in a field of art or music

- Ans 1. Amateur
 2. Patron
 3. Eccentric
 4. Pariah

Question ID : 65497832484
Status : Not Answered
Chosen Option : --

Q.9 Select the option that is closest in meaning to the underlined idiom/phrase in the given sentence.

Please cut down on your expenses now or you will face difficulties in the future.

- Ans 1. raise
 2. recover
 3. reduce
 4. refuse

Question ID : 65497832492
Status : Not Answered
Chosen Option : --

Q.10 Select the option that can be used as a one-word substitute for the given group of words.

Dwarf varieties of trees and shrubs grown in pots

- Ans 1. Bonsai
 2. Shrimp
 3. Bonanza
 4. Pygmy

Question ID : 65497832497
Status : Not Answered
Chosen Option : --

Q.11 Select the correctly spelt word.

- Ans 1. Metallic
 2. Vigorously
 3. Crystallisation
 4. Carying

Question ID : 65497832485
Status : Not Answered
Chosen Option : --

Q.12 The following sentence has been divided into parts. One of them contains an error. Select the part that contains the error from the given options.

We forgot / to wish Susan / in her birthday / this year.

- Ans 1. in her birthday
 2. this year
 3. We forgot
 4. to wish Susan

Question ID : 65497832488
Status : Not Answered
Chosen Option : --

Q.13 The following sentence has been split into four segments. Identify the segment that contains a grammatical error.

Peter said / then / he was / feeling unwell.

- Ans 1. feeling unwell
 2. he was
 3. Peter said
 4. then

Question ID : 65497832495
Status : Not Answered
Chosen Option : --

Q.14 Select the most appropriate option that can substitute the underlined segment in the given sentence. If there is no need to substitute it, select 'No substitution required'.

They have decorated their house nicely, didn't they?

- Ans 1. No substitution required
 2. have they
 3. haven't they
 4. did they

Question ID : 65497832478
Status : Not Answered
Chosen Option : --

Q.15 Select the most appropriate option that can substitute the underlined segment in the given sentence. If there is no need to substitute it, select 'No substitution required'.

No sooner he had returned home then he saw the letter lying on the table.

- Ans 1. No substitution required
 2. had he returned home when
 3. he returned home than
 4. had he returned home than

Question ID : 65497832491
Status : Not Answered
Chosen Option : --

Q.16 Select the most appropriate ANTONYM of the given word.

Certainty

- Ans 1. Unreasonable
 2. Prolong
 3. Doubt
 4. Divulge

Question ID : 65497832483
Status : Not Answered
Chosen Option : --

Q.17 Select the option that will improve the underlined part of the given sentence. In case no improvement is needed, select 'No improvement required'.

Not only did he run away from home, but also stole the money.

- Ans 1. No improvement required
 2. He only did not run
 3. Only he did not ran
 4. Not only did he ran

Question ID : 65497832494
Status : Not Answered
Chosen Option : --

Q.18 Select the most appropriate ANTONYM of the given word.

Assuage

- Ans 1. Soothe
 2. Decrease
 3. Relieve
 4. Provoke

Question ID : 65497832490
Status : Not Answered
Chosen Option : --

Q.19 Select the most appropriate synonym of the given word.

Enormous

- Ans 1. Ordinary
 2. Limited
 3. Massive
 4. Expensive

Question ID : 65497832489
Status : Not Answered
Chosen Option : --

Q.20 Select the most appropriate option to fill in the blank.

The child _____ that he had broken the vase.

- Ans**
- 1. collected
 - 2. requested
 - 3. demanded
 - 4. admitted

Question ID : **65497832493**
Status : **Not Answered**
Chosen Option : --

Comprehension:

In the following passage, some words have been deleted. Read the passage carefully and select the most appropriate option to fill in each blank.

Once there were two brothers. One brother was (1) _____ poor farmer. He worked in the fields, and (2) _____ the weather was bad, he (3) _____ no food. But he was kind and worked a (4) _____. The other brother was a rich man (5) _____ worked on a ship. He was not kind and often cheated people.

SubQuestion No : 21

Q.21 Select the most appropriate option to fill in blank no. 1.

- Ans**
- 1. only
 - 2. simply
 - 3. the
 - 4. a

Question ID : **65497832499**
Status : **Not Answered**
Chosen Option : --

Comprehension:

In the following passage, some words have been deleted. Read the passage carefully and select the most appropriate option to fill in each blank.

Once there were two brothers. One brother was (1) _____ poor farmer. He worked in the fields, and (2) _____ the weather was bad, he (3) _____ no food. But he was kind and worked a (4) _____. The other brother was a rich man (5) _____ worked on a ship. He was not kind and often cheated people.

SubQuestion No : 22

Q.22 Select the most appropriate option to fill in blank no. 2.

- Ans**
- 1. while
 - 2. when
 - 3. after
 - 4. what

Question ID : **65497832500**
Status : **Not Answered**
Chosen Option : --

Comprehension:

In the following passage, some words have been deleted. Read the passage carefully and select the most appropriate option to fill in each blank.

Once there were two brothers. One brother was (1) _____ poor farmer. He worked in the fields, and (2) _____ the weather was bad, he (3) _____ no food. But he was kind and worked a (4) _____. The other brother was a rich man (5) _____ worked on a ship. He was not kind and often cheated people.

SubQuestion No : 23

Q.23 Select the most appropriate option to fill in blank no. 3.

- Ans 1. has
 2. had
 3. may have
 4. will have

Question ID : 65497832501
Status : Not Answered
Chosen Option : --

Comprehension:

In the following passage, some words have been deleted. Read the passage carefully and select the most appropriate option to fill in each blank.

Once there were two brothers. One brother was (1) _____ poor farmer. He worked in the fields, and (2) _____ the weather was bad, he (3) _____ no food. But he was kind and worked a (4) _____. The other brother was a rich man (5) _____ worked on a ship. He was not kind and often cheated people.

SubQuestion No : 24

Q.24 Select the most appropriate option to fill in blank no. 4.

- Ans 1. much
 2. lots
 3. lot
 4. hard

Question ID : 65497832502
Status : Not Answered
Chosen Option : --

Comprehension:

In the following passage, some words have been deleted. Read the passage carefully and select the most appropriate option to fill in each blank.

Once there were two brothers. One brother was (1) _____ poor farmer. He worked in the fields, and (2) _____ the weather was bad, he (3) _____ no food. But he was kind and worked a (4) _____. The other brother was a rich man (5) _____ worked on a ship. He was not kind and often cheated people.

SubQuestion No : 25

Q.25 Select the most appropriate option to fill in blank no. 5.

- Ans 1. who
 2. which
 3. that
 4. whom

Question ID : 65497832503
Status : Not Answered
Chosen Option : --

Section : Part D Hindi

Q.1 दिए गए वाक्य में रेखांकित खंड को प्रतिस्थापित करने के लिए सबसे उपयुक्त विकल्प का चयन करें।
यदि इसे प्रतिस्थापित करने की आवश्यकता नहीं है, तो विकल्प 'किसी बदलाव की आवश्यकता नहीं है'
का चयन करें।

शाम बेटे को पत्र लिखा।

- Ans
- 1. शाम ने
 - 2. शाम को
 - 3. शाम से
 - 4. किसी बदलाव की आवश्यकता नहीं है

Question ID : 65497832508
Status : Answered
Chosen Option : 2

Q.2 'ऊपरी दिखावे के रूप में होने वाला' वाक्यांश के लिए एक शब्द होगा-

- Ans
- 1. अनौपचारिक
 - 2. उल्लेखनीय
 - 3. औपचारिक
 - 4. अधिकारिक

Question ID : 65497832523
Status : Answered
Chosen Option : 2

Q.3 'गीदड़ भभकी' मुहावरे का अर्थ बताइए।

- Ans
- 1. धोखा देने का प्रयास
 - 2. जान से मारने की धमकी
 - 3. झूठी धमकी
 - 4. अपशब्द कहना

Question ID : 65497832512
Status : Answered
Chosen Option : 3

Q.4 रिक्त स्थान भरने के लिए सबसे उपयुक्त शब्द का चयन करें।

दुकान से दो किलो मिठाई _____ लो।

- Ans
- 1. माँग
 - 2. भर
 - 3. खरीद
 - 4. प्राप्त

Question ID : 65497832511
Status : Answered
Chosen Option : 3

Q.5 दिए गए वाक्य का वह भाग ज्ञात करें जिसमें कोई त्रुटि है। यदि कोई त्रुटि नहीं है, तो 'कोई त्रुटि नहीं है' चुनें।

हमें भोगविलास के लिए (1)/ धन नष्ट न (2)/ करना चाहिए। (3)/ कोई त्रुटि नहीं है(4)

- Ans 1. 1
 2. 2
 3. 3
 4. 4

Question ID : 65497832506
Status : Answered
Chosen Option : 2

Q.6 'सम्मूख' का विलोम शब्द होगा-

- Ans 1. उन्मुख
 2. प्रमुख
 3. मुख
 4. विमुख

Question ID : 65497832522
Status : Answered
Chosen Option : 1

Q.7 सही वर्तनी वाले शब्द का चयन कीजिए।

- Ans 1. तात्कालिक
 2. तत्कलीक
 3. तत्कालीक
 4. तत्कालिक

Question ID : 65497832505
Status : Answered
Chosen Option : 1

Q.8 'जो दिये जाने योग्य न हो' वाक्यांश के लिए एक शब्द होगा-

- Ans 1. देय
 2. अदेय
 3. अज्ञेय
 4. गेय

Question ID : 65497832517
Status : Answered
Chosen Option : 2

Q.9 रिक्त स्थान को भरने के लिए सबसे उपयुक्त शब्द का चयन करें।

विषयों में _____ होने से सर्वनाश होता है।

- Ans 1. प्रेम
 2. आसक्ति
 3. स्नेह
 4. अनुराग

Question ID : 65497832518
Status : Answered
Chosen Option : 2

Q.10 दिये गये वाक्यांश के लिए एक शब्द दीजिये।

जिसका विवाह न हुआ हो

- Ans
- 1. अपरिग्रह
 - 2. अपरिणीत
 - 3. अविकारी
 - 4. अनुरक्त

Question ID : 65497832513
Status : Answered
Chosen Option : 2

Q.11 दिये गये वाक्य के किस भाग में त्रुटि है?

प्रायः सभी लोग इस बात को नहीं समझते हैं।

- Ans
- 1. इस बात
 - 2. प्रायः सभी लोग
 - 3. को नहीं
 - 4. समझते हैं।

Question ID : 65497832521
Status : Answered
Chosen Option : 2

Q.12 दिए गए वाक्य में रेखांकित खंड को प्रतिस्थापित करने के लिए सबसे उपयुक्त विकल्प का चयन करें।
यदि इसे प्रतिस्थापित करने की आवश्यकता नहीं है, तो विकल्प किसी बदलाव की आवश्यकता नहीं है का चयन करें।

उसका भाई सेक्रेटरी लगा हुआ है।

- Ans
- 1. सेक्रेटरी लगता है
 - 2. सेक्रेटरी है
 - 3. किसी बदलाव की आवश्यकता नहीं है।
 - 4. सेक्रेटरी लगा है

Question ID : 65497832515
Status : Answered
Chosen Option : 2

Q.13 निम्नलिखित प्रश्न में, दिए गए चार विकल्पों में से उस विकल्प का चयन करें, जो मुहावरे का अर्थ व्यक्त करता है।

उल्टी गंगा बहना

- Ans
- 1. गंगा उलटा बहती हुई दूसरी नदी से मिल जाना
 - 2. गंगा उलटा बह जाना
 - 3. अनुकूल कार्य
 - 4. प्रतिकूल कार्य

Question ID : 65497832510
Status : Answered
Chosen Option : 4

Q.14 कौनसा शब्द 'वायस' का समानार्थी शब्द नहीं है?

- Ans
- 1. काग
 - 2. एकाक्ष
 - 3. काक
 - 4. हरीत

Question ID : 65497832507
Status : Not Answered
Chosen Option : --

Q.15 नीचे दिए वाक्य में रिक्त-स्थान भरने के लिए सबसे उपयुक्त शब्द का चयन करें।

खिड़की के बाहर बारिश का _____ संगीत बज रहा था।

- Ans
- 1. रीमझीम
 - 2. रिमझिम
 - 3. झिमझिम
 - 4. झिमझीम

Question ID : 65497832516
Status : Answered
Chosen Option : 2

Q.16 दिये गये वाक्य के किस भाग में त्रुटि है?

मुझे पैसे की आवश्यकता नहीं है।

- Ans
- 1. पैसे की
 - 2. नहीं है।
 - 3. मुझे
 - 4. आवश्यकता

Question ID : 65497832519
Status : Answered
Chosen Option : 4

Q.17 सही वर्तनी वाले शब्द का चयन कीजिए।

- Ans
- 1. प्रस्तूतीकरण
 - 2. प्रस्तूतिकरण
 - 3. प्रस्तुतीकरण
 - 4. प्रस्तुतिकरण

Question ID : 65497832504
Status : Answered
Chosen Option : 3

Q.18 दिए गए वाक्य में रेखांकित खंड को प्रतिस्थापित करने के लिए सबसे उपयुक्त विकल्प का चयन करें।
यदि इसे प्रतिस्थापित करने की आवश्यकता नहीं है, तो विकल्प 'किसी बदलाव की आवश्यकता नहीं है' का चयन करें।

प्राचार्य ने हमको समझाया की जो परिश्रम करेगा वह सफल होगा।

- Ans
- 1. किसी बदलाव की आवश्यकता नहीं है।
 - 2. प्राचार्य ने हमें समझाया की
 - 3. प्राचार्य ने हमें समझाया कि
 - 4. प्रचार्य ने हमको समझाया कि

Question ID : 65497832514
Status : Answered
Chosen Option : 2

Q.19 दिए गए शब्द का विलोम चुनिए।

सकाम

- Ans 1. निष्काम
 2. शार्थक
 3. विषम
 4. कुकाम

Question ID : 65497832509
Status : Answered
Chosen Option : 1

Q.20 'सुधा' किसका पर्यायवाची है?

- Ans 1. स्त्री
 2. अमृत
 3. पृथ्वी
 4. चंद्रमा

Question ID : 65497832520
Status : Answered
Chosen Option : 2

Comprehension:

सांस्कृतिक गुलामी का सबसे भयानक रूप वह होता है, जब कोई जाति अपनी भाषा को छोड़कर दूसरों की (1) _____ को अपना लेती है और उसी में तुलाने को अपना परम (2) _____ मानने लगती है। यह (3) _____ की पराकाष्ठा है, क्योंकि जो जाति अपनी भाषा में नहीं सोचती, अपनी भाषा में अपना साहित्य नहीं लिखती, अपनी भाषा में अपना दैनिक कार्य (4) _____ नहीं करती, वह अपनी परंपरा से छूट जाती है, अपने (5) _____ को खो बैठती है और उसके स्वाभिमान का प्रचंड विनाश हो जाता है।

निम्न प्रश्नों के उत्तर उपरोक्त गद्यांश के आधार पर दीजिए।

SubQuestion No : 21

Q.21 गद्यांश के रिक्त स्थान (1) के लिए सर्वाधिक उपयुक्त शब्द होगा-

- Ans 1. रचना
 2. शैली
 3. कला
 4. भाषा

Question ID : 65497832525
Status : Answered
Chosen Option : 4

Comprehension:

सांस्कृतिक गुलामी का सबसे भयानक रूप वह होता है, जब कोई जाति अपनी भाषा को छोड़कर दूसरों की (1) _____ को अपना लेती है और उसी में तुतलाने को अपना परम (2) _____ मानने लगती है। यह (3) _____ की पराकाष्ठा है, क्योंकि जो जाति अपनी भाषा में नहीं सोचती, अपनी भाषा में अपना साहित्य नहीं लिखती, अपनी भाषा में अपना दैनिक कार्य (4) _____ नहीं करती, वह अपनी परंपरा से छूट जाती है, अपने (5) _____ को खो बैठती है और उसके स्वाभिमान का प्रचंड विनाश हो जाता है।

निम्न प्रश्नों के उत्तर उपरोक्त गद्यांश के आधार पर दीजिए।

SubQuestion No : 22

Q.22 गद्यांश के रिक्त स्थान (2) के लिए सर्वाधिक उपयुक्त शब्द होगा-

- Ans** 1. गौरव
 2. अभिमान
 3. स्वार्थ
 4. घमंड

Question ID : 65497832526
Status : Answered
Chosen Option : 1

Comprehension:

सांस्कृतिक गुलामी का सबसे भयानक रूप वह होता है, जब कोई जाति अपनी भाषा को छोड़कर दूसरों की (1) _____ को अपना लेती है और उसी में तुतलाने को अपना परम (2) _____ मानने लगती है। यह (3) _____ की पराकाष्ठा है, क्योंकि जो जाति अपनी भाषा में नहीं सोचती, अपनी भाषा में अपना साहित्य नहीं लिखती, अपनी भाषा में अपना दैनिक कार्य (4) _____ नहीं करती, वह अपनी परंपरा से छूट जाती है, अपने (5) _____ को खो बैठती है और उसके स्वाभिमान का प्रचंड विनाश हो जाता है।

निम्न प्रश्नों के उत्तर उपरोक्त गद्यांश के आधार पर दीजिए।

SubQuestion No : 23

Q.23 गद्यांश के रिक्त स्थान (3) के लिए सर्वाधिक उपयुक्त शब्द होगा-

- Ans** 1. आजादी
 2. स्वाधीनता
 3. गुलामी
 4. प्रगति

Question ID : 65497832527
Status : Answered
Chosen Option : 3

Comprehension:

सांस्कृतिक गुलामी का सबसे भयानक रूप वह होता है, जब कोई जाति अपनी भाषा को छोड़कर दूसरों की (1) _____ को अपना लेती है और उसी में तुतलाने को अपना परम (2) _____ मानने लगती है। यह (3) _____ की पराकाष्ठा है, क्योंकि जो जाति अपनी भाषा में नहीं सोचती, अपनी भाषा में अपना साहित्य नहीं लिखती, अपनी भाषा में अपना दैनिक कार्य (4) _____ नहीं करती, वह अपनी परंपरा से छूट जाती है, अपने (5) _____ को खो बैठती है और उसके स्वाभिमान का प्रचंड विनाश हो जाता है।

निम्न प्रश्नों के उत्तर उपरोक्त गद्यांश के आधार पर दीजिए।

SubQuestion No : 24

Q.24 गद्यांश के रिक्त स्थान (4) के लिए सर्वाधिक उपयुक्त शब्द होगा-

- Ans** 1. संपादित
 2. मूर्त
 3. स्पष्ट
 4. अभिव्यक्त

Question ID : 65497832528
Status : Answered
Chosen Option : 1

Comprehension:

सांस्कृतिक गुलामी का सबसे भयानक रूप वह होता है, जब कोई जाति अपनी भाषा को छोड़कर दूसरों की (1)_____ को अपना लेती है और उसी में तुतलाने को अपना परम (2)_____ मानने लगती है। यह (3)_____ की पराकाष्ठा है, क्योंकि जो जाति अपनी भाषा में नहीं सोचती, अपनी भाषा में अपना साहित्य नहीं लिखती, अपनी भाषा में अपना दैनिक कार्य (4)_____ नहीं करती, वह अपनी परंपरा से छूट जाती है, अपने (5)_____ को खो बैठती है और उसके स्वाभिमान का प्रचंड विनाश हो जाता है।

निम्न प्रश्नों के उत्तर उपरोक्त गद्यांश के आधार पर दीजिए।

SubQuestion No : 25

Q.25 गद्यांश के रिक्त स्थान (5) के लिए सर्वाधिक उपयुक्त शब्द होगा-

- Ans**
- 1. सुख
 - 2. व्यक्तित्व
 - 3. सौन्दर्य
 - 4. विकास

Question ID : 65497832529

Status : Answered

Chosen Option : 2