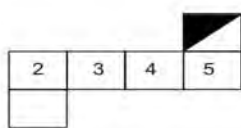


## Constable GD in CAPFs NIA SSF and Rifleman GD in Assam Rifles Examination 2021

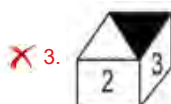
Roll Number	<a href="http://www.qmaths.in">www.qmaths.in</a>
Candidate Name	<a href="http://www.qmaths.in">www.qmaths.in</a>
Venue Name	ION Digital Zone iDZ Jalalpur
Exam Date	30/11/2021
Exam Time :	9:00 AM - 10:30 AM
Subject	Constable GD 2021

### Section : Part A General Intelligence and Reasoning

Q.1 वह बॉक्स चुनें जो दी गई कागज की शीट को मोड़े जाने पर बने बॉक्स के सदृश नहीं है।



Ans



Question ID : 65497831787

Status : Answered

Chosen Option : 2

Q.2 चार व्यक्ति A, B, C और D कैरम खेल रहे हैं। A, C के बाईं ओर ठीक बगल में बैठा है। D, B के दाईं ओर ठीक बगल में बैठा है। कौन सा कथन A की सही स्थिति को दर्शाता है?

Ans

✗ 1. D के सामने

✗ 2. C के सामने

✓ 3. B के सामने

✗ 4. B की बाईं ओर ठीक बगल में

Question ID : 65497831791

Status : Answered

Chosen Option : 3

Q.3 यदि दर्पण को दाईं ओर रखा गया हो, तो दिए गए संयोजन के सही दर्पण प्रतिबिंब का चयन करें।

f h d B 3 1

Ans

- 1.
- 2.
- 3.
- 4.

Question ID : 65497831771

Status : Answered

Chosen Option : 3

Q.4 'तलवार' का 'शस्त्र' से वही संबंध है, जो 'नेकलेस' का '\_\_\_\_\_' से है।

Ans


- 1. सुनार
- 2. गर्दन
- 3. आभूषण
- 4. महिलाएं

Question ID : 65497831790

Status : Answered

Chosen Option : 3

Q.5 दिए गए विकल्पों में से उस आकृति का चयन कीजिए जो दी गई श्रृंखला में प्रश्न चिह्न (?) के स्थान पर आ सकती है।



Ans

- 1.
- 2.
- 3.
- 4.

Question ID : 65497831783

Status : Answered

Chosen Option : 2

Q.6 दिए गए कथनों और निष्कर्षों को ध्यान से पढ़ें। यह मानते हुए कि कथनों में दी गई जानकारी सत्य है, भले ही यह सामान्य रूप से ज्ञात तथ्यों से भिन्न प्रतीत होती हो, यह निर्णय लें कि दिए गए निष्कर्षों में से कौन सा/से निष्कर्ष कथनों का तार्किक रूप से अनुसरण करता है / करते हैं।

कथन:

सभी अमरूद, नाशपातियाँ हैं।  
कुछ कीवी, नाशपातियाँ हैं।

निष्कर्ष:

I. कुछ कीवी, अमरूद हैं।  
II. कुछ नाशपातियाँ, कीवी हैं।

- Ans
- 1. न तो निष्कर्ष I और न ही II अनुसरण करता है।
  - 2. केवल निष्कर्ष I अनुसरण करता है।
  - 3. निष्कर्ष I और II दोनों अनुसरण करते हैं।
  - 4. केवल निष्कर्ष II अनुसरण करता है।

Question ID : 65497831773

Status : Answered

Chosen Option : 4

Q.7 वह विकल्प चुनें, जिसका तीसरी संख्या से ठीक वैसा ही संबंध है, जैसा कि दूसरी संख्या का संबंध पहली संख्या से है।

129 : 216 :: 165 : ?

- Ans
- 1. 252
  - 2. 348
  - 3. 269
  - 4. 306

Question ID : 65497831785

Status : Answered

Chosen Option : 1

Q.8 एक निश्चित कूट भाषा में, DANGER को EDSHHW के रूप में लिखा जाता है। उसी भाषा में SPEEDY को किस रूप में लिखा जाएगा?

- Ans
- 1. TSIEGE
  - 2. TSJFGD
  - 3. TSJEJE
  - 4. TSIFGD

Question ID : 65497831772

Status : Answered

Chosen Option : 2

Q.9 छह लोग, K, L, M, N, O और P किसी षट्कोणीय आकृति वाले मैदान में बैठे हुए हैं, लेकिन यह आवश्यक नहीं कि वे समान क्रम में हों। L या M के बगल में K नहीं बैठा हुआ है। M या O के बगल में N नहीं बैठा हुआ है। L, M के बगल में बैठा हुआ है। M और N के बीच में P बैठा हुआ है। घड़ी की दिशा में लोगों के बैठने की स्थिति का सही क्रम क्या है?

- Ans
- 1. L-N-O-K-M-P
  - 2. L-M-P-N-K-O
  - 3. L-O-K-P-M-N
  - 4. L-M-N-P-K-O

Question ID : 65497831784  
Status : Answered  
Chosen Option : 2

Q.10 उस विकल्प को चुनिए जो तीसरे पद से उसी तरह संबंधित है जिस तरह दूसरा पद पहले पद से संबंधित है।

BUMP : NOSD :: PICK : ?

- Ans
- 1. IEGR
  - 2. GIAR
  - 3. QJBX
  - 4. LGDL

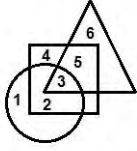
Question ID : 65497831777  
Status : Answered  
Chosen Option : 1

Q.11 चार अक्षर-समूह दिए गए हैं, जिनमें से तीन किसी तरह से एक समान हैं और एक असंगत है। उस अक्षर-समूह का चयन करें जो असंगत है।

- Ans
- 1. HFDZX
  - 2. CAYWU
  - 3. OMKIG
  - 4. TRPNL

Question ID : 65497831768  
Status : Answered  
Chosen Option : 1

Q.12 निम्नलिखित आरेख में, 'वृत्त', 'सैनिकों' को निरूपित करता है, 'वर्ग', 'भारतीयों' को निरूपित करता है, और 'त्रिभुज', 'गायकों' को निरूपित करता है। विभिन्न खंडों में दी गई संख्याएं उस श्रेणी से संबंधित व्यक्तियों की संख्या को दर्शाती हैं।



संख्या '5' किस श्रेणी को दर्शाती है?

Ans

1. भारतीय गायक, जो सैनिक हैं
2. भारतीय गायक, जो सैनिक नहीं हैं
3. भारतीय सैनिक, जो गायक नहीं हैं
4. भारतीय, जो न तो गायक हैं और न ही सैनिक हैं

Question ID : 65497831792

Status : Answered

Chosen Option : 2

Q.13 एक खास कोड भाषा में, 'VENDOR' को 'TMFLGT' लिखा जाता है। इस भाषा में 'CUSTOM' को कैसे लिखा जाएगा?

Ans

1. DTVQPN
2. OMVQWA
3. BSTSPA
4. OTVQMW

Question ID : 65497831778

Status : Answered

Chosen Option : 2

Q.14 दिए गए विकल्पों में से वह संख्या चुनें जो निम्नलिखित श्रेणी में प्रश्नवाचक चिह्न (?) के स्थान पर आ सकती है।

14, 16, 22, 34, 54, 84, ?

Ans

1. 121
2. 112
3. 126
4. 148

Question ID : 65497831770

Status : Answered

Chosen Option : 3

Q.15 किसी निश्चित कूट भाषा में, 'SOBER' को '64' के रूप में कूटबद्ध किया जाता है और 'NOSTALGIA' को '107' के रूप में कूटबद्ध किया जाता है। उसी भाषा में 'REPAIR' को किस तरह कूटबद्ध किया जाएगा?

- Ans
- 1. 67
  - 2. 83
  - 3. 80
  - 4. 73

Question ID : 65497831769  
Status : Answered  
Chosen Option : 4

Q.16 दिए गए विकल्पों में से उस संख्या का चयन कीजिए जो दी गई श्रृंखला में प्रश्न चिह्न (?) के स्थान पर आ सकती है।

13, 15, 12, 17, 10, 21, 8, ?

- Ans
- 1. 25
  - 2. 23
  - 3. 22
  - 4. 24

Question ID : 65497831782  
Status : Answered  
Chosen Option : 1

Q.17 गणितीय चिह्नों का वह सही संयोजन चुनें जिससे (?) संकेतों को क्रमिक रूप से बदला जा सके और दिए गए समीकरण को सही बनाया जा सके।

72 ? 18 ? 11 ? 44

- Ans
- 1. +, -, =
  - 2. ×, +, =
  - 3. ×, +, =
  - 4. ÷, ×, =

Question ID : 65497831786  
Status : Answered  
Chosen Option : 4

Q.18 दिए गए पैटर्न का ध्यानपूर्वक अध्ययन करें और उस संख्या का चयन करें जो इसमें प्रश्न चिह्न (?) के स्थान पर आ सकती है।

13 30 34  
27 ? 14  
19 30 22

- Ans
- 1. 32
  - 2. 30
  - 3. 34
  - 4. 36

Question ID : 65497831774  
Status : Not Answered  
Chosen Option : --

Q.19 उस अक्षर संयोजन का चयन करें जिसे दी गई श्रृंखला के रिक्त स्थानों में क्रमिक रूप से रखे जाने पर श्रृंखला पूर्ण हो जाएगी।

L\_PO\_LO\_OK\_OP\_KL\_POK

- Ans  1. O, O, P, K, L, O  
 2. O, K, P, L, O, O  
 3. O, P, O, K, O, L  
 4. O, P, K, O, L, O

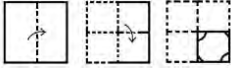
Question ID : 65497831781  
Status : Answered  
Chosen Option : 2

Q.20 एक सेब का मूल्य, एक केले के मूल्य के दो गुने से चार कम है, और एक पपीते का मूल्य, एक सेब के मूल्य से आधा है। यदि फलों का कुल मूल्य ₹ 150 है, तो केले का मूल्य क्या है?

- Ans  1. ₹33  
 2. ₹42  
 3. ₹36  
 4. ₹39

Question ID : 65497831775  
Status : Answered  
Chosen Option : 4

Q.21 नीचे दी गई आकृतियों में कागज़ के एक टुकड़े को मोड़ने का क्रम और मोड़े गए कागज़ को काटने का तरीका दर्शाया गया है। कागज़ को खोले जाने पर वह कैसा दिखाई देगा?



Ans

- 1.
- 2.
- 3.
- 4.

Question ID : 65497831776  
Status : Answered  
Chosen Option : 3

Q.22 दिए गए विकल्पों में से उस अक्षर-समूह का चयन करें, जो निम्नलिखित श्रृंखला में प्रश्नवाचक चिह्न (?) के स्थान पर आ सकता है।

DQH, HUL, MZQ, SFW, ?

- Ans
- 1. YMC
  - 2. ZLC
  - 3. ZNE
  - 4. ZMD

Question ID : 65497831789

Status : Answered

Chosen Option : 4

Q.23 उस सही विकल्प का चयन कीजिए जो दिए गए शब्दों के उस क्रम को दर्शाता है जिस क्रम में वे अंग्रेजी शब्दकोश में आते हैं।

1. Terminus
2. Therefore
3. Terrace
4. Thesis
5. Thiamine

- Ans
- 1. 1, 5, 2, 4, 3
  - 2. 1, 3, 2, 4, 5
  - 3. 1, 2, 3, 4, 5
  - 4. 1, 2, 4, 3, 5

Question ID : 65497831780

Status : Answered

Chosen Option : 2



Q.24 उस विकल्प को चुनें जिसमें दी गई आकृति अंतःस्थापित है (घुमाने की अनुमति नहीं है)।



Ans

✗ 1.



✓ 2.



✗ 3.



✗ 4.



Question ID : 65497831788

Status : Answered

Chosen Option : 2

Q.25 P, Q, R, S, T और U एक परिवार के छह सदस्य हैं। P, Q का पति है। U, Q का भाई है। R, Q के एकमात्र भाई का पुत्र है। S, T की बहन है। P, S का पिता है। U का T से क्या संबंध है?

Ans

✓ 1. मामा

✗ 2. भाई

✗ 3. मौसेरा भाई

✗ 4. फूफा

Question ID : 65497831779

Status : Answered

Chosen Option : 1

Section : Part B General Knowledge and General Awareness

Q.1 मुगलों को अपने तैमूर (तिमुरीद) राजवंश पर गर्व था। वे इसे किस प्रकार मनाया करते थे?

Ans

✗ 1. सैनिकों को दिन समर्पित करके

✗ 2. देश में छुट्टी के रूप में एक विशेष दिन घोषित करके

✓ 3. प्रत्येक शासक को तैमूर और स्वयं का एक चित्र प्रदान करके

✗ 4. घुड़दौड़ और निशानेबाजी जैसे विभिन्न कार्यक्रम आयोजित करके

Question ID : 65497831808

Status : Answered

Chosen Option : 4

Q.2 अक्टूबर 2020 में अंतरराष्ट्रीय सहयोग के लिए निम्नलिखित में से किस बैंक ने जापान बैंक के साथ \$1 बिलियन के ऋण समझौते पर हस्ताक्षर किए?

- Ans
- 1. पंजाब नेशनल बैंक
  - 2. बैंक ऑफ़ बड़ोदा
  - 3. भारतीय औद्योगिक विकास बैंक
  - 4. भारतीय स्टेट बैंक

Question ID : 65497831799  
Status : Answered  
Chosen Option : 3

Q.3 एम्मा रादुकानू (Emma Raducanu) एक पेशेवर टेनिस खिलाड़ी हैं। वह कहाँ की रहने वाली हैं?

- Ans
- 1. कनाडा
  - 2. यूके (UK)
  - 3. क्रोएशिया
  - 4. यूएस (US)

Question ID : 65497831817  
Status : Not Answered  
Chosen Option : --

Q.4 लक्ष्मी नारायण शास्त्री का संबंध निम्नलिखित में से किस नृत्य शैली से है?

- Ans
- 1. कथक
  - 2. ओडिसी
  - 3. कुचिपुड़ी
  - 4. मोहिनीअट्टम

Question ID : 65497831810  
Status : Answered  
Chosen Option : 4

Q.5 बड़ी संख्या में गहरी गलियों या घाटी वाले क्षेत्र को क्या कहा जाता है?

- Ans
- 1. प्रायद्वीपीय क्षेत्र
  - 2. शुष्क स्थलाकृति
  - 3. ह्यूमस क्षेत्र
  - 4. बैडलैंड स्थलाकृति

Question ID : 65497831794  
Status : Answered  
Chosen Option : 1

Q.6 भारत में निम्नलिखित में से कौन सा पुर्तगाली वायसराय था?

- Ans
- 1. कॉम्टे डि लैली (Comte de Lally)
  - 2. फ्रांसिस्को डि आल्मेडा (Francisco de Almeida)
  - 3. फ्रैंकोइस डुप्लेक्स (Francois Dupleix)
  - 4. रॉबर्ट क्लाइव (Robert Clive)

Question ID : 65497831801  
Status : Answered  
Chosen Option : 2

Q.7 निम्नलिखित में से किस देश में दुनिया का सबसे बड़ा आइस रिक है जिसे 'रिड्यूड कैनाल' कहा जाता है?

- Ans
- 1. स्विट्ज़रलैंड
  - 2. रूस
  - 3. यूएस (US)
  - 4. कनाडा

Question ID : 65497831796  
Status : Answered  
Chosen Option : 1

Q.8 केंद्रीय बजट 2020 के अनुसार, भारत जी-20 प्रेसीडेंसी की मेज़बानी कब करेगा?

- Ans
- 1. 2022
  - 2. 2021
  - 3. 2020
  - 4. 2023

Question ID : 65497831800  
Status : Answered  
Chosen Option : 2

Q.9 सितंबर 2021 में, आवश्यक दवाओं की राष्ट्रीय सूची (NLEM) से कितनी दवाओं को हटा दिया गया है?

- Ans
- 1. 36
  - 2. 16
  - 3. 39
  - 4. 19

Question ID : 65497831815  
Status : Not Answered  
Chosen Option : --

Q.10 Which of the following chemicals is known as vinegar?

- Ans
- 1. Acetic acid
  - 2. Formic acid
  - 3. Oxalic acid
  - 4. Tartaric acid

Question ID : 65497831812  
Status : Answered  
Chosen Option : 1

Q.11 \_\_\_\_\_ ने अक्टूबर 2020 में 'कॉन्टेक्टलेस कनेक्शंस' नामक अपना नया ब्रांड अभियान शुरू किया है।

- Ans
- 1. कॉन्टेक्टलेस आई.सी.आई.सी.आई. (ICICI) कार्ड
  - 2. कॉन्टेक्टलेस एस.बी.आई. (SBI) कार्ड
  - 3. कॉन्टेक्टलेस केनरा कार्ड
  - 4. कॉन्टेक्टलेस पी.एन.बी. (PNB) कार्ड

Question ID : 65497831806  
Status : Answered  
Chosen Option : 1

Q.12 'गीता रहस्य' पुस्तक किसने लिखी, जो म्यांमार की मांडले जेल में उनके द्वारा भगवद-गीता पर लिखी गई एक टीका है?

- Ans
- 1. लाला लाजपत राय
  - 2. बाल गंगाधर तिलक
  - 3. अरबिंदो घोष
  - 4. सुभास चंद्र बोस

Question ID : 65497831813  
Status : Answered  
Chosen Option : 2

Q.13 किसी द्रव का उसके कथनांक के कम किसी भी तापमान पर गैस में परिवर्तन इस नाम से जाना जाता है:

- Ans
- 1. निक्षेपण
  - 2. क्रिस्टलीकरण
  - 3. संघनन
  - 4. वाष्पीकरण

Question ID : 65497831807  
Status : Answered  
Chosen Option : 4

Q.14 किस संशोधन अधिनियम के अनुसार, बेटे, बेटियों और उनकी माताओं को पारिवारिक संपत्ति में बराबर हिस्सा मिल सकता है?

- Ans
- 1. हिंदू उत्तराधिकार अधिनियम 1950
  - 2. हिंदू संशोधन अधिनियम 1950
  - 3. हिंदू उत्तराधिकार संशोधन अधिनियम 2005
  - 4. हिंदू अधिनियम 1956

Question ID : 65497831805  
Status : Answered  
Chosen Option : 4

Q.15 निम्नलिखित में से कौन सी स्थिति चाय बागानों को नुकसान पहुंचा सकती है?

- Ans
- 1. 35°C से अधिक तापमान
  - 2. छायादार वृक्षों के नीचे रोपण
  - 3. 150-300 cm के बीच वर्षा
  - 4. गर्म और आर्द्र जलवायु

Question ID : 65497831816  
Status : Answered  
Chosen Option : 3

Q.16 Laterite soil is poor in oxides of which among the following?

- Ans  1. Silicon  
 2. Titanium  
 3. Aluminium  
 4. Iron

Question ID : 65497831797  
Status : Answered  
Chosen Option : 1

Q.17 नील नॉगकिट्रिह एक कन्सर्ट पियानोवादक हैं और भारत में \_\_\_\_\_ के संस्थापक हैं।

- Ans  1. शिलांग चैंबर चोइर  
 2. इंडियन फ्यूजन चैंबर चोइर  
 3. ईस्ट परेड मलयालम चोइर  
 4. द मोज़ार्ट चोईर ऑफ़ इंडिया

Question ID : 65497831793  
Status : Not Answered  
Chosen Option : --

Q.18 संविधान (126वें संशोधन) विधेयक, 2019 का उद्देश्य \_\_\_\_\_ तक अनुसूचित जातियों और अनुसूचित जनजातियों के लिए सीटों के आरक्षण को जारी रखते हुए भारत के संविधान के संस्थापकों द्वारा परिकल्पित समावेशी चरित्र को बनाए रखना है।

- Ans  1. 25 जनवरी 2035  
 2. 25 जनवरी 2040  
 3. 25 जनवरी 2030  
 4. 25 जनवरी 2025

Question ID : 65497831814  
Status : Answered  
Chosen Option : 3

Q.19 निम्नलिखित में से कौन, 'लेटर्स टू मदर' पुस्तक के लेखक हैं?

- Ans  1. जवाहरलाल नेहरू  
 2. पीवी नरसिम्हा राव  
 3. नरेंद्र मोदी  
 4. मनमोहन सिंह

Question ID : 65497831795  
Status : Answered  
Chosen Option : 1

Q.20 फारसी इतिहासकारों ने मुस्लिम सुल्तानों का वर्णन इस रूप में किया है:

- Ans
- 1. ईश्वर के शागिर्द
  - 2. ईश्वर के अवतार
  - 3. ईश्वर की छाया
  - 4. ईश्वर के अनुयायी

Question ID : 65497831803  
Status : Answered  
Chosen Option : 4

Q.21 मुगल साम्राज्य ने 17 वीं शताब्दी के अंत तक संकट का सामना करना शुरू कर दिया था। निम्नलिखित में से कौन सा इसका एक कारक नहीं था?

- Ans
- 1. औरंगजेब के उत्तराधिकारियों के अधीन, शाही प्रशासन की दक्षता जाती रही।
  - 2. औरंगजेब ने दक्कन में एक लंबा युद्ध लड़कर अपने साम्राज्य के सैन्य और वित्तीय संसाधनों को खर्च कर दिया था।
  - 3. बाद के मुगलों ने अपने शक्तिशाली 'मनसबदारों' पर कड़ी नजर रखी।
  - 4. उत्तर और पश्चिम भारत के कई हिस्सों में किसान और जमींदारों के विद्रोह से समस्याएं बढ़ गईं।

Question ID : 65497831804  
Status : Answered  
Chosen Option : 2

Q.22 राजकोषीय उत्तरदायित्व और बजट प्रबंधन अधिनियम के तहत नियम कब लागू हुए?

- Ans
- 1. जुलाई 2004
  - 2. जुलाई 2003
  - 3. अगस्त 2003
  - 4. अगस्त 2004

Question ID : 65497831802  
Status : Answered  
Chosen Option : 1

Q.23 भारतीय बैडमिंटन संघ का गठन किस वर्ष में किया गया था?

- Ans
- 1. 1956
  - 2. 1967
  - 3. 1934
  - 4. 1978

Question ID : 65497831798  
Status : Not Answered  
Chosen Option : --

Q.24 आयुष्मान भारत-प्रधान मंत्री जन आरोग्य योजना की दूसरी वर्षगांठ मनाने के लिए 'आरोग्य मंथन' 2.0 की अध्यक्षता किसने की?

- Ans  1. डॉ. हर्षवर्धन  
 2. डॉ. अश्विनी कुमार चौबे  
 3. अमित शाह  
 4. डॉ. इंदु भूषण

Question ID : 65497831809  
Status : Answered  
Chosen Option : 1

Q.25 निम्नलिखित में से कौन सा एक बहुकोशिकीय जीव है?

- Ans  1. पैरामीशियम  
 2. क्लैमिडोमोनास  
 3. अमीबा  
 4. स्पंज

Question ID : 65497831811  
Status : Answered  
Chosen Option : 4

Section : Part C Elementary Mathematics

Q.1 बाइक A 30 km/h की चाल से 2 घंटे में कुछ दूरी तय करती है, जबकि अन्य बाइक B 35 km/h की चाल से बाइक A के समान दूरी तय करती है। बाइक A द्वारा लिए गए समय का बाइक B द्वारा लिए गए समय से अनुपात कितना है?

- Ans  1. 7 : 6  
 2. 8 : 5  
 3. 6 : 7  
 4. 5 : 6

Question ID : 65497831832  
Status : Answered  
Chosen Option : 1

Q.2 एक दुकानदार 10% और k% की क्रमागत छूट देता है। ग्राहक को ₹1,200 अंकित मूल्य वाला सामान ₹864 में मिलता है। k का मान ज्ञात करें।

- Ans  1. 25  
 2. 15  
 3. 20  
 4. 80

Question ID : 65497831818  
Status : Answered  
Chosen Option : 3

Q.3 दो संख्याएं, तीसरी संख्या से क्रमशः 20% और 50% अधिक हैं। पहली दो संख्याओं का अनुपात कितना होगा?

- Ans
- 1. 2 : 3
  - 2. 4 : 5
  - 3. 1 : 1
  - 4. 5 : 6

Question ID : 65497831825  
Status : Answered  
Chosen Option : 2

Q.4 कोहली पुराने सामानों का कारोबार करता है। उसने ₹10,000 में पुराना एयर कंडिशनर खरीदा। उसने इसे लाने के लिए ₹500 परिवहन पर खर्च किया और इसकी मरम्मत पर ₹2,000 खर्च करके इसे ₹15,000 में बेच दिया। उसका लाभ या हानि प्रतिशत कितना है?

- Ans
- 1. 18% लाभ
  - 2. 18% हानि
  - 3. 20% हानि
  - 4. 20% लाभ

Question ID : 65497831829  
Status : Answered  
Chosen Option : 4

Q.5 जब एक सीधे बेलनाकार टैंक से 154 l तेल निकाला जाता है, तो उसका स्तर 10 cm नीचे गिर जाता है। टैंक का व्यास (cm में) कितना है?

( $\pi = \frac{22}{7}$  लीजिए)

- Ans
- 1. 220
  - 2. 140
  - 3. 70
  - 4. 100

Question ID : 65497831827  
Status : Answered  
Chosen Option : 1

Q.6 तीन व्यक्ति एक साथ सुबह की सैर पर निकलते हैं। उनके द्वारा चले गए कदमों की माप क्रमशः 70 cm, 75 cm और 80 cm हैं। प्रत्येक द्वारा कितनी न्यूनतम दूरी तय की जानी चाहिए, जिसे वे सभी अपने पूर्ण कदमों में तय कर सकें?

- Ans
- 1. 8400 cm
  - 2. 6400 cm
  - 3. 8000 cm
  - 4. 8800 cm

Question ID : 65497831823  
Status : Answered  
Chosen Option : 1



**Q.7** एक समूह में 20 छात्रों का औसत भार 54 kg है। यदि 52 kg औसत भार वाले 12 छात्र समूह में शामिल हो जाते हैं और 56 kg औसत भार वाले 7 छात्र समूह से निकल जाते हैं, तो अब समूह में शेष छात्रों का औसत भार (kg में) कितना होगा?

- Ans**
- 1. 51.96
  - 2. 54.24
  - 3. 53.84
  - 4. 52.48

Question ID : 65497831835  
Status : Answered  
Chosen Option : 4

**Q.8** एक चुनाव में एक उम्मीदवार को कुल वैध वोटों के 75% वोट प्राप्त हुए। यदि कुल वोटों के 20% वोटों को अवैध घोषित कर दिया गया, और कुल वोटों की संख्या 560000 है, तो उस उम्मीदवार के पक्ष में पड़े वैध वोटों की कुल संख्या ज्ञात कीजिए।

- Ans**
- 1. 336000
  - 2. 346000
  - 3. 363000
  - 4. 330000

Question ID : 65497831824  
Status : Answered  
Chosen Option : 1

**Q.9** एक घड़ी और पंखे का कुल क्रय मूल्य ₹1,170 है। रामा घड़ी को 20% के लाभ पर बेचता है और पंखे को 25% के लाभ पर बेचता है, यदि उसका समग्र लाभ ₹265 है, तो घड़ी का क्रय मूल्य ज्ञात करें।

- Ans**
- 1. ₹620
  - 2. ₹550
  - 3. ₹450
  - 4. ₹480

Question ID : 65497831833  
Status : Answered  
Chosen Option : 2

**Q.10** एक नाव द्वारा धारा की विपरीत दिशा में 34 km जाने में लगने वाला समय, इसे धारा की दिशा में 40 km जाने में लगने वाले समय से 25% अधिक है। यदि धारा की चाल 4 km/h है, तो शांत जल में नाव की चाल (km/h में) क्या होगी?

- Ans**
- 1. 24
  - 2. 22
  - 3. 20
  - 4. 21

Question ID : 65497831842  
Status : Answered  
Chosen Option : 4

Q.11 पात्र A और B में अम्ल और पानी का मिश्रण है। पात्र A में अम्ल और पानी का अनुपात 7 : 5 और पात्र B में वह 11 : 13 है। पात्र A से चार लीटर विलयन को पात्र B के 5 लीटर विलयन में मिलाया गया है। इस मिश्रण में अम्ल और पानी का अनुपात कितना होगा?

- Ans
- 1. 37 : 35
  - 2. 22 : 21
  - 3. 21 : 22
  - 4. 35 : 37

Question ID : 65497831836  
Status : Not Answered  
Chosen Option : --

Q.12  $2 - \left[ \frac{1}{2} + \frac{1}{4} + \frac{1}{6} \div \left( \frac{3}{4} - \frac{1}{2} \right) \right]$  का मान कितना होगा?

- Ans
- 1.  $\frac{1}{12}$
  - 2.  $\frac{11}{12}$
  - 3.  $\frac{7}{12}$
  - 4.  $\frac{17}{12}$

Question ID : 65497831828  
Status : Answered  
Chosen Option : 3

Q.13 एक बेलन का वक्र पृष्ठीय क्षेत्रफल  $96 \text{ cm}^2$  और इसका आयतन  $672 \text{ cm}^3$  है। इसका व्यास क्या होगा?

- Ans
- 1. 28 cm
  - 2. 26 cm
  - 3. 24 cm
  - 4. 32 cm

Question ID : 65497831820  
Status : Answered  
Chosen Option : 1

**Q.14** व्यक्तियों का एक समूह किसी कार्य को एक निश्चित समय में पूरा कर सकता है। यदि उस समूह में 4 व्यक्ति अधिक होते, तो उन्हें इस कार्य को पूरा करने में 2 दिन कम लगते। यदि उस समूह में 6 व्यक्ति कम होते, तो उन्हें इस कार्य को पूरा करने में 4 दिन अधिक लगते। प्रारंभ में, समूह में व्यक्तियों की संख्या ज्ञात कीजिए।

- Ans**
- 1. 36
  - 2. 45
  - 3. 40
  - 4. 32

Question ID : **65497831841**  
 Status : **Not Answered**  
 Chosen Option : --

**Q.15** 8 पेन और 14 पेंसिलों का मूल्य, 12 पेन और 5 पेंसिलों के मूल्य के बराबर है। एक पेन के मूल्य और एक पेंसिल के मूल्य का अनुपात क्या है?

- Ans**
- 1. 8 : 5
  - 2. 9 : 5
  - 3. 9 : 4
  - 4. 7 : 5

Question ID : **65497831819**  
 Status : **Answered**  
 Chosen Option : 3

**Q.16** यदि  $3 \text{ of } 5 \div 2 + \frac{3x}{1 + \frac{2x}{2 + \frac{1-x}{1-x}}} = 12\frac{1}{2}$  हो, तो  $x$  का मान कितना होगा?

- Ans**
- 1.  $\frac{25}{13}$
  - 2.  $\frac{15}{11}$
  - 3.  $\frac{34}{33}$
  - 4.  $\frac{35}{33}$

Question ID : **65497831831**  
 Status : **Not Answered**  
 Chosen Option : --

**Q.17** X की आय, Y की आय से 20% कम है, और Z की आय, X और Y की संयुक्त आय से 35% कम है। Z की आय, X की आय से कितने प्रतिशत अधिक है?

- Ans**
- 1. 31.6%
  - 2. 45.5%
  - 3. 38.8%
  - 4. 46.25%

Question ID : 65497831840  
Status : Answered  
Chosen Option : 4

**Q.18** ₹8,000 की धनराशि के लिए, वार्षिक आधार पर चक्रवृद्धि होने वाली 15% वार्षिक चक्रवृद्धि ब्याज दर पर 2 वर्ष और 4 माह का चक्रवृद्धि ब्याज (CI) कितना होगा?

- Ans**
- 1. ₹3,109
  - 2. ₹12,008
  - 3. ₹1,264
  - 4. ₹11,109

Question ID : 65497831826  
Status : Answered  
Chosen Option : 1

**Q.19** एक पंखे का सूची मूल्य ₹4,500 है और इसे 15% की छूट पर बेचा जाता है। यदि सूची मूल्य पर एक दूसरी प्रतिशत छूट देने के बाद इसका अंतिम विक्रय मूल्य ₹3,213 है, तो दूसरी छूट का प्रतिशत कितना है?

- Ans**
- 1. 18%
  - 2. 15%
  - 3. 12%
  - 4. 16%

Question ID : 65497831839  
Status : Answered  
Chosen Option : 1

**Q.20** एक राशि चक्रवृद्धि ब्याज पर 6 वर्ष में ₹12,600 और 9 वर्ष में ₹21,000 हो जाती है। निवेशित राशि \_\_\_\_\_ है।

- Ans**
- 1. ₹4,436
  - 2. ₹4,500
  - 3. ₹4,600
  - 4. ₹4,536

Question ID : 65497831822  
Status : Answered  
Chosen Option : 2

**Q.21** एक वस्तु  $x\%$  लाभ पर ₹875 में बेची गई। जब उसी वस्तु को ₹896 में बेचा गया, तब प्राप्त लाभ पिछले लाभ से 3% अधिक था।  $x$  का मान क्या है?

- Ans**
- 1. 30
  - 2. 25
  - 3. 20
  - 4. 24

Question ID : 65497831821  
Status : Answered  
Chosen Option : 2

**Q.22** कुछ लोग किसी काम को 60 दिनों में पूरा करते हैं। यदि 9 लोग और होते, तो वह काम 50 दिनों में पूरा हो जाता। मूल रूप से कितने लोग हैं?

- Ans**
- 1. 45
  - 2. 42
  - 3. 48
  - 4. 55

Question ID : 65497831830  
Status : Answered  
Chosen Option : 1

**Q.23** एक निश्चित धनराशि वार्षिक 4% की साधारण ब्याज दर से 5 वर्ष में ₹4,260 हो जाती है। इसी धनराशि पर  $4\frac{1}{5}$  वर्ष के लिए वार्षिक  $8\frac{1}{2}\%$  की दर से साधारण ब्याज (₹ में, ₹ के निकटतम) कितना होगा?

- Ans**
- 1. 1,285
  - 2. 1,271
  - 3. 1,267
  - 4. 1,250

Question ID : 65497831837  
Status : Answered  
Chosen Option : 3

**Q.24** 5 अंकों की सबसे छोटी संख्या  $x$  को 10, 15, 24, 35 और 42 से भाग देने पर प्रत्येक स्थिति में 7 शेषफल बचता है।  $x$  के अंकों का योग कितना होगा?

- Ans**
- 1. 16
  - 2. 19
  - 3. 18
  - 4. 13

Question ID : 65497831834  
Status : Answered  
Chosen Option : 1

**Q.25** एक कक्षा के छात्रों का औसत वजन 58.5 kg था। जब 64.5 kg औसत वजन वाले 8 और छात्र उस कक्षा में शामिल हो जाते हैं, तो सभी छात्रों के औसत वजन में 0.96 kg की वृद्धि हो जाती है। आरंभ में, कक्षा में छात्रों की संख्या कितनी थी?

- Ans**
- 1. 32
  - 2. 37
  - 3. 42
  - 4. 40

Question ID : **65497831838**  
Status : **Answered**  
Chosen Option : **4**

Section : **Part D English**

**Q.1** Select the most appropriate synonym of the given word.

**Rift**

- Ans**
- 1. Break
  - 2. Heal
  - 3. Bind
  - 4. Boat

Question ID : **65497831846**  
Status : **Answered**  
Chosen Option : **1**

**Q.2** The following sentence has been split into four segments. Identify the segment that contains a grammatical error.

Everyone needs / to have a home / and to feel secured / and be wanted.

- Ans**
- 1. to have a home
  - 2. and to feel secured
  - 3. and be wanted
  - 4. Everyone needs

Question ID : **65497831858**  
Status : **Answered**  
Chosen Option : **4**

**Q.3** Select the most appropriate meaning of the given idiom.

**Bite someone's head off**

- Ans**
- 1. Speak angrily without any reason
  - 2. Go on repeating the same point
  - 3. Ask someone the same question again and again
  - 4. Scold someone for misbehaving

Question ID : **65497831844**  
Status : **Answered**  
Chosen Option : **3**

**Q.4** Select the most appropriate meaning of the given idiom.

Once in a blue moon

- Ans**
- 1. Doing something very often
  - 2. Happening usually
  - 3. Taking place very rarely
  - 4. When the moon rises

Question ID : **65497831848**  
Status : **Answered**  
Chosen Option : **3**

**Q.5** Select the INCORRECTLY spelt word.

- Ans**
- 1. Considerate
  - 2. Separate
  - 3. Disparate
  - 4. Desperate

Question ID : **65497831856**  
Status : **Answered**  
Chosen Option : **4**

**Q.6** Select the most appropriate option to fill in the blank.

Sometime back, onion used to be the poor man's food as it was \_\_\_\_\_.

- Ans**
- 1. inferior
  - 2. cheap
  - 3. low
  - 4. available

Question ID : **65497831843**  
Status : **Answered**  
Chosen Option : **2**

**Q.7** Select the most appropriate option to fill in the blank.

The landscape \_\_\_\_\_ Hardy to write this fine poem.

- Ans**
- 1. inspired
  - 2. pestered
  - 3. incited
  - 4. induced

Question ID : **65497831855**  
Status : **Answered**  
Chosen Option : **3**

**Q.8** Select the most appropriate option that can substitute the underlined segment in the given sentence. If there is no need to substitute it, select 'No substitution required'.

The pack of wolves moving towards the children are a frightening sight.

- Ans**
- 1. was a frightening sight
  - 2. are an frightening sight
  - 3. had a frightening sight
  - 4. No substitution required

Question ID : 65497831850  
Status : Answered  
Chosen Option : 4

**Q.9** Select the option that will improve the underlined part of the given sentence. In case no improvement is needed, select 'No improvement required'.

Need you please hold my bag for a moment?

- Ans**
- 1. Would you
  - 2. May you
  - 3. Should you
  - 4. No improvement required

Question ID : 65497831862  
Status : Answered  
Chosen Option : 1

**Q.10** Select the option that can be used as a one-word substitute for the given group of words.

One who has keen interest in good food

- Ans**
- 1. Hungry
  - 2. Greedy
  - 3. Gourmet
  - 4. Gallant

Question ID : 65497831853  
Status : Answered  
Chosen Option : 4

**Q.11** Select the INCORRECTLY spelt word.

- Ans**
- 1. Melody
  - 2. Melodrama
  - 3. Melodous
  - 4. Malignant

Question ID : 65497831854  
Status : Answered  
Chosen Option : 3



**Q.12** Select the option that can be used as a one-word substitute for the given group of words.

**Declare someone not guilty**

- Ans**  1. Sentence  
 2. Arrest  
 3. Acquit  
 4. Pardon

Question ID : **65497831860**  
Status : **Answered**  
Chosen Option : **3**

**Q.13** Select the option that can be used as a one-word substitute for the given group of words.

**A place where birds are kept**

- Ans**  1. Aquarium  
 2. Attic  
 3. Apiary  
 4. Aviary

Question ID : **65497831849**  
Status : **Answered**  
Chosen Option : **3**

**Q.14** Select the most appropriate option to fill in the blank.

He was \_\_\_\_\_ by the judge for his courageous actions.

- Ans**  1. commended  
 2. discouraged  
 3. reprimanded  
 4. criticised

Question ID : **65497831857**  
Status : **Answered**  
Chosen Option : **1**

**Q.15** The following sentence has been divided into parts. One of them may contain an error. Select the part that contains the error from the given options. If you don't find any error, select 'No error' as your answer.

In summers, we must take care / to drink enough water / to keep ourselves hydrated.

- Ans**  1. to drink enough water  
 2. No error  
 3. In summers we must take care  
 4. to keep ourselves hydrated

Question ID : **65497831845**  
Status : **Answered**  
Chosen Option : **1**

**Q.16** Parts of the given sentence have been given as options. One of them contains a grammatical error. Select the option that has the error.

After a month-long vacation due to the sudden floods, Mani's school has been resuming today.

- Ans**
- 1. a month-long vacation
  - 2. due to the sudden floods
  - 3. has been resuming
  - 4. After

Question ID : **65497831851**  
Status : **Answered**  
Chosen Option : **3**

**Q.17** Select the most appropriate synonym of the given word.

**Grim**

- Ans**
- 1. Joyful
  - 2. Forceful
  - 3. Arrogant
  - 4. Stern

Question ID : **65497831859**  
Status : **Not Answered**  
Chosen Option : **--**

**Q.18** Select the most appropriate ANTONYM of the given word.

**Naive**

- Ans**
- 1. Impulsive
  - 2. Simple
  - 3. Sincere
  - 4. Experienced

Question ID : **65497831861**  
Status : **Answered**  
Chosen Option : **4**

**Q.19** Select the option that will improve the underlined part of the sentence. In case no improvement is needed, select 'No improvement required'.

She frequent go to her old school to visit her teachers.

- Ans**
- 1. frequent goes
  - 2. No improvement required
  - 3. frequently goes
  - 4. frequently going

Question ID : **65497831847**  
Status : **Answered**  
Chosen Option : **3**

**Q.20** Select the most appropriate **ANTONYM** of the given word.

**Desperate**

- Ans**  1. Frantic  
 2. Daring  
 3. Content  
 4. Determined

Question ID : **65497831852**  
Status : **Answered**  
Chosen Option : **1**

**Comprehension:**

In the following passage, some words have been deleted. Read the passage carefully and select the most appropriate option to fill in each blank.

When Roald Amundsen first (1) \_\_\_\_\_ the South Pole in 1911, he could plant (2) \_\_\_\_\_ flag there whilst, back in (3) \_\_\_\_\_ Arctic, no explorer ever had the luxury (4) \_\_\_\_\_ his claim with a flag. If he did, it would (5) \_\_\_\_\_ end up floating away to Greenland, making it a totally useless exercise.

**SubQuestion No : 21**

**Q.21** Select the most appropriate option to fill in blank no. 1.

- Ans**  1. reached  
 2. had reached  
 3. reaching  
 4. reach

Question ID : **65497831864**  
Status : **Answered**  
Chosen Option : **1**

**Comprehension:**

In the following passage, some words have been deleted. Read the passage carefully and select the most appropriate option to fill in each blank.

When Roald Amundsen first (1) \_\_\_\_\_ the South Pole in 1911, he could plant (2) \_\_\_\_\_ flag there whilst, back in (3) \_\_\_\_\_ Arctic, no explorer ever had the luxury (4) \_\_\_\_\_ his claim with a flag. If he did, it would (5) \_\_\_\_\_ end up floating away to Greenland, making it a totally useless exercise.

**SubQuestion No : 22**

**Q.22** Select the most appropriate option to fill in blank no. 2.

- Ans**  1. his  
 2. her  
 3. your  
 4. its

Question ID : **65497831865**  
Status : **Answered**  
Chosen Option : **1**

**Comprehension:**

In the following passage, some words have been deleted. Read the passage carefully and select the most appropriate option to fill in each blank.

When Roald Amundsen first (1) \_\_\_\_\_ the South Pole in 1911, he could plant (2) \_\_\_\_\_ flag there whilst, back in (3) \_\_\_\_\_ Arctic, no explorer ever had the luxury (4) \_\_\_\_\_ his claim with a flag. If he did, it would (5) \_\_\_\_\_ end up floating away to Greenland, making it a totally useless exercise.

**SubQuestion No : 23**

**Q.23 Select the most appropriate option to fill in blank no. 3.**

- Ans  1. any  
 2. an  
 3. the  
 4. a

Question ID : **65497831866**  
Status : **Answered**  
Chosen Option : **3**

**Comprehension:**

In the following passage, some words have been deleted. Read the passage carefully and select the most appropriate option to fill in each blank.

When Roald Amundsen first (1) \_\_\_\_\_ the South Pole in 1911, he could plant (2) \_\_\_\_\_ flag there whilst, back in (3) \_\_\_\_\_ Arctic, no explorer ever had the luxury (4) \_\_\_\_\_ his claim with a flag. If he did, it would (5) \_\_\_\_\_ end up floating away to Greenland, making it a totally useless exercise.

**SubQuestion No : 24**

**Q.24 Select the most appropriate option to fill in blank no. 4.**

- Ans  1. securing  
 2. secured  
 3. secure  
 4. to secure

Question ID : **65497831867**  
Status : **Answered**  
Chosen Option : **2**

**Comprehension:**

In the following passage, some words have been deleted. Read the passage carefully and select the most appropriate option to fill in each blank.

When Roald Amundsen first (1) \_\_\_\_\_ the South Pole in 1911, he could plant (2) \_\_\_\_\_ flag there whilst, back in (3) \_\_\_\_\_ Arctic, no explorer ever had the luxury (4) \_\_\_\_\_ his claim with a flag. If he did, it would (5) \_\_\_\_\_ end up floating away to Greenland, making it a totally useless exercise.

**SubQuestion No : 25**

**Q.25 Select the most appropriate option to fill in blank no. 5.**

- Ans  1. totally  
 2. eventually  
 3. happily  
 4. entirely

Question ID : **65497831868**  
Status : **Answered**  
Chosen Option : **1**

Section : **Part D Hindi**

Q.1 'आँखों में सरसों फूलना' इस मुहावरे का अर्थ कौनसा है?

- Ans  1. विवेक न होना  
 2. आदर भाव घाट जाना  
 3. गुस्से से आँखें लाल हो जाना  
 4. धोखा देना

Question ID : **65497831870**  
Status : **Not Answered**  
Chosen Option : --

Q.2 रिक्त स्थान को भरने के लिए सबसे उपयुक्त शब्द का चयन करें।

राम ने मुझे पुस्तक \_\_\_\_\_ की।

- Ans  1. समर्पित  
 2. समर्पण  
 3. वितरित  
 4. प्राप्त

Question ID : **65497831876**  
Status : **Not Answered**  
Chosen Option : --

Q.3 दिए गए वाक्य का वह भाग ज्ञात करें जिसमें कोई त्रुटि है। यदि कोई त्रुटि नहीं है, तो 'कोई त्रुटि नहीं है' चुनें।

इस बात के कहने में(1)/ किसी को(2)/ संकोच न होगा।(3)/ कोई त्रुटि नहीं है। (4)

- Ans  1. 2  
 2. 4  
 3. 3  
 4. 1

Question ID : **65497831877**  
Status : **Not Answered**  
Chosen Option : --

Q.4 दिये गये वाक्य के किस भाग में त्रुटि है?

उनके निधन से देश की अपूरणीय छति हुई है।

- Ans  1. छति हुई है।  
 2. उनके निधन से  
 3. देश की  
 4. अपूरणीय

Question ID : **65497831882**  
Status : **Not Answered**  
Chosen Option : --

Q.5 रिक्त स्थान को भरने के लिए सबसे उपयुक्त शब्द का चयन करें।

विफलता का कारण अध्ययन पद्धति का \_\_\_\_\_ ही था।

- Ans  1. दोष  
 2. आदर्श  
 3. विस्तार  
 4. समुचित

Question ID : 65497831875  
Status : Not Answered  
Chosen Option : --

Q.6 दिये गये वाक्य में रेखांकित अंश को प्रतिस्थापित करने के लिए सबसे उपयुक्त विकल्प का चयन करें।

गुरुजनों पर श्रद्धा करो।

- Ans  1. श्रद्धा भरो।  
 2. श्रद्धा पूजो।  
 3. श्रद्धा रखो।  
 4. श्रद्धा दो।

Question ID : 65497831887  
Status : Not Answered  
Chosen Option : --

Q.7 दिए गए शब्द का विलोम चुनें।

प्रवेश

- Ans  1. निकास  
 2. द्वार  
 3. प्रवृत्ति  
 4. प्रवर

Question ID : 65497831880  
Status : Not Answered  
Chosen Option : --

Q.8 दिए गए चार विकल्पों में से, उस विकल्प का चयन करें जो नीचे दिए मुहावरे का अर्थ व्यक्त करता है।

साँप छछूंदर की गति होना

- Ans  1. तुरंत भाग जाना  
 2. गुप चुप हो जाना  
 3. असमंजस की स्थिति होना  
 4. विस्तृत अनुभव होना

Question ID : 65497831881  
Status : Not Answered  
Chosen Option : --

Q.9 निम्नलिखित में से शुद्ध वर्तनी वाला शब्द कौन सा है?

- Ans
- 1. सन्यास
  - 2. संन्याष
  - 3. संन्यास
  - 4. संन्याश

Question ID : 65497831885  
Status : Not Answered  
Chosen Option : --

Q.10 दिए गये वाक्यांश के लिए एक शब्द दीजिये।

जो देखा नहीं जा सकता

- Ans
- 1. अदृश्य
  - 2. दृश्य
  - 3. दृढव्य
  - 4. दृष्टिहीन

Question ID : 65497831871  
Status : Not Answered  
Chosen Option : --

Q.11 दिये गये वाक्य में रेखांकित अंश को प्रतिस्थापित करने के लिए सबसे उपयुक्त विकल्प का चयन करें।

मकान गिर जाने का संदेह है।

- Ans
- 1. डर
  - 2. भ्रम
  - 3. शोक
  - 4. लोभ

Question ID : 65497831886  
Status : Not Answered  
Chosen Option : --

Q.12 दिए गए शब्द के समानार्थी शब्द का चयन करें।

उन्मूलन

- Ans
- 1. समानता
  - 2. अपमान
  - 3. उखाड़ फेंकना
  - 4. उर्वरक

Question ID : 65497831873  
Status : Not Answered  
Chosen Option : --

Q.13 दिए गए वाक्य में रेखांकित खंड को प्रतिस्थापित करने के लिए सबसे उपयुक्त विकल्प का चयन करें। यदि इसे प्रतिस्थापित करने की आवश्यकता नहीं है, तो विकल्प 'किसी बदलाव की आवश्यकता नहीं है' का चयन करें।

ठंडा घड़े का पानी पिलाइए।

- Ans
- 1. ठंडा पानी घड़े का पिलाइए।
  - 2. पानी ठंडा घड़े का पिलाइए।
  - 3. किसी बदलाव की आवश्यकता नहीं है।
  - 4. घड़े का ठंडा पानी पिलाइए।

Question ID : 65497831869  
Status : Not Answered  
Chosen Option : --

Q.14 'अंशु' किसका पर्यायवाची है?

- Ans
- 1. स्त्री
  - 2. आँख
  - 3. अमृत
  - 4. किरण

Question ID : 65497831883  
Status : Not Answered  
Chosen Option : --

Q.15 दिए गए वाक्य का वह भाग ज्ञात करें जिसमें कोई त्रुटि है। यदि कोई त्रुटि नहीं है, तो 'कोई त्रुटि नहीं है' चुनें।

प्रदर्शनी, प्रायः शहर के उस स्थान पर (1)/ लगाया जाता है, जहाँ (2)/ लोग आसानी से पहुँच सकें। (3)/ कोई त्रुटि नहीं है (4)

- Ans
- 1. 4
  - 2. 2
  - 3. 1
  - 4. 3

Question ID : 65497831872  
Status : Not Answered  
Chosen Option : --

Q.16 नीचे दिए वाक्यांश के लिए एक शब्द दिए गए विकल्पों में से चुनिए।

जिसके पास कुछ भी न हो

- Ans
- 1. कंचन
  - 2. अकिंचन
  - 3. अक्षम
  - 4. अकथित

Question ID : 65497831879  
Status : Not Answered  
Chosen Option : --



Q.17 रिक्त स्थान को भरने के लिए सबसे उपयुक्त शब्द का चयन करें।

हिन्दी द्वारा सारे भारत को एक सूत्र में \_\_\_\_\_ जा सकता है।

- Ans  1. पिरोया  
 2. बांधा  
 3. डाला  
 4. फंसाया

Question ID : 65497831874  
Status : Not Answered  
Chosen Option : --

Q.18 दिए गए शब्द का विलोम चुनें।

शोक

- Ans  1. शोभित  
 2. अशोभित  
 3. विषाद  
 4. हर्ष

Question ID : 65497831878  
Status : Not Answered  
Chosen Option : --

Q.19 निम्नलिखित में से शुद्ध वर्तनी वाला शब्द कौन सा है?

- Ans  1. अविष्कार  
 2. आविस्कार  
 3. आविष्कार  
 4. आविश्कार

Question ID : 65497831884  
Status : Not Answered  
Chosen Option : --

Q.20 'चुनाव में अपना मत देने की क्रिया' वाक्यांश के लिए एक शब्द होगा-

- Ans  1. मतपेटी  
 2. मताधिकार  
 3. मतदान  
 4. मत विभाजन

Question ID : 65497831888  
Status : Not Answered  
Chosen Option : --

**Comprehension:**

दिए गए अनुच्छेद में से कुछ शब्द हटा दिए गए हैं। नीचे दिए विकल्पों की सहायता से रिक्त स्थान भरें। प्रत्येक संख्या के लिए सबसे उपयुक्त विकल्प का चयन करें।

धरती वह है जो (1)\_\_\_\_\_ करती है, सब (2)\_\_\_\_\_ इस पर रहते हैं, उनका पालन-पोषण करके उनकी रक्षा करती है। धर्म भी हमें (3)\_\_\_\_\_ करता है। धर्म न हो तो हम काम न कर सकें। अथवा, हम जो धारण करते हैं, मन में निश्चय कर लेते हैं वह (4)\_\_\_\_\_ है। चंद्र में जो शीतलता है, स्नेह है, वह हममें शांति उत्पन्न करता है। आकाश विस्तार है जिससे हम (5)\_\_\_\_\_ के विस्तार की प्रेरणा पाते हैं।

**SubQuestion No : 21**

**Q.21** गद्यांश के रिक्त स्थान (1) के लिए सर्वाधिक उपयुक्त शब्द होगा-

- Ans  1. गमन  
 2. धारण  
 3. चक्कर  
 4. ग्रहण

Question ID : **65497831890**  
Status : **Not Answered**  
Chosen Option : --

**Comprehension:**

दिए गए अनुच्छेद में से कुछ शब्द हटा दिए गए हैं। नीचे दिए विकल्पों की सहायता से रिक्त स्थान भरें। प्रत्येक संख्या के लिए सबसे उपयुक्त विकल्प का चयन करें।

धरती वह है जो (1)\_\_\_\_\_ करती है, सब (2)\_\_\_\_\_ इस पर रहते हैं, उनका पालन-पोषण करके उनकी रक्षा करती है। धर्म भी हमें (3)\_\_\_\_\_ करता है। धर्म न हो तो हम काम न कर सकें। अथवा, हम जो धारण करते हैं, मन में निश्चय कर लेते हैं वह (4)\_\_\_\_\_ है। चंद्र में जो शीतलता है, स्नेह है, वह हममें शांति उत्पन्न करता है। आकाश विस्तार है जिससे हम (5)\_\_\_\_\_ के विस्तार की प्रेरणा पाते हैं।

**SubQuestion No : 22**

**Q.22** गद्यांश के रिक्त स्थान (2) के लिए सर्वाधिक उपयुक्त शब्द होगा-

- Ans  1. लोग  
 2. पक्षी  
 3. जीव  
 4. पशु

Question ID : **65497831891**  
Status : **Not Answered**  
Chosen Option : --

**Comprehension:**

दिए गए अनुच्छेद में से कुछ शब्द हटा दिए गए हैं। नीचे दिए विकल्पों की सहायता से रिक्त स्थान भरें। प्रत्येक संख्या के लिए सबसे उपयुक्त विकल्प का चयन करें।

धरती वह है जो (1)\_\_\_\_\_ करती है, सब (2)\_\_\_\_\_ इस पर रहते हैं, उनका पालन-पोषण करके उनकी रक्षा करती है। धर्म भी हमें (3)\_\_\_\_\_ करता है। धर्म न हो तो हम काम न कर सकें। अथवा, हम जो धारण करते हैं, मन में निश्चय कर लेते हैं वह (4)\_\_\_\_\_ है। चंद्र में जो शीतलता है, स्नेह है, वह हममें शांति उत्पन्न करता है। आकाश विस्तार है जिससे हम (5)\_\_\_\_\_ के विस्तार की प्रेरणा पाते हैं।

**SubQuestion No : 23**

**Q.23** गद्यांश के रिक्त स्थान (3) के लिए सर्वाधिक उपयुक्त शब्द होगा-

- Ans**
- 1. पालन
  - 2. पोषण
  - 3. धारण
  - 4. ग्रहण

Question ID : 65497831892

Status : Not Answered

Chosen Option : --

**Comprehension:**

दिए गए अनुच्छेद में से कुछ शब्द हटा दिए गए हैं। नीचे दिए विकल्पों की सहायता से रिक्त स्थान भरें। प्रत्येक संख्या के लिए सबसे उपयुक्त विकल्प का चयन करें।

धरती वह है जो (1)\_\_\_\_\_ करती है, सब (2)\_\_\_\_\_ इस पर रहते हैं, उनका पालन-पोषण करके उनकी रक्षा करती है। धर्म भी हमें (3)\_\_\_\_\_ करता है। धर्म न हो तो हम काम न कर सकें। अथवा, हम जो धारण करते हैं, मन में निश्चय कर लेते हैं वह (4)\_\_\_\_\_ है। चंद्र में जो शीतलता है, स्नेह है, वह हममें शांति उत्पन्न करता है। आकाश विस्तार है जिससे हम (5)\_\_\_\_\_ के विस्तार की प्रेरणा पाते हैं।

**SubQuestion No : 24**

**Q.24** गद्यांश के रिक्त स्थान (4) के लिए सर्वाधिक उपयुक्त शब्द होगा-

- Ans**
- 1. कर्म
  - 2. संकल्प
  - 3. प्रेम
  - 4. धर्म

Question ID : 65497831893

Status : Not Answered

Chosen Option : --

**Comprehension:**

दिए गए अनुच्छेद में से कुछ शब्द हटा दिए गए हैं। नीचे दिए विकल्पों की सहायता से रिक्त स्थान भरें। प्रत्येक संख्या के लिए सबसे उपयुक्त विकल्प का चयन करें।

धरती वह है जो (1)\_\_\_\_\_ करती है, सब (2)\_\_\_\_\_ इस पर रहते हैं, उनका पालन-पोषण करके उनकी रक्षा करती है। धर्म भी हमें (3)\_\_\_\_\_ करता है। धर्म न हो तो हम काम न कर सकें। अथवा, हम जो धारण करते हैं, मन में निश्चय कर लेते हैं वह (4)\_\_\_\_\_ है। चंद्र में जो शीतलता है, स्नेह है, वह हममें शांति उत्पन्न करता है। आकाश विस्तार है जिससे हम (5)\_\_\_\_\_ के विस्तार की प्रेरणा पाते हैं।

**SubQuestion No : 25**

**Q.25** गद्यांश के रिक्त स्थान (5) के लिए सर्वाधिक उपयुक्त शब्द होगा-

- Ans**
- 1. मस्तिष्क
  - 2. संस्कृति
  - 3. संस्कार
  - 4. चित्त

Question ID : **65497831894**

Status : **Not Answered**

Chosen Option : --