

Constable GD in CAPFs NIA SSF and Rifleman GD in Assam Rifles Examination 2021

Roll Number	www.GovtJobsAlert.In
Candidate Name	www.GovtJobsAlert.In
Venue Name	Soni Computer Center
Exam Date	16/11/2021
Exam Time :	12:30 PM - 2:00 PM
Subject	Constable GD 2021

Section : Part A General Intelligence and Reasoning

Q.1 दिए गए कथनों और निष्कर्षों को ध्यान से पढ़ें। यह मानते हुए कि कथनों में दी गई जानकारी सत्य है, भले ही यह सामान्य रूप से ज्ञात तथ्यों से भिन्न प्रतीत होती हो, यह निर्णय लें कि दिए गए निष्कर्षों में से कौन सा / कौन से निष्कर्ष कथनों का तार्किक रूप से अनुसरण करता है / करते हैं।

कथन:
कुछ बिल्लियाँ पशु हैं।
सभी पशु पौधे हैं।

निष्कर्ष:
I. सभी बिल्लियाँ पौधे हैं।
II. कुछ पौधे बिल्लियाँ हैं।
III. कुछ पौधे पशु हैं।
IV. सभी पशु बिल्लियाँ हैं।

- Ans
- 1. केवल निष्कर्ष I अनुसरण करता है।
 - 2. केवल निष्कर्ष I, II और III अनुसरण करते हैं।
 - 3. सभी निष्कर्ष अनुसरण करते हैं।
 - 4. केवल निष्कर्ष II और III अनुसरण करते हैं।

Question ID : 65497829483
Status : Answered
Chosen Option : 4

Q.2 विकल्पों में चार संख्या-त्रिक दिए गए हैं, जिनमें से तीन किसी तरह से संगत हैं और कोई एक असंगत है। असंगत संख्या त्रिक का चयन कीजिए।

- Ans
- 1. (46, 65, 82)
 - 2. (54, 73, 90)
 - 3. (21, 40, 57)
 - 4. (39, 48, 75)

Question ID : 65497829484
Status : Answered
Chosen Option : 4

Q.3 एक विशिष्ट कूट भाषा में, 'PHENYL' का कोड '9-11-17-8-5-13' और 'COLONY' का कोड '6-12-13-12-8-5' है। इसी कूट भाषा में 'COLONEL' का कोड क्या होगा?

- Ans
- 1. 6-17-12-13-8-13-11
 - 2. 6-12-12-13-8-17-13
 - 3. 6-12-13-12-8-17-13
 - 4. 6-12-12-13-8-11-13

Question ID : 65497829501
Status : Answered
Chosen Option : 3

Q.4 दिए गए विकल्पों में से उस संख्या का चयन करें जो निम्नलिखित श्रृंखला में प्रश्न चिह्न (?) के स्थान पर आ सकती है।

153, 149, 143, 135, ?

- Ans
- 1. 127
 - 2. 131
 - 3. 125
 - 4. 129

Question ID : 65497829494
Status : Answered
Chosen Option : 3

Q.5 अदिति, संकेत की पुत्री है। वृत्ति, अंकित की पुत्री है। कृति, माही की मां है। नीता, संकेत की पत्नी है। नीता, वृत्ति की मां कृति की सास है। निम्नलिखित में से कौन सा कथन सही नहीं है?

- Ans
- 1. कृति, संकेत की पुत्री है।
 - 2. वृत्ति, माही की बहन है।
 - 3. अदिति, नीता की पुत्री है।
 - 4. अंकित, माही का पिता है।

Question ID : 65497829506
Status : Not Attempted and Marked For Review
Chosen Option : --

Q.6 यदि किसी वर्ग का विकर्ण 4 cm बढ़ाया जाता है, तो इसका क्षेत्रफल 56 cm² बढ़ जाता है। नये वर्ग के क्षेत्रफल और आरंभिक वर्ग के क्षेत्रफल का अनुपात ज्ञात कीजिए।

- Ans
- 1. 12 : 5
 - 2. 18 : 11
 - 3. 13 : 8
 - 4. 16 : 9

Question ID : 65497829485
Status : Not Attempted and Marked For Review
Chosen Option : --

Q.7 उस विकल्प का चयन कीजिए जो तीसरी संख्या से उसी प्रकार संबंधित है जिस प्रकार दूसरी संख्या पहली संख्या से संबंधित है।

20 : 480 :: 25 : ?

- Ans
- 1. 700
 - 2. 655
 - 3. 725
 - 4. 625

Question ID : 65497829488
Status : Answered
Chosen Option : 3

Q.8 Six friends are sitting in a straight line. E is 4th from the right. E is between B and D. A is adjacent to B. D is adjacent to C. D is between E and C. F is adjacent to C. Who is sitting between F and D?

- Ans
- 1. B
 - 2. A
 - 3. C
 - 4. E

Question ID : 65497829487
Status : Answered
Chosen Option : 3

Q.9 उस विकल्प का चयन कीजिए जिसमें नीचे दिए गए शब्दों के अंग्रेजी शब्दकोश का अनुक्रम दिया गया है।

1. Dermatitis
2. Desistance
3. Derogation
4. Descendant
5. Dereliction

- Ans
- 1. 5, 4, 1, 3, 2
 - 2. 5, 2, 1, 3, 4
 - 3. 5, 1, 3, 4, 2
 - 4. 5, 1, 3, 2, 4

Question ID : 65497829492
Status : Answered
Chosen Option : 3

Q.10 उस विकल्प का चयन कीजिए, जिसका तीसरे पद से वही संबंध है, जो दूसरे पद का पहले पद से है।

ZYGOTE : ZYTOGE :: SEQUENCE : ?

- Ans
- 1. USQNEEEC
 - 2. USNQEEEC
 - 3. USQENCEE
 - 4. SUQNEEEC

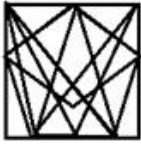
Question ID : 65497829504
Status : Not Attempted and Marked For Review
Chosen Option : --

Q.11 उस विकल्प का चयन कीजिए जिसमें दी गई आकृति सन्निहित है। (आकृति को घुमाने की अनुमति नहीं है)



Ans

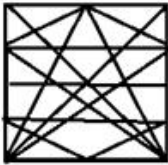
✗ 1.



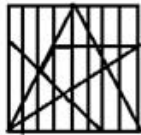
✗ 2.



✗ 3.

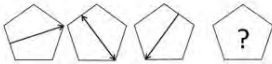


✓ 4.



Question ID : 65497829491
Status : Answered
Chosen Option : 3

Q.12 दिए गए विकल्पों में से उस आकृति का चयन करें जो नीचे दी गई श्रृंखला में प्रश्न चिह्न (?) के स्थान पर आ सकती है।



Ans

✗ 1.



✗ 2.



✗ 3.



✓ 4.



Question ID : 65497829495
Status : Answered
Chosen Option : 4

Q.13 अक्षरों के उस संयोजन का चयन करें जो दी गई श्रृंखला के रिक्त स्थान में क्रमिक रूप से रखे जाने पर श्रृंखला को पूर्ण करेगा।

A _ _ B _ _ A B _ C A _ B B C

Ans 1. A, B, C, A, B, A

2. B, C, A, A, A, B

3. B, A, B, A, C, B

4. B, B, C, C, A, B

Question ID : 65497829493

Status : Answered

Chosen Option : 1

Q.14 दिए गए विकल्पों में से उस संख्या का चयन करें, जो निम्नलिखित श्रृंखला में प्रश्नवाचक चिह्न (?) के स्थान पर आ सकती है।

5, 9, 18, 34, ?, 95

Ans 1. 63

2. 69

3. 59

4. 65

Question ID : 65497829502

Status : Answered

Chosen Option : 3

Q.15 एक निश्चित कूट भाषा में, 'MANGO' को 'QERKS' के रूप में लिखा जाता है और 'APPLE' को 'ETTPJ' के रूप में लिखा जाता है। उसी भाषा में 'GUAVA' को किस रूप में लिखा जाएगा?

Ans 1. KYEZE

2. KYFXF

3. KYGZE

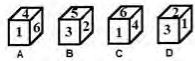
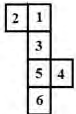
4. KXEZE

Question ID : 65497829482

Status : Answered

Chosen Option : 1

Q.16 उस पासे / उन पासों का चयन कीजिए जिसे / जिन्हें दी गई शीट को रेखाओं पर मोड़कर बनाया जा सकता है।



Ans 1. केवल B

2. केवल B और D

3. केवल B, C और D

4. केवल A और C

Question ID : 65497829490

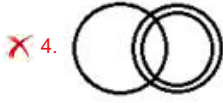
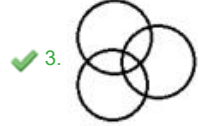
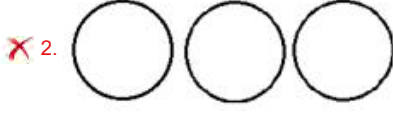
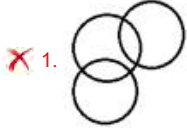
Status : Answered

Chosen Option : 2

Q.17 उस वेन आरेख का चयन करें, जो निम्नलिखित वर्गों के बीच के संबंध को सबसे अच्छे तरीके से दर्शाता है।

विद्यालय, शिक्षक, कर्मचारी

Ans



Question ID : 65497829499

Status : Answered

Chosen Option : 4

Q.18 दिए गए विकल्पों में से उस अक्षर-समूह का चयन करें, जो निम्नलिखित श्रृंखला में प्रश्नवाचक चिह्न (?) के स्थान पर आ सकता है।

IOM, NTR, SYW, ?

Ans

✓ 1. XDB

✗ 2. NSX

✗ 3. OTZ

✗ 4. JPN

Question ID : 65497829496

Status : Answered

Chosen Option : 1

Q.19 निम्नलिखित चार अक्षर-समूहों में से तीन किसी न किसी प्रकार से संगत हैं और कोई एक असंगत है। उस अक्षर-समूह का चयन करें, जो अन्य से असंगत है।

Ans

✗ 1. JHF

✗ 2. FDB

✗ 3. OMK

✓ 4. USP

Question ID : 65497829500

Status : Answered

Chosen Option : 4

Q.20 दिए गए संयोजन के सही दर्पण प्रतिबिंब का चयन करें जब दर्पण को निम्नांकित चिह्नानुसार 'PQ' पर रखा गया है।

MERCHANT |
P
Q

- Ans
- 1. MEBVHCIL
 - 2. TИAHCEM
 - 3. MEBCHVIL
 - 4. TИCHAE M

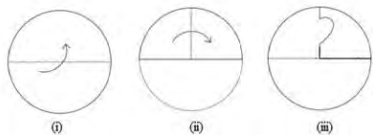
Question ID : 65497829503
Status : Answered
Chosen Option : 2

Q.21 एक निश्चित कूट भाषा में GAME को TUZANOVW लिखा जाता है और CAR को XYZAIJ लिखा जाता है। उसी कूट भाषा में POST को किस प्रकार लिखा जाएगा?

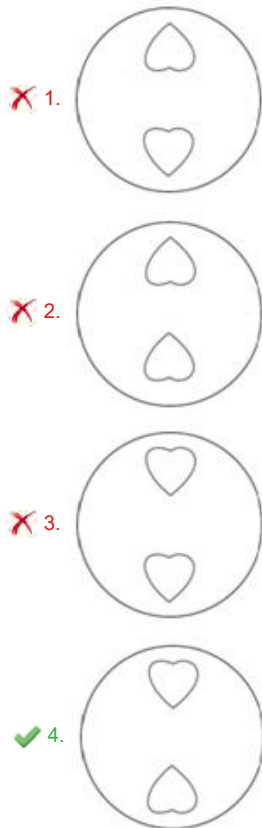
- Ans
- 1. KLLMHIGH
 - 2. OQNPRTSV
 - 3. KLMNJKGH
 - 4. QRPQTUUV

Question ID : 65497829505
Status : Answered
Chosen Option : 3

Q.22 नीचे दी गई आकृतियों में कागज़ के एक टुकड़े को मोड़ने और मोड़े गए कागज़ को काटने के तरीके का क्रम दर्शाया गया है। कागज़ को खोले जाने पर वह कैसा दिखाई देगा?



Ans



Question ID : 65497829486
Status : Answered
Chosen Option : 4

Q.23 'Experimenter' is related to 'Lab' in the same way as 'Chef' is related to '_____'.
Ans

- ✓ 1. Kitchen
- ✗ 2. Dishes
- ✗ 3. Cooking
- ✗ 4. Food

Question ID : 65497829497
Status : Answered
Chosen Option : 1

Q.24 O, P, Q, R, S, T and U are sitting in a row facing north. U is sitting to the immediate right of T. Q is sitting in between R and O. P, who is on the extreme right, is sitting to the immediate right of O. S is sitting to the immediate left of R. Who is sitting in the middle of the row?

- Ans
- 1. S
 - 2. T
 - 3. R
 - 4. Q

Question ID : 65497829498
Status : Answered
Chosen Option : 3

Q.25 If 'A' denotes 'addition', 'B' denotes 'multiplication', 'C' denotes 'subtraction', and 'D' denotes 'division', then what will be the value of the following expression?

100 D (1 B 4) A 2 B (13 A 11) C 3 B (17 C 12)

- Ans
- 1. 60
 - 2. 58
 - 3. 52
 - 4. 49

Question ID : 65497829489
Status : Answered
Chosen Option : 2

Section : Part B General Knowledge and General Awareness

Q.1 त्वेसा मलिक एक भारतीय _____ खिलाड़ी हैं।

- Ans
- 1. गोल्फ
 - 2. वॉलीबॉल
 - 3. शतरंज
 - 4. बास्केटबॉल

Question ID : 65497829524
Status : Answered
Chosen Option : 1

Q.2 निम्नलिखित में से कौन सा विकल्प मौर्य साम्राज्य के शासकों के सही कालानुक्रमिक क्रम को दर्शाता है?

- Ans
- 1. बिंदुसार - चंद्रगुप्त - अशोक - बृहद्रथ
 - 2. चंद्रगुप्त - बिंदुसार - अशोक - बृहद्रथ
 - 3. बृहद्रथ - चंद्रगुप्त - बिंदुसार - अशोक
 - 4. अशोक - बृहद्रथ - चंद्रगुप्त - बिंदुसार

Question ID : 65497829528
Status : Answered
Chosen Option : 1

Q.3 'ला लीगा (La Liga)' खिताब _____ से संबंधित है।

- Ans
- 1. फुटबॉल
 - 2. क्रिकेट
 - 3. दौड़
 - 4. टेनिस

Question ID : 65497829508
Status : Answered
Chosen Option : 1

Q.4 उत्तर प्रदेश की कैबिनेट ने _____ के एक प्राणी उद्यान का नाम स्वतंत्रता सेनानी और क्रांतिकारी अशाफाकउल्ला खान के नाम पर रखने के प्रस्ताव को मंजूरी दी है।

- Ans 1. गोरखपुर
 2. शाहजहांपुर
 3. गाज़ियाबाद
 4. फैजाबाद

Question ID : 65497829517
Status : Answered
Chosen Option : 1

Q.5 जुलाई 2019 में, विंगसूट स्काईडाइव जम्प करने वाले/वाली प्रथम भारतीय वायु सेना पायलट का नाम क्या है?

- Ans 1. तरुण चौधरी
 2. शीतल महाजन राणे
 3. अर्चना सरदाना
 4. रेचेल थॉमस

Question ID : 65497829518
Status : Answered
Chosen Option : 1

Q.6 निम्नलिखित में से कौन सा जंतु अपनी त्वचा द्वारा श्वसन करता है?

- Ans 1. मोर
 2. मेंढक
 3. खरगोश
 4. हिरण

Question ID : 65497829514
Status : Answered
Chosen Option : 2

Q.7 होजेनक्कल जलप्रपात (Hogenakkal Falls) किस राज्य में स्थित है?

- Ans 1. महाराष्ट्र
 2. केरल
 3. आंध्र प्रदेश
 4. तमिलनाडु

Question ID : 65497829507
Status : Answered
Chosen Option : 2

Q.8 1857 तक _____ भारत के मुगल सम्राटों का लगभग 200 वर्षों तक निवास स्थान रह चुका था।

- Ans 1. परी महल
 2. आगरा का किला
 3. जहांगीर महल
 4. लाल किला

Question ID : 65497829521
Status : Answered
Chosen Option : 2

Q.9 भारत सरकार द्वारा पेंशनभोगियों के लिए शुरू की गई एक बायोमेट्रिक सक्षम डिजिटल सेवा निम्नलिखित में से कौन सी है?

- Ans
- 1. प्रधानमंत्री जीवन ज्योति बीमा योजना
 - 2. प्रधानमंत्री मुद्रा योजना
 - 3. प्रधानमंत्री जन धन योजना
 - 4. जीवन प्रमाण

Question ID : 65497829509
Status : Answered
Chosen Option : 4

Q.10 निम्नलिखित में से सर्वाधिक अभिक्रियाशील धातु कौन सी है?

- Ans
- 1. पोटेशियम
 - 2. एल्युमीनियम
 - 3. सिल्वर
 - 4. आयरन

Question ID : 65497829513
Status : Answered
Chosen Option : 1

Q.11 महानदी नदी के बारे में निम्नलिखित में से कौन सा कथन गलत है?

- Ans
- 1. यह छत्तीसगढ़ के पहाड़ी इलाकों से निकलती है।
 - 2. इसके जलग्रहण क्षेत्र का कुछ हिस्सा महाराष्ट्र में स्थित है।
 - 3. यह लगभग 860 km लंबी है।
 - 4. यह अरब सागर में गिरती है।

Question ID : 65497829522
Status : Answered
Chosen Option : 1

Q.12 निम्नलिखित में से किस देश ने 2020 आई.सी.सी. (ICC) अंडर 19 क्रिकेट विश्व कप के 13 वें संस्करण की मेजबानी की?

- Ans
- 1. दक्षिण अफ्रीका
 - 2. इंग्लैंड
 - 3. भारत
 - 4. ऑस्ट्रेलिया

Question ID : 65497829526
Status : Answered
Chosen Option : 2

Q.13 भारत सरकार ने वर्ष _____ में आयुष्मान भारत प्रधान मंत्री जन आरोग्य योजना (AB-PM-JAY) को मंजूरी दी।

- Ans
- 1. 2019
 - 2. 2014
 - 3. 2018
 - 4. 2015

Question ID : 65497829531
Status : Answered
Chosen Option : 1

Q.14 भारतीय जीवन बीमा निगम अधिनियम, संसद द्वारा _____ में पारित किया गया था।

- Ans
- 1. 1965
 - 2. 1971
 - 3. 1948
 - 4. 1956

Question ID : 65497829529
Status : Answered
Chosen Option : 2

Q.15 निम्नलिखित में से किस राज्य में भोरमदेव मंदिर स्थित है, जहाँ प्रत्येक वर्ष मार्च के अंतिम सप्ताह में 'भोरमदेव महोत्सव' मनाया जाता है?

- Ans
- 1. कर्नाटक
 - 2. छत्तीसगढ़
 - 3. पश्चिम बंगाल
 - 4. तमिलनाडु

Question ID : 65497829512
Status : Answered
Chosen Option : 1

Q.16 निम्न में से कौन-सी अधातु बहु-परमाण्विक (poly-atomic) है?

- Ans
- 1. ऑक्सीजन
 - 2. हीलियम
 - 3. सल्फर
 - 4. आर्गन

Question ID : 65497829525
Status : Answered
Chosen Option : 3

Q.17 1865 में निम्नलिखित में से किसे बॉम्बे का पहला नगर आयुक्त नियुक्त किया गया था?

- Ans
- 1. आर्थर क्रॉफर्ड
 - 2. एच फाउलर
 - 3. चार्ल्स एटकिंसन
 - 4. विलियम हंटर

Question ID : 65497829510
Status : Answered
Chosen Option : 3

Q.18 30 अक्टूबर, 2020 को जम्मू और कश्मीर के राज्य चुनाव आयुक्त के रूप में किसे नियुक्त किया गया था?

- Ans
- 1. केवल कुमार शर्मा
 - 2. शत्रुंजय कुमार सिंह
 - 3. वी भास्करन
 - 4. मनोज कुमार

Question ID : 65497829520
Status : Answered
Chosen Option : 4

Q.19 किसी वस्तु के त्वरण को तब _____ कहा जाता है जब वह वस्तु एक सीधी रेखा में गति करती है और समय के नियमित अंतराल में उसका वेग बढ़ता या घटता रहता है।

- Ans
- 1. असमान
 - 2. ऋणात्मक
 - 3. एकसमान
 - 4. धनात्मक

Question ID : 65497829516
Status : Answered
Chosen Option : 3

Q.20 भारतीय संविधान के 44वें संशोधन अधिनियम, 1978 के तहत निम्नलिखित में से कौन सा एक मौलिक अधिकार नहीं है?

- Ans
- 1. संपत्ति का अधिकार
 - 2. शोषण के खिलाफ अधिकार
 - 3. समानता का अधिकार
 - 4. धर्म का अधिकार

Question ID : 65497829519
Status : Answered
Chosen Option : 1

Q.21 _____, ज्ञातृक (या ज्ञात्रिक) {Jnatrika (or Jhatrika)} क्षत्रिय वंश के प्रमुख के पुत्र थे।

- Ans
- 1. गौतम बुद्ध
 - 2. ऋषभनाथ
 - 3. पार्श्वनाथ
 - 4. वर्धमान महावीर

Question ID : 65497829527
Status : Answered
Chosen Option : 1

Q.22 किसी विशेष वर्ष के दौरान देश के अंतर्गत उत्पादित सभी अंतिम वस्तुओं और सेवाओं के मौद्रिक मूल्य _____ को कहा जाता है।

- Ans
- 1. सकल घरेलू उत्पाद
 - 2. प्रति व्यक्ति आय
 - 3. राष्ट्रीय आय
 - 4. निवल घरेलू उत्पाद

Question ID : 65497829511
Status : Answered
Chosen Option : 1

Q.23 'कोर्ट्स ऑफ़ इंडिया: पास्ट टू प्रेजेंट' नामक पुस्तक के लेखक कौन हैं?

- Ans
- 1. जयंत कलिता
 - 2. शशि थरूर
 - 3. सत्यार्थ नायक
 - 4. रंजन गोगोई

Question ID : 65497829515
Status : Answered
Chosen Option : 4

Q.24 _____ ने अगस्त 2021 में मेजर ध्यानचंद नेशनल स्टेडियम, नई दिल्ली में आयोजित एक कार्यक्रम में फिट इंडिया मोबाइल ऐप लॉन्च किया।

- Ans
- 1. उषा शर्मा
 - 2. अनुराग सिंह ठाकुर
 - 3. रवि मित्तल
 - 4. निसिथ प्रमाणिक

Question ID : 65497829530
Status : Answered
Chosen Option : 2

Q.25 निम्नलिखित में से किस राज्य ने जनवरी 2020 में 71 वें गणतंत्र दिवस परेड में 'सर्वश्रेष्ठ झांकी' का पुरस्कार जीता?

- Ans
- 1. असम
 - 2. ओडिशा
 - 3. गोवा
 - 4. उत्तर प्रदेश

Question ID : 65497829523
Status : Answered
Chosen Option : 4

Section : Part C Elementary Mathematics

Q.1 9 और 36 का तृतीयानुपाती कितना है?

- Ans
- 1. 72
 - 2. 288
 - 3. 144
 - 4. 122

Question ID : 65497829540
Status : Answered
Chosen Option : 3

Q.2 A और B किसी काम को 120 दिनों में पूरा कर सकते हैं, B और C इसे 150 दिनों में पूरा कर सकते हैं तथा A और C इसे 200 दिनों में पूरा कर सकते हैं। B अकेले उस काम का $\frac{2}{5}$ वा हिस्सा कितने दिनों में पूरा कर पाएगा?

- Ans
- 1. 175
 - 2. 80
 - 3. 200
 - 4. 100

Question ID : 65497829547
Status : Answered
Chosen Option : 2

Q.3 किसी वस्तु के मूल्य पर 20% की छूट, किसी अन्य वस्तु के मूल्य पर 25% की छूट के बराबर है। दोनों वस्तुओं के मूल्य क्रमशः क्या होंगे?

- Ans**
- 1. ₹50 और ₹60
 - 2. ₹40 और ₹50
 - 3. ₹50 और ₹40
 - 4. ₹60 और ₹50

Question ID : 65497829545
Status : Answered
Chosen Option : 3

Q.4 एक व्यक्ति दो वस्तुएँ बेचता है जिनमें से प्रत्येक का मूल्य ₹9,180 है। उसे एक वस्तु पर 8% का लाभ होता है और दूसरी वस्तु पर 15% की हानि होती है। उसका कुल लाभ या हानि कितना है?

- Ans**
- 1. ₹940 का लाभ
 - 2. ₹940 की हानि
 - 3. ₹840 की हानि
 - 4. ₹840 का लाभ

Question ID : 65497829532
Status : Answered
Chosen Option : 3

Q.5 किसी धनराशि पर 8% की वार्षिक ब्याज दर पर 5 वर्ष में प्राप्त होने वाला साधारण ब्याज ₹3,040 है। वह धनराशि ज्ञात कीजिए।

- Ans**
- 1. ₹7,600
 - 2. ₹7,700
 - 3. ₹6,600
 - 4. ₹8,600

Question ID : 65497829539
Status : Answered
Chosen Option : 1

Q.6 वह बड़ी से बड़ी संख्या कौन सी है जिससे 2675 और 2320 को विभाजित करने पर शेषफल क्रमशः 5 और 6 प्राप्त होता है?

- Ans**
- 1. 168
 - 2. 187
 - 3. 178
 - 4. 170

Question ID : 65497829536
Status : Answered
Chosen Option : 4

Q.7 4, 6, 8, 12 और x का औसत 7 है और x, 9, 13, 15 और y का औसत 9 है। $2x - 3y$ का मान कितना होगा?

- Ans
- 1. 1
 - 2. 3
 - 3. 19
 - 4. 5

Question ID : 65497829544
Status : Answered
Chosen Option : 1

Q.8 दो संख्याओं का अनुपात 9 : 5 है। यदि बड़ी संख्या में 8 जोड़ा जाता है और छोटी संख्या में से 4 घटाया जाता है, तो बड़ी संख्या छोटी संख्या से दोगुनी हो जाती है। वह बड़ी संख्या निम्न में से कौन सी है?

- Ans
- 1. 110
 - 2. 114
 - 3. 144
 - 4. 104

Question ID : 65497829538
Status : Answered
Chosen Option : 3

Q.9 किसी कक्षा के दो वर्ग A और B हैं, जिनमें क्रमशः 38 और 42 छात्र हैं। यदि वर्ग A के छात्रों का औसत वजन 55 kg और वर्ग B के छात्रों का औसत वजन 32 kg है, तो कक्षा के सभी छात्रों का औसत वजन ज्ञात करें।

- Ans
- 1. 42 kg
 - 2. 40.925 kg
 - 3. 42.925 kg
 - 4. 44.925 kg

Question ID : 65497829537
Status : Answered
Chosen Option : 3

Q.10 $42 \div 9$ of $6 - [64 \div 48 \times 3 - 15 \div 8 \times (11 - 17) \div 9] \div 14$ का मान ज्ञात कीजिए।

- Ans
- 1. $\frac{7}{18}$
 - 2. $\frac{5}{12}$
 - 3. $\frac{19}{36}$
 - 4. $\frac{29}{72}$

Question ID : 65497829551
Status : Answered
Chosen Option : 4

Q.11 निम्नलिखित का मान बताइए।

$$523 + 523 \times 523 \div 523$$

- Ans
- 1. 1542
 - 2. 1005
 - 3. 1046
 - 4. 1235

Question ID : 65497829542
Status : Answered
Chosen Option : 3

Q.12 एक निश्चित धनराशि पर $x\%$ वार्षिक साधारण ब्याज की दर से 3 वर्षों में प्राप्त मिश्रधन ₹5,472 है और समान राशि पर समान साधारण ब्याज की दर से $7\frac{1}{2}$ वर्षों में प्राप्त मिश्रधन ₹6,930 है। x का मान ज्ञात कीजिए।

- Ans
- 1. 8
 - 2. 7.2
 - 3. 8.5
 - 4. 6.5

Question ID : 65497829555
Status : Answered
Chosen Option : 2

Q.13 तीन संख्याएँ 4 : 9 : 13 के अनुपात में हैं और इनका लघुत्तम समापवर्त्य (LCM) 2340 है। इनका महत्तम समापवर्त्य (HCF) कितना होगा?

- Ans
- 1. 5
 - 2. 7
 - 3. 3
 - 4. 4

Question ID : 65497829534
Status : Answered
Chosen Option : 1

Q.14 A किसी कार्य का $\frac{2}{5}$ भाग, 6 दिन में कर सकता है और B उसी कार्य का 30% भाग, 3 दिन में कर सकता है। उन्होंने 4 दिन तक एक साथ काम किया। शेष कार्य अकेले C द्वारा 6 दिन में पूरा किया गया। B और C मिलकर मूल कार्य का 70% भाग _____ में पूरा कर सकते हैं।

- Ans
- 1. $5\frac{1}{2}$ दिन
 - 2. $4\frac{1}{2}$ दिन
 - 3. 4 दिन
 - 4. 5 दिन

Question ID : 65497829553
Status : Answered
Chosen Option : 2

Q.15 5 वर्ष पूर्व, A, B और C की आयु का अनुपात 4 : 5 : 7 था। उनकी वर्तमान आयु का योग 135 वर्ष है। अब से 3 वर्ष बाद, B और C की आयु का योग (वर्षों में) क्या होगा?

- Ans**
- 1. 100
 - 2. 112
 - 3. 106
 - 4. 96

Question ID : 65497829554
Status : Answered
Chosen Option : 2

Q.16 यदि एक निश्चित धनराशि पर 9% वार्षिक ब्याज दर से दो वर्ष का चक्रवृद्धि ब्याज ₹3,762 है, तो वह धनराशि कितनी है?

- Ans**
- 1. ₹18,000
 - 2. ₹20,000
 - 3. ₹24,000
 - 4. ₹25,000

Question ID : 65497829533
Status : Answered
Chosen Option : 2

Q.17 यदि एक त्रिभुज की भुजाएं 21 cm, 35 cm और 28 cm हैं, तो इसकी अंतः त्रिज्या (in radius) की माप कितनी है? (cm में)

- Ans**
- 1. 21 cm
 - 2. 7 cm
 - 3. 9 cm
 - 4. 8 cm

Question ID : 65497829541
Status : Not Attempted and Marked For Review
Chosen Option : --

Q.18 एक दुकानदार के पास कुछ खिलौने हैं। वह दो-तिहाई खिलौनों को 35% के लाभ पर और शेष खिलौनों को 10% की हानि पर बेचता है। उसका कुल प्रतिशत लाभ कितना है?

- Ans**
- 1. 20%
 - 2. 18%
 - 3. 25%
 - 4. 16%

Question ID : 65497829552
Status : Answered
Chosen Option : 1

Q.19 एक कार के मूल्य में 5% की वृद्धि होने पर उसकी बिक्री 16% कम हो जाती है। कुल राजस्व पर पड़ने वाले प्रतिशत प्रभाव की गणना कीजिए।

- Ans**
- 1. 5% कमी
 - 2. 5% वृद्धि
 - 3. 9% कमी
 - 4. 9% वृद्धि

Question ID : 65497829546
Status : Answered
Chosen Option : 3

Q.20 एक डीलर ने 4% हानि पर एक वस्तु बेची। यदि उसने इसे ₹120 अधिक में बेचा होता तो उसे 8% का लाभ प्राप्त होता। 11% लाभ प्राप्त करने के लिए उसे वस्तु को किस मूल्य पर बेचना चाहिए?

- Ans**
- 1. ₹1,210
 - 2. ₹1,200
 - 3. ₹1,110
 - 4. ₹1,320

Question ID : 65497829549
Status : Answered
Chosen Option : 3

Q.21 दो ट्रेनों क्रमशः स्थानों A और B से चलना आरंभ करती हैं, और एक दूसरे की ओर क्रमशः 60 km/h और 50 km/h की चाल से यात्रा करती हैं। उनके मिलने से पहले तक तेज चाल वाली ट्रेन ने धीमी चाल वाली ट्रेन से 110 km अधिक दूरी तय की थी। स्थानों A और B के बीच की दूरी कितनी है?

- Ans**
- 1. 1100 km
 - 2. 1200 km
 - 3. 1210 km
 - 4. 1150 km

Question ID : 65497829548
Status : Answered
Chosen Option : 3

Q.22 एक वस्तु को अंकित मूल्य पर 20% छूट के बाद ₹120 में बेचा गया। यदि छूट नहीं दी जाती, तो इस पर 20% का लाभ होता। वस्तु का क्रय मूल्य ज्ञात करें।

- Ans**
- 1. ₹130
 - 2. ₹120
 - 3. ₹125
 - 4. ₹100

Question ID : 65497829550
Status : Answered
Chosen Option : 3

Q.23 विग्नेश अपनी मासिक आय का 42% भोजन पर, 16% मकान के किराए पर, 11% मनोरंजन पर और 7% परिवहन पर खर्च करता है। लेकिन किसी पारिवारिक समारोह के कारण, ₹18,000 के खर्चों की पूर्ति के लिए उसे साहूकार से ₹12,000 उधार लेने पड़े। उसकी मासिक आय कितनी है?

- Ans**
- 1. ₹30,000
 - 2. ₹25,000
 - 3. ₹20,000
 - 4. ₹24,000

Question ID : 65497829535
Status : Answered
Chosen Option : 2

Q.24 एक त्रिभुजाकार पार्क की भुजाएं 96 m, 110 m और 146 m हैं। इसका क्षेत्रफल उस समचतुर्भुजाकार मैदान के क्षेत्रफल के बराबर है, जिसका एक विकर्ण 60 m है। इसके दूसरे विकर्ण की लंबाई (m में) ज्ञात कीजिए।

- Ans**
- 1. 218
 - 2. 176
 - 3. 132
 - 4. 88

Question ID : 65497829556
Status : Not Answered
Chosen Option : --

Q.25 किसी वायु-यान की चाल 120 km/min है। यह चाल m/sec में कितनी होगी?

- Ans**
- 1. 120000
 - 2. 12000
 - 3. 1200
 - 4. 2000

Question ID : 65497829543
Status : Answered
Chosen Option : 4

Section : Part D English

Q.1 Select the option that can be used as a one-word substitute for the given group of words.

A person who supervises during an examination

- Ans**
- 1. Administrator
 - 2. Principal
 - 3. Invigilator
 - 4. Examinee

Question ID : 65497829576
Status : Not Answered
Chosen Option : --

Q.2 The following sentence has been split into four segments. Identify the segment that contains a grammatical error.

I wish / I am / the Principal / of the school!

- Ans** 1. I am
 2. I wish
 3. the Principal
 4. of the school

Question ID : 65497829565
Status : Not Answered
Chosen Option : --

Q.3 The following sentence has been split into four segments. Identify the segment that contains a grammatical error.

We'll look at / your pet / when you go / on a vacation.

- Ans** 1. on a vacation
 2. your pet
 3. We'll look at
 4. when you go

Question ID : 65497829574
Status : Not Answered
Chosen Option : --

Q.4 Select the option that will improve the underlined part of the given sentence. In case no improvement is needed, select 'No improvement required'.

The new President has bring in many reforms.

- Ans** 1. brought about
 2. bring up
 3. brought out
 4. No improvement required

Question ID : 65497829573
Status : Not Answered
Chosen Option : --

Q.5 Select the option that can be used as a one-word substitute for the given group of words.

Many fish swimming together

- Ans** 1. Shoal
 2. Bevy
 3. Flock
 4. Brood

Question ID : 65497829561
Status : Not Answered
Chosen Option : --

Q.6 Select the most appropriate synonym of the given word.

Submissive

- Ans 1. Obstinate
 2. Obdurate
 3. Adamant
 4. Obedient

Question ID : 65497829558
Status : Not Answered
Chosen Option : --

Q.7 Select the most appropriate option to fill in the blank.

My sister bought the _____ watch.

- Ans 1. antipathy
 2. antique
 3. colloquial
 4. antilocal

Question ID : 65497829570
Status : Not Answered
Chosen Option : --

Q.8 Select the most appropriate option to fill in the blank.

The government should take steps to _____ pollution.

- Ans 1. convey
 2. consume
 3. conduct
 4. control

Question ID : 65497829562
Status : Not Answered
Chosen Option : --

Q.9 Select the most appropriate option to fill in the blank.

She _____ why I had not sent her an invitation.

- Ans 1. enquired
 2. granted
 3. denied
 4. desired

Question ID : 65497829564
Status : Not Answered
Chosen Option : --

Q.10 Select the most appropriate SYNONYM of the given word.

Ample

- Ans 1. Scarce
 2. Sufficient
 3. Sparse
 4. Limited

Question ID : 65497829575
Status : Not Answered
Chosen Option : --

Q.11 Select the most appropriate option that can substitute the underlined segment in the given sentence. If there is no need to substitute it, select 'No substitution required'.

The condition of the house had been so deteriorated from lack of maintenance that nobody wanted to purchase it.

- Ans
- 1. No substitution required
 - 2. was deteriorating
 - 3. had so deteriorated
 - 4. was so deteriorated

Question ID : 65497829572
Status : Not Answered
Chosen Option : --

Q.12 Select the most appropriate ANTONYM of the given word.

Fictitious

- Ans
- 1. False
 - 2. Subjective
 - 3. Factual
 - 4. Imaginative

Question ID : 65497829566
Status : Not Answered
Chosen Option : --

Q.13 Select the most appropriate option that can substitute the underlined word in the given sentence.

Besides generating revenue, tourism brings a break from the ceremony of daily life.

- Ans
- 1. symphony
 - 2. monotony
 - 3. company
 - 4. scrutiny

Question ID : 65497829559
Status : Not Answered
Chosen Option : --

Q.14 Select the most appropriate ANTONYM of the given word.

Spellbound

- Ans
- 1. Captivated
 - 2. Enthralled
 - 3. Amazed
 - 4. Disenchanted

Question ID : 65497829569
Status : Not Answered
Chosen Option : --

Q.15 The following sentence has been split into four segments. Identify the segment that contains a grammatical error.

The most important / of all my goals / are to/ learn English.

- Ans**
- 1. learn English
 - 2. The most important
 - 3. are to
 - 4. of all my goals

Question ID : 65497829557
Status : Not Answered
Chosen Option : --

Q.16 Select the INCORRECTLY spelt word.

- Ans**
- 1. Cereal
 - 2. Tunnel
 - 3. Wistle
 - 4. Rustle

Question ID : 65497829563
Status : Not Answered
Chosen Option : --

Q.17 Select the most appropriate meaning of the given idiom.

To be on the same page

- Ans**
- 1. To be published together
 - 2. To read a book together
 - 3. To understand what the other says
 - 4. To agree on something

Question ID : 65497829571
Status : Not Answered
Chosen Option : --

Q.18 Select the correctly spelt word.

- Ans**
- 1. Peadeatrician
 - 2. Asassination
 - 3. Bureaucracy
 - 4. Philianthropist

Question ID : 65497829568
Status : Not Answered
Chosen Option : --

Q.19 Select the most appropriate meaning of the given idiom.

Tickled pink

- Ans**
- 1. Very pleased
 - 2. Easily teased
 - 3. Very sensitive
 - 4. Fond of pink

Question ID : 65497829560
Status : Not Answered
Chosen Option : --

Q.20 Select the option that can be used as a one-word substitute for the given group of words.

One who collects coins

- Ans** 1. Anthropologist
 2. Numismatist
 3. Philatelist
 4. Fatalist

Question ID : 65497829567
Status : Not Answered
Chosen Option : --

Comprehension:

In the following passage, some words have been deleted. Read the passage carefully and select the most appropriate option to fill in each blank.

Writing is a form (1)_____, and neat handwriting is important when writing (2)_____ that will be read by someone else. We (3)_____ by the quality of our handwriting, and (4)_____ our handwriting is poor, we (5)_____ to be lazy or incompetent.

SubQuestion No : 21

Q.21 Select the most appropriate option to fill in blank no. 1.

- Ans** 1. for expression
 2. of expression
 3. to expressing
 4. in expression

Question ID : 65497829578
Status : Not Answered
Chosen Option : --

Comprehension:

In the following passage, some words have been deleted. Read the passage carefully and select the most appropriate option to fill in each blank.

Writing is a form (1)_____, and neat handwriting is important when writing (2)_____ that will be read by someone else. We (3)_____ by the quality of our handwriting, and (4)_____ our handwriting is poor, we (5)_____ to be lazy or incompetent.

SubQuestion No : 22

Q.22 Select the most appropriate option to fill in blank no. 2.

- Ans** 1. anything
 2. each thing
 3. everything
 4. nothing

Question ID : 65497829579
Status : Not Answered
Chosen Option : --

Comprehension:

In the following passage, some words have been deleted. Read the passage carefully and select the most appropriate option to fill in each blank.

Writing is a form (1)_____, and neat handwriting is important when writing (2)_____ that will be read by someone else. We (3)_____ by the quality of our handwriting, and (4)_____ our handwriting is poor, we (5)_____ to be lazy or incompetent.

SubQuestion No : 23

Q.23 Select the most appropriate option to fill in blank no. 3.

- Ans** 1. are often judged
 2. should be often judged
 3. judged often
 4. have been often judged

Question ID : 65497829580
Status : Not Answered
Chosen Option : --

Comprehension:

In the following passage, some words have been deleted. Read the passage carefully and select the most appropriate option to fill in each blank.

Writing is a form (1)_____, and neat handwriting is important when writing (2)_____ that will be read by someone else. We (3)_____ by the quality of our handwriting, and (4)_____ our handwriting is poor, we (5)_____ to be lazy or incompetent.

SubQuestion No : 24

Q.24 Select the most appropriate option to fill in blank no. 4.

- Ans** 1. as
 2. while
 3. when
 4. where

Question ID : 65497829581
Status : Not Answered
Chosen Option : --

Comprehension:

In the following passage, some words have been deleted. Read the passage carefully and select the most appropriate option to fill in each blank.

Writing is a form (1)_____, and neat handwriting is important when writing (2)_____ that will be read by someone else. We (3)_____ by the quality of our handwriting, and (4)_____ our handwriting is poor, we (5)_____ to be lazy or incompetent.

SubQuestion No : 25

Q.25 Select the most appropriate option to fill in blank no. 5.

- Ans** 1. look
 2. see
 3. appear
 4. expose

Question ID : 65497829582
Status : Not Answered
Chosen Option : --

Section : Part D Hindi

Q.1 'ऊपर की ओर जाने वाला' वाक्यांश के लिए एक शब्द होगा-

- Ans
- 1. प्रतिगामी
 - 2. आगामी
 - 3. अधोगामी
 - 4. ऊर्ध्वगामी

Question ID : 65497829601
Status : Answered
Chosen Option : 4

Q.2 रिक्त स्थान की पूर्ति के लिए सबसे उपयुक्त शब्द का चयन करें-

वह वृक्ष की _____ डाली काट रहा था।

- Ans
- 1. सामान्य
 - 2. सखी
 - 3. सूखी
 - 4. सुखी

Question ID : 65497829587
Status : Answered
Chosen Option : 3

Q.3 'आग में कूदना' मुहावरे का सही अर्थ है-

- Ans
- 1. मदद करना
 - 2. मूर्ख होना
 - 3. जान जोखिम में डालना
 - 4. पश्चाताप करना

Question ID : 65497829597
Status : Answered
Chosen Option : 3

Q.4 'विशाल' का विलोम शब्द होगा-

- Ans
- 1. क्षणिक
 - 2. विकराल
 - 3. विराट
 - 4. लघु

Question ID : 65497829600
Status : Answered
Chosen Option : 4

Q.5 दिए गए वाक्य का वो भाग ज्ञात करें जिसमें कोई त्रुटि है। यदि कोई त्रुटि नहीं है, तो 'कोई त्रुटि नहीं है' चुनें।

शकीला भोपाली (1)\ प्रसिद्ध कव्वाली (2)\ गायकी हैं (3)\ कोई त्रुटि नहीं है (4)

- Ans
- 1. 2
 - 2. 3
 - 3. 4
 - 4. 1

Question ID : 65497829584
Status : Answered
Chosen Option : 2

Q.6 दिए गए शब्द का समानार्थी शब्द चुनें-

युक्ति

- Ans 1. उपाय
 2. युक्त
 3. जुड़ा हुआ
 4. संलग्न

Question ID : 65497829595
Status : Answered
Chosen Option : 1

Q.7 दिए गए वाक्यांश के लिए एक शब्द दीजिए।

प्रार्थना या निवेदन करने वाला

- Ans 1. स्तुति
 2. प्रार्थी
 3. भक्त वत्सल
 4. भजन

Question ID : 65497829583
Status : Answered
Chosen Option : 2

Q.8 दिए गए वाक्य में रेखांकित खंड को प्रतिस्थापित करने के लिए सबसे उपयुक्त विकल्प का चयन करें।
यदि इसे प्रतिस्थापित करने की आवश्यकता नहीं है, तो विकल्प 'किसी बदलाव की आवश्यकता नहीं है'
का चयन करें।

भाई साहब को मुझे एक रुपया दिया है।

- Ans 1. भाई साहब द्वारा
 2. भाई साहब ने
 3. किसी बदलाव की आवश्यकता नहीं है।
 4. भाई साहब

Question ID : 65497829593
Status : Answered
Chosen Option : 2

Q.9 रिक्त स्थान की पूर्ति के लिए सबसे उपयुक्त शब्द का चयन करें-

रोगी ने चिकित्सक से _____ लिया।

- Ans 1. मंत्रणा
 2. अनुदान
 3. आज्ञा
 4. परामर्श

Question ID : 65497829586
Status : Answered
Chosen Option : 3

Q.10 दिये गये वाक्य के किस भाग में त्रुटि है?

मैंने सारा माल उसके हाथ में बेच दिया है।

- Ans
- 1. बेच
 - 2. दिया है।
 - 3. मैंने सारा माल
 - 4. उसके हाथ में

Question ID : 65497829599
Status : Answered
Chosen Option : 4

Q.11 दिए गए वाक्य में रेखांकित खंड को प्रतिस्थापित करने के लिए सबसे उपयुक्त विकल्प का चयन करें।
यदि इसे प्रतिस्थापित करने की आवश्यकता नहीं है, तो विकल्प 'किसी बदलाव की आवश्यकता नहीं है'
का चयन करें।

रात दस बजे से दिल्ली में जंक्शन से हम कश्मीर मेल में सवार हुए।

- Ans
- 1. रात दस बजे तक दिल्ली में जंक्शन में हम
 - 2. किसी बदलाव की आवश्यकता नहीं है।
 - 3. रात दस बजे से, दिल्ली के जंक्शन से हम
 - 4. रात दस बजे, दिल्ली के जंक्शन से हम

Question ID : 65497829588
Status : Answered
Chosen Option : 4

Q.12 दिए गए शब्द का विलोम चुनें।

निर्मल

- Ans
- 1. मैला
 - 2. विमल
 - 3. गंदा
 - 4. मलिन

Question ID : 65497829591
Status : Answered
Chosen Option : 4

Q.13 सही वर्तनी वाले शब्द का चयन करें।

- Ans
- 1. वनस्पति
 - 2. बनस्पती
 - 3. वनस्पती
 - 4. वनास्पती

Question ID : 65497829589
Status : Answered
Chosen Option : 1

Q.14 दिए गए वाक्य का वह भाग ज्ञात करें जिसमें कोई त्रुटि है। यदि कोई त्रुटि नहीं है, तो 'कोई त्रुटि नहीं है' चुनें।

कई रेलवे के(1)/ कर्मचारियों की(2)/ गिरफ्तारी हुई।(3)/ कोई त्रुटि नहीं है।(4)

- Ans 1. 2
 2. 3
 3. 4
 4. 1

Question ID : 65497829594
Status : Answered
Chosen Option : 3

Q.15 दिए गए शब्द का समानार्थी शब्द बताइए-

कोयल

- Ans 1. शिखी
 2. कीर
 3. काक
 4. कोकिला

Question ID : 65497829585
Status : Answered
Chosen Option : 4

Q.16 सही वर्तनी वाले शब्द का चयन करें।

- Ans 1. प्रलहाद
 2. पहलाद
 3. प्रहलाद
 4. प्रल्हाद

Question ID : 65497829590
Status : Answered
Chosen Option : 3

Q.17 रिक्त स्थान की पूर्ति के लिए सबसे उपयुक्त विकल्प का चयन करें।

श्याम को रोगी पर _____ आ गई।

- Ans 1. दया
 2. क्षमा
 3. कृपा
 4. अनुकंपा

Question ID : 65497829602
Status : Answered
Chosen Option : 1

Q.18 दिये गये वाक्य में रेखांकित अंश को प्रतिस्थापित करने के लिए सबसे उपयुक्त विकल्प का चयन करें।

उसे व्याकरण का अच्छा बोध है।

- Ans 1. ज्ञान
 2. आभास
 3. समझ
 4. भान

Question ID : 65497829596
Status : Answered
Chosen Option : 1

Q.19 चंद्रमा के समान मुखवाला - वाक्यांश के लिए एक शब्द लिखिए-

- Ans 1. दसमुख
 2. चंद्रमुख
 3. लौहपुरुष
 4. गदाधर

Question ID : 65497829598
Status : Answered
Chosen Option : 2

Q.20 उस विकल्प का चयन करें जो निम्न मुहावरे का अर्थ व्यक्त करता है।

कलेजा ठंडा होना

- Ans 1. मन में शान्ति होना
 2. प्रिय होना
 3. बहुत दुखी होना
 4. धीरज रखना

Question ID : 65497829592
Status : Answered
Chosen Option : 3

Comprehension:

भारतवर्ष (1) _____ है और देश में भाषाएं चाहे जितनी भी हों, लेकिन उन सबके भीतर भारत की एक ही (2) _____ अपने को (3) _____ करती है। एक ही गंगोत्री का जल है जो अनेक नदियों में बह रहा है, एक ही सूर्य का (4) _____ है जो अनेक प्रायद्वीपों में जगमगा रहा है और एक ही (5) _____ है जो अनेक छंदों में फूट रहा है। वेद, उपनिषद, रामायण और महाभारत - ये ही वे घाट हैं जहां पर हमारी सभी भाषाएं पानी पीती हैं।

निम्न प्रश्नों के उत्तर उपरोक्त गद्यांश के आधार पर दीजिए।

SubQuestion No : 21

Q.21 गद्यांश के रिक्त स्थान (1) के लिए सर्वाधिक उपयुक्त शब्द होगा-

- Ans 1. भिन्न
 2. एक
 3. अनेक
 4. प्रत्येक

Question ID : 65497829604
Status : Answered
Chosen Option : 2

Comprehension:

भारतवर्ष (1) _____ है और देश में भाषाएं चाहे जितनी भी हों, लेकिन उन सबके भीतर भारत की एक ही (2) _____ अपने को (3) _____ करती है। एक ही गंगोत्री का जल है जो अनेक नदियों में बह रहा है, एक ही सूर्य का (4) _____ है जो अनेक पात्रों में जगमगा रहा है और एक ही (5) _____ है जो अनेक छंदों में फूट रहा है। वेद, उपनिषद्, रामायण और महाभारत – ये ही वे घाट हैं जहां पर हमारी सभी भाषाएं पानी पीती हैं।

निम्न प्रश्नों के उत्तर उपरोक्त गद्यांश के आधार पर दीजिए।

SubQuestion No : 22

Q.22 गद्यांश के रिक्त स्थान (2) के लिए सर्वाधिक उपयुक्त शब्द होगा-

- Ans** 1. आत्मा
 2. निष्ठा
 3. परमात्मा
 4. प्रतिष्ठा

Question ID : **65497829605**
Status : **Answered**
Chosen Option : 2

Comprehension:

भारतवर्ष (1) _____ है और देश में भाषाएं चाहे जितनी भी हों, लेकिन उन सबके भीतर भारत की एक ही (2) _____ अपने को (3) _____ करती है। एक ही गंगोत्री का जल है जो अनेक नदियों में बह रहा है, एक ही सूर्य का (4) _____ है जो अनेक पात्रों में जगमगा रहा है और एक ही (5) _____ है जो अनेक छंदों में फूट रहा है। वेद, उपनिषद्, रामायण और महाभारत – ये ही वे घाट हैं जहां पर हमारी सभी भाषाएं पानी पीती हैं।

निम्न प्रश्नों के उत्तर उपरोक्त गद्यांश के आधार पर दीजिए।

SubQuestion No : 23

Q.23 गद्यांश के रिक्त स्थान (3) के लिए सर्वाधिक उपयुक्त शब्द होगा-

- Ans** 1. संशोधित
 2. अर्पित
 3. प्रदर्शित
 4. अभिव्यक्त

Question ID : **65497829606**
Status : **Answered**
Chosen Option : 4

Comprehension:

भारतवर्ष (1) _____ है और देश में भाषाएं चाहे जितनी भी हों, लेकिन उन सबके भीतर भारत की एक ही (2) _____ अपने को (3) _____ करती है। एक ही गंगोत्री का जल है जो अनेक नदियों में बह रहा है, एक ही सूर्य का (4) _____ है जो अनेक पात्रों में जगमगा रहा है और एक ही (5) _____ है जो अनेक छंदों में फूट रहा है। वेद, उपनिषद्, रामायण और महाभारत – ये ही वे घाट हैं जहां पर हमारी सभी भाषाएं पानी पीती हैं।

निम्न प्रश्नों के उत्तर उपरोक्त गद्यांश के आधार पर दीजिए।

SubQuestion No : 24

Q.24 गद्यांश के रिक्त स्थान (4) के लिए सर्वाधिक उपयुक्त शब्द होगा-

- Ans** 1. दर्पण
 2. रस
 3. चित्र
 4. बिम्ब

Question ID : **65497829607**
Status : **Answered**
Chosen Option : 4

Comprehension:

भारतवर्ष (1) _____ है और देश में भाषाएं चाहे जितनी भी हों, लेकिन उन सबके भीतर भारत की एक ही (2) _____ अपने को (3) _____ करती है। एक ही गंगोत्री का जल है जो अनेक नदियों में बह रहा है, एक ही सूर्य का (4) _____ है जो अनेक पात्रों में जगमगा रहा है और एक ही (5) _____ है जो अनेक छंदों में फूट रहा है। वेद, उपनिषद, रामायण और महाभारत – ये ही वे घाट हैं जहां पर हमारी सभी भाषाएं पानी पीती हैं।

निम्न प्रश्नों के उत्तर उपरोक्त गद्यांश के आधार पर दीजिए।

SubQuestion No : 25

Q.25 गद्यांश के रिक्त स्थान (5) के लिए सर्वाधिक उपयुक्त शब्द होगा-

- Ans**
- 1. बल
 - 2. नाम
 - 3. अर्थ
 - 4. भाव

Question ID : 65497829608

Status : Answered

Chosen Option : 3

GovtJobsAlert.In