

Constable GD in CAPFs NIA SSF and Rifleman GD in Assam Rifles Examination 2021

Roll Number	www.GovtJobsAlert.In
Candidate Name	www.GovtJobsAlert.In
Venue Name	ION Digital Zone iDZ3 Patliputra
Exam Date	24/11/2021
Exam Time :	4:00 PM - 5:30 PM
Subject	Constable GD 2021

Section : Part A General Intelligence and Reasoning

Q.1 दिए गए विकल्पों में से उस अक्षर-समूह का चयन करें जो निम्नलिखित श्रृंखला में प्रश्न चिह्न (?) के स्थान पर आ सकता है।

AS, CQ, EO, ?

Ans 1. GN

2. HN

3. HM

4. GM

Question ID : 65497835722

Status : Answered

Chosen Option : 4

Q.2 उस विकल्प का चयन करें जिसमें दिए गए संख्या-त्रिक की संख्याओं के बीच वही संबंध नहीं है जो संबंध निम्न संख्या-त्रिक की संख्याओं के बीच है।

(3, 6, 18)

Ans 1. (7, 14, 42)

2. (6, 12, 36)

3. (9, 18, 54)

4. (8, 16, 56)

Question ID : 65497835710

Status : Answered

Chosen Option : 4

Q.3 यदि 'A + B' का अर्थ है कि 'A, B की पुत्री है', 'A × B' का अर्थ है कि 'A, B की बहन है' और 'A = B' का अर्थ है कि 'A, B की पत्नी है' तो व्यंजक 'C × G × U + M = R' में G का R से क्या संबंध है?

Ans 1. माता

2. बहन

3. पुत्री

4. पुत्र

Question ID : 65497835707

Status : Not Answered

Chosen Option : --

Q.4 छः दोस्त R, S, T, U, V और W एक सीधी पंक्ति में बैठे हैं। T बाएं से तीसरे और दाएं से चौथे स्थान पर है। V, T और S के बीच में है। S, U के बाईं ओर बगल में है। R, T और W के बीच में है। V दाईं ओर से किस स्थान पर बैठा है?

- Ans 1. तीसरे
 2. दूसरे
 3. चौथे
 4. पांचवे

Question ID : 65497835715
Status : Answered
Chosen Option : 1

Q.5 दिए गए विकल्पों में से उस संख्या का चयन कीजिए जो निम्न श्रेणी में प्रश्नवाचक चिह्न (?) के स्थान पर आएगी।

5, 16, 28, 36, 71, 90, 234, 342, ?

- Ans 1. 793
 2. 893
 3. 739
 4. 839

Question ID : 65497835716
Status : Answered
Chosen Option : 3

Q.6 एक निश्चित कूट भाषा में, 'TIKRI' को '201811369' के रूप में कूटबद्ध किया जाता है। उसी कूट भाषा में, 'BOARD' को किस रूप में कूटबद्ध किया जाएगा?

- Ans 1. 2301364
 2. 2151364
 3. 2301184
 4. 2151184

Question ID : 65497835714
Status : Answered
Chosen Option : 1

Q.7 यदि 'P' का अर्थ 'जोड़' है, 'Q' का अर्थ 'गुणा' है, 'R' का अर्थ 'घटाना' है, और 'S' का अर्थ 'भाग' है, तो निम्न व्यंजक का मान कितना होगा?

45S (3P7) P5S (8S4) P9Q (15S5)

- Ans 1. 32
 2. 28
 3. 34
 4. 38

Question ID : 65497835718
Status : Answered
Chosen Option : 3

Q.8 दिए गए कथनों और निष्कर्षों को ध्यानपूर्वक पढ़ें। यह मानते हुए कि कथनों में दी गई जानकारी सत्य है, भले ही वह सामान्य रूप से ज्ञात तथ्यों से भिन्न प्रतीत होती हो, निर्णय लें कि दिए गए निष्कर्षों में से कौन से निष्कर्ष कथनों का तार्किक रूप से अनुसरण करते हैं।

कथन:

कुछ थैले, कलम हैं।
सभी कलम, बक्से हैं।
सभी थैले, पुस्तकें हैं।

निष्कर्ष:

I. कुछ पुस्तकें, बक्से हैं।
II. कुछ बक्से, थैले हैं।
III. कुछ पुस्तकें, कलम हैं।

- Ans 1. केवल निष्कर्ष I और III अनुसरण करते हैं।
 2. I, II और III सभी निष्कर्ष अनुसरण करते हैं।
 3. केवल निष्कर्ष I और II अनुसरण करते हैं।
 4. केवल निष्कर्ष II और III अनुसरण करते हैं।

Question ID : 65497835709
Status : Answered
Chosen Option : 2

Q.9 उस विकल्प का चयन करें, जो तीसरे पद से उसी प्रकार संबंधित है, जिस प्रकार दूसरा पद पहले पद से संबंधित है।

SYMBOL : YSBMLO :: BANQUETS : ?

- Ans 1. ABQNSTEU
 2. ABQNEUST
 3. NABEUQST
 4. QNABSTEU

Question ID : 65497835705
Status : Answered
Chosen Option : 2

Q.10 उस विकल्प का चयन कीजिए जिसका तीसरी संख्या से वही संबंध है जो दूसरी संख्या का पहली संख्या से है और छठी संख्या का पांचवीं संख्या से है।

23 : 368 :: 25 : ? :: 21 : 294

- Ans 1. 450
 2. 442
 3. 382
 4. 371

Question ID : 65497835717
Status : Answered
Chosen Option : 1

Q.11 किसी निश्चित कूट भाषा में, 'BOWLER' को 'C p X M f S' के रूप में लिखा जाता है और 'NEAT' को 'O f b U' के रूप में लिखा जाता है। उसी कूट भाषा में 'SERIOUS' को किस रूप में लिखा जाएगा?

- Ans
- 1. T f T j P V T
 - 2. T f S J P w t
 - 3. T f S j p v T
 - 4. T f s J p U t

Question ID : 65497835706

Status : Answered

Chosen Option : 3

Q.12 उस विकल्प का चयन करें जिसमें निम्नलिखित शब्दों का वह क्रम दिया गया है, जिस क्रम में वे अंग्रेजी शब्दकोश में आते हैं।

1. Restates
2. Resistance
3. Restoration
4. Resonant
5. Resection

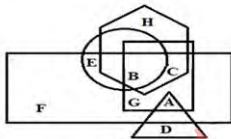
- Ans
- 1. 5, 4, 2, 3, 1
 - 2. 5, 2, 4, 1, 3
 - 3. 5, 2, 1, 4, 3
 - 4. 5, 2, 4, 3, 1

Question ID : 65497835726

Status : Answered

Chosen Option : 2

Q.13 नीचे दी गई आकृति में, वर्ग 'प्राकृतिक उपग्रह' को निरूपित करता है, वृत्त 'तारों' को निरूपित करता है, आयत 'ग्रहों' को निरूपित करता है, षट्भुज 'वायुमंडल' को निरूपित करता है, और त्रिभुज 'कृत्रिम उपग्रह' को निरूपित करता है। कौन सा अक्षर ग्रहों को निरूपित करता है, लेकिन उन तारों को निरूपित नहीं करता है जिनमें वायुमंडल और प्राकृतिक उपग्रह हैं लेकिन कृत्रिम उपग्रह नहीं है।



- Ans
- 1. C
 - 2. E
 - 3. B
 - 4. A

Question ID : 65497835725

Status : Answered

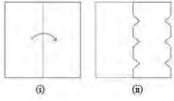
Chosen Option : 3

Q.14 एक निश्चित कूट भाषा में, 'DOCTOR' को 'SQWGTJ' के रूप में लिखा जाता है और 'SINGER' को 'SGJRNJ' के रूप में लिखा जाता है। उसी कूट भाषा में 'TAILOR' को किस रूप में लिखा जाएगा?

- Ans 1. SQOMFZ
 2. SQOMFX
 3. TQQNEZ
 4. TOOMFZ

Question ID : 65497835708
 Status : Answered
 Chosen Option : 3

Q.15 नीचे दी गई आकृतियों में कागज़ के एक टुकड़े को मोड़ने और मोड़े गए कागज़ को काटने के तरीके का क्रम दर्शाया गया है। कागज़ को खोले जाने पर वह कैसा दिखाई देगा?



Ans

- 1.
- 2.
- 3.
- 4.

Question ID : 65497835712
 Status : Not Answered
 Chosen Option : --

Q.16 दिए गए विकल्पों में से उस संख्या का चयन कीजिए जो निम्न श्रेणी में प्रश्नवाचक चिह्न (?) के स्थान पर आएगी।

8, 25, 57, 221, 449, ?

- Ans 1. 1879
 2. 1978
 3. 1798
 4. 1789

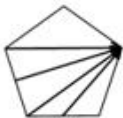
Question ID : 65497835728
 Status : Answered
 Chosen Option : 3

Q.17 दिए गए विकल्पों में से उस आकृति का चयन करें, जो निम्न आकृति श्रृंखला में प्रश्नवाचक चिह्न (?) के स्थान पर आ सकती है।



Ans

✓ 1.



✗ 2.



✗ 3.



✗ 4.



Question ID : 65497835729

Status : Answered

Chosen Option : 1

Q.18 उस विकल्प का चयन कीजिए जिसमें दी गई आकृति सम्मिलित है। (आकृति को घुमाने की अनुमति नहीं है)



Ans

✓ 1.



✗ 2.



✗ 3.



✗ 4.



Question ID : 65497835720

Status : Answered

Chosen Option : 2

Q.19 उस विकल्प का चयन करें जो तीसरे शब्द से उसी प्रकार संबंधित है जिस प्रकार दूसरा शब्द पहले शब्द से संबंधित है।

सिफ़िलिस : जीवाणु :: टीनिया पेडिस : ?

- Ans
- 1. कवक
 - 2. शैवाल
 - 3. प्रोटोज़ोआ
 - 4. विषाणु

Question ID : 65497835723
Status : Not Answered
Chosen Option : --

Q.20 चार अक्षर-समूह दिए गए हैं, जिनमें से तीन एक निश्चित प्रकार से समान हैं, जबकि एक उनसे असंगत है। उस असंगत अक्षर-समूह का चयन कीजिए।

- Ans
- 1. KIEA
 - 2. XVRL
 - 3. RPLF
 - 4. MKGA

Question ID : 65497835713
Status : Answered
Chosen Option : 1

Q.21 यदि शिखा और राजकुमार की वर्तमान आयु का अनुपात 2 : 1 है और 15 वर्ष पूर्व उनकी आयु का अनुपात 3 : 1 था, तो शिखा की वर्तमान आयु (वर्षों में) क्या है?

- Ans
- 1. 45
 - 2. 30
 - 3. 75
 - 4. 60

Question ID : 65497835711
Status : Answered
Chosen Option : 4

Q.22 यदि दर्पण को निम्नांकित चित्र के अनुसार 'PQ' पर रखा जाए, तो दिए गए संयोजन का दर्पण में निर्मित सही प्रतिबिंब चयनित कीजिए।

KURDARAM

P
|
Q

- Ans
- 1. MARKURDA
 - 2. MARADRAM
 - 3. RAMKURDA
 - 4. MARADRK

Question ID : 65497835721
Status : Answered
Chosen Option : 2

Q.23 अक्षरों के उस संयोजन का चयन करें, जिसे दी गई श्रृंखला के रिक्त स्थानों में क्रम से रखे जाने पर श्रृंखला पूर्ण हो जाएगी।

I _ _ Q Z _ _ K _ _ I J _ Q Z

- Ans 1. JKIJQZK
 2. JKQZKI
 3. IJKQZK
 4. IQZIKI

Question ID : 65497835727

Status : Answered

Chosen Option : 1

Q.24 चार सहेलियां रति, अरीमा, सोनाली और गीत उत्तर दिशा की ओर अभिमुख होकर एक बिस्तर पर एक दूसरे के बगल में बैठी हैं। सोनाली, रति के बाईं ओर बैठी है। रति, अरीमा के बाईं ओर बगल में बैठी है। गीत, रति और सोनाली के बीच में बैठी है। दायें छोर से दूसरे स्थान पर कौन सी लड़की बैठी है?

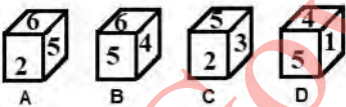
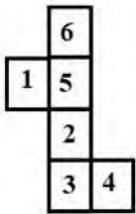
- Ans 1. गीत
 2. अरीमा
 3. रति
 4. सोनाली

Question ID : 65497835724

Status : Not Answered

Chosen Option : --

Q.25 निम्न शीट को रेखाओं पर से मोड़कर बनाये जा सकने वाले पासों का चयन कीजिए।



- Ans 1. केवल A
 2. A, B, C और D
 3. केवल A और C
 4. केवल B

Question ID : 65497835719

Status : Not Answered

Chosen Option : --

Section : Part B General Knowledge and General Awareness

Q.1 निम्नलिखित में से कौन सा स्थान/क्षेत्र, भारतीय घुड़खर का प्राकृतिक आवास है?

- Ans 1. लघु कच्छ रण
 2. ऊपरी हिमालय
 3. गंगा के मैदान
 4. सुंदरबन

Question ID : 65497835743
Status : Answered
Chosen Option : 1

Q.2 'स्वर्णजयंती ग्राम स्वरोजगार योजना' (SGSY) वर्ष _____ में शुरू की गई थी।

- Ans 1. 2002
 2. 1995
 3. 2005
 4. 1999

Question ID : 65497835735
Status : Answered
Chosen Option : 4

Q.3 सालार जंग संग्रहालय किस शहर में स्थित है?

- Ans 1. हैदराबाद
 2. चेन्नई
 3. तिरुवनंतपुरम
 4. बेंगलुरु

Question ID : 65497835740
Status : Answered
Chosen Option : 1

Q.4 निम्नलिखित में से किसे साहित्य के लिए 2020 के नोबेल पुरस्कार से सम्मानित किया गया था?

- Ans 1. काजुओ इशिगुरो (Kazuo Ishiguro)
 2. एलिस मुनरो (Alice Munro)
 3. डोरिस लेंसिंग (Doris Lessing)
 4. लुईस ग्लुक (Louise Gluck)

Question ID : 65497835744
Status : Answered
Chosen Option : 1

Q.5 चाणक्य, _____ के शासनकाल में प्रधान अमात्य थे।

- Ans 1. अशोक
 2. हर्षवर्धन
 3. बिन्दुसार
 4. चंद्रगुप्त मौर्य

Question ID : 65497835731
Status : Answered
Chosen Option : 4

Q.6 निम्नलिखित खिलाड़ियों में से कौन सा खिलाड़ी एक भारतीय पेशेवर टेनिस खिलाड़ी है?

- Ans
- 1. प्रकाश पादुकोण
 - 2. रोहन बोपन्ना
 - 3. कुलदीप यादव
 - 4. पुलेला गोपीचंद

Question ID : 65497835754
Status : Answered
Chosen Option : 2

Q.7 निम्नलिखित में से किस संवैधानिक संशोधन अधिनियम के तहत, संवैधानिक संशोधन विधेयक के लिए राष्ट्रपति को अपनी सहमति देना अनिवार्य कर दिया गया था?

- Ans
- 1. 100वें संशोधन अधिनियम, 2015
 - 2. 44वें संशोधन अधिनियम, 1978
 - 3. 24वें संशोधन अधिनियम, 1971
 - 4. 42वें संशोधन अधिनियम, 1976

Question ID : 65497835747
Status : Not Answered
Chosen Option : --

Q.8 बाल न्याय (बच्चों की देखभाल और संरक्षण) विधेयक, 2014 किस बात की अनुमति देता है?

- Ans
- 1. 16-18 वर्ष की आयु वाले किशोरों के माता-पिता को किशोर द्वारा किए गए अपराध के लिए अपराधी ठहराने की कोशिश की जानी चाहिए।
 - 2. 16-18 वर्ष की आयु वाले किशोरों को जघन्य अपराध के लिए वयस्कों की तरह सजा दी जानी चाहिए।
 - 3. 14-18 वर्ष की आयु वाले किशोरों को सुधार घरों में भेजा जाना चाहिए।
 - 4. 16-18 वर्ष की आयु वाले किशोरों को अपराधों के लिए 60 दिनों तक सामुदायिक सेवा में रखने का आदेश दिया जाना चाहिए।

Question ID : 65497835732
Status : Not Answered
Chosen Option : --

Q.9 धन जुटाने और भारतीय कंपनियों को उधार देने के लिए अंतरराष्ट्रीय वित्तीय संस्थानों द्वारा बांड भारत के बाहर वैश्विक पूंजी बाजारों में निर्गत किए जाते हैं।

- Ans
- 1. पापड़
 - 2. मसाला
 - 3. मिठाई
 - 4. चांदी

Question ID : 65497835736
Status : Answered
Chosen Option : 2

Q.10 'आजी लामू' लोक नृत्य का संबंध निम्नलिखित में से किस राज्य से है?

- Ans 1. त्रिपुरा
 2. अरुणाचल प्रदेश
 3. असम
 4. मणिपुर

Question ID : 65497835739
Status : Not Answered
Chosen Option : --

Q.11 निम्नलिखित में से किन देशों ने नवंबर 2020 में, 'अटल इनोवेशन मिशन-सीरियस इनोवेशन प्रोग्राम 3.0' की शुरुआत की?

- Ans 1. भारत और रूस
 2. भारत और फ्रांस
 3. भारत और जापान
 4. भारत और ऑस्ट्रेलिया

Question ID : 65497835748
Status : Not Answered
Chosen Option : --

Q.12 2020 में अर्जुन पुरस्कार से सम्मानित चिराग शेटी का संबंध निम्नलिखित में से किस खेल से है?

- Ans 1. हॉकी
 2. तैराकी
 3. बैडमिंटन
 4. क्रिकेट

Question ID : 65497835738
Status : Not Answered
Chosen Option : --

Q.13 निम्नलिखित में से किस जनजाति का संबंध नीलगिरि पर्वतों से है?

- Ans 1. अंगामी
 2. ओंगे
 3. टोडा
 4. जारवा

Question ID : 65497835734
Status : Answered
Chosen Option : 3

Q.14 भारत-म्यांमार सीमा पर, निम्न में से कौन-सी पहाड़ी भारत के पूर्वी पहाड़ी इलाकों की मिज़ो हिल्स और मणिपुर हिल्स को जोड़ती है?

- Ans
- 1. डोंक्या
 - 2. चिन
 - 3. खासी
 - 4. तोबा ककड़

Question ID : 65497835730
Status : Answered
Chosen Option : 3

Q.15 _____ 1864 और 1939 के बीच ब्रिटिश भारत की ग्रीष्मकालीन राजधानी रही थी।

- Ans
- 1. शिमला
 - 2. गंगटोक
 - 3. माउंट आबू
 - 4. कलिम्पोंग

Question ID : 65497835737
Status : Answered
Chosen Option : 1

Q.16 किसी देश की 'औसत आय' की गणना कैसे की जाती है?

- Ans
- 1. देश की कुल आय को इसकी कुल जनसंख्या से विभाजित करके।
 - 2. देश की कुल आय से जनसंख्या को घटाकर।
 - 3. देश की कुल आय तथा इसकी कुल जनसंख्या का गुणनफल।
 - 4. देश के सभी निवासियों की कुल आय।

Question ID : 65497835752
Status : Answered
Chosen Option : 1

Q.17 जेट इंजन किस सिद्धांत पर कार्य करता है?

- Ans
- 1. त्वरण के संरक्षण
 - 2. रैखिक संवेग के संरक्षण
 - 3. वेग के संरक्षण
 - 4. कोणीय संवेग के संरक्षण

Question ID : 65497835741
Status : Answered
Chosen Option : 2

Q.18 नवंबर 2020 में, भारत, जापान और अमेरिका के बीच आयोजित त्रिपक्षीय नौसैन्य अभ्यास का नाम क्या था?

- Ans
- 1. सिमबेक्स -20
 - 2. युद्ध अभ्यास
 - 3. मित्र शक्ति
 - 4. मालाबार

Question ID : 65497835733
Status : Answered
Chosen Option : 1

Q.19 _____ उद्यम एक ऐसा व्यावसायिक उद्यम होता है जिसमें मुख्यतः व्यापार के माध्यम से तथा सामान को सस्ते में खरीदकर और उसे उच्च कीमतों पर बेचकर लाभ कमाया जाता है।

- Ans
- 1. वस्तु विनिमय
 - 2. क्रय-विक्रय
 - 3. वाणिज्यिक
 - 4. किराया

Question ID : 65497835750
Status : Answered
Chosen Option : 3

Q.20 अक्टूबर 2020 में, निम्नलिखित में से किसे इंडिया पोस्ट पेमेंट्स बैंक के प्रबंधक निदेशक और मुख्य कार्यकारी अधिकारी के रूप में नियुक्त किया गया था?

- Ans
- 1. जे वेंकटरामू
 - 2. एस अपर्णा
 - 3. अपूर्वा चंद्रा
 - 4. सीमा गुप्ता

Question ID : 65497835745
Status : Answered
Chosen Option : 1

Q.21 किसी फूल के अंडाशय के अंदर छोटे मनके जैसी संरचनाओं को क्या कहा जाता है?

- Ans
- 1. दल
 - 2. बीजाण्ड
 - 3. बाह्य दल
 - 4. पुष्प-केसर

Question ID : 65497835742
Status : Not Answered
Chosen Option : --

Q.22 ट्रांसजेंडर बच्चों की देखभाल और सुरक्षा के लिए भारत का पहला घर कहां स्थापित किया जाएगा?

- Ans
- 1. मुंबई
 - 2. दिल्ली
 - 3. बेंगलुरु
 - 4. चेन्नई

Question ID : 65497835751
Status : Answered
Chosen Option : 3

Q.23 महान फुटबॉलर डिएगो माराडोना, जिनकी मृत्यु नवंबर, 2020 में हुई थी, के नेतृत्व में उनके देश अर्जेंटीना ने _____ में फीफा विश्व कप खिताब जीता था।

- Ans
- 1. 1982
 - 2. 1994
 - 3. 1990
 - 4. 1986

Question ID : 65497835746
Status : Answered
Chosen Option : 4

Q.24 निम्न में से कौन सा नियम यह कहता है कि, "दो वस्तुओं के बीच लगने वाला बल उनके द्रव्यमानों के गुणनफल के समानुपाती होता है?"

- Ans
- 1. जड़त्व का नियम
 - 2. गुरुत्वाकर्षण का नियम
 - 3. संवेग परिवर्तन का नियम
 - 4. गति का नियम

Question ID : 65497835749
Status : Answered
Chosen Option : 2

Q.25 भारत की जनगणना 2011 के अनुसार, _____ वर्ष और उससे अधिक आयु का कोई भी व्यक्ति, जो किसी भाषा को समझ और पढ़ और लिख सकता है, साक्षर माना जाएगा।

- Ans
- 1. 7
 - 2. 6
 - 3. 5
 - 4. 4

Question ID : 65497835753
Status : Answered
Chosen Option : 3

Section : Part C Elementary Mathematics

Q.1 अपनी सामान्य चाल की $\frac{6}{7}$ चाल से चलने पर, एक व्यक्ति को 10 min की देरी हो जाती है। उस व्यक्ति को अपनी सामान्य चाल से उसी दूरी को तय करने में कितना समय लगता है?

- Ans**
- 1. 120 min
 - 2. 1 hour 15 min
 - 3. 1 hour
 - 4. 72 min

Question ID : 65497835773
Status : Answered
Chosen Option : 3

Q.2 रूमी, एरिका द्वारा अर्जित वेतन से 40% अधिक वेतन अर्जित करता है। चार्ल्स, एरिका द्वारा अर्जित वेतन से 60% अधिक वेतन अर्जित करता है। चार्ल्स द्वारा अर्जित वेतन, रूमी द्वारा अर्जित वेतन से कितने प्रतिशत (दशमलव के दो स्थानों तक सही) अधिक है?

- Ans**
- 1. 14.29%
 - 2. 14.9%
 - 3. 12.29%
 - 4. 10.29%

Question ID : 65497835771
Status : Answered
Chosen Option : 1

Q.3 16 cm त्रिज्या और 36 cm ऊंचाई वाले धातु के एक शंकु को पिघलाकर प्रत्येक 4 cm त्रिज्या वाले गोले बनाए जाते हैं। इस प्रकार के गोलों की संख्या ज्ञात कीजिए।

- Ans**
- 1. 32
 - 2. 28
 - 3. 45
 - 4. 36

Question ID : 65497835779
Status : Answered
Chosen Option : 4

Q.4 एक बैग में ₹441 की धनराशि 50 p, 25 p और 20 p के सिक्कों के रूप में है जिनका अनुपात 4 : 3 : 2 है। 25 p के सिक्कों की संख्या ज्ञात कीजिए।

- Ans**
- 1. 400
 - 2. 240
 - 3. 460
 - 4. 420

Question ID : 65497835767
Status : Answered
Chosen Option : 2

Q.5 एक दुकानदार ने पतलून पर 25% की छूट की घोषणा की। उमेश दुकान में गया। वह छूट के रूप में ₹500 बचाना चाहता था। यदि प्रत्येक पतलून का मूल्य ₹250 है, तो ऐसा करने के लिए उसे कितने पतलून खरीदने होंगे?

- Ans**
- 1. 8
 - 2. 6
 - 3. 5
 - 4. 4

Question ID : **65497835770**
Status : **Answered**
Chosen Option : 1

Q.6 यदि 20 पुरुष किसी कार्य को 48 दिनों में पूरा कर सकते हैं, तो इस कार्य को 40 दिन में पूरा करने के लिए कितने पुरुषों की आवश्यकता होगी?

- Ans**
- 1. 26
 - 2. 28
 - 3. 22
 - 4. 24

Question ID : **65497835759**
Status : **Answered**
Chosen Option : 4

Q.7 92 km/h की एकसमान चाल से चल रही 180 मीटर लंबी एक ट्रेन, उसी दिशा में 74 km/h की एकसमान चाल से चल रही दूसरी ट्रेन को 60 सेकंड में पार करती है। दूसरी ट्रेन की लंबाई ज्ञात करें।

- Ans**
- 1. 120 मीटर
 - 2. 150 मीटर
 - 3. 160 मीटर
 - 4. 140 मीटर

Question ID : **65497835775**
Status : **Answered**
Chosen Option : 1

Q.8 एक विशाल स्कूल ऑडिटोरियम में, यदि शिक्षक, प्रत्येक पंक्ति में 16 विद्यार्थी रखते हैं, तो 14 विद्यार्थी बच जाएंगे। यदि वे प्रत्येक पंक्ति में 24 विद्यार्थी रखते हैं, तो 22 विद्यार्थी बच जाएंगे। यदि वे प्रत्येक पंक्ति में 25 विद्यार्थी रखते हैं, तो 23 विद्यार्थी बच जाएंगे और यदि वे प्रत्येक पंक्ति में 30 विद्यार्थी रखते हैं, तो 28 विद्यार्थी बच जाएंगे। स्कूल में उपस्थित विद्यार्थियों की न्यूनतम संख्या कितनी है?

- Ans**
- 1. 1198
 - 2. 1202
 - 3. 1189
 - 4. 1200

Question ID : **65497835764**
Status : **Answered**
Chosen Option : 1

Q.9 ₹1,625 की राशि पर दो अलग-अलग स्रोतों से 5 वर्षों में प्राप्त साधारण ब्याजों के बीच ₹32.50 का अंतर है। उनकी ब्याज दरों के बीच अंतर ज्ञात कीजिए।

- Ans**
- 1. 0.6%
 - 2. 0.5%
 - 3. 0.3%
 - 4. 0.4%

Question ID : 65497835778
Status : Answered
Chosen Option : 4

Q.10 एक वस्तु के अंकित मूल्य पर 30% की छूट देने के बाद, इसे ₹455 में बेचा जाता है। वस्तु का अंकित मूल्य ज्ञात कीजिए।

- Ans**
- 1. ₹650
 - 2. ₹554
 - 3. ₹550
 - 4. ₹560

Question ID : 65497835766
Status : Answered
Chosen Option : 1

Q.11 यदि एक त्रिभुज की भुजाएँ 8 cm, 8 cm और 12 cm हैं, तो त्रिभुज का क्षेत्रफल कितना होगा?

- Ans**
- 1. 64 cm^2
 - 2. $12\sqrt{7} \text{ cm}^2$
 - 3. 19 cm^2
 - 4. 34 cm^2

Question ID : 65497835756
Status : Answered
Chosen Option : 1

Q.12 निम्नलिखित व्यंजक का मान ज्ञात करें।

$$27 \div 3 \times 4 + 4 \div 2 \text{ of } 2$$

- Ans**
- 1. 37
 - 2. $1\frac{1}{8}$
 - 3. $6\frac{1}{4}$
 - 4. $2\frac{1}{8}$

Question ID : 65497835757
Status : Answered
Chosen Option : 3

Q.13 एक मशीन X, 4 घंटे में 1000 बोल्ट और दूसरी मशीन Y, 12 घंटे में 1000 बोल्ट का उत्पादन कर सकती है। X और Y मशीनें एक साथ अपनी-अपनी नियत उत्पादन दर पर 1000 बोल्ट का उत्पादन कितने घंटों में कर सकती हैं?

- Ans**
- 1. 2
 - 2. 4
 - 3. 6
 - 4. 3

Question ID : **65497835772**
Status : **Answered**
Chosen Option : **3**

Q.14 9 प्रेक्षकों का औसत 10 था, जिनमें से पहले 5 प्रेक्षकों का औसत 11 था और अंतिम 5 प्रेक्षकों का औसत 8 था। 5वां प्रेक्षण कितना था?

- Ans**
- 1. 4
 - 2. 5
 - 3. 7
 - 4. 6

Question ID : **65497835769**
Status : **Answered**
Chosen Option : **2**

Q.15 यदि 9-अंकीय संख्या $5y97405x2$, 72 से विभाज्य है, तो x के सबसे बड़े मान के लिए $(x - 2y)$ का मान ज्ञात करें।

- Ans**
- 1. 1
 - 2. 9
 - 3. 8
 - 4. 4

Question ID : **65497835760**
Status : **Answered**
Chosen Option : **3**

Q.16 किसी धनराशि पर साधारण ब्याज की दर से 3 वर्षों में प्राप्त मिश्रधन ₹650 और 4 वर्षों में प्राप्त मिश्रधन ₹754 है। वह धनराशि ज्ञात कीजिए।

- Ans**
- 1. ₹388
 - 2. ₹338
 - 3. ₹318
 - 4. ₹308

Question ID : **65497835768**
Status : **Answered**
Chosen Option : **2**

Q.17 एक कंपनी में, 75% कुशल श्रमिक हैं और शेष अकुशल हैं। 84% कुशल श्रमिक और 28% अकुशल श्रमिक स्थायी हैं। यदि अस्थायी श्रमिकों की संख्या 150 है, तो कंपनी में कुल श्रमिकों की संख्या कितनी है?

- Ans**
- 1. 500
 - 2. 600
 - 3. 400
 - 4. 480

Question ID : **65497835761**
Status : **Answered**
Chosen Option : **2**

Q.18 A, B और C की वर्तमान औसत आयु 60 वर्ष है तथा B और C की वर्तमान औसत आयु 50 वर्ष है। A की वर्तमान आयु कितनी है?

- Ans**
- 1. 80 वर्ष
 - 2. 60 वर्ष
 - 3. 45 वर्ष
 - 4. 75 वर्ष

Question ID : **65497835765**
Status : **Answered**
Chosen Option : **1**

Q.19 अरुण ने ₹7,000 की धनराशि 10% वार्षिक साधारण ब्याज दर पर दो वर्षों के लिए निवेश की। भरत ने एक निश्चित धनराशि 8% वार्षिक साधारण ब्याज दर पर 5 वर्षों के लिए निवेश की। यदि अरुण को प्राप्त मिश्रधन, भरत को प्राप्त मिश्रधन के बराबर है, तो भरत द्वारा निवेशित धनराशि कितनी थी?

- Ans**
- 1. ₹5,800
 - 2. ₹6,200
 - 3. ₹6,500
 - 4. ₹6,000

Question ID : **65497835763**
Status : **Answered**
Chosen Option : **4**

Q.20 कोई व्यक्ति किसी वस्तु को निश्चित मूल्य पर बेचकर 15% लाभ प्राप्त करता है। यदि वह इसे दोगुने मूल्य पर बेचता है, तो उसका लाभ प्रतिशत कितना होगा?

- Ans**
- 1. 115%
 - 2. 130%
 - 3. 120%
 - 4. 110%

Question ID : **65497835776**
Status : **Answered**
Chosen Option : **1**

Q.21 एक वस्तु को 12% की हानि पर ₹3,520 में बेचा गया। 18% का लाभ प्राप्त करने के लिए इस वस्तु को किस मूल्य पर बेचा जाना चाहिए?

- Ans**
- 1. ₹4,500
 - 2. ₹4,620
 - 3. ₹4,720
 - 4. ₹5,620

Question ID : 65497835762
Status : Answered
Chosen Option : 3

Q.22 दो संख्याओं का अनुपात 2 : 5 है। यदि प्रत्येक में से 7 घटा दिया जाए, तो नई संख्याओं का अनुपात 13 : 43 हो जाएगा। छोटी संख्या ज्ञात कीजिए।

- Ans**
- 1. 20
 - 2. 15
 - 3. 10
 - 4. 30

Question ID : 65497835777
Status : Answered
Chosen Option : 3

Q.23 एक कलाई घड़ी 15% लाभ पर ₹2,300 में बेची गई। लाभ की गणना करें।

- Ans**
- 1. ₹300
 - 2. ₹280
 - 3. ₹250
 - 4. ₹320

Question ID : 65497835758
Status : Answered
Chosen Option : 1

Q.24 एक विद्यालय के छात्रों की कुल संख्या 1,600 है और लड़कों तथा लड़कियों की संख्या का अनुपात 11 : 9 है। इस अनुपात को 4 : 3 करने के लिए विद्यालय में कितने और लड़कों को प्रवेश देना होगा?

- Ans**
- 1. 100
 - 2. 387
 - 3. 160
 - 4. 80

Question ID : 65497835755
Status : Answered
Chosen Option : 4

Q.25 $(1 - 1/2)(1 - 1/3)(1 - 1/4)..... (1 - 1/23)$ को सरल करने पर प्राप्त परिणाम _____ होगा।

- Ans
- 1. $1/23$
 - 2. $1/22$
 - 3. $1/3$
 - 4. $1/2$

Question ID : 65497835774
Status : Answered
Chosen Option : 1

Section : Part D English

Q.1 Select the option that can be used as a one-word substitute for the given group of words.

Light rain falling in small drops

- Ans
- 1. Downpour
 - 2. Stream
 - 3. Drizzle
 - 4. Dew

Question ID : 65497835793
Status : Not Answered
Chosen Option : --

Q.2 The following sentence has been divided into parts. One of them may contain an error. Select the part that contains the error from the given options. If you don't find any error, select 'No error' as your answer.

A good book / is one of / our best friends.

- Ans
- 1. our best friends
 - 2. A good book
 - 3. is one of
 - 4. No error

Question ID : 65497835781
Status : Not Answered
Chosen Option : --

Q.3 Select the most appropriate option that can substitute the underlined word in the given sentence.

After the bag was shut and barrelled, he realised that he had forgotten to put in the book.

- Ans
- 1. rebounded
 - 2. scrambled
 - 3. scratched
 - 4. strapped

Question ID : 65497835783
Status : Not Answered
Chosen Option : --

Q.4 Select the most appropriate option to fill in the blank.

Suddenly, it started raining and I _____ an umbrella from the office.

- Ans 1. borrowed
 2. criticised
 3. lended
 4. substituted

Question ID : **65497835784**
Status : **Not Answered**
Chosen Option : --

Q.5 Select the most appropriate meaning of the given idiom.

Hand in hand

- Ans 1. Vigorously
 2. Easily
 3. In totality
 4. Together

Question ID : **65497835785**
Status : **Not Answered**
Chosen Option : --

Q.6 Select the most appropriate option to fill in the blank.

The gentleman looked at the beautiful lady with great _____.

- Ans 1. reaction
 2. admiration
 3. vocation
 4. duration

Question ID : **65497835789**
Status : **Not Answered**
Chosen Option : --

Q.7 Select the most appropriate option that can substitute the underlined segment in the given sentence. If there is no need to substitute it, select 'No substitution required'.

It was such a funny story that we cannot help laughed.

- Ans 1. could not help laughed
 2. cannot help laughing
 3. No substitution required
 4. could not help laughing

Question ID : **65497835780**
Status : **Not Answered**
Chosen Option : --

Q.8 The following sentence has been split into four segments. Identify the segment that contains a grammatical error.

Tortoises inhabit all of / the world's landmasses / except Australia / and Antarctica.

- Ans** 1. and Antarctica
 2. Tortoises inhabit all of
 3. the world's landmasses
 4. except Australia

Question ID : **65497835791**
Status : **Not Answered**
Chosen Option : --

Q.9 Select the most appropriate meaning of the given idiom.

Toe the line

- Ans** 1. Start early
 2. Follow the rules
 3. Touch the feet
 4. Finish first

Question ID : **65497835787**
Status : **Not Answered**
Chosen Option : --

Q.10 Select the most appropriate option to fill in the blank.

The boy walked at a fast _____.

- Ans** 1. pace
 2. pose
 3. peace
 4. place

Question ID : **65497835798**
Status : **Not Answered**
Chosen Option : --

Q.11 Select the option that can be used as a one-word substitute for the given group of words.

A medicine used to nullify the effect of poison

- Ans** 1. Antibiotic
 2. Antigen
 3. Antiseptic
 4. Antidote

Question ID : **65497835796**
Status : **Not Answered**
Chosen Option : --

Q.12 The following sentence has been split into four segments. Identify the segment that contains a grammatical error.

We bought / good quality / furnitures / for our new house.

- Ans 1. for our new house
 2. furnitures
 3. good quality
 4. We bought

Question ID : 65497835794
Status : Not Answered
Chosen Option : --

Q.13 Select the INCORRECTLY spelt word.

- Ans 1. Capture
 2. Nerture
 3. Structure
 4. Lecture

Question ID : 65497835788
Status : Not Answered
Chosen Option : --

Q.14 Select the most appropriate synonym of the given word.

Amusing

- Ans 1. Wise
 2. Laughable
 3. Tiresome
 4. Dull

Question ID : 65497835782
Status : Not Answered
Chosen Option : --

Q.15 Select the most appropriate option that can substitute the underlined segment in the given sentence. If there is no need to substitute it, select 'No substitution required'.

My brother and Raj are good friends. They are knowing each other for at least 10 years.

- Ans 1. are known
 2. knew
 3. No substitution required
 4. have known

Question ID : 65497835799
Status : Not Answered
Chosen Option : --

Q.16 Select the most appropriate synonym of the given word.

Hurdle

- Ans** 1. Obstacle
 2. Compliment
 3. Rudiment
 4. Assistance

Question ID : **65497835792**
Status : **Not Answered**
Chosen Option : --

Q.17 Select the most appropriate ANTONYM of the given word.

Diverge

- Ans** 1. Submerge
 2. Contrast
 3. Depart
 4. Converge

Question ID : **65497835790**
Status : **Not Answered**
Chosen Option : --

Q.18 Select the most appropriate ANTONYM of the given word.

Chaste

- Ans** 1. Vicious
 2. Virtuous
 3. Cruel
 4. Corrupt

Question ID : **65497835795**
Status : **Not Answered**
Chosen Option : --

Q.19 Select the correctly spelt word.

- Ans** 1. Conscientious
 2. Conscientous
 3. Conscentious
 4. Conscientios

Question ID : **65497835797**
Status : **Not Answered**
Chosen Option : --

Q.20 Select the option that can be used as a one-word substitute for the given group of words.

A place where wild animals are kept in their natural environment

- Ans** 1. Aviary
 2. Pantry
 3. Sanctuary
 4. Tannery

Question ID : **65497835786**
Status : **Not Answered**
Chosen Option : --

Comprehension:

In the following passage, some words have been deleted. Read the passage carefully and select the most appropriate option to fill in each blank.

Dust storms do not just happen in the middle of the desert. They can happen in (1)_____ dry area where loose dirt can (2)_____ be picked up. Don't be surprised (3)_____ you suddenly saw a dust storm (4)_____ your way. Dust storms usually (5)_____ without warning.

SubQuestion No : 21

Q.21 Select the most appropriate option to fill in blank no.1.

- Ans** 1. all
 2. any
 3. much
 4. few

Question ID : **65497835801**
Status : **Not Answered**
Chosen Option : --

Comprehension:

In the following passage, some words have been deleted. Read the passage carefully and select the most appropriate option to fill in each blank.

Dust storms do not just happen in the middle of the desert. They can happen in (1)_____ dry area where loose dirt can (2)_____ be picked up. Don't be surprised (3)_____ you suddenly saw a dust storm (4)_____ your way. Dust storms usually (5)_____ without warning.

SubQuestion No : 22

Q.22 Select the most appropriate option to fill in blank no.2.

- Ans** 1. casually
 2. properly
 3. slowly
 4. easily

Question ID : **65497835802**
Status : **Not Answered**
Chosen Option : --

Comprehension:

In the following passage, some words have been deleted. Read the passage carefully and select the most appropriate option to fill in each blank.

Dust storms do not just happen in the middle of the desert. They can happen in (1)_____ dry area where loose dirt can (2)_____ be picked up. Don't be surprised (3)_____ you suddenly saw a dust storm (4)_____ your way. Dust storms usually (5)_____ without warning.

SubQuestion No : 23

Q.23 Select the most appropriate option to fill in blank no.3.

- Ans 1. until
 2. if
 3. whether
 4. so

Question ID : **65497835803**
Status : **Not Answered**
Chosen Option : --

Comprehension:

In the following passage, some words have been deleted. Read the passage carefully and select the most appropriate option to fill in each blank.

Dust storms do not just happen in the middle of the desert. They can happen in (1)_____ dry area where loose dirt can (2)_____ be picked up. Don't be surprised (3)_____ you suddenly saw a dust storm (4)_____ your way. Dust storms usually (5)_____ without warning.

SubQuestion No : 24

Q.24 Select the most appropriate option to fill in blank no.4.

- Ans 1. directing
 2. deciding
 3. heading
 4. lashing

Question ID : **65497835804**
Status : **Not Answered**
Chosen Option : --

Comprehension:

In the following passage, some words have been deleted. Read the passage carefully and select the most appropriate option to fill in each blank.

Dust storms do not just happen in the middle of the desert. They can happen in (1)_____ dry area where loose dirt can (2)_____ be picked up. Don't be surprised (3)_____ you suddenly saw a dust storm (4)_____ your way. Dust storms usually (5)_____ without warning.

SubQuestion No : 25

Q.25 Select the most appropriate option to fill in blank no.5.

- Ans 1. show
 2. arrive
 3. enter
 4. reach

Question ID : **65497835805**
Status : **Not Answered**
Chosen Option : --

Section : Part D Hindi

Q.1 रिक्त स्थान की पूर्ति के लिए सबसे उपयुक्त शब्द का चयन करें।

मेरे द्वारा _____ चित्र बैठक में टँगा था।

- Ans 1. चित्रित
 2. रचित
 3. लिखित
 4. निर्मित

Question ID : 65497835811
Status : Answered
Chosen Option : 4

Q.2 विलोम शब्दों का सही युग्म निम्न में से कौन सा है?

- Ans 1. धरा - पृथ्वी
 2. क्रोध - गुस्सा
 3. आस्तिक - नास्तिक
 4. महात्मा - संत

Question ID : 65497835807
Status : Answered
Chosen Option : 3

Q.3 दिए गए वाक्य का वह भाग ज्ञात करें जिसमें कोई त्रुटि है। यदि कोई त्रुटि नहीं है, तो 'कोई त्रुटि नहीं है' चुनें।

मैंने अपने (1)/ मित्र के नाम क्लर्क को (2)/ एक पत्र लिखाया। (3)/ कोई त्रुटि नहीं है। (4)

- Ans 1. 2
 2. 3
 3. 1
 4. 4

Question ID : 65497835821
Status : Answered
Chosen Option : 1

Q.4 दिए गए वाक्य में रेखांकित खंड को प्रतिस्थापित करने के लिए सबसे उपयुक्त विकल्प का चयन करें। यदि इसे प्रतिस्थापित करने की आवश्यकता नहीं है, तो विकल्प 'किसी बदलाव की आवश्यकता नहीं है' का चयन करें।

हम दसवीं कक्षा के छात्र आपको निवेदन करते हैं।

- Ans 1. हम दसवीं कक्षा के छात्र
 2. किसी बदलाव की आवश्यकता नहीं है।
 3. निवेदन करते हैं
 4. आपसे

Question ID : 65497835810
Status : Answered
Chosen Option : 4

Q.5 उस विकल्प का चयन करें जो निम्न मुहावरे का सही अर्थ व्यक्त करता है।

हथेली पर सरसों उगाना

- Ans
- 1. खेती करना
 - 2. असंभव काम को संभव करना
 - 3. लड़ाई करना
 - 4. भाग जाना

Question ID : 65497835820
Status : Answered
Chosen Option : 2

Q.6 उस विकल्प का चयन करें जो निम्न मुहावरे का सही अर्थ व्यक्त करता है।

फूल झड़ना

- Ans
- 1. प्रिय वचन बोलना
 - 2. पतझड़ होना
 - 3. सुन्दर लगाना
 - 4. हल्की बातें बोलना

Question ID : 65497835815
Status : Answered
Chosen Option : 1

Q.7 दिए गए वाक्य में रेखांकित खंड को प्रतिस्थापित करने के लिए सबसे उपयुक्त विकल्प का चयन करें।
यदि इसे प्रतिस्थापित करने की आवश्यकता नहीं है, तो विकल्प 'किसी बदलाव की आवश्यकता नहीं है'
का चयन करें।

यह बात तुम लोगों के ऊपर निर्भर है।

- Ans
- 1. लोगों पर
 - 2. लोग के ऊपर
 - 3. किसी बदलाव की आवश्यकता नहीं है।
 - 4. लोगों के पर

Question ID : 65497835818
Status : Answered
Chosen Option : 2

Q.8 'जो पढ़ा न जा सके' वाक्यांश के लिए एक शब्द होगा-

- Ans
- 1. अपठित
 - 2. अकथनीय
 - 3. अपठनीय
 - 4. पठित

Question ID : 65497835825
Status : Answered
Chosen Option : 1

Q.9 दिए गए शब्द का समानार्थी शब्द बताइए-

हिरन

- Ans
- 1. गज
 - 2. दादुर
 - 3. केसरी
 - 4. मृग

Question ID : 65497835814
Status : Answered
Chosen Option : 4

Q.10 रिक्त स्थान की पूर्ति के लिए सबसे उपयुक्त शब्द का चयन करें।

_____ के लिए पौष्टिक भोजन आवश्यक है।

- Ans
- 1. स्वास्थ्य
 - 2. जीवंतता
 - 3. बीमारी
 - 4. अस्वास्थ्य

Question ID : 65497835812
Status : Answered
Chosen Option : 1

Q.11 रिक्त स्थान की पूर्ति के लिए सबसे उपयुक्त शब्द का चयन करें-

राम ने रावण का _____ किया।

- Ans
- 1. वध
 - 2. हत्या
 - 3. मृत्यु
 - 4. मौत

Question ID : 65497835824
Status : Answered
Chosen Option : 1

Q.12 सही वर्तनी वाले शब्द का चयन करें।

- Ans
- 1. निरामिष
 - 2. निरामिष
 - 3. निर्मिष
 - 4. निरामिस

Question ID : 65497835816
Status : Answered
Chosen Option : 1

Q.13 सही वर्तनी वाले शब्द का चयन करें।

- Ans 1. हस्तांतरित
 2. हस्तांतरीत
 3. हसतान्तरित
 4. हस्तंतरित

Question ID : 65497835817
Status : Answered
Chosen Option : 1

Q.14 'युद्ध करने की प्रबल इच्छा' इस वाक्यांश के लिए एक सार्थक शब्द दीजिए।

- Ans 1. युयुत्सा
 2. दुर्जेय
 3. अजातशत्रु
 4. युयुत्सु

Question ID : 65497835809
Status : Answered
Chosen Option : 4

Q.15 दिए गए शब्द का समानार्थी शब्द चुनें-

झगड़ा

- Ans 1. बैर
 2. द्वन्द्व
 3. विरोध
 4. खार

Question ID : 65497835822
Status : Answered
Chosen Option : 1

Q.16 दिए गए वाक्य का वह भाग ज्ञात करें जिसमें कोई त्रुटि है। यदि कोई त्रुटि नहीं है, तो 'कोई त्रुटि नहीं है' चुनें।

शत्रु पर (1)/ गोले और तोपों से (2)/ आक्रमण कर दिया गया। (3)/ कोई त्रुटि नहीं है(4)

- Ans 1. 3
 2. 4
 3. 1
 4. 2

Question ID : 65497835806
Status : Answered
Chosen Option : 4

Q.17 दिए गए वाक्य में रेखांकित खंड को प्रतिस्थापित करने के लिए सबसे उपयुक्त विकल्प का चयन करें।
यदि इसे प्रतिस्थापित करने की आवश्यकता नहीं है, तो विकल्प 'किसी बदलाव की आवश्यकता नहीं है'
का चयन करें।

न जाने क्यों, तुम बेफिज़ूल की बातों पर बहस कर लेते हो।

Ans 1. फ़िज़ूल की बातों पर

2. बेफ़िज़ूल में

3. किसी बदलाव की आवश्यकता नहीं है।

4. बेफ़िज़ूल की बातों में

Question ID : 65497835823

Status : Answered

Chosen Option : 3

Q.18 दिए गए वाक्य का वह भाग ज्ञात करें जिसमें कोई त्रुटि है। यदि कोई त्रुटि नहीं है, तो 'कोई त्रुटि नहीं है'
चुनें।

संसार की प्राचीन भाषा में (1)\ संस्कृत प्राचीनतम (2)\ भाषा मानी जाती है। (3)\ कोई त्रुटि नहीं है (4)

Ans 1. 4

2. 2

3. 1

4. 3

Question ID : 65497835813

Status : Answered

Chosen Option : 3

Q.19 दिए गए शब्द का विलोम चुनें।

अपेक्षा

Ans 1. उपेक्षा

2. अनापेक्षा

3. निरपेक्ष

4. सापेक्ष

Question ID : 65497835819

Status : Answered

Chosen Option : 1

Q.20 दिये गये वाक्यांश के लिए एक सार्थक शब्द का चयन कीजिए।

उसी समय में होने वाला या रहने वाला

Ans 1. सार्वजनिक

2. समदर्शी

3. समसामयिक

4. सामुदायिक

Question ID : 65497835808

Status : Answered

Chosen Option : 3

Comprehension:

दिए गए गद्यांश में से कुछ शब्द हटा दिए गए हैं। संबंधित प्रश्नों में प्रत्येक संख्या के लिए सबसे उपयुक्त विकल्प का चयन कीजिए।

(1) _____ का काम बहुत अंशों में (2) _____ के काम से मिलताजुलता है। मधुमक्खियां मकरंद संग्रह करने के लिए कोसों के चक्कर लगाती हैं और अच्छे-अच्छे (3) _____ पर बैठकर उनका रस लेती हैं। तभी तो उनके मधु में संसार की सर्वश्रेष्ठ (4) _____ रहती है। यदि आप अच्छे (5) _____ बनाना चाहते हैं तो आपको भी यह वृत्ति ग्रहण करनी चाहिए।

SubQuestion No : 21

Q.21 गद्यांश के रिक्त स्थान (1) के लिए सर्वाधिक उपयुक्त शब्द होगा-

- Ans** 1. लेखक
 2. राजनेता
 3. वकील
 4. अभियंता

Question ID : **65497835827**
Status : **Answered**
Chosen Option : **1**

Comprehension:

दिए गए गद्यांश में से कुछ शब्द हटा दिए गए हैं। संबंधित प्रश्नों में प्रत्येक संख्या के लिए सबसे उपयुक्त विकल्प का चयन कीजिए।

(1) _____ का काम बहुत अंशों में (2) _____ के काम से मिलताजुलता है। मधुमक्खियां मकरंद संग्रह करने के लिए कोसों के चक्कर लगाती हैं और अच्छे-अच्छे (3) _____ पर बैठकर उनका रस लेती हैं। तभी तो उनके मधु में संसार की सर्वश्रेष्ठ (4) _____ रहती है। यदि आप अच्छे (5) _____ बनाना चाहते हैं तो आपको भी यह वृत्ति ग्रहण करनी चाहिए।

SubQuestion No : 22

Q.22 गद्यांश के रिक्त स्थान (2) के लिए सर्वाधिक उपयुक्त शब्द होगा-

- Ans** 1. चींटियों
 2. मधुमक्खियों
 3. पशुओं
 4. पंछियों

Question ID : **65497835828**
Status : **Answered**
Chosen Option : **2**

Comprehension:

दिए गए गद्यांश में से कुछ शब्द हटा दिए गए हैं। संबंधित प्रश्नों में प्रत्येक संख्या के लिए सबसे उपयुक्त विकल्प का चयन कीजिए।

(1) _____ का काम बहुत अंशों में (2) _____ के काम से मिलताजुलता है। मधुमक्खियां मकरंद संग्रह करने के लिए कोसों के चक्कर लगाती हैं और अच्छे-अच्छे (3) _____ पर बैठकर उनका रस लेती हैं। तभी तो उनके मधु में संसार की सर्वश्रेष्ठ (4) _____ रहती है। यदि आप अच्छे (5) _____ बनाना चाहते हैं तो आपको भी यह वृत्ति ग्रहण करनी चाहिए।

SubQuestion No : 23

Q.23 गद्यांश के रिक्त स्थान (3) के लिए सर्वाधिक उपयुक्त शब्द होगा-

- Ans**
- 1. पेड़ों
 - 2. फूलों
 - 3. टहनियों
 - 4. पत्तों

Question ID : **65497835829**
Status : **Answered**
Chosen Option : **2**

Comprehension:

दिए गए गद्यांश में से कुछ शब्द हटा दिए गए हैं। संबंधित प्रश्नों में प्रत्येक संख्या के लिए सबसे उपयुक्त विकल्प का चयन कीजिए।

(1) _____ का काम बहुत अंशों में (2) _____ के काम से मिलताजुलता है। मधुमक्खियां मकरंद संग्रह करने के लिए कोसों के चक्कर लगाती हैं और अच्छे-अच्छे (3) _____ पर बैठकर उनका रस लेती हैं। तभी तो उनके मधु में संसार की सर्वश्रेष्ठ (4) _____ रहती है। यदि आप अच्छे (5) _____ बनाना चाहते हैं तो आपको भी यह वृत्ति ग्रहण करनी चाहिए।

SubQuestion No : 24

Q.24 गद्यांश के रिक्त स्थान (4) के लिए सर्वाधिक उपयुक्त शब्द होगा-

- Ans**
- 1. मधुरता
 - 2. चतुरता
 - 3. सुंदरता
 - 4. कटुता

Question ID : **65497835830**
Status : **Answered**
Chosen Option : **1**

Comprehension:

दिए गए गद्यांश में से कुछ शब्द हटा दिए गए हैं। संबंधित प्रश्नों में प्रत्येक संख्या के लिए सबसे उपयुक्त विकल्प का चयन कीजिए।

(1) _____ का काम बहुत अंशों में (2) _____ के काम से मिलताजुलता है। मधुमक्खियां मकरंद संग्रह करने के लिए कोसों के चक्कर लगाती हैं और अच्छे-अच्छे (3) _____ पर बैठकर उनका रस लेती हैं। तभी तो उनके मधु में संसार की सर्वश्रेष्ठ (4) _____ रहती है। यदि आप अच्छे (5) _____ बनाना चाहते हैं तो आपको भी यह वृत्ति ग्रहण करनी चाहिए।

SubQuestion No : 25

Q.25 गद्यांश के रिक्त स्थान (5) के लिए सर्वाधिक उपयुक्त शब्द होगा-

- Ans** 1. समाजसेवी
 2. लेखक
 3. पुलिस
 4. पत्रकार

Question ID : **65497835831**

Status : **Answered**

Chosen Option : **2**

GovtJobsAlert.In