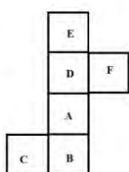


Constable GD in CAPFs NIA SSF and Rifleman GD in Assam Rifles Examination 2021

Roll Number	www.GovtJobsAlert.In
Candidate Name	www.GovtJobsAlert.In
Venue Name	Jaipur Engineering College
Exam Date	30/11/2021
Exam Time :	4:00 PM - 5:30 PM
Subject	Constable GD 2021

Section : Part A General Intelligence and Reasoning

Q.1 दी गई शीट को मोड़कर एक घन बनाया जाता है। इस प्रकार से बने घन में, उस अक्षर का चयन करें, जो अक्षर 'D' दर्शाने वाले फलक के विपरीत वाले फलक पर होगा।



- Ans**
- 1. C
 - 2. E
 - 3. F
 - 4. B

Question ID : 65497835467

Status : Answered

Chosen Option : 4

Q.2 छह मित्र गोवर्धन, सरयू, रेखा, श्यामला, हेमा और गणेश एक टिकट काउंटर पर पंक्ति में खड़े हैं। सरयू और हेमा के बीच दो व्यक्ति हैं। रेखा ठीक हेमा और श्यामला के बीच में है। गोवर्धन के आगे केवल एक व्यक्ति है। गणेश जो कि पंक्ति के पिछले छोर से तीसरे स्थान पर है, ठीक गोवर्धन और हेमा के बीच में है। सरयू और हेमा के बीच में कौन-से दो व्यक्ति खड़े हैं?

- Ans**
- 1. गोवर्धन और रेखा
 - 2. श्यामला और रेखा
 - 3. गोवर्धन और गणेश
 - 4. गणेश और श्यामला

Question ID : 65497835464

Status : Answered

Chosen Option : 3

Q.3 दिए गए विकल्पों में से उस संख्या का चयन कीजिए जो निम्नलिखित श्रृंखला में प्रश्न चिह्न (?) को प्रतिस्थापित कर सकती है।

27, 41, 57, 76, 99, ?

- Ans
- 1. 114
 - 2. 127
 - 3. 152
 - 4. 136

Question ID : 65497835453
Status : Not Answered
Chosen Option : --

Q.4 यदि 'A' का अर्थ 'जोड़' है, 'B' का अर्थ 'गुणा' है, 'C' का अर्थ 'घटाना' है, और 'D' का अर्थ 'विभाजन' है, तो निम्नलिखित व्यंजक का मान ज्ञात करें।

82 A 126 B 16 D 112 C 73

- Ans
- 1. 72
 - 2. 27
 - 3. 52
 - 4. 25

Question ID : 65497835466
Status : Answered
Chosen Option : 2

Q.5 उस विकल्प का चयन कीजिए, जिसका तीसरे पद से वही संबंध है, जो दूसरे पद का पहले पद से है।

BEGIN : EBGNI :: CADET : ?

- Ans
- 1. ADFTE
 - 2. ACTDE
 - 3. ACDTE
 - 4. TEDCA

Question ID : 65497835469
Status : Answered
Chosen Option : 3

Q.6 रोशन, कृप का भाई है, जो प्रांजल का पुत्र है। वैष्णवी, आयुष की पत्नी हैं। प्रमिला, देविका की पुत्री है। देविका, आयुष की दादी है, जो रोशन का बेटा है। रोशन का प्रमिला से क्या संबंध है?

- Ans
- 1. भाई
 - 2. पिता
 - 3. भतीजा/भांजा
 - 4. ससुर

Question ID : 65497835471
Status : Answered
Chosen Option : 1

Q.7 उस विकल्प का चयन कीजिए जिसमें दी गई संख्याएँ आपस में उसी तरह से संबंधित हैं जिस प्रकार दिए गए समुच्चय की संख्याएँ आपस में संबंधित हैं।

(12, 14, 56)

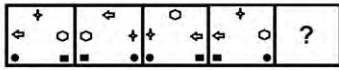
- Ans 1. (24, 16, 214)
 2. (16, 18, 96)
 3. (14, 20, 145)
 4. (10, 16, 82)

Question ID : 65497835457

Status : Answered

Chosen Option : 2

Q.8 दिए गए विकल्पों में से उस आकृति का चयन कीजिए, जो निम्नलिखित श्रृंखला में प्रश्नवाचक चिन्ह (?) के स्थान पर आ सकती है।



Ans

- 1.
- 2.
- 3.
- 4.

Question ID : 65497835475

Status : Answered

Chosen Option : 1

Q.9 वर्गों के उस समुच्चय का चयन कीजिए जिनके मध्य के संबंध को दिए गए वेन आरेख द्वारा सर्वश्रेष्ठ रूप से निरूपित किया गया है।



- Ans
- 1. कार्डियोलॉजिस्ट, वकील, प्रोफेसर
 - 2. पुत्रियां, भाई, इंजीनियर
 - 3. दादा, माता, फार्मासिस्ट
 - 4. माताएं, महिलाएं, वकील

Question ID : 65497835463
Status : Answered
Chosen Option : 4

Q.10 यदि दर्पण को दिए गए संयोजन के दाईं ओर रखा जाए, तो संयोजन के दर्पण में निर्मित सही प्रतिबिंब का चयन कीजिए।

d e t A 9 P

- Ans
- 1. q e A t e b
 - 2. q e A t e b
 - 3. q e A t e p
 - 4. p e A t e b

Question ID : 65497835454
Status : Answered
Chosen Option : 2

Q.11 अक्षरों के उस संयोजन का चयन कीजिए, जिसे दी गई श्रृंखला के रिक्त स्थानों में क्रमबद्ध रूप से रखने पर श्रृंखला पूर्ण हो जाएगी।

D Q _ R _ D _ M R _ D _ M _ T

- Ans
- 1. M Q T T Q R
 - 2. M T Q T R Q
 - 3. M T Q R Q T
 - 4. M T Q T Q R

Question ID : 65497835473
Status : Answered
Chosen Option : 4

Q.12 एक निश्चित कूट भाषा में, 'POUR' को 'OPRU' और 'TACKLE' को 'ATKCEL' के रूप में लिखा जाता है। उसी भाषा में 'FORMATIONS' कैसे लिखा जाएगा?

- Ans
- 1. MFPRTAOKSN
 - 2. OFMTRAOISO
 - 3. OFMRTAOISN
 - 4. OFNRTAONSI

Question ID : 65497835455
Status : Answered
Chosen Option : 3

Q.13 एक कैफेटेरिया में, सात ग्राहक (B, G, H, K, L, M और N) तीन अलग-बलग बेंचों (X, Y और Z) पर बैठते हैं। प्रत्येक बेंच पर कम से कम दो ग्राहकों को बैठना है। ग्राहक G, ग्राहकों K, L और M के साथ नहीं बैठता है। ग्राहक B केवल ग्राहक N के साथ बैठता है। ग्राहक K अपने मित्रों के साथ बेंच X पर बैठता है। ग्राहक H बेंच Z पर बैठता है। किस बेंच पर तीन ग्राहक हैं?

- Ans
- 1. केवल बेंच X
 - 2. बेंच X या बेंच Y
 - 3. केवल बेंच Z
 - 4. केवल बेंच Y

Question ID : 65497835462
Status : Answered
Chosen Option : 1

Q.14 एक निश्चित कूट भाषा में, PLAN को OBMQ लिखा जाता है, और NOT को UPO लिखा जाता है। उसी कूट भाषा में MOTHER को किस प्रकार लिखा जाएगा?

- Ans
- 1. SGIURN
 - 2. SFUQUM
 - 3. SFIVQN
 - 4. SFIUPN

Question ID : 65497835470
Status : Answered
Chosen Option : 4

Q.15 दिए गए विकल्पों में से उस संख्या का चयन कीजिए, जो निम्नलिखित श्रेणी में प्रश्नवाचक चिह्न (?) के स्थान पर आ सकती है।

23, 40, 74, 125, 193, ?

- Ans
- 1. 225
 - 2. 270
 - 3. 290
 - 4. 278

Question ID : 65497835474
Status : Answered
Chosen Option : 4

Q.16 ₹ 870 रुपये की धनराशि को उर्मी और कृपा के बीच क्रमशः 18 : 11 के अनुपात में विभाजित किया जाता है, जबकि ₹ 960 की धनराशि को पूर्वी और मृणाल के बीच क्रमशः 5 : 7 के अनुपात में विभाजित किया जाता है। चारों में से सर्वाधिक धनराशि किसे प्राप्त होती है?

- Ans
- 1. उर्मी
 - 2. मृणाल
 - 3. कृपा
 - 4. पूर्वी

Question ID : 65497835458
Status : Answered
Chosen Option : 2

Q.17 एक निश्चित कूट भाषा में, 'NAUSEA' को '236943' और 'SYRUP' को '97165' के रूप में कूटबद्ध किया गया है। उसी भाषा में, 'SUPPRESS' को किस रूप में कूटबद्ध किया जाएगा?

- Ans
- 1. 96552599
 - 2. 96551499
 - 3. 86552489
 - 4. 96441499

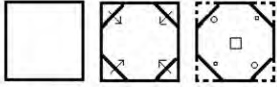
Question ID : 65497835452
Status : Answered
Chosen Option : 2

Q.18 'Ammeter' is related to 'Current' in the same way as 'Anemometer' is related to _____.

- Ans
- 1. Water
 - 2. Potential Difference
 - 3. Temperature
 - 4. Wind Speed and Direction

Question ID : 65497835461
Status : Answered
Chosen Option : 4

Q.19 निम्नलिखित आकृतियों में कागज के एक टुकड़े को मोड़ने का क्रम और उसे काटने की विधि दर्शाई गई है। इस कागज को खोलने पर यह कैसा दिखाई देगा?

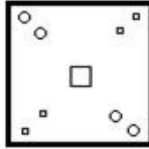


Ans


1.



2.



3.



4.



Question ID : 65497835459

Status : Answered

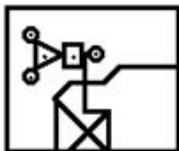
Chosen Option : 2

Q.20 उस विकल्प का चयन करें जिसमें दी गई आकृति सन्निहित है (आकृति को घुमाने की अनुमति नहीं है)।

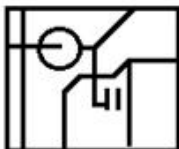


Ans

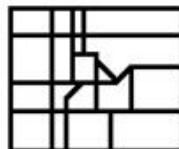
1.



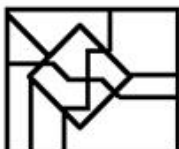
2.



3.



4.



Question ID : 65497835468

Status : Answered

Chosen Option : 1

Q.21 उस विकल्प का चयन कीजिए जिसका तीसरी संख्या से वही संबंध है, जो दूसरी संख्या का पहली संख्या से है और छठी संख्या का पाँचवीं संख्या से है।

6 : 4 :: 11 : ? :: 16 : 8

Ans

1. 5

2. 8

3. 7

4. 6

Question ID : 65497835465

Status : Answered

Chosen Option : 3

Q.22 उस सही विकल्प का चयन कीजिए, जो दिए गए शब्दों के उस क्रम को दर्शाता है, जिस क्रम में वे अंग्रेजी शब्दकोश में मौजूद होते हैं।

1. Carpet
2. Caring
3. Carrot
4. Creamy
5. Creek

- Ans
- 1. 1, 2, 3, 4, 5
 - 2. 2, 1, 3, 5, 4
 - 3. 2, 1, 3, 4, 5
 - 4. 2, 3, 1, 4, 5

Question ID : 65497835472
Status : Answered
Chosen Option : 3

Q.23 दिए गए कथनों और निष्कर्षों को ध्यान से पढ़िए। कथनों में दी गई जानकारी को सत्य मानते हुए, भले ही वे सामान्यतः ज्ञात तथ्यों से भिन्न प्रतीत होती हों, यह निर्णय कीजिए कि दिए गए निष्कर्षों में से कौन सा/से निष्कर्ष तार्किक रूप से कथनों का अनुसरण करता है / करते हैं?

कथन:

1. सभी उद्यान, रिसॉर्ट हैं।
2. कोई भी रिसॉर्ट, न्यायालय नहीं है।
3. सभी पार्क, न्यायालय हैं।

निष्कर्ष:

- I. कोई भी न्यायालय, उद्यान नहीं है।
- II. कोई भी उद्यान, पार्क नहीं है।

- Ans
- 1. केवल निष्कर्ष I अनुसरण करता है।
 - 2. कोई भी निष्कर्ष अनुसरण नहीं करता है।
 - 3. केवल निष्कर्ष II अनुसरण करता है।
 - 4. दोनों निष्कर्ष अनुसरण करते हैं।

Question ID : 65497835456
Status : Answered
Chosen Option : 4

Q.24 दिए गए विकल्पों में से उस अक्षर-समूह का चयन कीजिए जो निम्न श्रृंखला में प्रश्नवाचक चिह्न (?) के स्थान पर आ सकता है।

BEI, EHL, HKO, KNR, ?

- Ans
- 1. NQU
 - 2. NPS
 - 3. NQT
 - 4. NRU

Question ID : 65497835460
Status : Answered
Chosen Option : 1

Q.25 चार अक्षर समूह दिए गए हैं, जिनमें से तीन किसी तरह से समान हैं और एक असंगत है। उस असंगत अक्षर समूह का चयन कीजिए।

- Ans 1. YDJ
 2. QVB
 3. NRV
 4. SXD

Question ID : 65497835451
Status : Answered
Chosen Option : 3

Section : Part B General Knowledge and General Awareness

Q.1 7 सितंबर 2021 को, नासा (NASA) ने घोषणा की कि पर्यवेस रोवर ने मंगल ग्रह की _____ के पहले नमूने के संग्रह का कार्य पूर्ण कर लिया है।

- Ans 1. चट्टान
 2. धूल
 3. बर्फ
 4. मृदा

Question ID : 65497835500
Status : Not Answered
Chosen Option : --

Q.2 निम्नलिखित में से किस वेब श्रृंखला ने 48वें अंतर्राष्ट्रीय एमी पुरस्कार 2020 में 'सर्वश्रेष्ठ ड्रामा सीरीज़' का पुरस्कार जीता?

- Ans 1. मिर्जापुर
 2. आश्रम
 3. मेड इन हेवन
 4. दिल्ली क्राइम

Question ID : 65497835479
Status : Answered
Chosen Option : 4

Q.3 निम्नलिखित में से किस झील का निर्माण अत्यंतनूतन युग के दौरान उल्का प्रभाव द्वारा हुआ था?

- Ans 1. चिल्का झील, ओडिशा
 2. लोनार झील, महाराष्ट्र
 3. लोकटक झील, मणिपुर
 4. वेम्बनाड झील, केरल

Question ID : 65497835478
Status : Answered
Chosen Option : 2

Q.4 अक्टूबर 2020 में, अपनी महिला यात्रियों की सुरक्षा के लिए भारतीय रेलवे द्वारा शुरू की गई पहल का नाम क्या था?

- Ans
- 1. नारी सहायक
 - 2. नारी सेवा
 - 3. नारी शक्ति
 - 4. मेरी सहेली

Question ID : 65497835487
Status : Answered
Chosen Option : 4

Q.5 जब भारत के संविधान का मसौदा तैयार किया जा रहा था, संविधान सभा को उस अशांति को ध्यान में रखना था जिससे भारत गुजर रहा था। उस परिदृश्य में निम्नलिखित में से कौन सा मुद्दा प्रासंगिक नहीं था?

- Ans
- 1. भारत और पाकिस्तान के विभाजन की पुष्टि हुई थी।
 - 2. रियासतें अपने भविष्य के बारे में अनिश्चित थीं।
 - 3. लोगों की सामाजिक-आर्थिक स्थिति बहुत अनुकूल थी।
 - 4. देश कई अलग-अलग समुदायों से बना था।

Question ID : 65497835486
Status : Answered
Chosen Option : 2

Q.6 हम हिंदू कैलेंडर के अनुसार 'होली' का त्योहार किस दिन मनाते हैं?

- Ans
- 1. पूर्णिमा के एक दिन बाद
 - 2. पूर्णिमा से एक दिन पहले
 - 3. अमावस्या के दिन
 - 4. पूर्णिमा के दिन

Question ID : 65497835488
Status : Answered
Chosen Option : 4

Q.7 'प्रधान मंत्री जीवन ज्योति बीमा योजना' किस वर्ष शुरू की गई थी?

- Ans
- 1. 2014
 - 2. 2018
 - 3. 2017
 - 4. 2015

Question ID : 65497835483
Status : Answered
Chosen Option : 4

Q.8 शास्त्रीय गायिका, गिरिजा देवी हिंदुस्तानी शास्त्रीय संगीत के किस स्वरूप में पारंगत थीं?

- Ans
- 1. तराना
 - 2. ध्रुपद
 - 3. ठुमरी
 - 4. खयाल

Question ID : 65497835477
Status : Not Answered
Chosen Option : --

Q.9 17 सितंबर, 2020 को, अंतर्राष्ट्रीय टेनिस महासंघ (ITF) ने यह घोषणा की, कि महासंघ या 'फेड' कप को अब महान महिला टेनिस खिलाड़ी के सम्मान में _____ के रूप में जाना जाएगा।

- Ans
- 1. मार्टिना नवरातिलोवा कप
 - 2. स्टेफी ग्राफ कप
 - 3. क्रिस एवर्ट कप
 - 4. बिली जीन किंग कप

Question ID : 65497835480
Status : Not Answered
Chosen Option : --

Q.10 2011 की जनगणना के अनुसार भारत के निम्नलिखित में से किस राज्य में जनसंख्या का सबसे अधिक घनत्व था?

- Ans
- 1. उत्तर प्रदेश
 - 2. बिहार
 - 3. मध्य प्रदेश
 - 4. सिक्किम

Question ID : 65497835492
Status : Answered
Chosen Option : 2

Q.11 कदमाई _____ राजवंश के तहत भू-राजस्व का एक रूप था।

- Ans
- 1. चोल
 - 2. कुषाण
 - 3. चालुक्य
 - 4. गुप्त

Question ID : 65497835494
Status : Not Answered
Chosen Option : --

Q.12 सांप्रदायिक समस्याओं पर गांधी-जिन्ना वार्ता के टूटने के बाद एक न्यायिक ढांचे में सांप्रदायिक मामले की जांच करने के लिए नवंबर 1944 में गैर-दलीय सम्मेलन की स्थायी समिति द्वारा किस समिति को नियुक्त किया गया था?

- Ans
- 1. बलवंत राय मेहता समिति
 - 2. सरदार पटेल समिति
 - 3. सप्रू समिति
 - 4. जाकिर हुसैन समिति

Question ID : 65497835482
Status : Not Answered
Chosen Option : --

Q.13 निम्नलिखित में से कौन सी, 'ठोस' की विशेषता नहीं है?

- Ans
- 1. ठोस के आकार को बदलना मुश्किल है, इसलिए वे कठोर होते हैं
 - 2. बल के अधीन होने पर ठोस टूट सकता है।
 - 3. ठोस को आसानी से संपीडित किया जा सकता है।
 - 4. ठोस का एक निश्चित आयतन होता है।

Question ID : 65497835489
Status : Answered
Chosen Option : 3

Q.14 निम्नलिखित में से कौन सा एक एकांशिकीय जीव है?

- Ans
- 1. मांसपेशियों की कोशिकाएं
 - 2. लाल शैवाल
 - 3. कवक
 - 4. जीवाणु

Question ID : 65497835490
Status : Answered
Chosen Option : 3

Q.15 सम्राट _____ ने मुहम्मद हुसैन अल-कातिब कश्मीरी को उनकी सुंदर लिखावट के लिए ज़रीन कलम (Zarin Qalam) या स्वर्ण कलम की उपाधि से सम्मानित किया।

- Ans
- 1. औरंगज़ेब
 - 2. जहाँगीर
 - 3. शाहजहाँ
 - 4. अकबर

Question ID : 65497835499
Status : Not Answered
Chosen Option : --

Q.16 निम्न में से कौन नवंबर 2020 तक नेपाल की क्रिकेट टीम का कप्तान था?

- Ans 1. ज्ञानेंद्र मल्ला
 2. दीपेन्द्र सिंह ऐरी
 3. रोहित पौडेल
 4. संदीप लामिछाने

Question ID : 65497835493
Status : Not Answered
Chosen Option : --

Q.17 भारत में वन (संरक्षण) अधिनियम वर्ष _____ में पारित किया गया था।

- Ans 1. 1974
 2. 1976
 3. 1980
 4. 1988

Question ID : 65497835496
Status : Answered
Chosen Option : 1

Q.18 निम्नलिखित में से कौन सा कार्य मेडुला ऑब्लॉंगेटा (medulla oblongata) द्वारा नियंत्रित नहीं होता है?

- Ans 1. खाँसना
 2. ताली बजाना
 3. छींकना
 4. उल्टी करना

Question ID : 65497835498
Status : Not Answered
Chosen Option : --

Q.19 27 नवंबर 2020 तक, भारत का विदेशी मुद्रा भंडार लगभग _____ बिलियन था।

- Ans 1. \$774
 2. \$574
 3. \$374
 4. \$474

Question ID : 65497835481
Status : Not Answered
Chosen Option : --

Q.20 200 एक दिवसीय अंतरराष्ट्रीय (ODI) मैच खेलने वाली पहली भारतीय महिला क्रिकेटर निम्नलिखित में से कौन है?

- Ans 1. पूनम यादव
 2. दीप्ति शर्मा
 3. अनुजा पाटिल
 4. मिताली राज

Question ID : 65497835484
Status : Answered
Chosen Option : 4

Q.21 निम्न में से कौन-सा 1865 में स्थापित भारत का सबसे पुराना संयुक्त स्टॉक बैंक है?

- Ans
- 1. केनरा बैंक
 - 2. स्टेट बैंक ऑफ़ त्रावणकोर
 - 3. इलाहाबाद बैंक (अब इंडियन बैंक)
 - 4. देना बैंक

Question ID : 65497835485
Status : Not Answered
Chosen Option : --

Q.22 निम्नलिखित में से किस देश ने जून 2021 में आयोजित G7 लीडर्स समिट की अध्यक्षता की?

- Ans
- 1. कोरिया गणराज्य
 - 2. भारत
 - 3. यूनाइटेड किंगडम
 - 4. ऑस्ट्रेलिया

Question ID : 65497835497
Status : Not Answered
Chosen Option : --

Q.23 निम्नलिखित में से कौन सी घटना वर्ष 1856 में हुई थी?

- Ans
- 1. तात्या टोपे को पकड़ लिया गया, भागने की कोशिश की और मार डाला गया।
 - 2. बहादुर शाह जफर को रंगून की जेल भेज दिया गया।
 - 3. मंगल पांडे को फांसी दी गई।
 - 4. अवध पर ब्रिटिश ईस्ट इंडिया कंपनी ने कब्जा कर लिया था।

Question ID : 65497835495
Status : Not Answered
Chosen Option : --

Q.24 निम्नलिखित में से कौन-सी नदी तिब्बत, भारत और बांग्लादेश से होकर बहती है?

- Ans
- 1. यमुना
 - 2. ब्रह्मपुत्र
 - 3. नर्मदा
 - 4. गंगा

Question ID : 65497835476
Status : Not Answered
Chosen Option : --

Q.25 अरुणाचल के फिल्म निर्माता को 2020 में _____ पर एक वृत्तचित्र (डाक्यूमेंट्री) के लिए प्रतिष्ठित दादा साहेब फाल्के पुरस्कार प्राप्त हुआ था।

- Ans
- 1. शहद निकालने
 - 2. नाव की सवारी
 - 3. जानवरों के शिकार
 - 4. पक्षी देखना

Question ID : 65497835491
Status : Not Answered
Chosen Option : --

Section : Part C Elementary Mathematics

Q.1 $\frac{\frac{2}{5} \text{ of } 7\frac{1}{2} + \frac{3}{4} - \frac{3}{4} \times 1\frac{1}{2} \div 2\frac{1}{4}}{5\frac{1}{2} \div 3\frac{2}{3} \text{ of } \frac{3}{8}}$ का मान ज्ञात कीजिए।

- Ans
- 1. $\frac{1}{2}$
 - 2. $\frac{5}{3}$
 - 3. $\frac{3}{4}$
 - 4. $\frac{7}{8}$

Question ID : 65497835524
Status : Answered
Chosen Option : 4

Q.2 6 व्यक्तियों का औसत वजन 1.5 kg बढ़ जाता है जब उनमें से 45 kg वजन वाले व्यक्ति के स्थान पर एक नया व्यक्ति आता है। नए व्यक्ति का वजन कितना होना चाहिए?

- Ans
- 1. 48 kg
 - 2. 50 kg
 - 3. 55 kg
 - 4. 54 kg

Question ID : 65497835518
Status : Answered
Chosen Option : 4

Q.3 25% और 10% की दो क्रमिक छूटों के समतुल्य एकल छूट ज्ञात करें।

- Ans
- 1. 28%
 - 2. 45.5%
 - 3. 32.5%
 - 4. 40.25%

Question ID : 65497835513
Status : Answered
Chosen Option : 3

Q.4 A और B की औसत मासिक आय ₹4,500 है। B और C की औसत मासिक आय ₹5,600 है, और A और C की औसत मासिक आय ₹4,800 है। B की मासिक आय ज्ञात करें।

- Ans**
- 1. ₹4,750
 - 2. ₹5,300
 - 3. ₹6,900
 - 4. ₹3,700

Question ID : **65497835512**
Status : **Answered**
Chosen Option : **2**

Q.5 एक आदमी एक निश्चित दूरी के दो-तिहाई भाग को 70 km/h की चाल से और शेष दूरी को 50 km/h की चाल से तय करता है। पूरी यात्रा में उसे $6\frac{4}{5}$ घंटे का समय लगता है। 56 km/h की चाल से, वह पूरी दूरी कितने समय में तय कर पाएगा?

- Ans**
- 1. $8\frac{1}{3}$ घंटे
 - 2. 7 घंटे
 - 3. 8 घंटे
 - 4. $7\frac{1}{2}$ घंटे

Question ID : **65497835525**
Status : **Answered**
Chosen Option : **4**

Q.6 पाइप A और B एक टैंक को क्रमशः 18 घंटे और 27 घंटे में भर सकते हैं। यदि दोनों पाइपों को प्रति घंटे एक के बाद एक क्रमिक रूप से खोला जाता है और एक समय में एक ही पाइप खोला जाता है और पहले घंटे के लिए पाइप A को खोला जाता है, तो टैंक को पूरी तरह से भरने में कितने घंटे लगेंगे?

- Ans**
- 1. 21
 - 2. $21\frac{1}{2}$
 - 3. $20\frac{1}{2}$
 - 4. 20

Question ID : **65497835523**
Status : **Answered**
Chosen Option : **2**

Q.7 कार्तिकेय ने 2% वार्षिक व्याज की दर से चक्रवृद्धि व्याज पर 3 वर्ष के लिए सावधि जमा योजना में ₹9,000 की राशि का निवेश किया। सावधि जमा राशि की परिपक्वता पर उसे कितनी राशि (दशमलव के दो स्थानों तक सही) मिलेगी?

- Ans**
- 1. ₹9,650
 - 2. ₹10,255.25
 - 3. ₹9,525.50
 - 4. ₹9,550.87

Question ID : **65497835520**
Status : **Answered**
Chosen Option : 4

Q.8 यदि $9987693 \times 6432 \times 7695$ को 10 से भाग दिया जाता है, तो शेषफल कितना बचेगा?

- Ans**
- 1. 0
 - 2. 1
 - 3. 6
 - 4. 9

Question ID : **65497835502**
Status : **Answered**
Chosen Option : 1

Q.9 रोहित एक कार्य को 32 दिन में पूरा कर सकता है, जबकि राज इसे स्वयं 48 दिन में पूरा कर सकता है। उन्होंने एक साथ कार्य प्रारंभ किया किन्तु कार्य समाप्त होने से 8 दिन पूर्व रोहित चला गया। उन्होंने कितने दिन एक साथ कार्य किया?

- Ans**
- 1. 16
 - 2. 12
 - 3. 15
 - 4. 18

Question ID : **65497835515**
Status : **Answered**
Chosen Option : 1

Q.10 एक मोटरकार ने 60 km/h की चाल से चलना प्रारंभ किया, और इसकी चाल प्रत्येक 3 घंटे पर 20 km/h बढ़ाई जाती है। 470 km की दूरी तय करने में इसे कितने घंटे लगेंगे?

- Ans**
- 1. 7
 - 2. $6\frac{1}{2}$
 - 3. $6\frac{1}{4}$
 - 4. $5\frac{2}{3}$

Question ID : **65497835516**
Status : **Answered**
Chosen Option : 2

Q.11 ₹1,575 में 90 पेन बेचकर एक दुकानदार को 30% की हानि होती है। 18% का लाभ अर्जित करने के लिए उसे ₹708 में कितने पेन बेचने होंगे?

- Ans**
- 1. 24
 - 2. 30
 - 3. 25
 - 4. 20

Question ID : 65497835522
Status : Answered
Chosen Option : 1

Q.12 दो मित्र A और B, एक व्यवसाय में 3 : 4 के अनुपात में निवेश करते हैं। A ने दो महीने पहले अपना हिस्सा वापस ले लिया। एक वर्ष के अंत में, कुल लाभ ₹2,600 था। A के लाभ का हिस्सा ज्ञात करें।

- Ans**
- 1. ₹800
 - 2. ₹1,110
 - 3. ₹750
 - 4. ₹1,000

Question ID : 65497835508
Status : Answered
Chosen Option : 4

Q.13 $85 \div 17 \text{ of } 4 - [65 \div 13 \text{ of } 2 - 14 \times (19 - 25) \div 12 - 10] \text{ of } \frac{2}{3}$ का मान ज्ञात कीजिए।

- Ans**
- 1. $\frac{3}{2}$
 - 2. $\frac{11}{12}$
 - 3. $\frac{7}{6}$
 - 4. $\frac{19}{12}$

Question ID : 65497835521
Status : Answered
Chosen Option : 4

Q.14 दो लंब वृत्तीय शंकुओं, C और D की त्रिज्याओं का अनुपात 2 : 3 है और उनकी ऊँचाईयों का अनुपात 3 : 2 है। शंकु D के आयतन का, शंकु C के आयतन से अनुपात ज्ञात करें।

- Ans**
- 1. 3 : 2
 - 2. 3 : 4
 - 3. 2 : 3
 - 4. 4 : 3

Question ID : 65497835510
Status : Answered
Chosen Option : 1

Q.15 9 cm व्यास वाले किसी अर्धगोलाकार कटोरे में अधिकतम लगभग कितने L (लीटर) दूध आ सकता है?

- Ans**
- 1. 0.90 L
 - 2. 0.0191 L
 - 3. 1.90 L
 - 4. 0.191 L

Question ID : 65497835507
Status : Answered
Chosen Option : 4

Q.16 वरुण ने एक थोक व्यापारी से पर्दे का कपड़ा खरीदा, जिसके अंकित मूल्य पर 20% की छूट थी। फिर उसने उस कपड़े पर, उसके मूल अंकित मूल्य से 20% अधिक मूल्य अंकित किया और उस पर 10% की छूट दी। उसका प्रतिशत लाभ कितना है?

- Ans**
- 1. 20
 - 2. 25
 - 3. 35
 - 4. 30

Question ID : 65497835501
Status : Answered
Chosen Option : 3

Q.17 वह छोटी से छोटी संख्या ज्ञात कीजिए जो एक पूर्ण वर्ग हो और निम्नलिखित प्रत्येक संख्या से विभाज्य हो।

15, 24 और 36

- Ans**
- 1. 900
 - 2. 1600
 - 3. 6400
 - 4. 3600

Question ID : 65497835517
Status : Answered
Chosen Option : 4

Q.18 एक संख्या के दो-तिहाई के तीन-बटे आठ का एक बटे पांच, 20 है। उस संख्या का 60% कितना होगा?

- Ans
- 1. 365
 - 2. 156
 - 3. 120
 - 4. 240

Question ID : 65497835514
Status : Answered
Chosen Option : 4

Q.19 एक परिवार में 5 व्यक्ति चीनी की खरीद पर 10% खर्च करते हैं। चीनी के मूल्य में 10% की वृद्धि हुई। व्यय में वृद्धि न होने देने के लिए चीनी की खपत में प्रतिशत कमी क्या होनी चाहिए?

- Ans
- 1. 10%
 - 2. 11%
 - 3. 9%
 - 4. $9\frac{1}{11}\%$

Question ID : 65497835511
Status : Answered
Chosen Option : 4

Q.20 एक निश्चित धनराशि के लिए 2 वर्षों का साधारण ब्याज ₹80 है और उसी अवधि के लिए और उसी ब्याज दर पर चक्रवृद्धि ब्याज ₹85 है। वार्षिक ब्याज दर ज्ञात करें।

- Ans
- 1. 12.5%
 - 2. 8.5%
 - 3. 5.5%
 - 4. 7.5%

Question ID : 65497835509
Status : Answered
Chosen Option : 1

Q.21 यदि $0.35 : x :: 5 : 6$ है, तो x का मान कितना है?

- Ans
- 1. 0.42
 - 2. 0.34
 - 3. 0.48
 - 4. 0.44

Question ID : 65497835505
Status : Answered
Chosen Option : 1

Q.22 कोई धनराशि चक्रवृद्धि ब्याज पर 3 वर्ष में आरंभिक धनराशि की सात गुनी हो जाती है। यह धनराशि कितने वर्ष में स्वयं की 2401 गुनी हो जाएगी?

- Ans**
- 1. 9
 - 2. 18
 - 3. 12
 - 4. 15

Question ID : 65497835506
Status : Answered
Chosen Option : 3

Q.23 किसी स्कूल में लड़कियों और लड़कों की संख्या का अनुपात 2 : 7 है। यदि लड़कियों और लड़कों की संख्या में क्रमशः 15% और 20% की वृद्धि हो जाती है, तो नया अनुपात कितना होगा?

- Ans**
- 1. 24 : 71
 - 2. 23 : 84
 - 3. 21 : 22
 - 4. 19 : 14

Question ID : 65497835519
Status : Answered
Chosen Option : 2

Q.24 एक व्यापारी अंकित मूल्य पर 10% की छूट देता है और फिर भी पूरे सौदे में 8% का लाभ अर्जित करता है। वह अपनी वस्तु पर क्रय मूल्य से कितने प्रतिशत अधिक मूल्य अंकित करता है?

- Ans**
- 1. 20%
 - 2. 25%
 - 3. 35%
 - 4. 18%

Question ID : 65497835504
Status : Answered
Chosen Option : 1

Q.25 एक व्यक्ति अपनी आय का 12% बचाता है। एक वर्ष के बाद, उसकी आय में 25% की वृद्धि होती है, लेकिन वह अभी भी उतनी ही राशि बचा पाता है। उसके व्यय में हुई प्रतिशत वृद्धि कितनी है?

- Ans**
- 1. 27.4%
 - 2. 25.4%
 - 3. 33%
 - 4. 28.4%

Question ID : 65497835503
Status : Answered
Chosen Option : 4

Section : Part D English

Q.1 The following sentence has been split into four segments. Identify the segment that contains a grammatical error.

The visitors / were being showed / a collection of / old manuscripts.

- Ans**
- 1. a collection of
 - 2. were being showed
 - 3. old manuscripts
 - 4. The visitors

Question ID : 65497835539
Status : Answered
Chosen Option : 2

Q.2 The following sentence has been split into four segments. Identify the segment that contains a grammatical error.

Mohit is expecting / a huge profit / at his / recent investment.

- Ans**
- 1. a huge profit
 - 2. at his
 - 3. Mohit is expecting
 - 4. recent investment

Question ID : 65497835543
Status : Answered
Chosen Option : 2

Q.3 Select the most appropriate option to fill in the blank.

He _____ an important question in the meeting.

- Ans**
- 1. rose
 - 2. risen
 - 3. raised
 - 4. rise

Question ID : 65497835536
Status : Answered
Chosen Option : 3

Q.4 The following sentence has been divided into parts. One of them may contain an error. Select the part that contains the error from the given options. If you don't find any error, mark 'No error' as your answer.

May I / please borrow / yours book?

- Ans**
- 1. May I
 - 2. yours book
 - 3. No error
 - 4. please borrow

Question ID : 65497835527
Status : Answered
Chosen Option : 4

Q.5 Select the most appropriate option to fill in the blank.

When his mother was away, he took the _____ of his little brother.

- Ans 1. management
 2. duty
 3. power
 4. charge

Question ID : **65497835526**
Status : **Answered**
Chosen Option : **2**

Q.6 Select the option that can be used as a one-word substitute for the given group of words.

The sound of owls

- Ans 1. Moo
 2. Caw
 3. Cluck
 4. Hoot

Question ID : **65497835545**
Status : **Not Answered**
Chosen Option : --

Q.7 Select the most appropriate synonym of the given word.

Maintain

- Ans 1. Neglect
 2. Ignore
 3. Care
 4. Release

Question ID : **65497835528**
Status : **Answered**
Chosen Option : **3**

Q.8 Select the most appropriate meaning of the given idiom.

To take stock of

- Ans 1. To count
 2. To think carefully
 3. To discuss
 4. To measure

Question ID : **65497835529**
Status : **Answered**
Chosen Option : **4**

Q.9 Select the option that will improve the underlined part of the given sentence. In case no improvement is needed, select 'No improvement required'.

Aphrodite vowed that Paris would had the most beautiful woman as his wife.

- Ans
- 1. would be having
 - 2. No improvement required
 - 3. will be having
 - 4. would have

Question ID : 65497835532
Status : Answered
Chosen Option : 4

Q.10 Select the most appropriate SYNONYM of the given word.

Compose

- Ans
- 1. Collect
 - 2. Cuddle
 - 3. Confuse
 - 4. Clutch

Question ID : 65497835544
Status : Answered
Chosen Option : 1

Q.11 Select the most appropriate ANTONYM of the given word.

Stout

- Ans
- 1. Obese
 - 2. Thin
 - 3. Bulky
 - 4. Heavy

Question ID : 65497835540
Status : Answered
Chosen Option : 2

Q.12 Select the most appropriate ANTONYM of the given word.

Beneficial

- Ans
- 1. Fearful
 - 2. Hopeful
 - 3. Harmful
 - 4. Careful

Question ID : 65497835534
Status : Answered
Chosen Option : 3

Q.13 Select the option that can be used as a one-word substitute for the given group of words.

A large number of things placed one on top of another

- Ans 1. Group
 2. Batch
 3. Load
 4. Pile

Question ID : 65497835531
Status : Answered
Chosen Option : 4

Q.14 Select the most appropriate option that can substitute the underlined segment in the given sentence. If there is no need to substitute it, select 'No substitution required'.

The task our English teacher gave us was both challenging and entertaining.

- Ans 1. is additionally challenging
 2. was both challenge
 3. No substitution required
 4. was together challenged

Question ID : 65497835537
Status : Answered
Chosen Option : 3

Q.15 Select the most appropriate meaning of the given idiom.

To get out of hand

- Ans 1. To get in a trouble
 2. To get an award
 3. To get angry
 4. To get out of control

Question ID : 65497835530
Status : Answered
Chosen Option : 4

Q.16 Select the option that will improve the underlined part of the given sentence. In case no improvement is needed, select 'No improvement required'.

The children were been drove to the picnic spot in the school bus.

- Ans 1. No improvement required
 2. were being driven
 3. were been driven
 4. were been driving

Question ID : 65497835538
Status : Answered
Chosen Option : 2

Q.17 Select the INCORRECTLY spelt word.

- Ans 1. Defiance
 2. Pretanse
 3. Reliance
 4. Alliance

Question ID : 65497835535
Status : Answered
Chosen Option : 2

Q.18 Select the option that can be used as a one-word substitute for the given group of words.

Able to be harmed easily

- Ans 1. Flexible
 2. Vulnerable
 3. Available
 4. Accessible

Question ID : 65497835541
Status : Answered
Chosen Option : 2

Q.19 Select the most appropriate option to fill in the blank.

Mere classroom teaching-learning is boring and _____ for students.

- Ans 1. monotonous
 2. exciting
 3. interesting
 4. varied

Question ID : 65497835533
Status : Answered
Chosen Option : 1

Q.20 Select the INCORRECTLY spelt word.

- Ans 1. Illusion
 2. Brilliant
 3. Scrutiny
 4. Abandan

Question ID : 65497835542
Status : Answered
Chosen Option : 4

Comprehension:

In the following passage, some words have been deleted. Read the passage carefully and select the most appropriate option to fill in each blank.

Football legend Diego Maradona was buried in a private ceremony after a day of (1) _____ scenes in the Argentine capital Buenos Aires. Only (2) _____ two dozen relatives and close friends (3) _____ the final ceremony on Thursday. But (4) _____ huge crowds turned out to pay (5) _____ respects, with many weeping, blowing kisses and praying as they filed past his coffin.

SubQuestion No : 21

Q.21 Select the most appropriate option to fill in blank no. 1.

- Ans 1. expressive
 2. impressive
 3. emotional
 4. exciting

Question ID : 65497835547
Status : Answered
Chosen Option : 3

Comprehension:

In the following passage, some words have been deleted. Read the passage carefully and select the most appropriate option to fill in each blank.

Football legend Diego Maradona was buried in a private ceremony after a day of (1) _____ scenes in the Argentine capital Buenos Aires. Only (2) _____ two dozen relatives and close friends (3) _____ the final ceremony on Thursday. But (4) _____ huge crowds turned out to pay (5) _____ respects, with many weeping, blowing kisses and praying as they filed past his coffin.

SubQuestion No : 22

Q.22 Select the most appropriate option to fill in blank no. 2.

- Ans 1. more or less
 2. around
 3. just
 4. roughly

Question ID : 65497835548
Status : Answered
Chosen Option : 2

Comprehension:

In the following passage, some words have been deleted. Read the passage carefully and select the most appropriate option to fill in each blank.

Football legend Diego Maradona was buried in a private ceremony after a day of (1) _____ scenes in the Argentine capital Buenos Aires. Only (2) _____ two dozen relatives and close friends (3) _____ the final ceremony on Thursday. But (4) _____ huge crowds turned out to pay (5) _____ respects, with many weeping, blowing kisses and praying as they filed past his coffin.

SubQuestion No : 23

Q.23 Select the most appropriate option to fill in blank no. 3.

- Ans**
- 1. attend
 - 2. have attended
 - 3. attended
 - 4. attending

Question ID : 65497835549
Status : Answered
Chosen Option : 3

Comprehension:

In the following passage, some words have been deleted. Read the passage carefully and select the most appropriate option to fill in each blank.

Football legend Diego Maradona was buried in a private ceremony after a day of (1) _____ scenes in the Argentine capital Buenos Aires. Only (2) _____ two dozen relatives and close friends (3) _____ the final ceremony on Thursday. But (4) _____ huge crowds turned out to pay (5) _____ respects, with many weeping, blowing kisses and praying as they filed past his coffin.

SubQuestion No : 24

Q.24 Select the most appropriate option to fill in blank no. 4.

- Ans**
- 1. earliest
 - 2. early
 - 3. earlier
 - 4. as early

Question ID : 65497835550
Status : Answered
Chosen Option : 2

Comprehension:

In the following passage, some words have been deleted. Read the passage carefully and select the most appropriate option to fill in each blank.

Football legend Diego Maradona was buried in a private ceremony after a day of (1) _____ scenes in the Argentine capital Buenos Aires. Only (2) _____ two dozen relatives and close friends (3) _____ the final ceremony on Thursday. But (4) _____ huge crowds turned out to pay (5) _____ respects, with many weeping, blowing kisses and praying as they filed past his coffin.

SubQuestion No : 25

Q.25 Select the most appropriate option to fill in blank no. 5.

- Ans** 1. them
 2. his
 3. their
 4. its

Question ID : **65497835551**
Status : **Answered**
Chosen Option : **3**

Section : **Part D Hindi**

Q.1 निराधार - रेखांकित शब्द का शब्द समूह बताइए।

- Ans** 1. जिसका कोई आधार नहीं।
 2. जो पढ़ा-लिखा न हो
 3. जिसका आधार हो
 4. जो दर्द से भरा हो

Question ID : **65497835565**
Status : **Not Answered**
Chosen Option : --

Q.2 निम्नलिखित में से शुद्ध वर्तनी वाला शब्द कौन सा है?

- Ans** 1. सांसारीक
 2. संसारिक
 3. सांसारिक
 4. संसारीक

Question ID : **65497835564**
Status : **Not Answered**
Chosen Option : --

Q.3 दिए गए वाक्य का वह भाग ज्ञात करें जिसमें कोई त्रुटि है। यदि कोई त्रुटि नहीं है, तो 'कोई त्रुटि नहीं है' चुनें।

मैं (1)/ सप्रमाण सहित/ (2) बता रहा हूँ। (3)/ कोई त्रुटि नहीं है/ (4)

Ans 1. 3

2. 2

3. 1

4. 4

Question ID : 65497835560
Status : Not Answered
Chosen Option : --

Q.4 'श्रव्य' का विलोम शब्द होगा-

Ans 1. अदृश्य

2. कटु

3. दृश्य

4. अलौकिक

Question ID : 65497835570
Status : Not Answered
Chosen Option : --

Q.5 दिये गये वाक्य में रेखांकित अंश को प्रतिस्थापित करने के लिए सबसे उपयुक्त विकल्प का चयन करें।

तुम्हें ऐसा नहीं बोलना चाहिए।

Ans 1. विल्लाना

2. उगलना

3. भूकना

4. कहना

Question ID : 65497835567
Status : Not Answered
Chosen Option : --

Q.6 रिक्त स्थान को भरने के लिए सबसे उपयुक्त शब्द का चयन करें।

क्रोध और लोभ, व्यक्ति के _____ हैं।

Ans 1. चिर शत्रु

2. चिरमित्र

3. महान गुरु

4. अजातशत्रु

Question ID : 65497835556
Status : Not Answered
Chosen Option : --

Q.7 दिए गए वाक्य में रेखांकित खंड को प्रतिस्थापित करने के लिए सबसे उपयुक्त विकल्प का चयन करें।
यदि इसे प्रतिस्थापित करने की आवश्यकता नहीं है, तो विकल्प 'किसी बदलाव की आवश्यकता नहीं है'
का चयन करें।

घनी झाड़ियों के पीछे छिपकर बैठी बिल्ली कुत्ते की जाने की प्रतीक्षा करने लगी।

- Ans
- 1. कुत्ते के जाने में प्रतीक्षा करने लगे।
 - 2. कुत्ते के जाने की प्रतीक्षा करने लगी।
 - 3. किसी बदलाव की आवश्यकता नहीं है।
 - 4. कुत्ते के जाने की प्रतीक्षा करने लगा।

Question ID : 65497835562
Status : Not Answered
Chosen Option : --

Q.8 दिए गए वाक्य का वह भाग ज्ञात करें जिसमें कोई त्रुटि है। यदि कोई त्रुटि नहीं है, तो 'कोई त्रुटि नहीं है'
चुनें।

किसी भी भाषा की (1)/ वर्तनी सबसे अधिक (2)/ महत्व की चीज है (3)/ कोई त्रुटि नहीं है (4)

- Ans
- 1. 2
 - 2. 3
 - 3. 4
 - 4. 1

Question ID : 65497835557
Status : Not Answered
Chosen Option : --

Q.9 'अतिथि की सेवा करने वाला' वाक्यांश के लिए एक शब्द होगा-

- Ans
- 1. अतिथि
 - 2. आतिथेयी
 - 3. आतिथ्य
 - 4. अनुचर

Question ID : 65497835569
Status : Not Answered
Chosen Option : --

Q.10 रिक्त स्थान भरने के लिए सबसे उपयुक्त शब्द का चयन करें।

_____ खाना तैयार करती हैं।

- Ans
- 1. भैया
 - 2. लड़की
 - 3. बहुएँ
 - 4. बहू

Question ID : 65497835555
Status : Not Answered
Chosen Option : --

Q.11 'निर्जीव' का विलोम शब्द होगा-

- Ans 1. सजीव
 2. सहजीव
 3. अजीव
 4. समुण

Question ID : 65497835568
Status : Not Answered
Chosen Option : --

Q.12 दिए गए शब्द के समानार्थी शब्द का चयन करें।

नौका

- Ans 1. कलापी
 2. तरणी
 3. धरनी
 4. चपला

Question ID : 65497835558
Status : Not Answered
Chosen Option : --

Q.13 'मन मैला करना' मुहावरे का सही अर्थ क्या है?

- Ans 1. दोषारोपण करना
 2. खिन्न होना
 3. घृणा करना
 4. ईर्ष्या करना

Question ID : 65497835571
Status : Not Answered
Chosen Option : --

Q.14 'डेढ़ चावल की खिचड़ी पकाना' इस मुहावरे के उचित अर्थ का चयन कीजिए।

- Ans 1. बहुमत से अलग रहना
 2. छोटी उम्र में अधिक ज्ञानी होना
 3. अत्यधिक आभाव होना
 4. बहुमत का सम्मन करना

Question ID : 65497835554
Status : Not Answered
Chosen Option : --

Q.15 दिए गए वाक्य में रेखांकित खंड को प्रतिस्थापित करने के लिए सबसे उपयुक्त विकल्प का चयन करें।
यदि इसे प्रतिस्थापित करने की आवश्यकता नहीं है, तो विकल्प 'किसी बदलाव की आवश्यकता नहीं है'
का चयन करें।

मैं गाने की कसरत कर रहा हूँ।

- Ans
- 1. किसी बदलाव की आवश्यकता नहीं है।
 - 2. गाने कि प्रयत्न
 - 3. गाने की रियाज़
 - 4. गाने कि पहल

Question ID : 65497835552
Status : Not Answered
Chosen Option : --

Q.16 दिए गए शब्द के समानार्थी शब्द का चयन करें।

आनंद

- Ans
- 1. पुरस्कार
 - 2. आह्लाद
 - 3. संस्कार
 - 4. संवाद

Question ID : 65497835561
Status : Not Answered
Chosen Option : --

Q.17 रिक्त स्थान को भरने के लिए सबसे उपयुक्त शब्द का चयन करें।

बन्दूक एक बहुत ही उपयोगी _____ है।

- Ans
- 1. सर्वत्र
 - 2. शस्त्र
 - 3. वस्त्र
 - 4. शास्त्र

Question ID : 65497835559
Status : Not Answered
Chosen Option : --

Q.18 निम्नलिखित में से शुद्ध वर्तनी वाला शब्द कौन सा है?

- Ans
- 1. नमष्कार
 - 2. नमोष्कार
 - 3. नमश्कार
 - 4. नमस्कार

Question ID : 65497835563
Status : Not Answered
Chosen Option : --

Q.19 'किसी बड़े और महत्वपूर्ण कार्य का स्मरण चिह्न या रचना' इस वाक्यांश के लिए एक सार्थक शब्द दीजिए।

- Ans
- 1. सम्मान
 - 2. यश
 - 3. श्रेय
 - 4. कीर्ति

Question ID : 65497835553
Status : Not Answered
Chosen Option : --

Q.20 दिये गये वाक्य के किस भाग में त्रुटि है?

अब आज से इस प्रकार की गलती मत करना।

- Ans
- 1. की गलती
 - 2. मत करना।
 - 3. अब आज से
 - 4. इस प्रकार

Question ID : 65497835566
Status : Not Answered
Chosen Option : --

Comprehension:

शंका नैराश्य का लक्षण नहीं, आशा का ही स्रोत है। असल में जिन चीजों के बारे में हमें (1)_____ नहीं होती, उनकी असलियत तक पहुंचना भी हमारे लिए दुश्वार होता है। शंका मनुष्य को (2)_____ रहती है, शंका कठिनाई के भीतर से चलकर (3)_____ तक पहुंचने की राह है। शंका को सही बिंदु से देखकर उसका (4)_____ खोजने की कोशिश करना विद्वता की सबसे बड़ी पहचान है। विश्वास की अंधता में सो जाने की अपेक्षा शंका के (5)_____ पर चलते रहना धर्म की कहीं बड़ी पहचान है।

निम्न प्रश्नों के उत्तर उपरोक्त गद्यांश के आधार पर दीजिए।

SubQuestion No : 21

Q.21 गद्यांश के रिक्त स्थान (1) के लिए सर्वाधिक उपयुक्त शब्द होगा-

- Ans
- 1. लज्जा
 - 2. ईर्ष्या
 - 3. शंका
 - 4. चिंता

Question ID : 65497835573
Status : Not Answered
Chosen Option : --

Comprehension:

शंका नैराश्य का लक्षण नहीं, आशा का ही स्रोत है। असल में जिन चीजों के बारे में हमें (1) _____ नहीं होती, उनकी असलियत तक पहुंचना भी हमारे लिए दुश्वार होता है। शंका मनुष्य को (2) _____ रहती है, शंका कठिनाई के भीतर से चलकर (3) _____ तक पहुंचने की राह है। शंका को सही बिंदु से देखकर उसका (4) _____ खोजने की कोशिश करना विद्वता की सबसे बड़ी पहचान है। विश्वास की अंधता में सो जाने की अपेक्षा शंका के (5) _____ पर चलते रहना धर्म की कहीं बड़ी पहचान है।

निम्न प्रश्नों के उत्तर उपरोक्त गद्यांश के आधार पर दीजिए।

SubQuestion No : 22

Q.22 गद्यांश के रिक्त स्थान (2) के लिए सर्वाधिक उपयुक्त शब्द होगा-

- Ans
- 1. सुलाये
 - 2. जलाये
 - 3. जगाये
 - 4. भगाये

Question ID : 65497835574

Status : Not Answered

Chosen Option : --

Comprehension:

शंका नैराश्य का लक्षण नहीं, आशा का ही स्रोत है। असल में जिन चीजों के बारे में हमें (1) _____ नहीं होती, उनकी असलियत तक पहुंचना भी हमारे लिए दुश्वार होता है। शंका मनुष्य को (2) _____ रहती है, शंका कठिनाई के भीतर से चलकर (3) _____ तक पहुंचने की राह है। शंका को सही बिंदु से देखकर उसका (4) _____ खोजने की कोशिश करना विद्वता की सबसे बड़ी पहचान है। विश्वास की अंधता में सो जाने की अपेक्षा शंका के (5) _____ पर चलते रहना धर्म की कहीं बड़ी पहचान है।

निम्न प्रश्नों के उत्तर उपरोक्त गद्यांश के आधार पर दीजिए।

SubQuestion No : 23

Q.23 गद्यांश के रिक्त स्थान (3) के लिए सर्वाधिक उपयुक्त शब्द होगा-

- Ans
- 1. सत्य
 - 2. निर्णय
 - 3. साधन
 - 4. लक्ष्य

Question ID : 65497835575

Status : Not Answered

Chosen Option : --

Comprehension:

शंका नैराश्य का लक्षण नहीं, आशा का ही स्रोत है। असल में जिन चीजों के बारे में हमें (1) _____ नहीं होती, उनकी असलियत तक पहुंचना भी हमारे लिए दुश्कार होता है। शंका मनुष्य को (2) _____ रहती है, शंका कठिनाई के भीतर से चलकर (3) _____ तक पहुंचने की राह है। शंका को सही बिंदु से देखकर उसका (4) _____ खोजने की कोशिश करना विद्वता की सबसे बड़ी पहचान है। विश्वास की अंधता में सो जाने की अपेक्षा शंका के (5) _____ पर चलते रहना धर्म की कहीं बड़ी पहचान है।

निम्न प्रश्नों के उत्तर उपरोक्त गद्यांश के आधार पर दीजिए।

SubQuestion No : 24

Q.24 गद्यांश के रिक्त स्थान (4) के लिए सर्वाधिक उपयुक्त शब्द होगा-

- Ans**
- 1. समाधान
 - 2. परिणाम
 - 3. प्रभाव
 - 4. अवदान

Question ID : 65497835576

Status : Not Answered

Chosen Option : --

Comprehension:

शंका नैराश्य का लक्षण नहीं, आशा का ही स्रोत है। असल में जिन चीजों के बारे में हमें (1) _____ नहीं होती, उनकी असलियत तक पहुंचना भी हमारे लिए दुश्कार होता है। शंका मनुष्य को (2) _____ रहती है, शंका कठिनाई के भीतर से चलकर (3) _____ तक पहुंचने की राह है। शंका को सही बिंदु से देखकर उसका (4) _____ खोजने की कोशिश करना विद्वता की सबसे बड़ी पहचान है। विश्वास की अंधता में सो जाने की अपेक्षा शंका के (5) _____ पर चलते रहना धर्म की कहीं बड़ी पहचान है।

निम्न प्रश्नों के उत्तर उपरोक्त गद्यांश के आधार पर दीजिए।

SubQuestion No : 25

Q.25 गद्यांश के रिक्त स्थान (5) के लिए सर्वाधिक उपयुक्त शब्द होगा-

- Ans**
- 1. शूल
 - 2. धूल
 - 3. फूल
 - 4. शरीर

Question ID : 65497835577

Status : Not Answered

Chosen Option : --