

Constable GD in CAPFs NIA SSF and Rifleman GD in Assam Rifles Examination 2021

Roll Number	www.GovtJobsAlert.In
Candidate Name	www.GovtJobsAlert.In
Venue Name	Info Educomonline Solution
Exam Date	13/12/2021
Exam Time :	12:30 PM - 2:00 PM
Subject	Constable GD 2021

Section : Part A General Intelligence and Reasoning

Q.1 उस विकल्प का चयन करें, जो दी गई आकृति में अंतर्निहित नहीं है (आकृति को घुमाने की अनुमति नहीं है)।



Ans

✓ 1.



✗ 2.



✗ 3.



✗ 4.



Question ID : 65497833058

Status : Answered

Chosen Option : 3

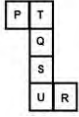
Q.2 शब्दों के उस समूह का चयन कीजिए, जो दिए गए वेन आरेख द्वारा सर्वोत्तम ढंग से प्रदर्शित होता है।



- Ans
- 1. मक्का, चावल, भोजन
 - 2. चमेली, फूल, अंडे
 - 3. पानी, द्रव, रस
 - 4. गुलाब, कुमुदिनी, फूल

Question ID : 65497833062
Status : Answered
Chosen Option : 3

Q.3 दी गई शीट को मोड़कर एक घन बनाया जाता है। इस प्रकार निर्मित घन में, अक्षरों का इनमें से कौन-सा युग्म एक दूसरे के विपरीत फलकों पर मौजूद होगा?



- Ans
- 1. S और R
 - 2. P और Q
 - 3. Q और U
 - 4. U और T

Question ID : 65497833057
Status : Answered
Chosen Option : 4

Q.4 'कुल्हाड़ी' का 'काटने' से वही संबंध है, जो 'छलनी' का '_____' से है।

- Ans
- 1. छानने
 - 2. पकड़ने
 - 3. लौ
 - 4. पीसने

Question ID : 65497833060
Status : Answered
Chosen Option : 1

Q.5 दिए गए विकल्पों में से उस संख्या का चयन करें, जो निम्नलिखित श्रृंखला में प्रश्नवाचक चिह्न (?) के स्थान पर आ सकती है।

27, 32, 42, 57, 77, ?

Ans 1. 124

2. 102

3. 105

4. 97

Question ID : 65497833043

Status : Answered

Chosen Option : 2

Q.6 दिए गए कथनों और निष्कर्षों को ध्यानपूर्वक पढ़ें। कथनों में दी गई जानकारी को सही मानते हुए, भले ही वह सामान्यतः ज्ञात तथ्यों से भिन्न प्रतीत होती हो, निर्णय कीजिए कि दिए गए निष्कर्षों में से कौन से निष्कर्ष कथनों का तार्किक रूप से अनुसरण करते हैं।

कथन:

I. कुछ टॉली-बैग, बैकपैक हैं।

II. कुछ बैकपैक, सूटकेस हैं।

III. सभी सूटकेस, बैग हैं।

निष्कर्ष:

I. कम से कम कुछ बैकपैक, बैग हैं।

II. कुछ बैग, सूटकेस हैं।

Ans 1. न तो निष्कर्ष I और न ही निष्कर्ष II अनुसरण करता है।

2. I और II दोनों निष्कर्ष अनुसरण करते हैं।

3. केवल निष्कर्ष I अनुसरण करता है।

4. केवल निष्कर्ष II अनुसरण करता है।

Question ID : 65497833050

Status : Answered

Chosen Option : 1

Q.7 दिए गए विकल्पों में से उस आकृति का चयन करें, जो निम्नलिखित श्रृंखला में प्रश्नवाचक चिह्न (?) के स्थान पर आ सकती है।



Ans

✓ 1.



✗ 2.



✗ 3.

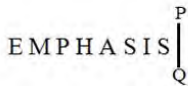


✗ 4.



Question ID : 65497833044
Status : Answered
Chosen Option : 1

Q.8 यदि दर्पण को निम्न आकृति के अनुसार PQ पर रखा जाता है, तो दिए गए संयोजन का दर्पण में निर्मित सही प्रतिबिंब चयनित करें।



Ans

✓ 1.

2 I S A H P M E

✗ 2.

E M P H I S A S

✗ 3.

S A S I H P M E

✗ 4.

E M P H A S I S

Question ID : 65497833048
Status : Answered
Chosen Option : 4

Q.9 उस विकल्प का चयन कीजिए जिसका तीसरे पद से वही संबंध है जो दूसरे पद का पहले पद से है।

BACK : ZCAM :: REAR : ?

- Ans 1. YPGT
 2. PYGT
 3. PGYT
 4. TYPG

Question ID : 65497833038
Status : Answered
Chosen Option : 3

Q.10 चार अक्षर-समूह दिए गए हैं, जिनमें से तीन किसी प्रकार से समान हैं और एक उनसे असंगत है। उस असंगत अक्षर-समूह का चयन करें।

- Ans 1. MDNK
 2. SFHJ
 3. GBTM
 4. JLQC

Question ID : 65497833045
Status : Answered
Chosen Option : 2

Q.11 दिए गए विकल्पों में से उस संख्या का चयन कीजिए जो दी गई श्रृंखला में प्रश्न चिह्न (?) के स्थान पर आ सकती है।

17, 18, 14, 23, 7, 32, -4, ?

- Ans 1. -25
 2. -45
 3. 25
 4. 45

Question ID : 65497833047
Status : Answered
Chosen Option : 3

Q.12 श्रृंखला 195, 188, 181, ... का कौन सा पद पहला ऋणात्मक पद होगा?

- Ans 1. 35
 2. 29
 3. 32
 4. 42

Question ID : 65497833052
Status : Answered
Chosen Option : 1

Q.13 दिए गए विकल्पों में से उस अक्षर-समूह का चयन करें, जो निम्नलिखित श्रृंखला में प्रश्नवाचक चिन्ह (?) के स्थान पर आ सकता है।

NX, LZ, JB, ?, FF, DH

Ans 1. GC

2. HD

3. ED

4. HC

Question ID : 65497833059

Status : Answered

Chosen Option : 3

Q.14 आठ व्यक्ति A, B, C, D, E, F, G और H, एक वृत्ताकार मेज के परितः एक दूसरे से समान दूरी पर इसी क्रम में दक्षिणावर्त बैठे हुए हैं। सभी का मुंह मेज के केंद्र की ओर है। यदि E उत्तर-पश्चिम दिशा में बैठा है, तो G का मुंह किस दिशा में है?

Ans 1. उत्तर

2. दक्षिण-पूर्व

3. उत्तर-पश्चिम

4. दक्षिण-पश्चिम

Question ID : 65497833054

Status : Answered

Chosen Option : 4

Q.15 पूजा, गुलाब की इकलौती बहन है। केशव और सुमेर भाई हैं। गुलाब, केशव का इकलौता भतीजा है। सुमेर, सोनू (पुरुष) का ससुर है। पूजा का सोनू से क्या संबंध है?

Ans 1. बहन

2. पत्नी

3. साली

4. मां

Question ID : 65497833040

Status : Answered

Chosen Option : 4

Q.16 एक विशिष्ट कूट भाषा में, शब्द 'PARTH' को 'TEVXL' के रूप में कूटबद्ध किया जाता है। इसी कूट भाषा में निम्न में से किस शब्द का कूट 'XVEHI' होगा ?

Ans 1. TRADE

2. TARDE

3. BZILM

4. BZLIM

Question ID : 65497833049

Status : Answered

Chosen Option : 1

Q.17 उस विकल्प का चयन कीजिए, जो निम्न शब्दों के उस सही क्रम को दर्शाता है, जिस क्रम में वे शब्द अंग्रेजी शब्दकोश में आते हैं।

1. Trimmer
2. Tripled
3. Trinity
4. Trinket
5. Triumph

- Ans
- 1. 2, 3, 1, 5, 4
 - 2. 3, 1, 2, 5, 4
 - 3. 1, 4, 3, 2, 5
 - 4. 1, 3, 4, 2, 5

Question ID : 65497833041
Status : Answered
Chosen Option : 2

Q.18 दिए गए समीकरण को सही करने के लिए किन दो संख्याओं को आपस में बदला जाना चाहिए?

$$48 + 37 \times 5 - 36 \div 12 = 274$$

- Ans
- 1. 12 और 5
 - 2. 37 और 48
 - 3. 12 और 36
 - 4. 48 और 12

Question ID : 65497833056
Status : Answered
Chosen Option : 2

Q.19 छः मित्र A, B, C, D, E और F, उत्तर की ओर मुंह करके दो पंक्तियों में बैठे हुए हैं। प्रत्येक पंक्ति में तीन व्यक्ति बैठे हैं। F बीच में बैठा है। C, B के ठीक पीछे बैठा है। D, E के दाईं ओर ठीक बगल में बैठा है। B, F के बाईं ओर ठीक बगल में बैठा है। कौन से तीन व्यक्ति एक ही पंक्ति में बैठे हैं?

- Ans
- 1. C, D और E
 - 2. A, B और D
 - 3. B, C और D
 - 4. A, F और C

Question ID : 65497833061
Status : Answered
Chosen Option : 1

Q.20 किसी कूट भाषा में, 'SLIDE' को '382418822' के रूप में कूटबद्ध किया जाता है। उसी कूट भाषा में 'TREND' को किस रूप में कूटबद्ध किया जाएगा?

- Ans
- 1. 428282036
 - 2. 463028282
 - 3. 403622288
 - 4. 430622828

Question ID : 65497833046
Status : Answered
Chosen Option : 4

Q.21 दिए गए पैटर्न का ध्यानपूर्वक अध्ययन करें, और उस संख्या का चयन करें जो इसमें प्रश्रवाचक चिह्न (?) के स्थान पर आ सकती है।

9 7 12
12 24 ?
15 25 37

- Ans 1. 35
 2. 36
 3. 42
 4. 40

Question ID : 65497833051
Status : Answered
Chosen Option : 2

Q.22 एक निश्चित कूट भाषा में, 'SLEEPER' को 'UKGDRDT' लिखा जाता है। उसी कूट भाषा में 'BEGUMPET' को क्या लिखा जाएगा?

- Ans 1. DOITDOGS
 2. DOITDOOG
 3. DDITOOGS
 4. DDITDOGO

Question ID : 65497833039
Status : Answered
Chosen Option : 1

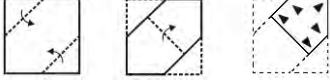
Q.23 उस विकल्प का चयन कीजिए, जिसका चौथी संख्या से वही संबंध है, जो पहली संख्या का दूसरी संख्या से है और पांचवीं संख्या का छठी संख्या से है।

72 : 6 :: ? : 7 :: 128 : 8

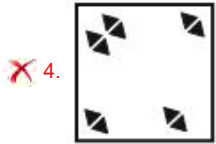
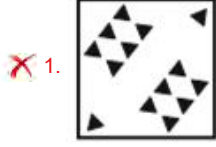
- Ans 1. 101
 2. 90
 3. 98
 4. 95

Question ID : 65497833055
Status : Answered
Chosen Option : 3

Q.24 निम्नांकित चित्रों में एक कागज को मोड़ने के क्रम और मुड़े हुए कागज को काटने का तरीका दर्शाया गया है। मुड़े हुए कागज को खोलने पर यह कैसा दिखाई देगा?



Ans



Question ID : 65497833053

Status : Answered

Chosen Option : 1

Q.25 अक्षरों के उस संयोजन का चयन करें, जिसे दी गई श्रृंखला के रिक्त स्थानों में क्रमिक रूप से रखे जाने पर वह श्रृंखला को पूर्ण करेगा।

U _ _ Q G _ X P _ _ UX _ _ G

Ans 1. XPUQGQP

2. QPXUGQP

3. XPQUQGP

4. XQPGUPQ

Question ID : 65497833042

Status : Answered

Chosen Option : 1

Section : Part B General Knowledge and General Awareness

Q.1 भारत सरकार ने इनमें से किसे सितंबर 2021 में देश का G20 शेरपा नियुक्त किया?

Ans 1. सुरेश प्रभु

2. पीयूष गोयल

3. मोटेक सिंह अहलवालिया

4. शक्तिकांत दास

Question ID : 65497833087

Status : Answered

Chosen Option : 3

Q.2 'स्टैंड अप इंडिया' योजना में ग्रीनफील्ड उद्यम स्थापित करने के लिए ₹ _____ के बीच के बैंक ऋण की सुविधा हर बैंक की शाखा में कम से कम एक अनुसूचित जाति (SC) या अनुसूचित जनजाति (ST) के ऋणी को और कम से कम एक महिला को प्रदान की जाती है।

- Ans
- 1. 10 लाख और 1 करोड़
 - 2. 10 हजार और 1 लाख
 - 3. 5 लाख और 10 लाख
 - 4. 1 लाख और 5 लाख

Question ID : 65497833077
Status : Answered
Chosen Option : 4

Q.3 मुगल सम्राट शाह आलम द्वितीय ने ईस्ट इंडिया कंपनी को बंगाल प्रांत का दीवान किस वर्ष नियुक्त किया था?

- Ans
- 1. 1865
 - 2. 1765
 - 3. 1735
 - 4. 1665

Question ID : 65497833066
Status : Answered
Chosen Option : 4

Q.4 किसी देश द्वारा एक वित्तीय वर्ष के दौरान उत्पादित वस्तुओं और सेवाओं के मूल्य का योग क्या कहलाता है?

- Ans
- 1. व्यक्तिगत आय
 - 2. निजी आय
 - 3. राष्ट्रीय आय
 - 4. प्रयोज्य आय

Question ID : 65497833069
Status : Answered
Chosen Option : 2

Q.5 निम्नलिखित में से किस रसायन का उपयोग सूक्ष्मजीवों के विकास की रोकथाम के लिए परिरक्षक के रूप में नहीं किया जाता है?

- Ans
- 1. बेंजोइक एसिड
 - 2. सोडियम बेंजोएट
 - 3. सोडियम मेटाबाईसल्फेट
 - 4. सोडियम हाइड्रोजन कार्बोनेट

Question ID : 65497833070
Status : Answered
Chosen Option : 3

Q.6 भारत में हरित क्रांति के दौरान खेती के आधुनिक तरीकों को आजमाने वाला पहला राज्य निम्नलिखित में से कौन सा था?

- Ans
- 1. तमिलनाडु
 - 2. राजस्थान
 - 3. मध्य प्रदेश
 - 4. पंजाब

Question ID : 65497833079
Status : Answered
Chosen Option : 4

Q.7 अफगानिस्तान के क्रिकेट खिलाड़ी राशिद खान, इंडियन प्रीमियर लीग (IPL) 2021 में _____ के लिए खेले।

- Ans
- 1. पंजाब किंग्स
 - 2. सनराइजर्स हैदराबाद
 - 3. दिल्ली कैपिटल्स
 - 4. राजस्थान रॉयल्स

Question ID : 65497833086
Status : Answered
Chosen Option : 2

Q.8 स्थानांतरी कृषि को किस अन्य नाम से भी जाना जाता है?

- Ans
- 1. स्टैश और बर्न
 - 2. रम्बल और टम्बल
 - 3. शिफ्ट और बर्न
 - 4. स्लैश और बर्न

Question ID : 65497833074
Status : Answered
Chosen Option : 3

Q.9 2020 में इमैनुएल चारपेंटियर (Emmanuelle Charpentier) और जेनिफर ए डौडना (Jennifer A. Doudna) को संयुक्त रूप से _____ के क्षेत्र में नोबेल पुरस्कार से सम्मानित किया गया है।

- Ans
- 1. साहित्य
 - 2. भौतिक विज्ञान
 - 3. रसायन शास्त्र
 - 4. चिकित्सा

Question ID : 65497833083
Status : Answered
Chosen Option : 2

Q.10 Who among the following decides whether a particular bill is a Money Bill or not?

- Ans 1. Finance Minister of India
 2. Comptroller and Auditor-General of India
 3. Speaker of the Lok Sabha
 4. Attorney-General of India

Question ID : 65497833067
Status : Answered
Chosen Option : 1

Q.11 2020 में, राजीव गांधी खेलरत्न पुरस्कार कितने खिलाड़ियों को प्रदान किया गया?

- Ans 1. सात
 2. पांच
 3. दो
 4. एक

Question ID : 65497833063
Status : Answered
Chosen Option : 2

Q.12 2021 में होने वाली भारत की जनगणना, 1872 के बाद से, जब पहली बार पूरे देश में एक समान पैटर्न के अनुसार व्यवस्थित जनगणना आयोजित की गई थी, _____ दस-वार्षिक जनगणना है।

- Ans 1. 13वीं
 2. 14वीं
 3. 15वीं
 4. 16वीं

Question ID : 65497833084
Status : Answered
Chosen Option : 4

Q.13 कंपनस्वरी (इडियोफोन्स) वाद्ययंत्रों को नाट्य शास्त्र में क्या कहा गया है?

- Ans 1. अवनद्ध वाद्य
 2. तत् वाद्य
 3. घन वाद्य
 4. सुषिर वाद्य

Question ID : 65497833080
Status : Answered
Chosen Option : 3

Q.14 Which of the following awards is given by World Economic Forum to artists who have used their art to improve the state of the world?

- Ans
- 1. Filmfare Award
 - 2. Oscar Award
 - 3. Grammy Award
 - 4. Crystal Award

Question ID : 65497833075
Status : Answered
Chosen Option : 2

Q.15 डी.आर.डी.ओ. (DRDO) ने अक्टूबर 2020 में पोखरण रेंज में किस एंटी-टैंक गाइडेड मिसाइल का अंतिम परीक्षण सफलतापूर्वक किया?

- Ans
- 1. जैसमिन
 - 2. नाग
 - 3. अमोघ
 - 4. ध्रुवास्त

Question ID : 65497833072
Status : Not Answered
Chosen Option : --

Q.16 भारतीय वन (संशोधन) विधेयक, 2017 में _____ को 'वृक्ष' की परिभाषा से बाहर रखा गया है।

- Ans
- 1. ताड़ (palm)
 - 2. झाड़ (brush-wood)
 - 3. बांस (bamboo)
 - 4. गन्ने (cane)

Question ID : 65497833085
Status : Not Answered
Chosen Option : --

Q.17 निम्नलिखित में से कौन सी वस्तु केवल परावर्तित प्रकाश के कारण दिखाई देती है?

- Ans
- 1. जलती हुई मोमबत्ती
 - 2. जलती हुई मशाल
 - 3. चांद
 - 4. तारे

Question ID : 65497833082
Status : Not Answered
Chosen Option : --

Q.18 अपने पांच वर्षीय पुत्र बीर नरायण की ओर से शासन करने वाली रानी दुर्गावती किस जनजाति से संबंधित थी?

- Ans
- 1. कोरकू
 - 2. माड़िया
 - 3. बैगा
 - 4. गोंड

Question ID : 65497833071
Status : Not Answered
Chosen Option : --

Q.19 निम्नलिखित में से किसमें द्विबीजपत्री बीज होते हैं?

- Ans
- 1. मक्का
 - 2. घास
 - 3. चावल
 - 4. गुलाब

Question ID : 65497833081
Status : Not Answered
Chosen Option : --

Q.20 निम्नलिखित में से किस राज्य में भारत की सबसे बड़ी खारी आर्द्रभूमि, सांभर झील स्थित है?

- Ans
- 1. महाराष्ट्र
 - 2. कर्नाटक
 - 3. तमिलनाडु
 - 4. राजस्थान

Question ID : 65497833064
Status : Not Answered
Chosen Option : --

Q.21 निम्नलिखित में से किस भारतीय फुटबॉल खिलाड़ी का उपनाम 'सिक्किमीज़ साइपर' है?

- Ans
- 1. संध्या झिंगन
 - 2. भाईचुंग भूटिया
 - 3. सुब्रत पाल
 - 4. सुनील छेत्री

Question ID : 65497833076
Status : Not Answered
Chosen Option : --

Q.22 निम्नलिखित में से कौन सा कथन गलत है?

- Ans
- 1. कुतुबउद्दीन ऐबक ने दिल्ली पर 1206 -1210 तक शासन किया।
 - 2. दिल्ली सुल्तानों के समय अरबी प्रशासनिक कामकाज की भाषा थी।
 - 3. दिल्ली पहले तोमर राजपूतों के अधीन एक राज्य की राजधानी बनी।
 - 4. दिल्ली में ढाले गए सिक्कों को 'देहलीवाल' कहा जाता था।

Question ID : 65497833078
Status : Not Answered
Chosen Option : --

Q.23 सिंधु घाटी सभ्यता के निम्नलिखित में से किस स्थल पर 'महासनागार' की खोज की गई थी?

- Ans 1. बनवाली
 2. मोहनजोदड़ो
 3. लोथल
 4. कालीबंगा

Question ID : 65497833065
Status : Not Answered
Chosen Option : --

Q.24 अर्जुन तपस्या, दुनिया की सबसे बड़ी नक्काशीदार मूर्तियों में से एक है जो _____ में स्थित है।

- Ans 1. वायनाड, केरल
 2. जोधपुर, राजस्थान
 3. सतारा, महाराष्ट्र
 4. महाबलीपुरम, तमिलनाडु

Question ID : 65497833073
Status : Not Answered
Chosen Option : --

Q.25 3 सितंबर 2020 को संपन्न हुई, G-20 विदेश मंत्रियों की वर्चुअल बैठक की अध्यक्षता निम्नलिखित में से किस राष्ट्र ने की?

- Ans 1. मैक्सिको
 2. सऊदी अरब
 3. अर्जेंटीना
 4. भारत

Question ID : 65497833068
Status : Not Answered
Chosen Option : --

Section : Part C Elementary Mathematics

Q.1 12 cm भुजा वाले घन से काटे जा सकने वाले सबसे बड़े लंबवृत्तीय शंकु का आयतन कितना होगा? (दशमलव के दो स्थानों तक सही)

- Ans 1. 290.90 cm³
 2. 452.57 cm³
 3. 395.65 cm³
 4. 282.30 cm³

Question ID : 65497833102
Status : Not Answered
Chosen Option : --

Q.2 $6\sqrt{2}$ cm की भुजा वाले एक वर्ग को एक वृत्त में उत्कीर्णित किया गया है। वर्ग को छोड़कर वृत्त का क्षेत्रफल (cm^2 में, निकटतम पूर्णांक तक सही) ज्ञात करें। ($\pi = \frac{22}{7}$ लें)

- Ans**
- 1. 39
 - 2. 47
 - 3. 27
 - 4. 41

Question ID : 65497833089
Status : Not Answered
Chosen Option : --

Q.3 $96 - 4 \text{ of } (18 - 13) + 4 \times 7$ का मान ज्ञात कीजिए।

- Ans**
- 1. -36
 - 2. 104
 - 3. 560
 - 4. 36

Question ID : 65497833092
Status : Not Answered
Chosen Option : --

Q.4 रेशमा अपनी आय का 84% खर्च करती है। यदि उसकी आय में 30% की वृद्धि होती है, और बचत में 40% की वृद्धि होती है, तो उसके खर्च में कितने प्रतिशत की वृद्धि हुई? (दशमलव के बाद एक स्थान तक सही)

- Ans**
- 1. 29.2%
 - 2. 28.8%
 - 3. 27.2%
 - 4. 28.1%

Question ID : 65497833099
Status : Not Answered
Chosen Option : --

Q.5 किसी बस की चाल प्रत्येक एक घंटे बाद 4 km बढ़ाई जाती है। यदि उस बस द्वारा पहले एक घंटे में तय की गई दूरी 55 km है, तो 13 घंटे में तय की गई कुल दूरी कितनी होगी?

- Ans**
- 1. 1050 km
 - 2. 1027 km
 - 3. 1000 km
 - 4. 1100 km

Question ID : 65497833096
Status : Not Answered
Chosen Option : --

Q.6 श्री जुगल किशोर ने एक निश्चित राशि को साधारण ब्याज पर 4 वर्षों के लिए इस प्रकार निवेशित किया कि $\frac{3}{7}$ राशि 7% वार्षिक ब्याज पर, $\frac{2}{5}$ राशि 9% वार्षिक ब्याज पर और शेष राशि 11% वार्षिक ब्याज पर निवेशित हुई। यदि प्राप्त कुल ब्याज ₹11,880 है, तो कुल निवेशित राशि क्या थी?

- Ans**
- 1. ₹32,000
 - 2. ₹38,000
 - 3. ₹35,000
 - 4. ₹30,000

Question ID : **65497833091**
 Status : **Not Answered**
 Chosen Option : --

Q.7 एक विलयन में अल्कोहल और जल का अनुपात 4 : 3 है। इस विलयन की 350 mL मात्रा में कितना पानी (mL में) मिलाने पर विलयन में अल्कोहल और जल का अनुपात 5 : 6 हो जाएगा?

- Ans**
- 1. 120
 - 2. 100
 - 3. 80
 - 4. 90

Question ID : **65497833106**
 Status : **Not Answered**
 Chosen Option : --

Q.8 $\frac{3 \text{ of } 5\frac{1}{2} + 6 + 5 - 2 \text{ of } 3 + 4}{1 + \frac{3}{1} \text{ of } 5 - 3\frac{1}{3} \text{ of } 2 + 5}$ का मान ज्ञात करें।

- Ans**
- 1. $\frac{302}{105}$
 - 2. $\frac{247}{205}$
 - 3. $\frac{243}{175}$
 - 4. $\frac{257}{302}$

Question ID : **65497833095**
 Status : **Not Answered**
 Chosen Option : --

Q.9 A एक कार्य को 8 दिनों में पूर्ण कर सकता है। B इसे 12 दिनों में पूर्ण कर सकता है। C की सहायता से, वे इस कार्य को 4 दिन में पूर्ण कर लेते हैं। C अकेले इस कार्य को कितने दिनों पूर्ण कर सकता है?

- Ans**
- 1. 18 दिन
 - 2. 6 दिन
 - 3. 24 दिन
 - 4. 4 दिन

Question ID : **65497833094**
Status : **Not Answered**
Chosen Option : --

Q.10 साधारण ब्याज पर उधार दी गई किसी धनराशि पर 3 वर्ष बाद का मिश्रधन ₹715 और उसके अगले 5 वर्ष की अवधि के बाद का मिश्रधन ₹990 होता है। वह धनराशि ज्ञात कीजिए।

- Ans**
- 1. ₹600
 - 2. ₹625
 - 3. ₹590
 - 4. ₹550

Question ID : **65497833101**
Status : **Not Answered**
Chosen Option : --

Q.11 किसी वस्तु को ₹375 में बेचने पर एक व्यक्ति को इतनी राशि प्राप्त होती है कि प्रतिशत लाभ क्रय मूल्य के बराबर हो जाता है। वस्तु का क्रय मूल्य क्या है?

- Ans**
- 1. ₹200
 - 2. ₹250
 - 3. ₹160
 - 4. ₹150

Question ID : **65497833090**
Status : **Not Answered**
Chosen Option : --

Q.12 श्यामलाल अपनी वस्तुओं पर क्रय मूल्य से 35% अधिक मूल्य अंकित करता है और फिर 5% की छूट देता है। उसका लाभ प्रतिशत ज्ञात कीजिए।

- Ans**
- 1. 28%
 - 2. 28.50%
 - 3. 28.25%
 - 4. 28.75%

Question ID : **65497833093**
Status : **Not Answered**
Chosen Option : --

Q.13 एक निश्चित धनराशि पर 6.4% वार्षिक ब्याज की दर से $3\frac{3}{4}$ वर्षों में प्राप्त साधारण ब्याज ₹1,896 है। समान राशि पर समान ब्याज दर पर $6\frac{1}{4}$ वर्षों में प्राप्त मिश्रधन कितना होगा?

- Ans**
- 1. 11,060
 - 2. 11,050
 - 3. 11,080
 - 4. 11,000

Question ID : **65497833107**
Status : **Not Answered**
Chosen Option : --

Q.14 19 संख्याओं का औसत 58 है। प्रथम 12 संख्याओं का औसत 63.6 और अंतिम 8 संख्याओं का औसत 55.1 है। यदि आरंभ से 12वीं संख्या निकाल दी जाए, तो शेष संख्याओं का औसत क्या होगा?

- Ans**
- 1. $54\frac{4}{9}$
 - 2. $55\frac{5}{9}$
 - 3. $61\frac{1}{3}$
 - 4. $53\frac{2}{3}$

Question ID : **65497833105**
Status : **Not Answered**
Chosen Option : --

Q.15 एक कक्षा परीक्षा में 35 छात्रों के अंकों का औसत 46 है। बाद में, यह पाया गया कि दो स्थानों पर 23 को 33 पढ़ा गया था, और एक स्थान पर 36 को 30 पढ़ा गया था। कक्षा के छात्रों के अंकों का वास्तविक औसत ज्ञात कीजिए।

- Ans**
- 1. 45.3
 - 2. 45.6
 - 3. 44.8
 - 4. 42.6

Question ID : **65497833108**
Status : **Not Answered**
Chosen Option : --

Q.16 34, 38, 85 और 95 के लघुत्तम समापवर्त्य (LCM) को इन संख्याओं के औसत से विभाजित करने पर प्राप्त शेषफल ज्ञात कीजिए।

- Ans**
- 1. 17
 - 2. 21
 - 3. 19
 - 4. 23

Question ID : **65497833104**
Status : **Not Answered**
Chosen Option : --

Q.17 एक दुकानदार ने जीस के मूल्य को ₹1,250 से घटाकर ₹1,150 कर दिया। दुकानदार द्वारा दी जाने वाली छूट का प्रतिशत कितना है?

- Ans**
- 1. 7.25%
 - 2. 7.5%
 - 3. 8%
 - 4. 10%

Question ID : **65497833109**
Status : **Not Answered**
Chosen Option : --

Q.18 यदि 341, 434 और 620 का महत्तम समापवर्तक (HCF) x है, तो x का मान _____ के बीच होगा।

- Ans**
- 1. 30 और 35
 - 2. 25 और 30
 - 3. 35 और 40
 - 4. 40 और 45

Question ID : **65497833098**
Status : **Not Answered**
Chosen Option : --

Q.19 अरुण ने दो वस्तुएं ₹631.80 प्रति वस्तु की दर से बेचीं। एक पर उसे 17% का लाभ हुआ और दूसरी पर उसे 19% की हानि हुई। पूरे लेन-देन में उसे कितने प्रतिशत की हानि हुई? (एक दशमलव स्थान तक पूर्णांकित)

- Ans**
- 1. 5.2%
 - 2. 4.8%
 - 3. 4.3%
 - 4. 5.4%

Question ID : **65497833103**
Status : **Not Answered**
Chosen Option : --

Q.20 किसी मिश्रधातु में कॉपर और जिंक का अनुपात 5 : 4 करने के लिए 20 kg जिंक के साथ कॉपर की कितनी मात्रा पिघलाने की आवश्यकता होगी?

- Ans**
- 1. 12 kg
 - 2. 25 kg
 - 3. 10 kg
 - 4. 15 kg

Question ID : **65497833100**
Status : **Not Answered**
Chosen Option : --

Q.21 निम्न समीकरण में x का मान ज्ञात कीजिए:

$$45\% \text{ of } 360 + 30\% \text{ of } 400 = 25\% \text{ of } x$$

- Ans
- 1. 1180
 - 2. 1128
 - 3. 1200
 - 4. 1112

Question ID : 65497833110
Status : Not Answered
Chosen Option : --

Q.22 एक दुकानदार एक वस्तु का मूल्य इसके वास्तविक मूल्य से 30% बढ़ाकर अंकित करता है और 10% की छूट देता है। लाभ प्रतिशत कितना है?

- Ans
- 1. 20%
 - 2. 17%
 - 3. 18%
 - 4. 15%

Question ID : 65497833097
Status : Not Answered
Chosen Option : --

Q.23 एक व्यक्ति को धारा की दिशा में 25 km तैरने में 2 घंटे का समय लगता है। धारा की विपरीत दिशा में वह समान समय में 19 km ही तैर पाता है। धारा की चाल (km/h में) कितनी है?

- Ans
- 1. 2
 - 2. 1.5
 - 3. 1.8
 - 4. 1.65

Question ID : 65497833112
Status : Not Answered
Chosen Option : --

Q.24 यदि a , b और c ऐसी धनात्मक संख्याएँ हैं कि $(a^2 + b^2) : (b^2 + c^2) : (c^2 + a^2) = 34 : 61 : 45$ हैं, तो $a+b : b+c : c+a$ का मान ज्ञात कीजिए।

- Ans
- 1. 8 : 11 : 9
 - 2. 9 : 11 : 8
 - 3. 8 : 9 : 11
 - 4. 9 : 8 : 11

Question ID : 65497833088
Status : Not Answered
Chosen Option : --

Q.25 एक टैंक को तीन पाइपों A, B और C द्वारा 3 घंटे में भर दिया जाता है। पाइप A, पाइप C से 6 गुना तेज और पाइप B से 2 गुना तेज है। पाइप B और C द्वारा टैंक को भरने में कितने घंटे लगेंगे?

Ans

✓ 1. $7\frac{1}{2}$

✗ 2. 7

✗ 3. $7\frac{4}{5}$

✗ 4. $7\frac{1}{4}$

Question ID : 65497833111

Status : Not Answered

Chosen Option : --

Section : Part D English

Q.1 Select the option that will improve the underlined part of the sentence. In case no improvement is needed, select 'No improvement required'.

We were took on the vineyards for a tour.

Ans ✓ 1. taken to

✗ 2. taken on

✗ 3. No improvement required

✗ 4. take in

Question ID : 65497833116

Status : Not Answered

Chosen Option : --

Q.2 Select the most appropriate ANTONYM of the given word.

Betterment

Ans ✗ 1. Prosperity

✓ 2. Deterioration

✗ 3. Progress

✗ 4. Advancement

Question ID : 65497833120

Status : Not Answered

Chosen Option : --

Q.3 Select the option that will improve the underlined part of the given sentence. In case no improvement is needed, select 'No improvement required'.

Although he got the message he rushed home.

- Ans
- 1. Hardly
 - 2. As soon as
 - 3. No sooner
 - 4. No improvement required

Question ID : 65497833131
Status : Not Answered
Chosen Option : --

Q.4 Select the option that can be used as a one-word substitute for the given group of words.

A type of substance or material that burns very quickly

- Ans
- 1. Indelible
 - 2. Incredible
 - 3. Invisible
 - 4. Inflammable

Question ID : 65497833126
Status : Not Answered
Chosen Option : --

Q.5 Select the option that can be used as a one-word substitute for the given group of words.

A plan or route to be followed on a journey

- Ans
- 1. Itinerary
 - 2. Travel
 - 3. Tour
 - 4. Arrangement

Question ID : 65497833118
Status : Not Answered
Chosen Option : --

Q.6 The following sentence has been split into four segments. Identify the segment that contains a grammatical error.

If I will meet / my friend today, / I shall give / him this book.

- Ans
- 1. If I will meet
 - 2. him this book
 - 3. I shall give
 - 4. my friend today

Question ID : 65497833124
Status : Not Answered
Chosen Option : --

Q.7 Select the most appropriate **ANTONYM** of the given word.

Volatile

- Ans**
- 1. Subtle
 - 2. Erratic
 - 3. Flighty
 - 4. Certain

Question ID : **65497833132**
Status : **Not Answered**
Chosen Option : --

Q.8 Select the **INCORRECTLY** spelt word.

- Ans**
- 1. Occasion
 - 2. Occurence
 - 3. Offering
 - 4. Auction

Question ID : **65497833122**
Status : **Not Answered**
Chosen Option : --

Q.9 Parts of the given sentence have been given as options. One of them contains a grammatical error. Select the option that has the error.

I could not went for my sister's wedding in Rajasthan as I had my final examination at that time.

- Ans**
- 1. sister's wedding in Rajasthan
 - 2. at that time
 - 3. as I had
 - 4. could not went

Question ID : **65497833119**
Status : **Not Answered**
Chosen Option : --

Q.10 The following sentence has been split into four segments. Identify the segment that contains a grammatical error.

The Nature Channel / gives a lots of / interesting information / on wildlife.

- Ans**
- 1. gives a lots of
 - 2. on wildlife
 - 3. interesting information
 - 4. The Nature Channel

Question ID : **65497833114**
Status : **Not Answered**
Chosen Option : --

Q.11 Select the option that will improve the underlined part of the given sentence. In case no improvement is needed, select 'No improvement required'.

The students felt a shame by their bad behaviour.

- Ans 1. felt ashamed by
 2. felt ashamed for
 3. feel shame on
 4. No improvement required

Question ID : 65497833117
Status : Not Answered
Chosen Option : --

Q.12 Select the most appropriate option to fill in the blank.

The guests were amazed at the _____ spread of food.

- Ans 1. lonely
 2. light
 3. lucky
 4. lavish

Question ID : 65497833128
Status : Not Answered
Chosen Option : --

Q.13 Select the most appropriate option to fill in the blank.

It looks as if it might rain tonight as the sky is _____.

- Ans 1. overjoyed
 2. overdue
 3. oversized
 4. overcast

Question ID : 65497833130
Status : Not Answered
Chosen Option : --

Q.14 Select the most appropriate synonym of the given word.

Steady

- Ans 1. Stable
 2. Flexible
 3. Soft
 4. Shaky

Question ID : 65497833125
Status : Not Answered
Chosen Option : --

Q.15 Select the most appropriate meaning of the given idiom.

To beat the clock

- Ans 1. To brag about oneself
 2. To perform a task within the time limit
 3. To be very angry for being late
 4. To race against time

Question ID : 65497833127
Status : Not Answered
Chosen Option : --

Q.16 Select the most appropriate synonym of the given word.

Sturdy

- Ans 1. Unhealthy
 2. Delicate
 3. Tough
 4. Active

Question ID : 65497833115
Status : Not Answered
Chosen Option : --

Q.17 Select the most appropriate meaning of the given idiom.

As thick as two short planks

- Ans 1. Extremely stupid
 2. Extremely ugly
 3. Extremely angry
 4. Extremely intelligent

Question ID : 65497833123
Status : Not Answered
Chosen Option : --

Q.18 Select the most appropriate option to fill in the blank.

Tukaram said that scaling every mountain peak has its own _____.

- Ans 1. checks
 2. burdens
 3. contests
 4. challenges

Question ID : 65497833113
Status : Not Answered
Chosen Option : --

Q.19 Select the **INCORRECTLY** spelt word.

- Ans** 1. Hotal
 2. Strain
 3. Mutter
 4. Guard

Question ID : **65497833129**
Status : **Not Answered**
Chosen Option : --

Q.20 Select the option that can be used as a one-word substitute for the given group of words.

A person who never drinks alcohol.

- Ans** 1. Teetotaler
 2. Abandoner
 3. Noctambulist
 4. Alcoholic

Question ID : **65497833121**
Status : **Not Answered**
Chosen Option : --

Comprehension:

In the following passage, some words have been deleted. Read the passage carefully and select the most appropriate option to fill in each blank.

The pandemic (1)_____ created a very difficult situation (2)_____ the migrant workers. They were forced to (3)_____ long distances (4)_____ foot to reach their native places. On the way, several people suffered (5)_____ and died too.

SubQuestion No : 21

Q.21 Select the most appropriate option to fill in blank number 1.

- Ans** 1. is
 2. may
 3. would
 4. has

Question ID : **65497833134**
Status : **Not Answered**
Chosen Option : --

Comprehension:

In the following passage, some words have been deleted. Read the passage carefully and select the most appropriate option to fill in each blank.

The pandemic (1)_____ created a very difficult situation (2)_____ the migrant workers. They were forced to (3)_____ long distances (4)_____ foot to reach their native places. On the way, several people suffered (5)_____ and died too.

SubQuestion No : 22

Q.22 Select the most appropriate option to fill in blank number 2.

- Ans** 1. for
 2. out of
 3. at
 4. from

Question ID : **65497833135**
Status : **Not Answered**
Chosen Option : --

Comprehension:

In the following passage, some words have been deleted. Read the passage carefully and select the most appropriate option to fill in each blank.

The pandemic (1)_____ created a very difficult situation (2)_____ the migrant workers. They were forced to (3)_____ long distances (4)_____ foot to reach their native places. On the way, several people suffered (5)_____ and died too.

SubQuestion No : 23

Q.23 Select the most appropriate option to fill in blank number 3.

- Ans** 1. sleep
 2. travel
 3. stand
 4. rumble

Question ID : **65497833136**
Status : **Not Answered**
Chosen Option : --

Comprehension:

In the following passage, some words have been deleted. Read the passage carefully and select the most appropriate option to fill in each blank.

The pandemic (1)_____ created a very difficult situation (2)_____ the migrant workers. They were forced to (3)_____ long distances (4)_____ foot to reach their native places. On the way, several people suffered (5)_____ and died too.

SubQuestion No : 24

Q.24 Select the most appropriate option to fill in blank number 4.

- Ans** 1. from
 2. in
 3. on
 4. to

Question ID : **65497833137**
Status : **Not Answered**
Chosen Option : --

Comprehension:

In the following passage, some words have been deleted. Read the passage carefully and select the most appropriate option to fill in each blank.

The pandemic (1)_____ created a very difficult situation (2)_____ the migrant workers. They were forced to (3)_____ long distances (4)_____ foot to reach their native places. On the way, several people suffered (5)_____ and died too.

SubQuestion No : 25

Q.25 Select the most appropriate option to fill in blank number 5.

- Ans 1. haphazardly
 2. miserably
 3. excitedly
 4. posthumously

Question ID : 65497833138
Status : Not Answered
Chosen Option : --

Section : **Part D Hindi**

Q.1 दिये गये वाक्यांश के लिए एक शब्द दीजिये।

जिसके आर-पार दिखाई देता हो

- Ans 1. पारदर्शी
 2. प्रत्यागत
 3. पारलौकिक
 4. प्रकाश्य

Question ID : 65497833142
Status : Not Answered
Chosen Option : --

Q.2 'जहाँ तक और जितना संभव हो' वाक्यांश के लिए उपयुक्त शब्द होगा-

- Ans 1. संभाव्य
 2. संभावना
 3. संभवतः
 4. यथासंभव

Question ID : 65497833158
Status : Not Answered
Chosen Option : --

Q.3 दिये गये वाक्य में रेखांकित अंश को प्रतिस्थापित करने के लिए सबसे उपयुक्त विकल्प का चयन करें।

गिरीश ने अपने पाँव से जूता निकाला।

- Ans 1. जूता खिसकाया।
 2. जूता गिराया।
 3. जूता हटाया।
 4. जूता उतारा।

Question ID : 65497833157
Status : Not Answered
Chosen Option : --

Q.4 उस विकल्प का चयन कीजिए जिसमें निम्न मुहावरे का अर्थ दिया गया है।

पर निकलना

- Ans
- 1. घायल हो जाना
 - 2. पराधीन हो जाना
 - 3. स्वच्छंद हो जाना
 - 4. दूसरों का हो जाना

Question ID : 65497833148
Status : Not Answered
Chosen Option : --

Q.5 दिए गए शब्द का विलोम चुनें।

अथ

- Ans
- 1. इति
 - 2. प्रारंभ
 - 3. शुरू
 - 4. उद्घाटन

Question ID : 65497833147
Status : Not Answered
Chosen Option : --

Q.6 रिक्त स्थान की पूर्ति के लिए सबसे उपयुक्त विकल्प का चयन करें।

मुझे बच्चे के स्वास्थ्य की _____ है।

- Ans
- 1. चिंता
 - 2. शंका
 - 3. लज्जा
 - 4. ग्लानि

Question ID : 65497833151
Status : Not Answered
Chosen Option : --

Q.7 दिये गये वाक्यांश के लिए एक शब्द दीजिये।

चोरी के लिए मकान की दीवार में किया गया बड़ा सा छेद

- Ans
- 1. दुर्भेद्य
 - 2. सेंध
 - 3. स्तैण
 - 4. भेद्य

Question ID : 65497833145
Status : Not Answered
Chosen Option : --

Q.8 रिक्त स्थान की पूर्ति के लिए सबसे उपयुक्त शब्द का चयन करें।

मैं _____ नहीं जानता कि वह कहां गया।

- Ans
- 1. बिलकुल तो
 - 2. बिलकुल भी
 - 3. बिलकुल
 - 4. बिलकुल ही

Question ID : 65497833146
Status : Not Answered
Chosen Option : --

Q.9 दिये गये वाक्य में रेखांकित अंश को प्रतिस्थापित करने के लिए सबसे उपयुक्त विकल्प का चयन करें।

यह विषय अत्यंत कठोर है।

- Ans
- 1. दुर्गम
 - 2. कर्कश
 - 3. अगम
 - 4. कठिन

Question ID : 65497833156
Status : Not Answered
Chosen Option : --

Q.10 'चक्षु' किसका पर्यायवाची है?

- Ans
- 1. आकाश
 - 2. पक्षी
 - 3. घोड़ा
 - 4. आँख

Question ID : 65497833153
Status : Not Answered
Chosen Option : --

Q.11 निम्नलिखित में से शुद्ध वर्तनी वाला शब्द कौन सा है?

- Ans
- 1. घनिष्ट
 - 2. घनीष्ठ
 - 3. घनीष्ट
 - 4. घनिष्ठ

Question ID : 65497833154
Status : Not Answered
Chosen Option : --

Q.12 दिए गए वाक्य में रेखांकित खंड को प्रतिस्थापित करने के लिए सबसे उपयुक्त विकल्प का चयन करें।
यदि इसे प्रतिस्थापित करने की आवश्यकता नहीं है, तो विकल्प 'किसी बदलाव की आवश्यकता नहीं है'
का चयन करें।

गंदे पानी की समुचित निकासी का प्रबंध न होने के कारण समस्त गाँव की जनसंख्या परेशान है।

- Ans 1. गाँव की समस्त जनसंख्या परेशान है।
 2. समस्त गाँवों की जनसंख्या परेशान है।
 3. सारे गाँव की जनसंख्या परेशान है।
 4. किसी बदलाव की आवश्यकता नहीं है।

Question ID : 65497833141
Status : Not Answered
Chosen Option : --

Q.13 दिए गए शब्द के समानार्थी शब्द का चयन करें।

आश्रम

- Ans 1. इमारत
 2. मकान
 3. भवन
 4. विहार

Question ID : 65497833140
Status : Not Answered
Chosen Option : --

Q.14 दिए गए वाक्य का वह भाग ज्ञात करें जिसमें कोई त्रुटि है। यदि कोई त्रुटि नहीं है, तो 'कोई त्रुटि नहीं है'
विकल्प चुनें।

वह चार दिन का (1)\ आकस्मिक अवकाश पर (2)\ घर चला गया है। (3)\ कोई त्रुटि नहीं है (4)

- Ans 1. 2
 2. 4
 3. 1
 4. 3

Question ID : 65497833139
Status : Not Answered
Chosen Option : --

Q.15 निम्नलिखित में से शुद्ध वर्तनी वाला शब्द कौन सा है?

- Ans 1. वांछनीय
 2. वांक्षनीय
 3. वंक्षनीय
 4. वंछनीय

Question ID : 65497833155
Status : Not Answered
Chosen Option : --

Q.16 दिए गए शब्द का विलोम चुनें।

ज्ञान

- Ans 1. अज्ञान
 2. अहंकार
 3. विज्ञान
 4. संज्ञान

Question ID : 65497833144
Status : Not Answered
Chosen Option : --

Q.17 दिए गए वाक्य का वह भाग ज्ञात करें जिसमें कोई त्रुटि है। यदि कोई त्रुटि नहीं है, तो 'कोई त्रुटि नहीं है' चुनें।

मुझे उसके विरुद्ध कुछ कहना या करना ही नहीं पड़ा।

- Ans 1. ही नहीं पड़ा।
 2. कोई त्रुटि नहीं है।
 3. कुछ कहना या करना
 4. मुझे उसके विरुद्ध

Question ID : 65497833143
Status : Not Answered
Chosen Option : --

Q.18 दिये गये वाक्य के किस भाग में त्रुटि है?

आज विद्यालय के निरिक्षक आए हैं।

- Ans 1. आज
 2. आए हैं।
 3. निरिक्षक
 4. विद्यालय के

Question ID : 65497833152
Status : Not Answered
Chosen Option : --

Q.19 उस विकल्प का चयन कीजिए जिसमें निम्न मुहावरे का अर्थ दिया गया है।

आकाश के तारे तोड़ना-

- Ans 1. आसमान से तारे तोड़ने की कोशिश करना
 2. आसमान छूने की कोशिश करना
 3. असंभव काम करना
 4. काम तमाम करना

Question ID : 65497833149
Status : Not Answered
Chosen Option : --

Q.20 रिक्त स्थान की पूर्ति के लिए सबसे उपयुक्त विकल्प का चयन करें।

खेलकूद में _____ अच्छी बात है।

- Ans 1. स्पृहा
 2. द्वेष
 3. ईर्ष्या
 4. क्रोध

Question ID : 65497833150
Status : Not Answered
Chosen Option : --

Comprehension:

दिए गए गद्यांश में से कुछ शब्द हटा दिए गए हैं। संबंधित प्रश्नों में, प्रत्येक संख्या के लिए सबसे उपयुक्त विकल्प का चयन करें-

मैं दिल्ली हूँ। सबसे पहले पांडवों ने मुझे (1) _____ और नाम रखा- इन्द्रप्रस्थ। वास्तव में मेरा सौन्दर्य इंद्र की अलकापुरी के (2) _____ था। युग बदला। मैं गुर्जरा के (3) _____ हुई। मुगलों के शासन में मेरा (4) _____ बहुत बढ़ा। अंग्रेजों को भी मैं ही सबसे अधिक (5) _____ हुई, इसीलिए वे कलकत्ता से अपने मुख्य कार्यालयों को मेरे यहाँ ही ले आये।

SubQuestion No : 21

Q.21 गद्यांश के रिक्त स्थान (1) के लिए सर्वाधिक उपयुक्त शब्द होगा-

- Ans 1. चलाया
 2. बसाया
 3. बनाया
 4. उठाया

Question ID : 65497833160
Status : Not Answered
Chosen Option : --

Comprehension:

दिए गए गद्यांश में से कुछ शब्द हटा दिए गए हैं। संबंधित प्रश्नों में, प्रत्येक संख्या के लिए सबसे उपयुक्त विकल्प का चयन करें-

मैं दिल्ली हूँ। सबसे पहले पांडवों ने मुझे (1) _____ और नाम रखा- इन्द्रप्रस्थ। वास्तव में मेरा सौन्दर्य इंद्र की अलकापुरी के (2) _____ था। युग बदला। मैं गुर्जरा के (3) _____ हुई। मुगलों के शासन में मेरा (4) _____ बहुत बढ़ा। अंग्रेजों को भी मैं ही सबसे अधिक (5) _____ हुई, इसीलिए वे कलकत्ता से अपने मुख्य कार्यालयों को मेरे यहाँ ही ले आये।

SubQuestion No : 22

Q.22 गद्यांश के रिक्त स्थान (2) के लिए सर्वाधिक उपयुक्त शब्द होगा-

- Ans 1. सुन्दर
 2. प्रकार
 3. समान
 4. अनुसार

Question ID : 65497833161
Status : Not Answered
Chosen Option : --

Comprehension:

दिए गए गद्यांश में से कुछ शब्द हटा दिए गए हैं। संबंधित प्रश्नों में, प्रत्येक संख्या के लिए सबसे उपयुक्त विकल्प का चयन करें-

मैं दिल्ली हूँ। सबसे पहले पांडवों ने मुझे (1) _____ और नाम रखा- इन्द्रप्रस्थ। वास्तव में मेरा सौन्दर्य इंद्र की अलकापुरी के (2) _____ था। युग बदला। मैं गुर्जरा के (3) _____ हुई। मुगलों के शासन में मेरा (4) _____ बहुत बढ़ा। अंग्रेजों को भी मैं ही सबसे अधिक (5) _____ हुई, इसीलिए वे कलकत्ता से अपने मुख्य कार्यालयों को मेरे यहाँ ही ले आये।

SubQuestion No : 23

Q.23 गद्यांश के रिक्त स्थान (3) के लिए सर्वाधिक उपयुक्त शब्द होगा-

- Ans**
- 1. अन्दर
 - 2. अधीन
 - 3. ऊपर
 - 4. जैसी

Question ID : **65497833162**
Status : **Not Answered**
Chosen Option : --

Comprehension:

दिए गए गद्यांश में से कुछ शब्द हटा दिए गए हैं। संबंधित प्रश्नों में, प्रत्येक संख्या के लिए सबसे उपयुक्त विकल्प का चयन करें-

मैं दिल्ली हूँ। सबसे पहले पांडवों ने मुझे (1) _____ और नाम रखा- इन्द्रप्रस्थ। वास्तव में मेरा सौन्दर्य इंद्र की अलकापुरी के (2) _____ था। युग बदला। मैं गुर्जरा के (3) _____ हुई। मुगलों के शासन में मेरा (4) _____ बहुत बढ़ा। अंग्रेजों को भी मैं ही सबसे अधिक (5) _____ हुई, इसीलिए वे कलकत्ता से अपने मुख्य कार्यालयों को मेरे यहाँ ही ले आये।

SubQuestion No : 24

Q.24 गद्यांश के रिक्त स्थान (4) के लिए सर्वाधिक उपयुक्त शब्द होगा-

- Ans**
- 1. महत्त्व
 - 2. उजड़ना
 - 3. सजना
 - 4. उत्सव

Question ID : **65497833163**
Status : **Not Answered**
Chosen Option : --

Comprehension:

दिए गए गद्यांश में से कुछ शब्द हटा दिए गए हैं। संबंधित प्रश्नों में, प्रत्येक संख्या के लिए सबसे उपयुक्त विकल्प का चयन करें-

मैं दिल्ली हूँ। सबसे पहले पांडवों ने मुझे (1) _____ और नाम रखा- इन्द्रप्रस्थ। वास्तव में मेरा सौन्दर्य इंद्र की अलकापुरी के (2) _____ था। युग बदला। मैं गुर्वंश के (3) _____ हुई। मुगलों के शासन में मेरा (4) _____ बहुत बढ़ा। अंग्रेजों को भी मैं ही सबसे अधिक (5) _____ हुई, इसीलिए वे कलकत्ता से अपने मुख्य कार्यालयों को मेरे यहाँ ही ले आये।

SubQuestion No : 25

Q.25 गद्यांश के रिक्त स्थान (5) के लिए सर्वाधिक उपयुक्त शब्द होगा-

- Ans**
- 1. बुरी
 - 2. सुन्दर
 - 3. प्रिय
 - 4. अच्छी

Question ID : **65497833164**

Status : **Not Answered**

Chosen Option : --