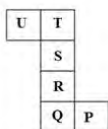


## Constable GD in CAPFs NIA SSF and Rifleman GD in Assam Rifles Examination 2021

|                |  |
|----------------|--|
| Roll Number    | <a href="http://www.GovtJobsAlert.In">www.GovtJobsAlert.In</a> |
| Candidate Name | <a href="http://www.GovtJobsAlert.In">www.GovtJobsAlert.In</a> |
| Venue Name     | Skymoon IT Point Pvt. Ltd                                      |
| Exam Date      | 08/12/2021   |
| Exam Time :    | 4:00 PM - 5:30 PM  |
| Subject        | Constable GD 2021  |

### Section : Part A General Intelligence and Reasoning

Q.1 जब निम्नांकित आकृति को मोड़कर एक बॉक्स बनाया जाता है, तो कौन सा पृष्ठ, पृष्ठ R के सटा हुआ नहीं हो सकता है?



- Ans
- 1. P
  - 2. T
  - 3. U
  - 4. S

Question ID : 65497835216  
Status : Answered  
Chosen Option : 2

Q.2 उस विकल्प का चयन करें जो तीसरी संख्या से उसी प्रकार संबंधित है, जिस प्रकार दूसरी संख्या पहली संख्या से संबंधित है।

38 : 6 :: 83 : ?

- Ans
- 1. 10
  - 2. 8
  - 3. 9
  - 4. 7

Question ID : 65497835214  
Status : Answered  
Chosen Option : 3

Q.3 यदि 'H', 'x' को, 'J', 'z' को, 'D', '4' को और 'Y', '3' को निरूपित करता है, तो निम्नलिखित व्यंजक का मान क्या होगा?

105 J 29 H 96 Y 16 D 84

- Ans
- 1. 108
  - 2. 15
  - 3. 78
  - 4. 69

Question ID : 65497835215  
Status : Answered  
Chosen Option : 2

Q.4 'गरम' का संबंध 'ठंडे' से ठीक उसी तरह है, जैसे 'भारी' का संबंध '\_\_\_\_\_ ' से है।

- Ans
- 1. कम
  - 2. हल्के
  - 3. छोटे
  - 4. बड़े

Question ID : 65497835206  
Status : Answered  
Chosen Option : 2

Q.5 एक निश्चित कूट भाषा में, RAMP को 3611332 के रूप में कूटबद्ध किया जाता है। उसी कूट भाषा में, DELL को किस रूप में कूटबद्ध किया जाएगा?

- Ans
- 1. 851214
  - 2. 852424
  - 3. 851224
  - 4. 810224

Question ID : 65497835210  
Status : Answered  
Chosen Option : 3

Q.6 चार अक्षर-समूह दिए गए हैं, जिनमें से तीन एक निश्चित तरीके से संगत है और एक असंगत है। असंगत अक्षर-समूह का चयन कीजिए।

- Ans
- 1. WYCI
  - 2. HJNT
  - 3. BDHN
  - 4. ZAEJ

Question ID : 65497835209  
Status : Answered  
Chosen Option : 4

Q.7 किसी निश्चित कूट भाषा में, MELON को TCSKU के रूप में लिखा जाता है और CHAMP को JFHIW के रूप में लिखा जाता है। उसी कूट भाषा में FAMISH को किस रूप में लिखा जाएगा?

- Ans  1. MYTEZB  
 2. NZSFYH  
 3. MYTEBZ  
 4. NXTEBY

Question ID : 65497835198  
Status : Answered  
Chosen Option : 1

Q.8 उस विकल्प का चयन करें, जो तीसरे अक्षर-समूह से उसी प्रकार संबंधित है, जिस प्रकार दूसरा अक्षर-समूह पहले अक्षर-समूह से संबंधित है।

FELT : PAVP :: SACK : ?

- Ans  1. CXNG  
 2. BWNH  
 3. CWMG  
 4. BXMH

Question ID : 65497835197  
Status : Answered  
Chosen Option : 3

Q.9 एक परिवार में सात व्यक्ति हैं। अभय, मोनू का पुत्र है। निकुंज, अंजलि का पुत्र है। मेघा और श्रेया राकेश की पुत्रियां हैं, राकेश की शादी अंजलि से हुई है। मोनू की शादी श्रेया से हुई है। अभय का राकेश से क्या संबंध है?



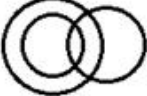

- Ans  1. बहनोई  
 2. नाती  
 3. पुत्र  
 4. दामाद

Question ID : 65497835199  
Status : Answered  
Chosen Option : 2

Q.10 उस वेन आरेख का चयन करें, जो निम्नलिखित वर्गों के बीच के संबंध को सबसे अच्छे तरीके से दर्शाता है।

पुरुष, पिता, डॉक्टर

Ans

1. 
2. 
3. 
4. 

Question ID : 65497835208  
Status : Answered  
Chosen Option : 3

Q.11 दिए गए पैटर्न का ध्यानपूर्वक अध्ययन करें और उस संख्या का चयन करें जो इसमें प्रश्नचिह्न (?) के स्थान पर आ सकती है।

16 14 18  
58 44 ?  
13 8 4

- Ans  1. 24  
 2. 36  
 3. 40  
 4. 44

Question ID : 65497835202  
Status : Answered  
Chosen Option : 4

Q.12 एक निश्चित कूट भाषा में, 'PAPER IS WHITE' को 'JH NX TRO', के रूप में लिखा जाता है, 'BOTTLES ARE WHITE' को 'HN NX TP' के रूप में लिखा जाता है और 'BOTTLES IS BROKEN' को 'HN TRO SNG' के रूप में लिखा जाता है। उसी कूट भाषा में 'PAPER' को किस रूप में लिखा जाएगा?

- Ans  1. NX  
 2. JH  
 3. HN  
 4. TRO

Question ID : 65497835200  
Status : Answered  
Chosen Option : 2

Q.13 उस सही विकल्प का चयन कीजिए, जो दिए गए शब्दों के उस क्रम को दर्शाता है, जिस क्रम में वे अंग्रेज़ी शब्दकोश में आते हैं।

1. Priceless
2. Pristine
3. Prison
4. Priority
5. Prejudice

Ans ✓ 1. 5, 1, 4, 3, 2

✗ 2. 5, 1, 4, 2, 3

✗ 3. 5, 4, 1, 3, 2

✗ 4. 1, 3, 4, 2, 5

Question ID : 65497835218  
Status : Answered  
Chosen Option : 1

Q.14 दिए गए संयोजन के सही दर्पण प्रतिबिंब का चयन करें, जब दर्पण को दिखाए गए अनुसार PQ पर रखा गया है।

SHOPPAN  
P  
Q

Ans ✗ 1. SHOPPAN

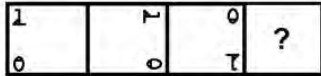
✗ 2. SHOPPAN

✗ 3. SHOPPAN

✓ 4. SHOPPAN

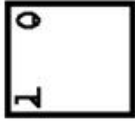
Question ID : 65497835212  
Status : Answered  
Chosen Option : 4

Q.15 दिए गए विकल्पों में से उस आकृति का चयन कीजिए, जो निम्न आकृति श्रृंखला में प्रश्नवाचक चिन्ह (?) के स्थान पर आ सकती है।

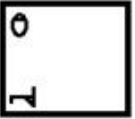


Ans

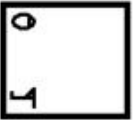
✓ 1.



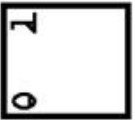
✗ 2.



✗ 3.



✗ 4.



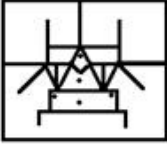
Question ID : 65497835221  
Status : Answered  
Chosen Option : 1

Q.16 उस विकल्प का चयन करें जिसमें दी गई आकृति अंतर्निहित है  
(आकृति को घुमाने की अनुमति नहीं है)।

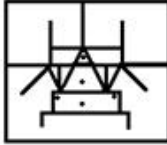


Ans

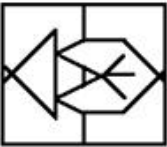
1.



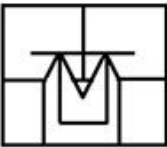
2.



3.



4.



Question ID : 65497835217  
Status : Answered  
Chosen Option : 2

Q.17 अक्षरों के उस संयोजन का चयन कीजिए, जिसे दी गई श्रृंखला के रिक्त स्थानों में क्रमबद्ध रूप से रखने पर श्रृंखला पूर्ण हो जाएगी।

Q \_ T J \_ Q R \_ J C \_ R T \_ C Q \_ T \_ C

Ans

1. CRTQJRJ

2. RCJQJRR

3. RCTQJRJ

4. RCQTJRJ

Question ID : 65497835219  
Status : Answered  
Chosen Option : 3

Q.18 दिए गए विकल्पों में से उस संख्या का चयन कीजिए जो निम्न श्रेणी में प्रश्नवाचक चिह्न (?) के स्थान पर आएगी।

10, 11, 19, 46, 110, ?

Ans  1. 235

2. 240

3. 225

4. 234

Question ID : 65497835211

Status : Answered

Chosen Option : 1

Q.19 निम्न विकल्पों में से उस अक्षर-समूह का चयन कीजिए जो दी गई श्रृंखला में प्रश्नचिह्न (?) के स्थान पर आ सकता है।

AD, EH, ?, MP

Ans  1. IJ

2. KJ

3. IL

4. JK

Question ID : 65497835205

Status : Answered

Chosen Option : 3

Q.20 जब किसी संख्या को उसकी पूर्ववर्ती संख्या के तिगुने में जोड़ा जाता है, और इन दोनों संख्याओं के योग को 5 से विभाजित किया जाता है, तो परिणाम के रूप में 13 प्राप्त होता है। वह संख्या ज्ञात कीजिए।

Ans  1. 15

2. 17

3. 7

4. 13

Question ID : 65497835203

Status : Answered

Chosen Option : 2

Q.21 एक कक्षा में कुल 30 छात्र हैं। आदित्य योग्यता क्रम में ऊपर की ओर से 11वें रैंक पर है। नीचे की ओर से आदित्य की रैंक क्या है?

Ans  1. 17वीं

2. 20वीं

3. 18वीं

4. 19वीं

Question ID : 65497835207

Status : Answered

Chosen Option : 2



Q.22 दिए गए कथनों और निष्कर्षों को ध्यान से पढ़ें। यह मानते हुए कि कथनों में दी गई जानकारी सत्य है, भले ही यह सामान्य रूप से ज्ञात तथ्यों से भिन्न प्रतीत होती हो, यह निर्णय लें कि दिए गए निष्कर्षों में से कौन से निष्कर्ष कथनों का तार्किक रूप से अनुसरण करते हैं?

कथन:

कुछ ऊन कपड़े हैं।  
सभी कपड़े नरम हैं।

निष्कर्ष:

I. सभी ऊन नरम हैं।  
II. कुछ ऊन नरम हैं।

Ans  1. निष्कर्ष I और II दोनों अनुसरण करते हैं।

2. केवल निष्कर्ष II अनुसरण करता है।

3. न तो निष्कर्ष I और न ही II अनुसरण करता है।

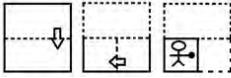
4. केवल निष्कर्ष I अनुसरण करता है।

Question ID : 65497835201

Status : Answered

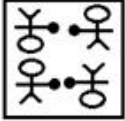
Chosen Option : 2

Q.23 नीचे दी गई आकृतियों में कागज़ के एक टुकड़े को मोड़ने और मोड़े गए कागज़ को काटने के तरीके का क्रम दर्शाया गया है। कागज़ को खोले जाने पर वह कैसा दिखाई देगा?

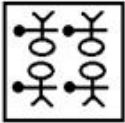


Ans

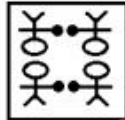
1.



2.



3.



4.



Question ID : 65497835204

Status : Answered

Chosen Option : 3

Q.24 उस संख्या की पहचान करें, जो निम्नलिखित श्रेणी से संबंधित नहीं है।

7, 7, 21, 105, 730, 6615

Ans  1. 105

2. 730

3. 6615

4. 21

Question ID : 65497835220

Status : Answered

Chosen Option : 2

Q.25 आठ मित्र A, B, C, D, E, F, G और H एक वृत्ताकार मेज के परितः केंद्र की ओर मुँह किए हुए बैठे हैं। लेकिन यह आवश्यक नहीं कि वे उपरोक्त क्रम में ही बैठे हों। F, D के ठीक बगल में है। C, A के दाईं ओर दूसरे स्थान पर है। A और D के बीच में केवल दो व्यक्ति हैं। E और G अगल-बगल बैठे हैं, तथा H और F भी अगल-बगल बैठे हैं। B, F के बाईं ओर तीसरे स्थान पर है। D, G के बाईं ओर तीसरे स्थान पर है। यदि B से दक्षिणावर्त दिशा में देखा जाए, तो B और G के बीच में कितने व्यक्ति बैठे हैं?

Ans  1. तीन

2. एक

3. चार

4. दो

Question ID : 65497835213

Status : Answered

Chosen Option : 4

Section : Part B General Knowledge and General Awareness

Q.1 1757 में प्लासी का युद्ध किसने जीता था?

Ans  1. ब्रिटिश ईस्ट इंडिया कंपनी

2. बंगाल के नवाब

3. मराठा

4. अवध के नवाब

Question ID : 65497835223

Status : Answered

Chosen Option : 1

Q.2 न्याय के सामान्य प्रशासन पर जब सैन्य प्राधिकरण का नियंत्रण हो जाता है, तब शासन की जो प्रणाली प्रभावी होती है उसे \_\_\_\_\_ कहा जाता है।

Ans  1. सैनिक शासन

2. तख्ता पलट

3. राज तंत्र

4. तानाशाही

Question ID : 65497835230

Status : Answered

Chosen Option : 1

Q.3 अगस्त 2021 में, ग्रीष्मकालीन ओलिंपिक खेल 2020 कहां आयोजित किए गए?

- Ans  1. टोक्यो  
 2. पेरिस  
 3. लॉस एंजिल्स  
 4. बीजिंग

Question ID : 65497835236  
Status : Answered  
Chosen Option : 1

Q.4 \_\_\_\_\_ स्थापत्य कला की एक शैली है जिसमें नागर और द्रविड़ शैली के तत्वों का समावेश है।

- Ans  1. प्रशस्ति  
 2. संहिता  
 3. वेसर  
 4. तोरण

Question ID : 65497835229  
Status : Answered  
Chosen Option : 3

Q.5 दिल्ली में लाल किले का निर्माण निम्नलिखित में से किसने कराया था?

- Ans  1. शाहजहां  
 2. जहांगीर  
 3. औरंगज़ेब  
 4. अकबर

Question ID : 65497835224  
Status : Answered  
Chosen Option : 1

Q.6 निम्नलिखित में से कौन सा पशु जुगाली नहीं करता है?

- Ans  1. गाय  
 2. हिरण  
 3. भैंस  
 4. सूअर

Question ID : 65497835241  
Status : Answered  
Chosen Option : 4

Q.7 मिट्टी की नमी को बनाए रखने के लिए, पौधों के बीच की खाली ज़मीन को कार्बनिक पदार्थों की परत से ढकने की प्रक्रिया को \_\_\_\_\_ के नाम से जाना जाता है।

- Ans  1. कम्पोस्टिंग  
 2. मैन्योरिंग  
 3. मल्विंग  
 4. फर्टिलाइजिंग

Question ID : 65497835237  
Status : Answered  
Chosen Option : 3

Q.8 होपमैन विश्व कप 2019 निम्नलिखित में से किस देश ने जीता था?

- Ans  1. स्विट्जरलैंड  
 2. जर्मनी  
 3. ऑस्ट्रेलिया  
 4. संयुक्त राज्य अमेरिका

Question ID : 65497835235  
Status : Answered  
Chosen Option : 2

Q.9 'तेय्यम' एक प्रसिद्ध आनुष्ठानिक कलारूप है जिसका उद्भव \_\_\_\_\_ राज्य में हुआ था।

- Ans  1. झारखंड  
 2. केरल  
 3. उत्तराखंड  
 4. मणिपुर

Question ID : 65497835232  
Status : Answered  
Chosen Option : 2

Q.10 संयुक्त राष्ट्र ने वार्षिक विश्व शौचालय दिवस के रूप में \_\_\_\_\_ को चिह्नित किया है।

- Ans  1. 16 अप्रैल  
 2. 14 जनवरी  
 3. 17 सितंबर  
 4. 19 नवंबर

Question ID : 65497835242  
Status : Answered  
Chosen Option : 1

Q.11 बौद्ध त्यौहार 'सोंगक्रान' निम्न में से किस भारतीय राज्य में प्रमुखतः मनाया जाता है?

- Ans  1. अरुणाचल प्रदेश  
 2. झारखंड  
 3. हिमाचल प्रदेश  
 4. तमिलनाडु

Question ID : 65497835246  
Status : Answered  
Chosen Option : 1

Q.12 1982 में, दिल्ली में आयोजित हुए एशियाई खेलों में शुभंकर के रूप में निम्न में से किसका उपयोग किया गया था?

- Ans  1. भिन भिन - स्वर्ण का रंगीन पक्षी  
 2. अतुंग- बावन हिरण  
 3. काका - एक सींग वाला जवन राइनो  
 4. अप्पू - हाथी का बच्चा

Question ID : 65497835238  
Status : Answered  
Chosen Option : 3

Q.13 12वें ब्रिक्स (ब्राजील, रूस, भारत, चीन और दक्षिण अफ्रीका) शिखर सम्मेलन का आभासी आयोजन की अध्यक्षता में किया गया था।

- Ans
- 1. भारतीय प्रधानमंत्री नरेंद्र मोदी
  - 2. रूसी राष्ट्रपति व्लादिमीर पुतिन
  - 3. ब्राजील के राष्ट्रपति जेर बोल्सोनारो
  - 4. चीनी राष्ट्रपति शी जिनपिंग

Question ID : 65497835226  
Status : Answered  
Chosen Option : 3

Q.14 निम्नलिखित में से किस राज्य ने श्रेणी-1 के अंतर्गत 2020 का ई-पंचायत का प्रथम पुरस्कार जीता था?

- Ans
- 1. कर्नाटक
  - 2. हिमाचल प्रदेश
  - 3. राजस्थान
  - 4. महाराष्ट्र

Question ID : 65497835234  
Status : Answered  
Chosen Option : 3

Q.15 \_\_\_\_\_ वित्त आयोग का गठन 27 नवंबर 2017 को भारत के संविधान के अनुच्छेद 280 के संदर्भ में किया गया था।

- Ans
- 1. 15वें
  - 2. 14वें
  - 3. 16वें
  - 4. 12वें

Question ID : 65497835239  
Status : Answered  
Chosen Option : 1

Q.16 किन्नौर में हंगरंग घाटी के शैलखार और चांगो के साथ स्पीति घाटी के अंतिम दक्षिण-पूर्वी छोर को निम्नलिखित में से कौन-सा दर्रा जोड़ता है?

- Ans
- 1. सिरमा ला
  - 2. कुली ला
  - 3. चक्षचन ला
  - 4. लेपचा ला

Question ID : 65497835233  
Status : Not Answered  
Chosen Option : --

Q.17 भारतीय रिजर्व बैंक के आधिकारिक चिन्ह में \_\_\_\_\_ शामिल है।

- Ans  1. ताड़ का वृक्ष  
 2. पीपल का वृक्ष  
 3. गुलाब का वृक्ष  
 4. बरगद का वृक्ष

Question ID : 65497835228  
Status : Answered  
Chosen Option : 4

Q.18 पानीपत की तीसरी लड़ाई \_\_\_\_\_ को लड़ी गई थी।

- Ans  1. 14 जनवरी 1761  
 2. 31 अगस्त 1796  
 3. 26 नवंबर 1773  
 4. 8 अप्रैल 1782

Question ID : 65497835245  
Status : Answered  
Chosen Option : 1

Q.19 भारतीय संविधान का निम्नलिखित में से कौन सा अनुच्छेद, राज्य को अंतरराष्ट्रीय शांति और सुरक्षा की अभिवृद्धि का निर्देश देता है?

- Ans  1. अनुच्छेद 48  
 2. अनुच्छेद 51  
 3. अनुच्छेद 50  
 4. अनुच्छेद 40

Question ID : 65497835225  
Status : Answered  
Chosen Option : 2

Q.20 नवंबर 2020 में, निम्नलिखित में से किस बैंक के साथ भारत सरकार ने मेघालय के परिवहन क्षेत्र में सुधार और आधुनिकीकरण के लिए \$120 मिलियन की परियोजना पर हस्ताक्षर किए थे?

- Ans  1. AIIB  
 2. NDB  
 3. IMF  
 4. विश्व बैंक

Question ID : 65497835231  
Status : Answered  
Chosen Option : 1

Q.21 'लाइफ मंत्रास (Life Mantras)' \_\_\_\_\_ द्वारा लिखित एक पुस्तक है।

- Ans
- 1. रामलिंगा राजू
  - 2. सुब्रत रॉय सहारा
  - 3. नरेश गोयल
  - 4. सुभाष चंद्र

Question ID : 65497835243  
Status : Answered  
Chosen Option : 4

Q.22 \_\_\_\_\_ का वंश नाम (genus name) कुकुर्बिता (Cucurbita) है।

- Ans
- 1. कद्दू
  - 2. आलू
  - 3. बैंगन
  - 4. टमाटर

Question ID : 65497835244  
Status : Answered  
Chosen Option : 2

Q.23 \_\_\_\_\_ में स्थित विश्व शांति स्तूप की 50वीं वर्षगांठ 2019 में मनाई गई।

- Ans
- 1. अमरावती
  - 2. सारनाथ
  - 3. राजगीर
  - 4. सांची

Question ID : 65497835240  
Status : Answered  
Chosen Option : 4

Q.24 निम्नलिखित में से किस फसल के उत्पादन के लिए प्रति हेक्टेयर अधिकतम पानी की आवश्यकता होती है?

- Ans
- 1. आलू
  - 2. सूरजमुखी
  - 3. गन्ना
  - 4. कपास

Question ID : 65497835222  
Status : Answered  
Chosen Option : 2

Q.25 निम्नलिखित में से किसे 'उस बिंदु के रूप में निर्धारित किया गया है जहां संतुलित मूल्य के साथ किसी उत्पाद हेतु आपूर्ति, मांग के बराबर होती है'?

- Ans
- 1. मांग प्रत्यास्थता
  - 2. आपूर्ति वक्र
  - 3. मांग वक्र
  - 4. बाज़ार संतुलन

Question ID : 65497835227  
Status : Answered  
Chosen Option : 1

Section : Part C Elementary Mathematics

Q.1 कोई फल विक्रेता ₹68 प्रति किलोग्राम की दर से सेब बेचता है जिससे उसे 15% की हानि होती है। प्रति किलोग्राम की किस दर से सेब बेचने पर उसे 10% का लाभ प्राप्त होगा?

- Ans
- 1. ₹88
  - 2. ₹90
  - 3. ₹92
  - 4. ₹80

Question ID : 65497835262  
Status : Answered  
Chosen Option : 1

Q.2 एक दुकानदार, एक सिलाई मशीन के अंकित मूल्य पर 14% की छूट देने के बाद, रियायती मूल्य पर 10% की छूट देता है। यदि अंतिम विक्रय मूल्य ₹3,483 है, तो अंकित मूल्य ज्ञात कीजिए।

- Ans
- 1. ₹3,800
  - 2. ₹4,600
  - 3. ₹4,200
  - 4. ₹4,500

Question ID : 65497835255  
Status : Answered  
Chosen Option : 4

Q.3 एक त्रिभुजाकार मैदान का क्षेत्रफल, जिसकी भुजाएँ 96 m, 110 m और 146 m हैं, एक वर्गाकार मैदान के क्षेत्रफल के बराबर है। वर्गाकार मैदान की भुजा (m में) ज्ञात करें।

- Ans
- 1.  $2\sqrt{660}$
  - 2.  $4\sqrt{330}$
  - 3.  $\sqrt{660}$
  - 4.  $\sqrt{330}$

Question ID : 65497835265  
Status : Answered  
Chosen Option : 2



Q.4 7 वर्ष पूर्व, अजय, उसकी पत्नी और उनके बच्चे की औसत आयु 42 वर्ष थी और 9 वर्ष पूर्व अजय की पत्नी और उनके बच्चे की औसत आयु 38 वर्ष थी। अजय की वर्तमान आयु यात कीजिए।

- Ans
- 1. 48 वर्ष
  - 2. 53 वर्ष
  - 3. 55 वर्ष
  - 4. 52 वर्ष

Question ID : 65497835254  
Status : Answered  
Chosen Option : 2

Q.5 यदि  $12389x6378y$  ग्यारह अंकों की एक ऐसी संख्या है जो 72 से विभाज्य है, तो  $\sqrt{7x+7y}$  का मान ज्ञात करें।

- Ans
- 1. 6
  - 2. 8
  - 3. 7
  - 4. 9

Question ID : 65497835252  
Status : Answered  
Chosen Option : 3

Q.6 अवरोही क्रम में ली गई आठ क्रमागत विषम संख्याओं का औसत 82 है। प्रथम चार संख्याओं का औसत ज्ञात करें।

- Ans
- 1. 86
  - 2. 78
  - 3. 84
  - 4. 88

Question ID : 65497835267  
Status : Answered  
Chosen Option : 2

Q.7 अमन स्थान A से स्थान B तक 75 km/h की औसत चाल से यात्रा करता है। B तक पहुंचने के लिए, उसने दूरी के पहले 60% भाग की यात्रा कुल यात्रा में लगने वाले समय के  $\frac{8}{15}$  भाग में पूर्ण की और शेष दूरी उसने  $x$  km/h की नियत चाल से तय की।  $x$  का मान निकटतम पूर्णांक में ज्ञात कीजिए।

- Ans
- 1. 65
  - 2. 64
  - 3. 67
  - 4. 63

Question ID : 65497835271  
Status : Answered  
Chosen Option : 2

**Q.8** एक निश्चित राशि पर  $r\%$  की वार्षिक दर से  $t$  वर्षों में प्राप्त साधारण ब्याज उस राशि का  $\frac{4}{25}$  है।  $r$  का मान ज्ञात करें।

- Ans**
- 1. 6
  - 2. 8
  - 3. 5
  - 4. 4

Question ID : **65497835264**  
Status : **Answered**  
Chosen Option : 4

**Q.9** 18 वस्तुओं का विक्रय मूल्य, 28 वस्तुओं के क्रय मूल्य के बराबर है। लाभ या हानि प्रतिशत कितना होगा?

- Ans**
- 1. हानि  $32\frac{5}{7}\%$
  - 2. हानि  $53\frac{5}{9}\%$
  - 3. लाभ  $55\frac{5}{9}\%$
  - 4. लाभ  $35\frac{5}{7}\%$

Question ID : **65497835250**  
Status : **Answered**  
Chosen Option : 3

**Q.10** A और B एक कार्य को क्रमशः 18 दिन और 10 दिन में कर सकते हैं। उन्होंने 5 दिन तक एक साथ कार्य किया, जिसके बाद B की जगह पर C आ गया और कार्य अगले 3 दिन में समाप्त हो गया। C अकेले कार्य करने में कितना समय लेगा?

- Ans**
- 1. 52 दिन
  - 2. 48 दिन
  - 3. 45 दिन
  - 4. 54 दिन

Question ID : **65497835257**  
Status : **Answered**  
Chosen Option : 4

**Q.11** दो विलयनों A और B में अम्ल और जल का अनुपात क्रमशः 4 : 3 और 9 : 5 है। विलयन A की चार लीटर मात्रा को विलयन B की पांच लीटर मात्रा में मिलाया जाता है। परिणामी मिश्रण में अम्ल और जल का अनुपात ज्ञात करें।

- Ans**
- 1. 7 : 4
  - 2. 4 : 7
  - 3. 11 : 7
  - 4. 9 : 11

Question ID : **65497835268**  
Status : **Answered**  
Chosen Option : 3

**Q.12** विशाल ने अपने वेतन का 12% प्रधानमंत्री राहत कोष में दान देने का निर्णय लिया। दान वाले दिन, उसने अपना निर्णय बदला और ₹4,200 का दान दिया, जो उस राशि का 70% था, जो उसने पहले दान देने का निर्णय लिया था। उसका मासिक वेतन ज्ञात कीजिए।

- Ans**
- ✓ 1. ₹50,000
  - ✗ 2. ₹52,000
  - ✗ 3. ₹48,000
  - ✗ 4. ₹60,000

Question ID : 65497835256  
Status : Answered  
Chosen Option : 1

**Q.13** एक व्यक्ति, समान दूरियां 5 km/h, 8 km/h और 10 km/h की चाल से तय करता है, और कुल 61 मिनट 12 सेकंड का समय लेता है। व्यक्ति द्वारा तय की गई कुल दूरी ज्ञात कीजिए।

- Ans**
- ✗ 1. 7.5 km
  - ✗ 2. 6.6 km
  - ✗ 3. 5.7 km
  - ✓ 4. 7.2 km

Question ID : 65497835258  
Status : Answered  
Chosen Option : 4

**Q.14** एक संख्या का  $\frac{1}{7}$  एक दूसरी संख्या के  $\frac{2}{5}$  के बराबर है। पहली संख्या और दूसरी संख्या का अनुपात ज्ञात करें।

- Ans**
- ✓ 1. 14 : 5
  - ✗ 2. 5 : 14
  - ✗ 3. 5 : 21
  - ✗ 4. 15 : 28

Question ID : 65497835247  
Status : Answered  
Chosen Option : 1

**Q.15** ₹8,400 की राशि पर, एक निश्चित वार्षिक साधारण ब्याज की दर से  $3\frac{1}{2}$  वर्षों में प्राप्त मिश्रधन ₹10,899 है। समान राशि पर दोगुनी वार्षिक साधारण ब्याज दर से  $4\frac{2}{3}$  वर्षों में प्राप्त मिश्रधन ज्ञात करें।

- Ans**
- ✓ 1. ₹15,064
  - ✗ 2. ₹11,732
  - ✗ 3. ₹14,672
  - ✗ 4. ₹7,532

Question ID : 65497835269  
Status : Answered  
Chosen Option : 1

Q.16  $2\frac{1}{36} \div \frac{5}{9}$  of  $(5\frac{1}{10} + 2\frac{1}{5}) + \frac{3}{5} \div 4\frac{1}{5}$  का मान कितना होगा?

- Ans
- 1.  $\frac{9}{14}$
  - 2.  $\frac{5}{14}$
  - 3.  $\frac{11}{14}$
  - 4.  $\frac{1}{14}$

Question ID : 65497835249  
Status : Answered  
Chosen Option : 1

Q.17 एक कपड़े के वर्गाकार टुकड़े का क्षेत्रफल  $841 \text{ cm}^2$  है। इसके प्रत्येक विकर्ण की लंबाई कितनी होगी?

- Ans
- 1.  $28\sqrt{2} \text{ cm}$
  - 2.  $58 \text{ cm}$
  - 3.  $29\sqrt{2} \text{ cm}$
  - 4.  $29 \text{ cm}$

Question ID : 65497835248  
Status : Answered  
Chosen Option : 3

Q.18 A और B की वर्तमान आयु का अनुपात  $14 : 17$  है। अब से आठ वर्ष बाद, उनकी आयु का अनुपात  $6 : 7$  होगा। उनकी वर्तमान आयु के बीच अंतर (वर्षों में) ज्ञात करें।

- Ans
- 1. 12
  - 2. 6
  - 3. 3
  - 4. 9

Question ID : 65497835263  
Status : Answered  
Chosen Option : 2

**Q.19** A, B का 120% है और B, C का 85% है। यदि A, B और C का योग  $143\frac{1}{2}$  है, तो  $C - 4B + 2A$  का मान ज्ञात करें।

- Ans**
- 1. 20
  - 2. 15
  - 3. -10
  - 4. -18

Question ID : 65497835253

Status : Answered

Chosen Option : 4

**Q.20** श्यामलाल साधारण ब्याज पर कुछ धनराशि उधार देता है। वह मूलधन की गणना के लिए हर छह महीने में ब्याज जोड़ देता है। यदि वह 5% का ब्याज वसूल रहा है, तो प्रभावी वार्षिक ब्याज दर (दशमलव के दो स्थानों तक सही) कितनी हो जाएगी?

- Ans**
- 1. 5.06%
  - 2. 7.3%
  - 3. 9.3%
  - 4. 4.61%

Question ID : 65497835261

Status : Answered

Chosen Option : 1

**Q.21**  $\left(\frac{3}{4} - \frac{1}{3} \div \frac{1}{3} \text{ of } \frac{9}{5}\right) \div \left(\frac{7}{16} \div \frac{1}{2} \text{ of } \frac{1}{5}\right) \text{ of } \frac{4}{15} - \frac{2}{3}$  का मान ज्ञात कीजिए।

- Ans**
- 1.  $\frac{3}{4}$
  - 2.  $-\frac{3}{2}$
  - 3.  $-\frac{1}{2}$
  - 4.  $\frac{1}{4}$

Question ID : 65497835270

Status : Answered

Chosen Option : 3

**Q.22** A एक काम को 18 दिन में कर सकता है और B इसी काम को 30 दिन में कर सकता है। इन दोनों ने मिलकर 6 दिन तक काम किया। बचे हुए काम को C ने अकेले 7 दिन में पूरा किया। A, B और C मिलकर इसी काम को कितने दिन में पूरा करेंगे?

Ans

1.  $11\frac{3}{7}$

2.  $9\frac{3}{7}$

3.  $7\frac{3}{7}$

4.  $6\frac{3}{7}$

Question ID : 65497835251

Status : Answered

Chosen Option : 4

**Q.23** 15% और 25% की दो क्रमिक छूटों के समतुल्य एकल छूट कितनी है?

Ans

1. 26.25%

2. 34.25%

3. 30.25%

4. 36.25%

Question ID : 65497835259

Status : Answered

Chosen Option : 4

**Q.24** मान लीजिए x चार अंकों की बड़ी से बड़ी ऐसी संख्या है, जिसे 9, 12, 15, 20, 24 और 72 से विभाजित करने पर प्रत्येक स्थिति में शेषफल 3 प्राप्त होता है। x के अंकों का योग क्या होगा?

Ans

1. 17

2. 21

3. 27

4. 19

Question ID : 65497835266

Status : Answered

Chosen Option : 2

**Q.25** एक व्यक्ति ने ₹448 में 112 की दर से कुछ खिलौने खरीदे और ₹81 में 9 खिलौने की दर से बेच दिए।  
उसका लाभ प्रतिशत ज्ञात करें।

- Ans**
- 1. 100%
  - 2. 120%
  - 3. 90%
  - 4. 125%

Question ID : **65497835260**  
Status : **Answered**  
Chosen Option : **4**

Section : **Part D English**

**Q.1** Select the most appropriate option that can substitute the underlined word in the given sentence. If there is no need to substitute it, select 'No substitution required'.

I'm going to Mumbai next week. A friend of myself has invited me to her wedding.

- Ans**
- 1. friend of me
  - 2. one of friend
  - 3. No substitution required
  - 4. friend of mine

Question ID : **65497835285**  
Status : **Not Answered**  
Chosen Option : --

**Q.2** Select the most appropriate option to fill in the blank.

Too much of television watching can \_\_\_\_\_ the thinking process of a child.

- Ans**
- 1. hamper
  - 2. interrogate
  - 3. instigate
  - 4. horrify

Question ID : **65497835284**  
Status : **Not Answered**  
Chosen Option : --

**Q.3** Select the option that can be used as a one-word substitute for the given group of words.

An animal that preys on other animals

- Ans**
- 1. Hostile
  - 2. Predator
  - 3. Omnivore
  - 4. Victim

Question ID : **65497835290**  
Status : **Not Answered**  
Chosen Option : --

**Q.4** Select the option that will improve the underlined part of the given sentence. In case no improvement is needed, select 'No improvement required'.

The captain and his sailors was surrounding by pirates.

- Ans
- 1. was surround
  - 2. were surrounded
  - 3. were surrounding
  - 4. No improvement required

Question ID : **65497835279**  
Status : **Not Answered**  
Chosen Option : --

**Q.5** Select the most appropriate synonym of the given word.

**Amalgam**

- Ans
- 1. Distance
  - 2. Monograph
  - 3. Mixture
  - 4. Telegram

Question ID : **65497835282**  
Status : **Not Answered**  
Chosen Option : --

**Q.6** Select the option that can be used as a one-word substitute for the given group of words.

The doctor who specialises in the study or treatment of heart diseases and heart abnormalities

- Ans
- 1. Ophthalmologist
  - 2. Neurologist
  - 3. Cardiologist
  - 4. Dermatologist

Question ID : **65497835283**  
Status : **Not Answered**  
Chosen Option : --

**Q.7** Select the INCORRECTLY spelt word.

- Ans
- 1. Pityful
  - 2. Tactful
  - 3. Guilty
  - 4. Plead

Question ID : **65497835291**  
Status : **Not Answered**  
Chosen Option : --



**Q.8** The following sentence has been divided into parts. One of them may contain an error. Select the part that contains the error from the given options. If you don't find any error, select 'No error' as your answer.

I am wanting / to give Avika / a book on her birthday.

- Ans**
- 1. to give Avika
  - 2. No error
  - 3. a book on her birthday
  - 4. I am wanting

Question ID : **65497835272**  
Status : **Not Answered**  
Chosen Option : --

**Q.9** Select the most appropriate meaning of the given idiom.

To be off the hook

- Ans**
- 1. To be in trouble
  - 2. To be trapped
  - 3. To be close to the target
  - 4. To escape a difficult situation

Question ID : **65497835280**  
Status : **Not Answered**  
Chosen Option : --

**Q.10** Select the most appropriate option to fill in the blank.

Preparing for an examination needs good planning and \_\_\_\_\_.

- Ans**
- 1. arrogance
  - 2. mortality
  - 3. lethargy
  - 4. confidence

Question ID : **65497835277**  
Status : **Not Answered**  
Chosen Option : --

**Q.11** Select the most appropriate synonym of the given word.

Concise

- Ans**
- 1. Lengthy
  - 2. Short
  - 3. Fine
  - 4. Abrupt

Question ID : **65497835273**  
Status : **Not Answered**  
Chosen Option : --

**Q.12** Select the **INCORRECTLY** spelt word.

- Ans  1. Conference  
 2. Presense  
 3. Reference  
 4. Difference

Question ID : **65497835286**  
Status : **Not Answered**  
Chosen Option : --

**Q.13** The following sentence has been split into four segments. Identify the segment that contains a grammatical error.

Treasure Island is / always been / my favourite book / right from my childhood days.

- Ans  1. my favourite book  
 2. right from my childhood days  
 3. Treasure Island is  
 4. always been

Question ID : **65497835281**  
Status : **Not Answered**  
Chosen Option : --

**Q.14** Select the option that can be used as a one-word substitute for the given group of words.

A disease which affects large populations at the same time

- Ans  1. Epidemic  
 2. Equinox  
 3. Endemic  
 4. Contagious

Question ID : **65497835275**  
Status : **Not Answered**  
Chosen Option : --

**Q.15** Select the most appropriate meaning of the given idiom.

Odd man out

- Ans  1. Person having no knowledge  
 2. Person with a hereditary disease  
 3. Person who is useless  
 4. Person who doesn't fit into a group

Question ID : **65497835276**  
Status : **Not Answered**  
Chosen Option : --

Q.16 Select the most appropriate ANTONYM of the given word.

Emerge

Ans  1. Disappear

2. Arrive

3. Flow

4. Rise

Question ID : 65497835278

Status : Not Answered

Chosen Option : --

Q.17 Select the most appropriate option to fill in the blank.

Unemployment has been the most \_\_\_\_\_ result of recession.

Ans  1. public

2. eminent

3. obvious

4. awkward

Question ID : 65497835287

Status : Not Answered

Chosen Option : --

Q.18 Select the most appropriate ANTONYM of the given word.

Specific

Ans  1. General

2. Exact

3. Limited

4. Different

Question ID : 65497835289

Status : Not Answered

Chosen Option : --

Q.19 The following sentence has been divided into parts. One of them may contain an error. Select the part that contains the error from the given options. If you don't find any error, mark 'No error' as your answer.

Rajeev has / extended his leave / at one more week.

Ans  1. No error

2. at one more week

3. extended his leave

4. Rajeev has

Question ID : 65497835288

Status : Not Answered

Chosen Option : --

**Q.20** Select the most appropriate option that can substitute the underlined word in the given sentence.

He suddenly stopped the car and the conjuring of the brakes irritated us.

- Ans  1. beseeching  
 2. stacking  
 3. screeching  
 4. snarling

Question ID : 65497835274  
Status : Not Answered  
Chosen Option : --

**Comprehension:**

In the following passage, some words have been deleted. Read the passage carefully and select the most appropriate option to fill in each blank.

Listening to Mozart can significantly increase your intelligence, (1)\_\_\_\_\_ to a research in America. Unfortunately, (2)\_\_\_\_\_ effect is temporary. It only (3)\_\_\_\_\_ for 15 minutes. Dr Frances Rauscher (4)\_\_\_\_\_ his colleagues at the University of California (5)\_\_\_\_\_ the findings in the journal 'Nature'.

**SubQuestion No : 21**

**Q.21** Select the most appropriate option to fill in blank no.1.

- Ans  1. allowing  
 2. according  
 3. awarding  
 4. acceding

Question ID : 65497835293  
Status : Not Answered  
Chosen Option : --

**Comprehension:**

In the following passage, some words have been deleted. Read the passage carefully and select the most appropriate option to fill in each blank.

Listening to Mozart can significantly increase your intelligence, (1)\_\_\_\_\_ to a research in America. Unfortunately, (2)\_\_\_\_\_ effect is temporary. It only (3)\_\_\_\_\_ for 15 minutes. Dr Frances Rauscher (4)\_\_\_\_\_ his colleagues at the University of California (5)\_\_\_\_\_ the findings in the journal 'Nature'.

**SubQuestion No : 22**

**Q.22** Select the most appropriate option to fill in blank no.2.

- Ans  1. the  
 2. a  
 3. one  
 4. an

Question ID : 65497835294  
Status : Not Answered  
Chosen Option : --

**Comprehension:**

In the following passage, some words have been deleted. Read the passage carefully and select the most appropriate option to fill in each blank.

Listening to Mozart can significantly increase your intelligence, (1) \_\_\_\_\_ to a research in America. Unfortunately, (2) \_\_\_\_\_ effect is temporary. It only (3) \_\_\_\_\_ for 15 minutes. Dr Frances Rauscher (4) \_\_\_\_\_ his colleagues at the University of California (5) \_\_\_\_\_ the findings in the journal 'Nature'.

**SubQuestion No : 23**

**Q.23 Select the most appropriate option to fill in blank no.3.**

- Ans**
- 1. lasts
  - 2. is lasting
  - 3. last
  - 4. lasted

Question ID : **65497835295**  
Status : **Not Answered**  
Chosen Option : --

**Comprehension:**

In the following passage, some words have been deleted. Read the passage carefully and select the most appropriate option to fill in each blank.

Listening to Mozart can significantly increase your intelligence, (1) \_\_\_\_\_ to a research in America. Unfortunately, (2) \_\_\_\_\_ effect is temporary. It only (3) \_\_\_\_\_ for 15 minutes. Dr Frances Rauscher (4) \_\_\_\_\_ his colleagues at the University of California (5) \_\_\_\_\_ the findings in the journal 'Nature'.

**SubQuestion No : 24**

**Q.24 Select the most appropriate option to fill in blank no.4.**

- Ans**
- 1. so
  - 2. and
  - 3. also
  - 4. but

Question ID : **65497835296**  
Status : **Not Answered**  
Chosen Option : --

**Comprehension:**

In the following passage, some words have been deleted. Read the passage carefully and select the most appropriate option to fill in each blank.

Listening to Mozart can significantly increase your intelligence, (1) \_\_\_\_\_ to a research in America. Unfortunately, (2) \_\_\_\_\_ effect is temporary. It only (3) \_\_\_\_\_ for 15 minutes. Dr Frances Rauscher (4) \_\_\_\_\_ his colleagues at the University of California (5) \_\_\_\_\_ the findings in the journal 'Nature'.

**SubQuestion No : 25**

**Q.25 Select the most appropriate option to fill in blank no.5.**

- Ans**
- 1. resulted
  - 2. reduced
  - 3. repeated
  - 4. reported

Question ID : **65497835297**  
Status : **Not Answered**  
Chosen Option : --

Section : Part D Hindi

Q.1 दिए गए वाक्य का वह भाग ज्ञात करें जिसमें कोई त्रुटि है। यदि कोई त्रुटि नहीं है, तो 'कोई त्रुटि नहीं है' चुनें।

विवेकानंद का देश (1)/ सदा (2)/ आभारी रहेगा। (3)/ कोई त्रुटि नहीं (4)

- Ans
- 1. 2
  - 2. 4
  - 3. 3
  - 4. 1

Question ID : 65497835309  
Status : Answered  
Chosen Option : 4

Q.2 दिए गए वाक्य में रेखांकित खंड को प्रतिस्थापित करने के लिए सबसे उपयुक्त विकल्प का चयन करें। यदि इसे प्रतिस्थापित करने की आवश्यकता नहीं है, तो विकल्प 'किसी बदलाव की आवश्यकता नहीं है' का चयन करें।

मुझे टमाटर का गर्म सूप पीना बहुत अच्छा लगता है।

- Ans
- 1. गर्म सूप पीना बहुत अच्छा लगता है।
  - 2. किसी बदलाव की आवश्यकता नहीं है।
  - 3. गर्म सूप पीना बहुत अच्छा लगते हैं।
  - 4. गर्म सूप पीना बहुत अच्छा लगता है।

Question ID : 65497835304  
Status : Answered  
Chosen Option : 4

Q.3 'जो स्त्री विद्वान् हो' इस वाक्यांश के लिए एक सार्थक शब्द दीजिए।

- Ans
- 1. विजित
  - 2. विदुषी
  - 3. विज्ञ
  - 4. विधुर

Question ID : 65497835298  
Status : Answered  
Chosen Option : 2

Q.4 रिक्त स्थान की पूर्ति के लिए सबसे उपयुक्त शब्द का चयन करें।

मैंने एक गाय और एक भैंस \_\_\_\_\_।

- Ans
- 1. खरीदी
  - 2. खरीदें
  - 3. खरीदा
  - 4. खरीदे

Question ID : 65497835303  
Status : Answered  
Chosen Option : 1

Q.5 निम्नलिखित में से शुद्ध वर्तनी वाला शब्द कौन सा है?

- Ans  1. निष्पक्ष  
 2. निस्पक्ष  
 3. निष्पच्छ  
 4. निशपक्ष

Question ID : 65497835313  
Status : Answered  
Chosen Option : 1

Q.6 'भीगी बिल्ली बनना' मुहावरे का सही अर्थ क्या है?

- Ans  1. सहम जाना  
 2. गिड़गिड़ाना  
 3. चालाक बनना  
 4. गायब हो जाना

Question ID : 65497835317  
Status : Answered  
Chosen Option : 3

Q.7 उस विकल्प का चयन करें जो निम्न मुहावरे का अर्थ व्यक्त करता है।

भाड़ झोंकना

- Ans  1. ढील देना  
 2. थक जाना  
 3. व्यर्थ समय खोना  
 4. निराश हो जाना

Question ID : 65497835306  
Status : Answered  
Chosen Option : 3

Q.8 'पोषक' का विलोम शब्द होगा-

- Ans  1. क्षीण  
 2. तोषक  
 3. शोषक  
 4. दुर्बल

Question ID : 65497835316  
Status : Answered  
Chosen Option : 3

Q.9 निम्नलिखित में से शुद्ध वर्तनी वाला शब्द कौन सा है?

- Ans
- 1. दुस्कर
  - 2. दुष्कर
  - 3. दुश्कर
  - 4. दुष्कर

Question ID : 65497835314  
Status : Answered  
Chosen Option : 4

Q.10 दिए गए शब्द का विलोम शब्द चुनिए।

आदान

- Ans
- 1. विधान
  - 2. प्रदान
  - 3. निधन
  - 4. तिरोधान

Question ID : 65497835300  
Status : Answered  
Chosen Option : 2

Q.11 रिक्त स्थान की पूर्ति के लिए सबसे उपयुक्त शब्द का चयन करें।

दो दिन से \_\_\_\_\_ में ठंडक है।

- Ans
- 1. ऋतु
  - 2. मौसम
  - 3. शीत
  - 4. जलवायु

Question ID : 65497835312  
Status : Answered  
Chosen Option : 2

Q.12 दिए गए वाक्यांश के लिए एक शब्द चुनिए।

इस लोक से संबंधित

- Ans
- 1. अलौकिक
  - 2. विलौकिक
  - 3. अवलौकिक
  - 4. लौकिक

Question ID : 65497835311  
Status : Answered  
Chosen Option : 4



Q.13 दिए गए शब्द के समानार्थी शब्द का चयन करें।

बिजली

- Ans  1. दामिनी  
 2. यामिनी  
 3. शर्वरी  
 4. अटवी

Question ID : 65497835308  
Status : Answered  
Chosen Option : 1

Q.14 दिए गए शब्द के समानार्थी शब्द का चयन करें।

आकाश

- Ans  1. अक्षि  
 2. अम्बक  
 3. अतुल  
 4. अम्बर

Question ID : 65497835310  
Status : Answered  
Chosen Option : 4

Q.15 दिए गए वाक्य का वह भाग ज्ञात करें जिसमें कोई त्रुटि है। यदि कोई त्रुटि नहीं है, तो 'कोई त्रुटि नहीं है' चुनें।

कोई किसी को (1)/ सिखाता नहीं कि (2)/ ऐसी उच्चारण करो (3)/ कोई त्रुटि नहीं है (4)

- Ans  1. 3  
 2. 2  
 3. 1  
 4. 4

Question ID : 65497835307  
Status : Answered  
Chosen Option : 1

Q.16 दिए गए वाक्य का वह भाग ज्ञात करें जिसमें कोई त्रुटि है। यदि कोई त्रुटि नहीं है, तो 'कोई त्रुटि नहीं है' विकल्प को चुनिए।

(1) दस आदमियों ने (2) नाव से (3) नदी को पार किया (4) कोई त्रुटि नहीं है।

- Ans  1. नदी को पार किया  
 2. नाव से  
 3. कोई त्रुटि नहीं है।  
 4. दस आदमियों ने

Question ID : 65497835299  
Status : Answered  
Chosen Option : 1

Q.17 दिये गये वाक्य में रेखांकित अंश को प्रतिस्थापित करने के लिए सबसे उपयुक्त विकल्प का चयन करें।

भाइयों के झगड़े का हेतु क्या हो सकता है?

- Ans
- 1. लक्ष्य
  - 2. कारण
  - 3. उद्देश्य
  - 4. प्रयोजन

Question ID : 65497835315  
Status : Answered  
Chosen Option : 2

Q.18 दिए गए वाक्य में रेखांकित खंड को प्रतिस्थापित करने के लिए सबसे उपयुक्त विकल्प का चयन करें।  
यदि इसे प्रतिस्थापित करने की आवश्यकता नहीं है, तो विकल्प 'किसी बदलाव की आवश्यकता नहीं है' का चयन करें।

हमारी संस्कृति में गुरु और शिष्य का सम्बन्ध बहुत सुन्दर और मधुर हुआ करती थी।

- Ans
- 1. सुन्दर और मधुर हुआ करती थी।
  - 2. सुन्दर और मधुर होते थे।
  - 3. सुन्दर और मधुर हुआ करता था।
  - 4. किसी बदलाव की आवश्यकता नहीं है।

Question ID : 65497835305  
Status : Answered  
Chosen Option : 3

Q.19 रिक्त स्थान की पूर्ति के लिए सबसे उपयुक्त शब्द का चयन करें।

परीक्षा की \_\_\_\_\_ बदलनी चाहिए।

- Ans
- 1. तरीका
  - 2. प्रणाली
  - 3. उपाय
  - 4. ढाँचा

Question ID : 65497835302  
Status : Answered  
Chosen Option : 2

Q.20 दिए गए वाक्यांश के लिए एक शब्द दीजिए।

जो पुरुष लोहे की तरह बलिष्ठ है

- Ans
- 1. सज्जन पुरुष
  - 2. राक्षस
  - 3. दानव
  - 4. लौह पुरुष

Question ID : 65497835301  
Status : Answered  
Chosen Option : 4

**Comprehension:**

दिए गए गद्यांश में से कुछ शब्द हटा दिए गए हैं। संबंधित प्रश्नों में प्रत्येक संख्या के लिए सबसे उपयुक्त विकल्प का चयन करें।

वायु प्रदूषण सबसे बड़ा (1) \_\_\_\_\_ है। यह मानव जीवन की (2) \_\_\_\_\_ से जुड़ा हुआ है। कल-कारखाने की (3) \_\_\_\_\_ हलवाईयों की भट्टियाँ, रात-दिन दौड़-भाग कर रही गाड़ियाँ, घंटों में जलनेवाली अंगीठियाँ आदि अपने (4) \_\_\_\_\_ तत्वों से पूरे वायुमंडल को (5) \_\_\_\_\_ कर देते हैं।

**SubQuestion No : 21**

**Q.21** गद्यांश के रिक्त स्थान (1) के लिए सर्वाधिक उपयुक्त शब्द होगा-

- Ans**  1. क्रिया-कलाप  
 2. खतरा  
 3. संपद  
 4. चाहत

Question ID : **65497835319**  
Status : **Answered**  
Chosen Option : **2**

**Comprehension:**

दिए गए गद्यांश में से कुछ शब्द हटा दिए गए हैं। संबंधित प्रश्नों में प्रत्येक संख्या के लिए सबसे उपयुक्त विकल्प का चयन करें।

वायु प्रदूषण सबसे बड़ा (1) \_\_\_\_\_ है। यह मानव जीवन की (2) \_\_\_\_\_ से जुड़ा हुआ है। कल-कारखाने की (3) \_\_\_\_\_ हलवाईयों की भट्टियाँ, रात-दिन दौड़-भाग कर रही गाड़ियाँ, घंटों में जलनेवाली अंगीठियाँ आदि अपने (4) \_\_\_\_\_ तत्वों से पूरे वायुमंडल को (5) \_\_\_\_\_ कर देते हैं।

**SubQuestion No : 22**

**Q.22** गद्यांश के रिक्त स्थान (2) के लिए सर्वाधिक उपयुक्त शब्द होगा-

- Ans**  1. जिंदगी  
 2. शरीर  
 3. क्रिया-कलाप  
 4. वक्त

Question ID : **65497835320**  
Status : **Answered**  
Chosen Option : **3**

**Comprehension:**

दिए गए गद्यांश में से कुछ शब्द हटा दिए गए हैं। संबंधित प्रश्नों में प्रत्येक संख्या के लिए सबसे उपयुक्त विकल्प का चयन करें।

वायु प्रदूषण सबसे बड़ा (1) \_\_\_\_\_ है। यह मानव जीवन की (2) \_\_\_\_\_ से जुड़ा हुआ है। कल-कारखाने की (3) \_\_\_\_\_ हलवाईयों की भट्टियाँ, रात-दिन दौड़-भाग कर रही गाड़ियाँ, घंटों में जलनेवाली अंगीठियाँ आदि अपने (4) \_\_\_\_\_ तत्वों से पूरे वायुमंडल को (5) \_\_\_\_\_ कर देते हैं।

**SubQuestion No : 23**

**Q.23** गद्यांश के रिक्त स्थान (3) के लिए सर्वाधिक उपयुक्त शब्द होगा-

- Ans**  1. संपदाएँ  
 2. चिमनियाँ  
 3. गाड़ियाँ  
 4. यंत्र

Question ID : **65497835321**  
Status : **Answered**  
Chosen Option : **2**

**Comprehension:**

दिए गए गद्यांश में से कुछ शब्द हटा दिए गए हैं। संबंधित प्रश्नों में प्रत्येक संख्या के लिए सबसे उपयुक्त विकल्प का चयन करें।

वायू प्रदूषण सबसे बड़ा (1) \_\_\_\_\_ है। यह मानव जीवन की (2) \_\_\_\_\_ से जुड़ा हुआ है। कल-कारखाने की (3) \_\_\_\_\_ हलवाईयों की भट्टियाँ, रात-दिन दौड़-भाग कर रही गाड़ियाँ, घंटों में जलनेवाली अंगीठियाँ आदि अपने (4) \_\_\_\_\_ तत्त्वों से पूरे वायुमंडल को (5) \_\_\_\_\_ कर देते हैं।

**SubQuestion No : 24**

**Q.24** गद्यांश के रिक्त स्थान (4) के लिए सर्वाधिक उपयुक्त शब्द होगा-

- Ans**
- 1. पौष्टिक
  - 2. प्राकृतिक
  - 3. आत्मिक
  - 4. विषाक्त

Question ID : **65497835322**  
Status : **Answered**  
Chosen Option : **4**

**Comprehension:**

दिए गए गद्यांश में से कुछ शब्द हटा दिए गए हैं। संबंधित प्रश्नों में प्रत्येक संख्या के लिए सबसे उपयुक्त विकल्प का चयन करें।

वायू प्रदूषण सबसे बड़ा (1) \_\_\_\_\_ है। यह मानव जीवन की (2) \_\_\_\_\_ से जुड़ा हुआ है। कल-कारखाने की (3) \_\_\_\_\_ हलवाईयों की भट्टियाँ, रात-दिन दौड़-भाग कर रही गाड़ियाँ, घंटों में जलनेवाली अंगीठियाँ आदि अपने (4) \_\_\_\_\_ तत्त्वों से पूरे वायुमंडल को (5) \_\_\_\_\_ कर देते हैं।

**SubQuestion No : 25**

**Q.25** गद्यांश के रिक्त स्थान (5) के लिए सर्वाधिक उपयुक्त शब्द होगा-

- Ans**
- 1. स्वस्थ
  - 2. संतुलित
  - 3. शोषित
  - 4. दूषित

Question ID : **65497835323**  
Status : **Answered**  
Chosen Option : **4**