

Constable GD in CAPFs NIA SSF and Rifleman GD in Assam Rifles Examination 2021

Roll Number	www.GovtJobsAlert.In
Candidate Name	www.GovtJobsAlert.In
Venue Name	Jaipur Engineering College
Exam Date	25/11/2021
Exam Time :	4:00 PM - 5:30 PM
Subject	Constable GD 2021

Section : Part A General Intelligence and Reasoning

Q.1 एक निश्चित कूट भाषा में, GRAPES को 66 के रूप में लिखा जाता है। उसी भाषा में PRAISE को किस रूप में लिखा जाएगा?

- Ans
- 1. 69
 - 2. 68
 - 3. 66
 - 4. 67

Question ID : 65497836475
Status : Answered
Chosen Option : 2

Q.2 जिस प्रकार 'ऑस्ट्रेलिया' 'कैनबरा' से संबंधित है, उसी प्रकार 'फ्रांस' ' _____ ' से संबंधित है।

- Ans
- 1. जकार्ता
 - 2. रोम
 - 3. मास्को
 - 4. पेरिस

Question ID : 65497836484
Status : Answered
Chosen Option : 4

Q.3 यदि '+' और '-' तथा संख्या '5' और '7' (अंक नहीं) को आपस में बदल दिया जाए, तो निम्नलिखित व्यंजक का मान कितना होगा?

$$18 - 20 \div 7 \times (15 + 5) + 3$$

- Ans
- 1. 35
 - 2. 12
 - 3. 47
 - 4. 28

Question ID : 65497836480
Status : Answered
Chosen Option : 3

Q.4 चार मित्र K, L, M और N एक पंक्ति में बैठे हैं, और उनके मुँह दक्षिण दिशा की ओर हैं। L और M दो अंतिम छोरों पर बैठे हैं। K, L और N के बीच बैठा है और M के दाएँ दूसरा है। K के ठीक बाएँ कौन बैठा है?

- Ans
- 1. L
 - 2. K
 - 3. M
 - 4. N

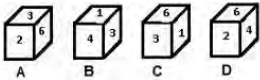
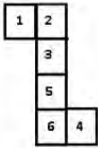
Question ID : 65497836485
Status : Answered
Chosen Option : 4

Q.5 एक संयुक्त परिवार में 8 सदस्य P, Q, R, S, T, U, V और W हैं। Q, S का भाई है। V, Q और R का बेटा है। S, U का भाई है। W, S और T की बेटी है। P, V की पत्नी है। R का संबंध P के साथ किस रूप में है?

- Ans
- 1. बहन
 - 2. चाची
 - 3. माँ
 - 4. सास

Question ID : 65497836469
Status : Answered
Chosen Option : 4

Q.6 उस बक्से का चयन करें, जिसे निम्नांकित पत्रक (शीट) को रेखाओं पर मोड़ने पर प्राप्त किया जा सकता है।



- Ans
- 1. केवल B
 - 2. A और C
 - 3. A और D
 - 4. केवल D

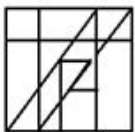
Question ID : 65497836481
Status : Answered
Chosen Option : 4

Q.7 उस विकल्प का चयन करें जिसमें दी गई आकृति अंतर्निहित है (घुमाने की अनुमति नहीं है)।

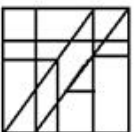


Ans

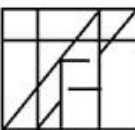
✓ 1.



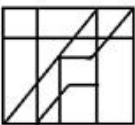
✗ 2.



✗ 3.



✗ 4.



Question ID : 65497836482

Status : Answered

Chosen Option : 1

Q.8 चार अक्षर-समूह दिए गए हैं, जिनमें से तीन किसी तरह से एक समान हैं और एक भिन्न है। उस अक्षर-समूह का चयन करें जो भिन्न है।

Ans

✗ 1. BDF

✗ 2. PRT

✓ 3. GJL

✗ 4. TVX

Question ID : 65497836474

Status : Answered

Chosen Option : 3

Q.9 दिए गए कथनों और निष्कर्षों को ध्यानपूर्वक पढ़ें। कथनों में दी गई जानकारी को सत्य मानते हुए विचार करें, भले ही वह सामान्यतः ज्ञात तथ्यों से भिन्न प्रतीत होती हो, और तय करें कि दिए गए निष्कर्षों में से कौन-सा/ से कथनों का तार्किक रूप से पालन करता है/करते हैं।

कथन:

सभी गीतकार मॉर्निंग-वाकर हैं।
कोई लेखाकार स्नातक नहीं है।
सभी मॉर्निंग-वाकर लेखाकार हैं।

निष्कर्ष:

I. कोई गीतकार स्नातक नहीं है।
II. कुछ गीतकार स्नातक हैं।

Ans

- ✓ 1. केवल निष्कर्ष I पालन करता है।
✗ 2. न तो निष्कर्ष I और न ही II पालन करता है।
✗ 3. या तो निष्कर्ष I या II पालन करता है।
✗ 4. केवल निष्कर्ष II पालन करता है।

Question ID : 65497836488

Status : Answered


Chosen Option : 3

Q.10 कागज के एक टुकड़े को मोड़ने के क्रम और मुड़े हुए कागज को काटने के तरीके को निम्नलिखित आकृतियों में दर्शाया गया है। खोलने पर, यह कागज कैसा दिखाई देगा?

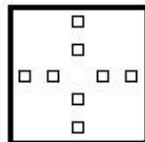


Ans

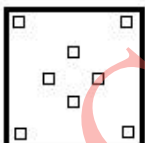
✗ 1.




✓ 2.



✗ 3.



✗ 4.

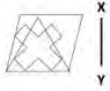


Question ID : 65497836491

Status : Answered

Chosen Option : 2

Q.11 दी गई आकृति के उस सही दर्पण प्रतिबिंब का चयन करें, जो दर्पण को 'XY' पर रखने पर बनेगा।

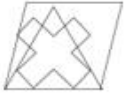


Ans

1.



2.



3.



4.



Question ID : 65497836477
Status : Answered
Chosen Option : 3

Q.12 दिए गए विकल्पों में से उस संख्या का चयन कीजिए जो निम्न श्रेणी में प्रश्नवाचक चिह्न (?) के स्थान पर आएगी।

100, 96, 88, 76, 60, ?

Ans 1. 40

2. 20

3. 38

4. 35

Question ID : 65497836472
Status : Answered
Chosen Option : 1

Q.13 एक टेलीविजन को ₹8,820 के मूल्य पर बेचने से 12% लाभ अर्जित हुआ। यदि टेलीविजन को 24% की हानि पर बेचा जाता है, तो उसका विक्रय मूल्य क्या होगा?

Ans 1. ₹5,985


2. ₹6,930

3. ₹5,940

4. ₹6,205


Question ID : 65497836490
Status : Answered
Chosen Option : 1

Q.14 दिए गए विकल्पों में से उस आकृति का चयन कीजिए जो निम्नांकित आकृति श्रेणी में प्रश्नवाचक चिह्न (?) के स्थान पर आ सकती है।



Ans


1.



2.



3.



4.



Question ID : 65497836473

Status : Answered

Chosen Option : 4

Q.15 सात मित्र एक वृत्ताकार मेज पर केंद्र की ओर मुँह किए हुए बैठे हैं। A, B के बाएँ दूसरे स्थान पर बैठा है। C, B और G के बीच बैठा है। D, C के बाएँ दूसरे स्थान पर बैठा है। E जो G के दाएँ दूसरे स्थान पर बैठा है, A और F के बीच बैठा है। G के बाएँ दूसरे स्थान पर कौन बैठा है?

Ans 1. E

2. A

3. D

4. B

Question ID : 65497836478

Status : Answered

Chosen Option : 4

Q.16 उस विकल्प का चयन करें जो चौथी संख्या से उसी प्रकार संबंधित है, जिस प्रकार पहली संख्या दूसरी संख्या से संबंधित है।

625 : 25 :: ? : 35

Ans 1. 756

2. 875

3. 927

4. 1025

Question ID : 65497836479

Status : Answered

Chosen Option : 2

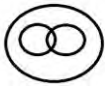
Q.17 दिए गए विकल्पों में से उस अक्षर-समूह का चयन करें, जो निम्नलिखित श्रृंखला में प्रश्नवाचक चिह्न (?) के स्थान पर आ सकता है।

BZE, CWG, ESI, ?, LHM

- Ans
- 1. HNK
 - 2. GNJ
 - 3. IML
 - 4. HMK

Question ID : 65497836483
Status : Answered
Chosen Option : 1

Q.18 वर्गों के उस समूह का चयन करें जिनके बीच के संबंध को निम्नांकित वेन आरेख द्वारा सबसे अधिक उचित तरीके से दर्शाया गया है।



- Ans
- 1. प्राकृतिक संख्याएँ, पूर्णांक, परिमेय संख्याएँ
 - 2. मक्का, चावल, गाजर
 - 3. मानव, पुरुष, राजनेता
 - 4. भारत, एशिया, बांग्लादेश

Question ID : 65497836486
Status : Answered
Chosen Option : 3

Q.19 वह सही विकल्प चुनें, जो दिए गए शब्दों के उस सही क्रम को दर्शाता है, जिस क्रम में ये शब्द अंग्रेजी शब्दकोश में दिखाई देते हैं।

1. Nebulous
2. Necessary
3. Necrosis
4. Nectarine
5. Negative

- Ans
- 1. 1, 3, 2, 4, 5
 - 2. 1, 2, 3, 4, 5
 - 3. 5, 4, 2, 3, 1
 - 4. 3, 2, 5, 4, 1

Question ID : 65497836470
Status : Answered
Chosen Option : 2

Q.20 दिए गए विकल्पों में से उस संख्या का चयन करें जो निम्नलिखित श्रृंखला में प्रश्न चिह्न (?) के स्थान पर आ सकती है।

3, 4, 8, 17, 33, ?

- Ans
- 1. 56
 - 2. 69
 - 3. 58
 - 4. 49

Question ID : 65497836476
Status : Answered
Chosen Option : 3

Q.21 एक निश्चित कूट भाषा में, 'NOSE' को 'QPVF' के रूप में लिखा जाता है और 'HAND' को 'KBQE' के रूप में लिखा जाता है। उसी भाषा में 'FACE' को किस रूप में लिखा जाएगा?

- Ans
- 1. KCFF
 - 2. LBFE
 - 3. IBFF
 - 4. JCEE

Question ID : 65497836468
Status : Answered
Chosen Option : 3

Q.22 एक निश्चित कूट भाषा में, 'DECK' को 'WVXP' लिखा जाता है, और 'CLAIM' को 'XOZRN' लिखा जाता है। उसी कूट भाषा में 'MASCOT' को किस प्रकार लिखा जाएगा?

- Ans
- 1. OZHXMG
 - 2. NZHXLG
 - 3. NZHYKH
 - 4. NZGXKG

Question ID : 65497836487
Status : Answered
Chosen Option : 2

Q.23 उस विकल्प का चयन करें जो तीसरे अक्षर-समूह से उसी प्रकार संबंधित है जिस प्रकार दूसरा अक्षर-समूह पहले अक्षर-समूह से संबंधित है।

GPHD : KTLH :: SDFG : ?

- Ans
- 1. XGJL
 - 2. VHKM
 - 3. UHJL
 - 4. WHJK

Question ID : 65497836467
Status : Answered
Chosen Option : 4

Q.24 अक्षरों के उस संयोजन का चयन करें जिसे दी गई श्रृंखला में रिक्त स्थानों पर क्रमिक रूप से रखने पर श्रृंखला पूर्ण हो जाएगी।

S_P__M_S_MP_

- Ans 1. MSPSSS
 2. PSMPPS
 3. MSSPSS
 4. PSMSSS

Question ID : 65497836471
Status : Answered
Chosen Option : 3

Q.25 उस विकल्प का चयन करें, जिसमें दी गई संख्याओं के बीच वही संबंध है, जो दिए गए समुच्चय की संख्याओं के बीच है।

145, 5, 29

- Ans 1. 125, 10, 15
 2. 224, 14, 16
 3. 160, 20, 6
 4. 180, 16, 30

Question ID : 65497836489
Status : Answered
Chosen Option : 2

Section : Part B General Knowledge and General Awareness

Q.1 अंतिम शुंग शासक की हत्या उसके मंत्री वासुदेव ने की थी, जिसने आगे चलकर _____ वंश की स्थापना की।

- Ans 1. काकतीय
 2. कण्व
 3. कलचुरी
 4. कोरवी

Question ID : 65497836516
Status : Answered
Chosen Option : 2

Q.2 निम्नलिखित से किस सूक्ष्मजीव के कारण साइट्रस कैंकर होता है?

- Ans 1. कवक
 2. विषाणु (वायरस)
 3. जीवाणु (बैक्टीरिया)
 4. प्रोटोजोआ

Question ID : 65497836508
Status : Not Answered
Chosen Option : --

Q.3 भारत के संविधान की प्रस्तावना में निम्नलिखित में से कौन सा शब्द सम्मिलित नहीं है?

- Ans 1. पूँजीवादी (Capitalist)
 2. बंधुता (Fraternity)
 3. संप्रभु (Sovereign)
 4. न्याय (Justice)

Question ID : 65497836495
Status : Answered
Chosen Option : 1

Q.4 प्रधान मंत्री नरेंद्र मोदी ने भारत में नोटबंदी की घोषणा किस वर्ष की थी?

- Ans 1. 2018
 2. 2014
 3. 2012
 4. 2016

Question ID : 65497836512
Status : Answered
Chosen Option : 4

Q.5 हसदेव और जोक नदियाँ भारत के किस राज्य में पाई जाती हैं?

- Ans 1. अरुणाचल प्रदेश
 2. छत्तीसगढ़
 3. गोवा
 4. हरियाणा

Question ID : 65497836513
Status : Not Answered
Chosen Option : --

Q.6 नवंबर 2020 में कक्षा (ऑर्बिट) में लॉन्च किए गए स्पेसएक्स कू ड्रैगन अंतरिक्ष यान को इसके चालक दल ने _____ नाम दिया था।

- Ans 1. पर्सिस्टेंस
 2. एन्ड्योरेंस
 3. रेसिलिएंस
 4. पेसेवेरन्स

Question ID : 65497836511
Status : Answered
Chosen Option : 4

Q.7 कौन से भारतीय कप्तान, सबसे तेज 12000 वनडे रन बनाने वाले क्रिकेटर बने? उन्होंने 2020 में यह उपलब्धि हासिल की।

- Ans
- 1. भुवनेश्वर कुमार
 - 2. रविचंद्रन अश्विन
 - 3. सुरेश रैना
 - 4. विराट कोहली

Question ID : 65497836505
Status : Answered
Chosen Option : 4

Q.8 आर्थिक मामलों की कैबिनेट समिति (CCEA) ने रबी मार्केटिंग अवधि 2022-23 के लिए गेहूं का न्यूनतम समर्थन मूल्य (MSP) _____ प्रति क्विंटल निर्धारित किया है।

- Ans
- 1. ₹1,995
 - 2. ₹1,975
 - 3. ₹2,005
 - 4. ₹2,015

Question ID : 65497836515
Status : Answered
Chosen Option : 2

Q.9 निम्नलिखित में से किसने प्रसिद्ध कोह-ए-नूर हीरा और शाहजहाँ के रत्न जड़ित मयूर सिंहासन को छीन लिया?

- Ans
- 1. मुहम्मद शाह
 - 2. रंजीत सिंह
 - 3. शाह आलम द्वितीय
 - 4. नादिर शाह

Question ID : 65497836494
Status : Answered
Chosen Option : 4

Q.10 युद्ध क्षेत्र में अपने दुश्मनों पर जीत का जश्न मनाने के लिए, नागालैंड की चांग जनजाति कौन-सा नृत्य करती है?

- Ans
- 1. चांग लो
 - 2. नोंगक्रेम
 - 3. चेराव
 - 4. भोरताल

Question ID : 65497836506
Status : Answered
Chosen Option : 1

Q.11 ड्यूटेरियम और ट्रिटियम निम्न हैं:

- Ans 1. टाइटेनियम के समस्थानिक
 2. हाइड्रोजन के समस्थानिक
 3. कार्बन के समस्थानिक
 4. यूरेनियम के समस्थानिक

Question ID : 65497836498
Status : Answered
Chosen Option : 2

Q.12 कोलकाता में साल्ट लेक स्टेडियम का नामकरण किसके नाम पर किया गया है?

- Ans 1. स्वामी विवेकानंद
 2. नेताजी सुभाष चंद्र बोस
 3. ज्योति बसु
 4. गोस्टो पॉल

Question ID : 65497836492
Status : Answered
Chosen Option : 2

Q.13 2011 की जनगणना के अनुसार, निम्नलिखित में से किस राज्य में लिंग अनुपात (प्रति 1000 पुरुषों की तुलना में महिलाएँ) 1000 से अधिक है?

- Ans 1. बिहार
 2. केरल
 3. राजस्थान
 4. महाराष्ट्र

Question ID : 65497836501
Status : Answered
Chosen Option : 2

Q.14 1845-46 ईस्वी की अवधि के दौरान निम्नलिखित में से कौन सी लड़ाई लड़ी गई थी?

- Ans 1. द्वितीय आंग्ल-सिख युद्ध
 2. द्वितीय आंग्ल-मराठा युद्ध
 3. प्रथम आंग्ल-मराठा युद्ध
 4. प्रथम आंग्ल-सिख युद्ध

Question ID : 65497836499
Status : Not Answered
Chosen Option : --

Q.15 मई 2021 में, अंतर्राष्ट्रीय ओलंपिक समिति ने प्रतियोगिता में हेरफेर को रोकने के उद्देश्य से संचालित अपने 'बिलीव इन स्पोर्ट (Believe in Sport)' अभियान के लिए _____ को एथलीट एंबेसडर के रूप में नामित किया।

- Ans
- 1. मनिका बत्रा
 - 2. PV सिंधु
 - 3. साइखोम मीराबाई चानू
 - 4. मैरी कॉम

Question ID : 65497836514
Status : Answered
Chosen Option : 2

Q.16 निम्नलिखित में से कौन सा जहरीला पौधा नहीं है?

- Ans
- 1. पार्थेनियम
 - 2. नेरियम ओलियंडर
 - 3. ड्रेसीना
 - 4. कैलोट्रोपिस

Question ID : 65497836507
Status : Not Answered
Chosen Option : --

Q.17 ज्ञानपीठ पुरस्कार पहली बार किस वर्ष में प्रदान किया गया था?

- Ans
- 1. 1965
 - 2. 1957
 - 3. 1961
 - 4. 1963

Question ID : 65497836504
Status : Answered
Chosen Option : 1

Q.18 भारतीय दंड संहिता की धारा 304B _____ से संबंधित है।

- Ans
- 1. लापरवाही से हुई मृत्यु
 - 2. आत्महत्या करने का प्रयास
 - 3. आत्महत्या का दुष्प्रेरण
 - 4. दहेज हत्या

Question ID : 65497836510
Status : Not Answered
Chosen Option : --

Q.19 चिल्का झील जोकि भारत की सबसे बड़ी खारे पानी की झील है, किस राज्य में स्थित है?

- Ans 1. आंध्र प्रदेश
 2. ओडिशा
 3. छत्तीसगढ़
 4. पश्चिम बंगाल

Question ID : 65497836503
Status : Answered
Chosen Option : 2

Q.20 निम्नलिखित में से कौन सा स्मारक खिलजी राजवंश द्वारा बनवाया गया था?

- Ans 1. बड़ा गुंबद
 2. सफदरजंग का मकबरा
 3. अलाई दरवाजा
 4. शीश गुंबद

Question ID : 65497836502
Status : Answered
Chosen Option : 3

Q.21 किस राज्य सरकार ने नवंबर 2020 में छोटे व्यापारियों और कारीगरों को ब्याज मुक्त ऋण प्रदान करने के लिए 'जगनन्ना थोड़' योजना शुरू की थी?

- Ans 1. पश्चिम बंगाल
 2. आंध्र प्रदेश
 3. केरल
 4. तेलंगाना

Question ID : 65497836497
Status : Answered
Chosen Option : 2

Q.22 1968 में भारत सरकार द्वारा प्रदत्त साहित्य अकादमी अध्येतावृत्ति पाने वाले प्रथम व्यक्ति कौन थे?

- Ans 1. वी.एस. नायपॉल
 2. सी. नारायण रेड्डी
 3. एस. राधाकृष्णन
 4. एस.एल. भयरप्पा

Question ID : 65497836509
Status : Answered
Chosen Option : 1

Q.23 अगस्त 2020 में, केंद्र सरकार ने ट्रांसजेंडर व्यक्तियों (अधिकारों का संरक्षण) अधिनियम, 2019 की धारा द्वारा प्रदत्त अधिकारों का प्रयोग करके ट्रांसजेंडर लोगों के लिए राष्ट्रीय परिषद का गठन किया है।

- Ans
- 1. 22
 - 2. 25
 - 3. 18
 - 4. 16

Question ID : 65497836496
Status : Not Answered
Chosen Option : --

Q.24 'महानवमी डिब्बा' का ऐतिहासिक महत्व निम्नलिखित में से किस राजवंश से जुड़ा है?

- Ans
- 1. चौहान
 - 2. चोल
 - 3. पांड्य
 - 4. विजयनगर

Question ID : 65497836493
Status : Not Answered
Chosen Option : --

Q.25 निम्नलिखित में से किन राज्यों में 5वें आयुर्वेद दिवस पर दो आयुर्वेद संस्थान आरंभ किए गए थे?

- Ans
- 1. उत्तर प्रदेश और आंध्र प्रदेश
 - 2. राजस्थान और गुजरात
 - 3. पंजाब और हरियाणा
 - 4. महाराष्ट्र और कर्नाटक

Question ID : 65497836500
Status : Not Answered
Chosen Option : --

Section : Part C Elementary Mathematics

Q.1 एक डेयरी मालिक प्रतिदिन 3 किस्मों - फुल क्रीम, टॉड और डबल टॉड - के एक लीटर के पैकेटों में 528 लीटर दूध बेचता है। टॉड दूध के पैकेटों की बिक्री, फुल क्रीम दूध के पैकेटों की तुलना में 80% अधिक है, और डबल टॉड दूध के पैकेटों की बिक्री, टॉड दूध के पैकेटों की तुलना में 60% कम है। वह प्रतिदिन डबल टॉड दूध के कितने पैकेट बेचता है?

- Ans
- 1. 100
 - 2. 112
 - 3. 108
 - 4. 110

Question ID : 65497836540
Status : Answered
Chosen Option : 3

Q.2 A, B और C तीन संख्याएं हैं। A, B से 45% अधिक है और C, A से 60% कम है। B, C से कितने प्रतिशत (निकटतम पूर्णांक तक) अधिक है?

- Ans**
- 1. 72%
 - 2. 42%
 - 3. 70%
 - 4. 68%

Question ID : **65497836533**
Status : **Answered**
Chosen Option : 1

Q.3 ₹75,000 की धनराशि का, वार्षिक आधार पर चक्रवृद्धि होने वाली एक निश्चित वार्षिक ब्याज दर पर 2 वर्षों में प्राप्त चक्रवृद्धि ब्याज ₹6,120 है। यदि ब्याज त्रैमासिक आधार पर चक्रवृद्धि होता है, तो ₹1,00,000 की धनराशि की उसी ब्याज दर पर एक वर्ष के बाद प्राप्त धनराशि (₹ में, दशमलव के दो स्थानों तक सही) कितनी होगी?

- Ans**
- 1. 1,06,040.20
 - 2. 1,00,400.60
 - 3. 1,40,060.50
 - 4. 1,04,060.40

Question ID : **65497836520**
Status : **Answered**
Chosen Option : 4

Q.4 यदि केलों को ₹7 प्रति केले के बजाय ₹10 प्रति केले के मूल्य पर बेचा जाता है, तो कुछ केलों के विक्रय मूल्यों के बीच का अंतर ₹990 है। यदि सभी केलों का क्रय मूल्य ₹1,980 है, और यदि अर्जित लाभ 18% है, तो दस केलों का विक्रय मूल्य (₹ में) कितना होगा?

- Ans**
- 1. 90.20
 - 2. 60.00
 - 3. 70.80
 - 4. 99.00

Question ID : **65497836519**
Status : **Answered**
Chosen Option : 3

Q.5 दुकानदार ने एक वस्तु की कीमत इस प्रकार अंकित की जिससे वह उसके क्रय मूल्य पर 30% का लाभ अर्जित करे। फिर उसने अंकित मूल्य पर 12% की छूट पर इसे बेच दिया। उसके द्वारा अर्जित वास्तविक प्रतिशत लाभ ज्ञात करें।

- Ans**
- 1. 14.4%
 - 2. 13.8%
 - 3. 14.2%
 - 4. 15.2%

Question ID : **65497836532**
Status : **Answered**
Chosen Option : 1

Q.6 10 और 20 के बीच 3 के पहले तीन गुणजों के औसत और 4 के पहले 2 गुणजों के औसत के बीच का अंतर ज्ञात करें।

- Ans
- 1. 2
 - 2. 4
 - 3. 3
 - 4. 1

Question ID : 65497836528
Status : Answered
Chosen Option : 4

Q.7 यदि 51, x , 72 और 96 समानुपाती हैं, तो $(2x+8)$ और $(x+13)$ के बीच मध्यानुपात कितना होगा?

- Ans
- 1. 117
 - 2. 108
 - 3. 112
 - 4. 96

Question ID : 65497836536
Status : Answered
Chosen Option : 2

Q.8 यदि $A : B = 8 : 9$ और $B : C = 12 : 55$ है, तो $A : B : C$ का मान क्या है?

- Ans
- 1. 36 : 32 : 165
 - 2. 32 : 36 : 156
 - 3. 32 : 36 : 165
 - 4. 32 : 165 : 36

Question ID : 65497836517
Status : Answered
Chosen Option : 3

Q.9 एक निश्चित धनराशि, एकसमान वार्षिक साधारण ब्याज दर से 4 वर्ष में ₹12,420 और 7 वर्ष में ₹14,985 हो जाती है। वह धनराशि कितनी है?

- Ans
- 1. ₹8,400
 - 2. ₹9,000
 - 3. ₹9,500
 - 4. ₹8,800

Question ID : 65497836537
Status : Answered
Chosen Option : 2

Q.10 एक वृत्ताकार भूखंड का परिमाण 440 m है। इसके परितः 5 m चौड़ा वृत्ताकार पथ है। पथ का क्षेत्रफल

(m^2 में, $\pi = \frac{22}{7}$ मानते हुए) लगभग कितना होगा?

- Ans
- 1. 2121.4
 - 2. 2278.6
 - 3. 1822.9
 - 4. 1964.3

Question ID : 65497836538
Status : Answered
Chosen Option : 2

Q.11 18 m लंबी, 10 m ऊंची और 40 cm चौड़ी एक दीवार को 30 cm, 15 cm और 10 cm की विमाओं वाली ईंटों का उपयोग करके निर्मित करना है। कितनी ईंटों (हजारों में) की आवश्यकता होगी?

- Ans
- 1. 14
 - 2. 16000
 - 3. 16
 - 4. 14000

Question ID : 65497836518
Status : Answered
Chosen Option : 2

Q.12 पहली चार अभाज्य संख्याओं के लघुत्तम समापवर्त्य (LCM) का, पहली तीन भाज्य संख्याओं के महत्तम समापवर्तक (HCF) से अनुपात ज्ञात करें।

- Ans
- 1. 26 : 1
 - 2. 105 : 1
 - 3. 6 : 1
 - 4. 168 : 1

Question ID : 65497836527
Status : Answered
Chosen Option : 2

Q.13 $10 - [378 \div 6 \text{ of } 9 - (25 - 72 \div 3)]$ का मान कितना होगा?

- Ans
- 1. 3
 - 2. 1
 - 3. 4
 - 4. 9

Question ID : 65497836521
Status : Answered
Chosen Option : 3

Q.14 दुकानदार A, ₹500 के अंकित मूल्य पर 8% और 12% की दो क्रमिक छूट देता है। एक अन्य दुकानदार B, उसी अंकित मूल्य वाली उसी वस्तु पर 20% की एकल छूट देता है। उनके विक्रय मूल्यों में अंतर ज्ञात करें।

- Ans**
- 1. ₹4.40
 - 2. ₹5.20
 - 3. ₹3.20
 - 4. ₹4.80

Question ID : 65497836526
Status : Answered
Chosen Option : 4

Q.15 वह छोटी से छोटी संख्या कौन सी है, जो 4 से 9 तक की सभी संख्याओं से विभाज्य है?

- Ans**
- 1. 2540
 - 2. 1520
 - 3. 2520
 - 4. 840

Question ID : 65497836539
Status : Answered
Chosen Option : 3

Q.16 एक निश्चित धनराशि के लिए, 5% वार्षिक ब्याज दर पर, 2 वर्ष के साधारण ब्याज (SI) और वार्षिक रूप से चक्रवृद्धि होने वाले चक्रवृद्धि ब्याज (CI) के बीच का अंतर ₹25.00 है। वह धनराशि ज्ञात करें।

- Ans**
- 1. ₹7,500
 - 2. ₹12,000
 - 3. ₹8,000
 - 4. ₹10,000

Question ID : 65497836530
Status : Answered
Chosen Option : 4

Q.17 एक वस्तु को ₹2,900 में बेचकर एक दुकानदार 16% का लाभ अर्जित करता है। यदि उसने इसे ₹3,050 में बेचा होता, तो उसका प्रतिशत लाभ क्या होता?

- Ans**
- 1. 21%
 - 2. 20%
 - 3. 22%
 - 4. 20.5%

Question ID : 65497836541
Status : Answered
Chosen Option : 3

Q.18 ₹7,800 की राशि को A, B और C में इस प्रकार विभाजित किया जाता है कि B का हिस्सा A के हिस्से का $\frac{1}{3}$ है और C का हिस्सा B के हिस्से से 20% अधिक है। A का हिस्सा ज्ञात करें।

- Ans**
- 1. ₹4,500
 - 2. ₹3,000
 - 3. ₹1,500
 - 4. ₹2,500

Question ID : **65497836529**
Status : **Answered**
Chosen Option : 1

Q.19 A और B मिलकर किसी कार्य को 24 दिनों में पूरा कर सकते हैं। B और C मिलकर इसे 30 दिनों में पूरा कर सकते हैं। यदि A की दक्षता C की तुलना में दोगुनी है, तो B अकेले उसी कार्य को पूरा करने के लिए कितने दिनों का समय लेगा?

- Ans**
- 1. 40
 - 2. 48
 - 3. 36
 - 4. 30

Question ID : **65497836534**
Status : **Answered**
Chosen Option : 1

Q.20 समान लंबाई की दो ट्रेनें A और B समानांतर पटरियों पर एक ही दिशा में क्रमशः 64.8 km/h और 50.4 km/h की चाल से चल रही हैं। ट्रेन A, ट्रेन B को एक मिनट में पार करती है। प्रत्येक ट्रेन की लंबाई (m में) ज्ञात करें।

- Ans**
- 1. 125
 - 2. 100
 - 3. 120
 - 4. 150

Question ID : **65497836535**
Status : **Answered**
Chosen Option : 3

Q.21 कोई व्यक्ति 1000 m लंबा पुल 6 min में पार करता है। उसकी चाल (km/h में) कितनी है?

- Ans**
- 1. 16
 - 2. 10
 - 3. 8
 - 4. 12

Question ID : **65497836525**
Status : **Answered**
Chosen Option : 2

Q.22 $72 - [20 - \{10 - (6 - \overline{6-4})\}]$ का मान कितना है?

- Ans 1. 58
 2. 48
 3. 56
 4. 44

Question ID : 65497836524
Status : Answered
Chosen Option : 1

Q.23 एक व्यक्ति ने एक पुरानी वस्तु ₹5,400 में खरीदी और उसकी मरम्मत पर ₹200 खर्च किए। उसने इसे ₹6,300 में बेच दिया। उसका लाभ प्रतिशत क्या है?

- Ans 1. 10
 2. 12.5
 3. 14
 4. 12

Question ID : 65497836522
Status : Answered
Chosen Option : 2

Q.24 23 छात्रों का औसत भार 53 kg दर्ज किया गया था। एक शिक्षक का भार भी शामिल करने पर, औसत भार में 100 g की वृद्धि हुई। शिक्षक का भार (kg में) ज्ञात करें।

- Ans 1. 56.2
 2. 55.8
 3. 55.4
 4. 56.4

Question ID : 65497836531
Status : Answered
Chosen Option : 3

Q.25 B किसी कार्य को पूरा करने के लिए, A द्वारा लिए गए दिनों की संख्या का पाँच गुना लेता है। एक साथ काम करके, वे काम को 15 दिनों में पूरा कर देते हैं। उसी काम को पूरा करने में अकेले A को कितने दिन लगेंगे?

- Ans 1. 18
 2. 12
 3. 20
 4. 16

Question ID : 65497836523
Status : Answered
Chosen Option : 1

Section : Part D English

Q.1 Select the option that can be used as a one-word substitute for the given group of words.

Lack of feeling

- Ans** 1. Empathy
 2. Apathy
 3. Telepathy
 4. Sympathy

Question ID : **65497836548**
Status : **Not Answered**
Chosen Option : --

Q.2 Select the most appropriate meaning of the given idiom.

Gift of the gab

- Ans** 1. Ability to draw sketches
 2. Ability to speak in a sarcastic tone
 3. Ability to speak confidently and clearly
 4. Ability to please others

Question ID : **65497836552**
Status : **Not Answered**
Chosen Option : --

Q.3 The following sentence has been split into four segments. Identify the segment that contains a grammatical error.

The teacher punished him / and told him / that he does not / need to give a clarification.

- Ans** 1. need to give a clarification
 2. The teacher punished him
 3. that he does not
 4. and told him

Question ID : **65497836550**
Status : **Not Answered**
Chosen Option : --

Q.4 Select the most appropriate synonym of the given word.

Immerse

- Ans** 1. Immediate
 2. Submerge
 3. Submission
 4. Immoral

Question ID : **65497836556**
Status : **Not Answered**
Chosen Option : --

Q.5 Select the most appropriate option to fill in the blank.

If you do not pay your _____ you will be imprisoned.

- Ans 1. debt
 2. debit
 3. deed
 4. damage

Question ID : 65497836561
Status : Not Answered
Chosen Option : --

Q.6 Parts of the given sentence have been given as options. One of them contains a grammatical error. Select the option that has the error.

Go to the ninth block on the left-hand side and take a sharpest turn to reach Bunny's house on the right.

- Ans 1. Bunny's house
 2. on the right
 3. Go to the ninth block
 4. take a sharpest turn

Question ID : 65497836555
Status : Not Answered
Chosen Option : --

Q.7 Select the INCORRECTLY spelt word.

- Ans 1. Accuse
 2. Progress
 3. Acclame
 4. Vicious

Question ID : 65497836549
Status : Not Answered
Chosen Option : --

Q.8 Select the most appropriate option that can substitute the underlined segment in the given sentence. If there is no need to substitute it, select 'No substitution required'.

Skydiving was a rare opportunity that I had got, so, even though I was exhausted, I decided to go for it.

- Ans 1. No substitution required
 2. so despite however
 3. as yet though
 4. still even if

Question ID : 65497836542
Status : Not Answered
Chosen Option : --

Q.9 The following sentence has been split into four segments. Identify the segment that contains a grammatical error.

Philip was / too proud / for extending / a hand of friendship.

- Ans**
- 1. too proud
 - 2. a hand of friendship
 - 3. Philip was
 - 4. for extending

Question ID : **65497836546**
Status : **Not Answered**
Chosen Option : --

Q.10 Select the most appropriate option that can substitute the underlined segment in the given sentence. If there is no need to substitute it, select 'No substitution required'.

The interviews will be held between 11 a.m. to 5 p.m.

- Ans**
- 1. will hold during
 - 2. will be held from
 - 3. No substitution required
 - 4. will be held at

Question ID : **65497836544**
Status : **Not Answered**
Chosen Option : --

Q.11 Select the most appropriate ANTONYM of the given word.

Aggressive

- Ans**
- 1. Calm
 - 2. Excited
 - 3. Sharp
 - 4. Simple

Question ID : **65497836558**
Status : **Not Answered**
Chosen Option : --

Q.12 Select the most appropriate ANTONYM of the given word.

Frivolous

- Ans**
- 1. Quiet
 - 2. Petty
 - 3. Wise
 - 4. Idle

Question ID : **65497836547**
Status : **Not Answered**
Chosen Option : --

Q.13 Select the most appropriate option to fill in the blank.

The _____ cannot be a panacea for all respiratory infections.

- Ans**
- 1. care
 - 2. healing
 - 3. treatment
 - 4. diagnosis

Question ID : **65497836543**
Status : **Not Answered**
Chosen Option : --

Q.14 Select the most appropriate meaning of the given idiom.

Blue blood

- Ans**
- 1. Noble birth
 - 2. Rare sight
 - 3. Bad mood
 - 4. Weak person

Question ID : **65497836560**
Status : **Not Answered**
Chosen Option : --

Q.15 Select the option that can be used as a one-word substitute for the given group of words.

A person who takes care of cattle

- Ans**
- 1. Gardener
 - 2. Landlord
 - 3. Guard
 - 4. Cowherd

Question ID : **65497836545**
Status : **Not Answered**
Chosen Option : --

Q.16 Select the most appropriate synonym of the given word.

Amiable

- Ans**
- 1. Dishonest
 - 2. Disagreeable
 - 3. Honest
 - 4. Friendly

Question ID : **65497836551**
Status : **Not Answered**
Chosen Option : --

Q.17 Select the most appropriate option to fill in the blank.

He has been _____ in his performance throughout.

- Ans 1. consistent
 2. constructive
 3. conducive
 4. connotative

Question ID : 65497836554
Status : Not Answered
Chosen Option : --

Q.18 Select the option that will improve the underlined part of the given sentence. In case no improvement is needed, select 'No improvement required'.

Since he is strong, he is quite timid.

- Ans 1. Although
 2. No improvement required
 3. Because
 4. Besides

Question ID : 65497836559
Status : Not Answered
Chosen Option : --

Q.19 Select the INCORRECTLY spelt word.

- Ans 1. Proactivity
 2. Pronunciation
 3. Procrastination
 4. Prolong

Question ID : 65497836553
Status : Not Answered
Chosen Option : --

Q.20 Select the option that can be used as a one-word substitute for the given group of words.

The action of killing oneself intentionally

- Ans 1. Suicide
 2. Parricide
 3. Genocide
 4. Homicide

Question ID : 65497836557
Status : Not Answered
Chosen Option : --

Comprehension:

In the following passage, some words have been deleted. Read the passage carefully and select the most appropriate option to fill in each blank.

The human skeleton is the (1)_____ framework of our body. It gives shape and support to the body. (2)_____, it provides protection, makes blood cells, stores minerals and regulates hormones. The spinal cord is an (3)_____ part of our body. The ribcage protects our lungs and heart. To increase the (4)_____ of our bones, we should include calcium in our diet. All our (5)_____ organs are protected by this skeletal system.

SubQuestion No : 21

Q.21 Select the most appropriate option to fill in blank no. 1.

- Ans**
- 1. middle
 - 2. internal
 - 3. external
 - 4. superficial

Question ID : **65497836563**
Status : **Not Answered**
Chosen Option : --

Comprehension:

In the following passage, some words have been deleted. Read the passage carefully and select the most appropriate option to fill in each blank.

The human skeleton is the (1)_____ framework of our body. It gives shape and support to the body. (2)_____, it provides protection, makes blood cells, stores minerals and regulates hormones. The spinal cord is an (3)_____ part of our body. The ribcage protects our lungs and heart. To increase the (4)_____ of our bones, we should include calcium in our diet. All our (5)_____ organs are protected by this skeletal system.

SubQuestion No : 22

Q.22 Select the most appropriate option to fill in blank no. 2.

- Ans**
- 1. Beside
 - 2. Besides
 - 3. Unless
 - 4. Although

Question ID : **65497836564**
Status : **Not Answered**
Chosen Option : --

Comprehension:

In the following passage, some words have been deleted. Read the passage carefully and select the most appropriate option to fill in each blank.

The human skeleton is the (1)_____ framework of our body. It gives shape and support to the body. (2)_____, it provides protection, makes blood cells, stores minerals and regulates hormones. The spinal cord is an (3)_____ part of our body. The ribcage protects our lungs and heart. To increase the (4)_____ of our bones, we should include calcium in our diet. All our (5)_____ organs are protected by this skeletal system.

SubQuestion No : 23

Q.23 Select the most appropriate option to fill in blank no. 3.

- Ans 1. eternal
 2. insignificant
 3. alert
 4. important

Question ID : **65497836565**
Status : **Not Answered**
Chosen Option : --

Comprehension:

In the following passage, some words have been deleted. Read the passage carefully and select the most appropriate option to fill in each blank.

The human skeleton is the (1)_____ framework of our body. It gives shape and support to the body. (2)_____, it provides protection, makes blood cells, stores minerals and regulates hormones. The spinal cord is an (3)_____ part of our body. The ribcage protects our lungs and heart. To increase the (4)_____ of our bones, we should include calcium in our diet. All our (5)_____ organs are protected by this skeletal system.

SubQuestion No : 24

Q.24 Select the most appropriate option to fill in blank no. 4.

- Ans 1. ability
 2. strength
 3. value
 4. length

Question ID : **65497836566**
Status : **Not Answered**
Chosen Option : --

Comprehension:

In the following passage, some words have been deleted. Read the passage carefully and select the most appropriate option to fill in each blank.

The human skeleton is the (1)_____ framework of our body. It gives shape and support to the body. (2)_____, it provides protection, makes blood cells, stores minerals and regulates hormones. The spinal cord is an (3)_____ part of our body. The ribcage protects our lungs and heart. To increase the (4)_____ of our bones, we should include calcium in our diet. All our (5)_____ organs are protected by this skeletal system.

SubQuestion No : 25

Q.25 Select the most appropriate option to fill in blank no. 5.

- Ans 1. fundamental
 2. secondary
 3. secret
 4. vital

Question ID : 65497836567
Status : Not Answered
Chosen Option : --

Section : **Part D Hindi**

Q.1 दिये गये वाक्य में रेखांकित अंश को प्रतिस्थापित करने के लिए सबसे उपयुक्त विकल्प का चयन करें।

सब लोग अपनी राय दें।

- Ans 1. अपना
 2. अपनी-अपनी
 3. अपना-अपना
 4. अपने

Question ID : 65497836581
Status : Answered
Chosen Option : 2

Q.2 निम्नलिखित प्रश्न में, दिए गए चार विकल्पों में से, उस विकल्प का चयन करें जो मुहावरे का अर्थ व्यक्त करता है।

गर्दन उठाना

- Ans 1. होश संभालना
 2. विरोध करना
 3. चुप कराना
 4. लज्जित करना

Question ID : 65497836578
Status : Answered
Chosen Option : 2

Q.3 दिए गए वाक्य में रेखांकित खंड को प्रतिस्थापित करने के लिए सबसे उपयुक्त विकल्प का चयन करें। यदि इसे प्रतिस्थापित करने की आवश्यकता नहीं है, तो विकल्प 'किसी बदलाव की आवश्यकता नहीं है' का चयन करें।

गुरू जी की औदार्य की लोग प्रशंसा करते हैं।

- Ans
- 1. किसी बदलाव की आवश्यकता नहीं है।
 - 2. के औदार्य की लोग प्रशंसा करते है।
 - 3. के औदार्य की लोग प्रशंसा करते हैं।
 - 4. की औदार्य का लोग प्रशंसा करते हैं।

Question ID : 65497836571
Status : Answered
Chosen Option : 3

Q.4 जितनी जल्दी हो सके उतनी जल्दी काम कीजिए।

रेखांकित शब्द समूह के स्थान पर उचित शब्द प्रस्थापित कीजिए।

- Ans
- 1. आराम से
 - 2. यथाशीघ्र
 - 3. शांति
 - 4. धीरे -धीरे

Question ID : 65497836583
Status : Answered
Chosen Option : 2

Q.5 दिए गए वाक्य का वो भाग ज्ञात करें जिसमें कोई त्रुटि है। यदि कोई त्रुटि नहीं है, तो 'कोई त्रुटि नहीं है' चुनें।

लोग आपकी (1)\ बुद्धिमत्ता की (2)\ सराहना करते है (3)\ कोई त्रुटि नहीं है (4)

- Ans
- 1. 4
 - 2. 2
 - 3. 1
 - 4. 3

Question ID : 65497836570
Status : Answered
Chosen Option : 1

Q.6 दिये गये वाक्यांश के लिए एक शब्द दीजिये।

जो सब जानता हो

- Ans
- 1. अज्ञ
 - 2. सर्वज्ञ
 - 3. सुज्ञ
 - 4. विज्ञ

Question ID : 65497836577
Status : Answered
Chosen Option : 2

Q.7 रिक्त स्थान को भरने के लिए सबसे उपयुक्त शब्द का चयन करें।

निकम्मे व्यक्ति सदैव ख्याली _____ ही पकाते रहते हैं।

- Ans
- 1. चने
 - 2. चावल
 - 3. खिचड़ी
 - 4. पुलाव

Question ID : 65497836574
Status : Answered
Chosen Option : 3

Q.8 सही वर्तनी वाले शब्द का चयन करें।

- Ans
- 1. आधुनिक
 - 2. आधुनीक
 - 3. अधुनिक
 - 4. आन्धुनिक

Question ID : 65497836580
Status : Answered
Chosen Option : 1

Q.9 दिए गए शब्द का समानार्थी शब्द बताइए।

कथा

- Ans
- 1. आख्यान
 - 2. नाटक
 - 3. गीत
 - 4. उपन्यास

Question ID : 65497836569
Status : Answered
Chosen Option : 4

Q.10 रिक्त स्थान को भरने के लिए सबसे उपयुक्त विकल्प का चयन करें।

तेल का व्यापार उसका खानदानी _____ है।

- Ans
- 1. मन
 - 2. जागीर
 - 3. पेशा
 - 4. शौक

Question ID : 65497836582
Status : Answered
Chosen Option : 3

Q.11 दिए गए शब्द का विलोम चुनें।

ग्राह्य

- Ans 1. अग्राह्य
 2. सुग्राह्य
 3. अपग्राह्य
 4. विग्राह्य

Question ID : 65497836575
Status : Answered
Chosen Option : 4

Q.12 दिये गये वाक्य के किस भाग में त्रुटि है?

हमारी शिक्षा प्रणाली में कई दोष हैं।

- Ans 1. हमारी
 2. दोष हैं।
 3. शिक्षा प्रणाली
 4. में कई

Question ID : 65497836585
Status : Answered
Chosen Option : 3

Q.13 'रजनी' का पर्यायवाची है-

- Ans 1. निशा
 2. शारदा
 3. वसुधा
 4. रमणी

Question ID : 65497836586
Status : Answered
Chosen Option : 1

Q.14 रिक्त स्थान को भरने के लिए सबसे उपयुक्त विकल्प का चयन करें।

निखिल हारमोनियम बजाने में _____ है।

- Ans 1. प्रवीण
 2. दक्ष
 3. निपुण
 4. कारीगर

Question ID : 65497836587
Status : Answered
Chosen Option : 3

Q.15 दिए गए वाक्य का वो भाग ज्ञात करें जिसमें कोई त्रुटि है। यदि कोई त्रुटि नहीं है, तो 'कोई त्रुटि नहीं है' चुनें।

युवराज ने (1) एक ओवर में (2) छह छक्के लगाया (3) कोई त्रुटि नहीं है (4)

- Ans
- 1. 4
 - 2. 1
 - 3. 2
 - 4. 3

Question ID : 65497836568
Status : Answered
Chosen Option : 4

Q.16 सही वर्तनी वाले शब्द का चयन करें।

- Ans
- 1. आशिवादी
 - 2. आशीवाद
 - 3. आशिरवाद
 - 4. आशीर्वाद

Question ID : 65497836579
Status : Answered
Chosen Option : 4

Q.17 'एकाएक घटित होने वाला' वाक्यांश के लिए एक शब्द होगा-

- Ans
- 1. आकस्मिक
 - 2. यांत्रिक
 - 3. तात्कालिक
 - 4. आश्चर्य

Question ID : 65497836584
Status : Answered
Chosen Option : 1

Q.18 दिए गये वाक्यांश के लिए एक शब्द दीजिये।

जिसके समान कोई दूसरा न हो

- Ans
- 1. अद्भुत
 - 2. अद्वितीय
 - 3. अनूठा
 - 4. अनुपम

Question ID : 65497836573
Status : Answered
Chosen Option : 2

Q.19 दिए गए शब्द के विलोम शब्द का चयन करें।

ऐक्य

- Ans 1. अनेक
 2. अनैक्य
 3. मतैक्य
 4. विभाज्य

Question ID : 65497836572
Status : Answered
Chosen Option : 1

Q.20 निम्नलिखित प्रश्न में, दिए गए चार विकल्पों में से, उस विकल्प का चयन करें जो मुहावरे का अर्थ व्यक्त करता है।

गुरु घंटाल होना

- Ans 1. अयोग्य होना
 2. मूर्ख होना
 3. आलसी होना
 4. बहुत धूर्त होना

Question ID : 65497836576
Status : Answered
Chosen Option : 2

Comprehension:

दिए गए गद्यांश में कुछ शब्द हटा दिए गए हैं। दिए गए विकल्पों की सहायता से रिक्त स्थान भरें। प्रत्येक संख्या के लिए सबसे उपयुक्त विकल्प का चयन करें।

अपने इतिहास के अधिकांश कालों में भारत एक सांस्कृतिक इकाई होते हुए भी पारस्परिक युद्धों से (1) _____ होता रहा। यहाँ के शासक अपने शासन-कौशल में धूर्त एवं (2) _____ थे। समय-समय पर यहाँ दुर्भिक्ष, (3) _____ तथा प्लेग के प्रकोप होते रहे, जिससे सहस्रों व्यक्तियों की मृत्यु हुई। (4) _____ असमानता धर्मसंगत मानी गई, जिसके फलस्वरूप नीच कुल के व्यक्तियों का जीवन (5) _____ बन गया। इन सबके होते हुए भी हमारा विचार है कि पुरातन संसार के किसी भी भाग में मनुष्य के मनुष्य तथा मनुष्य के राज से ऐसे सुंदर एवं मानवीय संबंध नहीं रहे हैं। गद्यांश के आधार पर उत्तर दीजिए।

SubQuestion No : 21

Q.21 गद्यांश के रिक्त स्थान (1) के लिए सर्वाधिक उपयुक्त शब्द होगा-

- Ans 1. विकसित
 2. जर्जर
 3. पोषित
 4. आप्लावित

Question ID : 65497836589
Status : Answered
Chosen Option : 4

Comprehension:

दिए गए गद्यांश में कुछ शब्द हटा दिए गए हैं। दिए गए विकल्पों की सहायता से रिक्त स्थान भरें। प्रत्येक संख्या के लिए सबसे उपयुक्त विकल्प का चयन करें।

अपने इतिहास के अधिकांश कालों में भारत एक सांस्कृतिक इकाई होते हुए भी पारस्परिक युद्धों से (1) _____ होता रहा। यहाँ के शासक अपने शासन-कौशल में धूर्त एवं (2) _____ थे। समय-समय पर यहाँ दुर्भिक्ष, (3) _____ तथा प्लेग के प्रकोप होते रहे, जिससे सहस्त्रों व्यक्तियों की मृत्यु हुई। (4) _____ असमानता धर्मसंगत मानी गई, जिसके फलस्वरूप नीच कुल के व्यक्तियों का जीवन (5) _____ बन गया। इन सबके होते हुए भी हमारा विचार है कि पुरातन संसार के किसी भी भाग में मनुष्य के मनुष्य तथा मनुष्य के राज से ऐसे सुंदर एवं मानवीय संबंध नहीं रहे हैं।
गद्यांश के आधार पर उत्तर दीजिए।

SubQuestion No : 22

Q.22 गद्यांश के रिक्त स्थान (2) के लिए सर्वाधिक उपयुक्त शब्द होगा-

- Ans** 1. असावधान
 2. सुरक्षित
 3. सतर्क
 4. सहनशील

Question ID : 65497836590

Status : Answered

Chosen Option : 1

Comprehension:

दिए गए गद्यांश में कुछ शब्द हटा दिए गए हैं। दिए गए विकल्पों की सहायता से रिक्त स्थान भरें। प्रत्येक संख्या के लिए सबसे उपयुक्त विकल्प का चयन करें।

अपने इतिहास के अधिकांश कालों में भारत एक सांस्कृतिक इकाई होते हुए भी पारस्परिक युद्धों से (1) _____ होता रहा। यहाँ के शासक अपने शासन-कौशल में धूर्त एवं (2) _____ थे। समय-समय पर यहाँ दुर्भिक्ष, (3) _____ तथा प्लेग के प्रकोप होते रहे, जिससे सहस्त्रों व्यक्तियों की मृत्यु हुई। (4) _____ असमानता धर्मसंगत मानी गई, जिसके फलस्वरूप नीच कुल के व्यक्तियों का जीवन (5) _____ बन गया। इन सबके होते हुए भी हमारा विचार है कि पुरातन संसार के किसी भी भाग में मनुष्य के मनुष्य तथा मनुष्य के राज से ऐसे सुंदर एवं मानवीय संबंध नहीं रहे हैं।
गद्यांश के आधार पर उत्तर दीजिए।

SubQuestion No : 23

Q.23 गद्यांश के रिक्त स्थान (3) के लिए सर्वाधिक उपयुक्त शब्द होगा-

- Ans** 1. सूख
 2. अन्न
 3. वस्त्र
 4. बाढ़

Question ID : 65497836591

Status : Answered

Chosen Option : 1

Comprehension:

दिए गए गद्यांश में कुछ शब्द हटा दिए गए हैं। दिए गए विकल्पों की सहायता से रिक्त स्थान भरें। प्रत्येक संख्या के लिए सबसे उपयुक्त विकल्प का चयन करें।

अपने इतिहास के अधिकांश कालों में भारत एक सांस्कृतिक इकाई होते हुए भी पारस्परिक युद्धों से (1) _____ होता रहा। यहाँ के शासक अपने शासन-कौशल में धूर्त एवं (2) _____ थे। समय-समय पर यहाँ दुर्भिक्ष, (3) _____ तथा प्लेग के प्रकोप होते रहे, जिससे सहस्त्रों व्यक्तियों की मृत्यु हुई। (4) _____ असमानता धर्मसंगत मानी गई, जिसके फलस्वरूप नीच कुल के व्यक्तियों का जीवन (5) _____ बन गया। इन सबके होते हुए भी हमारा विचार है कि पुरातन संसार के किसी भी भाग में मनुष्य के मनुष्य तथा मनुष्य के राज से ऐसे सुंदर एवं मानवीय संबंध नहीं रहे हैं।
गद्यांश के आधार पर उत्तर दीजिए।

SubQuestion No : 24

Q.24 गद्यांश के रिक्त स्थान (4) के लिए सर्वाधिक उपयुक्त शब्द होगा-

- Ans**
- 1. स्थानगत
 - 2. कर्मगत
 - 3. जन्मजात
 - 4. अर्थाधारित

Question ID : 65497836592

Status : Answered

Chosen Option : 3

Comprehension:

दिए गए गद्यांश में कुछ शब्द हटा दिए गए हैं। दिए गए विकल्पों की सहायता से रिक्त स्थान भरें। प्रत्येक संख्या के लिए सबसे उपयुक्त विकल्प का चयन करें।

अपने इतिहास के अधिकांश कालों में भारत एक सांस्कृतिक इकाई होते हुए भी पारस्परिक युद्धों से (1) _____ होता रहा। यहाँ के शासक अपने शासन-कौशल में धूर्त एवं (2) _____ थे। समय-समय पर यहाँ दुर्भिक्ष, (3) _____ तथा प्लेग के प्रकोप होते रहे, जिससे सहस्त्रों व्यक्तियों की मृत्यु हुई। (4) _____ असमानता धर्मसंगत मानी गई, जिसके फलस्वरूप नीच कुल के व्यक्तियों का जीवन (5) _____ बन गया। इन सबके होते हुए भी हमारा विचार है कि पुरातन संसार के किसी भी भाग में मनुष्य के मनुष्य तथा मनुष्य के राज से ऐसे सुंदर एवं मानवीय संबंध नहीं रहे हैं।
गद्यांश के आधार पर उत्तर दीजिए।

SubQuestion No : 25

Q.25 गद्यांश के रिक्त स्थान (5) के लिए सर्वाधिक उपयुक्त शब्द होगा-

- Ans**
- 1. सम्पन्न
 - 2. अविकसित
 - 3. अभिशाप
 - 4. खुशनुमा

Question ID : 65497836593

Status : Answered

Chosen Option : 3