

Constable GD in CAPFs NIA SSF and Rifleman GD in Assam Rifles Examination 2021

Roll Number	www.GovtJobsAlert.In
Candidate Name	www.GovtJobsAlert.In
Venue Name	iON Digital Zone iDZ4 Patliputra
Exam Date	18/11/2021
Exam Time :	4:00 PM - 5:30 PM
Subject	Constable GD 2021

Section : Part A General Intelligence and Reasoning

Q.1 I, II, III, IV, V और VI संख्याओं द्वारा चिह्नित एक ही पासे की दो विभिन्न स्थितियाँ दर्शाई गई हैं। उस संख्या का चयन करें जो 'IV' संख्या दर्शाने वाले फलक के विपरीत फलक पर होगी।



- Ans
- 1. V
 - 2. VI
 - 3. III
 - 4. II

Question ID : 65497832787
Status : Answered
Chosen Option : 2

Q.2 एक निश्चित कूट भाषा में, 'MAGNET' को 'HFTIJO' लिखा जाता है। उसी कूट भाषा में 'CULPRIT' को क्या लिखा जाएगा?

- Ans
- 1. XPGUWDO
 - 2. XZGKMNO
 - 3. XPQUMNO
 - 4. XZOKINO

Question ID : 65497832803
Status : Not Answered
Chosen Option : --

Q.3 एक काल्पनिक गणितीय प्रणाली में, प्रतीक '-' का अर्थ जोड़ है, प्रतीक '+' का अर्थ विभाजन है, प्रतीक 'x' का अर्थ घटाव है, और प्रतीक '÷' का अर्थ गुणा है। निम्नलिखित व्यंजक का मान क्या होगा?

$$144 \times 35 + 7 \div 12 - 3$$

- Ans
- 1. 43
 - 2. 95
 - 3. 87
 - 4. 107

Question ID : 65497832786
Status : Answered
Chosen Option : 3

Q.4 दिए गए विकल्पों में से उस अक्षर-समूह का चयन करें, जो निम्नलिखित श्रृंखला में प्रश्नवाचक चिह्न (?) के स्थान पर आ सकता है।

UKT, PFO, KAJ, ?

- Ans 1. FVE
 2. GHM
 3. EVO
 4. FEQ

Question ID : 65497832798
Status : Answered
Chosen Option : 1

Q.5 जिस प्रकार 'फैक्टरी', 'उत्पादन' से संबंधित है, उसी प्रकार 'रसोई', '_____ ' से संबंधित है।

- Ans 1. सब्जी
 2. फलों
 3. आयोजन
 4. पकाने

Question ID : 65497832799
Status : Answered
Chosen Option : 4

Q.6 उस सही विकल्प का चयन कीजिए जो दिए गए शब्दों के उस क्रम को दर्शाता है जिस क्रम में वे अंग्रेजी शब्दकोश में आते हैं।

- i. Monkey
ii. Money
iii. Monotony
iv. Monarch
v. Monster

- Ans 1. i, ii, iii, iv, v
 2. iv, ii, i, iii, v
 3. ii, i, iv, v, iii
 4. iv, iii, i, ii, v

Question ID : 65497832789
Status : Answered
Chosen Option : 2

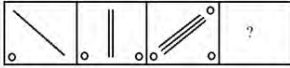
Q.7 उस संख्या की पहचान करें, जो निम्नलिखित श्रेणी से संबंधित नहीं है।

16, 17, 25, 52, 116, 243

- Ans 1. 243
 2. 52
 3. 25
 4. 116

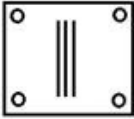
Question ID : 65497832807
Status : Answered
Chosen Option : 1

Q.8 दिए गए विकल्पों में से उस आकृति का चयन करें जो नीचे दी गई श्रृंखला में प्रश्न चिह्न (?) के स्थान पर आ सकती है।

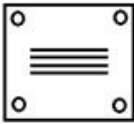


Ans

1.



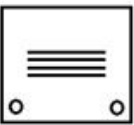
2.



3.



4.



Question ID : 65497832792

Status : Answered

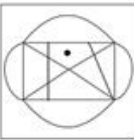
Chosen Option : 2

Q.9 उस विकल्प का चयन करें जिसमें दी गई आकृति अंतर्निहित है (घुमाने की अनुमति नहीं है)।

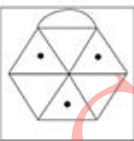


Ans

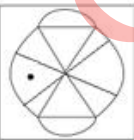
1.



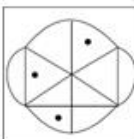
2.



3.



4.



Question ID : 65497832788

Status : Answered

Chosen Option : 4

Q.10 छः मित्र P, Q, R, S, T और U एक-दूसरे से समान दूरी पर एक वृत्ताकार मेज के चारों ओर केंद्र की ओर मुंह करके हुए बैठे हैं। S, U और Q के बीच बैठा है। P, S के बाएं दूसरे और T के दाएं दूसरे स्थान पर बैठा है। Q, T और S के बीच बैठा है। S के सामने कौन बैठा है?

- Ans 1. R
 2. T
 3. P
 4. U

Question ID : 65497832800
Status : Answered
Chosen Option : 1

Q.11 चार अक्षर-समूह दिए गए हैं, जिनमें से तीन किसी तरह से संगत हैं और एक असंगत है। उस अक्षर-समूह का चयन करें, जो अन्य से असंगत है।

- Ans 1. ZUP
 2. LGB
 3. FAU
 4. MHC

Question ID : 65497832805
Status : Answered
Chosen Option : 3

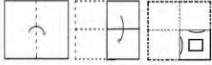
Q.12 छः विद्यार्थी अणिमा, रोहित, किरण, सीमा, जया और मनीष, एक विद्यालय में शीर्ष छह रैंक धारक हैं। रोहित की रैंक किरण और सीमा की रैंक के बीच है। रोहित चौथी रैंक पर है। जया और सीमा की रैंक के बीच दो विद्यार्थी हैं। सभी छः विद्यार्थियों के बीच जया सबसे निचली रैंक पर है। मनीष की रैंक अणिमा की रैंक से ठीक ऊपर है।

पांचवीं रैंक पर कौन है?

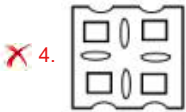
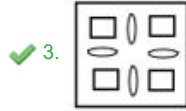
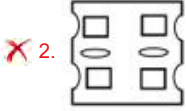
- Ans 1. किरण
 2. सीमा
 3. अणिमा
 4. मनीष

Question ID : 65497832784
Status : Answered
Chosen Option : 1

Q.13 नीचे दी गई आकृतियों में कागज़ के एक टुकड़े को मोड़ने और मोड़े गए कागज़ को काटने के तरीके का क्रम दर्शाया गया है। कागज़ को खोले जाने पर वह कैसा दिखाई देगा?



Ans



Question ID : 65497832797

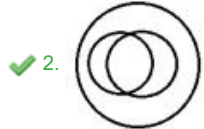
Status : Answered

Chosen Option : 3

Q.14 उस वेन आरेख का चयन करें, जो निम्नलिखित वर्गों के बीच के संबंध को सबसे अच्छे तरीके से दर्शाता है।

पृथ्वी, वन, वृक्ष

Ans



Question ID : 65497832801

Status : Answered

Chosen Option : 2

Q.15 उस विकल्प का चयन करें जो तीसरी संख्या से उसी प्रकार संबंधित है जिस प्रकार दूसरी संख्या पहली संख्या से संबंधित है।

11 : 121 :: 17 : ?

Ans 1. 305

2. 289

3. 360

4. 256

Question ID : 65497832785

Status : Answered

Chosen Option : 2

Q.16 एक निश्चित कूट भाषा में, 'SLAM' को '5736339' लिखा जाता है, और 'TOY' को '604575' लिखा जाता है। उसी कूट भाषा में 'CLEAR' को क्या लिखा जाएगा?

Ans 1. 93612651

2. 93618357

3. 93615354

4. 63915354

Question ID : 65497832806

Status : Not Answered

Chosen Option : --

Q.17 रवली का कोई भाई नहीं है। गिरिमा, अर्जुन की पत्नी है। जाकिर, मालवी का पति है। छाया, रवली की पुत्री है। फातिमा, अर्जुन की पुत्री है। मालवी, रवली की मां है। गिरिमा, छाया की मौसी है। गिरिमा का जाकिर से क्या संबंध है?

Ans 1. पुत्री

2. बहू

3. साली

4. बहन

Question ID : 65497832804

Status : Answered

Chosen Option : 1

Q.18 एक निश्चित कूट भाषा में, 'CALM' को 'DCOQ' के रूप में लिखा जाता है। उसी कूट भाषा में 'COOK' को किस रूप में लिखा जाएगा?

Ans 1. DROQ

2. DQRO

3. DORQ

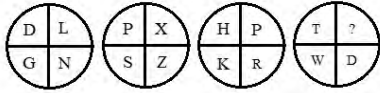
4. DPRQ

Question ID : 65497832793

Status : Answered

Chosen Option : 2

Q.19 दिए गए पैटर्न का ध्यानपूर्वक अध्ययन करें और उस अक्षर का चयन करें जो इसमें प्रश्न चिह्न (?) के स्थान पर आ सकता है।



- Ans 1. A
 2. Y
 3. Z
 4. B

Question ID : 65497832790
 Status : Answered
 Chosen Option : 4

Q.20 दिए गए विकल्पों में से उस संख्या का चयन करें जो निम्नलिखित श्रृंखला में प्रश्न चिह्न (?) के स्थान पर आ सकती है।

1, 2, 9, 64, ?

- Ans 1. 225
 2. 625
 3. 450
 4. 570

Question ID : 65497832791
 Status : Answered
 Chosen Option : 2

Q.21 रोहित अपनी मासिक आय का 15% कल्याण निधि में दान करता है। शेष आय निम्नलिखित तरीके से खर्च की जाती है: भोजन पर 35%, किराए पर 20%, बिलों पर 17%, कपड़ों पर 8% और शेष को बचत के रूप में रखा जाता है। यदि प्रत्येक माह बचाई गई धन-राशि ₹14,620 है, तो रोहित की मासिक आय कितनी है?

- Ans 1. ₹86,000
 2. ₹82,000
 3. ₹75,300
 4. ₹73,100

Question ID : 65497832796
 Status : Answered
 Chosen Option : 1

Q.22 उस विकल्प का चयन कीजिए जिसका तीसरे पद से वही संबंध है जो दूसरे पद का पहले पद से है।

INSERT: NIXZTR:: SECOND: ?

- Ans 1. ESHJDN
 2. EHSJDN
 3. ESJDHN
 4. EHHJND

Question ID : 65497832802
 Status : Answered
 Chosen Option : 1

Q.23 दिए गए पैटर्न का ध्यानपूर्वक अध्ययन करें और उस संख्या का चयन करें जो इसमें प्रश्न चिह्न (?) के स्थान पर आ सकती है।

64 12 27
216 ? 343
512 40 125

- Ans 1. 64
 2. 95
 3. 42
 4. 72

Question ID : 65497832795
Status : Answered
Chosen Option : 3

Q.24 दिए गए कथनों और निष्कर्षों को ध्यान से पढ़ें। यह मानते हुए कि कथनों में दी गई जानकारी सत्य है, भले ही यह सामान्य रूप से ज्ञात तथ्यों से भिन्न प्रतीत होती हो, यह निर्णय लें कि दिए गए निष्कर्षों में से कौन से निष्कर्ष कथनों का तार्किक रूप से अनुसरण करते हैं।

कथन:
सभी फल, तने हैं।
कुछ फल, पत्तियां हैं।

निष्कर्ष:
I. कुछ तने, पत्तियां हैं।
II. कुछ पत्तियां, फल हैं।

- Ans 1. केवल निष्कर्ष I अनुसरण करता है।
 2. केवल निष्कर्ष II अनुसरण करता है।
 3. न तो निष्कर्ष I और न ही II अनुसरण करता है।
 4. निष्कर्ष I और II दोनों अनुसरण करते हैं।

Question ID : 65497832794
Status : Answered
Chosen Option : 4

Q.25 दिए गए संयोजन के सही दर्पण प्रतिबिंब का चयन कीजिए, जबकि दर्पण को इसकी दाईं ओर रखा गया है।

6 T Y G z 2

- Ans 1. 2 Z G Y T 6
 2. 2 z G Y T 6
 3. 6 T Y G z 2
 4. 2 z G Y T 6

Question ID : 65497832808
Status : Answered
Chosen Option : 2

Section : Part B General Knowledge and General Awareness

Q.1 विश्व इस्पात संघ {World Steel Association (worldsteel)} के अनुसार निम्नलिखित में से कौन सा देश अक्टूबर 2020 तक दुनिया का दूसरा सबसे बड़ा इस्पात उत्पादक देश है?

- Ans
- 1. भारत
 - 2. म्यांमार
 - 3. जापान
 - 4. चीन

Question ID : 65497832828
Status : Not Answered
Chosen Option : --

Q.2 निम्नलिखित में से कौन सा रोग मुख्यतः एडीज़ मच्छरों द्वारा फैलाए जाने वाले वायरस के कारण होता है?

- Ans
- 1. मलेरिया
 - 2. जीका बुखार
 - 3. तुलारेमिया
 - 4. मीनामाता

Question ID : 65497832816
Status : Answered
Chosen Option : 1

Q.3 नवंबर 2020 में, उपराष्ट्रपति द्वारा आभासी रूप में शुरू किया गया 'अंतर्राष्ट्रीय सातवधनम' कार्यक्रम निम्न में से किससे संबंधित है?

- Ans
- 1. साहित्य
 - 2. खाद्य सुरक्षा
 - 3. भारतीय नौसेना
 - 4. औषधि

Question ID : 65497832818
Status : Not Answered
Chosen Option : --

Q.4 भारत का केंद्रीय बजट तैयार करने वाला बजट प्रभाग, वित्त मंत्रालय के अधीन _____ विभाग का एक हिस्सा है।

- Ans
- 1. वित्तीय सेवाएं
 - 2. आर्थिक मामले
 - 3. निवेश और सार्वजनिक परिसंपत्ति प्रबंधन
 - 4. राजस्व

Question ID : 65497832830
Status : Answered
Chosen Option : 1

Q.5 निम्नलिखित में से कौन सा पारिभाषिक शब्द उन प्रजातियों के लिए प्रयुक्त है जो स्थानीय आवास के प्राकृतिक आवासी नहीं हैं, लेकिन इस तंत्र में शामिल होते हैं?

- Ans
- 1. स्थानिक (Endemic)
 - 2. विजातीय (Exotic)
 - 3. जीवोम (Biome)
 - 4. अजैव (Abiotic)

Question ID : 65497832810
Status : Answered
Chosen Option : 2

Q.6 एत्माद-उद-दौला (या इतिमाद-उद-दौला) का मकबरा कहाँ स्थित है?

- Ans
- 1. औरंगाबाद
 - 2. फतेहपुर सीकरी
 - 3. आगरा
 - 4. शाहजहानाबाद

Question ID : 65497832829
Status : Not Answered
Chosen Option : --

Q.7 केंद्रीय बजट 2020 में वरिष्ठ नागरिकों और दिव्यांग व्यक्तियों के लिए कितनी निधि (धन-राशि) आवंटित की गई थी?

- Ans
- 1. ₹9,500 करोड़
 - 2. ₹8,500 करोड़
 - 3. ₹10,000 करोड़
 - 4. ₹7,500 करोड़

Question ID : 65497832819
Status : Not Answered
Chosen Option : --

Q.8 अक्टूबर 2020 में, कंबोडिया में भारत के राजदूत के रूप में किसे नियुक्त किया गया था?

- Ans
- 1. मनिका जैन
 - 2. के नंदिनी सिंगला
 - 3. देवयानी उत्तम खोबरागड़े
 - 4. नरिंदर चौहान

Question ID : 65497832822
Status : Not Answered
Chosen Option : --

Q.9 यदि n , परमाणु का ऊर्जा स्तर सूचकांक है, तो M कक्षक के लिए, n _____ के बराबर है।

- Ans
- 1. 4
 - 2. 3
 - 3. 1
 - 4. 2

Question ID : 65497832812
Status : Answered
Chosen Option : 4

Q.10 _____ अवध का अंतिम नवाब था।

- Ans
- 1. मीर जाफर
 - 2. मंसूर अली खान
 - 3. वाजिद अली शाह
 - 4. अलीवर्दी खान

Question ID : 65497832825
Status : Answered
Chosen Option : 1

Q.11 निम्नलिखित में से कौन सी परिस्थिति कॉफी बागानों को नुकसान पहुंचा सकती है?

- Ans
- 1. गर्म और आर्द्र जलवायु
 - 2. दोमट मिट्टी, जिसमें ह्यूमस और आयरन तथा कैल्शियम जैसे खनिज होते हैं
 - 3. दानों के पकने के समय वर्षा का होना
 - 4. 150 और 250 cm के बीच वर्षा

Question ID : 65497832831
Status : Answered
Chosen Option : 1

Q.12 किस संशोधन के तहत गोवा को पूर्ण राज्य का दर्जा दिया गया था?

- Ans
- 1. 56वें
 - 2. 61वें
 - 3. 71वें
 - 4. 52वें

Question ID : 65497832821
Status : Not Answered
Chosen Option : --

Q.13 FPI में प्रतिभूति और अन्य वित्तीय परिसंपत्तियां शामिल होती हैं, जो विदेशी निवेशकों द्वारा निष्क्रिय रूप से रखी जाती हैं। FPI का पूर्ण रूप क्या है?

- Ans
- 1. फ़ॉरेन पेमेंट इनवेस्टमेंट (Foreign Payment Investment)
 - 2. फ़ॉरेन पोर्टफोलियो इनवेस्टमेंट (Foreign Portfolio Investment)
 - 3. फाइनल पोर्टफोलियो इनवेस्टमेंट (Final Portfolio Investment)
 - 4. फाइनल पेमेंट इनवेस्टमेंट (Final Payment Investment)

Question ID : 65497832815
Status : Not Answered
Chosen Option : --

Q.14 किस किले को मराठा साम्राज्य का पहला स्तंभ माना जाता है?

- Ans
- 1. राजगढ़
 - 2. पन्हाला
 - 3. प्रचंडगढ़
 - 4. सिंधुदुर्ग

Question ID : 65497832826
Status : Not Answered
Chosen Option : --

Q.15 भारत में पूना के मराठा पेशवा बाजी राव द्वितीय और अंग्रेजों के बीच बसई की संधि पर हस्ताक्षर किस वर्ष किए गए थे?

- Ans
- 1. 1810
 - 2. 1820
 - 3. 1801
 - 4. 1802

Question ID : 65497832820
Status : Not Answered
Chosen Option : --

Q.16 लेफ्टिनेंट जनरल गुरमीत सिंह को सितंबर 2021 में _____ का राज्यपाल नियुक्त किया गया था।

- Ans
- 1. तमिलनाडु
 - 2. पंजाब
 - 3. उत्तराखंड
 - 4. नागालैंड

Question ID : 65497832832
Status : Not Answered
Chosen Option : --

Q.17 सितंबर 2021 में, निम्न में से किसने पैरालंपिक्स में पदक जीतने वाले पहले आईएस (IAS) अधिकारी होने का गौरव हासिल किया?

- Ans
- 1. निषाद कुमार
 - 2. देवेंद्र झाझरिया
 - 3. सुहास यतिराज
 - 4. सिंहराज अधाना

Question ID : 65497832833
Status : Answered
Chosen Option : 2

Q.18 निम्नलिखित में से कौन सी टीम आईपीएल-2020 में उपविजेता रही?

- Ans
- 1. मुंबई इंडियंस
 - 2. दिल्ली कैपिटल्स
 - 3. रॉयल चैलेंजर्स बेंगलोर
 - 4. सनराइजर्स हैदराबाद

Question ID : 65497832809
Status : Answered
Chosen Option : 4

Q.19 बेरीनाग का जल-स्रोत, उत्तर भारत की नदी _____ का मुख्य स्रोत है।

- Ans
- 1. झेलम
 - 2. ब्यास
 - 3. रावी
 - 4. चेनाब

Question ID : 65497832823
Status : Answered
Chosen Option : 1

Q.20 किसी तरल पदार्थ द्वारा लगाए जाने वाले घर्षण बल को निम्न में से क्या नाम दिया गया है?

- Ans
- 1. अपरूपण
 - 2. तलकर्षण
 - 3. पृष्ठ तनाव
 - 4. उत्प्लावन

Question ID : 65497832813
Status : Answered
Chosen Option : 3

Q.21 भारतीय वन्यजीव (संरक्षण) अधिनियम, 1972 की निम्नलिखित अनुसूचियों में से किसके तहत गंगा के डॉल्फिन संरक्षित किए गए हैं?

- Ans
- 1. पांचवी अनुसूची
 - 2. तीसरी अनुसूची
 - 3. पहली अनुसूची
 - 4. सातवीं अनुसूची

Question ID : 65497832827
Status : Not Answered
Chosen Option : --

Q.22 राष्ट्रीय बैडमिंटन चैम्पियनशिप 2019 कहाँ आयोजित की गई थी?

- Ans
- 1. इंदौर
 - 2. लखनऊ
 - 3. गुवाहाटी
 - 4. चंडीगढ़

Question ID : 65497832824
Status : Answered
Chosen Option : 3

Q.23 तेंगबोचे मठ किस देश में या भारत के किस राज्य में स्थित है?

- Ans
- 1. सिक्किम
 - 2. अरुणाचल प्रदेश
 - 3. नेपाल
 - 4. भूटान

Question ID : 65497832811
Status : Not Answered
Chosen Option : --

Q.24 हड़प्पा लिपि के दस बड़े आकार के चिह्नों वाला एक शिलालेख निम्न में से किस स्थान पर पाया गया था?

- Ans
- 1. बनवाली
 - 2. कालीबंगा
 - 3. धोलावीरा
 - 4. कोट दीजी

Question ID : 65497832817
Status : Not Answered
Chosen Option : --

Q.25 'वॉकिंग विद कॉमरेड्स' नामक पुस्तक के लेखक का नाम क्या है?

- Ans
- 1. विक्रम सेठ
 - 2. झुम्पा लाहिड़ी
 - 3. अरुंधति रॉय
 - 4. किरण देसाई

Question ID : 65497832814
Status : Not Answered
Chosen Option : --

Section : Part C Elementary Mathematics

Q.1 दस क्रमागत विषम संख्याओं का औसत 46 है। सबसे छोटी और सबसे बड़ी संख्या का औसत ज्ञात कीजिए।

- Ans
- 1. 50
 - 2. 46
 - 3. 38
 - 4. 54

Question ID : 65497832837
Status : Answered
Chosen Option : 2

Q.2 दो संख्याओं का योगफल 342 है और उनका महत्तम समापवर्तक (HCF) 19 है। ऐसी संख्याओं के कितने युग्म बनाए जा सकते हैं?

- Ans
- 1. 3
 - 2. 6
 - 3. 2
 - 4. 4

Question ID : 65497832836
Status : Answered
Chosen Option : 2

Q.3 एक वस्तु को ₹242.50 में बेचने पर, 3% की हानि होती है। यदि वस्तु को 13% के लाभ पर बेचा जाए, तो विक्रय मूल्य क्या होगा?

- Ans
- 1. ₹300.60
 - 2. ₹270.40
 - 3. ₹275.80
 - 4. ₹282.50

Question ID : 65497832851
Status : Answered
Chosen Option : 4

Q.4 एक दुकानदार ने अपने स्टॉक का $\frac{1}{4}$ हिस्सा 25% के लाभ पर और शेष स्टॉक को 19% के लाभ पर बेचा। उसका कुल लाभ प्रतिशत ज्ञात करें।

- Ans
- 1. 20.5%
 - 2. 18.7%
 - 3. 12.9%
 - 4. 22.5%

Question ID : 65497832834
Status : Answered
Chosen Option : 1

Q.5 ₹x की एक धनराशि को A, B और C के बीच इस प्रकार विभाजित किया जाता है कि A और B के हिस्सों का अनुपात 3 : 5 है तथा B और C के हिस्सों का अनुपात 4 : 7 है। यदि B और C के हिस्सों के बीच का अंतर ₹1,455 है, तो x का मान ज्ञात कीजिए।

- Ans**
- ✓ 1. ₹6,499
 - ✗ 2. ₹5,335
 - ✗ 3. ₹3,395
 - ✗ 4. ₹6,944

Question ID : 65497832838
Status : Answered
Chosen Option : 1

Q.6 $5 \div [6 \text{ of } 2 + (3 \times 7 \div (5 \text{ of } 3))]$ का मान ज्ञात कीजिए।

- Ans**
- ✗ 1. $\frac{67}{15}$
 - ✓ 2. $\frac{25}{67}$
 - ✗ 3. $\frac{67}{5}$
 - ✗ 4. $\frac{17}{25}$

Question ID : 65497832852
Status : Answered
Chosen Option : 2

Q.7 दो संख्याएं एक तीसरी संख्या से क्रमशः 8% और 28% अधिक हैं। उन दोनों संख्याओं का अनुपात कितना है?

- Ans**
- ✓ 1. 27 : 32
 - ✗ 2. 2 : 7
 - ✗ 3. 5 : 6
 - ✗ 4. 5 : 9

Question ID : 65497832856
Status : Answered
Chosen Option : 1

Q.8 एक व्यक्ति अपने घर से निकलकर 4 km/h की चाल से चलते हुए अपने कार्यालय को जाता है और 2 km/h की चाल से वापस लौटता है। यदि उसे आने और जाने में 6 hours लगते हैं, तो उसके घर और कार्यालय के बीच की दूरी कितनी है?

- Ans**
- ✓ 1. 8 km
 - ✗ 2. 6 km
 - ✗ 3. 8.5 km
 - ✗ 4. 4 km

Question ID : 65497832843
Status : Answered
Chosen Option : 1

Q.9 एक निश्चित धनराशि पर समान वार्षिक साधारण व्याज की दर से 3 वर्षों में प्राप्त मिश्रधन ₹17,925 और 7 वर्षों में प्राप्त मिश्रधन ₹21,825 है। ₹18,500 की धनराशि पर पूर्व की दोगुनी व्याज दर से $4\frac{2}{5}$ वर्ष में प्राप्त साधारण व्याज कितना होगा?

- Ans**
- 1. 7,625
 - 2. 8,245
 - 3. 10,582
 - 4. 9,876

Question ID : 65497832835
Status : Answered
Chosen Option : 3

Q.10 6 cm ऊंचाई और 16 cm आधार के व्यास वाले किसी ठोस लंब वृत्तीय बेलन में ड्रिल करके एक शंक्वाकार छिद्र किया जाता है। शंकु की ऊंचाई और आधार का व्यास बेलन की ऊंचाई और आधार के व्यास के बराबर हैं। शेष ठोस का संपूर्ण पृष्ठीय क्षेत्रफल कितना है?

- Ans**
- 1. $440\pi\text{ cm}^2$
 - 2. $240\pi\text{ cm}^2$
 - 3. $210\pi\text{ cm}^2$
 - 4. $220\pi\text{ cm}^2$

Question ID : 65497832841
Status : Answered
Chosen Option : 2

Q.11 ₹2,800 मूल्य वाले जूतों की एक जोड़ी पर एक जूता कंपनी 25% और 42% की दो क्रमिक छूटें देती है। जूतों की जोड़ी का अंतिम विक्रय मूल्य (₹ में) कितना होगा?

- Ans**
- 1. 1,218
 - 2. 1,228
 - 3. 1,210
 - 4. 1,220

Question ID : 65497832855
Status : Answered
Chosen Option : 1

Q.12 P किसी कार्य के $\frac{1}{3}$ भाग को 6 दिनों में पूरा कर सकता है और Q उसी कार्य के $\frac{1}{4}$ भाग को 9 दिनों में पूरा कर सकता है। यदि दोनों एकसाथ कार्य करते हैं और उन्हें कुल मिलाकर ₹210 का अग्रिम भुगतान किया जाता है, तो Q को कितने रुपए मिलेंगे?

- Ans**
- 1. ₹70
 - 2. ₹95
 - 3. ₹140
 - 4. ₹105

Question ID : 65497832854
Status : Answered
Chosen Option : 1

Q.13 तीन संख्याओं का औसत 180 है। यदि तीसरी संख्या पहली संख्या के $\frac{1}{3}$ से 10 अधिक और दूसरी संख्या से 5 कम है, तो तीसरी संख्या ज्ञात करें।

- Ans**
- 1. 103
 - 2. 115
 - 3. 113
 - 4. 118

Question ID : 65497832846
Status : Answered
Chosen Option : 3

Q.14 एक से बड़ी एक ऐसी संख्या है जिसे 4, 5 और 6 से विभाजित करने पर प्रत्येक स्थिति में शेषफल 3 प्राप्त होता है। 500 से छोटी वह सबसे बड़ी संख्या ज्ञात कीजिए जो इस स्थिति को संतुष्ट करती हो।

- Ans**
- 1. 493
 - 2. 483
 - 3. 486
 - 4. 484

Question ID : 65497832844
Status : Answered
Chosen Option : 2

Q.15 एक दुकानदार ने 600 संतरे और 400 केले खरीदे। उसने पाया कि 30% संतरे और 18% केले सड़े हुए हैं। अच्छे फलों का प्रतिशत ज्ञात कीजिए।

- Ans**
- 1. 74.8
 - 2. 78.8
 - 3. 70.8
 - 4. 64.8

Question ID : 65497832845
Status : Answered
Chosen Option : 1

Q.16 एक विक्रेता ने ₹20 में 12 की दर से कैंडी खरीदी और ₹12 में 6 की दर से बेच दी। उसका प्रतिशत लाभ या हानि ज्ञात कीजिए।

- Ans**
- 1. 20% लाभ
 - 2. 25% हानि
 - 3. 15% लाभ
 - 4. 30% हानि

Question ID : 65497832853
Status : Answered
Chosen Option : 1

Q.17 यदि X और Y एक साथ मिलकर किसी कार्य को 10 दिनों में पूरा कर सकते हैं, Y और Z उसी कार्य को 12 दिनों में पूरा कर सकते हैं तथा Z और X उस कार्य को 15 दिनों में पूरा कर सकते हैं, तो अकेला X उस कार्य को कितने दिनों में पूरा करेगा?

- Ans**
- 1. 28 दिन
 - 2. 30 दिन
 - 3. 20 दिन
 - 4. 24 दिन

Question ID : 65497832849
Status : Answered
Chosen Option : 3

Q.18 एक व्यक्ति एक नौका को धारा की दिशा में 9 km/h की चाल से और धारा की विपरीत दिशा में 7 km/h की चाल से चला सकता है। धारा की चाल ज्ञात करें।

- Ans**
- 1. 1 km/h
 - 2. 2 km/h
 - 3. $\frac{3}{4}$ km/h
 - 4. 1.5 km/h

Question ID : 65497832850
Status : Answered
Chosen Option : 1

Q.19 दो संख्याएँ 3 : 4 के अनुपात में हैं। यदि पहली संख्या का 60%, 144 है, तो दूसरी संख्या का 30% ज्ञात करें।

- Ans**
- 1. 92
 - 2. 120
 - 3. 69
 - 4. 96

Question ID : 65497832848
Status : Answered
Chosen Option : 4

Q.20 16 cm × 12 cm × 9 cm भुजाओं वाले धातु के एक स्लैब को पिघलाकर घन के आकार में ढाला जाता है। घन का पृष्ठीय क्षेत्रफल (cm² में) ज्ञात कीजिए।

- Ans**
- 1. 860
 - 2. 864
 - 3. 865
 - 4. 880

Question ID : 65497832858
Status : Answered
Chosen Option : 2

Q.21 यदि $\frac{a}{b} : \frac{7}{5}$ है, तो $\frac{(5a+4b)}{5a-4b}$ का मान कितना होगा?

- Ans
- 1. $\frac{5}{7}$
 - 2. $\frac{3}{11}$
 - 3. $\frac{7}{8}$
 - 4. $\frac{11}{3}$

Question ID : 65497832840
Status : Answered
Chosen Option : 4

Q.22 $[52 - 4 \text{ of } (17 - 12) + 4 \times 7] \div [30 \div 15 \times 5]$ का मान कितना है?

- Ans
- 1. 8
 - 2. 10
 - 3. 6
 - 4. 12

Question ID : 65497832842
Status : Answered
Chosen Option : 3

Q.23 एक दुकानदार अंकित मूल्य पर 25% की छूट प्रदान करता है। एक अन्य दुकानदार उसी अंकित मूल्य पर 5%, 12% और 10% की तीन क्रमिक छूटें प्रदान करता है। दोनों दुकानदारों द्वारा दी गई छूटों के बीच का अंतर ज्ञात करें।

- Ans
- 1. 2.00%
 - 2. 0.24%
 - 3. 1.12%
 - 4. 1.00%

Question ID : 65497832847
Status : Answered
Chosen Option : 2

Q.24 एक निश्चित साधारण ब्याज से किसी धनराशि पर 3 वर्षों के बाद प्राप्त मिश्रधन ₹37,200 और 5 वर्षों के बाद प्राप्त मिश्रधन ₹42,000 है। उसी धनराशि पर 6% वार्षिक ब्याज दर से 8 वर्षों में प्राप्त होने वाला साधारण ब्याज (₹ में) ज्ञात कीजिए।

- Ans
- 1. 14,750
 - 2. 14,400
 - 3. 14,260
 - 4. 14,000

Question ID : 65497832857
Status : Answered
Chosen Option : 2

Q.25 ₹12,100 को 2 भागों में इस प्रकार विभाजित कीजिए, कि जब इन्हें क्रमशः 3 और 4 वर्ष के लिए 6% की वार्षिक साधारण ब्याज दर पर निवेश किया जाता है तो बराबर मिश्रधन प्राप्त होता है। दोनों भागों के बीच के अंतर का 75% (₹ में) कितना होगा?

- Ans**
- 1. 200
 - 2. 400
 - 3. 300
 - 4. 225

Question ID : 65497832839
Status : Answered
Chosen Option : 3

Section : Part D English

Q.1 Select the most appropriate ANTONYM of the given word.

Ravish

- Ans**
- 1. Attract
 - 2. Charm
 - 3. Repel
 - 4. Captivate

Question ID : 65497832871
Status : Not Answered
Chosen Option : --

Q.2 Select the INCORRECTLY spelt word.

- Ans**
- 1. Substitution
 - 2. Habbitation
 - 3. Estimation
 - 4. Presentation

Question ID : 65497832868
Status : Not Answered
Chosen Option : --

Q.3 The following sentence has been split into four segments. Identify the segment that contains a grammatical error.

I have been / reading this book / since / two days.

- Ans**
- 1. I have been
 - 2. reading this book
 - 3. since
 - 4. two days

Question ID : 65497832865
Status : Not Answered
Chosen Option : --

Q.4 Select the option that can be used as a one-word substitute for the given group of words.

One who can use either hand easily

- Ans
- 1. Skilled
 - 2. Single-handed
 - 3. Disabled
 - 4. Ambidextrous

Question ID : 65497832864
Status : Not Answered
Chosen Option : --

Q.5 Select the most appropriate option that can substitute the underlined segment in the given sentence. If there is no need to substitute it, select 'No substitution required'.

Are you get irritated if someone disturbs you?

- Ans
- 1. Are you get irritate
 - 2. Do you get irritated
 - 3. No substitution required
 - 4. Did you getting irritating

Question ID : 65497832874
Status : Not Answered
Chosen Option : --

Q.6 Select the most appropriate meaning of the given idiom.

All and sundry

- Ans
- 1. Everyone
 - 2. None
 - 3. Everywhere
 - 4. Very few

Question ID : 65497832869
Status : Not Answered
Chosen Option : --

Q.7 Select the most appropriate option that can substitute the underlined word in the given sentence.

The bacteria in the roots of leguminous plants submerge nitrogen in the soil to compounds.

- Ans
- 1. propose
 - 2. analyse
 - 3. expand
 - 4. convert

Question ID : 65497832859
Status : Not Answered
Chosen Option : --

Q.8 Select the most appropriate **ANTONYM** of the given word.

Beseech

- Ans** 1. Engage
 2. Command
 3. Appeal
 4. Request

Question ID : **65497832866**
Status : **Not Answered**
Chosen Option : --

Q.9 Select the most appropriate option to fill in the blank.

It is essential to understand consumer behaviour so that protective _____ can be taken through legislation.

- Ans** 1. measures
 2. methods
 3. events
 4. dealings

Question ID : **65497832863**
Status : **Not Answered**
Chosen Option : --

Q.10 Select the option that can be used as a one-word substitute for the given group of words.

Something that can be carried easily

- Ans** 1. Deliverable
 2. Transferable
 3. Plausible
 4. Portable

Question ID : **65497832867**
Status : **Not Answered**
Chosen Option : --

Q.11 Select the most appropriate synonym of the given word.

Lure

- Ans** 1. Repulsion
 2. Indication
 3. Attraction
 4. Warning

Question ID : **65497832861**
Status : **Not Answered**
Chosen Option : --

Q.12 Select the option that can be used as a one-word substitute for the given group of words.

A piece of land entirely surrounded by water

- Ans
- 1. Oasis
 - 2. Harbour
 - 3. Igloo
 - 4. Island

Question ID : 65497832877
Status : Not Answered
Chosen Option : --

Q.13 The following sentence has been split into four segments. Identify the segment that contains a grammatical error.

Did the police find out who break into your store?

- Ans
- 1. find out
 - 2. your store
 - 3. who break into
 - 4. Did the police

Question ID : 65497832875
Status : Not Answered
Chosen Option : --

Q.14 Select the INCORRECTLY spelt word.

- Ans
- 1. Valuable
 - 2. Infectious
 - 3. Precious
 - 4. Specieal

Question ID : 65497832862
Status : Not Answered
Chosen Option : --

Q.15 Select the most appropriate SYNONYM of the given word.

Supreme

- Ans
- 1. Endless
 - 2. Useless
 - 3. Careless
 - 4. Matchless

Question ID : 65497832876
Status : Not Answered
Chosen Option : --

Q.16 Select the most appropriate option to fill in the blank.

He _____ her that he had deposited the money in the bank.

- Ans
- 1. insured
 - 2. ensured
 - 3. assured
 - 4. assumed

Question ID : 65497832870
Status : Not Answered
Chosen Option : --

Q.17 The following sentence has been divided into parts. One of them may contain an error. Select the part that contains the error from the given options. If you don't find any error, select 'No error' as your answer.

Praneel is only two now / so he has not / started talk yet.

- Ans**
- 1. Praneel is only two now
 - 2. so he has not
 - 3. started talk yet
 - 4. No error

Question ID : 65497832860
Status : Not Answered
Chosen Option : --

Q.18 Select the most appropriate option to fill in the blank.

After hours of discussion, the team _____ at the same conclusion.

- Ans**
- 1. arrived
 - 2. came
 - 3. reached
 - 4. attained

Question ID : 65497832872
Status : Not Answered
Chosen Option : --

Q.19 Select the most appropriate meaning of the given idiom.

Hold your horses

- Ans**
- 1. Run fast
 - 2. Be patient
 - 3. Take control
 - 4. Make a profit

Question ID : 65497832878
Status : Not Answered
Chosen Option : --

Q.20 Select the most appropriate option that can substitute the underlined segment in the given sentence. If there is no need to substitute it, select 'No substitution required'.

The shopkeeper either offered to exchange the goods or refund the money.

- Ans**
- 1. The shopkeeper offered either to
 - 2. No substitution required'
 - 3. Either the shopkeeper offered to
 - 4. The shopkeeper neither offered to

Question ID : 65497832873
Status : Not Answered
Chosen Option : --

Comprehension:

In the following passage, some words have been deleted. Read the passage carefully and select the most appropriate option to fill in each blank.

The plane had been hired to transport Appu, the baby elephant, as a gift from India to Nigeria. Just before the (1) _____, the co-pilot checked the wooden crate and (2) _____ that it looked safe. Little did he know how (3) _____ the flight was going to be. When the plane was (4) _____ Kenya, Appu broke his crate and (5) _____ the flight cabin. The pilot made an emergency landing in Kenya.

SubQuestion No : 21

Q.21 Select the most appropriate option to fill in blank no.1.

- Ans**
- 1. departure
 - 2. evacuation
 - 3. escape
 - 4. retreat

Question ID : 65497832880
Status : Not Answered
Chosen Option : --

Comprehension:

In the following passage, some words have been deleted. Read the passage carefully and select the most appropriate option to fill in each blank.

The plane had been hired to transport Appu, the baby elephant, as a gift from India to Nigeria. Just before the (1) _____, the co-pilot checked the wooden crate and (2) _____ that it looked safe. Little did he know how (3) _____ the flight was going to be. When the plane was (4) _____ Kenya, Appu broke his crate and (5) _____ the flight cabin. The pilot made an emergency landing in Kenya.

SubQuestion No : 22

Q.22 Select the most appropriate option to fill in blank no.2.

- Ans**
- 1. recited
 - 2. reported
 - 3. described
 - 4. narrated

Question ID : 65497832881
Status : Not Answered
Chosen Option : --

Comprehension:

In the following passage, some words have been deleted. Read the passage carefully and select the most appropriate option to fill in each blank.

The plane had been hired to transport Appu, the baby elephant, as a gift from India to Nigeria. Just before the (1) _____, the co-pilot checked the wooden crate and (2) _____ that it looked safe. Little did he know how (3) _____ the flight was going to be. When the plane was (4) _____ Kenya, Appu broke his crate and (5) _____ the flight cabin. The pilot made an emergency landing in Kenya.

SubQuestion No : 23

Q.23 Select the most appropriate option to fill in blank no.3.

- Ans**
- 1. unreliable
 - 2. dramatic
 - 3. impressive
 - 4. devious

Question ID : 65497832882
Status : Not Answered
Chosen Option : --

Comprehension:

In the following passage, some words have been deleted. Read the passage carefully and select the most appropriate option to fill in each blank.

The plane had been hired to transport Appu, the baby elephant, as a gift from India to Nigeria. Just before the (1) _____, the co-pilot checked the wooden crate and (2) _____ that it looked safe. Little did he know how (3) _____ the flight was going to be. When the plane was (4) _____ Kenya, Appu broke his crate and (5) _____ the flight cabin. The pilot made an emergency landing in Kenya.

SubQuestion No : 24

Q.24 Select the most appropriate option to fill in blank no.4.

Ans 1. between

2. over

3. on

4. beside

Question ID : 65497832883

Status : Not Answered

Chosen Option : --

Comprehension:

In the following passage, some words have been deleted. Read the passage carefully and select the most appropriate option to fill in each blank.

The plane had been hired to transport Appu, the baby elephant, as a gift from India to Nigeria. Just before the (1) _____, the co-pilot checked the wooden crate and (2) _____ that it looked safe. Little did he know how (3) _____ the flight was going to be. When the plane was (4) _____ Kenya, Appu broke his crate and (5) _____ the flight cabin. The pilot made an emergency landing in Kenya.

SubQuestion No : 25

Q.25 Select the most appropriate option to fill in blank no.5.

Ans 1. chased

2. shared

3. entered

4. grabbed

Question ID : 65497832884

Status : Not Answered

Chosen Option : --

Section : Part D Hindi

Q.1 दिए गए वाक्य में रेखांकित खंड को प्रतिस्थापित करने के लिए सबसे उपयुक्त विकल्प का चयन करें। यदि इसे प्रतिस्थापित करने की आवश्यकता नहीं है, तो विकल्प 'किसी बदलाव की आवश्यकता नहीं है' का चयन करें।

सब लोग अपनी राय दें।

Ans 1. उनकी

2. किसी बदलाव की आवश्यकता नहीं है।

3. अपनी-अपनी

4. इनकी

Question ID : 65497832896

Status : Answered

Chosen Option : 3

Q.2 उस विकल्प का चयन करें जो निम्न मुहावरे का सही अर्थ व्यक्त करता है।

भगीरथ श्रम करना

- Ans 1. अथक प्रयत्न करना
 2. कठिन श्रम करना
 3. दृढ़ प्रतीक्षा करना
 4. असम्भव कार्य करना

Question ID : 65497832892

Status : Answered

Chosen Option : 1

Q.3 दिए गए वाक्य में रेखांकित खंड को प्रतिस्थापित करने के लिए सबसे उपयुक्त विकल्प का चयन करें। यदि इसे प्रतिस्थापित करने की आवश्यकता नहीं है, तो विकल्प 'किसी बदलाव की आवश्यकता नहीं है' का चयन करें।

हम भोजन खाते हैं।

- Ans 1. करते हैं
 2. लेते हैं
 3. पाते हैं
 4. किसी बदलाव की आवश्यकता नहीं है।

Question ID : 65497832894

Status : Answered

Chosen Option : 1

Q.4 'रास्ता देखना' मुहावरे का सही अर्थ है-

- Ans 1. परेशान होना
 2. निराश होना
 3. मूल्यांकन करना
 4. प्रतीक्षा करना

Question ID : 65497832903

Status : Answered

Chosen Option : 4

Q.5 दिए गए वाक्य का वह भाग ज्ञात करें जिसमें कोई त्रुटि है। यदि कोई त्रुटि नहीं है, तो 'कोई त्रुटि नहीं है' चुनें।

स्कूल का सभी विद्यार्थी (1)। इस मैदान में (2)। प्रार्थना के लिए आते है (3)। कोई त्रुटि नहीं है (4)

- Ans 1. 3
 2. 1
 3. 2
 4. 4

Question ID : 65497832885

Status : Answered

Chosen Option : 2

Q.6 दिए गए शब्द का समानार्थी शब्द बताइए-

कपड़ा

- Ans
- 1. वपन
 - 2. वमन
 - 3. वसन
 - 4. वज़न

Question ID : 65497832886
Status : Answered
Chosen Option : 3

Q.7 उसका पास कुछ भी नहीं है।

रेखांकित शब्द की अशुद्धि पहचानिए-

- Ans
- 1. कोई भी गलती नहीं है।
 - 2. सर्वनाम के कारण
 - 3. विभक्ति के कारण
 - 4. संज्ञा के कारण

Question ID : 65497832900
Status : Answered
Chosen Option : 2

Q.8 राह दिखानेवाला - वाक्यांश के लिए एक शब्द लिखिए।

- Ans
- 1. पथिक
 - 2. मुसाफिर
 - 3. पथदर्शक
 - 4. राही

Question ID : 65497832902
Status : Answered
Chosen Option : 3

Q.9 सही वर्तनी वाले शब्द का चयन करें।

- Ans
- 1. एकाग्रचित
 - 2. एकाग्रचीत
 - 3. एकाग्रचित
 - 4. एकाग्रचित

Question ID : 65497832888
Status : Answered
Chosen Option : 1

Q.10 दिए गए वाक्य में रेखांकित खंड को प्रतिस्थापित करने के लिए सबसे उपयुक्त विकल्प का चयन करें।
यदि इसे प्रतिस्थापित करने की आवश्यकता नहीं है, तो विकल्प 'किसी बदलाव की आवश्यकता नहीं है'
का चयन करें।

आपसे मेरा सविनयपूर्वक निवेदन है।

- Ans
- 1. सविनय निवेदन है
 - 2. विनम्रपूर्वक निवेदन है
 - 3. समग्रपूर्वक अनुरोध है
 - 4. किसी बदलाव की आवश्यकता नहीं है।

Question ID : 65497832895
Status : Answered
Chosen Option : 1

Q.11 दिए गए शब्द का विलोम चुनें।

प्रत्यक्ष

- Ans 1. अभिमुख
 2. समीप
 3. सम्मुख
 4. परोक्ष

Question ID : 65497832891
Status : Answered
Chosen Option : 4

Q.12 दिए गये वाक्यांश के लिए एक शब्द दीजिये-

जो बहुत बोलता हो

- Ans 1. बहुभाषी
 2. वाचाल
 3. मितभाषी
 4. अल्पभाषी

Question ID : 65497832887
Status : Answered
Chosen Option : 2

Q.13 उत्थान - रेखांकित शब्द का विलोम बताइए-

- Ans 1. विकर्षण
 2. आदर्श
 3. पतन
 4. प्रगति

Question ID : 65497832901
Status : Answered
Chosen Option : 3

Q.14 रिक्त स्थान की पूर्ति के लिए सबसे उपयुक्त शब्द का चयन करें-

उसका हृदय बड़ा _____ था।

- Ans 1. कठोर
 2. कर्कश
 3. कठिन
 4. कसैला

Question ID : 65497832890
Status : Answered
Chosen Option : 1

Q.15 मधुर बात करनेवाला - वाक्यांश के लिए एक शब्द लिखिए-

- Ans 1. अल्पभाषी
 2. मधुर भाषी
 3. सुखद
 4. संगीतज्ञ

Question ID : 65497832899
Status : Answered
Chosen Option : 2

Q.16 रिक्त स्थान की पूर्ति के लिए सबसे उपयुक्त शब्द का चयन करें।

मेरा और आपका _____ सम्बन्ध है।

- Ans 1. घोर
 2. गहन
 3. घनिष्ठ
 4. पक्का

Question ID : 65497832893
Status : Answered
Chosen Option : 3

Q.17 दिये गये वाक्य के किस भाग में त्रुटि है?

मैं उसकी बुद्धिमानता से बहुत प्रभावित हूँ।

- Ans 1. से बहुत
 2. प्रभावित हूँ।
 3. बुद्धिमानता
 4. मैं उसकी

Question ID : 65497832897
Status : Answered
Chosen Option : 4

Q.18 सही वर्तनी वाले शब्द का चयन करें।

- Ans 1. आत्मोत्सग
 2. आत्मोत्सर्ग
 3. आत्मोतसर्ग
 4. आत्मोत्सर्ग

Question ID : 65497832889
Status : Answered
Chosen Option : 4

Q.19 'जलाशय' का पर्यायवाची है-

- Ans 1. जलधर
 2. महीधर
 3. रत्नाकर
 4. पद्माकर

Question ID : 65497832898
Status : Answered
Chosen Option : 1

Q.20 रिक्त स्थान की पूर्ति के लिए सबसे उपयुक्त विकल्प का चयन करें।

शेखर अज्ञेय के एक उपन्यास का _____ है।

- Ans 1. अभिनेता
 2. नायक
 3. नेता
 4. सूत्रधार

Question ID : 65497832904
Status : Answered
Chosen Option : 1

Comprehension:

गद्यांश को पढ़कर पूछे गये प्रश्नों के उत्तर लिखिए-

भारत के इतिहास में अमरत्व प्राप्ति के अधिकारी लौह-पुरुष सरदार वल्लभभाई पटेल को कौन नहीं जानता? 31 अक्टूबर, 1875 में गुजरात के नाडियाद गाँव में एक किसान परिवार में उनका जन्म हुआ था। पाठशाला का अभ्यास करने में काफी समय लगा था। 36 साल की उम्र में वकालत पढ़ने के लिए वे इंग्लैंड गए। उन्होंने 36 महीने का कोर्स 30 महीनों में पूरा किया। 1917 में वे गांधीजी के संपर्क में आए। ब्रिटिश राज्य के खिलाफ अहिंसक आंदोलन के जरिये बारदोली, बलसाड, खेड़ा आदि के किसानों को एकत्र किया। उनके इस आंदोलन ने उन्हें प्रसिद्धि एवं प्रतिष्ठा दिलाई। भारतीय राष्ट्रीय कांग्रेस ने प्रमुख स्थान दिया। लोगों ने उन्हें सरदार की उपाधि दी। आजादी के बाद छोटी-छोटी रियायतों को एक करने का कार्य किया। 15 अगस्त, 1947 तक हैदराबाद, कश्मीर और जूनागढ़ को छोड़कर सभी रियायतें भारत संघ में सम्मिलित हो गई थीं। गृहमंत्री बनने के बाद लगभग छः सौ रियायतों को भारत संघ में सम्मिलित किया। हैदराबाद के नवाब ने विरोध किया तो वहाँ सेना भेजकर निजाम को आत्मसमर्पण करने के लिए मजबूर किया। 15 दिसम्बर, 1950 को जगमगता वह सितारा हमें अंधकार में छोड़कर चला गया। सन् 1991 में उन्हें भारतरत्न से सम्मानित किया गया। स्वतंत्रता सेनानी सरदार वल्लभभाई की जीवनी सदैव प्रेरणादायी है।

SubQuestion No : 21

Q.21 _____ को लौहपुरुष कहा जाता है।

- Ans**
- 1. अटल बिहारी वाजपेयी
 - 2. मोरारजी देसाई
 - 3. लाला लजपतराय
 - 4. सरदार वल्लभभाई पटेल

Question ID : 65497832906

Status : Answered

Chosen Option : 4

Comprehension:

गद्यांश को पढ़कर पूछे गये प्रश्नों के उत्तर लिखिए-

भारत के इतिहास में अमरत्व प्राप्ति के अधिकारी लौह-पुरुष सरदार वल्लभभाई पटेल को कौन नहीं जानता? 31 अक्टूबर, 1875 में गुजरात के नाडियाद गाँव में एक किसान परिवार में उनका जन्म हुआ था। पाठशाला का अभ्यास करने में काफी समय लगा था। 36 साल की उम्र में वकालत पढ़ने के लिए वे इंग्लैंड गए। उन्होंने 36 महीने का कोर्स 30 महीनों में पूरा किया। 1917 में वे गांधीजी के संपर्क में आए। ब्रिटिश राज्य के खिलाफ अहिंसक आंदोलन के जरिये बारदोली, बलसाड, खेड़ा आदि के किसानों को एकत्र किया। उनके इस आंदोलन ने उन्हें प्रसिद्धि एवं प्रतिष्ठा दिलाई। भारतीय राष्ट्रीय कांग्रेस ने प्रमुख स्थान दिया। लोगों ने उन्हें सरदार की उपाधि दी। आजादी के बाद छोटी-छोटी रियायतों को एक करने का कार्य किया। 15 अगस्त, 1947 तक हैदराबाद, कश्मीर और जूनागढ़ को छोड़कर सभी रियायतें भारत संघ में सम्मिलित हो गई थीं। गृहमंत्री बनने के बाद लगभग छः सौ रियायतों को भारत संघ में सम्मिलित किया। हैदराबाद के नवाब ने विरोध किया तो वहाँ सेना भेजकर निजाम को आत्मसमर्पण करने के लिए मजबूर किया। 15 दिसम्बर, 1950 को जगमगता वह सितारा हमें अंधकार में छोड़कर चला गया। सन् 1991 में उन्हें भारतरत्न से सम्मानित किया गया। स्वतंत्रता सेनानी सरदार वल्लभभाई की जीवनी सदैव प्रेरणादायी है।

SubQuestion No : 22

Q.22 वकालत शब्द को व्याकरणिक दृष्टि से पहचानिए-

- Ans**
- 1. जातिवाचक संज्ञा
 - 2. भाववाचक संज्ञा
 - 3. व्यक्तिवाचक संज्ञा
 - 4. विशेषण

Question ID : 65497832907

Status : Answered

Chosen Option : 2

Comprehension:

गद्यांश को पढ़कर पूछे गये प्रश्नों के उत्तर लिखिए-

भारत के इतिहास में अमरत्व प्राप्ति के अधिकारी लौह-पुरुष सरदार वल्लभभाई पटेल को कौन नहीं जानता? 31 अक्टूबर, 1875 में गुजरात के नाडियाद गाँव में एक किसान परिवार में उनका जन्म हुआ था। पाठशाला का अभ्यास करने में काफी समय लगा था। 36 साल की उम्र में वकालत पढ़ने के लिए वे इंग्लैंड गए। उन्होंने 36 महीने का कोर्स 30 महीनों में पूरा किया। 1917 में वे गांधीजी के संपर्क में आए। ब्रिटिश राज्य के खिलाफ अहिंसक आंदोलन के जरिये बारदोली, बलसाड, खेड़ा आदि के किसानों को एकत्र किया। उनके इस आंदोलन ने उन्हें प्रसिद्धि एवं प्रतिष्ठा दिलाई। भारतीय राष्ट्रीय कांग्रेस ने प्रमुख स्थान दिया। लोगों ने उन्हें सरदार की उपाधि दी। आजादी के बाद छोटी-छोटी रियायतों को एक करने का कार्य किया। 15 अगस्त, 1947 तक हैदराबाद, कश्मीर और जूनागढ़ को छोड़कर सभी रियायतें भारत संघ में सम्मिलित हो गई थीं। गृहमंत्री बनने के बाद लगभग छः सौ रियायतों को भारत संघ में सम्मिलित किया। हैदराबाद के नवाब ने विरोध किया तो वहाँ सेना भेजकर निजाम को आत्मसमर्पण करने के लिए मजबूर किया। 15 दिसम्बर, 1950 को जगमगता वह सितारा हमें अंधकार में छोड़कर चला गया। सन् 1991 में उन्हें भारतरत्न से सम्मानित किया गया। स्वतंत्रता सेनानी सरदार वल्लभभाई की जीवनी सदैव प्रेरणादायी है।

SubQuestion No : 23

Q.23 आजादी के बाद उन्होंने कौन-सा पद संभाला?

- Ans**
- 1. गृहमंत्री का
 - 2. राष्ट्रपति का
 - 3. प्रधानमंत्री का
 - 4. संरक्षण मंत्री का

Question ID : 65497832908

Status : Answered

Chosen Option : 1

Comprehension:

गद्यांश को पढ़कर पूछे गये प्रश्नों के उत्तर लिखिए-

भारत के इतिहास में अमरत्व प्राप्ति के अधिकारी लौह-पुरुष सरदार वल्लभभाई पटेल को कौन नहीं जानता? 31 अक्टूबर, 1875 में गुजरात के नाडियाद गाँव में एक किसान परिवार में उनका जन्म हुआ था। पाठशाला का अभ्यास करने में काफी समय लगा था। 36 साल की उम्र में वकालत पढ़ने के लिए वे इंग्लैंड गए। उन्होंने 36 महीने का कोर्स 30 महीनों में पूरा किया। 1917 में वे गांधीजी के संपर्क में आए। ब्रिटिश राज्य के खिलाफ अहिंसक आंदोलन के जरिये बारदोली, बलसाड, खेड़ा आदि के किसानों को एकत्र किया। उनके इस आंदोलन ने उन्हें प्रसिद्धि एवं प्रतिष्ठा दिलाई। भारतीय राष्ट्रीय कांग्रेस ने प्रमुख स्थान दिया। लोगों ने उन्हें सरदार की उपाधि दी। आजादी के बाद छोटी-छोटी रियायतों को एक करने का कार्य किया। 15 अगस्त, 1947 तक हैदराबाद, कश्मीर और जूनागढ़ को छोड़कर सभी रियायतें भारत संघ में सम्मिलित हो गई थीं। गृहमंत्री बनने के बाद लगभग छः सौ रियायतों को भारत संघ में सम्मिलित किया। हैदराबाद के नवाब ने विरोध किया तो वहाँ सेना भेजकर निजाम को आत्मसमर्पण करने के लिए मजबूर किया। 15 दिसम्बर, 1950 को जगमगता वह सितारा हमें अंधकार में छोड़कर चला गया। सन् 1991 में उन्हें भारतरत्न से सम्मानित किया गया। स्वतंत्रता सेनानी सरदार वल्लभभाई की जीवनी सदैव प्रेरणादायी है।

SubQuestion No : 24

Q.24 उनका जन्म _____ हुआ था।

- Ans**
- 1. किसान परिवार में
 - 2. पारसी परिवार में
 - 3. ब्राह्मण परिवार में
 - 4. मुस्लिम परिवार में

Question ID : 65497832909

Status : Answered

Chosen Option : 1

Comprehension:

गद्यांश को पढ़कर पूछे गये प्रश्नों के उत्तर लिखिए-

भारत के इतिहास में अमरत्व प्राप्ति के अधिकारी लौह-पुरुष सरदार वल्लभभाई पटेल को कौन नहीं जानता? 31 अक्टूबर, 1875 में गुजरात के नाडियाद गाँव में एक किसान परिवार में उनका जन्म हुआ था। पाठशाला का अभ्यास करने में काफी समय लगा था। 36 साल की उम्र में वकालत पढ़ने के लिए वे इंग्लैंड गए। उन्होंने 36 महीने का कोर्स 30 महीनों में पूरा किया। 1917 में वे गांधीजी के संपर्क में आए। ब्रिटिश राज्य के खिलाफ अहिंसक आंदोलन के जरिये बारदोली, बलसाड, खेड़ा आदि के किसानों को एकत्र किया। उनके इस आंदोलन ने उन्हें प्रसिद्धि एवं प्रतिष्ठा दिलाई। भारतीय राष्ट्रीय कांग्रेस ने प्रमुख स्थान दिया। लोगों ने उन्हें सरदार की उपाधि दी। आजादी के बाद छोटी-छोटी रियायतों को एक करने का कार्य किया। 15 अगस्त, 1947 तक हैदराबाद, कश्मीर और जूनागढ़ को छोड़कर सभी रियायतें भारत संघ में सम्मिलित हो गई थीं। गृहमंत्री बनने के बाद लगभग छः सौ रियायतों को भारत संघ में सम्मिलित किया। हैदराबाद के नवाब ने विरोध किया तो वहाँ सेना भेजकर निजाम को आत्मसमर्पण करने के लिए मजबूर किया। 15 दिसम्बर, 1950 को जगमगता वह सितारा हमें अंधकार में छोड़कर चला गया। सन् 1991 में उन्हें भारतरत्न से सम्मानित किया गया। स्वतंत्रता सेनानी सरदार वल्लभभाई की जीवनी सदैव प्रेरणादायी है।

SubQuestion No : 25

Q.25 उनकी मृत्यु _____ को हुई।

- Ans**
- 1. 31 दिसम्बर, 1950
 - 2. 15 दिसम्बर, 1950
 - 3. 25 दिसम्बर, 1950
 - 4. 15 अक्टूबर, 1875

Question ID : 65497832910

Status : Answered

Chosen Option : 2