

Constable GD in CAPFs NIA SSF and Rifleman GD in Assam Rifles Examination 2021

Roll Number	www.GovtJobsAlert.In
Candidate Name	www.GovtJobsAlert.In
Venue Name	ION Digital Zone iDZ Gram Raigawan Near Patan Bypass
Exam Date	07/12/2021
Exam Time :	9:00 AM - 10:30 AM
Subject	Constable GD 2021

Section : Part A General Intelligence and Reasoning

Q.1 निम्नलिखित आकृतियों में कागज़ के टुकड़े को मोड़ने का क्रम और मुड़े हुए टुकड़े को काटने का तरीका दर्शाया गया है। कागज़ को खोले जाने पर इसकी आकृति कैसी दिखेगी?



Ans

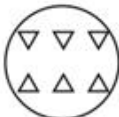
X 1.



X 2.



✓ 3.



X 4.



Question ID : 65497828744

Status : Answered

Chosen Option : 3

Q.2 छः मित्रों, नेहा, काव्या, गीता, वरुण, पूजा और कपिल की आयु अलग-अलग है। गीता, पूजा से बड़ी है लेकिन वरुण से छोटी है। तीन मित्र, गीता से बड़े हैं। कपिल की आयु, वरुण और काव्या की आयु के मध्य आती है। पूजा केवल एक मित्र से बड़ी है। उन सब में सबसे छोटा कौन है?

- Ans
- 1. पूजा
 - 2. कपिल
 - 3. नेहा
 - 4. काव्या

Question ID : 65497828724
Status : Answered
Chosen Option : 3

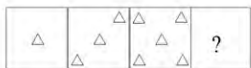
Q.3 उस विकल्प का चयन कीजिए जो तीसरे पद से उसी प्रकार संबंधित है जिस प्रकार दूसरा पद पहले पद से संबंधित है।

TUNER : VRRBX :: CLOCK : ?

- Ans
- 1. EROQZ
 - 2. EISZQ
 - 3. EISZO
 - 4. EORZQ

Question ID : 65497828737
Status : Answered
Chosen Option : 2

Q.4 दिए गए विकल्पों में से उस आकृति का चयन करें जो नीचे दी गई श्रृंखला में प्रश्न चिह्न (?) के स्थान पर आ सकती है।



Ans

- 1.
- 2.
- 3.
- 4.

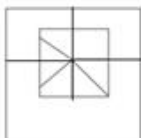
Question ID : 65497828723
Status : Answered
Chosen Option : 3

Q.5 उस विकल्प का चयन करें जिसमें दी गई आकृति सन्नहित है (घुमाने की अनुमति नहीं है)।

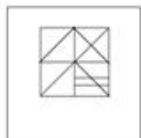


Ans

1.



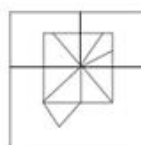
2.



3.



4.

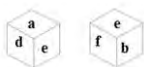


Question ID : 65497828728

Status : Answered

Chosen Option : 4

Q.6 अक्षर a, b, c, d, e और f से अंकित, एक ही पासे की दो अलग-अलग स्थितियां दर्शाई गई हैं। उस अक्षर का चयन करें जो अक्षर 'a' वाले फलक के विपरीत फलक पर होगा।



Ans

1. b

2. f

3. d

4. e

Question ID : 65497828727

Status : Answered

Chosen Option : 2

Q.7 एक निश्चित कूट भाषा में, 'REFINE' को 'KHOZKL' लिखा जाता है। उसी कूट भाषा में, 'SOLVENT' को क्या लिखा जाएगा?

- Ans
- 1. YHJPPIX
 - 2. ZHKPRIY
 - 3. ZIKQQJY
 - 4. YHPJPIX

Question ID : 65497828738
Status : Answered
Chosen Option : 2

Q.8 दिए गए संयोजन के सही दर्पण प्रतिबिंब का चयन करें जब दर्पण को दिखाए गए अनुसार PQ पर रखा गया है।

FD8PCQ

- Ans
- 1. QJ98DF
 - 2. QJ98DE
 - 3. JQ8PCDF
 - 4. QJ98DF

Question ID : 65497828736
Status : Answered
Chosen Option : 1

Q.9 किसी निश्चित कूट भाषा में, 'ORGAN' को 'QWDLG' लिखा जाता है और 'OPERATE' को 'QBXLWSX' लिखा जाता है। 'GENERATOR' को उसी कूट भाषा में कैसे लिखा जाएगा?

- Ans
- 1. DXCXWQLSW
 - 2. DXCXLSQW
 - 3. DXCXWLSQW
 - 4. DXCXSWLQW

Question ID : 65497828740
Status : Answered
Chosen Option : 3

Q.10 जीवा, कमल की पुत्री है। कमल के दो पुत्र हैं। अदा, मानविता की पुत्री है, जो कि कमल के पुत्र की पत्नी है। वीनू, प्रेम की मां है। प्रेम, अशोक का भाई है, जो कि अदा का पिता है। अदा का वीनू से क्या संबंध है?

- Ans
- 1. बहन
 - 2. पुत्री
 - 3. पोती/नातिन
 - 4. मां

Question ID : 65497828739
Status : Answered
Chosen Option : 3

Q.11 विकल्पों में से अक्षरों के उस संयोजन का चयन कीजिए जिसे नीचे दी गई श्रृंखला के रिक्त स्थानों में क्रमिक रूप से रखे जाने पर वह श्रृंखला को पूर्ण करेगा।

x z x _ y z x _ _ x y z x z _ _ y z

Ans 1. x z x x x

2. x z x y x

3. x z y z x

4. x z x x y

Question ID : 65497828721

Status : Answered

Chosen Option : 1

Q.12 उस विकल्प का चयन कीजिए जिसका तीसरी संख्या से वही संबंध है, जो दूसरी संख्या का पहली संख्या से है।

9783 : 3879 :: 1958 : ?

Ans 1. 5891

2. 8591

3. 9518

4. 9851

Question ID : 65497828725

Status : Answered

Chosen Option : 2

Q.13 दिए गए कथनों और निष्कर्षों को ध्यानपूर्वक पढ़ें। आपको कथनों में दी गई जानकारी को सत्य मानते हुए, भले ही वह सामान्यतः ज्ञात तथ्यों से भिन्न प्रतीत होती हो, निर्णय करें कि दिए गए निष्कर्षों में से कौन से निष्कर्ष कथनों का तार्किक रूप से अनुसरण करते हैं।

कथन:

कुछ अभिनेता, नृत्यरचनाकार हैं।

सभी नृत्यरचनाकार, निर्माता हैं।

एक भी निर्माता, निर्देशक नहीं है।

निष्कर्ष:

I. कुछ अभिनेता, निर्देशक हैं।

II. एक भी अभिनेता, निर्देशक नहीं है।

Ans 1. केवल निष्कर्ष I अनुसरण करता है।

2. केवल निष्कर्ष II अनुसरण करता है।

3. निष्कर्ष I और II, दोनों अनुसरण करते हैं।

4. या तो निष्कर्ष I, या फिर निष्कर्ष II अनुसरण करता है।

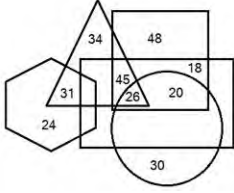
Question ID : 65497828741

Status : Answered

Chosen Option : 4

Q.14 नीचे दी गई आकृति में, वर्ग 'नींबू' को निरूपित करता है, वृत्त 'मीठे' को निरूपित करता है, त्रिभुज 'फलों' को निरूपित करता है, आयत 'खट्टे' को निरूपित करता है, और षट्भुज 'संतरों' को निरूपित करता है।

वह संख्या ज्ञात करें जो उन नींबू फलों (lemon fruits) को निरूपित करती है जो खट्टे हैं लेकिन मीठे नहीं हैं।



- Ans
- 1. 48
 - 2. 45
 - 3. 18
 - 4. 26

Question ID : 65497828732
Status : Answered
Chosen Option : 3

Q.15 दिए गए विकल्पों में से उस संख्या का चयन करें जो निम्नलिखित श्रृंखला में प्रश्न चिह्न (?) के स्थान पर आ सकती है।

560, 280, 140, 70, ?

- Ans
- 1. 50
 - 2. 35
 - 3. 45
 - 4. 40

Question ID : 65497828722
Status : Answered
Chosen Option : 2

Q.16 7 के पांच क्रमिक गुणजों का योग 455 है। इस श्रृंखला की सबसे बड़ी संख्या निम्न में से कौन सी है?

- Ans
- 1. 105
 - 2. 91
 - 3. 140
 - 4. 154

Question ID : 65497828743
Status : Answered
Chosen Option : 3

Q.17 विकल्पों में चार अक्षर-समूह दिए गए हैं जिनमें से तीन किसी न किसी प्रकार संगत हैं और एक असंगत है। उस अक्षर-समूह का चयन करें, जो अन्य से असंगत है।

- Ans
- 1. DMI
 - 2. CGP
 - 3. RFB
 - 4. ATH

Question ID : 65497828733
Status : Answered
Chosen Option : 1

Q.18 गणितीय चिह्नों के उस सही संयोजन का चयन करें जिसे क्रमिक रूप से * चिह्नों के स्थान पर रखने से दिया गया समीकरण संतुलित हो जाएगा।

$$7 * 8 * 6 * 130 * 2 * 3$$

- Ans
- 1. +, ×, =, +, -
 - 2. =, ×, +, +, -
 - 3. +, +, -, =, ×
 - 4. ×, +, =, +, -

Question ID : 65497828726
Status : Answered
Chosen Option : 4

Q.19 उस विकल्प का चयन करें जो तीसरे शब्द से उसी प्रकार संबंधित है जिस प्रकार दूसरा शब्द पहले शब्द से संबंधित है।

रूबेला : विषाणु :: मलेरिया : ?

- Ans
- 1. विषाणु
 - 2. परजीवी
 - 3. कवक
 - 4. जीवाणु

Question ID : 65497828730
Status : Answered
Chosen Option : 2

Q.20 छः व्यक्ति, A, B, C, D, E और F एक घेरा बनाकर बैठे हुए हैं। सभी के मुंह केंद्र की ओर हैं। B, A और E के बीच में बैठा हुआ है। C, D और F के बीच में बैठा हुआ है। F, A के बाईं ओर बगल में बैठा है। E के दाईं ओर बगल में कौन बैठा है?

- Ans
- 1. C
 - 2. B
 - 3. F
 - 4. D

Question ID : 65497828731
Status : Answered
Chosen Option : 4

Q.21 दिए गए विकल्पों में से उस संख्या का चयन करें, जो निम्नलिखित श्रृंखला में प्रश्नवाचक चिह्न (?) के स्थान पर आ सकती है।

36, 37, 46, 71, ?, 201

Ans 1. 125

2. 107

3. 118

4. 120

Question ID : 65497828735

Status : Answered

Chosen Option : 4

Q.22 उस विकल्प का चयन कीजिए जिसमें नीचे दिए गए शब्दों का अंग्रेजी शब्दकोश में आने वाला क्रम दिया गया है।

1. Subsidiary
2. Subscribe
3. Substantiate
4. Substandard
5. Subsequent

Ans 1. 2, 5, 1, 3, 4

2. 3, 5, 1, 4, 2

3. 2, 5, 3, 4, 1

4. 2, 5, 1, 4, 3

Question ID : 65497828720

Status : Answered

Chosen Option : 3

Q.23 एक विशिष्ट कूट भाषा में, 'SAVE' का कोड '522119' है। इस कूट भाषा में 'WEAK' का कोड क्या होगा?

Ans 1. 523111

2. 115195

3. 235123

4. 111523

Question ID : 65497828734

Status : Answered

Chosen Option : 4

Q.24 दिए गए विकल्पों में से उस अक्षर-समूह का चयन करें जो निम्नलिखित श्रृंखला में प्रश्न चिह्न (?) के स्थान पर आ सकता है।

KMC, LOF, MQI, NSL, ?

Ans 1. OUO

2. UOW

3. VOU

4. OOU

Question ID : 65497828729

Status : Answered

Chosen Option : 1

Q.25 दिए गए पैटर्न का ध्यानपूर्वक अध्ययन करें और विकल्पों में से उस संख्या को चुनें जो इसमें प्रश्न चिह्न (?) के स्थान पर आ सकती है।

7 8 9
4 2 ?
407 520 756

- Ans 1. 1
 2. 4
 3. 2
 4. 3

Question ID : 65497828742
Status : Answered
Chosen Option : 4

Section : Part B General Knowledge and General Awareness

Q.1 _____ एक भारतीय अमेरिकी पेशेवर पहलवान हैं, जो 'द ग्रेट खली' के नाम से प्रसिद्ध हैं।

- Ans 1. मनीष सिंह रावत
 2. सतनाम सिंह भामरा
 3. पान सिंह तोमर
 4. दलीप सिंह राणा

Question ID : 65497828766
Status : Not Answered
Chosen Option : --

Q.2 12वें ब्रिक्स (BRICS) सम्मेलन 2020 की मेज़बानी निम्नलिखित में से किस देश ने की थी?

- Ans 1. दक्षिण अफ्रीका
 2. रूस
 3. चीन
 4. भारत

Question ID : 65497828756
Status : Answered
Chosen Option : 2

Q.3 अठारहवीं शताब्दी के भारतीय युद्धों के संदर्भ में, 'पैदल सेना के सैनिकों द्वारा इस्तेमाल की जाने वाली भारी बंदूक' को निम्न में से क्या कहा जाता था?

- Ans 1. मैचलॉक
 2. सवार
 3. पैदल
 4. मस्कट

Question ID : 65497828748
Status : Not Answered
Chosen Option : --

Q.4 सूचना का अधिकार अधिनियम, 2005 _____ को छोड़कर संपूर्ण भारत में लागू हुआ।

- Ans 1. जम्मू और कश्मीर
 2. नागालैंड
 3. पुदुचेरी
 4. सिक्किम

Question ID : 65497828763
Status : Answered
Chosen Option : 1

Q.5 _____ एक व्यापक पद है जिसमें शरीर के भीतर घटित होने वाली सभी रासायनिक अभिक्रियाएं शामिल हैं।

- Ans 1. उत्सर्जन
 2. श्वसन
 3. प्रजनन
 4. चयापचय

Question ID : 65497828752
Status : Answered
Chosen Option : 4

Q.6 प्रथम आधुनिक ओलंपिक खेलों की शुरुआत 6 अप्रैल, 1896 को _____ में हुई थी।

- Ans 1. एथेंस
 2. लॉस एंजिल्स
 3. एमस्टर्डम
 4. लंदन

Question ID : 65497828745
Status : Answered
Chosen Option : 2

Q.7 ज्ञानपीठ पुरस्कार में क्या दिया जाता है?

- Ans 1. ₹21 लाख का नकद पुरस्कार, प्रशंसा पत्र और देवी सरस्वती की कांस्य प्रतिमा
 2. ₹11 लाख का नकद पुरस्कार, प्रशंसा पत्र और देवी सरस्वती की कांस्य प्रतिमा
 3. ₹12 लाख का नकद पुरस्कार, प्रशंसा पत्र और देवी सरस्वती की कांस्य प्रतिमा
 4. ₹15 लाख का नकद पुरस्कार, प्रशंसा पत्र और देवी सरस्वती की कांस्य प्रतिमा

Question ID : 65497828759
Status : Answered
Chosen Option : 4

Q.8 वयोवृद्धता में मानव _____ की समंजन शक्ति क्षीण हो जाती है।

- Ans 1. कान
 2. आँख
 3. नाक
 4. हाथ

Question ID : 65497828751
Status : Answered
Chosen Option : 2

Q.9 कोलात्रालु (Kolannalu) नृत्य का प्रदर्शन निम्नलिखित में से किस राज्य में किया जाता है?

- Ans
- 1. उड़ीसा
 - 2. केरल
 - 3. तमिलनाडु
 - 4. आंध्र प्रदेश

Question ID : 65497828757
Status : Answered
Chosen Option : 3

Q.10 1920 के दशक की शुरुआत में, एक उग्रवादी गुरिल्ला आंदोलन आंध्र प्रदेश की _____ पहाड़ियों में फैल गया था।

- Ans
- 1. नलमाला
 - 2. पालकोंडा
 - 3. गुडेम
 - 4. नागरी

Question ID : 65497828768
Status : Not Answered
Chosen Option : --

Q.11 पंजाब का निम्नलिखित में से कौन सा त्योहार पारंपरिक रूप से रबी फसलों की कटाई से संबंधित है?

- Ans
- 1. बैसाखी
 - 2. माघी
 - 3. मुक्तसर मेला
 - 4. होला मोहल्ला

Question ID : 65497828750
Status : Answered
Chosen Option : 1

Q.12 इंडियन प्रीमियर लीग (IPL) में 5,000 रन पूरे करने वाला पहला विदेशी खिलाड़ी कौन बना?

- Ans
- 1. डेविड वार्नर
 - 2. मार्क वुड
 - 3. एंड्रू टार्ई
 - 4. डेल स्टेन

Question ID : 65497828760
Status : Answered
Chosen Option : 1

Q.13 व्योम मित्र, जो जनवरी 2020 में खबरों में आया, एक _____ है।

- Ans
- 1. आई.आई.टी (IIT) बॉम्बे द्वारा विकसित ड्रोन
 - 2. DRDO द्वारा विकसित अंतरिक्ष यान का प्रकार
 - 3. पृथ्वी अवलोकन उपग्रह
 - 4. इसरो (ISRO) द्वारा विकसित ह्यूमनॉइड रोबोट

Question ID : 65497828749
Status : Answered
Chosen Option : 2

Q.14 दिल्ली के सुल्तानों के शासनकाल के दौरान, एक पांडुलिपि तैयार करने के लिए चार चरण आवश्यक होते थे। निम्नलिखित में से कौन सा चरण उनमें से एक नहीं था?

- Ans
- 1. पाठ का लेखन
 - 2. बंध या बाइंडिंग बनाना
 - 3. पाठ को संपादित करना
 - 4. महत्वपूर्ण शब्दों और अंशों को चिह्नित करने के लिए सोना पिघलाना

Question ID : 65497828761

Status : Not Attempted and Marked For Review

Chosen Option : --

Q.15 अशोक चक्र से सम्मानित होने वाली प्रथम भारतीय महिला कौन हैं?

- Ans
- 1. नीरजा भनोट
 - 2. किरण बेदी
 - 3. इंदिरा गांधी
 - 4. सरोजिनी नायडू

Question ID : 65497828753

Status : Answered

Chosen Option : 1

Q.16 भारत के निम्नलिखित में से किस राज्य में सोने के भंडार हैं?

- Ans
- 1. तमिलनाडु
 - 2. आंध्र प्रदेश
 - 3. मध्य प्रदेश
 - 4. कर्नाटक

Question ID : 65497828758

Status : Answered

Chosen Option : 4

Q.17 निम्नलिखित में से क्या पदार्थ का एक उदाहरण नहीं है?

- Ans
- 1. बादल
 - 2. गुरुत्व
 - 3. आग
 - 4. बारिश की बूंदें

Question ID : 65497828747

Status : Answered

Chosen Option : 2

Q.18 भारत की जनगणना 2011 के अनुसार, बिहार _____ % की साक्षरता दर के साथ सबसे कम साक्षर राज्य है।

- Ans
- 1. 65.46
 - 2. 66.95
 - 3. 67.06
 - 4. 63.82

Question ID : 65497828765
Status : Not Answered
Chosen Option : --

Q.19 निम्नलिखित में से किस योजना के तहत भारत सरकार ने अक्टूबर 2020 में संपत्ति कार्ड का भौतिक वितरण शुरू किया है?

- Ans
- 1. ग्रामीण क्षेत्रों में गांवों के समाजीकरण और तात्कालिक प्रौद्योगिकी के साथ उनका संवर्धन
 - 2. ग्रामीण क्षेत्रों के गांवों का सर्वेक्षण और तात्कालिक प्रौद्योगिकी के साथ गांवों की मैपिंग
 - 3. ग्रामीण क्षेत्रों में गांवों का सर्वेक्षण और महत्वपूर्ण प्रौद्योगिकी के साथ गांवों की मैपिंग
 - 4. ग्रामीण क्षेत्रों में गांवों के समाजीकरण और महत्वपूर्ण प्रौद्योगिकी के साथ उनका संवर्धन

Question ID : 65497828767
Status : Answered
Chosen Option : 4

Q.20 निम्न में से कौन पूर्वी बंगाल के एक वकील थे, जो असहयोग आंदोलन में विशेष रूप से सक्रिय थे?

- Ans
- 1. चित्तरंजन दास
 - 2. सरदार वल्लभभाई पटेल
 - 3. बीआर अंबेडकर
 - 4. बाल गंगाधर तिलक

Question ID : 65497828762
Status : Answered
Chosen Option : 3

Q.21 भारतीय संविधान के किस भाग में राष्ट्रपति के चुनाव से संबंधित नियमों का वर्णन किया गया है?

- Ans
- 1. भाग IV
 - 2. भाग VII
 - 3. भाग VI
 - 4. भाग V

Question ID : 65497828755
Status : Answered
Chosen Option : 1

Q.22 रंगनथिदू पक्षी अभयारण्य कहाँ स्थित है?

- Ans 1. केरल
 2. कर्नाटक
 3. तेलंगाना
 4. आंध्र प्रदेश

Question ID : 65497828754
Status : Not Answered
Chosen Option : --

Q.23 भारतीय गणतंत्र के विदेश मंत्री, _____ ने 16 सितंबर 2020 को वीडियो कॉन्फ्रेंसिंग के माध्यम से आई.बी.एस.ए (IBSA) विदेश मंत्रियों की व्यावहारिक बैठक की अध्यक्षता की।

- Ans 1. अमित शाह
 2. राजनाथ सिंह
 3. सलमान खुर्शीद
 4. एस जयशंकर

Question ID : 65497828764
Status : Answered
Chosen Option : 4

Q.24 GDP अपस्फीतिकारक (deflator) को _____ मूल्य अपस्फीतिकारक (deflator) भी कहा जाता है।

- Ans 1. अंतर्निहित
 2. अनन्य
 3. सुनिश्चित
 4. नियामक

Question ID : 65497828746
Status : Answered
Chosen Option : 1

Q.25 जी.डी.पी. (GDP) का प्रमुख उपयोग क्या है?

- Ans 1. देश की साक्षरता दर का आकलन करना
 2. किसी देश की अर्थव्यवस्था की स्थिति का आकलन करना
 3. देश के युवाओं के स्वास्थ्य का आकलन करना
 4. देश की विदेश नीति का आकलन करना

Question ID : 65497828769
Status : Answered
Chosen Option : 2

Section : Part C Elementary Mathematics

Q.1 गुरुप्रीत एक दुकान पर गई और उसने एक सोफा खरीदा। उसे इस पर 20% की छूट मिली। यदि उसे 30% की छूट मिलती तो वह ₹1,000 और बचा पाती। उसने सोफा कितने मूल्य में खरीदा?

- Ans**
- 1. ₹6,000
 - 2. ₹10,000
 - 3. ₹12,000
 - 4. ₹8,000

Question ID : 65497828781
Status : Answered
Chosen Option : 4

Q.2 ₹72,800 की धनराशि पर 10% वार्षिक ब्याज दर से 3 वर्ष बाद प्राप्त होने वाला चक्रवृद्धि ब्याज (₹ में) कितना होगा, यदि ब्याज वार्षिक रूप से चक्रवृद्धि होता है?

- Ans**
- 1. 24,600.80
 - 2. 24,996.80
 - 3. 24,069.80
 - 4. 24,096.80

Question ID : 65497828771
Status : Answered
Chosen Option : 4

Q.3 एक व्यक्ति ने अपने बेटों A, B और C के बीच ₹45,000 और ₹18,000 की दो अलग-अलग राशियों का वितरण किया। ₹45,000 की पहली राशि को 3 : 7 : 5 के अनुपात में, और ₹18,000 की दूसरी राशि को 4 : 2 : 3 के अनुपात में बाँटा गया। A और C को मिली राशियों का अंतर क्या है?

- Ans**
- 1. ₹5,000
 - 2. ₹3,000
 - 3. ₹4,000
 - 4. ₹4,500

Question ID : 65497828776
Status : Answered
Chosen Option : 3

Q.4 $6\frac{1}{3} - \left[\frac{9}{4} + \left\{ \frac{5}{4} - \frac{1}{13} \times \left(\frac{5}{2} - \frac{1}{3} \right) \right\} \right]$ का मान ज्ञात कीजिए।

- Ans**
- 1. 5
 - 2. 0
 - 3. 1
 - 4. 3

Question ID : 65497828772
Status : Answered
Chosen Option : 4

Q.5 चार धनात्मक संख्याओं का अनुपात 5 : 8 : 12 : 18 है और उनका लघुत्तम समापवर्त्य (LCM) 2,880 है। सबसे बड़ी संख्या और सबसे छोटी संख्या का अंतर क्या है?

- Ans**
- 1. 124
 - 2. 104
 - 3. 114
 - 4. 106

Question ID : 65497828774
Status : Answered
Chosen Option : 2

Q.6 एक कक्षा में, 60% विद्यार्थी लड़के और शेष लड़कियां हैं। यदि एक परीक्षा में 40% लड़के और 70% लड़कियां उत्तीर्ण हुईं और अनुत्तीर्ण लड़कियों की संख्या 42 है, तो अनुत्तीर्ण लड़कों की संख्या कितनी होगी?

- Ans**
- 1. 78
 - 2. 126
 - 3. 104
 - 4. 84

Question ID : 65497828790
Status : Answered
Chosen Option : 2

Q.7 एक परिवार की मासिक आय और खर्च का अनुपात 14 : 11 है। यदि परिवार की मासिक बचत ₹13,500 है, तो परिवार की मासिक आय क्या है?

- Ans**
- 1. ₹62,000
 - 2. ₹64,000
 - 3. ₹65,000
 - 4. ₹63,000

Question ID : 65497828778
Status : Answered
Chosen Option : 4

Q.8 किसी समकोण त्रिभुज की एक भुजा दूसरी भुजा की तीन गुनी है और कर्ण 8 cm है। त्रिभुज का क्षेत्रफल ज्ञात कीजिए।

- Ans**
- 1. 8.5 cm²
 - 2. 6.4 cm²
 - 3. 10.2 cm²
 - 4. 9.6 cm²

Question ID : 65497828793
Status : Answered
Chosen Option : 2

Q.9 वह बड़ी से बड़ी संख्या कौन-सी है, जिससे 415, 688 और 825 को भाग देने पर शेषफल क्रमशः 7, 8 और 9 बचता है?

- Ans
- 1. 136
 - 2. 126
 - 3. 132
 - 4. 142

Question ID : 65497828789
Status : Answered
Chosen Option : 1

Q.10 पाँच संख्याओं a, b, c, d और e का औसत 150 है। यदि पहली तीन संख्याओं a, b और c का औसत 130 है, तो अंतिम दो संख्याओं d और e का औसत क्या होगा?

- Ans
- 1. 160
 - 2. 120
 - 3. 180
 - 4. 140

Question ID : 65497828775
Status : Answered
Chosen Option : 3

Q.11 ₹5,000 की राशि 9% वार्षिक साधारण ब्याज पर कितने समय में ₹6,800 हो जाएगी?

- Ans
- 1. 3 वर्ष
 - 2. 5 वर्ष
 - 3. 4 वर्ष
 - 4. 6 वर्ष

Question ID : 65497828777
Status : Answered
Chosen Option : 3

Q.12 प्रतिदिन 8 घंटे काम करते हुए जॉन एक कार्य को 6 दिन में पूरा कर सकता है और प्रतिदिन 4 घंटे काम करते हुए मनु इसे 3 दिन में पूरा कर सकता है। मिलकर प्रतिदिन $9\frac{3}{5}$ घंटे काम करने पर इसे पूरा करने में उन्हें कितना समय लगेगा?

- Ans
- 1. 3 दिन
 - 2. 1 दिन
 - 3. 2 दिन
 - 4. 4 दिन

Question ID : 65497828788
Status : Answered
Chosen Option : 2

Q.13 एक बेलनाकार स्तंभ का व्यास 85 cm और ऊँचाई 7 m है। ₹20 प्रति m^2 की दर से स्तंभ की वक्र पृष्ठ को रंगने की लागत क्या होगी?

- Ans
- 1. ₹474
 - 2. ₹374
 - 3. ₹275
 - 4. ₹370

Question ID : 65497828779
Status : Answered
Chosen Option : 1

Q.14 ब्याज वार्षिक रूप से चक्रवृद्धि होने पर, ₹1,600 की धनराशि पर 15% की ब्याज दर से 2 वर्षों में प्राप्त होने वाला चक्रवृद्धि ब्याज ज्ञात कीजिए।

- Ans
- 1. ₹525
 - 2. ₹615
 - 3. ₹490
 - 4. ₹516

Question ID : 65497828792
Status : Answered
Chosen Option : 4

Q.15 यदि क्रय मूल्य, विक्रय मूल्य का 84% हो, तो लाभ का प्रतिशत कितना होगा?

- Ans
- 1. $16\frac{3}{4}\%$
 - 2. $17\frac{3}{21}\%$
 - 3. $19\frac{1}{4}\%$
 - 4. $19\frac{1}{21}\%$

Question ID : 65497828787
Status : Answered
Chosen Option : 4

Q.16 किसी बॉक्स में 25p और 10p के सिक्के 6 : 5 के अनुपात में रखे हैं, जिनकी धनराशि ₹226 है। 10p के सिक्कों की संख्या ज्ञात कीजिए।

- Ans**
- 1. 350
 - 2. 225
 - 3. 678
 - 4. 565

Question ID : 65497828791
Status : Answered
Chosen Option : 1

Q.17 पांच व्यक्तियों की औसत आयु 28 वर्ष है। यदि उनमें से एक को हटा दिया जाता है तो औसत में 2 वर्ष की कमी हो जाती है। हटाए गए व्यक्ति की आयु कितने वर्ष है?

- Ans**
- 1. 36
 - 2. 28
 - 3. 35
 - 4. 34

Question ID : 65497828780
Status : Answered
Chosen Option : 1

Q.18 तीन उम्मीदवारों A, B और C ने एक चुनाव लड़ा और क्रमशः 1800, 3300 और 3900 वोट प्राप्त किए। किसी भी वोट को अवैध वोट न मानते हुए बताइए कि B को कुल वोटों के कितने प्रतिशत वोट (दशमलव के दो स्थानों तक सही) प्राप्त हुए?

- Ans**
- 1. 35.5%
 - 2. 36.67%
 - 3. 32%
 - 4. 30%

Question ID : 65497828782
Status : Answered
Chosen Option : 1

Q.19 एक रेलगाड़ी, एकसमान चाल से $2\frac{1}{2}$ घंटे में 325 km की दूरी तय करती है। उसी चाल से 650 km की दूरी तय करने के लिए कितने घंटों का समय लगेगा?

- Ans**
- 1. 5
 - 2. 10
 - 3. 6
 - 4. 4

Question ID : 65497828773
Status : Answered
Chosen Option : 1

Q.20 किसी टीवी का सूची मूल्य ₹15,000 है और उसके सूची मूल्य पर 18% की छूट दी जाती है। कितनी अतिरिक्त छूट दी जाए जिससे ग्राहक को ₹10,947 के शुद्ध मूल्य में टीवी मिल जाए?

- Ans**
- 1. 11%
 - 2. 12%
 - 3. 9%
 - 4. 10%

Question ID : **65497828785**
Status : **Answered**
Chosen Option : **1**

Q.21 A ने एक वस्तु B को 25% लाभ पर बेची, B ने इसे C को 20% लाभ पर बेच दिया। C ने इसे 45% की हानि पर D को बेच दिया। यदि D ने इसे ₹330 में खरीदा, तो B ने वस्तु कितने (₹ में) में खरीदी थी?

- Ans**
- 1. 600
 - 2. 500
 - 3. 480
 - 4. 450

Question ID : **65497828794**
Status : **Answered**
Chosen Option : **2**

Q.22 $3 \times [5 - 1 \div 2 - \{3 + (4 - 2 \div 2) - (15 \div 5 \text{ of } 3)\}]$ का मान ज्ञात करें।

- Ans**
- 1. $\frac{5}{2}$
 - 2. $\frac{3}{5}$
 - 3. $-\frac{3}{2}$
 - 4. $-\frac{1}{5}$

Question ID : **65497828786**
Status : **Answered**
Chosen Option : **3**

Q.23 एक ट्रेन अपनी सामान्य चाल की $\frac{1}{2}$ चाल से चलते हुए गंतव्य तक पहुँचने में 60 मिनट अधिक समय लेती है। ट्रेन द्वारा उसी दूरी को तय करने में लगने वाला सामान्य समय ज्ञात कीजिए।

- Ans**
- 1. 30 मिनट
 - 2. 1 घंटा
 - 3. 2 घंटे
 - 4. 1.5 घंटे

Question ID : 65497828784
Status : Answered
Chosen Option : 3

Q.24 एक रॉकिंग चेयर 10% के लाभ पर बेची गई। यदि इसे ₹80 अधिक मूल्य पर बेचा जाता, तो 15% लाभ हुआ होता। कुर्सी का क्रय मूल्य (₹ में) कितना है?

- Ans**
- 1. 2,400
 - 2. 1,200
 - 3. 2,000
 - 4. 1,600

Question ID : 65497828770
Status : Answered
Chosen Option : 2

Q.25 A किसी प्रोजेक्ट को 10 दिनों में पूरा कर सकता है और B उसी प्रोजेक्ट को 15 दिनों में पूरा कर सकता है। यदि A और B एक साथ मिलकर प्रोजेक्ट पर काम करना शुरू करते हैं और B प्रोजेक्ट पूरा होने से 5 दिन पहले प्रोजेक्ट छोड़ देता है, तो प्रोजेक्ट कितने दिनों में पूरा होगा?

- Ans**
- 1. 8 दिन
 - 2. 10 दिन
 - 3. 7 दिन
 - 4. 9 दिन

Question ID : 65497828783
Status : Answered
Chosen Option : 2

Section : Part D English

Q.1 Select the INCORRECTLY spelt word.

- Ans**
- 1. Imperative
 - 2. Excepsional
 - 3. Integrated
 - 4. Intensify

Question ID : 65497828800
Status : Not Answered
Chosen Option : --

Q.2 The following sentence has been divided into parts. One of them may contain an error. Select the part that contains the error from the given options. If you don't find any error, mark 'No error' as your answer.

Neither of them have / any experience / in software development.

- Ans**
- 1. No error
 - 2. in software development
 - 3. Neither of them have
 - 4. any experience

Question ID : **65497828811**
Status : **Not Answered**
Chosen Option : --

Q.3 Select the most appropriate synonym of the given word.

Regret

- Ans**
- 1. Receive
 - 2. Repeat
 - 3. Repent
 - 4. Relieve

Question ID : **65497828805**
Status : **Not Answered**
Chosen Option : --

Q.4 Select the option that can be used as a one-word substitute for the given group of words.

Mark or substance that is impossible to remove

- Ans**
- 1. Incredible
 - 2. Indelible
 - 3. Stained
 - 4. Smudge

Question ID : **65497828799**
Status : **Not Answered**
Chosen Option : --

Q.5 Select the most appropriate ANTONYM of the given word.

Vast

- Ans**
- 1. Limitless
 - 2. Small
 - 3. Gigantic
 - 4. Huge

Question ID : **65497828797**
Status : **Not Answered**
Chosen Option : --

Q.6 Select the most appropriate option that can substitute the underlined word in the given sentence.

On the last day of the voyage, the ship was caught in a hurricane and the crew abandoned from their set course.

- Ans**
- 1. wandered
 - 2. enhanced
 - 3. channeled
 - 4. embarrassed

Question ID : 65497828795
Status : Not Answered
Chosen Option : --

Q.7 Select the most appropriate ANTONYM of the given word.

Bliss

- Ans**
- 1. Sorrow
 - 2. Pleasure
 - 3. Happiness
 - 4. Ecstasy

Question ID : 65497828806
Status : Not Answered
Chosen Option : --

Q.8 Select the most appropriate option that can substitute the underlined segment in the given sentence. If there is no need to substitute it, select 'No substitution required'.

The ceiling, which had cracks, caved in and several people trapped.

- Ans**
- 1. had been trapped
 - 2. No substitution required
 - 3. were trapped
 - 4. were trapping

Question ID : 65497828809
Status : Not Answered
Chosen Option : --

Q.9 The following sentence has been split into four segments. Identify the segment that contains a grammatical error.

The students / were tired / after working / at long hours.

- Ans**
- 1. The students
 - 2. were tired
 - 3. at long hours
 - 4. after working

Question ID : 65497828804
Status : Not Answered
Chosen Option : --

Q.10 Select the most appropriate meaning of the given idiom.

Having the gift of the gab

- Ans**
- 1. Has the best gift
 - 2. Possessive in nature
 - 3. Not ready to share belongings with others
 - 4. Talks well and persuasively

Question ID : **65497828807**
Status : **Not Answered**
Chosen Option : --

Q.11 The following sentence has been divided into parts. One of them may contain an error. Select the part that contains the error from the given options. If you don't find any error, select 'No error' as your answer.

The air in the city is so polluted / that it will be causing / several kinds of respiratory illnesses.

- Ans**
- 1. No error
 - 2. several kinds of respiratory illnesses
 - 3. that it will be causing
 - 4. The air in the city is so polluted

Question ID : **65497828796**
Status : **Not Answered**
Chosen Option : --

Q.12 Select the most appropriate option that can substitute the underlined segment in the given sentence. If there is no need to substitute it, select 'No substitution required'.

Either the bear or the lion have escaped from the zoo.

- Ans**
- 1. has escaped from
 - 2. have escaped in
 - 3. No substitution required
 - 4. have escaped to

Question ID : **65497828808**
Status : **Not Answered**
Chosen Option : --

Q.13 Select the **INCORRECTLY** spelt word.

- Ans**
- 1. Influnce
 - 2. Superior
 - 3. Intermediate
 - 4. Interfere

Question ID : **65497828801**
Status : **Not Answered**
Chosen Option : --

Q.14 Select the most appropriate option to fill in the blank.

Sunanda _____ me of my school friend whom I haven't seen for many years.

- Ans
- 1. recollects
 - 2. recalls
 - 3. reminds
 - 4. remembers

Question ID : 65497828802
Status : Not Answered
Chosen Option : --

Q.15 Select the most appropriate synonym of the given word.

GLEAM (V)

- Ans
- 1. Dull
 - 2. Shine
 - 3. Fade
 - 4. Slow

Question ID : 65497828812
Status : Not Answered
Chosen Option : --

Q.16 Select the option that can be used as a one-word substitute for the given group of words.

A thing no longer in use

- Ans
- 1. Broken
 - 2. Absolute
 - 3. Obsolete
 - 4. Damaged

Question ID : 65497828798
Status : Not Answered
Chosen Option : --

Q.17 Select the most appropriate option to fill in the blank.

The company entered the Indian market very late because they did not get a _____ partner.

- Ans
- 1. conformity
 - 2. compatible
 - 3. coordinated
 - 4. consequent

Question ID : 65497828803
Status : Not Answered
Chosen Option : --

Q.18 Select the most appropriate option to fill in the blank.

Ramesh visits his hometown quite_____.

- Ans 1. recently
 2. lately
 3. purposely
 4. frequently

Question ID : 65497828814
Status : Not Answered
Chosen Option : --

Q.19 Select the option that can be used as a one-word substitute for the given group of words.

Afternoon show of a film or play

- Ans 1. Movie
 2. Matinee
 3. Spectacle
 4. Performance

Question ID : 65497828813
Status : Not Answered
Chosen Option : --

Q.20 Select the most appropriate meaning of the given idiom.

On the cards

- Ans 1. Not likely to happen
 2. Written down
 3. Likely to happen
 4. Will happen

Question ID : 65497828810
Status : Not Answered
Chosen Option : --

Comprehension:

In the following passage, some words have been deleted. Read the passage carefully and select the most appropriate option to fill in each blank.

My experience (1)_____ the Indian Institution of Advanced Study, Shimla will always be (2)_____. The beauty of (3)_____ place can never be forgotten. The academic (4)_____ coupled with the (5)_____ aspect of the place make it worth visiting.

SubQuestion No : 21

Q.21 Select the most appropriate option to fill in blank number 1.

- Ans 1. at
 2. among
 3. from
 4. to

Question ID : 65497828816
Status : Not Answered
Chosen Option : --

Comprehension:

In the following passage, some words have been deleted. Read the passage carefully and select the most appropriate option to fill in each blank.

My experience (1)_____ the Indian Institution of Advanced Study, Shimla will always be (2)_____. The beauty of (3)_____ place can never be forgotten. The academic (4)_____ coupled with the (5)_____ aspect of the place make it worth visiting.

SubQuestion No : 22

Q.22 Select the most appropriate option to fill in blank number 2.

Ans 1. overcome

2. memorable

3. memoir

4. eligible

Question ID : 65497828817
Status : Not Answered
Chosen Option : --

Comprehension:

In the following passage, some words have been deleted. Read the passage carefully and select the most appropriate option to fill in each blank.

My experience (1)_____ the Indian Institution of Advanced Study, Shimla will always be (2)_____. The beauty of (3)_____ place can never be forgotten. The academic (4)_____ coupled with the (5)_____ aspect of the place make it worth visiting.

SubQuestion No : 23

Q.23 Select the most appropriate option to fill in blank number 3.

Ans 1. an

2. a

3. the

4. No article required

Question ID : 65497828818
Status : Not Answered
Chosen Option : --

Comprehension:

In the following passage, some words have been deleted. Read the passage carefully and select the most appropriate option to fill in each blank.

My experience (1)_____ the Indian Institution of Advanced Study, Shimla will always be (2)_____. The beauty of (3)_____ place can never be forgotten. The academic (4)_____ coupled with the (5)_____ aspect of the place make it worth visiting.

SubQuestion No : 24

Q.24 Select the most appropriate option to fill in blank number 4.

Ans 1. adventure

2. ambivalence

3. environment

4. argument

Question ID : 65497828819
Status : Not Answered
Chosen Option : --

Comprehension:

In the following passage, some words have been deleted. Read the passage carefully and select the most appropriate option to fill in each blank.

My experience (1)_____ the Indian Institution of Advanced Study, Shimla will always be (2)_____. The beauty of (3)_____ place can never be forgotten. The academic (4)_____ coupled with the (5)_____ aspect of the place make it worth visiting.

SubQuestion No : 25

Q.25 Select the most appropriate option to fill in blank number 5.

- Ans 1. astrological
 2. historical
 3. astronomical
 4. biological

Question ID : **65497828820**
Status : **Not Answered**
Chosen Option : --

Section : **Part D Hindi**

Q.1 दिए गए वाक्य में रेखांकित खंड को प्रतिस्थापित करने के लिए सबसे उपयुक्त विकल्प का चयन करें। यदि इसे प्रतिस्थापित करने की आवश्यकता नहीं है, तो विकल्प किसी बदलाव की आवश्यकता नहीं है का चयन करें।

तुम इस मूल्य से यह खरीद सकते हो।

- Ans 1. इस मूल्य पर
 2. इस मूल्य को
 3. इस मूल्य में
 4. किसी बदलाव की आवश्यकता नहीं है।

Question ID : **65497828830**
Status : **Answered**
Chosen Option : **3**

Q.2 दिए गए शब्द के विलोम शब्द का चयन करें-

उदार

- Ans 1. विनीत
 2. अनुदात्त
 3. आसक्त
 4. कृपण

Question ID : **65497828823**
Status : **Answered**
Chosen Option : **4**

Q.3 दिए गए वाक्य का वह भाग ज्ञात करें जिसमें कोई त्रुटि है। यदि कोई त्रुटि नहीं है, तो 'कोई त्रुटि नहीं है' चुनें।

तुम्हारे से(1)/ कोई काम(2)/ नहीं हो सकता।(3)/ कोई त्रुटि नहीं है।(4)

Ans 1. 1

2. 2

3. 3

4. 4

Question ID : 65497828833
Status : Answered
Chosen Option : 1

Q.4 सही वर्तनी वाले शब्द का चयन करें।

Ans 1. उत्कृष्ट

2. उतकृष्ट

3. उतकृष्ट

4. उत्कृष्ट

Question ID : 65497828827
Status : Answered
Chosen Option : 4

Q.5 निम्न चार विकल्पों में से, उस विकल्प का चयन करें जो दिए गये मुहावरे का अर्थ व्यक्त करता है-

रंग लाना

Ans 1. परिवर्तन होना

2. धाक जमना

3. प्रभाव उत्पन्न करना

4. प्रोत्साहित होना

Question ID : 65497828824
Status : Answered
Chosen Option : 3

Q.6 रिक्त स्थान को भरने के लिए सबसे उपयुक्त विकल्प का चयन करें।

मुझे _____ है कि आपकी दावत में सम्मिलित नहीं हो सकूँगा।

Ans 1. ग्लानि

2. खेद

3. शोक

4. हर्ष

Question ID : 65497828837
Status : Answered
Chosen Option : 2

Q.7 सही वर्तनी वाले शब्द का चयन करें।

- Ans 1. पर्दार्थ
 2. पदारथ
 3. पदार्थ
 4. पर्दाथ

Question ID : 65497828828
Status : Answered
Chosen Option : 3

Q.8 दिए गए शब्द के समानार्थी का चयन करें।

हिमालय

- Ans 1. स्थिर
 2. जगत
 3. नगराज
 4. सुरभि

Question ID : 65497828822
Status : Answered
Chosen Option : 2

Q.9 रिक्त स्थान की पूर्ति के लिए सबसे उपयुक्त शब्द का चयन करें-

राम खूब कसरत करता है _____ वह पहलवान बन जाए।

- Ans 1. क्योंकि
 2. इसलिए
 3. ताकि
 4. इससे

Question ID : 65497828825
Status : Answered
Chosen Option : 3

Q.10 दिए गए शब्द का विलोम चुनें-

छली

- Ans 1. निष्फल
 2. निश्छल
 3. कपटी
 4. धूर्त

Question ID : 65497828834
Status : Answered
Chosen Option : 2

Q.11 निम्नलिखित प्रश्न में, दिए गए चार विकल्पों में से, उस विकल्प का चयन करें जो मुहावरे का अर्थ व्यक्त करता है।

दाहिना हाथ होना

- Ans
- 1. धोखा देना
 - 2. दुश्मन होना
 - 3. बहुत सहायक होना
 - 4. चापलूसी करना

Question ID : 65497828831
Status : Answered
Chosen Option : 3

Q.12 'किसी के पीछे-पीछे चलने वाला' वाक्यांश के लिए एक शब्द होगा-

- Ans
- 1. आगामी
 - 2. प्रतिगामी
 - 3. अनुरागी
 - 4. अनुगामी

Question ID : 65497828836
Status : Answered
Chosen Option : 2

Q.13 'अनन्त' किसका पर्यायवाची है?

- Ans
- 1. आकाश
 - 2. समुद्र
 - 3. देव
 - 4. पर्वत

Question ID : 65497828840
Status : Answered
Chosen Option : 1

Q.14 दिए गए वाक्य में रेखांकित खंड को प्रतिस्थापित करने के लिए सबसे उपयुक्त विकल्प का चयन करें।
यदि इसे प्रतिस्थापित करने की आवश्यकता नहीं है, तो विकल्प 'किसी बदलाव की आवश्यकता नहीं है' का चयन करें।

सरोजनी नायडू भारत की कोकिला कहा जाता थीं।

- Ans
- 1. भारत की कोकिला कही जाती थीं।
 - 2. किसी बदलाव की आवश्यकता नहीं है।
 - 3. भारत के कोकिला कही जाती थीं।
 - 4. भारत की कोकिला कही जाता थीं।

Question ID : 65497828826
Status : Answered
Chosen Option : 1

Q.15 दिए गए वाक्य का वह भाग ज्ञात करें जिसमें कोई त्रुटि है। यदि कोई त्रुटि नहीं है, तो 'कोई त्रुटि नहीं है' विकल्प को चुनें।

शिकारी ने शेर पर गोली चलाया।

- Ans
- 1. शेर पर
 - 2. गोली चलाया
 - 3. कोई त्रुटि नहीं है
 - 4. शिकारी ने

Question ID : 65497828821
Status : Answered
Chosen Option : 2

Q.16 दिये गये वाक्यांश के लिए एक शब्द चुनिए।

गोद लिया पुत्र

- Ans
- 1. दत्तक
 - 2. दत्तचित्त
 - 3. दन्तक
 - 4. बालक

Question ID : 65497828829
Status : Answered
Chosen Option : 1

Q.17 नीचे दिए वाक्यांश के लिए एक शब्द दिए गए विकल्पों में से चुनिए-

जो निगाह से परे हो

- Ans
- 1. प्रत्यक्ष
 - 2. निगाहहीन
 - 3. निगेबान
 - 4. परोक्ष

Question ID : 65497828835
Status : Answered
Chosen Option : 2

Q.18 _____ भविष्य की ओर बढ़ना चाहिए।

रिक्त स्थान की पूर्ति उचित शब्द से कीजिए-

- Ans
- 1. उजला
 - 2. कलंकीय
 - 3. अंधेरे
 - 4. उज्वल

Question ID : 65497828838
Status : Answered
Chosen Option : 4

Q.19 दिये गये वाक्य के किस भाग में त्रुटि है?

ऐसी स्थिती में कुछ काम नहीं हो सकता।

- Ans
- 1. में कुछ
 - 2. ऐसी स्थिती
 - 3. हो सकता।
 - 4. काम नहीं

Question ID : 65497828839
Status : Answered
Chosen Option : 2

Q.20 दिए गए वाक्य में रेखांकित खंड को प्रतिस्थापित करने के लिए सबसे उपयुक्त विकल्प का चयन करें।
यदि इसे प्रतिस्थापित करने की आवश्यकता नहीं है, तो विकल्प 'किसी बदलाव की आवश्यकता नहीं है'
का चयन करें।

शनैः-शनैः उसकी दिशा बिगड़ती गई।

- Ans
- 1. किसी बदलाव की आवश्यकता नहीं है।
 - 2. दशा
 - 3. दीशा
 - 4. दिसा

Question ID : 65497828832
Status : Answered
Chosen Option : 2

Comprehension:

दिए गए गद्यांश में से कुछ शब्द हटा दिए गए हैं। नीचे दिए विकल्पों की सहायता से प्रत्येक संख्या के लिए सबसे उपयुक्त विकल्प का चयन करें।

हमें विचार नहीं चाहिए। (1) _____ हमारे पास बहुत हैं। हमें विचारों को (2) _____ करने वाले लोगों की आवश्यकता है। इंजीनियरों, मिस्त्रियों, कलाकारों, कारीगरों की, जो देश का (3) _____ कर सकें। हमें पुल बनाने वालों, सड़कें बनाने वालों, इमारतें खड़ी करने वालों, कारखाने खोलने वालों की ज़रूरत है। हमें (4) _____ की ज़रूरत है। उद्योग (5) _____ की ज़रूरत है।

SubQuestion No : 21

Q.21 गद्यांश के रिक्त स्थान (1) के लिए सर्वाधिक उपयुक्त शब्द होगा-

- Ans
- 1. विचार
 - 2. सोच
 - 3. अचार
 - 4. आचार

Question ID : 65497828842
Status : Answered
Chosen Option : 1

Comprehension:

दिए गए गद्यांश में से कुछ शब्द हटा दिए गए हैं। नीचे दिए विकल्पों की सहायता से प्रत्येक संख्या के लिए सबसे उपयुक्त विकल्प का चयन करें।

हमें विचार नहीं चाहिए। (1) _____ हमारे पास बहुत हैं। हमें विचारों को (2) _____ करने वाले लोगों की आवश्यकता है। इंजीनियरों, मिस्त्रियों, कलाकारों, कारीगरों की, जो देश का (3) _____ कर सकें। हमें पुल बनाने वालों, सड़कें बनाने वालों, इमारतें खड़ी करने वालों, कारखाने खोलने वालों की ज़रूरत है। हमें (4) _____ की ज़रूरत है। उद्योग (5) _____ की ज़रूरत है।

SubQuestion No : 22

Q.22 गद्यांश के रिक्त स्थान (2) के लिए सर्वाधिक उपयुक्त शब्द होगा-

- Ans**
- 1. कार्यानित
 - 2. क्रियावित
 - 3. कार्यान्वित
 - 4. कार्यावित

Question ID : **65497828843**
Status : **Answered**
Chosen Option : **3**

Comprehension:

दिए गए गद्यांश में से कुछ शब्द हटा दिए गए हैं। नीचे दिए विकल्पों की सहायता से प्रत्येक संख्या के लिए सबसे उपयुक्त विकल्प का चयन करें।

हमें विचार नहीं चाहिए। (1) _____ हमारे पास बहुत हैं। हमें विचारों को (2) _____ करने वाले लोगों की आवश्यकता है। इंजीनियरों, मिस्त्रियों, कलाकारों, कारीगरों की, जो देश का (3) _____ कर सकें। हमें पुल बनाने वालों, सड़कें बनाने वालों, इमारतें खड़ी करने वालों, कारखाने खोलने वालों की ज़रूरत है। हमें (4) _____ की ज़रूरत है। उद्योग (5) _____ की ज़रूरत है।

SubQuestion No : 23

Q.23 गद्यांश के रिक्त स्थान (3) के लिए सर्वाधिक उपयुक्त शब्द होगा-

- Ans**
- 1. निर्माण
 - 2. कल्याण
 - 3. रक्षण
 - 4. पालन

Question ID : **65497828844**
Status : **Answered**
Chosen Option : **1**

Comprehension:

दिए गए गद्यांश में से कुछ शब्द हटा दिए गए हैं। नीचे दिए विकल्पों की सहायता से प्रत्येक संख्या के लिए सबसे उपयुक्त विकल्प का चयन करें।

हमें विचार नहीं चाहिए। (1) _____ हमारे पास बहुत हैं। हमें विचारों को (2) _____ करने वाले लोगों की आवश्यकता है। इंजीनियरों, मिस्त्रियों, कलाकारों, कारीगरों की, जो देश का (3) _____ कर सकें। हमें पुल बनाने वालों, सड़कें बनाने वालों, इमारतें खड़ी करने वालों, कारखाने खोलने वालों की ज़रूरत है। हमें (4) _____ की ज़रूरत है। उद्योग (5) _____ की ज़रूरत है।

SubQuestion No : 24

Q.24 गद्यांश के रिक्त स्थान (4) के लिए सर्वाधिक उपयुक्त शब्द होगा-

- Ans**
- 1. परिश्रमियों
 - 2. मेहनतियों
 - 3. उद्यमियों
 - 4. कसरतियों

Question ID : **65497828845**
Status : **Answered**
Chosen Option : **3**

Comprehension:

दिए गए गद्यांश में से कुछ शब्द हटा दिए गए हैं। नीचे दिए विकल्पों की सहायता से प्रत्येक संख्या के लिए सबसे उपयुक्त विकल्प का चयन करें।

हमें विचार नहीं चाहिए। (1) _____ हमारे पास बहुत हैं। हमें विचारों को (2) _____ करने वाले लोगों की आवश्यकता है। इंजीनियरों, मिस्त्रियों, कलाकारों, कारीगरों की, जो देश का (3) _____ कर सकें। हमें पुल बनाने वालों, सड़कें बनाने वालों, इमारतें खड़ी करने वालों, कारखाने खोलने वालों की ज़रूरत है। हमें (4) _____ की ज़रूरत है। उद्योग (5) _____ की ज़रूरत है।

SubQuestion No : 25

Q.25 गद्यांश के रिक्त स्थान (5) के लिए सर्वाधिक उपयुक्त शब्द होगा-

- Ans**
- 1. फैक्ट्रियों
 - 2. कार्यों
 - 3. धंधों
 - 4. मिलों

Question ID : **65497828846**
Status : **Answered**
Chosen Option : **4**