

## Constable GD in CAPFs NIA SSF and Rifleman GD in Assam Rifles Examination 2021

Roll Number	<a href="http://www.GovtJobsAlert.In">www.GovtJobsAlert.In</a>
Candidate Name	<a href="http://www.GovtJobsAlert.In">www.GovtJobsAlert.In</a>
Venue Name	Gyanoday Technical Institute
Exam Date	08/12/2021
Exam Time :	9:00 AM - 10:30 AM
Subject	Constable GD 2021

### Section : Part A General Intelligence and Reasoning

Q.1 सात मित्र A, B, C, D, E, F और G एक पंक्ति में उत्तर की ओर मुंह करके बैठे हैं। B पंक्ति के मध्य में नहीं बैठा है। A, B के दाईं ओर दूसरे स्थान पर बैठा है। D, F के बाईं ओर दूसरे स्थान पर बैठा है। G, F के बाईं ओर ठीक बगल में बैठा है। C, G के दाईं ओर दूसरे स्थान पर बैठा है। E, B और A के बीच में बैठा है। पंक्ति के मध्य में कौन बैठा है?

- Ans
- 1. G
  - 2. D
  - 3. E
  - 4. F

Question ID : 65497830129  
Status : Answered  
Chosen Option : 2

Q.2 चार अक्षर-समूह दिए गए हैं, जिनमें से तीन किसी तरह से संगत हैं और एक असंगत है। असंगत अक्षर-समूह का चयन कीजिए।

- Ans
- 1. ZBFL
  - 2. BDHN
  - 3. MOSY
  - 4. OQUB

Question ID : 65497830117  
Status : Answered  
Chosen Option : 4

Q.3 'गोंदा' का 'फूल' से वही संबंध है, जो 'जौ' का '\_\_\_\_\_' से है।

- Ans
- 1. डंठलों
  - 2. दालों
  - 3. मसालों
  - 4. अनाजों

Question ID : 65497830139  
Status : Answered  
Chosen Option : 4

Q.4 पांच मित्र P, Q, R, S और T एक बस में यात्रा कर रहे हैं। सभी एक के बाद एक, पांच अलग-अलग पंक्तियों में एक ही दिशा की ओर मुख करके बैठे हैं। P, S के ठीक आगे बैठा है। T, Q के पीछे बैठा है। R के पहले और बाद में बैठे व्यक्तियों की संख्या समान है। T, R के आगे बैठा है। इनमें से कौन अंत में बैठा है?

- Ans
- 1. T
  - 2. Q
  - 3. S
  - 4. P

Question ID : 65497830140  
Status : Answered  
Chosen Option : 3

Q.5 उस विकल्प का चयन करें, जिसका तीसरी संख्या से वही संबंध है, जो दूसरी संख्या का पहली संख्या से है।

12 : 67 :: 16 : ?

- Ans
- 1. 80
  - 2. 72
  - 3. 91
  - 4. 70

Question ID : 65497830131  
Status : Answered  
Chosen Option : 3

Q.6 दिए गए विकल्पों में से उस संख्या का चयन कीजिए, जो निम्नलिखित श्रेणी में प्रश्नवाचक चिह्न (?) के स्थान पर आएगी।

32, 33, 37, 46, ?, 87

- Ans
- 1. 60
  - 2. 52
  - 3. 62
  - 4. 77

Question ID : 65497830119  
Status : Answered  
Chosen Option : 2

Q.7 उस विकल्प का चयन करें, जिसका तीसरे अक्षर-समूह से वही संबंध है, जो दूसरे अक्षर-समूह का पहले अक्षर-समूह से है।

BFX : PTL :: UHE : ?

- Ans
- 1. IVS
  - 2. IUS
  - 3. IVT
  - 4. HVS

Question ID : 65497830121  
Status : Answered  
Chosen Option : 1

**Q.8** Select the correct option that indicates the arrangement of the given words in a logical and meaningful order.

- i. Class
- ii. Family
- iii. Kingdom
- iv. Order
- v. Phylum

- Ans**  1. iii, v, i, iv, ii  
 2. iii, v, ii, iv, i  
 3. iii, ii, iv, i, v  
 4. iii, iv, ii, v, i

Question ID : 65497830124  
 Status : Answered  
 Chosen Option : 1

**Q.9** दिए गए विकल्पों में से उस आकृति का चयन कीजिए जो दी गई श्रृंखला में प्रश्न चिह्न (?) के स्थान पर आ सकती है।



**Ans**

- 1.
- 2.
- 3.
- 4.

Question ID : 65497830127  
 Status : Answered  
 Chosen Option : 1

**Q.10** उस अक्षर संयोजन का चयन करें जिसे दी गई श्रृंखला के रिक्त स्थानों में क्रमिक रूप से रखे जाने पर श्रृंखला पूर्ण हो जाएगी।

c \_ \_ w z c \_ n \_ z c j \_ w \_ \_ j n \_ z

- Ans**  1. j, n, j, w, n, z, c, w  
 2. n, j, n, w, n, z, c, w  
 3. n, j, j, w, n, c, z, w  
 4. j, n, j, w, z, n, c, w

Question ID : 65497830125  
 Status : Answered  
 Chosen Option : 1

Q.11 दिए गए विकल्पों में से उस संख्या का चयन कीजिए, जो निम्नलिखित श्रेणी में प्रश्नवाचक चिह्न (?) के स्थान पर आ सकती है।

24, 27, 33, 42, 54, ?

- Ans
- 1. 68
  - 2. 64
  - 3. 66
  - 4. 69

Question ID : 65497830126  
Status : Answered  
Chosen Option : 1

Q.12 रोहित ने रूचि से कहा, "तुम्हारी माँ के पिता मेरे बेटे के ससुर हैं"। रूचि का रोहित से क्या संबंध है?

- Ans
- 1. बेटा
  - 2. पोती
  - 3. बहन
  - 4. चाची

Question ID : 65497830123  
Status : Answered  
Chosen Option : 1

Q.13 एक विशिष्ट कूट भाषा में, 'match is over' को 'en jo hi' लिखा जाता है, 'the cricket match' को 'lu mo en' लिखा जाता है, और 'over the globe' को 'hi lu nok' लिखा जाता है। उसी कूट भाषा में 'cricket' को किस प्रकार लिखा जाएगा?

- Ans
- 1. nok
  - 2. jo
  - 3. hi
  - 4. mo

Question ID : 65497830128  
Status : Answered  
Chosen Option : 4

Q.14 रमेश के पास एक रुपए, पांच रुपए और दस रुपए के सिक्के समान संख्या में हैं। उसके पास कुल ₹640 हैं। उसके पास कुल कितने सिक्के हैं?

- Ans
- 1. 90
  - 2. 40
  - 3. 120
  - 4. 60

Question ID : 65497830134  
Status : Answered  
Chosen Option : 2

Q.15 यदि दर्पण को निम्नांकित चित्र के अनुसार PQ पर रखा जाए, तो दिए गए संयोजन का दर्पण में निमित्त सही प्रतिबिंब चयनित कीजिए।



- Ans
- 1. ADHWARIO
  - 2. OIRADHWA
  - 3. ADHWARIO
  - 4. OIRAWHDA

Question ID : 65497830120  
Status : Answered  
Chosen Option : 4

Q.16 एक निश्चित कूट भाषा में, PARENTS को JYHULFG लिखा जाता है। उसी कूट भाषा में ASTONISH को किस प्रकार लिखा जाएगा?

- Ans
- 1. YGFKLQGR
  - 2. YGEKKQGR
  - 3. YHEKLQGR
  - 4. YHEKKQGS

Question ID : 65497830122  
Status : Answered  
Chosen Option : 1

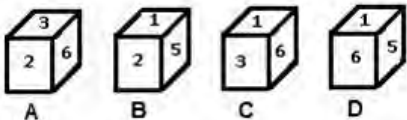
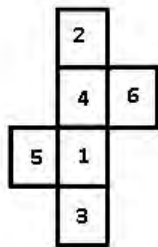
Q.17 दिए गए पैटर्न का ध्यानपूर्वक अध्ययन कीजिए और उस संख्या का चयन कीजिए, जो इसमें प्रश्नचिह्न (?) के स्थान पर आ सकती है।

? 23 17  
74 95 62  
44 49 28

- Ans
- 1. 36
  - 2. 16
  - 3. 15
  - 4. 32

Question ID : 65497830132  
Status : Answered  
Chosen Option : 3

Q.18 Select the dice that can be formed by folding the given sheet along the lines.



- Ans
- 1. Only D
  - 2. Only B
  - 3. Only A and B
  - 4. Only A and C

Question ID : 65497830135  
Status : Answered  
Chosen Option : 4

Q.19 दिए गए कथनों और निष्कर्षों का ध्यानपूर्वक अध्ययन करें। कथनों में दी गई जानकारी को सत्य मानते हुए विचार करें, भले ही वह सामान्यतः ज्ञात तथ्यों से भिन्न प्रतीत होती हो, और बताएं कि दिए गए निष्कर्षों में से कौन से तार्किक रूप से कथनों का पालन करते हैं।

कथन:  
सभी सब्जियां खाद्य पदार्थ हैं।  
कुछ खाद्य पदार्थ पेय हैं।

निष्कर्ष:  
I. कुछ पेय खाद्य पदार्थ हैं।  
II. कुछ सब्जियां पेय हैं।

- Ans
- 1. कोई भी निष्कर्ष पालन नहीं करता है।
  - 2. केवल निष्कर्ष I पालन करता है।
  - 3. केवल निष्कर्ष II पालन करता है।
  - 4. दोनों ही निष्कर्ष पालन करते हैं।

Question ID : 65497830130  
Status : Answered  
Chosen Option : 2

Q.20 यदि 'A' का अर्थ 'जोड़ना' है, 'B' का अर्थ 'घटाना' है, और 'x' तथा '÷' चिह्नों को परस्पर बदल दिया जाए, तो निम्न व्यंजक का मान क्या होगा?

$$12 \div (81 B 18) \times 9 B 34 A 12 \times 6$$

Ans  1. 52

2. 54

3. 58

4. 76

Question ID : 65497830133

Status : Answered

Chosen Option : 1

Q.21 दिए गए विकल्पों में से उस अक्षर-समूह का चयन करें, जो निम्नलिखित श्रृंखला में प्रश्नवाचक चिन्ह (?) के स्थान पर आ सकता है।

GRTD, KNXZ, OJBV, SFFR, ?

Ans  1. WAJO

2. VBKN

3. WBJN

4. WBKO

Question ID : 65497830138

Status : Answered

Chosen Option : 3

Q.22 निम्नलिखित आरेख में, 'वृत्त', 'पुलिसकर्मियों' को निरूपित करता है, 'वर्ग', 'खिलाड़ियों' को निरूपित करता है, और 'त्रिभुज', 'करदाताओं' को निरूपित करता है। विभिन्न खंडों में दी गई संख्याएं उस श्रेणी से संबंधित व्यक्तियों की संख्या को दर्शाती हैं।



कितने पुलिसकर्मियों, करदाता हैं लेकिन खिलाड़ी नहीं हैं?

Ans  1. 22

2. 6

3. 33

4. 27

Question ID : 65497830141

Status : Answered

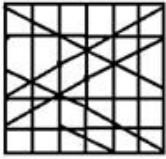
Chosen Option : 2

Q.23 उस विकल्प का चयन करें, जिसमें दी गई आकृति अंतर्निहित है (आकृति को घुमाने की अनुमति नहीं है)।

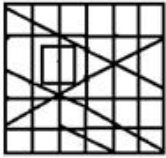


Ans

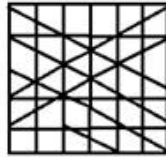
1.



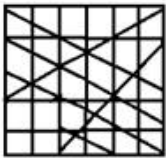
2.



3.



4.



Question ID : 65497830136

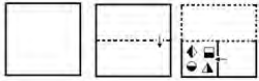
Status : Answered

Chosen Option : 3

GovtJobsAlert.In



Q.24 निम्नांकित चित्रों में एक कागज को मोड़ने का क्रम और मुड़े हुए कागज को काटने का तरीका दर्शाया गया है। कागज को खोलने पर यह कैसा दिखाई देगा?



Ans

- 1.
- 2.
- 3.
- 4.

Question ID : 65497830137  
Status : Answered  
Chosen Option : 4

Q.25 एक निश्चित कूट भाषा में, FLEW को 1212546 लिखा जाता है। उसी कूट भाषा में RODE को किस प्रकार लिखा जाएगा?

- Ans  1. 3612411
2. 341319
3. 3615410
4. 3615210

Question ID : 65497830118  
Status : Answered  
Chosen Option : 3

Section : Part B General Knowledge and General Awareness

Q.1 1947 में स्वतंत्र भारत की प्रथम कैबिनेट में शिक्षा विभाग का प्रभार किसके पास था?

- Ans  1. डॉ. बी.आर. अम्बेडकर
2. लियाकत अली खान
3. डॉ. राजेंद्र प्रसाद
4. मौलाना अबुल कलाम आज़ाद

Question ID : 65497830150  
Status : Answered  
Chosen Option : 4

Q.2 भारतीय संविधान के किस अनुच्छेद में उच्चतम न्यायालय को याचिकाएं (writs) जारी करने की शक्ति प्रदान की गई है?

- Ans
- 1. अनुच्छेद 49
  - 2. अनुच्छेद 53
  - 3. अनुच्छेद 32
  - 4. अनुच्छेद 41

Question ID : 65497830163  
Status : Answered  
Chosen Option : 3

Q.3 म्यूरिएटिक अम्ल (muriatic acid) का रासायनिक सूत्र क्या है?

- Ans
- 1.  $\text{HNO}_3$
  - 2.  $\text{H}_2\text{SO}_4$
  - 3.  $\text{AsH}_3$
  - 4.  $\text{HCl}$

Question ID : 65497830153  
Status : Marked For Review  
Chosen Option : 3

Q.4 इनमें से किसके अनुसार, तापमान और अन्य भौतिक स्थितियां नियत रहने पर, किसी चालक के दो बिंदुओं के बीच प्रवाहित होने वाली धारा, दोनों बिंदुओं के बीच विभवांतर के अनुक्रमानुपाती होती है?

- Ans
- 1. हुक का नियम
  - 2. ओम का नियम
  - 3. न्यूटन का नियम
  - 4. पास्कल का नियम

Question ID : 65497830159  
Status : Answered  
Chosen Option : 2

Q.5 सितंबर 2021 में, भारतीय विज्ञान संस्थान (IISc) और भारतीय अंतरिक्ष अनुसंधान संगठन (ISRO) के शोधकर्ताओं की एक टीम ने एक ऐसा उपकरण विकसित किया, जो \_\_\_\_\_ में सक्षम बना सकता है।

- Ans
- 1. अंतरिक्ष यात्रियों को अंतरिक्ष में कपड़े धोने
  - 2. अंतरिक्ष यात्री यात्रियों को अंतरिक्ष में खाना गर्म करने
  - 3. वैज्ञानिकों को अंतरिक्ष से उपग्रह प्रक्षेपित करने
  - 4. वैज्ञानिकों को अंतरिक्ष में जैविक प्रयोग करने

Question ID : 65497830164  
Status : Answered  
Chosen Option : 1

Q.6 नवंबर 2020 में, केंद्रीय स्वास्थ्य मंत्री डॉ. हर्षवर्धन ने किस राज्य में 'पोर्टेबल ट्रांजिट हॉस्पिटल स्ट्रक्चर' का उद्घाटन किया?

- Ans  1. तमिलनाडु  
 2. कर्नाटक  
 3. महाराष्ट्र  
 4. आंध्र प्रदेश

Question ID : 65497830151

Status : Not Attempted and Marked For Review

Chosen Option : --

Q.7 निम्नलिखित में से कौन सी पुस्तक मेगस्थनीज द्वारा लिखित है?

- Ans  1. नैचुरल हिस्ट्री  
 2. इंडिका  
 3. अर्थशास्त्र  
 4. पेरिप्लस ऑफ द एरिथ्रियन सी

Question ID : 65497830148

Status : Answered

Chosen Option : 2

Q.8 निम्नलिखित में से किसने कभी भी भारत के लिए पेशेवर क्रिकेट नहीं खेला है?

- Ans  1. विजेन्द्र सिंह  
 2. सौरव गांगुली  
 3. हरभजन सिंह  
 4. वीरेंद्र सहवाग

Question ID : 65497830166

Status : Answered

Chosen Option : 1

Q.9 निम्नलिखित में से किस कार्य के मूल्य को, राष्ट्रीय आय की गणना में शामिल नहीं किया जाता है?

- Ans  1. एक फर्म में कार्य करना  
 2. एक नए घर का निर्माण  
 3. बाजार में मछली बेचना  
 4. गृहिणी का कार्य

Question ID : 65497830162

Status : Answered

Chosen Option : 4

Q.10 निम्नलिखित में से कौन सी साहित्यिक कृति संध्याकर नंदी द्वारा रचित है?

- Ans
- 1. गीत गोविंद
  - 2. अर्थशास्त्र
  - 3. रामचरितम/रामपालचरित
  - 4. बुद्धचरित

Question ID : 65497830154  
Status : Answered  
Chosen Option : 3

Q.11 'द लास्ट क्वीन ऑफ़ कश्मीर' नामक उपन्यास के लेखक कौन हैं?

- Ans
- 1. चित्रा बैनर्जी दिवाकरुणी
  - 2. सुधा मूर्ति
  - 3. चेतन भगत
  - 4. राकेश कौल

Question ID : 65497830146  
Status : Not Answered  
Chosen Option : --

Q.12 तुलसीदास की रचना, रामचरितमानस, \_\_\_\_\_ भाषा में लिखी गई है।

- Ans
- 1. असमिया
  - 2. अवधी
  - 3. उर्दू
  - 4. संस्कृत

Question ID : 65497830161  
Status : Answered  
Chosen Option : 2

Q.13 दशहरे के पर्व को \_\_\_\_\_ के नाम से भी जाना जाता है।

- Ans
- 1. धनतेरस
  - 2. नवरात्रि
  - 3. दुर्गाष्टमी
  - 4. विजयदशमी

Question ID : 65497830156  
Status : Answered  
Chosen Option : 4

Q.14 अक्टूबर 2020 में रेपो दर क्या थी?

- Ans
- 1. 4%
  - 2. 4.5%
  - 3. 5%
  - 4. 3.5%

Question ID : 65497830152  
Status : Answered  
Chosen Option : 1

Q.15 चावल की खेती की ज़ाबो प्रणाली (Zabo system) भारत के इनमें से किस राज्य में प्रचलित जल संचयन की एक स्वदेशी विधि है?

- Ans
- 1. केरल
  - 2. उत्तर प्रदेश
  - 3. कर्नाटक
  - 4. नागालैंड

Question ID : 65497830145  
Status : Not Answered  
Chosen Option : --

Q.16 महेश भूपति और लिंडर पेस ने किस वर्ष विम्बलडन पुरुष युगल (Wimbledon Men's Doubles) खिताब जीता था?

- Ans
- 1. 1998
  - 2. 1999
  - 3. 1997
  - 4. 1995

Question ID : 65497830142  
Status : Not Answered  
Chosen Option : --

Q.17 मंदाकिनी नदी \_\_\_\_\_ में अलकनंदा नदी में मिलती है।

- Ans
- 1. विष्णुप्रयाग
  - 2. कर्णप्रयाग
  - 3. रुद्रप्रयाग
  - 4. देवप्रयाग

Question ID : 65497830165  
Status : Not Attempted and Marked For Review  
Chosen Option : --

Q.18 निम्न में से कौन सी घटना 1905 में बंगाल विभाजन से पूर्व घटी थी?

- Ans
- 1. जलियांवाला बाग नरसंहार
  - 2. काकोरी कांड
  - 3. चौरी चौरा कांड
  - 4. चापेकर बंधुओं द्वारा प्लेग कमिश्नर की हत्या

Question ID : 65497830149  
Status : Answered  
Chosen Option : 4

Q.19 नवंबर 2020 तक प्राप्त जानकारी के अनुसार निम्नलिखित में से कौन दिल्ली ज़िला क्रिकेट संघ के अध्यक्ष थे?

- Ans
- 1. राजीव जलोटा
  - 2. रोहन जेटली
  - 3. नीलेश शाह
  - 4. ए.के. सिंह

Question ID : 65497830147  
Status : Answered  
Chosen Option : 2

Q.20 बूरही दिहिंग (Burhi dihing) निम्नलिखित में से किस नदी की सहायक नदी है?

- Ans
- 1. ब्रह्मपुत्र
  - 2. गोदावरी
  - 3. यमुना
  - 4. गंगा

Question ID : 65497830143  
Status : Answered  
Chosen Option : 1

Q.21 जब किसी कार्य में आवश्यकता से अधिक लोग लगे होते हैं, तो इसे किस नाम से जाना जाता है?

- Ans
- 1. मौसमी बेरोजगारी (seasonal unemployment)
  - 2. संपूर्ण बेरोजगारी (total unemployment)
  - 3. प्रच्छन्न बेरोजगारी (disguised unemployment)
  - 4. आंशिक बेरोजगारी (partial unemployment)

Question ID : 65497830157  
Status : Answered  
Chosen Option : 3

Q.22 'ग्रिडा' नामक लोकनृत्य इनमें से किस राज्य से संबंधित है?

- Ans
- 1. छत्तीसगढ़
  - 2. मध्य प्रदेश
  - 3. झारखंड
  - 4. पश्चिम बंगाल

Question ID : 65497830144  
Status : Not Answered  
Chosen Option : --

Q.23 नीतीश कुमार, जिन्होंने 16 नवंबर 2020 को बिहार के मुख्यमंत्री के रूप में शपथ ग्रहण की, इनमें से किस दल से संबंधित हैं?

- Ans
- 1. भारतीय राष्ट्रीय कांग्रेस
  - 2. राष्ट्रीय जनता दल
  - 3. भारतीय जनता पार्टी
  - 4. जनता दल यूनाइटेड

Question ID : 65497830155  
Status : Answered  
Chosen Option : 4

Q.24 निम्नलिखित में से किसे ग्रीनहाउस गैस के रूप में नहीं जाना जाता है?

- Ans
- 1. कार्बन डाइऑक्साइड
  - 2. मेथेन
  - 3. ऑक्सीजन
  - 4. जल वाष्प

Question ID : 65497830158  
Status : Answered  
Chosen Option : 3

Q.25 "स्वतंत्रता मेरा जन्म अधिकार है और मैं इसे लेकर रहूँगा", यह नारा किसने दिया था?

- Ans
- 1. बाल गंगाधर तिलक
  - 2. लाला लाजपत राय
  - 3. बिपिन चंद्र पाल
  - 4. महात्मा गांधी

Question ID : 65497830160  
Status : Answered  
Chosen Option : 1

Section : Part C Elementary Mathematics

Q.1 एक समचतुर्भुज का परिमाप 148 cm है और इसका एक विकर्ण 70 cm है। समचतुर्भुज का क्षेत्रफल (cm<sup>2</sup> में) ज्ञात करें।

- Ans
- 1. 410
  - 2. 750
  - 3. 1680
  - 4. 840

Question ID : 65497830168  
Status : Answered  
Chosen Option : 4

**Q.2** वार्षिक वेतन वृद्धि मिलने पर, नीरा का वेतन ₹45,000 से बढ़कर ₹48,150 हो गया। प्रतिशत वृद्धि जात कीजिए।

- Ans**
- 1. 6.75%
  - 2. 6.25%
  - 3. 7%
  - 4. 7.5%

Question ID : 65497830189  
Status : Answered  
Chosen Option : 3

**Q.3** किसी बॉक्स में 50p और 25p के सिक्के 9 : 5 के अनुपात में रखे हैं, जिनकी कुल धनराशि ₹207 है। 50p के सिक्कों की संख्या जात कीजिए।

- Ans**
- 1. 180
  - 2. 324
  - 3. 150
  - 4. 226

Question ID : 65497830183  
Status : Answered  
Chosen Option : 1

**Q.4** वह कौन-सी संख्या है जिसे 39, 52 और 60 से विभाजित करने पर क्रमशः 30, 43 और 51 शेष बचते हैं?

- Ans**
- 1. 781
  - 2. 780
  - 3. 790
  - 4. 771

Question ID : 65497830177  
Status : Answered  
Chosen Option : 2

**Q.5** दो संख्याओं का अनुपात 3 : 8 है। दोनों संख्याओं में 8 जोड़ने पर, अनुपात 2 : 5 हो जाता है। उन संख्याओं का योग कितना है?

- Ans**
- 1. 240
  - 2. 264
  - 3. 120
  - 4. 288

Question ID : 65497830167  
Status : Answered  
Chosen Option : 2



Q.6  $\left(\frac{1}{2}\right) \{[-2(12 + 2)]10\}$  का मान ज्ञात करें।

- Ans
- 1. -160
  - 2. -35
  - 3. -100
  - 4. -140

Question ID : 65497830175  
Status : Answered  
Chosen Option : 4

Q.7 एक व्यक्ति ने, बिना कोई लाभ या हानि अर्जित किए, दो टीवी सेट ₹7200 प्रत्येक की दर से बेचे। यदि उसने एक टीवी सेट को 10% हानि पर बेचा हो, तो उसने दूसरे टीवी सेट को कितने प्रतिशत लाभ पर बेचा?

- Ans
- 1.  $12\frac{1}{2}\%$
  - 2.  $15\frac{1}{2}\%$
  - 3.  $8\frac{1}{2}\%$
  - 4.  $17\frac{1}{2}\%$

Question ID : 65497830169  
Status : Answered  
Chosen Option : 1

Q.8 मैं 10 km/h की चाल से चलती हूँ और एक निश्चित दूरी 2 घंटे में तय करती हूँ। यदि मैं अपनी चाल में 5 km/h की वृद्धि कर लूँ, तो मैं गंतव्य पर कितने समय पहले पहुँच जाऊँगी?

- Ans
- 1. 10 मिनट
  - 2. 20 मिनट
  - 3. 40 मिनट
  - 4. 50 मिनट

Question ID : 65497830176  
Status : Answered  
Chosen Option : 3

Q.9 किसी पहिए को 44 km की दूरी तय करने में 1000 चक्कर लगाना पड़ता है। पहिए की त्रिज्या ज्ञात कीजिए।

- Ans
- 1. 6 m
  - 2. 14 m
  - 3. 22 m
  - 4. 7 m

Question ID : 65497830185  
Status : Answered  
Chosen Option : 4

Q.10 A और B एक कार्य को क्रमशः 30 दिन और 40 दिन में पूरा कर सकते हैं। उन्होंने एक साथ कार्य शुरू किया। कुछ दिनों बाद A ने कार्य छोड़ दिया और B ने शेष कार्य को 5 दिनों में पूर्ण किया। A ने कितने दिनों के बाद कार्य छोड़ दिया था?

- Ans
- 1. 15
  - 2. 12
  - 3. 16
  - 4. 20

Question ID : 65497830190  
Status : Answered  
Chosen Option : 1

Q.11 एक व्यक्ति ने 4 घंटे में 54 km की दूरी तय की, उसने कुछ दूरी 6 km/h की चाल से पैदल चलकर और शेष दूरी 18 km/h की चाल से साइकिल द्वारा तय की। पैदल तय की गई दूरी (km में) ज्ञात कीजिए।

- Ans
- 1. 18
  - 2. 12
  - 3. 9
  - 4. 8

Question ID : 65497830191  
Status : Answered  
Chosen Option : 3

Q.12 आरती और रीता किसी कार्य को 8 घंटे में (क्रमशः अपनी-अपनी नियत गति से एक साथ कार्य करते हुए) कर सकती हैं और आरती अकेले इस कार्य को 10 घंटे में कर सकती है। रीता अकेले उस कार्य को कितने घंटे में कर सकती है?

- Ans
- 1. 15
  - 2. 40
  - 3. 10
  - 4. 20

Question ID : 65497830174  
Status : Answered  
Chosen Option : 2

Q.13  $68 - [5 + 3 \text{ of } (25 - 2 \times 10)] \div 29$  का मान कितना है?

- Ans
- 1. 58
  - 2. 2
  - 3. 8
  - 4. 4

Question ID : 65497830172  
Status : Answered  
Chosen Option : 2

Q.14 किसी रेस्तरां में, लंच के समय 40% ग्राहकों ने मांसाहारी भोजन किया, 52% ग्राहकों ने शाकाहारी भोजन किया, और 20% ग्राहकों ने दोनों प्रकार का भोजन किया। यदि 125 ग्राहक मौजूद थे, तो कितने लोगों ने लंच के समय किसी भी प्रकार का भोजन नहीं किया?

- Ans
- 1. 25
  - 2. 27
  - 3. 30
  - 4. 35

Question ID : 65497830180  
Status : Answered  
Chosen Option : 4

Q.15 20 और 50 के बीच की अभाज्य संख्याओं का औसत कितना होगा?

- Ans
- 1. 35.857
  - 2. 35.917
  - 3. 35.234
  - 4. 35.123

Question ID : 65497830179  
Status : Answered  
Chosen Option : 1

Q.16 निम्न में से कौन सी एकल छूट, 10%, 15% और 20% की तीन क्रमिक छूटों के बराबर होगी?

- Ans
- 1. 45%
  - 2. 39.8%
  - 3. 61.2%
  - 4. 38.8%

Question ID : 65497830188  
Status : Answered  
Chosen Option : 4

**Q.17** राखी अपनी दुकान पर सभी वस्तुओं पर 30% की छूट देती है और इसके बावजूद वह 12% का लाभ अर्जित करती है। उस वस्तु का क्रय मूल्य (₹ में) कितना होगा जिसका अंकित मूल्य ₹280 है?

- Ans**
- 1. 170
  - 2. 275
  - 3. 175
  - 4. 185

Question ID : 65497830171  
Status : Answered  
Chosen Option : 3

**Q.18** ₹x की एक धनराशि पर एक निश्चित वार्षिक साधारण ब्याज की दर से 3 वर्ष में प्राप्त मिश्रधन ₹10,483 और 7 वर्ष में प्राप्त मिश्रधन ₹12,727 है। x का मान ज्ञात कीजिए।

- Ans**
- 1. ₹8,800
  - 2. ₹6,600
  - 3. ₹5,000
  - 4. ₹7,500

Question ID : 65497830170  
Status : Answered  
Chosen Option : 1

**Q.19** ब्याज की गणना वार्षिक चक्रवृद्धि आधार पर करने पर, ₹6,25,000 की धनराशि 10% वार्षिक दर पर कितने समय में ₹8,31,875 हो जाएगी?

- Ans**
- 1. 4 वर्ष
  - 2. 2 वर्ष
  - 3. 3 वर्ष
  - 4. 6 वर्ष

Question ID : 65497830184  
Status : Answered  
Chosen Option : 3

**Q.20** एक आदमी ने ₹48 में 12 के भाव पर कुछ खिलौने खरीदे और ₹48 में 8 के भाव पर उन्हें बेच दिया। उसका प्रतिशत लाभ या हानि ज्ञात कीजिए।

- Ans**
- 1. 50%
  - 2. 2.5%
  - 3. 0.50%
  - 4. 5.0%

Question ID : 65497830173  
Status : Answered  
Chosen Option : 1

**Q.21** रामू ने एक बैंक से ₹20,000 की राशि का ऋण लिया और 5 वर्ष बाद, उसने इसे चुकाने के लिए बैंक को ₹25,000 का भुगतान किया। वार्षिक व्याज की दर ज्ञात कीजिए।

- Ans**
- 1. 6%
  - 2. 7%
  - 3. 8%
  - 4. 5%

Question ID : **65497830182**  
Status : **Answered**  
Chosen Option : **4**

**Q.22** आठ वर्ष पूर्व, 4 सदस्यों वाले एक परिवार की औसत आयु 19 वर्ष थी। इस परिवार में एक बच्ची के शामिल होने के बाद परिवार की औसत आयु 8 वर्ष पहले की तुलना में 4 वर्ष अधिक हो गई। बच्ची की आयु कितनी है?

- Ans**
- 1. 5 वर्ष
  - 2. 6 वर्ष
  - 3. 7 वर्ष
  - 4. 3 वर्ष

Question ID : **65497830187**  
Status : **Answered**  
Chosen Option : **3**

**Q.23** एक व्यक्ति ने अपनी वस्तुओं के  $\frac{3}{5}$  भाग को 16% लाभ पर और शेष भाग को क्रय मूल्य पर बेच दिया। इस पूरे लेन-देन में उसके द्वारा अर्जित लाभ ज्ञात कीजिए।

- Ans**
- 1.  $7\frac{3}{4}\%$  लाभ
  - 2.  $11\frac{1}{2}\%$  हानि
  - 3.  $9\frac{3}{5}\%$  लाभ
  - 4.  $12\frac{1}{5}\%$  हानि

Question ID : **65497830186**  
Status : **Not Attempted and Marked For Review**  
Chosen Option : **--**

Q.24 यदि  $x^2 - 5x + 6$  और  $x^2 + mx + 12$  का महत्तम समापवर्तक  $(x-3)$  है, तो  $m$  का मान कितना होगा?

- Ans
- 1. -7
  - 2. -2
  - 3. 2
  - 4. -1

Question ID : 65497830178

Status : Not Attempted and Marked For Review

Chosen Option : --

Q.25 तीन संख्याओं का अनुपात 2 : 3 : 5 है और उनके घनों का योग 34560 है। दूसरी संख्या कितनी है?

- Ans
- 1. 12
  - 2. 30
  - 3. 6
  - 4. 18

Question ID : 65497830181

Status : Answered

Chosen Option : 4

Section : Part D English

Q.1 Select the most appropriate ANTONYM of the given word.

Demolish

- Ans
- 1. Destroy
  - 2. Divide
  - 3. Diminish
  - 4. Construct

Question ID : 65497830200

Status : Not Answered

Chosen Option : --

Q.2 Select the most appropriate meaning of the given idiom.

Out of the blue

- Ans
- 1. Completely unexpectedly
  - 2. Always dressing up in blue clothes
  - 3. Coming out of a blue box
  - 4. Caught in a fight

Question ID : 65497830203

Status : Not Answered

Chosen Option : --

**Q.3** Select the most appropriate meaning of the given idiom.

**Hang up one's boots**

- Ans**
- 1. Tease an opponent
  - 2. Show disrespect
  - 3. Retire from a sport
  - 4. Challenge someone

Question ID : **65497830196**  
Status : **Not Answered**  
Chosen Option : --

**Q.4** Select the most appropriate ANTONYM of the given word.

**Assert**

- Ans**
- 1. Abandon
  - 2. Request
  - 3. Urge
  - 4. Insist

Question ID : **65497830210**  
Status : **Not Answered**  
Chosen Option : --

**Q.5** Select the INCORRECTLY spelt word.

- Ans**
- 1. Medallion
  - 2. Mechanical
  - 3. Mediate
  - 4. Meddle

Question ID : **65497830204**  
Status : **Not Answered**  
Chosen Option : --

**Q.6** Select the option that will improve the underlined part of the given sentence. In case no improvement is needed, select 'No improvement required'.

The sun had set by the time we reached the hilltop.

- Ans**
- 1. we reach
  - 2. we were reaching
  - 3. we had reached
  - 4. No improvement required

Question ID : **65497830197**  
Status : **Not Answered**  
Chosen Option : --

**Q.7** Select the option that will improve the underlined part of the given sentence. In case no improvement is needed, select 'No improvement required'.

Your brother can't drive, is it?

- Ans**  1. No improvement required  
 2. couldn't he  
 3. can he  
 4. will he

Question ID : 65497830211  
Status : Not Answered  
Chosen Option : --

**Q.8** Select the most appropriate synonym of the given word.

Obvious

- Ans**  1. Dull  
 2. Thick  
 3. Clear  
 4. Vague

Question ID : 65497830195  
Status : Not Answered  
Chosen Option : --

**Q.9** Select the most appropriate option to fill in the blank.

This case is limited to state \_\_\_\_\_.

- Ans**  1. radicalisation  
 2. jurisdiction  
 3. preparation  
 4. ramification

Question ID : 65497830205  
Status : Not Answered  
Chosen Option : --

**Q.10** The following sentence has been split into four segments. Identify the segment that contains a grammatical error.

The manager told / the staff to complete / all the works / before going home.

- Ans**  1. before going home  
 2. the staff to complete  
 3. The manager told  
 4. all the works

Question ID : 65497830206  
Status : Not Answered  
Chosen Option : --



Q.11 Select the most appropriate synonym of the given word.

Investigate

- Ans  1. Supervise  
 2. Relate  
 3. Examine  
 4. Calculate

Question ID : 65497830207  
Status : Not Answered  
Chosen Option : --

Q.12 Select the most appropriate option that can substitute the underlined segment in the given sentence. If there is no need to substitute it, select 'No substitution required'.

General speaking, the great discoverers were people with great courage.

- Ans  1. No substitution required  
 2. Generally speak  
 3. Generally spoken  
 4. Generally speaking

Question ID : 65497830194  
Status : Not Answered  
Chosen Option : --

Q.13 Select the most appropriate option to fill in the blank.

He asked me \_\_\_\_\_ I knew you.

- Ans  1. although  
 2. since  
 3. whether  
 4. unless

Question ID : 65497830192  
Status : Not Answered  
Chosen Option : --

Q.14 Select the option that can be used as a one-word substitute for the given group of words.

Study of insects

- Ans  1. Entomology  
 2. Ornithology  
 3. Geology  
 4. Terminology

Question ID : 65497830198  
Status : Not Answered  
Chosen Option : --

Q.15 Select the most appropriate option to fill in the blank.

He was \_\_\_\_\_ from Turkey for his public condemnation of the Shah.

- Ans  1. exiled  
 2. excluded  
 3. evacuated  
 4. escaped

Question ID : 65497830209  
Status : Not Answered  
Chosen Option : --

Q.16 Select the option that can be used as a one-word substitute for the given group of words.

A person who tends to be hopeful and confident about the future or the success of something

- Ans  1. Fanatic  
 2. Pessimist  
 3. Optimist  
 4. Opportunist

Question ID : 65497830208  
Status : Not Answered  
Chosen Option : --

Q.17 The following sentence has been split into four segments. Identify the segment that contains a grammatical error.

If you want to / win the race, / you need to / believe in you.

- Ans  1. you need to  
 2. believe in you  
 3. If you want to  
 4. win the race

Question ID : 65497830199  
Status : Not Answered  
Chosen Option : --

Q.18 Select the option that can be used as a one-word substitute for the given group of words.

Written law passed by a law-making body

- Ans  1. Statute  
 2. Rule  
 3. Summit  
 4. Ordeal

Question ID : 65497830201  
Status : Not Answered  
Chosen Option : --

**Q.19** Select the **INCORRECTLY** spelt word.

- Ans**  1. Procastination  
 2. Alliteration  
 3. Superintendent  
 4. Hallucination

Question ID : **65497830202**  
Status : **Not Answered**  
Chosen Option : --

**Q.20** The following sentence has been split into four segments. Identify the segment that contains a grammatical error.

Divya have little chance / of winning / the gold medal / this year.

- Ans**  1. Divya have little chance  
 2. of winning  
 3. this year  
 4. the gold medal

Question ID : **65497830193**  
Status : **Not Answered**  
Chosen Option : --

**Comprehension:**

In the following passage, some words have been deleted. Fill in the blanks with the help of the options given. Select the most appropriate option for each number.

You will be quite surprised to know that the first telescope was made in the seventeenth century (1)\_\_\_\_\_ Galileo. It was fitted on top of the (2)\_\_\_\_\_ hill of Venice. Large crowds daily (3)\_\_\_\_\_ up the hill to see through (4)\_\_\_\_\_ telescope. They looked at the planets and (5)\_\_\_\_\_ at what they saw.

**SubQuestion No : 21**

**Q.21** Select the most appropriate option to fill in blank no.1.

- Ans**  1. by  
 2. with  
 3. at  
 4. through

Question ID : **65497830213**  
Status : **Not Answered**  
Chosen Option : --

**Comprehension:**

In the following passage, some words have been deleted. Fill in the blanks with the help of the options given. Select the most appropriate option for each number.

You will be quite surprised to know that the first telescope was made in the seventeenth century (1)\_\_\_\_\_ Galileo. It was fitted on top of the (2)\_\_\_\_\_ hill of Venice. Large crowds daily (3)\_\_\_\_\_ up the hill to see through (4)\_\_\_\_\_ telescope. They looked at the planets and (5)\_\_\_\_\_ at what they saw.

**SubQuestion No : 22**

**Q.22** Select the most appropriate option to fill in blank no.2.

- Ans**
- 1. most high
  - 2. higher
  - 3. high
  - 4. highest

Question ID : **65497830214**  
Status : **Not Answered**  
Chosen Option : --

**Comprehension:**

In the following passage, some words have been deleted. Fill in the blanks with the help of the options given. Select the most appropriate option for each number.

You will be quite surprised to know that the first telescope was made in the seventeenth century (1)\_\_\_\_\_ Galileo. It was fitted on top of the (2)\_\_\_\_\_ hill of Venice. Large crowds daily (3)\_\_\_\_\_ up the hill to see through (4)\_\_\_\_\_ telescope. They looked at the planets and (5)\_\_\_\_\_ at what they saw.

**SubQuestion No : 23**

**Q.23** Select the most appropriate option to fill in blank no.3.

- Ans**
- 1. watched
  - 2. backed
  - 3. paused
  - 4. climbed

Question ID : **65497830215**  
Status : **Not Answered**  
Chosen Option : --

**Comprehension:**

In the following passage, some words have been deleted. Fill in the blanks with the help of the options given. Select the most appropriate option for each number.

You will be quite surprised to know that the first telescope was made in the seventeenth century (1)\_\_\_\_\_ Galileo. It was fitted on top of the (2)\_\_\_\_\_ hill of Venice. Large crowds daily (3)\_\_\_\_\_ up the hill to see through (4)\_\_\_\_\_ telescope. They looked at the planets and (5)\_\_\_\_\_ at what they saw.

**SubQuestion No : 24**

**Q.24** Select the most appropriate option to fill in blank no.4.

- Ans**
- 1. the
  - 2. an
  - 3. one
  - 4. a

Question ID : **65497830216**  
Status : **Not Answered**  
Chosen Option : --

**Comprehension:**

In the following passage, some words have been deleted. Fill in the blanks with the help of the options given. Select the most appropriate option for each number.

You will be quite surprised to know that the first telescope was made in the seventeenth century (1)\_\_\_\_\_ Galileo. It was fitted on top of the (2)\_\_\_\_\_ hill of Venice. Large crowds daily (3)\_\_\_\_\_ up the hill to see through (4)\_\_\_\_\_ telescope. They looked at the planets and (5)\_\_\_\_\_ at what they saw.

**SubQuestion No : 25**

**Q.25** Select the most appropriate option to fill in blank no.5.

- Ans**  1. shocked  
 2. wondered  
 3. stunned  
 4. surprised

Question ID : **65497830217**  
Status : **Not Answered**  
Chosen Option : --

**Section : Part D Hindi**

**Q.1** नीचे दिए गए वाक्य में रिक्त-स्थान की पूर्ति करने के लिए सर्वाधिक उपयुक्त शब्द का चयन करें।

मुर्गियों के दौड़ने की आवाज \_\_\_\_\_ सुनाई दे रही थी।

- Ans**  1. पड़-पड़-पड़-पड़  
 2. धड़-धड़-धड़-धड़  
 3. खट-खट-खट-खट  
 4. किड़-किड़-किड़-किड़

Question ID : **65497830231**  
Status : **Marked For Review**  
Chosen Option : 4

**Q.2** निम्नलिखित प्रश्न में, दिए गए चार विकल्पों में से, उस विकल्प का चयन करें, जो दिए गए मुहावरे के सटीक अर्थ को दर्शाता है।

कलेजे का टुकड़ा

- Ans**  1. अत्यधिक दुःख  
 2. असहनीय पीड़ा  
 3. अत्यधिक प्रिय  
 4. मन में बेचैनी

Question ID : **65497830228**  
Status : **Answered**  
Chosen Option : 3

Q.3 रिक्त स्थान की पूर्ति करने के लिए सर्वाधिक उपयुक्त शब्द का चयन करें।

इस \_\_\_\_\_ ठीक बारह बजे हैं।

- Ans
- 1. युग
  - 2. काल
  - 3. समय
  - 4. अवधि

Question ID : 65497830232  
Status : Answered  
Chosen Option : 3

Q.4 दिए गए शब्द का विलोम शब्द चुनें।

गोचर

- Ans
- 1. अवगोचर
  - 2. कुगोचर
  - 3. अगोचर
  - 4. अनागोचर

Question ID : 65497830227  
Status : Answered  
Chosen Option : 3

Q.5 दिए गए शब्द का विलोम शब्द चुनें।

अर्वाचीन

- Ans
- 1. पुरातन
  - 2. पुराण
  - 3. प्राचीन
  - 4. पुराना

Question ID : 65497830224  
Status : Answered  
Chosen Option : 3

Q.6 दिए गए वाक्य का वो भाग ज्ञात करें जिसमें कोई त्रुटि है। यदि कोई त्रुटि नहीं है, तो 'कोई त्रुटि नहीं है' चुनें।

दिल्ली की जामा मस्जिद (1)\ विश्व ऐतिहासिक धरोहर में (2)\ सम्मिलित हुए है(3)\ कोई त्रुटि नहीं है (4)

- Ans
- 1. 2
  - 2. 1
  - 3. 3
  - 4. 4

Question ID : 65497830219  
Status : Answered  
Chosen Option : 3

Q.7 निम्न में से कौन सा दिए गए वाक्यांश के लिए एक शब्द नहीं है?

वह जिसकी दृष्टि दूर तक जाए

- Ans
- 1. दूरदर्शी
  - 2. दूरदेश
  - 3. अग्रशोची
  - 4. दूरदर्शन

Question ID : 65497830221  
Status : Answered  
Chosen Option : 1

Q.8 निम्नलिखित प्रश्न में, दिए गए चार विकल्पों में से, उस विकल्प का चयन करें, जो दिए गए मुहावरे के सटीक अर्थ को दर्शाता है।

पट्टी पढ़ाना

- Ans
- 1. सम्बन्ध खत्म करना
  - 2. सहारा लेना
  - 3. व्यर्थ बदनाम करना
  - 4. बुरी सलाह देना

Question ID : 65497830222  
Status : Answered  
Chosen Option : 4

Q.9 दिए गए वाक्य में रेखांकित खंड को प्रतिस्थापित करने के लिए सर्वाधिक उपयुक्त विकल्प का चयन करें। यदि इसे प्रतिस्थापित करने की आवश्यकता नहीं है, तो विकल्प 'किसी बदलाव की आवश्यकता नहीं है' का चयन करें।

रोगी को सेब काटकर खिलाओ।

- Ans
- 1. रोगी से
  - 2. रोगी का
  - 3. रोगी ने
  - 4. किसी बदलाव की आवश्यकता नहीं है।

Question ID : 65497830218  
Status : Answered  
Chosen Option : 4

Q.10 'प्रमोद' किसका पर्यायवाची है?

- Ans
- 1. नशा
  - 2. शोक
  - 3. उन्माद
  - 4. हर्ष

Question ID : 65497830235  
Status : Answered  
Chosen Option : 4

Q.11 सही वर्तनी वाले शब्द का चयन करें।

- Ans  1. शुद्धिकरण  
 2. सुधिकरण  
 3. शुद्धीकरण  
 4. सुद्धीकरण

Question ID : 65497830230  
Status : Answered  
Chosen Option : 3

Q.12 दिए गए वाक्य में रेखांकित अंश को प्रतिस्थापित करने के लिए सर्वाधिक उपयुक्त विकल्प का चयन करें।

चोर सेंध मारते पकड़ा गया।

- Ans  1. लगाते पकड़ा गया।  
 2. खोदते पकड़ा गया।  
 3. करते पकड़ा गया।  
 4. तोड़ते पकड़ा गया।

Question ID : 65497830236  
Status : Answered  
Chosen Option : 3

Q.13 दिए गए वाक्य का वह भाग ज्ञात करें जिसमें कोई त्रुटि है। यदि कोई त्रुटि नहीं है, तो 'कोई त्रुटि नहीं है' चुनें।

काशी के (1)/ विद्वानों का (2)/ कहना है (3)/ कोई त्रुटि नहीं है (4)

- Ans  1. 3  
 2. 4  
 3. 2  
 4. 1

Question ID : 65497830223  
Status : Answered  
Chosen Option : 2

Q.14 सही वर्तनी वाले शब्द का चयन करें।

- Ans  1. शसी  
 2. शशी  
 3. ससी  
 4. शशि

Question ID : 65497830229  
Status : Answered  
Chosen Option : 4



Q.15 दिए गए शब्द का समानार्थी शब्द बताइए-

तलवार

- Ans
- 1. शर
  - 2. खड्ग
  - 3. खद्योत
  - 4. भाला

Question ID : 65497830220  
Status : Answered  
Chosen Option : 2

Q.16 दिए गए वाक्य में रेखांकित अंश को प्रतिस्थापित करने के लिए सर्वाधिक उपयुक्त विकल्प का चयन करें।

मेरी शंकाओं का निराकरण हो जाना चाहिए।

- Ans
- 1. उत्तर
  - 2. समाधान
  - 3. उपचार
  - 4. समापन

Question ID : 65497830234  
Status : Answered  
Chosen Option : 2

Q.17 'जो पहले रहा हो' वाक्यांश के लिए एक शब्द होगा-

- Ans
- 1. पूर्वज
  - 2. प्रत्यक्ष
  - 3. अभूतपूर्व
  - 4. भूतपूर्व

Question ID : 65497830237  
Status : Answered  
Chosen Option : 4

Q.18 दिए गए वाक्यांश के लिए एक शब्द दीजिए।

जो देवताओं के योग्य हो

- Ans
- 1. दैवीय
  - 2. दैवी
  - 3. दिव्य
  - 4. देवयोग्य

Question ID : 65497830225  
Status : Answered  
Chosen Option : 4

Q.19 रिक्त स्थान की पूर्ति करने के लिए सर्वाधिक उपयुक्त शब्द का चयन करें।

उनकी \_\_\_\_\_ भी उनके साथ आई हैं।

- Ans  1. पत्नी  
 2. महिला  
 3. स्त्री  
 4. नारी

Question ID : 65497830226  
Status : Answered  
Chosen Option : 1

Q.20 दिए गए वाक्य के किस भाग में त्रुटि है?

इस पुस्तक का यह नौवां संसर्कण है।

- Ans  1. का यह  
 2. संसर्कण है।  
 3. नौवां  
 4. इस पुस्तक

Question ID : 65497830233  
Status : Answered  
Chosen Option : 2

**Comprehension:**

दिए गए गद्यांश में कुछ शब्द हटा दिए गए हैं। दिए गए विकल्पों की सहायता से रिक्त स्थान की पूर्ति करें। प्रत्येक संख्या के लिए सर्वाधिक उपयुक्त विकल्प का चयन करें।

हो सकता है आप सोचते हों कि जैसे आपके बाबा ने जिंदगी (1) \_\_\_\_\_, वैसे ही आपके बाप ने और शायद वैसे ही आप भी। खाने-पहनने का वही ढंग, वही पूजा- (2) \_\_\_\_\_, वही अपने देवी-देवता, वही (3) \_\_\_\_\_-रिश्ते, वही आचार- (4) \_\_\_\_\_, वही अपने- (5) \_\_\_\_\_, वही उमंगें और मन में घुमड़ती हुई वही पीड़ाएँ।

**SubQuestion No : 21**

Q.21 गद्यांश के रिक्त स्थान (1) के लिए सर्वाधिक उपयुक्त शब्द होगा-

- Ans  1. बिताई  
 2. छोड़ी  
 3. निभाई  
 4. काटी

Question ID : 65497830239  
Status : Answered  
Chosen Option : 1

**Comprehension:**

दिए गए गद्यांश में कुछ शब्द हटा दिए गए हैं। दिए गए विकल्पों की सहायता से रिक्त स्थान की पूर्ति करें। प्रत्येक संख्या के लिए सर्वाधिक उपयुक्त विकल्प का चयन करें।

हो सकता है आप सोचते हों कि जैसे आपके बाबा ने जिंदगी (1) \_\_\_\_\_ वैसे ही आपके बाप ने और शायद वैसे ही आप भी। खाने-पहनने का वही ढंग, वही पूजा- (2) \_\_\_\_\_, वही अपने देवी-देवता, वही (3) \_\_\_\_\_-रिश्ते, वही आचार- (4) \_\_\_\_\_, वही अपने- (5) \_\_\_\_\_, वही उम्रों और मन में घुमड़ती हुई वही पीड़ाएँ।

**SubQuestion No : 22**

**Q.22** गद्यांश के रिक्त स्थान (2) के लिए सर्वाधिक उपयुक्त शब्द होगा-

- Ans  1. प्रणाम  
 2. पाठ  
 3. भजन  
 4. कीर्तन

Question ID : 65497830240  
Status : Answered  
Chosen Option : 2

**Comprehension:**

दिए गए गद्यांश में कुछ शब्द हटा दिए गए हैं। दिए गए विकल्पों की सहायता से रिक्त स्थान की पूर्ति करें। प्रत्येक संख्या के लिए सर्वाधिक उपयुक्त विकल्प का चयन करें।

हो सकता है आप सोचते हों कि जैसे आपके बाबा ने जिंदगी (1) \_\_\_\_\_ वैसे ही आपके बाप ने और शायद वैसे ही आप भी। खाने-पहनने का वही ढंग, वही पूजा- (2) \_\_\_\_\_, वही अपने देवी-देवता, वही (3) \_\_\_\_\_-रिश्ते, वही आचार- (4) \_\_\_\_\_, वही अपने- (5) \_\_\_\_\_, वही उम्रों और मन में घुमड़ती हुई वही पीड़ाएँ।

**SubQuestion No : 23**

**Q.23** गद्यांश के रिक्त स्थान (3) के लिए सर्वाधिक उपयुक्त शब्द होगा-

- Ans  1. नाते  
 2. संबंध  
 3. परिवार  
 4. घर

Question ID : 65497830241  
Status : Answered  
Chosen Option : 1

**Comprehension:**

दिए गए गद्यांश में कुछ शब्द हटा दिए गए हैं। दिए गए विकल्पों की सहायता से रिक्त स्थान की पूर्ति करें। प्रत्येक संख्या के लिए सर्वाधिक उपयुक्त विकल्प का चयन करें।

हो सकता है आप सोचते हों कि जैसे आपके बाबा ने जिंदगी (1) \_\_\_\_\_ वैसे ही आपके बाप ने और शायद वैसे ही आप भी। खाने-पहनने का वही ढंग, वही पूजा- (2) \_\_\_\_\_, वही अपने देवी-देवता, वही (3) \_\_\_\_\_-रिश्ते, वही आचार- (4) \_\_\_\_\_, वही अपने- (5) \_\_\_\_\_, वही उम्रों और मन में घुमड़ती हुई वही पीड़ाएँ।

**SubQuestion No : 24**

**Q.24** गद्यांश के रिक्त स्थान (4) के लिए सर्वाधिक उपयुक्त शब्द होगा-

- Ans  1. संस्कार  
 2. विचार  
 3. व्यवहार  
 4. उपचार

Question ID : 65497830242  
Status : Answered  
Chosen Option : 2

**Comprehension:**

दिए गए गद्यांश में कुछ शब्द हटा दिए गए हैं। दिए गए विकल्पों की सहायता से रिक्त स्थान की पूर्ति करें। प्रत्येक संख्या के लिए सर्वाधिक उपयुक्त विकल्प का चयन करें।

हो सकता है आप सोचते हों कि जैसे आपके बाबा ने जिंदगी (1) \_\_\_\_\_ वैसे ही आपके बाप ने और शायद वैसे ही आप भी। खाने-पहनने का वही ढंग, वही पूजा- (2) \_\_\_\_\_, वही अपने देवी-देवता, वही (3) \_\_\_\_\_-रिश्ते, वही आचार- (4) \_\_\_\_\_, वही अपने- (5) \_\_\_\_\_, वही उम्रों और मन में घुमड़ती हुई वही पीड़ाएँ।

**SubQuestion No : 25**

**Q.25** गद्यांश के रिक्त स्थान (5) के लिए सर्वाधिक उपयुक्त शब्द होगा-

- Ans**
- 1. सबके
  - 2. दूसरे
  - 3. पराये
  - 4. उनके

Question ID : **65497830243**

Status : **Answered**

Chosen Option : **3**