

## Constable GD in CAPFs NIA SSF and Rifleman GD in Assam Rifles Examination 2021

Roll Number	<a href="http://www.GovtJobsAlert.In">www.GovtJobsAlert.In</a>
Candidate Name	<a href="http://www.GovtJobsAlert.In">www.GovtJobsAlert.In</a>
Venue Name	iON Digital Zone iDZ3 Patliputra
Exam Date	06/12/2021
Exam Time :	9:00 AM - 10:30 AM
Subject	Constable GD 2021

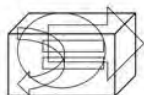
### Section : Part A General Intelligence and Reasoning

Q.1 'संशोधन (Rectification)' का 'सुधार (Correction)' से वही संबंध है, जो 'निष्कासन (Eviction)' का '\_\_\_\_\_' से है।

- Ans
- 1. सराहना (Commend)
  - 2. निर्वासन (Expulsion)
  - 3. विस्मयादिबोधक (Exclamation)
  - 4. संवेदानात्मक (Sensational)

Question ID : 65497831915  
Status : Answered  
Chosen Option : 2

Q.2 उस विकल्प का चयन करें जिसमें दी गई आकृति अंतर्निहित है (घुमाने की अनुमति नहीं है)।



- Ans
- 1.
  - 2.
  - 3.
  - 4.

Question ID : 65497831911  
Status : Answered  
Chosen Option : 1

Q.3 दिए गए कथनों और निष्कर्षों को ध्यान से पढ़ें। यह मानते हुए कि कथनों में दी गई जानकारी सत्य है, भले ही यह सामान्य रूप से ज्ञात तथ्यों से भिन्न प्रतीत होती हो, यह निर्णय लें कि दिए गए निष्कर्षों में से कौन से निष्कर्ष कथनों का तार्किक रूप से अनुसरण करते हैं।

कथन:

सभी बिल्लियां, कुत्ते हैं।  
सभी कुत्ते, हाथी हैं।  
कोई भी हाथी, गाय नहीं है।

निष्कर्ष:

I. सभी बिल्लियां, हाथी हैं।  
II. सभी हाथी, बिल्लियां हैं।

- Ans
- 1. केवल निष्कर्ष I अनुसरण करता है।
  - 2. केवल निष्कर्ष II अनुसरण करता है।
  - 3. न तो निष्कर्ष I और न ही निष्कर्ष II अनुसरण करता है।
  - 4. निष्कर्ष I और II दोनों अनुसरण करते हैं।

Question ID : 65497831900  
Status : Answered  
Chosen Option : 1

Q.4 विकल्पों में चार संख्या-त्रय दिए गए हैं, जिनमें से तीन किसी तरह से एक समान हैं और एक असंगत है। उस संख्या-त्रय का चयन करें जो अन्यो से असंगत है।

- Ans
- 1. (6, 36, 216)
  - 2. (5, 25, 125)
  - 3. (9, 81, 729)
  - 4. (8, 64, 412)

Question ID : 65497831901  
Status : Answered  
Chosen Option : 4

Q.5 दिए गए विकल्पों में से उस संख्या का चयन कीजिए, जो निम्नलिखित श्रेणी में प्रश्नवाचक चिन्ह (?) के स्थान पर आ सकती है।

11, 29, 65, 137, 281, ?

- Ans
- 1. 391
  - 2. 569
  - 3. 540
  - 4. 442

Question ID : 65497831917  
Status : Answered  
Chosen Option : 2

Q.6 दिए गए चित्र का जल में निर्मित सही प्रतिबिंब चयनित कीजिए।

Y R e m N 4

Ans

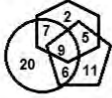
1. 
2. 
3. 
4. 

Question ID : 65497831898

Status : Answered

Chosen Option : 4

Q.7 निम्न आरेख में, 'पंचभुज', 'एथलीटों' को निरूपित करता है, 'षट्भुज', 'भारतीयों' को निरूपित करता है, और 'वृत्त', 'पदक विजेताओं' को निरूपित करता है। विभिन्न खंडों में दी गई संख्याएं, उस श्रेणी के व्यक्तियों की संख्या को दर्शाती हैं।



कितने भारतीय पदक विजेता हैं, लेकिन एथलीट नहीं हैं?

Ans

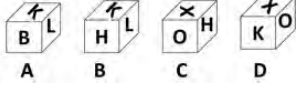
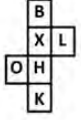
1. 7
2. 9
3. 6
4. 5

Question ID : 65497831919

Status : Answered

Chosen Option : 1

Q.8 उस/उन पासे/पासों का चयन करें जिसे/जिन्हें दिए गए पत्रक (sheet) को मोड़ कर बनाया जा सकता है।



- Ans
- 1. A और B
  - 2. A, B, C और D
  - 3. A और C
  - 4. A, B और C

Question ID : 65497831910  
Status : Answered  
Chosen Option : 4

Q.9 पांच व्यक्ति एक वृत्ताकार मेज के परितः मेज के केंद्र की ओर मुंह करके बैठे हुए हैं। श्वेता, कार्तिक के बाईं ओर बराल में बैठी है। माही, जेनी के दाईं ओर दूसरे स्थान पर बैठी है। जेनी, सुवर्णा और कार्तिक के बीच में बैठी है। सुवर्णा के दाईं ओर दूसरे स्थान पर कौन बैठा है?

- Ans
- 1. श्वेता
  - 2. कार्तिक
  - 3. जेनी
  - 4. माही

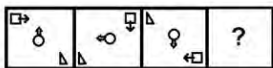
Question ID : 65497831916  
Status : Answered  
Chosen Option : 1

Q.10 एक निश्चित कूट भाषा में, 'LAWYER' को 'LWEAYR' के रूप में लिखा जाता है और 'ADVICE' को 'AVCDIE' के रूप में लिखा जाता है। उसी कूट भाषा में 'COURTS' को किस रूप में लिखा जाएगा?

- Ans
- 1. STRUOC
  - 2. OUTRSC
  - 3. OURUST
  - 4. CUTORS

Question ID : 65497831899  
Status : Answered  
Chosen Option : 4

Q.11 दिए गए विकल्पों में से उस आकृति का चयन कीजिए, जो निम्न आकृति श्रृंखला में प्रश्नवाचक चिन्ह (?) के स्थान पर आ सकती है।

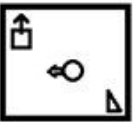


Ans

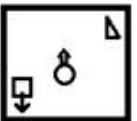
✓ 1.



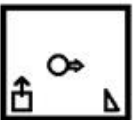
✗ 2.



✗ 3.



✗ 4.



Question ID : 65497831918

Status : Answered

Chosen Option : 1

Q.12 उस विकल्प का चयन करें जो तीसरी संख्या से उसी प्रकार संबंधित है, जिस प्रकार दूसरी संख्या पहली संख्या से संबंधित है।

23 : 299 :: 24 : ?

Ans ✗ 1. 310

✓ 2. 312

✗ 3. 300

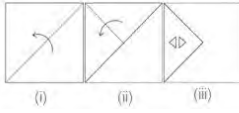
✗ 4. 306

Question ID : 65497831908

Status : Answered


Chosen Option : 2

**Q.13** नीचे दी गई आकृतियों में कागज़ के एक टुकड़े को मोड़ने और मोड़े गए कागज़ को काटने के तरीके का क्रम दर्शाया गया है। कागज़ को खोले जाने पर वह कैसा दिखाई देगा?

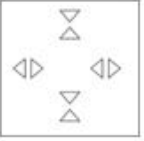


**Ans**

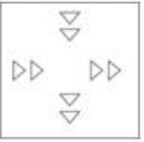
✓ 1.



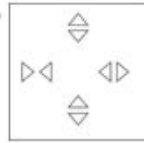
✗ 2.



✗ 3.



✗ 4.



Question ID : 65497831903  
Status : Answered  
Chosen Option : 1

**Q.14** यदि '₹' का अर्थ '+', '@' का अर्थ '-', '#' का अर्थ 'x' और '\$' का अर्थ '÷' है, तो 46 ₹ 23 # 21 \$ 3 @ 17 का मान क्या होगा?

**Ans**

✗ 1. 466

✗ 2. 353

✓ 3. 190

✗ 4. 299

Question ID : 65497831909  
Status : Answered  
Chosen Option : 3

Q.15 अरविंद, कुणाल, निधि, पवन, साहिल, तान्या, तन्मय और सुनीता नाम के आठ व्यक्ति एक वृत्ताकार मेज के परितः मेज के केंद्र की ओर मुंह किए हुए बैठे हुए हैं। निधि, साहिल के दाएँ दूसरे स्थान पर बैठी है। कुणाल, पवन के दाएँ दूसरे स्थान पर बैठा है। तन्मय, पवन के बाएँ तीसरे स्थान पर बैठा है। सुनीता, तन्मय के बाएँ और अरविंद के दाएँ बगल में बैठी है। तान्या, अरविंद के दाएँ तीसरे स्थान पर बैठी है। निधि और साहिल के बीच में कौन बैठा/बैठी है?

- Ans
- 1. पवन
  - 2. तान्या
  - 3. तन्मय
  - 4. कुणाल

Question ID : 65497831907  
Status : Answered  
Chosen Option : 1

Q.16 उस सही विकल्प का चयन कीजिए, जो दिए गए शब्दों के उस क्रम को दर्शाता है, जिस क्रम में वे अंग्रेज़ी शब्दकोश में मौजूद होते हैं।

1. Season
2. Seating
3. Sense
4. Sealed
5. Seize

- Ans
- 1. 1, 4, 2, 5, 3
  - 2. 4, 1, 2, 5, 3
  - 3. 4, 1, 2, 3, 5
  - 4. 4, 2, 1, 5, 3

Question ID : 65497831913  
Status : Answered  
Chosen Option : 2

Q.17 दिए गए विकल्पों में से उस अक्षर-समूह का चयन करें, जो निम्नलिखित श्रृंखला में प्रश्नवाचक चिन्ह (?) के स्थान पर आ सकता है।

DNKB, GQNE, JTQH, MWTK, ?

- Ans
- 1. PZWN
  - 2. QZWM
  - 3. PAXN
  - 4. PZXO

Question ID : 65497831912  
Status : Answered  
Chosen Option : 1

Q.18 मनीष की ओर संकेत करते हुए अजय ने एक महिला से कहा, "वह मेरी बेटी की माँ के पिता का बेटा है।" अजय का मनीष से क्या संबंध है?

- Ans
- 1. जीजा
  - 2. चाचा
  - 3. ससुर
  - 4. भाई

Question ID : 65497831906  
Status : Answered  
Chosen Option : 1

Q.19 उस विकल्प का चयन करें जो तीसरे अक्षर-समूह से उसी प्रकार संबंधित है जिस प्रकार दूसरा अक्षर-समूह पहले अक्षर-समूह से संबंधित है।

LGS : QHX :: NDP : ?

- Ans
- 1. TIU
  - 2. TEV
  - 3. SEU
  - 4. SIU

Question ID : 65497831904  
Status : Answered  
Chosen Option : 3

Q.20 दिए गए विकल्पों में से उस संख्या का चयन कीजिए जो निम्नलिखित श्रृंखला में प्रश्न चिह्न (?) के स्थान पर आ सकती है।

192, 179, 162, ?, 120, 91, 60

- Ans
- 1. 143
  - 2. 81
  - 3. 136
  - 4. 150

Question ID : 65497831897  
Status : Answered  
Chosen Option : 3

Q.21 चार अक्षर समूह दिए गए हैं, जिनमें से तीन एक तरह से समान हैं और एक असंगत है। उस असंगत अक्षर समूह का चयन कीजिए।

- Ans
- 1. EIU
  - 2. OEU
  - 3. AEI
  - 4. QNV

Question ID : 65497831895  
Status : Answered  
Chosen Option : 4

Q.22 अक्षरों के उस संयोजन का चयन कीजिए, जिसे दी गई श्रृंखला के रिक्त स्थानों में क्रमबद्ध रूप से रखने पर श्रृंखला पूर्ण हो जाएगी।

W \_ A T \_ W X \_ \_ Q \_ \_ A T Q

- Ans
- 1. X Q A T W X
  - 2. X Q A T W A
  - 3. X Q A Q W X
  - 4. A Q A T W X

Question ID : 65497831914  
Status : Answered  
Chosen Option : 1



Q.23 एक प्राकृतिक संख्या X, उसकी अग्रवर्ती प्राकृतिक संख्या Y और Y की पांच गुनी एक अन्य प्राकृतिक संख्या, तीनों का योगफल 104 है। संख्या X का मान ज्ञात करें।

Ans  1. 14

2. 15

3. 17

4. 16

Question ID : 65497831902

Status : Answered

Chosen Option : 4

Q.24 एक निश्चित कूट भाषा में, 'STUDIES' को '60433' के रूप में कूटबद्ध किया गया है और 'PACKAGE' को '201113' के रूप में कूटबद्ध किया गया है। उसी कूट भाषा में 'BLOWING' को किस रूप में कूटबद्ध किया जाएगा?

Ans  1. 292440

2. 292330

3. 282430

4. 292431

Question ID : 65497831896

Status : Not Answered

Chosen Option : --

Q.25 एक निश्चित कूट भाषा में, 'KAPIL' को 'NDRKN' के रूप में लिखा जाता है और 'SAROJ' को 'VDTQL' के रूप में लिखा जाता है। उसी कूट भाषा में 'POOJA' को किस रूप में लिखा जाएगा?

Ans  1. SRRLC

2. SQRCM

3. SRQLC

4. SRRMD

Question ID : 65497831905

Status : Answered

Chosen Option : 3

Section : Part B General Knowledge and General Awareness

Q.1 अक्टूबर 2020 में निम्न में से किस बैंक ने व्हाट्सएप पर बैंकिंग सेवाओं का शुभारंभ किया था?

Ans  1. बैंक ऑफ़ बड़ौदा (Bank of Baroda)

2. आई.सी.आई.सी.आई. बैंक (ICICI Bank)

3. आई.डी.बी.आई. बैंक (IDBI Bank)

4. एच.डी.एफ़.सी. बैंक (HDFC Bank)

Question ID : 65497831931

Status : Answered

Chosen Option : 4

Q.2 भारतीय संविधान के किस अनुच्छेद के तहत राष्ट्रपति मृत्युदंड को क्षमा कर सकते हैं?

- Ans
- 1. अनुच्छेद 25
  - 2. अनुच्छेद 78
  - 3. अनुच्छेद 75
  - 4. अनुच्छेद 72

Question ID : 65497831929  
Status : Answered  
Chosen Option : 4

Q.3 \_\_\_\_\_ के जंगलों में पाए जाने वाले चमकीले हरे रंग के सांप की एक नई प्रजाति खोजी गई है, इसका नाम सालाजार स्लीथेरिन के नाम पर रखा गया है।

- Ans
- 1. तमिलनाडु
  - 2. हिमाचल प्रदेश
  - 3. केरल
  - 4. आंध्र प्रदेश

Question ID : 65497831935  
Status : Not Answered  
Chosen Option : --

Q.4 निम्नलिखित में से कौन बिहार की पहली महिला उपमुख्यमंत्री बनी हैं?

- Ans
- 1. रेणु देवी
  - 2. अंजू बाला
  - 3. अपर्णा यादव
  - 4. किरण बेदी

Question ID : 65497831930  
Status : Answered  
Chosen Option : 1

Q.5 राष्ट्रीय खाद्य सुरक्षा अधिनियम 2013 कानूनी रूप से लक्षित सार्वजनिक वितरण प्रणाली के तहत ग्रामीण आबादी के \_\_\_\_\_ तक हिस्से को सब्सिडी वाले खाद्यान्न प्राप्त करने का अधिकार देता है।

- Ans
- 1. 75%
  - 2. 100%
  - 3. 85%
  - 4. 95%

Question ID : 65497831940  
Status : Answered  
Chosen Option : 1

Q.6 कार्बन मोनोऑक्साइड के बारे में इनमें से कौन सा कथन गलत है?

- Ans
- 1. यह वाहनों द्वारा उच्च स्तर पर उत्पादित होती है
  - 2. यह रक्त की ऑक्सीजन ले जाने की क्षमता को कम कर देती है।
  - 3. यह जीवन रक्षक गैस है।
  - 4. यह पेट्रोल और डीजल जैसे ईंधन के अधूरे दहन से उत्पन्न होती है।

Question ID : 65497831938  
Status : Answered  
Chosen Option : 3

Q.7 निम्नलिखित में से कौन यूएस ओपन 2020 के दूसरे चरण में प्रवेश कर, पिछले सात वर्षों में ग्रैंड स्लैम एकल स्पर्धा के दूसरे चरण में प्रवेश करने वाला पहला भारतीय बना?

- Ans
- 1. शशिकुमार मुकुंद
  - 2. सुमित नागल
  - 3. रामकुमार रामनाथन
  - 4. प्रजनेश गुणेश्वरन

Question ID : 65497831924  
Status : Answered  
Chosen Option : 2

Q.8 विभिन्न प्रकार के हिंदू विवाहों में, उस विवाह को क्या कहते हैं जिसमें एक युवती और उसका प्रेमी अपनी इच्छा से विवाह करते हैं?

- Ans
- 1. पैशाच विवाह
  - 2. गंधर्व विवाह
  - 3. दैव विवाह
  - 4. प्रजापत्य विवाह

Question ID : 65497831921  
Status : Not Answered  
Chosen Option : --

Q.9 कालानुक्रम के अनुसार निम्नलिखित में से कौन सी घटना सबसे पहले आएगी?

- Ans
- 1. सिकंदर की मौत
  - 2. शक युग का आरंभ
  - 3. हर्षवर्धन का राज्यारोहण
  - 4. गुप्त युग का आरंभ

Question ID : 65497831926  
Status : Answered  
Chosen Option : 1

Q.10 निम्नलिखित में से कौन सी ध्वनि तरंग की एक विशेषता नहीं है?

- Ans
- 1. आवृत्ति
  - 2. आयाम
  - 3. संपीड़न
  - 4. चाल

Question ID : 65497831934  
Status : Answered  
Chosen Option : 3

Q.11 बंगाल की दीवानी किस वर्ष ईस्ट इंडिया कंपनी को हस्तांतरित हुई थी?

- Ans
- 1. 1789
  - 2. 1845
  - 3. 1765
  - 4. 1898

Question ID : 65497831928  
Status : Answered  
Chosen Option : 3

Q.12 2020 में '40 इयर्स विथ अब्दुल कलाम- अनटोल्ड स्टोरीज' नामक पुस्तक किसने लिखी?

- Ans
- 1. अरुण तिवारी
  - 2. अदम्य सहस
  - 3. ए. शिवथानु पिल्लई
  - 4. विक्रम साराभाई

Question ID : 65497831936  
Status : Not Answered  
Chosen Option : --

Q.13 बाल गंगाधर तिलक को वैलेंटाइन चिरोल द्वारा \_\_\_\_\_ के रूप में वर्णित किया गया था।

- Ans
- 1. शांतिप्रिय व्यक्ति (Man of Peace)
  - 2. भारतीय अशांति के जनक (Father of Indian unrest)
  - 3. क्रांतिकारी विचारों के जनक (Father of Revolutionary Thoughts)
  - 4. भारत का वयोवृद्ध पुरुष (Grand Old Man of India)

Question ID : 65497831939  
Status : Answered  
Chosen Option : 2

Q.14 'द इनसाइडर' नामक पुस्तक के लेखक निम्नलिखित में से कौन हैं?

- Ans
- 1. के. नटवर सिंह
  - 2. ऑस्कर फर्नांडीज
  - 3. मनमोहन सिंह
  - 4. पी.वी. नरसिम्हा राव

Question ID : 65497831923  
Status : Not Answered  
Chosen Option : --

Q.15 हुड़का बोल (Hurka Baul) \_\_\_\_\_ में प्रचलित एक नृत्य रूप है।

- Ans
- 1. झारखंड
  - 2. छत्तीसगढ़
  - 3. उत्तराखंड
  - 4. उत्तर प्रदेश

Question ID : 65497831933  
Status : Not Answered  
Chosen Option : --

Q.16 भारत के जनसांख्यिकीय इतिहास में किस वर्ष को 'महान विभाजक वर्ष' (द ईयर ऑफ़ द ग्रेट डिवाइड) के नाम से जाना जाता है?

- Ans
- 1. 1921
  - 2. 1911
  - 3. 1901
  - 4. 1931

Question ID : 65497831922  
Status : Answered  
Chosen Option : 4

Q.17 15 अगस्त 2021 को '\_\_\_\_\_': के हिस्से के रूप में दिव्यांग सदस्यों की एक टीम ने, दिव्यांगों द्वारा दुनिया के सबसे ऊंचे युद्धक्षेत्र तक पहुंचने का एक नया विश्व रिकॉर्ड बनाने हेतु सियाचिन ग्लेशियर तक जाने का एक अभियान चलाया।

- Ans
- 1. ऑपरेशन ब्लू फ्रीडम
  - 2. ऑपरेशन व्हाइट सी
  - 3. ऑपरेशन रेड बुल
  - 4. ऑपरेशन ब्लैक टॉरनेडो

Question ID : 65497831942  
Status : Not Answered  
Chosen Option : --

Q.18 संयुक्त राष्ट्र के खाद्य एवं कृषि संगठन (FAO) ने वर्ष \_\_\_\_\_ में कश्मीर की केसर विरासत को 'वैश्विक रूप से महत्वपूर्ण कृषि विरासत प्रणाली' (GIAHS) घोषित किया।

- Ans
- 1. 2011
  - 2. 2009
  - 3. 2008
  - 4. 2010

Question ID : 65497831943  
Status : Not Answered  
Chosen Option : --

Q.19 किस प्रकार की मिट्टी में पानी की अधिकतम मात्रा बनी रहती है?

- Ans
- 1. गाद
  - 2. चिकनी बलुई मिट्टी
  - 3. रेत
  - 4. चिकनी मिट्टी

Question ID : 65497831920  
Status : Answered  
Chosen Option : 2

Q.20 1955 से पूर्व निम्नलिखित में से किस बैंक को इंपीरियल बैंक ऑफ़ इंडिया के रूप में जाना जाता था?

- Ans
- 1. यूनिन बैंक ऑफ़ इंडिया
  - 2. ओरिएंटल बैंक ऑफ़ कॉमर्स
  - 3. सेंट्रल बैंक ऑफ़ इंडिया
  - 4. भारतीय स्टेट बैंक

Question ID : 65497831925  
Status : Answered  
Chosen Option : 4

Q.21 निम्नलिखित में से कौन सा देश 13वें पुरुष क्रिकेट विश्व कप 2023 की मेज़बानी करेगा?

- Ans
- 1. वेस्ट इंडीज़
  - 2. इंग्लैंड
  - 3. ऑस्ट्रेलिया
  - 4. भारत

Question ID : 65497831932  
Status : Answered  
Chosen Option : 4

Q.22 केंद्रीय पर्यावरण, वन और जलवायु परिवर्तन मंत्री - श्री भूपेंद्र यादव ने सितंबर 2021 में \_\_\_\_\_ में एक स्मॉग टॉवर का आभासी रूप से उद्घाटन (virtually inaugurated) किया।

- Ans
- 1. नई दिल्ली
  - 2. मुंबई
  - 3. चेन्नई
  - 4. बेंगलुरु

Question ID : 65497831941  
Status : Answered  
Chosen Option : 1

Q.23 निम्नलिखित विकल्पों में से कौन सा, सिंधु घाटी सभ्यता का नगरपत्तन (बंदरगाह शहर) नहीं था?

- Ans
- 1. बालाकोट
  - 2. राखीगढ़ी
  - 3. लोथल
  - 4. खिरसारा

Question ID : 65497831927  
Status : Answered  
Chosen Option : 1

Q.24 'मानव विकास रिपोर्ट 2019' के अनुसार मानव विकास प्रगति में एशिया का कौन-सा क्षेत्र सबसे तेजी से आगे बढ़ रहा है?

- Ans
- 1. पूर्वी एशिया
  - 2. उत्तरी एशिया
  - 3. दक्षिणी एशिया
  - 4. पश्चिमी एशिया

Question ID : 65497831937  
Status : Not Answered  
Chosen Option : --

Q.25 डिङ्को सिंह (Dingko Singh) का संबंध किस खेल से है?

- Ans
- 1. मुक्केबाज़ी
  - 2. तैराकी
  - 3. भालाफेंक
  - 4. फुटबॉल

Question ID : 65497831944  
Status : Not Answered  
Chosen Option : --

Section : Part C Elementary Mathematics

Q.1 यदि कंक्रीट में चूने के 3 भाग, बजरी के 7 भाग और रेत के 6 भाग हैं, तो 800 kg कंक्रीट में बजरी की मात्रा (kg में) कितनी होगी?

- Ans
- 1. 350
  - 2. 320
  - 3. 150
  - 4. 300

Question ID : 65497831946  
Status : Answered  
Chosen Option : 1

Q.2 पाइप A और B एक टैंक को क्रमशः 36 मिनट और 45 मिनट में भर सकते हैं। इन दोनों पाइपों को एक साथ खोला गया। 20 मिनट बाद, टैंक के तल में एक रिसाव देखा गया, जिसे तुरंत बंद कर दिया गया। इसके 15 मिनट बाद टैंक पूरा भर गया था। रिसाव, पूरे भरे टैंक को कितने समय में खाली कर सकता है?

- Ans
- 1.  $28\frac{1}{3}$  मिनट
  - 2.  $26\frac{2}{3}$  मिनट
  - 3. 30 मिनट
  - 4. 25 मिनट

Question ID : 65497831967  
Status : Not Answered  
Chosen Option : --

**Q.3** मिस्टर राम ने अपने धन में से 60% धन अपनी पत्नी को दिया। शेष धन में से उन्होंने अपने तीनों बच्चों को 20% (प्रत्येक को) धन दिया। उसके बाद शेष धन का 3/5वां हिस्सा विविध वस्तुओं पर व्यय किया गया और शेष ₹9,600 को बैंक में जमा कर दिया। मिस्टर राम ने अपनी पत्नी को कितना धन (₹में) दिया?

- Ans**
- 1. 1,50,000
  - 2. 1,20,000
  - 3. 80,000
  - 4. 90,000

Question ID : 65497831949  
Status : Not Answered  
Chosen Option : --

**Q.4** एक आयताकार मैदान की भुजाएँ 20 m लंबी और 10 m चौड़ी हैं। यदि लंबाई में 10% की वृद्धि और चौड़ाई में 20% की कमी की जाती है, तो पुराने क्षेत्रफल का, नए क्षेत्रफल से अनुपात ज्ञात करें।

- Ans**
- 1. 4 : 5
  - 2. 22 : 25
  - 3. 25 : 22
  - 4. 3 : 2

Question ID : 65497831961  
Status : Answered  
Chosen Option : 3

**Q.5** एक ठोस घन का पृष्ठीय क्षेत्रफल  $726 \text{ cm}^2$  है। इसे पिघलाकर एक ठोस बेलन बनाया जाता है, जिसकी त्रिज्या 11 cm है। बेलन की ऊँचाई (cm में) कितनी है? ( $\pi = \frac{22}{7}$  लीजिए)

- Ans**
- 1. 5.5
  - 2. 3.5
  - 3. 1.9
  - 4. 2.5

Question ID : 65497831947  
Status : Not Answered  
Chosen Option : --

**Q.6** किसी राशि पर समान ब्याज दर से 4 वर्ष और 6 वर्ष में प्राप्त होने वाले साधारण ब्याजों का अनुपात क्या होगा?

- Ans**
- 1. 2 : 5
  - 2. 2 : 3
  - 3. 1 : 3
  - 4. 3 : 6

Question ID : 65497831954  
Status : Answered  
Chosen Option : 2



Q.7 एक वस्तु को उस पर अंकित मूल्य के 75% मूल्य पर बेचा गया, और इससे 25% का लाभ प्राप्त हुआ। वस्तु का क्रय मूल्य कितना है?

- Ans
- 1. ₹60
  - 2. ₹50
  - 3. ₹70
  - 4. ₹75

Question ID : 65497831951  
Status : Answered  
Chosen Option : 1

Q.8 एक विद्यालय में 20 लड़कियों का औसत भार 52 kg था। 54 kg और 50 kg भार वाले दो नए विद्यार्थियों को प्रवेश दिया गया। इस नए औसत का, पुराने औसत से अनुपात ज्ञात करें।

- Ans
- 1. 21 : 22
  - 2. 14 : 13
  - 3. 24 : 25
  - 4. 1 : 1

Question ID : 65497831956  
Status : Answered  
Chosen Option : 4

Q.9 यदि किसी संख्या के 40% और उसी संख्या के 30% का अंतर 70 है, तो वह संख्या ज्ञात करें।

- Ans
- 1. 800
  - 2. 600
  - 3. 700
  - 4. 750

Question ID : 65497831966  
Status : Answered  
Chosen Option : 3

Q.10 एक कार्य को 8 दिनों में पूरा करने के लिए 20 व्यक्तियों को लगाया गया था। कोविड 19 संक्रमण के कारण, 4 व्यक्ति 4 दिन बाद कार्य छोड़कर चले गए। कार्य को पूरा करने के लिए आवश्यक दिनों की कुल संख्या ज्ञात करें।

- Ans
- 1. 9
  - 2. 10
  - 3. 11
  - 4. 12

Question ID : 65497831959  
Status : Answered  
Chosen Option : 1

**Q.11** एक नाव शांत जल में एक निश्चित दूरी तय करने में, धारा की दिशा में उससे दो गुनी दूरी तय करने में लगने वाले समय तुलना में 40% कम समय लेती है। यदि शांत जल में नाव की चाल 25 km/h है, तो धारा की चाल (km/h में) ज्ञात कीजिए।

- Ans**
- 1. 4.5
  - 2. 5
  - 3. 4
  - 4. 5.5

Question ID : 65497831969  
 Status : Not Answered  
 Chosen Option : --

**Q.12**  $\frac{\frac{3}{4} \times 1\frac{1}{2} + 2\frac{1}{4} + 5\frac{1}{2} + 3\frac{2}{3} \text{ of } \frac{2}{5}}{\frac{4}{5} \text{ of } 7\frac{1}{2} + \frac{3}{4}}$  का मान ज्ञात कीजिए।

- Ans**
- 1.  $3\frac{3}{4}$
  - 2.  $8\frac{1}{2}$
  - 3.  $\frac{17}{32}$
  - 4.  $\frac{1}{2}$

Question ID : 65497831963  
 Status : Answered  
 Chosen Option : 2

**Q.13** एक व्यक्ति स्थान A से B तक, 30 km/h की चाल से; और B से C तक 45 km/h की चाल से यात्रा करता है। पूरी यात्रा के दौरान उसकी औसत चाल 40 km/h थी। AB : BC के बीच की चालों का अनुपात ज्ञात कीजिए।

- Ans**
- 1. 2 : 3
  - 2. 1 : 2
  - 3. 3 : 5
  - 4. 1 : 3

Question ID : 65497831968  
 Status : Answered  
 Chosen Option : 1

Q.14 छः वर्ष पूर्व, A, B और C की औसत आयु 29 वर्ष थी। आठ वर्ष पूर्व, A और C की औसत आयु 27 वर्ष थी। B की वर्तमान आयु (वर्षों में) कितनी है?

- Ans  1. 35  
 2. 31  
 3. 34  
 4. 36

Question ID : 65497831964  
Status : Answered  
Chosen Option : 1

Q.15 यदि एक 11-अंकीय संख्या  $546789x531y$ , 88 द्वारा विभाज्य है, तो  $(x-y)$  का मान ज्ञात कीजिए।

- Ans  1. 0  
 2. 1  
 3. 3  
 4. 2

Question ID : 65497831948  
Status : Not Answered  
Chosen Option : --

Q.16 एक व्यक्ति ने ₹50,000 की धनराशि 2% की वार्षिक चक्रवृद्धि ब्याज दर से 2 वर्ष के लिए उधार ली। पहले वर्ष के अंत में और दूसरे वर्ष के अंत में प्राप्त मिश्रधन में कितना अंतर होगा? (₹ में)

- Ans  1. ₹40  
 2. ₹30  
 3. ₹20  
 4. ₹50

Question ID : 65497831960  
Status : Not Answered  
Chosen Option : --

Q.17 बिक्री कर सहित किसी वस्तु का विक्रय मूल्य ₹772.8 है। वस्तु का क्रय मूल्य ₹600 है। यदि दुकानदार ने 15% लाभ कमाया है, तो बिक्री कर की दर कितनी है?

- Ans  1. 13%  
 2. 11%  
 3. 12%  
 4. 10%

Question ID : 65497831962  
Status : Not Answered  
Chosen Option : --

**Q.18** एक वस्तु का क्रय मूल्य ₹2,250 है, जो अंकित मूल्य से 25% कम है। यदि उस वस्तु को 15% की छूट पर बेचा जाता, तो इस लेनदेन में अर्जित प्रतिशत लाभ ज्ञात कीजिए।

- Ans**
- 1. 8.67%
  - 2. 11.25%
  - 3. 6.25%
  - 4. 13.33%

Question ID : 65497831945  
Status : Answered  
Chosen Option : 4

**Q.19** एक दुकानदार को किसी वस्तु को अंकित मूल्य पर 15% की छूट देकर बेचने पर 70% का लाभ होता है। उसने वस्तु पर क्रय मूल्य से कितने प्रतिशत अधिक मूल्य अंकित किया था?

- Ans**
- 1. 100
  - 2. 70
  - 3. 60
  - 4. 40

Question ID : 65497831953  
Status : Answered  
Chosen Option : 1

**Q.20**  $\frac{45 + \frac{6}{7} \text{ of } 21 - 8}{64 - \frac{3}{5} \text{ of } (28 - 13)}$  का मान कितना होगा?

- Ans**
- 1. 5
  - 2. 1
  - 3. 10
  - 4. 2

Question ID : 65497831950  
Status : Answered  
Chosen Option : 2

**Q.21** ₹600 की धनराशि पर साधारण ब्याज की दर से 3 वर्षों में प्राप्त मिश्रधन ₹850 है। ब्याज की वार्षिक दर ज्ञात कीजिए।

- Ans**
- 1. 7.5%
  - 2.  $\frac{125}{9}\%$
  - 3. 6%
  - 4.  $\frac{21}{4}\%$

Question ID : 65497831958  
Status : Answered  
Chosen Option : 2

**Q.22** एक संख्या को 65 से विभाजित करने पर शेषफल 31 प्राप्त होता है। वही संख्या जब 13 से विभाजित की जाती है, तो शेषफल \_\_\_\_\_ प्राप्त होगा।

- Ans**
- 1. 7
  - 2. 5
  - 3. 3
  - 4. 9

Question ID : 65497831955  
Status : Answered  
Chosen Option : 2

**Q.23** अजय किसी कार्य का  $\frac{5}{12}$  भाग 20 दिन में पूरा कर सकता है। वह कार्य का  $\frac{3}{4}$  भाग कितने दिनों में पूरा कर लेगा?

- Ans**
- 1. 32 दिन
  - 2. 28 दिन
  - 3. 35 दिन
  - 4. 36 दिन

Question ID : 65497831952  
Status : Answered  
Chosen Option : 4

**Q.24** एक वस्तु का अंकित मूल्य ₹500 है।  $x\%$ ,  $20\%$  और  $x\%$  की तीन क्रमिक छूट देने के बाद, इसे ₹309.76 में बेचा जाता है।  $x$  का मान क्या होगा?

- Ans**
- 1. 12
  - 2. 15
  - 3. 10
  - 4. 16

Question ID : 65497831965  
Status : Not Answered  
Chosen Option : --

**Q.25** ₹15,000 को A, B और C में इस प्रकार विभाजित किया गया कि A को B से 20% अधिक और B को C से 25% अधिक धनराशि मिली। C का हिस्सा ज्ञात करें।

- Ans**
- 1. ₹5,000
  - 2. ₹4,000
  - 3. ₹3,200
  - 4. ₹4,800

Question ID : 65497831957  
Status : Answered  
Chosen Option : 2

Section : Part D English

**Q.1** The following sentence has been split into four segments. Identify the segment that contains a grammatical error.

I wish / I helped him / with his homework / last night.

- Ans**
- 1. I wish
  - 2. with his homework
  - 3. last night
  - 4. I helped him

Question ID : **65497831984**  
Status : **Not Answered**  
Chosen Option : --

**Q.2** Select the most appropriate option to fill in the blank.

There was a huge demand for entry tickets at the \_\_\_\_\_.

- Ans**
- 1. venture
  - 2. venue
  - 3. vent
  - 4. venom

Question ID : **65497831980**  
Status : **Not Answered**  
Chosen Option : --

**Q.3** Select the most appropriate ANTONYM of the given word.

Emerge

- Ans**
- 1. Derive
  - 2. Arise
  - 3. Surface
  - 4. Disappear

Question ID : **65497831986**  
Status : **Not Answered**  
Chosen Option : --

**Q.4** Select the option that can be used as a one-word substitute for the given group of words.

Group of stars

- Ans**
- 1. Chain
  - 2. Constellation
  - 3. Congregation
  - 4. Collection

Question ID : **65497831977**  
Status : **Not Answered**  
Chosen Option : --

**Q.5** Select the option that will improve the underlined part of the given sentence. In case no improvement is needed, select 'No improvement required'.

The snow melts in the warm of spring.

- Ans  1. No improvement required  
 2. in the warmth  
 3. with warm  
 4. by the warming

Question ID : 65497831989  
Status : Not Answered  
Chosen Option : --

**Q.6** Select the most appropriate option to fill in the blank.

One boy was \_\_\_\_\_ inside when the building caught fire.

- Ans  1. captured  
 2. saved  
 3. gripped  
 4. trapped

Question ID : 65497831970  
Status : Not Answered  
Chosen Option : --

**Q.7** Select the INCORRECTLY spelt word.

- Ans  1. Mercenary  
 2. Versatile  
 3. Contingency  
 4. Voluntere

Question ID : 65497831978  
Status : Not Answered  
Chosen Option : --

**Q.8** Select the most appropriate option that can substitute the underlined segment in the given sentence. If there is no need to substitute it, select 'No substitution required'.

The book is well-written but there is few boring patches in it.

- Ans  1. No substitution required  
 2. are a certain boring patches  
 3. are some boring patches  
 4. are little boring patches

Question ID : 65497831975  
Status : Not Answered  
Chosen Option : --

**Q.9** The following sentence has been split into four segments. Identify the segment that contains a grammatical error.

I work mainly in the computer department, / who is / the smallest department / in the University.

- Ans**
- 1. the smallest department
  - 2. who is
  - 3. in the University
  - 4. I work mainly in the computer department

Question ID : **65497831971**  
Status : **Not Answered**  
Chosen Option : --

**Q.10** Select the INCORRECTLY spelt word.

- Ans**
- 1. Laurall
  - 2. Religious
  - 3. Mutual
  - 4. Whine

Question ID : **65497831988**  
Status : **Not Answered**  
Chosen Option : --

**Q.11** Select the most appropriate synonym of the given word.

**Cunning**

- Ans**
- 1. Shrewd
  - 2. Prudent
  - 3. Stray
  - 4. Unusual

Question ID : **65497831972**  
Status : **Not Answered**  
Chosen Option : --

**Q.12** Parts of the given sentence have been given as options. One of them contains a grammatical error. Select the option that has the error.

I did not like the place as it was too noise and polluted.

- Ans**
- 1. did not like
  - 2. and polluted
  - 3. too noise
  - 4. as it was

Question ID : **65497831981**  
Status : **Not Answered**  
Chosen Option : --



**Q.13** Select the most appropriate meaning of the given idiom.

**To blow one's own horn**

- Ans**  1. To praise oneself  
 2. To calm oneself  
 3. To breathe deeply  
 4. To become angry

Question ID : **65497831973**  
Status : **Not Answered**  
Chosen Option : --

**Q.14** Select the option that can be used as a one-word substitute for the given group of words.

**Ordinary and dull**

- Ans**  1. Mundane  
 2. Shallow  
 3. Callous  
 4. Familiar

Question ID : **65497831987**  
Status : **Not Answered**  
Chosen Option : --

**Q.15** Select the most appropriate synonym of the given word.

**Shuffle**

- Ans**  1. Stand  
 2. Erect  
 3. Order  
 4. Stagger

Question ID : **65497831982**  
Status : **Not Answered**  
Chosen Option : --

**Q.16** Select the most appropriate meaning of the given idiom.

**To go round in circles**

- Ans**  1. To be unable to draw a circle properly  
 2. To run round a circular stadium very fast  
 3. To waste one's time and energy doing trivial things  
 4. To play a game which makes you run a lot

Question ID : **65497831974**  
Status : **Not Answered**  
Chosen Option : --

**Q.17** Select the option that can be used as a one-word substitute for the given group of words.

The practice of having more than one husband or wife at the same time

- Ans  1. Polygenesis  
 2. Polymorphism  
 3. Polygamy  
 4. Polygon

Question ID : 65497831983  
Status : Not Answered  
Chosen Option : --

**Q.18** Select the most appropriate option that can substitute the underlined segment in the given sentence. If there is no need to substitute it, select 'No substitution required'.

Mr. Mohan Rao has been attacked on his conservative ideas about women.

- Ans  1. attack from his conservative  
 2. attacking for his conservative  
 3. attacked for his conservative  
 4. No substitution required

Question ID : 65497831976  
Status : Not Answered  
Chosen Option : --

**Q.19** Select the most appropriate ANTONYM of the given word.

Resist

- Ans  1. Curb  
 2. Allow  
 3. Defy  
 4. Suffer

Question ID : 65497831985  
Status : Not Answered  
Chosen Option : --

**Q.20** Select the most appropriate option to fill in the blank.

My friend asked me to \_\_\_\_\_ him a thousand rupees.

- Ans  1. supply  
 2. lend  
 3. extend  
 4. afford

Question ID : 65497831979  
Status : Not Answered  
Chosen Option : --

**Comprehension:**

In the following passage, some words have been deleted. Read the passage carefully and select the most appropriate option to fill in each blank.

The issue of growing environmental pollution should be considered as one of (1) \_\_\_\_\_ importance. The environment (2) \_\_\_\_\_ the air we breathe, the water we drink, the trees and plants that (3) \_\_\_\_\_ food for us and the animal kingdom. All of these together form the circle of life on earth. Pollution is a process by which natural elements of the earth are negatively (4) \_\_\_\_\_, causing harm and (5) \_\_\_\_\_ to this circle of life.

**SubQuestion No : 21**

**Q.21** Select the most appropriate option to fill in blank no. 1.

Ans  1. casual

2. grave

3. decisive

4. serious

Question ID : **65497831991**  
Status : **Not Answered**  
Chosen Option : --

**Comprehension:**

In the following passage, some words have been deleted. Read the passage carefully and select the most appropriate option to fill in each blank.

The issue of growing environmental pollution should be considered as one of (1) \_\_\_\_\_ importance. The environment (2) \_\_\_\_\_ the air we breathe, the water we drink, the trees and plants that (3) \_\_\_\_\_ food for us and the animal kingdom. All of these together form the circle of life on earth. Pollution is a process by which natural elements of the earth are negatively (4) \_\_\_\_\_, causing harm and (5) \_\_\_\_\_ to this circle of life.

**SubQuestion No : 22**

**Q.22** Select the most appropriate option to fill in blank no. 2.

Ans  1. nourishes

2. comprises

3. constructs

4. obstructs

Question ID : **65497831992**  
Status : **Not Answered**  
Chosen Option : --

**Comprehension:**

In the following passage, some words have been deleted. Read the passage carefully and select the most appropriate option to fill in each blank.

The issue of growing environmental pollution should be considered as one of (1) \_\_\_\_\_ importance. The environment (2) \_\_\_\_\_ the air we breathe, the water we drink, the trees and plants that (3) \_\_\_\_\_ food for us and the animal kingdom. All of these together form the circle of life on earth. Pollution is a process by which natural elements of the earth are negatively (4) \_\_\_\_\_, causing harm and (5) \_\_\_\_\_ to this circle of life.

**SubQuestion No : 23**

**Q.23** Select the most appropriate option to fill in blank no. 3.

- Ans**
- 1. beer
  - 2. gamer
  - 3. bear
  - 4. procure

Question ID : **65497831993**  
Status : **Not Answered**  
Chosen Option : --

**Comprehension:**

In the following passage, some words have been deleted. Read the passage carefully and select the most appropriate option to fill in each blank.

The issue of growing environmental pollution should be considered as one of (1) \_\_\_\_\_ importance. The environment (2) \_\_\_\_\_ the air we breathe, the water we drink, the trees and plants that (3) \_\_\_\_\_ food for us and the animal kingdom. All of these together form the circle of life on earth. Pollution is a process by which natural elements of the earth are negatively (4) \_\_\_\_\_, causing harm and (5) \_\_\_\_\_ to this circle of life.

**SubQuestion No : 24**

**Q.24** Select the most appropriate option to fill in blank no. 4.

- Ans**
- 1. affected
  - 2. deflected
  - 3. effected
  - 4. aerated

Question ID : **65497831994**  
Status : **Not Answered**  
Chosen Option : --

**Comprehension:**

In the following passage, some words have been deleted. Read the passage carefully and select the most appropriate option to fill in each blank.

The issue of growing environmental pollution should be considered as one of (1) \_\_\_\_\_ importance. The environment (2) \_\_\_\_\_ the air we breathe, the water we drink, the trees and plants that (3) \_\_\_\_\_ food for us and the animal kingdom. All of these together form the circle of life on earth. Pollution is a process by which natural elements of the earth are negatively (4) \_\_\_\_\_, causing harm and (5) \_\_\_\_\_ to this circle of life.

**SubQuestion No : 25**

**Q.25** Select the most appropriate option to fill in blank no. 5.

- Ans  1. demolition  
 2. damage  
 3. distraction  
 4. defiance

Question ID : 65497831995  
Status : Not Answered  
Chosen Option : --

Section : **Part D Hindi**

**Q.1** दिए गए वाक्यांश के लिए एक शब्द दीजिए।

जिसके पार देखा जा सके

- Ans  1. पारदर्शी  
 2. प्रदोष  
 3. पराग  
 4. पार्थिव

Question ID : 65497831997  
Status : Answered  
Chosen Option : 1

**Q.2** दिए गए वाक्य का वह भाग ज्ञात करें जिसमें कोई त्रुटि है। यदि कोई त्रुटि नहीं है, तो 'कोई त्रुटि नहीं है' चुनें।

नियमित अभ्यास (1)/ मूर्ख को भी (2)/ चतुर बना देती है (3)/ कोई त्रुटि नहीं है (4)

- Ans  1. 1  
 2. 2  
 3. 4  
 4. 3

Question ID : 65497832003  
Status : Answered  
Chosen Option : 4

Q.3 दिए गए शब्द के समानार्थी शब्द का चयन करें।

इन्द्र

- Ans
- 1. धनद
  - 2. सोम
  - 3. वासव
  - 4. पारिजात

Question ID : 65497832004  
Status : Answered  
Chosen Option : 3

Q.4 दिए गए वाक्य का वह भाग ज्ञात करें जिसमें कोई त्रुटि है। यदि कोई त्रुटि नहीं है, तो 'कोई त्रुटि नहीं है' चुनें।

पति-पत्नी (1) के झगड़े का हेतु (2) क्या हो सकता है? (3) कोई त्रुटि नहीं है। (4)

- Ans
- 1. 4
  - 2. 2
  - 3. 1
  - 4. 3

Question ID : 65497832009  
Status : Answered  
Chosen Option : 2

Q.5 दिए गए वाक्य का वो भाग ज्ञात करें जिसमें कोई त्रुटि है। यदि कोई त्रुटि नहीं है, तो 'कोई त्रुटि नहीं है' चुनें।

मैं भूखा हूँ (1) और मुझे बहुत तेज़ (2) प्यास भी लगा है। (3) कोई त्रुटि नहीं है (4)

- Ans
- 1. 1
  - 2. 2
  - 3. 3
  - 4. 4

Question ID : 65497832000  
Status : Answered  
Chosen Option : 3

Q.6 रिक्त स्थान की पूर्ति के लिए सबसे उपयुक्त शब्द का चयन करें।

बैलों के कंधों पर \_\_\_\_\_ पड़ा था।

- Ans
- 1. जुआ
  - 2. जुएँ
  - 3. जई
  - 4. जूआ

Question ID : 65497831999  
Status : Answered  
Chosen Option : 2

Q.7 'पानी फेर देना' मुहावरे का सही अर्थ क्या है?

- Ans
- 1. जवाब न देना
  - 2. संभाल लेना
  - 3. बुरा-भला कहना
  - 4. बिगाड़ देना

Question ID : 65497832014  
Status : Answered  
Chosen Option : 4

Q.8 दिए गये वाक्यांश के लिए एक शब्द दीजिये-

जिसे बुलाया न गया हो

- Ans
- 1. अनाहूत
  - 2. आरक्त
  - 3. आहूत
  - 4. अभिभूत

Question ID : 65497832002  
Status : Answered  
Chosen Option : 1

Q.9 रिक्त स्थान की पूर्ति के लिए सबसे उपयुक्त शब्द का चयन करें।

कई सौ वर्षों तक भारत के \_\_\_\_\_ पराधीनता की बेड़ियाँ पड़ी रहीं।

- Ans
- 1. गले में
  - 2. पैरों में
  - 3. शरीर में
  - 4. माथे पर

Question ID : 65497832008  
Status : Answered  
Chosen Option : 2

Q.10 उस विकल्प का चयन कीजिए, जो निम्न मुहावरे का अर्थ व्यक्त करता है।

आफ़त सिर पर लेना

- Ans
- 1. झगड़ा मील लेना
  - 2. तंग करना
  - 3. स्वागत करना
  - 4. समस्या का सामना करना

Question ID : 65497831998  
Status : Answered  
Chosen Option : 1

Q.11 'अंगीकार' का विलोम शब्द होगा-

- Ans
- 1. मक्कार
  - 2. स्वीकार
  - 3. धिक्कार
  - 4. बहिष्कार

Question ID : 65497832013  
Status : Answered  
Chosen Option : 4

Q.12 दिए गए वाक्य में रेखांकित खंड को प्रतिस्थापित करने के लिए सबसे उपयुक्त विकल्प का चयन करें।  
यदि इसे प्रतिस्थापित करने की आवश्यकता नहीं है, तो विकल्प 'किसी बदलाव की आवश्यकता नहीं है'  
का चयन करें।

वह प्रतिदिनों ऐसा ही करता आया है।

- Ans
- 1. किसी बदलाव की आवश्यकता नहीं है।
  - 2. वह प्रतिदीन
  - 3. वे प्रतिदिनों
  - 4. वह प्रतिदिन

Question ID : 65497831996  
Status : Answered  
Chosen Option : 4

Q.13 सही वर्तनी वाले शब्द का चयन करें।

- Ans
- 1. यासथाक्ती
  - 2. जथाशाक्ति
  - 3. यशासक्ति
  - 4. यथाशक्ति

Question ID : 65497832007  
Status : Answered  
Chosen Option : 4

Q.14 दिए गए शब्द का समानार्थी शब्द चुनें-

एकांत

- Ans
- 1. एकता
  - 2. सहसा
  - 3. शून्य
  - 4. अचानक

Question ID : 65497832010  
Status : Answered  
Chosen Option : 3



Q.15 'आधे से अधिक लोगों की मिलकर एक राय' वाक्यांश के लिए उपयुक्त शब्द होगा-

- Ans
- 1. अल्पमत
  - 2. सहमत
  - 3. बहुमत
  - 4. जनमत

Question ID : 65497832015  
Status : Answered  
Chosen Option : 3

Q.16 सही वर्तनी वाले शब्द का चयन करें।

- Ans
- 1. पुत्रवधू
  - 2. पात्रवाधू
  - 3. पुत्रवधु
  - 4. पूत्रवधू

Question ID : 65497832006  
Status : Answered  
Chosen Option : 1

Q.17 दिये गये वाक्य में रेखांकित अंश को प्रतिस्थापित करने के लिए सबसे उपयुक्त विकल्प का चयन करें।

प्रेम का मूल्य मापा नहीं जा सकता।

- Ans
- 1. जोड़ा नहीं जा सकता।
  - 2. गिना नहीं जा सकता।
  - 3. नापा नहीं जा सकता।
  - 4. आँका नहीं जा सकता।

Question ID : 65497832012  
Status : Answered  
Chosen Option : 4

Q.18 दिए गए शब्द के विलोम शब्द का चयन करें-

सुलभ

- Ans
- 1. अलभ
  - 2. दुर्लभ
  - 3. निर्लभ
  - 4. अनुलभ

Question ID : 65497832001  
Status : Answered  
Chosen Option : 2

Q.19 रिक्त स्थान की पूर्ति के लिए सबसे उपयुक्त शब्द का चयन करें।

उनकी शंका का \_\_\_\_\_ तुम्हीं कर सकते हो।

- Ans
- 1. निपटान
  - 2. निराकरण
  - 3. हल
  - 4. समाधान

Question ID : 65497832005  
Status : Answered  
Chosen Option : 4

Q.20 दिये गये वाक्य में रेखांकित अंश को प्रतिस्थापित करने के लिए सबसे उपयुक्त विकल्प का चयन करें।

सुमन को अपने रूप पर गौरव है।

- Ans
- 1. सम्मान
  - 2. दर्प
  - 3. गर्व
  - 4. क्षोभ

Question ID : 65497832011  
Status : Answered  
Chosen Option : 3

**Comprehension:**

दिए गए गद्यांश में से कुछ शब्द हटा दिए गए हैं। संबंधित प्रश्नों में प्रत्येक संख्या के लिए सबसे उपयुक्त विकल्प का चयन करें।

संसार में (1) \_\_\_\_\_ यानि दूसरों पर आश्रित होना या निर्भर रहना एक प्रकार का पाप, सर्वाधिक हीन कर्म और आदमी के अंतःबाह्य व्यक्तित्व को एकदम हीन तथा बौना बनाकर रख देने वाला हुआ करता है। पराश्रित या परावलंबी को हमेशा आश्रय आधार देने वालों के (2) \_\_\_\_\_ बनकर रहना पड़ता है। उनके इशारों पर नाचने की बाध्यता और विवशता रहा करती है। उनकी अपनी (3) \_\_\_\_\_ पहले तो होती ही नहीं, होने या रहने पर भी उसका कोई मूल्य और महत्त्व नहीं रहा करता। वह चाहकर भी उसके अनुसार न तो कार्य ही कर सकता है और न उसे कभी पूर्ण होते हुए ही देख सकता है। इसी कारण पराधीनता को घोर पाप और (4) \_\_\_\_\_ माना गया है। इसके विपरीत स्वाधीनता को (5) \_\_\_\_\_ का द्वार, पुण्य-कार्यों का परिणाम और सब प्रकार से श्रेष्ठ स्वीकार किया गया है।

SubQuestion No : 21

Q.21 गद्यांश के रिक्त स्थान (1) के लिए सर्वाधिक उपयुक्त शब्द होगा-

- Ans
- 1. परतंत्र
  - 2. परावलंबी
  - 3. स्वावलंबी
  - 4. स्वतंत्र

Question ID : 65497832017  
Status : Answered  
Chosen Option : 2

**Comprehension:**

दिए गए गद्यांश में से कुछ शब्द हटा दिए गए हैं। संबंधित प्रश्नों में प्रत्येक संख्या के लिए सबसे उपयुक्त विकल्प का चयन करें।

संसार में (1) \_\_\_\_\_ यानि दूसरों पर आश्रित होना या निर्भर रहना एक प्रकार का पाप, सर्वाधिक हीन कर्म और आदमी के अंतःबाह्य व्यक्तित्व को एकदम हीन तथा बौना बनाकर रख देने वाला हुआ करता है। पराश्रित या परावलंबी को हमेशा आश्रय आधार देने वालों के (2) \_\_\_\_\_ बनकर रहना पड़ता है। उनके इशारों पर नाचने की बाध्यता और विवशता रहा करती है। उनकी अपनी (3) \_\_\_\_\_ पहले तो होती ही नहीं, होने या रहने पर भी उसका कोई मूल्य और महत्त्व नहीं रहा करता। वह चाहकर भी उसके अनुसार न तो कार्य ही कर सकता है और न उसे कभी पूर्ण होते हुए ही देख सकता है। इसी कारण पराधीनता को घोर पाप और (4) \_\_\_\_\_ माना गया है। इसके विपरीत स्वाधीनता को (5) \_\_\_\_\_ का द्वार, पुण्य-कार्यों का परिणाम और सब प्रकार से श्रेष्ठ स्वीकार किया गया है।

**SubQuestion No : 22**

**Q.22** गद्यांश के रिक्त स्थान (2) के लिए सर्वाधिक उपयुक्त शब्द होगा-

- Ans**  1. विवश  
 2. अधीन  
 3. नौकर  
 4. गुलाम

Question ID : 65497832018

Status : Answered

Chosen Option : 2

**Comprehension:**

दिए गए गद्यांश में से कुछ शब्द हटा दिए गए हैं। संबंधित प्रश्नों में प्रत्येक संख्या के लिए सबसे उपयुक्त विकल्प का चयन करें।

संसार में (1) \_\_\_\_\_ यानि दूसरों पर आश्रित होना या निर्भर रहना एक प्रकार का पाप, सर्वाधिक हीन कर्म और आदमी के अंतःबाह्य व्यक्तित्व को एकदम हीन तथा बौना बनाकर रख देने वाला हुआ करता है। पराश्रित या परावलंबी को हमेशा आश्रय आधार देने वालों के (2) \_\_\_\_\_ बनकर रहना पड़ता है। उनके इशारों पर नाचने की बाध्यता और विवशता रहा करती है। उनकी अपनी (3) \_\_\_\_\_ पहले तो होती ही नहीं, होने या रहने पर भी उसका कोई मूल्य और महत्त्व नहीं रहा करता। वह चाहकर भी उसके अनुसार न तो कार्य ही कर सकता है और न उसे कभी पूर्ण होते हुए ही देख सकता है। इसी कारण पराधीनता को घोर पाप और (4) \_\_\_\_\_ माना गया है। इसके विपरीत स्वाधीनता को (5) \_\_\_\_\_ का द्वार, पुण्य-कार्यों का परिणाम और सब प्रकार से श्रेष्ठ स्वीकार किया गया है।

**SubQuestion No : 23**

**Q.23** गद्यांश के रिक्त स्थान (3) के लिए सर्वाधिक उपयुक्त शब्द होगा-

- Ans**  1. अस्तित्व  
 2. अनिच्छा  
 3. इच्छा  
 4. मर्यादा

Question ID : 65497832019

Status : Answered

Chosen Option : 1

**Comprehension:**

दिए गए गद्यांश में से कुछ शब्द हटा दिए गए हैं। संबंधित प्रश्नों में प्रत्येक संख्या के लिए सबसे उपयुक्त विकल्प का चयन करें।

संसार में (1) \_\_\_\_\_ यानि दूसरों पर आश्रित होना या निर्भर रहना एक प्रकार का पाप, सर्वाधिक हीन कर्म और आदमी के अंतःबाह्य व्यक्तित्व को एकदम हीन तथा बौना बनाकर रख देने वाला हुआ करता है। पराश्रित या परावलंबी को हमेशा आश्रय आधार देने वालों के (2) \_\_\_\_\_ बनकर रहना पड़ता है। उनके इशारों पर नाचने की बाध्यता और विवशता रहा करती है। उनकी अपनी (3) \_\_\_\_\_ पहले तो होती ही नहीं, होने या रहने पर भी उसका कोई मूल्य और महत्त्व नहीं रहा करता। वह चाहकर भी उसके अनुसार न तो कार्य ही कर सकता है और न उसे कभी पूर्ण होते हुए ही देख सकता है। इसी कारण पराधीनता को घोर पाप और (4) \_\_\_\_\_ माना गया है। इसके विपरीत स्वाधीनता को (5) \_\_\_\_\_ का द्वार, पुण्य-कार्यों का परिणाम और सब प्रकार से श्रेष्ठ स्वीकार किया गया है।

**SubQuestion No : 24**

**Q.24** गद्यांश के रिक्त स्थान (4) के लिए सर्वाधिक उपयुक्त शब्द होगा-

- Ans**
- 1. विशिष्ट
  - 2. सर्वश्रेष्ठ
  - 3. निकृष्ट
  - 4. आकृष्ट

Question ID : 65497832020

Status : Answered

Chosen Option : 3

**Comprehension:**

दिए गए गद्यांश में से कुछ शब्द हटा दिए गए हैं। संबंधित प्रश्नों में प्रत्येक संख्या के लिए सबसे उपयुक्त विकल्प का चयन करें।

संसार में (1) \_\_\_\_\_ यानि दूसरों पर आश्रित होना या निर्भर रहना एक प्रकार का पाप, सर्वाधिक हीन कर्म और आदमी के अंतःबाह्य व्यक्तित्व को एकदम हीन तथा बौना बनाकर रख देने वाला हुआ करता है। पराश्रित या परावलंबी को हमेशा आश्रय आधार देने वालों के (2) \_\_\_\_\_ बनकर रहना पड़ता है। उनके इशारों पर नाचने की बाध्यता और विवशता रहा करती है। उनकी अपनी (3) \_\_\_\_\_ पहले तो होती ही नहीं, होने या रहने पर भी उसका कोई मूल्य और महत्त्व नहीं रहा करता। वह चाहकर भी उसके अनुसार न तो कार्य ही कर सकता है और न उसे कभी पूर्ण होते हुए ही देख सकता है। इसी कारण पराधीनता को घोर पाप और (4) \_\_\_\_\_ माना गया है। इसके विपरीत स्वाधीनता को (5) \_\_\_\_\_ का द्वार, पुण्य-कार्यों का परिणाम और सब प्रकार से श्रेष्ठ स्वीकार किया गया है।

**SubQuestion No : 25**

**Q.25** गद्यांश के रिक्त स्थान (5) के लिए सर्वाधिक उपयुक्त शब्द होगा-

- Ans**
- 1. परलोक
  - 2. मृत्यु
  - 3. स्वर्ग
  - 4. नर्क

Question ID : 65497832021

Status : Answered

Chosen Option : 3