

Constable GD in CAPFs NIA SSF and Rifleman GD in Assam Rifles Examination 2021

Roll Number	www.GovtJobsAlert.In
Candidate Name	www.GovtJobsAlert.In
Venue Name	Madhu Vachaspati Inter College
Exam Date	15/12/2021
Exam Time :	4:00 PM - 5:30 PM
Subject	Constable GD 2021

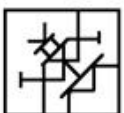
Section : Part A General Intelligence and Reasoning

Q.1 उस विकल्प का चयन करें जिसमें दी गई आकृति अंतर्निहित है (घुमाने की अनुमति नहीं है)।

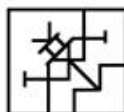


Ans

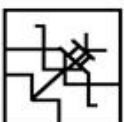
1.



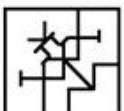
2.



3.



4.



Question ID : 65497834837

Status : Answered

Chosen Option : 2

Q.2 यदि दर्पण को निम्नांकित चित्र के अनुसार PQ पर रखा जाए, तो दिए गए संयोजन का दर्पण में निर्मित सही प्रतिबिंब चयनित कीजिए।



- Ans
- 1. NAHARIA
 - 2. ANAHARI
 - 3. AIRAHAN
 - 4. AIRAHAN

Question ID : 65497834828
Status : Answered
Chosen Option : 3

Q.3 दिए गए विकल्पों में से उस संख्या का चयन करें, जो निम्नलिखित श्रृंखला में प्रश्नवाचक चिह्न (?) के स्थान पर आ सकती है।

5, 7, 14, 16, 32, ?

- Ans
- 1. 64
 - 2. 36
 - 3. 48
 - 4. 34

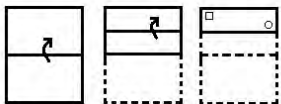
Question ID : 65497834831
Status : Answered
Chosen Option : 4

Q.4 A, B का पति है। C, B की सास है। D, A के पिता है। E, D की माँ है। C और G की माँ F है। यदि H, D के पिता है, तो E के साथ H का क्या संबंध है?

- Ans
- 1. पति
 - 2. भाई
 - 3. पिता
 - 4. ससुर

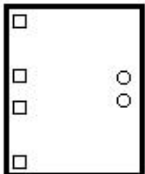
Question ID : 65497834840
Status : Answered
Chosen Option : 1

Q.5 दिए गए चित्र में कागज के एक टुकड़े को मोड़ने का क्रम और मुड़े हुए टुकड़े को काटने की विधि दर्शाई गई है। यह कागज खोलने पर कैसा दिखेगा?

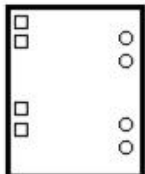


Ans


1.



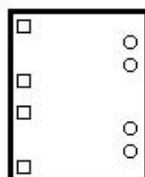
2.



3.



4.



Question ID : 65497834820

Status : Answered

Chosen Option : 4

Q.6 छह दोस्त, P, Q, R, S, T और U, एक वृत्ताकार मेज़ के परितः मेज़ के केंद्र की ओर मुँह करके बैठे हैं। P, S के दाईं ओर दूसरे स्थान पर है। Q, T के बाईं ओर बिल्कुल बगल में बैठा है। P, R और U के बीच बैठा है। S, R के बाईं ओर बिल्कुल बगल में बैठा है। P और S के बीच कौन बैठा है?

Ans

1. U

2. Q

3. T

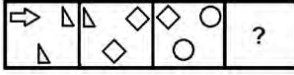
4. R

Question ID : 65497834823

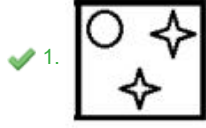
Status : Answered

Chosen Option : 4

Q.7 दिए गए विकल्पों में से उस आकृति का चयन करें, जो निम्नलिखित श्रृंखला में प्रश्नवाचक चिह्न (?) के स्थान पर आ सकती है।



Ans



Question ID : 65497834832
Status : Answered
Chosen Option : 1

Q.8 उस विकल्प का चयन करें जो तीसरे शब्द से उसी प्रकार संबंधित है जिस प्रकार दूसरा शब्द पहले शब्द से संबंधित है।

कुत्ता : भौकना :: पक्षी : ?

- Ans
- ✗ 1. टरना
 - ✓ 2. चहचहाना
 - ✗ 3. गुरना
 - ✗ 4. मिमियाना

Question ID : 65497834822
Status : Answered
Chosen Option : 2

Q.9 चार अक्षर-समूह दिए गए हैं, जिनमें से तीन एक निश्चित प्रकार से समान हैं, जबकि एक उनसे असंगत है। उस असंगत अक्षर-समूह का चयन कीजिए।

- Ans
- ✗ 1. EFIN
 - ✗ 2. OPSX
 - ✗ 3. ABEJ
 - ✓ 4. UCGK

Question ID : 65497834825
Status : Answered
Chosen Option : 4

Q.10 यदि 'ORCHID' को 'DAISY' कहा जाता है, 'DAISY' को 'LOTUS' कहा जाता है, 'LOTUS' को 'JASMINE' कहा जाता है, और 'JASMINE' को 'TULIP' कहा जाता है, तो भारत का राष्ट्रीय फूल कौन-सा होगा?

- Ans
- 1. DAISY
 - 2. LOTUS
 - 3. TULIP
 - 4. JASMINE

Question ID : 65497834839
Status : Answered
Chosen Option : 4

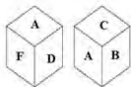
Q.11 वह विकल्प चुनें, जिसका तीसरे अक्षर-समूह से ठीक वैसा ही संबंध है, जैसा दूसरे अक्षर-समूह का पहले अक्षर-समूह से है।

IMR : VRM :: FJO : ?

- Ans
- 1. TPK
 - 2. SOJ
 - 3. TRL
 - 4. TPJ

Question ID : 65497834838
Status : Answered
Chosen Option : 2

Q.12 नीचे एक ही पासे की दो भिन्न स्थितियाँ दी गई हैं, जिनके छह पृष्ठों पर A से F तक अक्षर अंकित हैं। उस अक्षर का चयन करें जो अक्षर A वाले एक पृष्ठ के विपरीत पृष्ठ पर अंकित होगा?



- Ans
- 1. E
 - 2. F
 - 3. B
 - 4. C

Question ID : 65497834836
Status : Answered
Chosen Option : 1

Q.13 एक निश्चित कूट भाषा में, SHOT को 3881540 के रूप में कूटबद्ध किया जाता है। उसी कूट भाषा में, WINE को किस रूप में कूटबद्ध किया जाएगा?

- Ans
- 1. 3231592
 - 2. 4691410
 - 3. 4610412
 - 4. 4615137

Question ID : 65497834826
Status : Answered
Chosen Option : 2

Q.14 दिए गए विकल्पों में से उस संख्या का चयन कीजिए जो निम्न श्रेणी में प्रश्नवाचक चिह्न (?) के स्थान पर आएगी।

20, 21, 25, 34, ?, 75

Ans 1. 50

2. 51

3. 45

4. 55

Question ID : 65497834827

Status : Answered

Chosen Option : 1

Q.15 उस विकल्प का चयन करें, जिसमें संख्याएं एक-दूसरे से उसी तरह से संबंधित हैं जैसे दिए गए समुच्चय में संख्याएं एक-दूसरे से संबंधित हैं।

(15, 48, 98)

Ans 1. (24, 74, 150)

2. (18, 58, 101)

3. (21, 66, 134)

4. (17, 55, 105)

Question ID : 65497834818

Status : Answered

Chosen Option : 3

Q.16 किसी निश्चित कूट भाषा में, 'DECK' को 'EGFO' के रूप में लिखा जाता है। उसी भाषा में 'FINDER' को किस तरह लिखा जाएगा?

Ans 1. GHOGIX

2. GKQHJX

3. GKPFUGU

4. GJODFS

Question ID : 65497834816

Status : Answered

Chosen Option : 2

Q.17 उस विकल्प का चयन करें जो तीसरी संख्या से उसी प्रकार संबंधित है, जिस प्रकार दूसरी संख्या पहली संख्या से संबंधित है।

10 : 109 :: 12 : ?

Ans 1. 136

2. 132

3. 139

4. 129

Question ID : 65497834834

Status : Answered

Chosen Option : 4

Q.18 यदि '-' का अर्थ '+', '+' का अर्थ 'x', 'x' का अर्थ '-' और 'x' का अर्थ '+' है, तो $80 - 20 + 10 \div 8 \times 10$ का मान क्या होगा?

- Ans
- 1. 78
 - 2. 68
 - 3. 42
 - 4. 45

Question ID : 65497834835
Status : Answered
Chosen Option : 3

Q.19 दिए गए कथनों और निष्कर्षों को ध्यान से पढ़ें। यह मानते हुए कि कथनों में दी गई जानकारी सत्य है, भले ही यह सामान्य रूप से ज्ञात तथ्यों से भिन्न प्रतीत होती हो, यह निर्णय लें कि दिए गए निष्कर्षों में से कौन-सा/से निष्कर्ष तार्किक रूप से कथनों का अनुसरण करता है / करते हैं।

कथन:

1. सभी शहर, गांव हैं।
2. कोई भी देश, शहर नहीं है।

निष्कर्ष:

- I. कोई भी देश, गांव नहीं है।
- II. कोई भी गांव, शहर नहीं है।

- Ans
- 1. न तो निष्कर्ष I और न ही II अनुसरण करता है।
 - 2. दोनों निष्कर्ष अनुसरण करते हैं।
 - 3. केवल निष्कर्ष I अनुसरण करता है।
 - 4. केवल निष्कर्ष II अनुसरण करता है।

Question ID : 65497834817
Status : Answered
Chosen Option : 1

Q.20 दिए गए विकल्पों में से उस अक्षर-समूह का चयन करें जो निम्नलिखित श्रृंखला में प्रश्न चिह्न (?) के स्थान पर आ सकता है।

NIR, JGN, FEJ, ?

- Ans
- 1. BCF
 - 2. ADE
 - 3. DDF
 - 4. CDE

Question ID : 65497834821
Status : Answered
Chosen Option : 1

Q.21 निम्नलिखित विकल्पों में से उस विकल्प का चयन करें, जो दिए गए शब्दों के उस सही क्रम को दर्शाता है, जिस क्रम में ये शब्द अंग्रेजी शब्दकोश में दिखाई देते हैं।

1. Species
2. Specify
3. Special
4. Specific
5. Speaker

- Ans
- 1. 3, 1, 5, 4, 2
 - 2. 1, 5, 3, 4, 2
 - 3. 5, 3, 1, 4, 2
 - 4. 1, 5, 3, 2, 4

Question ID : 65497834829
Status : Answered
Chosen Option : 3

Q.22 अक्षरों के उस संयोजन का चयन करें, जिसे जब दी गई श्रृंखला के रिक्त स्थानों में क्रम से रखा जाए, तो श्रृंखला पूर्ण होगी।

E J _ F K _ _ _ Q H _ _ I _ S

- Ans
- 1. GOMRNLP
 - 2. PGRNMOL
 - 3. RLMOPGN
 - 4. OPGLMRN

Question ID : 65497834830
Status : Not Attempted and Marked For Review
Chosen Option : --

Q.23 अनुज का वेतन मनोज के वेतन से दोगुना है। रामनाथन का वेतन विक्रम के वेतन का आधा है। मनोज का वेतन रामनाथन के वेतन से ₹ 15,000 कम है। यदि अनुज का वेतन ₹20,000 है, तो सभी चार व्यक्तियों का कुल वेतन कितना है?

- Ans
- 1. ₹1,30,000
 - 2. ₹1,15,000
 - 3. ₹1,05,000
 - 4. ₹1,00,000

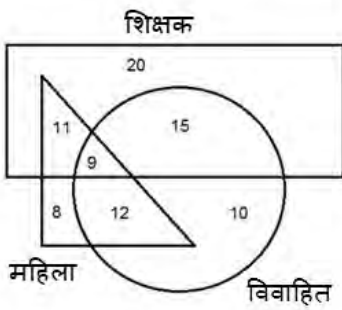
Question ID : 65497834819
Status : Answered
Chosen Option : 3

Q.24 एक परिवार के छह सदस्यों (A, B, C, D, E और F) ने एक पारिवारिक फोटो खिंचवाने का निर्णय लिया और इसके लिए एक बेड पर बैठ गए। B, D के दाएँ है। A, F और C के बीच में है। E एक छोर पर खड़ा है, और A के बाएँ दूसरे स्थान पर है। F, हमेशा D के बगल में खड़ा होना चाहता है। फोटो में बाएँ से तीसरा कौन है?

- Ans
- 1. C
 - 2. A
 - 3. F
 - 4. D

Question ID : 65497834833
Status : Answered
Chosen Option : 2

Q.25 दी गई आकृति का ध्यानपूर्वक अध्ययन करें और नीचे दिए गए प्रश्न का उत्तर दें।



उन महिला शिक्षिकाओं की संख्या कितनी है जो विवाहित नहीं हैं?

- Ans
- 1. 12
 - 2. 8
 - 3. 11
 - 4. 9

Question ID : 65497834824
Status : Answered
Chosen Option : 3

Section : Part B General Knowledge and General Awareness

Q.1 निम्नलिखित में से कौन अलाउद्दीन खिलजी के दरबारी कवि थे जिन्होंने प्रसिद्ध कविता 'हश्त-बहिश्त' लिखी थी?

- Ans
- 1. आगा हसन अमानत
 - 2. अमीर खुसरो
 - 3. हरिषेण
 - 4. चंदबरदाई

Question ID : 65497834843
Status : Answered
Chosen Option : 2

Q.2 विश्व बैंक के लॉजिस्टिक्स प्रदर्शन सूचकांक के अनुसार, 2018 में भारत को अन्य देशों के बीच किस स्थान पर रखा गया था जो 2014 में 54वें स्थान पर था?

- Ans
- 1. 42वें
 - 2. 52वें
 - 3. 40वें
 - 4. 44वें

Question ID : 65497834844
Status : Not Answered
Chosen Option : --

Q.3 महासागर का उथला हिस्सा जो 1° या उससे भी कम की औसत ढाल दर्शाता है, क्या कहलाता है?

- Ans
- 1. महासागरीय गर्त
 - 2. गहरा समुद्री मैदान
 - 3. महाद्वीपीय ढाल
 - 4. महाद्वीपीय ताक

Question ID : 65497834841
Status : Answered
Chosen Option : 1

Q.4 2019-20 में 'आई-लीग' ट्रॉफी किसको प्रदान की गई थी?

- Ans
- 1. ईस्ट बंगाल
 - 2. यूनाइटेड सिक्किम
 - 3. डेंपो गोआ
 - 4. मोहन बागान

Question ID : 65497834851
Status : Answered
Chosen Option : 4

Q.5 किसी देश के भीतर उत्पादित सभी अंतिम वस्तुओं और सेवाओं के मूल्य को क्या कहा जाता है?

- Ans
- 1. जी.एस.टी. (GST)
 - 2. वैट (VAT)
 - 3. जी.डी.पी. (GDP)
 - 4. आई.एम.आर. (IMR)

Question ID : 65497834861
Status : Answered
Chosen Option : 3

Q.6 _____ में अपना ट्विटर खाता खोलने के बाद, नवंबर 2020 तक भारतीय रिज़र्व बैंक के अपने आधिकारिक ट्विटर हैंडल पर 10 लाख (1 million) से अधिक फॉलोअर्स थे।

- Ans 1. जनवरी 2012
 2. अप्रैल 2014
 3. अक्टूबर 2018
 4. जुलाई 2016

Question ID : 65497834865
Status : Not Answered
Chosen Option : --

Q.7 अगस्त 2020 में, निम्नलिखित में से किस राज्य के दो तटीय गाँवों को आपदा का सामना करने के लिए, उनकी समग्र तैयारियों के लिए यूनेस्को (UNESCO) के अंतरसरकारी समुद्र विज्ञान आयोग द्वारा 'सुनामी के लिए तैयार' घोषित किया गया था?

- Ans 1. केरल
 2. गुजरात
 3. ओडिशा
 4. कर्नाटक

Question ID : 65497834846
Status : Not Attempted and Marked For Review
Chosen Option : --

Q.8 निम्नलिखित में से किस भारतीय खेल निशानेबाज ने 2019 में 10 मीटर एयर पिस्टल स्पर्धा में स्वर्ण पदक जीता था?

- Ans 1. हीना सिद्धू
 2. सौरभ चौधरी
 3. अंजलि भागवत
 4. अपूर्वी चंदेला

Question ID : 65497834855
Status : Answered
Chosen Option : 2

Q.9 भारत के संविधान का अनुच्छेद _____ यह बताता है कि राज्य भारत के पूरे क्षेत्र में नागरिकों के लिए समान नागरिक संहिता सुनिश्चित करने का प्रयास करेगा।

- Ans 1. 44
 2. 49
 3. 40
 4. 42

Question ID : 65497834864
Status : Answered
Chosen Option : 1

Q.10 राइबोफ्लेविन का दूसरा नाम क्या है?

- Ans
- 1. विटामिन C
 - 2. विटामिन A
 - 3. विटामिन D
 - 4. विटामिन B2

Question ID : 65497834852
Status : Answered
Chosen Option : 4

Q.11 2020 में 'मानवता के लिए गुलबेनकियन पुरस्कार' ('Gulbenkian Prize for Humanity') निम्नलिखित में से किसने प्राप्त किया?

- Ans
- 1. नरेंद्र मोदी
 - 2. इमरान खान
 - 3. ग्रेटा थनबर्ग
 - 4. एस. हुसैन जैदी

Question ID : 65497834850
Status : Answered
Chosen Option : 3

Q.12 अधिकांश भारतीय घरों में सुरक्षित पेयजल प्राप्त करने के लिए निम्नलिखित में से कौन सी विधि का उपयोग किया जाता है?

- Ans
- 1. संग्रहण
 - 2. पुनर्वर्तन
 - 3. हिमीकरण
 - 4. उबालना

Question ID : 65497834858
Status : Answered
Chosen Option : 4

Q.13 निम्नलिखित में से कौन राष्ट्रीय आपदा प्रबंधन प्राधिकरण का पदेन अध्यक्ष होता है?

- Ans
- 1. उप-राष्ट्रपति
 - 2. राष्ट्रपति
 - 3. गृहमंत्री
 - 4. प्रधानमंत्री

Question ID : 65497834845
Status : Answered
Chosen Option : 4

Q.14 निम्नलिखित में से कौन-सी नृत्य शैली शास्त्रीय नृत्य शैली नहीं है?

- Ans
- 1. कुचिपुड़ी
 - 2. मणिपुरी
 - 3. बुराकथा
 - 4. ओडिसी

Question ID : 65497834854
Status : Answered
Chosen Option : 3

Q.15 भारतीय आर्थिक सर्वेक्षण 2020 के अनुसार, पशुधन क्षेत्र के बारे में निम्नलिखित में से कौन-सा कथन सही नहीं है?

- Ans
- 1. इसने किसानों की आय को दोगुना करने के लक्ष्य को प्राप्त करने में महत्वपूर्ण भूमिका निभाई है।
 - 2. पशुधन आय लाखों ग्रामीण परिवारों के लिए आय का महत्वपूर्ण द्वितीयक स्रोत बन गई है।
 - 3. पशुधन में कृषि क्षेत्र को प्रतिस्थापित करने की क्षमता है।
 - 4. पिछले पांच वर्षों में, पशुधन क्षेत्र 7.9 प्रतिशत की चक्रवृद्धि वार्षिक विकास दर (CAGR) से आगे बढ़ रहा है।

Question ID : 65497834842
Status : Answered
Chosen Option : 3

Q.16 सिंधु नदी संधि (1960) के अनुसार भारत सिंधु नदी प्रणाली का कितना पानी इस्तेमाल कर सकता है?

- Ans
- 1. 20%
 - 2. 10%
 - 3. 25%
 - 4. 15%

Question ID : 65497834853
Status : Answered
Chosen Option : 1

Q.17 गांधीजी ने वर्ष _____ में अहमदाबाद में सूती मिल श्रमिकों को साथ लेकर एक सत्याग्रह का आयोजन किया था।

- Ans
- 1. 1915
 - 2. 1918
 - 3. 1929
 - 4. 1921

Question ID : 65497834862
Status : Answered
Chosen Option : 2

Q.18 भारत के प्रधान मंत्री नरेंद्र मोदी और भूटान के प्रधान मंत्री लोटे टीशेरिंग ने, भूटानी कार्ड धारकों को भारत में रूपे (RuPay) नेटवर्क का उपयोग करने की अनुमति देने के लिए वर्चुअल रूप से _____ को लॉन्च किया।

- Ans
- 1. वन नेशन वन कार्ड
 - 2. रूपे (RuPay) अंतर्राष्ट्रीय कार्ड
 - 3. रूपे (RuPay) कार्ड फेज़ I
 - 4. रूपे (RuPay) कार्ड फेज़ II

Question ID : 65497834856
Status : Answered
Chosen Option : 2

Q.19 वार्षिक सूरजकुंड शिल्प मेले की मेजबानी निम्नलिखित में से कौन सा राज्य करता है?

- Ans
- 1. हरियाणा
 - 2. हिमाचल प्रदेश
 - 3. उत्तराखंड
 - 4. उत्तर प्रदेश

Question ID : 65497834857
Status : Answered
Chosen Option : 1

Q.20 जब वातावरण में कार्बन डाइऑक्साइड में वृद्धि हो जाती है, तो इसके कारण _____ होती/होता है।

- Ans
- 1. वायु दाब
 - 2. वर्षा
 - 3. ग्लोबल वार्मिंग (भूमंडलीय तापन)
 - 4. संरक्षण

Question ID : 65497834859
Status : Answered
Chosen Option : 3

Q.21 ताजमहल आगरा शहर में _____ नदी के तट पर स्थित है।

- Ans
- 1. चंबल
 - 2. गंगा
 - 3. यमुना
 - 4. घाघरा

Question ID : 65497834848
Status : Answered
Chosen Option : 3

Q.22 भारत और पाकिस्तान के बीच निम्नलिखित में से किस समझौते को 'नेहरू-लियाकत समझौते' के रूप में जाना जाता है?

- Ans 1. अल्पसंख्यकों की सुरक्षा और अधिकारों को लेकर भारत और पाकिस्तान के बीच समझौता
 2. भारत और पाकिस्तान के बीच दोहरे कराधान से बचने के लिए समझौता
 3. रेल यातायात को फिर से शुरू करने के संबंध में भारत और पाकिस्तान के बीच समझौता
 4. भारत और पाकिस्तान के बीच हवाई सेवाओं से संबंधित समझौता

Question ID : 65497834863
Status : Answered
Chosen Option : 1

Q.23 'एन एरा ऑफ डार्कनेस: द ब्रिटिश एम्पायर इन इंडिया' नामक पुस्तक के/की लेखक/लेखिका कौन हैं?

- Ans 1. शशि थरूर
 2. चेतन भगत
 3. अरुण जेटली
 4. मीरा नायर

Question ID : 65497834860
Status : Answered
Chosen Option : 1

Q.24 टेबल टेनिस की उत्पत्ति कहाँ हुई थी?

- Ans 1. चीन
 2. इंग्लैंड
 3. जापान
 4. भारत

Question ID : 65497834847
Status : Answered
Chosen Option : 1

Q.25 निम्नलिखित में से किस महासागर में टोरेस जलडमरूमध्य स्थित है।

- Ans 1. अटलांटिक महासागर
 2. हिंद महासागर
 3. आर्कटिक महासागर
 4. प्रशांत महासागर

Question ID : 65497834849
Status : Answered
Chosen Option : 2

Section : Part C Elementary Mathematics

Q.1 एक वस्तु को 19% की छूट के बाद ₹1,215 में बेचा जाता है। यदि 17.5% की छूट दी गई है, तो वस्तु की बिक्री किस मूल्य (₹ में) पर होनी चाहिए?

- Ans**
- 1. 1,327.50
 - 2. 1,723.50
 - 3. 1,237.50
 - 4. 1,527.30

Question ID : 65497834869
Status : Answered
Chosen Option : 3

Q.2 तीन संख्याओं का योगफल 118 है। यदि पहली संख्या और दूसरी संख्या का अनुपात 3 : 4 है और दूसरी संख्या और तीसरी संख्या का अनुपात 5 : 6 है, तो तीसरी संख्या ज्ञात कीजिए।

- Ans**
- 1. 48
 - 2. 58
 - 3. 40
 - 4. 30

Question ID : 65497834885
Status : Answered
Chosen Option : 1

Q.3 दो उम्मीदवार एक चुनाव लड़ रहे हैं। सभी मत, वैध हैं। एक उम्मीदवार जिसे 38% मत प्राप्त हुए, 28,800 मतों से हार गया। डाले गए मतों की कुल संख्या ज्ञात कीजिए।

- Ans**
- 1. 1,50,000
 - 2. 1,32,500
 - 3. 1,15,000
 - 4. 1,20,000

Question ID : 65497834870
Status : Answered
Chosen Option : 4

Q.4 किसी राशि का 7.5% वार्षिक ब्याज की दर पर 8 वर्षों का साधारण ब्याज ₹4,080 है। उसी राशि का किस ब्याज दर पर 5 वर्षों में प्राप्त ब्याज समान होगा?

- Ans**
- 1. 12%
 - 2. 11%
 - 3. 10.5%
 - 4. 9%

Question ID : 65497834874
Status : Answered
Chosen Option : 3

Q.5 दो क्रमिक छूट मिल जाने से सीमा को ₹200 के अंकित मूल्य वाली एक कमीज ₹153 में मिल गई। यदि दूसरी छूट 15% थी, तो पहली छूट कितनी थी?

- Ans**
- 1. 15%
 - 2. 20%
 - 3. 10%
 - 4. 25%

Question ID : **65497834877**
Status : **Answered**
Chosen Option : **3**

Q.6 एक समूह में $66\frac{2}{3}$ % बच्चों की औसत आयु 13 वर्ष है। समूह में सभी बच्चों की औसत आयु 14.5 वर्ष है। शेष बच्चों की औसत आयु (वर्षों में) कितनी है?

- Ans**
- 1. 15
 - 2. 16.5
 - 3. 13.5
 - 4. 17.5

Question ID : **65497834868**
Status : **Answered**
Chosen Option : **4**

Q.7 एक ठोस घनाभाकार बॉक्स की लंबाई, चौड़ाई और ऊंचाई 7 : 5 : 3 के अनुपात में हैं और इसका संपूर्ण पृष्ठीय क्षेत्रफल 11502 cm^2 है। इसकी चौड़ाई ज्ञात कीजिए।

- Ans**
- 1. 81 cm
 - 2. 45 cm
 - 3. 27 cm
 - 4. 56 cm

Question ID : **65497834876**
Status : **Answered**
Chosen Option : **2**

Q.8 एक संख्या दूसरी संख्या की तीन गुनी है, और उनका महत्तम समापवर्तक (HCF) 8 है। इन संख्याओं के वर्गों का योग क्या होगा?

- Ans**
- 1. 1000
 - 2. 640
 - 3. 512
 - 4. 1024

Question ID : **65497834866**
Status : **Answered**
Chosen Option : **2**

Q.9 चार अंकों की सबसे बड़ी संख्या ज्ञात कीजिए जो 14, 30 और 42 से विभाज्य है।

- Ans
- 1. 9870
 - 2. 9780
 - 3. 9098
 - 4. 9880

Question ID : 65497834881
Status : Answered
Chosen Option : 1

Q.10 एक वस्तु को ₹984 में बेचने पर अरुण को 18% की हानि होती है। 15% लाभ पाने के लिए उसे इसे कितनी कीमत में बेचना चाहिए?

- Ans
- 1. ₹1,132
 - 2. ₹1,380
 - 3. ₹1,265
 - 4. ₹1,440

Question ID : 65497834889
Status : Answered
Chosen Option : 2

Q.11 तीन संख्याओं का अनुपात 3 : 5 : 4 है और उनके वर्गों का योग 11250 है। संख्याओं का योग ज्ञात कीजिए।

- Ans
- 1. 180
 - 2. 150
 - 3. 165
 - 4. 225

Question ID : 65497834883
Status : Answered
Chosen Option : 1

Q.12 A एक कार्य के 25% भाग को 4 दिनों में कर सकता है, B इसी कार्य के 50% भाग को 12 दिनों में कर सकता है और C इसी कार्य को 32 दिनों में कर सकता है। उन्होंने एक साथ मिलकर कार्य करना शुरू किया परंतु C ने कार्य शुरू करने के 4 दिन बाद काम छोड़ दिया और A ने कार्य पूरा होने से 6 दिन पहले कार्य छोड़ दिया। कार्य कितने दिनों में समाप्त हुआ?

- Ans
- 1. 14 दिन
 - 2. 10 दिन
 - 3. 8 दिन
 - 4. 12 दिन

Question ID : 65497834871
Status : Answered
Chosen Option : 4

Q.13 यदि दो गोलों के पृष्ठीय क्षेत्रफल का अनुपात 4 : 25 हैं, तो उनके आयतन का अनुपात ज्ञात कीजिए।

- Ans
- ✓ 1. 8 : 125
 - ✗ 2. 125 : 8
 - ✗ 3. 4 : 25
 - ✗ 4. 5 : 2

Question ID : 65497834887
Status : Answered
Chosen Option : 1

Q.14 वार्षिक ब्याज दर 10% से घटकर $8\frac{3}{4}\%$ हो जाने की वजह से, एक साहकार की उस वर्ष की आय में ₹84.50 की कमी होती है। उसकी पूंजी ज्ञात कीजिए।

- Ans
- ✗ 1. ₹6,940
 - ✓ 2. ₹6,760
 - ✗ 3. ₹7,660
 - ✗ 4. ₹7,460

Question ID : 65497834886
Status : Answered
Chosen Option : 2

Q.15 एक व्यक्ति ने ₹100 में 30 वस्तुएँ बेचीं और 20% का लाभ प्राप्त किया। उसके द्वारा ₹100 में खरीदी गई वस्तुओं की संख्या ज्ञात करें।

- Ans
- ✗ 1. 24
 - ✗ 2. 32
 - ✗ 3. 28
 - ✓ 4. 36

Question ID : 65497834878
Status : Answered
Chosen Option : 4

Q.16 जगत सिंह ने एक वस्तु को ₹6,000 में बेचा और उसे हानि हुई। यदि उसने इसे ₹7,400 में बेचा होता, तो उसे जिस राशि की हानि हुई थी उसकी $\frac{2}{3}$ धनराशि का लाभ मिला होता। उसे 25% का लाभ पाने के लिए वस्तु को किस मूल्य पर बेचना चाहिए?

- Ans
- ✗ 1. ₹8,500
 - ✓ 2. ₹8,550
 - ✗ 3. ₹7,500
 - ✗ 4. ₹7,550

Question ID : 65497834873
Status : Answered
Chosen Option : 2

Q.17 एक आदमी ने 47 km की दूरी 6 घंटे में तय की। उसने इस यात्रा के दौरान आंशिक दूरी $6\frac{1}{2}$ km/h की चाल से पैदल तय की और शेष दूरी $8\frac{1}{2}$ km/h की चाल से साईकल से तय की। उसके द्वारा साईकल से तय की गई दूरी (km में) ज्ञात कीजिए।

- Ans**
- 1. 13
 - 2. 17
 - 3. 30
 - 4. 34

Question ID : **65497834872**
 Status : **Answered**
 Chosen Option : **4**

Q.18 एक कक्षा में 26 छात्रों की औसत आयु 15 वर्ष है। यदि इसमें शिक्षक की आयु शामिल कर ली जाए तो औसत एक से बढ़ जाएगा। शिक्षक की आयु (वर्षों में) क्या है?

- Ans**
- 1. 40
 - 2. 33
 - 3. 42
 - 4. 38

Question ID : **65497834882**
 Status : **Answered**
 Chosen Option : **3**

Q.19 $2 \text{ of } 5 - \frac{1}{2} - \left[4 \div 2 - \frac{1}{3} - \left\{ \frac{3}{4} - \left(5 - \frac{1}{2} - \frac{3}{4} \right) \right\} \right]$ का मान कितना होगा?

- Ans**
- 1. $\frac{10}{3}$
 - 2. $\frac{7}{6}$
 - 3. $\frac{1}{6}$
 - 4. $\frac{13}{2}$

Question ID : **65497834879**
 Status : **Not Attempted and Marked For Review**
 Chosen Option : **--**

Q.20 $\{5 - 5 \div (10 - 12) \times 8 + 9\} \times 3 + 5 + 5 \times 5 \div 5$ of 5 का मान कितना होगा?

- Ans
- 1. 114
 - 2. 108
 - 3. 102
 - 4. 57

Question ID : 65497834888
Status : Answered
Chosen Option : 2

Q.21 कोई कार 35 km/h की एकसमान चाल से चल रही है। इसे 140 km की दूरी तय करने में कितना समय लगेगा?

- Ans
- 1. 300 मिनट
 - 2. 200 मिनट
 - 3. 250 मिनट
 - 4. 240 मिनट

Question ID : 65497834880
Status : Answered
Chosen Option : 4

Q.22 समानुपात $(5x + 1) : 3 = (x + 3) : 7$ में अज्ञात मान 'x' ज्ञात कीजिए।

- Ans
- 1. 1/14
 - 2. 1/8
 - 3. 1/17
 - 4. 1/16

Question ID : 65497834875
Status : Answered
Chosen Option : 4

Q.23 A एक कार्य का 40%, 6 दिन में और B उसी कार्य का $33\frac{1}{3}\%$, 8 दिन में पूरा कर सकता है। उन्होंने 8 दिन एकसाथ मिलकर कार्य किया। शेष कार्य को C ने अकेले 4 दिन में पूरा किया। A और C मिलकर उसी कार्य को कितने दिन में पूरा कर सकते हैं?

- Ans
- 1. 9 दिन
 - 2. 12 दिन
 - 3. $13\frac{1}{8}$ दिन
 - 4. 10 दिन

Question ID : 65497834890
Status : Answered
Chosen Option : 4

Q.24 एक धनराशि को 2 वर्ष के लिए एक निश्चित दर से साधारण ब्याज पर रखा गया था। यदि इसे 4% अधिक दर पर रखा जाता, तो इससे ₹480 अधिक प्राप्त होते। धनराशि ज्ञात कीजिए।

- Ans**
- 1. ₹6,500
 - 2. ₹6,000
 - 3. ₹5,000
 - 4. ₹5,900

Question ID : 65497834884
Status : Answered
Chosen Option : 2

Q.25 यदि 90 में से k% घटाने पर वही परिणाम मिलता है जो 60 में k% जोड़ने पर मिलता है, तो 120 का k%, [150 के (k+20)%] का कितना प्रतिशत है?

- Ans**
- 1. 76.42
 - 2. 40
 - 3. 60
 - 4. 45

Question ID : 65497834867
Status : Answered
Chosen Option : 2

Section : Part D English

Q.1 The following sentence has been divided into parts. One of them may contain an error. Select the part that contains the error from the given options. If you don't find any error, select 'No error' as your answer.

I wants / to borrow your bicycle / for a day.

- Ans**
- 1. for a day
 - 2. I wants
 - 3. No error
 - 4. to borrow your bicycle

Question ID : 65497834891
Status : Not Answered
Chosen Option : --

Q.2 Select the option that can be used as a one-word substitute for the given group of words.

A system of government in which most of the important decisions are taken by state officials rather than by elected representatives.

- Ans**
- 1. Aristocracy
 - 2. Democracy
 - 3. Monarchy
 - 4. Bureaucracy

Question ID : 65497834903
Status : Not Answered
Chosen Option : --

Q.3 Select the most appropriate option to fill in the blank.

_____ of money prevented me from purchasing the house.

- Ans 1. Limit
 2. Lack
 3. Short
 4. Less

Question ID : **65497834899**
Status : **Not Answered**
Chosen Option : --

Q.4 Select the INCORRECTLY spelt word.

- Ans 1. Discipline
 2. Guidance
 3. Guarantee
 4. Appreciate

Question ID : **65497834905**
Status : **Not Answered**
Chosen Option : --

Q.5 Select the most appropriate option that can substitute the underlined segment in the given sentence. If there is no need to substitute it, select 'No substitution required'.

It didn't dawn on me until much later that he doesn't like me.

- Ans 1. until much after
 2. until late
 3. No substitution required
 4. till late

Question ID : **65497834907**
Status : **Not Answered**
Chosen Option : --

Q.6 Select the most appropriate synonym of the given word.

Coarse

- Ans 1. Polite
 2. Kind
 3. Crude
 4. Happy

Question ID : **65497834892**
Status : **Not Answered**
Chosen Option : --

Q.7 Select the most appropriate **SYNONYM** of the given word.

Disrupt

- Ans** 1. Discuss
 2. Disagree
 3. Disturb
 4. Disgrace

Question ID : **65497834909**
Status : **Not Answered**
Chosen Option : --

Q.8 Parts of the given sentence have been given as options. One of them contains a grammatical error. Select the option that has the error.

India has produce many well-known scientists who have received accolades all over the world.

- Ans** 1. India has produce
 2. all over the world
 3. who have received
 4. well-known scientists

Question ID : **65497834900**
Status : **Not Answered**
Chosen Option : --

Q.9 Select the most appropriate option to fill in the blank.

It is believed that physical exercise is _____ for creating a balance between the body and the mind.

- Ans** 1. demanding
 2. essential
 3. forceful
 4. increased

Question ID : **65497834906**
Status : **Not Answered**
Chosen Option : --

Q.10 Select the option that can be used as a one-word substitute for the given group of words.

A building where monks live as a community

- Ans** 1. Villa
 2. Monastery
 3. Cottage
 4. Condo

Question ID : **65497834894**
Status : **Not Answered**
Chosen Option : --

Q.11 Select the most appropriate ANTONYM of the given word.

Gallant

- Ans 1. Courageous
 2. Heroic
 3. Valiant
 4. Cowardly

Question ID : 65497834902
Status : Not Answered
Chosen Option : --

Q.12 Select the most appropriate option that can substitute the underlined segment in the given sentence. If there is no need to substitute it, select 'No substitution required'.

There are still some sugar in the bowl.

- Ans 1. is still few sugar
 2. No substitution required
 3. are still little sugar
 4. is still some sugar

Question ID : 65497834897
Status : Not Answered
Chosen Option : --

Q.13 Select the most appropriate ANTONYM of the given word.

Hearty

- Ans 1. Cordial
 2. Robust
 3. Aloof
 4. Warm

Question ID : 65497834896
Status : Not Answered
Chosen Option : --

Q.14 Select the INCORRECTLY spelt word.

- Ans 1. Glade
 2. Gleam
 3. Glich
 4. Glove

Question ID : 65497834904
Status : Not Answered
Chosen Option : --

Q.15 Select the most appropriate option that can substitute the underlined segment in the given sentence. If there is no need to substitute it, select 'No substitution required'.

Fred and Andrew were training for the Asian games.

- Ans
- 1. is being training for
 - 2. is training for
 - 3. were being training for
 - 4. No substitution required

Question ID : 65497834901
Status : Not Answered
Chosen Option : --

Q.16 Select the most appropriate option to fill in the blank.

The novel presents a theme of betrayal in a _____ manner.

- Ans
- 1. skilful
 - 2. tableful
 - 3. fruitful
 - 4. harmful

Question ID : 65497834895
Status : Not Answered
Chosen Option : --

Q.17 Select the most appropriate meaning of the given idiom.

A cold fish

- Ans
- 1. An unemotional person
 - 2. A boring person
 - 3. A nervous person
 - 4. A sensitive person

Question ID : 65497834898
Status : Not Answered
Chosen Option : --

Q.18 Select the option that can be used as a one-word substitute for the given group of words.

A collection of sticks

- Ans
- 1. Bevy
 - 2. Bundle
 - 3. Brood
 - 4. Bale

Question ID : 65497834910
Status : Not Answered
Chosen Option : --

Q.19 The following sentence has been split into four segments. Identify the segment that contains a grammatical error.

Did you forgot / to post / the letter / that I gave you?

- Ans**
- 1. that I gave you
 - 2. the letter
 - 3. to post
 - 4. Did you forgot

Question ID : **65497834908**
Status : **Not Answered**
Chosen Option : --

Q.20 Select the most appropriate meaning of the given idiom.

Vanish into thin air

- Ans**
- 1. Disappear completely
 - 2. Postpone finally
 - 3. Dilute entirely
 - 4. Mix permanently

Question ID : **65497834893**
Status : **Not Answered**
Chosen Option : --

Comprehension:

In the following passage, some words have been deleted. Read the passage carefully and select the most appropriate option to fill in each blank.

Jog Falls is one of the highest waterfalls in India. It is made by Sharavati river (1)_____ through the Western Ghats. It is surrounded (2)_____ a beautiful tropical forest. During summer, there is not (3)_____ water in the river but during monsoons, (4)_____ river is swollen with water and the Falls create a (5)_____ spectacle.

SubQuestion No : 21

Q.21 Select the most appropriate option to fill in blank no.1.

- Ans**
- 1. flowing
 - 2. flow
 - 3. flows
 - 4. flowed

Question ID : **65497834912**
Status : **Not Answered**
Chosen Option : --

Comprehension:

In the following passage, some words have been deleted. Read the passage carefully and select the most appropriate option to fill in each blank.

Jog Falls is one of the highest waterfalls in India. It is made by Sharavati river (1)_____ through the Western Ghats. It is surrounded (2)_____ a beautiful tropical forest. During summer, there is not (3)_____ water in the river but during monsoons, (4)_____ river is swollen with water and the Falls create a (5)_____ spectacle.

SubQuestion No : 22

Q.22 Select the most appropriate option to fill in blank no.2.

- Ans** 1. by
 2. through
 3. with
 4. from

Question ID : **65497834913**
Status : **Not Answered**
Chosen Option : --

Comprehension:

In the following passage, some words have been deleted. Read the passage carefully and select the most appropriate option to fill in each blank.

Jog Falls is one of the highest waterfalls in India. It is made by Sharavati river (1)_____ through the Western Ghats. It is surrounded (2)_____ a beautiful tropical forest. During summer, there is not (3)_____ water in the river but during monsoons, (4)_____ river is swollen with water and the Falls create a (5)_____ spectacle.

SubQuestion No : 23

Q.23 Select the most appropriate option to fill in blank no.3.

- Ans** 1. most
 2. many
 3. much
 4. more

Question ID : **65497834914**
Status : **Not Answered**
Chosen Option : --

Comprehension:

In the following passage, some words have been deleted. Read the passage carefully and select the most appropriate option to fill in each blank.

Jog Falls is one of the highest waterfalls in India. It is made by Sharavati river (1)_____ through the Western Ghats. It is surrounded (2)_____ a beautiful tropical forest. During summer, there is not (3)_____ water in the river but during monsoons, (4)_____ river is swollen with water and the Falls create a (5)_____ spectacle.

SubQuestion No : 24

Q.24 Select the most appropriate option to fill in blank no.4.

- Ans** 1. an
 2. one
 3. a
 4. the

Question ID : **65497834915**
Status : **Not Answered**
Chosen Option : --

Comprehension:

In the following passage, some words have been deleted. Read the passage carefully and select the most appropriate option to fill in each blank.

Jog Falls is one of the highest waterfalls in India. It is made by Sharavati river (1)_____ through the Western Ghats. It is surrounded (2)_____ a beautiful tropical forest. During summer, there is not (3)_____ water in the river but during monsoons, (4)_____ river is swollen with water and the Falls create a (5)_____ spectacle.

SubQuestion No : 25

Q.25 Select the most appropriate option to fill in blank no.5.

- Ans** 1. amazing
 2. different
 3. fantastic
 4. peculiar

Question ID : **65497834916**
Status : **Not Answered**
Chosen Option : --

Section : **Part D Hindi**

Q.1 'ताप' का विलोम शब्द होगा-

- Ans** 1. उष्ण
 2. शीत
 3. संताप
 4. पाप

Question ID : **65497834934**
Status : **Answered**
Chosen Option : **2**

Q.2 सही वर्तनी वाले शब्द का चयन करें।

- Ans** 1. सौहार्द
 2. सौहार्द्र
 3. सेहार्द
 4. सोहाद्र

Question ID : **65497834931**
Status : **Answered**
Chosen Option : **4**

Q.3 दिए गए वाक्य में रेखांकित खंड को प्रतिस्थापित करने के लिए सबसे उपयुक्त विकल्प का चयन करें। यदि इसे प्रतिस्थापित करने की आवश्यकता नहीं है, तो विकल्प 'किसी बदलाव की आवश्यकता नहीं है' का चयन करें।

उसका दुर्भाग्य था और इसलिए वह परीक्षा में बैठ न सके।

- Ans
- 1. इसलिए वह परीक्षा में बैठे न सका।
 - 2. इसलिए वह परीक्षा में बैठ न सका।
 - 3. किसी बदलाव की आवश्यकता नहीं है।
 - 4. इसलिए वह परीक्षाओं में बैठ न सके।

Question ID : 65497834921

Status : Answered

Chosen Option : 2

Q.4 दिए गए वाक्य में रेखांकित खंड को प्रतिस्थापित करने के लिए सबसे उपयुक्त विकल्प का चयन करें। यदि इसे प्रतिस्थापित करने की आवश्यकता नहीं है, तो विकल्प 'किसी बदलाव की आवश्यकता नहीं है' का चयन करें।

संतुष्ट होने के कारण उसने कभी शिकायत नहीं की।

- Ans
- 1. उसने कभी शिकायत नहीं करा।
 - 2. किसी बदलाव की आवश्यकता नहीं है।
 - 3. उसने कभी शिकायत नहीं किये।
 - 4. उसने कभी शिकायतें नहीं किये।

Question ID : 65497834936

Status : Answered

Chosen Option : 2

Q.5 दिए गए वाक्य का वह भाग ज्ञात करें जिसमें कोई त्रुटि है। यदि कोई त्रुटि नहीं है, तो 'कोई त्रुटि नहीं है' चुनें।

पिताजी को (1) मुझे कुछ (2) रुपये दिये (3) कोई त्रुटि नहीं है (4)

- Ans
- 1. 3
 - 2. 2
 - 3. 4
 - 4. 1

Question ID : 65497834925

Status : Answered

Chosen Option : 4

Q.6 दिए गए वाक्य का वो भाग ज्ञात करें जिसमें कोई त्रुटि है। यदि कोई त्रुटि नहीं है, तो 'कोई त्रुटि नहीं है' चुनें।

बिल के भुगतान (1) न करने पर तुम्हें (2) माल वापस करना होगा। (3) कोई त्रुटि नहीं है (4)

- Ans
- 1. 3
 - 2. 2
 - 3. 4
 - 4. 1

Question ID : 65497834922

Status : Answered

Chosen Option : 4

Q.7 इस वाक्यांश के लिए एक सार्थक शब्द दीजिए।

किसी पर विजय पाने की इच्छा रखने वाला

- Ans
- 1. जिज्ञासा
 - 2. जिगीषु
 - 3. जिगीषा
 - 4. जिजीविषा

Question ID : 65497834917
Status : Answered
Chosen Option : 4

Q.8 रिक्त स्थान को भरने के लिए सबसे उपयुक्त शब्द का चयन कीजिए।

नई वस्तु की खोज को _____ कहते हैं।

- Ans
- 1. आविष्कार
 - 2. गवेषणा
 - 3. संशोधन
 - 4. खोज

Question ID : 65497834918
Status : Answered
Chosen Option : 1

Q.9 दिए गए शब्द का विलोम चुनें।

मौन

- Ans
- 1. चुप
 - 2. मौलिक
 - 3. वाचाल
 - 4. शांत

Question ID : 65497834927
Status : Answered
Chosen Option : 3

Q.10 'पर्वत के ऊपर की समतल भूमि' वाक्यांश के लिए एक शब्द होगा-

- Ans
- 1. गिरि
 - 2. उपत्यका
 - 3. अधित्यका
 - 4. पठार

Question ID : 65497834935
Status : Answered
Chosen Option : 4

Q.11 दिए गए वाक्य में रेखांकित खंड को प्रतिस्थापित करने के लिए सबसे उपयुक्त विकल्प का चयन करें।
यदि इसे प्रतिस्थापित करने की आवश्यकता नहीं है, तो विकल्प 'किसी बदलाव की आवश्यकता नहीं है'
का चयन करें।

रावण वध के दिन अनेक लोग ने रामलीला देखी।

- Ans
- 1. अनेक लोग ने रामलीला देखा।
 - 2. अनेक लोगों ने रामलीला देखें।
 - 3. अनेक लोगों ने रामलीला देखी।
 - 4. किसी बदलाव की आवश्यकता नहीं है।

Question ID : 65497834920
Status : Answered
Chosen Option : 3

Q.12 रिक्त स्थान को भरने के लिए सबसे उपयुक्त शब्द का चयन करें।

मैंने अपने भाई को _____ भेजा कि रविवार को हमसे मिलने आना।

- Ans
- 1. सूचना
 - 2. समाचार
 - 3. संवाद
 - 4. संदेश

Question ID : 65497834932
Status : Answered
Chosen Option : 4

Q.13 दिये गये वाक्य के किस भाग में त्रुटि है?

अभी ही वह यहाँ से बाहर गया है।

- Ans
- 1. से बाहर
 - 2. गया है।
 - 3. अभी ही
 - 4. वह यहाँ

Question ID : 65497834933
Status : Answered
Chosen Option : 3

Q.14 दिए गए शब्द के समानार्थी शब्द का चयन करें।

कमल

- Ans
- 1. अम्बुज
 - 2. कल्पतरु
 - 3. कुसुमाकर
 - 4. सैन्धव

Question ID : 65497834926
Status : Answered
Chosen Option : 1

Q.15 नीचे दिए वाक्यांश के लिए एक शब्द दिए गए विकल्पों में से चुनिए।

जिसका अपकार किया गया हो।

- Ans
- 1. उपकार
 - 2. अपकृत
 - 3. अपकार
 - 4. उपकृत

Question ID : 65497834929
Status : Answered
Chosen Option : 2

Q.16 सही वर्तनी वाले शब्द का चयन करें।

- Ans
- 1. पुज्यनिय
 - 2. पूजनीय
 - 3. पूजनीय
 - 4. पुजनीय

Question ID : 65497834930
Status : Answered
Chosen Option : 2

Q.17 दिए गए शब्द के समानार्थी शब्द का चयन करें।

पुष्प

- Ans
- 1. पल्लव
 - 2. प्रसून
 - 3. परिमल
 - 4. जलजात

Question ID : 65497834923
Status : Answered
Chosen Option : 2

Q.18 रिक्त स्थान को भरने के लिए सबसे उपयुक्त शब्द का चयन करें।

मेरे पिताजी ने यह _____ लिखी है।

- Ans
- 1. कहानी
 - 2. उपन्यास
 - 3. नाटक
 - 4. संस्करण

Question ID : 65497834919
Status : Answered
Chosen Option : 4

Q.19 दिए गए चार विकल्पों में से, उस विकल्प का चयन करें जो नीचे दिए मुहावरे का अर्थ व्यक्त करता है।

आँखों में धूल झोंकना

- Ans
- 1. आँख फोड़ना
 - 2. ढाढ़स बंधाना
 - 3. आदर देना
 - 4. धोखा देना

Question ID : 65497834928

Status : Answered

Chosen Option : 4

Q.20 निम्नलिखित प्रश्न में, दिए गए चार विकल्पों में से, उस विकल्प का चयन करें जो मुहावरे का अर्थ व्यक्त करता है।

देवता कूच कर जाना

- Ans
- 1. होश में न रहना
 - 2. दुर्गति होना
 - 3. दूर चले जाना
 - 4. घबरा जाना

Question ID : 65497834924

Status : Answered

Chosen Option : 3

Comprehension:

श्रद्धा का मूल तत्व है- दूसरे का महत्व स्वीकार। अतः जिसकी (1) _____ दृष्टि अपने से आगे नहीं जा सकती अथवा (2) _____ के कारण जिन्हें अपनी ही बड़ाई के अनुभव की लत लग गई है उनकी इतनी समाई नहीं कि वे श्रद्धा ऐसे पवित्र भाव को (3) _____ करें। स्वार्थियों और अभिमानियों के (4) _____ में श्रद्धा नहीं टिक सकती। उनका अंतःकरण संकुचित और (5) _____ होता है कि वह दूसरों के कृति का यथार्थ मूल्य नहीं परख सकते।

निम्न प्रश्नों के उत्तर उपरोक्त गद्यांश के आधार पर दीजिए।

SubQuestion No : 21

Q.21 गद्यांश के रिक्त स्थान (1) के लिए सर्वाधिक उपयुक्त शब्द होगा-

- Ans
- 1. स्वार्थबद्ध
 - 2. परमार्थबद्ध
 - 3. विस्तृत
 - 4. मुक्त

Question ID : 65497834938

Status : Answered

Chosen Option : 1

Comprehension:

श्रद्धा का मूल तत्व है- दूसरे का महत्व स्वीकार। अतः जिसकी (1) _____ दृष्टि अपने से आगे नहीं जा सकती अथवा (2) _____ के कारण जिन्हें अपनी ही बड़ाई के अनुभव की लत लग गई है उनकी इतनी समाई नहीं कि वे श्रद्धा ऐसे पवित्र भाव को (3) _____ करें। स्वार्थियों और अभिमानियों के (4) _____ में श्रद्धा नहीं टिक सकती। उनका अंतःकरण संकुचित और (5) _____ होता है कि वह दूसरों के कृति का यथार्थ मूल्य नहीं परख सकते।

निम्न प्रश्नों के उत्तर उपरोक्त गद्यांश के आधार पर दीजिए।

SubQuestion No : 22

Q.22 गद्यांश के रिक्त स्थान (2) के लिए सर्वाधिक उपयुक्त शब्द होगा-

- Ans**
- 1. अपमान
 - 2. सम्मान
 - 3. बलिदान
 - 4. अभिमान

Question ID : **65497834939**
Status : **Answered**
Chosen Option : **4**

Comprehension:

श्रद्धा का मूल तत्व है- दूसरे का महत्व स्वीकार। अतः जिसकी (1) _____ दृष्टि अपने से आगे नहीं जा सकती अथवा (2) _____ के कारण जिन्हें अपनी ही बड़ाई के अनुभव की लत लग गई है उनकी इतनी समाई नहीं कि वे श्रद्धा ऐसे पवित्र भाव को (3) _____ करें। स्वार्थियों और अभिमानियों के (4) _____ में श्रद्धा नहीं टिक सकती। उनका अंतःकरण संकुचित और (5) _____ होता है कि वह दूसरों के कृति का यथार्थ मूल्य नहीं परख सकते।

निम्न प्रश्नों के उत्तर उपरोक्त गद्यांश के आधार पर दीजिए।

SubQuestion No : 23

Q.23 गद्यांश के रिक्त स्थान (3) के लिए सर्वाधिक उपयुक्त शब्द होगा-

- Ans**
- 1. धारण
 - 2. चारण
 - 3. अनुकरण
 - 4. अनुसरण

Question ID : **65497834940**
Status : **Answered**
Chosen Option : **1**

Comprehension:

श्रद्धा का मूल तत्व है- दूसरे का महत्व स्वीकार। अतः जिसकी (1) _____ दृष्टि अपने से आगे नहीं जा सकती अथवा (2) _____ के कारण जिन्हें अपनी ही बड़ाई के अनुभव की लत लग गई है उनकी इतनी समाई नहीं कि वे श्रद्धा ऐसे पवित्र भाव को (3) _____ करें। स्वार्थियों और अभिमानियों के (4) _____ में श्रद्धा नहीं टिक सकती। उनका अंतःकरण संकुचित और (5) _____ होता है कि वह दूसरों के कृति का यथार्थ मूल्य नहीं परख सकते।

निम्न प्रश्नों के उत्तर उपरोक्त गद्यांश के आधार पर दीजिए।

SubQuestion No : 24

Q.24 गद्यांश के रिक्त स्थान (4) के लिए सर्वाधिक उपयुक्त शब्द होगा-

- Ans 1. शरीर
 2. मस्तिष्क
 3. हृदय
 4. बुद्धि

Question ID : 65497834941
Status : Answered
Chosen Option : 3

Comprehension:

श्रद्धा का मूल तत्व है- दूसरे का महत्व स्वीकार। अतः जिसकी (1) _____ दृष्टि अपने से आगे नहीं जा सकती अथवा (2) _____ के कारण जिन्हें अपनी ही बड़ाई के अनुभव की लत लग गई है उनकी इतनी समाई नहीं कि वे श्रद्धा ऐसे पवित्र भाव को (3) _____ करें। स्वार्थियों और अभिमानियों के (4) _____ में श्रद्धा नहीं टिक सकती। उनका अंतःकरण संकुचित और (5) _____ होता है कि वह दूसरों के कृति का यथार्थ मूल्य नहीं परख सकते।

निम्न प्रश्नों के उत्तर उपरोक्त गद्यांश के आधार पर दीजिए।

SubQuestion No : 25

Q.25 गद्यांश के रिक्त स्थान (5) के लिए सर्वाधिक उपयुक्त शब्द होगा-

- Ans 1. पवित्र
 2. धवल
 3. मलिन
 4. विस्तृत

Question ID : 65497834942
Status : Answered
Chosen Option : 3