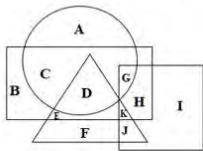


Constable GD in CAPFs NIA SSF and Rifleman GD in Assam Rifles Examination 2021

Roll Number	www.GovtJobsAlert.In
Candidate Name	www.GovtJobsAlert.In
Venue Name	Alankar Mahila P.G. Mahavidyalaya
Exam Date	16/11/2021
Exam Time :	9:00 AM - 10:30 AM
Subject	Constable GD 2021

Section : Part A General Intelligence and Reasoning

Q.1 निम्नलिखित वेन आरेख में, वृत्त, 'सब्जियों' को निरूपित करता है, त्रिभुज, 'जड़ों' को निरूपित करता है, वर्ग 'कठोर मृदा' को निरूपित करता है, और आयत 'गर्मियों' को निरूपित करता है। निम्नलिखित में से कौन-सा अक्षर उन जड़ वाली सब्जियों को निरूपित करता है जो गर्मी में उगती हैं, लेकिन कठोर मृदा में नहीं उगती हैं?



- Ans
- 1. G
 - 2. K
 - 3. E
 - 4. D

Question ID : 65497828356
Status : Answered
Chosen Option : 4

Q.2 उस विकल्प का चयन करें, जो तीसरे पद से वही संबंध है, जो दूसरे पद का पहले पद से है।

BLOCK : LBPKC :: MARGIN : ?

- Ans
- 1. OBHQHL
 - 2. OHQHBL
 - 3. OHBHQL
 - 4. OHHQBL

Question ID : 65497828361
Status : Answered
Chosen Option : 4

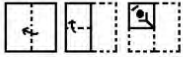
Q.3 दिए गए पैटर्न का ध्यानपूर्वक अध्ययन करें और उस संख्या का चयन करें, जो इसमें प्रश्रवाचक चिह्न (?) के स्थान पर आ सकती है।

13 26 39
30 42 ?
17 16 15

- Ans 1. 40
 2. 54
 3. 45
 4. 60

Question ID : 65497828341
Status : Answered
Chosen Option : 2

Q.4 दिए गए चित्र में कागज के एक टुकड़े को मोड़ने का क्रम और मुड़े हुए टुकड़े को काटने की विधि दर्शाई गई है। यह कागज खोलने पर कैसा दिखेगा?

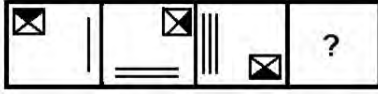


Ans

- 1.
- 2.
- 3.
- 4.

Question ID : 65497828343
Status : Answered
Chosen Option : 3

Q.5 दिए गए विकल्पों में से उस आकृति का चयन कीजिए जो निम्नांकित आकृति श्रृंखला में प्रश्नवाचक चिह्न (?) के स्थान पर आ सकती है।



Ans

1.




2.



3.



4.



Question ID : 65497828352

Status : Answered

Chosen Option : 4

Q.6 पांच मित्र, P, Q, R, S और T, दक्षिण दिशा की ओर मुख करके एक पंक्ति में बैठे हैं। Q, मध्य स्थान पर बैठा है। P पश्चिमी सिरे पर बैठा है। T और R, Q के एक ही ओर बैठे हैं। P और R के बीच दो व्यक्ति बैठे हैं। Q और P के बीच में कौन बैठा है?

Ans

1. Q

2. T

3. S

4. R

Question ID : 65497828355

Status : Answered

Chosen Option : 3

Q.7 एक काल्पनिक गणितीय प्रणाली में, चिह्न '-' का अर्थ जोड़ है, चिह्न '+' का अर्थ भाग है, चिह्न 'x' का अर्थ घटाना है, और चिह्न '÷' का अर्थ गुणा है। गणित के अन्य सभी नियम मौजूदा प्रणाली के समान हैं। निम्नलिखित व्यंजक का मान ज्ञात कीजिए।

$$240 \times 72 + 8 \div 24 - 6$$

Ans 1. 19

2. 26

3. 36

4. 30

Question ID : 65497828346

Status : Answered

Chosen Option : 4

Q.8 दिए गए कथनों और निष्कर्षों को ध्यानपूर्वक पढ़ें। कथनों में दी गई जानकारी को सत्य मानते हुए विचार करें, भले ही वह सामान्य रूप से ज्ञात तथ्यों से भिन्न प्रतीत होती हो, और बताएं कि दिए गए निष्कर्षों में से कौन से, तार्किक रूप से कथनों का पालन करते हैं?

कथन:

सभी नीले सफेद हैं।

कुछ सफेद स्लेटी हैं।

निष्कर्ष:

I. सभी स्लेटी सफेद हैं।

II. सभी स्लेटी नीले हैं।

Ans 1. केवल निष्कर्ष I पालन करता है।

2. न तो निष्कर्ष I और न ही निष्कर्ष II पालन करता है।

3. दोनों ही निष्कर्ष पालन करते हैं।

4. केवल निष्कर्ष II पालन करता है।

Question ID : 65497828340

Status : Answered

Chosen Option : 2

Q.9 उस विकल्प का चयन करें, जिसका तीसरे शब्द से वही संबंध है, जो दूसरे शब्द का पहले शब्द से है।

भुवनेश्वर : ओडिशा :: आइज़ोल : ?

Ans 1. मिज़ोरम

2. मेघालय

3. मणिपुर

4. त्रिपुरा

Question ID : 65497828354

Status : Answered

Chosen Option : 1

Q.10 किसी निश्चित कूट भाषा में, 'ARROW' को 'FOOSE' लिखा जाता है और 'GERM' को 'THOR' लिखा जाता है। उसी भाषा में 'MOWER' को किस प्रकार लिखा जाएगा?

- Ans
- 1. SHORE
 - 2. ROSHE
 - 3. HORSE
 - 4. RSEHO

Question ID : 65497828339
Status : Answered
Chosen Option : 4

Q.11 उस विकल्प का चयन करें जिसका तीसरी संख्या से वही संबंध है, जो दूसरी संख्या का पहली संख्या से है।

31 : 90 :: 43 : ?

- Ans
- 1. 125
 - 2. 102
 - 3. 130
 - 4. 75

Question ID : 65497828345
Status : Answered
Chosen Option : 1

Q.12 अक्षरों के उस संयोजन का चयन करें, जिसे दी गई श्रेणी के रिक्त स्थानों पर क्रमिक रूप से रखने पर श्रेणी पूर्ण हो जाएगी।

C 2 _ X 2 C C _ X X 2 _ C 2 _ X _ C

- Ans
- 1. C2X2X
 - 2. XCX2C
 - 3. AXX2C
 - 4. X2CX2

Question ID : 65497828350
Status : Answered
Chosen Option : 4

Q.13 जब किसी संख्या को उसके 5 के गुणज और उसके वर्ग में जोड़ा जाता है, तो इन तीनों संख्याओं का योग 91 प्राप्त होता है। संख्या ज्ञात कीजिए।

- Ans
- 1. 6
 - 2. 9
 - 3. 11
 - 4. 7

Question ID : 65497828342
Status : Answered
Chosen Option : 4

Q.14 निम्नलिखित चार अक्षर-समूहों में से तीन किसी तरह से संगत हैं और एक असंगत है। उस अक्षर-समूह का चयन करें, जो असंगत है।

- Ans
- 1. QRS
 - 2. NMP
 - 3. HIJ
 - 4. DEF

Question ID : 65497828357
Status : Answered
Chosen Option : 2

Q.15 एक विशिष्ट कूट भाषा में, 'India is my country' का अर्थ '8573' है, 'Sam is my friend' का अर्थ '8634' है, 'My country' का अर्थ '73' और 'Team India' का अर्थ '59' है। उस कूट भाषा में 'Country' के लिए प्रयुक्त कूट क्या है?

- Ans
- 1. 3
 - 2. 7
 - 3. 8
 - 4. 5

Question ID : 65497828358
Status : Answered
Chosen Option : 2

Q.16 उस विकल्प का चयन करें जिसमें दी गई आकृति अंतर्निहित है (घुमाने की अनुमति नहीं है)।



Ans

- 1.
- 2.
- 3.
- 4.

Question ID : 65497828348
Status : Answered
Chosen Option : 2

Q.17 दिए गए विकल्पों में से उस अक्षर-समूह का चयन कीजिए, जो दी गई श्रृंखला में प्रश्नवाचक चिह्न (?) के स्थान पर आ सकता है।

SKH, PMG, MOF, JQE, ?

- Ans
- 1. HSD
 - 2. SDF
 - 3. GSD
 - 4. GTD

Question ID : 65497828353
Status : Answered
Chosen Option : 3

Q.18 उस सही विकल्प का चयन करें, जो दिए गए शब्दों के उस क्रम को दर्शाता है, जिस क्रम में वे अंग्रेजी शब्दकोश में मौजूद होते हैं।

1. Prestige
2. Pristine
3. Prescribe
4. Prepaid
5. Premium

- Ans
- 1. 5, 4, 3, 1, 2
 - 2. 5, 3, 4, 1, 2
 - 3. 4, 5, 3, 2, 1
 - 4. 4, 5, 3, 1, 2

Question ID : 65497828349
Status : Answered
Chosen Option : 1

Q.19 किसी कूट भाषा में, 'CIRCLE' को 'DLWAHY' लिखा जाता है। उसी कूट भाषा में 'SQUARE' को किस प्रकार लिखा जाएगा?

- Ans
- 1. TNZYVY
 - 2. TNPYVY
 - 3. TTPNKY
 - 4. TTZYNY

Question ID : 65497828362
Status : Answered
Chosen Option : 4

Q.20 दिए गए विकल्पों में से उस संख्या का चयन कीजिए, जो निम्नलिखित श्रेणी में प्रश्नवाचक चिह्न (?) के स्थान पर आएगी।

19, 23, 32, 48, 73, ?

- Ans
- 1. 111
 - 2. 109
 - 3. 108
 - 4. 103

Question ID : 65497828351
Status : Answered
Chosen Option : 2

Q.21 दिए गए विकल्पों में से उस संख्या का चयन करें, जो निम्नलिखित श्रृंखला में प्रश्नवाचक चिह्न (?) के स्थान पर आ सकती है।

24, 40, 64, 104, ?, 312

Ans 1. 168

2. 176

3. 228

4. 154

Question ID : 65497828359

Status : Marked For Review

Chosen Option : 1

Q.22 X, S, Y, &, Z और @ अक्षरों/प्रतीकों द्वारा चिह्नित एक ही पासे की दो विभिन्न स्थितियाँ दर्शाई गई हैं। उस अक्षर/प्रतीक का चयन करें जो S प्रतीक दर्शाने वाले फलक के विपरीत फलक पर होगा।



Ans 1. Z

2. X

3. @

4. &

Question ID : 65497828347

Status : Answered

Chosen Option : 4

Q.23 'R+S' का अर्थ है - 'R, S की पुत्री है'। 'R-S' का अर्थ है - 'R, S का पति है'। 'R x S' का अर्थ है - 'R, S का भाई है'। यदि 'T x V + Z' है, तो निम्नलिखित में से कौन-सा विकल्प सत्य है?

Ans 1. T, Z का पिता है।

2. T, Z का पुत्र है।

3. T, Z का चाचा/ताऊ/मामा/मौसा/फूफा है।

4. T, Z का भाई है।

Question ID : 65497828363

Status : Answered

Chosen Option : 2

Q.24 दिए गए संयोजन के सही दर्पण प्रतिबिंब का चयन करें जब दर्पण को निम्नांकित चित्रानुसार 'PQ' पर रखा गया है।

M8AGI2CAL
P
Q

- Ans
- 1. M8VIG5CVT
 - 2. JAQ5GIA8M
 - 3. M8VGI5CVT
 - 4. JAQ5GIA8M

Question ID : 65497828360
Status : Answered
Chosen Option : 4

Q.25 आठ मित्र, A, B, C, D, E, F, G और H, सभी एक सीधी रेखा में उत्तर की ओर मुख करके बैठे हैं। F, D और G के बीच बैठा है। B, H और A के बीच बैठा है। E, G के बाईं ओर तीसरे स्थान पर है। G एक सिरे पर बैठा है। H, C के बाईं ओर तीसरे स्थान पर है। A और E के बीच कौन बैठा है?

- Ans
- 1. D
 - 2. B
 - 3. C
 - 4. H

Question ID : 65497828344
Status : Answered
Chosen Option : 3

Section : Part B General Knowledge and General Awareness

Q.1 केंद्रीय शिक्षा मंत्री ने 5 सितंबर 2020 को _____ नामक एक निःशुल्क मोबाइल ऐप लॉन्च किया।

- Ans
- 1. Duolingo (ड्युओलिंगो)
 - 2. EnglishPro (इंग्लिश प्रो)
 - 3. Hello Talk (हेलो टॉक)
 - 4. Beelinguapp (बिलिंगुऐप)

Question ID : 65497828387
Status : Not Answered
Chosen Option : --

Q.2 α कण _____ के द्विआवेशित (Doubly Charged) आयन होते हैं।

- Ans
- 1. बेरीलियम
 - 2. हाइड्रोजन
 - 3. हीलियम
 - 4. लीथियम

Question ID : 65497828369
Status : Answered
Chosen Option : 2

Q.3 2011-2012 में की गई गणनाओं के अनुसार, ग्रामीण भारत के व्यक्तियों के लिए गरीबी रेखा _____ प्रति माह तय की गई थी।

- Ans 1. ₹816
 2. ₹752
 3. ₹687
 4. ₹1,000

Question ID : 65497828372
Status : Answered
Chosen Option : 2

Q.4 भारतीय संविधान का कौन सा अनुच्छेद सहकारी समितियों (co-operative societies) के संवर्धन से संबंधित है?

- Ans 1. 31B
 2. 43B
 3. 43A
 4. 31A

Question ID : 65497828376
Status : Answered
Chosen Option : 2

Q.5 नवंबर 2020 में दिवंगत, फकीर चंद कोहली को ' _____ ' के रूप में जाना जाता था।

- Ans 1. भारतीय सॉफ्टवेयर (IT) उद्योग के जनक
 2. भारतीय सिविल सेवा के जनक
 3. भारतीय अंतरिक्ष कार्यक्रम के जनक
 4. भारतीय प्रागैतिहासिक काल के जनक

Question ID : 65497828380
Status : Not Answered
Chosen Option : --

Q.6 राजा टोडर मल, निम्नलिखित में से किस मुगल सम्राट के शासनकाल के दौरान राजस्व मंत्री थे?

- Ans 1. हुमायूं
 2. शाहजहाँ
 3. जहांगीर
 4. अकबर

Question ID : 65497828384
Status : Answered
Chosen Option : 4

Q.7 मराठों, और अफगानिस्तान के शासक अहमद शाह दुर्रानी के बीच पानीपत की तीसरी लड़ाई किस वर्ष हुई थी?

- Ans
- 1. 1851
 - 2. 1781
 - 3. 1761
 - 4. 1831

Question ID : 65497828374
Status : Answered
Chosen Option : 3

Q.8 निम्नलिखित में से कौन सा वह साधारण उपकरण है जिसका उपयोग विद्युत परिपथ को वियोजित करने, या इसे पूर्ण करने के लिए किया जाता है?

- Ans
- 1. स्विच
 - 2. ट्रांजिस्टर
 - 3. संधारित्र
 - 4. प्रतिरोध

Question ID : 65497828373
Status : Answered
Chosen Option : 1

Q.9 निम्नलिखित में से किन देशों ने मालाबार नौसेना अभ्यास 2020 में भाग लिया?

- Ans
- 1. भारत, ऑस्ट्रेलिया, जापान और अमेरिका
 - 2. भारत, इजराइल और अमेरिका
 - 3. भारत, जापान और अमेरिका
 - 4. भारत, ऑस्ट्रेलिया, इजराइल और अमेरिका

Question ID : 65497828375
Status : Answered
Chosen Option : 1

Q.10 पानी के एक अणु में, हाइड्रोजन और ऑक्सीजन के द्रव्यमानों का अनुपात कितना होता है?

- Ans
- 1. 1 : 4
 - 2. 1 : 8
 - 3. 1 : 16
 - 4. 1 : 2

Question ID : 65497828370
Status : Answered
Chosen Option : 2

Q.11 _____ को विटीकल्चर (viticulture) के रूप में जाना जाता है।

- Ans
- 1. सब्जियां, फूल और फल उगाने
 - 2. मछली प्रजनन
 - 3. रेशमकीट का पालन करने
 - 4. अंगूर की खेती

Question ID : 65497828382
Status : Answered
Chosen Option : 4

Q.12 निम्नलिखित में से कौन तीरंदाजी में भारत का प्रतिनिधित्व करता है?

- Ans
- 1. सौम्यजीत घोष
 - 2. मनिका बत्रा
 - 3. नीरज चोपड़ा
 - 4. दीपिका कुमारी

Question ID : 65497828367
Status : Answered
Chosen Option : 4

Q.13 'संवाद कौमुदी' नामक अखबार की स्थापना निम्नलिखित में से किसने की?

- Ans
- 1. ईश्वर चंद्र विद्यासागर
 - 2. रास बिहारी बोस
 - 3. राजा राम मोहन राय
 - 4. शिशिर कुमार घोष

Question ID : 65497828366
Status : Answered
Chosen Option : 1

Q.14 नवंबर 2020 में, भारतीय क्रिकेट कंट्रोल बोर्ड (BCCI) ने _____ को 2023 तक के लिए भारतीय टीम का किट प्रायोजक घोषित किया है।

- Ans
- 1. ओप्पो (Oppo)
 - 2. एम.पी.एल. स्पोर्ट्स (MPL Sports)
 - 3. बाईजूस (Byju's)
 - 4. नाइकी (Nike)

Question ID : 65497828381
Status : Answered
Chosen Option : 3

Q.15 स्वच्छ भारत मिशन (ग्रामीण) के चरण 2 की शुरुआत किस वर्ष से हुई?

- Ans
- 1. 2021-22
 - 2. 2020-21
 - 3. 2018-19
 - 4. 2019-20

Question ID : 65497828388
Status : Answered
Chosen Option : 1

Q.16 टीम 'केरल ब्लास्टर्स (Kerala Blasters)' निम्नलिखित में से किस खेल से संबंधित है?

- Ans
- 1. कबड्डी
 - 2. क्रिकेट
 - 3. बैडमिंटन
 - 4. फुटबॉल

Question ID : 65497828383
Status : Answered
Chosen Option : 4

Q.17 26 जनवरी 2019 को, भारतीय संविधान ने अपने अस्तित्व के 69 वर्ष पूर्ण किए। इन वर्षों में, इसमें (12 जनवरी 2019 तक प्राप्त जानकारी के अनुसार) _____ बार संशोधन किए गए हैं।

- Ans
- 1. 103
 - 2. 109
 - 3. 100
 - 4. 106

Question ID : 65497828386
Status : Answered
Chosen Option : 1

Q.18 सरयू नदी किस नदी की सहायक नदी है?

- Ans
- 1. पिंडर
 - 2. टोंस
 - 3. शारदा
 - 4. भागीरथी

Question ID : 65497828364
Status : Answered
Chosen Option : 2

Q.19 निम्न में से कौन सा मिज़ो लोगों का परंपरागत बांस नृत्य (bamboo dance) है?

- Ans
- 1. उदोहो (Udoho)
 - 2. मोयशाई (Moyashai)
 - 3. चेराव (Cheraw)
 - 4. आलुयट्टू (Aaluyattu)

Question ID : 65497828378
Status : Answered
Chosen Option : 3

Q.20 _____, सारग्राही कला (eclectic art) के उच्च स्तर को दर्शाता है, जिसमें 7वीं और 8वीं शताब्दी में चालुक्य वंश के अधीन उत्तरी और दक्षिणी भारत की वास्तुकलाओं का सुमेलित मिश्रण हुआ है।

- Ans
- 1. कोणार्क
 - 2. पट्टदकल
 - 3. भीमबेटका
 - 4. कोच्चि

Question ID : 65497828368
Status : Answered
Chosen Option : 1

Q.21 निम्नलिखित में से कौन अपने 'ययाति' और 'तुगलक' नामक नाटकों के लिए प्रसिद्ध है?

- Ans
- 1. वीजू खोटे
 - 2. मोहम्मद जहूर खय्याम
 - 3. श्रीराम लागू
 - 4. गिरीश कर्नाड

Question ID : 65497828371
Status : Not Answered
Chosen Option : --

Q.22 निम्नलिखित में से किस संस्थान ने नवंबर 2020 में 'टीम हेलो (Team Halo)' नामक पहल की शुरुआत की थी?

- Ans
- 1. संयुक्त राष्ट्र
 - 2. विश्व व्यापार संगठन
 - 3. विश्व स्वास्थ्य संगठन
 - 4. विश्व बैंक

Question ID : 65497828377
Status : Answered
Chosen Option : 3

Q.23 वित्तीय वर्ष 2019-20 में निम्नलिखित में से कौन सा राष्ट्र भारत का शीर्ष व्यापारिक भागीदार था?

- Ans
- 1. चीन
 - 2. जापान
 - 3. अमेरिका
 - 4. मॉरीशस

Question ID : 65497828365
Status : Answered
Chosen Option : 3

Q.24 भारत के पंजाब से निकलने वाली पांच नदियां पाकिस्तान में मिथनकोट में _____ नदी में मिल जाती हैं।

- Ans
- 1. ब्रह्मपुत्र
 - 2. गंगा
 - 3. सिंधु
 - 4. यमुना

Question ID : 65497828379
Status : Answered
Chosen Option : 3

Q.25 1708 में गुरु गोविंद सिंह जी की मृत्यु के बाद, खालसा ने _____ के नेतृत्व में मुगल साम्राज्य के खिलाफ विद्रोह किया।

- Ans
- 1. गुरु नानक देव
 - 2. गुरु अमर दास
 - 3. गुरु अंगद
 - 4. बंदा बहादुर

Question ID : 65497828385
Status : Answered
Chosen Option : 4

Section : Part C Elementary Mathematics

Q.1 $45 - 3 \times (4 \text{ of } 6 + 12 \div 3 \times 6 - 4 \times 5) + 6$ का मान ज्ञात कीजिए।

- Ans
- 1. -30
 - 2. -45
 - 3. -33
 - 4. -135

Question ID : 65497828408
Status : Answered
Chosen Option : 3

Q.2 36 m पटुआ (जूट) बेचने पर, एक दुकानदार 12 m पटुआ (जूट) के विक्रय मूल्य के बराबर राशि का लाभ अर्जित करता है। उसके लाभ का प्रतिशत ज्ञात कीजिए।

- Ans
- 1. 45%
 - 2. 40%
 - 3. 55%
 - 4. 50%

Question ID : 65497828409
Status : Answered
Chosen Option : 4

Q.3 कक्षा IX और कक्षा X में छात्रों की संख्या क्रमशः 42 और 45 है। कक्षा IX और X में लड़कों और लड़कियों की संख्याओं का अनुपात क्रमशः 9 : 5 और 8 : 7 है। दोनों कक्षाओं में मिलाकर लड़कों की कुल संख्या और लड़कियों की कुल संख्या का अंतर ज्ञात कीजिए।

- Ans**
- 1. 11
 - 2. 17
 - 3. 12
 - 4. 15

Question ID : 65497828411
Status : Answered
Chosen Option : 4

Q.4 12% of 4% of 7% of 2×10^6 का मान कितना होगा?

- Ans**
- 1. 121
 - 2. 583
 - 3. 672
 - 4. 386

Question ID : 65497828403
Status : Answered
Chosen Option : 3

Q.5 112 cm × 44 cm × 25 cm विमाओं वाले एक ठोस धातु के बने आयताकार ब्लॉक को पिघलाया जाता है और 35 cm त्रिज्या वाले एक बेलन के रूप में ढाला जाता है। बेलन के वक्र पृष्ठ का क्षेत्रफल (cm² में) ज्ञात कीजिए।
($\pi = \frac{22}{7}$ लीजिए)

- Ans**
- 1. 6160
 - 2. 6600
 - 3. 7040
 - 4. 7260

Question ID : 65497828413
Status : Answered
Chosen Option : 3

Q.6 साधारण ब्याज की एक निश्चित वार्षिक दर पर एक धनराशि पर प्राप्त मिश्रधन 4 वर्ष बाद ₹13200 और 8 वर्ष बाद ₹16400 होता है। उसी धनराशि पर 10% वार्षिक ब्याज की दर से $3\frac{1}{5}$ वर्ष में प्राप्त साधारण ब्याज (₹ में) ज्ञात कीजिए।

- Ans**
- 1. 3200
 - 2. 2500
 - 3. 3500
 - 4. 4000

Question ID : 65497828392
Status : Answered
Chosen Option : 1

Q.7 एक बल्लेबाज ने 124 रन बनाए, जिसमें 6 चौके और 10 छक्के शामिल थे। उसके कुल स्कोर में से कितने प्रतिशत रन विकेटों के बीच दौड़कर बनाए गए?

- Ans**
- 1. $28\frac{19}{31}\%$
 - 2. $35\frac{3}{31}\%$
 - 3. $24\frac{1}{31}\%$
 - 4. $32\frac{8}{31}\%$

Question ID : 65497828390
Status : Answered
Chosen Option : 4

Q.8 एक व्यक्ति 1600 m लंबे मार्ग को 4 मिनट में पार करता है। उसकी चाल (km/h में) कितनी है?

- Ans**
- 1. 22
 - 2. 14
 - 3. 24
 - 4. 20

Question ID : 65497828398
Status : Answered
Chosen Option : 3

Q.9 रवि और सुमित के वेतनों का अनुपात 4 : 5 है। यदि उनमें से प्रत्येक के वेतन में ₹6000 की वृद्धि होती है, तो उनके वेतनों का नया अनुपात 35 : 40 हो जाता है। सुमित का बड़ा हुआ वेतन ज्ञात कीजिए।

- Ans**
- 1. ₹16,000
 - 2. ₹26,000
 - 3. ₹36,000
 - 4. ₹1,60,000

Question ID : 65497828399
Status : Answered
Chosen Option : 1

Q.10 जब विक्रय मूल्य में ₹132.60 की वृद्धि होती है, तो $10\frac{1}{2}\%$ की हानि $11\frac{3}{5}\%$ के लाभ में परिवर्तित हो जाती है। वस्तु का क्रय मूल्य (₹ में) ज्ञात करें।

- Ans**
- 1. 800
 - 2. 500
 - 3. 750
 - 4. 600

Question ID : 65497828391
Status : Answered
Chosen Option : 4

Q.11 725 m लंबी एक ट्रेन 235 m लंबी सुरंग को 48 सेकंड में पार करती है। ट्रेन की चाल ज्ञात करें।

- Ans
- 1. 42 km/h
 - 2. 36 km/h
 - 3. 100 km/h
 - 4. 72 km/h

Question ID : 65497828405
Status : Answered
Chosen Option : 4

Q.12 P, Q और R किसी कार्य को अकेले करते हुए क्रमशः 10 दिन, 20 दिन और 30 दिन में पूरा कर सकते हैं। यदि Q और R, एक-एक दिन छोड़कर P की सहायता करते हैं, तो उस कार्य को कितनी जल्दी पूरा किया जा सकता है?

- Ans
- 1. 5 दिन
 - 2. $6\frac{1}{2}$ दिन
 - 3. $7\frac{1}{17}$ दिन
 - 4. 9 दिन

Question ID : 65497828410
Status : Answered
Chosen Option : 2

Q.13 एक निश्चित धनराशि 12% वार्षिक ब्याज की दर से $2\frac{1}{2}$ वर्षों में ₹9,982.50 हो जाती है, जबकि ब्याज की गणना 10-मासिक चक्रवृद्धि आधार पर की जाती है। धनराशि (₹ में) ज्ञात कीजिए।

- Ans
- 1. 8,000
 - 2. 8,500
 - 3. 7,500
 - 4. 7,800

Question ID : 65497828412
Status : Marked For Review
Chosen Option : 2

Q.14 एक कुर्सी अंकित मूल्य पर 10% की छूट के बाद ₹720 में बेची जाती है। कुर्सी का क्रय मूल्य ₹640 है। यदि इसे अंकित मूल्य पर बेचा जाए, तो लाभ प्रतिशत क्या होगा?

- Ans
- 1. 20%
 - 2. 18%
 - 3. 25%
 - 4. 30%

Question ID : 65497828407
Status : Answered
Chosen Option : 3

Q.15 89563x87y एक नौ अंकीय संख्या है जो 72 से विभाज्य है। $\sqrt{7x-3y}$ का मान कितना होगा?

- Ans
- 1. 5
 - 2. 6
 - 3. 4
 - 4. 8

Question ID : 65497828389
Status : Answered
Chosen Option : 3

Q.16 वह बड़ी से बड़ी संख्या ज्ञात कीजिए, जिससे 398, 437 और 5425 को विभाजित करने पर क्रमशः 7, 12 और 2 शेष बचता है।

- Ans
- 1. 17
 - 2. 15
 - 3. 19
 - 4. 11

Question ID : 65497828393
Status : Answered
Chosen Option : 1

Q.17 A और B के वेतन का अनुपात 6 : 7 है। यदि B के वेतन में $5\frac{1}{2}\%$ की वृद्धि होती है, तो उसका कुल वेतन ₹1,47,700 हो जाता है। A का वेतन (₹ में) ज्ञात कीजिए।

- Ans
- 1. 1,35,000
 - 2. 1,20,000
 - 3. 1,40,000
 - 4. 1,10,000

Question ID : 65497828395
Status : Answered
Chosen Option : 2

Q.18 ₹2760 की धनराशि को इस प्रकार दो भागों में विभाजित कीजिए, कि जब उन्हें 5% वार्षिक साधारण ब्याज की दर पर क्रमशः 2 और 4 वर्षों के लिए निवेशित किया जाता है, तो उन पर प्राप्त होने वाले मिश्रधन बराबर होते हैं। निवेश किए गए दूसरे भाग की राशि ज्ञात कीजिए।

- Ans
- 1. 1,320
 - 2. 1,440
 - 3. 1,500
 - 4. 1,100

Question ID : 65497828396
Status : Answered
Chosen Option : 1

Q.19 $3 \times 7 + 5 - 6 \div 3 - 9 + 45 \div 5 \times 4 - 45$ का मान ज्ञात कीजिए।

- Ans
- 1. 36
 - 2. 9
 - 3. 6
 - 4. 7

Question ID : 65497828397
Status : Answered
Chosen Option : 3

Q.20 अनु किसी कार्य को करने में बिन्नी से चार गुना कार्यकुशल है। वे एक साथ मिलकर किसी कार्य को 7 घंटे में पूरा करती हैं। अनु अकेले उसी कार्य को कितने घंटों में पूरा करेगी?

- Ans
- 1. $31/4$
 - 2. 24
 - 3. $35/4$
 - 4. 22

Question ID : 65497828404
Status : Answered
Chosen Option : 3

Q.21 एक समबाहु त्रिभुज का परिमाण $36\sqrt{3}$ cm है। तो उसकी ऊंचाई ज्ञात कीजिए।

- Ans
- 1. 18 cm
 - 2. 6 cm
 - 3. 9 cm
 - 4. 10 cm

Question ID : 65497828400
Status : Answered
Chosen Option : 1

Q.22 यदि दो संख्याओं का औसत 13 है और उनके गुणनफल का वर्गमूल 12 है, तो संख्याओं के बीच का अंतर ज्ञात कीजिए।

- Ans
- 1. 18
 - 2. 10
 - 3. 12
 - 4. 8

Question ID : 65497828394
Status : Answered
Chosen Option : 2

Q.23 10 प्रेक्षणों का औसत 46 है। बाद में यह ज्ञात हुआ कि एक प्रेक्षण को 142 के स्थान पर गलती से 42 पढ़ा गया था। सही औसत ज्ञात करें।

- Ans**
- 1. 56
 - 2. 46
 - 3. 52
 - 4. 58

Question ID : 65497828401
Status : Answered
Chosen Option : 1

Q.24 एक टेलीविज़न ₹14,500 में उपलब्ध था। दिवाली की सेल के दौरान उसकी कीमत घटकर ₹11,890 हो गई। छूट प्रतिशत ज्ञात करें।

- Ans**
- 1. 17.6%
 - 2. 19%
 - 3. 18%
 - 4. 19.56%

Question ID : 65497828402
Status : Answered
Chosen Option : 3

Q.25 एक दुकानदार एक वस्तु को 20% लाभ पर बेचता है। यदि उसने इसे इसके मूल क्रय मूल्य से 20% कम मूल्य पर खरीदा होता और इसे ₹10 कम मूल्य पर बेचता, तो उसे 25% का लाभ होता। वस्तु का क्रय मूल्य ज्ञात कीजिए।

- Ans**
- 1. ₹60
 - 2. ₹50
 - 3. ₹40
 - 4. ₹45

Question ID : 65497828406
Status : Answered
Chosen Option : 2

Section : Part D English

Q.1 Select the most appropriate meaning of the given idiom.

Play for time

- Ans**
- 1. To make excuses or do things to gain time
 - 2. To play music in the time provided
 - 3. To play something for the sake of old times
 - 4. To do something in the stipulated time

Question ID : 65497828428
Status : Not Answered
Chosen Option : --

Q.2 Select the most appropriate option to fill in the blank.

The doctor _____ her to stop eating fried food.

- Ans
- 1. advised
 - 2. expressed
 - 3. arranged
 - 4. considered

Question ID : **65497828421**
Status : **Not Answered**
Chosen Option : --

Q.3 Select the option that can be used as a one-word substitute for the given group of words.

One who examines a company's financial records

- Ans
- 1. Conductor
 - 2. Auditor
 - 3. Instructor
 - 4. Author

Question ID : **65497828424**
Status : **Not Answered**
Chosen Option : --

Q.4 Select the option that can be used as a one-word substitute for the given group of words.

A person who knows everything

- Ans
- 1. Omniscient
 - 2. Omnipresent
 - 3. Intelligent
 - 4. Naive

Question ID : **65497828420**
Status : **Not Answered**
Chosen Option : --

Q.5 Select the most appropriate ANTONYM of the given word.

Vital

- Ans
- 1. Crucial
 - 2. Critical
 - 3. Manual
 - 4. Trivial

Question ID : **65497828423**
Status : **Not Answered**
Chosen Option : --

Q.6 Select the most appropriate **SYNONYM** of the given word.

Threat

- Ans** 1. Attention
 2. Risk
 3. Proof
 4. Suggestion

Question ID : **65497828432**
Status : **Not Answered**
Chosen Option : --

Q.7 The following sentence has been divided into parts. One of them may contain an error. Select the part that contains the error from the given options. If you don't find any error, mark 'No error' as your answer.

She left / hers umbrella / at the office.

- Ans** 1. at the office
 2. She left
 3. No error
 4. hers umbrella

Question ID : **65497828414**
Status : **Not Answered**
Chosen Option : --

Q.8 Select the most appropriate option that can substitute the underlined segment in the given sentence. If there is no need to substitute it, select 'No substitution required'.

I'm sure he will grab the chance to earn some extra money.

- Ans** 1. to earns
 2. No substitution required
 3. of earns
 4. to earned

Question ID : **65497828429**
Status : **Not Answered**
Chosen Option : --

Q.9 Select the most appropriate **ANTONYM** of the given word.

Precarious

- Ans** 1. Safe
 2. Perilous
 3. Uncertain
 4. Dangerous

Question ID : **65497828426**
Status : **Not Answered**
Chosen Option : --

Q.10 Select the most appropriate option that can substitute the underlined word in the given sentence.

Microwave ovens heat food quickly, anxiously and safely, but do not brown or bake food in the way that conventional ovens do.

- Ans
- 1. beautifully
 - 2. angrily
 - 3. accidentally
 - 4. efficiently

Question ID : 65497828416
Status : Not Answered
Chosen Option : --

Q.11 Select the most appropriate synonym of the given word.

Visible

- Ans
- 1. Secret
 - 2. Hidden
 - 3. Vague
 - 4. Apparent

Question ID : 65497828415
Status : Not Answered
Chosen Option : --

Q.12 Select the option that can be used as a one-word substitute for the given group of words.

Anything that leads to death

- Ans
- 1. Scary
 - 2. Serious
 - 3. Ominous
 - 4. Fatal

Question ID : 65497828433
Status : Not Answered
Chosen Option : --

Q.13 The following sentence has been split into four segments. Identify the segment that contains a grammatical error.

Neither the manager / nor the employees was / aware of the / shortage of raw materials.

- Ans
- 1. Neither the manager
 - 2. shortage of raw materials
 - 3. aware of the
 - 4. nor the employees was

Question ID : 65497828431
Status : Not Answered
Chosen Option : --

Q.14 The following sentence has been split into four segments. Identify the segment that contains a grammatical error.

Mohan told to / Sagar that he / was looking / very pale.

- Ans**
- 1. Sagar that he
 - 2. was looking
 - 3. very pale
 - 4. Mohan told to

Question ID : **65497828422**
Status : **Not Answered**
Chosen Option : --

Q.15 Select the **INCORRECTLY** spelt word.

- Ans**
- 1. Voluntary
 - 2. Stationary
 - 3. Dictionary
 - 4. Delivery

Question ID : **65497828425**
Status : **Not Answered**
Chosen Option : --

Q.16 Select the **INCORRECTLY** spelt word.

- Ans**
- 1. Response
 - 2. Congratulations
 - 3. Felicitate
 - 4. Aniversary

Question ID : **65497828418**
Status : **Not Answered**
Chosen Option : --

Q.17 Select the most appropriate meaning of the given idiom.

To breathe one's last

- Ans**
- 1. To make a plot
 - 2. To give final verdict
 - 3. To die
 - 4. To take a major decision

Question ID : **65497828417**
Status : **Not Answered**
Chosen Option : --

Q.18 Select the most appropriate option that can substitute the underlined segment in the given sentence. If there is no need to substitute it, select 'No substitution required'.

You need to get the cholesterol from out of your system.

- Ans 1. No substitution required
 2. out of your system
 3. out your system
 4. from out off your system

Question ID : 65497828430
Status : Not Answered
Chosen Option : --

Q.19 Select the most appropriate option to fill in the blank.

A _____ mind rarely meets a dead end; it continues the search for the answers.

- Ans 1. weird
 2. curious
 3. peculiar
 4. strange

Question ID : 65497828419
Status : Not Answered
Chosen Option : --

Q.20 Select the most appropriate option to fill in the blank.

A dialogue is a _____ between two or more people.

- Ans 1. commission
 2. conversation
 3. conversion
 4. convertible

Question ID : 65497828427
Status : Not Answered
Chosen Option : --

Comprehension:

In the following passage, some words have been deleted. Read the passage carefully and select the most appropriate option to fill in each blank.

When the air is clear, the sunset (1)_____ yellow, because the light from the sun has passed a long distance through air and the blue light (2)_____ scattered away. If the air is polluted with small particles, natural (3)_____ otherwise, the sunset will be more red. Sunsets over the sea may also be orange, (4)_____ salt particles in the air. The sky (5)_____ the sun is seen reddened, as well as the light coming directly from the sun.

SubQuestion No : 21

Q.21 Select the most appropriate option to fill in blank no. 1.

- Ans**
- 1. is
 - 2. has appeared
 - 3. appeared
 - 4. appears

Question ID : **65497828435**
Status : **Not Answered**
Chosen Option : --

Comprehension:

In the following passage, some words have been deleted. Read the passage carefully and select the most appropriate option to fill in each blank.

When the air is clear, the sunset (1)_____ yellow, because the light from the sun has passed a long distance through air and the blue light (2)_____ scattered away. If the air is polluted with small particles, natural (3)_____ otherwise, the sunset will be more red. Sunsets over the sea may also be orange, (4)_____ salt particles in the air. The sky (5)_____ the sun is seen reddened, as well as the light coming directly from the sun.

SubQuestion No : 22

Q.22 Select the most appropriate option to fill in blank no. 2.

- Ans**
- 1. has been
 - 2. will be
 - 3. has
 - 4. was

Question ID : **65497828436**
Status : **Not Answered**
Chosen Option : --

Comprehension:

In the following passage, some words have been deleted. Read the passage carefully and select the most appropriate option to fill in each blank.

When the air is clear, the sunset (1)_____ yellow, because the light from the sun has passed a long distance through air and the blue light (2)_____ scattered away. If the air is polluted with small particles, natural (3)_____ otherwise, the sunset will be more red. Sunsets over the sea may also be orange, (4)_____ salt particles in the air. The sky (5)_____ the sun is seen reddened, as well as the light coming directly from the sun.

SubQuestion No : 23

Q.23 Select the most appropriate option to fill in blank no. 3.

- Ans 1. if
 2. or
 3. but
 4. and

Question ID : 65497828437
Status : Not Answered
Chosen Option : --

Comprehension:

In the following passage, some words have been deleted. Read the passage carefully and select the most appropriate option to fill in each blank.

When the air is clear, the sunset (1)_____ yellow, because the light from the sun has passed a long distance through air and the blue light (2)_____ scattered away. If the air is polluted with small particles, natural (3)_____ otherwise, the sunset will be more red. Sunsets over the sea may also be orange, (4)_____ salt particles in the air. The sky (5)_____ the sun is seen reddened, as well as the light coming directly from the sun.

SubQuestion No : 24

Q.24 Select the most appropriate option to fill in blank no. 4.

- Ans 1. for
 2. due to
 3. because
 4. as

Question ID : 65497828438
Status : Not Answered
Chosen Option : --

Comprehension:

In the following passage, some words have been deleted. Read the passage carefully and select the most appropriate option to fill in each blank.

When the air is clear, the sunset (1)_____ yellow, because the light from the sun has passed a long distance through air and the blue light (2)_____ scattered away. If the air is polluted with small particles, natural (3)_____ otherwise, the sunset will be more red. Sunsets over the sea may also be orange, (4)_____ salt particles in the air. The sky (5)_____ the sun is seen reddened, as well as the light coming directly from the sun.

SubQuestion No : 25

Q.25 Select the most appropriate option to fill in blank no. 5.

Ans 1. around

2. across

3. along

4. through

Question ID : 65497828439

Status : Not Answered

Chosen Option : --

Section : **Part D Hindi**

Q.1 दिए गए वाक्य में रेखांकित खंड को प्रतिस्थापित करने के लिए सबसे उपयुक्त विकल्प का चयन करें। यदि इसे प्रतिस्थापित करने की आवश्यकता नहीं है, तो विकल्प 'किसी बदलाव की आवश्यकता नहीं है' का चयन करें।

मैं आपका दर्शन करने आया हूँ।

Ans 1. मैं आपकी

2. किसी बदलाव की आवश्यकता नहीं है।

3. मैं आपके

4. मैं आपसे

Question ID : 65497828453

Status : Answered

Chosen Option : 3

Q.2 दिए गए वाक्य का वह भाग ज्ञात करें जिसमें कोई त्रुटि है। यदि कोई त्रुटि नहीं है, तो 'कोई त्रुटि नहीं है' चुनें।

प्रधानाचार्य ने (1)/ हिंदी अध्यापक (2)/ को बुलाये। (3)/ कोई त्रुटि नहीं है(4)

Ans 1. 4

2. 2

3. 3

4. 1

Question ID : 65497828451

Status : Answered

Chosen Option : 2

Q.3 मुझे मज़ा आती है। - रेखांकित शब्द की त्रुटि बताइए-

- Ans 1. लिंग के कारण
 2. वचन के कारण
 3. कारक के कारण
 4. विशेषण के कारण

Question ID : 65497828456
Status : Answered
Chosen Option : 2

Q.4 दिए गए शब्द का विलोम चुनें।

द्रुत

- Ans 1. जड़
 2. अद्वैत
 3. मंथर
 4. वेग

Question ID : 65497828448
Status : Answered
Chosen Option : 3

Q.5 निम्नलिखित प्रश्न में, दिए गए चार विकल्पों में से, उस विकल्प का चयन करें, जो मुहावरे का अर्थ व्यक्त करता है।

कथा के बैंगन

- Ans 1. मन गढ़त बातें
 2. असंभव वस्तु
 3. कृपण व्यक्ति
 4. केवल दूसरों के लिए उपदेश

Question ID : 65497828449
Status : Answered
Chosen Option : 4

Q.6 'वह बात जो जन साधारण में चलती आ रही है' इस वाक्यांश के लिए एक सार्थक शब्द दीजिए।

- Ans 1. किंवदंती
 2. कूपमंडूक
 3. कपोल-कल्पित
 4. किंकर्तव्य

Question ID : 65497828440
Status : Answered
Chosen Option : 1

Q.7 रिक्त स्थान भरने के लिए सबसे उपयुक्त शब्द का चयन करें।

_____ से गहने बनते हैं।

- Ans
- 1. टीन
 - 2. सोना
 - 3. सोने
 - 4. लोहे

Question ID : 65497828441
Status : Answered
Chosen Option : 3

Q.8 'आँख लगना' मुहावरे का सही अर्थ है-

- Ans
- 1. गहरी नींद आना
 - 2. झपकी आना
 - 3. आँख में दर्द होना
 - 4. गले पड़ना

Question ID : 65497828454
Status : Answered
Chosen Option : 2

Q.9 दिए गए वाक्य का वह भाग ज्ञात करें जिसमें कोई त्रुटि है। यदि कोई त्रुटि नहीं है, तो 'कोई त्रुटि नहीं है' विकल्प को चुनें।

स्टेशन पहुँचते ही वह फोन कर दिया।

- Ans
- 1. कोई त्रुटि नहीं है
 - 2. स्टेशन पहुँचते ही
 - 3. वह
 - 4. फोन कर दिया

Question ID : 65497828442
Status : Answered
Chosen Option : 3

Q.10 'सामान्य नियम के विरुद्ध बात' वाक्यांश के लिए एक शब्द होगा-

- Ans
- 1. अपवाद
 - 2. वाद
 - 3. संवाद
 - 4. विवाद

Question ID : 65497828455
Status : Answered
Chosen Option : 1

Q.11 सद्भाव - रेखांकित शब्द का सही विलोम बताइए-

- Ans
- 1. स्वभाव
 - 2. गुस्सा
 - 3. दुर्भाव
 - 4. क्षम्य

Question ID : 65497828457
Status : Answered
Chosen Option : 3

Q.12 रिक्त स्थान भरने के लिए सबसे उपयुक्त शब्द का चयन करें।

तीनों _____ के स्वामी हैं इसलिए त्रिलोकीनाथ कहलाते हैं।

- Ans
- 1. भुवनों
 - 2. धरती
 - 3. आकाशों
 - 4. भवनों

Question ID : 65497828446
Status : Answered
Chosen Option : 4

Q.13 गुणदोष का समरूप मूल्यांकन करने वाले के लिए एक शब्द लिखिए-

- Ans
- 1. जिज्ञासु
 - 2. शास्त्रज्ञ
 - 3. ज्योतिषी
 - 4. समीक्षक

Question ID : 65497828458
Status : Answered
Chosen Option : 4

Q.14 दिए गए वाक्य में रेखांकित खंड को प्रतिस्थापित करने के लिए सबसे उपयुक्त विकल्प का चयन करें।
यदि इसे प्रतिस्थापित करने की आवश्यकता नहीं है, तो विकल्प 'किसी बदलाव की आवश्यकता नहीं है'
का चयन करें।

पिताजी मेरे लिए कुछ कपड़े ले आये।

- Ans
- 1. किसी बदलाव की आवश्यकता नहीं है।
 - 2. मेरे के लिए
 - 3. मेरे को
 - 4. मुझे

Question ID : 65497828450
Status : Answered
Chosen Option : 2

Q.15 इस प्रश्न में, एक शब्द चार अलग-अलग प्रकार से लिखा गया है, जिसमें से केवल एक को सही ढंग से लिखा गया है। सही वर्तनी वाले शब्द का चयन करें।

- Ans 1. अनधिकार
 2. अनाधीकार
 3. अनाधिकार
 4. अनधीकार

Question ID : 65497828444
Status : Answered
Chosen Option : 3

Q.16 दिए गए शब्द के समानार्थी शब्द का चयन करें।

कमल

- Ans 1. अरविन्द
 2. आयतन
 3. अमृत
 4. अमिय

Question ID : 65497828452
Status : Answered
Chosen Option : 1

Q.17 रिक्त स्थान को भरने के लिए सबसे उपयुक्त विकल्प का चयन करें।

मेरी _____ है कि मुझे चार दिन की छुट्टी दी जाए।

- Ans 1. पूजा
 2. याचना
 3. प्रार्थना
 4. आराधना

Question ID : 65497828459
Status : Answered
Chosen Option : 3

Q.18 इस प्रश्न में, एक शब्द चार अलग-अलग प्रकार से लिखा गया है, जिसमें से केवल एक को सही ढंग से लिखा गया है। सही वर्तनी वाले शब्द का चयन करें।

- Ans 1. मातृहिन
 2. मातर्हीन
 3. मार्तहीन
 4. मातृहीन

Question ID : 65497828445
Status : Answered
Chosen Option : 4

Q.19 दिए गए शब्द के समानार्थी शब्द का चयन करें।

यमुना

- Ans 1. आपगा
 2. तड़ाग
 3. अर्कजा
 4. निम्नगा

Question ID : 65497828443

Status : Answered

Chosen Option : 4

Q.20 दिए गए वाक्य में रेखांकित खंड को प्रतिस्थापित करने के लिए सबसे उपयुक्त विकल्प का चयन करें।
यदि इसे प्रतिस्थापित करने की आवश्यकता नहीं है, तो विकल्प 'किसी बदलाव की आवश्यकता नहीं है'
का चयन करें।

मेरी गाय को छूने का उत्साह कभी कोई नहीं कर सकता क्योंकि वह मारती है।

- Ans 1. मेरी गाय को छूने का हिम्मत
 2. मेरी गाय को छूने का साहस
 3. किसी बदलाव की आवश्यकता नहीं है।
 4. मेरी गाय को छूने की मेहनत

Question ID : 65497828447

Status : Answered

Chosen Option : 2

Comprehension:

गद्यांश को पढ़कर पूछे गये प्रश्नों के उत्तर लिखिए-

एक साधु थे। भिक्षाटन से मजे से दिन गुजारते और आनंदपूर्वक भजन करते थे। एक दिन महत्वाकांक्षा सिर पर चढ़ी, झोपड़ी के चूहों से निपटने के लिए एक बिल्ली पाली। बिल्ली के लिए दूध की जरूरत पड़ी - तो गाय खरीद कर लाए। गाय को साज-संभाल के लिए महिला की आवश्यकता पड़ी। महिला से शादी कर ली। परिवार बना। संत बनकर लोक कल्याण करने का लक्ष्य कहीं से कहीं चला गया। भौतिक आकांक्षाओं का जाल-जंजाल इतना बढ़ गया कि परमार्थ का लक्ष्य पूरा करने के लिए कुछ भी नहीं बचता था। सारी क्षमता उसी में खत्म जाती थी। सपनों का जमघट ही शेष रह जाता है। कहने का तात्पर्य यह है कि हमें हमारे लक्ष्य की ओर ध्यान देना चाहिए।

SubQuestion No : 21

Q.21 साधु अपना निर्वाह _____ करके करता था। रिक्त स्थान की पूर्ति कीजिए।

- Ans 1. खेती करके
 2. बच्चों को पढ़ाकर
 3. भिक्षाटन करके
 4. नौकरी करके

Question ID : 65497828461

Status : Answered

Chosen Option : 3

Comprehension:

गद्यांश को पढ़कर पूछे गये प्रश्नों के उत्तर लिखिए-

एक साधु थे। भिक्षाटन से मजे से दिन गुजारते और आनंदपूर्वक भजन करते थे। एक दिन महत्वाकांक्षा सिर पर चढ़ी, झोपड़ी के चूहों से निपटने के लिए एक बिल्ली पाली। बिल्ली के लिए दूध की जरूरत पड़ी - तो गाय खरीद कर लाए। गाय को साज-संभाल के लिए महिला की आवश्यकता पड़ी। महिला से शादी कर ली। परिवार बना। संत बनकर लोक कल्याण करने का लक्ष्य कहीं से कहीं चला गया। भौतिक आकांक्षाओं का जाल-जंजाल इतना बढ़ गया कि परमार्थ का लक्ष्य पूरा करने के लिए कुछ भी नहीं बचता था। सारी क्षमता उसी में खत्म जाती थी। सपनों का जमघट ही शेष रह जाता है। कहने का तात्पर्य यह है कि हमें हमारे लक्ष्य की ओर ध्यान देना चाहिए।

SubQuestion No : 22

Q.22 'आवश्यकता' के स्थान पर उचित शब्द लिखिए।

- Ans**
- 1. अवश्य
 - 2. जरूरत
 - 3. अक्लमंद
 - 4. परिश्रम

Question ID : 65497828462
Status : Answered
Chosen Option : 2

Comprehension:

गद्यांश को पढ़कर पूछे गये प्रश्नों के उत्तर लिखिए-

एक साधु थे। भिक्षाटन से मजे से दिन गुजारते और आनंदपूर्वक भजन करते थे। एक दिन महत्वाकांक्षा सिर पर चढ़ी, झोपड़ी के चूहों से निपटने के लिए एक बिल्ली पाली। बिल्ली के लिए दूध की जरूरत पड़ी - तो गाय खरीद कर लाए। गाय को साज-संभाल के लिए महिला की आवश्यकता पड़ी। महिला से शादी कर ली। परिवार बना। संत बनकर लोक कल्याण करने का लक्ष्य कहीं से कहीं चला गया। भौतिक आकांक्षाओं का जाल-जंजाल इतना बढ़ गया कि परमार्थ का लक्ष्य पूरा करने के लिए कुछ भी नहीं बचता था। सारी क्षमता उसी में खत्म जाती थी। सपनों का जमघट ही शेष रह जाता है। कहने का तात्पर्य यह है कि हमें हमारे लक्ष्य की ओर ध्यान देना चाहिए।

SubQuestion No : 23

Q.23 महत्वाकांक्षा रेखांकित शब्द का उचित अर्थ लिखिए।

- Ans**
- 1. बलवान होना
 - 2. उन्नति को प्राप्त करने की इच्छा
 - 3. दयालु
 - 4. लायक न होना

Question ID : 65497828463
Status : Answered
Chosen Option : 2

Comprehension:

गद्यांश को पढ़कर पूछे गये प्रश्नों के उत्तर लिखिए-

एक साधु थे। भिक्षाटन से मजे से दिन गुजारते और आनंदपूर्वक भजन करते थे। एक दिन महत्वाकांक्षा सिर पर चढ़ी, झोपड़ी के चूहों से निपटने के लिए एक बिल्ली पाली। बिल्ली के लिए दूध की जरूरत पड़ी - तो गाय खरीद कर लाए। गाय को साज-संभाल के लिए महिला की आवश्यकता पड़ी। महिला से शादी कर ली। परिवार बना। संत बनकर लोक कल्याण करने का लक्ष्य कहीं से कहीं चला गया। भौतिक आकांक्षाओं का जाल-जंजाल इतना बढ़ गया कि परमार्थ का लक्ष्य पूरा करने के लिए कुछ भी नहीं बचता था। सारी क्षमता उसी में खत्म जाती थी। सपनों का जमघट ही शेष रह जाता है। कहने का तात्पर्य यह है कि हमें हमारे लक्ष्य की ओर ध्यान देना चाहिए।

SubQuestion No : 24

Q.24 परमार्थ- रेखांकित शब्द का विलोम बताइए।

- Ans**
- 1. लालची
 - 2. दुष्ट
 - 3. स्वार्थ
 - 4. क्रोधी

Question ID : 65497828464
Status : Answered
Chosen Option : 3

Comprehension:

गद्यांश को पढ़कर पूछे गये प्रश्नों के उत्तर लिखिए-

एक साधु थे। भिक्षाटन से मजे से दिन गुजारते और आनंदपूर्वक भजन करते थे। एक दिन महत्वाकांक्षा सिर पर चढ़ी, झोपड़ी के चूहों से निपटने के लिए एक बिल्ली पाली। बिल्ली के लिए दूध की जरूरत पड़ी - तो गाय खरीद कर लाए। गाय को साज-संभाल के लिए महिला की आवश्यकता पड़ी। महिला से शादी कर ली। परिवार बना। संत बनकर लोक कल्याण करने का लक्ष्य कहीं से कहीं चला गया। भौतिक आकांक्षाओं का जाल-जंजाल इतना बढ़ गया कि परमार्थ का लक्ष्य पूरा करने के लिए कुछ भी नहीं बचता था। सारी क्षमता उसी में खत्म जाती थी। सपनों का जमघट ही शेष रह जाता है। कहने का तात्पर्य यह है कि हमें हमारे लक्ष्य की ओर ध्यान देना चाहिए।

SubQuestion No : 25

Q.25 झोपड़ी के चूहों से निपटने के लिए साधु ने क्या किया?

- Ans**
- 1. बिल्ली पाली
 - 2. कुछ भी नहीं किया
 - 3. दवा डालकर चूहों को मार दिया।
 - 4. कुत्ते को पाला

Question ID : 65497828465
Status : Answered
Chosen Option : 1