

Constable GD in CAPFs NIA SSF and Rifleman GD in Assam Rifles Examination 2021

Roll Number	www.GovtJobsAlert.In
Candidate Name	www.GovtJobsAlert.In
Venue Name	iON Digital Zone iDZ Green Park
Exam Date	22/11/2021
Exam Time :	9:00 AM - 10:30 AM
Subject	Constable GD 2021

Section : Part A General Intelligence and Reasoning

Q.1 अक्षरों के उस संयोजन का चयन कीजिए, जिसे दी गई श्रृंखला के रिक्त स्थानों में क्रमबद्ध रूप से रखने पर श्रृंखला पूर्ण हो जाएगी।

N _ K _ T N O K _ T _ _ _ D T

- Ans
- 1. K D D N O K
 - 2. O N D N O K
 - 3. O D K N O K
 - 4. O D D N O K

Question ID : 65497834711

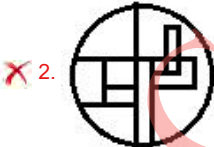
Status : Answered

Chosen Option : 4

Q.2 उस विकल्प का चयन करें जिसमें दी गई आकृति अंतर्निहित है (आकृति को घुमाने की अनुमति नहीं है)।



Ans



Question ID : 65497834693

Status : Answered

Chosen Option : 3

Q.3 उस विकल्प का चयन करें जो तीसरे शब्द से उसी प्रकार संबंधित है जिस प्रकार दूसरा शब्द पहले शब्द से संबंधित है।

मधुमक्खियां : भिनभिनाना :: मुर्गियां : ?

- Ans
- 1. गरजना
 - 2. किकियाना
 - 3. कुटकुटाना
 - 4. चहचहाना

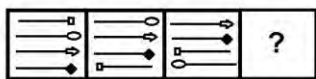
Question ID : 65497834698
Status : Answered
Chosen Option : 3

Q.4 एक निश्चित कूट भाषा में, 'DICTIONARY' को '20' के रूप में कूटबद्ध किया जाता है और 'MOBILITY' को '16' के रूप में कूटबद्ध किया जाता है। उसी कूट भाषा में 'TERMINATION' को किस रूप में कूटबद्ध किया जाएगा?

- Ans
- 1. 20
 - 2. 24
 - 3. 18
 - 4. 22

Question ID : 65497834702
Status : Answered
Chosen Option : 4

Q.5 दिए गए विकल्पों में से उस आकृति का चयन कीजिए, जो निम्न आकृति श्रृंखला में प्रश्नवाचक चिन्ह (?) के स्थान पर आ सकती है।



Ans

- 1.
- 2.
- 3.
- 4.

Question ID : 65497834713
Status : Answered
Chosen Option : 1

Q.6 किसी विशिष्ट कूट भाषा में, 'LEMON' को 'ELMNO' के रूप में लिखा जाता है। उसी कूट भाषा में 'CLUSTER' को किस रूप में लिखा जाएगा?

- Ans
- 1. LUCETRS
 - 2. CLESRUT
 - 3. CELRSTU
 - 4. LCUTESR

Question ID : 65497834705
Status : Not Answered
Chosen Option : --

Q.7 उस विकल्प का चयन करें, जो चौथी संख्या से उसी प्रकार संबंधित है जिस प्रकार पहली संख्या दूसरी संख्या से और पाँचवीं संख्या छठी संख्या से संबंधित है।

64 : 4 :: ? : 6 :: 100 : 5

- Ans
- 1. 144
 - 2. 188
 - 3. 228
 - 4. 108

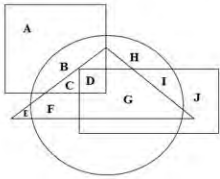
Question ID : 65497834690
Status : Answered
Chosen Option : 1

Q.8 किसी विशिष्ट कूट भाषा में, 'RAJU' को 'WFOZ' और 'SITA' को 'XNYF' के रूप में लिखा जाता है। उसी कूट भाषा में 'MONU' को किस रूप में लिखा जाएगा?

- Ans
- 1. UTRZ
 - 2. SRSY
 - 3. TRSX
 - 4. RTSZ

Question ID : 65497834695
Status : Answered
Chosen Option : 4

Q.9 निम्न वेन आरेख में, त्रिभुज, 'लंबे व्यक्तियों' का निरूपण करता है, वृत्त 'काली आंखों वाले व्यक्तियों' का निरूपण करता है, आयत 'भूरे बालों वाले व्यक्तियों' का निरूपण करता है, और वर्ग 'लड़कों' का निरूपण करता है। निम्नलिखित में से कौन-सा अक्षर उन लंबे और काली आंखों वाले लड़कों का निरूपण करता है, जिनके बाल भूरे नहीं हैं?



- Ans
- 1. F
 - 2. G
 - 3. C
 - 4. D

Question ID : 65497834700
Status : Answered
Chosen Option : 3

Q.10 दिए गए विकल्पों में से उस संख्या का चयन करें जो निम्नलिखित श्रृंखला में प्रश्न चिह्न (?) के स्थान पर आ सकती है।

4, 5, 18, 19, 68, 69, ?

- Ans
- 1. 250
 - 2. 256
 - 3. 262
 - 4. 266

Question ID : 65497834703
Status : Not Answered
Chosen Option : --

Q.11 पांच सहेलियां भूमिका, राशि, श्वेता, विभा और अरुणिमा पूर्व दिशा की ओर अभिमुख होकर एक पंक्ति में बैठी हैं। भूमिका, विभा और श्वेता के बीच में बैठी है। राशि, श्वेता के बाईं ओर दूसरे स्थान पर बैठी है। दक्षिण छोर पर कौन सी लड़की बैठी है?

- Ans
- 1. अरुणिमा
 - 2. राशि
 - 3. विभा
 - 4. श्वेता

Question ID : 65497834699
Status : Answered
Chosen Option : 3

Q.12 फलों की एक दुकान में केवल दो प्रकार के फल हैं, जिनके नाम संतरे और आम हैं। संतरों की संख्या आमों की संख्या की तीन गुनी है। निम्नलिखित में से कौन सी संख्या दुकान में फलों की कुल संख्या को निरूपित नहीं कर सकती है?

- Ans
- 1. 40
 - 2. 48
 - 3. 44
 - 4. 42

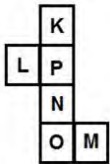
Question ID : 65497834708
Status : Answered
Chosen Option : 4

Q.13 आठ मित्र P, Q, R, S, T, U, V और W एक पंक्ति में बैठे फिल्म देख रहे हैं। T एक छोर पर बैठा है। Q, W और R के बीच में बैठा है। V, S और U के बीच में बैठा है। W, T के दाएँ बगल में बैठा है। R, P के बाएँ बगल में बैठा है। P और U के बीच में दो व्यक्ति बैठे हैं। दूसरे छोर पर कौन बैठा है?

- Ans
- 1. S
 - 2. R
 - 3. P
 - 4. U

Question ID : 65497834689
Status : Answered
Chosen Option : 4

Q.14 दी गई शीट को मोड़कर एक घन बनाया गया है। इस प्रकार बने घन में, कौन से अक्षर एक-दूसरे के विपरीत फलक पर नहीं होंगे?



- Ans
- 1. K और N
 - 2. L और M
 - 3. O और M
 - 4. P और O

Question ID : 65497834692
Status : Answered
Chosen Option : 3

Q.15 दिए गए कथनों और निष्कर्षों को ध्यानपूर्वक पढ़ें। यह मानते हुए कि कथनों में दी गई सूचना सही है, भले ही वह सामान्य रूप से ज्ञात तथ्यों से भिन्न प्रतीत होती हो, यह निर्धारित करें कि दिए गए निष्कर्षों में से कौन-सा/से निष्कर्ष कथनों का तार्किक रूप से अनुसरण करता है/करते हैं।

कथन:

सभी एंजाइम, विटामिन हैं।
सभी विटामिन, कार्बोहाइड्रेट हैं।

निष्कर्ष:

I. सभी एंजाइम, कार्बोहाइड्रेट हैं।
II. कोई भी एंजाइम, कार्बोहाइड्रेट नहीं है।

- Ans 1. केवल निष्कर्ष I अनुसरण करता है।
 2. या तो निष्कर्ष I या निष्कर्ष II अनुसरण करता है।
 3. निष्कर्ष I और II दोनों अनुसरण करते हैं।
 4. केवल निष्कर्ष II अनुसरण करता है।

Question ID : 65497834706
Status : Answered
Chosen Option : 1

Q.16 उस विकल्प का चयन कीजिए, जो निम्न शब्दों के उस क्रम को दर्शाता है, जिस क्रम में वे अंग्रेज़ी शब्दकोश में आते हैं।

1. Durable
2. Duty
3. Dubious
4. Duster
5. Dustbin

- Ans 1. 1, 3, 5, 4, 2
 2. 3, 1, 4, 5, 2
 3. 3, 5, 1, 4, 2
 4. 3, 1, 5, 4, 2

Question ID : 65497834710
Status : Answered
Chosen Option : 4

Q.17 दिए गए विकल्पों में से उस अक्षर-समूह का चयन कीजिए जो दी गई श्रृंखला में प्रश्न चिह्न (?) के स्थान पर आ सकता है।

PEA, SJH, VOO, YTV, ?

- Ans 1. CBY
 2. YBC
 3. CYB
 4. BYC

Question ID : 65497834697
Status : Answered
Chosen Option : 4

Q.18 दिए गए विकल्पों में से उस संख्या का चयन कीजिए, जो निम्नलिखित श्रेणी में प्रश्नवाचक चिन्ह (?) के स्थान पर आ सकती है।

345, 334, 320, 303, 283, 260, ?

- Ans
- 1. 208
 - 2. 234
 - 3. 212
 - 4. 221

Question ID : 65497834712
Status : Answered
Chosen Option : 2

Q.19 दिए गए समीकरण को संतुलित करने के लिए किन दो चिह्नों को परस्पर बदलना होगा?

$$5 - 24 + 17 \times 16 \div 4 = 133$$

- Ans
- 1. + और +
 - 2. + और ×
 - 3. × और +
 - 4. × और -

Question ID : 65497834691
Status : Answered
Chosen Option : 4

Q.20 एक परिवार में छः व्यक्ति, M, N, P, Q, R और S हैं। S, M की दादी है। P, R की बहन है। N, P के पिता हैं। M, Q और R का एकलौता पुत्र है। N की कोई विवाहित पुत्री नहीं है। M का N क्या संबंध है?

- Ans
- 1. पिता
 - 2. पुत्र
 - 3. भाई
 - 4. पोता

Question ID : 65497834696
Status : Answered
Chosen Option : 4

Q.21 दिए गए संयोजन के सही दर्पण प्रतिबिंब का चयन करें, जो दर्पण को दर्शाई गई स्थिति 'XX' पर रखने पर बनेगा।

AHKRQP

- Ans
- 1. PQRHKA
 - 2. PQRHKA
 - 3. PQRHKA
 - 4. PQRHKA

Question ID : 65497834704
Status : Answered
Chosen Option : 1

Q.22 चार अक्षर-समूह दिए गए हैं, जिनमें से तीन किसी तरह से संगत हैं और एक असंगत है। उस असंगत अक्षर-समूह का चयन करें।

- Ans
- 1. PSVY
 - 2. BEHK
 - 3. HLOR
 - 4. KNQT

Question ID : 65497834701
Status : Answered
Chosen Option : 3

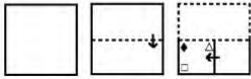
Q.23 दिए गए पैटर्न का ध्यानपूर्वक अध्ययन करें और उस संख्या का चयन करें जो इसमें प्रश्नचिह्न (?) के स्थान पर आ सकती है।

34 38 7
46 38 5
84 ? 15

- Ans
- 1. 38
 - 2. 78
 - 3. 87
 - 4. 83

Question ID : 65497834707
Status : Not Answered
Chosen Option : --

Q.24 नीचे दी गई आकृतियों में कागज के एक टुकड़े को मोड़ने का क्रम और उस मुड़े हुए कागज को काटने का तरीका दर्शाया गया है। इस कागज को खोलने पर यह कैसा दिखेगा?



Ans

- 1.
- 2.
- 3.
- 4.

Question ID : 65497834709
Status : Answered
Chosen Option : 1

Q.25 उस विकल्प का चयन करें जो तीसरे अक्षर-समूह से उसी प्रकार संबंधित है जिस प्रकार दूसरा अक्षर-समूह पहले अक्षर-समूह से संबंधित है।

DKLH : GPSQ :: FRLP : ?

- Ans
- 1. JWSY
 - 2. JWRY
 - 3. IWRZ
 - 4. IWSY

Question ID : 65497834694
Status : Answered
Chosen Option : 4

Section : Part B General Knowledge and General Awareness

Q.1 निम्नलिखित में से किस खिलाड़ी ने 2020 में फ्रांस के नांतेस में आयोजित एलेक्सिस वेलेंटाइन इंटरनेशनल बॉक्सिंग टूर्नामेंट में स्वर्ण पदक नहीं जीता था?

- Ans
- 1. संजीत
 - 2. अमित पंघाल
 - 3. सुमित सांगवान
 - 4. आशीष कुमार

Question ID : 65497834730
Status : Not Answered
Chosen Option : --

Q.2 निम्नलिखित में से कौन फारसी, अरबी और तुर्की के साथ ही साथ संस्कृत, हिंदी और राजस्थानी के प्रख्यात विद्वान थे?

- Ans
- 1. अकबर
 - 2. बीरबल
 - 3. रसखान
 - 4. अब्दुल रहीम खान-ए-खाना

Question ID : 65497834727
Status : Answered
Chosen Option : 4

Q.3 वर्ष 2019 का ज्ञानपीठ पुरस्कार किसे दिया गया था?

- Ans
- 1. शंख घोष
 - 2. अक्किताम अच्युतन नंबूदरी
 - 3. चंद्रशेखर कंबरा
 - 4. भालचंद्र नामदेव

Question ID : 65497834729
Status : Answered
Chosen Option : 2

Q.4 शेवेलियर ऑफ दि ऑर्डे डेस आर्ट्स एट डेस लेट्रेस (Chevalier of the Ordre des Arts et des Lettres) सम्मान से सम्मानित होने वाले प्रथम भारतीय अभिनेता निम्न में से कौन हैं?

- Ans
- 1. शिवाजी गणेशन
 - 2. दिलीप कुमार
 - 3. राजेश खन्ना
 - 4. रजनीकांत

Question ID : 65497834717
Status : Not Answered
Chosen Option : --

Q.5 बाल गंगाधर तिलक द्वारा संपादित कौन सा समाचार पत्र, ब्रिटिश शासन के सबसे कटु आलोचकों में से एक था?

- Ans
- 1. द ट्रिब्यून
 - 2. अमृत बाजार पत्रिका
 - 3. केसरी
 - 4. हिन्दू

Question ID : 65497834735
Status : Answered
Chosen Option : 3

Q.6 निम्नलिखित में से किस भारतीय क्रिकेटर ने 2002 में एंटीगुआ में वेस्टइंडीज के विरुद्ध अपने चोटिल जबड़े पर बंधी पट्टी बांधकर 14 ओवर तक बॉलिंग की?

- Ans
- 1. हरभजन सिंह
 - 2. ज़हीर खान
 - 3. इशांत शर्मा
 - 4. अनिल कुंबले

Question ID : 65497834733
Status : Not Answered
Chosen Option : --

Q.7 ओडिशा में गजपति साम्राज्य की स्थापना निम्नलिखित में से किस वर्ष हुई थी?

- Ans
- 1. 1435
 - 2. 1336
 - 3. 1567
 - 4. 1467

Question ID : 65497834720
Status : Not Answered
Chosen Option : --

Q.8 2021 में, 16वें G20 सम्मेलन की मेज़बानी निम्नलिखित में से किस देश ने की?

- Ans
- 1. जापान
 - 2. सऊदी अरब
 - 3. इटली
 - 4. भारत

Question ID : 65497834722
Status : Answered
Chosen Option : 3

Q.9 निम्नलिखित में से कौन सी मानव पूंजी नहीं है?

- Ans
- 1. शिक्षा
 - 2. प्रशिक्षण
 - 3. स्वास्थ्य देखभाल
 - 4. भूमि

Question ID : 65497834718
Status : Answered
Chosen Option : 3

Q.10 निम्नलिखित में से किस टाइगर रिजर्व को जुलाई 2021 में 'संरक्षण सुनिश्चित बाघ मानक (Conservation Assured Tiger Standards)' का दर्जा प्रदान किया गया था?

- Ans
- 1. रणथंभौर टाइगर रिजर्व
 - 2. बांधवगढ़ टाइगर रिजर्व
 - 3. कॉर्बेट टाइगर रिजर्व
 - 4. मुदुमलाई टाइगर रिजर्व

Question ID : 65497834738
Status : Answered
Chosen Option : 2

Q.11 निम्नलिखित में से कौन-सा तलवार नृत्य कुमाऊँनी जनजाति की युद्धकला परंपरा को चित्रित करता है?

- Ans
- 1. गेर
 - 2. कच्छी घोड़ी
 - 3. चरी
 - 4. छोलिया

Question ID : 65497834714
Status : Answered
Chosen Option : 2

Q.12 हड़प्पा स्थल पर _____ में हलरेखाओं (Furrow) के निशान खोजे गए थे।

- Ans
- 1. कालीबंगा
 - 2. बनवाली
 - 3. लोथल
 - 4. धोलावीरा

Question ID : 65497834737
Status : Answered
Chosen Option : 1

Q.13 SAFF (सैफ) महिला चैम्पियनशिप 2019 कहाँ आयोजित की गई थी?

- Ans 1. नेपाल
 2. बांग्लादेश
 3. भूटान
 4. भारत

Question ID : 65497834724
Status : Not Answered
Chosen Option : --

Q.14 मोतीलाल नेहरू की अध्यक्षता में भारतीय संविधान के मसौदे को तैयार करने के लिए किस वर्ष एक समिति का गठन किया गया था?

- Ans 1. 1934
 2. 1944
 3. 1928
 4. 1939

Question ID : 65497834721
Status : Answered
Chosen Option : 3

Q.15 भारतीय संविधान के निम्न में से किस अनुच्छेद के अंतर्गत किसी राज्य के राज्यपाल को राष्ट्रपति द्वारा अपने हस्ताक्षर और मुहर सहित अधिपत्र द्वारा नियुक्त किया जा सकता है?

- Ans 1. अनुच्छेद 153
 2. अनुच्छेद 154
 3. अनुच्छेद 156
 4. अनुच्छेद 155

Question ID : 65497834725
Status : Answered
Chosen Option : 4

Q.16 रॉबर्ट हुक (Robert Hooke) ने 1665 में माइक्रोस्कोप से _____ का निरीक्षण करते हुए कोशिका की खोज की थी।

- Ans 1. चट्टान
 2. कॉर्क के टुकड़ों
 3. पत्ती
 4. बालू के कणों

Question ID : 65497834736
Status : Answered
Chosen Option : 2

Q.17 भारतीय कम्युनिस्ट पार्टी का गठन किस वर्ष में हुआ था?

- Ans
- 1. 1940
 - 2. 1943
 - 3. 1925
 - 4. 1927

Question ID : 65497834719
Status : Answered
Chosen Option : 3

Q.18 निम्नलिखित में से कौन सी भारत में बैंकों द्वारा अपने ग्राहकों को प्रदान की जाने वाली सेवा नहीं है?

- Ans
- 1. यू.आर.एल. (URL)
 - 2. आर.टी.जी.एस. (RTGS)
 - 3. ई.सी.एस. (ECS)
 - 4. एन.ई.एफ.टी. (NEFT)

Question ID : 65497834731
Status : Answered
Chosen Option : 1

Q.19 किसी जीव के आधार युग्म अनुक्रम (base pair sequence) में परिवर्तन की प्रक्रिया क्या कहलाती है?

- Ans
- 1. निस्तारण
 - 2. परागण
 - 3. आयनीकरण
 - 4. उत्परिवर्तन

Question ID : 65497834716
Status : Answered
Chosen Option : 4

Q.20 अरुणाचल प्रदेश राज्य की सबसे ऊँची चोटी _____ है।

- Ans
- 1. कामत (Kamet)
 - 2. त्रिशूली (Trisuli)
 - 3. कंगतो (Kangto)
 - 4. नुन-कुन (Nun-Kun)

Question ID : 65497834723
Status : Answered
Chosen Option : 1

Q.21 हुंडरू जलप्रपात किस नदी पर स्थित है?

- Ans
- 1. सुवर्णरेखा
 - 2. उमंगोट
 - 3. सैगपो
 - 4. तीस्ता

Question ID : 65497834732
Status : Answered
Chosen Option : 1

Q.22 चक्रवात अम्फान भारत में कब आया था?

- Ans
- 1. जून 2020
 - 2. मार्च 2020
 - 3. अप्रैल 2020
 - 4. मई 2020

Question ID : 65497834728
Status : Not Answered
Chosen Option : --

Q.23 निम्नलिखित में से क्या, खाद्य और जल प्रदूषण का कारण नहीं है?

- Ans
- 1. खाद्य पदार्थों का अनुचित भंडारण
 - 2. कारखानों से निकला रासायनिक अपवाह
 - 3. आवारा जानवरों द्वारा काटना
 - 4. वातावरण में मौजूद संक्रामक जीव

Question ID : 65497834715
Status : Answered
Chosen Option : 3

Q.24 निम्नलिखित में से कौन सी आयु-सत्यापन परीक्षण विधि नहीं है जिसमें हाथ और कलाई के रेडियोग्राफ के आधार पर मूल्यांकन किया जाता है?

- Ans
- 1. टेनर-व्हाइटहाउस विधि
 - 2. ग्रीलुच-पाइल विधि
 - 3. ग्रीवा कशेरुक परिपक्वता विधि
 - 4. एफ.ई.एल.एस. (FELS) विधि

Question ID : 65497834726
Status : Not Answered
Chosen Option : --

Q.25 पिता की संपत्ति में पुत्रियों को समान अधिकार देने के लिए, हिंदू उत्तराधिकार अधिनियम, 1956 को किस वर्ष संशोधित किया गया था?

- Ans
- 1. 2007
 - 2. 2005
 - 3. 2010
 - 4. 2001

Question ID : 65497834734
Status : Not Answered
Chosen Option : --

Section : Part C Elementary Mathematics

Q.1 किसी कार्य को करने के लिए X, Y की तुलना में दोगुना और Z की तुलना में तीन गुना समय लेता है। वे सब एक साथ मिलकर 2 दिनों में इस कार्य को पूरा कर सकते हैं। Y अकेले इस कार्य को पूरा करने के लिए कितने दिनों का समय लेगा?

- Ans**
- 1. 6 दिन
 - 2. 10 दिन
 - 3. 12 दिन
 - 4. 14 दिन

Question ID : **65497834753**
Status : **Answered**
Chosen Option : 1

Q.2 यदि P, Q का 220% है, तो Q, P + Q का कितना प्रतिशत होगा?

- Ans**
- 1. 37%
 - 2. 25%
 - 3. 31.25%
 - 4. 48.15%

Question ID : **65497834760**
Status : **Answered**
Chosen Option : 3

Q.3 पांच अंकों की उस छोटी से छोटी संख्या को ज्ञात कीजिए जो 18, 21 और 24 से पूर्णतः विभाज्य है।

- Ans**
- 1. 10060
 - 2. 10080
 - 3. 10286
 - 4. 11310

Question ID : **65497834759**
Status : **Answered**
Chosen Option : 2

Q.4 50 kg भार वाले एक व्यक्ति के स्थान पर एक दूसरा व्यक्ति आ जाने पर 8 लोगों के औसत भार में 2.5 kg की वृद्धि हो जाती है। नए व्यक्ति का भार ज्ञात करें।

- Ans**
- 1. 52 kg
 - 2. 58 kg
 - 3. 70 kg
 - 4. 72 kg

Question ID : **65497834750**
Status : **Answered**
Chosen Option : 3

Q.5 45 km/h की चाल से चल रही एक ट्रेन एक घर को 12 sec में पार करती है। ट्रेन की लंबाई ज्ञात करें।

- Ans
- 1. 10 m
 - 2. 150 m
 - 3. 180 m
 - 4. 230 m

Question ID : 65497834754
Status : Answered
Chosen Option : 2

Q.6 5 विषयों में अमित के प्राप्तांकों का औसत 72 है। यदि इन विषयों में से 3 विषयों के प्राप्तांकों का औसत 70 है, तो शेष विषयों के प्राप्तांकों का औसत क्या होगा?

- Ans
- 1. 50
 - 2. 75
 - 3. 25
 - 4. 71

Question ID : 65497834740
Status : Answered
Chosen Option : 2

Q.7 यदि एक बेलन के आधार की त्रिज्या 20% बढ़ा दी जाए और इसकी ऊंचाई $33\frac{1}{3}\%$ घटा दी जाए, तो इसके आयतन में कितने प्रतिशत परिवर्तन हो जाएगा?

- Ans
- 1. 2% कम हो जाएगा
 - 2. 2% बढ़ जाएगा
 - 3. 4% कम हो जाएगा
 - 4. 0.4% कम हो जाएगा

Question ID : 65497834758
Status : Answered
Chosen Option : 3

Q.8 कोई धनराशि 20% वार्षिक चक्रवृद्धि ब्याज दर पर 2 वर्ष के लिए जमा की जाती है। यदि इसपर ब्याज अर्ध-वार्षिक रूप से देय होता, तो वह वार्षिक रूप से देय ब्याज की तुलना में ₹964 अधिक होता। वह धनराशि ज्ञात कीजिए।

- Ans
- 1. ₹40,000
 - 2. ₹70,000
 - 3. ₹60,000
 - 4. ₹80,000

Question ID : 65497834749
Status : Answered
Chosen Option : 1

Q.9 A, B और C किसी कार्य को क्रमशः 5, 6 और 8 दिनों में पूरा कर सकते हैं। यदि वे साथ काम करें और कार्य के लिए उन्हें ₹2,950 प्राप्त हों, तो B को इसमें से कितनी धनराशि मिलेगी?

- Ans
- 1. ₹1,050
 - 2. ₹1,150
 - 3. ₹1,000
 - 4. ₹1,200

Question ID : 65497834747
Status : Answered
Chosen Option : 3

Q.10 $\frac{\frac{3}{7} + \frac{3}{7} \times \frac{3}{7}}{\frac{3}{7} + \frac{3}{7} \div \frac{3}{7}} - \frac{9}{49}$ का मान क्या होगा?

- Ans
- 1. 1
 - 2. $\frac{40}{49}$
 - 3. $\frac{9}{49}$
 - 4. 0

Question ID : 65497834745
Status : Answered
Chosen Option : 2

Q.11 एक मिश्रण में अल्कोहल और जल का अनुपात 3 : 4 है। इसमें 8 लीटर पानी मिलाने पर अल्कोहल और जल का अनुपात 5 : 8 हो जाता है। मिश्रण की मूल मात्रा (लीटर में) कितनी है?

- Ans
- 1. 63
 - 2. 70
 - 3. 84
 - 4. 35

Question ID : 65497834756
Status : Answered
Chosen Option : 2

Q.12 यदि A का 10% = B है, तो 20 का B% कितना होगा?

- Ans
- 1. A का 5%
 - 2. A का 3%
 - 3. A का 2%
 - 4. A का 4%

Question ID : 65497834752
Status : Answered
Chosen Option : 1

Q.13 एक आयरन का क्रय मूल्य ₹210 है। इसका वह अधिकतम खुदरा मूल्य (MRP) तय कीजिए जिस पर 5% की छूट देने के बाद भी आपको 90% का लाभ प्राप्त हो।

Ans 1. ₹385.50

2. ₹420

3. ₹630

4. ₹524

Question ID : 65497834751

Status : Answered

Chosen Option : 2

Q.14 60 km/h की चाल से चल रही 243 m लंबी एक रेलगाड़ी एक सुरंग को पार करने में 42 सेकंड का समय लेती है। सुरंग की लंबाई (m में) ज्ञात कीजिए।

Ans 1. 477

2. 467

3. 447

4. 457

Question ID : 65497834762

Status : Answered

Chosen Option : 4

Q.15 $\left(\frac{2}{5} \text{ of } 7\frac{1}{2} \div 2\frac{1}{4}\right) + \left(5\frac{1}{2} \div 3\frac{2}{3} \text{ of } 6\right) - 1\frac{1}{3} \times \frac{5}{8}$ का मान ज्ञात कीजिए।

Ans 1. $\frac{2}{3}$

2. $\frac{3}{4}$

3. $\frac{1}{4}$

4. $\frac{3}{2}$

Question ID : 65497834761

Status : Answered

Chosen Option : 2

Q.16 एक वृत्ताकार बगीचे की परिधि 506 m है। ₹14 /m² की दर से इसे समतल करने की लागत (₹ में) कितनी होगी?

(मान लीजिए $\pi = \frac{22}{7}$)

- Ans
- 1. 312581
 - 2. 285131
 - 3. 251831
 - 4. 218531

Question ID : 65497834744
Status : Answered
Chosen Option : 2

Q.17 किसी लेनदेन में, लाभ प्रतिशत क्रय मूल्य का 48% है। बाद में यदि क्रय मूल्य में 20% की वृद्धि हो जाती है लेकिन विक्रय मूल्य पूर्ववत ही रहता है, तो लाभ प्रतिशत में कितनी कमी हो जाएगी?

- Ans
- 1. 34.67%
 - 2. 24.0%
 - 3. 24.67%
 - 4. 14.67%

Question ID : 65497834748
Status : Answered
Chosen Option : 3

Q.18 ₹5,000 की धनराशि पर 8% की वार्षिक ब्याज दर से, वार्षिक रूप से चक्रवृद्धि होने पर 2 वर्षों में प्राप्त चक्रवृद्धि ब्याज और साधारण ब्याज का अंतर कितना होगा?

- Ans
- 1. ₹84
 - 2. ₹64
 - 3. ₹32
 - 4. ₹48

Question ID : 65497834742
Status : Answered
Chosen Option : 3

Q.19 एक वस्तु को उसके क्रय मूल्य के $\frac{11}{8}$ गुने मूल्य पर बेचा गया। लाभ प्रतिशत ज्ञात करें।

- Ans
- 1. 37.5%
 - 2. 35%
 - 3. 36%
 - 4. 36.5%

Question ID : 65497834746
Status : Answered
Chosen Option : 1

Q.20 चार संख्याएँ 2 : 3 : 5 : 7 के अनुपात में हैं, और उनका महत्तम समापवर्तक (HCF) 6 है। सबसे बड़ी और सबसे छोटी संख्याओं के वर्गों का योग क्या होगा?

- Ans
- 1. 486
 - 2. 1908
 - 3. 54
 - 4. 324

Question ID : 65497834739
Status : Answered
Chosen Option : 2

Q.21 यदि $x : 2y = 4 : 9$ और $2 : x = 3 : 4$ है, तो y का मान कितना होगा?

- Ans
- 1. 5
 - 2. 4
 - 3. 6
 - 4. 3

Question ID : 65497834741
Status : Answered
Chosen Option : 4

Q.22 यदि $(a+b-c) : (b+c-a) : (a+c-b) = 4 : 5 : 9$ है, तो $a-b : c-b : c-a$ का मान क्या होगा?

- Ans
- 1. 1 : 4 : 5
 - 2. 4 : 5 : 1
 - 3. 5 : 1 : 4
 - 4. 4 : 1 : 5

Question ID : 65497834743
Status : Not Answered
Chosen Option : --

Q.23 A retailer gains 18% after allowing 12% discount on the cost price. If the cost price is ₹16,500, then what is the selling price?

- Ans
- 1. ₹17,550
 - 2. ₹17,133.60
 - 3. ₹16,155.50
 - 4. ₹17,354.60

Question ID : 65497834755
Status : Answered
Chosen Option : 2

Q.24 एक व्यापारी ₹600 में दो वस्तुएं A और B खरीदता है। वह A को 20% के लाभ पर और B को 10% की हानि पर बेचता है। यदि इस पूरे लेनदेन में उसे 8% का लाभ अर्जित होता है, तो वस्तु A का क्रय मूल (₹ में) कितना होगा?

- Ans**
- 1. 350
 - 2. 360
 - 3. 375
 - 4. 380

Question ID : 65497834763
Status : Answered
Chosen Option : 2

Q.25 ₹7,500 की धनराशि पर 24% वार्षिक दर से 3 महीने में प्राप्त चक्रवृद्धि ब्याज (₹ में, निकटतम ₹ तक) कितना होगा, यदि ब्याज मासिक रूप में चक्रवृद्धि होता है?

- Ans**
- 1. 303
 - 2. 459
 - 3. 439
 - 4. 465

Question ID : 65497834757
Status : Answered
Chosen Option : 2

Section : Part D English

Q.1 Select the most appropriate synonym of the given word.

Similar

- Ans**
- 1. Alien
 - 2. Alike
 - 3. Equal
 - 4. Several

Question ID : 65497834771
Status : Not Answered
Chosen Option : --

Q.2 Select the option that can be used as a one-word substitute for the given group of words.

Fluent or persuasive in speaking or writing

- Ans**
- 1. Eloquent
 - 2. Presenter
 - 3. Magnificent
 - 4. Persuader

Question ID : 65497834776
Status : Not Answered
Chosen Option : --

Q.3 Select the **INCORRECTLY** spelt word.

- Ans 1. Criteria
 2. Solitary
 3. Ledgible
 4. Individual

Question ID : 65497834782
Status : Not Answered
Chosen Option : --

Q.4 Select the most appropriate option that can substitute the underlined segment in the given sentence. If there is no need to substitute it, select 'No substitution required'.

If I see a snake, I tried to catch it.

- Ans 1. was trying
 2. No substitution required
 3. am trying
 4. will try to catch

Question ID : 65497834764
Status : Not Answered
Chosen Option : --

Q.5 Select the most appropriate option to fill in the blank.

Hill stations like Darjeeling and Nainital offer _____ to weary tourists during summer.

- Ans 1. activity
 2. solace
 3. aid
 4. strain

Question ID : 65497834766
Status : Not Answered
Chosen Option : --

Q.6 Select the option that can be used as a one-word substitute for the given group of words.

Something that can be carried easily

- Ans 1. Reachable
 2. Convenient
 3. Handy
 4. Portable

Question ID : 65497834781
Status : Not Answered
Chosen Option : --

Q.7 Select the most appropriate option to fill in the blank.

The Sports Minister _____ the Badminton Association officials that all help will be given to them to conduct the tournament.

- Ans** 1. assured
 2. ascertained
 3. demonstrated
 4. committed

Question ID : 65497834768
Status : Not Answered
Chosen Option : --

Q.8 Select the most appropriate ANTONYM of the given word.

Ample

- Ans** 1. Spare
 2. Enough
 3. Plenty
 4. Scarce

Question ID : 65497834780
Status : Not Answered
Chosen Option : --

Q.9 Parts of the given sentence have been given as options. One of them contains a grammatical error. Select the option that has the error.

Rama's scores in the half-yearly examination are best than Raghu's scores.

- Ans** 1. in the
 2. Raghu's scores
 3. are best than
 4. Rama's scores

Question ID : 65497834774
Status : Not Answered
Chosen Option : --

Q.10 Select the most appropriate meaning of the given idiom.

To pull a fast one on someone

- Ans** 1. To win against someone
 2. To enchant someone
 3. To cheat someone
 4. To drive very fast

Question ID : 65497834778
Status : Not Answered
Chosen Option : --

Q.11 Select the most appropriate ANTONYM of the given word.

Opponent

- Ans 1. Professor
 2. Presenter
 3. Mentor
 4. Supporter

Question ID : 65497834772
Status : Not Answered
Chosen Option : --

Q.12 Select the option that can be used as a one-word substitute for the given group of words.

Handwritten book

- Ans 1. Outline
 2. Draft
 3. Edition
 4. Manuscript

Question ID : 65497834767
Status : Not Answered
Chosen Option : --

Q.13 Select the most appropriate synonym of the given word.

Convert

- Ans 1. Transform
 2. Affect
 3. Dazzle
 4. Radical

Question ID : 65497834775
Status : Not Answered
Chosen Option : --

Q.14 Select the most appropriate option to fill in the blank.

If the neighbours had not _____ food, we might have starved.

- Ans 1. stolen
 2. provided
 3. added
 4. thrown

Question ID : 65497834783
Status : Not Answered
Chosen Option : --

Q.15 The following sentence has been split into four segments. Identify the segment that contains a grammatical error.

The photographer climb / the tree and took pictures / of the leopard / chasing its prey.

- Ans**
- 1. the tree and took pictures
 - 2. The photographer climb
 - 3. of the leopard
 - 4. chasing its prey

Question ID : 65497834770
Status : Not Answered
Chosen Option : --

Q.16 Select the **INCORRECTLY** spelt word.

- Ans**
- 1. Hospitaliti
 - 2. Hoist
 - 3. Hostel
 - 4. Hold

Question ID : 65497834765
Status : Not Answered
Chosen Option : --

Q.17 Select the most appropriate option that can substitute the underlined segment in the given sentence. If there is no need to substitute it, select 'No substitution required'.

If you are in trouble, Tommy is the friend who stands by you.

- Ans**
- 1. No substitution required
 - 2. was standing by
 - 3. will stand by
 - 4. stood by

Question ID : 65497834777
Status : Not Answered
Chosen Option : --

Q.18 The following sentence has been split into four segments. Identify the segment that contains a grammatical error.

The Great Wall of China / is no long / a continuous structure /owing to erosion.

- Ans**
- 1. The Great Wall of China
 - 2. a continuous structure
 - 3. is no long
 - 4. owing to erosion

Question ID : 65497834779
Status : Not Answered
Chosen Option : --

Q.19 Select the most appropriate meaning of the given idiom.

To kick the bucket

- Ans** 1. To die
 2. To play
 3. To fight
 4. To lose

Question ID : **65497834773**
Status : **Not Answered**
Chosen Option : --

Q.20 Select the most appropriate option that can substitute the underlined segment in the given sentence. If there is no need to substitute it, select 'No substitution required'.

Indirect questions will be used while seeking information about an embarrassing subject.

- Ans** 1. No substitution required
 2. are used while seeking information
 3. are use while seeking information
 4. are used while seek information

Question ID : **65497834769**
Status : **Not Answered**
Chosen Option : --

Comprehension:

In the following passage, some words have been deleted. Read the passage carefully and select the most appropriate option to fill in each blank.

Pollution is the (1)_____ of the environment and the biggest problem across the globe. The major causes of pollution include (2)_____ use of motor vehicles, rapid industrialisation, increasing urbanisation, use of chemical fertilisers in agriculture and burning of fossil fuels. It has a (3)_____ effect on human health. Air pollution causes respiratory diseases and other diseases related to lungs. Noise pollution impairs the (4)_____ senses and causes stress. Water pollution pollutes water, which is mainly harmful for aquatic animals. The responsibility of (5)_____ the pollution is in the hands of human beings.

SubQuestion No : 21

Q.21 Select the most appropriate option to fill in blank no. 1.

- Ans** 1. adulteration
 2. impure
 3. mixture
 4. contamination

Question ID : **65497834785**
Status : **Not Answered**
Chosen Option : --

Comprehension:

In the following passage, some words have been deleted. Read the passage carefully and select the most appropriate option to fill in each blank.

Pollution is the (1)_____ of the environment and the biggest problem across the globe. The major causes of pollution include (2)_____ use of motor vehicles, rapid industrialisation, increasing urbanisation, use of chemical fertilisers in agriculture and burning of fossil fuels. It has a (3)_____ effect on human health. Air pollution causes respiratory diseases and other diseases related to lungs. Noise pollution impairs the (4)_____ senses and causes stress. Water pollution pollutes water, which is mainly harmful for aquatic animals. The responsibility of (5)_____ the pollution is in the hands of human beings.

SubQuestion No : 22

Q.22 Select the most appropriate option to fill in blank no. 2.

- Ans** 1. bulky
 2. massive
 3. compact
 4. slight

Question ID : **65497834786**
Status : **Not Answered**
Chosen Option : --

Comprehension:

In the following passage, some words have been deleted. Read the passage carefully and select the most appropriate option to fill in each blank.

Pollution is the (1)_____ of the environment and the biggest problem across the globe. The major causes of pollution include (2)_____ use of motor vehicles, rapid industrialisation, increasing urbanisation, use of chemical fertilisers in agriculture and burning of fossil fuels. It has a (3)_____ effect on human health. Air pollution causes respiratory diseases and other diseases related to lungs. Noise pollution impairs the (4)_____ senses and causes stress. Water pollution pollutes water, which is mainly harmful for aquatic animals. The responsibility of (5)_____ the pollution is in the hands of human beings.

SubQuestion No : 23

Q.23 Select the most appropriate option to fill in blank no. 3.

- Ans** 1. hazardous
 2. risky
 3. safe
 4. threatened

Question ID : **65497834787**
Status : **Not Answered**
Chosen Option : --

Comprehension:

In the following passage, some words have been deleted. Read the passage carefully and select the most appropriate option to fill in each blank.

Pollution is the (1)_____ of the environment and the biggest problem across the globe. The major causes of pollution include (2)_____ use of motor vehicles, rapid industrialisation, increasing urbanisation, use of chemical fertilisers in agriculture and burning of fossil fuels. It has a (3)_____ effect on human health. Air pollution causes respiratory diseases and other diseases related to lungs. Noise pollution impairs the (4)_____ senses and causes stress. Water pollution pollutes water, which is mainly harmful for aquatic animals. The responsibility of (5)_____ the pollution is in the hands of human beings.

SubQuestion No : 24

Q.24 Select the most appropriate option to fill in blank no. 4.

- Ans 1. hearing
 2. auditory
 3. audible
 4. audacious

Question ID : 65497834788
Status : Not Answered
Chosen Option : --

Comprehension:

In the following passage, some words have been deleted. Read the passage carefully and select the most appropriate option to fill in each blank.

Pollution is the (1)_____ of the environment and the biggest problem across the globe. The major causes of pollution include (2)_____ use of motor vehicles, rapid industrialisation, increasing urbanisation, use of chemical fertilisers in agriculture and burning of fossil fuels. It has a (3)_____ effect on human health. Air pollution causes respiratory diseases and other diseases related to lungs. Noise pollution impairs the (4)_____ senses and causes stress. Water pollution pollutes water, which is mainly harmful for aquatic animals. The responsibility of (5)_____ the pollution is in the hands of human beings.

SubQuestion No : 25

Q.25 Select the most appropriate option to fill in blank no. 5.

- Ans 1. minimising
 2. minimal
 3. minimum
 4. minimise

Question ID : 65497834789
Status : Not Answered
Chosen Option : --

Section : Part D Hindi

Q.1 'उल्लास' किसका पर्यायवाची है?

- Ans 1. भय
 2. आनंद
 3. साहस
 4. क्रोध

Question ID : 65497834809
Status : Answered
Chosen Option : 2

Q.2 उस विकल्प का चयन करें जो निम्न मुहावरे का अर्थ व्यक्त करता है।

आंखें चुराना

- Ans
- 1. प्यार होना
 - 2. विमुख होना
 - 3. नाराज होना
 - 4. अनदेखा करना

Question ID : 65497834802
Status : Answered
Chosen Option : 4

Q.3 रिक्त स्थान की पूर्ति के लिए सबसे उपयुक्त शब्द का चयन करें।

थिएटर में कौन सा _____ खेला जा रहा है।

- Ans
- 1. खेल
 - 2. नाटक
 - 3. सिनेमा
 - 4. पिक्चर

Question ID : 65497834792
Status : Answered
Chosen Option : 1

Q.4 दिए गए वाक्य में रेखांकित खंड को प्रतिस्थापित करने के लिए सबसे उपयुक्त विकल्प का चयन करें।
यदि इसे प्रतिस्थापित करने की आवश्यकता नहीं है, तो विकल्प 'किसी बदलाव की आवश्यकता नहीं है'
का चयन करें।

मुझे अपने पर आत्मविश्वास है।

- Ans
- 1. अपने पर विश्वास
 - 2. अपने में आत्मविश्वास
 - 3. किसी बदलाव की आवश्यकता नहीं है।
 - 4. अपने ऊपर आत्मविश्वास

Question ID : 65497834800
Status : Answered
Chosen Option : 1

Q.5 दिये गये वाक्य के किस भाग में त्रुटि है?

आज हम बजार चलेंगे।

- Ans
- 1. आज
 - 2. चलेंगे।
 - 3. हम
 - 4. बजार

Question ID : 65497834808
Status : Answered
Chosen Option : 4

Q.6 दिए गए वाक्य का वह भाग ज्ञात करें जिसमें कोई त्रुटि है। यदि कोई त्रुटि नहीं है, तो 'कोई त्रुटि नहीं है' चुनें।

यद्यपि उसके पास (1)\ उतना धन है तथापि (2)\ वह स्वस्थ नहीं है। (3)\ कोई त्रुटि नहीं है (4)

Ans 1. 3

2. 2

3. 1

4. 4

Question ID : 65497834794

Status : Answered

Chosen Option : 2

Q.7 दिए गए वाक्य का वह भाग ज्ञात करें जिसमें कोई त्रुटि है। यदि कोई त्रुटि नहीं है, तो 'कोई त्रुटि नहीं है' चुनें।

बुद्धिमान व्यक्ति की प्रखर बुद्धि हर कार्य में परिलक्षित होती है।

Ans 1. कोई त्रुटि नहीं है।

2. प्रखर बुद्धि

3. बुद्धिमान व्यक्ति की

4. हर कार्य में परिलक्षित होती है।

Question ID : 65497834798

Status : Answered

Chosen Option : 2

Q.8 'निरर्थक' का विलोम शब्द होगा-

Ans 1. समर्थक

2. सार्थक

3. सफल

4. रक्षक

Question ID : 65497834806

Status : Answered

Chosen Option : 2

Q.9 दिए गए वाक्य में रेखांकित खंड को प्रतिस्थापित करने के लिए सबसे उपयुक्त विकल्प का चयन करें। यदि इसे प्रतिस्थापित करने की आवश्यकता नहीं है, तो विकल्प 'किसी बदलाव की आवश्यकता नहीं है' का चयन करें।

महापुरुषों के उपदेशों का अपने जीवन में सम्मान करो।

Ans 1. निषेध करो

2. किसी बदलाव की आवश्यकता नहीं है।

3. प्रयोग करो

4. पालन करो

Question ID : 65497834801

Status : Answered

Chosen Option : 3

Q.10 सही वर्तनी वाले शब्द का चयन कीजिए।

- Ans 1. रुढ़िवादी
 2. रुढ़िवादि
 3. रूढ़िवादि
 4. रूढ़िवादी

Question ID : 65497834791
Status : Answered
Chosen Option : 1

Q.11 रिक्त स्थान की पूर्ति के लिए सबसे उपयुक्त शब्द का चयन करें।

हमें भारतीय होने पर _____ है।

- Ans 1. उन्माद
 2. दर्प
 3. गर्व
 4. घमंड

Question ID : 65497834804
Status : Answered
Chosen Option : 3

Q.12 दिए गए शब्द के समानार्थी शब्द का चयन करें।

भ्रमर

- Ans 1. भौरा
 2. जुगनू
 3. मक्खी
 4. तितली

Question ID : 65497834799
Status : Answered
Chosen Option : 1

Q.13 'बखिया उधेड़ना' मुहावरे का सही अर्थ क्या है?

- Ans 1. कठिन कार्य करना
 2. भेद खोलना
 3. प्रशंसा करना
 4. अत्यधिक क्रोध होना

Question ID : 65497834807
Status : Answered
Chosen Option : 2

Q.14 दिए गए शब्द का विलोम चुनें।

उर्वर

- Ans 1. ऊसर
 2. नीरस
 3. उर्वरक
 4. धूसर

Question ID : 65497834795
Status : Answered
Chosen Option : 4

Q.15 दिए गए वाक्य में रेखांकित खंड को प्रतिस्थापित करने के लिए सबसे उपयुक्त विकल्प का चयन करें।
यदि इसे प्रतिस्थापित करने की आवश्यकता नहीं है, तो विकल्प 'किसी बदलाव की आवश्यकता नहीं है'
का चयन करें।

उन्हें तात्कालिक आदेश से निलंबित कर दिये गया।

- Ans 1. आदेश से निलंबित करा दिये गया।
 2. आदेश से निलंबित कर दिया गया।
 3. आदेश से निलंबित कर दिये गये।
 4. किसी बदलाव की आवश्यकता नहीं है।

Question ID : 65497834793
Status : Answered
Chosen Option : 2

Q.16 _____ समाज का दर्पण है - रिक्त स्थान की पूर्ति कीजिए-

- Ans 1. गणित
 2. निवेदक
 3. साहित्य
 4. आलोचक

Question ID : 65497834805
Status : Answered
Chosen Option : 3

Q.17 दिये गये वाक्यांश के लिए एक शब्द दीजिये।

चिरकाल तक जीवित रहने वाला

- Ans 1. चिरंजीवी
 2. चिरंतन
 3. परजीवी
 4. परोपकारी

Question ID : 65497834797
Status : Answered
Chosen Option : 1

Q.18 सही वर्तनी वाले शब्द का चयन कीजिए।

- Ans 1. पारीश्रमिक
 2. पारिश्रमिक
 3. परीश्रमिक
 4. पारीश्रमीक

Question ID : 65497834790
Status : Answered
Chosen Option : 2

Q.19 'जिसमें चेतना न हो' वाक्यांश के लिए एक शब्द होगा-

- Ans 1. चेतन
 2. अचेतन
 3. मूर्ख
 4. चिरंतन

Question ID : 65497834803
Status : Answered
Chosen Option : 2

Q.20 दिए गये वाक्यांश के लिए एक शब्द है-

जिस स्त्री को कोई संतान न हो सके

- Ans 1. अस्तैण
 2. बंध्या
 3. संतानहीन
 4. अभागी

Question ID : 65497834796
Status : Answered
Chosen Option : 2

Comprehension:

दिए गए गद्यांश में से कुछ शब्द हटा दिए गए हैं। संबंधित प्रश्नों में प्रत्येक संख्या के लिए सबसे उपयुक्त विकल्प का चयन करें।

प्रकृति मनुष्य को ईश्वर का अनुपम (1) _____ है। प्रकृति सदा से मनुष्य की सहचरी रही है और अपने गुणों एवं सौंदर्य से मानव को तृप्त करती रही है। मनुष्य भी उसके (2) _____ रूप के प्रति खिंचा चला गया है, परंतु जैसे-जैसे मनुष्य के हाथों में विज्ञान की शक्ति आने लगी, उसने प्रकृति का दोहन किया और अपनी सहचरी प्रकृति को (3) _____ पहुँचाना आरंभ कर दिया। विज्ञान के बल पर वह स्वयं को सर्व-शक्तिमान समझने लगा और अपने ही (4) _____ की खाई खोदने लगा। बढ़ता हुआ प्रदूषण और प्राकृतिक असंतुलन इसी के परिणाम हैं। प्रकृति को नुकसान पहुँचाकर उसने समस्त मानव जाति को नुकसान पहुँचाया है। प्रकृति के साथ (5) _____ स्थापित करके ही मनुष्यता को बचाया जा सकता है।

SubQuestion No : 21

Q.21 गद्यांश के रिक्त स्थान (1) के लिए सर्वाधिक उपयुक्त शब्द होगा-

- Ans**
- 1. अभिशाप
 - 2. रूप
 - 3. एहसास
 - 4. वरदान

Question ID : 65497834811

Status : Answered

Chosen Option : 4

Comprehension:

दिए गए गद्यांश में से कुछ शब्द हटा दिए गए हैं। संबंधित प्रश्नों में प्रत्येक संख्या के लिए सबसे उपयुक्त विकल्प का चयन करें।

प्रकृति मनुष्य को ईश्वर का अनुपम (1) _____ है। प्रकृति सदा से मनुष्य की सहचरी रही है और अपने गुणों एवं सौंदर्य से मानव को तृप्त करती रही है। मनुष्य भी उसके (2) _____ रूप के प्रति खिंचा चला गया है, परंतु जैसे-जैसे मनुष्य के हाथों में विज्ञान की शक्ति आने लगी, उसने प्रकृति का दोहन किया और अपनी सहचरी प्रकृति को (3) _____ पहुँचाना आरंभ कर दिया। विज्ञान के बल पर वह स्वयं को सर्व-शक्तिमान समझने लगा और अपने ही (4) _____ की खाई खोदने लगा। बढ़ता हुआ प्रदूषण और प्राकृतिक असंतुलन इसी के परिणाम हैं। प्रकृति को नुकसान पहुँचाकर उसने समस्त मानव जाति को नुकसान पहुँचाया है। प्रकृति के साथ (5) _____ स्थापित करके ही मनुष्यता को बचाया जा सकता है।

SubQuestion No : 22

Q.22 गद्यांश के रिक्त स्थान (2) के लिए सर्वाधिक उपयुक्त शब्द होगा-

- Ans**
- 1. आकर्षक
 - 2. अभिशाप्त
 - 3. निकृष्ट
 - 4. अनाकर्षक

Question ID : 65497834812

Status : Answered

Chosen Option : 1

Comprehension:

दिए गए गद्यांश में से कुछ शब्द हटा दिए गए हैं। संबंधित प्रश्नों में प्रत्येक संख्या के लिए सबसे उपयुक्त विकल्प का चयन करें।

प्रकृति मनुष्य को ईश्वर का अनुपम (1) _____ है। प्रकृति सदा से मनुष्य की सहचरी रही है और अपने गुणों एवं सौंदर्य से मानव को तृप्त करती रही है। मनुष्य भी उसके (2) _____ रूप के प्रति खिंचा चला गया है, परंतु जैसे-जैसे मनुष्य के हाथों में विज्ञान की शक्ति आने लगी, उसने प्रकृति का दोहन किया और अपनी सहचरी प्रकृति को (3) _____ पहुँचाना आरंभ कर दिया। विज्ञान के बल पर वह स्वयं को सर्व-शक्तिमान समझने लगा और अपने ही (4) _____ की खाई खोदने लगा। बढ़ता हुआ प्रदूषण और प्राकृतिक असंतुलन इसी के परिणाम हैं। प्रकृति को नुकसान पहुँचाकर उसने समस्त मानव जाति को नुकसान पहुँचाया है। प्रकृति के साथ (5) _____ स्थापित करके ही मनुष्यता को बचाया जा सकता है।

SubQuestion No : 23

Q.23 गद्यांश के रिक्त स्थान (3) के लिए सर्वाधिक उपयुक्त शब्द होगा-

- Ans
- 1. सम्पन्नता
 - 2. हानि
 - 3. लाभ
 - 4. सामर्थ्य

Question ID : 65497834813

Status : Answered

Chosen Option : 2

Comprehension:

दिए गए गद्यांश में से कुछ शब्द हटा दिए गए हैं। संबंधित प्रश्नों में प्रत्येक संख्या के लिए सबसे उपयुक्त विकल्प का चयन करें।

प्रकृति मनुष्य को ईश्वर का अनुपम (1) _____ है। प्रकृति सदा से मनुष्य की सहचरी रही है और अपने गुणों एवं सौंदर्य से मानव को तृप्त करती रही है। मनुष्य भी उसके (2) _____ रूप के प्रति खिंचा चला गया है, परंतु जैसे-जैसे मनुष्य के हाथों में विज्ञान की शक्ति आने लगी, उसने प्रकृति का दोहन किया और अपनी सहचरी प्रकृति को (3) _____ पहुँचाना आरंभ कर दिया। विज्ञान के बल पर वह स्वयं को सर्व-शक्तिमान समझने लगा और अपने ही (4) _____ की खाई खोदने लगा। बढ़ता हुआ प्रदूषण और प्राकृतिक असंतुलन इसी के परिणाम हैं। प्रकृति को नुकसान पहुँचाकर उसने समस्त मानव जाति को नुकसान पहुँचाया है। प्रकृति के साथ (5) _____ स्थापित करके ही मनुष्यता को बचाया जा सकता है।

SubQuestion No : 24

Q.24 गद्यांश के रिक्त स्थान (4) के लिए सर्वाधिक उपयुक्त शब्द होगा-

- Ans
- 1. विकास
 - 2. प्रगति
 - 3. विनाश
 - 4. मृत्यु

Question ID : 65497834814

Status : Answered

Chosen Option : 3

Comprehension:

दिए गए गद्यांश में से कुछ शब्द हटा दिए गए हैं। संबंधित प्रश्नों में प्रत्येक संख्या के लिए सबसे उपयुक्त विकल्प का चयन करें।

प्रकृति मनुष्य को ईश्वर का अनुपम (1) _____ है। प्रकृति सदा से मनुष्य की सहचरी रही है और अपने गुणों एवं सौंदर्य से मानव को तृप्त करती रही है। मनुष्य भी उसके (2) _____ रूप के प्रति खिंचा चला गया है, परंतु जैसे-जैसे मनुष्य के हाथों में विज्ञान की शक्ति आने लगी, उसने प्रकृति का दोहन किया और अपनी सहचरी प्रकृति को (3) _____ पहुँचाना आरंभ कर दिया। विज्ञान के बल पर वह स्वयं को सर्व-शक्तिमान समझने लगा और अपने ही (4) _____ की खाई खोदने लगा। बढ़ता हुआ प्रदूषण और प्राकृतिक असंतुलन इसी के परिणाम हैं। प्रकृति को नुकसान पहुँचाकर उसने समस्त मानव जाति को नुकसान पहुँचाया है। प्रकृति के साथ (5) _____ स्थापित करके ही मनुष्यता को बचाया जा सकता है।

SubQuestion No : 25

Q.25 गद्यांश के रिक्त स्थान (5) के लिए सर्वाधिक उपयुक्त शब्द होगा-

- Ans**
- 1. सामंजस्य
 - 2. सहजता
 - 3. समरूपता
 - 4. समानता

Question ID : 65497834815

Status : Answered

Chosen Option : 1