

## Constable GD in CAPFs NIA SSF and Rifleman GD in Assam Rifles Examination 2021

Roll Number	<a href="http://www.GovtJobsAlert.In">www.GovtJobsAlert.In</a>
Candidate Name	<a href="http://www.GovtJobsAlert.In">www.GovtJobsAlert.In</a>
Venue Name	Global Infomerit
Exam Date	24/11/2021
Exam Time :	12:30 PM - 2:00 PM
Subject	Constable GD 2021

### Section : Part A General Intelligence and Reasoning

Q.1 P, Q, R, S, T, U, V और W एक वृत्ताकार मेज के चारों ओर एक दूसरे से समान दूरी पर इसी क्रम में वामावर्त बैठे हुए हैं। सभी का मुंह मेज के केंद्र की ओर है। S का मुंह दक्षिण की ओर है। यदि V और Q आपस में अपना स्थान बदल लेते हैं, तो Q के बैठने की दिशा ज्ञात कीजिए।

- Ans
- 1. उत्तर-पूर्व
  - 2. दक्षिण-पश्चिम
  - 3. दक्षिण-पूर्व
  - 4. उत्तर

Question ID : 65497834201  
Status : Answered  
Chosen Option : 2

Q.2 'बहुमत' का जो संबंध 'अल्पमत' से है 'प्राकृतिक' का वही संबंध ' \_\_\_\_\_ ' से है।

- Ans
- 1. सुगंध
  - 2. वातावरण
  - 3. प्रकृति
  - 4. कृत्रिम

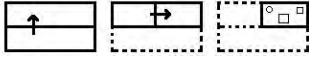
Question ID : 65497834182  
Status : Answered  
Chosen Option : 4

Q.3 छः व्यक्ति P, Q, R, S, T और U एक पंक्ति में बैठकर फिल्म देख रहे हैं। वे सब उत्तर दिशा की ओर अभिमुख हैं। S ठीक P और Q के बीच में बैठा है। T, P के बाएँ दूसरे स्थान पर है। R, Q के बाएँ तीसरे स्थान पर है। Q एक छोर पर बैठा है। दूसरे छोर पर कौन बैठा है?

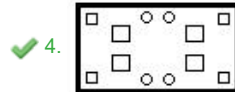
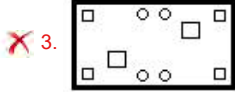
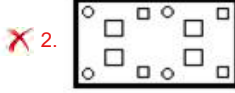
- Ans
- 1. S
  - 2. U
  - 3. T
  - 4. R

Question ID : 65497834183  
Status : Answered  
Chosen Option : 2

Q.4 दिए गए चित्र में कागज के एक टुकड़े को मोड़ने का क्रम और मुड़े हुए टुकड़े को काटने की विधि दर्शाई गई है। यह कागज खोलने पर कैसा दिखेगा?



Ans



Question ID : 65497834189

Status : Answered

Chosen Option : 4

Q.5 ₹1,189 की धनराशि राकेश, मृणाल और संजय के बीच क्रमशः 11 : 13 : 17 के अनुपात में विभाजित की जानी है। संजय को राकेश से कितनी अधिक धनराशि प्राप्त होगी?

Ans

1. ₹160

2. ₹222

3. ₹194

4. ₹174

Question ID : 65497834188

Status : Answered

Chosen Option : 4

Q.6 मीरा, केतन की पत्नी है। चैतन्य, कपिला का भाई है, जो कि सुदीप की पत्नी है। रानी, केतन की माँ और सुरेंद्र की पत्नी है। चैतन्य, रानी का पुत्र है। सुरेंद्र का सुदीप से क्या संबंध है?

Ans

1. पिता

2. ससुर

3. भाई

4. पुत्र

Question ID : 65497834194

Status : Answered

Chosen Option : 2

Q.7 किसी निश्चित कूट भाषा में, 'SOIL' को '38301824' के रूप में कूटबद्ध किया जाता है। उसी कूट भाषा में 'DECIMAL' को किस रूप में कूटबद्ध किया जाएगा?

Ans

1. 85161626224

2. 81062028226

3. 81061826224

4. 41060928224

Question ID : 65497834193

Status : Answered

Chosen Option : 3

Q.8 दिए गए विकल्पों में से उस अक्षर का चयन करें, जो निम्नलिखित श्रृंखला में प्रश्नवाचक चिह्न (?) के स्थान पर आ सकता है।

G, K, O, S, W, A, ?

- Ans  1. C  
 2. J  
 3. E  
 4. G

Question ID : 65497834181  
Status : Answered  
Chosen Option : 3

Q.9 दिए गए विकल्पों में से उस संख्या का चयन करें जो निम्नलिखित श्रृंखला में प्रश्न चिह्न (?) के स्थान पर आ सकती है।

1, 2, 2, 4, 8, 32, ?

- Ans  1. 256  
 2. 64  
 3. 40  
 4. 16

Question ID : 65497834199  
Status : Answered  
Chosen Option : 1

Q.10 उस विकल्प का चयन करें, जिसमें संख्याएं एक-दूसरे से उसी तरह से संबंधित हैं जैसे दिए गए समुच्चय में संख्याएं एक-दूसरे से संबंधित हैं।

(9, 79, 7)

- Ans  1. (12, 135, 18)  
 2. (24, 635, 25)  
 3. (15, 239, 14)  
 4. (20, 800, 40)

Question ID : 65497834187  
Status : Not Answered  
Chosen Option : --

Q.11 किसी निश्चित कूट भाषा में, 'MANGOES' को 'AEGMNOS' के रूप में लिखा जाता है। उसी कूट भाषा में 'FRIEND' को किस रूप में लिखा जाएगा?

- Ans  1. RDHFNI  
 2. UIRVMW  
 3. RFEIDN  
 4. DEFINR

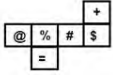
Question ID : 65497834185  
Status : Answered  
Chosen Option : 1

Q.12 किसी निश्चित कूट भाषा में, 'LEJ' को 'XJT' के रूप में लिखा जाता है और 'FAME' को 'LBZJ' के रूप में लिखा जाता है। उसी कूट भाषा में 'CABLE' को किस रूप में लिखा जाएगा?

- Ans
- 1. XZYOJ
  - 2. DBCXF
  - 3. FBDXJ
  - 4. HBDZJ

Question ID : 65497834192  
Status : Answered  
Chosen Option : 3

Q.13 दी गई शीट को मोड़कर एक घन बनाया जाता है। इस प्रकार निर्मित घन में, '+' चिह्न वाले फलक के विपरीत फलक पर कौन सा चिह्न मौजूद होगा?



- Ans
- 1. @
  - 2. =
  - 3. #
  - 4. %

Question ID : 65497834204  
Status : Answered  
Chosen Option : 2

Q.14 उस विकल्प का चयन करें, जिसमें दी गई आकृति अंतर्निहित है (आकृति को घुमाने की अनुमति नहीं है)।



Ans

- 1.
- 2.
- 3.
- 4.

Question ID : 65497834205  
Status : Not Answered  
Chosen Option : --

Q.15 यदि दर्पण को दाईं ओर रखा गया हो, तो दिए गए संयोजन के सही दर्पण प्रतिबिंब का चयन करें।

GN21qK

Ans

1. K b 1 2 N G  
 2. K p 1 2 N G  
 3. K p 1 2 N G  
 4. K p 1 2 N G

Question ID : 65497834196

Status : Answered

Chosen Option : 3

Q.16 उस विकल्प का चयन करें जिसमें नीचे दिए गए शब्दों को उस क्रम में दर्शाया गया है जिस क्रम में वे अंग्रेज़ी शब्दकोश में आते हैं।

1. Pegmatites
2. Persistence
3. Peroration
4. Percodan
5. Perfection

Ans

1. 1, 3, 2, 4, 5  
 2. 1, 3, 4, 5, 2  
 3. 1, 4, 5, 3, 2  
 4. 1, 4, 5, 2, 3

Question ID : 65497834197

Status : Answered

Chosen Option : 3

Q.17 चार अक्षर-समूह दिए गए हैं, जिनमें से तीन किसी तरह से एक समान हैं और एक असंगत है। उस अक्षर-समूह का चयन करें जो असंगत है।

Ans

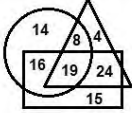
1. DHI  
 2. KOP  
 3. PRT  
 4. HLM

Question ID : 65497834190

Status : Answered

Chosen Option : 3

Q.18 निम्नांकित आरेख में, वृत्त 'अध्यापकों' को निरूपित करता है, आयत 'अंशकालिक कार्यकर्ताओं' को निरूपित करता है और त्रिभुज 'ऑनलाइन शिक्षकों' को निरूपित करता है। भिन्न-भिन्न खंडों में दी गई संख्याएँ, उस संवर्ग के व्यक्तियों की संख्या दर्शाती हैं।



कितने अध्यापक ऑनलाइन शिक्षक के साथ-साथ अंशकालिक कार्यकर्ता भी हैं?

- Ans
- 1. 16
  - 2. 24
  - 3. 19
  - 4. 15

Question ID : 65497834184  
Status : Answered  
Chosen Option : 3

Q.19 दिए गए समीकरण को सही करने के लिए किन दो चिह्नों को आपस में बदला जाना चाहिए?

$$12 - 14 \times 21 \div 7 + 28 = 193$$

- Ans
- 1.  $\times$  और  $+$
  - 2.  $\times$  और  $-$
  - 3.  $+$  और  $\div$
  - 4.  $+$  और  $\times$

Question ID : 65497834203  
Status : Answered  
Chosen Option : 2

Q.20 दिए गए कथनों और निष्कर्षों को ध्यान से पढ़ें। यह मानते हुए कि कथनों में दी गई जानकारी सत्य है, भले ही यह सामान्य रूप से ज्ञात तथ्यों से भिन्न प्रतीत होती हो, यह निर्णय लें कि दिए गए निष्कर्षों में से कौन सा/से निष्कर्ष तार्किक रूप से कथनों का अनुसरण करता है/करते हैं।

कथन:

1. कुछ औषधियां, इंजेक्शन हैं।
2. कोई इंजेक्शन, उपकरण नहीं है।

निष्कर्ष:

- I. कोई उपकरण, इंजेक्शन नहीं है।
- II. कोई औषधि, उपकरण नहीं है।

- Ans
- 1. कोई भी निष्कर्ष अनुसरण नहीं करता है।
  - 2. केवल निष्कर्ष I अनुसरण करता है।
  - 3. केवल निष्कर्ष II अनुसरण करता है।
  - 4. दोनों निष्कर्ष अनुसरण करते हैं।

Question ID : 65497834186  
Status : Answered  
Chosen Option : 2

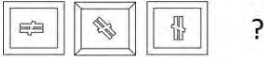
Q.21 उस विकल्प का चयन करें, जो तीसरे पद से उसी प्रकार संबंधित है, जिस प्रकार दूसरा पद पहले पद से संबंधित है।

ORATOR : RQDSRQ :: TACKLE : ?

- Ans
- 1. WYFMOC
  - 2. WZFLOF
  - 3. VYFJPQ
  - 4. WZFJOD

Question ID : 65497834191  
Status : Answered  
Chosen Option : 4

Q.22 दिए गए विकल्पों में से उस आकृति का चयन करें जो नीचे दी गई श्रृंखला में प्रश्न चिह्न (?) के स्थान पर आ सकती है।



Ans

- 1.
- 2.
- 3.
- 4.

Question ID : 65497834200  
Status : Answered  
Chosen Option : 1

Q.23 दिए गए विकल्पों में से वह संख्या चुनें जो निम्नलिखित श्रेणी में प्रश्नवाचक चिह्न (?) के स्थान पर आ सकती है।

40, 76, 44, 70, 49, 64, 55, 58, ?

- Ans
- 1. 62
  - 2. 65
  - 3. 80
  - 4. 71

Question ID : 65497834195  
Status : Answered  
Chosen Option : 1

Q.24 उस विकल्प का चयन कीजिए, जिसका चौथी संख्या से वही संबंध है, जो पहली संख्या का दूसरी संख्या से है और पांचवीं संख्या का छठी संख्या से है।

345 : 7 :: ? : 9 :: 66 : 4

Ans  1. 731

2. 651

3. 445

4. 514

Question ID : 65497834202

Status : Not Answered

Chosen Option : --

Q.25 अक्षरों के उस संयोजन का चयन करें जो दी गई श्रृंखला के रिक्त स्थानों में क्रमिक रूप से रखे जाने पर श्रृंखला को पूर्ण करेगा।

L \_ \_ R \_ T \_ M P \_ S \_ \_ M P \_ S T

Ans  1. M, P, S, L, R, T, L, R

2. L, R, T, S, P, P, S, T

3. L, M, R, S, L, M, P, R

4. R, P, L, M, S, L, S, T

Question ID : 65497834198

Status : Answered

Chosen Option : 1

Section : Part B General Knowledge and General Awareness

Q.1 फ्रेंच ओपन 2020 में निम्न में से किस खिलाड़ी ने महिलाओं की एकल प्रतियोगिता जीती थी?

Ans  1. केटी बौल्टर (Katie Boulter)

2. एलीना स्वितोलिना (Elina Svitolina)

3. सोफिया केनिन (Sofia Kenin)

4. इगा स्वियातेक (Iga Swiatek)

Question ID : 65497834222

Status : Answered

Chosen Option : 3

Q.2 कोई वस्तु अपनी विरामावस्था या गतिमान अवस्था में होने वाले परिवर्तन का विरोध करती है, उनकी यह स्वाभाविक प्रवृत्ति \_\_\_\_\_ कहलाती है।

Ans  1. जड़त्व

2. बल

3. गति

4. त्वरण

Question ID : 65497834224

Status : Answered

Chosen Option : 1



Q.3 लोदी वंश की नींव निम्नलिखित में से किसके द्वारा रखी गई थी?

- Ans  1. बहलोल लोदी  
 2. जलालुद्दीन लोदी  
 3. इब्राहिम लोदी  
 4. सिकंदर लोदी

Question ID : 65497834215  
Status : Answered  
Chosen Option : 1

Q.4 राज्यसभा से संबंधित संवैधानिक प्रावधानों के संदर्भ में, निम्नलिखित में से कौन-सा कथन सही है?

- Ans  1. भारत के प्रधानमंत्री, राज्य सभा के पदेन अध्यक्ष होते हैं।  
 2. भारत के उपराष्ट्रपति, राज्य सभा के पदेन अध्यक्ष होते हैं।  
 3. भारत के राष्ट्रपति, राज्य सभा के पदेन अध्यक्ष होते हैं।  
 4. भारत के महान्यायवादी, राज्य सभा के पदेन अध्यक्ष होते हैं।

Question ID : 65497834217  
Status : Answered  
Chosen Option : 2

Q.5 निम्नलिखित में से किस रासायनिक तत्व का परमाणु क्रमांक 10 है?

- Ans  1. हीलियम  
 2. नियॉन  
 3. कार्बन  
 4. लीथियम

Question ID : 65497834229  
Status : Answered  
Chosen Option : 2

Q.6 संविधान (100 वां संशोधन) अधिनियम, 2015 द्वारा भारत और इसके किस पड़ोसी देश की सीमा को संशोधित किया गया था?

- Ans  1. म्यांमार  
 2. नेपाल  
 3. बांग्लादेश  
 4. भूटान

Question ID : 65497834207  
Status : Answered  
Chosen Option : 3

Q.7 'विंचुडो (Vinchhudo)' नृत्य का संबंध निम्न में से मुख्यतः किस राज्य से है?

- Ans  1. नागालैंड  
 2. गोवा  
 3. गुजरात  
 4. मध्य प्रदेश

Question ID : 65497834227  
Status : Not Answered  
Chosen Option : --

Q.8 अगस्त 2020 में, निम्नलिखित में से किसने जम्मू कश्मीर के उप-राज्यपाल के रूप में शपथ ली?

- Ans  1. मनोज सिन्हा  
 2. फारूक खान  
 3. सत्य पाल मलिक  
 4. गिरीश चंद्र मुर्मू

Question ID : 65497834216  
Status : Answered  
Chosen Option : 1

Q.9 1925 में घटित हुआ निम्नलिखित में से कौन सा षड्यंत्र ट्रेन डकैती से संबंधित है?

- Ans  1. दिल्ली षड्यंत्र  
 2. मुजफ्फरपुर षड्यंत्र  
 3. पेशावर षड्यंत्र  
 4. काकोरी षड्यंत्र

Question ID : 65497834225  
Status : Answered  
Chosen Option : 4

Q.10 दीपा मलिक \_\_\_\_\_ रियो पैरालिम्पिक्स में पदक जीतने वाली भारत की पहली महिला पैरा-एथलीट हैं।

- Ans  1. 2016  
 2. 2015  
 3. 2018  
 4. 2014

Question ID : 65497834220  
Status : Answered  
Chosen Option : 3

Q.11 ओलंपिक चार्टर के मौलिक सिद्धांत किसके द्वारा लिखित दस्तावेज पर आधारित हैं?

- Ans  1. पियरे डी कौबर्टिन  
 2. मुहम्मद अली  
 3. लियो टॉल्स्टॉय  
 4. अरस्तू

Question ID : 65497834218  
Status : Not Answered  
Chosen Option : --

Q.12 अमेरिका की पहली महिला उपराष्ट्रपति, कमला हैरिस का मूल परिवार भारत के किस राज्य से संबंधित है?

- Ans  1. कर्नाटक  
 2. तमिलनाडु  
 3. केरल  
 4. आंध्र प्रदेश

Question ID : 65497834219  
Status : Answered  
Chosen Option : 2

Q.13 Which of the following statements is CORRECT?

- Ans  1. An empty bottle made of clear glass is an example of a translucent object.
2. A frying pan is an example of an opaque object.
3. The sun is an example of an illuminated object.
4. A wooden box is an example of a luminous object.

Question ID : 65497834228  
Status : Answered  
Chosen Option : 3

Q.14 रेचना दोआब निम्न में से किन दो नदियों के बीच स्थित है?

- Ans  1. व्यास और सतलज
2. रावी और चेनाब
3. गंगा और घाघरा
4. सिंधु और झेलम

Question ID : 65497834221  
Status : Answered  
Chosen Option : 2

Q.15 एनी जैदी (Annie Zaidi) को वर्ष \_\_\_\_\_ के लिए नाइन डॉट्स पुरस्कार से सम्मानित किया गया।

- Ans  1. 2018-19
2. 2021-22
3. 2019-20
4. 2020-21

Question ID : 65497834230  
Status : Not Answered  
Chosen Option : --

Q.16 वसंत विषुव (स्प्रिंग इक्विनॉक्स) के अगले दिन यानी 22 मार्च से भारतीय राष्ट्रीय कैलेंडर वर्ष का कौन सा पहला महीना शुरू होता है?

- Ans  1. आश्विन
2. कार्तिक
3. चैत्र
4. फाल्गुन

Question ID : 65497834212  
Status : Answered  
Chosen Option : 3

Q.17 अर्थव्यवस्था में गंभीर तनाव के समय इनमें से कौन-सा अनुच्छेद, सरकार को अपने राजकोषीय घाटे के लक्ष्य से 0.5% प्वाइंट तक विचलन की अनुमति देता है?

- Ans  1. FAR अनुच्छेद
2. गारंटी अनुच्छेद
3. राहतकारी अनुच्छेद
4. DEAR अनुच्छेद

Question ID : 65497834210  
Status : Answered  
Chosen Option : 3

Q.18 भारत के प्राचीन इतिहास के संदर्भ में, अशोक स्तंभ का संबंध निम्नलिखित में से किस स्थान से है?

- Ans  1. चतु  
 2. खजुराहो  
 3. मांडू  
 4. सांची

Question ID : 65497834214  
Status : Answered  
Chosen Option : 4

Q.19 सुभाष चंद्र बोस ब्रिटिश सरकार की नज़रबंदी से किस वर्ष भाग निकले थे?

- Ans  1. 1932  
 2. 1945  
 3. 1941  
 4. 1939

Question ID : 65497834211  
Status : Answered  
Chosen Option : 3

Q.20 'द्वयाधिकार' एक प्रकार का अल्पाधिकार है जिसमें किसी बाज़ार पर \_\_\_\_\_ फर्मों का प्रभुत्व या अनन्य नियंत्रण होता है।

- Ans  1. दो  
 2. तीन  
 3. चार  
 4. पांच

Question ID : 65497834223  
Status : Not Answered  
Chosen Option : --

Q.21 निम्न में से कौन सी टीम, 2020 में आईपीएल (IPL) का खिताब जीतकर पांच बार यह खिताब जीतने वाली पहली आईपीएल (IPL) टीम बनी?

- Ans  1. मुंबई इंडियंस  
 2. दिल्ली कैपिटल्स  
 3. रॉयल चैलेंजर्स बैंगलोर  
 4. चेन्नई सुपर किंग्स

Question ID : 65497834208  
Status : Answered  
Chosen Option : 1

Q.22 जब सरकार करों को कम करती है और सरकारी व्यय को बढ़ाती है, तो इस प्रकार की राजकोषीय नीति क्या कहलाती है?

- Ans  1. विस्तारवादी राजकोषीय नीति (Expansionary Fiscal Policy)  
 2. संविदात्मक राजकोषीय नीति (Contractional Fiscal Policy)  
 3. तटस्थता राजकोषीय नीति (Neutral Fiscal Policy)  
 4. संविदात्मक और विस्तारवादी राजकोषीय नीति, दोनों (Contractional Fiscal Policy and Expansionary Fiscal Policy)

Question ID : 65497834206  
Status : Not Answered  
Chosen Option : --

Q.23 भारतीयों के लिए स्वस्थ और फिट जीवन शैली का मार्ग प्रशस्त करने के लिए फिटनेस गतिविधियों और खेलों को अपने दैनिक जीवन में शामिल करने के उद्देश्य से भारतीयों को प्रोत्साहित करने के लिए फिट इंडिया अभियान कब शुरू किया गया था?

- Ans
- 1. सितंबर 2019
  - 2. जून 2019
  - 3. अगस्त 2019
  - 4. जुलाई 2019

Question ID : 65497834226  
Status : Answered  
Chosen Option : 4

Q.24 देश की प्राचीन झीलों में से एक, 'लेंडिया तालाब' किस भारतीय शहर में स्थित है?

- Ans
- 1. चेन्नई
  - 2. भोपाल
  - 3. लखनऊ
  - 4. वाराणसी

Question ID : 65497834209  
Status : Answered  
Chosen Option : 2

Q.25 2011 की जनगणना के अनुसार, भारत का सबसे कम जनसंख्या वाला राज्य कौन-सा है?

- Ans
- 1. गोवा
  - 2. सिक्किम
  - 3. अरुणाचल प्रदेश
  - 4. मिजोरम

Question ID : 65497834213  
Status : Answered  
Chosen Option : 2

Section : Part C Elementary Mathematics

Q.1 6 पुरुष और 8 महिलाएं किसी काम को एक निश्चित समय में पूरा कर सकती हैं। उसी काम को 3 पुरुष और 13 महिलाएं उतने ही समय में पूरा कर सकती हैं। यदि एक पुरुष इस काम को 12 दिनों में पूरा कर सकता है, तो 4 महिलाएं इस काम को कितने दिनों में पूरा कर पाएंगी?

- Ans
- 1. 8 दिन
  - 2. 5 दिन
  - 3. 4 दिन
  - 4. 20 दिन

Question ID : 65497834234  
Status : Answered  
Chosen Option : 2

**Q.2** एक व्यक्ति दो मोबाइल फोन, प्रत्येक ₹6,000 में बेचता है, जिनमें से एक मोबाइल पर उसे 25% का लाभ होता है और दूसरे मोबाइल पर 25% की हानि होती है। इस पूरे लेनदेन में उसे होने वाले लाभ या हानि प्रतिशत (दशमलव के दो स्थानों तक) की गणना कीजिए।

- Ans**
- 1. 6.67 की हानि
  - 2. 6.67 का लाभ
  - 3. 6.25 का लाभ
  - 4. 6.25 की हानि

Question ID : 65497834246  
Status : Answered  
Chosen Option : 4

**Q.3** एक दुकानदार कोई गैजेट 25% छूट पर ₹1,125 में खरीदता है। यदि वह इसे अंकित मूल्य पर 10% की छूट देकर बेचता है, तो उसे कितना लाभ होगा?

- Ans**
- 1. ₹150
  - 2. ₹250
  - 3. ₹325
  - 4. ₹225

Question ID : 65497834232  
Status : Answered  
Chosen Option : 4

**Q.4** एक निश्चित धनराशि पर 9.6% की वार्षिक ब्याज दर से प्राप्त 15 माह का साधारण ब्याज, उसी धनराशि पर 11.4% की वार्षिक ब्याज दर से प्राप्त 8 माह के साधारण ब्याज से ₹1,320 अधिक है। वह धनराशि ज्ञात कीजिए।

- Ans**
- 1. ₹30,000
  - 2. ₹25,000
  - 3. ₹32,000
  - 4. ₹28,000

Question ID : 65497834245  
Status : Answered  
Chosen Option : 1

**Q.5** एक वस्तु के मूल्य में 20% की वृद्धि होने पर गुप्ता परिवार अपने मासिक बजट को इस प्रकार पुनर्व्यवस्थित करता है कि उक्त वस्तु पर 8% अतिरिक्त धन ही व्यय हो। बढ़ी हुई राशि के प्रबंधन के लिए उन्हें उस वस्तु के उपभोग में कितने प्रतिशत की कमी करनी चाहिए?

- Ans**
- 1. 14
  - 2. 8
  - 3. 10
  - 4. 12

Question ID : 65497834239  
Status : Answered  
Chosen Option : 3

Q.6 एक धनराशि, चक्रवृद्धि ब्याज पर 5 वर्षों में दोगुनी हो जाती है। उतनी ही धनराशि को स्वयं की 4 गुनी होने में \_\_\_\_\_ का समय लगेगा।

- Ans
- ✓ 1. 10 वर्ष
  - ✗ 2. 12 वर्ष
  - ✗ 3. 8 वर्ष
  - ✗ 4. 15 वर्ष

Question ID : 65497834249  
Status : Answered  
Chosen Option : 1

Q.7 खिलौने की एक फैक्ट्री में, एक कर्मचारी 5 मिनट में एक खिलौना तैयार कर सकता है। यदि 10:30 a.m. से 12:30 p.m. तक 1,248 खिलौने तैयार किए जाने हों, तो इसके लिए कितने कर्मचारियों को काम पर लगाना होगा?

- Ans
- ✗ 1. 50
  - ✓ 2. 52
  - ✗ 3. 78
  - ✗ 4. 26

Question ID : 65497834243  
Status : Answered  
Chosen Option : 2

Q.8 एक निश्चित धनराशि पर 8.8% की वार्षिक साधारण ब्याज दर से  $3\frac{3}{4}$  वर्षों में प्राप्त मिश्रधन ₹12,236 है। समान राशि पर समान दर से  $4\frac{3}{8}$  वर्षों में प्राप्त साधारण ब्याज (₹ में) कितना होगा?

- Ans
- ✗ 1. 3,484
  - ✗ 2. 3,624
  - ✗ 3. 3,524
  - ✓ 4. 3,542

Question ID : 65497834255  
Status : Not Answered  
Chosen Option : --

Q.9 ₹39,000 की धनराशि को A, B, C में इस प्रकार विभाजित किया जाता है कि A का हिस्सा B के हिस्से का  $\frac{1}{3}$  है और B को C से 20% अधिक धनराशि मिलती है। A का हिस्सा ज्ञात करें।

- Ans
- ✓ 1. ₹6,000
  - ✗ 2. ₹9,000
  - ✗ 3. ₹7,500
  - ✗ 4. ₹8,000

Question ID : 65497834248  
Status : Answered  
Chosen Option : 1

Q.10  $2 + 3 \div 2 \text{ of } \frac{3}{2} + 2(4 \times 2 \div 2 \text{ of } \frac{1}{2} + 2 - \frac{1}{2})$  को सरल करने पर प्राप्त परिणाम \_\_\_\_\_ होगा।

- Ans
- 1. 19
  - 2. 21
  - 3.  $\frac{7}{2}$
  - 4. 22

Question ID : 65497834247  
Status : Answered  
Chosen Option : 4

Q.11 एक व्यापारी ने एक वस्तु को 8% की हानि पर बेचा। यदि उसने इसे ₹72 अधिक में बेचा होता, तो उसे 16% का लाभ प्राप्त होता। वस्तु का क्रय मूल्य कितना था?

- Ans
- 1. ₹400
  - 2. ₹350
  - 3. ₹450
  - 4. ₹300

Question ID : 65497834244  
Status : Answered  
Chosen Option : 3

Q.12 दो संख्याओं का लघुत्तम समापवर्त्य (LCM), उनके महत्तम समापवर्तक (HCF) का 45 गुना है, तथा लघुत्तम समापवर्त्य (LCM) और महत्तम समापवर्तक (HCF) का योग 1518 है। यदि उन संख्याओं में से एक को 16 से विभाजित किया जाता है, तो भागफल 18 और शेषफल 9 प्राप्त होता है। दूसरी संख्या ज्ञात कीजिए।

- Ans
- 1. 330
  - 2. 165
  - 3. 495
  - 4. 363

Question ID : 65497834252  
Status : Answered  
Chosen Option : 2

Q.13 अम्ल और जल के दो विलयनों A और B में अम्ल और जल के अनुपात क्रमशः 7 : 9 और 5 : 3 हैं। A और B को x : y के अनुपात में मिलाया जाता है। यदि परिणामी विलयन में अम्ल और जल का अनुपात 9 : 7 है, तो x : y का मान ज्ञात कीजिए।

- Ans
- 1. 2 : 3
  - 2. 3 : 4
  - 3. 4 : 5
  - 4. 1 : 2

Question ID : 65497834254  
Status : Not Answered  
Chosen Option : --



Q.14 यदि एक बेलन और एक शंकु की आधार की त्रिज्याओं का अनुपात 1 : 2 और उनकी ऊँचाइयों का अनुपात 2 : 1 है, तो बेलन और शंकु के आयतनों का अनुपात क्या होगा?

- Ans
- 1. 2 : 1
  - 2. 3 : 2
  - 3. 1 : 1
  - 4. 2 : 3

Question ID : 65497834237  
Status : Answered  
Chosen Option : 3

Q.15 यदि किसी संख्या का 62% किसी दूसरी संख्या के  $\frac{3}{5}$  के बराबर है, तो पहली संख्या और दूसरी संख्या का अनुपात क्या होगा?

- Ans
- 1. 30 : 31
  - 2. 31 : 30
  - 3. 31 : 20
  - 4. 20 : 31

Question ID : 65497834236  
Status : Answered  
Chosen Option : 1

Q.16 एक दुकानदार ₹5,500 में एक कंप्यूटर टेबल खरीदता है। यदि 10% की छूट देने के बाद भी दुकानदार को ₹1,070 का लाभ प्राप्त करना हो, तो कंप्यूटर टेबल का अंकित मूल्य कितना होना चाहिए?

- Ans
- 1. ₹6,570
  - 2. ₹7,227
  - 3. ₹7,300
  - 4. ₹6,050

Question ID : 65497834241  
Status : Answered  
Chosen Option : 3

Q.17 14 cm व्यास वाले एक वृत्त की परिधि, एक वर्ग के परिमाप के बराबर है। उस वर्ग का क्षेत्रफल ज्ञात करें। ( $\pi = \frac{22}{7}$  लें)

- Ans
- 1. 400 cm<sup>2</sup>
  - 2. 121 cm<sup>2</sup>
  - 3. 256 cm<sup>2</sup>
  - 4. 289 cm<sup>2</sup>

Question ID : 65497834251  
Status : Answered  
Chosen Option : 2

Q.18 तीन अंकों वाली चार संख्याओं  $34x, 197, 6x4$  और  $348$  का औसत  $386$  है।  $(3x + 1)$  और  $(7x - 2)$  का औसत क्या होगा?

- Ans
- 1. 24.5
  - 2. 26
  - 3. 23
  - 4. 25.5

Question ID : 65497834253  
Status : Answered  
Chosen Option : 1

Q.19 एक खुदरा व्यापारी ₹850 में एक ट्रैकसूट खरीदता है। उसका ऊपरी (ओवरहेड) खर्च ₹50 है। यदि वह ट्रैकसूट को ₹1,170 में बेचता है, तो उसका लाभ प्रतिशत कितना होगा?

- Ans
- 1. 20
  - 2. 25
  - 3. 22
  - 4. 30

Question ID : 65497834242  
Status : Answered  
Chosen Option : 4

Q.20 एक मोटर चालक किसी निश्चित दूरी को  $48 \text{ km/h}$  की औसत चाल से तय करता है और  $32 \text{ km/h}$  की औसत गति से वापस आता है। पूरी यात्रा के लिए उसकी औसत चाल ( $\text{km/h}$  में) कितनी है?

- Ans
- 1. 38
  - 2. 40
  - 3. 38.4
  - 4. 39.8

Question ID : 65497834235  
Status : Answered  
Chosen Option : 3

Q.21 निम्नलिखित व्यंजक का मान ज्ञात करें।

$$7 + 35 \div 7 \times 5 \text{ of } 6 - 1$$

- Ans
- 1. 179
  - 2. 12
  - 3. 132
  - 4. 156

Question ID : 65497834240  
Status : Answered  
Chosen Option : 4

**Q.22** दो संख्याओं के लघुत्तम समापवर्त्य (LCM) और महत्तम समापवर्तक (HCF) क्रमशः 25 और 150 हैं। यदि उन संख्याओं में से एक 50 है, तो दोनों संख्याओं का योग कितना होगा?

- Ans**
- 1. 75
  - 2. 100
  - 3. 175
  - 4. 125

Question ID : 65497834238  
Status : Answered  
Chosen Option : 4

**Q.23** दो छात्र A और B एक कक्षा-परीक्षा में सम्मिलित हुए। B ने दोनों के अंकों के योग के 40% अंक प्राप्त किए, जो A द्वारा प्राप्त अंकों से 7 अंक कम हैं। B को कितने अंक प्राप्त हुए?

- Ans**
- 1. 21
  - 2. 5
  - 3. 12
  - 4. 14

Question ID : 65497834233  
Status : Answered  
Chosen Option : 4

**Q.24** 50 मिनट तक 5 km/h की चाल से चलने पर एक छात्र अपने विद्यालय, निर्धारित समय से 10 मिनट बाद पहुंचता है। समय पर विद्यालय पहुंचने के लिए छात्र की चाल कितनी होनी चाहिए?

- Ans**
- 1.  $\frac{25}{4}$  km/h
  - 2. 6 km/h
  - 3. 6.5 km/h
  - 4.  $\frac{25}{6}$  km/h

Question ID : 65497834250  
Status : Not Answered  
Chosen Option : --

**Q.25** चार वर्ष पहले, किसी कार्यालय में 45 कर्मचारियों की औसत आयु 32 वर्ष थी। इस अवधि के दौरान 3 और व्यक्ति कंपनी में भर्ती हुए और वर्तमान में कंपनी के कर्मचारियों की औसत आयु 37 वर्ष है। 3 नए कर्मचारियों की औसत आयु कितनी है?

- Ans**
- 1. 58 वर्ष
  - 2. 54 वर्ष 3 महीने
  - 3. 51 वर्ष
  - 4. 52 वर्ष

Question ID : 65497834231  
Status : Not Answered  
Chosen Option : --

Section : Part D English

**Q.1** The following sentence has been split into four segments. Identify the segment that contains a grammatical error.

The poet / and the author / is awarded / by the President.

- Ans**
- 1. The poet
  - 2. by the President
  - 3. is awarded
  - 4. and the author

Question ID : 65497834268  
Status : Not Answered  
Chosen Option : --

**Q.2** Select the most appropriate option to fill in the blank.

Please \_\_\_\_\_ my subscription of the children's magazine.

- Ans**
- 1. settle
  - 2. renew
  - 3. regain
  - 4. finish

Question ID : 65497834266  
Status : Not Answered  
Chosen Option : --

**Q.3** Select the correctly spelt word.

- Ans**
- 1. Harbore
  - 2. Premire
  - 3. Orchestra
  - 4. Glossery

Question ID : 65497834273  
Status : Not Answered  
Chosen Option : --

**Q.4** The following sentence has been divided into parts. One of them may contain an error. Select the part that contains the error from the given options. If you don't find any error, select 'No error' as your answer.

Jyoti is one of / the best police officer / in this town.

- Ans**
- 1. the best police officer
  - 2. Jyoti is one of
  - 3. in this town
  - 4. No error

Question ID : 65497834258  
Status : Not Answered  
Chosen Option : --

**Q.5** Select the most appropriate option to fill in the blank.

The company is going to \_\_\_\_\_ the North Sea for oil.

- Ans  1. search  
 2. explore  
 3. tour  
 4. traverse

Question ID : 65497834260  
Status : Not Answered  
Chosen Option : --

**Q.6** Select the INCORRECTLY spelt word.

- Ans  1. Hover  
 2. Monark  
 3. Adorn  
 4. Dreary

Question ID : 65497834274  
Status : Not Answered  
Chosen Option : --

**Q.7** Select the most appropriate option that can substitute the underlined segment in the given sentence. If there is no need to substitute it, select 'No substitution required'.

During foggy weather, flights are often cancelled, isn't it?

- Ans  1. aren't they  
 2. No substitution required  
 3. haven't they  
 4. do they

Question ID : 65497834262  
Status : Not Answered  
Chosen Option : --

**Q.8** Select the option that can be used as a one-word substitute for the given group of words.

A place where money is coined

- Ans  1. Mint  
 2. Factory  
 3. Industry  
 4. Store

Question ID : 65497834271  
Status : Not Answered  
Chosen Option : --

**Q.9** The following sentence has been split into four segments. Identify the segment that contains a grammatical error.

I will / be in school / for / 7 a.m. to 2 p.m.

- Ans**  1. 7 a.m. to 2 p.m.  
 2. for  
 3. be in school  
 4. I will

Question ID : 65497834267  
Status : Not Answered  
Chosen Option : --

**Q.10** Select the option that can be used as a one-word substitute for the given group of words.

A remedy for all diseases

- Ans**  1. Medicine  
 2. Panacea  
 3. Treatment  
 4. Diagnosis

Question ID : 65497834272  
Status : Not Answered  
Chosen Option : --

**Q.11** Select the most appropriate option that can substitute the underlined segment in the given sentence. If there is no need to substitute it, select 'No substitution required'.

I have been worked hard to finish this project.

- Ans**  1. No substitution required  
 2. working  
 3. had been worked  
 4. have been working

Question ID : 65497834265  
Status : Not Answered  
Chosen Option : --

**Q.12** Select the most appropriate ANTONYM of the given word.

Reverence

- Ans**  1. Contempt  
 2. Respect  
 3. Awe  
 4. Admiration

Question ID : 65497834270  
Status : Not Answered  
Chosen Option : --

**Q.13** Select the option that can be used as a one-word substitute for the given group of words.

The sound made by bees

- Ans**
- 1. Hiss
  - 2. Coo
  - 3. Buzz
  - 4. Moo

Question ID : 65497834257  
Status : Not Answered  
Chosen Option : --

**Q.14** Select the most appropriate ANTONYM of the given word.

Obscure

- Ans**
- 1. Doubtful
  - 2. Dim
  - 3. Clear
  - 4. Vague

Question ID : 65497834256  
Status : Not Answered  
Chosen Option : --

**Q.15** Select the most appropriate synonym of the given word.

Noble

- Ans**
- 1. Normal
  - 2. Ordinary
  - 3. Poor
  - 4. Dignified

Question ID : 65497834259  
Status : Not Answered  
Chosen Option : --

**Q.16** Select the most appropriate option to fill in the blank.

The police \_\_\_\_\_ the protestors from entering the parliament.

- Ans**
- 1. prevented
  - 2. presumed
  - 3. protected
  - 4. persuaded

Question ID : 65497834275  
Status : Not Answered  
Chosen Option : --

Q.17 Select the most appropriate meaning of the given idiom.

**Spick and span**

- Ans  1. Over and over again  
 2. Safe and secure  
 3. Far from each other  
 4. Very neat and clean

Question ID : 65497834261  
Status : Not Answered  
Chosen Option : --

Q.18 Select the most appropriate meaning of the given idiom.

**At a snail's pace**

- Ans  1. Peacefully  
 2. Very slowly  
 3. Carelessly  
 4. Quickly

Question ID : 65497834263  
Status : Not Answered  
Chosen Option : --

Q.19 Select the most appropriate synonym of the given word.

**Precarious**

- Ans  1. Stable  
 2. Strange  
 3. Insecure  
 4. Safe

Question ID : 65497834269  
Status : Not Answered  
Chosen Option : --

Q.20 Select the most appropriate option that can substitute the underlined segment in the given sentence. If there is no need to substitute it, select 'No substitution required'.

I don't have some money at all.

- Ans  1. No substitution required  
 2. few  
 3. any  
 4. little

Question ID : 65497834264  
Status : Not Answered  
Chosen Option : --



**Comprehension:**

In the following passage, some words have been deleted. Read the passage carefully and select the most appropriate option to fill in each blank.

Elephants regularly swarm to the landfill (1) \_\_\_\_\_ near a wildlife sanctuary in Sri Lanka. (2) \_\_\_\_\_ with food scraps, they consume plastic, (3) \_\_\_\_\_ slowly kills them, officials say. Images (4) \_\_\_\_\_ the elephants foraging through the waste (5) \_\_\_\_\_ environmentalists. Plastic from landfill sites is a known killer of wild elephants, which are estimated to number about 7,500 in Sri Lanka.

**SubQuestion No : 21**

**Q.21** Select the most appropriate option to fill in blank no. 1.

- Ans  1. scene  
 2. scenery  
 3. sight  
 4. site

Question ID : 65497834277  
Status : Not Answered  
Chosen Option : --

**Comprehension:**

In the following passage, some words have been deleted. Read the passage carefully and select the most appropriate option to fill in each blank.

Elephants regularly swarm to the landfill (1) \_\_\_\_\_ near a wildlife sanctuary in Sri Lanka. (2) \_\_\_\_\_ with food scraps, they consume plastic, (3) \_\_\_\_\_ slowly kills them, officials say. Images (4) \_\_\_\_\_ the elephants foraging through the waste (5) \_\_\_\_\_ environmentalists. Plastic from landfill sites is a known killer of wild elephants, which are estimated to number about 7,500 in Sri Lanka.

**SubQuestion No : 22**

**Q.22** Select the most appropriate option to fill in blank no. 2.

- Ans  1. Across  
 2. Next  
 3. Along  
 4. Beside

Question ID : 65497834278  
Status : Not Answered  
Chosen Option : --

**Comprehension:**

In the following passage, some words have been deleted. Read the passage carefully and select the most appropriate option to fill in each blank.

Elephants regularly swarm to the landfill (1) \_\_\_\_\_ near a wildlife sanctuary in Sri Lanka. (2) \_\_\_\_\_ with food scraps, they consume plastic, (3) \_\_\_\_\_ slowly kills them, officials say. Images (4) \_\_\_\_\_ the elephants foraging through the waste (5) \_\_\_\_\_ environmentalists. Plastic from landfill sites is a known killer of wild elephants, which are estimated to number about 7,500 in Sri Lanka.

**SubQuestion No : 23**

**Q.23** Select the most appropriate option to fill in blank no. 3.

- Ans  1. what  
 2. whom  
 3. who  
 4. which

Question ID : 65497834279  
Status : Not Answered  
Chosen Option : --

**Comprehension:**

In the following passage, some words have been deleted. Read the passage carefully and select the most appropriate option to fill in each blank.

Elephants regularly swarm to the landfill (1) \_\_\_\_\_ near a wildlife sanctuary in Sri Lanka. (2) \_\_\_\_\_ with food scraps, they consume plastic, (3) \_\_\_\_\_ slowly kills them, officials say. Images (4) \_\_\_\_\_ the elephants foraging through the waste (5) \_\_\_\_\_ environmentalists. Plastic from landfill sites is a known killer of wild elephants, which are estimated to number about 7,500 in Sri Lanka.

**SubQuestion No : 24**

**Q.24** Select the most appropriate option to fill in blank no. 4.

- Ans**  1. on  
 2. of  
 3. in  
 4. for

Question ID : 65497834280  
Status : Not Answered  
Chosen Option : --

**Comprehension:**

In the following passage, some words have been deleted. Read the passage carefully and select the most appropriate option to fill in each blank.

Elephants regularly swarm to the landfill (1) \_\_\_\_\_ near a wildlife sanctuary in Sri Lanka. (2) \_\_\_\_\_ with food scraps, they consume plastic, (3) \_\_\_\_\_ slowly kills them, officials say. Images (4) \_\_\_\_\_ the elephants foraging through the waste (5) \_\_\_\_\_ environmentalists. Plastic from landfill sites is a known killer of wild elephants, which are estimated to number about 7,500 in Sri Lanka.

**SubQuestion No : 25**

**Q.25** Select the most appropriate option to fill in blank no. 5.

- Ans**  1. have shocked  
 2. have been shocking  
 3. has shocked  
 4. are shocking

Question ID : 65497834281  
Status : Not Answered  
Chosen Option : --

Section : **Part D Hindi**

**Q.1** 'शिगूफा खिलाना' इस मुहावरे का अर्थ है-

- Ans**  1. विलक्षण घटना का घटित होना  
 2. सिफारिश करवाना  
 3. काल्पनिक योजनाएं बनाना  
 4. बहुत उपद्रव करना

Question ID : 65497834289  
Status : Answered  
Chosen Option : 2

Q.2 उस विकल्प का चयन करें जो निम्न मुहावरे का अर्थ व्यक्त करता है।

कान भरना

- Ans  1. चुगली करना  
 2. बदनाम करना  
 3. सावधान करना  
 4. प्रभावित करना

Question ID : 65497834297  
Status : Answered  
Chosen Option : 1

Q.3 दिये गये वाक्यांश के लिए एक सार्थक शब्द का चयन कीजिए।

जो स्वयं उत्पन्न हुआ हो

- Ans  1. स्वावलंबी  
 2. स्वयंभू  
 3. स्वाधीन  
 4. सार्वभौम

Question ID : 65497834290  
Status : Not Answered  
Chosen Option : --

Q.4 निम्नलिखित में से शुद्ध वर्तनी वाला शब्द कौन सा है?

- Ans  1. यथेष्ठ  
 2. यथेस्थ  
 3. यथेष्ट  
 4. यथेस्ट

Question ID : 65497834299  
Status : Answered  
Chosen Option : 1

Q.5 दिए गए वाक्य का वो भाग ज्ञात करें जिसमें कोई त्रुटि है। यदि कोई त्रुटि नहीं है, तो 'कोई त्रुटि नहीं है' चुनें।

प्रत्येक भारतवासी को (1)\ हिंदी का व्यावहारिक (2)\ ज्ञान होनी चाहिए। (3)\ कोई त्रुटि नहीं है (4)

- Ans  1. 2  
 2. 3  
 3. 1  
 4. 4

Question ID : 65497834291  
Status : Answered  
Chosen Option : 1

Q.6 दिए गए शब्द के समानार्थी शब्द का चयन करें।

बेटी

- Ans  1. दुहिता  
 2. वनिता  
 3. वासा  
 4. अंगना

Question ID : 65497834295  
Status : Answered  
Chosen Option : 1

Q.7 रिक्त स्थान की पूर्ति के लिए सबसे उपयुक्त शब्द का चयन कीजिए।

\_\_\_\_\_ न करने वाले लड़के अच्छे अंक नहीं पा सकते।

- Ans  1. प्रार्थना  
 2. पूजा  
 3. भक्ति  
 4. परिश्रम

Question ID : 65497834283  
Status : Answered  
Chosen Option : 4

Q.8 दिये गये वाक्य में रेखांकित अंश को प्रतिस्थापित करने के लिए सबसे उपयुक्त विकल्प का चयन करें।

युवती ने स्वर्ण आवरण पहन रखे हैं।

- Ans  1. आभरण  
 2. सुवर्ण  
 3. परिधान  
 4. वस्त्र

Question ID : 65497834301  
Status : Answered  
Chosen Option : 1

Q.9 दिए गए वाक्य का वह भाग ज्ञात करें जिसमें कोई त्रुटि है। यदि कोई त्रुटि नहीं है, तो 'कोई त्रुटि नहीं है' चुनें।

हमारा लक्ष्य (1)/ देश की चहुंमुखी प्रगति (2)/ होनी चाहिए (3)/ कोई त्रुटि नहीं है (4)

- Ans  1. 1  
 2. 2  
 3. 4  
 4. 3

Question ID : 65497834294  
Status : Answered  
Chosen Option : 2

Q.10 दिये गये वाक्यांश के लिए एक सार्थक शब्द दीजिए।

कविता रचनेवाली स्त्री

- Ans  1. विदुषी  
 2. कवयित्री  
 3. कवियित्री  
 4. कवियत्री

Question ID : 65497834284  
Status : Answered  
Chosen Option : 3

Q.11 दिए गए शब्द का विलोम चुनें।

आदर

- Ans  1. सादर  
 2. निरादर  
 3. अपमान  
 4. सम्मान

Question ID : 65497834296  
Status : Answered  
Chosen Option : 2

Q.12 दिए गए वाक्य में रेखांकित खंड को प्रतिस्थापित करने के लिए सबसे उपयुक्त विकल्प का चयन करें।  
यदि इसे प्रतिस्थापित करने की आवश्यकता नहीं है, तो विकल्प 'किसी बदलाव की आवश्यकता नहीं है'  
का चयन करें।

भारत के औरों देशों के साथ संबंध अच्छे हैं।

- Ans  1. औरों देश के साथ  
 2. ओर देशों के साथ  
 3. किसी बदलाव की आवश्यकता नहीं है।  
 4. और देशों के साथ

Question ID : 65497834285  
Status : Answered  
Chosen Option : 4

Q.13 निम्नलिखित में से शुद्ध वर्तनी वाला शब्द कौन सा है?

- Ans  1. कोतूहल  
 2. कोतुहल  
 3. कौतूहल  
 4. कौतुहल

Question ID : 65497834300  
Status : Answered  
Chosen Option : 3

Q.14 रिक्त स्थान की पूर्ति के लिए सबसे उपयुक्त शब्द का चयन करें।

उसे फांसी पर \_\_\_\_\_ गया था।

- Ans
- 1. उठाया
  - 2. झुलाया
  - 3. चढ़ाया
  - 4. लटकाया

Question ID : 65497834298  
Status : Answered  
Chosen Option : 4

Q.15 दिए गए शब्द का समानार्थी शब्द बताइए-

किनारा

- Ans
- 1. केली
  - 2. केतु
  - 3. कुल
  - 4. कूल

Question ID : 65497834292  
Status : Answered  
Chosen Option : 1

Q.16 दिए गए वाक्य में रेखांकित खंड को प्रतिस्थापित करने के लिए सबसे उपयुक्त विकल्प का चयन करें।  
यदि इसे प्रतिस्थापित करने की आवश्यकता नहीं है, तो विकल्प 'किसी बदलाव की आवश्यकता नहीं है'  
का चयन करें।

योगी ने समाधि लगाई और अंतर्धान हो गया।

- Ans
- 1. और अंत्यर्धान हो गया।
  - 2. और अंधर्धान हो गया।
  - 3. किसी बदलाव की आवश्यकता नहीं है।
  - 4. और अंतर्धान हो गया।

Question ID : 65497834282  
Status : Answered  
Chosen Option : 1

Q.17 दिये गये वाक्यांश के लिए एक शब्द दीजिये।

व्यर्थ खर्च करने वाला

- Ans
- 1. अतिव्ययी
  - 2. अल्पव्ययी
  - 3. मितव्ययी
  - 4. अपव्ययी

Question ID : 65497834293  
Status : Answered  
Chosen Option : 1

Q.18 रिक्त स्थान की पूर्ति के लिए सबसे उपयुक्त शब्द का चयन कीजिए।

मुझे दुर्घटना की \_\_\_\_\_ है।

- Ans  1. आशंका  
 2. इच्छा  
 3. अभिलाषा  
 4. आशा

Question ID : 65497834286  
Status : Answered  
Chosen Option : 1

Q.19 'नीरुजता' शब्द का विलोम शब्द कौनसा है?

- Ans  1. निर्दोष  
 2. रुग्णता  
 3. नीरस  
 4. निर्धारित

Question ID : 65497834288  
Status : Not Answered  
Chosen Option : --

Q.20 दिए गए वाक्य का वह भाग ज्ञात करें जिसमें कोई त्रुटि है। यदि कोई त्रुटि नहीं है, तो 'कोई त्रुटि नहीं है' चुनें।

नाटक समारोह का (1)/ सारा उत्तरदायित्व (2)/ छात्रों के ऊपर है। (3)/ कोई त्रुटि नहीं है (4)

- Ans  1. 1  
 2. 2  
 3. 3  
 4. 4

Question ID : 65497834287  
Status : Answered  
Chosen Option : 3

**Comprehension:**

दिए गए गद्यांश में से कुछ शब्द हटा दिए गए हैं। संबंधित प्रश्नों में प्रत्येक संख्या के लिए सबसे उपयुक्त विकल्प का चयन कीजिए।

मनुष्य स्वयं (1) \_\_\_\_\_ का निर्माता है। पर कायर मनुष्य नहीं वरन् (2) \_\_\_\_\_ ही भाग्य का सामर्थ्य रखता है। (3) \_\_\_\_\_ तो देवता को पुकारता है। साहसी मनुष्य भाग्य के हाथ की (4) \_\_\_\_\_ नहीं बनता अपितु स्वयं अपने भाग्य का निर्माण करता है, क्योंकि उसे अपनी शक्ति पर विश्वास होता है। मनुष्य के समक्ष कार्यों की सफलता, असफलता भाग्य पर नहीं, उसके (5) \_\_\_\_\_ पर आधारित है।

**SubQuestion No : 21**

Q.21 गद्यांश के रिक्त स्थान (1) के लिए सर्वाधिक उपयुक्त शब्द होगा-

- Ans  1. विश्व  
 2. देश  
 3. भाग्य  
 4. शक्ति

Question ID : 65497834303  
Status : Answered  
Chosen Option : 3

**Comprehension:**

दिए गए गद्यांश में से कुछ शब्द हटा दिए गए हैं। संबंधित प्रश्नों में प्रत्येक संख्या के लिए सबसे उपयुक्त विकल्प का चयन कीजिए।

मनुष्य स्वयं (1) \_\_\_\_\_ का निर्माता है। पर कायर मनुष्य नहीं वरन् (2) \_\_\_\_\_ ही भाग्य का सामर्थ्य रखता है। (3) \_\_\_\_\_ तो देवता को पुकारता है। साहसी मनुष्य भाग्य के हाथ की (4) \_\_\_\_\_ नहीं बनता अपितु स्वयं अपने भाग्य का निर्माण करता है, क्योंकि उसे अपनी शक्ति पर विश्वास होता है। मनुष्य के समक्ष कार्यों की सफलता, असफलता भाग्य पर नहीं, उसके (5) \_\_\_\_\_ पर आधारित है।

**SubQuestion No : 22**

**Q.22** गद्यांश के रिक्त स्थान (2) के लिए सर्वाधिक उपयुक्त शब्द होगा-

- Ans**
- 1. संत
  - 2. ईश्वर
  - 3. सबल
  - 4. दुर्बल

Question ID : 65497834304  
Status : Answered  
Chosen Option : 4

**Comprehension:**

दिए गए गद्यांश में से कुछ शब्द हटा दिए गए हैं। संबंधित प्रश्नों में प्रत्येक संख्या के लिए सबसे उपयुक्त विकल्प का चयन कीजिए।

मनुष्य स्वयं (1) \_\_\_\_\_ का निर्माता है। पर कायर मनुष्य नहीं वरन् (2) \_\_\_\_\_ ही भाग्य का सामर्थ्य रखता है। (3) \_\_\_\_\_ तो देवता को पुकारता है। साहसी मनुष्य भाग्य के हाथ की (4) \_\_\_\_\_ नहीं बनता अपितु स्वयं अपने भाग्य का निर्माण करता है, क्योंकि उसे अपनी शक्ति पर विश्वास होता है। मनुष्य के समक्ष कार्यों की सफलता, असफलता भाग्य पर नहीं, उसके (5) \_\_\_\_\_ पर आधारित है।

**SubQuestion No : 23**

**Q.23** गद्यांश के रिक्त स्थान (3) के लिए सर्वाधिक उपयुक्त शब्द होगा-

- Ans**
- 1. कमजोर
  - 2. साहसी
  - 3. शक्तिशाली
  - 4. कायर

Question ID : 65497834305  
Status : Answered  
Chosen Option : 1

**Comprehension:**

दिए गए गद्यांश में से कुछ शब्द हटा दिए गए हैं। संबंधित प्रश्नों में प्रत्येक संख्या के लिए सबसे उपयुक्त विकल्प का चयन कीजिए।

मनुष्य स्वयं (1) \_\_\_\_\_ का निर्माता है। पर कायर मनुष्य नहीं वरन् (2) \_\_\_\_\_ ही भाग्य का सामर्थ्य रखता है। (3) \_\_\_\_\_ तो देवता को पुकारता है। साहसी मनुष्य भाग्य के हाथ की (4) \_\_\_\_\_ नहीं बनता अपितु स्वयं अपने भाग्य का निर्माण करता है, क्योंकि उसे अपनी शक्ति पर विश्वास होता है। मनुष्य के समक्ष कार्यों की सफलता, असफलता भाग्य पर नहीं, उसके (5) \_\_\_\_\_ पर आधारित है।

**SubQuestion No : 24**

**Q.24** गद्यांश के रिक्त स्थान (4) के लिए सर्वाधिक उपयुक्त शब्द होगा-

- Ans**
- 1. नियंता
  - 2. कठपुतली
  - 3. खिलौना
  - 4. निर्माता

Question ID : 65497834306  
Status : Answered  
Chosen Option : 2



**Comprehension:**

दिए गए गद्यांश में से कुछ शब्द हटा दिए गए हैं। संबंधित प्रश्नों में प्रत्येक संख्या के लिए सबसे उपयुक्त विकल्प का चयन कीजिए।

मनुष्य स्वयं (1) \_\_\_\_\_ का निर्माता है। पर कायर मनुष्य नहीं वरन् (2) \_\_\_\_\_ ही भाग्य का सामर्थ्य रखता है। (3) \_\_\_\_\_ तो देवता को पुकारता है। साहसी मनुष्य भाग्य के हाथ की (4) \_\_\_\_\_ नहीं बनता अपितु स्वयं अपने भाग्य का निर्माण करता है, क्योंकि उसे अपनी शक्ति पर विश्वास होता है। मनुष्य के समक्ष कार्यों की सफलता, असफलता भाग्य पर नहीं, उसके (5) \_\_\_\_\_ पर आधारित है।

**SubQuestion No : 25**

**Q.25** गद्यांश के रिक्त स्थान (5) के लिए सर्वाधिक उपयुक्त शब्द होगा-

- Ans**
- 1. मानसिक बल
  - 2. आर्थिक बल
  - 3. शारीरिक बल
  - 4. राजनीतिक बल

Question ID : 65497834307

Status : Answered

Chosen Option : 1

GovtJobsAlert.In