

## Constable GD in CAPFs NIA SSF and Rifleman GD in Assam Rifles Examination 2021

Roll Number	<a href="http://www.GovtJobsAlert.In">www.GovtJobsAlert.In</a>
Candidate Name	<a href="http://www.GovtJobsAlert.In">www.GovtJobsAlert.In</a>
Venue Name	iON Digital Zone iDZ Dohna
Exam Date	26/11/2021
Exam Time :	12:30 PM - 2:00 PM
Subject	Constable GD 2021

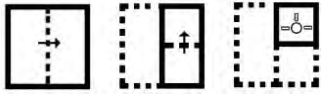
### Section : Part A General Intelligence and Reasoning

Q.1 एक निश्चित कूट भाषा में, 'FLOWER' को 'KQTSAN' के रूप में लिखा जाता है। उसी कूट भाषा में 'WINDOW' को किस रूप में लिखा जाएगा?

- Ans
- 1. CNSZLS
  - 2. BNSZKS
  - 3. BNSALS
  - 4. BMSAKS

Question ID : 65497831393  
Status : Answered  
Chosen Option : 2

Q.2 नीचे दी गई आकृतियों में कागज के एक टुकड़े को मोड़ने का क्रम और उस मुड़े हुए कागज को काटने का तरीका दर्शाया गया है। इस कागज को खोलने पर यह कैसा दिखेगा?



Ans

- 1.
- 2.
- 3.
- 4.

Question ID : 65497831403  
Status : Answered  
Chosen Option : 4

Q.3 छः मित्र, G, H, I, J, K और L, एक गोल मेज़ के परितः, मेज़ के केंद्र की ओर मुंह करके बैठे हुए हैं। H, G के बाईं ओर तीसरे स्थान पर बैठा है। L और I, H के बगल में नहीं हैं। K, I के दाईं ओर बगल में बैठा है। L के बाईं ओर बगल में कौन बैठा है?

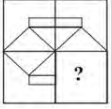
- Ans
- 1. I
  - 2. J
  - 3. G
  - 4. H

Question ID : 65497831397

Status : Not Attempted and Marked For Review

Chosen Option : --

Q.4 दिए गए विकल्पों में से उस आकृति का चयन कीजिए जो निम्नांकित पैटर्न में प्रश्नवाचक चिह्न (?) के स्थान पर आ सकती है और पैटर्न को पूरा कर सकती है। (आकृति को घुमाने की अनुमति नहीं है)



- Ans
- 1.
  - 2.
  - 3.
  - 4.

Question ID : 65497831407

Status : Answered

Chosen Option : 1

Q.5 अक्षरों के उस संयोजन का चयन करें जिसे दी गई श्रेणी में रिक्त स्थानों पर क्रमिक रूप से रखने पर श्रेणी पूर्ण हो जाएगी।

TK\_TKT\_P\_K\_KPTK\_K\_TK

- Ans
- 1. P, K, T, P, K, T
  - 2. P, K, T, T, T, P
  - 3. P, T, T, K, P, T
  - 4. P, T, K, P, T, K

Question ID : 65497831405

Status : Answered

Chosen Option : 2

Q.6 दिए गए विकल्पों में से उस संख्या का चयन कीजिए जो निम्न श्रेणी में प्रश्नवाचक चिह्न (?) के स्थान पर आएगी।

31, 32, 36, 63, 79, 204, ?

Ans  1. 240

2. 220

3. 204

4. 202

Question ID : 65497831406

Status : Answered

Chosen Option : 1

Q.7 उस विकल्प का चयन करें जो तीसरे पद से उसी प्रकार संबंधित है जिस प्रकार दूसरा पद पहले पद से संबंधित है।

LARGE : NDTJG :: APPLES : ?

Ans  1. CSROPU

2. CSROGV

3. DSROGV

4. CSORGV

Question ID : 65497831392

Status : Answered

Chosen Option : 2

Q.8 उस सही विकल्प का चयन कीजिए जो दिए गए शब्दों के उस क्रम को दर्शाता है जिस क्रम में वे अंग्रेजी शब्दकोश में आते हैं।

1. Censored
2. Cerebellum
3. Centripetal
4. Ceremonial
5. Centurion

Ans  1. 1, 3, 5, 2, 4

2. 3, 1, 2, 5, 4

3. 1, 5, 3, 4, 2

4. 3, 2, 1, 4, 5

Question ID : 65497831404

Status : Answered

Chosen Option : 1

Q.9 दिए गए विकल्पों में से उस अक्षर-समूह का चयन करें जो निम्नलिखित श्रृंखला में प्रश्न चिह्न (?) के स्थान पर आ सकता है।

STGMQ, SGQTM, SQMGT, ?

Ans  1. SGTQM

2. SMTQG

3. SMQTG

4. STQMG

Question ID : 65497831395

Status : Answered

Chosen Option : 2

Q.10 उस विकल्प का चयन कीजिए जो चौथी संख्या से उसी प्रकार है जिस प्रकार पहली संख्या दूसरी संख्या से और पांचवीं संख्या छठी संख्या से संबंधित है।

15 : 555 :: ? : 221 :: 17 : 719

Ans  1. 11

2. 5

3. 23

4. 19

Question ID : 65497831388  
Status : Answered  
Chosen Option : 2

Q.11 चार अक्षर-समूह दिए गए हैं, जिनमें से तीन किसी प्रकार से समान हैं और एक उनसे असंगत है। उस असंगत अक्षर-समूह का चयन करें।

Ans  1. DEWK

2. BQJM

3. ATGN

4. GSHH

Question ID : 65497831408  
Status : Answered  
Chosen Option : 1

Q.12 किसी निश्चित कूट भाषा में, 'FLORA' को 'DORII' के रूप में लिखा जाता है। उसी कूट भाषा में 'MUSIC' को किस रूप में लिखा जाएगा?

Ans  1. GQWQF

2. FVFPF

3. FFVRP

4. GFWQQ

Question ID : 65497831399  
Status : Answered  
Chosen Option : 3

Q.13 उस विकल्प का चयन करें जिसमें दी गई आकृति सन्निकित है (आकृति को घुमाने की अनुमति नहीं है)।

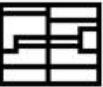


Ans

1.



2.



3.



4.



Question ID : 65497831391  
Status : Answered  
Chosen Option : 1

Q.14 विकल्पों में से उस संख्या का चयन कीजिए जो नीचे दी गई श्रृंखला में प्रश्न चिह्न (?) के स्थान पर आ सकती है।

10, 21, 35, 56, 90, 145, 231, 360, ?

Ans  1. 463

2. 564

3. 436

4. 546

Question ID : 65497831410

Status : Answered

Chosen Option : 4

Q.15 राजन का परिवार अपनी मासिक आय का 60% किराने के सामान पर, अपनी मासिक आय का 12% घर के किराए पर, अपनी मासिक आय का 8% चिकित्सा व्ययों पर खर्च करता है और शेष ₹18,000 की बचत करता है। राजन के परिवार की मासिक आय कितनी है?

Ans  1. ₹80,000

2. ₹90,000

3. ₹80,250

4. ₹90,200

Question ID : 65497831402

Status : Answered

Chosen Option : 2

Q.16 'लखनऊ' का जो संबंध 'गोमती' से है, वही संबंध 'वाराणसी' का ' \_\_\_\_\_ ' से है।

Ans  1. सरयू

2. गंगा

3. गोदावरी

4. यमुना

Question ID : 65497831396

Status : Answered

Chosen Option : 2

Q.17 दिए गए पैटर्न का ध्यानपूर्वक अध्ययन करें और उस संख्या का चयन करें जो इसमें प्रश्न चिह्न (?) के स्थान पर आ सकती है।

3 16 26

4 20 32

6 28 ?

Ans  1. 44

2. 38

3. 48

4. 46

Question ID : 65497831401

Status : Answered

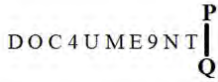
Chosen Option : 1

Q.18 किसी निश्चित कूट भाषा में, 'POEM' को '63' के रूप में कूटबद्ध किया जाता है। उसी भाषा में 'FILE' को किस रूप में कूटबद्ध किया जाएगा?

- Ans
- 1. 76
  - 2. 78
  - 3. 80
  - 4. 82

Question ID : 65497831409  
Status : Answered  
Chosen Option : 4

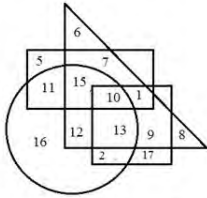
Q.19 यदि दर्पण को निम्न आकृति के अनुसार PQ पर रखा जाता है, तो दिए गए संयोजन का दर्पण में निर्मित सही प्रतिबिंब चयनित करें।



- Ans
- 1. TIREMUNOC
  - 2. DOCƏNMEYL
  - 3. DOC+NMƏYL
  - 4. TIRƏMUNOC

Question ID : 65497831411  
Status : Answered  
Chosen Option : 1

Q.20 नीचे दिए गए आरेख में, वृत्त 'प्रबंधकों' को निरूपित करता है, वर्ग 'ईमानदार' को निरूपित करता है, आयत 'महिलाओं' को निरूपित करता है, और त्रिकोण 'ग्रामीण' को निरूपित करता है।



वह संख्या कौन सी है जो उन ग्रामीण ईमानदार प्रबंधकों को निरूपित करती है जो महिलाएँ नहीं हैं?

- Ans
- 1. 12
  - 2. 13
  - 3. 10
  - 4. 9

Question ID : 65497831398  
Status : Answered  
Chosen Option : 2

Q.21 दिए गए कथनों और निष्कर्षों को ध्यानपूर्वक पढ़ें। यह मानते हुए कि कथनों में दी गई सूचना सही है, भले ही वह सामान्य रूप से ज्ञात तथ्यों से भिन्न प्रतीत होती हो, यह निर्धारित करें कि दिए गए निष्कर्षों में से कौन-सा/से निष्कर्ष कथनों का तार्किक रूप से अनुसरण करता है/करते हैं।

कथन:

कुछ कारें, ट्रेन हैं।  
कुछ ट्रेन, ट्रैक्टर हैं।

निष्कर्ष:

- I. कोई भी ट्रैक्टर, कार नहीं है।
- II. कोई भी ट्रेन, कार नहीं है।
- III. कुछ ट्रैक्टर, कार हैं।

Ans  1. या तो निष्कर्ष I या निष्कर्ष III अनुसरण करता है।

2. निष्कर्ष II और III दोनों अनुसरण करते हैं।  
 3. निष्कर्ष I और II दोनों अनुसरण करते हैं।  
 4. सभी निष्कर्ष अनुसरण करते हैं।

Question ID : 65497831400

Status : Answered

Chosen Option : 3

Q.22 अर्ध का विवाह चेतना के साथ हुआ है, जो कि दिलीप की एकलौती बहन है। मुकुल, चेतना के दादाजी हैं। नेहा का विवाह मुकुल के साथ हुआ है और उनके दो बेटे हार्दिक और भावेश हैं। हार्दिक अविवाहित है। अंजलि, नेहा की बहू है। ज्ञान, दिलीप और एकता का बेटा है। चेतना का ज्ञान से क्या संबंध है?

- Ans  1. भाभी  
 2. पत्नी  
 3. बहू  
 4. बुआ

Question ID : 65497831394

Status : Answered

Chosen Option : 4

Q.23 आठ मित्र P, Q, R, S, T, U, V और W किसी गोल मेज के परितः दक्षिणावर्त रूप से इसी क्रम में बैठे हैं। सभी एक दूसरे से समान दूरी पर केंद्र की ओर अभिमुख होकर बैठे हैं। यदि U उत्तर-पूर्व दिशा की ओर अभिमुख है, तो दक्षिण दिशा की ओर कौन अभिमुख है?

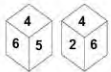
- Ans  1. S  
 2. R  
 3. T  
 4. P

Question ID : 65497831387

Status : Not Answered

Chosen Option : --

Q.24 एक ही पासे की दो अलग-अलग स्थितियां दर्शाई गई हैं, जिनके छह पृष्ठों पर 1 से लेकर 6 तक की संख्या अंकित की गई हैं। उस संख्या का चयन करें जो '2' वाले पृष्ठ के विपरीत पृष्ठ पर होगी।



- Ans  1. 4  
 2. 5  
 3. 3  
 4. 1

Question ID : 65497831390

Status : Answered

Chosen Option : 2

Q.25 दिए गए समीकरण को संतुलित करने के लिए किन दो संख्याओं को परस्पर बदला जाना चाहिए?

$$27 + 36 \div 9 \times 15 - 24 = 57$$

- Ans
- 1. 27 और 9
  - 2. 27 और 24
  - 3. 24 और 9
  - 4. 15 और 9

Question ID : 65497831389  
Status : Answered  
Chosen Option : 2

Section : Part B General Knowledge and General Awareness

Q.1 डिएगो मेराडोना, अर्जेन्टीना के फुटबॉल खिलाड़ी, जिनका 25 नवंबर 2020 को निधन हो गया, एक यादगार गोल के विश्व-प्रसिद्ध हैं, इस गोल को क्या संज्ञा दी गई है?

- Ans
- 1. 'गोल्डन हैड' गोल
  - 2. 'सिल्वर लाइनिंग' गोल
  - 3. 'हैंड ऑफ मेराडोना' गोल
  - 4. 'हैंड ऑफ गॉड' गोल

Question ID : 65497831435  
Status : Answered  
Chosen Option : 4

Q.2 मुगल सम्राट बाबर के बारे में निम्नलिखित में से कौन सा कथन गलत है?

- Ans
- 1. जब वह सिंहासन पर बैठा तो उसकी उम्र 18 वर्ष थी।
  - 2. उसने फर्गाना के राज सिंहासन पर विजय प्राप्त की थी।
  - 3. उसने 1494 में राज सिंहासन प्राप्त किया था।
  - 4. वह पहला मुगल सम्राट था।

Question ID : 65497831430  
Status : Answered  
Chosen Option : 3

Q.3 नवंबर 2020 में, अंडमान और निकोबार कमांड (ANC) ने एक संयुक्त सेवा अभ्यास \_\_\_\_\_ कोड नाम से प्रारंभ किया जिसमें अंडमान और निकोबार कमांड के तीनों सेवा घटक शामिल थे।

- Ans
- 1. बुल स्ट्राइक
  - 2. ब्ल्यू सी
  - 3. ब्ल्यू रिबन
  - 4. बुल फाइट

Question ID : 65497831422  
Status : Not Answered  
Chosen Option : --

Q.4 निम्नलिखित में से कौन-सा, अपशिष्ट प्रबंधन का एक स्थायी तरीका नहीं है?

- Ans
- 1. जलाना (Burning)
  - 2. पुनर्चक्रण (Recycling)
  - 3. भस्मीकरण (Incineration)
  - 4. भूमि भराव (Landfill)

Question ID : 65497831414  
Status : Answered  
Chosen Option : 1



Q.5 चावल की उपज के लिए \_\_\_\_\_ की आवश्यकता होती है।

- Ans  1. उच्च तापमान और हल्की वर्षा  
 2. उच्च तापमान, उच्च आर्द्रता और वर्षा  
 3. मध्यम तापमान और अत्यधिक धूप  
 4. मध्यम तापमान और वर्षा

Question ID : 65497831433  
Status : Answered  
Chosen Option : 4

Q.6 भारतीय शास्त्रीय नृत्य शैली 'जागोई' पारंपरिक रूप से \_\_\_\_\_ राज्य से संबंधित है।

- Ans  1. कर्नाटक  
 2. पंजाब  
 3. गुजरात  
 4. मणिपुर

Question ID : 65497831412  
Status : Answered  
Chosen Option : 4

Q.7 अक्टूबर 2020 तक, भारत के कितने समुद्र तटों को 'ब्लू फ्लैग सर्टिफिकेशन' देकर सम्मानित किया गया है?

- Ans  1. 6  
 2. 9  
 3. 8  
 4. 7

Question ID : 65497831431  
Status : Not Answered  
Chosen Option : --

Q.8 भारत का पहला आर्थिक सर्वेक्षण \_\_\_\_\_ में प्रस्तुत किया गया था।

- Ans  1. 1972-73  
 2. 1950-51  
 3. 1965-66  
 4. 1948-49

Question ID : 65497831436  
Status : Answered  
Chosen Option : 2

Q.9 भारत में निम्नलिखित में से किस फसली मौसम में तरबूज, खरबूजा आदि का उत्पादन किया जाता है?

- Ans  1. वर्षा  
 2. रबी  
 3. ज़ायद  
 4. खरीफ

Question ID : 65497831425  
Status : Answered  
Chosen Option : 3

Q.10 मध्यकालीन भारतीय साहित्य के सन्दर्भ में, निम्नलिखित में से कौन सा युग्म सही है?

- Ans  1. विक्रमांकदेवचरित - कल्हण  
 2. गीतगोविंद - जयदेव  
 3. रजतरागिनी - बिल्हण  
 4. पृथ्वीराजरासो - नृपतुंग

Question ID : 65497831418  
Status : Answered  
Chosen Option : 2

Q.11 विद्युत बल्ब का आविष्कार किसने किया था?

- Ans  1. आइज़ेक न्यूटन  
 2. थॉमस अल्वा एडीसन  
 3. अल्बर्ट आइंस्टीन  
 4. अलेक्जेंडर ग्राहम बेल

Question ID : 65497831434  
Status : Answered  
Chosen Option : 2

Q.12 पंजाब के एक राष्ट्रवादी, लाला लाजपत राय, \_\_\_\_\_ के सदस्य थे।

- Ans  1. अनुदारवादी दल  
 2. गरम दल  
 3. गणतांत्रिक दल  
 4. नरम दल

Question ID : 65497831428  
Status : Answered  
Chosen Option : 2

Q.13 पंचशील शब्द निम्नलिखित में से किस विकल्प से संबंधित है?

- Ans  1. भारत की विदेश नीति  
 2. अंतर-राज्यीय संबंध  
 3. नीति आयोग का गठन  
 4. मौलिक कर्तव्य

Question ID : 65497831421  
Status : Answered  
Chosen Option : 1

Q.14 सिमलीपाल राष्ट्रीय उद्यान निम्नलिखित में से किस राज्य में स्थित है?

- Ans  1. बिहार  
 2. ओडिशा  
 3. महाराष्ट्र  
 4. तमिलनाडु

Question ID : 65497831423  
Status : Answered  
Chosen Option : 2

Q.15 निम्नलिखित में से कौन, यूएस (US) द्वारा दिए गए वर्ष 2020 के महान प्रवासियों के पुरस्कार के भारतीय विजेताओं में से एक था/थी?

- Ans
- 1. दीपक चोपड़ा
  - 2. गीता गोपीनाथ
  - 3. सिद्धार्थ मुखर्जी
  - 4. निक्की हेली

Question ID : 65497831415  
Status : Answered  
Chosen Option : 4

Q.16 'डूगोंग' निम्न में से किस भारतीय केंद्र शासित प्रदेश का राजकीय पशु है?

- Ans
- 1. अंडमान और निकोबार
  - 2. दमन और दीव
  - 3. पुडुचेरी
  - 4. लद्दाख

Question ID : 65497831429  
Status : Not Answered  
Chosen Option : --

Q.17 खेल एवं युवा मंत्रालय के केंद्रीय मंत्री श्री किरन रिजिजू ने नवंबर 2020 में भारतीय खेल प्राधिकरण के 11वें क्षेत्रीय केंद्र का आभासी (वर्चुअल) उद्घाटन निम्न में से किस राज्य में किया?

- Ans
- 1. ओडिशा
  - 2. केरल
  - 3. असम
  - 4. पंजाब

Question ID : 65497831424  
Status : Answered  
Chosen Option : 3

Q.18 इंडियन प्रीमियर लीग (IPL) 2020 के मैच निम्न में से किस शहर में नहीं खेले गए?

- Ans
- 1. मस्कट
  - 2. शारजाह
  - 3. दुबई
  - 4. आबू धाबी

Question ID : 65497831426  
Status : Answered  
Chosen Option : 1

Q.19 औपनिवेशिक भारत में अंग्रेजी शासन के विरुद्ध अपनी सक्रियता के लिए प्रसिद्ध एक प्रमुख पखतून अहिंसक आंदोलन 'खुदाई खिदमतगार' के संस्थापक निम्नलिखित में से कौन थे?

- Ans
- 1. लाला लाजपत राय
  - 2. बाल गंगाधर तिलक
  - 3. सुभाष चंद्र बोस
  - 4. खान अब्दुल गफ्फार खान

Question ID : 65497831417  
Status : Answered  
Chosen Option : 4

Q.20 निम्नलिखित में से किस शब्द को कैम्ब्रिज यूनिवर्सिटी द्वारा '2020 वर्ड ऑफ द इयर' नामित किया गया है?

- Ans
- 1. लॉकडाउन (Lockdown)
  - 2. पैन्डेमिक (Pandemic)
  - 3. क्वारंटीन (Quarantine)
  - 4. सर्वाइव (Survive)

Question ID : 65497831420  
Status : Answered  
Chosen Option : 1

Q.21 संसद के सदनों द्वारा एकल या संयुक्त अधिवेशन में पारित होने के पश्चात प्रत्येक विधेयक \_\_\_\_\_ की सहमति के लिए उनके समक्ष प्रस्तुत किया जाता है।

- Ans
- 1. विधि मंत्री
  - 2. राष्ट्रपति
  - 3. मुख्य न्यायाधीश
  - 4. प्रधानमंत्री

Question ID : 65497831419  
Status : Answered  
Chosen Option : 2

Q.22 निम्नलिखित में से कौन फसलों के लिए न्यूनतम समर्थन मूल्य (MSP) घोषित करता है?

- Ans
- 1. कृषि एवं किसान कल्याण मंत्रालय
  - 2. उपभोक्ता मामले, खाद्य एवं सार्वजनिक वितरण मंत्रालय
  - 3. ग्रामीण विकास मंत्रालय
  - 4. खाद्य प्रसंस्करण उद्योग मंत्रालय

Question ID : 65497831427  
Status : Answered  
Chosen Option : 1

Q.23 निम्नलिखित में से कौन-सी 'टेरिडोफाइट (Pteridophytes)' की विशेषता है?

- Ans
- 1. उनके स्पोरोफाइट्स अशाखीय होते हैं।
  - 2. वे पुष्प या बीज उत्पन्न नहीं करते।
  - 3. उनके पास लिग्निन युक्त वास्तविक संवहनी ऊतक नहीं होता है।
  - 4. उनके जीवनचक्रों पर गैमेटोफाइट अवस्था का प्रभुत्व होता है।

Question ID : 65497831413  
Status : Not Answered  
Chosen Option : --

Q.24 तंजावुर का राजराजेश्वर मंदिर निम्न में से किस देवता को समर्पित है?

- Ans
- 1. भगवान कृष्ण
  - 2. भगवान शिव
  - 3. भगवान राम
  - 4. भगवान गणेश

Question ID : 65497831432  
Status : Answered  
Chosen Option : 4

Q.25 निम्नलिखित में से कौन सा, भारतीय रिजर्व बैंक की मौद्रिक नीति का एक कारक (इंस्ट्रुमेंट) है?

- Ans
- 1. कर दर
  - 2. सार्वजनिक ऋण
  - 3. सरकारी खर्च
  - 4. रेपो दर

Question ID : 65497831416  
Status : Answered  
Chosen Option : 4

Section : Part C Elementary Mathematics

Q.1  $3 + \left(1 + \frac{1}{2} - \{3 - (8 \div 2)\} + \frac{1}{3} + \frac{2}{5}\right)$  का मान ज्ञात करें।

- Ans
- 1.  $\frac{37}{30}$
  - 2.  $\frac{187}{30}$
  - 3.  $\frac{125}{30}$
  - 4.  $\frac{67}{30}$

Question ID : 65497831455  
Status : Answered  
Chosen Option : 2

Q.2 152 को तीन भागों में इस प्रकार विभाजित किया जाता है कि पहले भाग का  $\frac{1}{5}$ , दूसरे भाग का  $\frac{1}{3}$  और तीसरे भाग का  $\frac{1}{11}$  बराबर हैं। दूसरे और तीसरे भाग का योग कितना होगा?

- Ans
- 1. 120
  - 2. 128
  - 3. 112
  - 4. 64

Question ID : 65497831439  
Status : Answered  
Chosen Option : 2

Q.3 अंडों से भरी टोकरी में से, 20% अंडे टूट गए, 8% सड़े हुए थे और 24% अंडों को केक बनाने के लिए अलग रखा गया था। शेष 12 अंडे कुछ लोगों द्वारा खा लिए गए थे। शुरुआत में टोकरी में कितने अंडे थे?

- Ans
- 1. 20
  - 2. 52
  - 3. 25
  - 4. 48

Question ID : 65497831454  
Status : Answered  
Chosen Option : 1

Q.4  $9 \div \{5 - 5 \div (6 - 7) \times 8 + 9\}$  का मान ज्ञात करें।  
 $4 + 4 \times 4 \div 4 \text{ of } 4$

- Ans
- 1.  $\frac{1}{90}$
  - 2.  $\frac{1}{10}$
  - 3.  $\frac{1}{15}$
  - 4.  $\frac{1}{30}$

Question ID : 65497831443

Status : Not Attempted and Marked For Review

Chosen Option : --

Q.5 एक राशि साधारण ब्याज पर 4 वर्ष में ₹12,144 और  $6\frac{1}{2}$  वर्ष में ₹13,984 हो जाती है। ब्याज दर ज्ञात करें।

- Ans
- 1. 8%
  - 2. 9%
  - 3. 6%
  - 4. 10%

Question ID : 65497831452

Status : Answered

Chosen Option : 2

Q.6 कॉलेज के चुनाव में सचिव पद के विजयी उम्मीदवार को 69% मत प्राप्त हुए और उसने अपने प्रतिद्वंद्वी को 342 मतों से पराजित किया। कॉलेज में विद्यार्थियों की कुल संख्या ज्ञात करें।

- Ans
- 1. 1000
  - 2. 800
  - 3. 750
  - 4. 900

Question ID : 65497831448

Status : Answered

Chosen Option : 4

Q.7 A और B की आय का अनुपात 5 : 7 है। A का व्यय, B की बचत के बराबर है। यदि A और B का कुल व्यय ₹15,750 है, तो उनकी कुल बचत (₹ में) कितनी होगी?

- Ans
- 1. 11,280
  - 2. 11,250
  - 3. 11,180
  - 4. 11,200

Question ID : 65497831459

Status : Answered

Chosen Option : 2

**Q.8** निश्चित संख्या वाले बच्चों के एक समूह का औसत भार 31 kg था। 32.5 kg औसत भार वाले 11 और बच्चों के इस समूह में शामिल होने पर औसत भार में 0.25 kg की वृद्धि हो जाती है। आरंभ में समूह में बच्चों की संख्या कितनी थी?

- Ans**
- 1. 45
  - 2. 55
  - 3. 60
  - 4. 50

Question ID : 65497831446  
Status : Answered  
Chosen Option : 2

**Q.9** एक कार्य पर, 15 व्यक्ति एक साथ मिलकर काम करना शुरू करते हैं, लेकिन कुछ दिनों के बाद 6 व्यक्ति काम छोड़कर चले जाते हैं। परिणामस्वरूप, जो काम 42 दिनों में पूरा हो सकता था, वह 54 दिनों में पूरा हुआ। काम शुरू होने के कितने दिनों के बाद 6 व्यक्तियों ने काम छोड़ दिया था?

- Ans**
- 1. 24
  - 2. 32
  - 3. 18
  - 4. 12

Question ID : 65497831449  
Status : Answered  
Chosen Option : 2

**Q.10** 7.2 km/h की चाल से चलता एक व्यक्ति एक पुल को 25 मिनट में पार कर जाता है। पुल की लंबाई (मीटर में) ज्ञात करें।

- Ans**
- 1. 1575
  - 2. 2000
  - 3. 1960
  - 4. 3000

Question ID : 65497831456  
Status : Answered  
Chosen Option : 4

**Q.11** किसी वस्तु को ₹12,400 में बेचने पर प्राप्त लाभ, उसी वस्तु को ₹10,600 में बेचने पर हुई हानि के बराबर है। यदि वस्तु को ₹14,950 में बेचा जाए, तो लाभ प्रतिशत क्या होगा?

- Ans**
- 1. 32
  - 2. 25
  - 3. 28
  - 4. 30

Question ID : 65497831451  
Status : Answered  
Chosen Option : 4

Q.12 एक वस्तु का अंकित मूल्य ₹15,800 है। यदि कोई दुकानदार 20% की छूट देने के बाद 18% का लाभ कमाता है, तो वस्तु का क्रय मूल्य (₹ में, ₹1 के निकटतम) ज्ञात करें।

- Ans
- 1. 12,640
  - 2. 13,756
  - 3. 15,415
  - 4. 10,712

Question ID : 65497831447  
Status : Answered  
Chosen Option : 4

Q.13 चार अंकों की बड़ी से बड़ी कौन सी संख्या 24, 40 और 48 से पूर्णतः विभाज्य है?

- Ans
- 1. 9990
  - 2. 9980
  - 3. 9960
  - 4. 9840

Question ID : 65497831453  
Status : Answered  
Chosen Option : 4

Q.14 एक व्यापारी एक वस्तु X को बेचकर 30% का लाभ कमाता है और एक अन्य वस्तु Y को बेचकर 16% की हानि उठाता है। यदि X और Y के क्रय मूल्य का अनुपात 3 : 4 है, तो पूरे सौदे में लाभ/हानि कितनी है (दशमलव के एक स्थान तक सही)?

- Ans
- 1. 4.8% का लाभ
  - 2. 3.7% का लाभ
  - 3. 3.9% की हानि
  - 4. 4.5% की हानि

Question ID : 65497831444  
Status : Answered  
Chosen Option : 3

Q.15 एक लंबवृत्तीय बेलन का आयतन  $8448 \text{ cm}^3$  है और इसके वक्र पृष्ठ का क्षेत्रफल ( $\text{cm}^2$  में) इसके आयतन के आंशिक मान के  $\frac{1}{8}$  के बराबर है। बेलन की ऊँचाई (cm में) ज्ञात कीजिए।

- Ans
- 1. 9.1
  - 2. 10.5
  - 3. 8.4
  - 4. 11.2

Question ID : 65497831461  
Status : Not Answered  
Chosen Option : --



**Q.16** व्याज की गणना वार्षिक चक्रवृद्धि आधार पर किए जाने पर, ₹15,000 की धनराशि को 8% वार्षिक व्याज की दर से एक निश्चित समय के लिए निवेश करने पर प्राप्त होने वाला मिश्रधन ₹17,496 है। उसी धनराशि पर समान समय में 15% वार्षिक व्याज दर से प्राप्त होने वाला मिश्रधन (₹ में) ज्ञात कीजिए, जबकि व्याज की गणना 8-मासिक चक्रवृद्धि आधार पर की जाती है?

- Ans**
- 1. 19,954
  - 2. 19,943
  - 3. 19,976
  - 4. 19,965

Question ID : 65497831460  
Status : Answered  
Chosen Option : 4

**Q.17** यदि किसी मेज का खुदरा मूल्य ₹900 है और निर्माता, थोक व्यापारी और खुदरा विक्रेता के लाभ प्रतिशत क्रमशः 8%, 10% और 20% हैं, तो मेज की उत्पादन लागत कितनी है (मान निकटतम पूर्णांक में ज्ञात करें)?

- Ans**
- 1. ₹750
  - 2. ₹631
  - 3. ₹546
  - 4. ₹869

Question ID : 65497831458  
Status : Answered  
Chosen Option : 2

**Q.18** एक मोटर बोट धारा की विपरीत दिशा में किसी निश्चित समय में 24 km की दूरी तय करती है, जो कि उसे धारा की दिशा में समान दूरी को तय करने में लगे समय से एक घंटा अधिक है। यदि नदी की धारा की चाल 2 km/h है, तो धारा की विपरीत दिशा में यात्रा करने के दौरान बोट की चाल (km/h में) कितनी है?

- Ans**
- 1. 8
  - 2. 9
  - 3. 10
  - 4. 6

Question ID : 65497831450  
Status : Answered  
Chosen Option : 3

**Q.19** पाइप A एक भरने वाला पाइप है जबकि पाइप B और C, खाली करने वाले पाइप हैं। पाइप A अकेले टंकी को 10 घंटे में भर सकता है और पाइप B अकेले टंकी के दो-तिहाई भाग को 20 घंटे में खाली कर सकता है। यदि सभी तीन पाइप एक साथ खोले जाते हैं, तो टंकी 40 घंटों में पूरी तरह से भर जाती है। C अकेले टंकी के दो-तिहाई भाग को कितने घंटे में खाली कर सकता है?

- Ans**
- 1. 24
  - 2. 12
  - 3. 20
  - 4. 16

Question ID : 65497831445  
Status : Answered  
Chosen Option : 4

**Q.20** अमरनाथ ने ₹22,500 का निवेश किया। साधारण ब्याज की वह वार्षिक दर जात कीजिए जिसपर उसे 4 वर्षों में ₹28,800 का मिश्रधन प्राप्त होगा।

- Ans**
- 1. 6%
  - 2. 4%
  - 3. 5%
  - 4. 7%

Question ID : 65497831440  
Status : Answered  
Chosen Option : 4

**Q.21** दो संख्याओं का लघुत्तम समापवर्त्य (LCM) और महत्तम समापवर्तक (HCF) क्रमशः 420 और 6 हैं। यदि इन संख्याओं का योग 102 है, तो दोनों संख्याओं का अंतर कितना होगा?

- Ans**
- 1. 22
  - 2. 60
  - 3. 42
  - 4. 18

Question ID : 65497831437  
Status : Answered  
Chosen Option : 3

**Q.22** 18, 12 का तृतीयानुपाती क्या होगा?

- Ans**
- 1. 8
  - 2. 7
  - 3. 9
  - 4.  $6\sqrt{6}$

Question ID : 65497831441  
Status : Answered  
Chosen Option : 1

**Q.23** किसी वस्तु का अंकित मूल्य ₹800 है। यदि एक दुकानदार उस वस्तु पर दो छूट देता है, पहली छूट 10% और दूसरी छूट 5% की है, तो वस्तु का विक्रय मूल्य कितना होगा?

- Ans**
- 1. ₹720
  - 2. ₹684
  - 3. ₹562
  - 4. ₹690

Question ID : 65497831457  
Status : Answered  
Chosen Option : 2

**Q.24** 48 संख्याओं का औसत 48 है। यह बाद में जात हुआ कि 48 को दो जगहों पर गलती से 84 समझ लिया गया। सही औसत कितना है?

- Ans
- 1. 49.5
  - 2. 47.25
  - 3. 46.5
  - 4. 84

Question ID : 65497831438  
Status : Answered  
Chosen Option : 3

**Q.25** एक समकोण त्रिभुज में, 14 cm और 48 cm लंबाई वाली भुजाएं समकोण बनाती हैं। लंबी भुजा को केंद्र मानकर, घुमाने पर बनने वाले शंकु का आयतन कितना होगा? (दिया है  $\pi = \frac{22}{7}$ )

- Ans
- 1. 33792 cm<sup>3</sup>
  - 2. 2112 cm<sup>3</sup>
  - 3. 9856 cm<sup>3</sup>
  - 4. 29568 cm<sup>3</sup>

Question ID : 65497831442  
Status : Not Answered  
Chosen Option : --

Section : Part D English

**Q.1** Select the most appropriate option that can substitute the underlined segment in the given sentence. If there is no need to substitute it, select 'No substitution required'.

Last Sunday I returning home late at night.

- Ans
- 1. I am returning home
  - 2. No substitution required
  - 3. I returned home
  - 4. I had been returning home

Question ID : 65497831472  
Status : Not Answered  
Chosen Option : --

**Q.2** Select the option that can be used as a one-word substitute for the given group of words.

A recurrent urge to steal

- Ans
- 1. Pyromania
  - 2. Dipsomania
  - 3. Kleptomania
  - 4. Monomania

Question ID : 65497831478  
Status : Not Answered  
Chosen Option : --

**Q.3** Select the most appropriate synonym of the given word.

**Restrain**

- Ans**  1. Control  
 2. Encourage  
 3. Force  
 4. Provoke

Question ID : 65497831473  
Status : Not Answered  
Chosen Option : --

**Q.4** Select the most appropriate ANTONYM of the given word.

**Collect**

- Ans**  1. Confine  
 2. Hoard  
 3. Disperse  
 4. Compose

Question ID : 65497831467  
Status : Not Answered  
Chosen Option : --

**Q.5** Select the most appropriate ANTONYM of the given word.

**Resource**

- Ans**  1. Reserve  
 2. Lack  
 3. Source  
 4. Property

Question ID : 65497831477  
Status : Not Answered  
Chosen Option : --

**Q.6** Select the INCORRECTLY spelt word.

- Ans**  1. Terabyte  
 2. Terrestrial  
 3. Terminal  
 4. Termite

Question ID : 65497831479  
Status : Not Answered  
Chosen Option : --

**Q.7** Parts of the given sentence have been given as options. One of them contains a grammatical error. Select the option that has the error.

Children are fond of eating food from Mala aunties small shop at the corner of the street.

- Ans**  1. food from  
 2. Mala aunties small shop  
 3. are fond of  
 4. at the corner

Question ID : 65497831471  
Status : Not Answered  
Chosen Option : --

**Q.8** Select the most appropriate option that can substitute the underlined segment in the given sentence. If there is no need to substitute it, select 'No substitution required'.

You are ill if you eat all that food.

- Ans**
- 1. No substitution required
  - 2. have been
  - 3. were
  - 4. will be

Question ID : 65497831462  
Status : Not Answered  
Chosen Option : --

**Q.9** The following sentence has been split into four segments. Identify the segment that contains a grammatical error.

Nobody were / allowed into / the containment zones / during the pandemic.

- Ans**
- 1. the containment zones
  - 2. Nobody were
  - 3. during the pandemic
  - 4. allowed into

Question ID : 65497831468  
Status : Not Answered  
Chosen Option : --

**Q.10** Select the most appropriate synonym of the given word.

**Vital**

- Ans**
- 1. Ambitious
  - 2. Hungry
  - 3. Crucial
  - 4. Bold

Question ID : 65497831469  
Status : Not Answered  
Chosen Option : --

**Q.11** Select the most appropriate meaning of the given idiom.

**At the eleventh hour**

- Ans**
- 1. At 11:00 am
  - 2. One hour before noon
  - 3. At the very last minute
  - 4. Too late in the night

Question ID : 65497831475  
Status : Not Answered  
Chosen Option : --

Q.12 Select the most appropriate option to fill in the blank.

The type of turban worn by Indians \_\_\_\_\_ from one region to another.

- Ans  1. follows  
 2. varies  
 3. belongs  
 4. originates

Question ID : 65497831470  
Status : Not Answered  
Chosen Option : --

Q.13 Select the option that can be used as a one-word substitute for the given group of words.

The sound a bear makes

- Ans  1. Purr  
 2. Growl  
 3. Bray  
 4. Caw

Question ID : 65497831465  
Status : Not Answered  
Chosen Option : --

Q.14 Select the INCORRECTLY spelt word.

- Ans  1. Pickel  
 2. Picture  
 3. Piano  
 4. Picnic

Question ID : 65497831463  
Status : Not Answered  
Chosen Option : --

Q.15 Select the most appropriate option to fill in the blank.

Though he earned meagre wages, he was \_\_\_\_\_ with his life.

- Ans  1. enthusiastic  
 2. contented  
 3. miserable  
 4. irritated

Question ID : 65497831464  
Status : Not Answered  
Chosen Option : --

Q.16 Select the option that can be used as a one-word substitute for the given group of words.

A person who loves, supports and defends his country

- Ans  1. Patriot  
 2. Lover  
 3. Dreamer  
 4. Fellow man

Question ID : 65497831474  
Status : Not Answered  
Chosen Option : --

**Q.17** Parts of the given sentence have been given as options. One of them contains a grammatical error. Select the option that has the error.

**A grand celebration in honour of a first woman gold medallist was organised by the family members.**

- Ans**
- 1. by the family members
  - 2. a first woman gold medallist
  - 3. grand celebration
  - 4. in honour of

Question ID : **65497831476**  
Status : **Not Answered**  
Chosen Option : --

**Q.18** Select the most appropriate meaning of the given idiom.

**To put something on hold**

- Ans**
- 1. To cancel something
  - 2. To transfer something
  - 3. To procure something
  - 4. To postpone something

Question ID : **65497831480**  
Status : **Not Answered**  
Chosen Option : --

**Q.19** Select the most appropriate option to fill in the blank.

\_\_\_\_\_, he has only himself to blame.

- Ans**
- 1. Ultimately
  - 2. Happily
  - 3. Accurately
  - 4. Immediately

Question ID : **65497831481**  
Status : **Not Answered**  
Chosen Option : --

**Q.20** Select the most appropriate option that can substitute the underlined word in the given sentence.

She was the only companion **Becky** could confine in.

- Ans**
- 1. confide
  - 2. confer
  - 3. console
  - 4. content

Question ID : **65497831466**  
Status : **Not Answered**  
Chosen Option : --

**Comprehension:**

In the following passage, some words have been deleted. Read the passage carefully and select the most appropriate option to fill in each blank.

Life processes are similar in all animals with (1)\_\_\_\_\_. So physiologists can find out a lot about the human body by studying animals (2)\_\_\_\_\_ frogs, rats and rabbits. Sometimes, research involves the death of these animals. But, physiologists take great care to not (3)\_\_\_\_\_ the animals. The animals are (4)\_\_\_\_\_ put to sleep during the experiments. It is only by physiological research (5)\_\_\_\_\_ medicine has been able to advance

**SubQuestion No : 21**

**Q.21 Select the most appropriate option to fill in blank number 1.**

- Ans**
- 1. the backbones
  - 2. backbones
  - 3. the backbone
  - 4. backbone

Question ID : 65497831483  
Status : Not Answered  
Chosen Option : --

**Comprehension:**

In the following passage, some words have been deleted. Read the passage carefully and select the most appropriate option to fill in each blank.

Life processes are similar in all animals with (1)\_\_\_\_\_. So physiologists can find out a lot about the human body by studying animals (2)\_\_\_\_\_ frogs, rats and rabbits. Sometimes, research involves the death of these animals. But, physiologists take great care to not (3)\_\_\_\_\_ the animals. The animals are (4)\_\_\_\_\_ put to sleep during the experiments. It is only by physiological research (5)\_\_\_\_\_ medicine has been able to advance

**SubQuestion No : 22**

**Q.22 Select the most appropriate option to fill in blank number 2.**

- Ans**
- 1. as like
  - 2. as such
  - 3. such as
  - 4. as like as

Question ID : 65497831484  
Status : Not Answered  
Chosen Option : --

**Comprehension:**

In the following passage, some words have been deleted. Read the passage carefully and select the most appropriate option to fill in each blank.

Life processes are similar in all animals with (1)\_\_\_\_\_. So physiologists can find out a lot about the human body by studying animals (2)\_\_\_\_\_ frogs, rats and rabbits. Sometimes, research involves the death of these animals. But, physiologists take great care to not (3)\_\_\_\_\_ the animals. The animals are (4)\_\_\_\_\_ put to sleep during the experiments. It is only by physiological research (5)\_\_\_\_\_ medicine has been able to advance

**SubQuestion No : 23**

**Q.23 Select the most appropriate option to fill in blank number 3.**

- Ans**
- 1. hurt
  - 2. displease
  - 3. destroy
  - 4. damage

Question ID : 65497831485  
Status : Not Answered  
Chosen Option : --



**Comprehension:**

In the following passage, some words have been deleted. Read the passage carefully and select the most appropriate option to fill in each blank.

Life processes are similar in all animals with (1)\_\_\_\_\_. So physiologists can find out a lot about the human body by studying animals (2)\_\_\_\_\_ frogs, rats and rabbits. Sometimes, research involves the death of these animals. But, physiologists take great care to not (3)\_\_\_\_\_ the animals. The animals are (4)\_\_\_\_\_ put to sleep during the experiments. It is only by physiological research (5)\_\_\_\_\_ medicine has been able to advance

**SubQuestion No : 24**

**Q.24** Select the most appropriate option to fill in blank number 4.

- Ans  1. incidentally  
 2. strangely  
 3. usually  
 4. oddly

Question ID : 65497831486  
Status : Not Answered  
Chosen Option : --

**Comprehension:**

In the following passage, some words have been deleted. Read the passage carefully and select the most appropriate option to fill in each blank.

Life processes are similar in all animals with (1)\_\_\_\_\_. So physiologists can find out a lot about the human body by studying animals (2)\_\_\_\_\_ frogs, rats and rabbits. Sometimes, research involves the death of these animals. But, physiologists take great care to not (3)\_\_\_\_\_ the animals. The animals are (4)\_\_\_\_\_ put to sleep during the experiments. It is only by physiological research (5)\_\_\_\_\_ medicine has been able to advance

**SubQuestion No : 25**

**Q.25** Select the most appropriate option to fill in blank number 5.

- Ans  1. that  
 2. than  
 3. then  
 4. so

Question ID : 65497831487  
Status : Not Answered  
Chosen Option : --

Section : Part D Hindi

**Q.1** दिए गए शब्द के समानार्थी शब्द का चयन करें।

व्योम

- Ans  1. अक्षि  
 2. अंबक  
 3. आकाश  
 4. अंशु

Question ID : 65497831496  
Status : Answered  
Chosen Option : 1

Q.2 दिए गए शब्द का विलोम चुनें।

क्रोध

- Ans  1. हिंसा  
 2. दया  
 3. क्षमा  
 4. गुस्सा

Question ID : 65497831492  
Status : Answered  
Chosen Option : 2

Q.3 रिक्त स्थान की पूर्ति के लिए सबसे उपयुक्त शब्द का चयन कीजिए।

बिच्छू का \_\_\_\_\_ विषैला होता है।

- Ans  1. फन  
 2. डंक  
 3. काटना  
 4. दंश

Question ID : 65497831490  
Status : Answered  
Chosen Option : 2

Q.4 'चूना लगाना' मुहावरे का सही अर्थ है-

- Ans  1. प्रसन्न करना  
 2. धोखा देना  
 3. पान खिलाना  
 4. चोरी करना

Question ID : 65497831506  
Status : Answered  
Chosen Option : 2

Q.5 दिये गये वाक्य के किस भाग में त्रुटि है?

प्रायः लोग देहिक सुख चाहते हैं।

- Ans  1. प्रायः लोग  
 2. देहिक  
 3. चाहते हैं।  
 4. सुख

Question ID : 65497831504  
Status : Answered  
Chosen Option : 2

Q.6 दिए गए वाक्य का वह भाग ज्ञात करें जिसमें कोई त्रुटि है। यदि कोई त्रुटि नहीं है, तो 'कोई त्रुटि नहीं है' विकल्प को चुनें।

लगभग गोपाल जानता है कि उसका मित्र बीमार है।

- Ans  1. लगभग गोपाल जानता है  
 2. कि उसका मित्र  
 3. कोई त्रुटि नहीं है  
 4. बीमार है

Question ID : 65497831491  
Status : Answered  
Chosen Option : 1

Q.7 सही वर्तनी वाले शब्द का चयन कीजिए।

- Ans  1. अत्यधिक  
 2. अत्यधिक  
 3. अत्याधिक  
 4. अत्याधिक

Question ID : 65497831489  
Status : Answered  
Chosen Option : 3

Q.8 सही वर्तनी वाले शब्द का चयन कीजिए।

- Ans  1. औद्योगीकरण  
 2. ओद्योगीकरण  
 3. औद्योगिकरण  
 4. औद्योगीकरन

Question ID : 65497831488  
Status : Answered  
Chosen Option : 1

Q.9 दिए गए वाक्य में रेखांकित खंड को प्रतिस्थापित करने के लिए सबसे उपयुक्त विकल्प का चयन करें। यदि इसे प्रतिस्थापित करने की आवश्यकता नहीं है, तो विकल्प 'किसी बदलाव की आवश्यकता नहीं है' का चयन करें।

उसकी परेशानी देखकर मेरा प्राण मुँह को आ गया।

- Ans  1. मेरे प्राण मुँह से आ गए।  
 2. किसी बदलाव की आवश्यकता नहीं है।  
 3. मेरे प्राण मुँह में आ गया।  
 4. मेरे प्राण मुँह को आ गए।

Question ID : 65497831498  
Status : Answered  
Chosen Option : 3

Q.10 रिक्त स्थान की पूर्ति के लिए सबसे उपयुक्त विकल्प का चयन करें।

मुझे \_\_\_\_\_ है कि आप स्वस्थ हो गए हैं।

- Ans
- 1. आह्लाद
  - 2. उल्लास
  - 3. हर्ष
  - 4. आनंद

Question ID : 65497831507  
Status : Answered  
Chosen Option : 3

Q.11 दिए गए वाक्यांश के लिए एक शब्द दीजिए।

जो व्यक्ति किसी के उपकार को मानता हो

- Ans
- 1. कृतघ्न
  - 2. कृतकृत्य
  - 3. अकृतज्ञ
  - 4. कृतज्ञ

Question ID : 65497831493  
Status : Answered  
Chosen Option : 1

Q.12 नीचे दिए वाक्य में रिक्त-स्थान की पूर्ति के लिए सबसे उपयुक्त शब्द का चयन करें।

झींगुर \_\_\_\_\_ रहा है।

- Ans
- 1. झंकार
  - 2. डकार
  - 3. केंक
  - 4. चुकर

Question ID : 65497831501  
Status : Answered  
Chosen Option : 4

Q.13 दिए गए शब्द का विलोम चुनें-

जाति

- Ans
- 1. विजाति
  - 2. बिरादरी
  - 3. बेजान
  - 4. जाना-पहचाना

Question ID : 65497831502  
Status : Answered  
Chosen Option : 1

Q.14 नीचे दिए गए मुहावरे का अर्थ व्यक्त करने वाले विकल्प का चयन कीजिए।

हवाई किले बनाना

- Ans
- 1. हवाई जहाज से किले बनाना
  - 2. हवा में किले बनाना
  - 3. मात्र कल्पना करते रहना
  - 4. हवा से किले बनाना

Question ID : 65497831503

Status : Answered

Chosen Option : 3

Q.15 दिए गए वाक्य का वह भाग ज्ञात करें जिसमें कोई त्रुटि है। यदि कोई त्रुटि नहीं है, तो 'कोई त्रुटि नहीं है' चुनें।

कृपया कार्यालय में सूचित कीजिए कि आपने अपनी स्वेच्छा से अवकाश लिया है।

- Ans
- 1. अवकाश लिया है।
  - 2. कृपया कार्यालय में सूचित कीजिए
  - 3. कि आपने अपनी स्वेच्छा से
  - 4. कोई त्रुटि नहीं है।

Question ID : 65497831495

Status : Answered

Chosen Option : 3

Q.16 दिए गए वाक्य में रेखांकित खंड को प्रतिस्थापित करने के लिए सबसे उपयुक्त विकल्प का चयन करें। यदि इसे प्रतिस्थापित करने की आवश्यकता नहीं है, तो विकल्प 'किसी बदलाव की आवश्यकता नहीं है' का चयन करें।

शरीर पर कई अंग होते हैं।

- Ans
- 1. शरीर के
  - 2. शरीर के भीतर
  - 3. किसी बदलाव की आवश्यकता नहीं है।
  - 4. शरीर की

Question ID : 65497831499

Status : Answered

Chosen Option : 1

Q.17 'मत्स्य' का पर्यायवाची है-

- Ans
- 1. मेघ
  - 2. मीन
  - 3. राजा
  - 4. मुनि

Question ID : 65497831505

Status : Answered

Chosen Option : 2

Q.18 दिए गए वाक्य में रेखांकित खंड को प्रतिस्थापित करने के लिए सबसे उपयुक्त विकल्प का चयन करें। यदि इसे प्रतिस्थापित करने की आवश्यकता नहीं है, तो विकल्प 'किसी बदलाव की आवश्यकता नहीं है' का चयन करें।

प्रधानमंत्री 15 अगस्त के दिन लाल किले पर झंडा फहराते हैं।

- Ans  1. किसी बदलाव की आवश्यकता नहीं है।  
 2. लाल किले पर झंडा फहराता हैं।  
 3. लाल किले पर झंडा फहराते है।  
 4. लाल किले पर झंडा फहरते हैं।

Question ID : 65497831494  
Status : Answered  
Chosen Option : 1

Q.19 दिए गए वाक्यांश के लिए एक शब्द चुनें।

जो कई भाषाएँ बोलता हो -

- Ans  1. मितभाषी  
 2. वाचाल  
 3. बहुभाषी  
 4. अल्पभाषी

Question ID : 65497831500  
Status : Answered  
Chosen Option : 3

Q.20 दिये गये वाक्यांश के लिए एक शब्द दीजिये।

जिस पर उपकार किया गया हो

- Ans  1. उद्धृत  
 2. उरुण  
 3. उत्पादित  
 4. उपकृत

Question ID : 65497831497  
Status : Answered  
Chosen Option : 4

**Comprehension:**

दिए गए गद्यांश में से कुछ शब्द हटा दिए गए हैं। संबंधित प्रश्नों में प्रत्येक संख्या के लिए सबसे उपयुक्त विकल्प का चयन करें।

आधुनिक युग (1) \_\_\_\_\_ उपलब्धियों का युग है। जैसे-जैसे विज्ञान के (2) \_\_\_\_\_ बढ़ रहे हैं, वैसे-वैसे मानव की उन्नति और समृद्धि का मार्ग प्रशस्त हुआ है। आज का मानव धरती, आकाश और सुदूर (3) \_\_\_\_\_ के अनेक रहस्यों से अवगत हो चुका है। उसने (4) \_\_\_\_\_ के उद्भव और विकास से संबंधित नवीनतम व्याख्याएँ प्रस्तुत कर अपने बढ़ते कदमों को उचित (5) \_\_\_\_\_ प्रदान किया है।

SubQuestion No : 21

Q.21 गद्यांश के रिक्त स्थान (1) के लिए सर्वाधिक उपयुक्त शब्द होगा-

- Ans  1. साहित्यिक  
 2. ऐतिहासिक  
 3. दार्शनिक  
 4. वैज्ञानिक

Question ID : 65497831509  
Status : Answered  
Chosen Option : 4

**Comprehension:**

दिए गए गद्यांश में से कुछ शब्द हटा दिए गए हैं। संबंधित प्रश्नों में प्रत्येक संख्या के लिए सबसे उपयुक्त विकल्प का चयन करें।

आधुनिक युग (1) \_\_\_\_\_ उपलब्धियों का युग है। जैसे-जैसे विज्ञान के (2) \_\_\_\_\_ बढ़ रहे हैं, वैसे-वैसे मानव की उन्नति और समृद्धि का मार्ग प्रशस्त हुआ है। आज का मानव धरती, आकाश और सुदूर (3) \_\_\_\_\_ के अनेक रहस्यों से अवगत हो चुका है। उसने (4) \_\_\_\_\_ के उद्भव और विकास से संबंधित नवीनतम व्याख्याएँ प्रस्तुत कर अपने बढ़ते कदमों को उचित (5) \_\_\_\_\_ प्रदान किया है।

**SubQuestion No : 22**

**Q.22** गद्यांश के रिक्त स्थान (2) के लिए सर्वाधिक उपयुक्त शब्द होगा-

- Ans
- 1. माँग
  - 2. कदम
  - 3. पहल
  - 4. फैलाव

Question ID : 65497831510  
Status : Answered  
Chosen Option : 2

**Comprehension:**

दिए गए गद्यांश में से कुछ शब्द हटा दिए गए हैं। संबंधित प्रश्नों में प्रत्येक संख्या के लिए सबसे उपयुक्त विकल्प का चयन करें।

आधुनिक युग (1) \_\_\_\_\_ उपलब्धियों का युग है। जैसे-जैसे विज्ञान के (2) \_\_\_\_\_ बढ़ रहे हैं, वैसे-वैसे मानव की उन्नति और समृद्धि का मार्ग प्रशस्त हुआ है। आज का मानव धरती, आकाश और सुदूर (3) \_\_\_\_\_ के अनेक रहस्यों से अवगत हो चुका है। उसने (4) \_\_\_\_\_ के उद्भव और विकास से संबंधित नवीनतम व्याख्याएँ प्रस्तुत कर अपने बढ़ते कदमों को उचित (5) \_\_\_\_\_ प्रदान किया है।

**SubQuestion No : 23**

**Q.23** गद्यांश के रिक्त स्थान (3) के लिए सर्वाधिक उपयुक्त शब्द होगा-

- Ans
- 1. अंतरिक्ष
  - 2. उपकरण
  - 3. यातायात
  - 4. उद्यान

Question ID : 65497831511  
Status : Answered  
Chosen Option : 1

**Comprehension:**

दिए गए गद्यांश में से कुछ शब्द हटा दिए गए हैं। संबंधित प्रश्नों में प्रत्येक संख्या के लिए सबसे उपयुक्त विकल्प का चयन करें।

आधुनिक युग (1) \_\_\_\_\_ उपलब्धियों का युग है। जैसे-जैसे विज्ञान के (2) \_\_\_\_\_ बढ़ रहे हैं, वैसे-वैसे मानव की उन्नति और समृद्धि का मार्ग प्रशस्त हुआ है। आज का मानव धरती, आकाश और सुदूर (3) \_\_\_\_\_ के अनेक रहस्यों से अवगत हो चुका है। उसने (4) \_\_\_\_\_ के उद्भव और विकास से संबंधित नवीनतम व्याख्याएँ प्रस्तुत कर अपने बढ़ते कदमों को उचित (5) \_\_\_\_\_ प्रदान किया है।

**SubQuestion No : 24**

**Q.24** गद्यांश के रिक्त स्थान (4) के लिए सर्वाधिक उपयुक्त शब्द होगा-

- Ans
- 1. देवालय
  - 2. आसमान
  - 3. ब्रह्मांड
  - 4. आश्रम

Question ID : 65497831512  
Status : Answered  
Chosen Option : 3

**Comprehension:**

दिए गए गद्यांश में से कुछ शब्द हटा दिए गए हैं। संबंधित प्रश्नों में प्रत्येक संख्या के लिए सबसे उपयुक्त विकल्प का चयन करें।

आधुनिक युग (1) \_\_\_\_\_ उपलब्धियों का युग है। जैसे-जैसे विज्ञान के (2) \_\_\_\_\_ बढ़ रहे हैं, वैसे-वैसे मानव की उन्नति और समृद्धि का मार्ग प्रशस्त हुआ है। आज का मानव धरती, आकाश और सुदूर (3) \_\_\_\_\_ के अनेक रहस्यों से अवगत हो चुका है। उसने (4) \_\_\_\_\_ के उद्भव और विकास से संबंधित नवीनतम व्याख्याएँ प्रस्तुत कर अपने बढ़ते कदमों को उचित (5) \_\_\_\_\_ प्रदान किया है।

**SubQuestion No : 25**

**Q.25** गद्यांश के रिक्त स्थान (5) के लिए सर्वाधिक उपयुक्त शब्द होगा-

- Ans**
- 1. स्वरूप
  - 2. अधिकार
  - 3. अपरूप
  - 4. महत्व

Question ID : 65497831513

Status : Answered

Chosen Option : 1

GovtJobsAlert.In