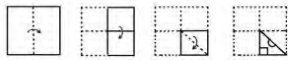


## Constable GD in CAPFs NIA SSF and Rifleman GD in Assam Rifles Examination 2021

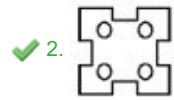
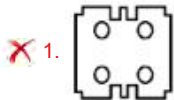
Roll Number	<a href="http://www.GovtJobsAlert.In">www.GovtJobsAlert.In</a>
Candidate Name	<a href="http://www.GovtJobsAlert.In">www.GovtJobsAlert.In</a>
Venue Name	Yuvi Online Solutions
Exam Date	18/11/2021
Exam Time :	9:00 AM - 10:30 AM
Subject	Constable GD 2021

### Section : Part A General Intelligence and Reasoning

**Q.1** नीचे दी गई आकृतियों में काराज के एक टुकड़े को मोड़ने और मोड़े गए काराज को काटने के तरीके का क्रम दर्शाया गया है। काराज को खोले जाने पर वह कैसा दिखाई देगा?



Ans



Question ID : 65497833697

Status : Answered

Chosen Option : 2

**Q.2** दिए गए विकल्पों में से वह संख्या चुनें जिसे नीचे दी गई श्रृंखला में प्रश्न चिह्न (?) के स्थान पर रखा जा सकता है।

9, 14, 34, 114, ?, 1714

Ans ✗ 1. 654

✗ 2. 524

✓ 3. 434

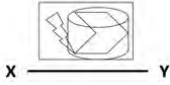
✗ 4. 914

Question ID : 65497833691

Status : Answered

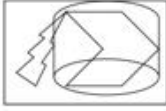
Chosen Option : 3

Q.3 दिए गए संयोजन के सही दर्पण प्रतिबिंब का चयन करें, जब दर्पण को दिखाए गए अनुसार XY पर रखा गया है।



Ans

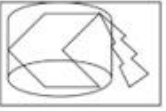
✓ 1.



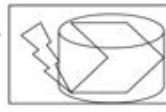
✗ 2.



✗ 3.



✗ 4.



Question ID : 65497833685  
Status : Answered  
Chosen Option : 1

Q.4 L, M की माँ है। L की केवल दो संतानें हैं। N, M की बहन है। N, K की बेटी है। Z, K का पोता है। O, Z की माँ है। O, N से किस प्रकार संबंधित है?

Ans

✗ 1. बहन

✓ 2. भाभी

✗ 3. माँ

✗ 4. पत्नी

Question ID : 65497833688  
Status : Answered  
Chosen Option : 2

Q.5 उन अक्षरों के संयोजन का चयन करें जिसे दी गई श्रृंखला के रिक्त स्थान में क्रमिक रूप से रखे जाने पर श्रृंखला पूर्ण होगी।

P E \_ \_ L E P \_ \_ P L E \_ \_ O P \_ \_

Ans

✗ 1. OPEOPLEE

✓ 2. OPEOPELE

✗ 3. OPOEPELE

✗ 4. OPOEEPLE

Question ID : 65497833690  
Status : Answered  
Chosen Option : 2

Q.6 चार अक्षर-समूह दिए गए हैं जिनमें से तीन किसी तरीके से समान हैं और एक भिन्न है। भिन्न अक्षर-समूह को चुनिए।

- Ans  1. QSJ  
 2. EGV  
 3. RTI  
 4. NTD

Question ID : 65497833682  
Status : Answered  
Chosen Option : 4

Q.7 उस विकल्प का चयन करें जो तीसरे अक्षर-समूह से उसी प्रकार संबंधित है, जिस प्रकार दूसरा अक्षर-समूह पहले अक्षर-समूह से संबंधित है।

DHM : GCX :: KOT : ?

- Ans  1. NKL  
 2. NHD  
 3. NJE  
 4. NIE

Question ID : 65497833686  
Status : Answered  
Chosen Option : 3

Q.8 छः दोस्त A, B, C, D, E और F एक वृत्त में इसके केंद्र की ओर अभिमुख होकर, एक-दूसरे के सम्मुख बैठे हैं। C और D एक-दूसरे के निकट बैठे हैं। B और F भी एक-दूसरे के निकट बैठे हैं। E ठीक B के सम्मुख बैठा है। F, B के बाएं बैठा है। E और F के बीच में कौन बैठा है?

- Ans  1. A  
 2. B  
 3. F  
 4. E

Question ID : 65497833680  
Status : Answered  
Chosen Option : 1

Q.9 दिए गए समीकरण को सही करने के लिए किन दो संख्याओं (अंक नहीं) को आपस में बदला जाना चाहिए?

$$5 \times 40 \div 8 + 3 - 14 = 53$$

- Ans  1. 8 और 14  
 2. 8 और 3  
 3. 5 और 8  
 4. 5 और 3

Question ID : 65497833675  
Status : Answered  
Chosen Option : 3

Q.10 छह दोस्त, रवि, काव्या, महिमा, गीता, मोहन और नेहा, एक सीधी पंक्ति में उत्तर की ओर अभिमुख होकर बैठे हैं। काव्या किसी भी अंतिम छोर पर नहीं बैठी है। नेहा ठीक रवि और मोहन के बीच में बैठी है। मोहन ठीक गीता के दाईं ओर पड़ोस में बैठा है। रवि और काव्या के बीच तीन दोस्त बैठे हैं। काव्या ठीक महिमा के दाईं ओर पड़ोस में बैठी है। बाएँ छोर से पाँचवें स्थान पर कौन बैठा/बैठी है?

- Ans
- 1. मोहन
  - 2. नेहा
  - 3. गीता
  - 4. काव्या

Question ID : 65497833673  
Status : Answered  
Chosen Option : 2

Q.11 'कपडे' का संबंध 'कपास' से उसी प्रकार है जैसे 'आटे' का संबंध '\_\_\_\_\_' से है।

- Ans
- 1. गेहूँ
  - 2. खाना
  - 3. चपाती
  - 4. टाइल्स

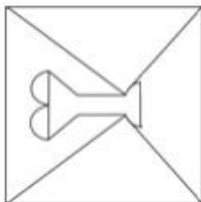
Question ID : 65497833679  
Status : Answered  
Chosen Option : 1

Q.12 उस विकल्प का चयन करें जिसमें दी गई आकृति अंतर्निहित है (घुमाने की अनुमति नहीं है)।

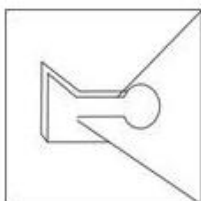


Ans

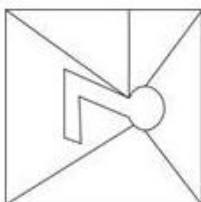
✗ 1.



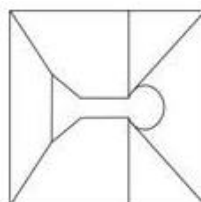
✗ 2.



✗ 3.



✓ 4.



Question ID : 65497833677

Status : Answered

Chosen Option : 4

Q.13 एक विशिष्ट कूट भाषा में, REMAIN को 92214261813 लिखा जाता है। इस भाषा में MACHINE का कूट क्या होगा?

Ans

✗ 1. 131389145

✗ 2. 514981313

✓ 3. 14262419181322

✗ 4. 22131819242614

Question ID : 65497833683

Status : Answered

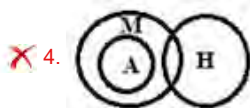

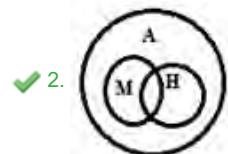
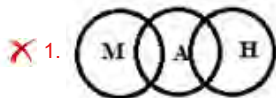
Chosen Option : 3

Q.14 उस वेन आरेख का चयन कीजिए जो निम्न वर्गों के मध्य के संबंध का सर्वश्रेष्ठ निरूपण करता है।

मनुष्य, नर, जीव

(H: मनुष्य; M: नर; A: जीव)

Ans



Question ID : 65497833681

Status : Answered

Chosen Option : 2

Q.15 दिए गए कथनों और निष्कर्षों को ध्यान से पढ़ें। यह मानते हुए कि कथनों में दी गई जानकारी सत्य है, भले ही यह सामान्य रूप से ज्ञात तथ्यों से भिन्न प्रतीत होती हो, यह निर्णय लें कि दिए गए निष्कर्षों में से कौन सा/से निष्कर्ष कथनों का तार्किक रूप से अनुसरण करता है/ करते हैं।

कथन:

सभी पतंगें वायुयान हैं।  
सभी वायुयान काराज हैं।

निष्कर्ष:

I. सभी पतंगें काराज हैं।  
II. कोई भी काराज वायुयान नहीं है।

Ans

✗ 1. निष्कर्ष I और II दोनों अनुसरण करते हैं।

✗ 2. केवल निष्कर्ष II अनुसरण करता है।

✗ 3. न तो निष्कर्ष I और न ही II अनुसरण करता है।

✓ 4. केवल निष्कर्ष I अनुसरण करता है।

Question ID : 65497833694

Status : Answered

Chosen Option : 4

Q.16 एक निश्चित कूट भाषा में, 'BOOK' को 'CRTR' के रूप में लिखा जाता है। उसी भाषा में 'PETROL' को किस रूप में लिखा जाएगा?

- Ans  1. QHYYXW  
 2. QIXYYW  
 3. HYXXW  
 4. QHXYXW

Question ID : 65497833693  
Status : Answered  
Chosen Option : 1

Q.17 वह सही विकल्प चुनें जो दिए गए शब्दों को उसी क्रम में व्यवस्थित करता है जैसा कि वे अंग्रेजी शब्दकोष में दिखते हैं।

1. Goffer
2. Goblin
3. Goatling
4. Goatish
5. Goer

- Ans  1. 4, 3, 2, 5, 1  
 2. 4, 2, 3, 5, 1  
 3. 4, 3, 5, 2, 1  
 4. 4, 2, 5, 3, 1

Question ID : 65497833689  
Status : Answered  
Chosen Option : 1

Q.18 एक विशिष्ट कूट भाषा में, 'LECTURE' को 'MGFXZXL' और 'TEACHER' को 'UGDGMKY' लिखा जाता है। इस भाषा में 'STUDENT' को क्या लिखा जाएगा?

- Ans  1. TVXJHTA  
 2. TVWHJTA  
 3. TVWJHTA  
 4. TVXHJTA

Question ID : 65497833687  
Status : Answered  
Chosen Option : 4

Q.19 दिए गए विकल्पों में से उस संख्या को चुनिए जो निम्न श्रृंखला में प्रश्नचिह्न (?) का स्थान ले सकती है।

38, 42, 58, 94, ?, 258

- Ans  1. 158  
 2. 152  
 3. 108  
 4. 164

Question ID : 65497833684  
Status : Answered  
Chosen Option : 1

Q.20 विकल्पों से वह चित्र चुनें जिसे प्रश्न चिह्न (?) के स्थान पर रखा जा सकता है और दिए गए पैटर्न को पूरा किया जा सकता है (घुमाने की अनुमति नहीं है)।



Ans

1.



2.



3.



4.



Question ID : 65497833692  
Status : Answered  
Chosen Option : 4

Q.21 दिए गए विकल्पों में से उस अक्षर-समूह का चयन कीजिए जो निम्न श्रृंखला में प्रश्नवाचक चिह्न (?) के स्थान पर आ सकता है।

YEM, BHP, EKS, HNV, ?

Ans  1. KQY

2. LNU

3. KRX

4. KPZ

Question ID : 65497833678  
Status : Answered  
Chosen Option : 1

Q.22 If,  $5 + 7 = 473 + 8 = 359 + 2 = 29$  then,  $7 + 4 = ?$

Ans  1. 42

2. 37

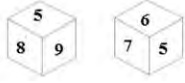
3. 39

4. 45

Question ID : 65497833696  
Status : Answered  
Chosen Option : 3



**Q.23** एक ऐसे पासे की दो अलग-अलग स्थितियां दर्शाई गई हैं जिसके सभी पृष्ठों पर 4, 5, 6, 7, 8 और 9 में से एक-एक संख्या अंकित है। उस संख्या का चयन करें जो संख्या '9' दर्शाने वाले फलक के विपरीत फलक पर होगी।



- Ans**
- 1. 4
  - 2. 7
  - 3. 8
  - 4. 6

Question ID : 65497833676  
Status : Answered  
Chosen Option : 2

**Q.24** दिए गए पैटर्न का ध्यानपूर्वक अध्ययन करें और उस संख्या का चयन करें जो इसमें प्रश्न चिह्न (?) के स्थान पर आ सकती है।

7 343 3  
5 ? 4  
2 256 8

- Ans**
- 1. 625
  - 2. 225
  - 3. 250
  - 4. 525

Question ID : 65497833695  
Status : Answered  
Chosen Option : 1

**Q.25** उस विकल्प का चयन करें जो तीसरी संख्या से उसी प्रकार संबंधित है जिस प्रकार दूसरी संख्या पहली संख्या से संबंधित है।

7 : 56 :: 13 : ?

- Ans**
- 1. 104
  - 2. 78
  - 3. 92
  - 4. 67

Question ID : 65497833674  
Status : Answered  
Chosen Option : 1

Section : Part B General Knowledge and General Awareness

Q.1 भारत में सक्रिय ज्वालामुखी कहां पाए जाते हैं?

- Ans  1. अंडमान और निकोबार  
 2. लक्षद्वीप  
 3. गोवा  
 4. पुदुच्चेरी

Question ID : 65497833708  
Status : Answered  
Chosen Option : 1

Q.2 लगभग 1900 वर्ष पहले कागज का आविष्कार निम्नलिखित में से किस देश में किया गया था?

- Ans  1. चीन  
 2. नेपाल  
 3. जापान  
 4. भारत

Question ID : 65497833718  
Status : Answered  
Chosen Option : 1

Q.3 मुहम्मद तुगलक ने अपने सैनिकों को भुगतान करने के लिए 'टोकन' मुद्रा का इस्तेमाल किया था, जो निम्न से बनी थी:

- Ans  1. अमूल्य सोना  
 2. चांदी  
 3. काँस्य  
 4. सस्ती धातु

Question ID : 65497833712  
Status : Answered  
Chosen Option : 3

Q.4 सूचना का अधिकार अधिनियम, कानून का एक अच्छा उदाहरण है और इसके कार्य करने की अधिक संभावना है क्योंकि:

- Ans  1. यह लोकतंत्र के शत्रु के रूप में कार्य करता है।  
 2. यह लोगों को यह पता लगाने का अधिकार देता है कि सरकार में क्या हो रहा है।  
 3. यह धोखाधड़ी पर जुमनि को कम करता है।  
 4. यह भ्रष्टाचार को प्रोत्साहित करने वाले कानूनों की आपूर्ति करता है।

Question ID : 65497833714  
Status : Answered  
Chosen Option : 2

Q.5 निम्नलिखित में से किसे इंडियन प्रीमियर लीग 2020 में 'मोस्ट वैल्यूएबल प्लेयर ऑफ़ द टूर्नामेंट' घोषित किया गया था?

- Ans
- 1. कगिसो रबाडा
  - 2. जसप्रीत बुमराह
  - 3. जोफ़्रा आर्चर
  - 4. के.एल. राहुल

Question ID : 65497833703  
Status : Answered  
Chosen Option : 1

Q.6 अक्टूबर 2020 में, किस राज्य में महिलाओं के लिए विशेष जागरूकता अभियान 'मिशन शक्ति' का शुभारंभ किया गया?

- Ans
- 1. बिहार
  - 2. पंजाब
  - 3. मध्य प्रदेश
  - 4. उत्तर प्रदेश

Question ID : 65497833706  
Status : Answered  
Chosen Option : 4

Q.7 गिद्ध संरक्षण एवं प्रजनन केंद्र निम्नलिखित में से कहाँ स्थित है?

- Ans
- 1. पिंजौर
  - 2. आगरा
  - 3. रामपुर
  - 4. पुष्कर

Question ID : 65497833701  
Status : Answered  
Chosen Option : 1

Q.8 सरयू नदी निम्नलिखित में से किस राज्य में स्थित है?

- Ans
- 1. पश्चिम बंगाल
  - 2. छत्तीसगढ़
  - 3. हिमाचल प्रदेश
  - 4. उत्तराखंड

Question ID : 65497833704  
Status : Answered  
Chosen Option : 4

Q.9 निम्नलिखित में से कौन-सा मन्दिर श्रीलंका में स्थित है?

- Ans  1. कटास राज  
 2. मुनेश्वरम  
 3. पशुपतिनाथ  
 4. प्रीह विहार

Question ID : 65497833698  
Status : Answered  
Chosen Option : 1

Q.10 किस निजी बैंक ने 26 नवंबर 2020 को व्यापारियों के लिए 'एस.एम.एस. पे (SMS Pay)' नामक एक दूरस्थ भुगतान सेवा शुरू की?

- Ans  1. आई.सी.आई.सी.आई. (ICICI) बैंक  
 2. ऐक्सिस बैंक  
 3. एच.डी.एफ.सी. (HDFC) बैंक  
 4. यस बैंक

Question ID : 65497833721  
Status : Answered  
Chosen Option : 3

Q.11 पहली बंगाली महिला लेखिका आशापूर्णा देवी ने किस वर्ष ज्ञानपीठ पुरस्कार जीता?

- Ans  1. 1973  
 2. 1975  
 3. 1976  
 4. 1974

Question ID : 65497833709  
Status : Answered  
Chosen Option : 1

Q.12 जाट शासक \_\_\_\_\_ के नेतृत्व में बल्लभगढ़ एक महत्वपूर्ण व्यापारिक केंद्र बन गया।

- Ans  1. सूरज मल  
 2. बदन सिंह  
 3. राजा राम  
 4. रणधीर सिंह

Question ID : 65497833713  
Status : Answered  
Chosen Option : 4

Q.13 अंग्रेजों द्वारा पंजाब का विलय करते समय ब्रिटिश भारत के गवर्नर जनरल कौन थे?

- Ans  1. लॉर्ड कैनिंग  
 2. लॉर्ड हार्डिंग  
 3. लॉर्ड डलहौजी  
 4. लॉर्ड एलनबरो

Question ID : 65497833722  
Status : Answered  
Chosen Option : 2

Q.14 सैला नृत्य शैली \_\_\_\_\_ राज्य से संबंधित है।

- Ans  1. छत्तीसगढ़  
 2. झारखंड  
 3. उत्तराखंड  
 4. उत्तर प्रदेश

Question ID : 65497833707  
Status : Answered  
Chosen Option : 2

Q.15 29वां व्यास सम्मान निम्नलिखित में से किसने प्राप्त किया?

- Ans  1. लीलाधर जगूड़ी  
 2. ममता कालिया  
 3. सुरेन्द्र वर्मा  
 4. नासिरा शर्मा

Question ID : 65497833702  
Status : Answered  
Chosen Option : 4

Q.16 \_\_\_\_\_ पिनियल ग्रंथि से स्रावित होता है।

- Ans  1. प्रोजेस्टेरोन  
 2. इंसुलिन  
 3. एपिनेफ्राइन  
 4. मेलाटोनिन

Question ID : 65497833700  
Status : Answered  
Chosen Option : 1

Q.17 भारतीय रिज़र्व बैंक ने नवंबर 2020 में किस बैंक के स्थगन (moratorium) का प्रस्ताव रखा था?

- Ans  1. बैंक ऑफ़ बड़ौदा  
 2. भारतीय स्टेट बैंक  
 3. बैंक ऑफ़ इंडिया  
 4. लक्ष्मी विलास बैंक

Question ID : 65497833720  
Status : Answered  
Chosen Option : 4

Q.18 रियो ओलंपिक 2016 में भाग लेने वाली सबसे कम उम्र की एथलीट तैराक गौरिका सिंह निम्न में से किस देश से संबंध रखती है?

- Ans  1. बांग्लादेश  
 2. भारत  
 3. पाकिस्तान  
 4. नेपाल

Question ID : 65497833710  
Status : Answered  
Chosen Option : 2

Q.19 निम्नलिखित में से कौन-सा, पारिस्थितिकी तंत्र का एक अजैविक घटक नहीं है?

- Ans
- 1. खनिज पदार्थ
  - 2. जीवित जीव
  - 3. पवन
  - 4. तापमान

Question ID : 65497833717  
Status : Answered  
Chosen Option : 2

Q.20 कॉमनवेल्थ गेम्स 2018 की अंतिम पदक तालिका में भारत का स्थान क्या था?

- Ans
- 1. तीसरा
  - 2. पांचवां
  - 3. चौथा
  - 4. दूसरा

Question ID : 65497833715  
Status : Answered  
Chosen Option : 4

Q.21 वैकल्पिक पंक्तियों में उगाई जाने वाली विभिन्न फसलें निम्न का उदाहरण हैं:

- Ans
- 1. समोच्च फसल
  - 2. संयुक्त फसल
  - 3. अंतराफसल
  - 4. मिश्रित फसल

Question ID : 65497833711  
Status : Answered  
Chosen Option : 3

Q.22 भारतीय संविधान में निम्नलिखित में से कौन सा, स्वरूप में गैर-न्याय संगत है?

- Ans
- 1. धार्मिक मामलों का प्रबंधन करने की स्वतंत्रता
  - 2. समान न्याय और निःशुल्क कानूनी सहायता
  - 3. कानून की समानता और कानून की समान सुरक्षा
  - 4. अपराधों की सजा के संबंध में संरक्षण

Question ID : 65497833705  
Status : Answered  
Chosen Option : 4

Q.23 सार्वजनिक मामलों के सूचकांक 2020 के अनुसार, निम्न में से किसको केंद्रीय शासित प्रदेशों की श्रेणी में सबसे अच्छा शासित केंद्र शासित प्रदेश घोषित किया गया है?

- Ans
- 1. चंडीगढ़
  - 2. पुदुचेरी
  - 3. लद्दाख
  - 4. जम्मू और कश्मीर

Question ID : 65497833716  
Status : Answered  
Chosen Option : 1

Q.24 अक्टूबर 2020 तक प्राप्त जानकारी के अनुसार निम्नलिखित में से कौन सा देश दुनिया का दूसरा सबसे बड़ा कपास उत्पादक है?

- Ans
- 1. तिब्बत
  - 2. चीन
  - 3. भारत
  - 4. बांग्लादेश

Question ID : 65497833719  
Status : Answered  
Chosen Option : 3

Q.25 केलकर समिति 2015 \_\_\_\_\_ से संबंधित है।

- Ans
- 1. बैंकों के विलय
  - 2. निर्धनता रेखा के निर्धारण
  - 3. अवसंरचनात्मक विकास के पीपीपी मॉडल
  - 4. जीडीपी की गणना

Question ID : 65497833699  
Status : Answered  
Chosen Option : 1

Section : Part C Elementary Mathematics

Q.1 एक फल विक्रेता के पास कुछ सेब थे। उसने 40% सेब बेच दिए और अब भी उसके पास 540 सेब हैं। आरंभ में उसके पास कितने सेब थे?

- Ans
- 1. 600
  - 2. 800
  - 3. 900
  - 4. 740

Question ID : 65497833733  
Status : Answered  
Chosen Option : 3

Q.2 3073, 1756 और 4829 का महत्तम समापवर्तक (HCF),  $x$  है।  $x$  के अंकों का गुणनफल कितना होगा?

- Ans
- 1. 108
  - 2. 81
  - 3. 96
  - 4. 72

Question ID : 65497833742  
Status : Answered  
Chosen Option : 1

**Q.3** एक व्यक्ति को टेलीविजन (TV) ₹18,400 में बेचने पर 8% की हानि हुई। 5% लाभ अर्जित करने के लिए टेलीविजन (TV) को किस मूल्य पर बेचना चाहिए?

- Ans**
- 1. ₹24,000
  - 2. ₹21,725
  - 3. ₹22,500
  - 4. ₹21,000

Question ID : 65497833738  
Status : Answered  
Chosen Option : 4

**Q.4** 85 m, 85 m और 154 m भुजाओं वाले एक त्रिभुजाकार मैदान का क्षेत्रफल ( $m^2$  में) कितना होगा?

- Ans**
- 1. 2772
  - 2. 2868
  - 3. 2872
  - 4. 2768

Question ID : 65497833746  
Status : Answered  
Chosen Option : 1

**Q.5** एक अधिकारी और एक क्लर्क की मासिक वेतन 11 : 4 के अनुपात में है। यदि अधिकारी के मासिक वेतन में ₹7,000 और क्लर्क के मासिक वेतन में ₹3,000 की वृद्धि होती है, तो अनुपात 19 : 7 हो जाता है। अधिकारी का प्रारंभिक वेतन (₹ में) कितना था?

- Ans**
- 1. 1,52,000
  - 2. 32,000
  - 3. 88,000
  - 4. 56,000

Question ID : 65497833725  
Status : Answered  
Chosen Option : 3

**Q.6** सामान का एक तिहाई हिस्सा, 15% लाभ पर बेचा जाता है, सामान का 25% हिस्सा, 20% लाभ पर बेचा जाता है, और शेष सामान 10% हानि पर बेचा जाता है। यदि पूरे लेन-देन में ₹350 का लाभ अर्जित किया जाता है, तो सामान का वास्तविक मूल्य कितना (₹ में) था?

- Ans**
- 1. 9,000
  - 2. 7,200
  - 3. 5,400
  - 4. 6,000

Question ID : 65497833747  
Status : Answered  
Chosen Option : 4



Q.7 A किसी कार्य को 10 दिन में पूरा कर सकता है और B उसी कार्य को 15 दिन में पूरा कर सकता है। यदि वे 5 दिन तक एक साथ मिलकर उस कार्य को करते हैं, तो कार्य का कितना भाग शेष बचेगा?

- Ans
- 1.  $1/6$
  - 2.  $1/8$
  - 3.  $1/2$
  - 4.  $1/3$

Question ID : 65497833734  
Status : Answered  
Chosen Option : 1

Q.8 छह संख्याओं A, B, C, D, E और F का औसत 58 है। यदि पहली संख्या A, संख्याओं B और C के योग की  $\frac{1}{2}$  है, और साथ ही संख्याओं D, E और F के योग के  $\frac{3}{4}$  के भी बराबर है, तो B और C के योग का मान कितना है?

- Ans
- 1. 360
  - 2. 240
  - 3. 116
  - 4. 180

Question ID : 65497833724  
Status : Answered  
Chosen Option : 4

Q.9 यदि एक घन का आयतन  $192\sqrt{3}$  क्यूबिक सेमी है, तो विकर्ण की लंबाई ज्ञात कीजिए।

- Ans
- 1. 12 cm
  - 2. 14 cm
  - 3. 13 cm
  - 4. 16 cm

Question ID : 65497833728  
Status : Answered  
Chosen Option : 1

Q.10  $12 - [3 + \{4 \text{ of } 2 \div 8 - (8 - 6 \div 3)\}]$  का मान ज्ञात कीजिए।

- Ans
- 1. 20
  - 2. 14
  - 3. 10
  - 4. 12

Question ID : 65497833737  
Status : Answered  
Chosen Option : 2

Q.11 15 लड़के किसी कार्य को 10 दिन में पूरा कर सकते हैं और 12 लड़कियां उसी कार्य को 15 दिन में पूरा कर सकती हैं। यदि सभी 15 लड़के और 12 लड़कियां एक साथ कार्य करते हैं, तो कार्य कितने दिनों में पूरा हो जाएगा?

- Ans
- 1. 8
  - 2. 4
  - 3. 6
  - 4. 5

Question ID : 65497833739  
Status : Answered  
Chosen Option : 3

Q.12  $\left(\frac{1}{4} \times \frac{3}{4} \div 1\frac{1}{4} \text{ of } \frac{2}{5}\right) \div \left(\frac{3}{4} \div 1\frac{2}{3} \text{ of } \frac{4}{5}\right) - \left(\frac{1}{2} - \frac{1}{2} \times \frac{1}{4}\right)$  का मान कितना होगा?

- Ans
- 1.  $\frac{11}{12}$
  - 2.  $\frac{2}{3}$
  - 3.  $\frac{7}{24}$
  - 4.  $\frac{5}{12}$

Question ID : 65497833740  
Status : Answered  
Chosen Option : 3

Q.13 किसी सेल (sale) में, इत्र विक्रय मूल्य पर 25% की छूट के साथ उपलब्ध हैं। यदि सेल (sale) में इत्र का मूल्य ₹6,873 है, तो इत्र का मूल विक्रय मूल्य कितना है?

- Ans
- 1. ₹9,146
  - 2. ₹9,066
  - 3. ₹9,164
  - 4. ₹9,064

Question ID : 65497833732  
Status : Answered  
Chosen Option : 3

**Q.14** अमन, अपनी आय का 74% खर्च करता है। यदि उसका व्यय 30% बढ़ जाए और बचत 25% बढ़ जाए, तो उसकी आय में कितने प्रतिशत की वृद्धि हुई है?

- Ans**
- 1. 28.7%
  - 2. 26.8%
  - 3. 27.8%
  - 4. 27.2%

Question ID : 65497833743  
Status : Answered  
Chosen Option : 1

**Q.15** एक वर्ष पूर्व, A और B की आयु का अनुपात 4 : 3 था। अब से 7 वर्ष पश्चात, उनकी आयु का अनुपात 9 : 7 होगा। B की वर्तमान आयु (वर्षों में) कितनी है?

- Ans**
- 1. 49
  - 2. 52
  - 3. 51
  - 4. 48

Question ID : 65497833744  
Status : Answered  
Chosen Option : 3

**Q.16** ₹846 में एक गिटार बेचने पर, राखी को 6% की हानि होती है। 8% का लाभ प्राप्त करने के लिए रीमा को गिटार किस मूल्य पर बेचना चाहिए?

- Ans**
- 1. ₹912
  - 2. ₹972
  - 3. ₹922
  - 4. ₹992

Question ID : 65497833729  
Status : Answered  
Chosen Option : 2

**Q.17** यदि ₹3,000 की धनराशि को अर्ध-वार्षिक रूप से चक्रवृद्धि होने वाली 20% की वार्षिक ब्याज दर पर 3 वर्षों के लिए निवेशित किया जाता है, तो चक्रवृद्धि ब्याज (निकटतम रूप में) ज्ञात कीजिए।

- Ans**
- 1. ₹2,301
  - 2. ₹2,315
  - 3. ₹2,010
  - 4. ₹2,110

Question ID : 65497833730  
Status : Answered  
Chosen Option : 2

**Q.18** एक निश्चित धनराशि साधारण ब्याज की समान वार्षिक दर पर 4 वर्षों में ₹12,740 और  $7\frac{1}{2}$  वर्षों में ₹15,925 हो जाती है। क्रमशः धनराशि (₹ में) और वार्षिक ब्याज दर ज्ञात करें।

- Ans**
- 1. ₹7,800; 10%
  - 2. ₹7,800; 7.5%
  - 3. ₹9,100; 10%
  - 4. ₹9,100; 7.5%

Question ID : 65497833726  
Status : Answered  
Chosen Option : 3

**Q.19** 7%, 12% और 5% की तीन क्रमिक छूटों के समतुल्य एकल छूट ज्ञात करें।

- Ans**
- 1. 23%
  - 2. 22.252%
  - 3. 27.3%
  - 4. 22%

Question ID : 65497833736  
Status : Answered  
Chosen Option : 2

**Q.20** दो स्टेशनों A और B के बीच की दूरी 700 km है। एक ट्रेन 80 km/h की चाल से स्टेशन A से स्टेशन B तक जाती है और 65 km/h की एक समान चाल से वापस A तक लौट आती है। पूरी यात्रा के दौरान ट्रेन की औसत चाल लगभग कितनी है?

- Ans**
- 1. 74 km/h
  - 2. 70.73 km/h
  - 3. 72.7 km/h
  - 4. 71.72 km/h

Question ID : 65497833731  
Status : Answered  
Chosen Option : 4

**Q.21** किसी बस की चाल ठहराव के समय को घटा कर 60 km/h है और ठहराव के समय को मिला कर 42 km/h है। बस प्रति घंटे कितने मिनट के लिए रुकती है?

- Ans**
- 1. 9
  - 2. 18
  - 3. 10
  - 4. 12

Question ID : 65497833735  
Status : Answered  
Chosen Option : 2

**Q.22** 60 km/h की चाल से चलती एक 253 m लंबी रेलगाड़ी को एक पुल पार करने में 42 सेकेंड लगते हैं। पुल की लंबाई (m में) कितनी है?

- Ans
- 1. 443
  - 2. 435
  - 3. 447
  - 4. 427

Question ID : 65497833741  
Status : Answered  
Chosen Option : 3

**Q.23** ₹8,000 धनराशि पर  $2\frac{1}{8}$  वर्ष में वार्षिक 16% की दर से वार्षिक रूप से चक्रवृद्धि होनेवाला ब्याज (₹ में, ₹ के निकटतम) कितना होगा?

- Ans
- 1. 2,790
  - 2. 2,980
  - 3. 2,765
  - 4. 2,840

Question ID : 65497833745  
Status : Answered  
Chosen Option : 2

**Q.24** दो धनात्मक संख्याएँ 7 : 4 के अनुपात में हैं। यदि उनके वर्गों के बीच का अंतर 297 है, तो दोनों संख्याओं का योगफल ज्ञात कीजिए।

- Ans
- 1. 33
  - 2. 32
  - 3. 42
  - 4. 35

Question ID : 65497833727  
Status : Answered  
Chosen Option : 1

**Q.25** सात अंकों की वह सबसे बड़ी संख्या कौन-सी है, जिसे 10, 15, 20, 24 और 30 से विभाजित करने पर क्रमशः 6, 11, 16, 20 और 26 शेषफल प्राप्त होते हैं?

- Ans
- 1. 9999956
  - 2. 9999976
  - 3. 9999960
  - 4. 9999980

Question ID : 65497833723  
Status : Not Answered  
Chosen Option : --

Section : Part D English

**Q.1** Select the most appropriate meaning of the given idiom.

To break loose

- Ans  1. To escape  
 2. To let go  
 3. To untie  
 4. To set free

Question ID : 65497833763  
Status : Not Answered  
Chosen Option : --

**Q.2** Select the most appropriate option to fill in the blank.

This antique sculpture is indeed \_\_\_\_\_.

- Ans  1. harmless  
 2. helpless  
 3. priceless  
 4. endless

Question ID : 65497833767  
Status : Not Answered  
Chosen Option : --

**Q.3** Select the option that can be used as a one-word substitute for the given group of words.

Eskimo's house that is made of ice blocks

- Ans  1. Burrow  
 2. Cave  
 3. Den  
 4. Igloo

Question ID : 65497833749  
Status : Not Answered  
Chosen Option : --

**Q.4** The following sentence has been split into four segments. Identify the segment that contains a grammatical error.

Who do you think / who stole / the painting / from the museum?

- Ans  1. who stole  
 2. the painting  
 3. from the museum  
 4. Who do you think

Question ID : 65497833759  
Status : Not Answered  
Chosen Option : --

**Q.5** Select the most appropriate **ANTONYM** of the given word.

**Crisp**

- Ans**  1. Tender  
 2. Fresh  
 3. Rotten  
 4. Hard

Question ID : **65497833760**  
Status : **Not Answered**  
Chosen Option : --

**Q.6** Select the correctly spelt word.

- Ans**  1. Bureaucracy  
 2. Scavage  
 3. Warriar  
 4. Inheritance

Question ID : **65497833750**  
Status : **Not Answered**  
Chosen Option : --

**Q.7** Select the most appropriate meaning of the given idiom.

**Big bucks**

- Ans**  1. A big loss  
 2. A big bucket  
 3. A big function  
 4. A lot of money

Question ID : **65497833756**  
Status : **Not Answered**  
Chosen Option : --

**Q.8** Select the most appropriate **ANTONYM** of the given word.

**Reign**

- Ans**  1. Manage  
 2. Yield  
 3. Influence  
 4. Govern

Question ID : **65497833755**  
Status : **Not Answered**  
Chosen Option : --

**Q.9** Select the most appropriate option to fill in the blank.

He ran towards his mother \_\_\_\_\_ and hugged her.

- Ans
- 1. partially
  - 2. spitefully
  - 3. eventually
  - 4. gaily

Question ID : **65497833751**  
Status : **Not Answered**  
Chosen Option : --

**Q.10** Select the most appropriate option that can substitute the underlined segment in the given sentence. If there is no need to substitute it, select 'No substitution required'.

The laptop that I bought last week works very good.

- Ans
- 1. No substitution required
  - 2. too good
  - 3. very well
  - 4. very nice

Question ID : **65497833757**  
Status : **Not Answered**  
Chosen Option : --

**Q.11** The following sentence has been divided into parts. One of them may contain an error. Select the part that contains the error from the given options. If you don't find any error, mark 'No error' as your answer.

Reva is / one of Gita's best friend / in the class.

- Ans
- 1. in the class
  - 2. one of Gita's best friend
  - 3. No error
  - 4. Reva is

Question ID : **65497833764**  
Status : **Not Answered**  
Chosen Option : --

**Q.12** Select the option that can be used as a one-word substitute for the given group of words.

Certain to happen

- Ans
- 1. Inevitable
  - 2. Predicted
  - 3. Necessary
  - 4. Avoidable

Question ID : **65497833761**  
Status : **Not Answered**  
Chosen Option : --



Q.13 Select the most appropriate synonym of the given word.

Enjoyable

- Ans  1. Delightful  
 2. Cloudy  
 3. Bright  
 4. Beautiful

Question ID : 65497833754  
Status : Not Answered  
Chosen Option : --

Q.14 Select the most appropriate option to fill in the blank.

Visitors come from all over the world to \_\_\_\_\_ the Shalimar Gardens.

- Ans  1. perceive  
 2. see  
 3. observe  
 4. look

Question ID : 65497833752  
Status : Not Answered  
Chosen Option : --

Q.15 Select the most appropriate synonym of the given word.

DEFER

- Ans  1. Postpone  
 2. Match  
 3. Balance  
 4. Conflict

Question ID : 65497833765  
Status : Not Answered  
Chosen Option : --

Q.16 Select the most appropriate option that can substitute the underlined segment in the given sentence. If there is no need to substitute it, select 'No substitution required'.

I thanked my teacher for explaining me the lesson.

- Ans  1. explain me the lessons  
 2. No substitution required  
 3. her explaining me the lesson  
 4. explaining the lesson to me

Question ID : 65497833758  
Status : Not Answered  
Chosen Option : --

**Q.17** Select the most appropriate option that can substitute the underlined segment in the given sentence. If there is no need to substitute it, select 'No substitution required'.

Don't disturb me while I talk to someone on the phone.

- Ans**
- 1. was talking
  - 2. am talking
  - 3. No substitution required
  - 4. talked

Question ID : **65497833748**  
Status : **Not Answered**  
Chosen Option : --

**Q.18** Select the **INCORRECTLY** spelt word.

- Ans**
- 1. Miscelleneous
  - 2. Misalliance
  - 3. Miscreant
  - 4. Misrepresent

Question ID : **65497833762**  
Status : **Not Answered**  
Chosen Option : --

**Q.19** Select the option that can be used as a one-word substitute for the given group of words.

Unable to act

- Ans**
- 1. Lax
  - 2. Idle
  - 3. Lazy
  - 4. Inert

Question ID : **65497833766**  
Status : **Not Answered**  
Chosen Option : --

**Q.20** The following sentence has been split into four segments. Identify the segment that contains a grammatical error.

The mountain / seems to steep / for us / to climb.

- Ans**
- 1. seems to steep
  - 2. for us
  - 3. The mountain
  - 4. to climb

Question ID : **65497833753**  
Status : **Not Answered**  
Chosen Option : --

**Comprehension:**

In the following passage, some words have been deleted. Read the passage carefully and select the most appropriate option to fill in each blank.

Mahatma Gandhi was born (1)\_\_\_\_\_ 2 October 1869 to Karamchand and Putlibai (2)\_\_\_\_\_ Porbandar. After completing his studies in England, he (3)\_\_\_\_\_ to South Africa. When he suffered (4)\_\_\_\_\_, he started the Civil Disobedience movement (5)\_\_\_\_\_ civil rights of the Indian community.

**SubQuestion No : 21**

**Q.21** Select the most appropriate option to fill in blank no. 1.

- Ans**
- 1. from
  - 2. in
  - 3. of
  - 4. on

Question ID : **65497833769**  
Status : **Not Answered**  
Chosen Option : --

**Comprehension:**

In the following passage, some words have been deleted. Read the passage carefully and select the most appropriate option to fill in each blank.

Mahatma Gandhi was born (1)\_\_\_\_\_ 2 October 1869 to Karamchand and Putlibai (2)\_\_\_\_\_ Porbandar. After completing his studies in England, he (3)\_\_\_\_\_ to South Africa. When he suffered (4)\_\_\_\_\_, he started the Civil Disobedience movement (5)\_\_\_\_\_ civil rights of the Indian community.

**SubQuestion No : 22**

**Q.22** Select the most appropriate option to fill in blank no. 2.

- Ans**
- 1. above
  - 2. at
  - 3. below
  - 4. through

Question ID : **65497833770**  
Status : **Not Answered**  
Chosen Option : --

**Comprehension:**

In the following passage, some words have been deleted. Read the passage carefully and select the most appropriate option to fill in each blank.

Mahatma Gandhi was born (1)\_\_\_\_\_ 2 October 1869 to Karamchand and Putlibai (2)\_\_\_\_\_ Porbandar. After completing his studies in England, he (3)\_\_\_\_\_ to South Africa. When he suffered (4)\_\_\_\_\_, he started the Civil Disobedience movement (5)\_\_\_\_\_ civil rights of the Indian community.

**SubQuestion No : 23**

**Q.23** Select the most appropriate option to fill in blank no. 3.

- Ans**
- 1. went
  - 2. going
  - 3. will go
  - 4. gone

Question ID : **65497833771**  
Status : **Not Answered**  
Chosen Option : --

**Comprehension:**

In the following passage, some words have been deleted. Read the passage carefully and select the most appropriate option to fill in each blank.

Mahatma Gandhi was born (1)\_\_\_\_\_ 2 October 1869 to Karamchand and Putlibai (2)\_\_\_\_\_ Porbandar. After completing his studies in England, he (3)\_\_\_\_\_ to South Africa. When he suffered (4)\_\_\_\_\_, he started the Civil Disobedience movement (5)\_\_\_\_\_ civil rights of the Indian community.

**SubQuestion No : 24**

**Q.24** Select the most appropriate option to fill in blank no. 4.

- Ans**
- 1. deterioration
  - 2. distinction
  - 3. discrimination
  - 4. delegation

Question ID : **65497833772**  
Status : **Not Answered**  
Chosen Option : --

**Comprehension:**

In the following passage, some words have been deleted. Read the passage carefully and select the most appropriate option to fill in each blank.

Mahatma Gandhi was born (1)\_\_\_\_\_ 2 October 1869 to Karamchand and Putlibai (2)\_\_\_\_\_ Porbandar. After completing his studies in England, he (3)\_\_\_\_\_ to South Africa. When he suffered (4)\_\_\_\_\_, he started the Civil Disobedience movement (5)\_\_\_\_\_ civil rights of the Indian community.

**SubQuestion No : 25**

**Q.25** Select the most appropriate option to fill in blank no. 5.

- Ans**
- 1. with
  - 2. for
  - 3. to
  - 4. after

Question ID : **65497833773**  
Status : **Not Answered**  
Chosen Option : --

Section : **Part D Hindi**

**Q.1** निम्नलिखित प्रश्न में, दिए गए चार विकल्पों में से, उस विकल्प का चयन करें जो मुहावरे का अर्थ व्यक्त करता है।

हाथ मलना

- Ans**
- 1. पछताना
  - 2. संकल्प करना
  - 3. वीरता दिखाना
  - 4. व्यायाम करना

Question ID : **65497833782**  
Status : **Answered**  
Chosen Option : 1

Q.2 दिए गए वाक्य में रेखांकित खंड को प्रतिस्थापित करने के लिए सबसे उपयुक्त विकल्प का चयन करें।  
यदि इसे प्रतिस्थापित करने की आवश्यकता नहीं है, तो विकल्प 'किसी बदलाव की आवश्यकता नहीं है'  
का चयन करें।

मैं आम खाया गया।

- Ans
- 1. किसी बदलाव की आवश्यकता नहीं है।
  - 2. मुझे
  - 3. मुझसे
  - 4. मेरे को

Question ID : 65497833783  
Status : Answered  
Chosen Option : 3

Q.3 'व्यथा' का पर्यायवाची है-

- Ans
- 1. वियोग
  - 2. चिंता
  - 3. दुःख
  - 4. सुख

Question ID : 65497833793  
Status : Answered  
Chosen Option : 3

Q.4 'छठी का दूध याद आना' मुहावरे का सही अर्थ है-

- Ans
- 1. अतीत पर गौरवान्वित होना
  - 2. संकट के समय पिछले दुख की याद आना
  - 3. संकट के समय पिछले सुख की याद आना
  - 4. अत्यंत प्रसन्न होना

Question ID : 65497833789  
Status : Answered  
Chosen Option : 2

Q.5 सही वर्तनी वाले शब्द का चयन करें।

- Ans
- 1. परिणाम
  - 2. परिनाम
  - 3. परीणाम
  - 4. परीनाम

Question ID : 65497833774  
Status : Answered  
Chosen Option : 1

Q.6 दिये गये वाक्य के किस भाग में त्रुटि है?

केवल आप ही यह काम निपुणता से कर सकते हैं।

- Ans
- 1. यह काम
  - 2. केवल आप ही
  - 3. निपुणता से
  - 4. कर सकते हैं।

Question ID : 65497833784  
Status : Answered  
Chosen Option : 2

Q.7 \_\_\_\_\_ हमारी राजभाषा है। उचित शब्द लिखिए।

- Ans
- 1. मराठी
  - 2. हिन्दी
  - 3. गुजराती
  - 4. संस्कृत

Question ID : 65497833790  
Status : Answered  
Chosen Option : 2

Q.8 दिये गये वाक्य के किस भाग में त्रुटि है?

मालिक मजदूरों का शोसण करते हैं।

- Ans
- 1. करते हैं।
  - 2. मजदूरों का
  - 3. मालिक
  - 4. शोसण

Question ID : 65497833792  
Status : Answered  
Chosen Option : 4

Q.9 'किसी और स्थान पर' वाक्यांश के लिए एक शब्द होगा-

- Ans
- 1. तत्र
  - 2. यत्र
  - 3. सर्वत्र
  - 4. अन्यत्र

Question ID : 65497833786  
Status : Answered  
Chosen Option : 4

Q.10 'उन्नति' का विलोम शब्द होगा-

- Ans  1. सम्मति  
 2. अवनति  
 3. अपनति  
 4. दुर्गति

Question ID : 65497833785  
Status : Answered  
Chosen Option : 2

Q.11 रिक्त स्थान भरने के लिए सबसे उपयुक्त शब्द का चयन करें।

मेरे ऊपर परिवार के पालन-पोषण का \_\_\_\_\_ है।

- Ans  1. निर्वहन  
 2. दायित्व  
 3. आभार  
 4. आधार

Question ID : 65497833776  
Status : Answered  
Chosen Option : 2

Q.12 मनुष्य जीवन \_\_\_\_\_ से सफल होता है। रिक्त स्थान की पूर्ति कीजिए।

- Ans  1. क्रोध  
 2. परिश्रम  
 3. आलसी जीवन से  
 4. लोभ-लालच

Question ID : 65497833791  
Status : Answered  
Chosen Option : 2

Q.13 दिए गए शब्द के समानार्थी शब्द का चयन करें।

मोल

- Ans  1. मूल  
 2. मलीन  
 3. दाम  
 4. मुक्ति

Question ID : 65497833779  
Status : Answered  
Chosen Option : 3

Q.14 दिये गये वाक्यांश के लिए एक शब्द दीजिये।

अतिथि की सेवा करने वाला

- Ans
- 1. आतिथ्य
  - 2. सेवक
  - 3. आतिथेय
  - 4. आशुतोष

Question ID : 65497833780  
Status : Answered  
Chosen Option : 3

Q.15 दिए गए वाक्य में रेखांकित खंड को प्रतिस्थापित करने के लिए सबसे उपयुक्त विकल्प का चयन करें।  
यदि इसे प्रतिस्थापित करने की आवश्यकता नहीं है, तो विकल्प 'किसी बदलाव की आवश्यकता नहीं है'  
का चयन करें।

परिवार नियोजन को कार्यक्रमों द्वारा जनसंख्या वृद्धि को रोका जाना चाहिए।

- Ans
- 1. परिवार नियोजन के कार्यक्रमों द्वारा
  - 2. किसी बदलाव की आवश्यकता नहीं है।
  - 3. परिवार नियोजन में कार्यक्रमों द्वारा
  - 4. परिवार नियोजन से कार्यक्रमों के द्वारा

Question ID : 65497833781  
Status : Answered  
Chosen Option : 1

Q.16 दिए गए वाक्य का वह भाग ज्ञात करें जिसमें कोई त्रुटि है। यदि कोई त्रुटि नहीं है, तो 'कोई त्रुटि नहीं है'  
चुने।

कई दिनों की बदली के पीछे आज धूप निकली है।

- Ans
- 1. कोई त्रुटि नहीं है।
  - 2. धूप निकली है।
  - 3. बदली के पीछे
  - 4. कई दिनों की

Question ID : 65497833778  
Status : Answered  
Chosen Option : 3

Q.17 'धरती और आकाश के बीच का स्थान' वाक्यांश के लिए एक शब्द होगा-

- Ans
- 1. द्वीप
  - 2. अंतरिक्ष
  - 3. गिरि
  - 4. अंतरीप

Question ID : 65497833787  
Status : Answered  
Chosen Option : 2



Q.18 सही वर्तनी वाले शब्द का चयन करें।

- Ans  1. धराशायी  
 2. धाराशाई  
 3. धराशायी  
 4. धाराशायी

Question ID : 65497833775  
Status : Answered  
Chosen Option : 3

Q.19 दिए गए वाक्य में रेखांकित खंड को प्रतिस्थापित करने के लिए सबसे उपयुक्त विकल्प का चयन करें।  
यदि इसे प्रतिस्थापित करने की आवश्यकता नहीं है, तो विकल्प 'किसी बदलाव की आवश्यकता नहीं है'  
का चयन करें।

अधिक जनसंख्या अनेक समस्याओं को जन्म देता है।

- Ans  1. अनेक समस्याओं को जन्म देती है।  
 2. अनेक समस्याओं को जन्म देती है।  
 3. किसी बदलाव की आवश्यकता नहीं है।  
 4. अनेक समस्या को जन्म देती है।

Question ID : 65497833777  
Status : Answered  
Chosen Option : 2

Q.20 'तिमिर' का विलोम शब्द होगा-

- Ans  1. प्रकाश  
 2. आकाश  
 3. रात्रि  
 4. अंधकार

Question ID : 65497833788  
Status : Answered  
Chosen Option : 1

**Comprehension:**

आचरण की सभ्यता का देश ही (1) \_\_\_\_\_ है। उसमें न शारीरिक झगड़े हैं, न मानसिक, न आध्यात्मिक। न उसमें विद्रोह है; न जंग ही का (2) \_\_\_\_\_ है और न वहाँ कोई ऊँचा है, न (3) \_\_\_\_\_। न कोई वहाँ धनवान् है और ना कोई वहाँ (4) \_\_\_\_\_। वहाँ प्रकृति का नाम नहीं, वहाँ तो प्रेम और एकता का (5) \_\_\_\_\_ राज्य रहता है।

निम्न प्रश्नों के उत्तर उपरोक्त गद्यांश के आधार पर दीजिए।

**SubQuestion No : 21**

Q.21 गद्यांश के रिक्त स्थान (1) के लिए सर्वाधिक उपयुक्त शब्द होगा-

- Ans  1. मतवाला  
 2. निराला  
 3. भयंकर  
 4. रंगीला

Question ID : 65497833795  
Status : Answered  
Chosen Option : 2

**Comprehension:**

आचरण की सभ्यता का देश ही (1) \_\_\_\_\_ है। उसमें न शारीरिक झगड़े हैं, न मानसिक, न आध्यात्मिक। न उसमें विद्रोह है; न जंग ही का (2) \_\_\_\_\_ है और न वहाँ कोई ऊँचा है, न (3) \_\_\_\_\_। न कोई वहाँ धनवान् है और ना कोई वहाँ (4) \_\_\_\_\_। वहाँ प्रकृति का नाम नहीं, वहाँ तो प्रेम और एकता का (5) \_\_\_\_\_ राज्य रहता है।

निम्न प्रश्नों के उत्तर उपरोक्त गद्यांश के आधार पर दीजिए।

**SubQuestion No : 22**

**Q.22** गद्यांश के रिक्त स्थान (2) के लिए सर्वाधिक उपयुक्त शब्द होगा-

- Ans**
- 1. चीत्कार
  - 2. लक्षण
  - 3. संकेत
  - 4. नामोनिशान

Question ID : **65497833796**  
Status : **Answered**  
Chosen Option : **3**

**Comprehension:**

आचरण की सभ्यता का देश ही (1) \_\_\_\_\_ है। उसमें न शारीरिक झगड़े हैं, न मानसिक, न आध्यात्मिक। न उसमें विद्रोह है; न जंग ही का (2) \_\_\_\_\_ है और न वहाँ कोई ऊँचा है, न (3) \_\_\_\_\_। न कोई वहाँ धनवान् है और ना कोई वहाँ (4) \_\_\_\_\_। वहाँ प्रकृति का नाम नहीं, वहाँ तो प्रेम और एकता का (5) \_\_\_\_\_ राज्य रहता है।

निम्न प्रश्नों के उत्तर उपरोक्त गद्यांश के आधार पर दीजिए।

**SubQuestion No : 23**

**Q.23** गद्यांश के रिक्त स्थान (3) के लिए सर्वाधिक उपयुक्त शब्द होगा-

- Ans**
- 1. नीचा
  - 2. मूर्ख
  - 3. विद्वान
  - 4. समान

Question ID : **65497833797**  
Status : **Answered**  
Chosen Option : **1**

**Comprehension:**

आचरण की सभ्यता का देश ही (1) \_\_\_\_\_ है। उसमें न शारीरिक झगड़े हैं, न मानसिक, न आध्यात्मिक। न उसमें विद्रोह है; न जंग ही का (2) \_\_\_\_\_ है और न वहाँ कोई ऊँचा है, न (3) \_\_\_\_\_। न कोई वहाँ धनवान् है और ना कोई वहाँ (4) \_\_\_\_\_। वहाँ प्रकृति का नाम नहीं, वहाँ तो प्रेम और एकता का (5) \_\_\_\_\_ राज्य रहता है।

निम्न प्रश्नों के उत्तर उपरोक्त गद्यांश के आधार पर दीजिए।

**SubQuestion No : 24**

**Q.24** गद्यांश के रिक्त स्थान (4) के लिए सर्वाधिक उपयुक्त शब्द होगा-

- Ans**
- 1. वीर
  - 2. बलवान
  - 3. देवता
  - 4. निर्धन

Question ID : **65497833798**  
Status : **Answered**  
Chosen Option : **4**

**Comprehension:**

आचरण की सभ्यता का देश ही (1) \_\_\_\_\_ है। उसमें न शारीरिक झगड़े हैं, न मानसिक, न आध्यात्मिक। न उसमें विद्रोह है; न जंग ही का (2) \_\_\_\_\_ है और न वहाँ कोई ऊँचा है, न (3) \_\_\_\_\_। न कोई वहाँ धनवान् है और न कोई वहाँ (4) \_\_\_\_\_। वहाँ प्रकृति का नाम नहीं, वहाँ तो प्रेम और एकता का (5) \_\_\_\_\_ राज्य रहता है।

निम्न प्रश्नों के उत्तर उपरोक्त गद्यांश के आधार पर दीजिए।

**SubQuestion No : 25**

**Q.25** गद्यांश के रिक्त स्थान (5) के लिए सर्वाधिक उपयुक्त शब्द होगा-

- Ans**  1. सम्पूर्ण  
 2. खंडित  
 3. अखंड  
 4. कृत्रिम

Question ID : **65497833799**

Status : **Answered**

Chosen Option : **1**

GovtJobsAlert.In