

Constable GD in CAPFs NIA SSF and Rifleman GD in Assam Rifles Examination 2021

Roll Number	www.GovtJobsAlert.In
Candidate Name	www.GovtJobsAlert.In
Venue Name	iON Digital Zone iDZ Laxman Nagar
Exam Date	23/11/2021
Exam Time :	12:30 PM - 2:00 PM
Subject	Constable GD 2021

Section : Part A General Intelligence and Reasoning

Q.1 'पेन' का 'स्याही' से वही संबंध है, जो 'ब्रश' का '_____ ' से है।

- Ans
- 1. पेंसिल
 - 2. पेंट
 - 3. कामाज़
 - 4. चित्रकला पुस्तिका

Question ID : 65497835325
Status : Answered
Chosen Option : 2

Q.2 चार संख्याओं A, B, C और D का योग 147 है। C और D का अनुपात क्रमशः 3 : 5 है। D, A के पांच गुने के बराबर है। C, B के दोगुने के बराबर है। B का मान ज्ञात कीजिए।

- Ans
- 1. 42
 - 2. 45
 - 3. 27
 - 4. 21

Question ID : 65497835344
Status : Answered
Chosen Option : 4

Q.3 किसी कूट भाषा में, 'TOY' को 'UPZ' और 'COW' को 'DPX' लिखा जाता है। उसी कूट भाषा में 'MONU' को किस प्रकार लिखा जाएगा?

- Ans
- 1. NPVO
 - 2. VONP
 - 3. VOPN
 - 4. NPOV

Question ID : 65497835333
Status : Answered
Chosen Option : 4

Q.4 दिए गए विकल्पों में से उस संख्या का चयन करें, जो निम्नलिखित श्रेणी में प्रश्न चिह्न (?) के स्थान पर आ सकती है।

9, 18, 45, 126, ?

Ans 1. 393

2. 333

3. 396

4. 369

Question ID : 65497835334

Status : Answered

Chosen Option : 4

Q.5 दिए गए विकल्पों में से उस अक्षर-समूह का चयन करें, जो निम्नलिखित श्रृंखला में प्रश्न चिह्न (?) के स्थान पर आ सकता है।

FIK, HKM, JMO, LOQ, ?

Ans 1. NRQ

2. QNS

3. NQS

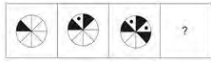
4. SQN

Question ID : 65497835324

Status : Answered

Chosen Option : 3

Q.6 दिए गए विकल्पों में से उस आकृति का चयन कीजिए, जो निम्नांकित श्रृंखला में प्रश्न चिह्न (?) के स्थान पर आ सकती है।



Ans

1.



2.



3.



4.



Question ID : 65497835331

Status : Answered

Chosen Option : 1

Q.7 पांच मित्र, R, S, V, P और Q, उत्तर दिशा की ओर मुख करके एक पंक्ति में बैठे हैं। Q, R के दाईं ओर तथा S के बाईं ओर बैठा है। यदि V, R के बाईं ओर बैठने वाला एकमात्र व्यक्ति है, तो बाएं सिरे पर कौन बैठा है?

- Ans 1. V
 2. R
 3. S
 4. P

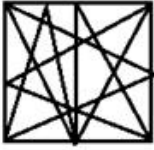
Question ID : 65497835326
 Status : Answered
 Chosen Option : 1

Q.8 उस विकल्प का चयन कीजिए जिसमें दी गई आकृति सन्निहित है। (आकृति को घुमाने की अनुमति नहीं है)



Ans

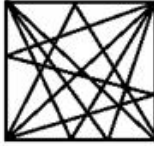
1.



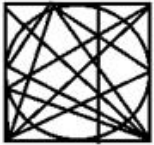
2.



3.

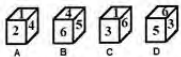
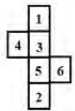


4.



Question ID : 65497835340
 Status : Answered
 Chosen Option : 2

Q.9 उन पासों का चयन कीजिए, जिन्हें दी गई शीट को रेखाओं के अनुसार मोड़कर बनाया जा सकता है।



Ans

1. केवल C

2. केवल A और C

3. केवल A, B और D

4. केवल A और B

Question ID : 65497835339
 Status : Answered
 Chosen Option : 2

Q.10 दिए गए विकल्पों में से उस संख्या का चयन करें, जो निम्नलिखित श्रेणी में प्रश्न चिह्न (?) के स्थान पर आ सकती है।

92, 86, 81, 77, ?, 72

Ans 1. 74

2. 73

3. 75

4. 76

Question ID : 65497835330

Status : Answered

Chosen Option : 1

Q.11 उस विकल्प का चयन कीजिए, जिसका तीसरे पद से वही संबंध है, जो दूसरे पद का पहले पद से है।

SITAR : TKWEW :: CRAME : ?

Ans 1. DTDSJ

2. DSCQJ

3. DTDQK

4. DTDQJ

Question ID : 65497835346

Status : Answered

Chosen Option : 4

Q.12 उस सही विकल्प का चयन करें, जो दिए गए शब्दों के उस क्रम को दर्शाता है, जिसमें वे अंग्रेजी शब्दकोश में मौजूद होते हैं।

1. Gracious
2. Gorgeous
3. Government
4. Governor
5. Governess

Ans 1. 3, 5, 1, 4, 2

2. 2, 5, 1, 3, 4

3. 2, 5, 1, 4, 3

4. 2, 5, 3, 4, 1

Question ID : 65497835328

Status : Answered

Chosen Option : 4

Q.13 दर्पण को चित्र में प्रदर्शित किए गए अनुसार 'PQ' पर रखे जाने पर, दिए गए संयोजन के सही दर्पण प्रतिबिंब का चयन कीजिए।

NANKAU
P
|
Q

Ans 1. UAKNAI

2. KAUANI

3. UAKNAI

4. KAUANI

Question ID : 65497835335

Status : Answered

Chosen Option : 1

Q.14 एक निश्चित कूट भाषा में JAGUAR को MDJXDU लिखा जाता है। उसी कूट भाषा में LEOPARD को किस प्रकार लिखा जाएगा?

- Ans
- 1. OHRTDUH
 - 2. OHQSDVG
 - 3. OGRSEUG
 - 4. OHRSDUG

Question ID : 65497835341
Status : Answered
Chosen Option : 4

Q.15 चार अक्षर-समूह दिए गए हैं, जिनमें से तीन किसी तरह से संगत हैं और एक असंगत है। असंगत अक्षर-समूह का चयन करें।

- Ans
- 1. HI
 - 2. PG
 - 3. AB
 - 4. CD

Question ID : 65497835332
Status : Answered
Chosen Option : 2

Q.16 एक लड़के की तस्वीर की ओर इशारा करते हुए, निखिल ने कहा, "वह मेरी मां की सास की बेटी के इकलौते भाई का बेटा है"। तस्वीर में मौजूद लड़के का निखिल से क्या संबंध है?

- Ans
- 1. पिता
 - 2. चचेरे/ममेरे/फुफेरे/मौसेरे-भाई/बहन
 - 3. चाचा/ताऊ/फूफा
 - 4. भाई

Question ID : 65497835348
Status : Answered
Chosen Option : 4

Q.17 उस विकल्प का चयन कीजिए जिसका तीसरी संख्या से वही संबंध है जो दूसरी संख्या का पहली संख्या से है।

15 : 210 :: 26 : ?

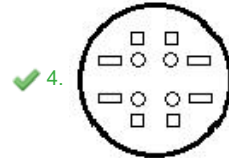
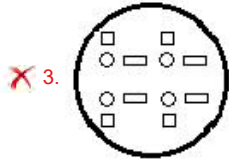
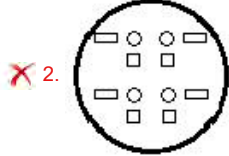
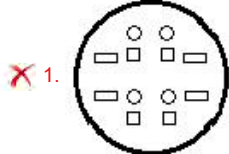
- Ans
- 1. 650
 - 2. 666
 - 3. 656
 - 4. 676

Question ID : 65497835337
Status : Answered
Chosen Option : 1

Q.18 कागज के एक टुकड़े को मोड़ने के क्रम और मुड़े हुए कागज को काटने के तरीके को नीचे दी गई आकृतियों में दर्शाया गया है। खोलने पर, यह कागज कैसा दिखाई देगा?

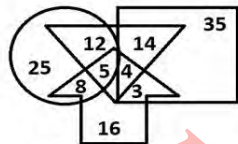


Ans



Question ID : 65497835345
Status : Answered
Chosen Option : 4

Q.19 दिए गए वेन आरेख में, वृत्त 'फुटबॉल खेलने वाली लड़कियों' को निरूपित करता है, आयत 'फुटबॉल खेलने वाले लड़कों' को निरूपित करता है, त्रिभुज, 'हॉकी खेलने वाली लड़कियों और लड़कों' को निरूपित करता है और तीर 'बैडमिंटन खेलने वाले खिलाड़ियों' को निरूपित करता है।



उन लड़कियों और लड़कों की कुल संख्या कितनी है, जो फुटबॉल और हॉकी दोनों खेलते हैं?

Ans

- ✗ 1. 9
✗ 2. 70
✓ 3. 35
✗ 4. 26

Question ID : 65497835327
Status : Answered
Chosen Option : 4

Q.20 पांच खिलाड़ी एक पार्क में एक सीधी पंक्ति में उत्तर दिशा की ओर मुख करके बैठे हैं। A और B एक साथ बैठे हैं। C, B और D के बीच में बैठा है। E, C के दाईं ओर दूसरे स्थान पर है। बाईं ओर से B की स्थिति ज्ञात कीजिए।

- Ans 1. दूसरी
 2. पांचवीं
 3. पहली
 4. चौथी

Question ID : 65497835336
Status : Answered
Chosen Option : 1

Q.21 उस विकल्प का चयन करें, जिसमें दी गई संख्याओं के बीच वही संबंध है, जो दिए गए समूह की संख्याओं के बीच है।

4, 17, 33

- Ans 1. 10, 14, 114
 2. 5, 10, 55
 3. 12, 15, 244
 4. 6, 15, 71

Question ID : 65497835343
Status : Answered
Chosen Option : 4

Q.22 यदि 'Z' का अर्थ 'जोड़ना' है, 'X' का अर्थ 'गुणा' है, 'Y' का अर्थ 'भाग' है, और 'W' का अर्थ 'घटाना' है, तो निम्न व्यंजक का मान कितना होगा?

15 Y (11 Z 4) Z 3 X 4 (19 Z 3) Y 11 X 3 (3 Z 2)

- Ans 1. 405
 2. 361
 3. 390
 4. 408

Question ID : 65497835338
Status : Answered
Chosen Option : 2

Q.23 एक निश्चित कूट भाषा में, DOUBLE को ZKQRYM लिखा जाता है और TEN को XMV लिखा जाता है। उसी कूट भाषा में TOLL को किस प्रकार लिखा जाएगा?

- Ans 1. YKXM
 2. UKQR
 3. MVYY
 4. XKYY

Question ID : 65497835347
Status : Not Answered
Chosen Option : --

Q.24 उस अक्षर संयोजन का चयन करें, जिसे क्रमबद्ध रूप से दी गई श्रृंखला के रिक्त स्थानों में रखे जाने पर श्रृंखला पूर्ण हो जाएगी।

L _ _ K C _ O Q _ C L O _ _ C

Ans 1. OQLKQK

2. QOLKQK

3. OQLOQC

4. OKOQCQ

Question ID : 65497835329

Status : Answered

Chosen Option : 1

Q.25 दिए गए कथनों और निष्कर्षों को ध्यानपूर्वक पढ़ें। कथनों में दी गई जानकारी को सत्य मानते हुए विचार करें, भले ही वह सामान्यतः ज्ञात तथ्यों से भिन्न प्रतीत होती हो, और तय करें कि दिए गए निष्कर्षों में से कौन से कथनों का तार्किक रूप से पालन करते हैं?

कथन:

कुछ कदू केले हैं।
सभी केले करेले हैं।

निष्कर्ष:

I. कोई करेला कदू नहीं है।

II. कुछ करेले केले हैं।

Ans 1. निष्कर्ष I और II दोनों ही पालन करते हैं।

2. या तो निष्कर्ष I या II पालन करता है।

3. केवल निष्कर्ष I पालन करता है।

4. केवल निष्कर्ष II पालन करता है।

Question ID : 65497835342

Status : Answered

Chosen Option : 4

Section : Part B General Knowledge and General Awareness

Q.1 नवंबर 2020 में, निम्नलिखित में से किसे इक्विटास स्मॉल फ़ाइनेंस बैंक का ब्रांड एंबेसडर नियुक्त किया गया था?

Ans 1. अक्षय कुमार

2. स्मृति मंधाना

3. सुष्मिता सेन

4. विराट कोहली

Question ID : 65497835363

Status : Answered

Chosen Option : 1

Q.2 भारतीय संविधान के अनुच्छेद _____ में उल्लिखित है कि राष्ट्रपति, एंग्लो-इंडियन समुदाय के दो सदस्यों को लोकसभा में नामनिर्देशित कर सकते हैं, यदि समुदाय का प्रतिनिधित्व पर्याप्त न हो।

Ans 1. 333

2. 335

3. 337

4. 331

Question ID : 65497835372

Status : Answered

Chosen Option : 4

Q.3 निम्नलिखित में से किस वर्ष में राष्ट्रीय जूट नीति का सूत्रीकरण किया गया था? इसका उद्देश्य उत्पादकता में वृद्धि, गुणवत्ता में सुधार, जूट किसानों को अच्छी कीमत सुनिश्चित करना और प्रति हेक्टेयर उपज में वृद्धि करना था।

- Ans
- 1. 2014
 - 2. 2005
 - 3. 2000
 - 4. 1998

Question ID : 65497835357
Status : Answered
Chosen Option : 1

Q.4 पार्टी में गुब्बारे फुलाने के लिए निम्नलिखित में से किस अक्रिय गैस का उपयोग किया जाता है?

- Ans
- 1. जेनॉन
 - 2. हीलियम
 - 3. आर्गन
 - 4. नियॉन

Question ID : 65497835353
Status : Answered
Chosen Option : 4

Q.5 प्रथम राष्ट्रमंडल खेलों का आयोजन इनमें से किस वर्ष में किया गया था?

- Ans
- 1. 1912
 - 2. 1930
 - 3. 1965
 - 4. 1956

Question ID : 65497835359
Status : Answered
Chosen Option : 4

Q.6 आर्थिक सर्वेक्षण 2020-21 के अनुसार, वर्ष _____ तक, उन राज्यों के लिए शिशु मृत्यु दर में 12% की गिरावट आई, जिन्होंने 'आयुष्मान भारत प्रधान मंत्री जन आरोग्य योजना' (AB-PMJAY) को अंगीकृत नहीं किया था।

- Ans
- 1. 2018-19 से 2019-20
 - 2. 2016-17 से 2020-21
 - 3. 2019-20 से 2020-21
 - 4. 2015-16 से 2019-20

Question ID : 65497835368
Status : Answered
Chosen Option : 2

Q.7 निम्नलिखित में से किस महासागर का सबसे गहरा बिंदु जावा गर्त है?

- Ans
- 1. आर्कटिक महासागर
 - 2. प्रशांत महासागर
 - 3. हिंद महासागर
 - 4. अटलांटिक महासागर

Question ID : 65497835364
Status : Answered
Chosen Option : 2

Q.8 भारतीय संविधान के निम्नलिखित में से किस अनुच्छेद के अनुसार, देश के नागरिकों को प्राण एवं दैहिक स्वतंत्रता के संरक्षण का अधिकार प्राप्त है?

- Ans
- 1. अनुच्छेद 26
 - 2. अनुच्छेद 17
 - 3. अनुच्छेद 20
 - 4. अनुच्छेद 21

Question ID : 65497835351
Status : Answered
Chosen Option : 4

Q.9 भारत सरकार की 'आयुष्मान भारत' योजना के तहत एक परिवार को मिलने वाले वार्षिक स्वास्थ्य कवर की राशि कितनी है?

- Ans
- 1. ₹ 5 लाख
 - 2. ₹ 3 लाख
 - 3. ₹ 10 लाख
 - 4. ₹ 1 लाख

Question ID : 65497835349
Status : Answered
Chosen Option : 1

Q.10 केरल में मनाया जाने वाला ओणम नामक भारतीय त्योहार कितने दिनों तक मनाया जाता है?

- Ans
- 1. 15
 - 2. 7
 - 3. 12
 - 4. 10

Question ID : 65497835356
Status : Answered
Chosen Option : 3

Q.11 बनारस के इनमें से किस राजा को 1781 में वारेन हेस्टिंग्स द्वारा गिरफ्तार किया गया था?

- Ans
- 1. बलवंत सिंह
 - 2. चैत (चेत) सिंह
 - 3. उदित नारायण सिंह
 - 4. महीप नारायण सिंह

Question ID : 65497835369
Status : Answered
Chosen Option : 3

Q.12 नवंबर 2020 में प्रधानमंत्री नरेंद्र मोदी ने इनमें से किस राज्य में शांति की प्रतिमा (Statue of Peace) का अनावरण किया?

- Ans
- 1. तमिलनाडु
 - 2. गुजरात
 - 3. राजस्थान
 - 4. महाराष्ट्र

Question ID : 65497835355
Status : Answered
Chosen Option : 2

Q.13 जब रक्त प्रवाह में कैल्शियम की मात्रा अधिक हो जाती है, तो मनुष्यों में निम्नलिखित में से किस ग्रंथि द्वारा कैल्सीटोनिन हॉर्मोन का स्राव होता है?

- Ans 1. थायरॉइड (Thyroid)
 2. पीनियल (Pineal)
 3. पीयूष (Pituitary)
 4. अधिवृक्क (Adrenal)

Question ID : 65497835362
Status : Answered
Chosen Option : 1

Q.14 अक्टूबर 2020 में, नाबार्ड (NABARD) ने कर्नाटक में इनमें से किस मिशन के अंतर्गत जल, साफ़-सफ़ाई (sanitation) और स्वच्छता (hygiene) पर साक्षरता को बढ़ावा देने के लिए एक स्वच्छता साक्षरता अभियान आरंभ किया था?

- Ans 1. हंस जल धारा योजना
 2. स्वच्छ भारत मिशन
 3. जल शक्ति
 4. जगन्ना थोडू

Question ID : 65497835361
Status : Answered
Chosen Option : 2

Q.15 नवंबर 2020 में, भारत ने _____ के साथ जल-सर्वेक्षण (हाइड्रोग्राफी) पर एक कार्यान्वयन अनुबंध हस्ताक्षरित किया।

- Ans 1. जापान
 2. चीन
 3. वियतनाम
 4. इंडोनेशिया

Question ID : 65497835352
Status : Answered
Chosen Option : 1

Q.16 शिक्षक पर्व 2021 की विषयवस्तु क्या थी?

- Ans 1. राष्ट्रीय शिक्षा नीति
 2. विद्यार्थी देवो भवः
 3. गुणवत्ता और सतत विद्यालय : भारत में विद्यालयों से ज्ञान प्राप्ति
 4. आचार्य देवो भवः

Question ID : 65497835373
Status : Answered
Chosen Option : 3

Q.17 निम्नलिखित में से किस वर्ष में गांधी-इरविन समझौते पर हस्ताक्षर किए गए थे?

- Ans 1. 1921
 2. 1929
 3. 1919
 4. 1931

Question ID : 65497835354
Status : Answered
Chosen Option : 4

Q.18 निम्नलिखित शख्सियतों में से किसे 'भारत में पिछड़े वर्गों और जातियों के प्रवक्ता' के रूप में वर्णित किया जा सकता है?

- Ans
- 1. डॉ. राजेंद्र प्रसाद
 - 2. वल्लभभाई पटेल
 - 3. डॉ. बाबासाहेब अंबेडकर
 - 4. सुभाष चंद्र बोस

Question ID : 65497835370
Status : Answered
Chosen Option : 3

Q.19 अचंत शरत कमल एक भारतीय पेशेवर _____ खिलाड़ी हैं।

- Ans
- 1. लॉन टेनिस
 - 2. टेबल टेनिस
 - 3. तैराकी
 - 4. गोल्फ

Question ID : 65497835350
Status : Answered
Chosen Option : 2

Q.20 इंडियन प्रीमियर लीग मैच में दो मेडन ओवर की गेंदबाजी करने वाला प्रथम गेंदबाज निम्नलिखित में से कौन है?

- Ans
- 1. मोहित शर्मा
 - 2. इमरान ताहिर
 - 3. मोहम्मद सिराज
 - 4. सोहेल तनवीर

Question ID : 65497835366
Status : Answered
Chosen Option : 2

Q.21 'शहीदी सभा' त्योहार निम्नलिखित में से किस राज्य द्वारा मनाया जाता है?

- Ans
- 1. पंजाब
 - 2. हरियाणा
 - 3. बिहार
 - 4. सिक्किम

Question ID : 65497835360
Status : Answered
Chosen Option : 4

Q.22 बाणभट्ट ने राजा _____ की जीवनी लिखी।

- Ans
- 1. चंद्रगुप्त मौर्य
 - 2. हर्षवर्धन
 - 3. समुद्रगुप्त
 - 4. अशोक

Question ID : 65497835371
Status : Answered
Chosen Option : 2

Q.23 निम्नलिखित में से कौन 'ग्रेडपेरेंट्स बैग ऑफ़ स्टोरीज़' की लेखिका है?

- Ans
- 1. गौरी खान
 - 2. अरुंधती रॉय
 - 3. द्विकल खन्ना
 - 4. सुधा मूर्ति

Question ID : 65497835358
Status : Answered
Chosen Option : 4

Q.24 भारत में किस निर्जन द्वीप में एक पक्षी अभयारण्य स्थित है?

- Ans
- 1. पिट्टी द्वीप (Pitti Island)
 - 2. बैरन द्वीप (Barren Island)
 - 3. बेले द्वीप (Belle Island)
 - 4. ब्लफ द्वीप (Bluff Island)

Question ID : 65497835365
Status : Answered
Chosen Option : 2

Q.25 What is India's rank in the Global Economic Freedom Index 2020?

- Ans
- 1. 100
 - 2. 92
 - 3. 105
 - 4. 107

Question ID : 65497835367
Status : Answered
Chosen Option : 1

Section : Part C Elementary Mathematics

Q.1 $42\frac{1}{5} \div \left[36 + \frac{2}{3} \text{ of } 15 - \left(24 \div 8 + \frac{4}{5} \right) \right]$ का मान क्या होगा?

- Ans
- 1. 10
 - 2. 5
 - 3. 1
 - 4. 15

Question ID : 65497835381
Status : Answered
Chosen Option : 3

Q.2 मान लीजिए x वह सबसे बड़ी संख्या है, जिससे 6564, 7416 और 8907 को विभाजित करने पर प्रत्येक स्थिति में समान शेषफल प्राप्त होता है। x के अंकों का योगफल ज्ञात कीजिए।

- Ans
- 1. 6
 - 2. 9
 - 3. 10
 - 4. 5

Question ID : 65497835393
Status : Answered
Chosen Option : 1

Q.3 राधा की बचत, उसके व्यय के 40% के बराबर है। यदि उसकी आय में 25% की वृद्धि होती है और व्यय में 40% की वृद्धि होती है, तो उसकी बचत में कितनी वृद्धि/कमी होती है?

- Ans**
- 1. 12.5% की वृद्धि
 - 2. 15% की वृद्धि
 - 3. 15% की कमी
 - 4. 12.5% की कमी

Question ID : 65497835394
Status : Answered
Chosen Option : 4

Q.4 एक ट्रेन की चाल 80 km/h है। सुबह 10.20 बजे से दोपहर 1.50 बजे तक इसके द्वारा तय की गई दूरी _____ है।

- Ans**
- 1. 240 km
 - 2. 280 km
 - 3. 260 km
 - 4. 250 km

Question ID : 65497835382
Status : Answered
Chosen Option : 2

Q.5 A और B के पास कुल ₹4655 हैं। यदि A के पास मौजूद धनराशि का $\frac{4}{15}$ भाग, B के पास मौजूद धनराशि के $\frac{2}{5}$ भाग के बराबर है, तो B के पास मौजूद धनराशि ज्ञात कीजिए।

- Ans**
- 1. ₹2,311
 - 2. ₹9,310
 - 3. ₹1,862
 - 4. ₹1,680

Question ID : 65497835386
Status : Answered
Chosen Option : 3

Q.6 $78 \div 13 \text{ of } 5 - [48 \div 72 \times 3 - 15 \div 8 \times (23 - 29) - 17] \text{ of } 4$ का मान ज्ञात कीजिए।

- Ans**
- 1. $4\frac{1}{5}$
 - 2. $5\frac{1}{4}$
 - 3. $16\frac{1}{5}$
 - 4. $15\frac{1}{4}$

Question ID : 65497835395
Status : Answered
Chosen Option : 3

Q.7 ₹500 प्रत्येक के मूल्य पर तीन वस्तुएं खरीदी जाती हैं। उनमें से एक वस्तु 12% लाभ पर बेची जाती है। यदि अन्य दो वस्तुएं भी बेची जाती हैं और पूरे सौदे में 20% की हानि होती है, तो शेष दो वस्तुओं की बिक्री पर लाभ या हानि का प्रतिशत कितना होगा?

- Ans**
- 1. 40% की हानि
 - 2. 36% की हानि
 - 3. 15% का लाभ
 - 4. 25% की हानि

Question ID : 65497835374
Status : Answered
Chosen Option : 1

Q.8 A और B किसी कार्य को क्रमशः 36 दिनों और 48 दिनों में कर सकते हैं। उन्होंने 12 दिनों तक एक साथ मिलकर कार्य किया। शेष कार्य को C द्वारा अकेले 10 दिनों में पूरा किया गया। A और C एक साथ मिलकर मूल कार्य के 62.5% हिस्से को कितने दिनों में पूरा करेंगे?

- Ans**
- 1. 9 दिन
 - 2. $14\frac{2}{5}$ दिन
 - 3. 10 दिन
 - 4. $12\frac{1}{2}$ दिन

Question ID : 65497835397
Status : Answered
Chosen Option : 2

Q.9 A, B और C का औसत वजन 60 kg है। यदि A और B का औसत वजन 45 kg है, तो C का वजन कितना है?

- Ans**
- 1. 80 kg
 - 2. 60 kg
 - 3. 90 kg
 - 4. 70 kg

Question ID : 65497835385
Status : Answered
Chosen Option : 3

Q.10 यदि $P : Q = 2 : 3$ है, तो $(2P + Q) : (5P - 3Q)$ का मान ज्ञात करें।

- Ans**
- 1. 7 : 1
 - 2. 4 : 3
 - 3. 3 : 8
 - 4. 2 : 5

Question ID : 65497835390
Status : Answered
Chosen Option : 1

Q.11 यदि ₹713 की धनराशि को तीन भागों A, B और C में $\frac{1}{2} : \frac{2}{3} : \frac{3}{4}$ के अनुपात में विभाजित किया जाता है, तो C का मान कितना है?

- Ans
- 1. ₹209
 - 2. ₹270
 - 3. ₹297
 - 4. ₹279

Question ID : 65497835388
Status : Answered
Chosen Option : 4

Q.12 कोई धनराशि साधारण ब्याज पर 5 वर्ष में ₹750 और 6 वर्ष में ₹800 हो जाती है। वह धनराशि कितनी है?

- Ans
- 1. ₹550
 - 2. ₹500
 - 3. ₹650
 - 4. ₹680

Question ID : 65497835387
Status : Answered
Chosen Option : 2

Q.13 कुछ संख्याओं का औसत 37 है। यदि उनमें से $\frac{3}{5}$ संख्याओं में से प्रत्येक में 7 जोड़ दिया जाता है, और शेष संख्याओं में से प्रत्येक से 9 घटा दिया जाता है, तो इस प्रकार प्राप्त संख्याओं का औसत ज्ञात कीजिए।

- Ans
- 1. 36.7
 - 2. 38.5
 - 3. 35.8
 - 4. 37.6

Question ID : 65497835376
Status : Not Answered
Chosen Option : --

Q.14 A प्रति दिन 6 घंटे कार्य करके किसी कार्य को 15 दिनों में कर सकता है और B इसी कार्य को प्रति दिन 5 घंटे कार्य करके 10 दिनों में कर सकता है। उन्हें एक साथ मिलकर प्रति दिन 9 घंटे कार्य करके उस कार्य को करने में कितना समय (दिनों में) लगेगा?

- Ans
- 1. $3\frac{4}{7}$
 - 2. $5\frac{4}{7}$
 - 3. $2\frac{4}{7}$
 - 4. $6\frac{4}{7}$

Question ID : 65497835379
Status : Answered
Chosen Option : 4

Q.15 किसी वस्तु को ₹299.20 में बेचने पर एक दुकानदार को 12% की हानि होती है। यदि वह इसे ₹350.20 में बेचता है, तो उसे होने वाले लाभ/हानि की गणना कीजिए।

- Ans**
- 1. 1.5% का लाभ
 - 2. 3% का लाभ
 - 3. 3% की हानि
 - 4. 1.5% की हानि

Question ID : 65497835396
Status : Answered
Chosen Option : 3

Q.16 एक वस्तु का सूची मूल्य ₹18000 है और इस पर 12% छूट दी गई है। शुद्ध विक्रय मूल्य ₹14414.40 करने के लिए कितनी अतिरिक्त छूट दी जानी चाहिए?

- Ans**
- 1. 11%
 - 2. 9%
 - 3. 10%
 - 4. 8%

Question ID : 65497835377
Status : Answered
Chosen Option : 2

Q.17 सीमा और गीता, एक ही समय में, स्थान A से 90 km दूर स्थित - स्थान B पर जाने के लिए यात्रा शुरू करती हैं। सीमा की चाल, गीता की चाल से 3 km/h कम है। गीता, स्थान B पर पहुंचती है और तुरंत वापस चलना शुरू करती है। मार्ग में वह स्थान B से 15 km की दूरी पर सीमा से मिलती है। गीता की चाल (km/h में) ज्ञात कीजिए।

- Ans**
- 1. 9
 - 2. 10.5
 - 3. 12
 - 4. 7.5

Question ID : 65497835380
Status : Not Answered
Chosen Option : --

Q.18 उस वर्ग का क्षेत्रफल ज्ञात कीजिए, जिसका एक विकर्ण 2.6 m लंबा है।

- Ans**
- 1. 3.50 m²
 - 2. 2.42 m²
 - 3. 1.25 m²
 - 4. 3.38 m²

Question ID : 65497835392
Status : Answered
Chosen Option : 4

Q.19 एक विक्रेता ने, एक वस्तु के अंकित मूल्य को, क्रय मूल्य से 40% अधिक रखा। उसने एक निश्चित ग्राहक को 25% और 16% की दो क्रमिक छूट दी। इसके परिणामस्वरूप, उसे ₹590 की हानि हुई। उसने उस ग्राहक को वस्तु किस मूल्य पर बेची?

- Ans**
- 1. ₹4,240
 - 2. ₹4,410
 - 3. ₹4,320
 - 4. ₹4,400

Question ID : 65497835383
Status : Answered
Chosen Option : 4

Q.20 यदि पूर्णांक 'k', संख्याओं 3, 5 और 10 से विभाज्य है, तो इन सभी संख्याओं से विभाज्य अगला बड़ा पूर्णांक ज्ञात कीजिए।

- Ans**
- 1. $k + 10$
 - 2. $2k$
 - 3. $k + 2$
 - 4. $k + 20$

Question ID : 65497835384
Status : Answered
Chosen Option : 3

Q.21 सीता ने 900 में से 756 अंक हासिल किए और उसके भाई अवि ने 500 में से 350 अंक हासिल किए। अवि को कितने अंक और प्राप्त करने चाहिए, ताकि उसके और सीता के प्राप्तकों के प्रतिशत बराबर हों।

- Ans**
- 1. 80
 - 2. 70
 - 3. 60
 - 4. 65

Question ID : 65497835378
Status : Answered
Chosen Option : 2

Q.22 ₹15600 की धनराशि पर 12% वार्षिक दर से 9 माह का चक्रवृद्धि ब्याज ज्ञात कीजिए, जबकि ब्याज की गणना त्रैमासिक चक्रवृद्धि आधार पर की जाती है।

- Ans**
- 1. ₹1,925.75
 - 2. ₹1,446.54
 - 3. ₹1,969.25
 - 4. ₹1,972.40

Question ID : 65497835391
Status : Answered
Chosen Option : 4

Q.23 एक धनराशि, साधारण ब्याज की एक निश्चित वार्षिक दर पर 5 वर्ष में ₹13860 और 8 वर्ष में ₹16776 हो जाती है। ₹20000 की धनराशि पर उसी दर पर $3\frac{2}{5}$ वर्ष का साधारण ब्याज कितना होगा?

- Ans** ✓ 1. 7344
✗ 2. 7434
✗ 3. 6473
✗ 4. 6374

Question ID : 65497835375
Status : Not Answered
Chosen Option : --

Q.24 एक दुकानदार ने ₹15,000 में एक ओवन खरीदा और इसे ₹19,200 में बेच दिया। उसने ₹350 रुपए चुंगी और ₹650 परिवहन शुल्क का भुगतान किया। उसका प्रतिशत लाभ या प्रतिशत हानि ज्ञात कीजिए।

- Ans** ✗ 1. 21% की हानि
✗ 2. 20% की हानि
✓ 3. 20% का लाभ
✗ 4. 21% का लाभ

Question ID : 65497835398
Status : Not Answered
Chosen Option : --

Q.25 एक पूल की लंबाई 15 m, चौड़ाई 10 m और गहराई 3 m है। उसमें 2.5 m की गहराई तक पानी भरा जाता है। पूल में पानी की मात्रा (kilo litres में) कितनी है?

- Ans** ✗ 1. 450
✗ 2. 370.5
✗ 3. 475
✓ 4. 375

Question ID : 65497835389
Status : Answered
Chosen Option : 3

Section : Part D English

Q.1 Select the most appropriate synonym of the given word.

Spurn

- Ans** ✗ 1. Admire
✗ 2. Gossip
✗ 3. Include
✓ 4. Despise

Question ID : 65497835411
Status : Not Answered
Chosen Option : --

Q.2 Select the most appropriate option that can substitute the underlined segment in the given sentence. If there is no need to substitute it, select 'No substitution required'.

Trees clean an air and remove polluted gases.

- Ans**
- 1. clean the air
 - 2. clean a air
 - 3. clean an airs
 - 4. No substitution required

Question ID : 65497835412
Status : Not Answered
Chosen Option : --

Q.3 Select the INCORRECTLY spelt word.

- Ans**
- 1. Overreact
 - 2. Disobediaent
 - 3. Disapprove
 - 4. Proportionate

Question ID : 65497835406
Status : Not Answered
Chosen Option : --

Q.4 The following sentence has been split into four segments.

Identify the segment that contains a grammatical error. Tagore was / a poet / as well / a patriot.

- Ans**
- 1. Tagore was
 - 2. as well
 - 3. a patriot
 - 4. a poet

Question ID : 65497835416
Status : Not Answered
Chosen Option : --

Q.5 Select the most appropriate option to fill in the blank.

The news reporter refused to _____ his source of information.

- Ans**
- 1. disclose
 - 2. distribute
 - 3. distract
 - 4. discover

Question ID : 65497835409
Status : Not Answered
Chosen Option : --

Q.6 Select the most appropriate option to fill in the blank.

In the jungle, he saw a _____ of wolves.

- Ans 1. grove
 2. pack
 3. bunch
 4. herd

Question ID : 65497835400
Status : Not Answered
Chosen Option : --

Q.7 Select the most appropriate ANTONYM of the given word.

Deposit

- Ans 1. Save
 2. Exhaust
 3. Withdraw
 4. Submit

Question ID : 65497835402
Status : Not Answered
Chosen Option : --

Q.8 Select the option that can be used as a one-word substitute for the given group of words.

A large group of people

- Ans 1. Pride
 2. Herd
 3. Horde
 4. Flock

Question ID : 65497835418
Status : Not Answered
Chosen Option : --

Q.9 Select the INCORRECTLY spelt word.

- Ans 1. Collide
 2. Jelous
 3. Sincere
 4. Laughter

Question ID : 65497835408
Status : Not Answered
Chosen Option : --

Q.10 Select the option that can be used as a one-word substitute for the given group of words.

A medical practitioner specialising in children and their diseases

- Ans 1. Physician
 2. Cardiologist
 3. Nephrologist
 4. Paediatrician

Question ID : 65497835399
Status : Not Answered
Chosen Option : --

Q.11 Select the most appropriate meaning of the given idiom.

Pass the baton

- Ans 1. share a reward with someone
 2. take part in a relay race
 3. shift responsibility to others
 4. pass on belongings to the heirs

Question ID : 65497835407
Status : Not Answered
Chosen Option : --

Q.12 Select the option that can be used as a one-word substitute for the given group of words.

Person who sells and arranges cut flowers

- Ans 1. Horticulturist
 2. Florist
 3. Decorator
 4. Gardener

Question ID : 65497835405
Status : Not Answered
Chosen Option : --

Q.13 Select the most appropriate option that can substitute the underlined word in the given sentence.

After graduation, he found a transaction job as a technical expert in regional office.

- Ans 1. rickety
 2. stalwart
 3. auspicious
 4. stable

Question ID : 65497835401
Status : Not Answered
Chosen Option : --

Q.14 The following sentence has been split into four segments. Identify the segment that contains a grammatical error.

The children / were warned / to keep away / for the edge of the cliff.

- Ans 1. for the edge of the cliff
 2. were warned
 3. to keep away
 4. The children

Question ID : 65497835410
Status : Not Answered
Chosen Option : --

Q.15 Select the most appropriate option to fill in the blank.

They were _____ of the consequences of their decision.

- Ans 1. aware
 2. awake
 3. alert
 4. alive

Question ID : 65497835415
Status : Not Answered
Chosen Option : --

Q.16 Select the most appropriate ANTONYM of the given word.

Sparse

- Ans 1. Dense
 2. Thin
 3. Extra
 4. Clear

Question ID : 65497835404
Status : Not Answered
Chosen Option : --

Q.17 Select the most appropriate SYNONYM of the given word.

Humble

- Ans 1. Mute
 2. Rude
 3. Loud
 4. Meek

Question ID : 65497835417
Status : Not Answered
Chosen Option : --

Q.18 The following sentence has been split into four segments. Identify the segment that contains a grammatical error.

Banking today, / in a seamless world, / make it possible for you / to access your account from any city.

- Ans 1. in a seamless world
 2. to access your account from any city
 3. Banking today
 4. make it possible for you

Question ID : 65497835403
Status : Not Answered
Chosen Option : --

Q.19 Select the option that will improve the underlined part of the given sentence. In case no improvement is needed, select 'No improvement required'.

He acted in according to my instructions.

- Ans**
- 1. No improvement required
 - 2. spite to
 - 3. accordance with
 - 4. behalf of

Question ID : 65497835414
Status : Not Answered
Chosen Option : --

Q.20 Select the most appropriate meaning of the given idiom.

Keep in touch

- Ans**
- 1. Be sincere
 - 2. Search closely
 - 3. Maintain contact
 - 4. Trust someone

Question ID : 65497835413
Status : Not Answered
Chosen Option : --

Comprehension:

In the following passage, some words have been deleted. Read the passage carefully and select the most appropriate option to fill in each blank.

Once a severe epidemic broke out in Cuttack. Subhas Bose went there with a small (1)_____ to help the poor and sick people. Some people (2)_____ the work done by Subhas and his friends (3)_____ others made fun of them. Haider was one (4)_____ person who always ridiculed them. Once, when Haider fell ill, Subhas (5)_____ looked after him till he recovered.

SubQuestion No : 21

Q.21 Select the most appropriate option to fill in blank no. 1.

- Ans**
- 1. body
 - 2. club
 - 3. gang
 - 4. team

Question ID : 65497835420
Status : Not Answered
Chosen Option : --

Comprehension:

In the following passage, some words have been deleted. Read the passage carefully and select the most appropriate option to fill in each blank.

Once a severe epidemic broke out in Cuttack. Subhas Bose went there with a small (1)_____ to help the poor and sick people. Some people (2)_____ the work done by Subhas and his friends (3)_____ others made fun of them. Haider was one (4)_____ person who always ridiculed them. Once, when Haider fell ill, Subhas (5)_____ looked after him till he recovered.

SubQuestion No : 22

Q.22 Select the most appropriate option to fill in blank no. 2.

- Ans**
- 1. praised
 - 2. obliged
 - 3. enjoyed
 - 4. thanked

Question ID : 65497835421
Status : Not Answered
Chosen Option : --

Comprehension:

In the following passage, some words have been deleted. Read the passage carefully and select the most appropriate option to fill in each blank.

Once a severe epidemic broke out in Cuttack. Subhas Bose went there with a small (1)_____ to help the poor and sick people. Some people (2)_____ the work done by Subhas and his friends (3)_____ others made fun of them. Haider was one (4)_____ person who always ridiculed them. Once, when Haider fell ill, Subhas (5)_____ looked after him till he recovered.

SubQuestion No : 23

Q.23 Select the most appropriate option to fill in blank no. 3.

- Ans**
- 1. unless
 - 2. since
 - 3. as long as
 - 4. while

Question ID : 65497835422
Status : Not Answered
Chosen Option : --

Comprehension:

In the following passage, some words have been deleted. Read the passage carefully and select the most appropriate option to fill in each blank.

Once a severe epidemic broke out in Cuttack. Subhas Bose went there with a small (1)_____ to help the poor and sick people. Some people (2)_____ the work done by Subhas and his friends (3)_____ others made fun of them. Haider was one (4)_____ person who always ridiculed them. Once, when Haider fell ill, Subhas (5)_____ looked after him till he recovered.

SubQuestion No : 24

Q.24 Select the most appropriate option to fill in blank no. 4.

- Ans**
- 1. such
 - 2. that
 - 3. so
 - 4. which

Question ID : 65497835423
Status : Not Answered
Chosen Option : --

Comprehension:

In the following passage, some words have been deleted. Read the passage carefully and select the most appropriate option to fill in each blank.

Once a severe epidemic broke out in Cuttack. Subhas Bose went there with a small (1)_____ to help the poor and sick people. Some people (2)_____ the work done by Subhas and his friends (3)_____ others made fun of them. Haider was one (4)_____ person who always ridiculed them. Once, when Haider fell ill, Subhas (5)_____ looked after him till he recovered.

SubQuestion No : 25

Q.25 Select the most appropriate option to fill in blank no. 5.

- Ans**
- 1. freely
 - 2. smoothly
 - 3. politely
 - 4. gently

Question ID : 65497835424
Status : Not Answered
Chosen Option : --

Section : Part D Hindi

Q.1 दिए गए वाक्य का वह भाग ज्ञात करें जिसमें कोई त्रुटि है। यदि कोई त्रुटि नहीं है, तो 'कोई त्रुटि नहीं है' विकल्प को चुनें।

(1) उसने (2) कपड़े सीने में (3) दक्ष है (4) कोई त्रुटि नहीं है।

- Ans**
- 1. कपड़े सीने में
 - 2. उसने
 - 3. दक्ष है
 - 4. कोई त्रुटि नहीं है।

Question ID : 65497835426
Status : Answered
Chosen Option : 2

Q.2 दिए गए शब्द के समानार्थी शब्द का चयन करें।

पक्षी

- Ans**
- 1. कुक्कू
 - 2. पखेरू
 - 3. विपिन
 - 4. फलक

Question ID : 65497835427
Status : Answered
Chosen Option : 2

Q.3 'रश्मि' किसका पर्यायवाची है?

- Ans**
- 1. स्त्री
 - 2. बिजली
 - 3. किरण
 - 4. नौका

Question ID : 65497835444
Status : Answered
Chosen Option : 3

Q.4 सही वर्तनी वाले शब्द का चयन करें।

- Ans 1. कवयित्री
 2. कवयीत्री
 3. कवयत्री
 4. कवयित्रि

Question ID : 65497835434
Status : Answered
Chosen Option : 1

Q.5 दिए गए वाक्य के किस भाग में त्रुटि है?

मुझे इस आदमी का पता मालुम नहीं है।

- Ans 1. का पता
 2. मालुम नहीं है।
 3. इस आदमी
 4. मुझे

Question ID : 65497835443
Status : Answered
Chosen Option : 1

Q.6 दिए गए विकल्पों में से निम्नलिखित शब्द के विलोम शब्द का चयन कीजिए:

जटिल

- Ans 1. संयुक्त
 2. कठिन
 3. सरल
 4. पेचीदा

Question ID : 65497835430
Status : Answered
Chosen Option : 3

Q.7 दिए गए वाक्यांश के लिए एक शब्द दीजिए।

कम बोलने वाला

- Ans 1. मितभाषी
 2. वाचाल
 3. गंभीर
 4. मृदुभाषी

Question ID : 65497835436
Status : Answered
Chosen Option : 4

Q.8 सही वर्तनी वाले शब्द का चयन करें।

- Ans 1. स्वादिशट
 2. स्वादुष्ट
 3. सवादिष्ठ
 4. स्वादिष्ट

Question ID : 65497835433
Status : Answered
Chosen Option : 4

Q.9 निम्न चार विकल्पों में से, उस विकल्प का चयन करें, जो दिए गए मुहावरे के सही अर्थ को व्यक्त करता है-

गागर में सागर भरना

- Ans
- 1. थोड़े पैसों से बहुत कुछ खरीद लेना
 - 2. छोटे बर्तन में ज़्यादा चीज़ रखना
 - 3. थोड़ी जगह में बहुत सामान जमाना
 - 4. थोड़े में बहुत कुछ कहना

Question ID : 65497835431

Status : Answered

Chosen Option : 4

Q.10 दिए गए वाक्यांश के लिए एक शब्द दीजिए।

जिसकी आशा की गई हो

- Ans
- 1. प्रत्याशित
 - 2. अप्रत्याशित
 - 3. आशातीत
 - 4. आशानुसार

Question ID : 65497835435

Status : Answered

Chosen Option : 3

Q.11 रिक्त स्थान की पूर्ति के लिए सर्वाधिक उपयुक्त शब्द का चयन कीजिए:

सैनिक आतंकवादी के पैरों में _____ डालकर ले गए।

- Ans
- 1. पाज़ेब
 - 2. बेड़ियां
 - 3. घुंघरू
 - 4. हथकड़ियां

Question ID : 65497835437

Status : Answered

Chosen Option : 4

Q.12 दिए गए वाक्य में रेखांकित खंड को प्रतिस्थापित करने के लिए सर्वाधिक उपयुक्त विकल्प का चयन करें।
यदि इसे प्रतिस्थापित करने की आवश्यकता नहीं है, तो विकल्प 'किसी बदलाव की आवश्यकता नहीं है'
का चयन करें।

रवींद्रनाथ जी ने भारत के एक प्रसिद्ध कवि थे।

- Ans
- 1. रवींद्रनाथ जी से
 - 2. रवींद्रनाथ जी को
 - 3. रवींद्रनाथ जी
 - 4. किसी बदलाव की आवश्यकता नहीं है।

Question ID : 65497835429

Status : Answered

Chosen Option : 3

Q.13 'सामान्य' का विलोम शब्द क्या होगा?

- Ans 1. अवशिष्ट
 2. विशिष्ट
 3. वशिष्ट
 4. अभद्र

Question ID : 65497835441
Status : Answered
Chosen Option : 4

Q.14 दिए गए वाक्य में रेखांकित अंश को प्रतिस्थापित करने के लिए सर्वाधिक उपयुक्त विकल्प का चयन करें।

गोलियों की बाढ़ के सामने कोई न टिक सका।

- Ans 1. बौछार
 2. चोट
 3. मार
 4. आहट

Question ID : 65497835438
Status : Answered
Chosen Option : 1

Q.15 दिए गए वाक्य के किस भाग में त्रुटि है?

इसमें समस्त प्राणिमात्र का कल्याण निहित है।

- Ans 1. समस्त प्राणिमात्र
 2. इसमें
 3. का कल्याण
 4. निहित है।

Question ID : 65497835440
Status : Not Answered
Chosen Option : --

Q.16 'सूर्योदय के पहले का समय' वाक्यांश के लिए एक शब्द क्या होगा?

- Ans 1. पूर्वाह्न
 2. उषाकाल
 3. अपराह्न
 4. प्रातःकाल

Question ID : 65497835442
Status : Answered
Chosen Option : 4

Q.17 रिक्त स्थान की पूर्ति करने के लिए सर्वाधिक उपयुक्त विकल्प का चयन करें।

अर्जुन के सामने एक ही _____ था - मछली की आंख।

- Ans 1. ध्येय
 2. मन्तव्य
 3. लक्ष्य
 4. उद्देश्य

Question ID : 65497835439
Status : Answered
Chosen Option : 3

Q.18 दिए गए वाक्य में रेखांकित खंड को प्रतिस्थापित करने के लिए सर्वाधिक उपयुक्त विकल्प का चयन करें। यदि इसे प्रतिस्थापित करने की आवश्यकता नहीं है, तो विकल्प 'किसी बदलाव की आवश्यकता नहीं है' का चयन करें।

मेज पर रखी हुई पुस्तक उसका नहीं है।

- Ans 1. उसकी नहीं है
 2. उसके नहीं है
 3. किसीका नहीं है
 4. किसी बदलाव की आवश्यकता नहीं है।

Question ID : 65497835428
Status : Answered
Chosen Option : 1

Q.19 निम्नलिखित प्रश्न में, दिए गए चार विकल्पों में से, उस विकल्प का चयन करें, जो मुहावरे के सही अर्थ को व्यक्त करता है।

भेड़ बना लेना

- Ans 1. वश में कर लेना
 2. दीवार में चुनना
 3. घोर विपत्ति आना
 4. मन में जगह बना लेना

Question ID : 65497835432
Status : Answered
Chosen Option : 3

Q.20 रिक्त स्थान की पूर्ति करने के लिए सर्वाधिक उपयुक्त शब्द का चयन कीजिए।

उसके पैर में _____ लग गई।

- Ans 1. घुन
 2. ठोकर
 3. काटा
 4. टक्कर

Question ID : 65497835425
Status : Answered
Chosen Option : 3

Comprehension:

अब मनुष्य का सारा (1) _____ शक्ति – संचय, सफलता और जीत पर चला गया है, आज वह जब अपने (2) _____ की ओर चलता है, तब उसे यह देखने की जरूरत (3) _____ नहीं होती कि उसके जूतों के नाल किसकी छाती को (4) _____ रहे हैं। जब तक मनुष्य के भीतर (5) _____ का जोर था, वह अपने को सुखी और दूसरे को दुखी देखकर लज्जित होता था।

निम्न प्रश्नों के उत्तर उपरोक्त गद्यांश के आधार पर दीजिए।

SubQuestion No : 21

Q.21 गद्यांश के रिक्त स्थान (1) के लिए सर्वाधिक उपयुक्त शब्द होगा-

- Ans 1. ध्यान
 2. मन
 3. चिंतन
 4. होश

Question ID : 65497835446
Status : Answered
Chosen Option : 2

Comprehension:

अब मनुष्य का सारा (1)_____ शक्ति – संचय, सफलता और जीत पर चला गया है, आज वह जब अपने (2)_____ की ओर चलता है, तब उसे यह देखने की जरूरत (3)_____ नहीं होती कि उसके जूतों के नाल किसकी छाती को (4)_____ रहे हैं। जब तक मनुष्य के भीतर (5)_____ का जोर था, वह अपने को सुखी और दूसरे को दुखी देखकर लज्जित होता था।

निम्न प्रश्नों के उत्तर उपरोक्त गद्यांश के आधार पर दीजिए।

SubQuestion No : 22

Q.22 गद्यांश के रिक्त स्थान (2) के लिए सर्वाधिक उपयुक्त शब्द होगा-

- Ans** 1. भविष्य
 2. लक्ष्य
 3. साधन
 4. घर

Question ID : 65497835447

Status : Answered

Chosen Option : 2

Comprehension:

अब मनुष्य का सारा (1)_____ शक्ति – संचय, सफलता और जीत पर चला गया है, आज वह जब अपने (2)_____ की ओर चलता है, तब उसे यह देखने की जरूरत (3)_____ नहीं होती कि उसके जूतों के नाल किसकी छाती को (4)_____ रहे हैं। जब तक मनुष्य के भीतर (5)_____ का जोर था, वह अपने को सुखी और दूसरे को दुखी देखकर लज्जित होता था।

निम्न प्रश्नों के उत्तर उपरोक्त गद्यांश के आधार पर दीजिए।

SubQuestion No : 23

Q.23 गद्यांश के रिक्त स्थान (3) के लिए सर्वाधिक उपयुक्त शब्द होगा-

- Ans** 1. अनुभूति
 2. महसूस
 3. एहसास
 4. प्रकट

Question ID : 65497835448

Status : Answered

Chosen Option : 2

Comprehension:

अब मनुष्य का सारा (1)_____ शक्ति – संचय, सफलता और जीत पर चला गया है, आज वह जब अपने (2)_____ की ओर चलता है, तब उसे यह देखने की जरूरत (3)_____ नहीं होती कि उसके जूतों के नाल किसकी छाती को (4)_____ रहे हैं। जब तक मनुष्य के भीतर (5)_____ का जोर था, वह अपने को सुखी और दूसरे को दुखी देखकर लज्जित होता था।

निम्न प्रश्नों के उत्तर उपरोक्त गद्यांश के आधार पर दीजिए।

SubQuestion No : 24

Q.24 गद्यांश के रिक्त स्थान (4) के लिए सर्वाधिक उपयुक्त शब्द होगा-

- Ans** 1. छील
 2. निगल
 3. मसल
 4. जोत

Question ID : 65497835449

Status : Answered

Chosen Option : 2

Comprehension:

अब मनुष्य का सारा (1)_____ शक्ति – संचय, सफलता और जीत पर चला गया है, आज वह जब अपने (2)_____ की ओर चलता है, तब उसे यह देखने की जरूरत (3)_____ नहीं होती कि उसके जूतों के नाल किसकी छाती को (4)_____ रहे हैं। जब तक मनुष्य के भीतर (5)_____ का जोर था, वह अपने को सुखी और दूसरे को दुखी देखकर लज्जित होता था।

निम्न प्रश्नों के उत्तर उपरोक्त गद्यांश के आधार पर दीजिए।

SubQuestion No : 25

Q.25 गद्यांश के रिक्त स्थान (5) के लिए सर्वाधिक उपयुक्त शब्द होगा-

- Ans**
- 1. स्वार्थ
 - 2. बुद्धि
 - 3. प्रतिस्पर्द्धा
 - 4. भावना

Question ID : **65497835450**

Status : **Answered**

Chosen Option : **1**

GovtJobsAlert.In