

Constable GD in CAPFs NIA SSF and Rifleman GD in Assam Rifles Examination 2021

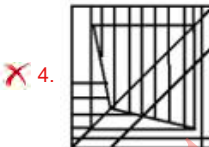
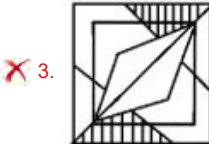
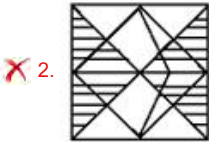
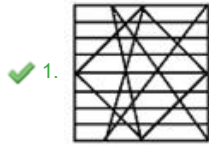
Roll Number	www.GovtJobsAlert.In
Candidate Name	www.GovtJobsAlert.In
Venue Name	ION Digital Zone iDZ Prabandh Nagar
Exam Date	14/12/2021
Exam Time :	4:00 PM - 5:30 PM
Subject	Constable GD 2021

Section : Part A General Intelligence and Reasoning

Q.1 उस विकल्प का चयन करें जिसमें दी गई आकृति अंतर्निहित है, (घुमाने की अनुमति नहीं है)।



Ans



Question ID : 65497834577

Status : Answered

Chosen Option : 1

Q.2 एक निश्चित कूट भाषा में, 'FASHION' को 'NISFAHO' लिखा जाता है। उसी कूट भाषा में 'BLANKET' को किस प्रकार लिखा जाएगा?

Ans ✗ 1. TEKNALB

✓ 2. TKABLNE

✗ 3. ANKBLET

✗ 4. NKETBLA

Question ID : 65497834580

Status : Answered

Chosen Option : 2

Q.3 उस विकल्प का चयन करें, जिसमें दी गई संख्याओं के बीच वही संबंध है, जो दिए गए समूह की संख्याओं के बीच है।

5, 10, 100

Ans 1. 16, 32, 320

2. 12, 36, 160

3. 15, 30, 225

4. 20, 40, 120

Question ID : 65497834584

Status : Answered

Chosen Option : 1

Q.4 उस विकल्प का चयन करें, जिसका तीसरे शब्द से वही संबंध है, जो दूसरे शब्द का पहले शब्द से है।

पालक : पत्तियां :: गाजर : ?

Ans 1. फूल

2. जड़

3. बीज

4. तना

Question ID : 65497834571

Status : Answered

Chosen Option : 2

Q.5 उस विकल्प का चयन करें, जो तीसरे पद से वही संबंध है, जो दूसरे पद का पहले पद से है।

CAMEL : BBLFK :: WORDS : ?

Ans 1. VPQER

2. XNSCT

3. XXSES

4. VVQRE

Question ID : 65497834579

Status : Answered

Chosen Option : 1

Q.6 उस विकल्प का चयन करें, जिसका तीसरी संख्या से वही संबंध है, जो दूसरी संख्या का पहली संख्या से है।

13 : 169 :: 21 : ?

Ans 1. 441

2. 361

3. 256

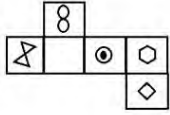
4. 400

Question ID : 65497834574

Status : Answered

Chosen Option : 1

Q.7 उस बॉक्स का चयन करें, जिसे दी गई शीट को उस पर अंकित रेखाओं के अनुसार मोड़कर बनाया जा सकता है।



Ans

- 1.
- 2.
- 3.
- 4.

Question ID : 65497834576

Status : Answered

Chosen Option : 3

Q.8 तीन व्यक्ति A, B और C कुल ₹2,60,000 की राशि के साथ एक व्यवसाय शुरू करते हैं। कुल राशि में उनके निवेशों का अनुपात क्रमशः 15 : 18 : 19 है। वे इस वर्ष कुल निवेश पर 12% का लाभ कमाते हैं। लाभ को निवेशों के समान अनुपात में वितरित किया जाना है। C को कितना लाभ होगा?

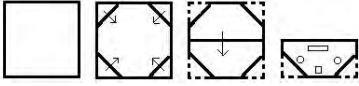
- Ans 1. ₹11,400
2. ₹12,200
3. ₹10,800
4. ₹13,200

Question ID : 65497834585

Status : Answered

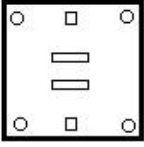
Chosen Option : 1

Q.9 कागज के एक टुकड़े को मोड़ने के क्रम और मुड़े हुए कागज को काटने के तरीके को निम्नलिखित आकृतियों में दर्शाया गया है। खोलने पर, यह कागज कैसा दिखाई देगा?

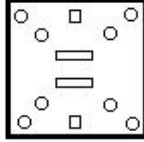


Ans

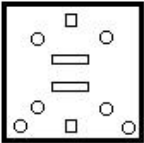
✗ 1.



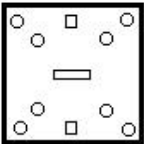
✓ 2.



✗ 3.



✗ 4.



Question ID : 65497834586
Status : Answered
Chosen Option : 2

Q.10 दिए गए विकल्पों में से उस अक्षर-समूह का चयन करें, जो निम्नलिखित श्रृंखला में प्रश्न चिह्न (?) के स्थान पर आ सकता है।

FW, JS, ?, RK, VG

Ans ✗ 1. NP

✓ 2. NO

✗ 3. MP

✗ 4. MO

Question ID : 65497834570
Status : Answered
Chosen Option : 2

Q.11 दिए गए विकल्पों में से उस संख्या का चयन करें, जो निम्नलिखित श्रेणी में प्रश्न चिह्न (?) के स्थान पर आ सकती है।

7, 14, 28, 56, ?

Ans ✓ 1. 112

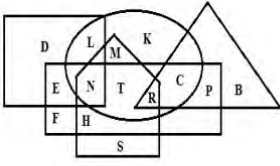
✗ 2. 72

✗ 3. 90

✗ 4. 150

Question ID : 65497834568
Status : Answered
Chosen Option : 1

Q.12 नीचे दी गई आकृति में, वृत्त 'अनुच्छेदों' को निरूपित करता है, त्रिकोण 'काला' को निरूपित करता है, पंचभुज 'पुस्तकों' को निरूपित करता है, वर्ग 'पृष्ठों' को निरूपित करता है, और आयत 'नीला' को निरूपित करता है।



उस अक्षर का चयन करें जो उन नीली पुस्तकों को निरूपित करता है जिनमें पृष्ठ और अनुच्छेद हैं।

- Ans
- 1. M
 - 2. C
 - 3. R
 - 4. N

Question ID : 65497834578
Status : Answered
Chosen Option : 4

Q.13 अक्षरों के उस संयोजन का चयन करें, जिसे क्रमबद्ध रूप से दी गई श्रृंखला के रिक्त स्थानों में रखे जाने पर श्रृंखला पूर्ण हो जाएगी।

_ P G _ _ M P _ _ A _ _ G F A

- Ans
- 1. MAGFMPF
 - 2. MFAGMFP
 - 3. MFAGFMP
 - 4. MFAFGMP

Question ID : 65497834567
Status : Answered
Chosen Option : 3

Q.14 यदि '+' का अर्थ '×' है, '-' का अर्थ '÷' है, '×' का अर्थ '-' है, और '÷' का अर्थ '+' है, तो निम्नलिखित में से कौन सा समीकरण सही है?

- Ans
- 1. $42 \times 28 - 30 \div 48 + 45 = 40$
 - 2. $42 \times 28 - 30 \div 48 + 45 = 48$
 - 3. $42 \times 28 - 30 \div 48 + 45 = 45$
 - 4. $42 \times 28 - 30 \div 48 + 45 = 50$

Question ID : 65497834575
Status : Answered
Chosen Option : 2

Q.15 एक निश्चित कूट भाषा में, RINGS को IRNSG लिखा जाता है और PURSE को UPRES लिखा जाता है। उसी कूट भाषा में STORM को किस प्रकार लिखा जाएगा?

- Ans
- 1. MROTS
 - 2. TSOMR
 - 3. UTPNS
 - 4. ORMGH

Question ID : 65497834582
Status : Answered
Chosen Option : 2

Q.16 एक विशिष्ट कूट भाषा में, 'CASTER' को '32619759' लिखा जाता है। उसी कूट भाषा में 'FRIDGE' को किस प्रकार लिखा जाएगा?

- Ans
- 1. 69922721
 - 2. 61894705
 - 3. 61824722
 - 4. 69923722

Question ID : 65497834563
Status : Answered
Chosen Option : 4

Q.17 दिए गए विकल्पों में से उस आकृति का चयन करें जो निम्नलिखित श्रृंखला में प्रश्न चिह्न (?) के स्थान पर आ सकती है।

	%		% # @ # @ S
	#	?	& S %
S @ #	S @		S & S Q

Ans

- 1.

&	%	#
@	#	S
- 2.

&		S
#		S
S	@	%
- 3.

&	%	
Q	S	@
- 4.

&	%	#
		@
		S

Question ID : 65497834569
Status : Answered
Chosen Option : 4

Q.18 उस सही विकल्प का चयन करें, जो दिए गए शब्दों के उस क्रम को दर्शाता है, जिसमें वे अंग्रेज़ी शब्दकोश में मौजूद होते हैं।

1. Possibility
2. Possession
3. Posthumous
4. Posterity
5. Possessive

- Ans
- 1. 2, 5, 1, 3, 4
 - 2. 3, 5, 1, 4, 2
 - 3. 2, 5, 3, 4, 1
 - 4. 2, 5, 1, 4, 3

Question ID : 65497834566
Status : Answered
Chosen Option : 4

Q.19 सात व्यक्ति, K, L, M, N, O, P और Q, एक पंक्ति में उत्तर की ओर मुंह करके बैठे हैं। K और M एक साथ बैठे हैं। O पूर्वी सिरे पर है। P, Q और M के बीच में है। Q पंक्ति के मध्य बैठा है। N, O और L के बीच में है। K पश्चिमी सिरे पर बैठा है। पूर्व से पांचवें स्थान पर कौन बैठा है?

- Ans
- 1. M
 - 2. N
 - 3. L
 - 4. P

Question ID : 65497834573
Status : Answered
Chosen Option : 4

Q.20 दिए गए विकल्पों में से उस संख्या का चयन करें, जो निम्नलिखित श्रेणी में प्रश्न चिह्न (?) के स्थान पर आ सकती है।

5, 5, 15, 75, ?, 4725

- Ans
- 1. 525
 - 2. 150
 - 3. 325
 - 4. 385

Question ID : 65497834564
Status : Answered
Chosen Option : 1

Q.21 निम्नलिखित चार अक्षर-समूहों में से तीन किसी तरह से संगत हैं और एक असंगत है। उस अक्षर-समूह का चयन करें, जो असंगत है।

- Ans
- 1. BDFHJ
 - 2. QSUWY
 - 3. JLNPR
 - 4. CEHJK

Question ID : 65497834562
Status : Answered
Chosen Option : 4

Q.22 जब दर्पण को दिए गए संयोजन के दाईं ओर रखा जाता है, तो संयोजन के सही दर्पण प्रतिबिंब का चयन करें।

4 7 6 Y f Q

- Ans
- 1. 0 1 Y 9 7 4
 - 2. Q 1 Y 0 7 4
 - 3. Q 1 Y 0 7 4
 - 4. Q 1 Y 0 7 4

Question ID : 65497834565
Status : Answered
Chosen Option : 3

Q.23 दिए गए कथनों और निष्कर्षों को ध्यानपूर्वक पढ़ें। कथनों में दी गई जानकारी को सत्य मानते हुए विचार करें, भले ही वह सामान्यतः ज्ञात तथ्यों से भिन्न प्रतीत होती हो, और तय करें कि दिए गए निष्कर्षों में से कौन से कथनों का तार्किक रूप से पालन करते हैं।

कथन:

कुछ रानियाँ, राजा हैं।
सभी राजा अधिकारी हैं।
कोई अधिकारी आर्किटेक्ट नहीं है।

निष्कर्ष:

I. कुछ अधिकारी रानियाँ हैं।
II. कोई राजा आर्किटेक्ट नहीं है।

- Ans
- 1. केवल निष्कर्ष I पालन करता है।
 - 2. दोनों ही निष्कर्ष पालन करते हैं।
 - 3. या तो निष्कर्ष I या II पालन करता है।
 - 4. केवल निष्कर्ष II पालन करता है।

Question ID : 65497834583
Status : Answered
Chosen Option : 2

Q.24 J और K सहोदर हैं। M, J का मामा है। S, K की नानी है। A, S की इकलौती बेटी है। A का M से क्या संबंध है?

- Ans
- 1. भाई
 - 2. चचेरे/ममेरे/फुफेरे/मौसरे-भाई/बहन
 - 3. बहन
 - 4. भाभी/साली

Question ID : 65497834581
Status : Answered
Chosen Option : 3

Q.25 एक पंक्ति में, मनु बाई ओर से 14वें स्थान पर है और सैम दाई ओर से 9वें स्थान पर है। यदि वे आपस में अपने स्थान बदल लेते हैं, तो सैम दाई ओर से 12वें स्थान पर आ जाता है। पंक्ति में उपस्थित व्यक्तियों की कुल संख्या ज्ञात करें।

- Ans
- 1. 25
 - 2. 28
 - 3. 20
 - 4. 30

Question ID : 65497834572
Status : Answered
Chosen Option : 1

Section : Part B General Knowledge and General Awareness

Q.1 _____ का मुख्यालय जिनेवा में स्थित है।

- Ans
- 1. यूनिसेफ (UNICEF)
 - 2. यूनेस्को (UNESCO)
 - 3. अंतर्राष्ट्रीय मुद्रा कोष (IMF)
 - 4. विश्व व्यापार संगठन (WTO)

Question ID : 65497834592
Status : Answered
Chosen Option : 4

Q.2 निम्नलिखित में से कौन सी नदी घाघरा नदी की सहायक नदी है?

- Ans 1. सरयू नदी
 2. गोमती नदी
 3. सोन नदी
 4. कोसी नदी

Question ID : 65497834602
Status : Answered
Chosen Option : 3

Q.3 आर्थिक मामलों की कैबिनेट समिति ने जून 2021 में विपणन अवधि 2021-22 के लिए सभी अनिवार्य खरीफ फसलों के लिए न्यूनतम समर्थन मूल्य (MSP) में वृद्धि की मंजूरी दी है। पिछले वर्ष की तुलना में _____ की MSP में अधिकतम ₹452 प्रति क्विंटल की शुद्ध वृद्धि की अनुशंसा की गई है।

- Ans 1. मक्का
 2. मूंगफली
 3. तिल
 4. कपास

Question ID : 65497834610
Status : Not Answered
Chosen Option : --

Q.4 चर्मकारों की सामाजिक स्थिति में सुधार हेतु मध्य भारत में सतनामी आंदोलन किसने शुरू किया था?

- Ans 1. श्री नारायण
 2. हरिदास ठाकुर
 3. बालकदास
 4. घासीदास

Question ID : 65497834605
Status : Not Answered
Chosen Option : --

Q.5 अक्टूबर 2019 में, इंडियन नेशनल सेंटर फॉर ओशन इंफॉर्मेशन सर्विसेज (INCOIS) और एयरपोर्ट अथॉरिटी ऑफ इंडिया (AAI) द्वारा लॉन्च की गई कौन सी उपग्रह-आधारित प्रणाली, गहरे समुद्री क्षेत्र में जाने वाले मछुआरों को भावी आपदाओं से सचेत करेगा?

- Ans 1. GPS
 2. GNSS
 3. SBAS
 4. GEMINI

Question ID : 65497834604
Status : Not Answered
Chosen Option : --

Q.6 निम्नलिखित में से किसने अक्टूबर, 2020 में फ्रेंच ओपन टेनिस टूर्नामेंट जीता और रोजर फेडरर के 20 ग्रैंड स्लैम खिताब विजेता के सर्वकालिक रिकॉर्ड की बराबरी की?

- Ans 1. नोवाक जोकोविच
 2. एंडी मुरे
 3. डोमिनिक थिएम
 4. राफेल नडाल

Question ID : 65497834591
Status : Answered
Chosen Option : 1

Q.7 अक्टूबर 2020 में, _____, राज्य के प्रत्येक ग्रामीण परिवार को 100% संचालित घरेलू नल-जल कनेक्शन प्रदान करके देश का पहला 'हर घर जल' राज्य बन गया।

- Ans
- 1. आंध्र प्रदेश
 - 2. पंजाब
 - 3. गोवा
 - 4. बिहार

Question ID : 65497834595
Status : Answered
Chosen Option : 3

Q.8 इनमें से किस भारतीय लेखक को अंतर्राष्ट्रीय डबलिन साहित्य पुरस्कार 2020 के लिए शॉर्टलिस्ट किया गया था?

- Ans
- 1. अनुराधा रॉय
 - 2. अनीता नायर
 - 3. शशि देशपांडे
 - 4. चित्रा बैनर्जी दिवाकरूणी

Question ID : 65497834589
Status : Not Answered
Chosen Option : --

Q.9 अंतर्राष्ट्रीय क्रिकेट परिषद (ICC) द्वारा नवंबर 2020 में एक नई अंक प्रणाली (Point System) जारी किए जाने के पश्चात, टीम इंडिया विश्व टेस्ट चैम्पियनशिप स्टेडिंग में _____ स्थान पर रही।

- Ans
- 1. तीसरे
 - 2. पहले
 - 3. चौथे
 - 4. दूसरे

Question ID : 65497834609
Status : Answered
Chosen Option : 4

Q.10 निम्नलिखित में से कौन सा, 16 महाजनपदों में से एक नहीं था?

- Ans
- 1. कुरु
 - 2. कामरूप
 - 3. कोशल
 - 4. अंग

Question ID : 65497834594
Status : Answered
Chosen Option : 2

Q.11 'रिचर्ड डॉकिंस पुरस्कार 2020' ('Richard Dawkins Award 2020') से सम्मानित होने वाले प्रथम भारतीय कौन बने?

- Ans
- 1. आमिर खान
 - 2. शाहरुख खान
 - 3. अनुराग कश्यप
 - 4. जावेद अख्तर

Question ID : 65497834599
Status : Answered
Chosen Option : 4

Q.12 माउंट सिनिओल्लु भारत के किस राज्य में स्थित है?

- Ans
- 1. आंध्र प्रदेश
 - 2. नागालैंड
 - 3. सिक्किम
 - 4. हिमाचल प्रदेश

Question ID : 65497834588
Status : Answered
Chosen Option : 3

Q.13 मुद्रा नोटों के भंडारण, प्राप्ति और प्रेषण के लिए, भारतीय रिज़र्व बैंक 2020 में अपना पहला स्वचालित बैंक प्रसंस्करण केंद्र कहां स्थापित करेगा?

- Ans
- 1. अहमदाबाद
 - 2. मुंबई
 - 3. बेंगलुरु
 - 4. जयपुर

Question ID : 65497834603
Status : Not Answered
Chosen Option : --

Q.14 निम्नलिखित में से कौन-सा राष्ट्र, 2023 के हिंद महासागर द्वीप खेलों की मेजबानी करेगा?

- Ans
- 1. मेडागास्कर
 - 2. मॉरीशस
 - 3. मालदीव
 - 4. सेशेल्स

Question ID : 65497834590
Status : Answered
Chosen Option : 1

Q.15 इनमें से किसने 1 अक्टूबर 2020 को भारतीय दूरसंचार विनियामक प्राधिकरण (TRAI) के अध्यक्ष पद का पदभार ग्रहण किया?

- Ans
- 1. राहुल खुल्लर
 - 2. प्रदीप बैजल
 - 3. पी.डी. वाघेला
 - 4. आर.एस. शर्मा

Question ID : 65497834607
Status : Answered
Chosen Option : 3

Q.16 नवंबर 2020 तक प्राप्त जानकारी के अनुसार, भारत में एशियाई शेर, वन्यजीव संरक्षण अधिनियम (1972) की अनुसूची _____ के अंतर्गत संरक्षित हैं।

- Ans
- 1. III
 - 2. IV
 - 3. II
 - 4. I

Question ID : 65497834593
Status : Answered
Chosen Option : 1

Q.17 निम्नलिखित में से कौन सा एक विषाणु-जनित रोग का उदाहरण नहीं है?

- Ans
- 1. रोज़िओला
 - 2. एड्स (AIDS)
 - 3. इबोला
 - 4. प्लेग

Question ID : 65497834598
Status : Answered
Chosen Option : 4

Q.18 अश्वघोष निम्न में से किस राजा के दरबारी कवि थे?

- Ans
- 1. हर्षवर्धन
 - 2. अशोक
 - 3. चंद्रगुप्त मौर्य
 - 4. कनिष्क

Question ID : 65497834611
Status : Answered
Chosen Option : 4

Q.19 निम्न में से कौन सा बांध कावेरी नदी पर नहीं बना है?

- Ans
- 1. मैथन
 - 2. मेट्टूर
 - 3. कल्लनाइ
 - 4. कृष्ण राज सागर

Question ID : 65497834608
Status : Not Answered
Chosen Option : --

Q.20 भारत के निम्नलिखित में से किस राज्य में, 'ब्लैक होल' स्मारक स्थित है?

- Ans
- 1. पश्चिम बंगाल
 - 2. गुजरात
 - 3. तेलंगाना
 - 4. ओडिशा

Question ID : 65497834587
Status : Answered
Chosen Option : 1

Q.21 निम्नलिखित में से किस नियम की इस रूप में व्याख्या की जा सकती है कि 'प्रत्येक पिंड तब तक अपनी विराम अवस्था में रहता है या एक सरल रेखा में एक समान गति की अवस्था रहता है, जब तक उसे किसी बाह्य बल द्वारा अन्यथा कार्य करने के लिए विवश न किया जाए'।

- Ans
- 1. गति का पहला नियम
 - 2. गति का दूसरा नियम
 - 3. ऊष्मागतिकी का पहला नियम
 - 4. गति का तीसरा नियम

Question ID : 65497834597
Status : Answered
Chosen Option : 1

Q.22 निम्नलिखित में से कौन सा लोक-नृत्य झारखंड राज्य की जनजातियों से संबंधित है?

- Ans
- 1. नाटी नृत्य
 - 2. हट्टरी नृत्य
 - 3. भवई नृत्य
 - 4. मुंडारी नृत्य

Question ID : 65497834596
Status : Answered
Chosen Option : 4

Q.23 भारतीय संविधान की चौथी अनुसूची में इनमें से किससे संबंधित विषयवस्तु निहित है?

- Ans
- 1. राज्यसभा में सीटों का आवंटन
 - 2. शपथ या प्रतिज्ञान के प्रारूप
 - 3. पंचायतों की शक्ति, अधिकार एवं उत्तरदायित्व
 - 4. संविधान द्वारा मान्यता प्राप्त भाषाएं

Question ID : 65497834600
Status : Answered
Chosen Option : 1

Q.24 निम्नलिखित में से किस संस्थान ने 6 से 8 नवंबर 2020 तक भारतीय ज्ञान प्रणालियों पर एक अंतरराष्ट्रीय वेबिनार आयोजित किया था?

- Ans
- 1. आई.आई.टी. (IIT) कानपुर
 - 2. आई.आई.टी. (IIT) खड़गपुर
 - 3. आई.आई.टी. (IIT) दिल्ली
 - 4. आई.आई.टी. (IIT) बॉम्बे

Question ID : 65497834601
Status : Not Answered
Chosen Option : --

Q.25 मूल भारतीय संविधान को हस्तलिखित किसने किया था?

- Ans
- 1. नंदलाल बोस
 - 2. डॉ. सच्चिदानंद सिन्हा
 - 3. व्यौहार राम मनोहर सिन्हा
 - 4. प्रेम बिहारी नारायण रायजादा

Question ID : 65497834606
Status : Answered
Chosen Option : 4

Section : Part C Elementary Mathematics

Q.1 एक राशि 4 दोस्तों X, Y, Z, W के बीच क्रमशः 5 : 2 : 4 : 3 के अनुपात में बांटी गई। यदि Z को W की तुलना में ₹1,000 अधिक प्राप्त हुए, तो Y का हिस्सा ज्ञात करें।

- Ans
- 1. ₹3,000
 - 2. ₹1,000
 - 3. ₹2,000
 - 4. ₹4,000

Question ID : 65497834628
Status : Answered
Chosen Option : 3

Q.2 4 अंकों की वह बड़ी से बड़ी संख्या ज्ञात कीजिए, जो 10, 15 और 18 से विभाज्य है?

- Ans
- 1. 9090
 - 2. 9999
 - 3. 9900
 - 4. 9990

Question ID : 65497834634
Status : Answered
Chosen Option : 4

Q.3 C जितने कार्य को 8 दिन में खत्म कर सकता है, A उतने कार्य को 6 दिन में खत्म कर सकता है। C जितने कार्य को 4 दिन में खत्म कर सकता है, B उतने कार्य को 6 दिन में खत्म कर सकता है। यदि A को एक कार्य को खत्म करने में 54 दिन लगते हैं, तो B को उसी कार्य को खत्म करने में कितना समय लगेगा?

- Ans
- 1. 108 दिन
 - 2. 128 दिन
 - 3. 118 दिन
 - 4. 100 दिन

Question ID : 65497834626
Status : Answered
Chosen Option : 1

Q.4 अनिल ने साधारण ब्याज की एक निश्चित दर पर एक ऋण लिया और 2 वर्ष बाद ब्याज के रूप में ₹12800 का भुगतान किया। उसके मित्र सुमित ने भी समान राशि, समान वार्षिक चक्रवृद्धि ब्याज की दर पर समान अवधि के लिए उधार ली, जहां ब्याज की गणना वार्षिक चक्रवृद्धि आधार पर की जाती है और ब्याज के रूप में अनिल की तुलना में ₹704 अधिक का भुगतान किया। वार्षिक ब्याज की दर कितने प्रतिशत थी?

- Ans
- 1. 12%
 - 2. 10.5%
 - 3. 10%
 - 4. 11%

Question ID : 65497834614
Status : Answered
Chosen Option : 4

Q.5 एक फल विक्रेता के पास कुछ संतरे थे। उसने 30% संतरे बेच दिए फिर भी उसके पास 210 संतरे शेष थे। आरंभ में उसके पास संतरों की संख्या कितनी थी?

- Ans
- 1. 350
 - 2. 150
 - 3. 200
 - 4. 300

Question ID : 65497834623
Status : Answered
Chosen Option : 4

Q.6 दो लड़के एक ही दिशा में क्रमशः 5.5 km/h और 3.5 km/h की चाल से चलना आरंभ करते हैं। कितने समय में वे एक दूसरे से 8.8 km की दूरी पर होंगे?

- Ans
- 1. 4.8 h
 - 2. 4 h
 - 3. 4.2 h
 - 4. 4.4 h

Question ID : 65497834627
Status : Answered
Chosen Option : 4

Q.7 एक व्यापारी अपनी वस्तुओं का सूची मूल्य, उनके क्रय मूल्यों से 26% अधिक रखता है, और प्रत्येक वस्तु पर 15% की छूट देता है। उसका प्रतिशत लाभ ज्ञात कीजिए।

- Ans
- 1. 7.1
 - 2. 26
 - 3. 20.5
 - 4. 11

Question ID : 65497834612
Status : Answered
Chosen Option : 1

Q.8 दो उम्मीदवारों के बीच हुए एक चुनाव में, 8% मत अवैध थे। जीतने वाले उम्मीदवार को कुल वैध मतों के 60% मत प्राप्त हुए और उसने चुनाव में 5888 मतों से जीत हासिल की। कितने मतदाता पंजीकृत थे?

- Ans
- 1. 33260
 - 2. 29500
 - 3. 30000
 - 4. 32000

Question ID : 65497834635
Status : Answered
Chosen Option : 4

Q.9 किसी मूलधन के लिए 10% वार्षिक ब्याज दर पर 2 वर्षों में प्राप्त चक्रवृद्धि ब्याज और साधारण ब्याज का अंतर ₹1,200 है। वह मूलधन ज्ञात करें।

- Ans
- 1. ₹2,00,000
 - 2. ₹1,20,000
 - 3. ₹2,70,000
 - 4. ₹1,50,000

Question ID : 65497834629
Status : Answered
Chosen Option : 2

Q.10 यूसुफ ने ₹5,500 में एक वस्तु खरीदी और इसे 15% के लाभ पर बेच दी। उस धनराशि से, उसने एक अन्य वस्तु खरीदी और इसे 12% के लाभ पर बेच दी। उसका कुल लाभ कितना है?

- Ans
- 1. ₹859
 - 2. ₹1,584
 - 3. ₹825
 - 4. ₹1,485

Question ID : 65497834613
Status : Answered
Chosen Option : 4

Q.11 कोई एयर कंडिशनर एक हॉल को 10 मिनट में ठंडा कर सकता है, जबकि दूसरे ब्रांड का एक एयर कंडिशनर उसी हॉल को 15 मिनट में ठंडा कर सकता है। यदि दोनों एयर कंडिशनर को एक साथ चालू कर दिया जाता है, तो वे उस हॉल को कितने समय में ठंडा कर देंगे?

- Ans
- 1. 18 मिनट
 - 2. 3 मिनट
 - 3. 6 मिनट
 - 4. 12 मिनट

Question ID : 65497834633
Status : Answered
Chosen Option : 3

Q.12 यदि V और S क्रमशः एक घनाभ (जिसकी भुजाएँ a, b, c हैं) के आयतन एवं पूर्ण पृष्ठीय क्षेत्रफल को निरूपित करते हैं, तो निम्नलिखित में से कौन सा सत्य है?

- Ans
- 1. $(1/V) = (2/S) (a + b + c)$
 - 2. $V = (2/S) (1/a + 1/b + 1/c)$
 - 3. $(1/V) = (2/S) (1/a + 1/b + 1/c)$
 - 4. $(1/V) = (S) (1/a + 1/b + 1/c)$

Question ID : 65497834630
Status : Answered
Chosen Option : 3

Q.13 एक वृत्त की परिधि और एक आयत का परिमाण बराबर है। यदि आयत की भुजाएँ 15 cm और 7 cm हैं, तो वृत्त का क्षेत्रफल कितना है?

- Ans
- 1. 145 cm²
 - 2. 154 cm²
 - 3. 156 cm²
 - 4. 144 cm²

Question ID : 65497834618
Status : Answered
Chosen Option : 2

Q.14 यदि एक खिलौने का विक्रय मूल्य, इसके क्रय मूल्य के $\frac{4}{3}$ के बराबर है, तो प्रतिशत लाभ ज्ञात कीजिए।

- Ans
- 1. $\frac{61}{3}\%$
 - 2. $\frac{100}{3}\%$
 - 3. $\frac{1}{3}\%$
 - 4. $\frac{41}{3}\%$

Question ID : 65497834632
Status : Answered
Chosen Option : 2

Q.15 वह छोटी से छोटी संख्या ज्ञात कीजिए, जिसमें 17 जोड़ने पर प्राप्त संख्या, 520 और 936, दोनों से पूर्णतया विभाज्य है।

- Ans
- 1. 4643
 - 2. 6643
 - 3. 4663
 - 4. 4366

Question ID : 65497834619
Status : Answered
Chosen Option : 3

Q.16 ₹4,500 की धनराशि कितनी वार्षिक साधारण ब्याज दर पर 4 वर्ष में ₹5,310 हो जाएगी?

- Ans
- 1. 5.5%
 - 2. 4.0%
 - 3. 4.5%
 - 4. 3.5%

Question ID : 65497834625
Status : Answered
Chosen Option : 3

Q.17 BODMAS नियम में अक्षर B किसके लिए प्रयुक्त होता है?

- Ans
- 1. By (बाई)
 - 2. Bracket (ब्रैकेट)
 - 3. Before (बिफोर)
 - 4. Binomial (बाईनॉमियल)

Question ID : 65497834631
Status : Answered
Chosen Option : 2

Q.18 एक बल्लेबाज अपनी 18वीं पारी में 80 रन का स्कोर बनाता है और इस तरह उसका औसत 4 बढ़ जाता है। 18वीं पारी के बाद उसका औसत कितना हो जाएगा?

- Ans**
- 1. 12
 - 2. 14
 - 3. 10
 - 4. 8

Question ID : 65497834620
Status : Answered
Chosen Option : 1

Q.19 X और Y का औसत वजन 40 kg है। Y और R का औसत वजन 62 kg है तथा X और R का औसत वजन 56 kg है। X का वजन कितना है?

- Ans**
- 1. 34 kg
 - 2. 30 kg
 - 3. 32 kg
 - 4. 44 kg

Question ID : 65497834621
Status : Answered
Chosen Option : 1

Q.20 एक धनराशि A, B, C, D के बीच 5 : 2 : 4 : 3 के अनुपात में वितरित की जानी है। यदि A को D से ₹1,000 अधिक मिलता है, तो B का हिस्सा कितना है?

- Ans**
- 1. ₹1,000
 - 2. ₹1,200
 - 3. ₹500
 - 4. ₹1,600

Question ID : 65497834624
Status : Answered
Chosen Option : 1

Q.21 सिमरन को ₹3200 मूल्य वाले एक ओवन पर 20% की छूट मिलती है। चूंकि वह नकद भुगतान करती है, इसलिए उसे 5% की एक अतिरिक्त छूट भी मिलती है। उसके द्वारा किए आगे भुगतान की राशि ज्ञात कीजिए।

- Ans**
- 1. ₹2,439
 - 2. ₹2,432
 - 3. ₹2,402
 - 4. ₹2,500

Question ID : 65497834622
Status : Answered
Chosen Option : 2

Q.22 तीन धनात्मक संख्याओं का योग 339 है। यदि पहली संख्या और दूसरी संख्या का अनुपात 3 : 7 है, तथा दूसरी संख्या और तीसरी संख्या का अनुपात 5 : 9 है, तो दूसरी संख्या कौन सी है?

- Ans
- 1. 95
 - 2. 105
 - 3. 125
 - 4. 115

Question ID : 65497834617
Status : Answered
Chosen Option : 2

Q.23 एक व्यक्ति बिंदु A से B तक 9 km/h की चाल से गया और बिंदु B से A तक 15 km/h की चाल से वापस आया। व्यक्ति को 'B से A तक जाने में लगे समय' और 'A से B तक जाने में लगे समय' का अनुपात ज्ञात कीजिए।

- Ans
- 1. 2 : 7
 - 2. 7 : 2
 - 3. 5 : 3
 - 4. 3 : 5

Question ID : 65497834616
Status : Answered
Chosen Option : 4

Q.24 व्यंजक $\frac{5 - \left[\frac{2}{6} + \left\{ 2\frac{1}{2} - \left(\frac{1}{2} + \frac{1}{6} - \frac{1}{7} \right) \right\} \right]}{6}$ का मान _____ के बराबर है।

- Ans
- 1. $\frac{19}{54}$
 - 2. $\frac{97}{168}$
 - 3. $\frac{191}{504}$
 - 4. $\frac{13}{56}$

Question ID : 65497834615
Status : Answered
Chosen Option : 3

Q.25 एक आदमी ₹50 प्रति लीटर की दर से दूध खरीदता है और उसमें दूध की मात्रा के एक-तिहाई के बराबर पानी मिलता है। यदि वह इसे ₹60 प्रति लीटर की दर पर बेचता है, तो उसका प्रतिशत लाभ ज्ञात कीजिए।

- Ans
- 1. 40%
 - 2. 60%
 - 3. 30%
 - 4. 20%

Question ID : 65497834636
Status : Answered
Chosen Option : 2

Section : Part D English

Q.1 Select the most appropriate ANTONYM of the given word.

Deny

- Ans 1. Exhaust
 2. Agree
 3. Deflate
 4. Mourn

Question ID : 65497834641
Status : Not Answered
Chosen Option : --

Q.2 The following sentence has been split into four segments. Identify the segment that contains a grammatical error.

Mona is from Paris. / She has live / there all / her life.

- Ans 1. there all
 2. her life
 3. Mona is from Paris
 4. she has live

Question ID : 65497834639
Status : Not Answered
Chosen Option : --

Q.3 Select the INCORRECTLY spelt word.

- Ans 1. Abbrevations
 2. Fluttering
 3. Menace
 4. Notoriety

Question ID : 65497834644
Status : Not Answered
Chosen Option : --

Q.4 Select the most appropriate option to fill in the blank.

I was _____ by the sound of the doorbell.

- Ans 1. enabled
 2. awakened
 3. enhanced
 4. activated

Question ID : 65497834647
Status : Not Answered
Chosen Option : --

Q.5 Select the option that can be used as a one-word substitute for the given group of words.

First show of a film or theatre

- Ans 1. Debris
 2. Premiere
 3. Charade
 4. Easel

Question ID : 65497834643
Status : Not Answered
Chosen Option : --

Q.6 The following sentence has been split into four segments. Identify the segment that contains a grammatical error.

It was cold / and / we still / went swimming.

- Ans** 1. and
 2. we still
 3. went swimming
 4. It was cold

Question ID : 65497834648
Status : Not Answered
Chosen Option : --

Q.7 Select the most appropriate option that can substitute the underlined word in the given sentence.

In this modern world, everyone is associated in making easy money.

- Ans** 1. bothered
 2. interested
 3. accounted
 4. disassociated

Question ID : 65497834640
Status : Not Answered
Chosen Option : --

Q.8 Select the most appropriate synonym of the given word.

Alter

- Ans** 1. Beautify
 2. Transform
 3. Preserve
 4. Retain

Question ID : 65497834653
Status : Not Answered
Chosen Option : --

Q.9 Select the option that can be used as a one-word substitute for the given group of words.

Matter which is against moral values

- Ans** 1. Immortal
 2. Mortal
 3. Amorous
 4. Immoral

Question ID : 65497834642
Status : Not Answered
Chosen Option : --

Q.10 Select the most appropriate meaning of the given idiom.

Get out of hand

- Ans 1. Work hard
 2. Slow down
 3. Lose control
 4. Calm down

Question ID : 65497834655
Status : Not Answered
Chosen Option : --

Q.11 Select the option that can be used as a one-word substitute for the given group of words.

Make a machine active or operative

- Ans 1. Activate
 2. Enthuse
 3. Initiate
 4. Energise

Question ID : 65497834654
Status : Not Answered
Chosen Option : --

Q.12 Select the most appropriate option that can substitute the underlined segment in the given sentence. If there is no need to substitute it, select 'No substitution required'.

People in North India doesn't know much about South Indian culture.

- Ans 1. are not knowing
 2. doesn't knows
 3. No substitution required
 4. don't know

Question ID : 65497834650
Status : Not Answered
Chosen Option : --

Q.13 Select the most appropriate option to fill in the blank.

The little girl walked slowly _____ her burden.

- Ans 1. holding
 2. loading
 3. bearing
 4. storing

Question ID : 65497834656
Status : Not Answered
Chosen Option : --

Q.14 Select the most appropriate option that can substitute the underlined segment in the given sentence. If there is no need to substitute it, select 'No substitution required'.

When news of the concert leaks out, there will be a rush for the ticket.

- Ans**
- 1. the rush for the tickets
 - 2. a rush for tickets
 - 3. No substitution required
 - 4. a rush for a ticket

Question ID : 65497834651
Status : Not Answered
Chosen Option : --

Q.15 The following sentence has been split into four segments. Identify the segment that contains a grammatical error.

When Nancy saw the mess / the burglar was made, / she broke down / in tears.

- Ans**
- 1. she broke down
 - 2. the burglar was made
 - 3. in tears
 - 4. When Nancy saw the mess

Question ID : 65497834652
Status : Not Answered
Chosen Option : --

Q.16 Select the most appropriate meaning of the given idiom.

To get wind of

- Ans**
- 1. To learn something secret
 - 2. To gain something unfairly
 - 3. To enjoy a nice weather
 - 4. To be clear about something

Question ID : 65497834638
Status : Not Answered
Chosen Option : --

Q.17 Select the most appropriate ANTONYM of the given word.

Advance

- Ans**
- 1. Approach
 - 2. Retreat
 - 3. Assemble
 - 4. Progress

Question ID : 65497834645
Status : Not Answered
Chosen Option : --

Q.18 Select the most appropriate synonym of the given word.

Adversity

- Ans** 1. Misfortune
 2. Emergency
 3. Privilege
 4. Fortune

Question ID : 65497834649
Status : Not Answered
Chosen Option : --

Q.19 Select the most appropriate option to fill in the blank.

Suddenly, she jumped up and _____ his arm.

- Ans** 1. occupied
 2. snatched
 3. grabbed
 4. captured

Question ID : 65497834637
Status : Not Answered
Chosen Option : --

Q.20 Select the INCORRECTLY spelt word.

- Ans** 1. Cuisine
 2. Mundane
 3. Beverage
 4. Celastiel

Question ID : 65497834646
Status : Not Answered
Chosen Option : --

Comprehension:

In the following passage, some words have been deleted. Read the passage carefully and select the most appropriate option to fill in each blank.

Naval architects never claim that a ship is unsinkable, but sinking of the passenger-and-car ferry Estonia in the Baltic surely should never (1)_____. It was well designed and carefully (2)_____. It carried the proper number of lifeboats. It had been (3)_____ inspected the day of its fatal voyage. Yet hours (4)_____, the Estonia rolled over and sank in a cold, stormy night. It went down (5)_____ quickly that most of those on board, caught in their dark, flooding cabins, had no chance to save themselves.

SubQuestion No : 21

Q.21 Select the most appropriate option to fill in blank no. 1.

- Ans** 1. has happened
 2. happened
 3. had happened
 4. have happened

Question ID : 65497834658
Status : Not Answered
Chosen Option : --

Comprehension:

In the following passage, some words have been deleted. Read the passage carefully and select the most appropriate option to fill in each blank.

Naval architects never claim that a ship is unsinkable, but sinking of the passenger-and-car ferry Estonia in the Baltic surely should never (1)_____. It was well designed and carefully (2)_____. It carried the proper number of lifeboats. It had been (3)_____ inspected the day of its fatal voyage. Yet hours (4)_____, the Estonia rolled over and sank in a cold, stormy night. It went down (5)_____ quickly that most of those on board, caught in their dark, flooding cabins, had no chance to save themselves.

SubQuestion No : 22

Q.22 Select the most appropriate option to fill in blank no. 2.

- Ans** 1. maintain
 2. maintained
 3. maintaining
 4. to be maintained

Question ID : 65497834659
Status : **Not Answered**
Chosen Option : --

Comprehension:

In the following passage, some words have been deleted. Read the passage carefully and select the most appropriate option to fill in each blank.

Naval architects never claim that a ship is unsinkable, but sinking of the passenger-and-car ferry Estonia in the Baltic surely should never (1)_____. It was well designed and carefully (2)_____. It carried the proper number of lifeboats. It had been (3)_____ inspected the day of its fatal voyage. Yet hours (4)_____, the Estonia rolled over and sank in a cold, stormy night. It went down (5)_____ quickly that most of those on board, caught in their dark, flooding cabins, had no chance to save themselves.

SubQuestion No : 23

Q.23 Select the most appropriate option to fill in blank no. 3.

- Ans** 1. thoroughly
 2. gradually
 3. steadily
 4. immediately

Question ID : 65497834660
Status : **Not Answered**
Chosen Option : --

Comprehension:

In the following passage, some words have been deleted. Read the passage carefully and select the most appropriate option to fill in each blank.

Naval architects never claim that a ship is unsinkable, but sinking of the passenger-and-car ferry Estonia in the Baltic surely should never (1)_____. It was well designed and carefully (2)_____. It carried the proper number of lifeboats. It had been (3)_____ inspected the day of its fatal voyage. Yet hours (4)_____, the Estonia rolled over and sank in a cold, stormy night. It went down (5)_____ quickly that most of those on board, caught in their dark, flooding cabins, had no chance to save themselves.

SubQuestion No : 24

Q.24 Select the most appropriate option to fill in blank no. 4.

- Ans** 1. earlier
 2. before
 3. latter
 4. later

Question ID : 65497834661
Status : **Not Answered**
Chosen Option : --

Comprehension:

In the following passage, some words have been deleted. Read the passage carefully and select the most appropriate option to fill in each blank.

Naval architects never claim that a ship is unsinkable, but sinking of the passenger-and-car ferry Estonia in the Baltic surely should never (1)_____. It was well designed and carefully (2)_____. It carried the proper number of lifeboats. It had been (3)_____ inspected the day of its fatal voyage. Yet hours (4)_____, the Estonia rolled over and sank in a cold, stormy night. It went down (5)_____ quickly that most of those on board, caught in their dark, flooding cabins, had no chance to save themselves.

SubQuestion No : 25

Q.25 Select the most appropriate option to fill in blank no. 5.

- Ans 1. such
 2. as
 3. so
 4. very

Question ID : 65497834662
Status : Not Answered
Chosen Option : --

Section : Part D Hindi

Q.1 दिए गए वाक्य के किस भाग में त्रुटि है?

वस्तुओं की कीमतें बढ़ रही हैं।

- Ans 1. वस्तुओं
 2. बढ़
 3. रही हैं।
 4. की कीमतें

Question ID : 65497834681
Status : Answered
Chosen Option : 1

Q.2 दिए गए वाक्य में रेखांकित अंश को प्रतिस्थापित करने के लिए सर्वाधिक उपयुक्त विकल्प का चयन करें।

लोग बड़ी मात्रा में जमा हो गए।

- Ans 1. संख्या
 2. भीड़
 3. जनसंख्या
 4. ढेर

Question ID : 65497834678
Status : Answered
Chosen Option : 1

Q.3 दिए गए वाक्य में रेखांकित खंड को प्रतिस्थापित करने के लिए सर्वाधिक उपयुक्त विकल्प का चयन करें। यदि इसे प्रतिस्थापित करने की आवश्यकता नहीं है, तो विकल्प 'किसी बदलाव की आवश्यकता नहीं है' का चयन करें।

बजट के ऊपर बहस होगी।

- Ans 1. की बहस होगी।
 2. किसी बदलाव की आवश्यकता नहीं है।
 3. से ऊपर बहस होगी।
 4. पर बहस होगी।

Question ID : 65497834663
Status : Answered
Chosen Option : 4

Q.4 सही वर्तनी वाले शब्द का चयन करें।

- Ans 1. लीजीए
 2. लिजिये
 3. लिजीये
 4. लीजिए

Question ID : 65497834672
Status : Answered
Chosen Option : 4

Q.5 'नींद उड़ जाना' इस मुहावरे का उचित अर्थ कौन सा है?

- Ans 1. जरा भी नींद न आना
 2. नींद उचाट करना
 3. अत्यंत शयन करना
 4. नींद जाती रहना

Question ID : 65497834664
Status : Answered
Chosen Option : 1

Q.6 दिए गए वाक्य का वह भाग ज्ञात करें जिसमें कोई त्रुटि है। यदि कोई त्रुटि नहीं है, तो 'कोई त्रुटि नहीं है' चुनें।

तमाम देश भर (1)/ में जल्दी ही (2)/ बात फैल गई (3)/ कोई त्रुटि नहीं है (4)

- Ans 1. 1
 2. 2
 3. 3
 4. 4

Question ID : 65497834675
Status : Answered
Chosen Option : 2

Q.7 रिक्त स्थान की पूर्ति करने के लिए सर्वाधिक उपयुक्त विकल्प का चयन करें।

अध्यापक को अध्यापन कार्य में _____ होना चाहिए।

- Ans 1. निपुण
 2. प्रवीण
 3. परमवीर
 4. दक्ष

Question ID : 65497834680
Status : Answered
Chosen Option : 1

Q.8 कौन सा शब्द 'केसर' का समानार्थी शब्द नहीं है?

- Ans 1. कदली
 2. कश्मीरज
 3. कुमकुम
 4. जाफरान

Question ID : 65497834666
Status : Answered
Chosen Option : 3

Q.9 दिए गए वाक्यांश के लिए एक शब्द दीजिए।

जिसकी उपमा न हो

- Ans
- 1. उपमाहीन
 - 2. उपमान
 - 3. अनुपम
 - 4. उपमेय

Question ID : 65497834673
Status : Answered
Chosen Option : 3

Q.10 सही वर्तनी वाले शब्द का चयन करें।

- Ans
- 1. वीनति
 - 2. विनती
 - 3. विनति
 - 4. वीनती

Question ID : 65497834671
Status : Answered
Chosen Option : 2

Q.11 रिक्त स्थान की पूर्ति करने के लिए सर्वाधिक उपयुक्त शब्द का चयन करें।

मैं केवल _____ चाहती हूँ।

- Ans
- 1. इतना तक
 - 2. इतना
 - 3. इतना ही
 - 4. इतना भर

Question ID : 65497834674
Status : Answered
Chosen Option : 3

Q.12 निम्नलिखित चार विकल्पों में से उस विकल्प का चयन करें, जो दिए गए मुहावरे के सही अर्थ को व्यक्त करता है।

आंख का काजल

- Ans
- 1. सुंदर
 - 2. अत्यंत प्रिय
 - 3. दर्द देने वाला
 - 4. गहरा रंग

Question ID : 65497834668
Status : Answered
Chosen Option : 2

Q.13 'अम्बु' किसका पर्यायवाची है?

- Ans
- 1. कमल
 - 2. समुद्र
 - 3. जल
 - 4. बादल

Question ID : 65497834682
Status : Answered
Chosen Option : 3

Q.14 दिए गए विकल्पों में से निम्नलिखित शब्द के विलोम शब्द का चयन करें:

उल्लास

- Ans 1. विषाद
 2. उमंग
 3. वैमनस्य
 4. प्रसन्नचित्त

Question ID : 65497834667
Status : Answered
Chosen Option : 1

Q.15 'जो कहा न जा सके' वाक्यांश के लिए एक शब्द दीजिए।

- Ans 1. कथित
 2. अकथित
 3. अकथनीय
 4. अपठनीय

Question ID : 65497834679
Status : Answered
Chosen Option : 3

Q.16 दिए गए वाक्य का वह भाग ज्ञात करें जिसमें कोई त्रुटि है। यदि कोई त्रुटि नहीं है, तो 'कोई त्रुटि नहीं है' चुनें।

स्वतंत्रता के साथ (1)/ देश की निर्धनता का (2)/ अंत हो जाएगा। (3)/ कोई त्रुटि नहीं है (4)

- Ans 1. 2
 2. 1
 3. 3
 4. 4

Question ID : 65497834665
Status : Answered
Chosen Option : 4

Q.17 दिए गए वाक्यांश के लिए एक शब्द दीजिए।

इन्द्रियों से परे

- Ans 1. इन्द्रजीत
 2. अतीन्द्रिय
 3. ऐन्द्रिक
 4. इंद्रदेव

Question ID : 65497834677
Status : Answered
Chosen Option : 2

Q.18 दिए गए वाक्य में रेखांकित खंड को प्रतिस्थापित करने के लिए सर्वाधिक उपयुक्त विकल्प का चयन करें। यदि इसे प्रतिस्थापित करने की आवश्यकता नहीं है, तो विकल्प 'किसी बदलाव की आवश्यकता नहीं है' का चयन करें।

पढ़ने के बहाने से शिल्पा इधर आती है।

- Ans 1. किसी बदलाव की आवश्यकता नहीं है।
 2. के बहाने
 3. के बहाने में
 4. के बहाना से

Question ID : 65497834670
Status : Answered
Chosen Option : 2

Q.19 दिए गए शब्द का विलोम चुनें।

आहत

- Ans 1. अनाहत
 2. हत
 3. क्षत
 4. विक्षत

Question ID : 65497834676
Status : Answered
Chosen Option : 1

Q.20 रिक्त स्थान भरने के लिए सर्वाधिक उपयुक्त शब्द का चयन करें।

वहां की जलवायु मेरे _____ नहीं थी।

- Ans 1. अनुरूप
 2. अनुकूल
 3. अनुसार
 4. अनुमानित

Question ID : 65497834669
Status : Answered
Chosen Option : 2

Comprehension:

दिए गए गद्यांश में कुछ शब्द हटा दिए गए हैं। दिए गए विकल्पों की सहायता से रिक्त स्थानों की पूर्ति करें। प्रत्येक संख्या के लिए सर्वाधिक उपयुक्त विकल्प का चयन करें।

लिपि का (1) _____ रूप चित्रलिपि रहा है। (2) _____ में मानव ने (3) _____ की दीवारों पर तथा अन्य वस्तुओं पर जो (4) _____ चित्र बनाये, उन चित्रों से ही (5) _____ प्रारंभ हुई।

SubQuestion No : 21

Q.21 गद्यांश के रिक्त स्थान (1) के लिए सर्वाधिक उपयुक्त शब्द होगा-

- Ans 1. उत्कृष्ट
 2. प्रारम्भिक
 3. उत्तम
 4. सर्वोच्च

Question ID : 65497834684
Status : Answered
Chosen Option : 2

Comprehension:

दिए गए गद्यांश में कुछ शब्द हटा दिए गए हैं। दिए गए विकल्पों की सहायता से रिक्त स्थानों की पूर्ति करें। प्रत्येक संख्या के लिए सर्वाधिक उपयुक्त विकल्प का चयन करें।

लिपि का (1) _____ रूप चित्रलिपि रहा है। (2) _____ में मानव ने (3) _____ की दीवारों पर तथा अन्य वस्तुओं पर जो (4) _____ चित्र बनाये, उन चित्रों से ही (5) _____ प्रारंभ हुई।

SubQuestion No : 22

Q.22 गद्यांश के रिक्त स्थान (2) के लिए सर्वाधिक उपयुक्त शब्द होगा-

- Ans**
- 1. आधुनिककाल
 - 2. मध्यकाल
 - 3. वर्तमानकाल
 - 4. प्राचीनकाल

Question ID : **65497834685**
Status : **Answered**
Chosen Option : 4

Comprehension:

दिए गए गद्यांश में कुछ शब्द हटा दिए गए हैं। दिए गए विकल्पों की सहायता से रिक्त स्थानों की पूर्ति करें। प्रत्येक संख्या के लिए सर्वाधिक उपयुक्त विकल्प का चयन करें।

लिपि का (1) _____ रूप चित्रलिपि रहा है। (2) _____ में मानव ने (3) _____ की दीवारों पर तथा अन्य वस्तुओं पर जो (4) _____ चित्र बनाये, उन चित्रों से ही (5) _____ प्रारंभ हुई।

SubQuestion No : 23

Q.23 गद्यांश के रिक्त स्थान (3) के लिए सर्वाधिक उपयुक्त शब्द होगा-

- Ans**
- 1. वृक्षों
 - 2. गुफाओं
 - 3. पहाड़ों
 - 4. जंगलों

Question ID : **65497834686**
Status : **Answered**
Chosen Option : 2

Comprehension:

दिए गए गद्यांश में कुछ शब्द हटा दिए गए हैं। दिए गए विकल्पों की सहायता से रिक्त स्थानों की पूर्ति करें। प्रत्येक संख्या के लिए सर्वाधिक उपयुक्त विकल्प का चयन करें।

लिपि का (1) _____ रूप चित्रलिपि रहा है। (2) _____ में मानव ने (3) _____ की दीवारों पर तथा अन्य वस्तुओं पर जो (4) _____ चित्र बनाये, उन चित्रों से ही (5) _____ प्रारंभ हुई।

SubQuestion No : 24

Q.24 गद्यांश के रिक्त स्थान (4) के लिए सर्वाधिक उपयुक्त शब्द होगा-

- Ans**
- 1. टेढ़े-मेढ़े
 - 2. उल्टे-सीधे
 - 3. हल्के-फुल्के
 - 4. ऊबड़-खाबड़

Question ID : **65497834687**
Status : **Answered**
Chosen Option : 2

Comprehension:

दिए गए गद्यांश में कुछ शब्द हटा दिए गए हैं। दिए गए विकल्पों की सहायता से रिक्त स्थानों की पूर्ति करें।
प्रत्येक संख्या के लिए सर्वाधिक उपयुक्त विकल्प का चयन करें।

लिपि का (1) _____ रूप चित्रलिपि रहा है। (2) _____ में मानव ने (3) _____ की दीवारों पर तथा अन्य वस्तुओं पर जो (4) _____ चित्र बनाये, उन चित्रों से ही (5) _____ प्रारंभ हुई।

SubQuestion No : 25

Q.25 गद्यांश के रिक्त स्थान (5) के लिए सर्वाधिक उपयुक्त शब्द होगा-

- Ans**
- 1. चित्र
 - 2. वाक
 - 3. लिपि
 - 4. भाषा

Question ID : **65497834688**

Status : **Answered**

Chosen Option : **3**

GovtJobsAlert.In