

## Constable GD in CAPFs NIA SSF and Rifleman GD in Assam Rifles Examination 2021

Roll Number	<a href="http://www.GovtJobsAlert.In">www.GovtJobsAlert.In</a>
Candidate Name	<a href="http://www.GovtJobsAlert.In">www.GovtJobsAlert.In</a>
Venue Name	iON Digital Zone iDZ 1 Patliputra
Exam Date	07/12/2021
Exam Time :	12:30 PM - 2:00 PM
Subject	Constable GD 2021

### Section : Part A General Intelligence and Reasoning

Q.1 दिए गए विकल्पों में से उस अक्षर-समूह का चयन कीजिए जो निम्न श्रृंखला में प्रश्न चिह्न (?) के स्थान पर आ सकता है।

EFJ, FGK, GHL, HIM, ?

Ans  1. IJM

2. IJN

3. IKN

4. IKM

Question ID : 65497832276

Status : Answered

Chosen Option : 2

Q.2 दिए गए कथनों और निष्कर्षों को ध्यानपूर्वक पढ़ें। यह मानते हुए कि कथनों में दी गई जानकारी सही है, भले ही वह सामान्य रूप से ज्ञात तथ्यों से भिन्न प्रतीत होती हो, निर्धारित करें कि दिए गए निष्कर्षों में से कौन-से निष्कर्ष कथनों का तार्किक रूप से अनुसरण करते हैं।

कथन:

सभी बाघ शेर हैं।

सभी शेर जानवर हैं।

निष्कर्ष:

I. सभी बाघ जानवर हैं।

II. कोई भी बाघ पक्षी नहीं है।

Ans  1. केवल निष्कर्ष II अनुसरण करता है।

2. या तो निष्कर्ष I या निष्कर्ष II अनुसरण करता है।

3. दोनों निष्कर्ष अनुसरण करते हैं।

4. केवल निष्कर्ष I अनुसरण करता है।

Question ID : 65497832281

Status : Answered

Chosen Option : 4

Q.3 'कुरसी' का जो संबंध 'लकड़ी' से है 'कबल' का वही संबंध '\_\_\_\_\_ ' से है।

- Ans
- 1. प्लास्टिक
  - 2. कागज़
  - 3. बिस्तर
  - 4. ऊन

Question ID : 65497832277  
Status : Answered  
Chosen Option : 4

Q.4 उस विकल्प का चयन कीजिए जिसमें निम्न शब्दों का वह क्रम दिया गया है, जिस क्रम में ये शब्द अंग्रेजी शब्दकोश में मौजूद होते हैं।

1. Certain
2. Certify
3. Cerebral
4. Ceramic
5. Ceremony

- Ans
- 1. 4, 3, 2, 5, 1
  - 2. 3, 4, 5, 1, 2
  - 3. 4, 3, 5, 2, 1
  - 4. 4, 3, 5, 1, 2

Question ID : 65497832289  
Status : Answered  
Chosen Option : 4

Q.5 When a number is added to its previous number and another number that is two times its previous number, the sum of these three numbers is 61. Find the number.

- Ans
- 1. 16
  - 2. 14
  - 3. 15
  - 4. 13

Question ID : 65497832283  
Status : Answered  
Chosen Option : 1

Q.6 उस विकल्प का चयन कीजिए, जिसका चौथी संख्या से वही संबंध है, जो पहली संख्या का दूसरी संख्या से है और पांचवी संख्या का छठी संख्या से है।

153 : 12 :: ? : 17 :: 205 : 14

- Ans
- 1. 298
  - 2. 307
  - 3. 290
  - 4. 218

Question ID : 65497832297  
Status : Answered  
Chosen Option : 1

Q.7 चार अक्षर-समूह दिए गए हैं, जिनमें से तीन किसी तरह से एक समान हैं और एक भिन्न है। उस अक्षर-समूह का चयन करें जो भिन्न है।

- Ans
- 1. GCY
  - 2. OKG
  - 3. JFB
  - 4. UQN

Question ID : 65497832285  
Status : Answered  
Chosen Option : 4

Q.8 पांच भिन्न एक पंक्ति में उत्तर दिशा की ओर मुंह करके बैठे हुए हैं। G, I के दाईं ओर बगल में बैठा है। F, H के बाईं ओर और E के दाईं ओर बगल में बैठा है। यदि H और I एक-दूसरे के बगल में बैठे हैं, तो बीच में कौन बैठा है?

- Ans
- 1. F
  - 2. H
  - 3. I
  - 4. E

Question ID : 65497832278  
Status : Answered  
Chosen Option : 2

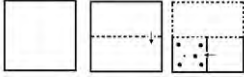
Q.9 दिए गए समीकरण को संतुलित करने के लिए किन दो संख्याओं को आपस में बदला जाना चाहिए?

$$30 + 28 - 34 \div 2 \times 4 = 2$$

- Ans
- 1. 30 और 34
  - 2. 34 और 4
  - 3. 4 और 2
  - 4. 28 और 34


Question ID : 65497832298  
Status : Answered  
Chosen Option : 1

Q.10 निम्नांकित चित्रों में एक कागज को मोड़ने का क्रम और मुड़े हुए कागज को काटने का तरीका दर्शाया गया है। मुड़े हुए कागज को खोलने पर यह कैसा दिखाई देगा?




Ans


1.




2.



3.



4.



Question ID : 65497832284

Status : Answered

Chosen Option : 3

Q.11 आठ मित्र P, Q, R, S, T, U, V और W एक वृत्ताकार मेज के इर्द-गिर्द केंद्र की ओर मुख करके बैठे हैं। V, R के दाईं ओर दूसरे स्थान पर बैठा है। P, S के बाईं ओर चौथे स्थान पर बैठा है। T, U के बाईं ओर तीसरे स्थान पर बैठा है। केवल Q, S और T के बीच में बैठा है। P और T के बीच में कौन बैठा है?

Ans  1. U

2. S

3. V

4. Q

Question ID : 65497832296

Status : Answered

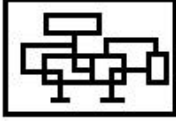
Chosen Option : 3

Q.12 उस विकल्प का चयन करें, जिसमें दी गई आकृति अंतर्निहित है।



Ans

✓ 1.



✗ 2.



✗ 3.



✗ 4.



Question ID : 65497832300  
Status : Answered  
Chosen Option : 1

Q.13 एक निश्चित कूट भाषा में, 'CANDLE' को '52144113' के रूप में कूटबद्ध किया जाता है। उसी कूट भाषा में 'QUIET' को किस रूप में कूटबद्ध किया जाएगा?

Ans

✓ 1. 02591271

✗ 2. 02592117

✗ 3. 20591271

✗ 4. 20592117

Question ID : 65497832286  
Status : Answered  
Chosen Option : 1

Q.14 दी गई आकृति के सही दर्पण प्रतिबिंब का चयन करें, जो दर्पण को दी गई आकृति के दाईं ओर रखने पर बनेगा।

QWERTY

Ans

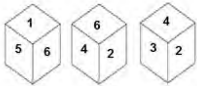
- ✓ 1. Y T R E W Q
- ✗ 2. Q W E R T Y
- ✗ 3. Q W E R T Y
- ✗ 4. Q W E R T Y

Question ID : 65497832288

Status : Answered

Chosen Option : 1

Q.15 एक ही पासे की तीन अलग-अलग स्थितियाँ दर्शाई गई हैं, जिसके छह फलकों पर 1 से 6 तक अंक दिए गए हैं। उस संख्या का चयन करें, जो अंक '3' वाले फलक के विपरीत फलक पर होगी।



Ans

- ✗ 1. 5
- ✓ 2. 6
- ✗ 3. 2
- ✗ 4. 1

Question ID : 65497832299

Status : Answered

Chosen Option : 2

Q.16 विकल्पों में से उस अक्षर समूह का चयन कीजिए जो तीसरे अक्षर-समूह उसी प्रकार संबंधित है, जिस प्रकार दूसरा अक्षर-समूह पहले अक्षर-समूह से संबंधित है।

DGK : URN :: HTP : ?

Ans

- ✗ 1. GUN
- ✗ 2. MKJ
- ✗ 3. JIP
- ✓ 4. QEI

Question ID : 65497832293

Status : Answered

Chosen Option : 4

Q.17 यदि A से Z तक के वर्णमाला अक्षर एक-दूसरे को उल्टे क्रम में दर्शाते हैं, यानी A = Z, B = Y, C = X, D = W, इत्यादि, तो 'CERTIFIED' को कैसे लिखा जाएगा?

- Ans
- 1. XVIGURVRW
  - 2. XVIGRURVW
  - 3. XVIGRUVRW
  - 4. XVIGURRVW

Question ID : 65497832294  
Status : Answered  
Chosen Option : 2

Q.18 Y, B की मां है। B का विवाह C से हुआ है। X, C का पिता है। J, X का इकलौता पुत्र है। K, J की इकलौती सन्तान है। B का J से क्या संबंध है?

- Ans
- 1. भतीजी या भतीजा
  - 2. भाई
  - 3. ससुर
  - 4. जीजा

Question ID : 65497832295  
Status : Answered  
Chosen Option : 1

Q.19 दिए गए विकल्पों में से उस संख्या का चयन करें जो निम्नलिखित श्रृंखला में प्रश्न चिह्न (?) के स्थान पर आ सकती है।

1, 2, 3, 8, 15, ?, 105, 384

- Ans
- 1. 54
  - 2. 68
  - 3. 72
  - 4. 48

Question ID : 65497832287  
Status : Answered  
Chosen Option : 4

Q.20 एक महाविद्यालय में, 15 विद्यार्थी इतिहास और मनोविज्ञान दोनों विषयों का अध्ययन करते हैं। कुल मिलाकर, 22 विद्यार्थी इतिहास का अध्ययन करते हैं और 32 विद्यार्थी मनोविज्ञान पढ़ते हैं। 12 और विद्यार्थी हैं जो केवल भौतिकी का अध्ययन करते हैं। केवल इतिहास और केवल भौतिकी का अध्ययन करने वाले विद्यार्थियों की कुल संख्या कितनी है?

- Ans
- 1. 34
  - 2. 27
  - 3. 17
  - 4. 19

Question ID : 65497832279  
Status : Answered  
Chosen Option : 4

Q.21 अक्षरों के उस संयोजन का चयन करें, जिसे दी गई श्रृंखला के रिक्त स्थानों में क्रम से रखे जाने पर श्रृंखला पूर्ण हो जाएगी।

E \_ CD \_ H J \_ \_ E H \_ \_ D

- Ans
- 1. H, E, C, D, C, J, C
  - 2. H, C, E, J, D, C, E
  - 3. H, J, C, E, C, E, H
  - 4. H, J, E, C, D, J, C

Question ID : 65497832290

Status : Answered

Chosen Option : 4

Q.22 दिए गए विकल्पों में से उस आकृति का चयन करें, जो निम्न आकृति श्रृंखला में प्रश्नवाचक चिह्न (?) के स्थान पर आ सकती है।



Ans

- 1.
- 2.
- 3.
- 4.

Question ID : 65497832292

Status : Answered

Chosen Option : 1



Q.23 दिए गए पैटर्न का ध्यानपूर्वक अध्ययन करें और उस संख्या का चयन करें जो इसमें प्रश्न चिह्न (?) के स्थान पर आ सकती है।

12 30 18  
18 45 27  
24 ? 24

- Ans  1. 44  
 2. 24  
 3. 48  
 4. 14

Question ID : 65497832282  
Status : Answered  
Chosen Option : 3

Q.24 एक निश्चित कूट भाषा में, ROSE को QNRD के रूप में लिखा जाता है। उसी कूट भाषा में MIND को किस रूप में लिखा जाएगा?

- Ans  1. HLMC  
 2. MCHL  
 3. MCLH  
 4. LHMC

Question ID : 65497832280  
Status : Answered  
Chosen Option : 4

Q.25 दिए गए विकल्पों में से उस संख्या का चयन करें, जो निम्नलिखित श्रृंखला में प्रश्नवाचक चिह्न (?) के स्थान पर आ सकती है।

70, 66, 58, 46, 30, ?

- Ans  1. 10  
 2. 16  
 3. 8  
 4. 12

Question ID : 65497832291  
Status : Answered  
Chosen Option : 1

Section : Part B General Knowledge and General Awareness

Q.1 पंचायत का सदस्य बनने के लिए निम्नलिखित में से कितनी न्यूनतम आयु (संविधान के अनुसार निर्धारित) आवश्यक है?

- Ans  1. 36 वर्ष  
 2. 21 वर्ष  
 3. 18 वर्ष  
 4. 28 वर्ष

Question ID : 65497832303  
Status : Answered  
Chosen Option : 3

Q.2 इंदिरा गांधी मेमोरियल ट्यूलिप गार्डन, जो एशिया का सबसे बड़ा ट्यूलिप गार्डन है, कहाँ स्थित है?

- Ans
- 1. देहरादून
  - 2. धर्मशाला
  - 3. श्रीनगर
  - 4. शिमला

Question ID : 65497832308  
Status : Answered  
Chosen Option : 1

Q.3 2020 में अपने स्वतंत्रता दिवस के भाषण के दौरान भारत के प्रधान मंत्री ने निम्नलिखित में से किस अभियान की घोषणा की थी?

- Ans
- 1. प्रोजेक्ट लेपर्ड
  - 2. प्रोजेक्ट डॉल्फिन
  - 3. प्रोजेक्ट टाइगर
  - 4. प्रोजेक्ट लायन

Question ID : 65497832321  
Status : Not Answered  
Chosen Option : --

Q.4 Stereopsis is a feature associated with the \_\_\_\_\_.

- Ans
- 1. eye
  - 2. nose
  - 3. tongue
  - 4. ear

Question ID : 65497832324  
Status : Answered  
Chosen Option : 1

Q.5 दिसंबर 1947 तक प्राप्त जानकारी के अनुसार, भारत का संविधान लिखने वाली संविधान सभा में \_\_\_\_\_ सदस्य थे।

- Ans
- 1. 230
  - 2. 275
  - 3. 299
  - 4. 245

Question ID : 65497832320  
Status : Answered  
Chosen Option : 3

Q.6 निम्नलिखित में से कौन-सा भारतीय शहर कलमकारी चित्रकला के लिए प्रसिद्ध है?

- Ans
- 1. विशाखापत्तनम
  - 2. गोलकोंडा
  - 3. काकीनाडा
  - 4. मसुलीपत्तनम

Question ID : 65497832314  
Status : Answered  
Chosen Option : 3

Q.7 जुलाई 2021 में, वैदेही डोंगरे को मिस इंडिया यूएसए (Miss India USA) 2021 का ताज पहनाया गया। वे कहाँ की रहने वाली हैं?

- Ans
- 1. विस्कॉन्सिन (Wisconsin)
  - 2. कान्सास (Kansas)
  - 3. मिशिगन (Michigan)
  - 4. नवादा (Nevada)

Question ID : 65497832325  
Status : Not Answered  
Chosen Option : --

Q.8 'व्हाई आई एम अ हिन्दू' नामक पुस्तक के लेखक निम्नलिखित में से कौन हैं?

- Ans
- 1. शशि थरूर
  - 2. विक्रम सेठ
  - 3. मनमोहन सिंह
  - 4. सत्यार्थ नायक

Question ID : 65497832310  
Status : Answered  
Chosen Option : 1

Q.9 निम्नलिखित में से कौन सी पहाड़ियाँ आंध्र प्रदेश में स्थित हैं?

- Ans
- 1. पालकोंडा की पहाड़ियाँ
  - 2. महाबलेश्वर की पहाड़ियाँ
  - 3. अन्नामलाई की पहाड़ियाँ
  - 4. नीलगिरि की पहाड़ियाँ

Question ID : 65497832309  
Status : Answered  
Chosen Option : 1

Q.10 निम्नलिखित में से किस वर्ष ताशकंद में भारतीय कम्युनिस्ट पार्टी (मार्क्सवादी) की स्थापना हुई थी?

- Ans
- 1. 1912
  - 2. 1909
  - 3. 1934
  - 4. 1920

Question ID : 65497832307  
Status : Answered  
Chosen Option : 2

Q.11 निम्नलिखित में से कौन सी नदी, अरब सागर में गिरती है?

- Ans
- 1. कृष्णा
  - 2. कावेरी
  - 3. नर्मदा
  - 4. गोदावरी

Question ID : 65497832302  
Status : Answered  
Chosen Option : 3

Q.12 निम्नलिखित में से क्या श्रीलंका का राष्ट्रीय खेल है?

- Ans
- 1. क्रिकेट
  - 2. तैराकी
  - 3. वॉलीबॉल
  - 4. फुटबॉल

Question ID : 65497832305  
Status : Answered  
Chosen Option : 3

Q.13 17 नवंबर 2020 को आयोजित हुए, 12वें ब्रिक्स (BRICS) (ब्राजील, रूस, भारत, चीन, और दक्षिण अफ्रीका) सम्मेलन की थीम निम्नलिखित में से क्या थी?

- Ans
- 1. वैश्विक विज्ञान, साझा स्वास्थ्य एवं नवप्रवर्तक समाधानों के लिए ब्रिक्स (BRICS) की साझेदारी
  - 2. वैश्विक स्थायित्व, साझा स्वास्थ्य एवं नवप्रवर्तक तकनीक के लिए ब्रिक्स (BRICS) की साझेदारी
  - 3. वैश्विक सुरक्षा, साझा नियति एवं नवप्रवर्तक विचारों के लिए ब्रिक्स (BRICS) की साझेदारी
  - 4. वैश्विक स्थिरता, साझा सुरक्षा एवं नवप्रवर्तक वृद्धि के लिए ब्रिक्स (BRICS) की साझेदारी

Question ID : 65497832304  
Status : Not Answered  
Chosen Option : --

Q.14 निम्नलिखित में से कौन सा खेल 'यू थान्ट कप' ('U Thant Cup') से संबंधित है?

- Ans
- 1. टेबल टेनिस
  - 2. लॉन टेनिस
  - 3. घुड़दौड़
  - 4. हॉकी

Question ID : 65497832311  
Status : Marked For Review  
Chosen Option : 3

Q.15 जनरल इंश्योरेंस कॉर्पोरेशन ऑफ इंडिया किस वर्ष कंपनी के रूप में निगमित हुई थी?

- Ans
- 1. 1972
  - 2. 1965
  - 3. 1988
  - 4. 1981

Question ID : 65497832301  
Status : Not Answered  
Chosen Option : --

Q.16 1722 में आगरा की सूबेदारी निम्नलिखित में से किस व्यक्ति को दी गई थी?

- Ans
- 1. सवाई राजा जगत सिंह
  - 2. जहांदार शाह
  - 3. शाहजहां
  - 4. सवाई राजा जय सिंह

Question ID : 65497832318  
Status : Not Answered  
Chosen Option : --

Q.17 निम्नलिखित व्यक्तित्वों में से कौन 1870 में भारतीय लोक सेवा के पहले भारतीय सदस्य थे?

- Ans
- 1. निबरन चंद्र मुखर्जी
  - 2. पिंगली वेंकैया
  - 3. बिपिन चंद्र पाल
  - 4. सत्येंद्रनाथ टैगोर

Question ID : 65497832319  
Status : Not Answered  
Chosen Option : --

Q.18 कृषि उत्पादों के परिवहन के लिए 'कृषि उड़ान योजना' का शुभारंभ वर्ष \_\_\_\_\_ के बजट में घोषित किया गया था।

- Ans
- 1. 2019
  - 2. 2017
  - 3. 2018
  - 4. 2020

Question ID : 65497832317  
Status : Answered  
Chosen Option : 4

Q.19 निम्नलिखित में से किस टीम ने पांच बार इंडियन प्रीमियर लीग का खिताब जीता है?

- Ans
- 1. सनराइजर्स हैदराबाद
  - 2. मुंबई इंडियंस
  - 3. कोलकाता नाइट राइडर्स
  - 4. चेन्नई सुपर किंग्स

Question ID : 65497832315  
Status : Answered  
Chosen Option : 2

Q.20 राजमाता विजया राजे सिंधिया की जन्म शताब्दी मनाने के लिए, भारत के प्रधानमंत्री ने कब ₹100 का सिक्का जारी किया?

- Ans
- 1. 10 अक्टूबर, 2020
  - 2. 14 अक्टूबर, 2020
  - 3. 12 अक्टूबर, 2020
  - 4. 16 अक्टूबर, 2020

Question ID : 65497832316  
Status : Not Answered  
Chosen Option : --

Q.21 केंद्र सरकार द्वारा शुरू किए गए राष्ट्रीय स्वच्छ वायु कार्यक्रम (NCAP) के द्वारा, सांद्रता की तुलना के लिए 2017 को आधार वर्ष मानते हुए, 2024 तक कणमय द्रव्य सांद्रण (Particulate Matter concentrations) में \_\_\_\_\_ की कमी प्राप्त करना अपेक्षित है।

- Ans
- 1. 40% से 50%
  - 2. 75% से 85%
  - 3. 20% से 30%
  - 4. 5% से 15%

Question ID : 65497832323  
Status : Not Answered  
Chosen Option : --

Q.22 Which of the following female mosquitoes acts as a carrier of dengue virus?

- Ans
- 1. Mansonides
  - 2. Aedes
  - 3. Anopheles
  - 4. Culex

Question ID : 65497832312  
Status : Answered  
Chosen Option : 2

Q.23 छत्तीसगढ़ पर वर्षा जल संचयन को अनिवार्य बनाने वाला भारत का पहला और एकमात्र राज्य निम्नलिखित में से कौन सा है?

- Ans
- 1. मेघालय
  - 2. आंध्र प्रदेश
  - 3. मिजोरम
  - 4. तमिलनाडु

Question ID : 65497832313  
Status : Answered  
Chosen Option : 1

Q.24 निम्नलिखित में से किसे नवंबर 2020 में एच.डी.एफ.सी. (HDFC) म्यूचुअल फंड के प्रबंध निदेशक (MD) और मुख्य कार्यकारी अधिकारी (CEO) के रूप में नियुक्त किया गया था?

- Ans
- 1. राजीव कुमार
  - 2. वी.के. यादव
  - 3. नवनीत मुनोत
  - 4. टी.एन. मनोहरन

Question ID : 65497832306  
Status : Answered  
Chosen Option : 4

Q.25 पंडित सारंगदेव कृत 'संगीत रत्नाकार' भारतीय शास्त्रीय संगीत से संबंधित ग्रंथ है। इसे किस शताब्दी में लिखा गया था?

- Ans
- 1. 15वीं
  - 2. 11वीं
  - 3. 17वीं
  - 4. 13वीं

Question ID : 65497832322  
Status : Not Answered  
Chosen Option : --

Section : Part C Elementary Mathematics

Q.1 ₹40,000 की राशि पर 2 वर्षों में मिले चक्रवृद्धि ब्याज और साधारण ब्याज का अंतर ₹324 है। वार्षिक ब्याज दर क्या थी?

- Ans
- 1. 12%
  - 2. 7%
  - 3. 9%
  - 4. 8%

Question ID : 65497832332  
Status : Answered  
Chosen Option : 3

Q.2 एक सेल्समैन ने एक वस्तु को 24% लाभ पर बेचा। यदि उसने इसे 12% कम में खरीदा होता और इसे ₹69 कम में बेचता, तो उसे 20% का लाभ होता। वस्तु का क्रय मूल्य ज्ञात करें।

- Ans
- 1. ₹850
  - 2. ₹900
  - 3. ₹425
  - 4. ₹375

Question ID : 65497832340  
Status : Answered  
Chosen Option : 4

Q.3  $3 \times 8 \div 4$  of  $6 - 6 \div 4 \times (13 - 15) + 4 - 2 \times 9 \div 6 \times 6$  का मान कितना होगा?

Ans  1. -10

2.  $8\frac{1}{2}$

3.  $7\frac{1}{2}$

4. -16

Question ID : 65497832344

Status : Answered

Chosen Option : 1

Q.4 पाइप A और B एक खाली टंकी को क्रमशः 12 घंटे और 16 घंटे में भर सकते हैं। दोनों पाइपों को एक साथ खोला गया और 3 घंटे बाद पाइप B बंद कर दिया गया। टंकी के बचे भाग को भरने में पाइप A को कितना समय (घंटों में) लगेगा?

Ans  1. 9

2. 7

3.  $6\frac{3}{4}$

4.  $5\frac{1}{4}$

Question ID : 65497832346

Status : Answered

Chosen Option : 3

Q.5 पांच वर्ष पहले, A और B की आयु का अनुपात 5 : 8 था। अब से दस वर्ष बाद, उनकी आयु का अनुपात 8 : 11 होगा। B की वर्तमान आयु (वर्षों में) क्या है?

Ans  1. 40

2. 45

3. 30

4. 35

Question ID : 65497832341

Status : Answered

Chosen Option : 2



Q.6 62 पुस्तकों का क्रय मूल्य, 50 पुस्तकों के विक्रय मूल्य के बराबर है। लाभ प्रतिशत ज्ञात करें।

- Ans
- 1. 24
  - 2. 20
  - 3. 25
  - 4. 30

Question ID : 65497832331  
Status : Answered  
Chosen Option : 1

Q.7 व्यंजक  $1 \div 1 \left\{ \frac{1}{2} + \frac{5}{2} \text{ of } \frac{1}{5} - \left( \frac{1}{4} + \frac{1}{2} + \frac{1}{2} \right) + \frac{1}{2} \times 3 \right\}$  को सरल करने पर क्या परिणाम प्राप्त होगा?

- Ans
- 1.  $\frac{2}{3}$
  - 2. 0
  - 3.  $\frac{1}{2}$
  - 4.  $-\frac{1}{2}$

Question ID : 65497832338  
Status : Answered  
Chosen Option : 1

Q.8 एक शंकु के आधार का व्यास उसकी ऊँचाई का 1.5 गुना है। यदि इसका वक्र पृष्ठीय क्षेत्रफल  $480\pi \text{ cm}^2$  है, तो इसकी तिर्यक ऊँचाई (cm में) ज्ञात करें।

- Ans
- 1.  $10\sqrt{5}$
  - 2.  $10\sqrt{2}$
  - 3.  $20\sqrt{5}$
  - 4.  $20\sqrt{2}$

Question ID : 65497832343  
Status : Answered  
Chosen Option : 4

Q.9 एक वस्तु को 25% लाभ पर बेचा गया। यदि इसका क्रय मूल्य 20% कम हो और इसे उसी विक्रय मूल्य पर बेचा जाए तो लाभ का प्रतिशत कितना होगा?

- Ans
- 1.  $56\frac{1}{4}\%$
  - 2. 45%
  - 3.  $54\frac{3}{4}\%$
  - 4. 36%

Question ID : 65497832345  
Status : Answered  
Chosen Option : 1

**Q.10** मान लीजिए  $x$ , 4 अंकों की ऐसी बड़ी से बड़ी संख्या है, जिसे 12, 15, 16 और 20 से विभाजित करने पर, क्रमशः 9, 12, 13 और 17 शेषफल प्राप्त होते हैं।  $x$  के अंकों का योग ज्ञात कीजिए।

- Ans**
- 1. 27
  - 2. 28
  - 3. 17
  - 4. 13

Question ID : 65497832347

Status : Not Attempted and Marked For Review

Chosen Option : --

**Q.11** जब प्राकृतिक संख्याओं की एक सूची में 25 को सम्मिलित किया जाता है, तो उनके औसत में 4 की वृद्धि हो जाती है। जब इस नई सूची में 7 को सम्मिलित किया जाता है, तो नई सूची की संख्याओं के औसत में  $\frac{1}{3}$  की कमी हो जाती है। मूल सूची में कितनी संख्याएं थी?

- Ans**
- 1. 3
  - 2. 4
  - 3. 5
  - 4. 7

Question ID : 65497832326

Status : Not Answered

Chosen Option : --

**Q.12** A एक काम को 40 दिनों में कर सकता है। वह 10 दिनों तक इस पर काम करता है, और फिर शेष काम को B अकेले 45 दिनों में पूरा करता है। A और B एक साथ मिलकर कितने दिनों में इस काम का 75% भाग पूरा कर लेंगे?

- Ans**
- 1. 16
  - 2. 24
  - 3. 20
  - 4. 18

Question ID : 65497832329

Status : Answered

Chosen Option : 4

**Q.13** यदि चावल के मूल्य में 18% की छूट, एक गृहिणी को ₹1876 में 5 kg अधिक चावल खरीदने में सक्षम बना देती है, तो चावल के प्रति kg मूल्य में हुई लगभग कमी (₹ में) ज्ञात कीजिए।

- Ans**
- 1. 65
  - 2. 70
  - 3. 68
  - 4. 72

Question ID : 65497832327

Status : Answered

Chosen Option : 4

Q.14 ABCD एक ऐसा वर्ग है जिसकी भुजा की लंबाई 30 m है। उस न्यूनतम आकार के वर्ग का क्षेत्रफल कितना होगा जिसे ABCD के अंदर इसकी भुजाओं पर इसके शीर्षों के साथ निर्मित किया जा सकता है?

- Ans
- 1. 550 m<sup>2</sup>
  - 2. 500 m<sup>2</sup>
  - 3. 450 m<sup>2</sup>
  - 4. 400 m<sup>2</sup>

Question ID : 65497832336  
Status : Answered  
Chosen Option : 3

Q.15 दो बर्तनों A और B में अम्ल और जल के अनुपात क्रमशः 3 : 2 और 7 : 3 हैं। A और B के विलयनों को 4 : 3 के अनुपात में मिलाया जाता है। परिणामी विलयन में अम्ल और जल का अनुपात क्या होगा?

- Ans
- 1. 2 : 1
  - 2. 8 : 3
  - 3. 9 : 5
  - 4. 5 : 2

Question ID : 65497832349  
Status : Answered  
Chosen Option : 3

Q.16 6 और 42 का तृतीयानुपाती ज्ञात कीजिए।

- Ans
- 1. 294
  - 2. 284
  - 3. 249
  - 4. 349

Question ID : 65497832335  
Status : Answered  
Chosen Option : 1

Q.17 एक दुकानदार अपनी वस्तुओं पर क्रय मूल्य से 25% अधिक मूल्य अंकित करता है। अंततः वह वस्तुओं को 30% की छूट पर बेचता है। उसका लाभ या हानि प्रतिशत ज्ञात कीजिए?

- Ans
- 1. 12.5% हानि
  - 2. 12% हानि
  - 3. 13.5% लाभ
  - 4. 11.5% लाभ

Question ID : 65497832337  
Status : Answered  
Chosen Option : 1

Q.18 वह बड़ी से बड़ी संख्या जात कीजिए जिससे 52, 68 और 116 को भाग देने पर हर बार समान शेषफल प्राप्त हो।

- Ans
- 1. 16
  - 2. 12
  - 3. 14
  - 4. 18

Question ID : 65497832333  
Status : Answered  
Chosen Option : 1

Q.19 7.5% वार्षिक साधारण ब्याज की दर पर उधार ली गई एक निश्चित धनराशि  $5\frac{1}{2}$  वर्षों में ₹16,950 हो जाती है। समान राशि पर समान दर से  $8\frac{1}{4}$  वर्षों में प्राप्त साधारण ब्याज (₹ में) कितना होगा?

- Ans
- 1. 8,415
  - 2. 7,425
  - 3. 6,806
  - 4. 6,188

Question ID : 65497832350  
Status : Answered  
Chosen Option : 4

Q.20 23 संख्याओं का औसत 45 है। प्रथम 12 संख्याओं का औसत 40.5 और अंतिम 6 संख्याओं का औसत 48.5 है। शेष संख्याओं का औसत क्या होगा?

- Ans
- 1. 51.1
  - 2. 48.8
  - 3. 49.4
  - 4. 51.6

Question ID : 65497832348  
Status : Answered  
Chosen Option : 4

Q.21 एक परीक्षा में उपस्थित होने वाले कुल छात्रों में से 65% लड़के थे। 28% लड़के और 16% लड़कियां अनुत्तीर्ण हुईं और 702 लड़के उत्तीर्ण हुए। कितनी लड़कियां उत्तीर्ण हुईं?

- Ans
- 1. 420
  - 2. 441
  - 3. 440
  - 4. 460

Question ID : 65497832334  
Status : Answered  
Chosen Option : 2

**Q.22** एक स्टेडियम में फैशन शो के दौरान, 2100 सीटों में से  $82\frac{2}{3}\%$  सीटें भरी हुई थीं। यदि शो में प्रत्येक सीट का मूल्य ₹160 है, तो खाली सीटों के कारण शो में हुई कुल हानि (₹ में) कितनी होगी?

- Ans**
- 1. 69720
  - 2. 47960
  - 3. 58240
  - 4. 97610

Question ID : **65497832328**  
Status : **Answered**  
Chosen Option : **3**

**Q.23** एक मोटरबोट धारा की विपरीत दिशा में 48 km की दूरी तय करने में, धारा की दिशा में समान दूरी तय करने में लिए गए समय से एक घंटा अधिक समय लेती है। यदि नदी की धारा की चाल 4 km/h है, तो शांत जल में मोटरबोट की चाल (km/h में) कितनी होगी?

- Ans**
- 1. 10
  - 2. 16
  - 3. 15
  - 4. 20

Question ID : **65497832330**  
Status : **Answered**  
Chosen Option : **4**

**Q.24** दो ट्रेनें A और B एक ही दिशा में क्रमशः 80 km/h और 100 km/h की समान चाल से चल रही हैं। ट्रेन A एक ही स्टेशन से, ट्रेन B से 30 मिनट पहले निकलती है। ट्रेन B, ट्रेन A को कितने समय में पार कर जाएगी?

- Ans**
- 1. 50/3 मिनट
  - 2. 2 घंटे
  - 3. 15 मिनट
  - 4. 12.5 मिनट

Question ID : **65497832339**  
Status : **Answered**  
Chosen Option : **2**

**Q.25** एक निश्चित धनराशि, समान वार्षिक साधारण ब्याज दर पर 4 वर्षों में ₹9,648 और 7 वर्षों में ₹11,484 हो जाती है। धनराशि ज्ञात करें।

- Ans**
- 1. ₹7,200
  - 2. ₹7,800
  - 3. ₹7,000
  - 4. ₹7,500

Question ID : **65497832342**  
Status : **Answered**  
Chosen Option : **1**

Q.1 Select the most appropriate meaning of the given idiom.

Raining cats and dogs

- Ans  1. Cat and dog fight  
 2. Too crowded  
 3. Raining heavily  
 4. Raining lightly

Question ID : 65497832356  
Status : Not Answered  
Chosen Option : --

Q.2 Select the most appropriate option to fill in the blank.

It is a well-known fact that air pollution has a terrible \_\_\_\_\_ on the health of people.

- Ans  1. effect  
 2. shock  
 3. problem  
 4. force

Question ID : 65497832364  
Status : Not Answered  
Chosen Option : --

Q.3 Select the most appropriate option that can substitute the underlined segment in the given sentence. If there is no need to substitute it, select 'No substitution required'.

Many of the apples were rotten.

- Ans  1. was rotten  
 2. No substitution required  
 3. is been rotten  
 4. is rotten

Question ID : 65497832360  
Status : Not Answered  
Chosen Option : --

Q.4 Select the most appropriate ANTONYM of the given word.

Persist

- Ans  1. Discontinue  
 2. Convince  
 3. Enable  
 4. Incline

Question ID : 65497832354  
Status : Not Answered  
Chosen Option : --

**Q.5** Select the most appropriate ANTONYM of the given word.

**Dummy**

- Ans**
- 1. Counterfeit
  - 2. Copy
  - 3. Duplicate
  - 4. Original

Question ID : **65497832361**  
Status : **Not Answered**  
Chosen Option : --

**Q.6** Select the most appropriate option to fill in the blank.

The systems \_\_\_\_\_ on back-up battery when the electricity goes off.

- Ans**
- 1. operate
  - 2. activate
  - 3. drive
  - 4. control

Question ID : **65497832355**  
Status : **Not Answered**  
Chosen Option : --

**Q.7** Select the option that can be used as a one-word substitute for the given group of words.

The sound an elephant makes

- Ans**
- 1. Bray
  - 2. Grunt
  - 3. Low
  - 4. Trumpet

Question ID : **65497832351**  
Status : **Not Answered**  
Chosen Option : --

**Q.8** Select the option that can be used as a one-word substitute for the given group of words.

A person who walks in his/her sleep

- Ans**
- 1. Exorcist
  - 2. Atheist
  - 3. Somnambulist
  - 4. Ventriloquist

Question ID : **65497832362**  
Status : **Not Answered**  
Chosen Option : --

**Q.9** Select the option that will improve the underlined part of the given sentence. In case no improvement is needed, select 'No improvement required'.

He did much mistakes.

- Ans**  1. committed many mistakes  
 2. make many mistakes  
 3. No improvement required  
 4. did many a mistakes

Question ID : 65497832358  
Status : Not Answered  
Chosen Option : --

**Q.10** Select the option that can be used as a one-word substitute for the given group of words.

Shortened form of a word or phrase

- Ans**  1. Precis  
 2. Summary  
 3. Anagram  
 4. Abbreviation

Question ID : 65497832368  
Status : Not Answered  
Chosen Option : --

**Q.11** Select the most appropriate SYNONYM of the given word.

Toil

- Ans**  1. Drive  
 2. Sweat  
 3. Rest  
 4. Climb

Question ID : 65497832367  
Status : Not Answered  
Chosen Option : --

**Q.12** Select the most appropriate synonym of the given word.

Keen

- Ans**  1. Benign  
 2. Eager  
 3. Jovial  
 4. Active

Question ID : 65497832353  
Status : Not Answered  
Chosen Option : --



Q.13 Select the INCORRECTLY spelt word.

- Ans  1. Injury  
 2. Thrust  
 3. Sheild  
 4. Attach

Question ID : 65497832369  
Status : Not Answered  
Chosen Option : --

Q.14 Select the most appropriate meaning of the given idiom.

Between Scylla and Charybdis

- Ans  1. Winning a competition  
 2. Choice between two pleasant alternatives  
 3. Choice between two unpleasant alternatives  
 4. Dividing into equal shares

Question ID : 65497832357  
Status : Not Answered  
Chosen Option : --

Q.15 The following sentence has been split into four segments. Identify the segment that contains a grammatical error.

Water / freeze at / 0 degree / Celsius.

- Ans  1. freeze at  
 2. Water  
 3. Celsius  
 4. 0 degree

Question ID : 65497832352  
Status : Not Answered  
Chosen Option : --

Q.16 The following sentence has been split into four segments. Identify the segment that contains a grammatical error.

I am thinking / your idea will be / really appreciated / by everyone.

- Ans  1. I am thinking  
 2. by everyone  
 3. your idea will be  
 4. really appreciated

Question ID : 65497832366  
Status : Not Answered  
Chosen Option : --

Q.17 Select the most appropriate option to fill in the blank.

The little girl \_\_\_\_\_ a puppy from the street.

- Ans
- 1. preserved
  - 2. transferred
  - 3. passed
  - 4. rescued

Question ID : 65497832370  
Status : Not Answered  
Chosen Option : --

Q.18 Select the INCORRECTLY spelt word.

- Ans
- 1. Imaculate
  - 2. Impediment
  - 3. Immense
  - 4. Immature

Question ID : 65497832363  
Status : Not Answered  
Chosen Option : --

Q.19 Select the most appropriate option that can substitute the underlined segment in the given sentence. If there is no need to substitute it, select 'No substitution required'.

If the air pollutes with small particles, natural or otherwise, the sunset will be more red.

- Ans
- 1. will be polluted with
  - 2. is polluted with
  - 3. No substitution required
  - 4. was polluted with

Question ID : 65497832365  
Status : Not Answered  
Chosen Option : --

Q.20 Parts of the given sentence have been given as options. One of them contains a grammatical error. Select the option that has the error.

The easiest way to make pasta is to be followed Chef Kapoor's instructions on YouTube.

- Ans
- 1. instructions on YouTube
  - 2. to be followed
  - 3. The easiest way
  - 4. make pasta

Question ID : 65497832359  
Status : Not Answered  
Chosen Option : --

**Comprehension:**

In the following passage, some words have been deleted. Read the passage carefully and select the most appropriate option to fill in each blank.

The power of words (1)\_\_\_\_\_ an enduring effect and can be (2)\_\_\_\_\_ by all men and women. Words are not (3)\_\_\_\_\_ for writers or lovers of literature. Every profession is (4)\_\_\_\_\_ by words. It is impossible to (5)\_\_\_\_\_ oneself without using words.

**SubQuestion No : 21**

**Q.21** Select the most appropriate option to fill in blank no. 1.

- Ans  1. are  
 2. has  
 3. is  
 4. have

Question ID : 65497832372  
Status : Not Answered  
Chosen Option : --

**Comprehension:**

In the following passage, some words have been deleted. Read the passage carefully and select the most appropriate option to fill in each blank.

The power of words (1)\_\_\_\_\_ an enduring effect and can be (2)\_\_\_\_\_ by all men and women. Words are not (3)\_\_\_\_\_ for writers or lovers of literature. Every profession is (4)\_\_\_\_\_ by words. It is impossible to (5)\_\_\_\_\_ oneself without using words.

**SubQuestion No : 22**

**Q.22** Select the most appropriate option to fill in blank no. 2.

- Ans  1. pleased  
 2. impressed  
 3. looked  
 4. enjoyed

Question ID : 65497832373  
Status : Not Answered  
Chosen Option : --

**Comprehension:**

In the following passage, some words have been deleted. Read the passage carefully and select the most appropriate option to fill in each blank.

The power of words (1)\_\_\_\_\_ an enduring effect and can be (2)\_\_\_\_\_ by all men and women. Words are not (3)\_\_\_\_\_ for writers or lovers of literature. Every profession is (4)\_\_\_\_\_ by words. It is impossible to (5)\_\_\_\_\_ oneself without using words.

**SubQuestion No : 23**

**Q.23** Select the most appropriate option to fill in blank no. 3.

- Ans  1. hardly  
 2. such  
 3. merely  
 4. same

Question ID : 65497832374  
Status : Not Answered  
Chosen Option : --

**Comprehension:**

In the following passage, some words have been deleted. Read the passage carefully and select the most appropriate option to fill in each blank.

The power of words (1)\_\_\_\_\_ an enduring effect and can be (2)\_\_\_\_\_ by all men and women. Words are not (3)\_\_\_\_\_ for writers or lovers of literature. Every profession is (4)\_\_\_\_\_ by words. It is impossible to (5)\_\_\_\_\_ oneself without using words.

**SubQuestion No : 24**

**Q.24** Select the most appropriate option to fill in blank no. 4.

- Ans**  1. guided  
 2. charged  
 3. managed  
 4. trained

Question ID : **65497832375**  
Status : **Not Answered**  
Chosen Option : --

**Comprehension:**

In the following passage, some words have been deleted. Read the passage carefully and select the most appropriate option to fill in each blank.

The power of words (1)\_\_\_\_\_ an enduring effect and can be (2)\_\_\_\_\_ by all men and women. Words are not (3)\_\_\_\_\_ for writers or lovers of literature. Every profession is (4)\_\_\_\_\_ by words. It is impossible to (5)\_\_\_\_\_ oneself without using words.

**SubQuestion No : 25**

**Q.25** Select the most appropriate option to fill in blank no. 5.

- Ans**  1. impress  
 2. depress  
 3. repress  
 4. express

Question ID : **65497832376**  
Status : **Not Answered**  
Chosen Option : --

Section : **Part D Hindi**

**Q.1** 'सूर्य जिस पर्वत के पीछे निकलता है' वाक्यांश के लिए एक शब्द होगा-

- Ans**  1. दूर्वाचल  
 2. गगनांचल  
 3. उदयाचल  
 4. अस्ताचल

Question ID : **65497832393**  
Status : **Answered**  
Chosen Option : **3**

Q.2 रिक्त स्थान की पूर्ति के लिए सबसे उपयुक्त शब्द का चयन करें।

सफलता के मार्ग में बहुत \_\_\_\_\_ हैं।

- Ans
- 1. संकट
  - 2. मेहनत
  - 3. बाधाएँ
  - 4. छाँव

Question ID : 65497832383  
Status : Answered  
Chosen Option : 3

Q.3 निम्न मुहावरे का अर्थ व्यक्त करने वाले विकल्प का चयन कीजिए।

टस से मस ना होना

- Ans
- 1. तनिक भी प्रभावित न होना
  - 2. शक्ति पर विश्वास करना
  - 3. रुक जाना
  - 4. स्थिर चित्त होना

Question ID : 65497832384  
Status : Answered  
Chosen Option : 1

Q.4 दिए गए वाक्य में रेखांकित खंड को प्रतिस्थापित करने के लिए सबसे उपयुक्त विकल्प का चयन करें।  
यदि इसे प्रतिस्थापित करने की आवश्यकता नहीं है, तो विकल्प 'किसी बदलाव की आवश्यकता नहीं है'  
का चयन करें।

मेरा बेटा बकरी को घुमाया।

- Ans
- 1. मेरे बेटे ने
  - 2. किसी बदलाव की आवश्यकता नहीं है।
  - 3. मेरी बेटा ने
  - 4. मेरा बेटा ने

Question ID : 65497832378  
Status : Answered  
Chosen Option : 4

Q.5 दिए गए शब्द के सर्वाधिक उपयुक्त समानार्थी शब्द का चयन करें -

महीप

- Ans
- 1. सुरेश
  - 2. दिनेश
  - 3. व्योमकेश
  - 4. नरेश

Question ID : 65497832389  
Status : Answered  
Chosen Option : 4

Q.6 दिए गए शब्द का समानार्थी शब्द बताइए-

सरस्वती

- Ans  1. शारदा  
 2. पार्वती  
 3. काली  
 4. चंडी

Question ID : 65497832382  
Status : Answered  
Chosen Option : 1

Q.7 दिये गये वाक्य में रेखांकित अंश को प्रतिस्थापित करने के लिए सबसे उपयुक्त विकल्प का चयन करें।

अधिकतर लोगों का यही विचार है।

- Ans  1. अधिकतम  
 2. अधिक  
 3. अधिकांश  
 4. सर्वाधिक

Question ID : 65497832396  
Status : Answered  
Chosen Option : 3

Q.8 रिक्त स्थान की पूर्ति के लिए सबसे उपयुक्त शब्द का चयन कीजिए।

भौरें \_\_\_\_\_ रहे हैं।

- Ans  1. मचल  
 2. गुनगुना  
 3. दौड़  
 4. मुस्करा

Question ID : 65497832377  
Status : Answered  
Chosen Option : 2

Q.9 रिक्त स्थान की पूर्ति के लिए सबसे उपयुक्त विकल्प का चयन करें।

कवि कविता का \_\_\_\_\_ करता है।

- Ans  1. निर्माण  
 2. सृजन  
 3. व्यापार  
 4. उत्पादन

Question ID : 65497832390  
Status : Answered  
Chosen Option : 2

Q.10 निम्नलिखित प्रश्न में, दिए गए चार विकल्पों में से, उस विकल्प का चयन करें जो मुहावरे का अर्थ व्यक्त करता है।

पहाड़ टूटना

- Ans
- 1. भूकंप होना
  - 2. प्रकृति का प्रकोप होना
  - 3. बहुत भारी कष्ट आ पड़ना
  - 4. डर जाना

Question ID : 65497832386  
Status : Answered  
Chosen Option : 3

Q.11 दिये गये वाक्य के किस भाग में त्रुटि है?

उसने इस बात पर कड़ी आपत्ति प्रकट की।

- Ans
- 1. उसने
  - 2. पर कड़ी
  - 3. आपत्ति प्रकट की।
  - 4. इस बात

Question ID : 65497832391  
Status : Answered  
Chosen Option : 2

Q.12 दिए गए वाक्यांश के लिए एक शब्द दीजिए।

जिसका दमन करना कठिन है

- Ans
- 1. दुर्बोध
  - 2. दृष्टव्य
  - 3. दुर्दम्य
  - 4. दुर्गम

Question ID : 65497832379  
Status : Answered  
Chosen Option : 4

Q.13 दिए गए वाक्य का वह भाग ज्ञात करें जिसमें कोई त्रुटि है। यदि कोई त्रुटि नहीं है, तो 'कोई त्रुटि नहीं है' चुनें।

उन्हें साहित्यिक सेवा (1) का लिए पुरस्कार (2) प्रदान किया गया। (3) कोई त्रुटि नहीं है (4)

- Ans
- 1. 3
  - 2. 1
  - 3. 2
  - 4. 4

Question ID : 65497832381  
Status : Answered  
Chosen Option : 3

Q.14 दिए गए वाक्य का वह भाग ज्ञात करें जिसमें कोई त्रुटि है। यदि कोई त्रुटि नहीं है, तो 'कोई त्रुटि नहीं है' चुनें।

कठिन से कठिन परिस्थितियों का भी हमें हमेशा आत्मविश्वास बनाए रखना चाहिए।

Ans  1. कोई त्रुटि नहीं है।

2. कठिन से कठिन परिस्थितियों का भी

3. बनाए रखना चाहिए।

4. हमें हमेशा आत्मविश्वास

Question ID : 65497832388

Status : Answered

Chosen Option : 2

Q.15 दिए गए वाक्य में रेखांकित खंड को प्रतिस्थापित करने के लिए सबसे उपयुक्त विकल्प का चयन करें। यदि इसे प्रतिस्थापित करने की आवश्यकता नहीं है, तो विकल्प 'किसी बदलाव की आवश्यकता नहीं है' का चयन करें।

साधु ने चूहे पर दया करा और उसे बिल्ली बना दिया।

Ans  1. साधु ने चूहा पर दया करी

2. किसी बदलाव की आवश्यकता नहीं है।

3. साधु ने चूहे पर दया की

4. साधु ने चूहे पर दया किये

Question ID : 65497832380

Status : Answered

Chosen Option : 1

Q.16 'साधारण' का विलोम शब्द होगा-

Ans  1. विशिष्ट

2. संक्षिप्त

3. अवशिष्ट

4. शिष्ट

Question ID : 65497832392

Status : Answered

Chosen Option : 1

Q.17 निम्नलिखित में से शुद्ध वर्तनी वाला शब्द कौन सा है?

Ans  1. पुण्य

2. पूय

3. पूण्य

4. पुय

Question ID : 65497832394

Status : Answered

Chosen Option : 1



Q.18 दिये गये वाक्यांश के लिए एक शब्द दीजिये।

जो दूसरों के अधीन हो

- Ans
- 1. स्वाधीन
  - 2. दास
  - 3. परजीवी
  - 4. पराधीन

Question ID : 65497832387  
Status : Answered  
Chosen Option : 4

Q.19 दिए गए शब्द का विलोम चुनें।

आधुनिक

- Ans
- 1. पुरानी
  - 2. समकालीन
  - 3. तत्कालीन
  - 4. प्राचीन

Question ID : 65497832385  
Status : Answered  
Chosen Option : 3

Q.20 निम्नलिखित में से शुद्ध वर्तनी वाला शब्द कौन सा है?

- Ans
- 1. परिणति
  - 2. परिणती
  - 3. परीणती
  - 4. परीणति

Question ID : 65497832395  
Status : Answered  
Chosen Option : 2

**Comprehension:**

ईर्ष्या का दुःख प्रायः निष्फल हो जाता है। अधिकतर तो जिस बात की ईर्ष्या होती है वह ऐसी बात होती है, जिस पर हमारा (1) \_\_\_\_\_ नहीं होता। जब हममें अपनी ही स्थिति में अनुकूल (2) \_\_\_\_\_ करने की सामर्थ्य नहीं है तब हम दूसरे की (3) \_\_\_\_\_ में कहीं तक परिवर्तन कर सकते हैं? जितनी जानकारी हमें अपनी स्थिति से हो सकती है उतनी (4) \_\_\_\_\_ की स्थिति से नहीं। किसी स्थिति में परिवर्तन करने के लिए उसके अंग-प्रत्यंग का परिचय (5) \_\_\_\_\_ होता है।

निम्न प्रश्नों के उत्तर उपरोक्त गद्यांश के आधार पर दीजिए।

**SubQuestion No : 21**

Q.21 गद्यांश के रिक्त स्थान (1) के लिए सर्वाधिक उपयुक्त शब्द होगा-

- Ans
- 1. वश
  - 2. मोह
  - 3. ध्यान
  - 4. होश

Question ID : 65497832398  
Status : Answered  
Chosen Option : 1

**Comprehension:**

ईर्ष्या का दुःख प्रायः निष्फल हो जाता है। अधिकतर तो जिस बात की ईर्ष्या होती है वह ऐसी बात होती है, जिस पर हमारा (1) \_\_\_\_\_ नहीं होता। जब हममें अपनी ही स्थिति में अनुकूल (2) \_\_\_\_\_ करने की सामर्थ्य नहीं है तब हम दूसरे की (3) \_\_\_\_\_ में कहीं तक परिवर्तन कर सकते हैं? जितनी जानकारी हमें अपनी स्थिति से हो सकती है उतनी (4) \_\_\_\_\_ की स्थिति से नहीं। किसी स्थिति में परिवर्तन करने के लिए उसके अंग-प्रत्यंग का परिचय (5) \_\_\_\_\_ होता है।

निम्न प्रश्नों के उत्तर उपरोक्त गद्यांश के आधार पर दीजिए।

**SubQuestion No : 22**

**Q.22** गद्यांश के रिक्त स्थान (2) के लिए सर्वाधिक उपयुक्त शब्द होगा-

- Ans**
- 1. स्थानांतरण
  - 2. क्रांति
  - 3. विद्रोह
  - 4. परिवर्तन

Question ID : 65497832399

Status : Answered

Chosen Option : 4

**Comprehension:**

ईर्ष्या का दुःख प्रायः निष्फल हो जाता है। अधिकतर तो जिस बात की ईर्ष्या होती है वह ऐसी बात होती है, जिस पर हमारा (1) \_\_\_\_\_ नहीं होता। जब हममें अपनी ही स्थिति में अनुकूल (2) \_\_\_\_\_ करने की सामर्थ्य नहीं है तब हम दूसरे की (3) \_\_\_\_\_ में कहीं तक परिवर्तन कर सकते हैं? जितनी जानकारी हमें अपनी स्थिति से हो सकती है उतनी (4) \_\_\_\_\_ की स्थिति से नहीं। किसी स्थिति में परिवर्तन करने के लिए उसके अंग-प्रत्यंग का परिचय (5) \_\_\_\_\_ होता है।

निम्न प्रश्नों के उत्तर उपरोक्त गद्यांश के आधार पर दीजिए।

**SubQuestion No : 23**

**Q.23** गद्यांश के रिक्त स्थान (3) के लिए सर्वाधिक उपयुक्त शब्द होगा-

- Ans**
- 1. दुनिया
  - 2. गृहस्थी
  - 3. स्थिति
  - 4. नियति

Question ID : 65497832400

Status : Answered

Chosen Option : 3

**Comprehension:**

ईर्ष्या का दुःख प्रायः निष्फल हो जाता है। अधिकतर तो जिस बात की ईर्ष्या होती है वह ऐसी बात होती है, जिस पर हमारा (1) \_\_\_\_\_ नहीं होता। जब हममें अपनी ही स्थिति में अनुकूल (2) \_\_\_\_\_ करने की सामर्थ्य नहीं है तब हम दूसरे की (3) \_\_\_\_\_ में कहीं तक परिवर्तन कर सकते हैं? जितनी जानकारी हमें अपनी स्थिति से हो सकती है उतनी (4) \_\_\_\_\_ की स्थिति से नहीं। किसी स्थिति में परिवर्तन करने के लिए उसके अंग-प्रत्यंग का परिचय (5) \_\_\_\_\_ होता है।

निम्न प्रश्नों के उत्तर उपरोक्त गद्यांश के आधार पर दीजिए।

**SubQuestion No : 24**

**Q.24** गद्यांश के रिक्त स्थान (4) के लिए सर्वाधिक उपयुक्त शब्द होगा-

- Ans  1. परिजनों  
 2. दूसरे  
 3. अपनों  
 4. तीसरे

Question ID : 65497832401

Status : Answered

Chosen Option : 2

**Comprehension:**

ईर्ष्या का दुःख प्रायः निष्फल हो जाता है। अधिकतर तो जिस बात की ईर्ष्या होती है वह ऐसी बात होती है, जिस पर हमारा (1) \_\_\_\_\_ नहीं होता। जब हममें अपनी ही स्थिति में अनुकूल (2) \_\_\_\_\_ करने की सामर्थ्य नहीं है तब हम दूसरे की (3) \_\_\_\_\_ में कहीं तक परिवर्तन कर सकते हैं? जितनी जानकारी हमें अपनी स्थिति से हो सकती है उतनी (4) \_\_\_\_\_ की स्थिति से नहीं। किसी स्थिति में परिवर्तन करने के लिए उसके अंग-प्रत्यंग का परिचय (5) \_\_\_\_\_ होता है।

निम्न प्रश्नों के उत्तर उपरोक्त गद्यांश के आधार पर दीजिए।

**SubQuestion No : 25**

**Q.25** गद्यांश के रिक्त स्थान (5) के लिए सर्वाधिक उपयुक्त शब्द होगा-

- Ans  1. समीचीन  
 2. आवश्यक  
 3. प्रासंगिक  
 4. अनावश्यक

Question ID : 65497832402

Status : Answered

Chosen Option : 2