

Constable GD in CAPFs NIA SSF and Rifleman GD in Assam Rifles Examination 2021

Roll Number	www.GovtJobsAlert.In
Candidate Name	www.GovtJobsAlert.In
Venue Name	Metro Network Solutions
Exam Date	08/12/2021
Exam Time :	12:30 PM - 2:00 PM
Subject	Constable GD 2021

Section : Part A General Intelligence and Reasoning

Q.1 दिए गए पैटर्न का ध्यानपूर्वक अध्ययन कीजिए और उस संख्या का चयन कीजिए जो इसमें प्रश्नवाचक चिह्न (?) के स्थान पर आ सकती है।

25 49 144
36 64 196
121 225 ?

Ans 1. 676

2. 346

3. 652

4. 576

Question ID : 65497832668

Status : Answered

Chosen Option : 1

Q.2 दिए गए कथनों और निष्कर्षों को ध्यानपूर्वक पढ़ें। यह मानते हुए कि कथनों में दी गई सूचना सत्य है, भले ही वह सामान्य रूप से ज्ञात तथ्यों से भिन्न प्रतीत होती हो, बताइए कि दिए गए निष्कर्षों में से कौन सा / कौन से निष्कर्ष कथनों का तार्किक रूप से अनुसरण करता है (करते हैं)।

कथन:
सभी कुएं, नहरें हैं।
सभी नहरें, नदियां हैं।

निष्कर्ष:
I) कुछ नहरें, कुएं हैं।
II) कुछ नदियां, कुएं हैं।

Ans 1. निष्कर्ष I और II दोनों अनुसरण करते हैं।

2. न तो निष्कर्ष I और न ही निष्कर्ष II अनुसरण करता है।

3. केवल निष्कर्ष I अनुसरण करता है।

4. केवल निष्कर्ष II अनुसरण करता है।

Question ID : 65497832667

Status : Answered

Chosen Option : 1

Q.3 चार अक्षर-समूह दिए गए हैं, जिनमें से तीन किसी तरह से संगत हैं और एक असंगत है। उस अक्षर-समूह का चयन करें, जो अन्य से असंगत है।

Ans 1. GKOV

2. AFKP

3. KPUZ

4. TYDI

Question ID : 65497832675

Status : Answered

Chosen Option : 1

Q.4 K, R का पुत्र है। V, J के पुत्र की पत्नी है। H, K का पुत्र है। M, J की पुत्री है। K, M का भाई है। H का R से क्या संबंध है?

- Ans
- 1. भतीजा/भांजा
 - 2. पोता
 - 3. नाती
 - 4. पुत्र

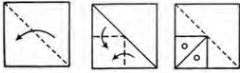
Question ID : 65497832681
Status : Answered
Chosen Option : 3

Q.5 'न्यूमिज़मैटिक्स' का जो संबंध 'सिक्कों' से है, 'ऑरोग्राफी' का वही संबंध ' _____ ' से है।

- Ans
- 1. खोल
 - 2. अंडे
 - 3. पहाड़ों
 - 4. जीवाश्मों

Question ID : 65497832672
Status : Answered
Chosen Option : 3

Q.6 निम्नांकित आकृतियों में एक कागज के टुकड़े को मोड़ने का क्रम और मुड़े हुए कागज को काटने की विधि दर्शाई गई है। यह कागज खोलने पर कैसा दिखेगा?



Ans

- 1.
- 2.
- 3.
- 4.

Question ID : 65497832670
Status : Answered
Chosen Option : 1

Q.7 उस अक्षर संयोजन का चयन करें जिसे दी गई श्रृंखला के रिक्त स्थानों में क्रमिक रूप से रखे जाने पर श्रृंखला पूर्ण हो जाएगी।

_ B I R _ I R B _

- Ans 1. CBH
 2. RBI
 3. TIC
 4. HIG

Question ID : 65497832658
Status : Answered
Chosen Option : 2

Q.8 एक निश्चित कूट भाषा में, 'PHARMACEUTICAL' को 'QGBQNZDDVSJBBK' लिखा जाता है। उसी कूट भाषा में, 'ELECTRONIC' को क्या लिखा जाएगा?

- Ans 1. FKEBUQPMKB
 2. FKFUBPOMIB
 3. FKFBUOPMIB
 4. FKFBUQPMJB

Question ID : 65497832666
Status : Answered
Chosen Option : 4

Q.9 उस विकल्प का चयन कीजिए, जिसका तीसरे पद से वही संबंध है, जो दूसरे पद का पहले पद से है।

SLOWER : SFXPMT :: MEAGRE : ?

- Ans 1. GSHBFO
 2. FSHNFC
 3. FSHBFN
 4. FBHTFN

Question ID : 65497832679
Status : Answered
Chosen Option : 3

Q.10 उस सही विकल्प का चयन करें जो दिए गए शब्दों का वह व्यवस्थित क्रम दर्शाता है जिसमें वे एक अंग्रेजी शब्दकोश में दिखाई देते हैं।

1. School
2. Stress
3. Source
4. Secure
5. Sweet

- Ans 1. 1, 3, 5, 2, 4
 2. 1, 4, 3, 2, 5
 3. 1, 2, 3, 4, 5
 4. 5, 4, 3, 2, 1

Question ID : 65497832657
Status : Answered
Chosen Option : 2

Q.11 एक निश्चित कूट भाषा में, DERMATOLOGY को 10 लिखा जाता है, और MAXIMUM को 6 लिखा जाता है। उसी कूट भाषा में NOCTURNAL को किस प्रकार लिखा जाएगा?

- Ans
- 1. 9
 - 2. 8
 - 3. 7
 - 4. 10

Question ID : 65497832676
Status : Answered
Chosen Option : 2

Q.12 यदि 'x' और '+' चिह्नों को तथा '6' और '5' अंकों को परस्पर बदल दिया जाए, तो निम्नलिखित व्यंजक का मान क्या होगा?

$$48 \times 5 + 9 \div 6 - (32 - 7) + 9$$

- Ans
- 1. 86
 - 2. 44
 - 3. 57
 - 4. 37

Question ID : 65497832663
Status : Answered
Chosen Option : 4

Q.13 दी गई आकृति के सही दर्पण प्रतिबिंब का चयन कीजिए, जबकि दर्पण को इसकी दाईं ओर रखा गया है।



Ans

1.



2.



3.



4.



Question ID : 65497832678
Status : Answered
Chosen Option : 4

Q.14 दिए गए विकल्पों में से उस संख्या का चयन कीजिए जो दी गई श्रृंखला में प्रश्न चिह्न (?) के स्थान पर प्रतिस्थापित हो सकती है।

42, 24, 34, 43, ?, 89

Ans 1. 53

2. 78

3. 98

4. 86

Question ID : 65497832659

Status : Answered

Chosen Option : 3

Q.15 छह बच्चे आनंद, बंद्री, छाया, ध्रुव, श्रीकर और उमेश उत्तर दिशा की ओर अभिमुख होकर एक पंक्ति में खड़े हैं। उमेश, श्रीकर के दाईं ओर दूसरे स्थान पर है और छाया के बाएं पड़ोस में खड़ा है। बंद्री ठीक ध्रुव और छाया के बीच में है। ध्रुव के बाईं ओर चौथे स्थान पर कौन है?

Ans 1. छाया

2. उमेश

3. श्रीकर

4. आनंद

Question ID : 65497832673

Status : Answered

Chosen Option : 4

Q.16 स्थानक A से B के दो ट्रेन टिकटों और स्थानक A से C के तीन टिकटों का मूल्य ₹8,750 है, लेकिन स्थानक A से B के तीन टिकटों और स्थानक A से C के दो टिकटों का मूल्य ₹9,825 है। स्थानक A से स्थानक B और C का किराया कितना-कितना है?

Ans 1. ₹1,965 और ₹1,890

2. ₹2,320 और ₹1,395

3. ₹2,255 और ₹1,635

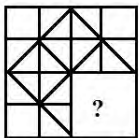
4. ₹2,395 और ₹1,320

Question ID : 65497832669

Status : Not Answered

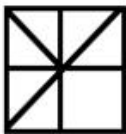
Chosen Option : --

Q.17 दिए गए विकल्पों में से उस आकृति का चयन कीजिए जो निम्नांकित पैटर्न में प्रश्नवाचक चिह्न (?) के स्थान पर आ सकती है और पैटर्न को पूरा कर सकती है। (आकृति को घुमाने की अनुमति नहीं है)



Ans

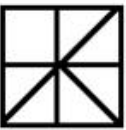
✓ 1.



✗ 2.



✗ 3.



✗ 4.



Question ID : 65497832660

Status : Answered

Chosen Option : 1

Q.18 एक निश्चित कूट भाषा में, PLACE को QMZDD लिखा जाता है और BEAUTY को CDZTUZ लिखा जाता है। उसी कूट भाषा में MANSION को किस प्रकार लिखा जाएगा?

Ans

✗ 1. NAMSNOI

✗ 2. NOISNAM

✗ 3. NBOTJPO

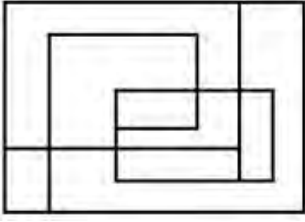
✓ 4. NZOTHNO

Question ID : 65497832680

Status : Answered

Chosen Option : 3

Q.19 निम्नांकित आकृति में कितने आयत हैं?



- Ans
- 1. 7
 - 2. 6
 - 3. 8
 - 4. 9

Question ID : 65497832665
Status : Answered
Chosen Option : 1

Q.20 P, Q, R, S, T और U छह मित्र हैं। वे एक पंक्ति में दक्षिण की ओर मुँह किए हुए बैठे हैं। P, R के ठीक बाएँ और S के दाएँ दूसरे स्थान पर बैठा है। T, R के ठीक दाएँ बैठा है। U, R के बाएँ दूसरे स्थान पर बैठा है। Q, S के ठीक बाएँ बैठा है। पंक्ति के एकदम दाएँ छोर पर कौन बैठा है?

- Ans
- 1. Q
 - 2. U
 - 3. T
 - 4. R

Question ID : 65497832661
Status : Answered
Chosen Option : 1

Q.21 उस विकल्प का चयन करें जो तीसरी संख्या से उसी प्रकार संबंधित है, जिस प्रकार दूसरी संख्या पहली संख्या से संबंधित है।

144 : 14 :: 81 : ?

- Ans
- 1. 11
 - 2. 65
 - 3. 15
 - 4. 9

Question ID : 65497832662
Status : Answered
Chosen Option : 1

Q.22 दिए गए विकल्पों में से उस संख्या का चयन कीजिए, जो निम्नलिखित श्रेणी में प्रश्नवाचक चिह्न (?) के स्थान पर आ सकती है।

7, 14, 25, 45, 81, ?, 239

- Ans
- 1. 142
 - 2. 205
 - 3. 95
 - 4. 111

Question ID : 65497832677
Status : Answered
Chosen Option : 1

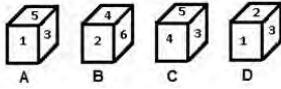
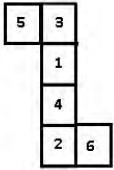
Q.23 दिए गए विकल्पों में से उस अक्षर-समूह का चयन कीजिए जो दी गई श्रृंखला में प्रश्न चिह्न (?) के स्थान पर आ सकता है।

LOCK, MMFG, NKIC, OILY, ?

- Ans
- 1. PHPU
 - 2. PGOV
 - 3. PGOU
 - 4. PHPV

Question ID : 65497832671
Status : Answered
Chosen Option : 3

Q.24 उस पासे का चयन करें, जिसे निम्नांकित पत्रक (शीट) को रेखाओं पर मोड़ने पर प्राप्त किया जा सकता है।



- Ans
- 1. केवल D
 - 2. केवल A और D
 - 3. केवल C और B
 - 4. केवल A और B

Question ID : 65497832664
Status : Answered
Chosen Option : 4

Q.25 उस वेन आरेख का चयन करें जो निम्नलिखित वर्गों के मध्य संबंध को सर्वोत्तम तरीके से निरूपित करता है।

कद्दू, पालक, आलू

Ans

- 1.
- 2.
- 3.
- 4.

Question ID : 65497832674
Status : Answered
Chosen Option : 1

Section : Part B General Knowledge and General Awareness

Q.1 सितंबर 2021 में, सुप्रीम कोर्ट की दो-न्यायाधीशों की पीठ ने फैसला सुनाया कि मंदिर का/के _____ इससे जुड़ी जमीन का/के मालिक है/हैं।

- Ans 1. पीठासीन देवता
 2. न्यास
 3. पुजारी
 4. न्यासी

Question ID : 65497832706
Status : Answered
Chosen Option : 4

Q.2 गुरुग्राम में बढ़ते वायु प्रदूषण से निपटने के लिए नवंबर 2020 में निम्नलिखित में से कौन सी परियोजना आरंभ की गई थी?

- Ans 1. फ़ाइट एअर पॉल्यूशन (Fight Air Pollution)
 2. क्लीन एअर (Clean Air)
 3. कॉम्बैट पॉल्यूशन (Combat pollution)
 4. प्रोजेक्ट एअर केयर (Project Air Care)

Question ID : 65497832686
Status : Answered
Chosen Option : 1

Q.3 निम्नलिखित में से कौन-सी, ब्रिटिश भारत में नील की खेती से संबंधित एक प्रणाली थी?

- Ans 1. बाली (Bali)
 2. निज (Nij)
 3. वणिकपथ (Vanikpath)
 4. ज़ब्त (Zabt)

Question ID : 65497832704
Status : Not Answered
Chosen Option : --

Q.4 सितंबर 2020 में, वोडाफोन और _____ ने एक नए नाम के तहत अपने सभी उत्पादों का नाम बदलकर अपनी नई एकीकृत ब्रांड पहचान की घोषणा की।

- Ans 1. रिलायंस
 2. एयरटेल
 3. आइडिया
 4. बी.एस.एन.एल. (BSNL)

Question ID : 65497832695
Status : Answered
Chosen Option : 3

Q.5 पौधों के विभिन्न पहलुओं के वैज्ञानिक अध्ययन को _____ कहा जाता है।

- Ans 1. ब्रायोफ़ाइट विज्ञान (bryology)
 2. जंतु विज्ञान (zoology)
 3. वनस्पति विज्ञान (botany)
 4. जैव प्रौद्योगिकी (biotechnology)

Question ID : 65497832684
Status : Answered
Chosen Option : 3

Q.6 किसी देश का संविधान कई उद्देश्यों की पूर्ति करता है। निम्नलिखित में से कौन सा विकल्प उनमें से एक नहीं हो सकता?

- Ans
- 1. यह उस नियमों और सिद्धांतों के समुच्चय के रूप में कार्य करता है, जिनके आधार पर देश को नियंत्रित किया जा सकता है।
 - 2. यह हमें हमारे समाज की मौलिक प्रकृति उजागर करता है।
 - 3. इसमें यह शामिल है कि देश को सरकार के अधीन स्वरूप को बरकरार रखना चाहिए।
 - 4. यह कुछ आदर्शों को सहमति देता है जिन्हें देश में बरकरार रखा जाना चाहिए।

Question ID : 65497832694
Status : Answered
Chosen Option : 3

Q.7 मुगल बादशाह अकबर की मृत्यु निम्नलिखित में से किस वर्ष में हुई थी?

- Ans
- 1. 1666
 - 2. 1789
 - 3. 1605
 - 4. 1540

Question ID : 65497832685
Status : Not Answered
Chosen Option : --

Q.8 भारत ने 2021 में टोक्यो में आयोजित ओलंपिक गेम्स में _____ को हराकर 'पुरुषों की हॉकी में कांस्य पदक' जीता।

- Ans
- 1. जर्मनी
 - 2. ऑस्ट्रेलिया
 - 3. बेल्जियम
 - 4. अर्जेंटीना

Question ID : 65497832701
Status : Not Answered
Chosen Option : --

Q.9 नवम्बर 2020 तक के अनुसार, निम्नलिखित में से कौन अंतर्राष्ट्रीय ओलंपिक कमेटी का एक भारतीय सदस्य है?

- Ans
- 1. नीता अंबानी
 - 2. मिलखा सिंह
 - 3. मुकेश अंबानी
 - 4. पी.टी. उषा

Question ID : 65497832682
Status : Answered
Chosen Option : 1

Q.10 निम्नलिखित में से कौन सा वैज्ञानिक अनुसंधान संस्थान राष्ट्रीय रैंकिंग सूचकांक 2020 में शीर्ष पर है?

- Ans
- 1. आई.आई.टी. (IIT) मद्रास
 - 2. आई.आई.एस.सी. (IISc) बैंगलोर
 - 3. आई.आई.टी. (IIT) बॉम्बे
 - 4. सी.एस.आई.आर. (CSIR)

Question ID : 65497832689
Status : Answered
Chosen Option : 1

Q.11 निम्नलिखित में से किस राज्य में नाहरगढ़ किला स्थित है?

- Ans 1. महाराष्ट्र
 2. राजस्थान
 3. पंजाब
 4. गुजरात

Question ID : 65497832696
Status : Answered
Chosen Option : 2

Q.12 _____ जनसंख्या के आकार, क्षेत्रीय वितरण और उसकी संरचना तथा जन्म, मृत्यु, प्रवास और उम्र बढ़ने के कारण समय के साथ जनसंख्या कैसे बदलती है, इसका अध्ययन है।

- Ans 1. डेमोग्राफी
 2. केलोलॉजी
 3. पोलोलॉजी
 4. फाइकोलॉजी

Question ID : 65497832683
Status : Answered
Chosen Option : 1

Q.13 सिंधु घाटी सभ्यता के घरों में कमरे आम तौर पर एक _____ के आसपास बने होते थे।

- Ans 1. कुएँ
 2. अंगीठी
 3. आंगन
 4. पानी की टंकी

Question ID : 65497832703
Status : Answered
Chosen Option : 3

Q.14 'अनकिया नट' एक विशिष्ट एकांकी नाटक है, जो _____ की संस्कृति को विशेषित करता है।

- Ans 1. ओडिशा
 2. तमिलनाडु
 3. असम
 4. बिहार

Question ID : 65497832688
Status : Not Answered
Chosen Option : --

Q.15 दक्का (ढाका) में अखिल भारतीय मुस्लिम लीग का गठन किया गया था। इसके बारे में निम्नलिखित में से कौन सा कथन सत्य नहीं है?

- Ans 1. यह मुसलमानों के लिए अलग निर्वाचक मंडल चाहता था।
 2. लीग ने बंगाल विभाजन का समर्थन नहीं किया।
 3. लीग का गठन 1906 में हुआ था।
 4. इसका गठन मुस्लिम जमींदारों और नवाबों के एक समूह द्वारा किया गया था।

Question ID : 65497832693
Status : Answered
Chosen Option : 2

Q.16 फ़राह खान ने फिल्म _____ के लिए फिल्मफेयर अवार्ड्स 2021 में 'सर्वश्रेष्ठ कोरियोग्राफी' का पुरस्कार जीता।

- Ans
- 1. थप्पड़
 - 2. मलंग
 - 3. छपाक
 - 4. दिल बेचारा

Question ID : 65497832698
Status : Answered
Chosen Option : 1

Q.17 _____ की धारा 20 मानसिक रोग से ग्रस्त प्रत्येक व्यक्ति को सम्मान के साथ जीने का अधिकार देती है।

- Ans
- 1. मानसिक स्वास्थ्य अधिनियम, 1987
 - 2. राष्ट्रीय चिकित्सा आयोग अधिनियम, 2019
 - 3. मानसिक स्वास्थ्य देखभाल अधिनियम, 2017
 - 4. भारतीय दंड संहिता, 1860

Question ID : 65497832705
Status : Answered
Chosen Option : 2

Q.18 केंद्रीय बजट 2020-21 में वर्ष _____ तक भविष्य के लिए तैयार रेलवे प्रणाली ('future ready' railway system) की परिकल्पना की गई है।

- Ans
- 1. 2030
 - 2. 2035
 - 3. 2025
 - 4. 2040

Question ID : 65497832702
Status : Answered
Chosen Option : 3

Q.19 'महावेली गंगा' _____ की सबसे लंबी नदी है।

- Ans
- 1. नेपाल
 - 2. पाकिस्तान
 - 3. श्रीलंका
 - 4. भूटान

Question ID : 65497832697
Status : Answered
Chosen Option : 1

Q.20 ए.डी.बी. (ADB/एशियाई विकास बैंक) वार्षिक रिपोर्ट 2018 के अनुसार कितने देश ए.डी.बी. (ADB) के सदस्य हैं?

- Ans
- 1. 68
 - 2. 37
 - 3. 87
 - 4. 49

Question ID : 65497832687
Status : Not Answered
Chosen Option : --

Q.21 'निर्गम मूल्य' क्या है?

- Ans
- 1. यह बाजार मूल्य से अधिक मूल्य है।
 - 2. यह बाजार मूल्य से कम मूल्य है।
 - 3. यह किसान द्वारा तय किया गया मूल्य है।
 - 4. यह बाजार मूल्य के समान मूल्य है।

Question ID : 65497832692
Status : Answered
Chosen Option : 1

Q.22 प्रति इकाई समय में, किसी वस्तु के वेग में परिवर्तन की दर _____ कहलाती है।

- Ans
- 1. औसत वेग
 - 2. गति
 - 3. औसत चाल
 - 4. त्वरण

Question ID : 65497832690
Status : Answered
Chosen Option : 3

Q.23 ग्रेट इंडियन डेजर्ट के बारे में निम्नलिखित में से कौन सा कथन गलत है?

- Ans
- 1. यह भारत का सबसे बड़ा मरुस्थल है।
 - 2. कांटेदार झाड़ियों के साथ, वनस्पति आवरण कम है।
 - 3. इसे थार मरुस्थल भी कहा जाता है।
 - 4. पद्मा इस क्षेत्र की प्रमुख नदी है।

Question ID : 65497832700
Status : Answered
Chosen Option : 4

Q.24 2019 में, ज्ञानपीठ पुरस्कार निम्न में से किसे प्राप्त हुआ?

- Ans
- 1. डॉ. ओ.एन.वी. कुरुप
 - 2. चंद्रशेखर कंबरा
 - 3. अक्वितम अच्युतन नंबूदरी
 - 4. डॉ. रघुवीर चौधरी

Question ID : 65497832691
Status : Not Answered
Chosen Option : --

Q.25 पी वी सिंधु ने 2021 में आयोजित टोक्यो ओलंपिक में बैडमिंटन महिला एकल वर्ग में _____ को हराकर कांस्य पदक जीता।

- Ans
- 1. गैटन हरामारा (Gaitan Haramara)
 - 2. हे बिंग जियाओ (He Bing Jiao)
 - 3. किम गा उन (Kim Ga-eun)
 - 4. सरोसी लौरा (Sarosi Laura)

Question ID : 65497832699
Status : Not Answered
Chosen Option : --

Section : Part C Elementary Mathematics

Q.1 एक वस्तु को ₹460 में बेचने पर सुधा को 8% की हानि होती है। यदि वह इसे ₹590 में बेचती है, तो उसे कितने प्रतिशत का लाभ होगा?

- Ans**
- 1. 20%
 - 2. 18%
 - 3. 16.4%
 - 4. 15.3%

Question ID : 65497832727
Status : Not Answered
Chosen Option : --

Q.2 यदि किसी संख्या के 40% में 165 जोड़ा जाता है, तो परिणामी संख्या वही संख्या होगी। वह संख्या ज्ञात कीजिए।

- Ans**
- 1. 250
 - 2. 284
 - 3. 275
 - 4. 225

Question ID : 65497832721
Status : Not Answered
Chosen Option : --

Q.3 यदि एक रेलगाड़ी 75 km/h की चाल से चलती है तो यह एक निश्चित दूरी को 12 h में तय करती है। यात्रा के समय को वास्तविक समय से 3 h कम करने के लिए, रेलगाड़ी को किस चाल पर चलना चाहिए?

- Ans**
- 1. 120 km/h
 - 2. 100 km/h
 - 3. 90 km/h
 - 4. 95 km/h

Question ID : 65497832710
Status : Not Answered
Chosen Option : --

Q.4 एक वस्तु को उसके विक्रय मूल्य के $\frac{9}{11}$ पर बेचने पर, मधु को 10% की हानि होती है। यदि वह वस्तु को उसके वास्तविक विक्रय मूल्य के 95% पर बेचती है, तो लाभ प्रतिशत (दशमलव के एक स्थान तक सही) क्या होगा?

- Ans**
- 1. 5.4%
 - 2. 4.5%
 - 3. 6.8%
 - 4. 3.8%

Question ID : 65497832707
Status : Not Answered
Chosen Option : --

Q.5 4, 8, 15 का चतुर्थानुपाती क्या होगा?

- Ans
- 1. 35
 - 2. 25
 - 3. 40
 - 4. 30

Question ID : 65497832711
Status : Answered
Chosen Option : 2

Q.6 ₹8,000 की धनराशि को अर्द्धवार्षिक रूप से चक्रवृद्धि होने वाली 10% वार्षिक ब्याज दर पर निवेश करने पर यह धनराशि ₹9,261 हो जाती है, तो समयावधि ज्ञात कीजिए।

- Ans
- 1. 2 वर्ष
 - 2. $1\frac{1}{2}$ वर्ष
 - 3. 3 वर्ष
 - 4. $2\frac{1}{2}$ वर्ष

Question ID : 65497832716
Status : Not Answered
Chosen Option : --

Q.7 ₹8,052 की राशि को W, X, Y और Z के बीच इस तरह बांटा जाता है कि $W : X = X : Y = Y : Z = 5 : 6$ हो जाता है। X और Y के हिस्सों का योग कितना होगा?

- Ans
- 1. ₹1,800
 - 2. ₹2,160
 - 3. ₹3,960
 - 4. ₹1,200

Question ID : 65497832715
Status : Not Answered
Chosen Option : --

Q.8 एक बेलनाकार बर्तन, जिसके आधार की त्रिज्या 10.5 cm और ऊंचाई 30 cm है, का $\frac{4}{5}$ भाग पानी से भरा हुआ है। इस पानी की पूरी मात्रा को 44 cm लंबाई और 36 cm चौड़ाई वाले एक आयताकार टब में डाला जाता है। टब में पानी की ऊंचाई में होने वाली वृद्धि (cm में) ज्ञात कीजिए। ($\pi = \frac{22}{7}$ लीजिए) (और यह भी मान लीजिए कि पानी टब से बाहर नहीं छलकता है)

- Ans
- 1. $5\frac{1}{2}$
 - 2. $6\frac{1}{2}$
 - 3. $6\frac{1}{3}$
 - 4. $5\frac{1}{4}$

Question ID : 65497832731
Status : Not Answered
Chosen Option : --

Q.9 $72 \div 180 \times 5 - [96 \div 64 \text{ of } 5 - 25 \div 16 \times (23 - 29) - 11] \div 1\frac{23}{30}$ का मान क्या होगा?

- Ans
- 1. $1\frac{1}{4}$
 - 2. $2\frac{1}{2}$
 - 3. $3\frac{1}{2}$
 - 4. $2\frac{3}{4}$

Question ID : 65497832726
Status : Answered
Chosen Option : 2

Q.10 एक व्यापारी एक वस्तु को उसके अंकित मूल्य पर 28% की छूट देकर बेचता है और फिर भी 20% का लाभ प्राप्त करता है। यदि एक वस्तु की बिक्री पर उसके द्वारा प्राप्त लाभ ₹10.50 है, तो वस्तु का अंकित मूल्य (₹ में) ज्ञात कीजिए।

- Ans
- 1. 87.50
 - 2. 85.80
 - 3. 80
 - 4. 75

Question ID : 65497832725
Status : Not Answered
Chosen Option : --

Q.11 उस शंकु का आयतन ज्ञात कीजिए जिसके आधार की त्रिज्या 18 cm और उसकी ऊंचाई 35 cm है। ($\pi = \frac{22}{7}$ लीजिये)

- Ans
- 1. 35880 cm³
 - 2. 35460 cm³
 - 3. 11880 cm³
 - 4. 10880 cm³

Question ID : 65497832712
Status : Not Answered
Chosen Option : --

Q.12 एक निश्चित राशि को 15% वार्षिक दर पर 2 वर्षों के लिए निवेशित किए जाने पर प्राप्त मिश्रधन ₹9,982.50 है, जबकि व्याज की गणना 8-मासिक चक्रवृद्धि आधार पर की जाती है। यदि व्याज की गणना वार्षिक चक्रवृद्धि आधार पर की जाती है, तो समान राशि पर समान दर पर समान समय में प्राप्त मिश्रधन (₹ में) कितना होगा? (लगभग ₹ में)

- Ans
- 1. 9,897
 - 2. 9,919
 - 3. 9,923
 - 4. 9,885

Question ID : 65497832729
Status : Not Answered
Chosen Option : --

Q.13 ₹8,400 की धनराशि के लिए वार्षिक रूप से चक्रवृद्धि होने वाली एक निश्चित वार्षिक ब्याज दर पर 3 वर्ष में प्राप्त चक्रवृद्धि ब्याज ₹6115.20 है। उतनी ही धनराशि के लिए अर्द्धवार्षिक रूप से चक्रवृद्धि होने वाली ब्याज दर पर $1\frac{1}{2}$ वर्षों में प्राप्त चक्रवृद्धि ब्याज और उतनी ही धनराशि के लिए उसी ब्याज दर पर समान अवधि में प्राप्त साधारण ब्याज के बीच में अंतर (₹ में) ज्ञात करें।

- Ans**
- ✓ 1. 260.40
 - ✗ 2. 320.25
 - ✗ 3. 250
 - ✗ 4. 275.75

Question ID : 65497832708
Status : Not Answered
Chosen Option : --

Q.14 25 प्रेक्षकों का औसत 50 है। यदि शुरुआती 13 प्रेक्षकों का औसत 40 है और अंतिम 13 प्रेक्षकों का औसत 58 है, तो 13 वां प्रेक्षण कितना है?

- Ans**
- ✗ 1. 20
 - ✗ 2. 26
 - ✗ 3. 30
 - ✓ 4. 24

Question ID : 65497832714
Status : Answered
Chosen Option : 2

Q.15 एक साड़ी का अंकित मूल्य ₹1,800 है और कपड़े की दुकान से 10% और 20% की दो क्रमिक छूट मिलती है। साड़ी के विक्रय मूल्य की गणना कीजिए।

- Ans**
- ✗ 1. ₹1,254
 - ✗ 2. ₹1,365
 - ✗ 3. ₹1,300
 - ✓ 4. ₹1,296

Question ID : 65497832720
Status : Answered
Chosen Option : 4

Q.16 लावण्या ने एक इलेक्ट्रिक कुकर, उसके विक्रय मूल्य के नौ-दसवें हिस्से पर खरीदी और उसे उसके विक्रय मूल्य से 5% अधिक पर बेच दी। उसका प्रतिशत लाभ ज्ञात कीजिए।

- Ans**
- ✗ 1. $12\frac{1}{2}\%$
 - ✗ 2. $19\frac{1}{3}\%$
 - ✓ 3. $16\frac{2}{3}\%$
 - ✗ 4. $18\frac{1}{4}\%$

Question ID : 65497832724
Status : Not Answered
Chosen Option : --

Q.17 $6\frac{1}{4} \div \left[4\frac{7}{8} + \frac{3}{4} \times \left(9\frac{1}{2} - 7\frac{2}{3} \right) \right]$ का मान ज्ञात कीजिए।

- Ans
- 1. 6
 - 2. 5
 - 3. 1
 - 4. 2

Question ID : 65497832709
Status : Answered
Chosen Option : 3

Q.18 दो साइकिल सवार एक ही स्थान से विपरीत दिशाओं में यात्रा शुरू करते हैं। एक उत्तर की ओर 14 km/h की चाल से जाता है और दूसरा दक्षिण की ओर 24 km/h की चाल से जाता है। उन्हें एकदूसरे से 47.5 km की दूरी पर होने में कितना समय लगेगा?

- Ans
- 1. 1 h
 - 2. $1\frac{1}{4}$ h
 - 3. $1\frac{1}{3}$ h
 - 4. $1\frac{2}{3}$ h

Question ID : 65497832723
Status : Not Answered
Chosen Option : --

Q.19 दो पुरुष X और Y एकसाथ कार्य करते हुए किसी कार्य को 6 दिन में पूरा करते हैं। यदि X ने अपनी वास्तविक क्षमता का तीन गुना क्षमता से कार्य किया और Y ने अपनी वास्तविक क्षमता के एक चौथाई क्षमता से कार्य किया, तो कार्य 4 दिन में पूरा हो जाता है। X अकेले उस कार्य को कितने दिनों में पूरा कर सकता है?

- Ans
- 1. $12\frac{6}{5}$ दिन
 - 2. $8\frac{1}{2}$ दिन
 - 3. $9\frac{1}{3}$ दिन
 - 4. $10\frac{1}{5}$ दिन

Question ID : 65497832722
Status : Answered
Chosen Option : 3

Q.20 यदि चार अलग-अलग संख्याओं का लघुत्तम समापवर्त्य (LCM) 270 है और प्रत्येक युग्म का महत्तम समापवर्तक (HCF) 9 है, तो चारों संख्याओं का गुणनफल कितना होगा?

- Ans
- 1. 200605
 - 2. 196830
 - 3. 270
 - 4. 2430

Question ID : 65497832713
Status : Answered
Chosen Option : 4

Q.21 यदि P, Q से $33\frac{1}{3}\%$ कम कमाता है, तो Q, P से कितने प्रतिशत अधिक कमाता है?

- Ans
- 1. 45%
 - 2. 60%
 - 3. 28%
 - 4. 50%

Question ID : 65497832718
Status : Answered
Chosen Option : 4

Q.22 A और B एक निश्चित कार्य को क्रमशः $22\frac{1}{2}$ दिनों और 30 दिनों में कर सकते हैं। उन्होंने एक साथ कार्य शुरू किया, लेकिन 6 दिनों के बाद, B को कार्य छोड़ना पड़ा। फिर, C के साथ कार्य करते हुए, A ने शेष कार्य को 3 दिनों में पूरा किया। C अकेले मूल कार्य को कितने दिनों में पूरा कर सकता है?

- Ans
- 1. $7\frac{1}{2}$ दिन
 - 2. $8\frac{1}{2}$ दिन
 - 3. 8 दिन
 - 4. 9 दिन

Question ID : 65497832730
Status : Answered
Chosen Option : 2

Q.23 $\frac{4}{25}, \frac{8}{35}$ और $\frac{22}{40}$ का म.स.(HCF) ज्ञात करें।

- Ans
- 1. $\frac{1}{2800}$
 - 2. $\frac{1}{700}$
 - 3. $\frac{5}{1400}$
 - 4. $\frac{3}{1400}$

Question ID : 65497832717
Status : Answered
Chosen Option : 4

Q.24 A और B की आय का अनुपात 5 : 8 है। यदि A और B क्रमशः ₹36,000 और ₹60,000 खर्च करते हैं, तो उनकी बचत का अनुपात 3 : 4 होता है। B की बचत (₹ में) कितनी है?

- Ans
- 1. 10,000
 - 2. 12,000
 - 3. 9,000
 - 4. 15,000

Question ID : 65497832728
Status : Not Answered
Chosen Option : --

Q.25 5 वर्ष पूर्व पति, पत्नी और उनके बच्चे की औसत उम्र 24 वर्ष थी और 6 वर्ष पूर्व पत्नी और बच्चे की औसत उम्र 18 वर्ष थी। पति की वर्तमान उम्र ज्ञात कीजिए।

- Ans**
- 1. 42 वर्ष
 - 2. 39 वर्ष
 - 3. 35 वर्ष
 - 4. 36 वर्ष

Question ID : 65497832719
Status : Not Answered
Chosen Option : --

Section : Part D English

Q.1 The following sentence has been split into four segments. Identify the segment that contains a grammatical error.

As the moon came up / over Himalayan peaks I saw / that the road looked / like a ribbon of moonlight.

- Ans**
- 1. over Himalayan peaks I saw
 - 2. As the moon came up
 - 3. that the road looked
 - 4. like a ribbon of moonlight

Question ID : 65497832733
Status : Not Answered
Chosen Option : --

Q.2 Select the most appropriate option to fill in the blank.

The latch is _____, I cannot open the window.

- Ans**
- 1. crammed
 - 2. congested
 - 3. packed
 - 4. jammed

Question ID : 65497832745
Status : Not Answered
Chosen Option : --

Q.3 The following sentence has been split into four segments. Identify the segment that contains a grammatical error.

A mother has / a greatest / influence / over the children.

- Ans**
- 1. A mother has
 - 2. over the children
 - 3. influence
 - 4. a greatest

Question ID : 65497832749
Status : Not Answered
Chosen Option : --

Q.4 Select the option that can be used as a one-word substitute for the given group of words.

A four-footed animal

- Ans** 1. Reptile
 2. Quadruped
 3. Biped
 4. Centipede

Question ID : 65497832737
Status : Not Answered
Chosen Option : --

Q.5 Select the option that can be used as a one-word substitute for the given group of words.

An edged, bladed weapon that is longer than a knife

- Ans** 1. Spear
 2. Sword
 3. Rifle
 4. Arrow

Question ID : 65497832751
Status : Not Answered
Chosen Option : --

Q.6 The following sentence has been split into four segments. Identify the segment that contains a grammatical error.

The teacher / handled the / mischief child / quite easily.

- Ans** 1. quite easily
 2. mischief child
 3. The teacher
 4. handled the

Question ID : 65497832735
Status : Not Answered
Chosen Option : --

Q.7 Select the option that can be used as a one-word substitute for the given group of words.

Detailed examination of something complex

- Ans** 1. Experiment
 2. Invention
 3. Analysis
 4. Discovery

Question ID : 65497832739
Status : Not Answered
Chosen Option : --

Q.8 Select the **INCORRECTLY** spelt word.

- Ans** 1. Neccessary
 2. Separate
 3. Ability
 4. Definitely

Question ID : 65497832738
Status : Not Answered
Chosen Option : --

Q.9 Select the most appropriate option that can substitute the underlined segment in the given sentence. If there is no need to substitute it, select 'No substitution required'.

Aparna will need a bigger bag than I will to pack her things.

- Ans** 1. No substitution required
 2. a big bag than me
 3. bigger bag than I
 4. a biggest bag than I

Question ID : 65497832732
Status : Not Answered
Chosen Option : --

Q.10 Select the most appropriate option to fill in the blank.

The leader is popular because of his _____ and devotion towards the cause of the poor villagers.

- Ans** 1. dynamism
 2. listlessness
 3. demonism
 4. decoction

Question ID : 65497832742
Status : Not Answered
Chosen Option : --

Q.11 Select the most appropriate synonym of the given word.

Level (adj)

- Ans** 1. Rough
 2. Matched
 3. Frequent
 4. Flat

Question ID : 65497832734
Status : Not Answered
Chosen Option : --

Q.12 Select the most appropriate SYNONYM of the given word.

Adapt

- Ans 1. Reject
 2. Adjust
 3. Disturb
 4. Neglect

Question ID : 65497832750
Status : Not Answered
Chosen Option : --

Q.13 Select the option that is closest in meaning to the underlined idiom/phrase in the given sentence.

My room is always spick and span.

- Ans 1. used and dirty
 2. neat and tidy
 3. bright and well-ventilated
 4. dark and messy

Question ID : 65497832743
Status : Not Answered
Chosen Option : --

Q.14 Select the option that will improve the underlined part of the given sentence. In case no improvement is needed, select 'No improvement required'.

Having white hair make him look wise.

- Ans 1. making him looks
 2. makes him look
 3. make him looking
 4. No improvement required

Question ID : 65497832747
Status : Not Answered
Chosen Option : --

Q.15 Select the most appropriate meaning of the given idiom.

Come of age

- Ans 1. Earn money
 2. Grow old
 3. Reach maturity
 4. Be too young

Question ID : 65497832746
Status : Not Answered
Chosen Option : --

Q.16 Select the most appropriate ANTONYM of the given word.

Immune

- Ans 1. Eager
 2. Exposed
 3. Sensitive
 4. Excused

Question ID : 65497832744
Status : Not Answered
Chosen Option : --

Q.17 Select the most appropriate option to fill in the blank.

You have _____ much but do not lose hope.

- Ans 1. suffered
 2. settled
 3. supported
 4. stood

Question ID : 65497832740
Status : Not Answered
Chosen Option : --

Q.18 Select the most appropriate ANTONYM of the given word.

Lenient

- Ans 1. Furious
 2. Mild
 3. Strict
 4. Tolerant

Question ID : 65497832736
Status : Not Answered
Chosen Option : --

Q.19 Select the INCORRECTLY spelt word.

- Ans 1. Shedule
 2. Sheath
 3. Shade
 4. Sheet

Question ID : 65497832741
Status : Not Answered
Chosen Option : --

Q.20 Select the option that will improve the underlined part of the given sentence. In case no improvement is needed, select 'No improvement required'.

If I were late on the first day, it will make me look bad for the rest of the year.

- Ans 1. it would make
 2. No improvement required
 3. it makes
 4. would have made

Question ID : 65497832748
Status : Not Answered
Chosen Option : --

Comprehension:

In the following passage, some words have been deleted. Read the passage carefully and select the most appropriate option to fill in each blank.

It was a cloudy morning. I had just left for school (1) _____ I was caught in a heavy storm. I (2) _____ as it started pouring and I got all (3) _____. The clouds were blaring with thunder and lightning. (4) _____ all this, I managed to find a shelter and (5) _____ whether I should go to school or return home.

SubQuestion No : 21

Q.21 Select the most appropriate option to fill in blank no.1.

- Ans 1. since
 2. though
 3. then
 4. when

Question ID : 65497832753
Status : Not Answered
Chosen Option : --

Comprehension:

In the following passage, some words have been deleted. Read the passage carefully and select the most appropriate option to fill in each blank.

It was a cloudy morning. I had just left for school (1) _____ I was caught in a heavy storm. I (2) _____ as it started pouring and I got all (3) _____. The clouds were blaring with thunder and lightning. (4) _____ all this, I managed to find a shelter and (5) _____ whether I should go to school or return home.

SubQuestion No : 22

Q.22 Select the most appropriate option to fill in blank no.2.

- Ans 1. confused
 2. panicked
 3. alarmed
 4. frightened

Question ID : 65497832754
Status : Not Answered
Chosen Option : --

Comprehension:

In the following passage, some words have been deleted. Read the passage carefully and select the most appropriate option to fill in each blank.

It was a cloudy morning. I had just left for school (1) _____ I was caught in a heavy storm. I (2) _____ as it started pouring and I got all (3) _____. The clouds were blaring with thunder and lightning. (4) _____ all this, I managed to find a shelter and (5) _____ whether I should go to school or return home.

SubQuestion No : 23

Q.23 Select the most appropriate option to fill in blank no.3.

- Ans 1. parched
 2. flooded
 3. drenched
 4. drowned

Question ID : 65497832755
Status : Not Answered
Chosen Option : --

Comprehension:

In the following passage, some words have been deleted. Read the passage carefully and select the most appropriate option to fill in each blank.

It was a cloudy morning. I had just left for school (1) _____ I was caught in a heavy storm. I (2) _____ as it started pouring and I got all (3) _____. The clouds were blaring with thunder and lightning. (4) _____ all this, I managed to find a shelter and (5) _____ whether I should go to school or return home.

SubQuestion No : 24

Q.24 Select the most appropriate option to fill in blank no.4.

- Ans**
- 1. Along
 - 2. Through
 - 3. Within
 - 4. Amidst

Question ID : 65497832756
Status : Not Answered
Chosen Option : --

Comprehension:

In the following passage, some words have been deleted. Read the passage carefully and select the most appropriate option to fill in each blank.

It was a cloudy morning. I had just left for school (1) _____ I was caught in a heavy storm. I (2) _____ as it started pouring and I got all (3) _____. The clouds were blaring with thunder and lightning. (4) _____ all this, I managed to find a shelter and (5) _____ whether I should go to school or return home.

SubQuestion No : 25

Q.25 Select the most appropriate option to fill in blank no.5.

- Ans**
- 1. considered
 - 2. concluded
 - 3. studied
 - 4. worried

Question ID : 65497832757
Status : Not Answered
Chosen Option : --

Section : Part D Hindi

Q.1 'वह बात जो जनसाधारण में चलती आ रही है।'

वाक्यांश के लिए उपयुक्त शब्द होगा-

- Ans**
- 1. रसवन्ती
 - 2. प्रतीक
 - 3. बिम्ब
 - 4. किंवदंती

Question ID : 65497832776
Status : Answered
Chosen Option : 1

Q.2 निम्नलिखित प्रश्न में, दिए गए चार विकल्पों में से, उस विकल्प का चयन करें जो मुहावरे का अर्थ व्यक्त करता है।

पानी का बताशा होना

- Ans 1. मरणोन्मुख
 2. अत्यंत शीघ्र
 3. क्षण भंगुर
 4. बड़ा अनुभवी

Question ID : 65497832762
Status : Answered
Chosen Option : 3

Q.3 रिक्त स्थान को भरने के लिए सबसे उपयुक्त विकल्प का चयन करें।

महेश को स्वयं पर भरोसा है, वह किसी की _____ नहीं करता।

- Ans 1. तरफदारी
 2. परवाह
 3. इज्जत
 4. इच्छा

Question ID : 65497832777
Status : Answered
Chosen Option : 2

Q.4 'श्वेत' का विलोम शब्द होगा-

- Ans 1. उग्र
 2. श्याम
 3. सफेद
 4. नील

Question ID : 65497832775
Status : Answered
Chosen Option : 2

Q.5 दिए गए वाक्य में रेखांकित खंड को प्रतिस्थापित करने के लिए सबसे उपयुक्त विकल्प का चयन करें। यदि इसे प्रतिस्थापित करने की आवश्यकता नहीं है, तो विकल्प 'किसी बदलाव की आवश्यकता नहीं है' का चयन करें।

हो सकता है, तुम्हीं यह पत्र फाड़े हो।

- Ans 1. किसी बदलाव की आवश्यकता नहीं है।
 2. ने यह पत्र फाड़ा हो।
 3. ने यह पत्र फाड़ा है।
 4. ने यह पत्र फाड़ी है।

Question ID : 65497832764
Status : Answered
Chosen Option : 1

Q.6 दिए गए शब्द के समानार्थी शब्द का चयन करें।

बिजली

- Ans 1. तरणी
 2. सौदामिनी
 3. गृहिणी
 4. तरंगिणी

Question ID : 65497832759
Status : Answered
Chosen Option : 4

Q.7 दिए गए वाक्य का वह भाग ज्ञात करें जिसमें कोई त्रुटि है। यदि कोई त्रुटि नहीं है, तो 'कोई त्रुटि नहीं है' विकल्प को चुनें।

सोहन की बहन धीरे-धीरे पुस्तक पढ़ती है।

- Ans 1. सोहन की बहन
 2. कोई त्रुटि नहीं है
 3. पुस्तक पढ़ती है
 4. धीरे-धीरे

Question ID : 65497832758
Status : Answered
Chosen Option : 2

Q.8 वह बेचारा जन्म से अंधा है।

रेखांकित खंड के स्थान पर दूसरा शब्द प्रस्थापित कीजिए।

- Ans 1. जन्मांध
 2. बातूनी
 3. बहरा
 4. आलोचक

Question ID : 65497832768
Status : Answered
Chosen Option : 1

Q.9 वह थोड़ा ही भोजन करता है।

शब्द समूह के स्थान पर उचित शब्द लिखिए।

- Ans 1. मांसाहारी
 2. फलाहारी
 3. अल्पाहारी
 4. शाकाहारी

Question ID : 65497832769
Status : Answered
Chosen Option : 3

Q.10 दिये गये वाक्यांश के लिए एक शब्द चुनिए।

'जो देखा न जा सके'

- Ans 1. अदम्य
 2. अदृश्य
 3. अनिमेष
 4. अज्ञात

Question ID : 65497832760
Status : Answered
Chosen Option : 2

Q.11 'जिसकी उत्पत्ति स्वभावगत न हो' वाक्यांश के लिए उपयुक्त शब्द होगा-

- Ans 1. कृत्रिम
 2. प्राकृतिक
 3. अंडज
 4. आनुवांशिक

Question ID : 65497832773
Status : Answered
Chosen Option : 1

Q.12 दिये गये वाक्य के किस भाग में त्रुटि है?

तुम्हें इस बात को अच्छी तरह बूझना-समझना चाहिए।

- Ans 1. अच्छी तरह
 2. बात को
 3. बूझना-समझना चाहिए।
 4. तुम्हें इस

Question ID : 65497832774
Status : Answered
Chosen Option : 3

Q.13 रिक्त स्थान को भरने के लिए सबसे उपयुक्त शब्द का चयन करें।

साहित्य और जीवन का _____ सम्बन्ध है।

- Ans 1. अभिन्न
 2. निर्विघ्न
 3. घोर
 4. कठिन

Question ID : 65497832763
Status : Answered
Chosen Option : 3

Q.14 सही वर्तनी वाले शब्द का चयन करें।

- Ans 1. स्वामीभक्ती
 2. स्वामीभक्ति
 3. स्वामिभक्ति
 4. स्वमीभक्ती

Question ID : 65497832766
Status : Answered
Chosen Option : 1

Q.15 कौन-सा वाक्य शुद्ध है?

- Ans
- 1. मैंने मोसमी को बुलाई
 - 2. मैं मोसमी को बूलाता हूँ।
 - 3. मैं मोसमी को बुलाया
 - 4. मैंने मोसमी को बुलाया

Question ID : 65497832770
Status : Answered
Chosen Option : 4

Q.16 पर्यायवाची शब्द की सही जोड़ी बताइए।

- Ans
- 1. भौरा - अलि
 - 2. कवि - कविता
 - 3. लड़का - लड़के
 - 4. अनुकूल - प्रतिकूल

Question ID : 65497832771
Status : Answered
Chosen Option : 1

Q.17 दिए गए शब्द का विलोम चुनें।

स्वस्थ

- Ans
- 1. शुष्क
 - 2. नीरोगी
 - 3. साधर्म्य
 - 4. रुग्ण

Question ID : 65497832761
Status : Answered
Chosen Option : 4

Q.18 सही वर्तनी वाले शब्द का चयन करें।

- Ans
- 1. शुसमा
 - 2. सूसमा
 - 3. सुसमा
 - 4. सुषमा

Question ID : 65497832765
Status : Answered
Chosen Option : 4

Q.19 'पल्ला पकड़ना' मुहावरे का सही अर्थ है-

- Ans
- 1. नकल करना
 - 2. सहारा लेना
 - 3. समर्थन करना
 - 4. याचना करना

Question ID : 65497832772
Status : Answered
Chosen Option : 2

Q.20 रिक्त स्थान की पूर्ति के लिए सबसे उपयुक्त शब्द का चयन करें।

सादा जीवन _____ विचार ही जीने का मूल मंत्र होना चाहिए।

- Ans 1. उच्च
 2. निम्न
 3. विचित्र
 4. सरल

Question ID : 65497832767

Status : Answered

Chosen Option : 1

Comprehension:

भावना की अतिशयता जिस प्रकार अंधविश्वास को उत्पन्न करती है, बुद्धि की (1) _____ ठीक उसी प्रकार मनुष्य को दानव बना देती है और आज हम जिस युग में जी रहे हैं, वह सचमुच ही (2) _____ बर्बरता का युग है। जीवन के सारे (3) _____ उलट-पुलट गये हैं और मनुष्य यह भूल गया है कि उसका (4) _____ केवल अपने आप को ही जिलाना नहीं बल्कि समस्त मानव समाज को जीवित रखने में (5) _____ होना है।

निम्न प्रश्नों के उत्तर उपरोक्त गद्यांश के आधार पर दीजिए।

SubQuestion No : 21

Q.21 गद्यांश के रिक्त स्थान (1) के लिए सर्वाधिक उपयुक्त शब्द होगा-

- Ans 1. हीनता
 2. न्यूनता
 3. महानता
 4. अतिशयता

Question ID : 65497832779

Status : Answered

Chosen Option : 1

Comprehension:

भावना की अतिशयता जिस प्रकार अंधविश्वास को उत्पन्न करती है, बुद्धि की (1) _____ ठीक उसी प्रकार मनुष्य को दानव बना देती है और आज हम जिस युग में जी रहे हैं, वह सचमुच ही (2) _____ बर्बरता का युग है। जीवन के सारे (3) _____ उलट-पुलट गये हैं और मनुष्य यह भूल गया है कि उसका (4) _____ केवल अपने आप को ही जिलाना नहीं बल्कि समस्त मानव समाज को जीवित रखने में (5) _____ होना है।

निम्न प्रश्नों के उत्तर उपरोक्त गद्यांश के आधार पर दीजिए।

SubQuestion No : 22

Q.22 गद्यांश के रिक्त स्थान (2) के लिए सर्वाधिक उपयुक्त शब्द होगा-

- Ans 1. भौतिक
 2. मानसिक
 3. शारीरिक
 4. बौद्धिक

Question ID : 65497832780

Status : Answered

Chosen Option : 2

Comprehension:

भावना की अतिशयता जिस प्रकार अंधविश्वास को उत्पन्न करती है, बुद्धि की (1) _____ ठीक उसी प्रकार मनुष्य को दानव बना देती है और आज हम जिस युग में जी रहे हैं, वह सचमुच ही (2) _____ बर्बरता का युग है। जीवन के सारे (3) _____ उलट-पुलट गये हैं और मनुष्य यह भूल गया है कि उसका (4) _____ केवल अपने आप को ही जिलाना नहीं बल्कि समस्त मानव समाज को जीवित रखने में (5) _____ होना है।

निम्न प्रश्नों के उत्तर उपरोक्त गद्यांश के आधार पर दीजिए।

SubQuestion No : 23

Q.23 गद्यांश के रिक्त स्थान (3) के लिए सर्वाधिक उपयुक्त शब्द होगा-

- Ans**
- 1. लक्ष्य
 - 2. मूल्य
 - 3. अधिकार
 - 4. साधन

Question ID : 65497832781

Status : Answered

Chosen Option : 1

Comprehension:

भावना की अतिशयता जिस प्रकार अंधविश्वास को उत्पन्न करती है, बुद्धि की (1) _____ ठीक उसी प्रकार मनुष्य को दानव बना देती है और आज हम जिस युग में जी रहे हैं, वह सचमुच ही (2) _____ बर्बरता का युग है। जीवन के सारे (3) _____ उलट-पुलट गये हैं और मनुष्य यह भूल गया है कि उसका (4) _____ केवल अपने आप को ही जिलाना नहीं बल्कि समस्त मानव समाज को जीवित रखने में (5) _____ होना है।

निम्न प्रश्नों के उत्तर उपरोक्त गद्यांश के आधार पर दीजिए।

SubQuestion No : 24

Q.24 गद्यांश के रिक्त स्थान (4) के लिए सर्वाधिक उपयुक्त शब्द होगा-

- Ans**
- 1. हित
 - 2. कार्य
 - 3. धर्म
 - 4. अधिकार

Question ID : 65497832782

Status : Answered

Chosen Option : 3

Comprehension:

भावना की अतिशयता जिस प्रकार अंधविश्वास को उत्पन्न करती है, बुद्धि की (1) _____ ठीक उसी प्रकार मनुष्य को दानव बना देती है और आज हम जिस युग में जी रहे हैं, वह सचमुच ही (2) _____ बर्बरता का युग है। जीवन के सारे (3) _____ उलट-पुलट गये हैं और मनुष्य यह भूल गया है कि उसका (4) _____ केवल अपने आप को ही जिलाना नहीं बल्कि समस्त मानव समाज को जीवित रखने में (5) _____ होना है।

निम्न प्रश्नों के उत्तर उपरोक्त गद्यांश के आधार पर दीजिए।

SubQuestion No : 25

Q.25 गद्यांश के रिक्त स्थान (5) के लिए सर्वाधिक उपयुक्त शब्द होगा-

- Ans**
- 1. बाधक
 - 2. सहायक
 - 3. प्रवर्तक
 - 4. उन्नायक

Question ID : 65497832783

Status : Answered

Chosen Option : 2