

Constable GD in CAPFs NIA SSF and Rifleman GD in Assam Rifles Examination 2021

Roll Number	www.GovtJobsAlert.In
Candidate Name	www.GovtJobsAlert.In
Venue Name	ION Digital Zone iDZ Naino Ka Bas
Exam Date	06/12/2021
Exam Time :	12:30 PM - 2:00 PM
Subject	Constable GD 2021

Section : Part A General Intelligence and Reasoning

Q.1 छह मित्र, अजय, नीतू, सीमा, कविता, मनोज और विजय, एक वृत्ताकार मेज के परितः बैठे हैं, उनकी पीठ मेज के केंद्र की ओर है। मनोज, सीमा और नीतू के बीच में बैठा है। अजय, सीमा के बाईं ओर ठीक बगल में बैठा है। कविता, नीतू की पड़ोसी नहीं है। सीमा के दाईं ओर तीसरे स्थान पर कौन बैठा/बैठी है?

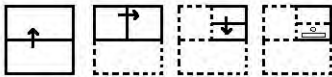
- Ans
- 1. कविता
 - 2. विजय
 - 3. नीतू
 - 4. अजय

Question ID : 65497833932

Status : Answered

Chosen Option : 2

Q.2 कागज के एक टुकड़े को मोड़ने के क्रम और मुड़े हुए कागज को काटने के तरीके को निम्नलिखित आकृतियों में दर्शाया गया है। खोलने पर, यह कागज कैसा दिखाई देगा?



Ans

- 1.
- 2.
- 3.
- 4.

Question ID : 65497833946

Status : Answered

Chosen Option : 4

Q.3 'काबुल' का 'अफ़गानिस्तान' से वही संबंध है, जो 'कैनबरा' का '_____ ' से है।

- Ans
- 1. ऑस्ट्रिया
 - 2. ऑस्ट्रेलिया
 - 3. बेल्जियम
 - 4. अर्जेंटीना

Question ID : 65497833931
Status : Answered
Chosen Option : 2


Q.4 उस विकल्प का चयन करें, जिसका तीसरे अक्षर-समूह से वही संबंध है, जो दूसरे अक्षर-समूह का पहले अक्षर-समूह से है।

ATRG : BWSJ :: MQSJ : ?

- Ans
- 1. OSWL
 - 2. PTVN
 - 3. NTTM
 - 4. NRTN

Question ID : 65497833927
Status : Answered
Chosen Option : 3

Q.5 दिए गए विकल्पों में से उस आकृति का चयन कीजिए जो दी गई श्रृंखला में प्रश्न चिह्न (?) के स्थान पर आ सकती है।



- Ans
- 1.
 - 2.
 - 3.
 - 4.

Question ID : 65497833941
Status : Answered
Chosen Option : 1

Q.6 एक परिवार में सात सदस्य S, T, U, V, W, X और Y हैं। पाँच सदस्य अलग-अलग व्यवसायों में अर्थात् शिक्षक, चिकित्सक, नर्स, इंजीनियर और वैज्ञानिक हैं। परिवार में दो विवाहित जोड़े हैं। S चिकित्सक है, जिसका विवाह Y से हुआ है, जो शिक्षक है। W वैज्ञानिक है, जो Y का ससुर है। V और U, S के बच्चे हैं, जो क्रमशः 6वीं और 8वीं कक्षा में पढ़ते हैं। X, T की मां हैं। S, T का भाई है, और T इंजीनियर है। W की पत्नी कौन है?

- Ans
- 1. X
 - 2. Y
 - 3. T
 - 4. S

Question ID : 65497833929
Status : Answered
Chosen Option : 1

Q.7 दी गई आकृति के सही दर्पण प्रतिबिंब का चयन करें, जो दर्पण को दी गई आकृति की दाईं ओर रखने पर बनेगा।

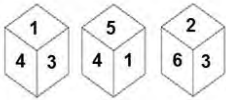


Ans

- 1.
- 2.
- 3.
- 4.

Question ID : 65497833937
Status : Answered
Chosen Option : 4

Q.8 एक ही पासे की तीन अलग-अलग स्थितियाँ दर्शाई गई हैं, जिसके छह फलकों पर 1 से 6 तक अंक दिए गए हैं। उस संख्या का चयन करें, जो अंक '3' वाले फलक के विपरीत फलक पर होगी।



- Ans**
- 1. 1
 - 2. 6
 - 3. 2
 - 4. 5

Question ID : 65497833950
Status : Answered
Chosen Option : 4

Q.9 उस विकल्प का चयन कीजिए, जिसका तीसरी संख्या से वही संबंध है, जो दूसरी संख्या का पहली संख्या से है और छठी संख्या का पांचवी संख्या से है।

48 : 32 :: 73 : ? :: 25 : 10

- Ans**
- 1. 21
 - 2. 11
 - 3. 7
 - 4. 13

Question ID : 65497833948
Status : Not Answered
Chosen Option : --

Q.10 एक निश्चित कूट भाषा में, 'BATTLE' को '4240402410' लिखा जाता है। उसी कूट भाषा में 'KINGDOM' को किस प्रकार लिखा जाएगा?

- Ans**
- 1. 2219281583026
 - 2. 2218291483026
 - 3. 2219281483026
 - 4. 2218281483026

Question ID : 65497833935
Status : Answered
Chosen Option : 4

Q.11 दिए गए समीकरण को सही करने के लिए किन दो चिह्नों को आपस में बदला जाना चाहिए?

$63 \div 21 - 7 + 28 \times 3 = 144$

- Ans**
- 1. + और -
 - 2. + और -
 - 3. + और +
 - 4. × और +

Question ID : 65497833949
Status : Answered
Chosen Option : 1

Q.12 उस अक्षर संयोजन का चयन करें, जिसे दी गई श्रृंखला के रिक्त स्थानों में क्रमिक रूप से रखे जाने पर श्रृंखला पूर्ण हो जाएगी।

K_TQ_KPT_R_PTQ_KP_QR

- Ans
- 1. P, R, T, P, K, Q
 - 2. P, K, R, Q, R, T
 - 3. P, K, Q, R, T, R
 - 4. P, R, Q, K, R, T

Question ID : 65497833939
Status : Answered
Chosen Option : 4

Q.13 एक निश्चित कूट भाषा में FAX को EGZBWY लिखा जाता है। उसी कूट भाषा में SKIN को किस प्रकार लिखा जाएगा?

- Ans
- 1. RTJLHLMP
 - 2. RTJMHJMO
 - 3. RTJLHJLO
 - 4. RTJLHJMO

Question ID : 65497833942
Status : Answered
Chosen Option : 4

Q.14 दिए गए कथनों और निष्कर्षों को ध्यानपूर्वक पढ़ें। कथनों में दी गई जानकारी को सत्य मानते हुए विचार करें, भले ही वह सामान्यतः ज्ञात तथ्यों से भिन्न प्रतीत होती हो, और तय करें कि दिए गए निष्कर्षों में से कौन से कथनों का तार्किक रूप से पालन करते हैं?

कथन:

कोई रचनात्मक नियोक्ता नहीं है।
सभी विशेषज्ञ रचनात्मक हैं।
सभी कर्मचारी विशेषज्ञ हैं।

निष्कर्ष:

I. कोई नियोक्ता विशेषज्ञ नहीं है।
II. कोई कर्मचारी नियोक्ता नहीं है।

- Ans
- 1. केवल निष्कर्ष I पालन करता है।
 - 2. केवल निष्कर्ष II पालन करता है।
 - 3. न तो निष्कर्ष I और न ही II पालन करता है।
 - 4. निष्कर्ष I और II दोनों ही पालन करते हैं।

Question ID : 65497833943
Status : Answered
Chosen Option : 4

Q.15 एक निश्चित कूट भाषा में, 'ROSE IS RED' को 'tic ric sic' लिखा जाता है, 'SKY IS BLUE' को 'vic ric fic', लिखा जाता है, और 'DANGER SIGNALS ARE RED' को 'mic nic tic kic' लिखा जाता है। उसी कूट भाषा में 'ROSE' को किस प्रकार लिखा जाएगा?

- Ans
- 1. ric
 - 2. tic
 - 3. sic
 - 4. fic

Question ID : 65497833928
Status : Answered
Chosen Option : 3

Q.16 चार अक्षर-समूह दिए गए हैं, जिनमें से तीन किसी तरह से संगत हैं और एक असंगत है। असंगत अक्षर-समूह का चयन कीजिए।

- Ans
- 1. RWY
 - 2. LQS
 - 3. FKM
 - 4. RXZ

Question ID : 65497833934
Status : Answered
Chosen Option : 4

Q.17 उस सही विकल्प का चयन कीजिए, जो दिए गए शब्दों के उस क्रम को दर्शाता है जिस क्रम में वे अंग्रेजी शब्दकोश में मौजूद होते हैं।

1. Modification
2. Migraine
3. Midstream
4. Modernize
5. Marvellous

- Ans
- 1. 5, 3, 2, 4, 1
 - 2. 5, 2, 3, 4, 1
 - 3. 5, 3, 1, 4, 2
 - 4. 5, 2, 1, 4, 3

Question ID : 65497833938
Status : Answered
Chosen Option : 1

Q.18 उस विकल्प का चयन करें, जिसमें दी गई आकृति अंतर्निहित है (आकृति को घुमाने की अनुमति नहीं है)।



Ans

✓ 1.



✗ 2.



✗ 3.



✗ 4.



Question ID : 65497833951

Status : Answered

Chosen Option : 1

Q.19 सात मित्र एक वृत्ताकार मेज के इर्द-गिर्द केंद्र की ओर मुख करके बैठे हैं। राज, सचिन के बाईं ओर दूसरे स्थान पर बैठा है। दीनू, कृप और वीर के बीच में बैठा है। दीनू, सचिन के दाईं ओर दूसरे स्थान पर बैठा है। राज, वीर के दाईं ओर चौथे स्थान पर बैठा है। राँकी, सैम के दाईं ओर दूसरे स्थान पर बैठा है। वीर के बाईं ओर दूसरे स्थान पर कौन बैठा है?

Ans

✓ 1. राँकी

✗ 2. राज

✗ 3. सैम

✗ 4. दीनू

Question ID : 65497833947

Status : Answered

Chosen Option : 1

Q.20 दिए गए विकल्पों में से उस अक्षर-समूह का चयन कीजिए, जो निम्नलिखित श्रृंखला में प्रश्न चिह्न (?) के स्थान पर आ सकता है।

FDG, IIL, LNQ, ?

Ans

✗ 1. OST

✗ 2. RVT

✓ 3. OSV

✗ 4. SWZ

Question ID : 65497833930

Status : Answered

Chosen Option : 3

Q.21 उस विकल्प का चयन करें, जिसमें दी गई संख्याओं के बीच वही संबंध है, जो दिए गए समूह की संख्याओं के बीच है।

44, 70, 57

Ans ✓ 1. 34, 68, 51

✗ 2. 46, 80, 70

✗ 3. 28, 56, 112

✗ 4. 32, 50, 46

Question ID : 65497833944

Status : Answered

Chosen Option : 1

Q.22 दिए गए विकल्पों में से उस संख्या का चयन कीजिए, जो निम्नलिखित श्रेणी में प्रश्न चिह्न (?) के स्थान पर आ सकती है।

11, 19, 59, 115, 347, ?

Ans ✗ 1. 619

✗ 2. 679

✓ 3. 691

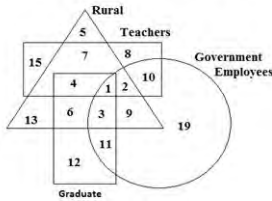
✗ 4. 697

Question ID : 65497833940

Status : Answered

Chosen Option : 3

Q.23 दिए गए आरेख का ध्यानपूर्वक अध्ययन करें और निम्न प्रश्न का उत्तर दें।



उन ग्रामीण सरकारी शिक्षकों (Rural Government Teachers) की संख्या क्या है, जो स्नातक (Graduate) नहीं हैं?

Ans ✓ 1. 2

✗ 2. 9

✗ 3. 1

✗ 4. 3

Question ID : 65497833933

Status : Answered

Chosen Option : 1

Q.24 अनुज के दादा की आयु, अनुज की आयु की 4 गुनी है। अनुज की दादी की आयु, उसके दादा की आयु से 5 वर्ष कम है। अनुज की दादी और दादा की आयु का योग 107 वर्ष है। अनुज की आयु कितनी है?

- Ans
- 1. 18 वर्ष
 - 2. 12 वर्ष
 - 3. 14 वर्ष
 - 4. 16 वर्ष

Question ID : 65497833945
Status : Answered
Chosen Option : 3

Q.25 दिए गए विकल्पों में से उस संख्या का चयन कीजिए, जो निम्नलिखित श्रेणी में प्रश्न चिह्न (?) के स्थान पर आ सकती है।

1, 9, 36, 100, ?

- Ans
- 1. 196
 - 2. 169
 - 3. 144
 - 4. 225

Question ID : 65497833936
Status : Answered
Chosen Option : 4

Section : Part B General Knowledge and General Awareness

Q.1 पहला भारतीय वाणिज्यिक बैंक, जिसका पूर्ण स्वामित्व और प्रबंधन भारतीयों के हाथों में था, _____ में स्थापित किया गया था।

- Ans
- 1. 1948
 - 2. 1950
 - 3. 1919
 - 4. 1911

Question ID : 65497833971
Status : Answered
Chosen Option : 2

Q.2 नवंबर 2020 में, भारतीय नौसेना की पांचवीं स्कॉर्पिन (Scorpene) श्रेणी की पनडुब्बी _____ मुंबई के मझगांव डॉक में जलावतरित की गई।

- Ans
- 1. खंडेरी
 - 2. वागीर
 - 3. वेला
 - 4. वागशीर

Question ID : 65497833956
Status : Answered
Chosen Option : 2

Q.3 देवी अम्बा निम्न में से किस नृत्य/नाटक प्रदर्शनों की अधिष्ठात्री देवी है?

- Ans 1. भवाई (Bhavai)
 2. हरिकथा (Harikatha)
 3. तेय्यम (Theyyam)
 4. माच (Maach)

Question ID : 65497833973
Status : Not Answered
Chosen Option : --

Q.4 नवंबर 2020 में भारतीय रिज़र्व बैंक द्वारा निम्नलिखित में से किस बैंक को एक महीने की अवधि के लिए अधिस्थगन (moratorium) के तहत रखा गया था?

- Ans 1. नॉर्थ कनारा गौड़ सारस्वत को-ऑपरेटिव बैंक लिमिटेड
 2. श्रमिक सहकारी बैंक लिमिटेड
 3. कोकण मर्केटाइल को-ऑपरेटिव बैंक लिमिटेड
 4. लक्ष्मी विलास बैंक लिमिटेड

Question ID : 65497833967
Status : Not Answered
Chosen Option : --

Q.5 इनमें से कौन भू-संसाधनों के उत्पादक और उपभोक्ता है?

- Ans 1. पौधे
 2. सरीसृप
 3. मानव
 4. ग्रह

Question ID : 65497833965
Status : Answered
Chosen Option : 2

Q.6 'चेजिंग इंडिया' नामक पुस्तक के लेखक कौन हैं?

- Ans 1. शशि थरूर
 2. सत्यार्थ नायक
 3. अभिषेक मनु सिंघवी
 4. मनमोहन सिंह

Question ID : 65497833963
Status : Not Answered
Chosen Option : --

Q.7 चंपानेर-पावागढ़ पुरातात्विक उद्यान किस राज्य में स्थित है?

- Ans 1. मध्य प्रदेश
 2. उत्तर प्रदेश
 3. राजस्थान
 4. गुजरात

Question ID : 65497833961
Status : Answered
Chosen Option : 1

Q.8 नवंबर 2020 में रविशंकर प्रसाद द्वारा विदेश मंत्रालय के साथ समन्वय में उमंग (UMANG) मोबाइल ऐप के अंतर्राष्ट्रीय संस्करण को कितने देशों में लांच किया गया था?

- Ans 1. 9
 2. 5
 3. 2
 4. 6

Question ID : 65497833958
Status : Not Answered
Chosen Option : --

Q.9 निम्नलिखित में से कौन सा खेल 'कॉन्केकैफ़ गोल्ड कप' ('CONCACAF Gold Cup') से संबंधित है?

- Ans 1. वॉलीबॉल
 2. बास्केटबॉल
 3. फुटबॉल
 4. बेसबॉल

Question ID : 65497833964
Status : Not Answered
Chosen Option : --

Q.10 'प्रयाग प्रशस्ति' _____ में संकलित की गई थी।

- Ans 1. हिन्दी
 2. पाली
 3. संस्कृत
 4. प्राकृत

Question ID : 65497833954
Status : Answered
Chosen Option : 4

Q.11 दिलवाड़ा और जरगा पर्वत चोटियां निम्नलिखित में से किस राज्य में स्थित हैं?

- Ans 1. मध्य प्रदेश
 2. गुजरात
 3. राजस्थान
 4. हरियाणा

Question ID : 65497833960
Status : Answered
Chosen Option : 3

Q.12 चंदावर की लड़ाई मोहम्मद गोरी और _____ वंश के कन्नौज के जयचंद के बीच हुई थी।

- Ans 1. चौहान
 2. गुप्त
 3. बैक्ट्रियन
 4. गहड़वाल

Question ID : 65497833969
Status : Answered
Chosen Option : 4

Q.13 संयुक्त राष्ट्र (UN), प्रतिवर्ष किस दिन, नीले आसमान के लिए अंतर्राष्ट्रीय स्वच्छ वायु दिवस (International Day of Clean Air for blue skies) मनाता है?

- Ans 1. 7 सितंबर
 2. 30 जून
 3. 23 दिसंबर
 4. 15 मार्च

Question ID : 65497833974
Status : Answered
Chosen Option : 2

Q.14 निम्नलिखित में से किस क्रिकेट खिलाड़ी ने नवंबर 2020 में खेल के सभी प्रारूपों से संन्यास लेने की घोषणा की थी?

- Ans 1. सुदीप त्यागी
 2. एम.एस. धोनी
 3. शिखर धवन
 4. ईशांत शर्मा

Question ID : 65497833959
Status : Answered
Chosen Option : 2

Q.15 चुनाव के समय राजनीतिक दलों और चुनाव लड़ने वाले उम्मीदवारों द्वारा अनुपालित किए जाने वाले मानदंडों और दिशानिर्देशों का संकलन _____ कहलाता है।

- Ans 1. खंड (clause)
 2. आचार संहिता (code of conduct)
 3. मसौदा (draft)
 4. विधायिका (legislature)

Question ID : 65497833957
Status : Answered
Chosen Option : 2

Q.16 भारतीय नौसेना और रूसी नौसेना ने _____ 2020 नामक द्विपक्षीय समुद्री अभ्यास के 11वें संस्करण की शुरुआत की।

- Ans 1. इंडिया नेवी
 2. मर्चेट नेवी
 3. इंद्र नेवी
 4. कोस्टल नेवी

Question ID : 65497833970
Status : Answered
Chosen Option : 2

Q.17 निम्नलिखित में से किस संगठन ने 16 अगस्त 1946 को सीधी कार्यवाही का दिवस घोषित किया?

- Ans
- 1. भारतीय राष्ट्रीय कांग्रेस
 - 2. अवध किसान सभा
 - 3. मुस्लिम लीग
 - 4. स्वराज पार्टी

Question ID : 65497833953
Status : Answered
Chosen Option : 1

Q.18 एक रासायनिक अभिक्रिया में, _____ जल के साथ तीव्रता से अभिक्रिया करके कैल्शियम हाइड्रॉक्साइड उत्पन्न करता है और भारी मात्रा में ऊष्मा मुक्त होती है।

- Ans
- 1. कैल्शियम क्लोराइड
 - 2. कैल्शियम ऑक्साइड
 - 3. कैल्शियम सल्फेट
 - 4. कैल्शियम परोक्साइड

Question ID : 65497833975
Status : Answered
Chosen Option : 1

Q.19 माइकल फेल्प्स किस खेल से संबंधित है?

- Ans
- 1. तैराकी
 - 2. जिम्नास्टिक
 - 3. लॉन टेनिस
 - 4. बैडमिंटन

Question ID : 65497833966
Status : Answered
Chosen Option : 1

Q.20 2011 की जनगणना के अनुसार, निम्नलिखित में से किस राज्य का जनसंख्या घनत्व 800 से अधिक था?

- Ans
- 1. महाराष्ट्र
 - 2. केरल
 - 3. हरियाणा
 - 4. कर्नाटक

Question ID : 65497833962
Status : Answered
Chosen Option : 1

Q.21 लोकप्रिय बालिका बचत योजना 'सुकन्या समृद्धि योजना' के तहत, वर्तमान में आवश्यक न्यूनतम वार्षिक जमा राशि कितनी है?

- Ans
- 1. ₹500
 - 2. ₹1,000
 - 3. ₹250
 - 4. ₹2,000

Question ID : 65497833952
Status : Answered
Chosen Option : 2

Q.22 भारत सरकार ने 'केंद्रीय ग्रामीण स्वच्छता कार्यक्रम' ('CRSP') का शुभारंभ किस वर्ष किया?

- Ans
- 1. 1990
 - 2. 1982
 - 3. 1978
 - 4. 1986

Question ID : 65497833968
Status : Not Answered
Chosen Option : --

Q.23 712 ई. में भारत पर हुए अरब आक्रमण का नेतृत्व _____ ने किया था।

- Ans
- 1. मुहम्मद बख्तियार खिलजी
 - 2. मुहम्मद बिन कासिम
 - 3. मुहम्मद शायबानी खान
 - 4. नसीर-उद-दीन मुहम्मद शाह

Question ID : 65497833972
Status : Answered
Chosen Option : 2

Q.24 74वें कान फिल्म समारोह में सर्वश्रेष्ठ डाक्यूमेंट्री के लिए ओइल डी'ओर (द गोल्डन आई) [Oeil d'or (The Golden Eye)] पुरस्कार निम्न में से किसे प्रदान किया गया?

- Ans
- 1. कैसाब्लांका बीट्स (Casablanca Beats)
 - 2. टाइटैन (Titane)
 - 3. द रेड वेल्वेट अंडरग्राउंड (The Red Velvet Underground)
 - 4. अ नाईट ऑफ़ नोईंग नथिंग (A Night of Knowing Nothing)

Question ID : 65497833976
Status : Not Answered
Chosen Option : --

Q.25 भारत में चुनाव सुधारों के संदर्भ में, VVPAT में 'T' का क्या अभिप्राय है?

- Ans
- 1. ट्रेट (Trait)
 - 2. टेक्स्ट (Text)
 - 3. ट्रस्ट (Trust)
 - 4. ट्रेल (Trail)

Question ID : 65497833955
Status : Answered
Chosen Option : 2

Section : Part C Elementary Mathematics

Q.1 संख्याओं 15, 20, 25 और 30 के लघुत्तम समापवर्त्य (LCM) और महत्तम समापवर्तक (HCF) का योग ज्ञात कीजिए।

- Ans
- 1. 125
 - 2. 305
 - 3. 50
 - 4. 1500

Question ID : 65497833998
Status : Answered
Chosen Option : 2

Q.2 ₹1,25,000 की धनराशि पर 15% वार्षिक ब्याज की दर पर 2 वर्ष का चक्रवृद्धि ब्याज ज्ञात कीजिए, यदि ब्याज की गणना 8-मासिक चक्रवृद्धि आधार पर की जाती है।

- Ans
- 1. ₹43,175
 - 2. ₹41,475
 - 3. ₹43,475
 - 4. ₹41,375

Question ID : 65497833991
Status : Answered
Chosen Option : 4

Q.3 गीता ने एक बैंक में 5% वार्षिक चक्रवृद्धि ब्याज पर ₹64,000 जमा किए, जिस पर ब्याज की गणना वार्षिक चक्रवृद्धि आधार पर की जाती है। 1 वर्ष 6 माह के बाद अर्जित ब्याज (₹ में) ज्ञात कीजिए।

- Ans
- 1. 4,880
 - 2. 4,850
 - 3. 4,800
 - 4. 4,900

Question ID : 65497834001
Status : Answered
Chosen Option : 1

Q.4 एक विलयन A में अम्ल और जल का अनुपात 1 : 5 है और विलयन B में अम्ल और जल का अनुपात 2 : 7 है। यदि दोनों विलयनों को समान मात्रा में मिश्रित किया जाता है, तो इस प्रकार बने गए विलयन में अम्ल और जल का अनुपात ज्ञात कीजिए।

- Ans**
- 1. 7 : 29
 - 2. 1 : 4
 - 3. 3 : 10
 - 4. 21 : 29

Question ID : 65497834000
Status : Answered
Chosen Option : 1

Q.5 5 सबसे छोटी अभाज्य संख्याओं का औसत ज्ञात कीजिए।

- Ans**
- 1. 7.8
 - 2. 5.6
 - 3. 7
 - 4. 3.6

Question ID : 65497833999
Status : Answered
Chosen Option : 2

Q.6 एक वस्तु का अंकित मूल्य ₹750 है। यदि इसे 16% की छूट पर बेचा जाता है, तो इसका विक्रय मूल्य, इसके क्रय मूल्य के $\frac{3}{2}$ गुने के बराबर होता है। वस्तु का क्रय मूल्य ज्ञात कीजिए।

- Ans**
- 1. ₹450
 - 2. ₹420
 - 3. ₹320
 - 4. ₹440

Question ID : 65497833983
Status : Answered
Chosen Option : 2

Q.7 किसी कार्य को पूरा करने में A को B से 10 दिन अधिक समय लगता है। उन्होंने 5 दिन तक साथ मिलकर कार्य किया और कार्य का $\frac{8}{15}$ भाग पूरा कर लिया। उस संपूर्ण कार्य को अकेले पूरा करने में B को कितना समय लगेगा?

- Ans**
- 1. 14 दिन
 - 2. 15 दिन
 - 3. 12 दिन
 - 4. 16 दिन

Question ID : 65497833985
Status : Answered
Chosen Option : 2

Q.8 एक त्रिभुजाकार पार्क की भुजाएँ 60 m, 297 m और 303 m हैं। इसका क्षेत्रफल एक वर्गाकार बगीचे के क्षेत्रफल के बराबर है। बगीचे का परिमाण (m में) ज्ञात करें।

- Ans**
- 1. $18\sqrt{110}$
 - 2. $9\sqrt{330}$
 - 3. $18\sqrt{330}$
 - 4. $36\sqrt{110}$

Question ID : **65497833992**
Status : **Answered**
Chosen Option : **4**

Q.9 एक ट्रेन 56 km की दूरी 40 मिनट में तय करती है। यदि इसकी चाल में 9 km/h की कमी हो जाए, तो 225 km की दूरी तय करने में इसे कितना समय लगेगा?

- Ans**
- 1. 3 घंटे
 - 2. 5 घंटे
 - 3. 6 घंटे
 - 4. 4 घंटे

Question ID : **65497833986**
Status : **Answered**
Chosen Option : **1**

Q.10 एक दुकानदार को 30 वस्तुएं बेचने पर, 8 वस्तुओं के विक्रय मूल्य के बराबर लाभ होता है। उसका प्रतिशत लाभ ज्ञात करें।

- Ans**
- 1. $16\frac{4}{11}$
 - 2. $21\frac{4}{11}$
 - 3. $36\frac{4}{11}$
 - 4. $45\frac{4}{11}$

Question ID : **65497833980**
Status : **Answered**
Chosen Option : **3**

Q.11 किसी समांतर चतुर्भुज की आसन्न भुजाएं 10 cm और 15 cm हैं। यदि छोटी भुजाओं के बीच की दूरी 6 cm है, तो उसकी लंबी भुजाओं के बीच की दूरी कितनी है?

- Ans
- 1. 25 cm
 - 2. 18 cm
 - 3. 4 cm
 - 4. 9 cm

Question ID : 65497833978
Status : Answered
Chosen Option : 3

Q.12 यदि $(2x + 3y) : (3y - 2x) = 3 : 1$ है, तो $(3x + 4y) : (3x - y)$ का मान क्या होगा?

- Ans
- 1. 4 : 1
 - 2. 7 : 2
 - 3. 5 : 1
 - 4. 5 : 2

Question ID : 65497833990
Status : Answered
Chosen Option : 3

Q.13 एक ट्रेन 10 मिनट में, 14 km की दूरी तय करती है। यदि उसकी चाल में 4 km/h की कमी कर दी जाती है, तो उसे उतनी ही दूरी तय करने में कितना समय लगेगा?

- Ans
- 1. $12\frac{2}{3}$ मिनट
 - 2. 10 मिनट
 - 3. $10\frac{1}{2}$ मिनट
 - 4. 11 मिनट

Question ID : 65497833994
Status : Answered
Chosen Option : 3

Q.14 A किसी कार्य के 60% भाग को 6 दिनों में पूरा कर सकता है और B उसी कार्य को 15 दिनों में पूरा कर सकता है। वे 3 दिनों तक एक साथ मिलकर कार्य करते हैं। शेष कार्य को अकेले C द्वारा 12 दिनों में पूरा किया जाता है। अकेला C इसी कार्य के $\frac{1}{8}$ भाग को कितने दिनों में पूरा करेगा?

- Ans
- 1. 12
 - 2. 6
 - 3. 3
 - 4. 8

Question ID : 65497833981
Status : Answered
Chosen Option : 3

Q.15 $5 \times 3 \div 3 \text{ of } 6 - 8 \div 2 \times (3 - 5) + 3 - 2 \times 4 \div 6 \text{ of } \frac{1}{2}$ का मान ज्ञात कीजिए।

- Ans
- 1. $\frac{65}{6}$
 - 2. $\frac{85}{6}$
 - 3. $\frac{55}{6}$
 - 4. $\frac{35}{6}$

Question ID : 65497833993
Status : Answered
Chosen Option : 3

Q.16 किसी स्टोर में लाभ, क्रय मूल्य के 120% के बराबर है। यदि क्रय मूल्य में 20% की वृद्धि होती है, किंतु विक्रय मूल्य समान बना रहता है, तो इस स्थिति में प्राप्त लाभ, विक्रय मूल्य के लगभग कितने प्रतिशत के बराबर होगा?

- Ans
- 1. 64.54%
 - 2. 54%
 - 3. 50.4%
 - 4. 45.45%

Question ID : 65497833987
Status : Answered
Chosen Option : 4

Q.17 यदि $x^2 : y^2 = 4 : 9$ और $2 : x = 1 : 2$ है, तो y का मान ज्ञात करें।

- Ans
- 1. 3
 - 2. 9
 - 3. 18
 - 4. 6

Question ID : 65497833977
Status : Answered
Chosen Option : 4

Q.18 $4 \times 6 \div 4 \text{ of } 6 - 6 \div 2 \times (4 - 6) + 4 + 2 \times 3 \div 6 \text{ of } \frac{1}{3}$ का मान ज्ञात करें।

- Ans
- 1. 11
 - 2. 9
 - 3. 14
 - 4. 7

Question ID : 65497833979
Status : Answered
Chosen Option : 3

Q.19 यदि दो क्रमागत विषम प्राकृत संख्याओं के वर्गों का औसत 145 है, तो इन दो संख्याओं का औसत क्या होगा?

- Ans
- 1. 10
 - 2. 16
 - 3. 14
 - 4. 12

Question ID : 65497833982
Status : Answered
Chosen Option : 4

Q.20 दो धनात्मक संख्याओं x और y का अंतर, x के 25% के बराबर है, जहां $x > y$ है। यदि y का मान 15 है, तो x का मान ज्ञात कीजिए।

- Ans
- 1. 20
 - 2. 25
 - 3. 15
 - 4. 18

Question ID : 65497833984
Status : Answered
Chosen Option : 1

Q.21 यदि कोई दुकानदार ₹500 के अंकित मूल्य वाले पेन पर 30% की छूट देता है और फिर 10% की एक और छूट देता है, तो पेन का विक्रय मूल्य कितना होगा?

- Ans
- 1. ₹305
 - 2. ₹310
 - 3. ₹315
 - 4. ₹215

Question ID : 65497833989
Status : Answered
Chosen Option : 3

Q.22 रवीना अपनी मासिक आय का $16\frac{2}{3}\%$ बचाती है। जब उसका मासिक व्यय 10% बढ़ जाता है (आय समान रहती है), तो वह एक महीने में ₹1,275 बचा पाती है। उसकी मासिक आय (₹ में) कितनी है?

- Ans**
- 1. 15,500
 - 2. 16,400
 - 3. 15,300
 - 4. 16,800

Question ID : **65497833996**
Status : **Answered**
Chosen Option : **3**

Q.23 767, 1003 और 2773 का महत्तम समापवर्तक (HCF) x है। x का मान निम्न में से किन संख्याओं के बीच होगा?

- Ans**
- 1. 60 और 65
 - 2. 50 और 55
 - 3. 45 और 50
 - 4. 55 और 60

Question ID : **65497833995**
Status : **Answered**
Chosen Option : **4**

Q.24 कोई धनराशि एक निश्चित साधारण व्याज दर पर 3 वर्ष में ₹820 हो जाती है और 4 वर्ष में ₹894 हो जाती है। 9 वर्ष बाद संचित व्याज कितना होगा?

- Ans**
- 1. ₹766
 - 2. ₹686
 - 3. ₹666
 - 4. ₹676

Question ID : **65497833988**
Status : **Answered**
Chosen Option : **3**

Q.25 एक खिलौने का क्रय मूल्य ₹375 है। एक दुकानदार 12 खिलौनों को 20% के लाभ पर और 8 खिलौनों को 10% की हानि पर बेचता है। यदि वह सभी 20 खिलौनों को 9% लाभ पर बेचता, तो उसके कुल लाभ पर क्या प्रभाव होता?

- Ans**
- 1. ₹75 बढ़ जाता
 - 2. ₹50 बढ़ जाता
 - 3. ₹65 घट जाता
 - 4. ₹55 घट जाता

Question ID : **65497833997**
Status : **Answered**
Chosen Option : **1**

Q.1 Select the option that can be used as a one-word substitute for the given group of words.

A deep-seated feeling of aversion

- Ans** 1. Sympathy
 2. Empathy
 3. Allopathy
 4. Antipathy

Question ID : **65497834012**
Status : **Not Answered**
Chosen Option : --

Q.2 Select the **INCORRECTLY** spelt word.

- Ans** 1. Futile
 2. Future
 3. Furnace
 4. Fertile

Question ID : **65497834020**
Status : **Not Answered**
Chosen Option : --

Q.3 Select the option that can be used as a one-word substitute for the given group of words.

Not easily excited or upset

- Ans** 1. Indecent
 2. Serious
 3. Placid
 4. Peaceful

Question ID : **65497834016**
Status : **Not Answered**
Chosen Option : --

Q.4 Select the option that can be used as a one-word substitute for the given group of words.

Animals living in the sea only

- Ans** 1. Cannibal
 2. Rodent
 3. Marine
 4. Ovine

Question ID : **65497834002**
Status : **Not Answered**
Chosen Option : --

Q.5 Select the most appropriate option that can substitute the underlined segment in the given sentence. If there is no need to substitute it, select 'No substitution required.'

In few words, he expressed his gratitude to me.

- Ans**
- 1. little
 - 2. No substitution required
 - 3. the few
 - 4. a few

Question ID : **65497834009**
Status : **Not Answered**
Chosen Option : --

Q.6 Select the INCORRECTLY spelt word.

- Ans**
- 1. Procure
 - 2. Massacre
 - 3. Mediocher
 - 4. Mediocre

Question ID : **65497834017**
Status : **Not Answered**
Chosen Option : --

Q.7 Select the most appropriate ANTONYM of the given word.

Emerge

- Ans**
- 1. Evolve
 - 2. Terminate
 - 3. Progress
 - 4. Disappear

Question ID : **65497834015**
Status : **Not Answered**
Chosen Option : --

Q.8 Parts of the given sentence have been given as options. One of them contains a grammatical error. Select the option that has the error.

Jim Corbett's books bringing to light the beauty of life amidst nature.

- Ans**
- 1. Jim Corbett's books
 - 2. amidst nature
 - 3. beauty of life
 - 4. bringing to light

Question ID : **65497834010**
Status : **Not Answered**
Chosen Option : --

Q.9 The following sentence has been split into four segments. Identify the segment that contains a grammatical error.

Which route / on the highway / have been blocked / by the police?

- Ans**
- 1. on the highway
 - 2. by the police
 - 3. have been blocked
 - 4. Which route

Question ID : **65497834006**
Status : **Not Answered**
Chosen Option : --

Q.10 The following sentence has been split into four segments. Identify the segment that contains a grammatical error.

The use of the animal power / is now considered / by many people / to be archaic and inefficient.

- Ans**
- 1. is now considered
 - 2. by many people
 - 3. to be archaic and inefficient
 - 4. The use of the animal power

Question ID : **65497834014**
Status : **Not Answered**
Chosen Option : --

Q.11 Select the most appropriate meaning of the given idiom.

A dog's life

- Ans**
- 1. A luxurious life
 - 2. A sheltered life
 - 3. A miserable life
 - 4. A meaningful life

Question ID : **65497834018**
Status : **Not Answered**
Chosen Option : --

Q.12 Select the most appropriate **ANTONYM** of the given word.

Regret

- Ans**
- 1. Contentment
 - 2. Dissatisfaction
 - 3. Impatience
 - 4. Irritation

Question ID : **65497834005**
Status : **Not Answered**
Chosen Option : --

Q.13 Select the most appropriate option to fill in the blank.

He _____ to find a second-hand book in a shop.

- Ans 1. handled
 2. managed
 3. trained
 4. achieved

Question ID : 65497834021
Status : Not Answered
Chosen Option : --

Q.14 Select the most appropriate synonym of the given word.

Hamper

- Ans 1. Loosen
 2. Explain
 3. Hinder
 4. Permit

Question ID : 65497834007
Status : Not Answered
Chosen Option : --

Q.15 Select the most appropriate synonym of the given word.

Bonanza

- Ans 1. Bonus
 2. Bane
 3. Bump
 4. Brink

Question ID : 65497834011
Status : Not Answered
Chosen Option : --

Q.16 Select the most appropriate option that can substitute the underlined word in the given sentence.

Indian's secularism and frequency serve as a role model to other developing countries.

- Ans 1. constantly
 2. illiteracy
 3. supremacy
 4. democracy

Question ID : 65497834003
Status : Not Answered
Chosen Option : --

Q.17 Select the most appropriate option to fill in the blank.

You must take your medicine _____.

- Ans 1. regularly
 2. usually
 3. constantly
 4. commonly

Question ID : 65497834019
Status : Not Answered
Chosen Option : --

Q.18 Select the most appropriate option that can substitute the underlined segment in the given sentence. If there is no need to substitute it, select 'No substitution required'.

The news are true.

- Ans 1. No substitution required
 2. news has true
 3. news are being true
 4. news is true

Question ID : 65497834013
Status : Not Answered
Chosen Option : --

Q.19 Select the most appropriate meaning of the given idiom.

To catch someone's fancy

- Ans 1. To appeal to someone
 2. To catch an infection
 3. To imagine things
 4. To dress up fashionably

Question ID : 65497834008
Status : Not Answered
Chosen Option : --

Q.20 Select the most appropriate option to fill in the blank.

Rima declared that she doesn't have much _____, just two bags.

- Ans 1. information
 2. luggage
 3. furniture
 4. burden

Question ID : 65497834004
Status : Not Answered
Chosen Option : --

Comprehension:

In the following passage, some words have been deleted. Read the passage carefully and select the most appropriate option to fill in each blank.

Mother Teresa was a humanitarian because she (1)_____ her entire life to the service of the sick and the (2)_____. She joined the sisters of Loreto at the age of 18 to (3)_____ a missionary in India. She started her missionary work in Darjeeling and (4)_____ the local language, Bengali. She soon took her vows (5)_____ a nun and also took the name, Teresa.

SubQuestion No : 21

Q.21 Select the most appropriate option to fill in blank no.1.

- Ans** 1. depleted
 2. devoted
 3. deputed
 4. destined

Question ID : **65497834023**
Status : **Not Answered**
Chosen Option : --

Comprehension:

In the following passage, some words have been deleted. Read the passage carefully and select the most appropriate option to fill in each blank.

Mother Teresa was a humanitarian because she (1)_____ her entire life to the service of the sick and the (2)_____. She joined the sisters of Loreto at the age of 18 to (3)_____ a missionary in India. She started her missionary work in Darjeeling and (4)_____ the local language, Bengali. She soon took her vows (5)_____ a nun and also took the name, Teresa.

SubQuestion No : 22

Q.22 Select the most appropriate option to fill in blank no.2.

- Ans** 1. abandoned
 2. separated
 3. dropped
 4. vacated

Question ID : **65497834024**
Status : **Not Answered**
Chosen Option : --

Comprehension:

In the following passage, some words have been deleted. Read the passage carefully and select the most appropriate option to fill in each blank.

Mother Teresa was a humanitarian because she (1)_____ her entire life to the service of the sick and the (2)_____. She joined the sisters of Loreto at the age of 18 to (3)_____ a missionary in India. She started her missionary work in Darjeeling and (4)_____ the local language, Bengali. She soon took her vows (5)_____ a nun and also took the name, Teresa.

SubQuestion No : 23

Q.23 Select the most appropriate option to fill in blank no.3.

- Ans** 1. becomes
 2. become
 3. became
 4. becoming

Question ID : **65497834025**
Status : **Not Answered**
Chosen Option : --

Comprehension:

In the following passage, some words have been deleted. Read the passage carefully and select the most appropriate option to fill in each blank.

Mother Teresa was a humanitarian because she (1)_____ her entire life to the service of the sick and the (2)_____. She joined the sisters of Loreto at the age of 18 to (3)_____ a missionary in India. She started her missionary work in Darjeeling and (4)_____ the local language, Bengali. She soon took her vows (5)_____ a nun and also took the name, Teresa.

SubQuestion No : 24

Q.24 Select the most appropriate option to fill in blank no.4.

- Ans**
- 1. recited
 - 2. read
 - 3. learnt
 - 4. wrote

Question ID : **65497834026**
Status : **Not Answered**
Chosen Option : --

Comprehension:

In the following passage, some words have been deleted. Read the passage carefully and select the most appropriate option to fill in each blank.

Mother Teresa was a humanitarian because she (1)_____ her entire life to the service of the sick and the (2)_____. She joined the sisters of Loreto at the age of 18 to (3)_____ a missionary in India. She started her missionary work in Darjeeling and (4)_____ the local language, Bengali. She soon took her vows (5)_____ a nun and also took the name, Teresa.

SubQuestion No : 25

Q.25 Select the most appropriate option to fill in blank no.5.

- Ans**
- 1. as
 - 2. while
 - 3. when
 - 4. of

Question ID : **65497834027**
Status : **Not Answered**
Chosen Option : --

Section : **Part D Hindi**

Q.1 दिए गए वाक्यांश के लिए एक शब्द दीजिए।

जो ईश्वर को न मानता हो

- Ans**
- 1. नास्तिक
 - 2. सात्विक
 - 3. आस्तिक
 - 4. असात्विक

Question ID : **65497834036**
Status : **Answered**
Chosen Option : 1

Q.2 निम्नलिखित में से शुद्ध वर्तनी वाला शब्द कौन सा है?

- Ans
- 1. नछत्र
 - 2. नच्छत्र
 - 3. नक्षत्र
 - 4. नक्छत्र

Question ID : 65497834045
Status : Answered
Chosen Option : 3

Q.3 दिए गए शब्द के विलोम शब्द का चयन करें-

सौम्य

- Ans
- 1. साध्य
 - 2. कुटिल
 - 3. उग्र
 - 4. सभ्य

Question ID : 65497834030
Status : Answered
Chosen Option : 3

Q.4 दिए गए वाक्य का वो भाग ज्ञात करें जिसमें कोई त्रुटि है। यदि कोई त्रुटि नहीं है, तो 'कोई त्रुटि नहीं है' चुनें।

कपिल देव ने (1) पहले ओवर की पहले गेंद पर (2) रिचर्डसन को आउट कर दिया। (3) कोई त्रुटि नहीं है (4)

- Ans
- 1. 2
 - 2. 4
 - 3. 1
 - 4. 3

Question ID : 65497834029
Status : Answered
Chosen Option : 1

Q.5 दिए गए विकल्पों में से निम्नलिखित वाक्यांश के लिए एक शब्द का चयन कीजिए-

जिसे त्याग देना उचित हो

- Ans
- 1. त्याग
 - 2. त्याज्य
 - 3. त्यागपत्र
 - 4. त्राता

Question ID : 65497834038
Status : Answered
Chosen Option : 2

Q.6 रिक्त स्थान की पूर्ति करने के लिए सर्वाधिक उपयुक्त विकल्प का चयन करें।

भाई की शादी पर दीपक _____ से भरकर नाचने लगा।

- Ans
- 1. प्रकाश
 - 2. उल्लास
 - 3. हर्ष
 - 4. उन्माद

Question ID : 65497834042
Status : Answered
Chosen Option : 2

Q.7 दिए गए शब्द के समानार्थी शब्द का चयन करें।

धरती

- Ans
- 1. धज
 - 2. मेदिनी
 - 3. आत्मजा
 - 4. पुलिनवती

Question ID : 65497834035
Status : Answered
Chosen Option : 2

Q.8 दिए गए वाक्य में रेखांकित खंड को प्रतिस्थापित करने के लिए सर्वाधिक उपयुक्त विकल्प का चयन करें।
यदि इसे प्रतिस्थापित करने की आवश्यकता नहीं है, तो विकल्प 'किसी बदलाव की आवश्यकता नहीं है'
का चयन करें।

सूर्यास्त हो गया पर मज़दूरों ने उस काम समाप्त नहीं किया।

- Ans
- 1. मज़दूरों ने उसका काम समाप्त नहीं किया।
 - 2. मज़दूरों ने उसके काम समाप्त नहीं किया।
 - 3. मज़दूरों ने वह काम समाप्त नहीं किये।
 - 4. किसी बदलाव की आवश्यकता नहीं है।

Question ID : 65497834033
Status : Answered
Chosen Option : 1

Q.9 रिक्त स्थान की पूर्ति करने के लिए सर्वाधिक उपयुक्त शब्द का चयन करें।

_____ ही स्वतंत्रता की धात्री है।

- Ans
- 1. उग्रता
 - 2. व्यस्तता
 - 3. शीघ्रता
 - 4. नम्रता

Question ID : 65497834028
Status : Answered
Chosen Option : 4

Q.10 रिक्त स्थान की पूर्ति करने के लिए सर्वाधिक उपयुक्त विकल्प का चयन करें।

राष्ट्रपति ने लेखकों को पुरस्कार _____ किया।

- Ans 1. प्रदान
 2. अनुदान
 3. समर्पण
 4. दान

Question ID : 65497834039
Status : Answered
Chosen Option : 1

Q.11 दिए गए वाक्य का वह भाग ज्ञात करें जिसमें कोई त्रुटि है। यदि कोई त्रुटि नहीं है, तो 'कोई त्रुटि नहीं है' चुनें।

उसने अपने घर आने के लिए, आग्रहपूर्ण होकर कहा।

- Ans 1. उसने अपने घर
 2. आग्रहपूर्ण होकर कहा।
 3. कोई त्रुटि नहीं है।
 4. आने के लिए,

Question ID : 65497834034
Status : Answered
Chosen Option : 2

Q.12 दिए गए वाक्य में रेखांकित अंश को प्रतिस्थापित करने के लिए सर्वाधिक उपयुक्त विकल्प का चयन करें।

वहाँ असंख्य जनसमूह उमड़ पड़ा।

- Ans 1. अधिक
 2. बहुत
 3. अपार
 4. अनगिनत

Question ID : 65497834047
Status : Answered
Chosen Option : 3

Q.13 दिए गए वाक्य में रेखांकित खंड को प्रतिस्थापित करने के लिए सर्वाधिक उपयुक्त विकल्प का चयन करें। यदि इसे प्रतिस्थापित करने की आवश्यकता नहीं है, तो विकल्प 'किसी बदलाव की आवश्यकता नहीं है' का चयन करें।

माधव क्रिकेट खेलने के लिए अभी तुम्हारा घर आ रहा है।

- Ans 1. के लिए अभी तुम्हारे घर आ रहा है।
 2. के लिए अभी तुम्हारा घर आ रहे हैं।
 3. का लिए अभी तुम्हारा घर आ रहा है।
 4. किसी बदलाव की आवश्यकता नहीं है।

Question ID : 65497834032
Status : Answered
Chosen Option : 1

Q.14 निम्नलिखित में से शुद्ध वर्तनी वाला शब्द कौन सा है?

- Ans
- 1. प्रज्वलित
 - 2. प्रज्वलीत
 - 3. प्रज्वलीत
 - 4. प्रज्वलित

Question ID : 65497834046
Status : Answered
Chosen Option : 3

Q.15 दिए गए वाक्य के किस भाग में त्रुटि है?

वह बड़ा जबरजस्त शिकारी था।

- Ans
- 1. जबरजस्त
 - 2. बड़ा
 - 3. शिकारी था।
 - 4. वह

Question ID : 65497834043
Status : Answered
Chosen Option : 1

Q.16 दिए गए वाक्यांश के लिए एक शब्द दीजिए-

किसी बात को बहुत बढ़ा- चढ़ाकर कहना

- Ans
- 1. अतिवृष्टि
 - 2. अतिशयोक्ति
 - 3. अनसुनी
 - 4. अतींद्रिय

Question ID : 65497834031
Status : Answered
Chosen Option : 2

Q.17 'पहाड़' का पर्यायवाची है-

- Ans
- 1. अचल
 - 2. गिरीश
 - 3. अनंत
 - 4. तुरंग

Question ID : 65497834044
Status : Answered
Chosen Option : 1

Q.18 निम्नलिखित प्रश्न में, दिए गए चार विकल्पों में से, उस विकल्प का चयन करें, जो दिए गए मुहावरे के अर्थ को व्यक्त करता है।

अंधेरे में तीर चलाना

- Ans
- 1. इधर-उधर करना
 - 2. टाल-मटोल करना
 - 3. व्यर्थ श्रम करना
 - 4. लक्ष्य-विहीन प्रयास करना

Question ID : 65497834037
Status : Answered
Chosen Option : 4

Q.19 उसने तो पिता की नाक कटवा दी।

रेखांकित मुहावरे का सही अर्थ लिखिए-

- Ans
- 1. बहुत हानि होना।
 - 2. जवाब नहीं देना
 - 3. प्रतिष्ठा को हानि पहुँचाना।
 - 4. विवाह करना

Question ID : 65497834041
Status : Answered
Chosen Option : 3

Q.20 अच्छा कार्य करने से पुरस्कार मिलते हैं।

रेखांकित शब्द का सही विलोम बताइए-

- Ans
- 1. दंड
 - 2. भेंट
 - 3. ईनाम
 - 4. उपहार

Question ID : 65497834040
Status : Answered
Chosen Option : 1

Comprehension:

दिए गए गद्यांश में कुछ शब्द हटा दिए गए हैं। दिए गए विकल्पों की सहायता से रिक्त स्थान भरें। प्रत्येक संख्या के लिए सर्वाधिक उपयुक्त विकल्प का चयन करें।

कुत्ते को पालना बहुत ही (1) _____ अनुभव है। सभी पशु नहीं पाले जा सकते। कुत्ता सबसे अधिक (2) _____ पशु है। गरीब-अमीर सभी लोग कुत्ते को पालने का शौक पूरा करते हैं। सच बात यह है कि कुत्ता पलने को हमेशा तैयार रहता है। उसे स्नेह और भोजन देने वाला (3) _____ चाहिए। वह जल्दी पल जाता है। कुत्ता (4) _____ की भाषा जानता है। कोई भी मनुष्य रोटी का टुकड़ा डालकर उसे अपना (5) _____ बना सकता है।

SubQuestion No : 21

Q.21 गद्यांश के रिक्त स्थान (1) के लिए सर्वाधिक उपयुक्त शब्द होगा-

- Ans
- 1. सुविधाजनक
 - 2. दुरुह
 - 3. खराब
 - 4. आनंददायक

Question ID : 65497834049
Status : Answered
Chosen Option : 4

Comprehension:

दिए गए गद्यांश में कुछ शब्द हटा दिए गए हैं। दिए गए विकल्पों की सहायता से रिक्त स्थान भरें। प्रत्येक संख्या के लिए सर्वाधिक उपयुक्त विकल्प का चयन करें।

कुत्ते को पालना बहुत ही (1) _____ अनुभव है। सभी पशु नहीं पाले जा सकते। कुत्ता सबसे अधिक (2) _____ पशु है। गरीब-अमीर सभी लोग कुत्ते को पालने का शौक पूरा करते हैं। सच बात यह है कि कुत्ता पलने को हमेशा तैयार रहता है। उसे स्नेह और भोजन देने वाला (3) _____ चाहिए। वह जल्दी पल जाता है। कुत्ता (4) _____ की भाषा जानता है। कोई भी मनुष्य रोटी का टुकड़ा डालकर उसे अपना (5) _____ बना सकता है।

SubQuestion No : 22

Q.22 गद्यांश के रिक्त स्थान (2) के लिए सर्वाधिक उपयुक्त शब्द होगा-

- Ans
- 1. जंगली
 - 2. सभ्य
 - 3. पालतू
 - 4. फालतू

Question ID : 65497834050
Status : Answered
Chosen Option : 2

Comprehension:

दिए गए गद्यांश में कुछ शब्द हटा दिए गए हैं। दिए गए विकल्पों की सहायता से रिक्त स्थान भरें। प्रत्येक संख्या के लिए सर्वाधिक उपयुक्त विकल्प का चयन करें।

कुत्ते को पालना बहुत ही (1) _____ अनुभव है। सभी पशु नहीं पाले जा सकते। कुत्ता सबसे अधिक (2) _____ पशु है। गरीब-अमीर सभी लोग कुत्ते को पालने का शौक पूरा करते हैं। सच बात यह है कि कुत्ता पलने को हमेशा तैयार रहता है। उसे स्नेह और भोजन देने वाला (3) _____ चाहिए। वह जल्दी पल जाता है। कुत्ता (4) _____ की भाषा जानता है। कोई भी मनुष्य रोटी का टुकड़ा डालकर उसे अपना (5) _____ बना सकता है।

SubQuestion No : 23

Q.23 गद्यांश के रिक्त स्थान (3) के लिए सर्वाधिक उपयुक्त शब्द होगा-

- Ans
- 1. साथी
 - 2. प्रिय
 - 3. मालिक
 - 4. सहयोगी

Question ID : 65497834051
Status : Answered
Chosen Option : 3

Comprehension:

दिए गए गद्यांश में कुछ शब्द हटा दिए गए हैं। दिए गए विकल्पों की सहायता से रिक्त स्थान भरें। प्रत्येक संख्या के लिए सर्वाधिक उपयुक्त विकल्प का चयन करें।

कुत्ते को पालना बहुत ही (1) _____ अनुभव है। सभी पशु नहीं पाले जा सकते। कुत्ता सबसे अधिक (2) _____ पशु है। गरीब-अमीर सभी लोग कुत्ते को पालने का शौक पूरा करते हैं। सच बात यह है कि कुत्ता पलने को हमेशा तैयार रहता है। उसे स्नेह और भोजन देने वाला (3) _____ चाहिए। वह जल्दी पल जाता है। कुत्ता (4) _____ की भाषा जानता है। कोई भी मनुष्य रोटी का टुकड़ा डालकर उसे अपना (5) _____ बना सकता है।

SubQuestion No : 24

Q.24 गद्यांश के रिक्त स्थान (4) के लिए सर्वाधिक उपयुक्त शब्द होगा-

- Ans
- 1. रोटी
 - 2. जानवरों
 - 3. जूते
 - 4. मार

Question ID : 65497834052
Status : Answered
Chosen Option : 1

Comprehension:

दिए गए गद्यांश में कुछ शब्द हटा दिए गए हैं। दिए गए विकल्पों की सहायता से रिक्त स्थान भरें। प्रत्येक संख्या के लिए सर्वाधिक उपयुक्त विकल्प का चयन करें।

कुत्ते को पालना बहुत ही (1) _____ अनुभव है। सभी पशु नहीं पाले जा सकते। कुत्ता सबसे अधिक (2) _____ पशु है। गरीब-अमीर सभी लोग कुत्ते को पालने का शौक पूरा करते हैं। सच बात यह है कि कुत्ता पालने को हमेशा तैयार रहता है। उसे स्नेह और भोजन देने वाला (3) _____ चाहिए। वह जल्दी पल जाता है। कुत्ता (4) _____ की भाषा जानता है। कोई भी मनुष्य रोटी का टुकड़ा डालकर उसे अपना (5) _____ बना सकता है।

SubQuestion No : 25

Q.25 गद्यांश के रिक्त स्थान (5) के लिए सर्वाधिक उपयुक्त शब्द होगा-

- Ans**
- 1. आराध्य
 - 2. पालक
 - 3. स्वामी
 - 4. सेवक

Question ID : **65497834053**

Status : **Answered**

Chosen Option : **4**