


Constable GD in CAPFs NIA SSF and Rifleman GD in Assam Rifles Examination 2021

Roll Number	www.GovtJobsAlert.In
Candidate Name	www.GovtJobsAlert.In
Venue Name	Arya Institute of Engineering and Technology
Exam Date	10/12/2021
Exam Time :	12:30 PM - 2:00 PM
Subject	Constable GD 2021

Section : Part A General Intelligence and Reasoning

Q.1 निम्नांकित आकृतियों में एक कागज के टुकड़े को मोड़ने का क्रम और मुड़े हुए कागज को काटने की विधि दर्शाई गई है। यह कागज खोलने पर कैसा दिखेगा?



Ans

- 1.
- 2.
- 3.
- 4.

Question ID : 65497831277

Status : Answered

Chosen Option : 3

Q.2 उस विकल्प का चयन कीजिए, जिसका तीसरे पद से वही संबंध है, जो दूसरे पद का पहले पद से है।

PLUM : KOFN :: MIST : ?

- Ans 1. ORGH
2. NRHG
3. ROGH
4. NRFH

Question ID : 65497831282

Status : Answered

Chosen Option : 2

Q.3 अक्षरों के उस संयोजन का चयन करें जो दी गई श्रृंखला के रिक्त स्थान में क्रमिक रूप से रखे जाने पर श्रृंखला को पूर्ण करेगा।

LP_ST__Q_TL__ST

- Ans 1. LQPQSP
 2. QLPSQP
 3. PQSLSP
 4. PQLQLP

Question ID : 65497831261
Status : Answered
Chosen Option : 2

Q.4 दिए गए पैटर्न का ध्यानपूर्वक अध्ययन कीजिए और उस संख्या का चयन कीजिए जो इसमें प्रश्नवाचक चिह्न (?) के स्थान पर आ सकती है।

5 17 61
6 21 75
8 ? 103

- Ans 1. 27
 2. 29
 3. 23
 4. 21

Question ID : 65497831272
Status : Answered
Chosen Option : 2

Q.5 यदि 'A' का अर्थ 'जोड़' है, 'B' का अर्थ 'गुणा' है, 'C' का अर्थ 'घटाना' है, और 'D' का अर्थ 'भाग' है, तो निम्न व्यंजक का मान कितना होगा?

483 D 23 A 93 C 16 B 4

- Ans 1. 60
 2. 57
 3. 50
 4. 67

Question ID : 65497831273
Status : Answered
Chosen Option : 3

Q.6 यदि 'A % B' का अर्थ है - 'A, B की पुत्री है', 'A & B' का अर्थ है - 'A, B की पत्नी है', और 'A # B' का अर्थ है - 'A, B का पुत्र है', तो व्यंजक V % G & H # L & Z में, G का Z से क्या संबंध है?

- Ans 1. भाभी/ननद/साली/देवरानी/जेठानी
 2. पुत्रवधू
 3. मामी/मौसी
 4. पुत्री

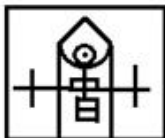
Question ID : 65497831284
Status : Answered
Chosen Option : 2

Q.7 उस विकल्प का चयन कीजिए जिसमें दी गई आकृति सम्मिहित है। (आकृति को घुमाने की अनुमति नहीं है)

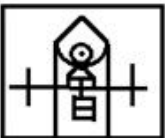
फ

Ans

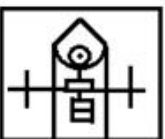
✓ 1.




✗ 2.



✗ 3.



✗ 4.



Question ID : 65497831276

Status : Answered

Chosen Option : 1

Q.8 Six professional interior designers, Pavan, Nayan, Ratan, Shiva, Tanuja and Urmila, are sitting around a hexagonal table, each at one corner, and are facing the centre of the hexagonal table. Pavan is second to the left of Urmila. Nayan is the neighbour of Ratan and Shiva. Tanuja is second to the left of Shiva. Who among the following are the neighbours of Pavan?

Ans

✗ 1. Urmila and Ratan

✗ 2. Shiva and Nayan

✓ 3. Tanuja and Ratan

✗ 4. Urmila and Tanuja

Question ID : 65497831269

Status : Answered

Chosen Option : 3

Q.9 एक निश्चित कूट भाषा में, 'CROW' को '3-18-15-23' के रूप में कूटबद्ध किया जाता है और 'FISH' को '6-9-19-8' के रूप में कूटबद्ध किया जाता है। उसी भाषा में 'BULL' को किस रूप में कूटबद्ध किया जाएगा?

Ans

✓ 1. 2-21-12-12

✗ 2. 3-20-11-11

✗ 3. 2-22-12-12

✗ 4. 2-22-13-13

Question ID : 65497831265

Status : Answered

Chosen Option : 1

Q.10 दिए गए विकल्पों में से उस संख्या का चयन करें जो निम्नलिखित श्रृंखला में प्रश्न चिह्न (?) के स्थान पर आ सकती है।

6, 54, 378, 1890, ?

- Ans
- 1. 6811
 - 2. 5670
 - 3. 6002
 - 4. 4236

Question ID : 65497831266
Status : Answered
Chosen Option : 2

Q.11 जिस प्रकार 'माउस' 'कंप्यूटर' से संबंधित है, उसी प्रकार 'फ्लैश' '_____' से संबंधित है।

- Ans
- 1. कैमरा
 - 2. ताश
 - 3. प्रिंटर
 - 4. चमक

Question ID : 65497831279
Status : Answered
Chosen Option : 1

Q.12 दिए गए विकल्पों में से उस अक्षर-समूह का चयन करें, जो निम्नलिखित श्रृंखला में प्रश्नवाचक चिह्न (?) के स्थान पर आ सकता है।

BZCA, EXFY, HVIW, KTLU, ?

- Ans
- 1. NRPS
 - 2. ORNP
 - 3. NROS
 - 4. RNPO

Question ID : 65497831278
Status : Answered
Chosen Option : 3

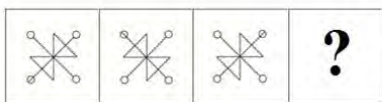
Q.13 दिए गए विकल्पों में से उस संख्या का चयन करें जो निम्नलिखित श्रृंखला में प्रश्न चिह्न (?) के स्थान पर आ सकती है।

241, 258, 275, 292, ?

- Ans
- 1. 299
 - 2. 313
 - 3. 325
 - 4. 309

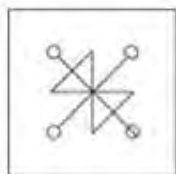
Question ID : 65497831262
Status : Answered
Chosen Option : 4

Q.14 दिए गए विकल्पों में से उस आकृति का चयन करें जो निम्नलिखित श्रृंखला में प्रश्न चिह्न (?) के स्थान पर आ सकती है।

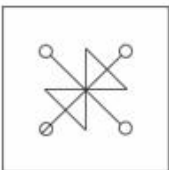


Ans

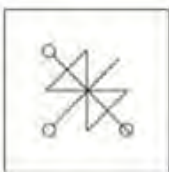
✓ 1.



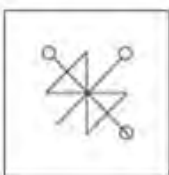
✗ 2.



✗ 3.



✗ 4.



Question ID : 65497831263

Status : Answered

Chosen Option : 1

Q.15 एक निश्चित कूट भाषा में CLOUD को DMNTE लिखा जाता है और MANGO को NZOHN लिखा जाता है। उसी कूट भाषा में PASTEUR को किस प्रकार लिखा जाएगा?

Ans ✓ 1. QZTUDTS

✗ 2. QZRSVVS

✗ 3. UTBQSVF

✗ 4. QBTUFVS

Question ID : 65497831283

Status : Answered

Chosen Option : 1

Q.16 मनोज अपने घर से निकल कर 7 घंटे में मंदिर पहुंचता है। उसने अपनी दूरी का 1/4 भाग, 10 km/h की चाल से तय किया तथा शेष दूरी को 12 km/h से तय किया। उसके घर से मंदिर की दूरी ज्ञात कीजिए।

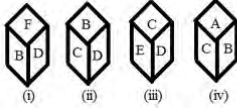
- Ans
- 1. 70 km
 - 2. 90 km
 - 3. 72 km
 - 4. 80 km

Question ID : 65497831274

Status : Answered

Chosen Option : 4

Q.17 एक पासे की चार अलग-अलग स्थितियां दर्शाई गई हैं। उस अक्षर का चयन कीजिए जो 'B' दर्शाने वाले फलक के विपरीत फलक पर होगा?



- Ans
- 1. C
 - 2. D
 - 3. E
 - 4. F

Question ID : 65497831275

Status : Answered

Chosen Option : 3

Q.18 उस वेन आरेख का चयन करें, जो निम्नलिखित वर्गों के बीच के संबंध को सबसे अच्छे तरीके से दर्शाता है।

नागरिक शास्त्र, विषय, रसायन विज्ञान

Ans

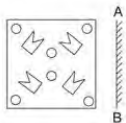
- 1.
- 2.
- 3.
- 4.

Question ID : 65497831281

Status : Answered

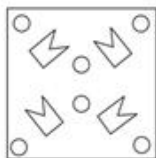
Chosen Option : 1

Q.19 दर्पण को 'AB' पर रखे जाने पर, जैसा कि दर्शाया गया है, दी गई आकृति की सही दर्पण छवि का चयन करें।

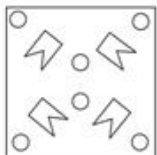


Ans

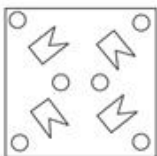
✓ 1.



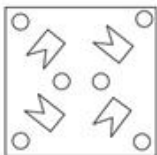
✗ 2.



✗ 3.



✗ 4.



Question ID : 65497831267

Status : Answered

Chosen Option : 1

Q.20 चार अक्षर-समूह दिए गए हैं, जिनमें से तीन किसी तरह से एक समान हैं और एक भिन्न है। उस अक्षर-समूह का चयन करें जो भिन्न है।

Ans ✓ 1. STUV

✗ 2. FGHE

✗ 3. HIJG

✗ 4. BCDA

Question ID : 65497831264

Status : Answered

Chosen Option : 1

Q.21 उस विकल्प का चयन कीजिए जिसका तीसरी संख्या से वही संबंध है जो दूसरी संख्या का पहली संख्या से और छठी संख्या का पांचवी संख्या से है।

13: 156 :: 18: ? :: 17 : 272

Ans 1. 305

2. 306

3. 308

4. 307

Question ID : 65497831271

Status : Answered

Chosen Option : 2

Q.22 दिए गए कथनों और निष्कर्षों को ध्यानपूर्वक पढ़ें। यह मानते हुए कि कथनों में दी गई सूचना सत्य है, भले ही वह सामान्य रूप से ज्ञात तथ्यों से भिन्न प्रतीत होती हो, बताइए कि दिए गए निष्कर्षों में से कौन सा/से निष्कर्ष कथनों का तार्किक रूप से अनुसरण करता है (करते हैं)।

कथन :

सभी बेल्ट, जूते हैं।

सभी जूते, टोपियां हैं।

कुछ हैट, टोपियां हैं।

निष्कर्ष :

I. कुछ टोपियां, बेल्ट हैं।

II. कुछ हैट, जूते हैं।

III. सभी जूते, बेल्ट हैं।

Ans 1. केवल निष्कर्ष I अनुसरण करता है।

2. केवल निष्कर्ष I और III अनुसरण करते हैं।

3. केवल निष्कर्ष II अनुसरण करता है।

4. केवल निष्कर्ष I और II अनुसरण करते हैं।

Question ID : 65497831270

Status : Answered

Chosen Option : 1

Q.23 पाँच व्यक्ति एक पंक्ति में उत्तर दिशा की ओर मुँह किए हुए खड़े हैं। G, J के दाएँ दूसरे स्थान पर खड़ा है। H, K के बगल में नहीं है। यदि M दाएँ छोर से दूसरे स्थान पर खड़ा है, तो पंक्ति के बाएँ छोर पर कौन खड़ा है?

Ans 1. G

2. M

3. J

4. K

Question ID : 65497831280

Status : Answered

Chosen Option : 3

Q.24 एक निश्चित कूट भाषा में, 'GLOBE' को 'KPKFA' लिखा जाता है। उसी कूट भाषा में, 'DRINK' को क्या लिखा जाएगा?

- Ans
- 1. ZVMRG
 - 2. HNEJO
 - 3. ZRVMG
 - 4. HVERO

Question ID : 65497831268
Status : Answered
Chosen Option : 4

Q.25 उस सही विकल्प का चयन कीजिए जो दिए गए शब्दों के उस क्रम को दर्शाता है जिस क्रम में वे अंग्रेजी शब्दकोश में आते हैं।

1. Mischievous
2. Miscreant
3. Millennium
4. Misconception
5. Millionaire

- Ans
- 1. 3, 5, 2, 4, 1
 - 2. 3, 5, 1, 4, 2
 - 3. 1, 2, 3, 4, 5
 - 4. 3, 5, 1, 2, 4

Question ID : 65497831260
Status : Answered
Chosen Option : 2

Section : Part B General Knowledge and General Awareness

Q.1 निम्नलिखित में से किसने चैस.कॉम (Chess.com) की 2020 जूनियर स्पीड ऑनलाइन चैस चैम्पियनशिप जीती?

- Ans
- 1. अलेक्सी सरना
 - 2. एंटोन स्मिरनोव
 - 3. निहाल सरीन
 - 4. एंड्रयू टैंग

Question ID : 65497831285
Status : Not Answered
Chosen Option : --

Q.2 वस्तुओं और सेवाओं के उत्पादन के लिए सबसे कम क्या आवश्यक है?

- Ans
- 1. कार्य करने के लिए लोग
 - 2. उपकरण, कच्चा माल और धन
 - 3. भूमि और अन्य प्राकृतिक संसाधन
 - 4. लोगों को शिक्षित करने के लिए संस्थान

Question ID : 65497831295
Status : Answered
Chosen Option : 4

Q.3 निम्नलिखित में से कौन सा अंग मानव नेत्र की संरचना से संबंधित है?

- Ans 1. जन्विका
 2. परितारिका (आइरिस)
 3. प्लीहा
 4. वर्तिकाग्र

Question ID : 65497831286
Status : Answered
Chosen Option : 2

Q.4 भारतीय सेना की पूर्वी कमान का मुख्यालय निम्नलिखित में से कहाँ पर स्थित है?

- Ans 1. लखनऊ
 2. गुवाहाटी
 3. कोलकाता
 4. पुणे

Question ID : 65497831290
Status : Answered
Chosen Option : 3

Q.5 अनेक विद्वान ऐसा मानते हैं कि टिगरिस-यूफ्रेट्स घाटी के मेसोपोटामियाई लोग, सिंधु घाटी सभ्यता को _____ कहते थे।

- Ans 1. मगन
 2. मेलुहा
 3. सुमेरियन
 4. बेबीलोन

Question ID : 65497831287
Status : Not Answered
Chosen Option : --

Q.6 जुलाई 2021 में, इंडियन ऑयल कॉर्पोरेशन लिमिटेड ने घोषणा की कि वह अपनी _____ रिफाइनरी में भारत का पहला 'ग्रीन हाइड्रोजन' संयंत्र स्थापित करेगा।

- Ans 1. पानीपत
 2. पारादीप
 3. हल्दिया
 4. मथुरा

Question ID : 65497831309
Status : Not Answered
Chosen Option : --

Q.7 भारतीय अंतर्राष्ट्रीय खिलाड़ी, के. एम. बीनामोल किस खेल से संबंधित है?

- Ans
- 1. कुश्ती
 - 2. बैडमिंटन
 - 3. एथलेटिक्स
 - 4. टेबल टेनिस

Question ID : 65497831292
Status : Not Answered
Chosen Option : --

Q.8 Bengal broke away from Mughal control under _____, who was deputy to the governor of the province.

- Ans
- 1. Murshid Quli Khan
 - 2. Qasim Khan
 - 3. Shaista Khan
 - 4. Farrukh Siyar

Question ID : 65497831300
Status : Answered
Chosen Option : 4

Q.9 नवंबर 2020 में, प्रधान मंत्री नरेंद्र मोदी ने दिल्ली के जवाहरलाल नेहरू विश्वविद्यालय परिसर में वीडियो कॉन्फ्रेंसिंग के माध्यम से _____ की एक प्रतिमा का अनावरण किया।

- Ans
- 1. मंगल पांडे
 - 2. रामकृष्ण परमहंस
 - 3. भगत सिंह
 - 4. स्वामी विवेकानंद

Question ID : 65497831303
Status : Answered
Chosen Option : 4

Q.10 मौलिद, निम्नलिखित में से किस त्योहार का दूसरा नाम है?

- Ans
- 1. ईद-उल-जुहा
 - 2. मिलाद-उन-नबी
 - 3. मुह्रम
 - 4. ईद-उल-फ़ितर

Question ID : 65497831289
Status : Not Answered
Chosen Option : --

Q.11 जलवायु परिवर्तन से जुड़े पेरिस समझौते के आधार पर राष्ट्रीय निर्धारित योगदान के लिए, भारत ने यह संकल्प लिया है कि 2030 तक, हमारी बिजली उत्पादन क्षमता का _____ गैर-जीवाश्म ईंधन स्रोतों से उत्पन्न होगा।

Ans 1. 40%

2. 20%

3. 30%

4. 10%

Question ID : 65497831299

Status : Answered

Chosen Option : 3

Q.12 1932 में हस्ताक्षरित पूना समझौता, महात्मा गांधी और _____ के बीच हुआ एक समझौता था, जिसके बाद महात्मा गांधी ने अपना अनशन समाप्त किया।

Ans 1. बीआर अम्बेडकर

2. मुहम्मद अली जिन्ना

3. लॉर्ड इरविन

4. जवाहरलाल नेहरू

Question ID : 65497831306

Status : Answered

Chosen Option : 1

Q.13 G.V.A. अर्थव्यवस्था के किसी क्षेत्र, उद्योग या प्रखंड में उत्पादित वस्तुओं और सेवाओं के मूल्य की माप होता है। G.V.A. का पूर्ण स्वरूप क्या है?

Ans 1. Gross Value Added (ग्रॉस वैल्यू एडेड)

2. Growth Value Added (ग्रोथ वैल्यू एडेड)

3. Growth Value Asset (ग्रोथ वैल्यू असेट)

4. Gross Value Asset (ग्रॉस वैल्यू असेट)

Question ID : 65497831294

Status : Answered

Chosen Option : 4

Q.14 'द्रोणाचार्य पुरस्कार' _____ से संबंधित है।

Ans 1. प्रतिष्ठित डॉक्टर और सर्जन

2. स्पोर्ट्स और खेलों में उत्कृष्ट कोच

3. प्रसिद्ध कलाकारों

4. असाधारण योद्धा

Question ID : 65497831301

Status : Answered

Chosen Option : 2

Q.15 भारत के संविधान में पहला संशोधन वर्ष _____ में किया गया था।

- Ans
- 1. 1954
 - 2. 1951
 - 3. 1950
 - 4. 1959

Question ID : 65497831302
Status : Answered
Chosen Option : 2

Q.16 भारत का सबसे लंबा नदी पुल, ढोला-सादिया निम्नलिखित में से किस नदी पर बनाया जा रहा है?

- Ans
- 1. ब्रह्मपुत्र
 - 2. गोदावरी
 - 3. गंगा
 - 4. यमुना

Question ID : 65497831293
Status : Not Answered
Chosen Option : --

Q.17 The excessive quantities of chemicals which get washed from the fields act as nutrients for _____ to flourish.

- Ans
- 1. fungi
 - 2. soil
 - 3. algae
 - 4. bacteria

Question ID : 65497831298
Status : Answered
Chosen Option : 4

Q.18 भारतीय संविधान का अनुच्छेद 72 निम्न में से किससे संबंधित है?

- Ans
- 1. संसद सदस्यों की योग्यता
 - 2. संसद का संविधान
 - 3. राष्ट्रपति की क्षमादान देने की शक्ति
 - 4. भारत सरकार के कार्य संचालन

Question ID : 65497831308
Status : Answered
Chosen Option : 3

Q.19 निम्नलिखित में से किसने अक्टूबर 2020 में वैश्विक गांधी शांति पुरस्कार जीता?

- Ans
- 1. संतोष शर्मा
 - 2. पूनम खंगारोत
 - 3. अनिता देवी
 - 4. कंचन शर्मा

Question ID : 65497831291
Status : Not Answered
Chosen Option : --

Q.20 राजस्व बंदोबस्त की महालवाड़ी प्रणाली के बारे में निम्नलिखित में से कौन सा कथन गलत है?

- Ans 1. इस प्रणाली में जमींदारों को राजस्व एकत्र करने और उसका भुगतान ईस्ट इंडिया कंपनी को करने का अधिकार दिया गया था।
2. इस प्रणाली के तहत भू-राजस्व को समय-समय पर संशोधित किया जाता था।
3. इस प्रणाली की अवधारणा होल्ड मैकेंज़ी ने दी थी।
4. इस प्रणाली का प्रस्ताव 1822 में पेश किया गया था।

Question ID : 65497831307
Status : Not Answered
Chosen Option : --

Q.21 क्यूपेम और कचोरिम नामक शहर किस भारतीय राज्य में स्थित हैं?

- Ans 1. सिक्किम
2. गोवा
3. कर्नाटक
4. मणिपुर

Question ID : 65497831304
Status : Not Answered
Chosen Option : --

Q.22 जुलाई 2020 में, निम्नलिखित में से किस मंत्रालय ने आत्मनिर्भर भारत अभियान के अंतर्गत 'मनोदर्पण' पहल की शुरुआत की?

- Ans 1. जनजातीय मामलों का मंत्रालय
2. शिक्षा मंत्रालय
3. स्वास्थ्य और परिवार कल्याण मंत्रालय
4. रक्षा मंत्रालय

Question ID : 65497831288
Status : Answered
Chosen Option : 3

Q.23 एम.एस.पी. (MSP) में वृद्धि ने किसानों को मोटे अनाज के उत्पादन से _____ के उत्पादन के लिए भूमि को तैयार करने के लिए मजबूर किया है।

- Ans 1. मक्का
2. छोटे बाजरा
3. गेहूँ और चावल
4. जौ और ज्वार

Question ID : 65497831297
Status : Answered
Chosen Option : 3

Q.24 भारत ने 2021 में आयोजित टोक्यो ओलंपिक गेम्स (2020) में _____ कांस्य पदक जीते।

- Ans
- 1. 5
 - 2. 3
 - 3. 7
 - 4. 4

Question ID : 65497831305
Status : Answered
Chosen Option : 2

Q.25 मुगल सम्राटों के शासन काल में, कथक मूल रूप से निम्न के दरबारों में दो 'घरानों' में विकसित हुआ:

- Ans
- 1. जयपुर और लखनऊ
 - 2. किराना और पटियाला
 - 3. ग्वालियर और आगरा
 - 4. इंदौर और मेवाड़

Question ID : 65497831296
Status : Not Answered
Chosen Option : --

Section : Part C Elementary Mathematics

Q.1 $\frac{2}{3}$, $\frac{4}{7}$ और $\frac{9}{13}$ का ल.स. (LCM) ज्ञात करें।

- Ans
- 1. 28
 - 2. 36
 - 3. 12
 - 4. 15

Question ID : 65497831320
Status : Answered
Chosen Option : 2

Q.2 15% वार्षिक ब्याज दर पर 2 वर्षों के लिए किसी निश्चित धनराशि का साधारण ब्याज, 10% वार्षिक ब्याज दर पर 2 वर्षों के लिए ₹5,000 के चक्रवृद्धि ब्याज का आधा है। साधारण ब्याज वाली राशि कितनी है?

- Ans
- 1. ₹2,000
 - 2. ₹1,750
 - 3. ₹1,050
 - 4. ₹2,250

Question ID : 65497831318
Status : Answered
Chosen Option : 2

Q.3 यदि पहली संख्या का 45%, दूसरी संख्या के दो-तिहाई के बराबर है, तो पहली संख्या और दूसरी संख्या का अनुपात ज्ञात कीजिए।

- Ans**
- 1. 30 : 27
 - 2. 40 : 27
 - 3. 9 : 10
 - 4. 40 : 9

Question ID : **65497831315**
Status : **Answered**
Chosen Option : **2**

Q.4 80 छात्रों की एक कक्षा में 40% लड़कियां हैं और शेष लड़के हैं। लड़कों का औसत भार 55.5 kg है। यदि कक्षा में सभी छात्रों का औसत भार 54 kg है, तो लड़कियों का औसत भार (kg में) क्या होगा?

- Ans**
- 1. 50.25
 - 2. 52
 - 3. 51
 - 4. 51.75

Question ID : **65497831326**
Status : **Answered**
Chosen Option : **4**

Q.5 यदि $(x + y) : (x - y) = 23 : 3$ है, तो $\frac{x^2 - y^2}{x^2 + y^2}$ का मान कितना होगा?

- Ans**
- 1. $\frac{269}{69}$
 - 2. $\frac{165}{269}$
 - 3. $\frac{69}{269}$
 - 4. $\frac{269}{165}$

Question ID : **65497831317**
Status : **Answered**
Chosen Option : **3**

Q.6 पच्चीस पुरुषों को प्रतिदिन 6 घंटे कार्य करते हुए एक निश्चित कार्य को पूरा करने में 16 दिन लगते हैं। प्रतिदिन 8 घंटे कार्य करते हुए 5 दिनों में कार्य को पूरा करने के लिए कितने पुरुषों की आवश्यकता होगी?

- Ans**
- 1. 54
 - 2. 60
 - 3. 68
 - 4. 56

Question ID : 65497831334
Status : Answered
Chosen Option : 2

Q.7 एक दुकानदार अपनी वस्तुओं पर क्रय मूल्य से 20% अधिक मूल्य अंकित करता है। वह अंकित मूल्य पर एक-चौथाई वस्तुएं बेचता है और शेष वस्तुओं को अंकित मूल्य पर 30% छूट पर बेचता है। उसका लाभ/हानि प्रतिशत कितना है?

- Ans**
- 1. लाभ 7%
 - 2. हानि 11%
 - 3. लाभ 11%
 - 4. हानि 7%

Question ID : 65497831314
Status : Answered
Chosen Option : 4

Q.8 यदि $(x - y)$ का 30% = $(x + y)$ का 20% है, तो y, x का कितना प्रतिशत है?

- Ans**
- 1. 20%
 - 2. 35%
 - 3. 24%
 - 4. 15%

Question ID : 65497831323
Status : Answered
Chosen Option : 1

Q.9 58 km/h की चाल से चलने वाली एक ट्रेन X, विपरीत दिशा में 50 km/h की चाल से चलने वाली एक दूसरी ट्रेन Y को पूरी तरह से पार करने में 16 सेकंड का समय लेती है। ट्रेन Y की लंबाई, ट्रेन X की लंबाई की तीन गुनी है। ट्रेन Y एक पुल को 54 सेकंड में पार करती है। पुल की लंबाई (m) में ज्ञात करें।

- Ans**
- 1. 480
 - 2. 750
 - 3. 390
 - 4. 360

Question ID : 65497831313
Status : Answered
Chosen Option : 3

Q.10 A, B को ₹26,000 की धनराशि 2 साल के लिए और C को ₹15,000 की धनराशि 4 साल के लिए उधार देता है। उसे दोनों से साधारण ब्याज के रूप में कुल मिलाकर ₹8,960 प्राप्त होते हैं। तो ब्याज दर कितनी है?

- Ans**
- 1. 8%
 - 2. 7%
 - 3. 8.5%
 - 4. 7.5%

Question ID : **65497831311**
 Status : **Answered**
 Chosen Option : **1**

Q.11 एक खुदरा विक्रेता ₹1,125 में एक रिक्शा खरीदता है। इस पर उसके उपरिव्यय ₹75 हैं। यदि वह रिक्शे को ₹1,380 में बेचता है, तो उसका प्रतिशत लाभ ज्ञात कीजिए।

- Ans**
- 1. 12%
 - 2. 18%
 - 3. 15%
 - 4. 12.5%

Question ID : **65497831333**
 Status : **Answered**
 Chosen Option : **3**

Q.12 $\left[3\frac{1}{4} \div \left\{1\frac{1}{4} - \frac{1}{2}\left(2\frac{1}{2} - \frac{1}{4} - \frac{1}{6}\right)\right\}\right] \div \left(\frac{1}{5} \text{ of } 4\frac{1}{3}\right) - 2 \times 3 \div 6 \text{ of } \frac{1}{3}$ का मान ज्ञात करें।

- Ans**
- 1. 84
 - 2. 90
 - 3. 36
 - 4. 87

Question ID : **65497831312**
 Status : **Not Answered**
 Chosen Option : **--**

Q.13 A की आय, B की आय से 40% अधिक है, और C की आय, A और B की कुल आय से 30% कम है। A की आय, C की आय से कितने प्रतिशत कम है?

- Ans**
- 1. 25%
 - 2. 20%
 - 3. $16\frac{2}{3}\%$
 - 4. 16%

Question ID : **65497831328**
 Status : **Answered**
 Chosen Option : **3**

Q.14 45 छात्रों की एक कक्षा में, कक्षा की औसत आयु 18 वर्ष है। 35 छात्रों की औसत आयु 15 है। शेष 10 छात्रों की औसत आयु कितनी होगी?

- Ans**
- 1. 28.5
 - 2. 25.2
 - 3. 21.70
 - 4. 23.25

Question ID : **65497831322**
Status : **Answered**
Chosen Option : 1

Q.15 एक नाव धारा की दिशा में एक निश्चित दूरी को तय करने में 2 घंटे का समय लेती है, लेकिन धारा के विपरीत दिशा में समान दूरी तय करने में इसे $3\frac{1}{4}$ घंटे का समय लगता है। यदि धारा की चाल 5 km/h है, तो शांत जल में नाव की चाल (km/h में) ज्ञात करें।

- Ans**
- 1. 21
 - 2. 24
 - 3. 20
 - 4. 18

Question ID : **65497831330**
Status : **Answered**
Chosen Option : 1

Q.16 एक सब्जी विक्रेता थोक बाजार से ₹4,500 में सब्जियां खरीदता है। यदि ओवरहेड खर्च क्रय मूल्य का 4% है, तो 15% का लाभ कमाने के लिए उसे किस कीमत पर सब्जियां बेचना चाहिए?

- Ans**
- 1. ₹4,995
 - 2. ₹5,382
 - 3. ₹5,175
 - 4. ₹5,355

Question ID : **65497831310**
Status : **Answered**
Chosen Option : 2

Q.17 दो संख्याओं का ल.स.(LCM), उनके म.स.(HCF) का 12 गुना है। यदि एक संख्या 15 है और म.स.(HCF) और ल.स. (LCM) का योग 65 है, तो दूसरी संख्या ज्ञात करें।

- Ans**
- 1. 42
 - 2. 25
 - 3. 30
 - 4. 20

Question ID : **65497831321**
Status : **Answered**
Chosen Option : 4

Q.18 A एक विशेष कार्य को 18 दिनों में, B इसे 27 दिनों में और C इसे 36 दिनों में पूरा कर सकता है। A, B और C एकसाथ कार्य करना शुरू करते हैं, लेकिन A कार्य पूरा होने से 4 दिन पहले और B कार्य पूरा होने से 6 दिन पहले कार्य छोड़ देता है। B ने कितने दिनों तक कार्य किया?

- Ans
- 1. 12
 - 2. 8
 - 3. 10
 - 4. 6

Question ID : 65497831329
Status : Answered
Chosen Option : 4

Q.19 एक वस्तु पर उसके क्रय मूल्य से 60% अधिक अंकित किया गया है। यदि वस्तु को बेचने पर 20% का लाभ होता है, तो उसके अंकित मूल्य पर दी गई छूट प्रतिशत ज्ञात करें।

- Ans
- 1. 25%
 - 2. 20%
 - 3. 40%
 - 4. $12\frac{1}{2}\%$

Question ID : 65497831327
Status : Answered
Chosen Option : 1

Q.20 36 लीटर मिश्रण में दूध और पानी का अनुपात 3 : 1 है। यदि इस मिश्रण का 5 लीटर भाग, 5 लीटर दूध से प्रतिस्थापित कर दिया जाए तो नए मिश्रण में दूध और पानी का अनुपात ज्ञात करें।

- Ans
- 1. 3 : 7
 - 2. 5 : 2
 - 3. 8 : 1
 - 4. 3 : 5

Question ID : 65497831324
Status : Not Answered
Chosen Option : --

Q.21 निम्न व्यंजक को सरल कीजिए।

$$5 \div \frac{5}{6} \times 6 - 1 \div \frac{1}{2} \times 2$$

- Ans
- 1. 0
 - 2. 36
 - 3. 32
 - 4. 30

Question ID : 65497831332
Status : Answered
Chosen Option : 3

Q.22 एक लम्ब वृत्तीय बेलन, जिसके आधार का क्षेत्रफल 40 cm^2 और ऊंचाई 7 cm है, का आयतन कितना होगा?

- Ans
- 1. 160 cm^3
 - 2. 240 cm^3
 - 3. 280 cm^3
 - 4. 140 cm^3

Question ID : 65497831316
Status : Not Answered
Chosen Option : --

Q.23 यदि किसी आयत का परिमाप 50 cm है और उसके विकर्ण की लंबाई 23 cm है, तो आयत का क्षेत्रफल कितना होगा?

- Ans
- 1. 40 cm^2
 - 2. 48 cm^2
 - 3. 36 cm^2
 - 4. 50 cm^2

Question ID : 65497831319
Status : Not Answered
Chosen Option : --

Q.24 एक धनराशि कितने प्रतिशत वार्षिक दर पर 12 वर्ष में दोगुनी हो जाएगी?

- Ans
- 1. 7%
 - 2. $8\frac{2}{3}\%$
 - 3. $8\frac{1}{3}\%$
 - 4. $7\frac{1}{3}\%$

Question ID : 65497831325
Status : Answered
Chosen Option : 3

Q.25 किसी वस्तु का अंकित मूल्य ₹900 है। यदि कोई दुकानदार 36% छूट देने के बाद इसे 20% की हानि पर बेचता है, तो वस्तु का क्रय मूल्य ज्ञात करें।

- Ans
- 1. ₹740
 - 2. ₹720
 - 3. ₹760
 - 4. ₹620

Question ID : 65497831331
Status : Answered
Chosen Option : 2

Q.1 Select the option that can be used as a one-word substitute for the given group of words.

A period of ten years

- Ans** 1. Millennium
 2. Decade
 3. Fortnight
 4. Centenary

Question ID : **65497831354**
Status : **Not Answered**
Chosen Option : --

Q.2 Select the most appropriate meaning of the given idiom.

Loaded words

- Ans** 1. Words or language that is impolite and rude
 2. Words that carry more significance than their literal meaning
 3. Words that common people cannot understand
 4. Words that have been used by well-known writers

Question ID : **65497831340**
Status : **Not Answered**
Chosen Option : --

Q.3 Select the most appropriate ANTONYM of the given word.

Connect

- Ans** 1. Link
 2. Demur
 3. Affirm
 4. Detach

Question ID : **65497831337**
Status : **Not Answered**
Chosen Option : --

Q.4 Fill in the blank with the most appropriate word.

Pallavi gave a _____ smile when she saw her daughter on the stage.

- Ans** 1. strong
 2. thick
 3. deep
 4. broad

Question ID : **65497831349**
Status : **Not Answered**
Chosen Option : --

Q.5 Select the most appropriate ANTONYM of the given word.

Vaguely

- Ans 1. Distractedly
 2. Uncertainly
 3. Marginally
 4. Distinctly

Question ID : 65497831348
Status : Not Answered
Chosen Option : --

Q.6 Select the most appropriate option to fill in the blank.

The Elizabethan society was extremely _____ and therefore, believed in the existence of ghosts and witches.

- Ans 1. superstitious
 2. lovable
 3. industrious
 4. enthralling

Question ID : 65497831347
Status : Not Answered
Chosen Option : --

Q.7 Select the option that will improve the underlined part of the given sentence. In case no improvement is needed, select 'No improvement required'.

Children played cheerfully in the park all day.

- Ans 1. cheerfully on
 2. No improvement required
 3. cheerfully between
 4. cheerful at

Question ID : 65497831350
Status : Not Answered
Chosen Option : --

Q.8 Select the most appropriate option that can substitute the underlined segment in the given sentence. If there is no need to substitute it, select 'No substitution required'.

Does the manufacturer have a website where details of the product are available?

- Ans 1. on the product was available
 2. of the product is available
 3. for the product be available
 4. No substitution required

Question ID : 65497831342
Status : Not Answered
Chosen Option : --

Q.9 The following sentence has been split into four segments. Identify the segment that contains a grammatical error.

People vary greatly / on the way / they appear and / in their personality traits.

- Ans**
- 1. they appear and
 - 2. on the way
 - 3. in their personality traits
 - 4. People vary greatly

Question ID : **65497831341**
Status : **Not Answered**
Chosen Option : --

Q.10 Select the option that can be used as a one-word substitute for the given group of words.

Twice a month

- Ans**
- 1. Monthly
 - 2. Bimonthly
 - 3. Half-yearly
 - 4. Biennial

Question ID : **65497831344**
Status : **Not Answered**
Chosen Option : --

Q.11 The following sentence has been split into four segments. Identify the segment that contains a grammatical error.

Research in the medical field / claims that German measles / usually cause milder / infection than Martian measles.

- Ans**
- 1. infection than Martian measles
 - 2. claims that German measles
 - 3. Research in the medical field
 - 4. usually cause milder

Question ID : **65497831336**
Status : **Not Answered**
Chosen Option : --

Q.12 Select the most appropriate synonym of the given word.

Worth

- Ans**
- 1. Power
 - 2. Roughness
 - 3. Vigour
 - 4. Value

Question ID : **65497831343**
Status : **Not Answered**
Chosen Option : --

Q.13 Select the most appropriate **SYNONYM** of the given word.

Seize

- Ans 1. Shut
 2. Lose
 3. Offer
 4. Catch

Question ID : **65497831353**
Status : **Not Answered**
Chosen Option : --

Q.14 Select the option that can be used as a one-word substitute for the given group of words.

Song which is sung in a church by a group of singers

- Ans 1. Lullaby
 2. Dirge
 3. Anthem
 4. Carol

Question ID : **65497831338**
Status : **Not Answered**
Chosen Option : --

Q.15 Select the option that will improve the underlined part of the given sentence. In case no improvement is needed, select 'No improvement required'.

Hopefully, I will have got my driving license by the end of this year.

- Ans 1. will have get
 2. had got
 3. No improvement required
 4. would got

Question ID : **65497831351**
Status : **Not Answered**
Chosen Option : --

Q.16 Select the **INCORRECTLY** spelt word.

- Ans 1. Misanthorpe
 2. Mascot
 3. Socialite
 4. Alumni

Question ID : **65497831339**
Status : **Not Answered**
Chosen Option : --

Q.17 Select the most appropriate meaning of the given idiom.

Pain in the neck

- Ans** 1. Someone or something that is annoying or a nuisance
 2. Someone who is always angry
 3. Some who is forever ill
 4. Someone who is always depressed

Question ID : **65497831345**
Status : **Not Answered**
Chosen Option : --

Q.18 The following sentence has been split into four segments. Identify the segment that contains a grammatical error.

Iron is / most useful / than any / other metal.

- Ans** 1. other metal
 2. most useful
 3. than any
 4. Iron is

Question ID : **65497831352**
Status : **Not Answered**
Chosen Option : --

Q.19 Select the **INCORRECTLY** spelt word.

- Ans** 1. Transleate
 2. Transcend
 3. Transpire
 4. Transmit

Question ID : **65497831346**
Status : **Not Answered**
Chosen Option : --

Q.20 Select the most appropriate option to fill in the blank.

Because of the loss of _____ and lack of food, animals are forced to enter villages.

- Ans** 1. ecosystem
 2. habitats
 3. culture
 4. grasslands

Question ID : **65497831335**
Status : **Not Answered**
Chosen Option : --

Comprehension:

In the following passage, some words have been deleted. Read the passage carefully and select the most appropriate option to fill in each blank.

The Great Indian, or Thar, Desert forms an important southern extension of the Indo-Gangetic Plain. (1) _____ is mostly in north-western India but (2) _____ extends into eastern Pakistan and is (3) _____ an area of gently undulating terrain . Further, (4) _____ it are several areas dominated (5) _____ shifting sand dunes and numerous isolated hills.

SubQuestion No : 21

Q.21 Select the most appropriate option to fill in blank no. 1.

- Ans**
- 1. Where
 - 2. There
 - 3. That
 - 4. It

Question ID : **65497831356**
Status : **Not Answered**
Chosen Option : --

Comprehension:

In the following passage, some words have been deleted. Read the passage carefully and select the most appropriate option to fill in each blank.

The Great Indian, or Thar, Desert forms an important southern extension of the Indo-Gangetic Plain. (1) _____ is mostly in north-western India but (2) _____ extends into eastern Pakistan and is (3) _____ an area of gently undulating terrain . Further, (4) _____ it are several areas dominated (5) _____ shifting sand dunes and numerous isolated hills.

SubQuestion No : 22

Q.22 Select the most appropriate option to fill in blank no. 2.

- Ans**
- 1. moreover
 - 2. plus
 - 3. sometimes
 - 4. also

Question ID : **65497831357**
Status : **Not Answered**
Chosen Option : --

Comprehension:

In the following passage, some words have been deleted. Read the passage carefully and select the most appropriate option to fill in each blank.

The Great Indian, or Thar, Desert forms an important southern extension of the Indo-Gangetic Plain. (1) _____ is mostly in north-western India but (2) _____ extends into eastern Pakistan and is (3) _____ an area of gently undulating terrain . Further, (4) _____ it are several areas dominated (5) _____ shifting sand dunes and numerous isolated hills.

SubQuestion No : 23

Q.23 Select the most appropriate option to fill in blank no. 3.

- Ans**
- 1. mostly
 - 2. nearly
 - 3. closely
 - 4. quite

Question ID : **65497831358**
Status : **Not Answered**
Chosen Option : --

Comprehension:

In the following passage, some words have been deleted. Read the passage carefully and select the most appropriate option to fill in each blank.

The Great Indian, or Thar, Desert forms an important southern extension of the Indo-Gangetic Plain. (1)_____ is mostly in north-western India but (2)_____ extends into eastern Pakistan and is (3)_____ an area of gently undulating terrain . Further, (4)_____ it are several areas dominated (5)_____ shifting sand dunes and numerous isolated hills.

SubQuestion No : 24

Q.24 Select the most appropriate option to fill in blank no. 4.

- Ans 1. above
 2. interior
 3. within
 4. over

Question ID : **65497831359**
Status : **Not Answered**
Chosen Option : --

Comprehension:

In the following passage, some words have been deleted. Read the passage carefully and select the most appropriate option to fill in each blank.

The Great Indian, or Thar, Desert forms an important southern extension of the Indo-Gangetic Plain. (1)_____ is mostly in north-western India but (2)_____ extends into eastern Pakistan and is (3)_____ an area of gently undulating terrain . Further, (4)_____ it are several areas dominated (5)_____ shifting sand dunes and numerous isolated hills.

SubQuestion No : 25

Q.25 Select the most appropriate option to fill in blank no. 5.

- Ans 1. beside
 2. through
 3. by
 4. via

Question ID : **65497831360**
Status : **Not Answered**
Chosen Option : --

Section : **Part D Hindi**

Q.1 दिए गए वाक्य का वह भाग ज्ञात करें जिसमें कोई त्रुटि है। यदि कोई त्रुटि नहीं है, तो 'कोई त्रुटि नहीं है' चुनें।

एक नागरिक को (1)/ अपना कर्त्तव्य (2)/ निबाहना चाहिए।(3)/ कोई त्रुटि नहीं है(4)

- Ans 1. 3
 2. 1
 3. 4
 4. 2

Question ID : **65497831361**
Status : **Answered**
Chosen Option : 1

Q.2 दिए गए शब्द के समानार्थी शब्द का चयन कीजिए।

सूर्य

- Ans 1. आदित्य
 2. मयंक
 3. शशधर
 4. हिमांशु

Question ID : 65497831362
Status : Answered
Chosen Option : 3

Q.3 दिए गये शब्द का निम्न शब्दों में से विलोम नहीं है-

सुव्यवस्था

- Ans 1. गड़बड़ी
 2. अव्यवस्था
 3. सुचारू
 4. कुव्यवस्था

Question ID : 65497831364
Status : Answered
Chosen Option : 2

Q.4 नीचे दिए वाक्य में रिक्त-स्थान भरने के लिए सबसे उपयुक्त शब्द का चयन करें।

शर्मिला का ऊंची एड़ी का सैडिल _____ किए जा रहा था।

- Ans 1. गटर-गटर
 2. खिटिर-खिटिर
 3. खटर-पटर
 4. पटर-पटर

Question ID : 65497831369
Status : Answered
Chosen Option : 3

Q.5 रिक्त स्थान को भरने के लिए सबसे उपयुक्त शब्द का चयन करें।

दहेजप्रथा समाज के लिए _____ है।

- Ans 1. अभिशाप
 2. अपराध
 3. सम्मान
 4. अपमान

Question ID : 65497831368
Status : Answered
Chosen Option : 1

Q.6 'जो इंद्रियों की पहुँच से बाहर हो' वाक्यांश के लिए एक शब्द होगा-

- Ans 1. इंद्रियातीत
 2. इंद्रियनिग्रह
 3. ऐंद्रिक
 4. इंद्रियजित

Question ID : 65497831377
Status : Answered
Chosen Option : 2

Q.7 'अँधेरी रातों वाला पखवारा' वाक्यांश के लिए उपयुक्त शब्द होगा-

- Ans 1. अमावस्या
 2. शुक्लपक्ष
 3. कृष्णपक्ष
 4. मलमास

Question ID : 65497831380
Status : Answered
Chosen Option : 1

Q.8 दिए गए वाक्य में रेखांकित खंड को प्रतिस्थापित करने के लिए सबसे उपयुक्त विकल्प का चयन करें।
यदि इसे प्रतिस्थापित करने की आवश्यकता नहीं है, तो विकल्प 'किसी बदलाव की आवश्यकता नहीं है'
का चयन करें।

आजकल राजनीति बदल गया है।

- Ans 1. बदल गए हैं
 2. किसी बदलाव की आवश्यकता नहीं है।
 3. बदल गई हैं
 4. बदल गई है

Question ID : 65497831363
Status : Answered
Chosen Option : 4

Q.9 'आँखें दिखाना' मुहावरे का अर्थ बताइए।

- Ans 1. रूखापन
 2. आँखों में रोग होना
 3. शर्म करना
 4. बहुत गौर से देखना

Question ID : 65497831366
Status : Answered
Chosen Option : 4

Q.10 सही वर्तनी वाले शब्द का चयन करें।

- Ans 1. पैतृक
 2. पितृक
 3. पैत्रिक
 4. पेटृक

Question ID : 65497831370
Status : Answered
Chosen Option : 1

Q.11 माँ रसोईघर में बच्चों के लिए खाने कु पका रहि है।

अशुद्ध अंश को पहचानिए।

- Ans 1. रसोई घर मे
 2. बच्चों के लिए
 3. खाने कु पका रहि है।
 4. माँ

Question ID : 65497831374
Status : Answered
Chosen Option : 3

Q.12 निम्न चार विकल्पों में से, उस विकल्प का चयन करें जो दिए गये मुहावरे का अर्थ व्यक्त करता है।

'मोहर लगा देना'

- Ans 1. दामा लगाना
 2. लड़ाई जीत लेना
 3. पुष्टि करना
 4. निश्चित होना

Question ID : 65497831365
Status : Answered
Chosen Option : 3

Q.13 कम बोलने वाले व्यक्ति को क्या कहते हैं?

- Ans 1. गूंगा
 2. अल्पभाषी
 3. वाचाल
 4. गायक

Question ID : 65497831375
Status : Answered
Chosen Option : 2

Q.14 सही वर्तनी वाले शब्द का चयन करें।

- Ans 1. सन्यास
 2. संयास
 3. सनयास
 4. संन्यास

Question ID : 65497831371
Status : Answered
Chosen Option : 1

Q.15 दिये गये वाक्यांश के लिए एक शब्द दीजिए।

परम्परा से चली आ रही बात या कथा

- Ans 1. अनुश्रुति
 2. अविचारित
 3. अनुभूत
 4. पारम्परिक

Question ID : 65497831367
Status : Answered
Chosen Option : 4

Q.16 दिये गये वाक्य में रेखांकित अंश को प्रतिस्थापित करने के लिए सबसे उपयुक्त विकल्प का चयन करें।

मैं और मेरे मित्रों को हाकी खेलने का शौक है।

- Ans 1. मैंने
 2. मुझे
 3. मेरे को
 4. मैंने को

Question ID : 65497831373
Status : Answered
Chosen Option : 2

Q.17 दिये गये वाक्य के किस भाग में त्रुटि है?

यह मानसिक दासता सदा काल से चली आ रही है।

- Ans 1. चली आ
 2. सदा काल से
 3. यह मानसिक दासता
 4. रही है।

Question ID : 65497831378
Status : Answered
Chosen Option : 2

Q.18 नीचे दिए वाक्य में रिक्त-स्थान भरने के लिए सबसे उपयुक्त शब्द का चयन करें।

चाट पर मक्खियाँ _____ रही थीं।

- Ans
- 1. चहचहा
 - 2. सनसना
 - 3. फड़फड़ा
 - 4. भिनभिना

Question ID : 65497831372
Status : Answered
Chosen Option : 4

Q.19 'चंचल' का विलोम शब्द होगा-

- Ans
- 1. स्तब्ध
 - 2. अचेत
 - 3. अस्थिर
 - 4. स्थिर

Question ID : 65497831379
Status : Answered
Chosen Option : 4

Q.20 आकाश में बादल छाये हुए हैं।

कौन-सा शब्द रेखांकित शब्द का पर्याय नहीं है?

- Ans
- 1. जलधर
 - 2. वामदेवी
 - 3. मेघ
 - 4. पयोधर

Question ID : 65497831376
Status : Answered
Chosen Option : 2

Comprehension:

दिमाग मनुष्य के लिए सुख के साधन बटोर सकता है, मगर संतोष और (1)_____ मनुष्य के हृदय से उत्पन्न होती है। लेकिन मनुष्यता के लिए यह घोर (2)_____ की बात है कि आज आदमी के पास दिल नाम की चीज नहीं रह गयी। उसकी सारी (3)_____ उसका दिमाग हो गया है। दिमाग से तलवार तो वह बहुत (4)_____ निकाल रहा है, लेकिन दिल की गैरहाजिरी में वह यह (5)_____ ही नहीं पा रहा है कि यह तलवार कहाँ गिरायी जानी चाहिए। परिणामतः वह इस तलवार से अपना ही गला काट रहा है।

निम्न प्रश्नों के उत्तर उपरोक्त गद्यांश के आधार पर दीजिए।

SubQuestion No : 21

Q.21 गद्यांश के रिक्त स्थान (1) के लिए सर्वाधिक उपयुक्त शब्द होगा-

- Ans
- 1. मुक्ति
 - 2. शक्ति
 - 3. शांति
 - 4. प्रगति

Question ID : 65497831382
Status : Answered
Chosen Option : 2

Comprehension:

दिमाग मनुष्य के लिए सुख के साधन बटोर सकता है, मगर संतोष और (1) _____ मनुष्य के हृदय से उत्पन्न होती है। लेकिन मनुष्यता के लिए यह घोर (2) _____ की बात है कि आज आदमी के पास दिल नाम की चीज नहीं रह गयी। उसकी सारी (3) _____ उसका दिमाग हो गया है। दिमाग से तलवार तो वह बहुत (4) _____ निकाल रहा है, लेकिन दिल की गैरहाजिरी में वह यह (5) _____ ही नहीं पा रहा है कि यह तलवार कहां गिरायी जानी चाहिए। परिणामतः वह इस तलवार से अपना ही गला काट रहा है।

निम्न प्रश्नों के उत्तर उपरोक्त गद्यांश के आधार पर दीजिए।

SubQuestion No : 22

Q.22 गद्यांश के रिक्त स्थान (2) के लिए सर्वाधिक उपयुक्त शब्द होगा-

- Ans
- 1. भय
 - 2. अपमान
 - 3. संकट
 - 4. हर्ष

Question ID : 65497831383
Status : Answered
Chosen Option : 3

Comprehension:

दिमाग मनुष्य के लिए सुख के साधन बटोर सकता है, मगर संतोष और (1) _____ मनुष्य के हृदय से उत्पन्न होती है। लेकिन मनुष्यता के लिए यह घोर (2) _____ की बात है कि आज आदमी के पास दिल नाम की चीज नहीं रह गयी। उसकी सारी (3) _____ उसका दिमाग हो गया है। दिमाग से तलवार तो वह बहुत (4) _____ निकाल रहा है, लेकिन दिल की गैरहाजिरी में वह यह (5) _____ ही नहीं पा रहा है कि यह तलवार कहां गिरायी जानी चाहिए। परिणामतः वह इस तलवार से अपना ही गला काट रहा है।

निम्न प्रश्नों के उत्तर उपरोक्त गद्यांश के आधार पर दीजिए।

SubQuestion No : 23

Q.23 गद्यांश के रिक्त स्थान (3) के लिए सर्वाधिक उपयुक्त शब्द होगा-

- Ans
- 1. इज्जत
 - 2. सफलता
 - 3. मेहनत
 - 4. पूंजी

Question ID : 65497831384
Status : Answered
Chosen Option : 3

Comprehension:

दिमाग मनुष्य के लिए सुख के साधन बटोर सकता है, मगर संतोष और (1)_____ मनुष्य के हृदय से उत्पन्न होती है। लेकिन मनुष्यता के लिए यह घोर (2)_____ की बात है कि आज आदमी के पास दिल नाम की चीज नहीं रह गयी। उसकी सारी (3)_____ उसका दिमाग हो गया है। दिमाग से तलवार तो वह बहुत (4)_____ निकाल रहा है, लेकिन दिल की गैरहाजिरी में वह यह (5)_____ ही नहीं पा रहा है कि यह तलवार कहां गिरायी जानी चाहिए। परिणामतः वह इस तलवार से अपना ही गला काट रहा है।

निम्न प्रश्नों के उत्तर उपरोक्त गद्यांश के आधार पर दीजिए।

SubQuestion No : 24

Q.24 गद्यांश के रिक्त स्थान (4) के लिए सर्वाधिक उपयुक्त शब्द होगा-

- Ans
- 1. सुंदर
 - 2. चटक
 - 3. तीखी
 - 4. नुकीली

Question ID : 65497831385
Status : Answered
Chosen Option : 3

Comprehension:

दिमाग मनुष्य के लिए सुख के साधन बटोर सकता है, मगर संतोष और (1)_____ मनुष्य के हृदय से उत्पन्न होती है। लेकिन मनुष्यता के लिए यह घोर (2)_____ की बात है कि आज आदमी के पास दिल नाम की चीज नहीं रह गयी। उसकी सारी (3)_____ उसका दिमाग हो गया है। दिमाग से तलवार तो वह बहुत (4)_____ निकाल रहा है, लेकिन दिल की गैरहाजिरी में वह यह (5)_____ ही नहीं पा रहा है कि यह तलवार कहां गिरायी जानी चाहिए। परिणामतः वह इस तलवार से अपना ही गला काट रहा है।

निम्न प्रश्नों के उत्तर उपरोक्त गद्यांश के आधार पर दीजिए।

SubQuestion No : 25

Q.25 गद्यांश के रिक्त स्थान (5) के लिए सर्वाधिक उपयुक्त शब्द होगा-

- Ans
- 1. देख
 - 2. मान
 - 3. सुन
 - 4. समझ

Question ID : 65497831386
Status : Answered
Chosen Option : 4