

Constable GD in CAPFs NIA SSF and Rifleman GD in Assam Rifles Examination 2021

| | |
|----------------|--|
| Roll Number | www.GovtJobsAlert.In |
| Candidate Name | www.GovtJobsAlert.In |
| Venue Name | Ion Digital Zone Idz Kacchi Pakki |
| Exam Date | 10/12/2021 |
| Exam Time : | 4:00 PM - 5:30 PM |
| Subject | Constable GD 2021 |

Section : Part A General Intelligence and Reasoning

Q.1 एक कक्षा में 46 विद्यार्थी हैं। सभी विद्यार्थी, योग और नृत्य में से किसी एक या दोनों गतिविधियों में भाग लेते हैं। यदि 30 विद्यार्थी योग में और 26 विद्यार्थी नृत्य में भाग लेते हैं, तो कितने विद्यार्थी योग और नृत्य दोनों में भाग लेते हैं?

- Ans 1. 8
 2. 10
 3. 16
 4. 20

Question ID : 65497836617
Status : Answered
Chosen Option : 2

Q.2 छः व्यक्ति A, B, C, D, E और F एक सीधी पंक्ति में, एक ही दिशा की ओर अभिमुख होकर बैठे हुए हैं। E, B और F के बीच में बैठा है। A, F के दाएँ तीसरे स्थान पर बैठा है। E, A के बाएँ चौथे स्थान पर बैठा है। C, A के बगल में नहीं बैठा है। F और D के बीच में कौन बैठा है?

- Ans 1. A
 2. C
 3. B
 4. E

Question ID : 65497836603
Status : Answered
Chosen Option : 2

Q.3 एक निश्चित कूट भाषा में, SUNSET को RTMTFU लिखा जाता है। उसी कूट भाषा में JORDEN को क्या लिखा जाएगा?

- Ans 1. NIQFOE
 2. INQFOE
 3. INQEOF
 4. INQEFO

Question ID : 65497836608
Status : Answered
Chosen Option : 4

Q.4 एक निश्चित कूट भाषा में, STARTED को ATSRDET लिखा जाता है और CLOSURE को OLCSERU लिखा जाता है। उसी कूट भाषा में CONFIRM को क्या लिखा जाएगा?

- Ans
- 1. NOFCMRI
 - 2. NOCIRMF
 - 3. NCOMFRI
 - 4. NOCFMRI

Question ID : 65497836614
Status : Answered
Chosen Option : 4

Q.5 अक्षरों के उस संयोजन का चयन करें, जिसे दी गई श्रृंखला के रिक्त स्थानों में क्रमिक रूप से रखे जाने पर श्रृंखला पूर्ण हो जाएगी।

K _ T _ KR _ C _ RT _ K _ TC

- Ans
- 1. RCTKCR
 - 2. CRTLCR
 - 3. TCTKCR
 - 4. RCTKTR

Question ID : 65497836601
Status : Answered
Chosen Option : 1

Q.6 दिए गए संयोजन के सही दर्पण प्रतिबिंब का चयन करें, जब दर्पण को निम्नानुसार PQ पर रखा गया है।

POLINDROME
P
|
Q

- Ans
- 1. ЁОГІВНІОМЕ
 - 2. EMORNILOP
 - 3. EMONRILOP
 - 4. ЁОГІВНІОМЕ

Question ID : 65497836613
Status : Answered
Chosen Option : 2

Q.7 उस विकल्प का चयन करें, जो दी गई आकृति में अंतर्निहित है (आकृति को घुमाने की अनुमति नहीं है)।



Ans

1.



2.



3.



4.



Question ID : 65497836598

Status : Answered

Chosen Option : 2

Q.8 निम्न चार अक्षर-समूहों में से तीन किसी न किसी प्रकार संगत हैं और एक असंगत है। उस असंगत अक्षर-समूह का चयन करें।

Ans

1. MAA

2. OSD

3. OTP

4. VOL

Question ID : 65497836610

Status : Answered

Chosen Option : 1

Q.9 उस विकल्प का चयन करें, जो चौथी संख्या से उसी प्रकार संबंधित है जिस प्रकार पहली संख्या दूसरी संख्या से और पाँचवीं संख्या छठी संख्या से संबंधित है।

18 : 558 :: ? : 542 :: 10 : 442

Ans

1. 11

2. 9

3. 15

4. 19

Question ID : 65497836595

Status : Answered

Chosen Option : 1

Q.10 उस विकल्प का चयन कीजिए जिसका तीसरे पद से वही संबंध है जो दूसरे पद का पहले पद से है।

PIXEL : OHALS :: JATIN : ?

Ans

1. QWDML

2. QLWDM

3. WLRPM

4. PREMD

Question ID : 65497836607

Status : Answered

Chosen Option : 1

Q.11 दिए गए विकल्पों में से उस संख्या का चयन करें, जो निम्नलिखित श्रृंखला में प्रश्नवाचक चिह्न (?) के स्थान पर आ सकती है।

2.5, 3.5, 7.5, 23.5, ?, 343.5

Ans 1. 108.5

2. 87.5

3. 154.5

4. 129.5

Question ID : 65497836612

Status : Answered

Chosen Option : 1

Q.12 दिए गए विकल्पों में से उस संख्या का चयन करें, जो निम्नलिखित श्रृंखला में प्रश्नवाचक चिह्न (?) के स्थान पर आ सकती है।

29, 33, 42, 58, 83, ?

Ans 1. 119

2. 150

3. 157

4. 140

Question ID : 65497836604

Status : Answered

Chosen Option : 1

Q.13 दी गई शीट को मोड़कर एक घन बनाया गया है। इस प्रकार बने घन में, '\$' दिखाने वाले पृष्ठ के विपरीत पृष्ठ पर कौन सी संख्या अथवा चिह्न होगा?



Ans 1. 2

2. #

3. 3

4. %

Question ID : 65497836597

Status : Answered

Chosen Option : 3

Q.14 दिए गए कथनों और निष्कर्षों को ध्यानपूर्वक पढ़ें। कथनों में दी गई जानकारी को सत्य मानते हुए विचार करें, भले ही वह सामान्यतः ज्ञात तथ्यों से भिन्न प्रतीत होती हो और तय करें कि दिए गए निष्कर्षों में से कौन से निष्कर्ष, कथनों का तार्किक रूप से अनुसरण करते हैं?

कथन:
कोई पेंटिंग सुंदर नहीं है।
सभी रंग सुंदर हैं।
सभी तार पेंटिंग हैं।

निष्कर्ष:
I. कुछ पेंटिंग रंग हैं।
II. कुछ पेंटिंग तार हैं।

- Ans 1. केवल निष्कर्ष II अनुसरण करता है।
 2. निष्कर्ष I और II दोनों ही अनुसरण करते हैं।
 3. या तो निष्कर्ष I या II अनुसरण करता है।
 4. केवल निष्कर्ष I अनुसरण करता है।

Question ID : 65497836615
Status : Answered
Chosen Option : 1

Q.15 आठ मित्र A, B, C, D, E, F, G और H एक गोल मेज के परितः वामावर्त रूप से एक दूसरे से समान दूरी पर इसी क्रम में केंद्र की ओर अभिमुख होकर बैठे हैं। यदि H दक्षिण दिशा में बैठा है, तो C किस दिशा में बैठा है?

- Ans 1. दक्षिण-पूर्व
 2. उत्तर
 3. उत्तर-पूर्व
 4. उत्तर-पश्चिम

Question ID : 65497836594
Status : Answered
Chosen Option : 2

Q.16 उस विकल्प का चयन करें, जिसमें दी गई संख्याओं के बीच वही संबंध है, जो संबंध नीचे दिए गए समुच्चय की संख्याओं के बीच है।

5, 10, 25

- Ans 1. 12, 15, 55
 2. 9, 15, 36
 3. 16, 12, 85
 4. 7, 11, 74

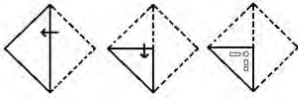
Question ID : 65497836616
Status : Answered
Chosen Option : 2

Q.17 जिस प्रकार 'शरीर का तापमान', 'बुखार' से संबंधित है, उसी प्रकार 'शरीर की वसा', '_____' संबंधित है।

- Ans 1. मोटापे
 2. रक्त
 3. भोजन
 4. उपचार

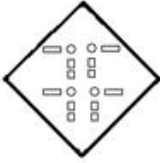
Question ID : 65497836602
Status : Answered
Chosen Option : 1

Q.18 कागज के एक टुकड़े को मोड़ने के क्रम और मुड़े हुए कागज को काटने के तरीके को निम्न आकृतियों में दर्शाया गया है। खोलने पर, यह कागज कैसा दिखाई देगा?

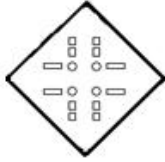


Ans

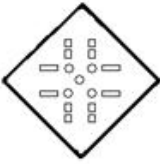
1.



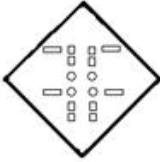
2.



3.

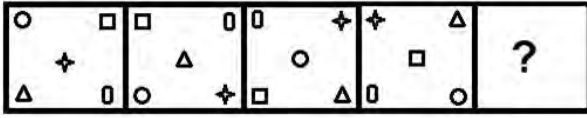


4.

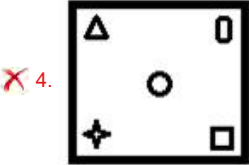
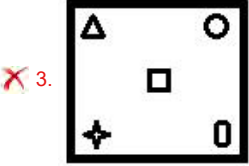
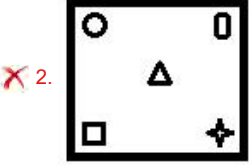
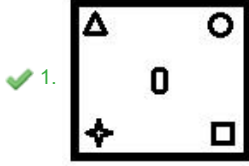


Question ID : 65497836618
Status : Answered
Chosen Option : 2

Q.19 निम्नांकित आकृति शृंखला में प्रश्नचिह्न (?) के स्थान पर आने वाली आकृति का चयन करें।



Ans



Question ID : 65497836605
Status : Answered
Chosen Option : 1

Q.20 एक विशिष्ट कूट भाषा में, 'PRETTY' को 894773 के रूप में और 'SCIENCE' को 6524154 के रूप में लिखा जाता है। इस कूट भाषा में 'PRINCE' को किस रूप में लिखा जाएगा?

- Ans
- ✗ 1. 892145
 - ✓ 2. 892154
 - ✗ 3. 891345
 - ✗ 4. 891254

Question ID : 65497836611
Status : Answered
Chosen Option : 2

Q.21 दिए गए विकल्पों में से उस अक्षर-समूह का चयन करें, जो निम्नलिखित शृंखला में प्रश्नवाचक चिह्न (?) के स्थान पर आ सकता है।

PHW, SKZ, WOD, BTI, ?

- Ans
- ✓ 1. HZO
 - ✗ 2. GAO
 - ✗ 3. GZP
 - ✗ 4. HYN

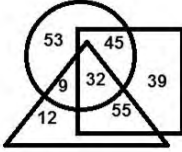
Question ID : 65497836599
Status : Answered
Chosen Option : 1

Q.22 C, A का पुत्र है लेकिन A, C की मां नहीं है। D और C विवाहित युगल है। E, C का भाई है। F, D की पुत्री है। G, A का भाई है। E का F से क्या संबंध है?

- Ans
- 1. भाई
 - 2. चाचा
 - 3. पिता
 - 4. साली

Question ID : 65497836609
Status : Answered
Chosen Option : 2

Q.23 दिए गए आरेख में, त्रिभुज, 'महिलाओं' को निरूपित करता है, वर्ग, 'माताओं' को निरूपित करता है और वृत्त, 'नृत्यांगनाओं' को निरूपित करता है। अलग-अलग खंडों में दी गई संख्याएं, उस श्रेणी के व्यक्तियों की संख्या निरूपित करती हैं।



कितनी महिलाएं नृत्यांगना हैं, लेकिन माताएं नहीं हैं?

- Ans
- 1. 45
 - 2. 32
 - 3. 9
 - 4. 55

Question ID : 65497836606
Status : Answered
Chosen Option : 2

Q.24 उस विकल्प का चयन करें, जो निम्न शब्दों के उस क्रम को दर्शाता है, जिस क्रम में वे अंग्रेजी शब्दकोश में आते हैं।

1. Lethal
2. Leather
3. Leaves
4. Least
5. Lesion

- Ans
- 1. 2, 4, 3, 5, 1
 - 2. 4, 2, 5, 3, 1
 - 3. 4, 2, 3, 5, 1
 - 4. 4, 2, 3, 1, 5

Question ID : 65497836600
Status : Answered
Chosen Option : 3

Q.25 यदि 'A' का अर्थ '+' है, 'B' का अर्थ '-' है, 'C' का अर्थ 'x' है और 'D' का अर्थ '÷' है, तो दिए गए व्यंजक का मान कितना होगा?

44 A 7 B (9 C 7) A (24 B 19) A (18 D 6) C 4

Ans 1. 51

2. 19

3. 5

4. 11

Question ID : 65497836596

Status : Answered

Chosen Option : 3

Section : Part B General Knowledge and General Awareness

Q.1 मैराथन में आधिकारिक रूप से कितनी दूरी तय करनी होती है?

Ans 1. 30 मील 385 गज

2. 20 मील 385 गज

3. 15 मील 385 गज

4. 26 मील 385 गज

Question ID : 65497836640

Status : Answered

Chosen Option : 4

Q.2 जनवरी 2021 तक प्राप्त जानकारी के अनुसार, कृषि लागत और मूल्य आयोग के द्वारा कितने तिलहनों के लिए न्यूनतम समर्थन मूल्य की सिफारिश की गई है?

Ans 1. तीन

2. पांच

3. सात

4. आठ

Question ID : 65497836641

Status : Answered

Chosen Option : 2

Q.3 निम्नलिखित में से कौन 1861 में भारतीय पुरातत्व सर्वेक्षण (ASI) के महानिदेशक बने और उन्हें प्रायः 'भारतीय पुरातत्व के जनक' के रूप में जाना जाता है?

Ans 1. अलेक्जेंडर कनिंघम

2. डोमिनिक एस्किथ

3. जेम्स प्रिंसेप

4. एओ ह्यूम

Question ID : 65497836626

Status : Answered

Chosen Option : 2

Q.4 भारतीय संविधान का अनुच्छेद 51A निम्न से किससे संबंधित है?

Ans 1. संपत्ति का अधिकार

2. मूल कर्तव्य

3. राज्य नीति के निर्देशक सिद्धांत

4. मौलिक अधिकार

Question ID : 65497836632

Status : Answered

Chosen Option : 2

Q.5 2020 में, भारत में पहली बार हिम तेंदुओं की गणना निम्नलिखित में से किस राज्य ने आरंभ की?

- Ans
- 1. हरियाणा
 - 2. हिमाचल प्रदेश
 - 3. जम्मू और कश्मीर
 - 4. उत्तराखंड

Question ID : 65497836633
Status : Answered
Chosen Option : 3

Q.6 हेपेटाइटिस बी, _____ में होने वाला एक जानलेवा संक्रमण है।

- Ans
- 1. वृक्क
 - 2. यकृत
 - 3. मस्तिष्क
 - 4. हृदय

Question ID : 65497836625
Status : Answered
Chosen Option : 2

Q.7 1810 ई. के आसपास, ब्रिटेन द्वारा आयात किए जाने वाले नील में भारतीय नील की हिस्सेदारी लगभग _____ % थी।

- Ans
- 1. 10
 - 2. 30
 - 3. 95
 - 4. 70

Question ID : 65497836643
Status : Answered
Chosen Option : 3

Q.8 संविधान सभा को अस्थायी संसद के रूप में किस वर्ष परिवर्तित किया गया था?

- Ans
- 1. 1949
 - 2. 1953
 - 3. 1947
 - 4. 1950

Question ID : 65497836624
Status : Answered
Chosen Option : 4

Q.9 उस भूमि का वैज्ञानिक नाम क्या है जिस पर फसलें उगाई जाती हैं?

- Ans
- 1. उत्पादक भूमि (productive land)
 - 2. कृष्य भूमि (arable land)
 - 3. जुताई वाली भूमि (ploughable land)
 - 4. उपजाऊ भूमि (fertile land)

Question ID : 65497836638
Status : Answered
Chosen Option : 4

Q.10 'द इंडिया वे: स्ट्रेटेजीज फॉर एन अन्सर्टेन वर्ल्ड' पुस्तक के लेखक निम्नलिखित में से कौन हैं?

- Ans
- 1. अजय बिसारिया
 - 2. तरनजीत सिंह संधू
 - 3. एस जयशंकर
 - 4. कंवल सिब्बल

Question ID : 65497836622
Status : Answered
Chosen Option : 2

Q.11 दाराशुकोह के पिता का नाम क्या था?

- Ans
- 1. जहांगीर
 - 2. फ़र्रुखसियर
 - 3. शाहजहां
 - 4. औरंगज़ेब

Question ID : 65497836630
Status : Answered
Chosen Option : 3

Q.12 ट्राइग्लिसराइड्स, एक प्रकार के _____ होते हैं।

- Ans
- 1. विटामिन
 - 2. वसा
 - 3. कार्बोहाइड्रेट
 - 4. प्रोटीन

Question ID : 65497836620
Status : Answered
Chosen Option : 4

Q.13 एनीमिया मुक्त भारत सूचकांक 2020-21 में (अक्टूबर 2020 तक) कौन-सा राज्य शीर्ष पर है?

- Ans
- 1. हरियाणा
 - 2. तमिलनाडु
 - 3. पंजाब
 - 4. गुजरात

Question ID : 65497836629
Status : Answered
Chosen Option : 4

Q.14 1774 ईस्वी में भारत के पहले डाकघर की स्थापना निम्नलिखित में से किसने की थी?

- Ans
- 1. लॉर्ड मेयो
 - 2. लॉर्ड कॉर्नवॉलिस
 - 3. वॉरेन हेस्टिंग्स
 - 4. रॉबर्ट क्लाइव

Question ID : 65497836631
Status : Answered
Chosen Option : 2

Q.15 नृत्य की किस शैली में नर्तक को नृत्य के दौरान सिर पर रखे मटकों का संतुलन बनाये रखना होता है?

- Ans
- 1. चेराव
 - 2. देवधनी
 - 3. मर्सिया
 - 4. भवाई

Question ID : 65497836619
Status : Answered
Chosen Option : 1

Q.16 अंतरराष्ट्रीय फेडरेशन (AIBA) द्वारा जारी रैंकिंग के अनुसार, 75 किलोग्राम भार वर्ग में विश्व में प्रथम स्थान पाने वाला पहला भारतीय मुक्केबाज निम्न में से कौन है?

- Ans
- 1. अमित पंचाल
 - 2. गौरव बिधूड़ी
 - 3. शिवा थापा
 - 4. विजेन्द्र सिंह

Question ID : 65497836636
Status : Answered
Chosen Option : 4

Q.17 भारतीय संविधान के किस संशोधन द्वारा लोकसभा सीटों की संख्या को 525 से बढ़ाकर 545 सदस्य कर दिया गया?

- Ans
- 1. 31वें
 - 2. 37वें
 - 3. 50वें
 - 4. 45वें

Question ID : 65497836627
Status : Answered
Chosen Option : 1

Q.18 हौज़-ए-सुल्तानी एक बड़ा जलाशय था, जिसका निर्माण दिल्ली के बाहर निम्न में से किसके द्वारा कराया गया था?

- Ans
- 1. नसीरुद्दीन महमूद
 - 2. गयासुद्दीन बलबन
 - 3. कुतुब-उद्-दीन ऐबक
 - 4. सुल्तान इल्तुतमिश

Question ID : 65497836637
Status : Answered
Chosen Option : 2

Q.19 आयुष्मान भारत प्रधानमंत्री जन आरोग्य योजना (AB-PMJAY) के बारे में निम्नलिखित में से कौन सा कथन गलत है?

- Ans
- 1. AB-PMJAY के लाभ पूरे देश में कहीं भी प्राप्त किये जा सकते हैं।
 - 2. AB-PMJAY, दो वयस्कों और 18 वर्ष से कम आयु के तीन बच्चों तक के परिवार के लिए स्वास्थ्य बीमा/आश्वासन प्रदान करती है।
 - 3. AB-PMJAY, माध्यमिक और तृतीयक स्वास्थ्य-सेवा प्रदाता अस्पतालों में उपचार के लिए भर्ती होने वाले प्रति परिवार को प्रति वर्ष ₹5,00,000 तक का स्वास्थ्य बीमा/आश्वासन प्रदान करती है।
 - 4. AB-PM-JAY पूर्णतया कैशलेस और पेपरलेस योजना है।

Question ID : 65497836642
Status : Answered
Chosen Option : 2

Q.20 निम्नलिखित में से कौन-सा जानवर, बिल में नहीं रहता है?

- Ans 1. कछुआ
 2. बुडचक
 3. खरगोश
 4. धानीमूष

Question ID : 65497836621
Status : Answered
Chosen Option : 3

Q.21 अक्टूबर 2020 में 'टाइफून मोलावे' किस देश से टकराया था?

- Ans 1. वियतनाम
 2. मालदीव
 3. सिंगापुर
 4. भारत

Question ID : 65497836628
Status : Answered
Chosen Option : 2

Q.22 निम्न में से किस भारतीय राज्य को, उसकी अनूठी स्थलाकृति के कारण, 'लाल नदी और नीली पहाड़ियों की भूमि' के नाम से जाना जाता है?

- Ans 1. हिमाचल प्रदेश
 2. केरल
 3. कर्नाटक
 4. असम

Question ID : 65497836635
Status : Answered
Chosen Option : 2

Q.23 निम्नलिखित में से किस राज्य में एक आधिकारिक रामसर स्थल, लोनार झील स्थित है?

- Ans 1. तमिलनाडु
 2. गुजरात
 3. मणिपुर
 4. महाराष्ट्र

Question ID : 65497836634
Status : Answered
Chosen Option : 4

Q.24 निम्नलिखित में से कौन-सा, डॉ. रॉबर्ट ऑल्टमैन द्वारा विकसित एक ऋणशोधन अक्षमता पूर्वानुमान सूत्र (इन्सॉल्वेंसी प्रेडिक्शन फॉर्मूला) है?

- Ans 1. Z-स्कोर
 2. बैलून बैलेंस
 3. Z-ट्रान्स
 4. लोन टू वैल्यू (LTV)

Question ID : 65497836623
Status : Answered
Chosen Option : 3

Q.25 वंदना लूथरा एक भारतीय प्रेरणादायक उद्यमी हैं, जो निम्न में से किसकी संस्थापक हैं?

- Ans
- 1. बॉडी कैफे
 - 2. स्किन योगा
 - 3. SOVA
 - 4. वीएलसीसी हेल्थकेयर

Question ID : 65497836639
Status : Answered
Chosen Option : 4

Section : Part C Elementary Mathematics

Q.1 $[8 + 8 - 2 \times (2 + 81) - 45 \div 9 + (27 \div 9 + 5 \times 3 - 19)]$ का मान कितना है?

- Ans
- 1. -156
 - 2. -165
 - 3. 155
 - 4. 156

Question ID : 65497836659
Status : Answered
Chosen Option : 1

Q.2 एक व्यक्ति किसी निश्चित दूरी का एक-तिहाई भाग 45 km/h की चाल से और शेष दूरी 60 km/h की चाल से तय करता है। उसी दूरी को एकसमान चाल से चलते हुए, उतने ही समय में तय करने के लिए उसकी चाल (km/h में) कितनी होनी चाहिए?

- Ans
- 1. 54
 - 2. 45
 - 3. 32
 - 4. 50

Question ID : 65497836656
Status : Answered
Chosen Option : 1

Q.3 एक दुकानदार कंप्यूटर के अपने पुराने स्टॉक को खाली करने के लिए 18% छूट प्रदान करता है। यदि एक कंप्यूटर का अंकित मूल्य ₹7500 है, तो एक कंप्यूटर का विक्रय मूल्य ज्ञात कीजिए।

- Ans
- 1. ₹6,500
 - 2. ₹6,150
 - 3. ₹6,300
 - 4. ₹6,850

Question ID : 65497836662
Status : Answered
Chosen Option : 2

Q.4 किसी वस्तु को में ₹8,40,000 बेचने पर प्राप्त लाभ 20% है। वस्तु का क्रय मूल्य ज्ञात कीजिए।

- Ans
- 1. ₹8,00,000
 - 2. ₹7,50,000
 - 3. ₹7,00,000
 - 4. ₹1,08,000

Question ID : 65497836660
Status : Answered
Chosen Option : 3

Q.5 त्यौहार के मौसम में, एक दुकानदार 20% की छूट देता है। साथ ही वह ₹5,000 से अधिक की खरीदारी करने वाले ग्राहकों को 5% की अतिरिक्त छूट देता है। अनुपम ने ₹7,500 के अंकित मूल्य के सामान की खरीदारी की। उसको मिलने वाली छूट ज्ञात कीजिए।

- Ans
- 1. ₹1,875
 - 2. ₹1,800
 - 3. ₹2,000
 - 4. ₹2,500

Question ID : 65497836652
Status : Answered
Chosen Option : 1

Q.6 A और B एक साथ मिलकर किसी कार्य को 3 दिन में पूरा कर सकते हैं, जबकि C और D एक साथ मिलकर उसी कार्य को 6 दिन में पूरा कर सकते हैं। A, B, C और D एक साथ मिलकर उस कार्य को कितने दिन में पूरा कर सकते हैं?

- Ans
- 1. 3
 - 2. $2\frac{1}{4}$
 - 3. 2
 - 4. $2\frac{1}{2}$

Question ID : 65497836661
Status : Answered
Chosen Option : 3

Q.7 रीता की बचत, उसके व्यय के 20% के बराबर है। यदि उसकी आय में 35% और व्यय में 38% की वृद्धि हो जाए, तो उसकी बचत पर क्या प्रभाव पड़ेगा?

- Ans
- 1. 13% बढ़ जाएगी
 - 2. 3% कम हो जाएगी
 - 3. 20% बढ़ जाएगी
 - 4. 17% कम हो जाएगी

Question ID : 65497836667
Status : Answered
Chosen Option : 3

Q.8 5 महिलाएँ और 2 पुरुष किसी कार्य को 4 दिन में पूरा कर सकते हैं, जबकि 6 महिलाएँ और 3 पुरुष उसी कार्य को 3 दिन में पूरा कर सकते हैं। एक पुरुष और एक महिला एक साथ मिलकर काम करते हुए उसी काम को कितने दिनों में पूरा कर लेंगे?

- Ans**
- 1. 14
 - 2. $13\frac{1}{2}$
 - 3. 12
 - 4. 11

Question ID : 65497836654
Status : Answered
Chosen Option : 3

Q.9 70 km/h की एकसमान चाल से चल रही एक ट्रेन एक निश्चित दूरी तय करने में एक निश्चित समय लेती है। यदि ट्रेन 65 km/h की चाल से चले, तो वह पिछले समय से 42 मिनट अधिक समय लेती है। ट्रेन द्वारा तय की गई दूरी (km में) कितनी है?

- Ans**
- 1. 670
 - 2. 637
 - 3. 650
 - 4. 680

Question ID : 65497836655
Status : Answered
Chosen Option : 2

Q.10 समान धारिता वाले 3 कंटेनर अम्ल और जल के मिश्रण से पूर्णतः भरे हुए हैं। इन तीनों कंटेनरों में अम्ल और जल के मिश्रणों के अनुपात क्रमशः 1 : 4, 3 : 7 और 2 : 3 हैं। यदि तीनों कंटेनरों के मिश्रणों को एक में मिला दिया जाए, तो परिणामी मिश्रण में अम्ल और जल का अनुपात कितना हो जाएगा?

- Ans**
- 1. 3 : 7
 - 2. 9 : 14
 - 3. 9 : 7
 - 4. 3 : 10

Question ID : 65497836646
Status : Answered
Chosen Option : 1

Q.11 एक प्रतियोगी परीक्षा में, उत्तीर्ण लड़कों और लड़कियों का अनुपात 3 : 2 है। यदि एक और लड़का उत्तीर्ण होता है और एक उत्तीर्ण लड़की कक्षा छोड़कर चली जाती है, तो उनका नया अनुपात 2 : 1 हो जाता है। उत्तीर्ण छात्रों का आरंभिक कुल योग कितना है?

- Ans**
- 1. 18
 - 2. 10
 - 3. 15
 - 4. 12

Question ID : 65497836657
Status : Answered
Chosen Option : 3

Q.12 एक व्यक्ति ने अपनी पूंजी का $\frac{1}{2}$ भाग 6% पर, $\frac{1}{4}$ भाग 8% पर और शेष भाग 12% पर निवेश किया। यदि इस निवेश से उसे ₹528 की वार्षिक आय प्राप्त होती है, तो निवेशित पूंजी ज्ञात कीजिए।

Ans ✓ 1. ₹6,600

✗ 2. ₹5,900

✗ 3. ₹6,100

✗ 4. ₹6,300

Question ID : 65497836664
Status : Answered
Chosen Option : 1

Q.13 निम्नलिखित व्यंजक का मान ज्ञात करें।

$$\frac{\frac{5}{6} \div \frac{5}{2} \times 3 - 1 \text{ of } 2}{1 + 3 \div \frac{1}{3} \times 6 - 2}$$

Ans ✗ 1. $-\frac{1}{5}$

✗ 2. $-\frac{2}{5}$

✓ 3. $-\frac{1}{53}$

✗ 4. $-\frac{17}{90}$

Question ID : 65497836650
Status : Answered
Chosen Option : 3

Q.14 यदि $P : Q = 3 : 2$ है, तो $(P^2 - Q^2) : (P^2 + Q^2)$ का अनुपात ज्ञात कीजिए।

Ans ✗ 1. 4 : 9

✗ 2. 13 : 5

✓ 3. 5 : 13

✗ 4. 10 : 9

Question ID : 65497836663
Status : Answered
Chosen Option : 3

Q.15 त्रिज्या 4 वाले वृत्त के क्षेत्रफल का आंकिक मान, उसकी परिधि के आंकिक मान के कितने प्रतिशत के बराबर है?

Ans ✓ 1. 200%

✗ 2. 150%

✗ 3. 175%

✗ 4. 135%

Question ID : 65497836665
Status : Answered
Chosen Option : 1

Q.16 पांच अंकों की वह बड़ी से बड़ी संख्या कौन सी है जिसे 6, 7, 8 और 9 से विभाजित करने पर शेषफल क्रमशः 4, 5, 6 और 7 प्राप्त होंगे?

- Ans**
- 1. 99792
 - 2. 99794
 - 3. 99997
 - 4. 99790

Question ID : 65497836644
Status : Answered
Chosen Option : 4

Q.17 ₹1,800 में 50 अनानास बेचने पर एक व्यक्ति को 10% की हानि होती है। इस लेनदेन में 15% लाभ प्राप्त करने के लिए उसे ₹552 में कितने अनानास बेचने होंगे?

- Ans**
- 1. 12
 - 2. 16
 - 3. 13
 - 4. 15

Question ID : 65497836648
Status : Answered
Chosen Option : 1

Q.18 10 पुस्तकों का औसत मूल्य ₹150 है जबकि इन पुस्तकों में से 8 पुस्तकों का औसत मूल्य ₹135 है। शेष 2 पुस्तकों में से, यदि एक पुस्तक का मूल्य दूसरी पुस्तक के मूल्य से 40% अधिक है, तो इन दोनों में से अधिक महंगी पुस्तक का मूल्य कितना है?

- Ans**
- 1. ₹245
 - 2. ₹210
 - 3. ₹70
 - 4. ₹175

Question ID : 65497836651
Status : Answered
Chosen Option : 2

Q.19 अभय ने अपने माल का 70%, 25% के लाभ पर, शेष माल का 40%, 40% की हानि पर और शेष माल को क्रय मूल्य पर बेचा। पूरे लेन-देन में उसका प्रतिशत लाभ/हानि कितना था?

- Ans**
- 1. 10% हानि
 - 2. 12.7% लाभ
 - 3. 10.5% हानि
 - 4. 12% लाभ

Question ID : 65497836668
Status : Answered
Chosen Option : 2

Q.20 यदि किसी संख्या से उस संख्या के 35% को घटाने पर प्राप्त परिणाम 26 है, तो वह संख्या ज्ञात कीजिए।

- Ans
- 1. 35
 - 2. 40
 - 3. 13
 - 4. 250

Question ID : 65497836653
Status : Answered
Chosen Option : 2

Q.21 यदि संख्याओं 8, 5, 3, k, (k+1) का औसत 7 है, तो k का मान कितना है?

- Ans
- 1. 8
 - 2. 9
 - 3. 7
 - 4. 6

Question ID : 65497836645
Status : Answered
Chosen Option : 2

Q.22 वह धनराशि ज्ञात कीजिए जिसपर 8% वार्षिक ब्याज दर से 4 वर्षों में प्राप्त साधारण ब्याज ₹2,400 होगा?

- Ans
- 1. ₹7,500
 - 2. ₹9,900
 - 3. ₹768
 - 4. ₹5,100

Question ID : 65497836647
Status : Answered
Chosen Option : 1

Q.23 किसी निश्चित धनराशि पर 8% वार्षिक ब्याज दर से 2 वर्ष के लिए वार्षिक रूप से चक्रवृद्धि होने वाला चक्रवृद्धि ब्याज ₹416 है। उसी धनराशि पर समान ब्याज दर से समान अवधि में प्राप्त साधारण ब्याज कितना होगा?

- Ans
- 1. ₹375
 - 2. ₹360
 - 3. ₹380
 - 4. ₹400

Question ID : 65497836649
Status : Answered
Chosen Option : 4

Q.24 4-अंकों वाली दो संख्याओं का महत्तम समापवर्तक (HCF) 103 है और उनका लघुत्तम समापवर्त्य (LCM) 19261 है। उन दोनों संख्याओं का योग क्या होगा?

- Ans** 1. 2884
 2. 2781
 3. 2678
 4. 3090

Question ID : 65497836666
Status : Answered
Chosen Option : 1

Q.25 किसी लंबवृत्तीय बेलन के वक्र पृष्ठ का क्षेत्रफल 3432 cm^2 है और इसकी ऊंचाई 10.5 cm है। बेलन का आयतन (cm^3 में) कितना होगा? ($\pi = \frac{22}{7}$ मानें)

- Ans** 1. 82932
 2. 89232
 3. 82239
 4. 83922

Question ID : 65497836658
Status : Answered
Chosen Option : 2

Section : Part D English

Q.1 Select the most appropriate option to fill in the blank.

The leaves of plants _____ soon if they do not get enough water.

- Ans** 1. wilt
 2. ebb
 3. melt
 4. erode

Question ID : 65497836671
Status : Not Answered
Chosen Option : --

Q.2 Select the most appropriate option to fill in the blank.

The priority for the COVID-19 vaccine must be to cover the _____ number in the shortest time.

- Ans** 1. lengthiest
 2. latest
 3. longest
 4. largest

Question ID : 65497836678
Status : Not Answered
Chosen Option : --

Q.3 Select the **INCORRECTLY** spelt word.

- Ans 1. black
 2. blade
 3. bleame
 4. blare

Question ID : 65497836670
Status : Not Answered
Chosen Option : --

Q.4 The following sentence has been divided into parts. One of them may contain an error. Select the part that contains the error from the given options. If you don't find any error, select 'No error' as your answer.

However hardly you / may work, / nobody will praise you.

- Ans 1. nobody will praise you
 2. No error
 3. may work
 4. However hardly you

Question ID : 65497836673
Status : Not Answered
Chosen Option : --

Q.5 Select the most appropriate option to fill in the blank.

Films based on books are more _____ than original screenplays.

- Ans 1. better
 2. favourite
 3. popular
 4. different

Question ID : 65497836688
Status : Not Answered
Chosen Option : --

Q.6 Select the option that can be used as a one-word substitute for the given group of words.

Move with urgent haste

- Ans 1. Sprint
 2. Race
 3. Chase
 4. Rush

Question ID : 65497836672
Status : Not Answered
Chosen Option : --

Q.7 Select the most appropriate synonym of the given word.

Sanction

- Ans** 1. Degrade
 2. Reward
 3. Permit
 4. Cancel

Question ID : 65497836681
Status : Not Answered
Chosen Option : --

Q.8 The following sentence has been split into four segments. Identify the segment that contains a grammatical error.

Last month, / we purchased / electronic equipments from / a European country.

- Ans** 1. we purchased
 2. a European country
 3. electronic equipments from
 4. Last month

Question ID : 65497836684
Status : Not Answered
Chosen Option : --

Q.9 Select the option that can be used as a one-word substitute for the given group of words.

A strongbox or small chest for holding valuables

- Ans** 1. Coffin
 2. Caffeine
 3. Coffe
 4. Coiffeur

Question ID : 65497836676
Status : Not Answered
Chosen Option : --

Q.10 The following sentence has been split into four segments. Identify the segment that contains a grammatical error.

The children played / merry in the park / while their parents / kept a watch.

- Ans** 1. while their parents
 2. merry in the park
 3. The children played
 4. kept a watch

Question ID : 65497836680
Status : Not Answered
Chosen Option : --

Q.11 Select the INCORRECTLY spelt word.

- Ans 1. Absence
 2. Conferense
 3. Expense
 4. Entrance

Question ID : 65497836677
Status : Not Answered
Chosen Option : --

Q.12 Select the most appropriate ANTONYM of the given word.

Callous

- Ans 1. Cold
 2. Insensitive
 3. Caring
 4. Hardened

Question ID : 65497836675
Status : Not Answered
Chosen Option : --

Q.13 Select the most appropriate option that can substitute the underlined segment in the given sentence. If there is no need to substitute it, select 'No substitution required'.

If that mango falls it has landed on your head.

- Ans 1. No substitution required
 2. will land
 3. was landing
 4. is landing

Question ID : 65497836669
Status : Not Answered
Chosen Option : --

Q.14 Select the most appropriate meaning of the given idiom.

Crack up

- Ans 1. Grow old
 2. Laugh out loud
 3. Find fault
 4. Become wise

Question ID : 65497836687
Status : Not Answered
Chosen Option : --

Q.15 Select the option that can be used as a one-word substitute for the given group of words.

A person who arranges and sells cut flowers

- Ans**
- 1. Grocer
 - 2. Flautist
 - 3. Florist
 - 4. Gardener

Question ID : 65497836686
Status : Not Answered
Chosen Option : --

Q.16 Select the most appropriate ANTONYM of the given word.

Erase

- Ans**
- 1. Create
 - 2. Delete
 - 3. Abolish
 - 4. Strike

Question ID : 65497836674
Status : Not Answered
Chosen Option : --

Q.17 Select the option that will improve the underlined part of the given sentence. In case no improvement is needed, select 'No improvement required'.

Has her family being informed about the event?

- Ans**
- 1. been informed
 - 2. be inform
 - 3. being informing
 - 4. No improvement required

Question ID : 65497836679
Status : Not Answered
Chosen Option : --

Q.18 Select the option that is closest in meaning to the underlined idiom/phrase in the given sentence.

The owners of the company keep the lion's share of the profit for themselves.

- Ans**
- 1. the best part
 - 2. the smallest part
 - 3. the oldest part
 - 4. the largest part

Question ID : 65497836683
Status : Not Answered
Chosen Option : --

Q.19 Select the most appropriate synonym of the given word.

Eternal

- Ans 1. Balanced
 2. Everlasting
 3. Limited
 4. Faithful

Question ID : 65497836685
Status : Not Answered
Chosen Option : --

Q.20 Select the most appropriate option that can substitute the underlined segment in the given sentence. If there is no need to substitute it, select 'No substitution required'.

I have completed the work two hours ago.

- Ans 1. has completed
 2. completed
 3. will have completed
 4. No substitution required

Question ID : 65497836682
Status : Not Answered
Chosen Option : --

Comprehension:

In the following passage, some words have been deleted. Read the passage carefully and select the most appropriate option to fill in each blank.

The 'standard of living' of any country means the average person's share of the goods and services which (1) _____ country produces. A country's 'standard of living', therefore, depends first and foremost on its (2) _____ to produce wealth. 'Wealth' in this sense is not money, (3) _____ we do not live on money, but on things that money can (4) _____ 'goods' such as food and clothing, and 'services' such as transport and entertainment. A country's ability to produce wealth depends on many factors, most of which have a/an (5) _____ on others.

SubQuestion No : 21

Q.21 Select the most appropriate option to fill in blank no. 1.

- Ans 1. few
 2. many
 3. the
 4. all

Question ID : 65497836690
Status : Not Answered
Chosen Option : --

Comprehension:

In the following passage, some words have been deleted. Read the passage carefully and select the most appropriate option to fill in each blank.

The 'standard of living' of any country means the average person's share of the goods and services which (1) _____ country produces. A country's 'standard of living', therefore, depends first and foremost on its (2) _____ to produce wealth. 'Wealth' in this sense is not money, (3) _____ we do not live on money, but on things that money can (4) _____ 'goods' such as food and clothing, and 'services' such as transport and entertainment. A country's ability to produce wealth depends on many factors, most of which have a/an (5) _____ on others.

SubQuestion No : 22

Q.22 Select the most appropriate option to fill in blank no. 2.

- Ans** 1. capacity
 2. range
 3. size
 4. quantity

Question ID : 65497836691
Status : Not Answered
Chosen Option : --

Comprehension:

In the following passage, some words have been deleted. Read the passage carefully and select the most appropriate option to fill in each blank.

The 'standard of living' of any country means the average person's share of the goods and services which (1) _____ country produces. A country's 'standard of living', therefore, depends first and foremost on its (2) _____ to produce wealth. 'Wealth' in this sense is not money, (3) _____ we do not live on money, but on things that money can (4) _____ 'goods' such as food and clothing, and 'services' such as transport and entertainment. A country's ability to produce wealth depends on many factors, most of which have a/an (5) _____ on others.

SubQuestion No : 23

Q.23 Select the most appropriate option to fill in blank no. 3.

- Ans** 1. because
 2. yet
 3. though
 4. so

Question ID : 65497836692
Status : Not Answered
Chosen Option : --

Comprehension:

In the following passage, some words have been deleted. Read the passage carefully and select the most appropriate option to fill in each blank.

The 'standard of living' of any country means the average person's share of the goods and services which (1) _____ country produces. A country's 'standard of living', therefore, depends first and foremost on its (2) _____ to produce wealth. 'Wealth' in this sense is not money, (3) _____ we do not live on money, but on things that money can (4) _____ 'goods' such as food and clothing, and 'services' such as transport and entertainment. A country's ability to produce wealth depends on many factors, most of which have a/an (5) _____ on others.

SubQuestion No : 24

Q.24 Select the most appropriate option to fill in blank no. 4.

- Ans 1. grant
 2. buy
 3. admit
 4. yield

Question ID : 65497836693
Status : Not Answered
Chosen Option : --

Comprehension:

In the following passage, some words have been deleted. Read the passage carefully and select the most appropriate option to fill in each blank.

The 'standard of living' of any country means the average person's share of the goods and services which (1) _____ country produces. A country's 'standard of living', therefore, depends first and foremost on its (2) _____ to produce wealth. 'Wealth' in this sense is not money, (3) _____ we do not live on money, but on things that money can (4) _____ 'goods' such as food and clothing, and 'services' such as transport and entertainment. A country's ability to produce wealth depends on many factors, most of which have a/an (5) _____ on others.

SubQuestion No : 25

Q.25 Select the most appropriate option to fill in blank no. 5.

- Ans 1. response
 2. effect
 3. conclusion
 4. evidence

Question ID : 65497836694
Status : Not Answered
Chosen Option : --

Section : Part D Hindi

Q.1 दिये गये वाक्यांश के लिए एक शब्द दीजिये।

क्रोध करने वाली स्त्री

- Ans 1. कुलटा
 2. महिषी
 3. भामिनी
 4. मानिनी

Question ID : 65497836709
Status : Answered
Chosen Option : 2

Q.2 निम्न में से कौनसा विलोम-युग्म सही नहीं है?

- Ans 1. संशय-निःसंशय
 2. ऋजु-वक्र
 3. उपरि-अधः
 4. उद्धत-विनीत

Question ID : 65497836701
Status : Answered
Chosen Option : 3

Q.3 दिए गए वाक्य में रेखांकित खंड को प्रतिस्थापित करने के लिए सबसे उपयुक्त विकल्प का चयन करें।
यदि इसे प्रतिस्थापित करने की आवश्यकता नहीं है, तो विकल्प 'किसी बदलाव की आवश्यकता नहीं है'
का चयन करें।

रेखा, सुमन, रहीम, रमेश और नेहा आज मेले में आई थीं।

- Ans 1. मेला में आई थीं।
 2. किसी बदलाव की आवश्यकता नहीं है।
 3. मेले में आया था।
 4. मेले में आये थे।

Question ID : 65497836703
Status : Answered
Chosen Option : 4

Q.4 दिये गये वाक्य के किस भाग में त्रुटि है?

मंत्री जी हमारे मुख्य अतिथी थे।

- Ans 1. मुख्य
 2. अतिथी थे।
 3. मंत्री जी
 4. हमारे

Question ID : 65497836713
Status : Answered
Chosen Option : 2

Q.5 दिए गए वाक्य में रेखांकित खंड को प्रतिस्थापित करने के लिए सबसे उपयुक्त विकल्प का चयन करें।
यदि इसे प्रतिस्थापित करने की आवश्यकता नहीं है, तो विकल्प 'किसी बदलाव की आवश्यकता नहीं है'
का चयन करें।

आपने मेरी शंका का उचित निराकरण कर दिया।

- Ans 1. समाधान
 2. किसी बदलाव की आवश्यकता नहीं है।
 3. प्रतिपादन
 4. संयोजन

Question ID : 65497836708
Status : Answered
Chosen Option : 1

Q.6 दिए गए वाक्य का वह भाग ज्ञात करें जिसमें कोई त्रुटि है। यदि कोई त्रुटि नहीं है, तो 'कोई त्रुटि नहीं है' चुनें।

गुलाब का फूल आनंद की वस्तु होती है।

- Ans
- 1. गुलाब का फूल
 - 2. कोई त्रुटि नहीं है।
 - 3. होती है।
 - 4. आनंद की वस्तु

Question ID : 65497836704
Status : Answered
Chosen Option : 2

Q.7 दिये गये वाक्यांश के लिए एक शब्द दीजिये।

जो स्त्री पति के लिए मर मिटे

- Ans
- 1. पतिव्रता
 - 2. कुलटा
 - 3. यति
 - 4. सावित्री

Question ID : 65497836707
Status : Answered
Chosen Option : 1

Q.8 रिक्त स्थान की पूर्ति के लिए सबसे उपयुक्त शब्द का चयन करें।

मैं परीक्षा में पास होने का _____ करूँगा।

- Ans
- 1. प्रयत्न
 - 2. अभ्यास
 - 3. साहस
 - 4. व्यवहार

Question ID : 65497836711
Status : Answered
Chosen Option : 1

Q.9 दिये गये वाक्यांश के लिए एक शब्द दीजिये।

पृथ्वी का वह भाग जिसके तीन ओर पानी हो

- Ans
- 1. महाद्वीप
 - 2. प्रायद्वीप
 - 3. टापू
 - 4. द्वीप

Question ID : 65497836706
Status : Answered
Chosen Option : 2

Q.10 'विनायक' किसका पर्यायवाची है?

- Ans 1. विष्णु
 2. गणेश
 3. महेश
 4. ब्रह्मा

Question ID : 65497836714
Status : Answered
Chosen Option : 1

Q.11 दिए गए शब्द का विलोम चुनें।

विनाश

- Ans 1. निर्माण
 2. अभिशाप
 3. शमशान
 4. समास

Question ID : 65497836705
Status : Answered
Chosen Option : 1

Q.12 दिए गए वाक्य में रेखांकित खंड को प्रतिस्थापित करने के लिए सबसे उपयुक्त विकल्प का चयन करें।
यदि इसे प्रतिस्थापित करने की आवश्यकता नहीं है, तो विकल्प 'किसी बदलाव की आवश्यकता नहीं है'
का चयन करें।

यह एक अनुदित निबंध है।

- Ans 1. अनूवादीत निबंध है।
 2. अनुवादीत निबंध है।
 3. किसी बदलाव की आवश्यकता नहीं है।
 4. अनुवदित निबंध है।

Question ID : 65497836700
Status : Answered
Chosen Option : 2

Q.13 रिक्त स्थान की पूर्ति के लिए सबसे उपयुक्त शब्द का चयन कीजिए।

हमें _____ देश का सम्मान करना चाहिए।

- Ans 1. हमारे
 2. अपने
 3. आपके
 4. अपनी

Question ID : 65497836699
Status : Answered
Chosen Option : 2

Q.14 उस विकल्प का चयन करें जो निम्न मुहावरे का सर्वाधिक उपयुक्त अर्थ व्यक्त करता है।

हवा से बातें करना

- Ans
- 1. फ़िज़ूल की बातें करना
 - 2. घमंडी होना
 - 3. बहुत तेज़ दौड़ना
 - 4. दिमाग खराब होना

Question ID : 65497836710
Status : Answered
Chosen Option : 3

Q.15 'पतंगा' का समानार्थी शब्द कौनसा है?

- Ans
- 1. शलाका
 - 2. शर्मीला
 - 3. शर्वरी
 - 4. शलभ

Question ID : 65497836698
Status : Answered
Chosen Option : 3

Q.16 'घूस तय करना' इस अर्थ को प्रकट करनेवाला मुहावरा कौनसा है?

- Ans
- 1. दरबार बांधना
 - 2. दरबार बंद होना
 - 3. दरबार लगना
 - 4. दरबार होना

Question ID : 65497836702
Status : Answered
Chosen Option : 3

Q.17 सही वर्तनी वाले शब्द का चयन कीजिए।

- Ans
- 1. विभिषिका
 - 2. बिभिषिका
 - 3. विभिषिका
 - 4. विभीषिका

Question ID : 65497836696
Status : Answered
Chosen Option : 3

Q.18 दिए गए वाक्य का वह भाग ज्ञात करें जिसमें कोई त्रुटि है। यदि कोई त्रुटि नहीं है, तो 'कोई त्रुटि नहीं है' चुनें।

इसलिए (1)/ कहता हूँ क्योंकि (2)/ आप दुर्बल हैं। (3)/ कोई त्रुटि नहीं है (4)

- Ans
- 1. 2
 - 2. 4
 - 3. 1
 - 4. 3

Question ID : 65497836697
Status : Answered
Chosen Option : 2

Q.19 रिक्त स्थान की पूर्ति के लिए सबसे उपयुक्त विकल्प का चयन करें।

चिंता एक _____ है।

- Ans 1. नशा
 2. संस्कार
 3. आधि
 4. व्याधि

Question ID : 65497836712
Status : Answered
Chosen Option : 4

Q.20 सही वर्तनी वाले शब्द का चयन कीजिए।

- Ans 1. यवजीवन
 2. याव्वजीवन
 3. यावज्जीवन
 4. यावल्जीवन

Question ID : 65497836695
Status : Answered
Chosen Option : 2

Comprehension:

दिए गए गद्यांश में से कुछ शब्द हटा दिए गए हैं। संबंधित प्रश्नों में प्रत्येक संख्या के लिए सबसे उपयुक्त विकल्प का चयन करें-

(1) _____ यातायात में रेलगाड़ी का (2) _____ स्थान है। हमारे यहाँ पूरे देश को रेल (3) _____ से (4) _____ दिया गया है। मैं बस द्वारा तो कई बार यात्रा कर चुका था परन्तु रेल द्वारा यात्रा का यह प्रथम (5) _____ था।

SubQuestion No : 21

Q.21 गद्यांश के रिक्त स्थान (1) के लिए सर्वाधिक उपयुक्त शब्द होगा-

- Ans 1. समुद्री
 2. स्थल
 3. हवाई
 4. नगरीय

Question ID : 65497836716
Status : Answered
Chosen Option : 2

Comprehension:

दिए गए गद्यांश में से कुछ शब्द हटा दिए गए हैं। संबंधित प्रश्नों में प्रत्येक संख्या के लिए सबसे उपयुक्त विकल्प का चयन करें-

(1) _____ यातायात में रेलगाड़ी का (2) _____ स्थान है। हमारे यहाँ पूरे देश को रेल (3) _____ से (4) _____ दिया गया है। मैं बस द्वारा तो कई बार यात्रा कर चुका था परन्तु रेल द्वारा यात्रा का यह प्रथम (5) _____ था।

SubQuestion No : 22

Q.22 गद्यांश के रिक्त स्थान (2) के लिए सर्वाधिक उपयुक्त शब्द होगा-

- Ans 1. सामान्य
 2. ऊँचा
 3. महत्वपूर्ण
 4. निचला

Question ID : 65497836717
Status : Answered
Chosen Option : 3

Comprehension:

दिए गए गद्यांश में से कुछ शब्द हटा दिए गए हैं। संबंधित प्रश्नों में प्रत्येक संख्या के लिए सबसे उपयुक्त विकल्प का चयन करें-

(1) _____ यातायात में रेलगाड़ी का (2) _____ स्थान है। हमारे यहाँ पूरे देश को रेल (3) _____ से (4) _____ दिया गया है। मैं बस द्वारा तो कई बार यात्रा कर चुका था परन्तु रेल द्वारा यात्रा का यह प्रथम (5) _____ था।

SubQuestion No : 23

Q.23 गद्यांश के रिक्त स्थान (3) के लिए सर्वाधिक उपयुक्त शब्द होगा-

- Ans** 1. टिकटघरों
 2. लाइनों
 3. कारखानों
 4. डिब्बों

Question ID : 65497836718
Status : Answered
Chosen Option : 2

Comprehension:

दिए गए गद्यांश में से कुछ शब्द हटा दिए गए हैं। संबंधित प्रश्नों में प्रत्येक संख्या के लिए सबसे उपयुक्त विकल्प का चयन करें-

(1) _____ यातायात में रेलगाड़ी का (2) _____ स्थान है। हमारे यहाँ पूरे देश को रेल (3) _____ से (4) _____ दिया गया है। मैं बस द्वारा तो कई बार यात्रा कर चुका था परन्तु रेल द्वारा यात्रा का यह प्रथम (5) _____ था।

SubQuestion No : 24

Q.24 गद्यांश के रिक्त स्थान (4) के लिए सर्वाधिक उपयुक्त शब्द होगा-

- Ans** 1. बढ़ा
 2. हटा
 3. दौड़ा
 4. जोड़

Question ID : 65497836719
Status : Answered
Chosen Option : 3

Comprehension:

दिए गए गद्यांश में से कुछ शब्द हटा दिए गए हैं। संबंधित प्रश्नों में प्रत्येक संख्या के लिए सबसे उपयुक्त विकल्प का चयन करें-

(1) _____ यातायात में रेलगाड़ी का (2) _____ स्थान है। हमारे यहाँ पूरे देश को रेल (3) _____ से (4) _____ दिया गया है। मैं बस द्वारा तो कई बार यात्रा कर चुका था परन्तु रेल द्वारा यात्रा का यह प्रथम (5) _____ था।

SubQuestion No : 25

Q.25 गद्यांश के रिक्त स्थान (5) के लिए सर्वाधिक उपयुक्त शब्द होगा-

- Ans** 1. अवसर
 2. दर्शन
 3. समय
 4. दिन

Question ID : 65497836720
Status : Answered
Chosen Option : 1