

Constable GD in CAPFs NIA SSF and Rifleman GD in Assam Rifles Examination 2021

Roll Number	www.GovtJobsAlert.In
Candidate Name	www.GovtJobsAlert.In
Venue Name	Examit Infotech Pvt Ltd
Exam Date	22/11/2021
Exam Time :	4:00 PM - 5:30 PM
Subject	Constable GD 2021

Section : Part A General Intelligence and Reasoning

Q.1 उस विकल्प का चयन कीजिए जिसका तीसरी संख्या से वही संबंध है, जो दूसरी संख्या का पहली संख्या से है।

6 : 216 :: 8 : ?

Ans 1. 1024

2. 512

3. 154

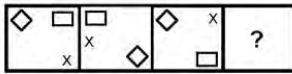
4. 64

Question ID : 65497831646

Status : Answered

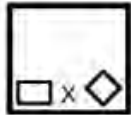
Chosen Option : 2

Q.2 दिए गए विकल्पों में से उस आकृति को चुनिए जो निम्न श्रृंखला में प्रश्नचिह्न (?) का स्थान ले सकती है।



Ans

1.



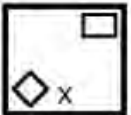
2.



3.



4.



Question ID : 65497831653

Status : Answered

Chosen Option : 1

Q.3 दर्पण को दी गई आकृति के दाईं ओर रखे जाने पर, आकृति का दर्पण में निर्मित सही प्रतिबिंब चयनित करें।



Ans

- 1.
- 2.
- 3.
- 4.

Question ID : 65497831657
Status : Answered
Chosen Option : 1

Q.4 A, B, C और D नाम के चार मित्र एक रेस्तरां में एक वर्गाकार मेज के चारों ओर बैठे हुए हैं। यदि B, A के ठीक सामने और D के विकर्णतः सामने बैठा हुआ है, तो C के सामने कौन बैठा है?

- Ans 1. कोई नहीं
2. A
3. D
4. B

Question ID : 65497831643
Status : Answered
Chosen Option : 3

Q.5 एक निश्चित कूट भाषा में VOLLEY को WpMMfZ लिखा जाता है और DON को EpO लिखा जाता है। उसी कूट भाषा में DENSITY को किस प्रकार लिखा जाएगा?

- Ans 1. EfOTjUZ
2. EFotJUy
3. FfOtJuZ
4. EEoTjUz

Question ID : 65497831664
Status : Answered
Chosen Option : 1

Q.6 उस संख्या की पहचान करें जो निम्न श्रृंखला से संबंधित नहीं है।

18, 27, 35, 45, 54

Ans 1. 18

2. 45

3. 54

4. 35

Question ID : 65497831652
Status : Answered
Chosen Option : 4

Q.7 दिए गए विकल्पों में से उस अक्षर-समूह का चयन करें जो निम्नलिखित श्रृंखला में प्रश्नवाचक चिह्न (?) के स्थान पर आ सकता है।

NKI, PMK, ROM, ?

Ans 1. SPN

2. TOM

3. TQO

4. TRP

Question ID : 65497831641
Status : Answered
Chosen Option : 3

Q.8 उस अक्षर संयोजन का चयन करें जिसे दी गई श्रृंखला के रिक्त स्थानों में क्रमिक रूप से रखे जाने पर श्रृंखला पूर्ण होगी।

BCB_BC_IB_BI

Ans 1. BCI

2. BCC

3. CBI

4. IBC

Question ID : 65497831651
Status : Answered
Chosen Option : 3

Q.9 यदि समायरा, मेरे पिता की माता के इकलौते पुत्र की पुत्री है, तो समायरा का मुझसे क्या संबंध है?

Ans 1. भतीजी/भांजी

2. पुत्री

3. मां

4. बहन

Question ID : 65497831665
Status : Answered
Chosen Option : 4

Q.10 एक सम्मेलन के अंत में, उपस्थित सभी 30 व्यक्तियों ने एक-दूसरे से हाथ मिलाया। इस प्रकार कुल कितनी बार हाथ मिलाए गए?

Ans 1. 435

2. 450

3. 300

4. 60

Question ID : 65497831661
Status : Answered
Chosen Option : 2

Q.11 A, B, C, D, E और F, अलग-अलग लंबाइयों के छः मित्र हैं। A केवल C और E से लंबा है। B, D से छोटा है लेकिन D उनमें से सबसे लंबा नहीं है। उनमें से सबसे लंबा कौन है?

- Ans
- 1. E
 - 2. A
 - 3. F
 - 4. C

Question ID : 65497831645
Status : Answered
Chosen Option : 3

Q.12 चार अक्षर-समूह दिए गए हैं, जिनमें से तीन किसी तरह से एक समान हैं और एक असंगत है। उस अक्षर-समूह का चयन करें जो असंगत है।

- Ans
- 1. USB
 - 2. IDE
 - 3. RDN
 - 4. ZTG

Question ID : 65497831654
Status : Answered
Chosen Option : 4

Q.13 एक निश्चित कूट भाषा में KING को 1012810131568 के रूप में कूटबद्ध किया जाता है। उसी कूट भाषा में ROSE को किस रूप में कूटबद्ध किया जाएगा?

- Ans
- 1. 17191614201864
 - 2. 17191416182046
 - 3. 17181416192056
 - 4. 19171614192035

Question ID : 65497831655
Status : Not Attempted and Marked For Review
Chosen Option : --

Q.14 उस विकल्प का चयन कीजिए जो दिए गए शब्दों का वह क्रम दर्शाता है जिस क्रम में वे अंग्रेजी शब्दकोश में आते हैं।

1. Power
2. Piece
3. Peace
4. Poem
5. Palm

- Ans
- 1. 1, 2, 3, 4, 5
 - 2. 2, 3, 1, 5, 4
 - 3. 5, 4, 3, 2, 1
 - 4. 5, 3, 2, 4, 1

Question ID : 65497831650
Status : Answered
Chosen Option : 4

Q.15 एक विशिष्ट कूट भाषा में, 'ORACLE' को 'HSVUXG' और 'DAVID' को 'BVJFB' लिखा जाता है। इसी कूट भाषा में 'VIDEO' को क्या लिखा जाएगा?

- Ans 1. JFBGH
 2. JFGBH
 3. JBFGH
 4. GFBJH

Question ID : 65497831658
Status : Answered
Chosen Option : 1

Q.16 दिए गए पैटर्न का ध्यानपूर्वक अध्ययन करें, और उस संख्या का चयन करें जो इसमें प्रश्नवाचक चिह्न (?) के स्थान पर आ सकती है।

10 13 17
12 11 ?
160 185 235

- Ans 1. 15
 2. 13
 3. 10
 4. 17

Question ID : 65497831660
Status : Answered
Chosen Option : 2

Q.17 निम्नलिखित समीकरण को सही (संतुलित) बनाने के लिए किन दो संख्याओं (अंक नहीं) को आपस में बदलना होगा?

$$3 \times 45 \div 5 + 7 - 12 = 70$$

- Ans 1. 3 और 5
 2. 5 और 7
 3. 3 और 7
 4. 5 और 12

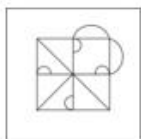
Question ID : 65497831647
Status : Answered
Chosen Option : 1

Q.18 उस विकल्प का चयन करें जिसमें दी गई आकृति सन्निहित है (घुमाने की अनुमति नहीं है)।



Ans

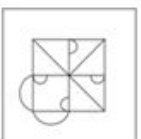
✓ 1.



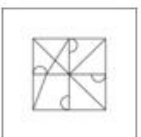
✗ 2.



✗ 3.



✗ 4.

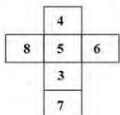


Question ID : 65497831649

Status : Answered

Chosen Option : 1

Q.19 दी गई शीट को मोड़कर एक घन बनाया जाता है। इस प्रकार से बने घन में, संख्या '7' दर्शाने वाले फलक के विपरीत फलक पर कौन-सी संख्या होगी?



Ans

✓ 1. 5

✗ 2. 6

✗ 3. 8

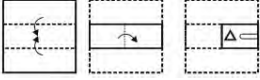
✗ 4. 4

Question ID : 65497831648

Status : Answered

Chosen Option : 1

Q.20 निम्नांकित चित्रों में एक कागज को मोड़ने के क्रम और मुड़े हुए कागज को काटने का तरीका दर्शाया गया है। मुड़े हुए कागज को खोलने पर यह कैसा दिखाई देगा?



Ans

1.



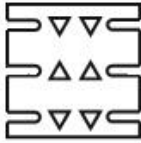
2.



3.



4.



Question ID : 65497831662

Status : Answered

Chosen Option : 4

Q.21 दिए गए विकल्पों में से उस संख्या का चयन करें जो निम्नलिखित श्रृंखला में प्रश्न चिह्न (?) के स्थान पर आ सकती है।

6, 8, 20, 50, 106, ?

Ans

1. 212

2. 280

3. 196

4. 218

Question ID : 65497831656

Status : Not Attempted and Marked For Review

Chosen Option : --

Q.22 'शहद' का जो संबंध 'मधुमक्खी' से है वही संबंध 'चीनी' का '_____' से है।

Ans

1. मिठाई

2. केक

3. गन्ना

4. जूसर

Question ID : 65497831642

Status : Answered

Chosen Option : 3

Q.23 उस विकल्प का चयन कीजिए, जिसका तीसरे पद से वही संबंध है, जो दूसरे पद का पहले पद से है।

TANGY : GZMTB :: PRIEST : ?




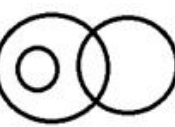
- Ans
- 1. LIRVJG
 - 2. KIRVHG
 - 3. KJSVHG
 - 4. KIRUHF

Question ID : 65497831663
Status : Answered
Chosen Option : 2

Q.24 उस वेन आरेख का चयन करें जो निम्नलिखित वर्गों के बीच के संबंधों का सबसे अच्छी तरह से दर्शाता है।

पुलिस, पुरुष, पति

Ans

- 1. 
- 2. 
- 3. 
- 4. 

Question ID : 65497831644
Status : Answered
Chosen Option : 2

Q.25 दिए गए कथनों और निष्कर्षों को ध्यानपूर्वक पढ़ें। कथनों में दी गई जानकारी को सत्य मानते हुए भले ही वह सामान्य ज्ञात तथ्यों से भिन्न प्रतीत होती हो, निर्णय कीजिए कि दिए गए निष्कर्षों में से कौन से निष्कर्ष कथनों का तार्किक रूप से अनुसरण करते हैं।

कथन:

सभी फल, फूल हैं।
कुछ फल, कीवी हैं।

निष्कर्ष:

- I. कुछ फूल, कीवी हैं।
- II. सभी कीवी, फल हैं।

- Ans
- 1. निष्कर्ष I और II दोनों अनुसरण करते हैं।
 - 2. केवल निष्कर्ष II अनुसरण करता है।
 - 3. न तो निष्कर्ष I और न ही निष्कर्ष II अनुसरण करता है।
 - 4. केवल निष्कर्ष I अनुसरण करता है।

Question ID : 65497831659
Status : Answered
Chosen Option : 4

Section : Part B General Knowledge and General Awareness

Q.1 _____ साम्राज्य पहला अखिल भारतीय साम्राज्य था, जिसके शासन क्षेत्र में अधिकांश वर्तमान भारतीय उपमहाद्वीप आते थे।

- Ans
- 1. कुषाण
 - 2. गुप्त
 - 3. मौर्य
 - 4. चोल

Question ID : 65497831687
Status : Answered
Chosen Option : 3

Q.2 सांची को निम्नलिखित में से किस वर्ष यूनेस्को विश्व धरोहर स्थल घोषित किया गया?

- Ans
- 1. 1989
 - 2. 1967
 - 3. 2014
 - 4. 1999

Question ID : 65497831670
Status : Not Answered
Chosen Option : --

Q.3 बैंकिंग के संबंध में, सी.टी.एस. (CTS), _____ के लिए एक संक्षिप्त रूप है।

- Ans
- 1. Corporate Trade Schedule (कॉर्पोरेट ट्रेड शिड्यूल)
 - 2. Cheque Truncation System (चेक ट्रंकेशन सिस्टम)
 - 3. Cash Transaction Scrutiny (कैश ट्रांजेक्शन स्कूटिनी)
 - 4. Credit Transfer Statement (क्रेडिट ट्रांसफर स्टेटमेंट)

Question ID : 65497831686
Status : Not Answered
Chosen Option : --

Q.4 राष्ट्रीय खेल विश्वविद्यालय, इंदौर एक केंद्रीय विश्वविद्यालय है, जिसकी स्थापना वर्ष _____ में पारित एक अधिनियम के तहत की गई है।

- Ans
- 1. 2014
 - 2. 2018
 - 3. 2015
 - 4. 2019

Question ID : 65497831689
Status : Not Answered
Chosen Option : --

Q.5 मृदा प्रबंधन और फसल चक्र, खरपतवार और कीट नियंत्रण और फसलों की वृद्धि और खाद्य उत्पादन में महत्वपूर्ण भूमिका निभाने वाली जलवायु के अध्ययन से संबंधित विज्ञान क्या कहलाता है?

- Ans
- 1. घास विज्ञान (Agrostology)
 - 2. शरीर-रचना विज्ञान (Anatomy)
 - 3. कोशिका विज्ञान (Cytology)
 - 4. कृषि विज्ञान (Agronomy)

Question ID : 65497831677
Status : Answered
Chosen Option : 4

Q.6 अपघटित पारिस्थितिकी तंत्र और पारिस्थितिक स्थिरता के संरक्षण और पुनर्जनन के माध्यम से एक क्षेत्र के विकास की प्रक्रिया _____ कहलाती है।

- Ans
- 1. सामाजिक स्थिरता
 - 2. स्थायी विकास
 - 3. सामाजिक विकास
 - 4. पारिस्थितिक-विकास

Question ID : 65497831671
Status : Not Answered
Chosen Option : --

Q.7 टेनिस में ओपन एरा की शुरुआत _____ में हुई, जब ग्रैंड स्लैम टूर्नामेंट्स ने पेशेवर खिलाड़ियों को नवोदित खिलाड़ियों के साथ प्रतिस्पर्धा करने की अनुमति दी।

- Ans
- 1. 1938
 - 2. 1968
 - 3. 1958
 - 4. 1948

Question ID : 65497831669
Status : Not Answered
Chosen Option : --

Q.8 लेबैंग बूमनी निम्नलिखित में से किस राज्य का एक प्रदर्शनकारी लोक नृत्य है?

- Ans
- 1. त्रिपुरा
 - 2. महाराष्ट्र
 - 3. केरल
 - 4. ओडिशा

Question ID : 65497831678
Status : Answered
Chosen Option : 1

Q.9 'एग्जाम वारियर्स (Exam Warriors)' नामक पुस्तक के लेखक कौन हैं?

- Ans
- 1. विक्रम सेठ
 - 2. बिबेक देबरॉय
 - 3. अभिषेक मनु सिंघवी
 - 4. नरेंद्र मोदी

Question ID : 65497831680
Status : Not Answered
Chosen Option : --

Q.10 मनुष्यों में गुणसूत्रों के कितने युग्म होते हैं?

- Ans
- 1. 26
 - 2. 19
 - 3. 23
 - 4. 22

Question ID : 65497831672
Status : Answered
Chosen Option : 3

Q.11 निम्नलिखित में से कौन-सा पुरस्कार प्रतिष्ठित अंतरराष्ट्रीय खेल प्रतिस्पर्धाओं में पदक विजेताओं के कोच को दिया जाता है?

- Ans
- 1. राजीव गांधी खेल रत्न पुरस्कार
 - 2. ध्यान चंद पुरस्कार
 - 3. द्रोणाचार्य पुरस्कार
 - 4. अर्जुन पुरस्कार

Question ID : 65497831683
Status : Answered
Chosen Option : 3

Q.12 पिछले वित्त वर्ष के आवंटन के मुकाबले 2020-2021 के बजट में रक्षा व्यय में कितने प्रतिशत की बढ़ोत्तरी की गई?

- Ans
- 1. 7.4%
 - 2. 5.8%
 - 3. 6.1%
 - 4. 4.3%

Question ID : 65497831666
Status : Not Answered
Chosen Option : --

Q.13 हिंदू विधवा पुनर्विवाह अधिनियम निम्नलिखित में से किस वर्ष से लागू हुआ था?

- Ans
- 1. 1906
 - 2. 1934
 - 3. 1890
 - 4. 1856

Question ID : 65497831675
Status : Not Answered
Chosen Option : --

Q.14 विलियम जोस कप निम्नलिखित में से किस खेल (games/sports) से संबंधित है?

- Ans
- 1. बिलियर्ड्स
 - 2. बास्केटबॉल
 - 3. मुक्केबाजी
 - 4. क्रिकेट

Question ID : 65497831681
Status : Answered
Chosen Option : 1

Q.15 दिसंबर 2020 में अंतरराष्ट्रीय रेत कला महोत्सव (इंटरनेशनल सैंड आर्ट फेस्टिवल) के 9वें संस्करण का आयोजन _____ में किया गया था।

- Ans
- 1. महाराष्ट्र
 - 2. आंध्र प्रदेश
 - 3. ओडिशा
 - 4. तमिलनाडु

Question ID : 65497831668
Status : Not Answered
Chosen Option : --

Q.16 2011 की जनगणना के अनुसार, निम्नलिखित में से किस राज्य का लिंग-अनुपात 900 से कम है?

- Ans
- 1. मध्य प्रदेश
 - 2. हरियाणा
 - 3. झारखंड
 - 4. असम

Question ID : 65497831679
Status : Answered
Chosen Option : 2

Q.17 फरवरी 2020 में, भारतीय रिजर्व बैंक के बोर्ड ने अनुशांसा की कि इसका लेखा वर्ष _____ से बदलकर अप्रैल-मार्च कर दिया जाए।

- Ans
- 1. सितंबर – अगस्त
 - 2. अक्टूबर – सितंबर
 - 3. जनवरी – दिसंबर
 - 4. जुलाई – जून

Question ID : 65497831684
Status : Not Answered
Chosen Option : --

Q.18 चालीस वर्ष पूर्व बंद हो गये संगीत समूह _____, ने सितंबर 2021 में अपनी वापसी की घोषणा की।

- Ans
- 1. एबीबीए (ABBA)
 - 2. लेड जेप्लिन (Led Zeppelin)
 - 3. ईगल्स (Eagles)
 - 4. रोलिंग स्टोन्स (Rolling Stones)

Question ID : 65497831690
Status : Not Answered
Chosen Option : --

Q.19 प्राचीन भारत में लोग इस बात पर विश्वास करते थे कि जब ब्राहमणों के सहयोग से _____ अनुष्ठान किया जाता है, तो बलिदानी व्यक्ति का अगले जन्म में एक क्षत्रिय के रूप में पुनर्जन्म होता है, चाहे वह जन्म से क्षत्रिय न हो।

- Ans
- 1. हिरण्य-गर्भ
 - 2. समवज-तन
 - 3. मेधाजनन
 - 4. उपनयन

Question ID : 65497831685
Status : Not Attempted and Marked For Review
Chosen Option : --

Q.20 पृथ्वी की सतह के नीचे सबसे नजदीकी खनिज केवल _____ प्रक्रिया द्वारा खोदकर निकाले जा सकते जाते हैं।

- Ans
- 1. खुदाई (ड्रिलिंग)
 - 2. उत्खनन (कॉरीइंग)
 - 3. विवृत खनन (ओपन कास्ट माइनिंग)
 - 4. कूपकी खनन (शाफ्ट माइनिंग)

Question ID : 65497831682
Status : Answered
Chosen Option : 4

Q.21 सितंबर 2020 में संयुक्त राष्ट्र विकास कार्यक्रम (UNDP) के सद्भावना राजदूत के रूप में किसे नियुक्त किया गया था?

- Ans
- 1. पद्म लक्ष्मी
 - 2. मिशेल ओबामा
 - 3. येमी अलादे
 - 4. एम.नेत्रा

Question ID : 65497831673
Status : Answered
Chosen Option : 1

Q.22 जीव-जंतुओं की संरचना, स्वरूप और पारिस्थितिक वितरण के वैज्ञानिक अध्ययन को _____ कहा जाता है।

- Ans
- 1. जंतु विज्ञान (zoology)
 - 2. छिपकली विज्ञान (saurology)
 - 3. वनस्पति विज्ञान (botany)
 - 4. नृजाति विज्ञान (ethnology)

Question ID : 65497831674
Status : Answered
Chosen Option : 1

Q.23 उत्तर प्रदेश के बाद किस राज्य में लोकसभा सीटों की संख्या सबसे अधिक है?

- Ans
- 1. आंध्र प्रदेश
 - 2. महाराष्ट्र
 - 3. बिहार
 - 4. तमिलनाडु

Question ID : 65497831667
Status : Answered
Chosen Option : 3

Q.24 1918 में खेड़ा (Khair/Kaira) में आई बाढ़ के बाद इनमें से किसने अंग्रेजों के खिलाफ 'नो टैक्स कैंपेन' का नेतृत्व किया था?

- Ans
- 1. महादेव देसाई
 - 2. मोरारजी देसाई
 - 3. वल्लभभाई पटेल
 - 4. त्रिभुवनदास पटेल

Question ID : 65497831688
Status : Answered
Chosen Option : 2

Q.25 महिला उद्यमिता दिवस प्रति वर्ष कब मनाया जाता है?

- Ans
- 1. 19 नवंबर
 - 2. 10 अक्टूबर
 - 3. 14 सितंबर
 - 4. 25 नवंबर

Question ID : 65497831676
Status : Not Answered
Chosen Option : --

Section : Part C Elementary Mathematics

Q.1 ₹980 की एक धनराशि को A, B और C में इस प्रकार विभाजित किया गया कि A को B के हिस्से का $\frac{3}{7}$ और C को A के हिस्से का 75% मिला। C का हिस्सा ज्ञात करें।

- Ans**
- 1. ₹280
 - 2. ₹250
 - 3. ₹180
 - 4. ₹160

Question ID : 65497831700
Status : Answered
Chosen Option : 3

Q.2 छह संख्याओं A, B, C, D, E और F में से, पहली पाँच संख्याओं A, B, C, D और E का औसत, अंतिम पाँच संख्याओं B, C, D, E और F के औसत से 26 अधिक है। A और F के बीच का अंतर ज्ञात करें।

- Ans**
- 1. 125
 - 2. 140
 - 3. 120
 - 4. 130

Question ID : 65497831699
Status : Answered
Chosen Option : 4

Q.3 14 cm ऊँचाई वाले एक लंबवृत्तीय बेलन का वक्र पृष्ठीय क्षेत्रफल 176 cm^2 है। बेलन के आधार का क्षेत्रफल (cm^2 में) ज्ञात कीजिए। ($\pi = \frac{22}{7}$ मानें)

- Ans**
- 1. $\frac{66}{7}$
 - 2. $\frac{176}{7}$
 - 3. $\frac{88}{7}$
 - 4. $\frac{44}{7}$

Question ID : 65497831711
Status : Answered
Chosen Option : 3

Q.4 दो धनात्मक संख्याओं का लघुत्तम समापवर्त्य (LCM) उनके महत्तम समापवर्तक (HCF) का 13 गुना है। HCF और LCM का योग 252 है। यदि उनमें से एक संख्या 54 है, तो दूसरी संख्या ज्ञात करें।

- Ans**
- 1. 68
 - 2. 63
 - 3. 73
 - 4. 78

Question ID : 65497831698
Status : Not Attempted and Marked For Review
Chosen Option : --

Q.5 एक दुकानदार ने किसी निश्चित वस्तु को एक निश्चित मूल्य पर बेचने का निर्णय किया। उसने निर्धारित मूल्य से 45% अधिक मूल्य का टैग उस वस्तु पर लगाया। वस्तु को बेचते समय उसने उस पर 40% की छूट दी। ज्ञात कीजिए उसे निर्धारित मूल्य से कितने रूपए अधिक या कम मिले?

- Ans**
- 1. ₹13 अधिक
 - 2. ₹13 कम
 - 3. ₹87 अधिक
 - 4. ₹87 कम

Question ID : 65497831706
Status : Answered
Chosen Option : 2

Q.6 पाइप A, B और C एक टैंक को क्रमशः 10, 15 और 18 घंटे में भर सकते हैं। A और C को 5 घंटे के लिए खोला जाता है, उसके बाद केवल पाइप A को बंद किया जाता है और उसी समय पाइप B को (C के साथ) खोल दिया जाता है। टैंक को पूरा भरने में कुल कितना समय लगा?

- Ans**
- 1. $2\frac{1}{3}$ घंटे
 - 2. $6\frac{9}{11}$ घंटे
 - 3. $5\frac{8}{11}$ घंटे
 - 4. $3\frac{2}{3}$ घंटे

Question ID : 65497831715
Status : Answered
Chosen Option : 2

Q.7 ब्याज वार्षिक रूप से चक्रवृद्धि होने पर, एक धनराशि पर 5% की वार्षिक ब्याज दर से 3 वर्ष में प्राप्त मिश्रधन ₹9,261 है। इसी धनराशि पर समान ब्याज दर से $3\frac{3}{4}$ वर्षों में प्राप्त साधारण ब्याज (₹ में) ज्ञात कीजिए।

- Ans**
- 1. ₹1,620
 - 2. ₹1,500
 - 3. ₹1,560
 - 4. ₹1,350

Question ID : 65497831710
Status : Answered
Chosen Option : 2

Q.8 $72 \div 16 \text{ of } 3 - [28 \div 6 \text{ of } 4 - 20 \div 7 \times (23 - 37) - 41] \times 1\frac{1}{2}$ का मान ज्ञात कीजिए।

- Ans**
- 1. $\frac{5}{8}$
 - 2. 1
 - 3. $\frac{5}{4}$
 - 4. $\frac{3}{2}$

Question ID : 65497831713
Status : Answered
Chosen Option : 3

Q.9 यदि 328, 451 और 697 का महत्तम समापवर्तक (HCF) x है, तो x का मान _____ के बीच होगा।

- Ans
- 1. 48 और 52
 - 2. 44 और 48
 - 3. 36 और 40
 - 4. 40 और 44

Question ID : 65497831707
Status : Answered
Chosen Option : 4

Q.10 विमला ने साधारण ब्याज पर ₹7,200 का ऋण लिया। ब्याज की दर और अवधि वर्ष के संख्यात्मक मान समान हैं। ऋण अवधि के अंत में यदि उसे ब्याज के रूप में ₹5,832 की धनराशि का भुगतान करना पड़ा, तो ब्याज दर ज्ञात करें।

- Ans
- 1. 8%
 - 2. 9%
 - 3. 8.5%
 - 4. 12%

Question ID : 65497831701
Status : Answered
Chosen Option : 2

Q.11 गेहूँ के मूल्य में $12\frac{1}{2}\%$ की कमी होने से एक व्यक्ति ₹280 में $2\frac{1}{2}$ kg अधिक गेहूँ खरीद पाता है। आरंभ में, व्यक्ति कितने गेहूँ (kg में) खरीद पाता था?

- Ans
- 1. 20
 - 2. 12.5
 - 3. 15
 - 4. 17.5

Question ID : 65497831692
Status : Answered
Chosen Option : 4

Q.12 7 व्यक्ति प्रति दिन 7 घंटे काम करते हुए 6 दिनों में 14 बक्से पैक कर सकते हैं। यदि प्रति दिन 9 घंटे काम किया जाए तो 14 व्यक्तियों को 18 बक्से पैक करने में कितने दिन लगेंगे?

- Ans
- 1. 5
 - 2. 3
 - 3. 4
 - 4. 2

Question ID : 65497831694
Status : Answered
Chosen Option : 2

Q.13 एक व्यक्ति 3 km/h, 4 km/h, 5 km/h और 6 km/h की चाल से समान दूरियां तय करता है और उसे कुल 3 घंटे 48 मिनट लगते हैं। कुल दूरी (km में) कितनी है?

- Ans
- 1. 4
 - 2. 16
 - 3. 20
 - 4. 12

Question ID : 65497831695

Status : Not Attempted and Marked For Review

Chosen Option : --

Q.14 यदि ₹644 की धनराशि को तीन भागों में $\frac{1}{2} : \frac{2}{3} : \frac{3}{4}$ के अनुपात में विभाजित किया गया तो पहला भाग कितना होगा?

- Ans
- 1. ₹280
 - 2. ₹168
 - 3. ₹322
 - 4. ₹186

Question ID : 65497831704

Status : Answered

Chosen Option : 2

Q.15 एक घनाभ के तीन संलग्न पृष्ठों के पृष्ठीय क्षेत्रफल क्रमशः 5 cm^2 , 16 cm^2 और 20 cm^2 हैं। घनाभ का आयतन ज्ञात कीजिए।

- Ans
- 1. 40 cm^3
 - 2. 45 cm^3
 - 3. 50 cm^3
 - 4. 30 cm^3

Question ID : 65497831705

Status : Not Attempted and Marked For Review

Chosen Option : --

Q.16 $9\frac{4}{15} \div \frac{7}{8}$ of $(6\frac{1}{5} + 3\frac{2}{5}) - (\frac{2}{21} + \frac{1}{126})$ का मान ज्ञात कीजिए।

- Ans
- 1. 1
 - 2. 3
 - 3. 5
 - 4. 10

Question ID : 65497831702

Status : Answered

Chosen Option : 1

Q.17 दो संख्याओं x और y का अनुपात 4 : 7 है, यदि x में 6 जोड़ा जाए और y से 7 घटाया जाए, तो उनका अनुपात 3 : 4 हो जाता है। x और y के बीच अंतर ज्ञात करें।

- Ans**
- 1. 30
 - 2. 27
 - 3. 36
 - 4. 24

Question ID : 65497831709
Status : Answered
Chosen Option : 2

Q.18 राधा अपनी आय से 28% की बचत करती है। यदि उसके व्यय में 25% की वृद्धि होती है और बचत में 30% की वृद्धि होती है, तो उसकी आय में हुई प्रतिशत वृद्धि ज्ञात करें।

- Ans**
- 1. 27.6%
 - 2. 26.4%
 - 3. 27%
 - 4. 25%

Question ID : 65497831708
Status : Answered
Chosen Option : 2

Q.19 ब्याज वार्षिक रूप से चक्रवृद्धि होने पर, ₹10500 की धनराशि पर $x\%$ की वार्षिक ब्याज दर से 2 वर्ष में प्राप्त मिश्रधन ₹12705 है। ब्याज अर्ध-वार्षिक रूप से चक्रवृद्धि होने पर, उसी धनराशि पर $2x\%$ की वार्षिक ब्याज दर से $1\frac{1}{2}$ वर्ष में प्राप्त मिश्रधन (₹ में) कितना होगा?

- Ans**
- 1. 13975.50
 - 2. 11297
 - 3. 17395.75
 - 4. 19753.25

Question ID : 65497831697
Status : Not Answered
Chosen Option : --

Q.20 37 संख्याओं का औसत 49 है। पहली 21 संख्याओं का औसत 43.8 है और अंतिम 17 संख्याओं का औसत 55.6 है। यदि 21 वीं संख्या को छोड़ दिया जाए, तो शेष संख्याओं का औसत कितना होगा (दशमलव के एक स्थान तक सही)?

- Ans**
- 1. 53.5
 - 2. 49.7
 - 3. 48.9
 - 4. 47.6

Question ID : 65497831691
Status : Not Answered
Chosen Option : --

Q.21 एक रेलगाड़ी स्थान A से स्थान B तक 90 km/h की चाल से जाती है और 75 km/h की चाल से वापस आती है।
यदि यह कुल $14\frac{2}{3}$ घंटे लेती है, तो स्थान A और स्थान B के बीच की दूरी ज्ञात कीजिए।

- Ans**
- 1. 580 km
 - 2. 600 km
 - 3. 620 km
 - 4. 560 km

Question ID : 65497831703
Status : Answered
Chosen Option : 2

Q.22 सीमा ने 10.5% के लाभ पर एक सूट बेचा। यदि उसने इसे ₹70 अधिक में बेचा होता, उसे 14% का लाभ प्राप्त होता।
सूट का प्रारंभिक विक्रय मूल्य (₹ में) ज्ञात करें।

- Ans**
- 1. 2,140
 - 2. 2,210
 - 3. 2,350
 - 4. 2,280

Question ID : 65497831696
Status : Not Answered
Chosen Option : --

Q.23 एक कॉलेज के चुनाव में सीमा और गीता को कुल वैध मतों में से 4 : 5 के अनुपात में मत प्राप्त होते हैं। यदि 15000 मतों में से 19% मत अवैध हैं, तो सीमा और गीता के पक्ष में पड़े मतों के बीच कितने मतों का अंतर है?

- Ans**
- 1. 1500
 - 2. 1150
 - 3. 1350
 - 4. 1800

Question ID : 65497831693
Status : Not Answered
Chosen Option : --

Q.24 मधु ने ₹1,470 में 35 kg चीनी खरीदी। उसने इसे बेचा और इस विक्रय में हुई हानि 5 kg चीनी के विक्रय मूल्य के बराबर थी। 8 kg चीनी का विक्रय मूल्य (₹ में) ज्ञात कीजिए।

- Ans**
- 1. 288
 - 2. 300
 - 3. 294
 - 4. 296

Question ID : 65497831712
Status : Answered
Chosen Option : 4

Q.25 एक वस्तु को ₹157.50 में बेचने पर रवि को 12.5% का लाभ होता है। यदि वह इसे ₹147 में बेचता है, तो उसका प्रतिशत हानि/लाभ ज्ञात कीजिए।

- Ans**
- 1. 10.5% लाभ
 - 2. 5% हानि
 - 3. 10.5% हानि
 - 4. 5% लाभ

Question ID : 65497831714
Status : Answered
Chosen Option : 1

Section : Part D English

Q.1 The following sentence has been split into four segments. Identify the segment that contains a grammatical error.

Plants that grow / in deserts / do not requires / much water.

- Ans**
- 1. Plants that grow
 - 2. much water
 - 3. in deserts
 - 4. do not requires

Question ID : 65497831733
Status : Not Answered
Chosen Option : --

Q.2 Select the most appropriate option to fill in the blank.

Radha was extremely _____ about the welfare of her parents.

- Ans**
- 1. intense
 - 2. impatient
 - 3. anxious
 - 4. eager

Question ID : 65497831721
Status : Not Answered
Chosen Option : --

Q.3 Select the option that can be used as a one-word substitute for the given group of words.

A spider's home

- Ans**
- 1. Den
 - 2. Hole
 - 3. Hive
 - 4. Cobweb

Question ID : 65497831716
Status : Not Answered
Chosen Option : --

Q.4 Select the most appropriate meaning of the given idiom.

Not breathe a word

- Ans** 1. To be quiet because you are angry
 2. To decide not to talk to someone
 3. To be quiet not knowing what to say
 4. To remain silent about some secret

Question ID : 65497831730
Status : **Not Answered**
Chosen Option : --

Q.5 Select the most appropriate **ANTONYM** of the given word.

Petty

- Ans** 1. Big
 2. Dull
 3. Quick
 4. Light

Question ID : 65497831723
Status : **Not Answered**
Chosen Option : --

Q.6 Select the most appropriate **SYNONYM** of the given word.

Choke

- Ans** 1. Slash
 2. Chop
 3. Block
 4. Hack

Question ID : 65497831734
Status : **Not Answered**
Chosen Option : --

Q.7 Select the option that can be used as a one-word substitute for the given group of words.

One who travels on foot

- Ans** 1. Traveller
 2. Pedestrian
 3. Tourist
 4. Visitor

Question ID : 65497831724
Status : **Not Answered**
Chosen Option : --

Q.8 Select the most appropriate option to fill in the blank.

If you do not return my money, I will _____ you to court.

- Ans 1. carry
 2. drag
 3. push
 4. lift

Question ID : 65497831731
Status : Not Answered
Chosen Option : --

Q.9 The following sentence has been split into four segments. Identify the segment that contains a grammatical error.

These children / are attended / yoga classes / regularly.

- Ans 1. regularly
 2. These children
 3. yoga classes
 4. are attended

Question ID : 65497831726
Status : Not Answered
Chosen Option : --

Q.10 Select the INCORRECTLY spelt word.

- Ans 1. Spoonful
 2. Vegeteble
 3. Opening
 4. Drainage

Question ID : 65497831720
Status : Not Answered
Chosen Option : --

Q.11 Select the most appropriate option to fill in the blank.

Social distancing should be practiced in _____ with other everyday preventive actions.

- Ans 1. understanding
 2. comprehension
 3. arrangement
 4. combination

Question ID : 65497831719
Status : Not Answered
Chosen Option : --

Q.12 Select the most appropriate ANTONYM of the given word.

Defend

- Ans 1. Abandon
 2. Tarnish
 3. Adjourn
 4. Derange

Question ID : 65497831718
Status : Not Answered
Chosen Option : --

Q.13 Select the most appropriate option that can substitute the underlined word in the given sentence.

The Maldives is one of the few places in the world where ancient pleasure can be derived from doing nothing.

- Ans**
- 1. bustling
 - 2. prosperous
 - 3. tremendous
 - 4. curt

Question ID : 65497831717
Status : Not Answered
Chosen Option : --

Q.14 Select the most appropriate option that can substitute the underlined segment in the given sentence. If there is no need to substitute it, select 'No substitution required'.

All the mangoes is sweet; you should try one.

- Ans**
- 1. All the mangoes are sweet
 - 2. No substitution required
 - 3. All mangoes sweet
 - 4. All the mangoes sweet

Question ID : 65497831729
Status : Not Answered
Chosen Option : --

Q.15 Select the option that can be used as a one-word substitute for the given group of words.

A cage for keeping rabbits

- Ans**
- 1. Hutch
 - 2. Kennel
 - 3. Apiary
 - 4. Lair

Question ID : 65497831735
Status : Not Answered
Chosen Option : --

Q.16 Select the most appropriate meaning of the given idiom.

To give up the ghost

- Ans**
- 1. To stop working
 - 2. To scare away a ghost
 - 3. To speak lies
 - 4. To pretend to be a ghost

Question ID : 65497831728
Status : Not Answered
Chosen Option : --

Q.17 Select the option that will improve the underlined part of the given sentence. In case no improvement is needed, select 'No improvement required'.

Please walk carefully unless you should hurt yourself.

- Ans** 1. or you might
 2. unless you will
 3. No improvement required
 4. so you should

Question ID : 65497831732
Status : Not Answered
Chosen Option : --

Q.18 Select the INCORRECTLY spelt word.

- Ans** 1. Prosperous
 2. Sumptuous
 3. Pompous
 4. Pretious

Question ID : 65497831725
Status : Not Answered
Chosen Option : --

Q.19 The following sentence has been divided into parts. One of them contains an error. Select the part that contains the error from the given options.

Neither the guests / nor the host / were dressed appropriately / for the party.

- Ans** 1. were dressed appropriately
 2. Neither the guests
 3. nor the host
 4. for the party

Question ID : 65497831722
Status : Not Answered
Chosen Option : --

Q.20 Select the most appropriate synonym of the given word.

Marvellous

- Ans** 1. Dangerous
 2. Childish
 3. Innocent
 4. Wonderful

Question ID : 65497831727
Status : Not Answered
Chosen Option : --

Comprehension:

In the following passage, some words have been deleted. Read the passage carefully and select the most appropriate option to fill in each blank.

Consumption of junk and fast food is the main (1)_____ of obesity in teenagers. Large intake of high-calorie and low-nutrient food leads to (2)_____ weight gain. A number of health issues arise out of it. Obesity can also result in (3)_____ problems like low self-esteem and low confidence. It can also lead to laziness and inactiveness among teens. Junk food and soft drinks should be (4)_____ with lots of fruits, vegetables and whole grains in the diet. The best way to control obesity is to do (5)_____ physical exercise.

SubQuestion No : 21

Q.21 Select the most appropriate option to fill in blank no. 1.

- Ans 1. cause
 2. result
 3. event
 4. effect

Question ID : 65497831737
Status : Not Answered
Chosen Option : --

Comprehension:

In the following passage, some words have been deleted. Read the passage carefully and select the most appropriate option to fill in each blank.

Consumption of junk and fast food is the main (1)_____ of obesity in teenagers. Large intake of high-calorie and low-nutrient food leads to (2)_____ weight gain. A number of health issues arise out of it. Obesity can also result in (3)_____ problems like low self-esteem and low confidence. It can also lead to laziness and inactiveness among teens. Junk food and soft drinks should be (4)_____ with lots of fruits, vegetables and whole grains in the diet. The best way to control obesity is to do (5)_____ physical exercise.

SubQuestion No : 22

Q.22 Select the most appropriate option to fill in blank no. 2.

- Ans 1. insignificant
 2. necessary
 3. irrelevant
 4. unnecessary

Question ID : 65497831738
Status : Not Answered
Chosen Option : --

Comprehension:

In the following passage, some words have been deleted. Read the passage carefully and select the most appropriate option to fill in each blank.

Consumption of junk and fast food is the main (1)_____ of obesity in teenagers. Large intake of high-calorie and low-nutrient food leads to (2)_____ weight gain. A number of health issues arise out of it. Obesity can also result in (3)_____ problems like low self-esteem and low confidence. It can also lead to laziness and inactiveness among teens. Junk food and soft drinks should be (4)_____ with lots of fruits, vegetables and whole grains in the diet. The best way to control obesity is to do (5)_____ physical exercise.

SubQuestion No : 23

Q.23 Select the most appropriate option to fill in blank no. 3.

- Ans 1. physiological
 2. mental
 3. political
 4. psychological

Question ID : 65497831739
Status : Not Answered
Chosen Option : --

Comprehension:

In the following passage, some words have been deleted. Read the passage carefully and select the most appropriate option to fill in each blank.

Consumption of junk and fast food is the main (1)_____ of obesity in teenagers. Large intake of high-calorie and low-nutrient food leads to (2)_____ weight gain. A number of health issues arise out of it. Obesity can also result in (3)_____ problems like low self-esteem and low confidence. It can also lead to laziness and inactiveness among teens. Junk food and soft drinks should be (4)_____ with lots of fruits, vegetables and whole grains in the diet. The best way to control obesity is to do (5)_____ physical exercise.

SubQuestion No : 24

Q.24 Select the most appropriate option to fill in blank no. 4.

Ans ✓ 1. substituted

✗ 2. placed

✗ 3. exchanged

✗ 4. altered

Question ID : 65497831740

Status : Not Answered

Chosen Option : --

Comprehension:

In the following passage, some words have been deleted. Read the passage carefully and select the most appropriate option to fill in each blank.

Consumption of junk and fast food is the main (1)_____ of obesity in teenagers. Large intake of high-calorie and low-nutrient food leads to (2)_____ weight gain. A number of health issues arise out of it. Obesity can also result in (3)_____ problems like low self-esteem and low confidence. It can also lead to laziness and inactiveness among teens. Junk food and soft drinks should be (4)_____ with lots of fruits, vegetables and whole grains in the diet. The best way to control obesity is to do (5)_____ physical exercise.

SubQuestion No : 25

Q.25 Select the most appropriate option to fill in blank no. 5.

Ans ✗ 1. formal

✗ 2. unsystematic

✗ 3. irregular

✓ 4. regular

Question ID : 65497831741

Status : Not Answered

Chosen Option : --

Section : Part D Hindi

Q.1 दिए गए शब्द का विलोम चुनें।

ऊपरलिखित

Ans ✗ 1. स्वलिखित

✗ 2. परलिखित

✓ 3. निम्नलिखित

✗ 4. पूर्वलिखित

Question ID : 65497831749

Status : Answered

Chosen Option : 3

Q.2 दिये गये वाक्य के किस भाग में त्रुटि है?

झूट बोलना पाप है।

- Ans
- 1. झूट
 - 2. बोलना
 - 3. है।
 - 4. पाप

Question ID : 65497831757
Status : Answered
Chosen Option : 1

Q.3 दिये गये वाक्यांश के लिए एक शब्द दीजिये।

जिसके - समान दूसरा न हो

- Ans
- 1. अनंत
 - 2. असीम
 - 3. अद्वितीय
 - 4. अद्भुत

Question ID : 65497831753
Status : Answered
Chosen Option : 3

Q.4 दिए गए वाक्य में रेखांकित खंड को प्रतिस्थापित करने के लिए सबसे उपयुक्त विकल्प का चयन करें।
यदि इसे प्रतिस्थापित करने की आवश्यकता नहीं है, तो विकल्प 'किसी बदलाव की आवश्यकता नहीं है'
का चयन करें।

सीता की मुखचंद्र देखकर राम भी खिल उठे।

- Ans
- 1. सीता का मुखचंद्र
 - 2. सीता जीके मुखचंद्र
 - 3. सीता के मुखचंद्र
 - 4. किसी बदलाव की आवश्यकता नहीं है

Question ID : 65497831743
Status : Answered
Chosen Option : 4

Q.5 दिये गये वाक्य के किस भाग में त्रुटि है?

पत्र किसके नाम पर लिखा गया है?

- Ans
- 1. लिखा
 - 2. पत्र किसके
 - 3. गया है?
 - 4. नाम पर

Question ID : 65497831759
Status : Answered
Chosen Option : 2

Q.6 'सरोवर' का पर्यायवाची है-

- Ans 1. तालाब
 2. बादल
 3. कमल
 4. समुद्र

Question ID : 65497831758
Status : Marked For Review
Chosen Option : 3

Q.7 'जिस पर आक्रमण हो' वाक्यांश के लिए एक शब्द होगा-

- Ans 1. आक्रांत
 2. आक्रांता
 3. आततायी
 4. आक्रामक

Question ID : 65497831761
Status : Answered
Chosen Option : 1

Q.8 सही वर्तनी वाले शब्द का चयन करें।

- Ans 1. मन्तवय
 2. मनतव्य
 3. मंतव्य
 4. मनत्वय

Question ID : 65497831747
Status : Answered
Chosen Option : 4

Q.9 दिए गए वाक्य में रेखांकित खंड को प्रतिस्थापित करने के लिए सबसे उपयुक्त विकल्प का चयन करें।
यदि इसे प्रतिस्थापित करने की आवश्यकता नहीं है, तो विकल्प 'किसी बदलाव की आवश्यकता नहीं है'
का चयन करें।

आप ठीक कहते हैं।

- Ans 1. है
 2. हों
 3. किसी बदलाव की आवश्यकता नहीं है।
 4. हैं

Question ID : 65497831754
Status : Answered
Chosen Option : 4

Q.10 'विफल' का विलोम शब्द होगा-

- Ans 1. असफल
 2. प्रफुल्ल
 3. निष्फल
 4. सफल

Question ID : 65497831760
Status : Answered
Chosen Option : 4

Q.11 रिक्त स्थान की पूर्ति के लिए सबसे उपयुक्त विकल्प का चयन करें।

जो _____ करता है उसका सर्वनाश हो जाता है।

- Ans 1. घमंड
 2. गौरव
 3. गर्व
 4. सम्मान

Question ID : 65497831755
Status : Answered
Chosen Option : 1

Q.12 रिक्त स्थान की पूर्ति के लिए सबसे उपयुक्त शब्द का चयन कीजिए।

घोड़ा बीच में ही _____ गया।

- Ans 1. डट
 2. अड़
 3. चल
 4. टोक

Question ID : 65497831742
Status : Answered
Chosen Option : 2

Q.13 दिए गए शब्द के समानार्थी शब्द का चयन कीजिए।

पर्वत

- Ans 1. द्रुम
 2. नग
 3. इषु
 4. भूय

Question ID : 65497831745
Status : Answered
Chosen Option : 4

Q.14 दिये गये वाक्यांश के लिए एक शब्द दीजिये।

जो प्राणी जमीन पर रहता हो

- Ans 1. जलचर
 2. जमीनी
 3. नभचर
 4. थलचर

Question ID : 65497831751
Status : Answered
Chosen Option : 4

Q.15 सही वर्तनी वाले शब्द का चयन करें।

- Ans 1. निनिमेष
 2. नीनिमेष
 3. निर्निमेष
 4. निनिर्मेष

Question ID : 65497831748
Status : Answered
Chosen Option : 3

Q.16 उस विकल्प का चयन कीजिए जो निम्न मुहावरे का अर्थ व्यक्त करता है।

घर की मुर्गी दाल बराबर

- Ans
- 1. लाभ के स्थान पर हानि
 - 2. घर की वस्तु को महत्व देना
 - 3. घर की वस्तु को तुच्छ समझना
 - 4. अत्यधिक कंजूस

Question ID : 65497831752

Status : Answered

Chosen Option : 3

Q.17 दिए गए वाक्य का वह भाग ज्ञात करें जिसमें कोई त्रुटि है। यदि कोई त्रुटि नहीं है, तो 'कोई त्रुटि नहीं' विकल्प को चुनें।

विद्यार्थियों ने प्रधानमंत्री को अभिनंदन-पत्र अर्पित की।

- Ans
- 1. प्रधानमंत्री को
 - 2. कोई त्रुटि नहीं
 - 3. विद्यार्थियों ने
 - 4. अभिनंदन-पत्र अर्पित की।

Question ID : 65497831744

Status : Answered

Chosen Option : 2

Q.18 दिए गए वाक्य में रेखांकित खंड को प्रतिस्थापित करने के लिए सबसे उपयुक्त विकल्प का चयन करें। यदि इसे प्रतिस्थापित करने की आवश्यकता नहीं है, तो विकल्प 'किसी बदलाव की आवश्यकता नहीं है' का चयन करें।

आवश्यक कार्य में व्यस्त रहने के कारण मुझे अवकाश नहीं मिले।

- Ans
- 1. किसी बदलाव की आवश्यकता नहीं है।
 - 2. व्यस्त रहने के कारण मुझे अवकाश नहीं मिली।
 - 3. व्यस्त रहने के कारण मुझे अवकाश नहीं मिला।
 - 4. व्यस्त रहते के कारण मुझे अवकाश नहीं मिला।

Question ID : 65497831746

Status : Answered

Chosen Option : 2

Q.19 उस विकल्प का चयन कीजिए जो निम्न मुहावरे का अर्थ व्यक्त करता है।

लँगोटी में फाग खेलना

- Ans
- 1. लड़ने को तैयार होना
 - 2. काम खराब कर देना
 - 3. दरिद्रता में आनंद लूटना
 - 4. दुःख सहते जाना

Question ID : 65497831750

Status : Answered

Chosen Option : 2

Q.20 रिक्त स्थान की पूर्ति के लिए सबसे उपयुक्त विकल्प का चयन करें।

पत्र का उत्तर शीघ्र देने की _____ करें।

- Ans
- 1. करुणा
 - 2. अनुकंपा
 - 3. कृपा
 - 4. दया

Question ID : 65497831756
Status : Answered
Chosen Option : 3

Comprehension:

संस्कृति की रचना और अभिव्यक्ति कला के माध्यम से होती है और भारतीय कला का यह (1) _____ है कि वह यूरोप की कलात्मक भंगिमाओं से (2) _____ नहीं बिठा सकती। बहुत प्राचीन काल में, यूनानी कला का सम्मिश्रण भारतीय (3) _____ से हुआ था। परिणामस्वरूप गांधार - कला का (4) _____ हुआ। किंतु वह भारत में टिक नहीं सकी, क्योंकि वह अभारतीय थी, क्योंकि भारत की (5) _____ अपने को इस मिश्रित कला के भीतर से व्यक्त नहीं कर सकती थी।

निम्न प्रश्नों के उत्तर उपरोक्त गद्यांश के आधार पर दीजिए।

SubQuestion No : 21

Q.21 गद्यांश के रिक्त स्थान (1) के लिए सर्वाधिक उपयुक्त शब्द होगा-

- Ans
- 1. स्वभाव
 - 2. विचार
 - 3. प्रभाव
 - 4. दोष

Question ID : 65497831763
Status : Answered
Chosen Option : 2

Comprehension:

संस्कृति की रचना और अभिव्यक्ति कला के माध्यम से होती है और भारतीय कला का यह (1) _____ है कि वह यूरोप की कलात्मक भंगिमाओं से (2) _____ नहीं बिठा सकती। बहुत प्राचीन काल में, यूनानी कला का सम्मिश्रण भारतीय (3) _____ से हुआ था। परिणामस्वरूप गांधार - कला का (4) _____ हुआ। किंतु वह भारत में टिक नहीं सकी, क्योंकि वह अभारतीय थी, क्योंकि भारत की (5) _____ अपने को इस मिश्रित कला के भीतर से व्यक्त नहीं कर सकती थी।

निम्न प्रश्नों के उत्तर उपरोक्त गद्यांश के आधार पर दीजिए।

SubQuestion No : 22

Q.22 गद्यांश के रिक्त स्थान (2) के लिए सर्वाधिक उपयुक्त शब्द होगा-

- Ans
- 1. मेलजोल
 - 2. गठबंधन
 - 3. सामंजस्य
 - 4. वैमनस्य

Question ID : 65497831764
Status : Answered
Chosen Option : 1

Comprehension:

संस्कृति की रचना और अभिव्यक्ति कला के माध्यम से होती है और भारतीय कला का यह (1)_____ है कि वह यूरोप की कलात्मक भंगिमाओं से (2)_____ नहीं बिठा सकती। बहुत प्राचीन काल में, यूनानी कला का सम्मिश्रण भारतीय (3)_____ से हुआ था। परिणामस्वरूप गांधार - कला का (4)_____ हुआ। किंतु वह भारत में टिक नहीं सकी, क्योंकि वह अभारतीय थी, क्योंकि भारत की (5)_____ अपने को इस मिश्रित कला के भीतर से व्यक्त नहीं कर सकती थी।

निम्न प्रश्नों के उत्तर उपरोक्त गद्यांश के आधार पर दीजिए।

SubQuestion No : 23

Q.23 गद्यांश के रिक्त स्थान (3) के लिए सर्वाधिक उपयुक्त शब्द होगा-

- Ans**
- 1. संगीत
 - 2. कविता
 - 3. नृत्य
 - 4. कला

Question ID : 65497831765
Status : Answered
Chosen Option : 4

Comprehension:

संस्कृति की रचना और अभिव्यक्ति कला के माध्यम से होती है और भारतीय कला का यह (1)_____ है कि वह यूरोप की कलात्मक भंगिमाओं से (2)_____ नहीं बिठा सकती। बहुत प्राचीन काल में, यूनानी कला का सम्मिश्रण भारतीय (3)_____ से हुआ था। परिणामस्वरूप गांधार - कला का (4)_____ हुआ। किंतु वह भारत में टिक नहीं सकी, क्योंकि वह अभारतीय थी, क्योंकि भारत की (5)_____ अपने को इस मिश्रित कला के भीतर से व्यक्त नहीं कर सकती थी।

निम्न प्रश्नों के उत्तर उपरोक्त गद्यांश के आधार पर दीजिए।

SubQuestion No : 24

Q.24 गद्यांश के रिक्त स्थान (4) के लिए सर्वाधिक उपयुक्त शब्द होगा-

- Ans**
- 1. जन्म
 - 2. खोज
 - 3. अनुसंधान
 - 4. आविष्कार

Question ID : 65497831766
Status : Answered
Chosen Option : 1

Comprehension:

संस्कृति की रचना और अभिव्यक्ति कला के माध्यम से होती है और भारतीय कला का यह (1)_____ है कि वह यूरोप की कलात्मक भंगिमाओं से (2)_____ नहीं बिठा सकती। बहुत प्राचीन काल में, यूनानी कला का सम्मिश्रण भारतीय (3)_____ से हुआ था। परिणामस्वरूप गांधार - कला का (4)_____ हुआ। किंतु वह भारत में टिक नहीं सकी, क्योंकि वह अभारतीय थी, क्योंकि भारत की (5)_____ अपने को इस मिश्रित कला के भीतर से व्यक्त नहीं कर सकती थी।

निम्न प्रश्नों के उत्तर उपरोक्त गद्यांश के आधार पर दीजिए।

SubQuestion No : 25

Q.25 गद्यांश के रिक्त स्थान (5) के लिए सर्वाधिक उपयुक्त शब्द होगा-

- Ans**
- 1. चिंता
 - 2. आत्मा
 - 3. परमात्मा
 - 4. इच्छा

Question ID : 65497831767
Status : Answered
Chosen Option : 4