

## Constable GD in CAPFs NIA SSF and Rifleman GD in Assam Rifles Examination 2021

Roll Number	<a href="http://www.GovtJobsAlert.In">www.GovtJobsAlert.In</a>
Candidate Name	<a href="http://www.GovtJobsAlert.In">www.GovtJobsAlert.In</a>
Venue Name	Aurobindo International School Jaipur
Exam Date	18/11/2021
Exam Time :	12:30 PM - 2:00 PM
Subject	Constable GD 2021

### Section : Part A General Intelligence and Reasoning

Q.1 उस विकल्प का चयन करें जो तीसरी संख्या से उसी प्रकार संबंधित है, जिस प्रकार दूसरी संख्या पहली संख्या से संबंधित है।

70 : 8 :: 87 : ?

Ans  1. 9

2. 6

3. 7

4. 8

Question ID : 65497830638

Status : Answered

Chosen Option : 1

Q.2 अक्षरों के उस संयोजन का चयन कीजिए जिसे नीचे दी गई श्रृंखला के रिक्त स्थानों पर क्रमिक रूप से रखने पर श्रृंखला पूर्ण हो जाएगी।

Z \_ K F \_ O K G Z \_ K \_ Z O \_ I

Ans  1. O Z O H Z

2. O Z K H K

3. K Z O H K

4. O Z O H K

Question ID : 65497830626

Status : Answered

Chosen Option : 4

Q.3 किसी निश्चित कूट भाषा में, 'CHAINED' को 'EJYGPCF' के रूप में लिखा जाता है। उसी कूट भाषा में 'MEADOW' को किस रूप में लिखा जाएगा?

Ans  1. OCYFNY

2. PCYFMY

3. OCYFMY

4. PCYFQY

Question ID : 65497830630

Status : Answered

Chosen Option : 3

Q.4 यदि 'A' का अर्थ 'योग', 'B' का अर्थ 'घटाना', 'C' का अर्थ 'गुणा' और 'D' का अर्थ 'भाग' है, तो निम्नलिखित व्यंजक का मान कितना होगा?

6 C (57 B 8) D 7 B 32 A 9

Ans  1. 19

2. 27

3. 18

4. 15

Question ID : 65497830639

Status : Answered

Chosen Option : 1

Q.5 P, Q, R, S, T और U एक बेंच पर बैठे हुए हैं। Q दाएं किनारे पर है। R, S के दाईं ओर बगल में बैठा है। U, T के बाईं ओर बगल में बैठा है और T, Q के बाईं ओर बगल में बैठा है। P, S के बाईं ओर बगल में बैठा है। बाएं किनारे पर कौन बैठा है?

Ans  1. T

2. R

3. U

4. P

Question ID : 65497830646

Status : Answered

Chosen Option : 4

Q.6 उस विकल्प का चयन कीजिए, जिसमें निम्नलिखित शब्दों का वह क्रम दिया गया है जिस क्रम में वे अंग्रेजी शब्दकोश में आते हैं।

1. Hostile
2. Hostel
3. Hospital
4. House
5. Hopeless

Ans  1. 4, 3, 2, 1, 5

2. 5, 3, 1, 2, 4

3. 3, 5, 2, 1, 4

4. 5, 3, 2, 1, 4

Question ID : 65497830625

Status : Answered

Chosen Option : 4

Q.7 दिए गए विकल्पों में से वह संख्या चुनें जो निम्नलिखित श्रेणी में प्रश्नवाचक चिह्न (?) के स्थान पर आ सकती है।

17, 18, 26, 53, 117, ?

Ans  1. 242

2. 232

3. 336

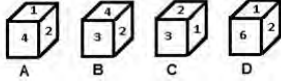
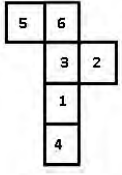
4. 302

Question ID : 65497830627

Status : Answered

Chosen Option : 1

Q.8 उस पासे का चयन करें, जिसे निम्नांकित पत्रक (शीट) को रेखाओं पर मोड़ने पर प्राप्त किया जा सकता है।



- Ans
- 1. केवल C
  - 2. A और C
  - 3. D और B
  - 4. केवल A

Question ID : 65497830640  
Status : Answered  
Chosen Option : 2

Q.9 एक विशिष्ट कोड भाषा में, 'GREW' का कोड '209224' है। इसी कोड भाषा में 'TYPE' का कोड क्या होगा?

- Ans
- 1. 721162
  - 2. 721122
  - 3. 202511
  - 4. 511237

Question ID : 65497830645  
Status : Answered  
Chosen Option : 2

Q.10 उस विकल्प का चयन कीजिए, जो तीसरे पद से उसी प्रकार संबंधित है, जिस प्रकार दूसरा पद पहले पद से संबंधित है।

CREAM : FPJYZ :: CHECK : ?

- Ans
- 1. FPJZV
  - 2. FFJAV
  - 3. FFJFV
  - 4. FZJFV

Question ID : 65497830629  
Status : Answered  
Chosen Option : 2

Q.11 अजय और चारुल भाई और बहन हैं। मनोज और दर्शन, कृपाल और सोना के पुत्र हैं। सोना चारुल की मां स्वप्निल की सास हैं। नेहा, नीती और नकुल, मनोज की पुत्रियां हैं और केवल अजय की चचेरी बहनें हैं। दर्शन की संतानों की संख्या बताइए?

- Ans
- 1. 2
  - 2. 1
  - 3. 4
  - 4. 3

Question ID : 65497830631  
Status : Answered  
Chosen Option : 1

Q.12 जिस प्रकार 'शब्दकोश', 'अर्थ' से संबंधित है, उसी प्रकार 'विश्वकोश', '\_\_\_\_\_ ' से संबंधित है।

- Ans
- 1. समाचार
  - 2. ज्ञान
  - 3. मुहावरा
  - 4. समानार्थक शब्द

Question ID : 65497830644  
Status : Answered  
Chosen Option : 2

Q.13 वह संख्या ज्ञात कीजिए, जिसमें उसके चार गुने को जोड़ने पर उसकी पूर्ववर्ती संख्या का 10 गुना प्राप्त होता है।

- Ans
- 1. 2
  - 2. 8
  - 3. 5
  - 4. 10

Question ID : 65497830635  
Status : Answered  
Chosen Option : 1

Q.14 निम्नलिखित चार अक्षर-समूहों में से तीन किसी न किसी प्रकार एक समान हैं और एक भिन्न है। उस अक्षर-समूह का चयन करें, जो भिन्न है।

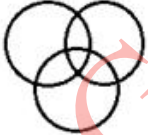
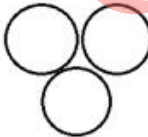
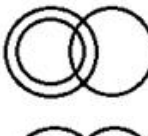
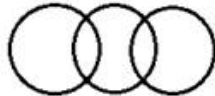
- Ans
- 1. DOU
  - 2. AHI
  - 3. GNU
  - 4. ODS

Question ID : 65497830643  
Status : Answered  
Chosen Option : 4

Q.15 उस वेन आरेख का चयन करें, जो निम्नलिखित वर्गों के बीच के संबंध को सबसे अच्छे तरीके से दर्शाता है।

यात्री, जहाज, ट्रेन

Ans

- 1. 
- 2. 
- 3. 
- 4. 

Question ID : 65497830649  
Status : Answered  
Chosen Option : 4

Q.16 दिए गए विकल्पों में से उस अक्षर-समूह का चयन करें, जो निम्नलिखित श्रृंखला में प्रश्नवाचक चिह्न (?) के स्थान पर आ सकता है।

FPW, EQV, DRU, ?

Ans  1. CST

2. COS

3. TWX

4. CSG

Question ID : 65497830642

Status : Answered

Chosen Option : 1

Q.17 दिए गए विकल्पों में से उस संख्या का चयन करें, जो निम्नलिखित श्रृंखला में प्रश्नवाचक चिह्न (?) के स्थान पर आ सकती है।

123, 98, 82, 73, 69, ?

Ans  1. 52

2. 49

3. 57

4. 68

Question ID : 65497830647

Status : Answered

Chosen Option : 4

Q.18 दिए गए पैटर्न का ध्यानपूर्वक अध्ययन कीजिए और उस संख्या का चयन कीजिए जो इसमें प्रश्नवाचक चिह्न (?) के स्थान पर आ सकती है।

9 18 ?

18 32 79

27 58 46

Ans  1. 21

2. 25

3. 26

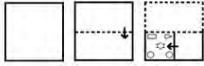
4. 22

Question ID : 65497830634

Status : Not Answered

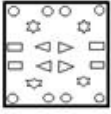
Chosen Option : --

**Q.19** निम्नांकित आकृतियों में एक कागज के टुकड़े को मोड़ने का क्रम और मुड़े हुए कागज को काटने की विधि दर्शाई गई है। यह कागज खोलने पर कैसा दिखेगा?

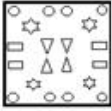


**Ans**

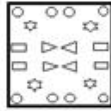
1.



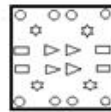
2.



3.



4.




Question ID : 65497830636

Status : Answered


Chosen Option : 3

**Q.20** दिए गए विकल्पों में से उस आकृति का चयन कीजिए जो दी गई श्रृंखला में प्रश्न चिह्न (?) के स्थान पर आ सकती है।



**Ans**

1.




2.



3.



4.



Question ID : 65497830628

Status : Answered

Chosen Option : 3

Q.21 आठ मित्र A, B, C, D, E, F, G और H आपस में समान दूरी पर, एक गोल मेज पर केंद्र की ओर मुंह करके बैठे हुए हैं। D, F और H के बीच में बैठा है। A, B और G के बीच में नहीं बैठा है। C, A के दाएं तीसरे स्थान पर बैठा है। E, D के बाएं दूसरे स्थान पर बैठा है। A के सामने कौन बैठा है?

- Ans
- 1. H
  - 2. D
  - 3. E
  - 4. F

Question ID : 65497830637  
Status : Answered  
Chosen Option : 3

Q.22 दिए गए कथनों और निष्कर्षों को ध्यानपूर्वक पढ़ें। यह मानते हुए कि कथनों में दी गई जानकारी सही है, भले ही वह सामान्य रूप से ज्ञात तथ्यों से भिन्न प्रतीत होती हो, बताइए कि दिए गए निष्कर्षों में से कौन से निष्कर्ष कथनों का तार्किक रूप से अनुसरण करते हैं।

कथन :  
सभी लड़कियां, एक्टर हैं।  
सभी एक्टर, सिंगर हैं।

निष्कर्ष :  
1. कुछ लड़कियां, सिंगर नहीं हैं।  
2. कोई भी एक्टर, लड़की नहीं है।  
3. सभी लड़कियां, सिंगर हैं।

- Ans
- 1. केवल निष्कर्ष 2 अनुसरण करता है।
  - 2. केवल निष्कर्ष 1 अनुसरण करता है।
  - 3. केवल निष्कर्ष 3 अनुसरण करता है।
  - 4. निष्कर्ष 1 और 3 दोनों अनुसरण करते हैं।

Question ID : 65497830633  
Status : Answered  
Chosen Option : 3

Q.23 दिए गए संयोजन के सही दर्पण प्रतिबिंब का चयन करें जब दर्पण को निम्नांकित चित्रानुसार PQ पर रखा गया है।

QZ9JFN

- Ans
- 1. MF1EZO
  - 2. NF1EZO
  - 3. MF1EZO
  - 4. MF1EZO

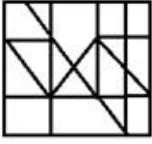
Question ID : 65497830648  
Status : Answered  
Chosen Option : 3

Q.24 उस विकल्प का चयन करें जिसमें दी गई आकृति अंतर्निहित है (घुमाने की अनुमति नहीं है)।

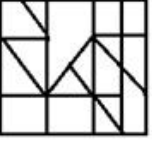


Ans

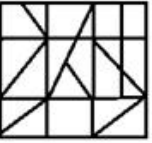
✓ 1.



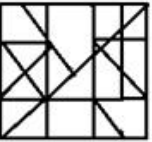
✗ 2.



✗ 3.



✗ 4.



Question ID : 65497830641

Status : Answered

Chosen Option : 1

Q.25 एक निश्चित कूट भाषा में, 'Where are you' को 'me ki na' लिखा जाता है, 'When you come' को 'bel na se' लिखा जाता है और 'Come back home' को 'se ne jo' लिखा जाता है। उसी कूट भाषा में 'When' को क्या लिखा जाएगा?

Ans ✗ 1. me

✓ 2. bel

✗ 3. se

✗ 4. ki

Question ID : 65497830632

Status : Answered

Chosen Option : 2

Section : Part B General Knowledge and General Awareness

Q.1 निम्नलिखित में से कौन सा ऊर्जा का एक पारंपरिक स्रोत है?

Ans ✗ 1. पवन ऊर्जा

✗ 2. सौर ऊर्जा

✓ 3. लकड़ी

✗ 4. बायोगैस

Question ID : 65497830667

Status : Answered

Chosen Option : 2



Q.2 फीफा (FIFA) विनियमों के अनुसार, एक फुटबॉल (सॉकर) मैच में 45 मिनट की अवधि के दो भाग होते हैं, जिनके बीच \_\_\_\_\_ की आराम की अवधि होती है।

- Ans
- 1. 30 मिनट
  - 2. 10 मिनट
  - 3. 20 मिनट
  - 4. 15 मिनट

Question ID : 65497830674  
Status : Answered  
Chosen Option : 4

Q.3 किसी भी एशियाई खेल में स्वर्ण पदक जीतने वाली पहली भारतीय महिला एथलीट कौन थीं?

- Ans
- 1. आरती साहा
  - 2. कर्णम मल्लेश्वरी
  - 3. कमलजीत संधू
  - 4. दुर्बा बनर्जी

Question ID : 65497830650  
Status : Answered  
Chosen Option : 2

Q.4 अक्टूबर 2020 में प्रकाशित पुस्तक 'वॉयसेज ऑफ डिसेंट (Voices of Dissent)' के लेखक का नाम क्या है?

- Ans
- 1. अरुंधती रॉय
  - 2. रोमिला थापर
  - 3. सर्बप्रीत सिंह
  - 4. अर्जुन आनंद

Question ID : 65497830665  
Status : Not Answered  
Chosen Option : --

Q.5 निम्न में से क्या मिट्टी को उपजाऊ बनाता है?

- Ans
- 1. मिट्टी में लवण का उच्च स्तर
  - 2. खनिजों और कार्बनिक पदार्थों का सही मिश्रण
  - 3. खनिजों और अकार्बनिक पदार्थ का सही मिश्रण
  - 4. मिट्टी में अम्लीय पदार्थों की अधिकता

Question ID : 65497830673  
Status : Answered  
Chosen Option : 2

Q.6 निम्नलिखित में से किस खेल हस्ती ने राजीव गांधी खेल रत्न पुरस्कार 2020 प्राप्त किया?

- Ans
- 1. मरियप्पन थंगावेलु
  - 2. विशेष भृगुवंशी
  - 3. विजय भालचंद्र मुनीश्वर
  - 4. धर्मेन्द्र तिवारी

Question ID : 65497830670  
Status : Answered  
Chosen Option : 1

Q.7 निम्नलिखित में से कौन सा एक सांख्यिकीय उपकरण है जो स्वास्थ्य, शिक्षा और आय के संबंध में किसी देश की समग्र उपलब्धि को मापता है?

- Ans
- 1. जीवन प्रत्याशा
  - 2. मानव विकास सूचकांक
  - 3. राजनीतिक स्थिरता
  - 4. प्रति व्यक्ति आय

Question ID : 65497830659  
Status : Answered  
Chosen Option : 2

Q.8 भारत में साइमन कमीशन के आगमन से पूर्व निम्नलिखित में से कौन सी घटना घटी?

- Ans
- 1. काकोरी षडयंत्र
  - 2. गांधी-इरविन समझौता
  - 3. प्रथम गोल मेज़ सम्मेलन
  - 4. भारत छोड़ो आंदोलन

Question ID : 65497830661  
Status : Answered  
Chosen Option : 1

Q.9 निम्नलिखित में से किसने 'इंडिया विन्स फ्रीडम' नामक पुस्तक लिखी है, जो भारत के स्वतंत्रता संग्राम के संबंध में उनकी आपबीती है?

- Ans
- 1. डॉ. बी.आर आंबेडकर
  - 2. सरदार वल्लभभाई पटेल
  - 3. मौलाना अबुल कलाम आज़ाद
  - 4. जवाहरलाल नेहरू

Question ID : 65497830654  
Status : Answered  
Chosen Option : 3

Q.10 निम्न में से किस वैज्ञानिक ने कोशिका में पाए जाने वाले द्रव पदार्थ के लिए 'प्रोटोप्लाज़्म (protoplasm)' शब्द का उपयोग किया?

- Ans
- 1. श्वान (Schwann)
  - 2. फिर्खो (Virchow)
  - 3. ल्यूवेनहॉक (Leeuwenhoek)
  - 4. पुर्किन्जे (Purkinje)

Question ID : 65497830664  
Status : Answered  
Chosen Option : 4

Q.11 2019 में, भारत के संविधान में क्रमशः कितने अनुच्छेद और अनुसूचियां थीं?

- Ans
- 1. 392 और 7
  - 2. 396 और 8
  - 3. 398 और 6
  - 4. 395 और 8

Question ID : 65497830669  
Status : Answered  
Chosen Option : 4

Q.12 निम्नलिखित में से किसने 'हड़प नीति' लागू की थी?

- Ans
- 1. लॉर्ड रिपन
  - 2. वारेन हेस्टिंग्स
  - 3. लॉर्ड कैनिंग
  - 4. लॉर्ड डलहौज़ी

Question ID : 65497830655  
Status : Answered  
Chosen Option : 2

Q.13 2020 तक प्राप्त जानकारी के अनुसार, एक्सिस बैंक का मुख्यालय निम्नलिखित में से किस शहर में स्थित है?

- Ans
- 1. बंगलुरु
  - 2. चेन्नई
  - 3. मुंबई
  - 4. अहमदाबाद

Question ID : 65497830660  
Status : Answered  
Chosen Option : 3

Q.14 अपनी डाक्यूमेंट्री 'ची लूपो' के लिए निम्नलिखित में से किसने 2020 में दादा साहेब फाल्के पुरस्कार जीता?

- Ans
- 1. अक्किनेनी नागेश्वर राव
  - 2. केजंग डी. थोंगडोक
  - 3. बी. नागी रेड्डी
  - 4. कासिनाथुनी विश्वनाथ

Question ID : 65497830668  
Status : Not Answered  
Chosen Option : --

Q.15 किसी कठोर वस्तु से टकराने पर घंटी जैसी ध्वनि उत्पन्न करने के धातुओं के गुण को \_\_\_\_\_ के नाम से जाना जाता है।

- Ans
- 1. तन्यता
  - 2. आघातवर्धनीयता
  - 3. ध्वन्यात्मकता
  - 4. अपारदर्शिता

Question ID : 65497830663  
Status : Answered  
Chosen Option : 3

Q.16 \_\_\_\_\_ का उद्देश्य देश में पंचायती राज संस्थाओं को बढ़ावा देना है।

- Ans
- 1. संविधान (तिहत्तरवाँ (73) संशोधन) अधिनियम, 1992
  - 2. संविधान (साठवाँ (60) संशोधन) अधिनियम, 1988
  - 3. संविधान (तिरालिसवाँ (43) संशोधन) अधिनियम, 1977
  - 4. संविधान (सैंतिसवाँ (37) संशोधन) अधिनियम, 1975

Question ID : 65497830656  
Status : Answered  
Chosen Option : 1

Q.17 देवप्रयाग में भागीरथी \_\_\_\_\_ से मिलती है।

- Ans  1. अलकनंदा  
 2. घाघरा  
 3. मेघना  
 4. गंडक

Question ID : 65497830658  
Status : Answered  
Chosen Option : 1

Q.18 कंधार के द्विभाषी शैल शिलालेख किन दो भाषाओं में लिखे गए हैं?

- Ans  1. फारसी और आर्मेइक  
 2. ग्रीक और आर्मेइक  
 3. अरबी और ग्रीक  
 4. ग्रीक और प्राकृत

Question ID : 65497830666  
Status : Not Answered  
Chosen Option : --

Q.19 निम्नलिखित में से किस भारतीय ने मलेशिया में रिकॉर्ड समय में आयरनमैन मलेशिया ट्रायथलॉन को पूरा करने वाले सबसे तेज भारतीय होने का गौरव प्राप्त किया है?

- Ans  1. अरुणाभ शाह  
 2. हिरेन पटेल  
 3. अक्षय सामल  
 4. स्वरूप सिंह कुंतल

Question ID : 65497830671  
Status : Not Answered  
Chosen Option : --

Q.20 भारत के निर्वाचन आयोग द्वारा 2020 में बिहार विधानसभा का आम चुनाव कितने चरणों में कराया गया था?

- Ans  1. दो  
 2. पाँच  
 3. चार  
 4. तीन

Question ID : 65497830657  
Status : Answered  
Chosen Option : 3

Q.21 \_\_\_\_\_ वह परिसंपत्ति है जो ऋण चुकाए जाने तक, ऋणदाता की प्रतिभूति के रूप में उधारकर्ता अपने अधिकार में रखता है और उसका उपयोग भी करता है।

- Ans  1. संपार्श्विक  
 2. जमानत  
 3. अनुषंगी  
 4. सहायक

Question ID : 65497830672  
Status : Answered  
Chosen Option : 2

Q.22 दिल्ली में जमात खाना मस्जिद का निर्माण निम्नलिखित में से किसने करवाया था?

- Ans
- 1. जलालुद्दीन फ़िरोज़ खिलजी
  - 2. अलाउद्दीन खिलजी
  - 3. खिज़्र खां
  - 4. कुतब अल-दीन मुबारक शाह

Question ID : 65497830662  
Status : Not Answered  
Chosen Option : --

Q.23 एककोशिकीय मीठे पानी के जीवों और अधिकांश पौधों की कोशिकाओं द्वारा जल ग्रहण करने के लिए निम्न में से किस प्रक्रिया का उपयोग किया जाता है?

- Ans
- 1. अनुवर्तन (Tropism)
  - 2. संकरण (Hybridisation)
  - 3. परासरण (Osmosis)
  - 4. संरचना विकास (Morphogenesis)

Question ID : 65497830651  
Status : Not Answered  
Chosen Option : --

Q.24 निम्नलिखित में से कौन 2020 में आईसीसी (ICC) एलीट पैनल में प्रवेश करने वाले सबसे युवा अंपायर थे?

- Ans
- 1. नितिन मेनन
  - 2. अलीम डार
  - 3. नाइजेल एल लॉन्ग
  - 4. सुंदरम रवि

Question ID : 65497830653  
Status : Not Answered  
Chosen Option : --

Q.25 निम्नलिखित में से कौन चंद्रगुप्त प्रथम का उत्तराधिकारी था?

- Ans
- 1. समुद्रगुप्त
  - 2. विक्रमादित्य
  - 3. चंद्रगुप्त द्वितीय
  - 4. घटोत्कच

Question ID : 65497830652  
Status : Answered  
Chosen Option : 1

Section : Part C Elementary Mathematics

Q.1 एक इलेक्ट्रिक हीटर को 12% के लाभ पर बेचा गया। यदि इसे 5% कम मूल्य पर, ₹180 में बेचा जाता, तो 10% का लाभ प्राप्त होता। इलेक्ट्रिक हीटर का क्रय मूल्य कितना है?

- Ans
- 1. ₹2,380
  - 2. ₹2,400
  - 3. ₹2,000
  - 4. ₹2,250

Question ID : 65497830675  
Status : Not Answered  
Chosen Option : --

Q.2 15 मापों के माध्य की गणना करने पर 50 cm मान प्राप्त हुआ। लेकिन, यह पाया गया कि एक माप को 61 cm के बजाय 46 cm दर्ज किया गया था। सही माध्य (cm में) कितना होगा?

- Ans
- 1. 51
  - 2. 52
  - 3. 53
  - 4. 55

Question ID : 65497830690  
Status : Answered  
Chosen Option : 1

Q.3 निम्नलिखित व्यंजक का मान ज्ञात करें।

$$\frac{\frac{3}{4} \text{ of } 1\frac{3}{5} - 1 \times 5 + 2}{24 - 6 \times 2} \div 4$$

- Ans
- 1.  $-\frac{29}{720}$
  - 2.  $-\frac{1}{192}$
  - 3.  $-\frac{3}{80}$
  - 4.  $-\frac{29}{240}$

Question ID : 65497830677  
Status : Answered  
Chosen Option : 3

Q.4 यदि संख्याओं 5, 7, 9, 12, 13, t, 20 का औसत t है, तो t का मान कितना होगा?

- Ans
- 1. 11
  - 2. 10
  - 3. 15
  - 4. 18

Question ID : 65497830687  
Status : Answered  
Chosen Option : 1

Q.5  $\frac{3}{4} \div \frac{3}{4}$  of  $\frac{3}{4} \times \frac{4}{3} + \frac{5}{2} \div \frac{2}{5}$  of  $\frac{5}{4} - \left(\frac{2}{3} - \frac{2}{3}\right)$  of  $\frac{5}{6}$  का मान कितना है?

- Ans
- 1.  $\frac{22}{3}$
  - 2.  $\frac{20}{3}$
  - 3.  $\frac{11}{3}$
  - 4.  $\frac{10}{3}$

Question ID : 65497830681  
Status : Answered  
Chosen Option : 1

Q.6 एक वस्तु ₹8800 में बेची गई जो उसके क्रय मूल्य का  $\frac{5}{7}$  है। हानि प्रतिशत कितना है?

- Ans
- 1.  $22\frac{5}{7}\%$
  - 2.  $12\frac{3}{7}\%$
  - 3.  $28\frac{4}{7}\%$
  - 4.  $31\frac{6}{7}\%$

Question ID : 65497830682  
Status : Answered  
Chosen Option : 3

Q.7 यदि दो संख्याओं के बीच का अंतर 42 है और उनके लघुत्तम समापवर्त्य (LCM) और महत्तम समापवर्तक (HCF) क्रमशः 1729 और 7 हैं, तो उन दोनों संख्याओं का योग कितना होगा?

- Ans
- 1. 224
  - 2. 420
  - 3. 244
  - 4. 390

Question ID : 65497830686  
Status : Answered  
Chosen Option : 1

**Q.8** किसी टंकी में एक रिसाव है जिससे यह 6 घंटे में खाली हो जाती है। एक नल को चालू किया जाता है जो टंकी में प्रति मिनट 10 लीटर पानी भरता है। जब यह पूरी भर जाती है, तो अब इसे खाली होने में 10 घंटे लगते हैं। टंकी की धारिता (लीटर में) कितनी है?

- Ans**
- 1. 8000
  - 2. 8500
  - 3. 9000
  - 4. 10000

Question ID : 65497830694  
Status : Answered  
Chosen Option : 3

**Q.9** 8 m और 14 m लंबी दो रस्सियां समान लंबाई के टुकड़ों में काटी जानी हैं। प्रत्येक टुकड़े की अधिकतम संभव लंबाई कितनी होगी?

- Ans**
- 1. 4 m
  - 2. 2 m
  - 3. 1 m
  - 4. 6 m

Question ID : 65497830684  
Status : Answered  
Chosen Option : 2

**Q.10** एक व्यक्ति एक निश्चित दूरी को 60 km/h की चाल से तय करता है, और वापसी में उसकी चाल 40 km/h होती है। पूरी यात्रा के लिए उसकी औसत चाल (km/h में) कितनी है?

- Ans**
- 1. 48
  - 2. 50
  - 3. 40
  - 4. 12

Question ID : 65497830678  
Status : Answered  
Chosen Option : 1

**Q.11** यदि 15% वार्षिक ब्याज दर पर 2 वर्षों के लिए निवेश की गई धनराशि के साधारण ब्याज और चक्रवृद्धि ब्याज (ब्याज को वार्षिक रूप से चक्रवृद्धि किया जाता है) के बीच का अंतर ₹225 है, तो वह धनराशि कितनी है?

- Ans**
- 1. ₹10,000
  - 2. ₹8,000
  - 3. ₹9,000
  - 4. ₹9,500

Question ID : 65497830689  
Status : Answered  
Chosen Option : 1



**Q.12** किसी निश्चित जमा राशि पर 3.5% वार्षिक ब्याज दर से एक वर्ष में ब्याज ₹210 प्राप्त होगा। उसी जमा राशि पर 4% वार्षिक ब्याज दर से एक वर्ष में कितना अतिरिक्त ब्याज प्राप्त होगा?

- Ans**
- 1. ₹30
  - 2. ₹45
  - 3. ₹49
  - 4. ₹36

Question ID : 65497830698  
Status : Answered  
Chosen Option : 1

**Q.13** मुकुल ने ₹9,300 की धनराशि दो भागों में साधारण ब्याज पर उधार दी। उसने पहले भाग पर 5% वार्षिक और दूसरे भाग पर 8% वार्षिक ब्याज दर से ब्याज अर्जित किया। उसने 4 साल बाद ब्याज के रूप में कुल ₹2,400 अर्जित किए। 5% की ब्याज दर से उधार दी गई धनराशि का, 8% की ब्याज दर पर उधार दी गई धनराशि से अनुपात कितना है?

- Ans**
- 1. 8 : 5
  - 2. 16 : 15
  - 3. 15 : 16
  - 4. 5 : 8

Question ID : 65497830676  
Status : Answered  
Chosen Option : 2

**Q.14** किसी वस्तु का सूची मूल्य ₹15,000 है। एक व्यापारी इसे खरीदना चाहता है। उसको सूची मूल्य पर दो छूट श्रृंखलाओं – एक श्रृंखला 45%, 3%, और 2% है और दूसरी श्रृंखला 25%, 12% और 13% है – में से एक श्रृंखला का चयन करना है। वह सही श्रृंखला चुनकर कितने रुपये बचा सकता है?

- Ans**
- 1. ₹770.55
  - 2. ₹771.55
  - 3. ₹773.55
  - 4. ₹772.55

Question ID : 65497830692  
Status : Not Answered  
Chosen Option : --

**Q.15** यदि एक वृत्तीय बेलन की त्रिज्या और ऊंचाई क्रमशः 10 cm और 15 cm है, और एक गोले की त्रिज्या 5 cm है, तो बेलन के वक्र पृष्ठीय क्षेत्रफल का गोले के वक्र पृष्ठीय क्षेत्रफल से अनुपात क्या होगा?

- Ans**
- 1. 3 : 2
  - 2. 3 : 1
  - 3. 5 : 1
  - 4. 1 : 3

Question ID : 65497830680  
Status : Answered  
Chosen Option : 1

**Q.16** चीनी की कीमत 33% बढ़ जाती है। एक परिवार को चीनी के उपयोग में कितने प्रतिशत कमी करनी चाहिए, ताकि व्यय में वृद्धि न हो?

- Ans**
- 1. 29.8
  - 2. 33
  - 3. 30
  - 4. 24.8

Question ID : 65497830693  
Status : Answered  
Chosen Option : 4

**Q.17** एक दुकानदार ने 60 kg चावल ₹42 प्रति kg की दर से खरीदे और उसमें ₹52 प्रति kg की दर वाला 120 kg चावल मिला दिया। 20% का लाभ अर्जित करने के लिए उसे मिश्रण को किस दर (₹ प्रति kg) पर बेचना चाहिए?

- Ans**
- 1. ₹54.82
  - 2. ₹58.40
  - 3. ₹53.25
  - 4. ₹55.50

Question ID : 65497830696  
Status : Not Answered  
Chosen Option : --

**Q.18** A एक काम का  $\frac{2}{3}$  हिस्सा 10 दिन में पूरा करता है और B उसी काम का  $\frac{4}{5}$  हिस्सा 8 दिन में पूरा करता है। वे एक साथ मिलकर 5 दिन तक काम करते हैं। शेष काम को C अकेला 6 दिन में पूरा करता है। C अकेले उसी काम का 75% हिस्सा कितने दिन में पूरा कर सकता है?

- Ans**
- 1. 27
  - 2. 36
  - 3. 30
  - 4. 18

Question ID : 65497830683  
Status : Answered  
Chosen Option : 1

**Q.19** रामू और सोमू की मासिक आय का अनुपात 6 : 5 है और उनके व्यय का अनुपात 7 : 6 है। महीने के अंत में, रामू और सोमू क्रमशः ₹1,500 और ₹1,000 बचाते हैं। रामू की मासिक आय कितनी है?

- Ans**
- 1. ₹12,000
  - 2. ₹18,000
  - 3. ₹24,000
  - 4. ₹14,000

Question ID : 65497830688  
Status : Answered  
Chosen Option : 3

Q.20 यदि  $x : y = 5 : 2$  है, तो  $(8x - 9y) : (14x - 13y)$  का मान क्या होगा?

- Ans
- 1. 37 : 29
  - 2. 2 : 1
  - 3. 1 : 2
  - 4. 29 : 37

Question ID : 65497830679  
Status : Answered  
Chosen Option : 3

Q.21 कोई कार 80 km/h की चाल से चलना आरंभ करती है और प्रत्येक दो घंटे पर इसकी चाल 8 km/h बढ़ जाती है। यह 432 km दूरी कितने समय में तय करेगी?

- Ans
- 1. 6 घंटे 30 मिनट
  - 2. 5 घंटे 30 मिनट
  - 3. 5 घंटे
  - 4. 6 घंटे

Question ID : 65497830695  
Status : Answered  
Chosen Option : 3

Q.22 दो गोलाई पात्रों की धारिता 2.7 L और 12.5 L है। दोनों पात्रों के आंतरिक वक्र-पृष्ठ के क्षेत्रफलों का अनुपात ज्ञात कीजिए।

- Ans
- 1. 1 : 2
  - 2. 5 : 3
  - 3. 3 : 5
  - 4. 2 : 1

Question ID : 65497830699  
Status : Answered  
Chosen Option : 3

Q.23 किसी स्कूल में लड़कियों और लड़कों की संख्या का अनुपात 8 : 7 है। यदि लड़कियों और लड़कों की संख्या में प्रतिशत वृद्धि क्रमशः 10% और 20% हो जाए, तो नया अनुपात कितना होगा?

- Ans
- 1. 14 : 19
  - 2. 13 : 11
  - 3. 20 : 23
  - 4. 22 : 21

Question ID : 65497830697  
Status : Answered  
Chosen Option : 4

Q.24 किसी संख्या से 55 घटाने पर यह स्वयं की 80% रह जाती है। मूल संख्या का  $\frac{4}{5}$  जात कीजिए।

- Ans
- 1. 220
  - 2. 240
  - 3. 180
  - 4. 210

Question ID : 65497830685  
Status : Answered  
Chosen Option : 1

Q.25 50%, 30%, और 20% की तीन क्रमिक छूटों के समतुल्य एकल छूट कितनी होगी?

- Ans
- 1. 72%
  - 2. 68%
  - 3. 75%
  - 4. 70%

Question ID : 65497830691  
Status : Answered  
Chosen Option : 1

Section : Part D English

Q.1 Select the INCORRECTLY spelt word.

- Ans
- 1. Dictate
  - 2. Decision
  - 3. Difference
  - 4. Dictionery

Question ID : 65497830714  
Status : Not Answered  
Chosen Option : --

Q.2 Select the most appropriate ANTONYM of the given word.

Loathe

- Ans
- 1. Detest
  - 2. Admire
  - 3. Despise
  - 4. Abhor

Question ID : 65497830716  
Status : Not Answered  
Chosen Option : --

**Q.3** The following sentence has been split into four segments. Identify the segment that contains a grammatical error.

Eighty rupees are / too much for / this leather bag, / which is looking so old.

- Ans**
- 1. too much for
  - 2. Eighty rupees are
  - 3. which is looking so old
  - 4. this leather bag

Question ID : 65497830705  
Status : Not Answered  
Chosen Option : --

**Q.4** Select the most appropriate ANTONYM of the given word.

**Beneath**

- Ans**
- 1. Above
  - 2. Beyond
  - 3. Under
  - 4. Below

Question ID : 65497830701  
Status : Not Answered  
Chosen Option : --

**Q.5** Select the most appropriate option to fill in the blank.

The new employee said that he was \_\_\_\_\_ of doing the job well.

- Ans**
- 1. confident
  - 2. efficient
  - 3. diffident
  - 4. sufficient

Question ID : 65497830718  
Status : Not Answered  
Chosen Option : --

**Q.6** Select the most appropriate synonym of the given word.

**Competent**

- Ans**
- 1. Comparable
  - 2. Comfortable
  - 3. Compatible
  - 4. Capable

Question ID : 65497830706  
Status : Not Answered  
Chosen Option : --

Q.7 Select the most appropriate meaning of the given idiom.

Blow a fuse

- Ans  1. To feel sick  
 2. To react very angrily  
 3. To feel tired  
 4. To work hard aimlessly

Question ID : 65497830717  
Status : Not Answered  
Chosen Option : --

Q.8 The following sentence has been divided into parts. One of them may contain an error. Select the part that contains the error from the given options. If you don't find any error, mark 'No error' as your answer.

Unless you don't / work hard, / you will fail.

- Ans  1. you will fail  
 2. Unless you don't  
 3. work hard  
 4. No error

Question ID : 65497830700  
Status : Not Answered  
Chosen Option : --

Q.9 Select the INCORRECTLY spelt word.

- Ans  1. Future  
 2. Flavure  
 3. Leisure  
 4. Figure

Question ID : 65497830703  
Status : Not Answered  
Chosen Option : --

Q.10 Select the most appropriate option that can substitute the underlined word in the given sentence.

When you give away a secret or an advantage, you reveal a secret or suspension that you should have kept to yourself.

- Ans  1. dereliction  
 2. revolution  
 3. benediction  
 4. information

Question ID : 65497830704  
Status : Not Answered  
Chosen Option : --

**Q.11** Select the option that can be used as a one-word substitute for the given group of words.

**A person who is excessively conceited and self-absorbed**

- Ans**  1. Egotist  
 2. Fraud  
 3. Deceiver  
 4. Cheater

Question ID : 65497830713  
Status : Not Answered  
Chosen Option : --

**Q.12** Parts of the given sentence have been given as options. One of them contains a grammatical error. Select the option that has the error.

**Her friends house is close to the high school where Sarathi teaches.**

- Ans**  1. close to  
 2. the high school  
 3. teaches  
 4. Her friends

Question ID : 65497830711  
Status : Not Answered  
Chosen Option : --

**Q.13** Select the option that can be used as a one-word substitute for the given group of words.

**Words carved on a stone or monument**

- Ans**  1. Transcription  
 2. Prescription  
 3. Subscription  
 4. Inscription

Question ID : 65497830702  
Status : Not Answered  
Chosen Option : --

**Q.14** Select the most appropriate option to fill in the blank.

**He applied for official \_\_\_\_\_ to organise the event.**

- Ans**  1. authority  
 2. agreement  
 3. permission  
 4. provision

Question ID : 65497830709  
Status : Not Answered  
Chosen Option : --

**Q.15** Select the most appropriate meaning of the given idiom.

**The apple of one's eye**

- Ans**  1. Someone very rich  
 2. A jolly fellow  
 3. A person who is very dear  
 4. A fierce opponent

Question ID : 65497830710  
Status : Not Answered  
Chosen Option : --

**Q.16** Select the most appropriate option that can substitute the underlined segment in the given sentence. If there is no need to substitute it, select 'No substitution required'.

**Karan looked everywhere for the pen-drive** but could not find it.

- Ans**  1. but could not finding it  
 2. No substitution required  
 3. but had not find it  
 4. but could not found it

Question ID : 65497830707  
Status : Not Answered  
Chosen Option : --

**Q.17** Select the most appropriate option to fill in the blank.

**Editing involves \_\_\_\_\_ and correction with an intention to produce accurate work.**

- Ans**  1. modification  
 2. modulation  
 3. fortification  
 4. habitation

Question ID : 65497830715  
Status : Not Answered  
Chosen Option : --

**Q.18** Select the option that can be used as a one-word substitute for the given group of words.

**Comparison between things that have similar features**

- Ans**  1. Resemblance  
 2. Contrast  
 3. Analogy  
 4. Description

Question ID : 65497830708  
Status : Not Answered  
Chosen Option : --



**Q.19** Select the most appropriate option that can substitute the underlined segment in the given sentence. If there is no need to substitute it, select 'No substitution required'.

Overexposure to the sun while sunbathing not only results in sunburns but also causes premature aging.

**Ans**  1. No substitution required

2. as sunbathing

3. for sunbathing

4. ever sunbathing

Question ID : 65497830719

Status : Not Answered

Chosen Option : --

**Q.20** Select the most appropriate synonym of the given word.

**Radical**

**Ans**  1. Minor

2. Conservative

3. Profound

4. Superficial

Question ID : 65497830712

Status : Not Answered

Chosen Option : --

**Comprehension:**

In the following passage, some words have been deleted. Read the passage carefully and select the most appropriate option to fill in each blank.

It has always been (1)\_\_\_\_\_ dream to live (2)\_\_\_\_\_ Northbrook Villa. My cousins have been (3)\_\_\_\_\_ there since a long time. The place is (4)\_\_\_\_\_ ten kilometres away from my school. I hope father will agree (5)\_\_\_\_\_ shifting there.

**SubQuestion No : 21**

**Q.21** Select the most appropriate option to fill in blank number 1.

**Ans**  1. me

2. myself

3. my

4. mine

Question ID : 65497830721

Status : Not Answered

Chosen Option : --

**Comprehension:**

In the following passage, some words have been deleted. Read the passage carefully and select the most appropriate option to fill in each blank.

It has always been (1)\_\_\_\_\_ dream to live (2)\_\_\_\_\_ Northbrook Villa. My cousins have been (3)\_\_\_\_\_ there since a long time. The place is (4)\_\_\_\_\_ ten kilometres away from my school. I hope father will agree (5)\_\_\_\_\_ shifting there.

**SubQuestion No : 22**

**Q.22** Select the most appropriate option to fill in blank number 2.

- Ans**  1. in  
 2. to  
 3. from  
 4. among

Question ID : 65497830722  
Status : Not Answered  
Chosen Option : --

**Comprehension:**

In the following passage, some words have been deleted. Read the passage carefully and select the most appropriate option to fill in each blank.

It has always been (1)\_\_\_\_\_ dream to live (2)\_\_\_\_\_ Northbrook Villa. My cousins have been (3)\_\_\_\_\_ there since a long time. The place is (4)\_\_\_\_\_ ten kilometres away from my school. I hope father will agree (5)\_\_\_\_\_ shifting there.

**SubQuestion No : 23**

**Q.23** Select the most appropriate option to fill in blank number 3.

- Ans**  1. live  
 2. living  
 3. lived  
 4. left

Question ID : 65497830723  
Status : Not Answered  
Chosen Option : --

**Comprehension:**

In the following passage, some words have been deleted. Read the passage carefully and select the most appropriate option to fill in each blank.

It has always been (1)\_\_\_\_\_ dream to live (2)\_\_\_\_\_ Northbrook Villa. My cousins have been (3)\_\_\_\_\_ there since a long time. The place is (4)\_\_\_\_\_ ten kilometres away from my school. I hope father will agree (5)\_\_\_\_\_ shifting there.

**SubQuestion No : 24**

**Q.24** Select the most appropriate option to fill in blank number 4.

- Ans**  1. ambivalently  
 2. adjectively  
 3. advertently  
 4. approximately

Question ID : 65497830724  
Status : Not Answered  
Chosen Option : --

**Comprehension:**

In the following passage, some words have been deleted. Read the passage carefully and select the most appropriate option to fill in each blank.

It has always been (1)\_\_\_\_\_ dream to live (2)\_\_\_\_\_ Northbrook Villa. My cousins have been (3)\_\_\_\_\_ there since a long time. The place is (4)\_\_\_\_\_ ten kilometres away from my school. I hope father will agree (5)\_\_\_\_\_ shifting there.

**SubQuestion No : 25**

**Q.25** Select the most appropriate option to fill in blank number 5.

- Ans
- 1. from
  - 2. at
  - 3. out
  - 4. to

Question ID : 65497830725  
Status : Not Answered  
Chosen Option : --

Section : Part D Hindi

**Q.1** दिए गए वाक्य का वह भाग ज्ञात करें जिसमें कोई त्रुटि है। यदि कोई त्रुटि नहीं है, तो 'कोई त्रुटि नहीं' विकल्प को चुनें।

झूठ बोलना उसका आदत बन गई है।

- Ans
- 1. बन गई
  - 2. उसका आदत
  - 3. झूठ बोलना
  - 4. कोई त्रुटि नहीं

Question ID : 65497830730  
Status : Answered  
Chosen Option : 2

**Q.2** सही वर्तनी वाले शब्द का चयन करें।

- Ans
- 1. आस्तितावा
  - 2. आस्तित्व
  - 3. अस्तित्व
  - 4. अस्तीत्व

Question ID : 65497830738  
Status : Answered  
Chosen Option : 3

**Q.3** 'एक काम से दोहरा लाभ प्राप्त करना' यह किस मुहावरे का अर्थ है?

- Ans
- 1. एक पर एक होना
  - 2. एक तरकश के तीर होना
  - 3. एक ढेले से दो चिड़िया मारना
  - 4. एक थैली के चट्टे-बट्टे होना

Question ID : 65497830729  
Status : Answered  
Chosen Option : 3

Q.4 रिक्त स्थान की पूर्ति के लिए सबसे उपयुक्त शब्द का चयन करें।

उसने अपने विवाह के \_\_\_\_\_ में पार्टी दी।

- Ans
- 1. अवसर
  - 2. लिए
  - 3. उपलक्ष्य
  - 4. समय

Question ID : 65497830736  
Status : Answered  
Chosen Option : 3

Q.5 तीन वर्षों में होनेवाली- रेखांकित वाक्यांश के लिए एक शब्द का चयन कीजिए-

- Ans
- 1. मासिक
  - 2. त्रैवार्षिक
  - 3. वार्षिक
  - 4. अर्धवार्षिक

Question ID : 65497830743  
Status : Answered  
Chosen Option : 2

Q.6 रिक्त स्थान की पूर्ति के लिए सबसे उपयुक्त शब्द का चयन करें-

सेवा \_\_\_\_\_ भाव से करनी चाहिए।

- Ans
- 1. स्वार्थ
  - 2. निःस्वार्थ
  - 3. सजग
  - 4. आलस

Question ID : 65497830735  
Status : Answered  
Chosen Option : 2

Q.7 उस विकल्प का चयन कीजिए, जो निम्न मुहावरे का सही अर्थ व्यक्त करता है।

हुक्का-पानी बंद करना

- Ans
- 1. जाति से निकालना
  - 2. चकित करना
  - 3. हुक्का पीना
  - 4. डर जाना

Question ID : 65497830740  
Status : Answered  
Chosen Option : 1

Q.8 दिए गए वाक्य में रेखांकित खंड को प्रतिस्थापित करने के लिए सबसे उपयुक्त विकल्प का चयन करें।  
यदि इसे प्रतिस्थापित करने की आवश्यकता नहीं है, तो विकल्प 'किसी बदलाव की आवश्यकता नहीं है'  
का चयन करें।

उसकी अद्वैतदर्शिता के कारण परिवार पर लाखों के कर्ज़ हो गया।

- Ans
- 1. परिवार पर लाखों के कर्ज़ हो गये ।
  - 2. परिवार पर लाखों का कर्ज़ हो गया ।
  - 3. परिवारों पर लाखों के कर्ज़ हो गया ।
  - 4. किसी बदलाव की आवश्यकता नहीं है।

Question ID : 65497830734  
Status : Answered  
Chosen Option : 2

Q.9 निम्न वाक्यांश के लिए उचित शब्द का चयन कीजिए।

भक्तों पर कृपा और प्रेम रखनेवाला

- Ans
- 1. प्रार्थी
  - 2. भक्त
  - 3. भक्त वत्सल
  - 4. राष्ट्रप्रेमी

Question ID : 65497830732  
Status : Answered  
Chosen Option : 3

Q.10 रिक्त स्थान की पूर्ति के लिए सबसे उपयुक्त शब्द का चयन करें।

अब भारत में भी गगनचुम्बी \_\_\_\_\_ का निर्माण होने लगा है।

- Ans
- 1. भुवनों
  - 2. भावों
  - 3. भवनों
  - 4. भावन

Question ID : 65497830745  
Status : Answered  
Chosen Option : 3

Q.11 दिए गये वाक्यांश के लिए एक शब्द दीजिये-

जो सब काम अपने भरोसे करता हो

- Ans
- 1. स्वतंत्र
  - 2. स्वावलंबी
  - 3. पराधीन
  - 4. परावलंबी

Question ID : 65497830733  
Status : Answered  
Chosen Option : 2

Q.12 सही वर्तनी वाले शब्द का चयन करें।

- Ans  1. क्रिईप्य  
 2. कृपया  
 3. कृप्या  
 4. क्रिपया

Question ID : 65497830737  
Status : Answered  
Chosen Option : 2

Q.13 'विद्युत' का पर्यायवाची है-

- Ans  1. तरिणी  
 2. चपला  
 3. आपगा  
 4. वनिता

Question ID : 65497830742  
Status : Answered  
Chosen Option : 2

Q.14 दिए गए शब्द के समानार्थी शब्द का चयन कीजिए।

शिकारी

- Ans  1. अहेर  
 2. आखेटक  
 3. मृगया  
 4. आखेट

Question ID : 65497830727  
Status : Answered  
Chosen Option : 2

Q.15 दिए गए वाक्य में रेखांकित खंड को प्रतिस्थापित करने के लिए सबसे उपयुक्त विकल्प का चयन करें।  
यदि इसे प्रतिस्थापित करने की आवश्यकता नहीं है, तो विकल्प 'किसी बदलाव की आवश्यकता नहीं है'  
का चयन करें।

साहित्य और जीवन का घोर संबंध है।

- Ans  1. किसी बदलाव की आवश्यकता नहीं है।  
 2. अनिष्ट संबंध है।  
 3. आत्मीय संबंध है।  
 4. अभिन्न संबंध है।

Question ID : 65497830739  
Status : Answered  
Chosen Option : 3

Q.16 दिए गए शब्द का विलोम चुनिए।

ऐहिक

- Ans  1. अलौकिक  
 2. सात्विक  
 3. पारलौकिक  
 4. नैसर्गिक

Question ID : 65497830731  
Status : Answered  
Chosen Option : 3

Q.17 कौनसा विलोम-युग्म सुमेलित नहीं है?

- Ans
- 1. जय-पराजय
  - 2. अनुराग-विराग
  - 3. शुभ-अनिष्ट
  - 4. भूगोल-खगोल

Question ID : 65497830728  
Status : Answered  
Chosen Option : 4

Q.18 दिये गये वाक्य के किस भाग में त्रुटि है?

वह एक आवश्यकीय कार्य से बाहर गया है।

- Ans
- 1. वह एक
  - 2. से बाहर
  - 3. गया है।
  - 4. आवश्यकीय कार्य

Question ID : 65497830741  
Status : Answered  
Chosen Option : 4

Q.19 दिए गए वाक्य का वह भाग ज्ञात करें जिसमें कोई त्रुटि है। यदि कोई त्रुटि नहीं है, तो 'कोई त्रुटि नहीं है' चुनें।

गले को (1)/ पराधीनता की (2) / बेड़ियाँ पड़ी रही हैं। (3)/ कोई त्रुटि नहीं है (4)

- Ans
- 1. 2
  - 2. 1
  - 3. 3
  - 4. 4

Question ID : 65497830726  
Status : Answered  
Chosen Option : 2

Q.20 मुमुक्षु - रेखांकित शब्द के लिए वाक्यांश का चयन कीजिए-

- Ans
- 1. जो सुन्दर हो
  - 2. जो मोक्ष चाहता हो
  - 3. जो बहुत ही भूखा हो
  - 4. जो चक्रधारण करता है

Question ID : 65497830744  
Status : Answered  
Chosen Option : 2

**Comprehension:**

दिए गए गद्यांश में से कुछ शब्द हटा दिए गए हैं। इसपर आधारित प्रश्नों में प्रत्येक संख्या के लिए सबसे उपयुक्त विकल्प का चयन करें।

सड़कें (1) \_\_\_\_\_ हैं। गंदा पानी गली-गली में (2) \_\_\_\_\_। बराबर (3) \_\_\_\_\_ दी जा रही है कि शहर को (4) \_\_\_\_\_ रखें। फटी, खुली चीजें मत खाओ। पर (5) \_\_\_\_\_ सुनता है?

**SubQuestion No : 21**

**Q.21** गद्यांश के रिक्त स्थान (1) के लिए सर्वाधिक उपयुक्त शब्द होगा-

- Ans**
- 1. सुथरे
  - 2. साफ
  - 3. गंदी
  - 4. चौड़ा

Question ID : **65497830747**  
Status : **Answered**  
Chosen Option : 3

**Comprehension:**

दिए गए गद्यांश में से कुछ शब्द हटा दिए गए हैं। इसपर आधारित प्रश्नों में प्रत्येक संख्या के लिए सबसे उपयुक्त विकल्प का चयन करें।

सड़कें (1) \_\_\_\_\_ हैं। गंदा पानी गली-गली में (2) \_\_\_\_\_। बराबर (3) \_\_\_\_\_ दी जा रही है कि शहर को (4) \_\_\_\_\_ रखें। फटी, खुली चीजें मत खाओ। पर (5) \_\_\_\_\_ सुनता है?

**SubQuestion No : 22**

**Q.22** गद्यांश के रिक्त स्थान (2) के लिए सर्वाधिक उपयुक्त शब्द होगा-

- Ans**
- 1. बह रही है
  - 2. गिर रहे हैं
  - 3. मच गयी है
  - 4. फैल रहा है

Question ID : **65497830748**  
Status : **Answered**  
Chosen Option : 4

**Comprehension:**

दिए गए गद्यांश में से कुछ शब्द हटा दिए गए हैं। इसपर आधारित प्रश्नों में प्रत्येक संख्या के लिए सबसे उपयुक्त विकल्प का चयन करें।

सड़कें (1) \_\_\_\_\_ हैं। गंदा पानी गली-गली में (2) \_\_\_\_\_। बराबर (3) \_\_\_\_\_ दी जा रही है कि शहर को (4) \_\_\_\_\_ रखें। फटी, खुली चीजें मत खाओ। पर (5) \_\_\_\_\_ सुनता है?

**SubQuestion No : 23**

**Q.23** गद्यांश के रिक्त स्थान (3) के लिए सर्वाधिक उपयुक्त शब्द होगा-

- Ans**
- 1. चेतावनी
  - 2. खबर
  - 3. सतर्क
  - 4. औषधी

Question ID : **65497830749**  
Status : **Answered**  
Chosen Option : 1



**Comprehension:**

दिए गए गद्यांश में से कुछ शब्द हटा दिए गए हैं। इसपर आधारित प्रश्नों में प्रत्येक संख्या के लिए सबसे उपयुक्त विकल्प का चयन करें।

सड़कें (1) \_\_\_\_\_ हैं। गंदा पानी गली-गली में (2) \_\_\_\_\_। बराबर (3) \_\_\_\_\_ दी जा रही है कि शहर को (4) \_\_\_\_\_ रखें। फटी, खुली चीजें मत खाओ। पर (5) \_\_\_\_\_ सुनता है?

**SubQuestion No : 24**

**Q.24** गद्यांश के रिक्त स्थान (4) के लिए सर्वाधिक उपयुक्त शब्द होगा-

- Ans**
- 1. मैला
  - 2. गंदगी
  - 3. कूड़ा
  - 4. साफ-सुथरा

Question ID : **65497830750**  
Status : **Answered**  
Chosen Option : 4

**Comprehension:**

दिए गए गद्यांश में से कुछ शब्द हटा दिए गए हैं। इसपर आधारित प्रश्नों में प्रत्येक संख्या के लिए सबसे उपयुक्त विकल्प का चयन करें।

सड़कें (1) \_\_\_\_\_ हैं। गंदा पानी गली-गली में (2) \_\_\_\_\_। बराबर (3) \_\_\_\_\_ दी जा रही है कि शहर को (4) \_\_\_\_\_ रखें। फटी, खुली चीजें मत खाओ। पर (5) \_\_\_\_\_ सुनता है?

**SubQuestion No : 25**

**Q.25** गद्यांश के रिक्त स्थान (5) के लिए सर्वाधिक उपयुक्त शब्द होगा-

- Ans**
- 1. किसने
  - 2. यह
  - 3. वह
  - 4. कौन

Question ID : **65497830751**  
Status : **Answered**  
Chosen Option : 4