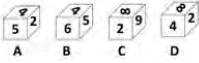
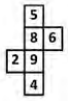


## Constable GD in CAPFs NIA SSF and Rifleman GD in Assam Rifles Examination 2021

Roll Number	<a href="http://www.GovtJobsAlert.In">www.GovtJobsAlert.In</a>
Candidate Name	<a href="http://www.GovtJobsAlert.In">www.GovtJobsAlert.In</a>
Venue Name	Informatic Computer Education. Patliputra
Exam Date	14/12/2021
Exam Time :	12:30 PM - 2:00 PM
Subject	Constable GD 2021

### Section : Part A General Intelligence and Reasoning

Q.1 उस पासे का चयन करें, जिसे निम्नांकित पत्रक (शीट) को रेखाओं पर मोड़ने पर प्राप्त किया जा सकता है।



- Ans
- 1. केवल C और D
  - 2. केवल C
  - 3. B, C और D
  - 4. केवल D

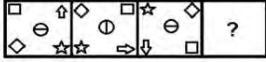
Question ID : 65497831532  
Status : Answered  
Chosen Option : 2

Q.2 एक निश्चित कूट भाषा में, REWARI को 185231189 के रूप में लिखा जाता है। उस भाषा में, SIRSA को कैसे लिखा जाएगा?

- Ans
- 1. 19919118
  - 2. 11819199
  - 3. 19918191
  - 4. 11819919

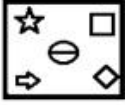
Question ID : 65497831523  
Status : Answered  
Chosen Option : 3

Q.3 दिए गए विकल्पों में से उस आकृति का चयन कीजिए जो निम्नांकित आकृति श्रेणी में प्रश्नवाचक चिह्न (?) के स्थान पर आ सकती है।

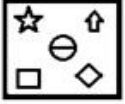


Ans

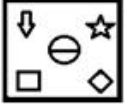
✗ 1.



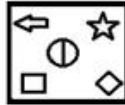
✗ 2.



✗ 3.



✓ 4.



Question ID : 65497831528  
Status : Answered  
Chosen Option : 4

Q.4 यदि '+' का अर्थ 'x', '-' का अर्थ '÷', '÷' का अर्थ 'x' और 'x' का अर्थ '-' है, तो निम्नलिखित व्यंजक का मान कितना होगा?

$$(11 + 5 \times 18) - 8 \div 17$$

Ans

✗ 1. 55

✗ 2. 52

✗ 3. 53

✓ 4. 51

Question ID : 65497831531  
Status : Answered  
Chosen Option : 4

Q.5 उस विकल्प का चयन करें, जिसमें दी गई संख्याओं के बीच वही संबंध है, जो दिए गए समुच्चय की संख्याओं के बीच है।

12, 168, 7

Ans

✗ 1. 11, 145, 17

✓ 2. 14, 448, 16

✗ 3. 15, 180, 12

✗ 4. 18, 240, 10

Question ID : 65497831536  
Status : Answered  
Chosen Option : 2

Q.6 दिए गए संयोजन के सही दर्पण प्रतिबिंब का चयन करें, जब दर्पण को दिखाए गए अनुसार PQ पर रखा गया है।

E G P T B N

- Ans
- ✓ 1. N B T P G E
  - ✗ 2. N G P T B E
  - ✗ 3. E G P T B N
  - ✗ 4. N G P T B E

Question ID : 65497831521  
Status : Answered  
Chosen Option : 1

Q.7 उस विकल्प का चयन करें, जो दिए गए चित्र में अंतर्निहित है (घुमाने की अनुमति नहीं है)।



- Ans
- ✗ 1.
  - ✗ 2.
  - ✓ 3.
  - ✗ 4.

Question ID : 65497831533  
Status : Answered  
Chosen Option : 3

Q.8 'चूल्हे' का जो संबंध 'पकाने' से है वही संबंध 'चाकू' का '\_\_\_\_\_' से है।

- Ans
- ✗ 1. बनाने (मेकिंग)
  - ✗ 2. चित्र (पेंटिंग)
  - ✗ 3. इंग्लिश (प्रेटिंग)
  - ✓ 4. काटने (चॉपिंग)

Question ID : 65497831515  
Status : Answered  
Chosen Option : 4

Q.9 किसी कूट भाषा में, TATA को 401202 के रूप में लिखा जाता है। उसी भाषा में TITAN को किस प्रकार से लिखा जाएगा?

- Ans  1. 40920128  
 2. 20401982  
 3. 40920821  
 4. 20408219

Question ID : 65497831519  
Status : Answered  
Chosen Option : 1

Q.10 दिए गए कथनों और निष्कर्षों को ध्यानपूर्वक पढ़ें। कथनों में दी गई जानकारी को सत्य मानते हुए विचार करें, भले ही वह सामान्यतः ज्ञात तथ्यों से भिन्न प्रतीत होती हो, और तय करें कि दिए गए निष्कर्षों में से कौन-सा/ से कथनों का तार्किक रूप से पालन करता है/करते हैं?

कथन:  
सभी केयरटेकर कुशल हैं।  
कुछ कुशल वकील हैं।  
सभी कुशल चित्रकार हैं।

निष्कर्ष:  
I. कुछ चित्रकार वकील हैं।  
II. कोई भी चित्रकार वकील नहीं है।

- Ans  1. केवल निष्कर्ष I पालन करता है।  
 2. दोनों ही निष्कर्ष पालन करते हैं।  
 3. केवल निष्कर्ष II पालन करता है।  
 4. या तो निष्कर्ष I या II पालन करता है।

Question ID : 65497831535  
Status : Answered  
Chosen Option : 1

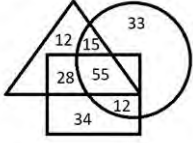
Q.11 अक्षरों के उस संयोजन का चयन करें जिसे दी गई श्रेणी में रिक्त स्थानों पर क्रमिक रूप से रखने पर श्रेणी पूर्ण हो जाएगी।

bi\_h\_h\_is\_ohb\_sh\_h

- Ans  1. sobhio  
 2. shoboi  
 3. shobio  
 4. sohboi

Question ID : 65497831526  
Status : Answered  
Chosen Option : 1

Q.12 दिए गए वेन आरेख में, आयत 'नीले नेत्र वाले लोगों' को दर्शाता है, त्रिभुज 'छह उंगलियों वाले लोगों' को दर्शाता है और वृत्त 'डिंपल वाले लोगों' को दर्शाता है।



जिन लोगों की छह उंगलियाँ और नीले नेत्र हैं पर कोई डिंपल नहीं है, की संख्या A है और यदि छह उंगलियों वाले लोगों, जिनके डिंपल हैं पर नीले नेत्र नहीं हैं, की संख्या B है। A और B का योग कितना है?

- Ans
- 1. 70
  - 2. 40
  - 3. 67
  - 4. 43

Question ID : 65497831517  
Status : Answered  
Chosen Option : 1

Q.13 उस विकल्प का चयन करें जो तीसरे पद से ठीक उसी प्रकार से संबंधित है जैसे दूसरा पद पहले पद से संबंधित है।

ROPE : VSTI :: BOSE : ?

- Ans
- 1. SFIW
  - 2. IWSF
  - 3. ISWF
  - 4. FSWI

Question ID : 65497831522  
Status : Answered  
Chosen Option : 4

Q.14 दिए गए विकल्पों में से उस अक्षर-समूह का चयन करें जो निम्नलिखित श्रृंखला में प्रश्नवाचक चिह्न (?) के स्थान पर आ सकता है।

BHO, GMT, LRY, ?

- Ans
- 1. HMT
  - 2. QWD
  - 3. DJL
  - 4. IOU

Question ID : 65497831514  
Status : Answered  
Chosen Option : 2

Q.15 यदि 27 मई 2007 को रविवार है, तो 25 मई 2018 को सप्ताह का कौन सा दिन होगा?

- Ans
- 1. गुरुवार
  - 2. रविवार
  - 3. शुक्रवार
  - 4. शनिवार

Question ID : 65497831537  
Status : Answered  
Chosen Option : 3

Q.16 दिए गए विकल्पों में से उस संख्या का चयन कीजिए जो दी गई श्रृंखला में प्रश्न चिह्न (?) के स्थान पर प्रतिस्थापित हो सकती है।

38, 120, 366, ?

- Ans  1. 1104  
 2. 1101  
 3. 1103  
 4. 1102

Question ID : 65497831520  
Status : Answered  
Chosen Option : 1

Q.17 उस सही विकल्प का चयन कीजिए जो दिए गए शब्दों के उस क्रम को दर्शाता है जिस क्रम में वे अंग्रेजी शब्दकोश में आते हैं।

1. Creepy
2. Cremate
3. Creosote
4. Crescendo
5. Crescent

- Ans  1. 2, 5, 1, 4, 3  
 2. 1, 3, 2, 5, 4  
 3. 3, 5, 4, 1, 2  
 4. 1, 2, 3, 4, 5

Question ID : 65497831525  
Status : Answered  
Chosen Option : 4

Q.18 दिए गए चार अक्षर-समूहों में से तीन एक निश्चित प्रकार से समान हैं, जबकि एक भिन्न है। उस भिन्न अक्षर-समूह का चयन करें।

- Ans  1. GHE  
 2. BJP  
 3. LUX  
 4. OWL

Question ID : 65497831518  
Status : Answered  
Chosen Option : 1

Q.19 नौ मित्र A, B, C, D, E, F, G, H और I उत्तर की ओर मुँह किए एक पंक्ति में बैठे हैं। A, H के बाएँ दूसरा है। H, B के बाएँ दूसरे स्थान पर है। B पंक्ति के एक छोर पर है। F, A और H के बीच में है। D, I और C के बीच में है। C, E के दाएँ तीसरे स्थान पर है। पंक्ति के बीच में कौन है?

- Ans  1. C  
 2. F  
 3. G  
 4. A

Question ID : 65497831529  
Status : Answered  
Chosen Option : 4

Q.20 पांच मित्र एक लाइन में उत्तर दिशा की ओर अभिमुख होकर खड़े हैं। लाइन में दोनों छोरों पर वकील और जज खड़े हैं। वैज्ञानिक ठीक शिक्षक के दाईं ओर पड़ोस में खड़ा है। फार्मसिस्ट, जज के बाईं ओर खड़ा है। शिक्षक ठीक वकील और वैज्ञानिक के बीच में खड़ा है। बाईं ओर से गणना करने पर, वैज्ञानिक किस स्थान पर खड़ा है?

- Ans
- 1. पांचवे
  - 2. पहले
  - 3. तीसरे
  - 4. चौथे

Question ID : 65497831516  
Status : Answered  
Chosen Option : 3

Q.21 एक निश्चित कूट भाषा में, TEMPER को QBJMBO लिखा जाता है। उसी कूट भाषा में POSTED को किस प्रकार लिखा जाएगा?

- Ans
- 1. MLOQBB
  - 2. MLQQCA
  - 3. MMPQCA
  - 4. MLPQBA

Question ID : 65497831534  
Status : Answered  
Chosen Option : 4

Q.22 नीरज ने एक महिला की तस्वीर की ओर इशारा किया और कहा, “वह मेरे दादाजी के इकलौते पुत्र की पुत्री है। तस्वीर में दिखने वाली महिला के साथ नीरज का क्या संबंध है?

- Ans
- 1. भाई
  - 2. ससुर
  - 3. पिताजी
  - 4. चाचा

Question ID : 65497831524  
Status : Answered  
Chosen Option : 1

Q.23 उस विकल्प का चयन करें, जिसमें संख्या-युग्म के बीच वही संबंध है, जो निम्नांकित संख्या-युग्म के बीच है।

36 : 221

- Ans
- 1. 21 : 132
  - 2. 26 : 150
  - 3. 43 : 263
  - 4. 32 : 288

Question ID : 65497831530  
Status : Answered  
Chosen Option : 1

Q.24 दिए गए विकल्पों में से उस संख्या का चयन कीजिए जो निम्न श्रेणी में प्रश्नवाचक चिह्न (?) के स्थान पर आएगी।

105, 102, 96, 87, 75, ?

Ans  1. 60

2. 35

3. 55

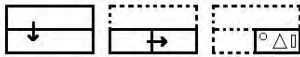
4. 45

Question ID : 65497831527

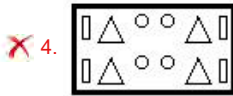
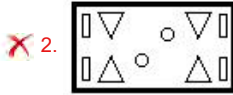
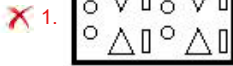
Status : Answered

Chosen Option : 1

Q.25 कागज के एक टुकड़े को मोड़ने के क्रम और मुड़े हुए कागज को काटने के तरीके को निम्नलिखित आकृतियों में दर्शाया गया है। खोलने पर, यह कागज कैसा दिखाई देगा?



Ans



Question ID : 65497831538

Status : Answered

Chosen Option : 3

Section : Part B General Knowledge and General Awareness

Q.1 भारत के संविधान में कितनी अनुसूचियों का उल्लेख है?

Ans  1. 23

2. 34

3. 12

4. 45

Question ID : 65497831549

Status : Answered

Chosen Option : 3

Q.2 अंतरराष्ट्रीय क्रिकेट परिषद (ICC) के नए स्वतंत्र अध्यक्ष ग्रेग बार्कले निम्नलिखित में से किस देश से संबंधित हैं?

Ans  1. ऑस्ट्रेलिया

2. इंग्लैंड

3. दक्षिण अफ्रीका

4. न्यूज़ीलैंड

Question ID : 65497831546

Status : Answered

Chosen Option : 4



Q.3 राजा मानसिंह तोमर ने \_\_\_\_\_ पर शासन किया था।

- Ans  1. खालियर  
 2. बीकानेर  
 3. मैसूर  
 4. जैसलमेर

Question ID : 65497831563  
Status : Answered  
Chosen Option : 4

Q.4 कौन-सा देश 2022 में एशियाई फुटबॉल परिसंघ के महिला एशियन कप की मेजबानी करेगा?

- Ans  1. मलेशिया  
 2. चीन  
 3. भारत  
 4. ताइवान

Question ID : 65497831560  
Status : Answered  
Chosen Option : 1

Q.5 निम्नलिखित में से किस स्थान पर हड़प्पा संस्कृति की अग्नि वेदियाँ पाई गई थीं?

- Ans  1. पदरी  
 2. लोथल  
 3. भगतराव  
 4. मांडा

Question ID : 65497831547  
Status : Not Answered  
Chosen Option : --

Q.6 नॉमिनल जी.डी.पी. (GDP), एक अर्थव्यवस्था में आर्थिक उत्पादन का आकलन है जिसमें इसकी गणना में \_\_\_\_\_ शामिल होता है।

- Ans  1. केवल सेवाएं  
 2. नागरिकों के लेखे  
 3. वर्तमान मूल्य  
 4. पिछले 5 वर्षों के मूल्य

Question ID : 65497831561  
Status : Answered  
Chosen Option : 3

Q.7 दिसंबर 2020 तक भारत में कितने रामसर स्थल मौजूद हैं?

- Ans  1. 39  
 2. 42  
 3. 40  
 4. 41

Question ID : 65497831559  
Status : Answered  
Chosen Option : 1

Q.8 \_\_\_\_\_, नहर निर्गम (केनाल आउटलेट) के कमान-क्षेत्र में पानी के समान वितरण की एक प्रणाली है।

- Ans
- 1. उत्थापन (लिफ्ट)
  - 2. प्रवाह (फ्लो)
  - 3. वारबंदी
  - 4. हारवेस्टिंग

Question ID : 65497831544  
Status : Not Answered  
Chosen Option : --

Q.9 निम्नलिखित में से किस विदेशी व्यक्ति को 2019 में पद्म विभूषण मिला?

- Ans
- 1. प्रवीण गोर्धन
  - 2. जॉन चैम्बर्स
  - 3. इस्माइल ओमर गुलेह
  - 4. शिंजो आबे

Question ID : 65497831558  
Status : Answered  
Chosen Option : 4

Q.10 28 मार्च, 2020 को भारतीय रिजर्व बैंक (RBI) की अधिसूचना के अनुसार, दो ऋणदाताओं के विलय के बाद इलाहाबाद बैंक की सभी शाखाएं \_\_\_\_\_ की शाखाओं के रूप में कार्य करेंगी।

- Ans
- 1. इंडियन बैंक
  - 2. केनरा बैंक
  - 3. बैंक ऑफ़ बड़ौदा
  - 4. देना बैंक

Question ID : 65497831539  
Status : Not Answered  
Chosen Option : --

Q.11 निम्नलिखित में से कौन-सा बैक्टीरिया (जीवाणु), वायुमंडलीय नाइट्रोजन को फिक्स करने में सहायता करता है?

- Ans
- 1. अज़ोसपिरिलम
  - 2. राइजोबियम
  - 3. क्लोस्ट्रीडियम
  - 4. एज़ोटोबैक्टर

Question ID : 65497831556  
Status : Answered  
Chosen Option : 2

Q.12 मालदीव, किस वर्ष में एक सल्तनत व्यवस्था से एक राष्ट्रपति व्यवस्था वाली सरकार में बदल गया था?

- Ans
- 1. 1962
  - 2. 1947
  - 3. 1956
  - 4. 1968

Question ID : 65497831540  
Status : Not Answered  
Chosen Option : --

Q.13 'शिरुई लिली महोत्सव' निम्नलिखित में से किस राज्य में मनाया जाता है?

- Ans
- 1. केरल
  - 2. गोवा
  - 3. नागालैंड
  - 4. मणिपुर

Question ID : 65497831543  
Status : Not Answered  
Chosen Option : --

Q.14 निम्नलिखित में से कौन सा मिजोरम राज्य का मुख्य त्योहार है?

- Ans
- 1. हॉर्नबिल
  - 2. चपचार कूट
  - 3. सागा दावा
  - 4. ओणम

Question ID : 65497831555  
Status : Answered  
Chosen Option : 2

Q.15 विश्व प्रवासी पक्षी दिवस हर वर्ष कब मनाया जाता है?

- Ans
- 1. मई और अक्टूबर के पहले रविवार को
  - 2. अप्रैल और नवंबर के दूसरे शनिवार को
  - 3. अप्रैल और नवंबर के पहले रविवार को
  - 4. मई और अक्टूबर के दूसरे शनिवार को

Question ID : 65497831557  
Status : Not Answered  
Chosen Option : --

Q.16 निम्नलिखित में से किस राज्य सरकार ने नवंबर 2020 में घोषणा की थी कि वह गायों के संरक्षण और संवर्धन के लिए गौ मंत्रिमंडल की स्थापना करेगी?

- Ans
- 1. उत्तर प्रदेश
  - 2. कर्नाटक
  - 3. मध्य प्रदेश
  - 4. बिहार

Question ID : 65497831550  
Status : Answered  
Chosen Option : 1

Q.17 निम्नलिखित में से कौन, चोल राजवंश का संस्थापक था?

- Ans
- 1. राजेंद्र I
  - 2. राजेंद्र III
  - 3. विजयालय
  - 4. राजाराज

Question ID : 65497831548  
Status : Not Answered  
Chosen Option : --

Q.18 नेहरू रिपोर्ट (1928) निम्न से संबंधित थी:

- Ans  1. शिक्षा सुधार  
 2. संवैधानिक ढांचा  
 3. सांप्रदायिक पुरस्कार  
 4. सूरत विभाजन

Question ID : 65497831552  
Status : Answered  
Chosen Option : 2

Q.19 टिटू लूका एक भारतीय ट्रैक और फील्ड एथलीट है। महिलाओं की निम्नलिखित में से किस स्पर्धा में वे राष्ट्रीय रिकॉर्ड धारक हैं?

- Ans  1. 100 m की दौड़  
 2. 400 m की दौड़  
 3. 800 m की दौड़  
 4. 200 m की दौड़

Question ID : 65497831542  
Status : Not Answered  
Chosen Option : --

Q.20 नवंबर 2020 में, भारत के केंद्रीय मंत्रिमंडल ने \_\_\_\_\_ के साथ पूंजी-विहीन लक्ष्मी विलास बैंक (LVB) के विलय को मंजूरी दी।

- Ans  1. DBS बैंक इंडिया  
 2. भारतीय स्टेट बैंक  
 3. HDFC बैंक  
 4. पंजाब नेशनल बैंक

Question ID : 65497831541  
Status : Not Answered  
Chosen Option : --

Q.21 निम्नलिखित में से कौन सी पहाड़ियाँ मेघालय में स्थित नहीं हैं?

- Ans  1. जयंतिया पहाड़ियाँ  
 2. गारो पहाड़ियाँ  
 3. खासी पहाड़ियाँ  
 4. दफ़ला पहाड़ियाँ

Question ID : 65497831554  
Status : Answered  
Chosen Option : 4

Q.22 सितंबर 2020 में, बंगाल पीयरलेस हाउसिंग डेवलपमेंट कंपनी का ब्रांड एंबेसडर किसे बनाया गया?

- Ans  1. एम.एस. धोनी  
 2. सौरव गांगुली  
 3. विराट कोहली  
 4. स्मृति मंधाना

Question ID : 65497831545  
Status : Answered  
Chosen Option : 4

Q.23 निम्नलिखित में से कौन सा युग्म ऊर्जा की इकाई दर्शाता है?

- Ans  1. इलेक्ट्रॉन वोल्ट और प्रकाशवर्ष  
 2. जूल और पास्कल  
 3. वेबर और एम्पियर  
 4. कैलोरी और जूल

Question ID : 65497831551  
Status : Answered  
Chosen Option : 4

Q.24 अगस्त 2020 में निम्नलिखित में से किस भारतीय राज्य में रेलवे संग्रहालय का उद्घाटन किया गया?

- Ans  1. नई दिल्ली  
 2. पंजाब  
 3. कर्नाटक  
 4. आंध्र प्रदेश

Question ID : 65497831553  
Status : Not Answered  
Chosen Option : --

Q.25 सितंबर 2021 में, आर्थिक मामलों की कैबिनेट समिति (CCEA) ने रबी मार्केटिंग सीजन (RMS) 2022-23 के लिए मसूर, सफ़ेद सरसों और काले सरसों के लिए पिछले वर्ष की तुलना में न्यूनतम समर्थन मूल्य (MSP) में \_\_\_\_\_ प्रति क्विंटल की उच्चतम पूर्ण वृद्धि को मंजूरी दी।

- Ans  1. ₹200  
 2. ₹400  
 3. ₹1,200  
 4. ₹800

Question ID : 65497831562  
Status : Not Answered  
Chosen Option : --

Section : Part C Elementary Mathematics

Q.1 एक डीलर ने एक वस्तु की कीमत क्रय मूल्य से 50% अधिक अंकित की। एक खास ग्राहक को उसने 10%, 15% और 20% की क्रमागत छूट दी। परिणामस्वरूप उसे ₹410 की हानि हुई। उक्त ग्राहक को उसने वस्तु किस कीमत (₹ में) पर बेची?

- Ans  1. 5940  
 2. 5490  
 3. 4950  
 4. 4590

Question ID : 65497831565  
Status : Answered  
Chosen Option : 4

**Q.2** बारह संख्याओं का औसत 38 है। पहली तीन संख्याओं का औसत 33 है, अगली चार संख्याओं का औसत  $35\frac{1}{2}$  है और अगली दो संख्याओं का औसत 40 है। यदि दसवीं संख्या ग्यारहवीं और बारहवीं संख्याओं से क्रमशः 4 और 5 कम हो, तो बारहवीं संख्या कौन सी है?

- Ans**
- 1. 45
  - 2. 49
  - 3. 40
  - 4. 47

Question ID : 65497831564  
Status : Answered  
Chosen Option : 4

**Q.3** एक व्यक्ति ने ₹20,000 की धनराशि साधारण ब्याज की 4.5% वार्षिक दर पर तीन वर्षों के लिए निवेश की। यदि उस व्यक्ति ने ₹16,000 की धनराशि 5% वार्षिक चक्रवृद्धि ब्याज दर पर 2 वर्षों के लिए निवेश की होती, तो दोनों स्थितियों में प्राप्त ब्याज के बीच कितना अंतर होता?

- Ans**
- 1. ₹1,060
  - 2. ₹1,000
  - 3. ₹1,200
  - 4. ₹800

Question ID : 65497831582  
Status : Answered  
Chosen Option : 1

**Q.4** एक लंब वृत्तीय शंकु के आधार का क्षेत्रफल  $7546 \text{ cm}^2$  है और इसकी ऊंचाई 15 cm है। शंकु का आयतन ( $\text{cm}^3$  में) ज्ञात करें। ( $\pi = \frac{22}{7}$  लें)

- Ans**
- 1. 40000
  - 2. 36930
  - 3. 35000
  - 4. 37730

Question ID : 65497831570  
Status : Answered  
Chosen Option : 4

**Q.5** रीता ने सोने का 15 ग्राम का एक आभूषण ₹71820 में खरीदा, जिसमें 12% का जीएसटी और गहना बनाने के प्रभार शामिल हैं। सोने का प्रति ग्राम मूल मूल्य (₹ में) कितना है?

- Ans**
- 1. 4157
  - 2. 4788
  - 3. 4572
  - 4. 4275

Question ID : 65497831566  
Status : Not Attempted and Marked For Review  
Chosen Option : --

Q.6 एक वस्तु पर 12.5% की छूट देने के बाद ₹1,225 में बेचा गया। यदि दी गई छूट 9.5% होती, तो वस्तु का विक्रय मूल्य क्या होता?

- Ans
- 1. ₹1,246
  - 2. ₹1,260
  - 3. ₹1,367
  - 4. ₹1,267

Question ID : 65497831573  
Status : Answered  
Chosen Option : 3

Q.7 ₹8,505 को P, Q और R के बीच उनके हिस्सों के अनुसार  $1\frac{1}{3} : 1\frac{3}{4} : 2\frac{1}{6}$  के अनुपात में विभाजित किया गया है। P और R के हिस्सों में कितना अंतर (₹ में) है?

- Ans
- 1. 675
  - 2. 1,701
  - 3. 1,350
  - 4. 1,530

Question ID : 65497831581  
Status : Answered  
Chosen Option : 3

Q.8 व्यक्ति A एक कार्य को पूरा करने में 28 घंटे लेता है। व्यक्ति B उसी कार्य को A द्वारा लिए गए समय से एक-चौथाई समय में पूरा करता है। यदि दोनों एक साथ कार्य करते हैं, तो कार्य कितने समय में समाप्त हो जाएगा?

- Ans
- 1. 5 घंटे 30 मिनट
  - 2. 6 घंटे 36 मिनट
  - 3. 5 घंटे
  - 4. 5 घंटे 36 मिनट

Question ID : 65497831576  
Status : Answered  
Chosen Option : 4

Q.9 P को 96 km चलने के लिए Q से छह घंटे ज्यादा लगते हैं, लेकिन यदि P अपनी चाल को दोगुनी कर देता है तो उसे यह दूरी तय करने में Q से दो घंटे कम लगते हैं। 48 km चलने के लिए Q को कितना समय (घंटे में) चाहिए?

- Ans
- 1. 10
  - 2. 16
  - 3. 6
  - 4. 5

Question ID : 65497831568  
Status : Answered  
Chosen Option : 4

Q.10  $\frac{1}{4} \div 4\frac{2}{9}$  of  $\frac{9}{19} + \left(\frac{5}{4} - \frac{3}{8}\right)$  का मान ज्ञात कीजिए।

- Ans
- 1. 4
  - 2. 1
  - 3. 2
  - 4. 8

Question ID : 65497831574  
Status : Answered  
Chosen Option : 2

Q.11 रेणु का व्यय, उसकी बचत से 150% अधिक है। यदि उसकी आय में 20% की और बचत में 50% की वृद्धि होती है, तो उसके व्यय में कितने प्रतिशत की वृद्धि होगी?

- Ans
- 1. 12%
  - 2. 5%
  - 3. 8%
  - 4. 10%

Question ID : 65497831587  
Status : Answered  
Chosen Option : 1

Q.12 50 और 7 के बीच उन सभी संख्याओं के औसत जो कि 6 से विभाज्य हैं, तथा 10 और 45 के बीच सभी अभाज्य संख्याओं के औसत के बीच का अंतर ज्ञात करें।

- Ans
- 1. 35.6
  - 2. 33.6
  - 3. 33.4
  - 4. 35.4

Question ID : 65497831580  
Status : Answered  
Chosen Option : 2

Q.13 A, B और C अलग-अलग एक काम को क्रमशः 20, 35 और 60 दिन में कर सकते हैं। उन्होंने एक साथ मिलकर काम करना शुरू किया, लेकिन B ने काम पूरा होने से 8 दिन पहले और C ने काम पूरा होने से 12 दिन पहले काम छोड़ दिया। सभी तीनों ने एक साथ मिलकर कितने दिन तक काम किया?

- Ans
- 1. 7
  - 2. 12
  - 3. 10
  - 4. 3

Question ID : 65497831567  
Status : Answered  
Chosen Option : 4



Q.14 चार अंकों की वह सबसे छोटी संख्या ज्ञात करें जो 3, 5, 7 और 9 से विभाज्य हो।

- Ans
- 1. 1145
  - 2. 1125
  - 3. 1260
  - 4. 1045

Question ID : 65497831579  
Status : Answered  
Chosen Option : 3

Q.15 एक छात्र ने ₹35 में 10 पेंसिल के मूल्य पर पेंसिल का एक बॉक्स खरीदा और उन सभी को ₹54 में 9 पेंसिल के मूल्य पर बेच दिया। इस सौदे में, उसे ₹350 का लाभ हुआ। बॉक्स में कितनी पेंसिलें थीं?

- Ans
- 1. 120
  - 2. 130
  - 3. 150
  - 4. 140

Question ID : 65497831571  
Status : Answered  
Chosen Option : 4

Q.16 एक निश्चित धनराशि पर साधारण ब्याज, मूलधन का  $\frac{4}{25}$  है, यदि प्रतिशत ब्याज दर, और वर्षों में अवधि को निरूपित करने वाली संख्याएं बराबर हों, तो मूलधन उधार दिए जाने की अवधि ज्ञात करें।

- Ans
- 1. 5 वर्ष
  - 2. 6 वर्ष
  - 3. 2 वर्ष
  - 4. 4 वर्ष

Question ID : 65497831584  
Status : Answered  
Chosen Option : 4

Q.17 एक व्यक्ति 1800 m लंबी गली को 5 min में पार कर जाता है। उसकी चाल (km/h में) कितनी है?

- Ans
- 1. 21
  - 2. 20.6
  - 3. 21.6
  - 4. 11.6

Question ID : 65497831578  
Status : Answered  
Chosen Option : 3

Q.18 15 और 45 का तृतीय समानुपाती ज्ञात करें।

- Ans
- 1. 145
  - 2. 135
  - 3. 125
  - 4. 165

Question ID : 65497831583  
Status : Answered  
Chosen Option : 2

Q.19  $(5 \div 8)$  of  $(4 \div 5)$  of 25  $(15^2 - 13^2)$  का मान कितना है?

- Ans
- 1. 700
  - 2. 725
  - 3. 525
  - 4. 625

Question ID : 65497831577  
Status : Answered  
Chosen Option : 1

Q.20 यदि किसी संख्या का  $\frac{3}{5}$  भाग 54 है, तो इसका  $\frac{2}{9}$  भाग कितना होगा?

- Ans
- 1. 36
  - 2. 20
  - 3. 27
  - 4. 45

Question ID : 65497831586  
Status : Answered  
Chosen Option : 2

Q.21 एक समबाहु त्रिभुजाकार बोर्ड की भुजा 12 m है। ₹4.50 प्रति मीटर की दर से बोर्ड की फेंसिंग की लागत (₹ में) ज्ञात करें।

- Ans
- 1. ₹210
  - 2. ₹150
  - 3. ₹198
  - 4. ₹162

Question ID : 65497831585  
Status : Not Answered  
Chosen Option : --

**Q.22** ₹25110 की एक धनराशि को A, B, C और D के बीच इस प्रकार विभाजित किया जाता है, कि A और B के हिस्सों का अनुपात 8 : 9 है, B और C के हिस्सों का अनुपात 3 : 5 है तथा C और D के हिस्सों का अनुपात 1 : 2 है। B और D के हिस्सों के मध्य (₹ में) कितना अंतर है?

- Ans**
- 1. 11125
  - 2. 8505
  - 3. 13150
  - 4. 6075

Question ID : 65497831569  
Status : Answered  
Chosen Option : 2

**Q.23** एक वस्तु को ₹5,270 में बेचने पर एक व्यक्ति को 15% की हानि हुई। यदि उसने वस्तु को ₹6,324 में बेचा होता, तो उसका प्रतिशत लाभ या हानि ज्ञात कीजिए।

- Ans**
- 1. 12% लाभ
  - 2. 20% लाभ
  - 3. 10% हानि
  - 4. 2% लाभ

Question ID : 65497831588  
Status : Answered  
Chosen Option : 4

**Q.24** एक निश्चित धनराशि का प्रत्येक 8 माह में चक्रवृद्धि होने वाली 12% वार्षिक ब्याज दर पर 16 महीनों का ब्याज ₹3494.40 है। उतनी ही धनराशि का उसी ब्याज दर पर, यदि ब्याज वार्षिक आधार पर चक्रवृद्धि किया जाए, तो 2 वर्षों का चक्रवृद्धि ब्याज (₹ में) कितना होगा?

- Ans**
- 1. 24362.80
  - 2. 22634.20
  - 3. 29432.60
  - 4. 26342.40

Question ID : 65497831572  
Status : Answered  
Chosen Option : 4

**Q.25** अरुण ने ₹24,000 प्रत्येक पर 8 टीवी सेट खरीदे और 8 टीवी सेट को कुल ₹2,26,560 के मूल्य पर बेच दिया। उसका लाभ या हानि प्रतिशत ज्ञात कीजिए?

- Ans**
- 1. लाभ 16%
  - 2. हानि 18%
  - 3. लाभ 18%
  - 4. हानि 16%

Question ID : 65497831575  
Status : Answered  
Chosen Option : 3

Section : Part D English

Q.1 Select the most appropriate ANTONYM of the given word.

Dull

- Ans  1. Tender  
 2. Potent  
 3. Keen  
 4. Charitable

Question ID : 65497831590  
Status : Answered  
Chosen Option : 3

Q.2 Select the most appropriate meaning of the given idiom.

Take up room

- Ans  1. Feel choked  
 2. Use mildly  
 3. Occupy space  
 4. Rent a place

Question ID : 65497831607  
Status : Answered  
Chosen Option : 3

Q.3 The following sentence has been split into four segments. Identify the segment that contains a grammatical error.

Fortunately, / the fire did not / caused much damage / to the building.

- Ans  1. caused much damage  
 2. Fortunately  
 3. to the building  
 4. the fire did not

Question ID : 65497831595  
Status : Answered  
Chosen Option : 1

Q.4 Select the most appropriate option to fill in the blank.

Making notes will \_\_\_\_\_ you to organise your thoughts in a better way.

- Ans  1. disable  
 2. capable  
 3. adjustable  
 4. enable

Question ID : 65497831591  
Status : Answered  
Chosen Option : 4

**Q.5** Select the most appropriate option that can substitute the underlined segment in the given sentence. If there is no need to substitute it, select 'No substitution required'.

Tourism is one in the biggest businesses in the world.

- Ans**
- 1. are one of the
  - 2. is one of the
  - 3. are one in the
  - 4. No substitution required

Question ID : 65497831603  
Status : Answered  
Chosen Option : 2

**Q.6** Select the option that can be used as a one-word substitute for the given group of words.

Sound made by ducks

- Ans**
- 1. Moo
  - 2. Grunt
  - 3. Caw
  - 4. Quack

Question ID : 65497831589  
Status : Answered  
Chosen Option : 3

**Q.7** Select the most appropriate option to fill in the blank.

The little girl tried to \_\_\_\_\_ the singer.

- Ans**
- 1. imply
  - 2. imitate
  - 3. languish
  - 4. emit

Question ID : 65497831602  
Status : Answered  
Chosen Option : 1

**Q.8** Select the INCORRECTLY spelt word.

- Ans**
- 1. Agreement
  - 2. Aggression
  - 3. Agitate
  - 4. Aggravate

Question ID : 65497831601  
Status : Answered  
Chosen Option : 1

**Q.9** The following sentence has been split into four segments. Identify the segment that contains a grammatical error.

This apartment / is / nice than / that one.

- Ans**
- 1. that one
  - 2. is
  - 3. nice than
  - 4. This apartment

Question ID : 65497831599  
Status : Answered  
Chosen Option : 3

**Q.10** The following sentence has been split into four segments. Identify the segment that contains a grammatical error.

My friend / never tells / a lie, / doesn't he?

- Ans**
- 1. My friend
  - 2. never tells
  - 3. doesn't he
  - 4. a lie

Question ID : 65497831604  
Status : Answered  
Chosen Option : 3

**Q.11** Select the option that will improve the underlined part of the sentence. In case no improvement is needed, select 'No improvement required'.

My father is wishing me to give all my time to studies now.

- Ans**
- 1. No improvement required
  - 2. has wished
  - 3. wishes
  - 4. was wishing

Question ID : 65497831594  
Status : Answered  
Chosen Option : 3

**Q.12** Select the INCORRECTLY spelt word.

- Ans**
- 1. Innocence
  - 2. Essence
  - 3. Conveyance
  - 4. Convenience

Question ID : 65497831598  
Status : Answered  
Chosen Option : 3

**Q.13** Select the most appropriate meaning of the given idiom.

**Draw first blood**

- Ans**  1. Be the first to gain an advantage or score against an opponent  
 2. Be the first to donate blood to help a friend  
 3. Agree to accompany someone for the diagnosis of an illness  
 4. Take a blood test early in the morning

Question ID : 65497831593  
Status : Not Answered  
Chosen Option : --

**Q.14** Select the most appropriate synonym of the given word.

**Sufficient**

- Ans**  1. Enough  
 2. Large  
 3. Deficient  
 4. Lacking

Question ID : 65497831605  
Status : Answered  
Chosen Option : 1

**Q.15** Select the most appropriate option to fill in the blank.

**Pahari is the most \_\_\_\_\_ spoken language in Himachal Pradesh.**

- Ans**  1. quickly  
 2. carefully  
 3. strictly  
 4. commonly

Question ID : 65497831608  
Status : Answered  
Chosen Option : 4

**Q.16** Select the option that can be used as a one-word substitute for the given group of words.

**The system of money used in a particular country**

- Ans**  1. Assets  
 2. Currency  
 3. Valency  
 4. Bullion

Question ID : 65497831606  
Status : Answered  
Chosen Option : 2

Q.17 Select the most appropriate ANTONYM of the given word.

Possess

- Ans  1. Release  
 2. Occupy  
 3. Obtain  
 4. Maintain

Question ID : 65497831596  
Status : Answered  
Chosen Option : 1

Q.18 Select the most appropriate synonym of the given word.

Lethal

- Ans  1. Lazy  
 2. Fatal  
 3. Beneficial  
 4. Slothful

Question ID : 65497831600  
Status : Answered  
Chosen Option : 2

Q.19 Select the option that can be used as a one-word substitute for the given group of words.

Shortened form of a word

- Ans  1. Allocation  
 2. Connotation  
 3. Abbreviation  
 4. Punctuation

Question ID : 65497831597  
Status : Answered  
Chosen Option : 3

Q.20 Select the most appropriate option that can substitute the underlined segment in the given sentence. If there is no need to substitute it, select 'No substitution required'.

The ostrich is an interesting bird which has wings but cannot fly.

- Ans  1. which has got wing but cannot fly  
 2. which have wings but cannot fly  
 3. which is having wings but cannot fly  
 4. No substitution required

Question ID : 65497831592  
Status : Answered  
Chosen Option : 4



**Comprehension:**

In the following passage, some words have been deleted. Read the passage carefully and select the most appropriate option to fill in each blank.

His friend did not return even the next day, or the day after. For several days, the partridge (1)\_\_\_\_\_ worrying, and then gave up (2)\_\_\_\_\_ of his friend's return.(3)\_\_\_\_\_ dusk, a hare came to the tree and (4)\_\_\_\_\_ an empty hole at the foot of the tree, (5)\_\_\_\_\_ shelter inside. Since the partridge had given up hope, he did not object to the hole being occupied by the hare.

**SubQuestion No : 21**

**Q.21 Select the most appropriate option to fill in blank no. 1.**

- Ans**
- 1. did
  - 2. had
  - 3. was
  - 4. kept

Question ID : 65497831610  
Status : Answered  
Chosen Option : 3

**Comprehension:**

In the following passage, some words have been deleted. Read the passage carefully and select the most appropriate option to fill in each blank.

His friend did not return even the next day, or the day after. For several days, the partridge (1)\_\_\_\_\_ worrying, and then gave up (2)\_\_\_\_\_ of his friend's return.(3)\_\_\_\_\_ dusk, a hare came to the tree and (4)\_\_\_\_\_ an empty hole at the foot of the tree, (5)\_\_\_\_\_ shelter inside. Since the partridge had given up hope, he did not object to the hole being occupied by the hare.

**SubQuestion No : 22**

**Q.22 Select the most appropriate option to fill in blank No. 2.**

- Ans**
- 1. trial
  - 2. risk
  - 3. chance
  - 4. hope

Question ID : 65497831611  
Status : Answered  
Chosen Option : 4

**Comprehension:**

In the following passage, some words have been deleted. Read the passage carefully and select the most appropriate option to fill in each blank.

His friend did not return even the next day, or the day after. For several days, the partridge (1)\_\_\_\_\_ worrying, and then gave up (2)\_\_\_\_\_ of his friend's return.(3)\_\_\_\_\_ dusk, a hare came to the tree and (4)\_\_\_\_\_ an empty hole at the foot of the tree, (5)\_\_\_\_\_ shelter inside. Since the partridge had given up hope, he did not object to the hole being occupied by the hare.

**SubQuestion No : 23**

**Q.23 Select the most appropriate option to fill in blank No. 3.**

- Ans**
- 1. Since
  - 2. On
  - 3. At
  - 4. From

Question ID : 65497831612  
Status : Answered  
Chosen Option : 4

**Comprehension:**

In the following passage, some words have been deleted. Read the passage carefully and select the most appropriate option to fill in each blank.

His friend did not return even the next day, or the day after. For several days, the partridge (1)\_\_\_\_\_worrying, and then gave up (2)\_\_\_\_\_of his friend's return.(3)\_\_\_\_\_dusk, a hare came to the tree and (4)\_\_\_\_\_an empty hole at the foot of the tree, (5)\_\_\_\_\_shelter inside. Since the partridge had given up hope, he did not object to the hole being occupied by the hare.

**SubQuestion No : 24**

**Q.24** Select the most appropriate option to fill in blank No. 4.

- Ans**  1. looking  
 2. seeing  
 3. noting  
 4. watching

Question ID : 65497831613  
Status : Answered  
Chosen Option : 4

**Comprehension:**

In the following passage, some words have been deleted. Read the passage carefully and select the most appropriate option to fill in each blank.

His friend did not return even the next day, or the day after. For several days, the partridge (1)\_\_\_\_\_worrying, and then gave up (2)\_\_\_\_\_of his friend's return.(3)\_\_\_\_\_dusk, a hare came to the tree and (4)\_\_\_\_\_an empty hole at the foot of the tree, (5)\_\_\_\_\_shelter inside. Since the partridge had given up hope, he did not object to the hole being occupied by the hare.

**SubQuestion No : 25**

**Q.25** Select the most appropriate option to fill in blank No. 5.

- Ans**  1. take  
 2. taken  
 3. took  
 4. takes

Question ID : 65497831614  
Status : Answered  
Chosen Option : 3

Section : **Part D Hindi**

**Q.1** सही वर्तनी वाले शब्द का चयन करें।

- Ans**  1. आभिर्भाव  
 2. आर्भिव्य  
 3. आविर्भाव  
 4. आर्बिभाव

Question ID : 65497831628  
Status : Not Answered  
Chosen Option : --

Q.2 दिए गए शब्द का विलोम चुनें।

अनुयायी

- Ans  1. विरोधी  
 2. आगत  
 3. बाहरी  
 4. निर्वात

Question ID : 65497831624  
Status : Not Answered  
Chosen Option : --

Q.3 निम्नलिखित प्रश्न में, दिए गए चार विकल्पों में से, उस विकल्प का चयन करें जो मुहावरे का अर्थ व्यक्त करता है।

'हथेली पर दही जमाना'

- Ans  1. छीन लेना  
 2. मात्र कल्पना करते रहना  
 3. बहुत उतावली करना  
 4. साधारण काम समझना

Question ID : 65497831620  
Status : Not Answered  
Chosen Option : --

Q.4 दिए गए शब्द का विलोम चुनें।

सुशील

- Ans  1. दुश्शील  
 2. अशील  
 3. विशील  
 4. गतिशील

Question ID : 65497831622  
Status : Not Answered  
Chosen Option : --

Q.5 सही वर्तनी वाले शब्द का चयन करें।

- Ans  1. अद्वितया  
 2. अद्वितीय  
 3. अदिवियाई  
 4. अद्वितियाई

Question ID : 65497831627  
Status : Not Answered  
Chosen Option : --

Q.6 दिए गए वाक्य का वो भाग ज्ञात करें जिसमें कोई त्रुटि है। यदि कोई त्रुटि नहीं है, तो 'कोई त्रुटि नहीं है' चुनें।

प्रतिभाशाली छात्रों ने (1) विद्यालय का नाम (2) रौशन किये (3) कोई त्रुटि नहीं है (4)

- Ans  1. 4  
 2. 3  
 3. 1  
 4. 2

Question ID : 65497831618  
Status : Not Answered  
Chosen Option : --

Q.7 रात के समय अन्धेरा छाया रहता है।

रेखांकित शब्द के स्थान पर उचित शब्द प्रस्थापित कीजिए।

- Ans  1. रात्रि  
 2. अलि  
 3. दीन  
 4. दिन

Question ID : 65497831631  
Status : Not Answered  
Chosen Option : --

Q.8 रिक्त स्थान को भरने के लिए सबसे उपयुक्त शब्द का चयन कीजिए।

प्रेम करना तलवार की \_\_\_\_\_ पर चलना है।

- Ans  1. नोक  
 2. धार  
 3. सिर  
 4. शक्ति

Question ID : 65497831615  
Status : Not Answered  
Chosen Option : --

Q.9 दिए गए वाक्य में रेखांकित खंड को प्रतिस्थापित करने के लिए सबसे उपयुक्त विकल्प का चयन करें। यदि इसे प्रतिस्थापित करने की आवश्यकता नहीं है, तो विकल्प 'किसी बदलाव की आवश्यकता नहीं है' का चयन करें।

वह वीर सिपाही जीवन भर लड़ते रहे।

- Ans  1. लड़ता रहा  
 2. किसी बदलाव की आवश्यकता नहीं है  
 3. लड़ता रहे  
 4. लडती रही

Question ID : 65497831617  
Status : Not Answered  
Chosen Option : --

Q.10 'दामिनी' का पर्यायवाची है-

- Ans  1. चपला  
 2. नदिनी  
 3. तरिणी  
 4. सरिता

Question ID : 65497831634  
Status : Not Answered  
Chosen Option : --

Q.11 दिए गए वाक्य में रेखांकित खंड को प्रतिस्थापित करने के लिए सबसे उपयुक्त विकल्प का चयन करें।  
यदि इसे प्रतिस्थापित करने की आवश्यकता नहीं है, तो विकल्प 'किसी बदलाव की आवश्यकता नहीं है'  
का चयन करें।

अब मेरे दादाजी से उठे भी नहीं जाते।

- Ans  1. उठा भी नहीं जाता।  
 2. किसी बदलाव की आवश्यकता नहीं है  
 3. उठा भी नहीं जाते।  
 4. उठे भी नहीं जाते।

Question ID : 65497831616  
Status : Not Answered  
Chosen Option : --

Q.12 दिये गये वाक्यांश के लिए एक शब्द दीजिये।

आशा से अधिक

- Ans  1. संभावित  
 2. आशान्वित  
 3. आशा प्रतिकूल  
 4. आशातीत

Question ID : 65497831629  
Status : Not Answered  
Chosen Option : --

Q.13 दिए गए वाक्य का वह भाग ज्ञात करें जिसमें कोई त्रुटि है। यदि कोई त्रुटि नहीं है, तो 'कोई त्रुटि नहीं है'  
चुनें।

शेर की तरह दहाड़ने वाले तुम, आज भीगी बिल्ली बने हुए हो!

- Ans  1. बने हुए हो!  
 2. तुम, आज भीगी बिल्ली  
 3. कोई त्रुटि नहीं है।  
 4. शेर की तरह दहाड़ने वाले

Question ID : 65497831621  
Status : Not Answered  
Chosen Option : --

Q.14 दिये गये वाक्यांश के लिए एक शब्द दीजिये।

जिसका अपहरण हो सके

- Ans  1. अपरिहार्य  
 2. अपसव्य  
 3. अपहारित  
 4. अपहार्य

Question ID : 65497831623  
Status : Not Answered  
Chosen Option : --

Q.15 रिक्त स्थान की पूर्ति के लिए सबसे उपयुक्त शब्द का चयन करें।

विराट इतना अच्छा खेल रहा है; बस किसी की \_\_\_\_\_ न लगे।

- Ans  1. खाइश  
 2. नज़र  
 3. आंख  
 4. दृष्टि

Question ID : 65497831630  
Status : Not Answered  
Chosen Option : --

Q.16 निम्नलिखित प्रश्न में, दिए गए चार विकल्पों में से, उस विकल्प का चयन करें जो मुहावरे का अर्थ व्यक्त करता है।

म्याऊँ की ठौर पकड़ना

- Ans  1. प्रकुपित होना  
 2. क्रोध के आवेश में होना  
 3. उत्साह हीन होना  
 4. जोखिम का कार्य करना

Question ID : 65497831625  
Status : Not Answered  
Chosen Option : --

Q.17 दिए गए शब्द का समानार्थी शब्द बताइए।

जनक

- Ans  1. जानकार  
 2. जड़  
 3. जन्मदाता  
 4. जननी

Question ID : 65497831619  
Status : Not Answered  
Chosen Option : --

Q.18 दिये गये वाक्यांश के लिए एक शब्द दीजिये।

जो कल्पना से परे हो

- Ans  1. काल्पनिक  
 2. अकाल्पनिक  
 3. कल्पनात्मक  
 4. कल्पनातीत

Question ID : 65497831626  
Status : Not Answered  
Chosen Option : --

Q.19 दिये गये वाक्य के किस भाग में त्रुटि है?

हमने एक सभा का संघटन किया।

- Ans  1. एक  
 2. संघटन किया।  
 3. हमने  
 4. सभा का

Question ID : 65497831633  
Status : Not Answered  
Chosen Option : --

Q.20 रिक्त स्थान को भरने के लिए सबसे उपयुक्त विकल्प का चयन करें।

गौतम बुद्ध को \_\_\_\_\_ हुआ कि संसार में दुःख व्याप्त है।

- Ans  1. बोध  
 2. अनुभव  
 3. संज्ञान  
 4. ज्ञान

Question ID : 65497831632  
Status : Not Answered  
Chosen Option : --

**Comprehension:**

दिए गए अनुच्छेद में कुछ शब्द हटा दिए गए हैं। दिए गए विकल्पों की सहायता से रिक्त स्थान भरें। प्रत्येक संख्या के लिए सबसे उपयुक्त विकल्प का चयन करें।

हमारे समाज में अनेक (1) \_\_\_\_\_ हैं। पाँच-सात वर्ष की बालिकाओं का (2) \_\_\_\_\_ साठ-सत्तर साल के (3) \_\_\_\_\_ के साथ कर दिया जाता है। दूसरी कुप्रथा (4) \_\_\_\_\_ है जिसे भारत की सरकार ने कानून के द्वारा (5) \_\_\_\_\_ घोषित कर दिया है।

**SubQuestion No : 21**

Q.21 गद्यांश के रिक्त स्थान (1) के लिए सर्वाधिक उपयुक्त शब्द होगा-

- Ans  1. रीतियाँ और नीतियाँ  
 2. प्रथाएँ और नीतियाँ  
 3. कुप्रथाएँ और कुरीतियाँ  
 4. सुप्रथाएँ और कुरीतियाँ

Question ID : 65497831636  
Status : Not Answered  
Chosen Option : --

**Comprehension:**

दिए गए अनुच्छेद में कुछ शब्द हटा दिए गए हैं। दिए गए विकल्पों की सहायता से रिक्त स्थान भरें। प्रत्येक संख्या के लिए सबसे उपयुक्त विकल्प का चयन करें।

हमारे समाज में अनेक (1) \_\_\_\_\_ हैं। पाँच-सात वर्ष की बालिकाओं का (2) \_\_\_\_\_ साठ-सत्तर साल के (3) \_\_\_\_\_ के साथ कर दिया जाता है। दूसरी कुप्रथा (4) \_\_\_\_\_ है जिसे भारत की सरकार ने कानून के द्वारा (5) \_\_\_\_\_ घोषित कर दिया है।

**SubQuestion No : 22**

**Q.22** गद्यांश के रिक्त स्थान (2) के लिए सर्वाधिक उपयुक्त शब्द होगा-

- Ans**
- 1. बन्धन
  - 2. कर्ण-छेदन
  - 3. विवाह
  - 4. कन्यादान

Question ID : **65497831637**  
Status : **Not Answered**  
Chosen Option : --

**Comprehension:**

दिए गए अनुच्छेद में कुछ शब्द हटा दिए गए हैं। दिए गए विकल्पों की सहायता से रिक्त स्थान भरें। प्रत्येक संख्या के लिए सबसे उपयुक्त विकल्प का चयन करें।

हमारे समाज में अनेक (1) \_\_\_\_\_ हैं। पाँच-सात वर्ष की बालिकाओं का (2) \_\_\_\_\_ साठ-सत्तर साल के (3) \_\_\_\_\_ के साथ कर दिया जाता है। दूसरी कुप्रथा (4) \_\_\_\_\_ है जिसे भारत की सरकार ने कानून के द्वारा (5) \_\_\_\_\_ घोषित कर दिया है।

**SubQuestion No : 23**

**Q.23** गद्यांश के रिक्त स्थान (3) के लिए सर्वाधिक उपयुक्त शब्द होगा-

- Ans**
- 1. बालकों
  - 2. प्रौढ़ों
  - 3. युवाओं
  - 4. वृद्धों

Question ID : **65497831638**  
Status : **Not Answered**  
Chosen Option : --

**Comprehension:**

दिए गए अनुच्छेद में कुछ शब्द हटा दिए गए हैं। दिए गए विकल्पों की सहायता से रिक्त स्थान भरें। प्रत्येक संख्या के लिए सबसे उपयुक्त विकल्प का चयन करें।

हमारे समाज में अनेक (1) \_\_\_\_\_ हैं। पाँच-सात वर्ष की बालिकाओं का (2) \_\_\_\_\_ साठ-सत्तर साल के (3) \_\_\_\_\_ के साथ कर दिया जाता है। दूसरी कुप्रथा (4) \_\_\_\_\_ है जिसे भारत की सरकार ने कानून के द्वारा (5) \_\_\_\_\_ घोषित कर दिया है।

**SubQuestion No : 24**

**Q.24** गद्यांश के रिक्त स्थान (4) के लिए सर्वाधिक उपयुक्त शब्द होगा-

- Ans**
- 1. विधवा विवाह
  - 2. जातीयता
  - 3. अस्पृश्यता
  - 4. स्वच्छता

Question ID : **65497831639**  
Status : **Not Answered**  
Chosen Option : --



**Comprehension:**

दिए गए अनुच्छेद में कुछ शब्द हटा दिए गए हैं। दिए गए विकल्पों की सहायता से रिक्त स्थान भरें। प्रत्येक संख्या के लिए सबसे उपयुक्त विकल्प का चयन करें।

हमारे समाज में अनेक (1) \_\_\_\_\_ हैं। पाँच-सात वर्ष की बालिकाओं का (2) \_\_\_\_\_ साठ-सत्तर साल के (3) \_\_\_\_\_ के साथ कर दिया जाता है। दूसरी कुप्रथा (4) \_\_\_\_\_ है जिसे भारत की सरकार ने क़ानून के द्वारा (5) \_\_\_\_\_ घोषित कर दिया है।

**SubQuestion No : 25**

**Q.25** गद्यांश के रिक्त स्थान (5) के लिए सर्वाधिक उपयुक्त शब्द होगा-

- Ans**
- 1. कानूनी
  - 2. अवैध
  - 3. निष्प्रभावी
  - 4. अस्पृश्य

Question ID : **65497831640**

Status : **Not Answered**

Chosen Option : --

GovtJobsAlert.In